

4

ابتدائي



# التحاطر

أحدث وأقوى سلسلة كتب تعليمية في مصر

للفصل الدراسي الأول  
للسنة الرابعة الابتدائية

نماذج اختبارات أكتوبر  
في جميع المواد





## مراجعة الشاطر على منهج شهر أكتوبر

### أولاً : أسئلة من دروس القراءة المقررة

#### 1 | من درس ( صندوق الأحلام ) - اقرأ الفقرة ، ثم أجب :

« وَالْيَوْمَ بَعْدَ ثَلَاثِ سَنَوَاتٍ أَصْبَحَ عِنْدِي عَدِيدٌ مِنَ الْأَصْدِقَاءِ بِالْمَدْرَسَةِ ، وَعَدِيدٌ مِنَ الْمُدَرِّسِينَ الَّذِينَ سَاعَدُونِي حَتَّى اسْتَطَعْتُ أَنْ أَقْرَأَ ، وَأَكْتُبَ ، وَأَحْسِبَ . أَدْرَكْتُ هُنَا فِي مَدْرَسَتِي أَنَّ الْعِلْمَ هُوَ الشَّيْءُ الْوَحِيدُ الَّذِي إِذَا امْتَلَكْتَهُ لَا تَسْتَطِيعُ أَيُّ قُوَّةٍ أَنْ تَأْخُذَهُ مِنِّي ، إِنَّهُ مَلِكِي لِلأَبَدِ ، لَكِنَّهُ أَيْضًا أَمَانَةٌ عِنْدِي ، وَاسْتِخْدَامُهُ فِي الْخَيْرِ وَاجِبٌ » .

#### ( أ ) استخراج من الفقرة :

- ١ - معنى ( عرفت ) : .....  
 ٢ - مضاد ( قليل ) : .....
- ( ب ) ضع علامة ( ✓ ) أمام العبارة الصحيحة ، وعلامة ( X ) أمام العبارة غير الصحيحة :
- ١ - مرت أربع سنوات على ( ياسمين ) في المدرسة . ( )  
 ٢ - أصبح عند ( ياسمين ) عديد من الأصدقاء بالمدرسة . ( )
- ( ج ) ماذا أدركت ( ياسمين ) في مدرستها كما فهمت من الفقرة ؟

#### 2 | من درس ( صندوق الأحلام ) - اقرأ الفقرة ، ثم أجب :

« الْيَوْمَ أَبْدَأُ عَامًا جَدِيدًا فِي رِحْلَتِي ، وَأَخْطُطُ لِلأَعْوَامِ الْقَادِمَةِ ، وَاتَّفَقْتُ مَعَ زُمَلَائِي أَنْ نُنَفِّذَ فِكْرَةَ صُنْدُوقِ الأَحْلَامِ ، فَعَلَى كُلِّ وَاحِدٍ مِنَّا أَنْ يُفَكِّرَ فِي حُلْمِهِ الَّذِي يَتَمَنَّى أَنْ يُحَقِّقَهُ قَبْلَ انْتِهَاءِ الصَّفِّ السَّادِسِ ، ثُمَّ يَكْتُبُ هَذَا الحُلْمَ فِي وَرَقَةٍ وَيَضَعُهَا فِي صُنْدُوقِ ، وَتَوَاعِدُنَا أَلَّا نَفْتَحَ هَذَا الصَّنْدُوقَ إِلَّا فِي الْيَوْمِ الأَخِيرِ مِنَ الصَّفِّ السَّادِسِ ؛ لِنَرَى إِذَا كُنَّا حَقَّقْنَا أَحْلَامَنَا الَّتِي كَتَبْنَاهَا أَمْ لَا » .

#### ( أ ) استخراج من الفقرة :

- ١ - معنى ( وعد بعضنا بعضًا ) : .....  
 ٢ - مضاد ( الماضية ) : .....
- ( ب ) ضع علامة ( ✓ ) أمام العبارة الصحيحة ، وعلامة ( X ) أمام العبارة غير الصحيحة :
- ١ - اتفقت ( ياسمين ) مع زملائها أن ينفذوا فكرة صندوق الأحلام . ( )  
 ٢ - كتب كل زملاء نفس الحلم ووضعوه في الصندوق . ( )
- ( ج ) علام تواعد الزملاء كما فهمت من الفقرة ؟



### ٣ | من درس ( من أنا ؟ ) - اقرأ الفقرة ، ثم أجب :

« اسْمِي فَضِيلَةَ تَوْفِيقَ ، وُلِدْتُ فِي الْقَاهِرَةِ عَامَ ١٩٢٩ م ، وَكَانَ لِي ثَلَاثُ أَخَوَاتٍ وَأَخٌ وَاحِدٌ ، عِنْدَمَا كُنْتُ صَغِيرَةً ، كُنْتُ أَحَبُّ الْحِكَايَاتِ كَثِيرًا ، وَكُنْتُ أَجْمَعُ أَطْفَالَ الْجِيرَانِ ؛ لِأَحْكِي لَهُمُ الْقِصَصَ الْمُتَمَنَّةَ . كَبُرْتُ وَالتَّحَقْتُ بِكُلِّيَّةِ الْحُقُوقِ ، لَكِنِّي اكْتَشَفْتُ أَنَّ حُلْمِي الْحَقِيقِي هُوَ أَنْ أَكُونَ مُذِيعَةً فِي الإِذَاعَةِ الْمِصْرِيَّةِ . هَلْ تَعْتَقِدُونَ أَنَّ تَحْقِيقَ الْحُلْمِ كَانَ سَهْلًا ؟ بِالطَّبْعِ لَا ! فَقَدِ اجْتَهَدْتُ ، وَتَعَلَّمْتُ كَيْفَ أَتَحَدَّثُ بِصَوْتٍ وَاضِحٍ وَجَمِيلٍ » .

#### ( أ ) استخراج من الفقرة :

- ١ - مضاد (أُفْرَقَ) : .....
- ٢ - جمع (الجار) : .....
- (ب) ضع علامة (✓) أمام العبارة الصحيحة ، وعلامة (X) أمام العبارة غير الصحيحة :
- ١ - وُلِدْتُ (أبلة فضيلة) في المنصورة عام ١٩٣٢ م . ( )
- ٢ - التحقت (أبلة فضيلة) بكلية الحقوق . ( )
- (ج) ما حلم (أبلة فضيلة) الحقيقي الذي اكتشفته ؟

### ٤ | من درس ( من أنا ؟ ) - اقرأ الفقرة ، ثم أجب :

« حَقَّقْتُ حُلْمِي ، وَقَدَّمْتُ بَرْنَامَجِي الشَّهِيرَ ( غِنْوَةٌ وَحَدُوتَةٌ ) فِي الإِذَاعَةِ الْمِصْرِيَّةِ ، وَكُنْتُ أَحْكِي لِلْأَطْفَالِ قِصَصًا جَمِيلَةً وَمُتَمَنَّةً . أَحَبُّ الْأَطْفَالِ حِكَايَاتِي لِأَنَّهَا كَانَتْ مَلِيئَةً بِالْأَدْرُسِ الْمُفِيدَةِ ، وَحَتَّى الْيَوْمَ مَا زَالَتْ حِكَايَاتِي تُسْمَعُ عَبْرَ الْإِنْتَرْنِتِ ، وَتَدْخُلُ قُلُوبَ الْأَطْفَالِ فِي كُلِّ مَكَانٍ » .

#### ( أ ) استخراج من الفقرة :

- ١ - معنى (خلال) : .....
- ٢ - مضاد (المجهول) : .....
- (ب) ضع علامة (✓) أمام العبارة الصحيحة ، وعلامة (X) أمام العبارة غير الصحيحة :
- ١ - قدمت (أبلة فضيلة) برنامج (غنوة وحدوتة) . ( )
- ٢ - كانت (أبلة فضيلة) تحكي للأطفال قصصًا جميلة وممتعة . ( )
- (ج) لماذا أحب الأطفال حكايات (أبلة فضيلة) ؟

## ثانيًا : أسئلة قراءة متحررة المحتوى

## 1 | القراءة متحررة المحتوى - اقرأ الفقرة ، ثم أجب :

« سميرة موسى أول عالمة ذرة مصرية ، حلمت أن تدخل في مجال الطب بعد صراع والدتها مع مرض السرطان ؛ حيث بدا تفوقها منذ الصغر ، فالتحقت بكلية العلوم وتخرجت فيها ، وأصبحت امرأة تحاضر في الجامعة ؛ حيث حققت حلمها وحصلت على الماجستير والدكتوراه » .

( أ ) استخراج من الفقرة ما يلي :

١ - مرادف ( انضمت ) : .....  
٢ - مفرد ( مجالات ) : .....

( ب ) ضع علامة ( ✓ ) أمام العبارة الصحيحة ، وعلامة ( X ) أمام العبارة غير الصحيحة :

١ - تخرجت سميرة موسى في كلية الطب .

٢ - سميرة موسى عالمة ذرة مصرية .

( ج ) ما السبب وراء حلم سميرة موسى بدخول مجال الطب ؟

( د ) أكمل شبكة المفردات الآتية :



## 2 | القراءة متحررة المحتوى - اقرأ الفقرة ، ثم أجب :

« أحمد زويل عالم كيميائي مصري ، كان يحلم بالتفوق فالتحق بكلية العلوم واجتهد حتى تخرج فيها وحصل على جائزة نوبل في الكيمياء ، حيث قام بابتكار ميكروسكوب يعمل بأشعة الليزر ، وقد أدرك زويل أنه مدين للوطن ، وعاد إليه ليفيده بعلمه ، ويعتبر زويل أشهر علماء الكيمياء في وقتنا المعاصر » .

( أ ) استخراج من الفقرة ما يلي :

١ - معنى ( فهم ) : .....  
٢ - جمع ( عالم ) : .....

( ب ) ضع علامة ( ✓ ) أمام العبارة الصحيحة ، وعلامة ( X ) أمام العبارة غير الصحيحة :

١ - حصل زويل على جائزة نوبل في الطب .

٢ - أحمد زويل أشهر علماء الكيمياء في وقتنا الحالي .

( ج ) لماذا عاد أحمد زويل إلى وطنه مصر ؟

( د ) أكمل شبكة المفردات الآتية :



### ٣ | القراءة متحررة المحتوى - اقرأ الفقرة ، ثم أجب :

« ( ملك القلوب ) هذا هو اللقب الذي أطلقه الإعلام البريطاني على د. مجدي يعقوب جراح القلب المصري ، وُلد بمدينة بليس بمحافظة الشرقية ، درس الطب في جامعة القاهرة ، وتعلم في شيكاغو ، وحصل على ألقاب وأوسمة من أكبر الجامعات حول العالم ، وأصرَّ على العودة إلى مصر لرد الجميل ، وتحقيق حلمه في إقامة مركز لجراحة القلب في أسوان » .

( أ ) استخرج من الفقرة ما يلي : ١ - معنى ( صَمَم ) : ..... ٢ - مفرد ( أحلامه ) : .....

( ب ) ضع علامة ( ✓ ) أمام العبارة الصحيحة ، وعلامة ( X ) أمام العبارة غير الصحيحة :

١ - أطلق الإعلام البريطاني على الدكتور مجدي يعقوب لقب ( ملك القلوب ) .

٢ - د. مجدي يعقوب من أكبر جراحي المخ والأعصاب في العالم .

( ج ) ما الحلم الذي حققه د. مجدي يعقوب بعد عودته إلى مصر ؟ .....

( د ) أكمل شبكة المفردات الآتية :



### ٤ | القراءة متحررة المحتوى - اقرأ الفقرة ، ثم أجب :

« يتمتع عالم الكيمياء المصري الشهير الدكتور مصطفى السيد بمكانة عظيمة بين الأوساط العلمية في العالم ، فهو أول مصري وعربي يحصل على قلادة العلوم الوطنية الأمريكية ، التي تعتبر أعلى وسام أمريكي في العلوم وحلماً لكثير من العلماء ؛ لإنجازاته في مجال النانو تكنولوجي وتطبيقه لهذه التكنولوجيا باستخدام مركبات الذهب الدقيقة في علاج مرض السرطان ، وقد استطاع تحقيق أهدافه وأحلامه بالإصرار وبذل الجهد ومواجهة العقبات » .

( أ ) استخرج من الفقرة ما يلي :

١ - كلمة مضادها ( المجهول ) : ..... ٢ - جمع ( هدفه ) : .....

( ب ) ضع علامة ( ✓ ) أمام العبارة الصحيحة ، وعلامة ( X ) أمام العبارة غير الصحيحة :

١ - الدكتور مصطفى السيد أديب مصري عالمي .

٢ - قلادة العلوم الوطنية الأمريكية حلم لكثير من العلماء .

( ج ) كيف استطاع د. مصطفى السيد تحقيق أهدافه وأحلامه ؟ .....

( د ) أكمل شبكة المفردات الآتية :



## ثالثًا : أسئلة من الشعر المقرر

1 | من نص ( اسلمي يا مصر ) - اقرأ الأبيات ، ثم أجب :

اسْلَمِي يَا مِصْرُ إِنِّي الْفِدَا  
ذِي يَدِي إِنْ مَدَّتِ الدُّنْيَا يَدَا  
أَبَدًا لَنْ تَسْتَكِينِي أَبَدًا  
إِنِّي أَرْجُو مَعَ الْيَوْمِ غَدَا  
وَمَعِي قَلْبِي وَعَزْمِي لِلْجِهَادِ  
وَلِقَلْبِي أَنْتِ بَعْدَ الدِّينِ دِينَ

( أ ) استخرج من الأبيات :

- ١ - معنى ( التضحية ) : ..... : ٢ - مضاد ( اهلكي ) : .....
- ٣ - كلمتين لهما نفس القافية : ..... ، .....
- ٤ - تعبيرًا مجازيًا : .....
- ( ب ) ما اسم الشاعر كاتب هذه الأبيات ؟

2 | من نص ( اسلمي يا مصر ) - اقرأ الأبيات ، ثم أجب :

وَمَعِي قَلْبِي وَعَزْمِي لِلْجِهَادِ  
وَلِقَلْبِي أَنْتِ بَعْدَ الدِّينِ دِينَ  
لَكَ يَا مِصْرُ السَّلَامَةُ  
وَسَلَامًا يَا بِلَادِي  
إِنْ رَمَى الدَّهْرُ سَهَامَهُ  
أَتَّقِيهَا بِفُؤَادِي  
وَاسْلَمِي فِي كُلِّ حِينٍ

( أ ) استخرج من الأبيات :

- ١ - معنى ( الزمن ) : ..... : ٢ - مفرد ( أحيان ) : .....
- ٣ - كلمتين لهما نفس القافية : ..... ، .....
- ٤ - تعبيرًا مجازيًا : .....
- ( ب ) بم يدعو الشاعر لبلاده في نهاية الأبيات ؟

## رابعًا : أسئلة الشعر متحرر المحتوى

## 1 | النص الشعري متحرر المحتوى - اقرأ ثم أجب :

يا مصر ، حبك في الفؤاد كبير  
يا مصر ، يا أرض الساحة والندى  
في وجهها للزائرين بشاشة  
وله أريج طيب وعيبر  
يا واحة يسعى لها المقهور  
ورحابة ومودة وسرور

( أ ) اختر الصواب مما بين القوسين :

- معنى ( الفؤاد ) : ( العقل - القلب - الروح - الضمير )

( ب ) أكمل : « يا مصر » نداء يفيد : .....

( ج ) هات من الأبيات :

١ - كلمة لها نفس النهاية : سرور ، .....  
٢ - تعبيرًا مجازيًا . .....

## 2 | النص الشعري متحرر المحتوى - اقرأ ثم أجب :

يا مصر يا أنشودة الدنيا وأغنية الشعوب  
يا كعبة الأحرار رن هتاف نصرك في القلوب  
يا أم أبطال الفنون وأم أبطال الحروب

( أ ) هات من الأبيات : جمع ( الشعب ) : .....

( ب ) ضع علامة ( ✓ ) أو علامة ( X ) :

- مصر أنشودة تتغنى شعوب الدنيا بها .

( ج ) اختر : ( يا مصر ) تعبير : ( حقيقي - مجازي )

## 3 | النص الشعري متحرر المحتوى - اقرأ ثم أجب :

بلادي بلادي بلادي  
مصر يا أم البلاد  
لك حبي وفؤادي  
أنت غايتي والمراد

( أ ) اختر الصواب مما بين القوسين :

- « فؤادي يتأثر بالمناظر المؤلمة » . معنى ( فؤادي ) : ( عيني - عقلي - جسدي - قلبي )

( ب ) هات من البيتين : كلمة لها نفس النهاية : العباد ، .....

( ج ) اختر : ( مصر يا أم البلاد ) تعبير : ( حقيقي - مجازي )

## ٤ | النص الشعري متحرر المحتوى - اقرأ ثم أجب :

سيظل ذكرك في فمي      ووصيتي في كل جيل  
حب الوطن ليس ادعاء      حب الوطن عمل ثقيل

- ( أ ) معنى ( سيظل ) :  
( ب ) معنى ( ادعاء ) :  
( ج ) ( حب الوطن ليس ادعاء ) تعبير :
- ( سيرحل - سيقى - سيصل - سينتهي )  
( حقيقة - كذبًا - مؤكداً - معروفًا )  
( حقيقي - مجازي )

## خامسًا : القواعد النحوية

### ١ | اقرأ ثم أجب :

« أحلم في المستقبل أن أكون طبيبًا ماهرًا ، أعالج المرضى وأساعد الناس كي يعيشوا بصحة وسعادة .  
وأتمنى أيضًا أن أسافر إلى الفضاء لأكتشف الكواكب والنجوم مع رواد الفضاء » .

### ( أ ) استخرج من الفقرة السابقة ما يلي :

- ١ - اسمًا ينتهي بتاء مربوطة : .....  
٢ - اسمًا منونًا : .....  
٣ - اسمًا يقبل دخول ( ال ) : .....  
٤ - فعلًا مضارعًا : .....

### ( ب ) اختر الصواب مما بين القوسين :

- ١ - « أذهب إلى النادي لممارسة السباحة » . من علامات الاسم في كلمة ( النادي ) أنه :  
( سُبِقَ بحرف جر - سُبِقَ بأداة نداء - منون - انتهى بتاء مربوطة )  
٢ - « ضحَى المصريون بحياتهم من أجل الوطن » . ( ضحَى ) فعل :  
( ماضٍ - مضارع - أمر )

### ٢ | أجب عما يأتي :

#### ( أ ) أكمل بالمطلوب بين القوسين :

- ١ - أذهب إلى النادي لممارسة السباحة ..... الجري .  
( حرف عطف يفيد التخيير )  
٢ - يتعاون ..... في العمل .  
( جمع تكسير )

#### ( ب ) تخير الصواب مما بين القوسين :

- ١ - « قرأت كتابًا » . كلمة ( كتابًا ) اسم ؛ لأن فيها :  
( أل - تاء مربوطة - تنوينًا )  
٢ - « المصريون عظماء » . كلمة ( المصريون ) جمع :  
( مذكر سالم - مؤنث سالم - تكسير )

(ج) حول الجملة للمثنى ، ثم للجمع :

الناجح مسرور .

.....

.....

### ٣ | اقرأ ثم أجب :

« الوطن حبيب لكل فرد من أبنائه الذين يعملون على رفعته وتقدمه » .

( أ ) استخراج من الفقرة السابقة ما يلي :

١ - اسمًا مفردًا : .....  
٢ - اسمًا جمعًا : .....

(ب) اختر الصواب مما بين القوسين :

١ - « يعملون » فعل : ( ماضٍ - مضارع - أمر )

٢ - « مِنْ » حرف من حروف : ( الجر - العطف - النفي - النهي )

(ج) حول الجملة للمثنى ، ثم للجمع :

هذا مواطن صالح .

.....

.....

### ٤ | أجب عما يأتي :

( أ ) أكمل بالمطلوب بين القوسين :

١ - نجح ..... ( جمع تكسير )

٢ - الشمس ..... ( اسم مفرد )

(ب) اختر الصواب مما بين القوسين :

١ - يظهر القمر في السماء ليلاً . كلمة ( يظهر ) فعل :

٢ - الوطن في قلوبنا . كلمة ( الوطن ) اسم ؛ لأن فيها :

(ج) حول الجملة إلى صيغة المثنى :

أنا لاعبة متفوقة .

.....

## سادسًا : التعبير الكتابي

## 1 | اقرأ ثم أكمل :

معلمي الفاضل : أحمد

تحية طيبة وبعد ...

فإن الشهر الأول من هذا العام قد انتهى ، لذلك أود أن أشكركم على ما بذلتم معي من جهد ، وأرجو من الله أن يرزقكم دوام الصحة والعافية .

مع أطيب التمنيات

تلميذك : عمر

٢٠ أكتوبر ٢٠٢٥

( أ ) التاريخ : ( ب ) المرسل إليه : ( ج ) التحية :

## 2 |

أكمل الرسالة الشخصية الآتية ؛ تعبر فيها لصديقك عن مشاعرك الطيبة نحوه :

صديقي / ماهر

تحية طيبة وبعد ...

محمد

٢٤ أكتوبر ٢٠٢٥

## 3 | أكمل الرسالة الشخصية الآتية :

ابن خالتي العزيز / أحمد

تحية طيبة وبعد ...

بداية لا يمكنني أن أخبرك بمدى سعادتي وفرحي عندما أخبرتني أمي أنك ستقضي معنا أسبوعاً في منزلنا ببورسعيد ، ولقد أعددت لك

مع أطيب التمنيات



٤

اكتب رسالة لصديقك تعبر له فيها عن سعادتك بحصوله على جائزة التفوق الدراسي ، وأمنياتك له بدوام التوفيق .

.....

.....

.....

.....

.....

.....

.....

.....

### سابقًا : الإملاء

### تخير الصواب مما بين القوسين :

- ( أ ) الجندي المصري ..... ( كالأسد - كالأسد - كالثسد )
- ( ب ) ألوان الغرفة مريحة ..... لعين . ( ل - ف - ك - ب )
- ( ج ) نلعب ..... الكرة . ( ل - ك - ب - ف )
- ( د ) ما أروع القصة ..... ( ؟ - ! - . )
- ( هـ ) رسمت اللوحة ..... ( بالألوان - بالألوان - بالألوان )
- ( و ) أحتاج ..... ( للمساعدة - للمساعدة - للمساعدة )
- ( ز ) هل قرأت القصة ..... ( ؟ - ! - . - : )
- ( ح ) ما أروع منظر الحقل ..... ( ؟ - ! - : - . )
- ( ط ) ما أجمل إخلاصنا ! ..... ( للوطن - للوطن - للوطن )



## الإجابات

### ثالثًا : أسئلة الشعر المقرر

■ (١) :

- ١ (أ) - الفدا ٢ - اسلمي  
٣ - يدا ، غدا ٤ - إن مدت الدنيا يدا  
(ب) مصطفى صادق الرافعي

■ (٢) :

- ١ (أ) - الدهر ٢ - حين  
٣ - بلادي ، فؤادي ٤ - إن رمى الدهر سهامه  
(ب) أن تسلم في كل وقت

### رابعًا : أسئلة الشعر متحرر المحتوى

■ (١) : (أ) القلب (ب) التعظيم

- (ج) ١ - مقهور ٢ - يا مصر  
■ (٢) : (أ) الشعوب (ب) (✓) (ج) مجازي  
■ (٣) : (أ) قلبي (ب) المراد (ج) مجازي  
■ (٤) : (أ) سيقى (ب) كذبًا (ج) مجازي

### خامسًا : القواعد النحوية

■ (١) :

- ١ (أ) - صحة ٢ - طبييًا  
٣ - المستقبل ٤ - أتمنى  
(ب) ١ - سبق بحرف جر ٢ - ماضٍ

■ (٢) :

- ١ (أ) - أو ٢ - العمال  
(ب) ١ - تنوينًا ٢ - مذكر سالم  
(ج) مثنى : الناجحان مسروران .

جمع : الناجحون مسرورون .

■ (٣) :

- ١ (أ) - الوطن ٢ - أبنائه  
(ب) ١ - مضارع ٢ - الجر  
(ج) مثنى : هذان مواطنان صالحان .

جمع : هؤلاء مواطنون صالحون .

■ (٤) :

- ١ (أ) - الطلاب ٢ - مشرقة (ب) ١ - مضارع ٢ - أل  
(ج) نحن لاعتبان متفوقتان .

### سادسًا : التعبير الكتابي

أجب بنفسك

### سابعًا : الإملاء

- (أ) كالأسد (ب) لـ (ج) بـ  
(د) ! (هـ) بالألوان (و) للمساعدة  
(ز) ؟ (ح) ! (ط) للوطن

### أولًا : أسئلة من دروس القراءة المقررة « صندوق الأحلام »

■ (١) :

- ١ (أ) - أدركت ٢ - عديد (ب) ١ - (X) ٢ - (✓)  
(ج) أدركت أن العلم هو الشيء الوحيد الذي إذا امتلكته  
لا تستطيع أي قوة أن تأخذه منها

■ (٢) :

- ١ (أ) - تواعدنا ٢ - القادمة (ب) ١ - (✓) ٢ - (X)  
(ج) ألا يفتحوا الصندوق إلا في اليوم الأخير من الصف  
السادس ليروا إذا كانوا حققوا أحلامهم التي كتبوها أم لا

### « من أنا ؟ »

■ (٣) :

- ١ (أ) - أجمع ٢ - الجيران (ب) ١ - (X) ٢ - (✓)  
(ج) هو أن تكون مذيعة في الإذاعة المصرية

■ (٤) :

- ١ (أ) - عَبَّرَ ٢ - الشهير (ب) ١ - (✓) ٢ - (✓)  
(ج) لأنها كانت مليئة بالدروس المفيدة

### ثانيًا : أسئلة قراءة متحررة المحتوى

■ (١) :

- ١ (أ) - التحقت ٢ - مجال  
(ب) ١ - (X) ٢ - (✓)  
(ج) لأن والدتها دخلت في صراع مع مرض السرطان .

(د) أساتذة ، محاضرات ، طلاب ، معلم

■ (٢) :

- ١ (أ) - أدرك ٢ - علماء  
(ب) ١ - (X) ٢ - (✓)  
(ج) ليفيده بعلمه .

(د) بيتي ، أهلي ، مدرستي ، أصدقائي

■ (٣) :

- ١ (أ) - أصرَّ ٢ - حلمه  
(ب) ١ - (✓) ٢ - (X)  
(ج) إقامة مركز لجراحة القلب في أسوان .

(د) أجب بنفسك .

■ (٤) :

- ١ (أ) - الشهير ٢ - أهدافه  
(ب) ١ - (X) ٢ - (✓)  
(ج) بالإصرار وبذل الجهد ومواجهة العقبات .

(د) كيمياء ، رياضيات ، فيزياء ، أحياء



## October Revision



## A. Listening

(نصوص الاستماع بنهاية التدريبات)

## 1 A Listen and circle the correct answer from a, b, c, or d.

استمع واختر الإجابة الصحيحة .

- We have five ..... .  
a) ears                      b) hands                      c) senses                      d) legs
- We smell with our ..... .  
a) nose                      b) tongue                      c) ears                      d) eyes
- We ..... with our ears.  
a) touch                      b) smell                      c) taste                      d) hear
- We taste with our ..... .  
a) ears                      b) eyes                      c) tongue                      d) nose

## B Listen and circle the correct answer from a, b, c, or d.

- Nadeen and her class volunteer on ..... .  
a) Mondays                      b) Sundays  
c) Fridays                      d) Saturdays
- ..... clean the trash.  
a) Nour and Mohamed                      b) Nadeen  
c) Adam                      d) Sara
- Adam and Sara ..... .  
a) feed dogs                      b) plant trees  
c) clean the trash                      d) cycle
- ..... feeds dogs and cats.  
a) Heba                      b) Sara                      c) Nadeen                      d) Adam

## B. Reading

2 Choose the correct answer from a, b, c, or d. اختر الإجابة الصحيحة .

1. A ..... person always wants more than what he needs.  
a) hungry      b) greedy      c) jingling      d) kind
2. The yummy ..... of the soup makes me hungry.  
a) smell      b) sound      c) light      d) noise
3. I study and play sports every day. These are my daily .....  
a) senses      b) hobbies      c) habits      d) protein
4. Sight, hearing, and smell are.....  
a) habits      b) routines      c) games      d) senses
5. My sister ..... her room every day.  
a) collects      b) volunteers      c) plants      d) cleans
6. We can take the school ..... every day.  
a) plane      b) bike      c) bus      d) car
7. People celebrate the sugar cane ..... in Upper Egypt.  
a) harvest      b) design      c) region      d) decoration
8. There is an old train ..... in our city.  
a) factory      b) station      c) ground      d) carpet

3 A Read and complete the text with the words in the box.

اقرأ وأكمل النص بكلمات من القائمة .

smell – coins – restaurant – share – library

One day, Goha was hungry but didn't have enough money to buy food. He smelled delicious soup from a (1)..... . He sat outside, enjoying the (2)..... of it. The owner asked Goha to pay for the smell. Goha cleverly offered to pay with the sound of his (3)..... . The owner laughed and invited him in to (4)..... the soup.



## B Read and complete the text with the words in the box.

Upper – stylish – culture – outfits – pants

In the Delta region, men wear galabeyas or modern clothes, like (1)..... and shirts. Women wear (2)..... dresses or traditional (3)..... for special events. In (4)..... Egypt, men wear galabeyas and sometimes turbans.

## 4 A Read the text and answer the questions. اقرأ النص وأجب عن الأسئلة.

One morning, Ms. Rasha took her class to the garden. She told them about the five senses. Rana and Omar were excited. Ms. Rasha explained that the five senses, like sight, seeing, and smell, help us understand the world. Omar heard birds singing. Rana smelled flowers and saw butterflies. Ms. Rasha said that senses also help us keep safe!

### A) Choose the correct answer from a, b, c, or d. اختر الإجابة الصحيحة.

- The main idea of the text is “.....”.  
a) Flowers      b) Gardens      c) Senses      d) Butterflies
- We smell beautiful flowers with the sense of .....  
a) taste      b) hearing      c) smell      d) sight

### B) Answer the following questions. أجب عن الأسئلة الآتية.

4. Why are the senses important?

.....

5. What did Rana see and smell in the garden?

.....

**B Read the text and answer the questions.**

There are two problems in my community. The first problem is traffic. Cars don't move quickly in the morning, especially near schools, so students go to school late. We can solve this problem by taking the school bus and we don't need to take cars every day. There will be fewer cars on the road. The second problem is trash. People don't put trash in bins, so the streets look dirty.

**A) Choose the correct answer from a, b, c or d.**

- ..... don't move quickly in the morning.  
a) Buses      b) Planes      c) Bikes      d) Cars
- People don't put ..... in the trash bins.  
a) traffic      b) trash      c) community      d) buses

**B) Answer the following questions:**

- How can people solve the problem of trash?  
.....

- What is the first problem in the community?  
.....

**C. Writing****5 Read and write the correct form of the word(s) between brackets.**

اقرأ وكتب الصيغة الصحيحة للكلمات التي بين القوسين .

- My brother and I ..... (plays) sports in the morning.
- I ..... (studies) English every day.
- Sarah ..... (brush) her teeth every day.
- Samy ..... (carry) his backpack every day.
- ..... (Do) Adel need any help?
- We ..... (doesn't) go to school by car.
- Soha always ..... (sleep) early.
- Cats ..... (drinks) milk.



اختبارات شهر أكتوبر •

## 6 Put the words in the correct order to make sentences.

ضع الكلمات في الترتيب الصحيح لتكوّن جملاً صحيحة .

1. use – smell – my – I – to – nose.

.....

2. daily – is – routine – What – your?

.....

3. every – teeth – He – his – day – brushes.

.....

4. taste – my – I – tongue – use – to.

.....

5. has – regions – Egypt – special – two.

.....

6. don't – We – take – need – cars – every day – to.

.....

7. like – her – Does – friends – Doha?

.....

8. speak – you – English – Do?

.....

## 7 Punctuate the following.

ضع علامات الترقيم المناسبة .

1. how can you stay healthy

.....

2. going to bed early is a good habit

.....

3. do you like meat

.....

4. i don't play tennis

.....

- 8 A** Write a paragraph of **EIGHTEEN (18)** words using the following guiding elements:

اكتب فقرة إنشائية مكوّنة من ( ١٨ ) كلمة باستخدام العناصر الآتية :

### 'My healthy habits'

- wake up.
- healthy breakfast.
- enough sleep.

.....

.....

.....

.....

- B** Write a paragraph of **EIGHTEEN (18)** words using the following guiding elements:

### 'Voluntary day'

- clean the trash
- plant trees
- feed dogs

.....

.....

.....

.....

## Listening Script



- A** Listen and circle the correct answer from a, b, c, or d.

We have five senses. They are amazing. We see with our eyes. We smell with our nose. We hear with our ears. We taste with our tongue. We touch with our hands.

- B** Listen and circle the correct answer from a, b, c, or d.

On Fridays, Nadeen and her class volunteer to help their community. Nour and Mohamed clean the trash from the ground. Adam and Sara plant trees and flowers at the community garden. Nadeen feeds the dogs and cats.



## Model Answers



**1 Listen and circle the correct answer from a, b, c or d.**

- A** 1. c) senses      2. a) nose      3. d) hear      4. c) tongue  
**B** 1. c) Fridays      2. a) Nour and Mohamed  
 3. b) plant trees      4. c) Nadeen

**2 Choose the correct answer from a, b, c or d.**

1. b) greedy      2. a) smell      3. c) habits      4. d) senses  
 5. d) cleans      6. c) bus      7. a) harvest      8. b) station

**3 Read and complete the text with the words in the box.**

- A** 1. restaurant      2. smell      3. coins      4. share  
**B** 1. stylish      2. pants      3. outfits      4. Upper

**4 A Read the text and answer the questions.**

**A) Choose the correct answer from a, b, c or d.**

1. c) Senses      2. c) smell

**B) Answer the following questions.**

3. Because they help us understand the world.  
 4. Rana smelled flowers and saw butterflies.

**B Read the text and answer the questions.**

**A) Choose the correct answer from a, b, c or d.**

1. d) Cars      2. b) trash

**B) Answer the following questions.**

3. They can put trash in bins.  
 4. The first problem in the community is traffic.

**5 Read and write the correct form of the word(s) between brackets.**

1. play      2. study      3. brushes      4. carries  
 5. Does      6. don't      7. sleeps      8. drink

**6 Punctuate the following.**

1. I use my nose to smell.
2. What is your daily routine?
3. He brushes his teeth every day.
4. I use my tongue to taste.
5. Egypt has two special regions.
6. We don't need to take cars every day.
7. Does Doha like her friends?
8. Do you speak English?

**7 Punctuate the following.**

1. How can you stay healthy?
2. Going to bed early is a good habit.
3. Do you like meat?
4. I don't play tennis.

**8 A Write a paragraph of EIGHTEEN (18) words using the following guiding elements.****'My healthy habits'**

Students' own answer.

**B Write a paragraph of EIGHTEEN (18) words using the following guiding elements.****'Voluntary day'**

Students' own answer.



## نموذج (1) اختبار شهر أكتوبر



## أولاً: اِخْتَرِ الإِجَابَةَ الصَّحِيحَةَ:

- 1 9 كجم = ..... جم .  
 أ 90 ب 900 ج 9,000 د 90,000
- 2 2 ساعة ، و 30 دقيقة = ..... دقيقة .  
 أ 120 ب 150 ج 50 د 132
- 3 40,000 م = ..... كم .  
 أ 4 ب 40 ج 400 د 4,000
- 4 زجاجة حليب سعتها لتران ، شربت ريهام منها 250 ملل ، فإن المقدار المتبقى من الحليب = ..... ملل .  
 أ 2,000 ب 1,850 ج 3,250 د 1,750
- 5 9 كجم و 350 جم = ..... جم .  
 أ 3,590 ب 9,350 ج 93,500 د 935
- 6 10 ساعات ، و 30 دقيقة = ..... دقيقة .  
 أ 603 ب 306 ج 360 د 630
- 7 3 كجم = ..... جم .  
 أ 3 ب 30 ج 300 د 3,000

## ثانياً: أجب عما يأتي:

- 1 3 لترات + 250 مليلترًا = ..... + 250 = ..... مليلترًا .
- 2 كيلومتر ..... - 80 = ..... - 80 = كيلومتر 80 - متر 120,000
- 3 340 سنتيمترًا = ..... أمتار ، و ..... سنتيمترًا .
- 4 6 كيلومترات = ..... متر = ..... ديسيمترًا .
- 5 4 أيام ، و 20 ساعة = ..... + 20 = ..... ساعة .
- 6 أسبوعان ، و 3 أيام = ..... + 3 = ..... يومًا .
- 7 6,450 جرامًا = ..... كيلو جرامات + ..... جرامًا .
- 8 8 لترات - 5,000 مليلتر = ..... مليلتر = ..... لترات .

## نموذج (2) اختبار شهر أكتوبر



## أولاً: اِخْتَرِ الإِجَابَةَ الصَّحِيحَةَ :

- 1 5 أسابيع ، و13 يومًا = ..... يومًا .  
 أ 18      ب 35      ج 38      د 48
- 2 علبة عصير بها لتران و200 ملل ، فإن سعتها بالميلتر = .....  
 أ 2,200      ب 220      ج 1,220      د 2,220
- 3 يوم ، و5 ساعات = ..... ساعة .  
 أ 29      ب 65      ج 15      د 35
- 4 5 أمتار ، و62 سنتيمترًا = ..... سنتيمترًا .  
 أ 67      ب 112      ج 562      د 625
- 5 42 يومًا = ..... أسابيع .  
 أ 7      ب 6      ج 8      د 9
- 6 8 كجم ، و13 جم = ..... جم .  
 أ 8,130      ب 8,013      ج 813      د 8,103
- 7 يتدرب هانى يوميًا 30 دقيقة ، فإنه يتدرب ..... في 8 أيام .  
 أ 3 ساعات      ب 4 ساعات      ج 8 ساعات      د ساعتين

## ثانيًا: أَجِبْ عَمَّا يَأْتِي :

- 1 تستغرق مريم 30 دقيقة يوميًا في الذهاب إلى المدرسة ، كم ساعة تستغرقها مريم في الذهاب والعودة في 5 أيام ؟  
 .....
- 2 تعمل هدى من الساعة 9 صباحًا حتى الساعة 30 : 2 ظهرًا ، ما المدة التي تعملها هدى ؟  
 .....
- 3 تنام عاملات النمل بمعدل 4 ساعات يوميًا ، فما عدد الدقائق التي تنامها يوميًا ؟  
 .....
- 4 تمارس أمانى رياضة السباحة نصف ساعة يوميًا ، ما مجموع الدقائق التي تقضيها أمانى في السباحة لمدة 4 أيام ؟  
 .....



## الإجابات

## نموذج (2) اختبار شهر أكتوبر

(أولاً)

- 1 د 2 أ  
3 أ 4 ج  
5 ب 6 ب  
7 ب

(ثانياً)

- 1 5 ساعات .  
2 5 ساعات ، 30 دقيقة .  
3 عدد الدقائق التي تنامها : دقيقة  $4 \times 60 = 240$   
4 مجموع الدقائق التي  
تقضيها : دقيقة  $30 \times 4 = 120$

## نموذج (1) اختبار شهر أكتوبر

(أولاً)

- 1 ج 2 ب  
3 ب 4 د  
5 ب 6 د  
7 د

(ثانياً)

- 1 3,250 مليلترًا .  
2 كم  $120 - 80 = 40$   
3 3 أمتار ، 40 سنتيمترًا .  
4 6,000 متر = 60,000 ديسم .  
5  $20 + 96 = 116$  ساعة .  
6  $3 + 14 = 17$  يومًا .  
7 6 كيلوجرامات + 450 جرامًا .  
8  $5 - 8 = 3$  لترات .

الرياضيات



## نموذج (1) اختبار شهر أكتوبر

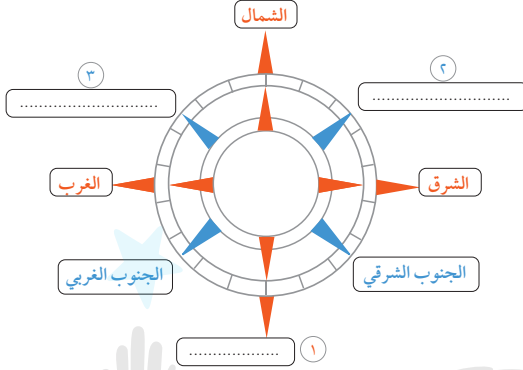
١٠

.....

٣

**السؤال الأول :** أمامك شكل يمثل الاتجاهات الأصلية والفرعية ، اكتب ما تدل

عليه الأرقام :



١ اتجاه .....

٢ اتجاه .....

٣ اتجاه .....

.....

٣

**السؤال الثاني :** اكتب كلمة ( صح ) أمام العبارة الصحيحة ، وكلمة ( خطأ ) أمام

العبارة الخاطئة :

( )

١ تهتم مادة الدراسات الاجتماعية بدراسة الإنسان وعلاقته مع البيئة .

( )

٢ استخدم الناس قديماً النجوم لمعرفة الاتجاهات في أثناء الليل .

( )

٣ عند وقوفنا أمام الشمس وقت الشروق يعني ذلك أننا نتجه نحو الشرق .

.....

٢

**السؤال الثالث :** بم تفسر ... ؟

١ أهمية النجم القطبي الشمالي عند المصريين القدماء .

.....

٢ أهمية البوصلة الرقمية في الهواتف الذكية .

.....

.....

٢

**السؤال الرابع :** أجب عما يأتي :

١ دلل على : براعة المصريين القدماء في علم الفلك .

.....

.....

٢ ما المقصود ب : البوصلة ؟

.....

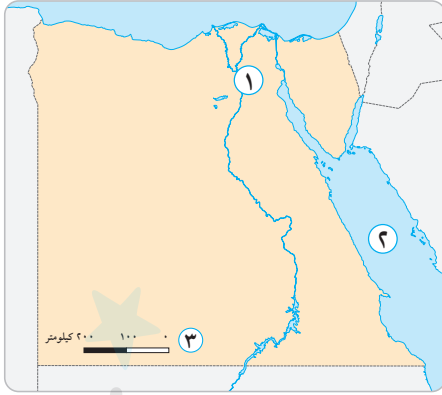
.....



## نموذج ( 2 ) اختبار شهر أكتوبر



٣



السؤال الأول : أمامك خريطة صماء لمصر ،  
وضح ما تدل عليه الأرقام :

١ عاصمة مصر .....

٢ البحر .....

٣ أحد عناصر الخريطة .....

٣

السؤال الثاني : اختر الإجابة الصحيحة من بين الإجابات الآتية :

١ يدل اللون ..... في الخريطة على المرتفعات .

أ الأزرق      ب البني      ج الأصفر      د الأخضر

٢ يمكننا تحديد المسافات بين الأماكن على الخريطة من خلال .....

أ مقياس الرسم      ب عنوان الخريطة      ج وردة البوصلة      د مفتاح الخريطة

٣ يستخدم ..... الخريطة في تحديد ملكية الأرض .

أ الجندي      ب السائح      ج قائد الطائرة      د المزارع

٢

السؤال الثالث : دلل على :

١ تعدد عناصر الخريطة .

٢ اختلاف الألوان على خريطة مستويات سطح مصر .

٢

السؤال الرابع : أجب عما يأتي :

١ وضح أهمية الخريطة للمهندس .

٢ ماذا يحدث إذا : رُسمت الخريطة بدون مفتاح لها ؟



## نموذج (3) اختبار شهر أكتوبر

١٠

**السؤال الأول :** أمامك خريطة صماء لمصر ، وضح ما تدل عليه الأرقام :



١ مسطح مائي .....

٢ نهر .....

٣ مدينة .....

٣

**السؤال الثاني :** أكمل العبارات الآتية :

١ قامت عالمة الفلك المسلمة ..... بتطوير الإسطرلاب .

٢ أول من رسم خريطة للعالم من العلماء العرب المسلمين هو .....

٣ كان الإسطرلاب يستخدم قديمًا في .....

٢

**السؤال الثالث :** اذكر سببًا واحدًا لـ :

١ اهتمام المصريين القدماء برسم الخرائط .

٢ أهمية نظام الـ GPS في حياتنا اليومية .

٢

**السؤال الرابع :** أجب عما يأتي :

١ ما العلاقة بين : ( استخدام الأقمار الصناعية ورسم الخرائط ) ؟

٢ ما الفرق بين : ( الصور الجوية ، والصور الفضائية ) ؟





## نموذج ( 4 ) اختبار شهر أكتوبر

.....  
١٠

**السؤال الأول : أ** أمامك خريطة صماء لمصر ، وضح ما تدل عليه الأرقام :

.....  
٤



١ البحر .....

٢ نهر .....

٣ مدينة .....

ب ما المقصود بالآثار التاريخية ؟

**السؤال الثاني : اختر الإجابة الصحيحة من بين الإجابات الآتية :**

.....  
٢

١ المعلومات المتداولة دون التأكد من صحتها هي .....

أ الحقائق      ب الآراء      ج الشائعات      د الانطباعات

٢ من المصادر الثانوية لجمع المعلومات .....

أ المقالات      ب النقوش الأثرية      ج البرديات      د الوثائق الرسمية

**السؤال الثالث : يَم تفسر ...؟**

.....  
٢

١ اهتمام الدولة بتقديم المعلومات الرسمية الصحيحة .

٢ أهمية تنوع مصادر جمع المعلومات .

**السؤال الرابع : أجب عما يأتي :**

.....  
٢

١ ماذا يحدث إذا : اعتمد المواطنون على الأخبار غير المؤكدة من مواقع التواصل الاجتماعي ؟

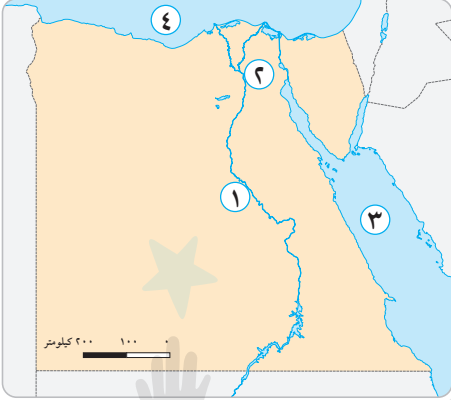
٢ قارن بين : الآراء والشائعات .



## نموذج ( 5 ) اختبار شهر أكتوبر

١٠

**السؤال الأول :** أمامك خريطة صماء لمصر ، وضح مدلول الأرقام التي عليها :



١ نهر .....

٢ مدينة بها جامع عمرو بن العاص .....

٣ البحر .....

٤ البحر .....

٢

**السؤال الثاني :** يم تفسر ...؟

١ أهمية القرية للمدينة .

٢ أهمية المناطق السياحية .

٣ تسمية الكنيسة المعقدة بهذا الاسم .

٣

**السؤال الثالث :** صوب ما تحته خط :

١ تقع مدينة الإسكندرية على ساحل البحر الأحمر .

٢ تطل مدينة أسوان على ساحل البحر المتوسط .

٣ يوجد حي مصر القديمة في مدينة بورسعيد .

(.....)

(.....)

(.....)

٣

**السؤال الرابع :** أجب عما يلي :

١ من هو : قام ببناء أول جامع في مصر وفي إفريقيا بعد الفتح الإسلامي لمصر ؟

٢ ما المقصود ب...؟

أ القرية .

ب المدينة .

٢



## الإجابات

## السؤال الثالث :

- ١ حيث تتكون عناصر الخريطة من : عنوان الخريطة - مفتاح الخريطة - مقياس الرسم - وردة البوصلة .
- ٢ حيث يكون اللون البني للمرتفعات واللون الأخضر للمناطق المنخفضة واللون الأزرق للمسطحات المائية .

## السؤال الرابع :

- ١ يستخدمها المهندس في التخطيط لإنشاء المباني والطرق .
- ٢ لن نستطيع معرفة معنى الألوان والرموز المستخدمة في الخريطة .

## نموذج (3) اختبار شهر أكتوبر

## السؤال الأول :

- ١ البحر الأحمر ٢ النيل ٣ أسوان

## السؤال الثاني :

- ١ مريم الأسطرابي ٢ الإدريسي ٣ تحديد اتجاه القبلة

## السؤال الثالث :

- ١ لتحديد مسار النهر .
- ٢ يساعد في تحديد الاتجاهات والمواقع .

## السؤال الرابع :

- ١ تستخدم الأقمار الصناعية في التقاط الصور الفضائية وبالتالي رسم الخرائط بدقة .
- ٢ الصور الجوية: يتم التقاطها من الجو بواسطة الطائرات .
- الصور الفضائية: يتم التقاطها من الفضاء بالأقمار الصناعية .

## نموذج (1) اختبار شهر أكتوبر

## السؤال الأول :

- ١ الجنوب ٢ الشمال الشرقي ٣ الشمال الغربي

## السؤال الثاني :

- ١ صح ٢ صح ٣ صح

## السؤال الثالث :

- ١ استخدمه قدماء المصريين في تحديد الاتجاهات ليلاً حيث إنه يشير دائماً إلى اتجاه الشمال .
- ٢ تساعدنا في تحديد الاتجاهات بسرعة ودقة أكبر .

## السؤال الرابع :

- ١ حيث استعان المصريون القدماء بالنجم القطبي الشمالي لتحديد الاتجاهات ليلاً .
- ٢ المقصود بالبوصلة : هي أداة تحتوي على إبرة مغناطيسية تشير دائماً إلى اتجاه الشمال المغناطيسي .

## نموذج (2) اختبار شهر أكتوبر

## السؤال الأول :

- ١ القاهرة ٢ الأحمر ٣ مقياس الرسم

## السؤال الثاني :

- ١ البني ٢ مقياس الرسم ٣ المزارع

## نموذج (4) اختبار شهر أكتوبر

## السؤال الأول :

- أ ١ الأحمر ٢ النيل ٣ القاهرة  
ب هي كل ما تركه لنا القدماء من مباني و تماثيل وأدوات وغيرها .

## السؤال الثاني :

- ١ الشائعات ٢ المقالات

## السؤال الثالث :

- ١ من أجل مساعدة المواطنين في التمييز بين الحقائق والشائعات .  
٢ تجعلنا نحصل على معلومات شاملة ودقيقة وتجنب التحيز لمصدر واحد وإمكانية مقارنة المعلومات والتأكد من صحتها .

## السؤال الرابع :

- ١ أجب بنفسك .  
٢ الرأي: يعبر عن وجهة نظر شخصية قد تكون صحيحة أو غير صحيحة .  
الشائعة: هي الأحاديث غير الصحيحة والأخبار التي يتناقلها الناس دون معرفة مصدرها .

## نموذج (5) اختبار شهر أكتوبر

## السؤال الأول :

- ١ النيل ٢ القاهرة  
٣ الأحمر ٤ المتوسط

## السؤال الثاني :

- ١ توفر القرية للمدينة المنتجات الزراعية .  
٢ تسهم في تنشيط السياحة - توفر فرص العمل .  
٣ لأنها بُنيت فوق برجين من بقايا حصن عسكري قديم ؛ لذلك تبدو وكأنها معلقة فوق الأرض .

## السؤال الثالث :

- ١ الغردقة ٢ نهر النيل ٣ القاهرة

## السؤال الرابع :

- ١ عمرو بن العاص .  
٢ القرية: تجمع سكني تتركز فيه أنشطة الزراعة وتربية الحيوانات .  
المدينة: تجمع سكني تتركز فيه الخدمات والأنشطة مثل: الصناعة والتجارة وتتكون من عدة أحياء كل منها له طابع خاص .

## نموذج ( ١ ) اختبار شهر أكتوبر



1 أ ضع علامة (✓) أو علامة (X) :

- إزالة الغابات تساعد على إعادة النظام البيئي إلى طبيعته الأصلية . ( )

ب ما المقصود بكل من ...؟

- 1 التخفي .  
2 الهضم .  
3 الشهيق .  
4 الأعصاب .

2 أ أكمل ما يأتي :

- تم الاستفادة من تكيف الخفاش في صناعة .....

ب علل لما يأتي :

- 1 التكيف صفة مميزة للكائن الحي .  
2 يمتلك ثعلب الفنك فراء بنية .  
3 تستطيع البومة الصيد ليلاً .  
4 لا تستطيع الخفافيش الرؤية في الظلام ولكنها تصطاد فرائسها ليلاً .

3 أ اختر الإجابة الصحيحة من بين الإجابات المعطاة :

- 1 يعتمد ..... على الرائحة للتواصل فيما بينه .  
أ النحل      ب النمل      ج الحيتان  
2 توجد الخياشيم على جانبي ..... السمكة .  
أ رأس      ب ذيل      ج جذع

ب ماذا يحدث إذا ...؟

- 1 لم تنتج شجرة السنط سمًا .  
2 لم يكن للبوم أذن كبيرة .  
3 حبست أنفاسك لمدة طويلة .

4 أ أكمل ما يأتي :

- 1 من وظائف الجهاز ..... القيام بوظيفة جمع المعلومات .  
2 تُمتص السوائل من الطعام غير المهضوم في ..... داخل جسم الإنسان .  
ب 1 كيف يتواصل حيوان النمس المصري مع حيوانات النمس الأخرى ؟  
2 تتنفس البرمائيات ( الضفادع ) بطريقتين . فما هما ؟  
3 ما أهمية وجود أشواك على أوراق النباتات الصحراوية ؟

## نموذج ( ٢ ) اختبار شهر أكتوبر



1 أ ضع علامة (✓) أو علامة (X) :

- ( ) • يمر الحبل الشوكي داخل العمود الفقري .

ب قارن بين كل من :

- ① الثعلب القطبي و ثعلب الفنك (من حيث : طول الآذان) .
- ② حركة الحجاب الحاجز أثناء الشهيق والزفير .
- ③ الحاسة التي تتواصل بها الدلافين والحاسة التي يتواصل بها النمل .
- ④ فصل الصيف وفصل الشتاء بالنسبة للحيتان الحدباء .

2 أ صوب ما تحته خط :

- شجرة السنط تخزن الماء في الأوراق .

ب ما أهمية كل من ...؟

- ① العصا التي يستخدمها الشخص الكفيف .
- ② الجذور الطويلة القوية في شجرة المانجروف التي تعيش في المياه المالحة .
- ③ وجود خياشيم في الأسماك .
- ④ الأوراق الصغيرة على قمة شجرة السنط .

3 أ أكمل مما بين القوسين :

- ( مرتفعة - منخفضة ) ① الأصوات الحادة تكون ..... الدرجة .

- ( المثلث - الوعاء ) ② يمتلك البوم وجهًا يشبه .....

ب علل لما يأتي :

- ① تختفي بعض الكائنات من بيئتها وتنتقل إلى نظام بيئي آخر .
- ② قيام الإنسان بإعادة الغابات التي أزيلت .
- ③ لدى قرش الثور ظهر أسود وبطن أبيض .

4 أ حدد الجهاز التابع له كل عضو :

- ① المخ . ② المعدة .

- ب ① تنفخ حرياء النمر جسمها بالهواء لتبدو أكبر حجمًا وتخيف أعداءها . حدد نوع هذا التكيف .

- ② اذكر مثالاً على : تكيف سلوكي في شجرة السنط .

- ③ ماذا يحدث عند سماع اليربوع صوت ثعبان بالقرب منه ؟



## الإجابات

## نموذج (2) اختبار شهر أكتوبر

## السؤال الأول :

✓ أ

- ب 1 أذن الثعلب القطبي قصيرة، وأذن ثعلب الفنك طويلة .  
 2 أثناء الشهيق ينقبض إلى أسفل، وأثناء الزفير ينبسط إلى أعلى .  
 3 تتواصل الدلافين عن طريق حاسة السمع، ويتواصل النمل عن طريق حاسة الشم .  
 4 فصل الصيف موسم التغذية، وفصل الشتاء موسم التزاوج .

## السؤال الثاني :

أ الجذع

- ب 1 مساعدة الشخص الكفيف في تحديد الاتجاهات .  
 2 الصمود أمام الأمواج .  
 3 المساعدة في التنفس تحت الماء .  
 4 الاحتفاظ بالماء وامتصاص أشعة الشمس اللازمة لإنتاج الغذاء .

## السؤال الثالث :

أ 1 مرتفعة 2 الوعاء

- ب 1 حتى تليي احتياجاتها وتساعد على البقاء .  
 2 لإعادة التوازن إلى النظام البيئي .  
 3 لأن الظهر الأسود يخفيه عن الحيوان الذي أعلاه والبطن الأبيض يخفيه عن الحيوان الذي أسفله .

## السؤال الرابع :

أ 1 الجهاز العصبي 2 الجهاز الهضمي

- ب 1 تكيف سلوكي .  
 2 إرسال رسالة تحذيرية عبر الرياح إلى أشجار السنط الأخرى الموجودة حولها .  
 3 يقفز سريعاً ويهرب باستخدام ساقيه الخلفيتين الطويلتين .

## نموذج (1) اختبار شهر أكتوبر

## السؤال الأول :

X أ

- ب 1 التكيف الذي يساعد الحيوانات على الاختفاء من الحيوانات المفترسة أو التسلل إلى فريستها .  
 2 تحويل الغذاء من صورة معقدة إلى صورة بسيطة ليستفيد منه الجسم .  
 3 عملية دخول الهواء محملاً بغاز الأكسجين إلى الرئتين .  
 4 تفرعات صغيرة من الحبل الشوكي تتوزع على جميع أجزاء الجسم .

## السؤال الثاني :

أ عكاز المكفوفين

- ب 1 لأنه يساعده على البقاء على قيد الحياة .  
 2 للتخفي في الصحراء والحماية من الشمس الحارقة .  
 3 لأنها تمتلك حاستي بصر وسمع استثنائيتين .  
 4 لأنها تستطيع تحديد موقع فرائسها عن طريق خاصية صدى الصوت .

## السؤال الثالث :

أ 1 النمل 2 رأس

- ب 1 لا يصبح مذاق الأوراق سيئاً، فيسهل على الحيوانات أكلها .  
 2 لا تتمكن من سماع الأصوات الضعيفة الصادرة من الحيوانات التي تختبئ بين العشب أو تحت الجليد .  
 3 عدم استنشاق الأكسجين وفشل الجسم في أداء وظائفه الحيوية .

## السؤال الرابع :

أ 1 العصبي 2 الأمعاء الغليظة

- ب 1 باستخدام حاسة السمع عن طريق إصدار مجموعة من الأصوات التي تشبه الثرثرة .  
 2 التنفس على اليابسة: استخلاص الأكسجين من الهواء الجوي باستخدام الرئتين .  
 التنفس في الماء: استخلاص الأكسجين من الماء باستخدام الجلد .  
 3 تقليل فقد الماء، ومنع الحيوانات من أكلها .