

الأضواء

# الدراسات الاجتماعية نماذج اختبارات الأضواء

لشهر مارس

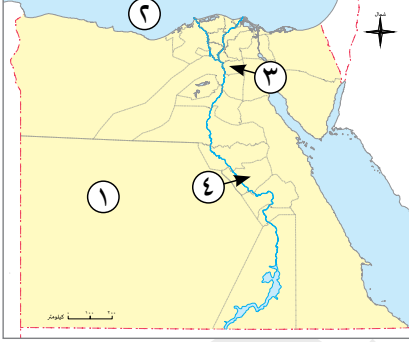
الفصل الدراسي الثاني  
المف  
**4**  
الابتدائي

2026



# نموذج 1

( ١ ) أمامك خريطة صماء لمصر، اكتب مدلول الأرقام التي عليها:



- ١ محافظة قليلة السكان.....
- ٢ البحر.....
- ٣ عاصمة مصر الحالية.....
- ٤ محافظة متوسطة السكان.....

(ب) ما المقصود بـ: المهن المستقبلية؟

( ١ ) أكمل العبارات الآتية بما يناسبها من كلمات:

- ١ الشخص الذى يقوم بالدفاع عن الوطن ويحميه هو.....
- ٢ عرفت منطقة عين شمس بالقاهرة قديماً باسم.....
- ٣ صناعة الفخار والخزف تعتمد على تشكيل.....

(ب) بم تفسر...؟

- ١ ارتفاع نسبة التعليم بمحافظة القاهرة.....
- ٢ أهمية صناعة القرار.....

( ١ ) اكتب كلمة (صواب) أمام العبارة الصحيحة، وكلمة (خطأ) أمام العبارة غير الصحيحة:

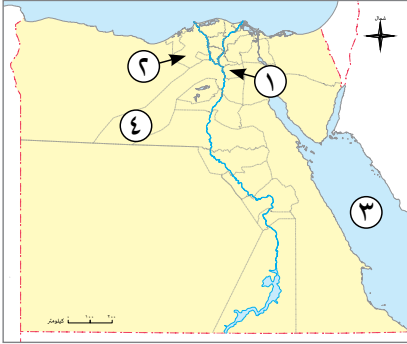
- ١ صنع القرار يقلل الثقة بالنفس. (.....)
- ٢ تعد مهنة عامل النظافة من المهن الخدمية. (.....)
- ٣ مبتكر مبرمج الحاسوب ألعاباً إلكترونية جديدة. (.....)

(ب) دلل على صحة العبارات الآتية:

- ١ لكى نصنع قراراً سليماً نمر بعدة خطوات مهمة. (يكفى ثلاثة).....
- ٢ ازدهار صناعة الزجاج فى العصر الإسلامى.....

## نموذج 2

### السؤال الأول ( ١ ) أمامك خريطة صماء لمصر، اكتب مدلول الأرقام التي عليها:



- ١ محافظة بها مراكز الحرف التقليدية.....
- ٢ محافظة متوسطة السكان.....
- ٣ البحر.....
- ٤ محافظة مزدحمة بالسكان.....

(ب) قارن بين: محافظة القاهرة ومحافظة سوهاج من حيث المهن المنتشرة في كل منها:

محافظة سوهاج	محافظة القاهرة	وجه المقارنة
.....	.....	المهن
.....	.....	

### السؤال الثاني ( ١ ) اختر الإجابة الصحيحة مما بين القوسين:

- ١ تعد من المحافظات المزدحمة بالسكان محافظة..... (الوادى الجديد - مطروح - القاهرة - البحر الأحمر)
- ٢ العمل الجماعى يعزز..... (الكسل - التعاون - التوتر - العزلة)
- ٣ يقومون بأعمال البناء والنقاشة والمحارة عمال..... (النظافة - التوصيل - المقاولات - البريد)

(ب) ما النتائج المترتبة على...؟

- ١ قلة المياه العذبة في محافظة الوادى الجديد.....
- ٢ مشاركة جميع أفراد الأسرة في صنع القرارات.....

### السؤال الثالث ( ١ ) صوب ما تحته خط:

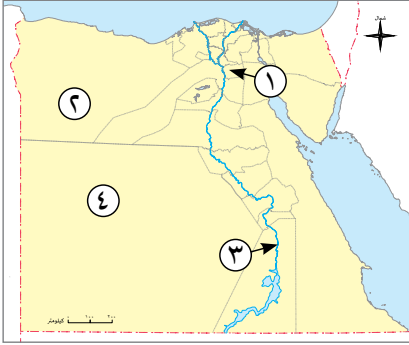
- ١ برج إيفل من أشهر معالم كندا السياحية.
- ٢ يعد اختيار رئيس مجلس المدينة أحد القرارات الفردية.
- ٣ تشتهر سيناء بصناعة الخشب.

(ب) بم تفسر...؟

- ١ يعد قطاع الزراعة إحدى الركائز الأساسية لتقدم بلدنا.....
- ٢ أهمية معدن النحاس لدى المصرى القديم.....

## نموذج 3

( ١ ) أمامك خريطة صماء لمصر، اكتب مدلول الأرقام التي عليها:



- ١ محافظة مزدحمة بالسكان .....
  - ٢ محافظة قليلة بالسكان .....
  - ٣ نهر .....
  - ٤ محافظة يعمل معظم سكانها في الرعى .....
- (ب) ما المقصود بـ: الحرف الترائية؟

( ١ ) أكمل العبارات الآتية بما يناسبها من كلمات:

- ١ تعد محافظة سوهاج إحدى المحافظات التي يعيش معظم سكانها في .....
  - ٢ ازدهرت صناعة الزجاج في العصر .....
  - ٣ أثناء اتخاذ قرار سليم يتم تحديد المشكلة ثم جمع .....
- (ب) بم تفسر...؟

- ١ تساعد الصناعة والتجارة في تلبية احتياجاتنا اليومية .....
- ٢ تعد حرب السادس من أكتوبر ١٩٧٣م من أروع الأمثلة على المشاركة في صنع القرار .....

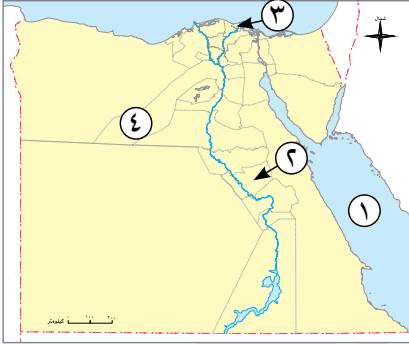
( ١ ) صوب ما تحته خط:

- ١ ينقل الميكانيكى السلع والمنتجات .
- ٢ أشهر مناطق صناعة الفخار قرية تونس بمحافظة دمياط .
- ٣ المشاركة في صنع القرار تقلل الثقة بالنفس .

(ب) أجب عن السؤالين الآتيين:

- ١ ما العلاقة بين: المهن الجديدة والتقدم العلمى والتكنولوجى؟ .....
- ٢ اذكر: أمثلة على بعض القرارات التي يمكن اتخاذها في المدرسة .....

## السؤال الأول ( ١ ) أمامك خريطة صماء لمصر، اكتب مدلول الأرقام التي عليها:



- ١ البحر.....
- ٢ محافظة متوسطة السكان.....
- ٣ مدينة بها حرفة الحفر على الخشب.....
- ٤ محافظة مزدحمة السكان.....

(ب) ما المقصود بـ: صنع القرار؟

## السؤال الثاني ( ١ ) اختر الإجابة الصحيحة مما بين القوسين:

- ١ يعمل معظم سكان محافظة القاهرة في..... (الرعى - الصناعة - التعدين - الزراعة)
- ٢ يقوم بابتكار ألعاب إلكترونية جديدة.....
- ٣ من مجالات التعاون بين مصر وكندا..... (التعليم - الرياضة - الحضارة - الاقتصاد)

(ب) دلل على صحة العبارتين الآتيتين:

- ١ يختلف توزيع السكان بين محافظات مصر.....
- ٢ يعد معرض تراثنا من أكبر الفعاليات السنوية في مصر.....

## السؤال الثالث ( ١ ) اكتب كلمة (صواب) أمام العبارة الصحيحة، وكلمة (خطأ) أمام العبارة غير الصحيحة:

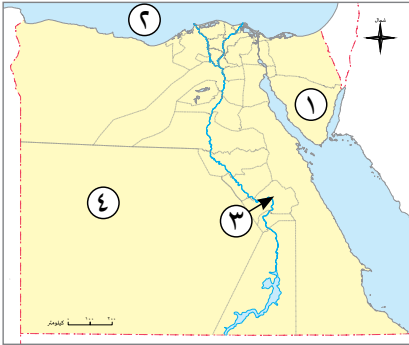
- ١ تم بناء برج القاهرة على شكل زهرة اللوتس. (.....)
- ٢ تعد محافظة الدقهلية من المحافظات قليلة السكان. (.....)
- ٣ تأسست مدينة الفسطاط على يد عمرو بن العاص. (.....)

(ب) أجب عن السؤالين الآتيين:

- ١ بم تفسر: تعد محافظة الوادى الجديد من المحافظات قليلة السكان؟
- ٢ ما النتائج المترتبة على: قيام المهندسين والعمال بتحويل المواد الخام إلى منتجات؟

## نموذج 5

( ١ ) أمامك خريطة صماء لمصر، اكتب مدلول الأرقام التي عليها:



١ محافظة قليلة السكان .....

٢ البحر .....

٣ محافظة متوسطة السكان .....

٤ محافظة تقل بها المياه العذبة .....

(ب) ماذا يحدث إذا: تم اتخاذ قرار دون جمع المعلومات؟

( ١ ) أكمل العبارات الآتية بما يناسبها من كلمات:

١ يعمل سكان محافظة القاهرة في ..... و.....

٢ ظهرت المدن المستقبلية بفضل التقدم العلمي و.....

٣ يتركز معظم سكان محافظة سوهاج في القرى على ضفاف نهر.....

(ب) بم تفسر...؟

١ أهمية حرفة الفخار والخزف .....

٢ تعد القاهرة أكثر محافظات مصر سكاناً .....

( ١ ) اكتب ما تشير إليه العبارات الآتية:

١ مهن جديدة لم تكن موجودة من قبل ظهرت بفضل التقدم العلمي والتكنولوجي. (.....)

٢ هو تحديد بدائل متعددة واختيار الأفضل منها لحل مشكلة أو تحقيق هدف معين. (.....)

٣ تصنيف السكان إلى مجموعات حسب النوع أو العمر. (.....)

(ب) قارن بين: الفلاحين والصيادين من حيث دور كل منهما في قطاع الزراعة:

الصيادون	الفلاحون	وجه المقارنة
.....	.....	دور كل منهما
.....	.....	في قطاع الزراعة

# الدراسات الاجتماعية

## إجابات نماذج اختبارات الأضواء

لشهر مارس

الفصل الدراسي الثاني

الصف

4

الابتدائي

2026

# نموذج 1

## السؤال الأول

( ١ )

- ١ الوادى الجديد. ٢ المتوسط.  
٣ القاهرة. ٤ سوهاج.  
(ب) مهن جديدة لم تكن موجودة من قبل ظهرت بفضل التقدم العلمى والتكنولوجى.

## السؤال الثانى

( ١ )

- ١ ضابط الجيش. ٢ أون.  
٣ الطين.  
(ب)  
١ لاهتمام الأسر بالتعليم.

٢ تساعدنا صناعة القرار على عيش حياة أفضل، فعندما نشارك فى صنع القرار نتعلم الشعور بالمسئولية وحل المشكلات والتعاون والاحترام وتعزيز الثقة بالنفس واحترام آراء الآخرين.

## السؤال الثالث

( ١ )

- ١ (خطأ). ٢ (صواب).  
٣ (خطأ).  
(ب)

- ١ نقوم ب: تحديد المشكلة أو الهدف - جمع المعلومات - وضع بدائل لحل المشكلة أو تحقيق الهدف / التفكير فى إيجابيات وسلبيات كل بديل / اختيار أفضل البدائل / تنفيذ القرار (البديل المناسب) / معاودة اختيار بديل آخر فى حال لم يصلح البديل الذى تم تنفيذه.  
٢ حيث استخدم فى صناعة التحف والأكواب وأسقف المساجد والقصور.

## نموذج 2

### السؤال الأول

( ١ )

٢ البحيرة.

١ القاهرة.

٤ الجيزة.

٣ الأحمر.

(ب)

وجه المقارنة	محافظة القاهرة	محافظة سوهاج
المهن	يعمل سكانها في النشاط الصناعي والخدمات.	يعمل سكانها في الزراعة.

### السؤال الثاني

( ١ )

٢ التعاون.

١ القاهرة.

٣ المقاولات.

(ب)

١ أدى إلى قلة السكان بها.

٢ يجعلنا نتعلم التعاون وتحمل المسؤولية.

### السؤال الثالث

( ١ )

١ CN تورنتو.

٢ الجماعية.

٣ النسيج اليدوي.

(ب)

١ لأنه يوفر الغذاء الذي نحتاج إليه.

٢ استخدمه في صناعة أدواته اليومية من أوانٍ وأسلحة وحلى.

## السؤال الأول

( ١ )

- ١ القاهرة. ٢ مطروح. ٣ النيل. ٤ الوادى الجديد.

(ب) صناعات يدوية تعتمد على المواد الخام المحلية ومهارة الأيدي العاملة.

## السؤال الثانى

( ١ )

- ١ القرى. ٢ الإسلامى. ٣ المعلومات.

(ب)

١ بسبب: وجود المهندسين والعمال الذين يقومون بتحويل المواد الخام إلى منتجات نستخدمها، وكذلك وجود التجار الذين يعرضون المنتجات فى الأسواق والمحلات حتى تتمكن من شرائها بسهولة.

٢ حيث شارك فيها جميع قادة الجيش مع القائد الأعلى للقوات المسلحة؛ وهو رئيس الجمهورية الرئيس الراحل محمد أنور السادات فى اتخاذ قرار حرب أكتوبر ١٩٧٣م.

## السؤال الثالث

( ١ )

- ١ عامل التوصيل. ٢ الفيوم. ٣ تعزز.

(ب)

١ المهن الجديدة (المستقبلية) هى مهن لم تكن موجودة من قبل ظهرت بفضل التقدم العلمى والتكنولوجى.

٢ اختيار نشاط مدرسى تشارك فيه - اختيار قائد للفصل - تقترح مع المعلم وضع قواعد الصف.

## السؤال الأول

( ١ )

- ١ الأحمـر .  
 ٢ سـوهاج .  
 ٣ دمياط .  
 ٤ الجيزة .  
 (ب) هو تحديد بدائل متعددة واختيار الأفضل منها لحل مشكلة أو تحقيق هدف معين .

## السؤال الثاني

( ١ )

- ١ الصناعة .  
 ٢ مصمم الألعاب .  
 ٣ التعليم .  
 (ب)  
 ١ لا يتوزع السكان بشكل متساوٍ في محافظات مصر؛ حيث توجد محافظات مزدهمة بالسكان مثل ( القاهرة - الجيزة )، ومحافظات متوسطة السكان مثل ( الدقهلية - البحيرة - سوهاج )، ومحافظات قليلة السكان مثل ( شمال سيناء - البحر الأحمر - جنوب سيناء - الوادي الجديد - مطروح ) .  
 ٢ حيث يتيح المعرض الفرصة أمام الحرفيين والمبدعين العاملين بالحرف التراثية لعرض منتجاتهم أمام الجمهور .

## السؤال الثالث

( ١ )

- ١ (صواب) .  
 ٢ (خطأ) .  
 ٣ (صواب) .  
 (ب)  
 ١ يرجع ذلك إلى أنها منطقة صحراوية تقل بها المياه العذبة .  
 ٢ يؤدي إلى توفير المنتجات التي نستخدمها مثل: الملابس والأثاث والسيارات .

## نموذج 5

### السؤال الأول

( ١ )

١ جنوب سيناء.

٢ المتوسط.

٣ قنا.

٤ الوادى الجديد.

(ب) سيؤدى إلى اتخاذ قرار خاطئ، وسيطلب ذلك العودة إلى القيام بخطوات صنع القرار السليم لاتخاذ القرار الصحيح.

### السؤال الثانى

( ١ )

١ الصناعة والخدمات.

٢ التكنولوجيا.

٣ النيل.

(ب)

١ تشكيل الأوانى وأكواب وأشكال أخرى.

٢ لأنها عاصمة البلاد - توجد بها الوزارات والمصالح الحكومية - تتوافر بها فرص العمل.

### السؤال الثالث

( ١ )

١ المهن المستقبلية.

٢ صنع القرار.

٣ التركيب السكانى.

(ب)

وجه المقارنة	الفلاحون	الصيادون
دور كل منهما فى قطاع الزراعة	- يزرعون الأرض بمختلف المحاصيل كالقمح والأرز. - يربون الأبقار والدواجن لإنتاج اللحوم والألبان والبيض.	- يعملون فى صيد الأسماك من البحرين الأحمر والمتوسط ونهر النيل والترع وأيضاً المزارع السمكية.

تطبيق



مذكرات جاهزة للطباعة

لتحميل الملفات التعليمية مجاناً للمعلم والطالب

مذكرات وملازم / مراجعات وملخصات / امتحانات / كتب الوزارة /  
أدلة المعلم / دفاتر التحضير / سجلات مدرسية / أوراق تأسيس

امسح الكود بموبايلك علشان تقدر تثبت التطبيق

وتقدر ف أي وقت تحمّل ال نفسك فيه ببلاش

هيغنيك عن البحث والجروبات والقنوات الكثيرة

