

مراجعة


دراسات اجتماعية

امتحان الشهر الأول

فيراير ومارس

6

سمير الغريب مذكرات تعليمية



السؤال الأول: اختر الإجابة الصحيحة

- (1) يزداد عدد الوفيات ويقل متوسط العمر في
- (أ) مصر (ب) الإمارات (ج) السعودية (د) السودان
- (2) يعيش سكان الوطن العربي في الجناح الإفريقي.
- (أ) نصف (ب) أكثر من نصف (ج) أقل من نصف (د) جميع
- (3) عاش البدو في المناطق وعملوا بالرعي وتنقلوا بحثاً عن الماء.
- (أ) الساحلية (ب) الصحراوية (ج) الزراعية (د) السياحية
- (4) تنخفض نسبة التعليم في بعض الدول العربية مثل
- (أ) مصر (ب) الإمارات (ج) الأردن (د) الصومال
- (5) من المقومات الطبيعية لقيام الصناعة في الوطن العربي
- (أ) الأسواق (ب) وسائل النقل (ج) الأيدي العاملة (د) المواد الخام
- (6) أسست السعودية مركز عالمي للصناعات البتروكيمياوية في
- (أ) حلوان وقنا (ب) الجبيل وينبع (ج) مكة والمدينة (د) أسوان وجدة
- (7) من المقومات البشرية لقيام الصناعة في الوطن العربي
- (أ) الموقع (ب) الأسواق (ج) مصادر الطاقة (د) المواد الخام
- (8) النقل يشمل الطرق السريعة والسكك الحديدية التي تنقل الركاب.
- (أ) الجوي (ب) البري (ج) البحري (د) النهري
- (9) من أهم صادرات الدول العربية
- (أ) السيارات (ب) المعدات (ج) البترول (د) الآلات
- (10) المصدر الرئيسي للدخل القومي في السعودية والكويت
- (أ) الصناعات البترولية (ب) الصناعات الحديثة (ج) الصناعات الغذائية

اختر الإجابة الصحيحة

- (11) تتم التجارة الإلكترونية
- (أ) في الأسواق (ب) في المراكز التجارية (ج) عبر شبكة المعلومات
- (12) من المقومات الطبيعية للتكامل الاقتصادي العربي
- (أ) وحدة اللغة (ب) وحدة التاريخ (ج) وحدة الثقافة (د) تنوع الموارد الطبيعية
- (13) يقضي التكامل الاقتصادي العربي على مشكلة بالوطن العربي.
- (أ) اللغة (ب) البطالة (ج) التعليم (د) الصحة
- (14) يعتمد اقتصاد عُمان على تصدير
- (أ) الفاكهة (ب) البترول (ج) السيارات (د) الأجهزة الكهربائية
- (15) يتميز شعب دولة عُمان ببعض الصفات منها
- (أ) الهدوء (ب) التواضع (ج) إكرام الضيف (د) جميع ما سبق
- (16) بنى محمد بن طنج الإخشيد مدينة لتكون عاصمة لمصر.
- (أ) القاهرة (ب) العسكر (ج) القطائع (د) العريش
- (17) تصدت الدولة الأيوبية لخطر
- (أ) المغول (ب) الهكسوس (ج) الصليبيين (د) البيزنطيين
- (18) تأسست الدولة الفاطمية وظهرت في
- (أ) إفريقية (ب) القاهرة (ج) بغداد (د) الحجاز
- (19) أمر ببناء الجامع الأزهر.
- (أ) عمرو بن العاص (ب) أحمد بن طولون (ج) المعز لدين الله الفاطمي
- (20) آخر سلطان أيوبي حكم مصر قبل تولي المماليك حكم مصر هو
- (أ) نجم الدين أيوب (ب) توران شاه (ج) صلاح الدين الأيوبي

السؤال الثاني: اكتب كلمة (صواب) أو كلمة (خطأ) أمام كل عبارة

- () (1) يزداد عدد الوفيات ويقل متوسط العمر في السودان والصومال.
- () (2) البطالة من التحديات التي تواجه بعض دول الوطن العربي.
- () (3) دولة الصومال من الدول التي ترتفع بها نسبة التعليم.
- () (4) يتركز السكان بدولة لبنان على المرتفعات.
- () (5) انخفاض الوفيات من أسباب الزيادة السكانية في الوطن العربي.
- () (6) يرتفع عدد السكان في السهول الساحلية للبحر المتوسط.
- () (7) النسبة الأكبر من سكان الوطن العربي هم من كبار السن.
- () (8) توفر الصناعات الغذائية احتياجات السكان وتحقق الأمن الغذائي.
- () (9) أنشأت مصر مجمع الحديد والصلب في السويس.
- () (10) الصناعة التحويلية تحول المواد الخام من صورة لصورة أخرى.
- () (11) تساعد الصناعة على تحسين مستوى المعيشة.
- () (12) تهدف الصناعات البتركيماوية إلى دعم التحول الرقمي بالدول.
- () (13) الصناعة من ركائز تقدم الشعوب ورفاهية الإنسان.
- () (14) أضعف الاستعمار تقدم الصناعة في دول الوطن العربي.
- () (15) تساعد وسائل النقل في دعم السياحة الداخلية والخارجية.
- () (16) التجارة الإلكترونية تزيد من الازدحام والتلوث.
- () (17) البترول والفوسفات من واردات الدول العربية من الخارج.
- () (18) تواجه التجارة البينية في الدول العربية كثيرا من المشكلات.
- () (19) لعبت التكنولوجيا دورا مهما في تطوير وسائل النقل.
- () (20) تتم التجارة الإلكترونية في الأسواق والمراكز التجارية.
- () (21) الصراعات والاضطرابات من معوقات التكامل الاقتصادي العربي.
- () (22) اللغة من المقومات الطبيعية لتحقيق التكامل الاقتصادي العربي.
- () (23) يمثل الاستثمار العربي المشترك إحدى أهم وسائل دعم التكامل.

اكتب كلمة (صواب) أو كلمة (خطأ) أمام كل عبارة

- () (24) يؤثر تشابه الإنتاج بين الدول العربية على تحقيق التكامل.
- () (25) الزراعة والثروة الحيوانية من مجالات التكامل الاقتصادي العربي.
- () (26) يتحقق التكامل الاقتصادي العربي دون استثمار الموارد.
- () (27) التكامل الاقتصادي العربي يخفض من البطالة بالدول العربية.
- () (28) ترتبط مصر بعلاقات اقتصادية كبيرة مع عُمان.
- () (29) تستورد دولة عُمان البترول من دول الخليج.
- () (30) ينخفض معدل الوفيات في الوطن العربي بسبب تقدم الرعاية الصحية.
- () (31) ترتفع نسبة الإناث في منطقة الخليج العربي بسبب العمالة الوافدة.
- () (32) الصومال من أكثر دول الوطن العربي اهتماماً بالتعليم.
- () (33) سهول دجلة والفرات من المناطق نادرة السكان.
- () (34) تصدير المواد الخام بدل تصنيعها من تحديات الصناعة العربية.
- () (35) تعتمد الصناعة الاستخراجية على تحويل المواد الخام إلى منتجات.
- () (36) تتميز التجارة العربية البينية بالضعف. ات تعليمية
- () (37) تقل التجارة الإلكترونية من التلوث والازدحام.
- () (38) ترجع أهمية التكامل لتحقيق الاكتفاء الذاتي.
- () (39) اختلاف السياسات الاقتصادية من معوقات التكامل العربي.
- () (40) وحدة اللغة والتاريخ والثقافة من مقومات التكامل الاقتصادي العربي.
- () (41) كانت العريش أول مدينة مصرية يدخلها جيش المسلمين.
- () (42) أسس أحمد بن طولون الدولة الفاطمية في مصر.
- () (43) نجح المماليك في التصدي لخطر المغول. سميير الغريب
- () (44) أمر الخليفة المعز لدين الله الفاطمي ببناء مدينة القاهرة.
- () (45) الجامع الأزهر هو أول جامع تم بناؤه في مصر.
- () (46) سقطت الدولة الفاطمية على يد صلاح الدين الأيوبي.

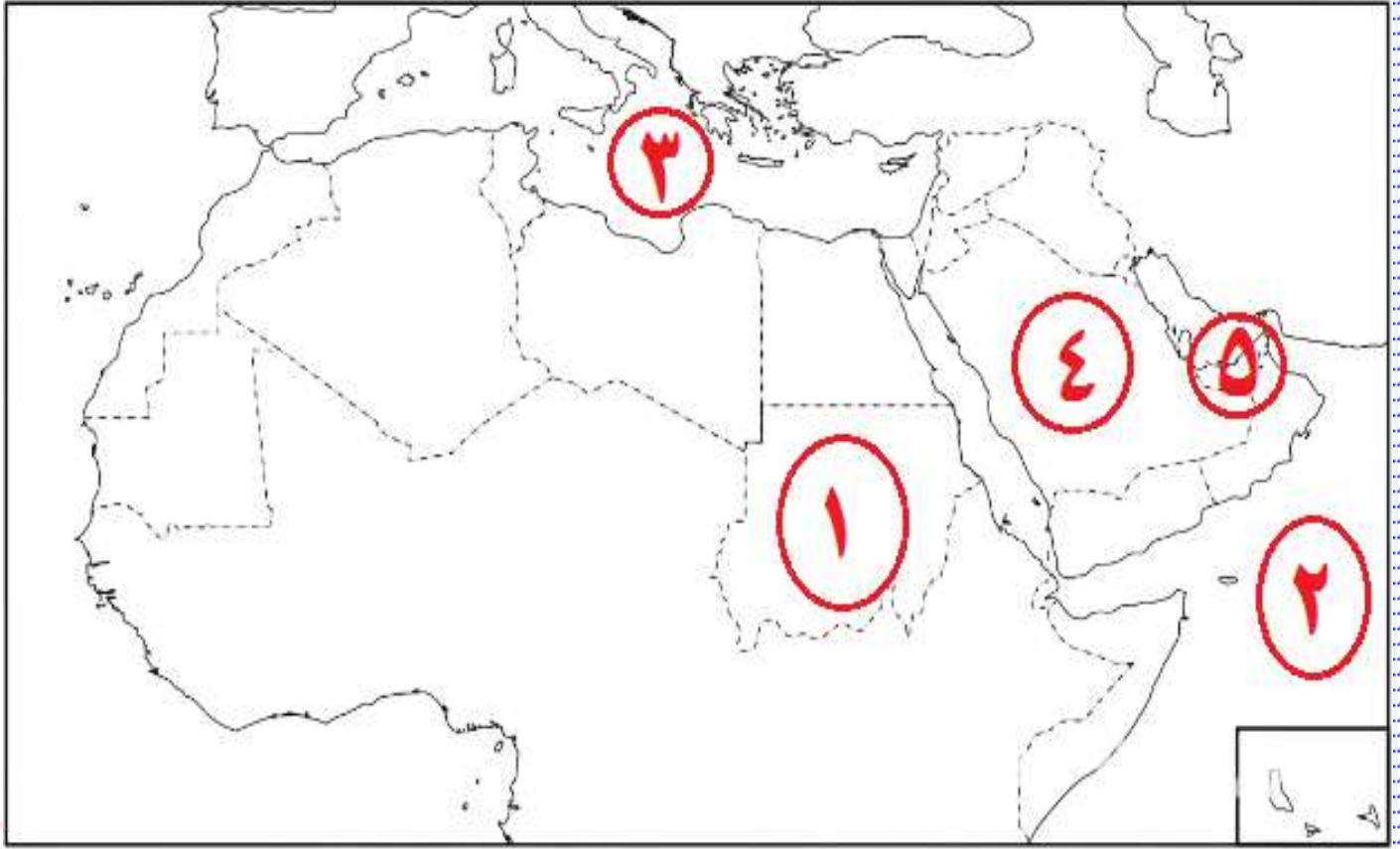
السؤال الثالث: أكمل العبارات التالية بما يناسبها من كلمات

- (1) تسبب الزيادة السكانية في الوطن العربي بعض المشكلات مثل
- (2) ترتفع نسبة الذكور في الوطن العربي في دول
- (3) يقل متوسط العمر في الوطن العربي في دولة
- (4) معظم سكان الوطن العربي من فئة
- (5) من المناطق التي يزيد بها عدد السكان في الوطن العربي
- (6) من المقومات الطبيعية للصناعة في الوطن العربي
- (7) تواجه الصناعة في الوطن العربي بعض التحديات منها
- (8) نوع من الصناعة يعتمد على استخراج المواد الخام
- (9) مقومات الصناعة في الوطن العربي و
- (10) من أمثلة الصناعات الاستخراجية في الوطن العربي استخراج
- (11) من أهم صادرات الدول العربية
- (12) من أهم واردات الدول العربية
- (13) من أهم الموانئ بدولة الإمارات ميناء
- (14) تتميز التجارة الإلكترونية بأنها توفر و
- (15) من فوائد التكامل الاقتصادي خفض و في الوطن العربي.
- (16) من أهم مقومات التكامل الاقتصادي العربي و

أكمل العبارات التالية بما يناسبها من كلمات

- (17) أحد أهم معوقات التكامل الاقتصادي العربي
- (18) أحد مجالات التكامل الاقتصادي العربي و
- (19) أحد جهود التكامل الاقتصادي العربي عام 1945 م إنشاء
- (20) إنشاء مجلس العربية 1957 م؛ لدعم التكامل الاقتصادي.
- (21) من أهم صفات شعب دولة عُمان و
- (22) من أهم المعالم السياحية في دولة عُمان
- (23) ينتمي معظم سكان الوطن العربي لفئة و
- (24) يفضل سكان الوطن العربي سكن المرتفعات كما في دولة
- (25) يتركز سكان المرتفعات في الوطن العربي في دولة
- (26) البترول والغاز الطبيعي هما المصدر الرئيسي لدخل دول
- (27) من أهداف التكامل الاقتصادي و
- (28) استقل محمد بن طغج الإخشيدي بمصر وبنى مدينة عاصمة لمصر.
- (29) تأسست أول دولة مستقلة في مصر على يد
- (30) أمر الخليفة الفاطمي ببناء مدينة القاهرة.
- (31) نجح صلاح الدين الأيوبي في القضاء على الدولة
- (32) استولت الدولة الفاطمية على مصر وقضت على الدولة

السؤال الرابع: (أ) اكتب مدلول كل رقم على الخريطة الصماء المقابلة



(1) دولة عربية يقل فيها متوسط عمر الفرد

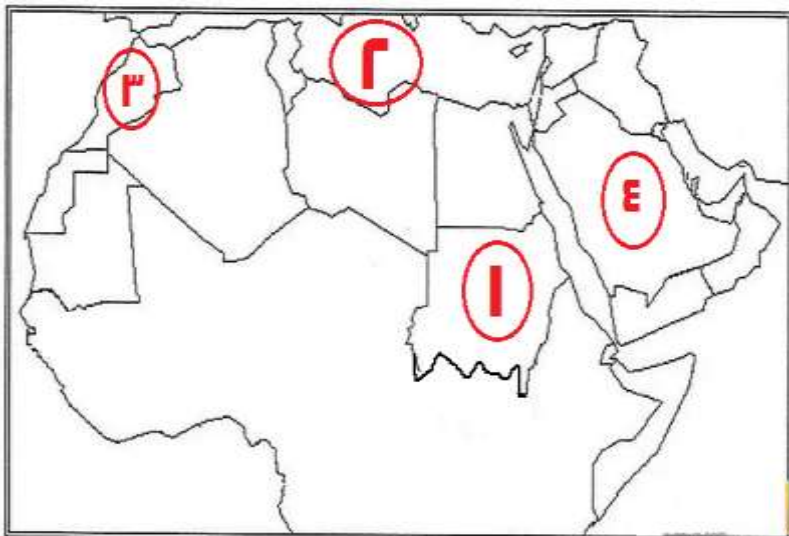
(2) المحيط

(3) البحر

(4) أكبر الدول العربية في صناعة البتروكيماويات

(5) دولة عربية يوجد بها ميناء جبل أبو علي

(ب) لاحظ الخريطة المقابلة ، ثم أجب



(1) دولة يقل فيها متوسط عمر

الفرد

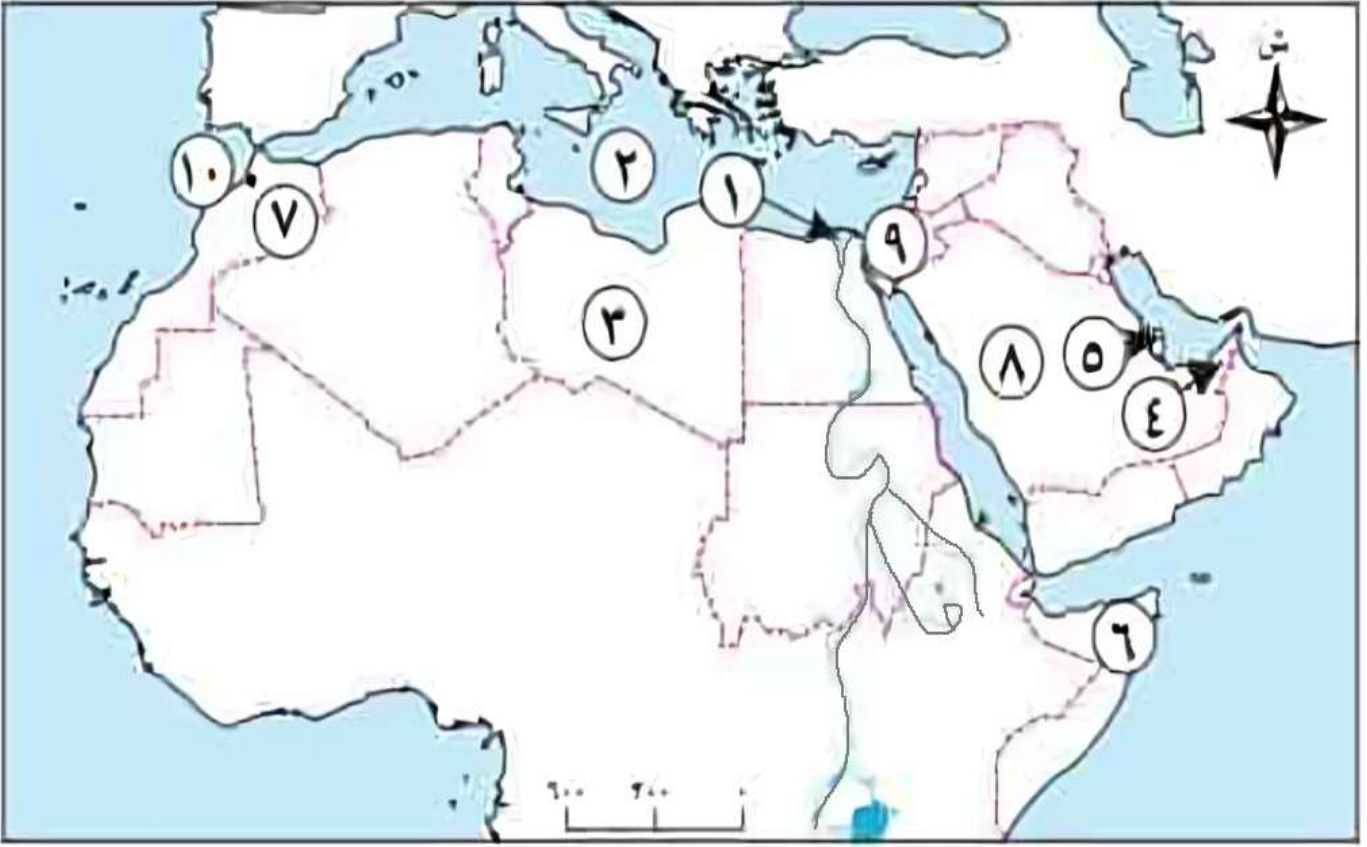
(2) البحر

(3) دولة بها ميناء طنجة

(4) دولة تشتهر بالصناعات

البتروكيميائية

(ج) أمامك خريطة صماء للوطن العربي، أجب عن الأسئلة الآتية



(1) منطقة تركز السكان

(2) البحر

(3) منطقة نادرة السكان

(4) دولة ترتفع بها نسبة التعليم هي

(5) دولة يقل بها عدد الوفيات

(6) دولة يرتفع بها معدل الوفيات

(7) دولة تتركز بها الصناعات الغذائية

(8) دولة مشهورة بالصناعات البتروكيميائية

(9) قناة

(10) ميناء

السؤال الخامس: بم تفسر...؟

سمير الغريب مذكرات تعليمية

(1) انخفاض معدل الوفيات في الوطن العربي.

(2) يزيد عدد السكان في مرتفعات لبنان واليمن.

(3) ارتفاع معدل نمو السكان في الوطن العربي.

(4) ارتفاع نسبة الذكور في منطقة الخليج العربي.

(5) انخفاض متوسط العمر في دولة الصومال ودولة السودان.

(6) يزيد عدد السكان في وادي النيل ودجلة والفرات.

(7) ينتقل البدو في المناطق الصحراوية من مكان لآخر.

(8) يزيد عدد السكان في سهول البحر المتوسط.

(9) للصناعة أهمية كبيرة لدول الوطن العربي.

(10) تركز الصناعة البتروكيميائية في دول الخليج.

(11) قيام بعض دول الوطن العربي بتصدير المواد الخام.

سمير الغريب مذكرات تعليمية

(12) انتشار صناعة الغزل والنسيج في مصر والمغرب العربي.

(13) تُقام المناطق الصناعية بالوطن العربي بالقرب من الموانئ والطرق.

(14) تواجه الصناعة في الوطن العربي بعض التحديات.

(15) التجارة البينية محدودة بين الدول العربية.

(16) أهمية التجارة في الوطن العربي.

(17) أهمية النقل في الوطن العربي.

(18) التجارة الإلكترونية له أهمية كبيرة في الوطن العربي.

(19) ظهور مشكلة البطالة في الوطن العربي.

(20) أهمية التكامل الاقتصادي العربي.

(21) طلب عمرو بن العاص ~~جولته~~ من عمر بن الخطاب ~~جولته~~ فتح مصر.

(22) ظهور الدول المستقلة في مصر.

(23) إصرار الفاطميين على ضم مصر لدولتهم.

السؤال السادس: ما النتائج المترتبة على...؟

(1) توافر المياه في نهري دجلة والفرات بالعراق.

(2) وفرة المياه والتربة الخصبة في وادي النيل.

(3) الهجرة الداخلية في الوطن العربي.

(4) النمو السريع لسكان الوطن العربي.

(5) توافر فرص العمل ومصادر الطاقة في سواحل الخليج العربي والبحر الأحمر.

(6) زيادة نسبة الشباب وصغار السن في الوطن العربي.

(7) ضعف الاستثمار في البحث العلمي والتكنولوجيا.

(8) ضعف القدرة على التصنيع في الوطن العربي.

(9) تطور الصناعات التكنولوجية الحديثة.

(10) الصناعات الغذائية من أهم الصناعات.

(11) تطوير السعودية لصناعة البتروكيماويات.

(12) توافر البترول والغاز الطبيعي في السعودية.

(13) الاعتماد على التجارة الإلكترونية.

(14) امتلاك الدول العربية لشبكة نقل ومواصلات جيدة.

ما النتائج المترتبة على...؟

(15) إنشاء جامعة الدول العربية 1945 م.

(16) إنشاء مجلس الوحدة الاقتصادية العربية 1957 م.

(17) التكامل الاقتصادي العربي.

(18) توقيع اتفاقية منظمة التجارة الحرة العربية الكبرى 1997 م.

(19) إقامة مصانع مشتركة بين الدول العربية.

(20) تشجيع الاستثمارات البينية العربية.

(21) تشابه الإنتاج بين الدول العربية.

(22) ضعف التجارة البينية العربية.

(23) انتشار التجارة الإلكترونية في الوطن العربي.

(24) ضعف الاستثمارات المشتركة في الوطن العربي.

(25) ضعف الدولة الطولونية بعد وفاة أحمد بن طولون.

(26) الشدة المستنصرية.

(27) الفتح الإسلامي لمصر.

السؤال السابع: ماذا يحدث إذا...؟

(1) تحسنت الخدمات الصحية في دولة الصومال.

(2) ارتفعت نسبة التعليم في جميع الدول العربية.

(3) توقفت الصناعات الغذائية في الوطن العربي.

(4) زاد التعاون العربي المشترك بين الدول العربية.

(5) قامت الدول العربية بإنتاج سوق مشتركة وألغت الحواجز الجمركية بينها.

(6) تحسنت جودة المنتجات العربية.

(7) تطورت التجارة الإلكترونية في الوطن العربي.

(8) ارتفعت الاستثمارات في البحث العلمي والتكنولوجي.

(9) استمرت الدول العربية في الاعتماد على الخارج.

(10) لم يفتح عمرو بن العاص مصر.

(11) لم تضعف الدولة العباسية وخلفاؤها، وكانت مصر قريبة من الخلافة العباسية.

السؤال الثامن: ما المقصود ب...؟

(1) معدل المواليد:

(2) معدل الوفيات:

(3) الهرم السكاني:

(4) الصناعة:

(5) الصناعات البتروكيميائية:

(6) التجارة البينية:

(7) التجارة التقليدية:

(8) التجارة الإلكترونية:

(9) التكامل الاقتصادي:

(10) الإخشيذ:

(11) المماليك:

السؤال التاسع: ما أوجه التشابه والاختلاف بين...؟

(1) السهول الفيضية، والسهول الساحلية في الوطن العربي.

• السهول الفيضية:

• السهول الساحلية:

(2) المقومات الطبيعية، والمقومات البشرية للتكامل الاقتصادي العربي.

• المقومات الطبيعية:

• المقومات البشرية:

(3) التجارة البينية، والتجارة الخارجية في الوطن العربي.

• التجارة البينية:

• التجارة الخارجية:

(4) الدولة الطولونية، والدولة الإخشيدية.

• الدولة الطولونية:

• الدولة الإخشيدية:

(5) المناطق الصناعية في شمال إفريقيا، وبلاد الشام.

• شمال إفريقيا:

• بلاد الشام:

السؤال العاشر: ما العلاقة بين...؟

(1) توافر المياه العذبة والتربة الخصبة، وعدد السكان.

(2) الصناعة، وفرص العمل.

(3) الصراعات والاضطرابات الداخلية، والتكامل الاقتصادي في بعض الدول العربية.

(4) الزيادة السكانية، والبطالة في الوطن العربي.

(5) ضعف الرعاية الصحية، وارتفاع معدل الوفيات في الوطن العربي.

(6) ضعف وسائل النقل في الوطن العربي، وضعف التجارة البينية.

ما العلاقة بين...؟

(7) التجارة الإلكترونية، وتوفير الوقت والجهد في الوطن العربي.

سمير الغريب مذكرات تعليمية

(8) تنوع الإنتاج، والقدرة التنافسية في الوطن العربي.

(9) توافر البترول، وعدد السكان بمنطقة الخليج العربي.

السؤال الحادي عشر: قارن بين

(1) الصناعة الاستخراجية، والصناعة التحويلية.

• الصناعة الاستخراجية:

• الصناعة التحويلية:

(2) النقل البحري، والنقل الجوي.

• النقل البحري:

• النقل الجوي:

(3) صادرات، وواردات في الوطن العربي.

• الصادرات:

• الواردات:

(4) دولة الطولونية، والدولة الإخشيدية، من حيث العاصمة.

• الدولة الطولونية:

• الدولة الإخشيدية:

السؤال الثاني عشر: أجب عما يأتي

(1) اذكر اثنين من التحديات السكانية في الوطن العربي.

سمير الغريب مذكرات تعليمية

(2) اذكر اثنين من جهود الدول العربية للنهوض بالتجارة.

(3) اذكر اثنين من جهود تحقيق التكامل الاقتصادي العربي.

(4) اذكر اثنين من أعمال عمرو بن العاص بعد حكم مصر.

(5) اذكر اثنين من أعمال أحمد بن طولون بعد حكم مصر.

(6) اذكر اثنين من أعمال محمد بن طنج الإخشيدى بعد حكم مصر.

سمير الغريب مذكرات تعليمية

(7) اذكر اثنين من مناطق الكثافة السكانية المرتفعة في الوطن العربي.

(8) اذكر اثنين من أعمال المعز لدين الله الفاطمي بعد حكم مصر.

(9) وضح أهمية التسوق الإلكتروني.

سمير الغريب مذكرات تعليمية

(10) اقترح حلين للقضاء على معوقات التكامل الاقتصادي بين الدول العربية.

السؤال الثالث عشر: دلل على صحة العبارة الآتية

(1) الصناعة من ركائز تقدم الشعوب ورفاهية الإنسان.

(2) لعبت التكنولوجيا دوراً مهماً في تطوير وسائل النقل.

(3) يواجه التكامل الاقتصادي العربي عدة معوقات.

(4) يختلف توزيع السكان في الوطن العربي.

(5) تواجه الصناعة في الوطن العربي تحديات كبرى.

(6) ضعف التجارة البينية بين الدول العربية.

(7) أهمية التجارة الإلكترونية في الوطن العربي.

(8) يمتلك الوطن العربي كل مقومات التكامل الاقتصادي.

(9) أحسن عمرو بن العاص معاملة أقباط مصر.

(10) كان للمماليك دور كبير في حماية العالم الإسلامي.

(11) ترك الفاطميون آثاراً عظيمة في مصر.

الإجابات

السؤال الأول: اختر الإجابة الصحيحة

1	السودان	2	أكثر من نصف	3	الصحراوية
4	الصومال	5	المواد الخام	6	الجبيل وينبع
7	الأسواق	8	البري	9	البترول
10	الصناعات البترولية	11	عبر شبكة المعلومات	12	تنوع الموارد الطبيعية
13	البطالة	14	البترول	15	جميع ما سبق
16	العسكر	17	الصليبيين	18	إفريقية
19	المعز لدين الله	20			

السؤال الثاني: اكتب كلمة (صواب) أو كلمة (خطأ)

1	✓	2	✓	3	✓	4	✓	5	✗
6	✓	7	✗	8	✓	9	✗	10	✓
11	✓	12	✗	13	✓	14	✓	15	✓
16	✗	17	✗	18	✓	19	✓	20	✗
21	✓	22	✗	23	✓	24	✓	25	✓
26	✗	27	✓	28	✓	29	✗	30	✓
31	✗	32	✗	33	✗	34	✓	35	✗
36	✓	37	✓	38	✓	39	✓	40	✓
41	✓	42	✗	43	✓	44	✓	45	✗
46	✓								

السؤال الثالث: أكمل العبارات التالية بما يناسبها من كلمات

البطالة/نقص الغذاء	2	الخليج	3	الصومال
الشباب/صغار السن	5	السهول الفيضية	6	الموقع/المواد الخام
تصدير المواد الخام	8	الصناعة الاستخراجية	9	طبيعية وبشرية
البترو	11	البترو والغاز	12	الآلات والسيارات
ميناء جبل علي	14	الوقت والجهد	15	البطالة والفقر
اللغة والتاريخ	17	الصراعات والاضطرابات	18	الزراعة والصناعة
جامعة الدول العربية	20	الوحدة الاقتصادية	21	التواضع والكرم
شلالات صلالة	23	الشباب وصغار السن	24	لبنان
لبنان	26	السعودية	27	خفض الفقر والبطالة
العسكر	29	أحمد بن طولون	30	المعز لدين الله
الفاطمية	32	الإخشيدية		

السؤال الرابع:

الخريطة رقم (أ)

(1) السودان (2) الهندي (3) المتوسط (4) السعودية (5) الإمارات

الخريطة رقم (ب)

(1) السودان (2) المتوسط (3) المغرب (4) السعودية

الخريطة رقم (ج)

(1) سهول نهر النيل (2) المتوسط (3) المناطق الصحراوية (4) الإمارات

(5) قطر (6) الصومال (7) المغرب (8) السعودية

(9) السويس (10) طنجة

السؤال الخامس: بم تفسر...؟

سمير الغريب مذكرات تعليمية

- (1) نتيجة تحسن مستوى المعيشة والرعاية الصحية.
- (2) لوفرة مياه الأمطار واعتدال المناخ.
- (3) ارتفاع معدل المواليد، وانخفاض معدل الوفيات.
- (4) بسبب العمالة الوافدة من الخارج.
- (5) بسبب ضعف الرعاية الصحية.
- (6) لوفرة المياه والتربة الخصبة.
- (7) ينتقلون بحثاً عن الماء.
- (8) لاعتدال المناخ ووفرة الأمطار.
- (9) توفير فرص عمل، وزيادة الدخل القومي.
- (10) بسبب وفرة البترول والغاز الطبيعي.
- (11) لعدم القدرة على التصنيع.
- (12) لوفرة القطن والكتان والألياف النباتية.
- (13) ليسهل نقل المواد الخام والمنتجات وتقليل تكلفة الإنتاج.
- (14) بسبب تصدير المواد الخام، وضعف البنية التحتية، نقص العمالة المدربة.
- (15) بسبب الحواجز الجمركية، والرسوم المرتفعة على السلع، وتشابه الصناعات.
- (16) توفير فرص عمل، وزيادة الدخل القومي.
- (17) تسهيل حركة التجارة، وربط الدول العربية، ودعم السياحة.
- (18) يوفر الوقت والجهد، يقلل الازدحام المروري والتلوث.
- (19) بسبب عدم التكامل الاقتصادي بين الدول العربية، والاعتماد على الاستيراد.
- (20) خفض البطالة والفقر، تحقيق الاكتفاء الذاتي للدول العربية..
- (21) نشر الإسلام في مصر، تخليص أهل مصر من ظلم البيزنطيين.
- (22) بسبب ضعف خلفاء الدولة العباسية، بُعد مصر عن الخلافة العباسية في بغداد.
- (23) بسبب أهمية موقع مصر، قربها من الأماكن المقدسة بالحجاز.

السؤال السادس: ما النتائج المترتبة على...؟

- (1) زيادة عدد السكان.
- (2) زيادة عدد السكان.
- (3) زيادة عدد الذكور في دول الخليج.
- (4) زيادة الضغط على الموارد، والخدمات، ونقص الغذاء.
- (5) زيادة عدد السكان.
- (6) يوفر قوة عمل كبيرة يمكن أن تساهم في التنمية.
- (7) تأخر الصناعة في الوطن العربي.
- (8) تصدير المواد الخام دون تصنيعها.
- (9) ظهور صناعات حديثة مثل: صناعة الإلكترونيات وصناعة السيارات.
- (10) توفر احتياجات السكان وتحقيق الأمن الغذائي.
- (11) أصبحت المصدر الرئيسي للدخل القومي في السعودية.
- (12) أسست السعودية مركز عالمي للصناعات البتروكيماوية.
- (13) توفير الوقت والجهد، وتقليل الازدحام المروري والتلوث.
- (14) انتقال السلع والخدمات بين دول الوطن العربي ودول العالم.
- (15) تقوية التعاون بين الدول العربية.
- (16) دعم التكامل الاقتصادي.
- (17) خفض البطالة والفقر.
- (18) تقليل الرسوم الجمركية بين الدول العربية.
- (19) زيادة الاستثمارات، وتحسين مستوى المعيشة.
- (20) تحقيق التكامل الاقتصادي بين الدول العربية.
- (21) صعوبة تحقيق التكامل الاقتصادي بين الدول العربية.
- (22) البطالة والفقر، ضعف الاستثمارات العربية المشتركة.

(24) توفير الوقت والجهد، وتقليل الازدحام المروري والتلوث.

سمير الغريب مذكرات تعليمية

(26) انتشار البطالة والفقر.

(27) عادت مصر إلى الخلافة العباسية مرة أخرى.

(28) سقوط الدولة الفاطمية.

(29) أصبحت مصر ولاية إسلامية.

السؤال السابع: ماذا يحدث إذا...؟

(1) يزيد متوسط عمر الفرد في الصومال.

(2) تتقدم الدول العربية، ونقضي على الجهل والبطالة والفقر.

(3) تقل احتياجات السكان ولا نستطيع تحقيق الأمن الغذائي.

(4) تزيد الاستثمارات، ونقضي على الفقر والبطالة.

(5) تزيد التجارة البينية بين دول الوطن العربي.

(6) تزيد التجارة البينية بين دول الوطن العربي، ويقل الاستيراد من الخارج.

(7) يوفر الوقت والجهد، يقل الازدحام المروري والتلوث.

(8) تقدم الصناعة في الوطن العربي.

(9) تتأخر الصناعة في الوطن العربي.

(10) تظل مصر تحت حكم الدولة البيزنطية.

(11) لم تظهر الدول المستقلة.

السؤال الثامن: ما المقصود ب...؟

(1) **معدل المواليد:** نسبة المواليد إلى إجمالي عدد السكان في فترة معينة.

(2) **معدل الوفيات:** نسبة الوفيات إلى إجمالي عدد السكان في فترة معينة.

(3) **الهرم السكاني:** شكل بياني يمثل توزيع السكان حسب العمر والنوع في فترة زمنية محددة.

(4) **الصناعة:** عملية تحويل المواد الخام إلى منتجات لتلبية احتياجات الإنسان.

- (5) **الصناعات البتروكيميائية:** صناعة تعتمد على البترول والغاز الطبيعي كمادة خام لإنتاج مواد أخرى.
- (6) **التجارة البينية:** هي تبادل السلع بين الدول العربية.
- (7) **التجارة التقليدية:** البيع والشراء في الأسواق والمراكز التجارية.
- (8) **التجارة الإلكترونية:** البيع والشراء عبر شبكة المعلومات والمنصات الإلكترونية.
- (9) **التكامل الاقتصادي:** التعاون بين الدول العربية؛ لتحقيق قوة اقتصادية قادرة على المنافسة عالميًا.
- (10) **الإخشيدي:** لقب فارسي يعني ملك الملوك.
- (11) **المماليك:** مجموعة من الغلمان اشتراهم الأيوبيون، وتم تدريبهم على فنون الحرب والقتال.

السؤال التاسع: ما أوجه التشابه والاختلاف بين...؟

- (1) **السهول الفيضية، والسهول الساحلية في الوطن العربي.**
- السهول الفيضية: التشابه: زيادة عدد السكان، الاختلاف: بجانب الأنهار.
 - السهول الساحلية: التشابه: زيادة عدد السكان، الاختلاف: بجانب البحار.
- (2) **المقومات الطبيعية، والمقومات البشرية للتكامل الاقتصادي العربي.**
- المقومات الطبيعية: التشابه: مهمة للتكامل، الاختلاف: مثل: المعادن والطاقة.
 - المقومات البشرية: التشابه: مهمة للتكامل، الاختلاف: مثل: وحدة اللغة والتاريخ.
- (3) **التجارة البينية، والتجارة الخارجية في الوطن العربي.**
- التجارة البينية: التشابه: نقل السلع، الاختلاف: بين الدول العربية فقط.
 - التجارة الخارجية: التشابه: نقل السلع، الاختلاف: بين الدول العربية، ودول العالم.
- (4) **الدولة الطولونية، والدولة الإخشيدية.**
- الدولة الطولونية: التشابه: من الدول المستقلة، الاختلاف: أسسها أحمد بن طولون.
 - الدولة الإخشيدية: التشابه: من الدول المستقلة، الاختلاف: أسسها محمد بن طغج.

(5) المناطق الصناعية في شمال إفريقيا، وبلاد الشام.

- شمال إفريقيا: التشابه: صناعات غذائية، الاختلاف: صناعات بترولية.
- بلاد الشام: التشابه: صناعات غذائية، الاختلاف: لا توجد صناعات بترولية.

السؤال العاشر: ما العلاقة بين...؟

- (1) توافر المياه العذبة والتربة الخصبة، يزيد من عدد السكان.
- (2) الصناعة توفر فرص عمل للسكان.
- (3) الصراعات والاضطرابات تمنع التكامل الاقتصادي في بعض الدول العربية.
- (4) الزيادة السكانية، تزيد البطالة في الوطن العربي.
- (5) ضعف الرعاية الصحية، يرفع معدل الوفيات في الوطن العربي.
- (6) ضعف وسائل النقل في الوطن العربي، يقلل التجارة البينية.

ما العلاقة بين...؟

- (7) التجارة الإلكترونية توفر الوقت والجهد في الوطن العربي.
- (8) تنوع الإنتاج، يزيد القدرة التنافسية في الوطن العربي.
- (9) توافر البترول، سبب في زيادة عدد السكان بمنطقة الخليج العربي.

السؤال الحادي عشر: قارن بين

(1) الصناعة الاستخراجية، والصناعة التحويلية. تعليمية

- الصناعة الاستخراجية: استخراج المعادن، ومصادر الطاقة.
- الصناعة التحويلية: تحويل المواد الخام إلى منتجات جديدة.

(2) النقل البحري، والنقل الجوي.

- النقل البحري: نقل يشمل الطرق السريعة والسكك الحديدية.
- النقل الجوي: نقل يشمل المطارات وشركات الطيران.

(3) صادرات، وواردات في الوطن العربي.

- الصادرات: البترول والغاز، والفوسفات والقطن، والخضروات والفواكه.
- الواردات: الآلات، والمعدات، والسيارات، والمنتجات الطبية.

(4) دولة الطولونية، والدولة الإخشيدية، من حيث العاصمة.

- الدولة الطولونية: القطائع
- الدولة الإخشيدية: العسكر

السؤال الثاني عشر: أجب عما يأتي

سمير الغريب مذكرات تعليمية

- (1) البطالة ونقص الغذاء.
- (2) تنوع الصادرات وتمييزها، تحسين جودة المنتجات العربية.
- (3) إنشاء جامعة الدول العربية، إنشاء مجلس الوحدة الاقتصادية العربية.
- (4) بناء مدينة الفسطاط، وبناء جامع عمرو بن العاص.
- (5) بناء مدينة القطائع، وبناء جامع أحمد بن طولون..
- (6) بنى مدينة العسكر، أعاد سيطرة مصر على بلاد الشام والحجاز.
- (7) السهول الفيضية، ومناطق التعدين والطاقة.
- (8) بناء بناء القاهرة وبناء الجامع الأزهر.
- (9) يوفر الوقت والجهد، يقلل الازدحام المروري والتلوث.
- (10) تشجيع الاستثمارات المشتركة، إزالة الحواجز الجمركية.

السؤال الثالث عشر: دال على صحة العبارة الآتية

- (1) الصناعة توفر فرص عمل، وزيادة الدخل القومي
- (2) التكنولوجيا طوير وسائل النقل، مثل تطوير القطارات السريعة، والمطارات.
- (3) تشابه الإنتاج، والصراعات ضعف، والاستثمارات.
- (4) أكثر من نصف سكان الوطن العربي (61%) يعيشون في الجناح الإفريقي.
- (5) تصدير المواد الخام بدلاً من تصنيعها، ضعف البنية التحتية.
- (6) تشابه الصناعات في الكثير من الدول العربية، ووجود الحواجز الجمركية..
- (7) توفر الوقت والجهد، تقلل الازدحام المروري والتلوث.
- (8) تنوع الموارد الطبيعية، ووحدة اللغة والتاريخ.
- (9) منحهم حرية ممارسة شعائرهم الدينية.
- (10) تصفية الخطر الصليبي، وحماية العالم الإسلامي من خطر المغول.
- (11) بناء مدينة القاهرة، والجامع الأزهر.

سمير الغريب مذكرات تعليمية

تطبيق



مذكرات جاهزة للطباعة

لتحميل الملفات التعليمية مجاناً للمعلم والطالب

مذكرات وملازم / مراجعات وملخصات / امتحانات / كتب الوزارة /
أدلة المعلم / دفاتر التحضير / سجلات مدرسية / أوراق تأسيس

امسح الكود بموبايلك علشان تقدر تثبت التطبيق

وتقدر ف أي وقت تحمّل ال نفسك فيه ببلاش

هيغنيك عن البحث والجروبات والقنوات الكثيرة

