

5

20
26



الدراسات الاجتماعية

الصف الخامس الابتدائي

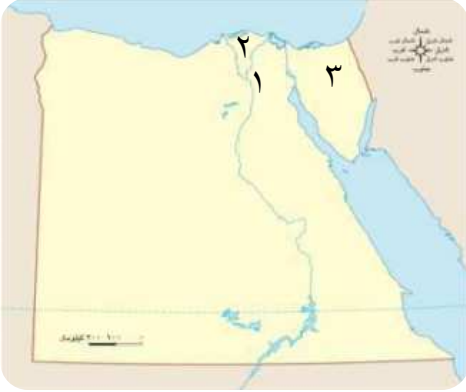
اختبارات شهر مارس

Kafr Elnada
قطر الندى



الاختبار الأول

مجاب عنه



١ (أ) أمامك خريطة صماء لمصر وضح ما تدل عليه الأرقام :

- ١- محافظة حضرية
- ٢- منطقة زراعية
- ٣- شبه جزيرة

(ب) ما النتائج المترتبة على ... ؟

١- ارتفاع منسوب المياه وتآكل الشواطئ في البيئة الساحلية.

٢- وجود دوائر العرض على خريطة العالم.

٢ (أ) اكتب كلمة (صح) أمام العبارة الصحيحة وكلمة (خطأ) أمام العبارة غير الصحيحة:

- ١- ترتفع درجة الحرارة كلما اقتربنا من الدائرة القطبية الجنوبية. ()
- ٢- تعد قمة إفريست أعلى القمم الجبلية في العالم. ()
- ٣- توجد حضارتي المايا والأزتك في قارتا أمريكا الشمالية والجنوبية. ()

(ب) دلل على صحة العبارات الآتية :

١- أهمية التراث الحضاري لقارة إفريقيا.

٢- تعتبر مصر من المناطق معتدلة الحرارة.

٣ (أ) أكمل العبارات الآتية بكلمات مناسبة :

- ١- يمثل خط الطول الرئيسي
- ٢- تتميز البيئة الريفية باستواء وتوافر و
- ٣- أكبر المحافظات في تربية الثروة الحيوانية محافظة

(ب) بم تفسر ... ؟

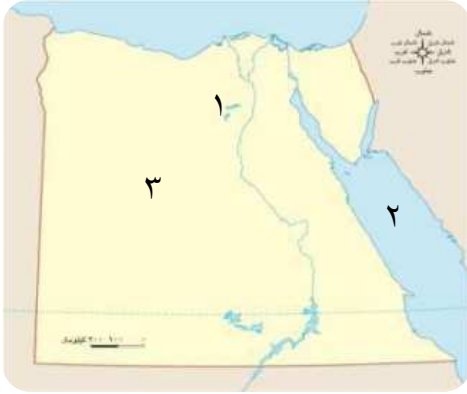
١- انتشار نشاط صيد الأسماك في محافظة بورسعيد.

٢- تتميز قارة أوروبا بتنوع تضاريسها.

٣- أهمية الغذاء للإنسان.

الاختبار الثاني

مجاب عنه



١ (أ) أمامك خريطة صماء لمصر. اكتب مدلول الأرقام التالية:

- ١- منخفض
- ٢- البحر
- ٣- الصحراء

(ب) اذكر:

١- جهود الدولة لتطوير البيئة الحضرية.

٢- أهم الأنشطة الاقتصادية التي يعمل بها سكان محافظة سوهاج.

٢ (أ) أكمل العبارات الآتية بكلمات مناسبة:

- ١- أقل محافظات مصر من حيث المساحة
- ٢- من المحيطات التي تحيط بقارة إفريقيا المحيط والمحيط
- ٣- من المحاصيل الزراعية الغذائية و

(ب) دلل على صحة العبارات الآتية:

١- تختلف تأثيرات خطوط الطول ودوائر العرض على خريطة العالم.

٢- يعد المحيط القطبي الشمالي حدًا للعديد من القارات.

٣- تدعم الدولة المشروعات الزراعية الكبرى.

٣ (أ) صوب ما تحته خط:

- ١- قامت الحضارة الصينية القديمة على أرض قارة أوروبا. (.....)
- ٢- تعد محافظة السويس من المحافظات الريفية المصرية. (.....)
- ٣- من أشهر حضارات قارة أوروبا حضارة المايا. (.....)

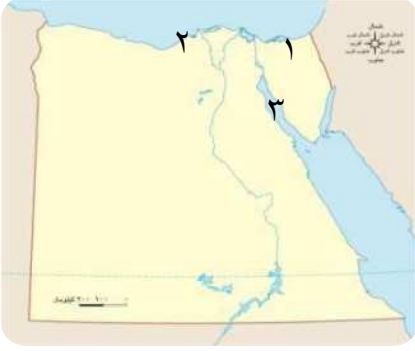
(ب) ما العلاقة بين ... ؟

١- خط جرينتش وفروق التوقيتات الزمنية.

٢- مساحة المحافظة والكثافة السكانية بها.

الاختبار الثالث

مجاب عنه



١ (أ) أمامك خريطة صماء لمصر . اكتب مدلول الأرقام التالية :

- ١- محافظة
- ٢- محافظة ساحلية
- ٣- خليج

(ب) بم تفسر...؟

١- تمتلك قارة آسيا التضاريس الأعلى ارتفاعاً في العالم.

٢- أهمية الثروة السمكية في مصر.

٢ (أ) اختر الإجابة الصحيحة مما بين القوسين :

- ١- من المحافظات الحدودية في مصر
- ٢- توجد جبال
- ٣- كلما ابتعدنا عن

(خط جرينتش - دائرة الاستواء - مدار الجدى - الدائرة القطبية الشمالية)

(ب) ما النتائج المترتبة على ... ؟

١- قرب قارة أمريكا الشمالية من القطب الشمالى.

٢- وجود المناظر الطبيعية الخلابة فى السواحل المصرية.

٣ (أ) اكتب ما تشير إليه العبارات الآتية :

- ١- متوسط عدد السكان الذين يعيشون في الكيلومتر المربع الواحد على المساحة. (.....
- ٢- مساحة واسعة من اليابس تحيط بها المياه وتضم مجموعة من الدول. (.....
- ٣- كل ما يقوم به الإنسان من أعمال ومشروعات لتلبية احتياجاته. (.....

(ب) اذكر :

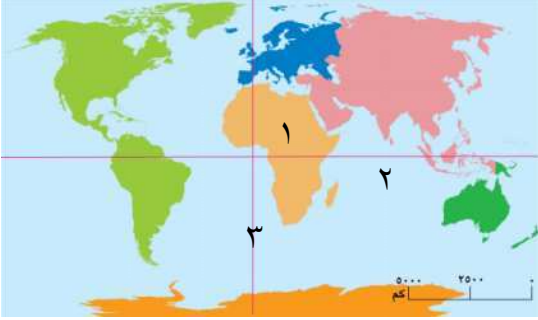
١- دور الدولة في تطوير البيئة الساحلية.

٢- الخصائص التى تتميز بها البيئة الحضرية.

٣- جهود الدولة في تطوير الثروة الحيوانية.

الاختبار الرابع

مجاب عنه



١ (أ) أمامك خريطة صماء لقارات العالم .

اكتب مدلول الأرقام التالية :

- ١- قارة
- ٢- المحيط
- ٣- خط

(ب) ما المقصود بكل من ... ؟

- ١- التراث الثقافي :
- ٢- منطقة حرارية :

٢ (أ) اكتب كلمة (صح) أمام العبارة الصحيحة وكلمة (خطأ) أمام العبارة غير الصحيحة:

- ١- تنتشر المهن الخدمية ، مثل : التعليم والصحة في المحافظات الصحراوية. ()
- ٢- تعد دائرة الاستواء لها دوراً مهماً في تنوع المناخ بالعالم. ()
- ٣- يحد قارة إفريقيا من جهة الغرب المحيط الأطلنطي. ()

(ب) دلل على صحة العبارات الآتية :

- ١- يعد المحيط الهادى حدًا للعديد من القارات.
- ٢- للبيئة تأثير على أنشطة السكان في كل محافظة.
- ٣- عرف المصريون القدماء تربية الحيوانات واستخدموها.

٣ (أ) اختر الإجابة الصحيحة مما بين القوسين :

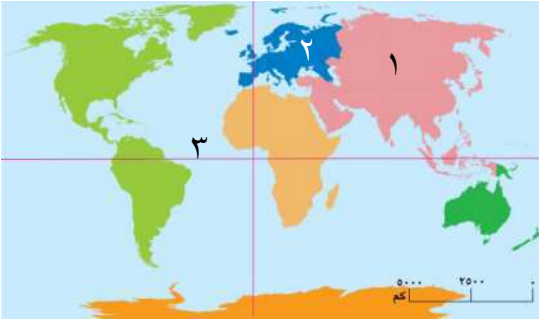
- ١- البيئة تنتشر بها القرى وتقع في الوادى والدلتا. (الريفية - الحضرية - الساحلية - الصحراوية)
- ٢- أعلى هضاب العالم هي هضبة (إفريقيا الشمالية - التبت - الأناضول - الدكن)
- ٣- محافظة ينتشر بها النشاط السياحي في مصر. (مطروح - الدقهلية - جنوب سيناء - الغربية)

(ب) بم تفسر ... ؟

- ١- تختلف الكثافة السكانية من محافظة إلى أخرى.
- ٢- من الضروري الحرص على تناول الغذاء الصحى السليم.

الاختبار الخامس

مجاب عنه



١ (أ) أمامك خريطة صماء لقارات العالم .

اكتب مدلول الأرقام التالية :

- ١- قارة
٢- قارة
٣- دائرة

(ب) ماذا يحدث إذا ... ؟

١- كانت مصر من الدول القريبة من دائرة الاستواء .

.....
٢- لم تهتم الدولة بتنوع الأنشطة الاقتصادية في مصر .
.....

٢ (أ) صنف المناطق الآتية حسب نوع البيئة التي تنتمي إليها :-

خليج السويس - الدلتا - الصحراء الغربية - محافظة القاهرة - ساحل البحر المتوسط - منخفض الفيوم -
شبه جزيرة سيناء - بورسعيد

البيئة الزراعية	البيئة الساحلية	البيئة الحضرية	البيئة الصحراوية
.....
.....

(ب) ما العلاقة بين ؟

١- دائرة الاستواء والمناخ .

.....
٢- البيئة الحضرية ووسائل النقل .
.....

٢ (أ) اكتب ما تشير إليه العبارات الآتية :

- ١- كل ما يحيط بالإنسان يؤثر فيه ويتأثر بها .
(.....)
٢- محافظات تقع على أطراف حدود مصر البرية والبحرية وتشارك في حدودها
(.....) مع دول أخرى أو تطل على أحد المسطحات المائية .
٣- موقع المكان بالنسبة لخطوط الطول ودوائر العرض .
(.....)

(ب) ما النتائج المترتبة على ... ؟

١- كثرة الهضاب في قارة إفريقيا .

.....
٢- انتشار المعادن ومصادر الطاقة في البيئة الصحراوية .
.....

5

20
26



الدراسات الاجتماعية

الصف الخامس الابتدائي

الإجابات النموذجية

Kafr Elnada
قطر الندى



الإجابات النموذجية

إجابة الاختبار الأول

ج ١: (أ)

١- القاهرة. ٢- الدلتا. ٣- سيناء.

(ب)

١- أدى إلى : قيام الدولة بالعديد من الجهود

لتطوير البيئة الساحلية لحماية

الشواطئ من التآكل.

٢- أدى إلى :

١- تقسيم خريطة العالم إلى نصف

شمالى ونصف جنوبى.

٢- تنوع المناطق الحرارية على الأرض

إلى مناطق حارة ومعتدلة وباردة.

ج ٢: (أ)

١- (خطأ). ٢- (صح). ٣- (صح).

(ب)

١- حيث قامت على أرض قارة إفريقيا أعظم

الحضارات التي عرفها التاريخ وهي

الحضارة المصرية القديمة.

٢- حيث أن مصر تقع في المنطقة المعتدلة

بين المدارين والدائرتين القطبيتين وتبتعد

قليلاً عن دائرة الاستواء.

ج ٣: (أ)

١- خط جرينتش.

٢- السطح - المياه العذبة والتربة الخصبة.

٣- البحيرة.

(ب)

١- لأنها: تطل على مسطح مائي وهو البحر

المتوسط ويعمل معظم سكانها بصيد

الأسماك.

٢- بسبب: تعدد مظاهر السطح بها، مثل: جبال

الألب، بالإضافة إلى السهل الأوروبي

العظيم.

٣- لأنه: مصدر الطاقة والنمو للإنسان وبدونه

تصعب الحياة.

إجابة الاختبار الثاني

ج ١: (أ)

١- الفيوم. ٢- الأحمر. ٣- الغربية.

(ب)

١- إنشاء مدن جديدة - القضاء على

العشوائيات - تطور البنية التحتية بالمدن

- استخدام وسائل النقل المستدامة.

٢- الزراعة وتربية الحيوانات لتوافر المياه

العذبة والتربة الخصبة.

ج ٢: (أ)

١- دمياط. ٢- الهندي - الأطلنطي.

٣- القمح والأرز.

(ب)

١- حيث تأثير خطوط الطول: تؤثر في فروق

التوقيت من مكان لآخر.

أما تأثير دوائر العرض: تؤثر في المناخ من

مكان لآخر.

٢- حيث يطل على قارات آسيا وأوروبا وأمريكا

الشمالية.

٣- حيث أقامت الدولة العديد من

المشروعات، مثل: مشروع الدلتا الجديدة،

وشرق العوينات والفرافرة.

ج ٣: (أ)

١- آسيا. ٢- المنوفية. ٣- اليونان.

(ب)

١- حيث يعد خط جرينتش المرجع الأساسي

لفروق التوقيت على سطح الأرض.

٢- حيث كلما زادت مساحة المحافظة قلت

الكثافة السكانية.

إجابة الاختبار الثالث

ج ١: (أ)

١- شمال سيناء. ٢- الإسكندرية.

٣- السويس.

(ب)

١- لأنه : يوجد بها أعلى هضاب العالم

(هضبة التبت) وأعلى قمة جبلية في

العالم (وهي قمة إفرست).

٢- لأنها : توفر البروتين الغنى بالعناصر

الغذائية الضرورية للجسم.

ج ٢: (أ)

١- مطروح. ٢- الألب. ٣- دائرة الاستواء.

(ب)

١- أدى إلى : وجود مناطق شديدة البرودة

ويغطيها الجليد طوال العام.

٢- أدى إلى : انتشار نشاط السياحة الترفيهية

والبيئية بها.

ج ٣: (أ)

١- الكثافة السكانية. ٢- القارات.

٣- الأنشطة الاقتصادية.

(ب)

١- حيث تعمل الدولة على :

١- حماية الشواطئ من التآكل.

٢- تطوير الخدمات بالمدن الساحلية.

٣- إنشاء مدن جديدة ، مثل : مدينة

العلمين الجديدة.

٢- خصائص البيئة الحضرية تميز ب :

١- التخطيط العمراني.

٢- جودة البنية التحتية.

٣- تنوع وسائل النقل والمواصلات.

٣- جهود الدولة في تطوير الثروة الحيوانية :

١- تطوير صناعة الأعلاف.

٢- توفير الرعاية البيطرية.

٣- تحسين السلالات الحيوانية.

إجابة الاختبار الرابع

ج ١: (أ)

١- إفريقيا. ٢- الهندي. ٣- جرينتش.

(ب)

١- التراث الثقافي : هو هوية الشعوب التي

تميزها وتشمل لغاتهم

وفنونهم وعاداتهم

وتقاليدهم.

٢- منطقة حرارية : هي مساحة من الكرة

الأرضية تتشابه في

خصائصها المناخية.

ج ٢: (أ)

١- (خطأ). ٢- (صح). ٣- (صح).

(ب)

١- حيث يطل المحيط الهادي على عدة قارات، وهي :

قارة آسيا وأمريكا الشمالية وأمريكا الجنوبية.

ج ٢: (أ)

البيئة الزراعية	البيئة الساحلية
- الدلتا.	- خليج السويس.
- منخفض الفيوم.	- ساحل البحر المتوسط.
البيئة الحضرية	البيئة الصحراوية
- محافظة القاهرة.	- الصحراء الغربية.
- محافظة بورسعيد.	- شبه جزيرة سيناء.

(ب)

- ١- حيث تلعب دائرة الاستواء دورًا هامًا في تنوع المناخ على سطح الأرض، فكلما اقتربنا من دائرة الاستواء ترتفع درجات الحرارة وتقل كلما ابتعدنا عن دائرة الاستواء.
- ٢- حيث تتميز البيئة الحضرية بتنوع وسائل النقل والمواصلات بها.

ج ٣: (أ)

- ١- البيئة.
- ٢- المحافظات الحدودية.
- ٣- الموقع الفلكي.

(ب)

- ١- أدى إلى: تميز قارة إفريقيا بشكلها الهضبي لتعدد الهضاب فيها، مثل: هضبة إفريقيا الشمالية.
- ٢- أدى إلى: انتشار نشاط التعدين في البيئة الصحراوية.

٢- حيث ينتشر نشاط صيد الأسماك في

المحافظات المطلة على سطح مائي، مثل:

محافظة كفر الشيخ، وينتشر نشاط

الزراعة في المحافظات التي يوجد بها مناطق

خصبة مثل: محافظة المنوفية، وينتشر نشاط

السياحة في المحافظات التي يوجد بها مناطق

أثرية، مثل: محافظة الأقصر، أما نشاط

التعدين فيوجد في المحافظات التي يوجد بها

آبار بترول ومواد خام، مثل: محافظة السويس.

٣- حيث استخدم المصريون القدماء

الحيوانات كالأبقار والأغنام والماعز

واستخدموها في أعمال الحرث والنقل.

ج ٣: (أ)

- ١- الريفية.
- ٢- التبت.
- ٣- جنوب سيناء.

(ب)

- ١- وذلك تبعًا لعدد السكان على جملة مساحة المحافظة.
- ٢- لأنه: يجعل الجسم نشيطًا ويقوى

المناعة ويحمي من الأمراض.

إجابة الاختبار الخامس

ج ١: (أ)

- ١- آسيا.
- ٢- أوروبا.
- ٣- الاستواء.

(ب)

١- كانت ترتفع درجات الحرارة في مصر

وتصبح مصر من المناطق الحارة مناخيًا.

٢- لم يتنوع الإنتاج الاقتصادي للدولة وتقل

فرص العمل.

تطبيق



مذكرات جاهزة للطباعة

لتحميل الملفات التعليمية مجاناً للمعلم والطالب

مذكرات وملازم / مراجعات وملخصات / امتحانات / كتب الوزارة /
أدلة المعلم / دفاتر التحضير / سجلات مدرسية / أوراق تأسيس

امسح الكود بموبايلك علشان تقدر تثبت التطبيق

وتقدر ف أي وقت تحمّل ال نفسك فيه ببلاش

هيغنيك عن البحث والجروبات والقنوات الكثيرة

