



ابتدائى

6

سلسلة

# البركان

فى الدراسات الاجتماعية



مراجعة شهر فبراير

إعداد

أ / محمد عبد الطبور

01129903122



## مراجعة شهر فبراير - ستة ابتدائي

## السؤال الأول : أكمل العبارات التالية بما يناسبها من كلمات :-

- ١- ترتب على تضاعف عدد السكان في الوطن العربي نقص .....
- ٢- ارتفاع معدل المواليد بالوطن العربي أحد أسباب .....
- ٣- منعت الحروب والصراعات الدول العربية من تحقيق أمنها الغذائي و .....
- ٤- يتركز السكان في الوطن العربي في سهول نهر ..... بمصر .
- ٥- يقل السكان في الوطن العربي في المناطق الصحراوية بسبب ندرة .....
- ٦- يتركز السكان في الوطن العربي في بعض مناطق المرتفعات بدولتي ..... و .....
- ٧- يزيد عدد السكان في الوطن العربي في مناطق التعدين على سواحل .....
- ٨- النسبة الأكبر من سكان الوطن العربي تضم فئتي ..... و .....
- ٩- يتركز السكان في سواحل الخليج العربي للعمل في .....
- ١٠- اقل نسبة لسكان الوطن العربي من فئة .....
- ١١- ترتفع نسب التعليم في الوطن العربي بدولتي ..... و .....
- ١٢- يطلق على السكان أقل من ١٥ عاما فئة .....
- ١٣- تزداد معدلات الوفيات في الوطن العربي بدولة .....
- ١٤- يرتفع متوسط العمر بالدول العربية مثل مصر و ..... و .....
- ١٥- يفضل سكان الوطن العربي سكنى المرتفعات كما في دولة .....
- ١٦- صناعة السيارات والإلكترونيات من الصناعات .....
- ١٧- أكبر المراكز العالمية في الصناعات البتروكيميائية بالسعودية مدينة الجبيل و .....
- ١٨- الحصول على المعادن ومصادر الطاقة من باطن الأرض يسمى صناعة .....
- ١٩- تعد وسائل النقل والمواصلات من المقومات ..... للصناعة .
- ٢٠- ترتبط الصناعات ..... بالتطور العلمي والتكنولوجي .
- ٢١- تشتهر دول الخليج العربي بالصناعات ..... و .....
- ٢٢- يرتبط تحقيق الأمن الغذائي للوطن العربي بالصناعات .....
- ٢٣- الأساس لمشروعات البناء والتعمير هي صناعة .....
- ٢٤- تلبي التجارة احتياجات السكان من خلال تبادل السلع و .....
- ٢٥- تمتلك مصر إحدى أهم طرق الملاحة العالمية وهي قناة .....
- ٢٦- تبادل السلع بين الدول العربية يسمى تجارة .....
- ٢٧- تعرضت معظم الدول العربية في القرنين التاسع عشر والعشرين للاستعمار .....
- ٢٨- يشمل النقل البري ..... و .....
- ٢٩- تتم حركة النقل ..... عبر السواحل العربية .
- ٣٠- البترول والغاز الطبيعي هما المصدر الرئيسي لدخل دول .....
- ٣١- أهم صادرات الوطن العربي ..... و .....
- ٣٢- يشمل النقل ..... المطارات وشركات الطيران العربية .

- ٣٣- تنقسم التجارة في الوطن العربي إلى تجارة ..... وتجارة .....
- ٣٤- أحد الجهود العربية للنهوض بالتجارة ..... و .....
- ٣٥- دعمت الدول العربية عام ١٩٥٧م التكامل الاقتصادي من خلال إنشاء مجلس .....
- ٣٦- أحد معوقات التكامل الاقتصادي العربي تشابه .....
- ٣٧- يُعد من المقومات الطبيعية لتحقيق التكامل الاقتصادي العربي .....
- ٣٨- يساعد التكامل الاقتصادي العربي على خفض نسبة ..... و .....
- ٣٩- لتقليل الرسوم الجمركية بين الدول العربية تم توقيع اتفاقية .....
- ٤٠- من الأماكن السياحية بدولة عمان جامع السلطان .....
- ٤١- حاصر عمرو بن العاص مدينة الإسكندرية حتى استسلم حاكمها .....
- ٤٢- تم القضاء على الدولة الفاطمية على يد .....
- ٤٣- بنيت مدينة القاهرة في عصر الدولة .....
- ٤٤- اخر سلاطين الدولة الايوبية هو السلطان .....
- ٤٥- بنى محمد بن طغ الاخشيد مدينة ..... لتكون عاصمة للدولة الاخشيدية .

### السؤال الثاني : اكتب كلمة (صواب ) وكلمة (خطأ) أمام العبارات التالية :-

- ١- ينخفض معدل الوفيات في الوطن العربي بسبب تقدم الرعاية الصحية . ( )
- ٢- سهول دجلة والفرات من المناطق نادرة السكان . ( )
- ٣- تضاعف عدد السكان في الوطن العربي ما بين عامي ١٩٠٠م ٢٠٢٤م عشر مرات . ( )
- ٤- يساعد التخطيط الجيد على مواجهة الزيادة السكانية في الوطن العربي . ( )
- ٥- ترتفع نسبة الإناث في منطقة الخليج العربي بسبب العمالة الوافدة . ( )
- ٦- يختلف توزيع السكان في الوطن العربي من مكان إلى آخر . ( )
- ٧- تتسم سهول البحر المتوسط باعتدال المناخ ووفرة الأمطار . ( )
- ٨- الصومال من أكثر دول الوطن العربي اهتماما بالتعليم . ( )
- ٩- يقل التركيز السكاني في الوطن العربي في سهول البحر المتوسط بمصر . ( )
- ١٠- يتركز معظم سكان الوطن العربي في دول الجناح الإفريقي . ( )
- ١١- تقل نسبة كبار السن بين سكان الوطن العربي . ( )
- ١٢- تساهم زيادة فئة كبار السن بين السكان في ارتفاع معدلات التنمية . ( )
- ١٣- يقل مستوى الرعاية الصحية بدولة الصومال . ( )
- ١٤- ترتفع نسبة الذكور عن الإناث في الوطن العربي . ( )
- ١٥- تُعد الصناعة من الركائز الأساسية لتقدم الشعوب ورفاهية الإنسان . ( )
- ١٦- تصدير المواد الخام بدل تصنيعها من تحديات الصناعة العربية . ( )
- ١٧- تعد السعودية إحدى دول المنطقة الصناعية ببلاد الشام . ( )
- ١٨- تعتمد الصناعة الاستخراجية على تحويل المواد الخام إلى منتجات . ( )
- ١٩- تتميز التجارة العربية البينية بالضعف . ( )
- ٢٠- تقلل التجارة الإلكترونية من التلوث والازدحام . ( )

- ٢١- تساهم التكنولوجيا في زيادة حجم التجارة الداخلية والخارجية .  
 ( )  
 ٢٢- ترجع أهمية التكامل لتحقيق الاكتفاء الذاتي .  
 ( )  
 ٢٣- تعد قناة السويس من أهم طرق الملاحة العالمية .  
 ( )  
 ٢٤- اختلاف السياسات الاقتصادية من معوقات التكامل العربي .  
 ( )  
 ٢٥- تساعد وحدة اللغة والثقافة على تحقيق التكامل الاقتصادي العربي .  
 ( )  
 ٢٦- الموارد المعدنية من المقومات البشرية للتكامل الاقتصادي العربي .  
 ( )  
 ٢٧- أصبحت الإمارات العربية المتحدة مركزا عالميا للتجارة وإعادة التصدير .  
 ( )  
 ٢٨- أحد معوقات التكامل الاقتصادي العربي الاعتماد على الاستيراد من الخارج .  
 ( )  
 ٢٩- يفتقر الوطن العربي للكوادر البشرية في مختلف المجالات العلمية والفنية .  
 ( )  
 ٣٠- يعتمد اقتصاد دولة عمان على تصدير البترول والغاز الطبيعي .  
 ( )  
 ٣١- الدولة الطولونية هي أولى الدولة المستقلة عن الخلافة العباسية .  
 ( )  
 ٣٢- نجحت الدولة الفاطمية في ضم بلاد الشام والحجاز لحكمها .  
 ( )  
 ٣٣- تحرك جيش المسلمين بقيادة معاوية بن ابي سفيان لفتح مصر والشام .  
 ( )  
 ٣٤- أحسن عمرو بن العاص معاملة الاقباط في مصر .  
 ( )  
 ٣٥- سقطت الدولة الطولونية بعد وفاة خماوريه على يد الفاطميين .  
 ( )

### السؤال الثالث : اختر الإجابة الصحيحة مما بين القوسين فيما يلي :-

- ١- تتجه الهجرة الوافدة بحثاً عن فرص العمل إلى بعض دول .....
- ( المغرب العربي - وادي النيل - بلاد الشام - الخليج العربي )
- ٢- تتوافر مياه الأمطار ويعتدل المناخ في مرتفعات .....
- ( مصر - لبنان - موريتانيا - ليبيا )
- ٣- يتجه السكان للهجرة إلى دول الخليج بهدف .....
- ( التعليم - العمل - الترفيه - السياحة )
- ٤- تنخفض نسب التعليم في دولة .....
- ( الإمارات - قطر - السعودية - الصومال )
- ٥- يتركز السكان في سواحل الخليج العربي نتيجة لـ .....
- ( توافر التربة الخصبة - قلة الأمطار - قيام التعدين والصناعة - انتشار الواحات )
- ٦- أحد المقومات الطبيعية للصناعة .....
- ( الموقع - رعوس الأموال - وسائل النقل - الأسواق )
- ٧- يُعد استخراج الفوسفات من باطن الأرض من الصناعات .....
- ( التحويلية - الاستخراجية - الاستهلاكية - التكنولوجية )
- ٨- تُعد صناعة الغزل والنسيج من الصناعات ..... ( الحديثة - التحويلية - الاستخراجية - التكنولوجية )
- ٩- أحد مناطق تركيز الصناعات بالوطن العربي وتشتهر بقيام الصناعات البتروكيميائية .....
- ( شمال إفريقيا - بلاد الشام - الخليج العربي - جنوب اليمن )
- ١٠- تعد صناعة ..... المصدر الرئيسي للدخل القومي في السعودية .
- ( الحديد والصلب - السيارات والسفن - البترول والغاز الطبيعي - الغزل والنسيج )
- ١١- يواجه النشاط الصناعي تحديات مرتبطة بالبيئة مثل .....
- ( ضعف التعاون العربي - قوة الاستثمارات - قوة البنية التحتية - ارتفاع معدلات التلوث )
- ١٢- تشمل الصادرات العربية للخارج ..... ( الأدوية - الآلات - الغاز الطبيعي - التكنولوجيا الحديثة )

- ١٣- يشمل النقل البري كلا من الطرق السريعة وخطوط .....  
( المواني - السكك الحديدية - الطيران - الهواتف الأرضية )
- ١٤- تنقسم التجارة في الوطن العربي إلى نوعين هما التجارة البينية والتجارة .....  
( التقليدية - الخارجية - الحديثة - الإلكترونية )
- ١٥- تتعدد واردات الوطن العربي من الخارج، ومنها .....  
( البترول - الغاز الطبيعي - السيارات - الخضراوات والفواكه )
- ١٦- تسعى مصر لتصبح مركزاً عالمياً في التجارة من خلال تطوير .....  
( نهر النيل - قناة السويس - بحيرة ناصر - البحيرات الشمالية )
- ١٧- يمتلك الوطن العربي مقومات تكامل اقتصادي طبيعية منها .....  
( الكوادر الفنية - مصادر الطاقة - وحدة اللغة - وحدة التاريخ )
- ١٨- يُعد من المقومات البشرية للتكامل الاقتصادي العربي .....  
( رأس المال - الكوادر البشرية - السوق المشتركة - جميع ما سبق )
- ١٩- يساهم التكامل الاقتصادي العربي بشكل مباشر في خفض معدل .....  
( الوفيات - التلوث - البطالة - المواليد )
- ٢٠- أحد أهم المعالم السياحية في دولة عمان .....  
( قلعة قايتباي - جامع السلطان حسن - جامع السلطان قابوس - قلعة حمص )
- ٢١- من أشهر سلاطين المماليك .....  
( صلاح الدين الأيوبي - سيف الدين قطز - كافور الأخشيدى - جواهر الصقلى )
- ٢٢- يعد أول جامع في مصر وأفريقيا هو جامع .....  
( عمرو بن العاص - الأزهر الشريف - أحمد بن طولون - السلطان حسن )
- ٢٣- أصبحت مصر بعد دخول عمرو بن العاص ولاية .....  
( رومانية - قبطية - إسلامية - اغريقية )
- ٢٤- دولة ..... استطاعت التصدي للصليبيين والمغول .  
( المماليك - الأيوبيين - الفاطميين - الطولونيين )
- ٢٥- بنى الجامع الأزهر في عصر الدولة .....  
( الطولونية - الأخشيدية - الفاطمية - الأيوبية )

### السؤال الرابع : صوب ما تحته خط فيما يلي :-

- ١- زيادة عدد الشباب مع قلة فرص العمل بالوطن العربي أدى إلى مشكلة الأمية .
- ٢- تضاعف عدد سكان الوطن العربي حوالى خمس مرات من عام ١٩٠٠ حتى ٢٠٢٤ م .
- ٣- يزداد عدد سكان الوطن العربي بسبب انخفاض معدل المواليد .
- ٤- يتميز مناخ السهول الساحلية بالوطن العربي بأنه حار .
- ٥- يقل عدد السكان في الوطن العربي في المناطق الساحلية .
- ٦- النسبة الأقل من سكان الوطن العربي هم فئة صغار السن .
- ٧- يرتفع مستوى الرعاية الصحية بدولة الصومال .

- ٨- الصناعات الغذائية هي صناعات تعتمد على البترول والغاز الطبيعي .
- ٩- الصناعة التحويلية تعتمد على استخراج المعادن ومصادر الطاقة .
- ١٠- ترتبط صناعة الملابس والأغذية بالتطور العلمي والتكنولوجي .
- ١١- تعد صناعة الغزل والنسيج من الصناعات الاستخراجية .
- ١٢- تعد مصادر الطاقة من مقومات تحقيق التكامل الاقتصادي البشرية .
- ١٣- تعد صناعة الإلكترونيات من الصناعات التحويلية .
- ١٤- البيع والشراء عبر شبكة المعلومات الدولية يمثل التجارة التقليدية .
- ١٥- تعتمد التجارة التقليدية على البيع عبر الانترنت .
- ١٦- تعد الإمارات من الدول التي تهتم بالصادرات الزراعية .
- ١٧- تعد الآلات والمعدات من صادرات التجارة الخارجية للوطن العربي .
- ١٨- يساعد التكامل الاقتصادي العربي على ارتفاع نسبة البطالة والفقر .
- ١٩- يواجه التكامل الاقتصادي العربي مشكلة اختلاف الإنتاج بين الدول العربية .
- ٢٠- أحد أهم المعالم السياحية في دولة عمان قلعة قايتهبي .
- ٢١- اتخذ احمد بن طولون مدينة العسكر عاصمة لدولته .
- ٢٢- تعد الدولة الفاطمية هي أولى الدول المستقلة في مصر .
- ٢٣- سقطت الدولة المملوكية على يد الايوبيين .
- ١٩- اول عاصمة إسلامية لمصر هي مدينة الإسكندرية .
- ٢٠- يعد الملك الصالح نجم الدين من اشهر ملوك الدولة الفاطمية .

#### السؤال الخامس : اكتب ما تشير إليه العبارات الآتية :-

- ١- نسبة المواليد إلى إجمالي عدد السكان في فترة معينة .
- ٢- نسبة الوفيات إلى إجمالي عدد السكان في فترة معينة .
- ٣- دولة عربية ترتفع فيها معدلات الالتحاق بالتعليم .
- ٤- فئة سكانية يمتد عمرها من ( ١٥ - ٦٤ عاما ) .
- ٥- شكل بياني يمثل توزيع السكان حسب العمر والنوع في فترة زمنية محددة .
- ٦- صناعة تمثل المصدر الرئيسي للدخل القومي في السعودية .
- ٧- عملية تحويل المواد الخام إلى منتجات لتلبية احتياجات الإنسان اليومية .
- ٨- الصناعات التي تعتمد على البترول والغاز الطبيعي كمادة خام .
- ٩- صناعات تعتمد على تحويل المواد الخام إلى منتجات جديدة .
- ١٠- صناعات ترتبط مباشرة بحياة المواطن واحتياجاته اليومية .
- ١١- عملية تبادل السلع والخدمات لتلبية الاحتياجات .
- ١٢- الصادرات والواردات بين الدول العربية ودول العالم الأخرى .
- ١٣- حركة البيع والشراء في الأسواق والمراكز التجارية .
- ١٤- حركة البيع والشراء عبر شبكة المعلومات الدولية والمنصات الإلكترونية .
- ١٥- التعاون بين الدول العربية لتحقيق قوة اقتصادية قادرة على المنافسة عالمياً .

- ١٦- منظمة إقليمية تم إنشاؤها عام ١٩٤٥م لتقوية التعاون بين الدول العربية .
- ١٧- مجلس أنشئ عام ١٩٥٧م لدعم التكامل الاقتصادي العربي .
- ١٨- دولة مستقلة كانت عاصمتها القطائع .
- ١٩- مجموعة من الغلمان اشتراهم الايوبيون وتم تدريبهم على فنون الحرب
- ٢٠- مدينة تم بناءها في عصر الدولة الفاطمية لتكون عاصمة للبلاد .

**السؤال السادس : بم تفسر ...؟**

١- ارتفاع معدلات النمو السكاني في الوطن العربي مؤخراً .

٢- تركيز السكان في بعض المناطق المرتفعة ببلاد اليمن .

٣- تركيز السكان في السهول الفيضية بوادي النيل .

٤- ارتفاع نسبة الذكور عن الإناث بمنطقة الخليج العربي .

٥- إقامة المناطق الصناعية بالقرب من الموانئ .

٦- أهمية الصناعة في الوطن العربي .

٧- تهتم السعودية بصناعة تكرير البترول .

٨- أهمية صناعة الأسمنت بالوطن العربي .

٩- قيام دول الوطن العربي بتصدير المواد الخام بدلاً من تصنيعها .

١٠- أهمية النقل في الوطن العربي .

١١- أهمية التجارة في الوطن العربي .

١٢- أهمية التجارة الإلكترونية .

١٣- إنشاء مجلس الوحدة الاقتصادية العربية .

١٤- أهمية التكامل الاقتصادي العربي .

١٥- إنشاء جامعة الدول العربية .

١٦- طلب عمرو بن العاص من امير المؤمنين عمر بن الخطاب فتح مصر .

١٧- ظهرت الدول المستقلة خلال العصر العباسي الثاني .

١٨- حاولت الدولة الفاطمية ضم مصر اكثر من مرة .

١٩- حدوث الشدة المستنصرية في عصر الدولة الفاطمية .

٢٠- بناء محمد بن طغج الاخشيدي مدينة العسكر .

**السؤال السابع : ما النتائج المترتبة على ...؟**

١- ارتفاع معدلات النمو السكاني في الوطن العربي مؤخرًا .

٢- تقدم الرعاية الصحية في الوطن العربي .

٣- ندرة المياه في الصحراء العربية بالنسبة للبدو .

٤- توافر المياه العذبة والتربة الخصبة بسهول نهري دجلة والفرات .

٥- زيادة عدد الشباب مع قلة فرص العمل في الوطن العربي .

٦- زيادة حركة الهجرة في الوطن العربي .

٧- ضعف الاستثمارات في البحث العلمي بالنسبة للصناعة .

٨- تعرضت معظم الدول العربية للاستعمار الأوروبي في القرنين التاسع عشر والعشرين .

٩- الحواجر الجمركية والرسوم المرتفعة على السلع وتشابه الصناعات .

١٠- انتشار التجارة الإلكترونية في الوطن العربي .

١١- تنوع صادرات الدول العربية في الوطن العربي .

١٢- مجلس الوحدة الاقتصادية العربية .

١٣- عقد اتفاقية منطقة التجارة الحرة العربية الكبرى .

١٤- زيادة نفوذ الولاة وطمعهم في ثروات مصر الاقتصادية في العصر العباسي الثاني .

١٥- ضعف الدولة الطولونية بعد وفاة خمارويه .

**السؤال الثامن : دال على صحة العبارات التالية :-**

١- يختلف توزيع السكان في الوطن العربي .

٢- ساهمت الظروف الطبيعية في زيادة السكان بسواحل البحر المتوسط .

٣- ضعف الرعاية الصحية بدولة الصومال .

٥- تقوم الصناعة على عدة مقومات طبيعية وبشرية .

٤- تواجه الصناعة في الوطن العربي تحديات كبرى .

٥- تعدد أنواع الصناعة في الوطن العربي .

٦- ضعف التجارة البينية بين الدول العربية .

٧- أهمية التجارة الإلكترونية في الوطن العربي .

٨- للنقل أهمية كبرى في الوطن العربي .

٩- تعدد معوقات التكامل الاقتصادي العربي .

١٠- يمتلك الوطن العربي كل مقومات التكامل الاقتصادي .

١١- احسن عمرو بن العاص معاملة الاقباط بعد الفتح الاسلامي لمصر .

**السؤال التاسع : ما العلاقة بين كل من ...؟**

١- الزيادة السكانية والبطالة في الوطن العربي .

٢- الرعاية الصحية ومعدل الوفيات في الوطن العربي .

٣- الهجرة الوافدة ومعدلات النمو السكاني في دول الخليج العربي .

٤- فئة صغار السن ومعدلات التنمية بالوطن العربي .

٥- الهجرة الوافدة والتركيب النوعي بدول الخليج العربي .

٦- المناطق الصناعية والموانئ .

٧- تصدير المواد الخام والنشاط الصناعي في الوطن العربي .

٨- الرسوم الجمركية والتجارة البيئية .

٩- التجارة الإلكترونية والوقت والجهد في الوطن العربي .

١٠- التكامل الاقتصادي والكوادر البشرية .

١١- الجامع الازهر والدولة الفاطمية .

السؤال العاشر : قارن بين كل من :-

١- الصناعة الاستخراجية والتحويلية .

الصناعة التحويلية	الصناعة الاستخراجية

٢- النقل البحري والنقل الجوي .

النقل البحري	النقل الجوي

٣- الصادرات والواردات في الوطن العربي .

الصادرات	الواردات

٤- وادي النيل والمناطق الصحراوية بالوطن العربي من حيث تركيز السكان .

وادي النيل	المناطق الصحراوية

السؤال الحادي عشر : ما المقصود بكل من :-

١- معدل المواليد

٢- معدل الوفيات

٣- الهرم السكاني

٤- الصناعة

٥- الصناعات البتروكيمياوية

٦- التجارة

٧- التجارة البينية

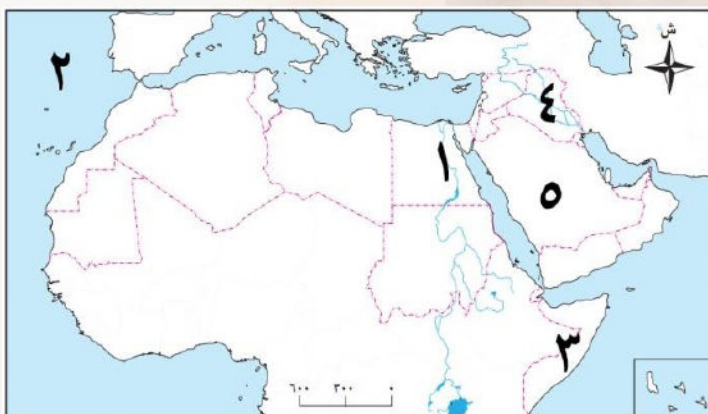
٨- التجارة التقليدية

٩- التجارة الإلكترونية

١٠- التكامل الاقتصادي العربي

١١- الممالك

السؤال الثاني عشر : (١) امامك خريطة صماء للوطن العربي اكتب مدلول الأرقام عليها :



١- دولة يرتفع بها نسبة التعليم

٢- مسطح مائي المحيط

٣- دولة ينخفض بها نسبة التعليم

٤- سهول نهري

٥- دولة ترتفع بها الخدمات الصحية

(٢) امامك خريطة صماء للوطن العربي اكتب مدلول الأرقام عليها :



١- دولة بها مدينة جبيل الصناعية

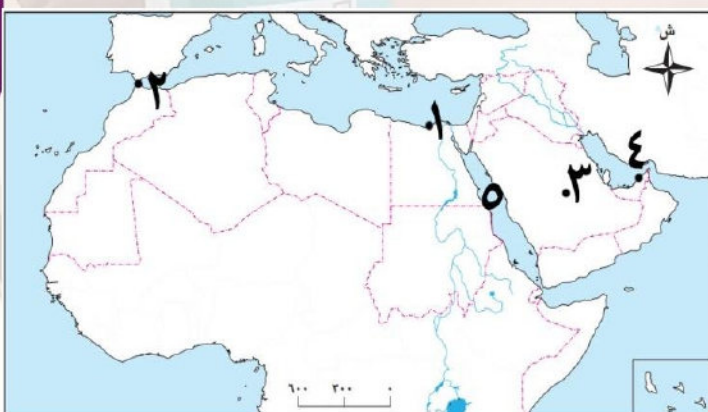
٢- مسطح مائي البحر

٣- دولة بها صناعة تكرير البترول

٤- دولة بها مجمع الحديد والصلب

٥- مسطح مائي المحيط

(٣) امامك خريطة صماء للوطن العربي اكتب مدلول الأرقام عليها :



١- ميناء ..... بدولة مصر

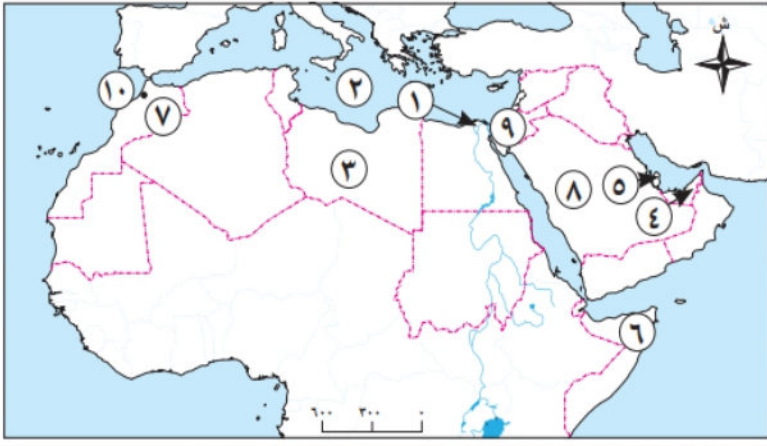
٢- ميناء ..... بدولة المغرب

٣- مطار ..... بالسعودية

٤- مطار ..... بالامارات

٥- مسطح مائي البحر

(٤) امامك خريطة صماء للوطن العربي اكتب مدلول الأرقام عليها :



- ١- منطقة تركيز السكان .....
- ٢- البحر .....
- ٣- منطقة نادرة السكان .....
- ٤- دولة تعليم مرتفع .....
- ٥- دولة وفيات منخفضة .....
- ٦- دولة وفيات مرتفعة .....
- ٧- دولة صناعات غذائية .....
- ٨- دولة صناعات بتروكيميائية .....
- ٩- قناة .....
- ١٠- ميناء .....

## مراجعة شهر فبراير - ستة ابتدائي

السؤال الأول : أكمل العبارات التالية بما يناسبها من كلمات :-

- ١- ترتب على تضاعف عدد السكان في الوطن العربي نقص الغذاء .
- ٢- ارتفاع معدل المواليد بالوطن العربي أحد أسباب النمو السكاني .
- ٣- منعت الحروب والصراعات الدول العربية من تحقيق أمنها الغذائي و المائي .
- ٤- يتركز السكان في الوطن العربي في سهول نهر النيل بمصر .
- ٥- يقل السكان في الوطن العربي في المناطق الصحراوية بسبب ندرة المياه .
- ٦- يتركز السكان في الوطن العربي في بعض مناطق المرتفعات بدولتي لبنان و اليمن .
- ٧- يزيد عدد السكان في الوطن العربي في مناطق التعدين على سواحل الخليج العربي والبحر الأحمر .
- ٨- النسبة الأكبر من سكان الوطن العربي تضم فئتي الشباب و صغار السن .
- ٩- يتركز السكان في سواحل الخليج العربي للعمل في التعدين والصناعة .
- ١٠- اقل نسبة لسكان الوطن العربي من فئة كبار السن .
- ١١- ترتفع نسب التعليم في الوطن العربي بدولتي مصر و الامارات .
- ١٢- يطلق على السكان أقل من ١٥ عاما فئة صغار السن .
- ١٣- تزداد معدلات الوفيات في الوطن العربي بدولة الصومال .
- ١٤- يرتفع متوسط العمر بالدول العربية مثل مصر و السعودية و الامارات .
- ١٥- يفضل سكان الوطن العربي سكنى المرتفعات كما في دولة اليمن .
- ١٦- صناعة السيارات والإلكترونيات من الصناعات الحديثة .
- ١٧- أكبر المراكز العالمية في الصناعات البتروكيميائية بالسعودية مدينتا الجبيل و ينبع .
- ١٨- الحصول على المعادن ومصادر الطاقة من باطن الأرض يسمى صناعة استخراجية .
- ١٩- تعد وسائل النقل والمواصلات من المقومات البشرية للصناعة .
- ٢٠- ترتبط الصناعات الحديثة بالتطور العلمي والتكنولوجي .
- ٢١- تشتهر دول الخليج العربي بالصناعات البترولية و البتروكيميائية .
- ٢٢- يرتبط تحقيق الأمن الغذائي للوطن العربي بالصناعات الغذائية .
- ٢٣- الأساس لمشروعات البناء والتعمير هي صناعة الحديد والصلب والاسمنت .
- ٢٤- تلبي التجارة احتياجات السكان من خلال تبادل السلع و الخدمات .
- ٢٥- تمتلك مصر إحدى أهم طرق الملاحة العالمية وهي قناة السويس .
- ٢٦- تبادل السلع بين الدول العربية يسمى تجارة بينية .
- ٢٧- تعرضت معظم الدول العربية في القرنين التاسع عشر والعشرين للاستعمار الاوروبي .
- ٢٨- يشمل النقل البري الطرق السريعة و خطوط السكك الحديدية .
- ٢٩- تتم حركة النقل البحري عبر السواحل العربية .
- ٣٠- البترول والغاز الطبيعي هما المصدر الرئيسي لدخل دول الخليج العربي .
- ٣١- أهم صادرات الوطن العربي البترول و الغاز الطبيعي .
- ٣٢- يشمل النقل الجوي المطارات وشركات الطيران العربية .

- ٣٣- تنقسم التجارة في الوطن العربي إلى تجارة **بيئية** وتجارة **خارجية** .
- ٣٤- أحد الجهود العربية للنهوض بالتجارة **تنوع الصادرات** و **تحسين جودة المنتجات** .
- ٣٥- دعمت الدول العربية عام ١٩٥٧م التكامل الاقتصادي من خلال إنشاء مجلس **الوحدة الاقتصادية** .
- ٣٦- أحد معوقات التكامل الاقتصادي العربي تشابه **الإنتاج** .
- ٣٧- يُعد من المقومات الطبيعية لتحقيق التكامل الاقتصادي العربي **الموارد الزراعية** .
- ٣٨- يساعد التكامل الاقتصادي العربي على خفض نسبة **البطالة** و **الفقر** .
- ٣٩- لتقليل الرسوم الجمركية بين الدول العربية تم توقيع اتفاقية **منطقة التجارة الحرة** .
- ٤٠- من الأماكن السياحية بدولة عمان جامع **السلطان قابوس** .
- ٤١- حاصر عمرو بن العاص مدينة الإسكندرية حتى استسلم حاكمها **المقوقس** .
- ٤٢- تم القضاء على الدولة الفاطمية على يد **صلاح الدين الأيوبي** .
- ٤٣- بنيت مدينة القاهرة في عصر الدولة **الفاطمية** .
- ٤٤- اخر سلاطين الدولة الأيوبية هو السلطان **توران شاه** .
- ٤٥- بنى محمد بن طغ الاخشيد مدينة **العسكر** لتكون عاصمة للدولة الاخشيدية .

**السؤال الثاني : اكتب كلمة (صواب ) وكلمة (خطأ) أمام العبارات التالية :-**

- ١- ينخفض معدل الوفيات في الوطن العربي بسبب تقدم الرعاية الصحية . (صواب)
- ٢- سهول دجلة والفرات من المناطق **نادرة** السكان . (خطأ)
- ٣- تضاعف عدد السكان في الوطن العربي ما بين عامي ١٩٠٠م و ٢٠٢٤م **عشر** مرات . (خطأ)
- ٤- يساعد التخطيط الجيد على مواجهة الزيادة السكانية في الوطن العربي . (صواب)
- ٥- ترتفع نسبة **الإناث** في منطقة الخليج العربي بسبب العمالة الوافدة . (خطأ)
- ٦- يختلف توزيع السكان في الوطن العربي من مكان إلى آخر . (صواب)
- ٧- تتسم سهول البحر المتوسط باعتدال المناخ ووفرة الأمطار . (صواب)
- ٨- **الصومال** من أكثر دول الوطن العربي اهتماماً بالتعليم . (خطأ)
- ٩- يقل التركيز السكاني في الوطن العربي في سهول البحر المتوسط بمصر . (خطأ)
- ١٠- يتركز معظم سكان الوطن العربي في دول الجناح الإفريقي . (صواب)
- ١١- تقل نسبة كبار السن بين سكان الوطن العربي . (صواب)
- ١٢- تساهم زيادة فئة **كبار السن** بين السكان في ارتفاع معدلات التنمية . (خطأ)
- ١٣- يقل مستوى الرعاية الصحية بدولة الصومال . (صواب)
- ١٤- **ترتفع** نسبة الذكور عن الإناث في الوطن العربي . (خطأ)
- ١٥- تُعد الصناعة من الركائز الأساسية لتقدم الشعوب ورفاهية الإنسان . (صواب)
- ١٦- تصدير المواد الخام بدل تصنيعها من تحديات الصناعة العربية . (صواب)
- ١٧- تعد السعودية إحدى دول المنطقة الصناعية ببلاد الشام . (خطأ)
- ١٨- تعتمد الصناعة **الاستخراجية** على تحويل المواد الخام إلى منتجات . (خطأ)
- ١٩- تتميز التجارة العربية البينية بالضعف . (صواب)
- ٢٠- تقلل التجارة الإلكترونية من التلوث والازدحام . (صواب)

- ٢١- تساهم التكنولوجيا في زيادة حجم التجارة الداخلية والخارجية .  
 ٢٢- ترجع أهمية التكامل لتحقيق الاكتفاء الذاتي .  
 ٢٣- تعد قناة السويس من أهم طرق الملاحة العالمية .  
 ٢٤- اختلاف السياسات الاقتصادية من معوقات التكامل العربي .  
 ٢٥- تساعد وحدة اللغة والثقافة على تحقيق التكامل الاقتصادي العربي .  
 ٢٦- الموارد المعدنية من المقومات البشرية للتكامل الاقتصادي العربي .  
 ٢٧- أصبحت الإمارات العربية المتحدة مركزاً عالمياً للتجارة وإعادة التصدير .  
 ٢٨- أحد معوقات التكامل الاقتصادي العربي الاعتماد على الاستيراد من الخارج .  
 ٢٩- يفتقر الوطن العربي للكوادر البشرية في مختلف المجالات العلمية والفنية .  
 ٣٠- يعتمد اقتصاد دولة عمان على تصدير البترول والغاز الطبيعي .  
 ٣١- الدولة الطولونية هي أولى الدولة المستقلة عن الخلافة العباسية .  
 ٣٢- نجحت الدولة الفاطمية في ضم بلاد الشام والحجاز لحكمها .  
 ٣٣- تحرك جيش المسلمين بقيادة معاوية بن أبي سفيان لفتح مصر والشام .  
 ٣٤- أحسن عمرو بن العاص معاملة الأقباط في مصر .  
 ٣٥- سقطت الدولة الطولونية بعد وفاة خماوريه على يد الفاطميين .

- ( صواب )  
 ( صواب )  
 ( صواب )  
 ( صواب )  
 ( صواب )  
 ( خطأ )  
 ( صواب )  
 ( صواب )  
 ( خطأ )  
 ( صواب )  
 ( صواب )  
 ( صواب )  
 ( خطأ )  
 ( )  
 ( خطأ )

### السؤال الثالث : اختر الإجابة الصحيحة مما بين القوسين فيما يلي :-

- ١- تتجه الهجرة الوافدة بحثاً عن فرص العمل إلى بعض دول .....
- ( المغرب العربي - وادي النيل - بلاد الشام - الخليج العربي )
- ٢- تتوافر مياه الأمطار ويعتدل المناخ في مرتفعات .....
- ( مصر - لبنان - موريتانيا - ليبيا )
- ٣- يتجه السكان للهجرة إلى دول الخليج بهدف .....
- ( التعليم - العمل - الترفيه - السياحة )
- ٤- تنخفض نسب التعليم في دولة .....
- ( الإمارات - قطر - السعودية - الصومال )
- ٥- يتركز السكان في سواحل الخليج العربي نتيجة لـ .....
- ( توافر التربة الخصبة - قلة الأمطار - قيام التعدين والصناعة - انتشار الواحات )
- ٦- أحد المقومات الطبيعية للصناعة .....
- ( الموقع - رءوس الأموال - وسائل النقل - الأسواق )
- ٧- يُعد استخراج الفوسفات من باطن الأرض من الصناعات .....
- ( التحويلية - الاستخراجية - الاستهلاكية - التكنولوجية )
- ٨- تُعد صناعة الغزل والنسيج من الصناعات .....
- ( الحديثة - التحويلية - الاستخراجية - التكنولوجية )
- ٩- أحد مناطق تركيز الصناعات بالوطن العربي وتشتهر بقيام الصناعات البتروكيميائية .....
- ( شمال إفريقيا - بلاد الشام - الخليج العربي - جنوب اليمن )
- ١٠- تعد صناعة .....
- ( المصدر الرئيسي للدخل القومي في السعودية )
- ( الحديد والصلب - السيارات والسفن - البترول والغاز الطبيعي - الغزل والنسيج )
- ١١- يواجه النشاط الصناعي تحديات مرتبطة بالبيئة مثل .....
- ( ضعف التعاون العربي - قوة الاستثمارات - قوة البنية التحتية - ارتفاع معدلات التلوث )
- ١٢- تشمل الصادرات العربية للخارج .....
- ( الأدوية - الآلات - الغاز الطبيعي - التكنولوجيا الحديثة )

- ١٣- يشمل النقل البري كلا من الطرق السريعة وخطوط .....  
( المواني - السكك الحديدية - الطيران - الهواتف الأرضية )
- ١٤- تنقسم التجارة في الوطن العربي إلى نوعين هما التجارة البينية والتجارة .....  
( التقليدية - الخارجية - الحديثة - الإلكترونية )
- ١٥- تتعدد واردات الوطن العربي من الخارج، ومنها .....  
( البترول - الغاز الطبيعي - السيارات - الخضراوات والفواكه )
- ١٦- تسعى مصر لتصبح مركزاً عالمياً في التجارة من خلال تطوير .....  
( نهر النيل - قناة السويس - بحيرة ناصر - البحيرات الشمالية )
- ١٧- يمتلك الوطن العربي مقومات تكامل اقتصادي طبيعية منها .....  
( الكوادر الفنية - مصادر الطاقة - وحدة اللغة - وحدة التاريخ )
- ١٨- يُعد من المقومات البشرية للتكامل الاقتصادي العربي .....  
( رأس المال - الكوادر البشرية - السوق المشتركة - جميع ما سبق )
- ١٩- يساهم التكامل الاقتصادي العربي بشكل مباشر في خفض معدل .....  
( الوفيات - التلوث - البطالة - المواليد )
- ٢٠- أحد أهم المعالم السياحية في دولة عمان .....  
( قلعة قايتباي - جامع السلطان حسن - جامع السلطان قابوس - قلعة حمص )
- ٢١- من أشهر سلاطين المماليك .....  
( صلاح الدين الأيوبي - سيف الدين قطز - كافور الأخشيدى - جوهر الصقلى )
- ٢٢- يعد أول جامع في مصر وأفريقيا هو جامع .....  
( عمرو بن العاص - الأزهر الشريف - أحمد بن طولون - السلطان حسن )
- ٢٣- أصبحت مصر بعد دخول عمرو بن العاص ولاية .....  
( رومانية - قبطية - إسلامية - اغريقية )
- ٢٤- دولة ..... استطاعت التصدي للصليبيين والمغول .  
( المماليك - الأيوبيين - الفاطميين - الطولونيين )
- ٢٥- بنى الجامع الأزهر في عصر الدولة .....  
( الطولونية - الأخشيدية - الفاطمية - الأيوبية )

## السؤال الرابع : صوب ما تحته خط فيما يلي :-

- ١- زيادة عدد الشباب مع قلة فرص العمل بالوطن العربي أدى إلى مشكلة الأمية. **البطالة**
- ٢- تضاعف عدد سكان الوطن العربي حوالى خمس مرات من عام ١٩٠٠ حتى ٢٠٢٤م. **تسع مرات**
- ٣- يزداد عدد سكان الوطن العربي بسبب انخفاض معدل المواليد. **الوفيات**
- ٤- يتميز مناخ السهول الساحلية بالوطن العربي بأنه حار. **معتدل**
- ٥- يقل عدد السكان في الوطن العربي في المناطق الساحلية. **الصحراوية**
- ٦- النسبة الأقل من سكان الوطن العربي هم فئة صغار السن. **كبار**
- ٧- يرتفع مستوى الرعاية الصحية بدولة الصومال. **الأمارات**

البتروكيميائية  
الاستخراجية  
الإلكترونيات  
التحويلية  
الطبيعية  
الحديثة  
الإلكترونية  
الحديثة  
مصر  
واردات  
خفض  
تشابه  
نزوى  
القطائع  
الطولونية  
العثمانيين  
الفسطاط  
الايوبية

- ٨- الصناعات الغذائية هي صناعات تعتمد على البترول والغاز الطبيعي .
- ٩- الصناعة التحويلية تعتمد على استخراج المعادن ومصادر الطاقة .
- ١٠- ترتبط صناعة الملابس والأغذية بالتطور العلمي والتكنولوجي .
- ١١- تعد صناعة الغزل والنسيج من الصناعات الاستخراجية .
- ١٢- تعد مصادر الطاقة من مقومات تحقيق التكامل الاقتصادي البشرية .
- ١٣- تعد صناعة الإلكترونيات من الصناعات التحويلية .
- ١٤- البيع والشراء عبر شبكة المعلومات الدولية يمثل التجارة التقليدية .
- ١٥- تعتمد التجارة التقليدية على البيع عبر الانترنت .
- ١٦- تعد الامارات من الدول التي تهتم بالصادرات الزراعية .
- ١٧- تعد الآلات والمعدات من صادرات التجارة الخارجية للوطن العربي .
- ١٨- يساعد التكامل الاقتصادي العربي على ارتفاع نسبة البطالة والفقر .
- ١٩- يواجه التكامل الاقتصادي العربي مشكلة اختلاف الإنتاج بين الدول العربية .
- ٢٠- أحد أهم المعالم السياحية في دولة عمان قلعة قايتباي .
- ٢١- اتخذ احمد بن طولون مدينة العسكر عاصمة لدولته .
- ٢٢- تعد الدولة الفاطمية هي أولى الدول المستقلة في مصر .
- ٢٣- سقطت الدولة المملوكية على يد الايوبيين .
- ١٩- اول عاصمة إسلامية لمصر هي مدينة الإسكندرية .
- ٢٠- يعد الملك الصالح نجم الدين من اشهر ملوك الدولة الفاطمية .

### السؤال الخامس : اكتب ما تشير إليه العبارات الاتية :-

- ١- نسبة المواليد إلى إجمالي عدد السكان في فترة معينة .
- ٢- نسبة الوفيات إلى إجمالي عدد السكان في فترة معينة .
- ٣- دولة عربية ترتفع فيها معدلات الالتحاق بالتعليم .
- ٤- فئة سكانية يمتد عمرها من ( ١٥ - ٦٤ عاما ) .
- ٥- شكل بياني يمثل توزيع السكان حسب العمر والنوع في فترة زمنية محددة . الهرم السكاني
- ٦- صناعة تمثل المصدر الرئيسي للدخل القومي في السعودية . تكرير البترول
- ٧- عملية تحويل المواد الخام إلى منتجات لتلبية احتياجات الإنسان اليومية . الصناعة
- ٨- الصناعات التي تعتمد على البترول والغاز الطبيعي كمادة خام . البتروكيميائية
- ٩- صناعات تعتمد على تحويل المواد الخام إلى منتجات جديدة . صناعات تحويلية
- ١٠- صناعات ترتبط مباشرة بحياة المواطن واحتياجاته اليومية . صناعات استهلاكية
- ١١- عملية تبادل السلع والخدمات لتلبية الاحتياجات . التجارة
- ١٢- الصادرات والواردات بين الدول العربية ودول العالم الأخرى . التجارة الخارجية
- ١٣- حركة البيع والشراء في الأسواق والمراكز التجارية . التجارة التقليدية
- ١٤- حركة البيع والشراء عبر شبكة المعلومات الدولية والمنصات الإلكترونية . التجارة الحديثة
- ١٥- التعاون بين الدول العربية لتحقيق قوة اقتصادية قادرة على المنافسة عالمياً . التكامل الاقتصادي

- ١٦- منظمة إقليمية تم إنشاؤها عام ١٩٤٥م لتقوية التعاون بين الدول العربية . **جامعة الدول العربية**
- ١٧- مجلس أنشئ عام ١٩٥٧م لدعم التكامل الاقتصادي العربي . **الوحدة الاقتصادية العربية**
- ١٨- دولة مستقلة كانت عاصمتها القطائع . **الدولة الطولونية**
- ١٩- مجموعة من الغلمان اشتراهم الايوبيون وتم تدريبهم على فنون الحرب **المماليك**
- ٢٠- مدينة تم بناءها في عصر الدولة الفاطمية لتكون عاصمة للبلاد . **مدينة القاهرة**

## السؤال السادس : بم تفسر ...؟

- ١- ارتفاع معدلات النمو السكاني في الوطن العربي مؤخراً .
- بسبب ١- ارتفاع معدل المواليد ٢- انخفاض معدل الوفيات ٣- الهجرة الوافدة خاصة لدول الخليج .
- ٢- تركيز السكان في بعض المناطق المرتفعة ببلاد اليمن . بسبب توافر مياه الأمطار واعتدال المناخ .
- ٣- تركيز السكان في السهول الفيضية بوادي النيل . بسبب توافر المياه العذبة والتربة الخصبة .
- ٤- ارتفاع نسبة الذكور عن الإناث بمنطقة الخليج العربي . بسبب العمالة الوافدة من الخارج .
- ٥- إقامة المناطق الصناعية بالقرب من الموانئ .
- ليسهل نقل المواد الخام والمنتجات وتقليل تكلفة الإنتاج .
- ٦- أهمية الصناعة في الوطن العربي .
- لأنها ١- توفر احتياجات السكان المختلفة من المنتجات ٢- تساهم في تحسين مستوى المعيشة
- ٣- توفير فرص عمل للشباب ٤- زيادة الدخل القومي
- ٧- تهتم السعودية بصناعة تكرير البترول . لأنه يمثل المصدر الرئيسي للدخل القومي .
- ٨- أهمية صناعة الأسمنت بالوطن العربي . لأنها الأساس لمشروعات البناء والتعمير والتوسع العمراني
- ٩- قيام دول الوطن العربي بتصدير المواد الخام بدلاً من تصنيعها . لعدم قدرتها على التصنيع .
- ١٠- أهمية النقل في الوطن العربي .
- لأنه يقوم بـ ١- تسهيل حركة التجارة بين الدول العربية ٢- ربط الدول العربية بعضها ببعض
- ٣- تقوية العلاقات الاقتصادية والاجتماعية ٤- دعم السياحة الداخلية والخارجية
- ١١- أهمية التجارة في الوطن العربي .
- لأنها تقوم بـ ١- توفير فرص عمل للشباب ٢- زيادة الدخل القومي
- ٣- توفير العملات الأجنبية ٤- تلبية احتياجات السكان
- ١٢- أهمية التجارة الإلكترونية .
- لأن التسويق ١- يوفر الوقت والجهد ٢- يربط المنتج بالمستهلك مباشرة
- ٣- يقلل الازدحام المروري والتلوث ٤- يوفر مرونة في الدفع بوسائل متعددة
- ١٣- إنشاء مجلس الوحدة الاقتصادية العربية . لدعم التكامل الاقتصادي .
- ١٤- أهمية التكامل الاقتصادي العربي .
- بسبب ١- تنوع الإنتاج وزيادة القدرة التنافسية للمنتجات العربية ٢- خفض البطالة والفقر .
- ٣- تحقيق الاكتفاء الذاتي للدول العربية . ٤- زيادة الاستثمارات وتحسين مستوى المعيشة .
- ١٥- إنشاء جامعة الدول العربية . لتقوية التعاون بين الدول العربية .

- ١٦- طلب عمرو بن العاص من امير المؤمنين عمر بن الخطاب فتح مصر .
- من اجل ١- نشر الإسلام بها
- ٢- تخلص أهلها من ظلم البيزنطيين
- ٣- تأمين حدود الدولة الإسلامية من جهة الروم .
- ١٧- ظهرت الدول المستقلة خلال العصر العباسي الثاني .
- بسبب ١- ضعف خلفاء الدولة العباسية
- ٢- زيادة نفوذ الولاة وطمعهم في ثروات مصر الاقتصادية
- ٣- بعد مصر عن مركز الخلافة العباسية في بغداد .
- ١٨- حاولت الدولة الفاطمية ضم مصر اكثر من مرة .
- وذلك لأهمية موقع مصر وقربها من الأماكن المقدسة بالحجاز .
- ١٩- حدوث الشدة المستنصرية في عصر الدولة الفاطمية .
- بسبب نقص مياه النيل وحدث مجاعة في مصر .
- ٢٠- بناء محمد بن طغج الاخشيد مدينة العسكر . لتكون عاصمة لدولته .

### السؤال السابع : ما النتائج المترتبة على ...؟

- ١- ارتفاع معدلات النمو السكاني في الوطن العربي مؤخرًا .
- أدى الى زيادة الضغط على الموارد والخدمات ونقص الغذاء .
- ٢- تقدم الرعاية الصحية في الوطن العربي .
- أدى الى قلة عدد الوفيات وارتفاع متوسط العمر في بعض الدول .
- ٣- ندرة المياه في الصحراء العربية بالنسبة للبدو . أدى الى قلة السكان في المناطق الصحراوية .
- ٤- توافر المياه العذبة والتربة الخصبة بسهول نهري دجلة والفرات .
- أدى تركيز السكان في السهول الفيضية بنهري دجلة والفرات .
- ٥- زيادة عدد الشباب مع قلة فرص العمل في الوطن العربي . أدى الى وجود مشكلة البطالة .
- ٦- زيادة حركة الهجرة في الوطن العربي . أدى الى ارتفاع عدد السكان في دول الخليج العربي .
- ٧- ضعف الاستثمارات في البحث العلمي بالنسبة للصناعة .
- أدى الى وجود العديد من التحديات التي تواجه الصناعة في الوطن العربي .
- ٨- تعرضت معظم الدول العربية للاستعمار الأوروبي في القرنين التاسع عشر والعشرين .
- أدى الى استغلال المستعمر مواردها الطبيعية وأضعف صناعاتها المحلية - تأخر النهضة الصناعية .
- ٩- الحواجر الجمركية والرسوم المرتفعة على السلع وتشابه الصناعات .
- أصبحت التجارة البينية بين الدول العربية محدودة وضعيفة .
- ١٠- انتشار التجارة الإلكترونية في الوطن العربي .
- حيث ساعدت على ١- توفير الوقت والجهد
- ٣- تقليل الازدحام المروري والتلوث
- ١١- تنوع صادرات الدول العربية في الوطن العربي . أدى الى تنشيط التجارة البينية والخارجية .
- ١٢- مجلس الوحدة الاقتصادية العربية . أدى دعم التكامل الاقتصادي بين الدول العربية .
- ١٣- عقد اتفاقية منطقة التجارة الحرة العربية الكبرى .
- أدى الى تقليل الرسوم الجمركية بين الدول العربية .

١٤- زيادة نفوذ الولاة وطمعهم في ثروات مصر الاقتصادية في العصر العباسي الثاني .

أدى ذلك الى ظهور الدول المستقلة في مصر وهم الطولونية والاخشيديّة والفاطمية والايوبية والمملوكية

١٥- ضعف الدولة الطولونية بعد وفاة خمارويه .

استمرت مصر ولاية تابعة للخلافة العباسية حتى تولى محمد بن طغج الاخشيد واسبس الدولة الاخشيدية .

**السؤال الثامن : دلل على صحة العبارات التالية :-**

١- يختلف توزيع السكان في الوطن العربي . حيث يوجد

(١) مناطق مزدحمة بالسكان مثل السهول الفيضية والسهو الساحلية وبعض المرتفعات ومناطق التعدين

(٢) مناطق خالية من السكان مثل المناطق الجبلية والصحراوية .

٢- ساهمت الظروف الطبيعية في زيادة السكان بسواحل البحر المتوسط .

حيث المناخ المعتدل ووفرة مياه الأمطار .

٣- ضعف الرعاية الصحية بدولة الصومال . حيث يزداد عدد الوفيات ويقل متوسط العمر في دول أخرى.

٥- تقوم الصناعة على عدة مقومات طبيعية وبشرية .

حيث توجد مقومات طبيعية منها الموقع والمواد الخام ومصادر الطاقة ،

ومقومات بشرية منها الايدي العاملة والأسواق ورؤوس الأموال والنقل والمواصلات .

٤- تواجه الصناعة في الوطن العربي تحديات كبرى .

منها : ١- تصدير المواد الخام بدلاً من تصنيعها لعدم قدرتها على التصنيع .

٢- ضعف الاستثمارات في البحث العلمي والتكنولوجيا . ٣- ضعف البنية التحتية في بعض الدول .

٤- عدم القدرة على منافسة المنتجات الأجنبية . ٥- نقص العمالة المدربة على التكنولوجيا الحديثة .

٥- تعدد أنواع الصناعة في الوطن العربي . حيث تنقسم إلى عدة أنواع، منها:

- الصناعات الاستخراجية : تعتمد على استخراج المعادن ومصادر الطاقة من باطن الأرض .

- الصناعات التحويلية : تعتمد على تحويل المواد الخام إلى منتجات جديدة .

- الصناعات الاستهلاكية : ترتبط مباشرة بحياة المواطن واحتياجاته اليومية .

- الصناعات الحديثة (التكنولوجية) : ترتبط بالتطور العلمي والتكنولوجي .

٦- ضعف التجارة البينية بين الدول العربية . حيث

(١) الحواجز الجمركية والرسوم المرتفعة على السلع (٢) تشابه الصناعات في الكثير من الدول العربية

٧- أهمية التجارة الإلكترونية في الوطن العربي .

حيث ساعدت على ١- توفير الوقت والجهد

٣- تقليل الازدحام المروري والتلوث

٨- للنقل أهمية كبرى في الوطن العربي .

حيث يقوم ب ١- تسهيل حركة التجارة بين الدول العربية ٢- ربط الدول العربية بعضها ببعض

٣- تقوية العلاقات الاقتصادية والاجتماعية ٤- دعم السياحة الداخلية والخارجية

٩- تعدد معوقات التكامل الاقتصادي العربي . حيث

١- الصراعات والاضطرابات الداخلية ببعض الدول العربية . ٢- تشابه الإنتاج بين الدول العربية .

٣- الاعتماد على الاستيراد من الخارج . ٤- ضعف الاستثمارات العربية المشتركة .

١٠- يمتلك الوطن العربي كل مقومات التكامل الاقتصادي .

حيث يمتلك الوطن العربي كل مقومات التكامل الاقتصادي الطبيعية منها والبشرية :  
الموارد الطبيعية المتنوعة : منها الزراعية والمعدنية ومصادر الطاقة .

العوامل البشرية : ومنها الكوادر البشرية في مختلف المجالات العلمية والفنية. وحدة اللغة والثقافة والتاريخ.

١١- احسن عمرو بن العاص معاملة الاقباط بعد الفتح الاسلامى لمصر .  
حيث منحهم حرية ممارسة شعائرهم الدينية .

**السؤال التاسع : ما العلاقة بين كل من ...؟**

١- الزيادة السكانية والبطالة في الوطن العربي .

ظهرت مشكلة البطالة بسبب زيادة عدد الشباب مع قلة فرص العمل .

٢- الرعاية الصحية ومعدل الوفيات في الوطن العربي .

يقل عدد الوفيات ويرتفع متوسط العمر في بعض الدول مثل مصر والإمارات والسعودية بسبب تقدم الخدمات الصحية .

٣- الهجرة الوافدة ومعدلات النمو السكاني في دول الخليج العربي .

من أسباب النمو السكاني الهجرة الوافدة، خاصة إلى دول الخليج للبحث عن فرص عمل .

٤- فئة صغار السن ومعدلات التنمية بالوطن العربي .

معظم سكان الوطن العربي من فئة الشباب وصغار السن والنسبة الأقل من كبار السن، ويوفر ذلك قوة عمل كبيرة يمكن أن تساهم في التنمية بالوطن العربي .

٥- الهجرة الوافدة والتركيبة النوعية بدول الخليج العربي .

الهجرة الوافدة الى دول الخليج العربي للبحث عن فرص عمل أدت الى زيادة عدد الذكور هناك .

٦- المناطق الصناعية والموانئ .

تقام المناطق الصناعية بالوطن العربي بالقرب من مصادر الطاقة والموانئ والطرق الكبرى ليسهل نقل المواد الخام والمنتجات وتقليل تكلفة الإنتاج .

٧- تصدير المواد الخام والنشاط الصناعي في الوطن العربي .

تصدير المواد الخام بدلاً من تصنيعها لعدم قدرتها على التصنيع أحد التحديات التي تواجه الصناعة بالوطن العربي .

٨- الرسوم الجمركية والتجارة البينية .

أصبحت التجارة البينية محدودة بسبب الحواجز الجمركية والرسوم المرتفعة على السلع .

٩- التجارة الإلكترونية والوقت والجهد في الوطن العربي .

ساعدت التجارة الإلكترونية على توفير الوقت والجهد .

١٠- التكامل الاقتصادي والكوادر البشرية .

تعد الكوادر البشرية في مختلف المجالات العلمية والفنية احد المقومات البشرية للتكامل الاقتصادي .

١١- الجامع الازهر والدولة الفاطمية .

أمر المعز لدين الله الفاطمي ببناء الجامع الازهر الشريف في عصر الدولة الفاطمية .

السؤال العاشر : قارن بين كل من :-

١- الصناعة الاستخراجية والتحويلية .

الصناعة التحويلية	الصناعة الاستخراجية
تعتمد على تحويل المواد الخام إلى منتجات جديدة مثل : الصناعات الغذائية وصناعة الغزل والنسيج. ( مثال : مجمع الجلالة لصناعة الرخام في مصر )	تعتمد على استخراج المعادن ومصادر الطاقة من باطن الأرض مثل : استخراج البترول والغاز الطبيعي والفسفات والحديد

٢- النقل البحري والنقل الجوي .

النقل الجوي	النقل البحري
يشمل المطارات وشركات الطيران العربية التي تربط الدول العربية بعضها ببعض وبالعالم	يتم من خلال الموانئ المنتشرة على السواحل العربية، وتعد قناة السويس من أهم طرق الملاحة العالمية

٣- الصادرات والواردات في الوطن العربي .

الواردات	الصادرات
الآلات والمعدات، والسيارات، والمنتجات الطبية.	البترول، الغاز الطبيعي، الفوسفات، القطن، الخضراوات والفواكه.

٤- وادي النيل والمناطق الصحراوية بالوطن العربي من حيث تركيز السكان .

المناطق الصحراوية	وادي النيل
يقل فيه السكان بسبب ندرة المياه والظروف المناخية .	يتركز فيه السكان بسبب توافر المياه العذبة والتربة الخصبة .

السؤال الحادي عشر : ما المقصود بكل من :-

- ١- معدل المواليد : نسبة المواليد إلى إجمالي عدد السكان في فترة معينة .
  - ٢- معدل الوفيات : نسبة الوفيات إلى إجمالي عدد السكان في فترة معينة .
  - ٣- الهرم السكاني : شكل بياني يمثل توزيع السكان حسب العمر والنوع في فترة زمنية محددة .
  - ٤- الصناعة : هي عملية تحويل المواد الخام إلى منتجات لتلبية احتياجات الإنسان اليومية .
  - ٥- الصناعات البتروكيمياوية :
- صناعة تعتمد على البترول والغاز الطبيعي كمادة خام لإنتاج مواد تستخدم في صناعات أخرى .

٦- التجارة : عملية تبادل السلع والخدمات لتلبية الاحتياجات .

٧- التجارة البينية :

هي تبادل السلع بين الدول العربية، مثل القمح والقطن والتمور وبعض المنتجات الصناعية .

٨- التجارة التقليدية : البيع والشراء في الأسواق والمراكز التجارية .

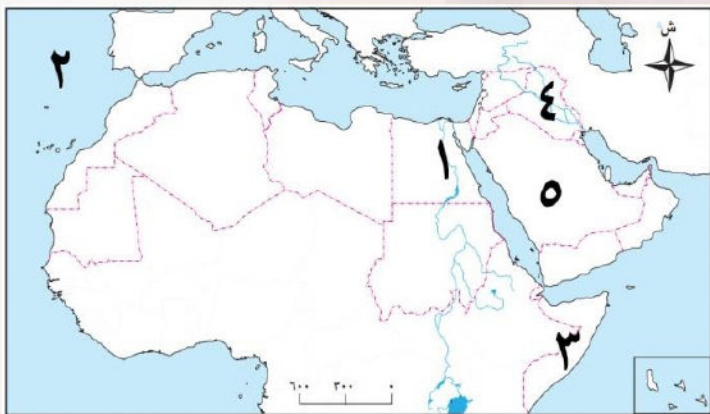
٩- التجارة الإلكترونية : البيع والشراء عبر شبكة المعلومات الدولية والمنصات الإلكترونية .

١٠- التكامل الاقتصادي العربي :

التعاون بين الدول العربية لتحقيق قوة اقتصادية قادرة على المنافسة عالمياً .

١١- المماليك : مجموعة من الغلمان اشتراهم الايوبيين وتم تدريبهم على فنون الحرب والقتال .

السؤال الثاني عشر : (١) امامك خريطة صماء للوطن العربي اكتب مدلول الأرقام عليها :



١- دولة يرتفع بها نسبة التعليم **مصر** .

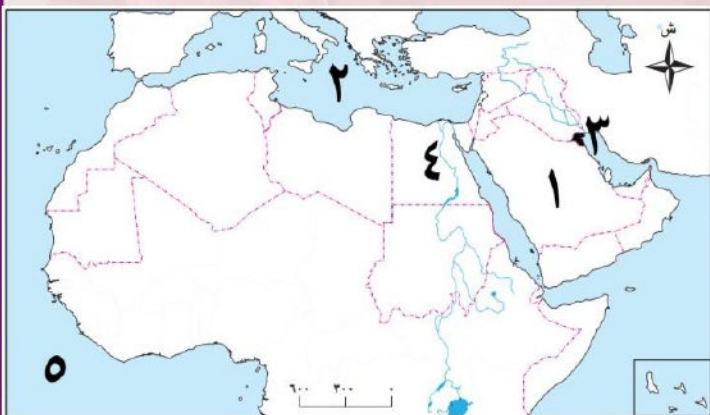
٢- مسطح مائي المحيط **الاطنطى** .

٣- دولة ينخفض بها نسبة التعليم **الصومال** .

٤- سهول نهري **دجلة والفرات** .

٥- دولة ترتفع بها الخدمات الصحية **السعودية** .

(٢) امامك خريطة صماء للوطن العربي اكتب مدلول الأرقام عليها :



١- دولة بها مدينة جبيل الصناعية **السعودية** .

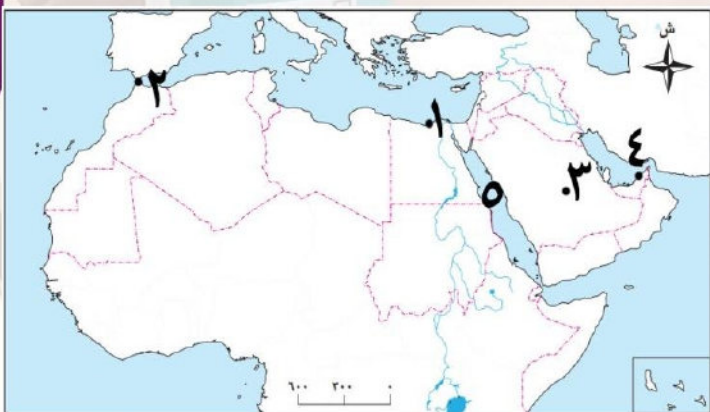
٢- مسطح مائي البحر **المتوسط** .

٣- دولة بها صناعة تكرير البترول **الكويت** .

٤- دولة بها مجمع الحديد والصلب **مصر** .

٥- مسطح مائي المحيط **الاطنطى** .

(٣) امامك خريطة صماء للوطن العربي اكتب مدلول الأرقام عليها :



١- ميناء **الاسكندرية** بدولة **مصر** .

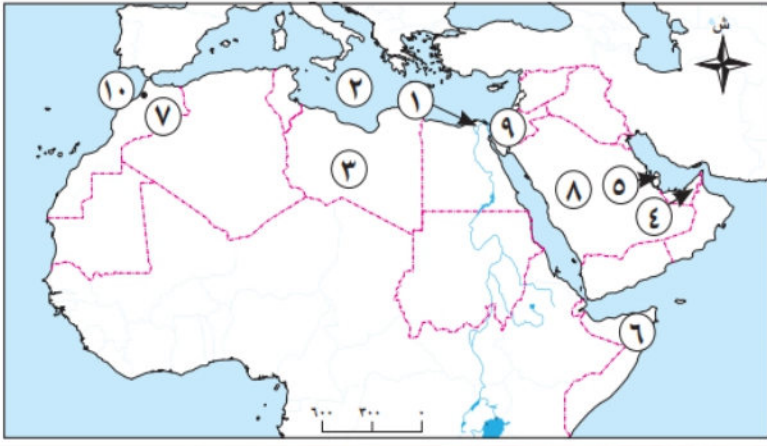
٢- ميناء **طنجة** بدولة **المغرب** .

٣- مطار **الرياض** بالسعودية .

٤- مطار **أبو ظبي** بالامارات .

٥- مسطح مائي البحر **الأحمر** .

(٤) امامك خريطة صماء للوطن العربي اكتب مدلول الأرقام عليها :



- ١- منطقة تركيز السكان دلتا النيل .
- ٢- البحر المتوسط .
- ٣- منطقة نادرة السكان الصحراء الكبرى .
- ٤- دولة تعليم مرتفع الامارات .
- ٥- دولة وفيات منخفضة قطر .
- ٦- دولة وفيات مرتفعة الصومال .
- ٧- دولة صناعات غذائية المغرب .
- ٨- دولة صناعات بتروكيميائية السعودية .
- ٩- قناة السويس .
- ١٠- ميناء طنجة .

تطبيق



مذكرات جاهزة للطباعة

لتحميل الملفات التعليمية مجاناً للمعلم والطالب

مذكرات وملازم / مراجعات وملخصات / امتحانات / كتب الوزارة /  
أدلة المعلم / دفاتر التحضير / سجلات مدرسية / أوراق تأسيس

امسح الكود بموبايلك علشان تقدر تثبت التطبيق

وتقدر ف أي وقت تحمّل ال نفسك فيه ببلاش

هيغنيك عن البحث والجروبات والقنوات الكثيرة

