

الأضواء

# الدراسات الاجتماعية نماذج اختبارات الأضواء

لشهر مارس

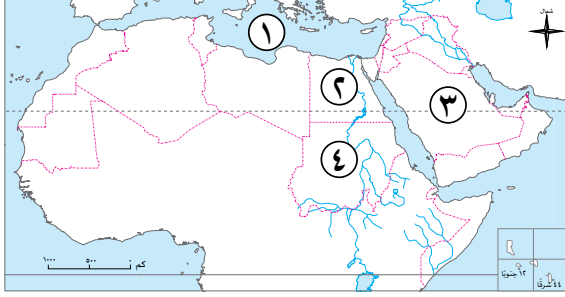
الفصل الدراسي الثاني  
الصف  
**6**  
الابتدائي

2026



# نموذج 1

( ١ ) أمامك خريطة صماء للوطن العربي، اكتب مدلول الأرقام عليها:



- ١ البحر.....
- ٢ دولة ترتفع فيها نسبة التعليم.....
- ٣ دولة يقل بها عدد الوفيات.....
- ٤ دولة يقل بها مستوى الرعاية الصحية.....

(ب) ما المقصود بـ: الهرم السكاني؟

( ١ ) أكمل العبارات الآتية بما يناسبها من كلمات:

- ١ تعد الصناعة من الركائز الأساسية لتقدم.....
- ٢ أنشئ مجلس الوحدة الاقتصادية العربية لدعم التكامل.....
- ٣ من وسائل النقل البرى الطرق السريعة و.....

(ب) بم تفسر...؟

- ١ للصناعات الغذائية أهمية كبيرة فى الوطن العربى.....
- ٢ أهمية التجارة فى الوطن العربى.....

( ١ ) اختر الإجابة الصحيحة مما بين القوسين:

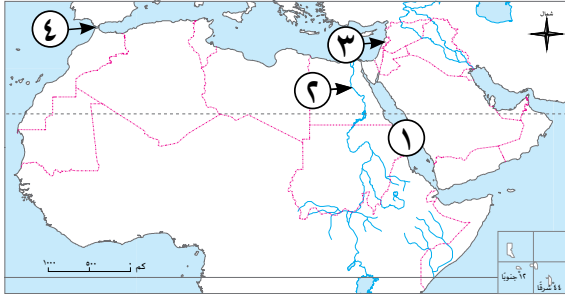
- ١ التجارة التى تتم بين الدول العربية تعرف بالتجارة..... (البيئية - الخارجية - العالمية - المحلية)
- ٢ دولة عربية تنخفض بها نسبة التعليم..... (الإمارات - الكويت - قطر - الصومال)
- ٣ أولى الدول المستقلة عن الخلافة العباسية الدولة..... (الطولونية - الفاطمية - المملوكية - الأيوبية)

(ب) ما النتائج المترتبة على...؟

- ١ ضعف الاستثمارات العربية المشتركة.....
- ٢ استقلال أحمد بن طولون بحكم مصر.....

## نموذج 2

( ١ ) أمامك خريطة صماء للوطن العربي، اكتب مدلول الأرقام عليها:



- ١ مسطح مائي.....
- ٢ نهر.....
- ٣ دولة تشتهر بتركز السكان في مناطق المرتفعات.....
- ٤ ميناء.....

(ب) ما النتائج المترتبة على: امتلاك الدول العربية شبكة جيدة من النقل والمواصلات؟

.....

( ١ ) اكتب كلمة (صواب) أمام العبارة الصحيحة، وكلمة (خطأ) أمام العبارة غير الصحيحة:

- ١ الزراعة والثروة الحيوانية من مجالات التكامل الاقتصادي في الوطن العربي. (.....)
- ٢ بدأ عمرو بن العاص فتح مصر من مدينة الإسكندرية. (.....)
- ٣ قناة السويس تُعد من أهم طرق الملاحة العالمية. (.....)

(ب) دلل على صحة العبارتين الآتيتين:

- ١ ساهم المماليك في حماية العالم الإسلامي. ....
- ٢ تواجه بعض دول الوطن العربي عدة تحديات ناتجة عن الزيادة السكانية. ....

( ١ ) اكتب ما تشير إليه العبارات الآتية:

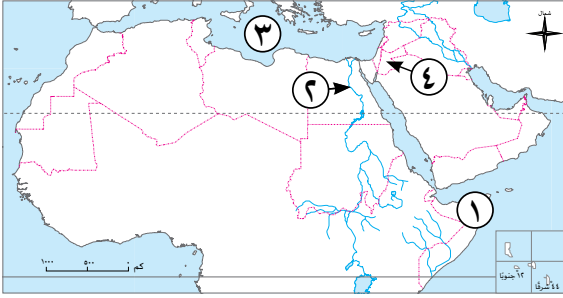
- ١ صناعة تعتمد على البترول والغاز الطبيعي كمادة خام لإنتاج مواد تُستخدم في صناعات أخرى. (.....)
- ٢ عملية تبادل السلع والخدمات لتلبية الاحتياجات. (.....)
- ٣ نسبة المواليد إلى إجمالي عدد السكان في فترة معينة. (.....)

(ب) بم تفسر...؟

- ١ قلة عدد الوفيات في بعض الدول العربية. ....
- ٢ تصدير الوطن العربي المواد الخام بدلاً من تصنيعها. ....

## السؤال الأول

( ١ ) أمامك خريطة صماء للوطن العربي، اكتب مدلول الأرقام عليها:



- ١ دولة يرتفع بها معدل الوفيات.....
- ٢ منطقة تركيز سكان.....
- ٣ البحر.....
- ٤ دولة ترتفع بها نسبة التعليم.....

(ب) وضح: اثنين من معوقات التكامل الاقتصادي العربي.

## السؤال الثاني

( ١ ) اختر الإجابة الصحيحة مما بين القوسين:

- ١ صناعة الإلكترونيات والسيارات تعد من الصناعات.....  
(الاستخراجية - الحديثة - التحويلية - الاستهلاكية)
- ٢ أى من التالي يعد من الواردات العربية؟.....  
(البترو - الفوسفات - القطن - السيارات)
- ٣ إحدى المناطق التي يزيد بها عدد السكان بالوطن العربي.....  
(الصحارى - الجبال - السهول الفيضية - المناطق الجليدية)

(ب) بم تفسر...؟

- ١ ضعف التجارة البينية بين الدول العربية.
- ٢ حدوث الشدة المستنصرية في مصر.

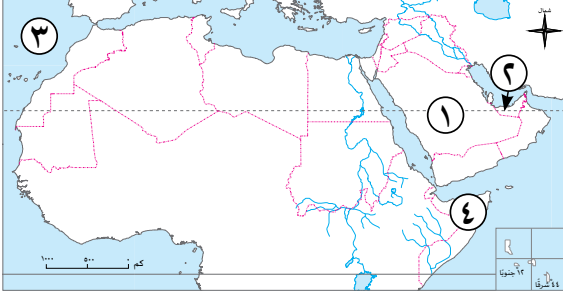
## السؤال الثالث

( ١ ) صوب ما تحته خط:

- ١ أسست المملكة العربية السعودية أكبر المراكز العالمية في الصناعات الغذائية.
  - ٢ يساعد التكامل الاقتصادي العربي على ارتفاع نسبة البطالة والفقير.
  - ٣ يزيد عدد سكان الوطن العربي بسبب انخفاض معدل المواليد.
- (ب) قارن بين: الصناعات الاستخراجية والصناعات التحويلية من حيث: التعريف.

الصناعات التحويلية	الصناعات الاستخراجية	وجه المقارنة
.....	.....	التعريف
.....	.....	

## السؤال الأول ( ١ ) أمامك خريطة صماء للوطن العربي، اكتب مدلول الأرقام عليها:



- ١ دولة بها صناعة تكرير البترول والغاز الطبيعي .....
- ٢ دولة ترتفع فيها نسبة التعليم .....
- ٣ المحيط .....
- ٤ دولة يقل بها مستوى الرعاية الصحية .....

(ب) ما المقصود بـ: الصناعة؟

.....

## السؤال الثاني ( ١ ) اكتب كلمة (صواب) أمام العبارة الصحيحة، وكلمة (خطأ) أمام العبارة غير الصحيحة:

- ١ صناعة الأثاث والأدوات المنزلية يعدان من الصناعات الحديثة. (.....)
- ٢ يتركز السكان في الوطن العربي بالسهول الفيضية. (.....)
- ٣ التكامل الاقتصادي بين الدول العربية يتحقق بالاعتماد على الاستيراد من الخارج. (.....)

(ب) بم تفسر...؟

- ١ معاناة الوطن العربي من مشكلة البطالة. ....
- ٢ أهمية النقل في الوطن العربي. ....

## السؤال الثالث ( ١ ) أكمل العبارات الآتية بما يناسبها من كلمات:

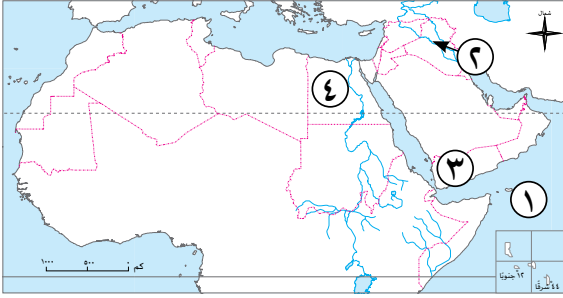
- ١ اهتمت مصر بزيادة صادراتها..... .
- ٢ عاصمة مصر قبل الفتح الإسلامي كانت مدينة..... .
- ٣ توفر الصناعة للشباب..... .

(ب) ما النتائج المترتبة على...؟

- ١ إقامة مصانع مشتركة بين الدول العربية. ....
- ٢ تولى المماليك حكم مصر. ....

## السؤال الأول

( ١ ) أمامك خريطة صماء للوطن العربي، اكتب مدلول الأرقام عليها:



- ١ المحيط .....
- ٢ منطقة تركيز سكان، سهول .....
- ٣ دولة تشتهر بتركيز السكان في مناطق المرتفعات .....
- ٤ دولة يقل بها عدد الوفيات .....

(ب) دلل على صحة العبارة الآتية: تواجه الصناعة في الوطن العربي العديد من التحديات.

## السؤال الثاني

( ١ ) أكمل العبارات الآتية بما يناسبها من كلمات:

- ١ ترتبط الصناعة الاستهلاكية مباشرة بحياة .....
- ٢ دولة عربية ترتفع بها نسبة التعليم .....
- ٣ أول جامع بُني في إفريقيا هو جامع .....

(ب) بم تفسر...؟

- ١ اعتماد البدو عبر التاريخ على الرعى والتنقل .....
- ٢ زيادة عدد الوفيات في بعض الدول العربية .....

## السؤال الثالث

( ١ ) اختر الإجابة الصحيحة مما بين القوسين:

- ١ إحدى المناطق الصناعية بالوطن العربي وتشتهر بقيام الصناعات البتروكيميائية .....
- (شمال إفريقيا - بلاد الشام - الخليج العربي - جنوب اليمن)
- ٢ يتجه السكان للهجرة إلى دول الخليج بهدف .....
- (التعليم - العمل - الترفيه - السياحة)
- ٣ من أهم صادرات الوطن العربي إلى الخارج .....
- (المعدات - السيارات - البترول - الآلات)

(ب) أجب عما يلي:

- ١ وضع: دور التكنولوجيا في تطوير وسائل النقل داخل الوطن العربي .....
- ٢ حدد اثنين من: الجهود المبذولة لتحقيق التكامل العربي .....

# الدراسات الاجتماعية

## إجابات نماذج اختبارات الأضواء

لشهر مارس

الفصل الدراسي الثاني

المصف

6

الابتدائي

2026

# نموذج 1

## السؤال الأول

( ١ )

- ١ المتوسط.
  - ٢ مصر.
  - ٣ السعودية.
  - ٤ السودان.
- (ب) شكل بياني يمثل توزيع السكان حسب العمر والنوع في فترة زمنية محددة .

## السؤال الثاني

( ١ )

- ١ الشعوب.
  - ٢ الاقتصادى.
  - ٣ خطوط السكك الحديدية.
- (ب)

- ١ لأنها توفر احتياجات السكان وتحقق الأمن الغذائى للوطن العربى.
- ٢ حيث تسهم فى :
  - زيادة الدخل القومى وتوفير العملات الأجنبية.
  - توفير فرص عمل للشباب.
  - تلبية احتياجات السكان.

## السؤال الثالث

( ١ )

- ١ البيئية.
  - ٢ الصومال.
  - ٣ الطولونية.
- (ب)

- ١ يؤدى إلى وجود معوقات لتحقيق التكامل الاقتصادى بين الدول العربية.
- ٢ أسس الدولة الطولونية وأصبحت أولى الدول المستقلة عن الخلافة العباسية، كما أسس مدينة القطائع واتخذها عاصمة لدولته - بناء جامع أحمد بن طولون - ضم الشام والحجاز لحكم مصر.

## نموذج 2

### السؤال الأول

( ١ )

- ١ - الأحمر.  
٢ - النيل.  
٣ - لبنان.  
٤ - طنجة.

(ب) أدى ذلك إلى:

- تسهيل حركة التجارة بين الدول العربية - ربط الدول العربية بعضها ببعض - تقوية العلاقات الاقتصادية والاجتماعية - دعم السياحة الداخلية والخارجية.

### السؤال الثاني

( ١ )

- ١ - (صواب).  
٢ - (خطأ).  
٣ - (صواب).

(ب)

- ١ - حيث أسهموا في تصفية الوجود الصليبي في الشرق، كما تصدّوا لخطر المغول .  
٢ - حيث تواجه: البطالة بسبب زيادة عدد الشباب مع قلة فرص العمل - نقص الغذاء بسبب زيادة الاستهلاك - الضغط على الخدمات التعليمية والصحية وارتفاع معدل الأمية.

### السؤال الثالث

( ١ )

- ١ - الصناعات البتروكيميائية.  
٢ - التجارة.  
٣ - معدل المواليد.

(ب)

- ١ - بسبب تقدم الخدمات الصحية.  
٢ - لعدم قدرتها على التصنيع.

## السؤال الأول

( ١ )

- ١ الصومال .
- ٢ وادى النيل .
- ٣ المتوسط .
- ٤ الأردن .

( ب ) - الصراعات والاضطرابات الداخلية ببعض الدول العربية .

- تشابه الإنتاج بين الدول العربية .
- الاعتماد على الاستيراد من الخارج .
- ضعف الاستثمارات العربية المشتركة .

## السؤال الثاني

( ١ )

- ١ الحديثة .
- ٢ السيارات .
- ٣ السهول الفيضية .

( ب )

- ١ بسبب الحواجز الجمركية والرسوم المرتفعة على السلع - تشابه الصناعات في الكثير من الدول العربية .
- ٢ بسبب نقص مياه النيل وحدوث مجاعة في مصر .

## السؤال الثالث

( ١ )

- ١ البتروكيميائية .
- ٢ خفض .
- ٣ الوفيات .

( ب )

وجه المقارنة	الصناعات الاستخراجية	الصناعات التحويلية
التعريف	صناعة تعتمد على استخراج المعادن ومصادر الطاقة من باطن الأرض .	صناعة تعتمد على تحويل المواد الخام إلى منتجات جديدة .

## السؤال الأول

( ١ )

- ١ السعودية .  
٢ الإمارات .  
٣ الأطلنطي .  
٤ الصومال .

(ب) هي عملية تحويل المواد الخام إلى منتجات لتلبية احتياجات الإنسان اليومية .

## السؤال الثاني

( ١ )

- ١ (خطأ) .  
٢ (صواب) .  
٣ (خطأ) .

(ب)

- ١ بسبب زيادة عدد الشباب مع قلة فرص العمل .  
٢ تسهيل حركة التجارة بين الدول العربية - ربط الدول العربية بعضها ببعض - تقوية العلاقات الاقتصادية والاجتماعية - دعم السياحة الداخلية والخارجية .

## السؤال الثالث

( ١ )

- ١ الزراعية .  
٢ الإسكندرية .  
٣ فرص عمل .

(ب)

- ١ يؤدي إلى التكامل الاقتصادي في الوطن العربي .  
٢ ترتب على ذلك أنهم ساهموا في تصفية الوجود الصليبي في الشرق ، كما تصدوا لخطر المغول .

## السؤال الأول

( ١ )

- ١ الهنـدى .  
٢ دجلة والفرات .  
٣ اليمن .  
٤ مصر .

(ب) حيث تواجه: تصدير المواد الخام بدلاً من تصنيعها - ضعف الاستثمارات في البحث العلمى والتكنولوجيا - ضعف البنية التحتية في بعض الدول - عدم القدرة على منافسة المنتجات الأجنبية - نقص العمالة المدربة على التكنولوجيا الحديثة .

## السؤال الثاني

( ١ )

- ١ المواطن .  
٢ الأردن / مصر / الإمارات .  
٣ عمرو بن العاص .

(ب)

- ١ بحثًا عن الماء .  
٢ بسبب ضعف الرعاية الصحية .

## السؤال الثالث

( ١ )

- ١ الخليج العربى .  
٢ العمل .  
٣ البترول .

(ب)

١ لعبت التكنولوجيا دورًا مهمًا في تطوير وسائل النقل داخل الوطن العربى من خلال: تطوير القطارات السريعة - تطوير الموانى البحرية - تجهيز المطارات بأحدث الأجهزة والتقنيات - تسهيل عمليات التبادل التجارى .  
٢ إنشاء جامعة الدول العربية لتقوية التعاون بين الدول العربية - إنشاء مجلس الوحدة الاقتصادية العربية لدعم التكامل الاقتصادى - تشجيع الاستثمارات المشتركة بين الدول العربية - اتفاقية منطقة التجارة الحرة العربية الكبرى لتقليل الرسوم الجمركية بين الدول العربية .

تطبيق



مذكرات جاهزة للطباعة

لتحميل الملفات التعليمية مجاناً للمعلم والطالب

مذكرات وملازم / مراجعات وملخصات / امتحانات / كتب الوزارة /  
أدلة المعلم / دفاتر التحضير / سجلات مدرسية / أوراق تأسيس

امسح الكود بموبايلك علشان تقدر تثبت التطبيق

وتقدر ف أي وقت تحمّل ال نفسك فيه ببلاش

هيغنيك عن البحث والجروبات والقنوات الكثيرة

