



ابتدائي

5

سلسلة

البركان

في الدراسات الاجتماعية



مراجعة شه فزاير

إعداد

أ / محمد عبد الصبور

01129903122



مراجعة شهر فبراير - خامسة ابتدائي

السؤال الأول : أكمل العبارات التالية بما يناسبها من كلمات :-

- ١- تقسم دائرة خريطة العالم إلى نصف الكرة الشمالي ونصف الكرة الجنوبي .
- ٢- يحد قارة أمريكا الشمالية من جهة الغرب المحيط
- ٣- تشتهر قارة آسيا بوجود أعلى قمة جبلية في العالم وهي قمة
- ٤- تعد جبال أشهر الجبال بقارة أوروبا .
- ٥- تقع قارة أستراليا بالكامل في نصف الكرة
- ٦- يحد قارة أوروبا من الغرب المحيط
- ٧- قامت حضارة الصين القديمة على أراضي قارة
- ٨- قامت على أراضي قارتى أمريكا الشمالية والجنوبية حضارتا و
- ٩- يمكننا تحديد المناطق الحرارية من خلال دوائر
- ١٠- تقع حول دائرة الاستواء المنطقة المناخية
- ١١- يمثل خط المرجع الأساسي للتوقيت .
- ١٢- تمثل دائرة العرض الرئيسية هي
- ١٣- تنخفض درجات الحرارة كلما ابتعدنا عن دائرة
- ١٤- تتميز البيئة الريفية بـ
- ١٥- توجد البيئة الريفية في الوادي والدلتا ومنخفض
- ١٦- يُعد إنشاء مدينة العلمين الجديدة أحد جهود الدولة لتطوير البيئة
- ١٧- تنتشر الزراعة وتربية الحيوانات في البيئة
- ١٨- يحد محافظة الوادي الجديد من جهة الغرب دولة
- ١٩- شيدت مدينة منف قديما على يد الملك
- ٢٠- أكبر محافظات مصر من حيث المساحة
- ٢١- أقل محافظات مصر من حيث عدد السكان
- ٢٢- تمثل إحدى المحافظات الحدودية التي تقع جنوب غرب مصر
- ٢٣- وجود عدة مدن كبرى بالمحافظة يساعد على انتشار المهن
- ٢٤- محافظة مصرية ينتشر فيها النشاط السياحي
- ٢٥- تتنوع التضاريس بالمكسيك ما بين جبال وهضاب و

السؤال الثاني : اكتب كلمة (صواب) وكلمة (خطأ) أمام العبارات التالية :-

- ١- تتميز قارة إفريقيا بشكلها الجبلى . ()
- ٢- تتسم قارة أمريكا الجنوبية بشكل أقرب إلى شكل المثلث . ()
- ٣- تقع قارة آسيا بأكملها في النصف الغربي للكرة الأرضية . ()
- ٤- تعتبر هضبة التبت أكبر هضاب العالم ارتفاعاً . ()
- ٥- يحد قارة آسيا من جهة الشرق المحيط الأطلنطي . ()
- ٦- الكرة الأرضية هي مساحات واسعة من اليابس تحيط بها المياه . ()

- ٧- من أشهر حضارات قارة أوروبا حضارة المايا .
- ٨- يفصل البحر الأحمر بين قارتي آسيا وأستراليا .
- ٩- توجد جبال الألب في قارة إفريقيا .
- ١٠- قامت حضارتا المايا والإنكا في قارتي أمريكا الشمالية والجنوبية .
- ١١- المنطقة المعتدلة هي المنطقة الواقعة بين المدارين والدائرتين القطبيتين .
- ١٢- يلعب خط جرينتش الدور الرئيسي في تنوع المناخ بالعالم .
- ١٣- كلما اقتربنا من دائرة الاستواء تنخفض درجات الحرارة .
- ١٤- يمثل الفارق الزمني بين الدول ساعة واحدة كل ١٥ خط طول .
- ١٥- إذا اتجهنا غربا نتقدم في الوقت .
- ١٦- تقسم دائرة الاستواء خريطة العالم إلى نصف شرقي وآخر غربي .
- ١٧- تختلف المنطقة الحرارية في خصائصها المناخية من مكان لآخر .
- ١٨- يزداد النشاط الزراعي في البيئة الريفية .
- ١٩- تعد البيئة الحضرية مصدراً رئيسياً للغذاء الأساسي من المحاصيل الزراعية .
- ٢٠- تتميز البيئة الحضرية بالتخطيط العمراني وجودة البنية التحتية .
- ٢١- تعد مدينة منف أول نموذج لمدينة حضرية في تاريخ مصر القديم .
- ٢٢- توجد في مصر خمس محافظات حضرية تماما .
- ٢٣- تبلغ مساحة المكسيك حوالى نفس مساحة مصر تقريبا .
- ٢٤- المحافظات الحدودية يجاورها دولة أخرى أو مسطح مائي .
- ٢٥- الحفاظ على الموارد الطبيعية مسئولية جماعية .

السؤال الثالث : اختر الإجابة الصحيحة مما بين القوسين فيما يلي :-

- ١- توجد أعلى هضبة بالعالم بقارة (آسيا - أوروبا - إفريقيا - أستراليا)
- ٢- يحد قارة آسيا من جهة الشرق المحيط (المتجمد الجنوبي - الهادي - المتجمد الشمالي - الأطلنطي)
- ٣- تقع غابات الأمازون في قارة (إفريقيا - أوروبا - أمريكا الشمالية - أمريكا الجنوبية)
- ٤- تتميز قارة أمريكا الجنوبية بشكلها الأقرب إلى (الدائرة - المثلث - المربع - المستطيل)
- ٥- نتقدم في الوقت إذا اتجهنا ناحية (الغرب - الشرق - الشمال - الجنوب)
- ٦- تعد مصر من المناطق ذات الحرارة (المعتدلة - المرتفعة - المنخفضة - الثابتة)
- ٧- المنطقة الباردة هي المنطقة الواقعة حول (مدار السرطان - مدار الجدى - دائرة الاستواء - القطب الشمالي)
- ٨- تمتد المنطقة الحارة حول (الدائرة القطبية الشمالية - دائرة الاستواء - القطب الشمالي - الدائرة القطبية الجنوبية)
- ٩- أكبر البيئات المصرية مساحة البيئة (الريفية - الحضرية - الساحلية - الصحراوية)
- ١٠- يعمل سكان البيئة الساحلية في النشاط (الصناعي - الزراعي - السياحي - الخدمي)

- ١١- من أمثلة المحافظات الحدودية في مصر
(القاهرة - الإسماعيلية - السويس - الوادي الجديد)
- ١٢- محافظات الحدود الصحراوية ذات كثافة سكانية
(مرتفعة جدا - متساوية - متوسطة - منخفضة جدا)
- ١٣- يساعد وجود أماكن أثرية بالمحافظة على انتشار نشاط
(التعدين - السياحة - الصناعة - الصيد)
- ١٤- تعد محافظة من أصغر المحافظات المصرية مساحة .
(الوادي الجديد - الجيزة - دمياط - مطروح)
- ١٥- محافظات الوادي والدلتا تتسم سكانيا بأنها
(مزدحمة - متساوية - متوسطة - نادرة)
- ١٦- يساعد وجود آبار بتروول ومواد خام بالمحافظة على انتشار نشاط
(السياحة - التعدين - الزراعة - الصيد)
- ١٧- أكثر محافظات مصر عددًا للسكان محافظة
(القاهرة - الإسكندرية - السويس - الإسماعيلية)
- ١٨- يعود هرم كوكولكان لحضارة
(الأزتك - الإنكا - اليونان - المايا)
- ١٩- أقرب المسطحات المائية لمحافظة بورسعيد هو
(نهر النيل - البحر الأحمر - البحر المتوسط - المحيط الهندي)
- ٢٠- وجود تربة خصبة ومياه عذبة بالمحافظة يساعد على انتشار نشاط
(السياحة - التعدين - الصيد - الزراعة)

السؤال الرابع : صوب ما تحته خط فيما يلي :-

- ١- يحد قارة أمريكا الجنوبية من الغرب المحيط الأطلسي .
- ٢- تشتهر قارة آسيا بوجود أعلى هضاب العالم وهي هضبة إفرست .
- ٣- تتميز قارة أوروبا بتنوع تضاريسها ومن أشهر جبالها جبال روكي .
- ٤- تحيط المياه من جميع الجهات بالقارة المتجمدة الجنوبية وقارة أوروبا .
- ٥- تتسم قارة أوروبا بأن معظم أراضيها أراض صحراوية وجبلية .
- ٦- يقسم مدار الجدي خريطة العالم إلى نصف الكرة الشرقي ونصف الكرة الغربي .
- ٧- نشأت الحضارة الهندية في قارة إفريقيا .
- ٨- تقسم دوائر العرض الأرض إلى أربع مناطق حرارية .
- ٩- يمثل خط جرينتش المرجع الأساسي للمناخ .
- ١٠- إذا اتجهنا شرفا نتأخر في الوقت .
- ١١- يزداد النشاط الزراعي في البيئة الحضرية .
- ١٢- تتأثر البيئة الصحراوية بالتغيرات التكنولوجية والاجتماعية .
- ١٣- أصغر محافظات مصر من حيث المساحة محافظة مطروح .
- ١٤- يحد محافظة جنوب سيناء من الجنوب البحر المتوسط .
- ١٥- يوجد هرم كوكولكان في دولة فرنسا .

السؤال الخامس : اكتب ما تشير إليه العبارات الآتية :-

- ١- أرض شديدة الارتفاع ولها قمة .
- ٢- هوية الشعوب التي تميزها، وتشمل لغاتهم وفنونهم وعاداتهم وتقاليدهم .
- ٣- مساحة واسعة من الأرض المرتفعة مستوية السطح .
- ٤- موقع المكان بالنسبة لخطوط الطول ودوائر العرض .
- ٥- مساحة من الكرة الأرضية، تتشابه في خصائصها المناخية .
- ٦- كل ما يحيط بالإنسان يؤثر فيه ويتأثر به .
- ٧- كل ما يقوم به الإنسان من أعمال ومشروعات لتلبية احتياجاته .
- ٨- أول نموذج لمدينة حضرية في تاريخ مصر القديم .
- ٩- المحافظة التي تقع على أطراف حدود مصر البرية أو البحرية، وتتشترك في حدودها مع دول أخرى أو تطل على أحد المسطحات المائية .
- ١٠- متوسط عدد السكان الذين يعيشون في الكيلومتر مربع الواحد من المساحة .

السؤال السادس : بم تفسر ...؟

- ١- تتميز قارة إفريقيا بشكلها الهضبي .
- ٢- تمتاز القارة القطبية الجنوبية بشدة البرودة .
- ٣- تميز قارة آسيا بتنوع حضاراتها .
- ٤- اختلاف التوقيتات الزمنية بين دول العالم .
- ٥- للموقع الفلكي تأثير على الدول .
- ٦- قلة النبات الطبيعي في البيئة الصحراوية .
- ٧- أهمية البيئة الريفية في مصر .
- ٨- توزيع الأراضي الزراعية على الفلاحين بعد ثورة يوليو ١٩٥٢ م .
- ٩- تعتبر محافظة جنوب سيناء من المحافظات منخفضة الكثافة السكانية .
- ١٠- انتشار الأنشطة الزراعية في محافظة المنوفية .
- ١١- تعتبر المكسيك دولة بحرية .
- ١٢- يعمل كثير من سكان محافظة دمياط بمهنة صيد الأسماك .

السؤال السابع : ما النتائج المترتبة على ...؟

- ١- الاقتراب من دائرة الاستواء .
- ٢- وجود خط جرينتش على الكرة الأرضية .
- ٣- قرب قارة أمريكا الشمالية من القطب الشمالي .
- ٤- اختلاف وقوع الدول على خطوط الطول .
- ٥- توافر التربة الخصبة والمياه العذبة في البيئة الريفية .
- ٦- الجفاف في البيئة الصحراوية .
- ٧- قيام ثورة يوليو عام ١٩٥٢م بإعادة توزيع الأراضي الزراعية على الفلاحين بمصر .
- ٨- وقوع المحافظة على مسطح مائي .
- ٩- وجود أماكن أثرية بالمحافظة .

السؤال الثامن : دلل على صحة العبارات التالية :-

- ١- تنوع تضاريس قارة أوروبا .
- ٢- يحد المحيط الهندي حدود أكثر من قارة .
- ٣- تتنوع المناطق الحرارية على خريطة العالم .
- ٤- تُعتبر قارة آسيا أكثر قارات العالم ارتفاعًا .
- ٥- تختلف تأثيرات خطوط الطول ودوائر العرض على خريطة العالم .
- ٦- لمصر دور عظيم في إبراز التراث الحضارى لقارة إفريقيا .
- ٧- عملت الدولة على تطوير البيئة الريفية .
- ٨- تختلف بينات مصر كل منها عن الأخرى .
- ٩- للبيئة الحضرية خصائص مميزة .

١٠- تؤثر البيئة بشكل كبير على نوعية الأنشطة التي يمارسها السكان .

السؤال التاسع : ما العلاقة بين كل من ...؟

١- المحيط الهادى وقارة أمريكا الشمالية .

٢- المدارين والمنطقة المعتدلة .

٣- خط جرينتش وفروق التوقيتات الزمنية .

٤- قارة آسيا والتراث الحضاري .

٥- دائرة الاستواء والمنطقة الحارة .

٦- ساحل البحر الأحمر والنشاط السكاني للمحافظة .

٧- مساحة المحافظة والكثافة السكانية بها .

٨- مصر والمكسيك .

٩- موقع محافظة بورسعيد ومستقبلها .

السؤال العاشر : قارن بين كل من :-

١- قارتي آسيا وإفريقيا من حيث الخصائص الجغرافية .

قارة افريقيا	قارة اسيا	مقارنة
		الخصائص الجغرافية

٢- قارة أوروبا وقارتي أمريكا الشمالية والجنوبية من حيث الحضارات التي نشأت فيهما .

أمريكا الشمالية والجنوبية	قارة اوروبا	مقارنة
		الحضارات التي نشأت فيهما

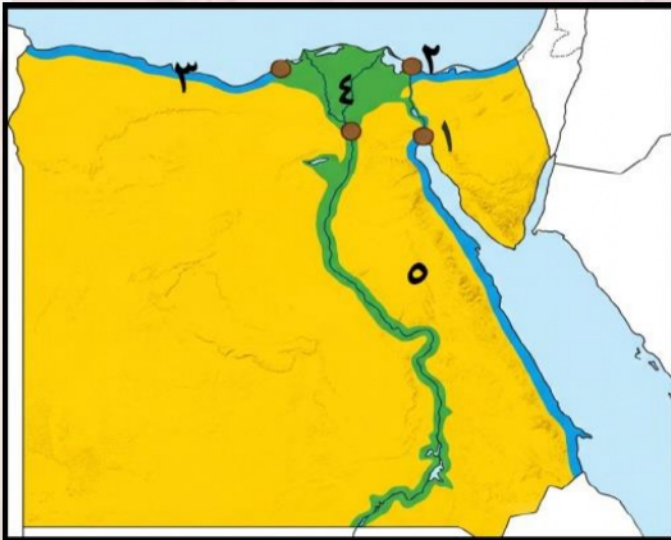
٣- البيئة الصحراوية والبيئة الساحلية من حيث موقع كل منهما .

البيئة الساحلية	البيئة الصحراوية	مقارنة
		الموقع

٤- البيئة الريفية والبيئة الحضرية من حيث خصائص كل منهما .

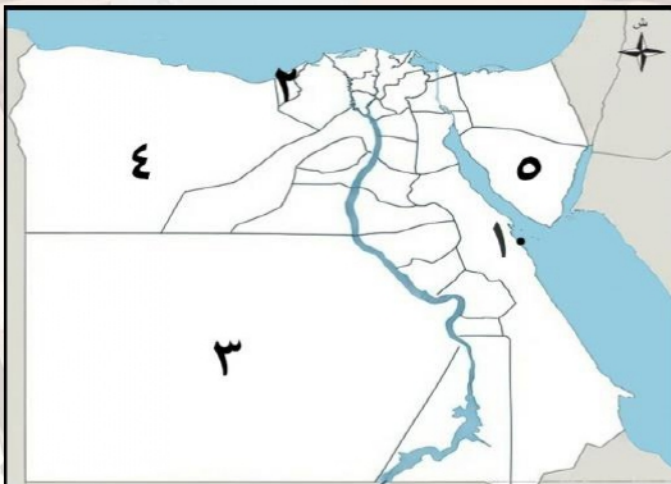
البيئة الحضرية	البيئة الريفية	مقارنة
		الخصائص

السؤال الحادي عشر : امامك خريطة صماء لمصر اكتب مدلول الأرقام عليها :



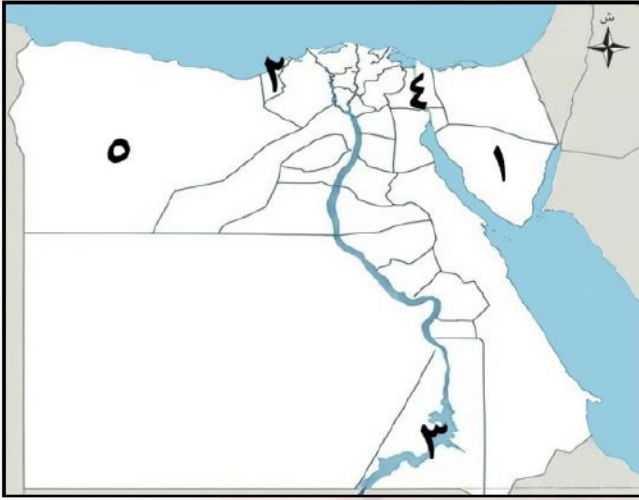
- ١- محافظة حضرية
- ٢- محافظة حضرية
- ٣- البيئة
- ٤- البيئة
- ٥- البيئة

السؤال الحادي عشر : امامك خريطة صماء لمصر اكتب مدلول الأرقام عليها :-



- ١- مدينة ساحلية
- ٢- مدينة ساحلية
- ٣- محافظة حدودية
- ٤- محافظة حدودية
- ٥- محافظة حدودية

السؤال الحادي عشر : امامك خريطة صماء لمصر اكتب مدلول الأرقام عليها :-



١- اقل محافظات مصر سكاناً

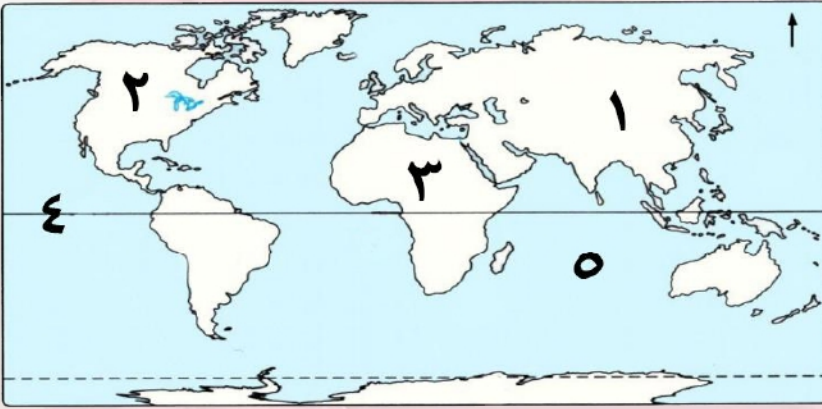
٢- محافظة ساحلية

٣- بحيرة

٤- قناة

٥- محافظة حدودية

السؤال الحادي عشر : امامك خريطة صماء للعالم اكتب مدلول الأرقام عليها :-



١- قارة

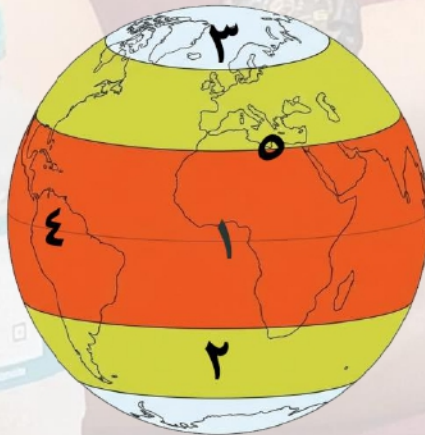
٢- قارة

٣- قارة

٤- دائرة عرض

٥- المحيط

السؤال الحادي عشر : امامك المناطق الحرارية اكتب مدلول الأرقام عليها :-



١- منطقة حرارية

٢- منطقة حرارية

٣- منطقة حرارية

٤- دائرة عرض

٥- دائرة عرض

مراجعة شهر فبراير - خامسة ابتدائي

السؤال الأول : أكمل العبارات التالية بما يناسبها من كلمات :-

- ١- تقسم دائرة الاستواء خريطة العالم إلى نصف الكرة الشمالي ونصف الكرة الجنوبي .
- ٢- يحد قارة أمريكا الشمالية من جهة الغرب المحيط الهادى .
- ٣- تشتهر قارة آسيا بوجود أعلى قمة جبلية في العالم وهي قمة أفرست .
- ٤- تعد جبال الألب أشهر الجبال بقارة أوروبا .
- ٥- تقع قارة أستراليا بالكامل في نصف الكرة الشرقى او الجنوبي .
- ٦- يحد قارة أوروبا من الغرب المحيط الأطلنطى .
- ٧- قامت حضارة الصين القديمة على أراضي قارة آسيا .
- ٨- قامت على أراضي قارتى أمريكا الشمالية والجنوبية حضارتا الإنكا و المايا .
- ٩- يمكننا تحديد المناطق الحرارية من خلال دوائر العرض .
- ١٠- تقع حول دائرة الاستواء المنطقة المناخية الحارة .
- ١١- يمثل خط جرينتش المرجع الأساسي للتوقيت .
- ١٢- تمثل دائرة العرض الرئيسية هي دائرة الاستواء .
- ١٣- تنخفض درجات الحرارة كلما ابتعدنا عن دائرة الاستواء .
- ١٤- تتميز البيئة الريفية بـ استواء السطح .
- ١٥- توجد البيئة الريفية في الوادي والدلتا ومنخفض الفيوم .
- ١٦- يُعد إنشاء مدينة العلمين الجديدة أحد جهود الدولة لتطوير البيئة الساحلية .
- ١٧- تنتشر الزراعة وتربية الحيوانات في البيئة الريفية .
- ١٨- يحد محافظة الوادي الجديد من جهة الغرب دولة ليبيا .
- ١٩- شيدت مدينة منف قديما على يد الملك مينا .
- ٢٠- أكبر محافظات مصر من حيث المساحة الوادي الجديد .
- ٢١- أقل محافظات مصر من حيث عدد السكان جنوب سيناء .
- ٢٢- تمثل إحدى المحافظات الحدودية التي تقع جنوب غرب مصر الوادي الجديد .
- ٢٣- وجود عدة مدن كبرى بالمحافظة يساعد على انتشار المهن الخدمية .
- ٢٤- محافظة مصرية ينتشر فيها النشاط السياحي الأقصر - اسوان .
- ٢٥- تتنوع التضاريس بالمكسيك ما بين جبال وهضاب و سهول .

السؤال الثاني : اكتب كلمة (صواب) وكلمة (خطأ) أمام العبارات التالية :-

- ١- تتميز قارة إفريقيا بشكلها الجبلى . (خطأ)
- ٢- تتسم قارة أمريكا الجنوبية بشكل أقرب إلى شكل المثلث . (صواب)
- ٣- تقع قارة آسيا بأكملها في النصف الغربى للكرة الأرضية . (خطأ)
- ٤- تعتبر هضبة التبت أكبر هضاب العالم ارتفاعاً . (صواب)
- ٥- يحد قارة آسيا من جهة الشرق المحيط الأطلنطى . (خطأ)
- ٦- الكرة الأرضية هي مساحات واسعة من اليابس تحيط بها المياه . (صواب)

- (خطأ)
 (خطأ)
 (خطأ)
 (صواب)
 (صواب)
 (خطأ)
 (خطأ)
 (صواب)
 (خطأ)
 (خطأ)
 (صواب)
 (صواب)
 (خطأ)
 (صواب)
 (صواب)
 (خطأ)
 (خطأ)
 (صواب)
 (صواب)

- ٧- من أشهر حضارات قارة أوروبا حضارة المايا .
 ٨- يفصل البحر الأحمر بين قارتي آسيا و أستراليا .
 ٩- توجد جبال الألب في قارة إفريقيا .
 ١٠- قامت حضارتا المايا وال إنكا في قارتي أمريكا الشمالية والجنوبية .
 ١١- المنطقة المعتدلة هي المنطقة الواقعة بين المدارين والدائرتين القطبيتين .
 ١٢- يلعب خط جرينتش الدور الرئيسي في تنوع المناخ بالعالم .
 ١٣- كلما اقتربنا من دائرة الاستواء تنخفض درجات الحرارة .
 ١٤- يمثل الفارق الزمني بين الدول ساعة واحدة كل ١٥ خط طول .
 ١٥- إذا اتجهنا غربا نتقدم في الوقت .
 ١٦- تقسم دائرة الاستواء خريطة العالم إلى نصف شرقي وآخر غربي .
 ١٧- تختلف المنطقة الحرارية في خصائصها المناخية من مكان لآخر .
 ١٨- يزداد النشاط الزراعي في البيئة الريفية .
 ١٩- تعد البيئة الحضرية مصدراً رئيسياً للغذاء الأساسي من المحاصيل الزراعية .
 ٢٠- تتميز البيئة الحضرية بالتخطيط العمراني وجودة البنية التحتية .
 ٢١- تعد مدينة منف أول نموذج لمدينة حضرية في تاريخ مصر القديم .
 ٢٢- توجد في مصر خمس محافظات حضرية تماما .
 ٢٣- تبلغ مساحة المكسيك حوالى نفس مساحة مصر تقريبا .
 ٢٤- المحافظات الحدودية يجاورها دولة أخرى أو مسطح مائي .
 ٢٥- الحفاظ على الموارد الطبيعية مسؤولية جماعية .

السؤال الثالث : اختر الإجابة الصحيحة مما بين القوسين فيما يلي :-

- ١- توجد أعلى هضبة بالعالم بقارة (آسيا - أوروبا - إفريقيا - أستراليا)
 ٢- يحد قارة آسيا من جهة الشرق المحيط
 ٣- تقع غابات الأمازون في قارة (إفريقيا - أوروبا - أمريكا الشمالية - أمريكا الجنوبية)
 ٤- تتميز قارة أمريكا الجنوبية بشكلها الأقرب إلى (الدائرة - المثلث - المربع - المستطيل)
 ٥- نتقدم في الوقت إذا اتجهنا ناحية (الغرب - الشرق - الشمال - الجنوب)
 ٦- تعد مصر من المناطق ذات الحرارة (المعتدلة - المرتفعة - المنخفضة - الثابتة)
 ٧- المنطقة الباردة هي المنطقة الواقعة حول
 ٨- تمتد المنطقة الحارة حول (مدار السرطان - مدار الجدى - دائرة الاستواء - القطب الشمالي)
 ٩- الدائرة القطبية الشمالية - دائرة الاستواء - القطب الشمالي - الدائرة القطبية الجنوبية
 ٩- أكبر البيئات المصرية مساحة البيئة (الريفية - الحضرية - الساحلية - الصحراوية)
 ١٠- يعمل سكان البيئة الساحلية في النشاط (الصناعي - الزراعي - السياحي - الخدمي)

- ١١- من أمثلة المحافظات الحدودية في مصر
- (القاهرة - الإسماعيلية - السويس - الوادي الجديد)
- ١٢- محافظات الحدود الصحراوية ذات كثافة سكانية
- (مرتفعة جدا - متساوية - متوسطة - منخفضة جدا)
- ١٣- يساعد وجود أماكن أثرية بالمحافظة على انتشار نشاط
- (التعدين - السياحة - الصناعة - الصيد)
- ١٤- تعد محافظة
- من أصغر المحافظات المصرية مساحة .
- (الوادي الجديد - الجيزة - دمياط - مطروح)
- ١٥- محافظات الوادي والدلتا تتسم سكانيا بأنها
- (مزدحمة - متساوية - متوسطة - نادرة)
- ١٦- يساعد وجود آبار بتروول ومواد خام بالمحافظة على انتشار نشاط
- (السياحة - التعدين - الزراعة - الصيد)
- ١٧- أكثر محافظات مصر عددًا للسكان محافظة
- (القاهرة - الإسكندرية - السويس - الإسماعيلية)
- ١٨- يعود هرم كوكولكان لحضارة
- (الأزتك - الإنكا - اليونان - المايا)
- ١٩- أقرب المسطحات المائية لمحافظة بورسعيد هو
- (نهر النيل - البحر الأحمر - البحر المتوسط - المحيط الهندي)
- ٢٠- وجود تربة خصبة ومياه عذبة بالمحافظة يساعد على انتشار نشاط
- (السياحة - التعدين - الصيد - الزراعة)

السؤال الرابع : صوب ما تحته خط فيما يلي :-

- ١- يحد قارة أمريكا الجنوبية من الغرب المحيط الأطلسي .
- ٢- تشتهر قارة آسيا بوجود أعلى هضاب العالم وهي هضبة إفرست .
- ٣- تتميز قارة أوروبا بتنوع تضاريسها ومن أشهر جبالها جبال روكي .
- ٤- تحيط المياه من جميع الجهات بالقارة المتجمدة الجنوبية وقارة أوروبا .
- ٥- تتسم قارة أوروبا بأن معظم أراضيها أراض صحراوية وجبلية .
- ٦- يقسم مدار الجدي خريطة العالم إلى نصف الكرة الشرقي ونصف الكرة الغربي . خط جرينتش
- ٧- نشأت الحضارة الهندية في قارة إفريقيا .
- ٨- تقسم دوائر العرض الأرض إلى أربع مناطق حرارية .
- ٩- يمثل خط جرينتش المرجع الأساسي للمناخ .
- ١٠- إذا اتجهنا شرقًا نتأخر في الوقت .
- ١١- يزداد النشاط الزراعي في البيئة الحضرية .
- ١٢- تتأثر البيئة الصحراوية بالتغيرات التكنولوجية والاجتماعية .
- ١٣- أصغر محافظات مصر من حيث المساحة محافظة مطروح .
- ١٤- يحد محافظة جنوب سيناء من الجنوب البحر المتوسط .
- ١٥- يوجد هرم كوكولكان في دولة فرنسا .

الهادي

التبت

الألب

استراليا

استراليا

خط جرينتش

آسيا

ثلاث

التوقيت

غرباً

الريفية

الحضرية

دمياط

الأحمر

المكسيك

السؤال الخامس : اكتب ما تشير إليه العبارات الآتية :-

- ١- أرض شديدة الارتفاع ولها قمة .
- ٢- هوية الشعوب التي تميزها، وتشمل لغاتهم وفنونهم وعاداتهم وتقاليدهم .
- ٣- مساحة واسعة من الأرض المرتفعة مستوية السطح .
- ٤- موقع المكان بالنسبة لخطوط الطول ودوائر العرض .
- ٥- مساحة من الكرة الأرضية تتشابه في خصائصها المناخية .
- ٦- كل ما يحيط بالإنسان يؤثر فيه ويتأثر به .
- ٧- كل ما يقوم به الإنسان من أعمال ومشروعات لتلبية احتياجاته .
- ٨- أول نموذج لمدينة حضرية في تاريخ مصر القديم .
- ٩- المحافظة التي تقع على أطراف حدود مصر البرية أو البحرية، وتشترك في حدودها مع دول أخرى أو تطل على أحد المسطحات المائية .
- ١٠- متوسط عدد السكان الذين يعيشون في الكيلومتر مربع الواحد من المساحة .

السؤال السادس : بم تفسر ...؟

- ١- تتميز قارة إفريقيا بشكلها الهضبي . بسبب تعدد الهضاب فيها .
 - ٢- تمتاز القارة القطبية الجنوبية بشدة البرودة . نظرًا لقربها من القطب الجنوبي .
 - ٣- تميز قارة آسيا بتنوع حضاراتها .
- لأنه نشأت على أراضيها حضارات عديدة مثل : حضارة الصين القديمة - والحضارة الهندية - حضارة العراق القديم .
- ٤- اختلاف التوقيتات الزمنية بين دول العالم . بسبب اختلاف خطوط الطول بين الدول .
 - ٥- للموقع الفلكي تأثير على الدول .
- لان دوائر العرض تؤثر من خلال المناخ وخطوط الطول تؤثر من خلال التوقيت بين الدول .
- ٦- قلة النبات الطبيعي في البيئة الصحراوية . بسبب الجفاف .
 - ٧- أهمية البيئة الريفية في مصر .
- لأنها تعتبر مصدرًا رئيسيًا للغذاء الأساسي من محاصيل وخضراوات وفاكهة ولحوم وألبان .
- ٨- توزيع الأراضي الزراعية على الفلاحين بعد ثورة يوليو ١٩٥٢م . لتحسين أوضاعهم .
 - ٩- تعتبر محافظة جنوب سيناء من المحافظات منخفضة الكثافة السكانية .
- لان جنوب سيناء من محافظات الحدود الصحراوية التي تقل بها المياه .
- ١٠- انتشار الأنشطة الزراعية في محافظة المنوفية . بسبب توافر المياه العذبة والتربة الخصبة .
 - ١١- تعتبر المكسيك دولة بحرية .
- بسبب اتساع مساحة سواحلها على المحيطين الأطلنطي والهادي بالإضافة لخليج المكسيك .
- ١٢- يعمل كثير من سكان محافظة دمياط بمهنة صيد الأسماك .
- لأنها من المحافظات التي تقع على مسطح مائي وهو البحر المتوسط .

السؤال السابع : ما النتائج المترتبة على ...؟

- ١- الاقتراب من دائرة الاستواء . أدى الى ارتفاع درجات الحرارة .
- ٢- وجود خط جرينتش على الكرة الأرضية .
- يقسم الكرة الأرضية الى نصفين شرقي وغربي والمرجع الاساسي للتوقيت في العالم .
- ٣- قرب قارة أمريكا الشمالية من القطب الشمالي .
- أصبحت من المناطق شديدة البرودة التي يغطيها الجليد طوال العام .
- ٤- اختلاف وقوع الدول على خطوط الطول . اختلاف التوقيتات الزمنية بين دول العالم .
- ٥- توافر التربة الخصبة والمياه العذبة في البيئة الريفية . أدى الى قيام الزراعة بها .
- ٦- الجفاف في البيئة الصحراوية . أدى الى قلة النبات الطبيعي .
- ٧- قيام ثورة يوليو عام ١٩٥٢م بإعادة توزيع الأراضي الزراعية على الفلاحين بمصر . أدى الى تحسين أوضاع الفلاحين .
- ٨- وقوع المحافظة على سطح مائي .
- أدى الى انتشار نشاط صيد الأسماك في بعض المحافظات مثل بورسعيد والسويس .
- ٩- وجود أماكن أثرية بالمحافظة . أدى الى انتشار السياحة بها مثل الأقصر واسوان .

السؤال الثامن : دلل على صحة العبارات التالية :-

- ١- تنوع تضاريس قارة أوروبا .
- حيث تتميز بتنوع تضاريسها ومن أشهرها جبال الألب والسهل الأوروبي العظيم الذي يُعدّ من السهول الفيضية الواسعة .
- ٢- يحد المحيط الهندي حدود أكثر من قارة . حيث يحد قارة اسيا وأستراليا وإفريقيا .
- ٣- تتنوع المناطق الحرارية على خريطة العالم .
- حيث توجد ثلاث مناطق حرارية هم المنطقة الحارة والمنطقة المعتدلة والمنطقة الباردة .
- ٤- تُعتبر قارة آسيا أكثر قارات العالم ارتفاعاً .
- حيث يوجد بها قمة افرست اعلى قمة جبلية في العالم وهضبة التبت اعلى هضاب العالم .
- ٥- تختلف تأثيرات خطوط الطول ودوائر العرض على خريطة العالم .
- حيث ان خطوط الطول تؤثر من خلال التوقيت بينما دوائر العرض تؤثر من خلال المناخ بين الدول .
- ٦- لمصر دور عظيم في إبراز التراث الحضاري لقارة إفريقيا .
- حيث قامت على أرضها أعظم الحضارات التي عرفها التاريخ وهي الحضارة المصرية القديمة .
- ٧- عملت الدولة على تطوير البيئة الريفية . من خلال :-
- (١) توفير فرص العمل للشباب . (٢) زيادة الخدمات كالمدارس والمستشفيات .
- (٣) تطوير مشاريع البنية التحتية مثل الكهرباء والطرق والصرف الصحي .
- ٨- تختلف بيئات مصر كل منها عن الأخرى .
- حيث ان لكل بيئة منها خصائص مميزة وأسلوب معيشة خاص بها مستمد من مواردها .
- ٩- للبيئة الحضرية خصائص مميزة .
- حيث تتميز بـ : ١- التخطيط العمراني ٢- جودة البنية التحتية ٣- تنوع وسائل النقل

١٠- تؤثر البيئة بشكل كبير على نوعية الأنشطة التي يمارسها السكان .
حيث في المحافظات التي تطل على مسطحات مائية تنتشر حرفة صيد الأسماك مثل بورسعيد والمحافظات التي توجد بها تربة خصبة ومياه عذبة تنتشر بها النشاط الزراعي مثل المنوفية .

السؤال التاسع : ما العلاقة بين كل من ...؟

- ١- المحيط الهادى وقارة أمريكا الشمالية . يحد المحيط الهادى قارة أمريكا الشمالية من جهة الغرب .
- ٢- المدارين والمنطقة المعتدلة . توجد المنطقة المعتدلة بين المدارين والدائرتين القطبيتين .
- ٣- خط جرينتش وفروق التوقيتات الزمنية .
- يؤثر خط جرينتش في حساب فروق التوقيتات الزمنية بين الدول حيث يعد المرجع الاساسى للتوقيت .
- ٤- قارة آسيا والتراث الحضارى .
- نشأت على اراضى قارة اسيا حضارات عديدة مثل: حضارة الصين القديمة - والحضارة الهندية - حضارة العراق القديم .
- ٥- دائرة الاستواء والمنطقة الحارة . تنتشر المنطقة الحارة حول دائرة الاستواء .
- ٦- ساحل البحر الأحمر والنشاط السكانى للمحافظة .
- حيث ينتشر النشاط السكانى للمحافظة التي تطل على ساحل البحر الأحمر بحرفة صيد الأسماك .
- ٧- مساحة المحافظة والكثافة السكانية بها .
- حيث يتم حساب الكثافة السكانية للمحافظة من خلال قسمة عدد السكان على مساحة المحافظة .
- ٨- مصر والمكسيك . شهدت العلاقات بين مصر والمكسيك تعاونًا ثقافيًا وسياحيًا كبيرًا .
- ٩- موقع محافظة بورسعيد ومستقبلها .
- مستقبل محافظة بورسعيد في الاهتمام بنشاط الصيد وتعليب الأسماك، ودعم نشاط النقل البحري.

السؤال العاشر : قارن بين كل من :-

١- قارتى آسيا وإفريقيا من حيث الخصائص الجغرافية .

قارة افريقيا	قارة اسيا	مقارنة
- تتميز بشكلها الهضبي بسبب تعدد الهضاب فيها مثل هضبة إفريقيا الشمالية .	تشتهر بوجود :- أعلى هضاب العالم (هضبة التبت) أعلى قمة جبلية في العالم (قمة إفرست)	الخصائص الجغرافية

٢- قارة أوروبا وقارتى أمريكا الشمالية والجنوبية من حيث الحضارات التي نشأت فيهما .

أمريكا الشمالية والجنوبية	قارة اوروبا	مقارنة
قامت على اراضيها حضارات قديمة مثل: حضارة الأزتك ، حضارة المايا ، حضارة الإنكا	شهدت على اراضيها قيام حضارتي اليونان والرومان في العصور القديمة	الحضارات التي نشأت فيهما

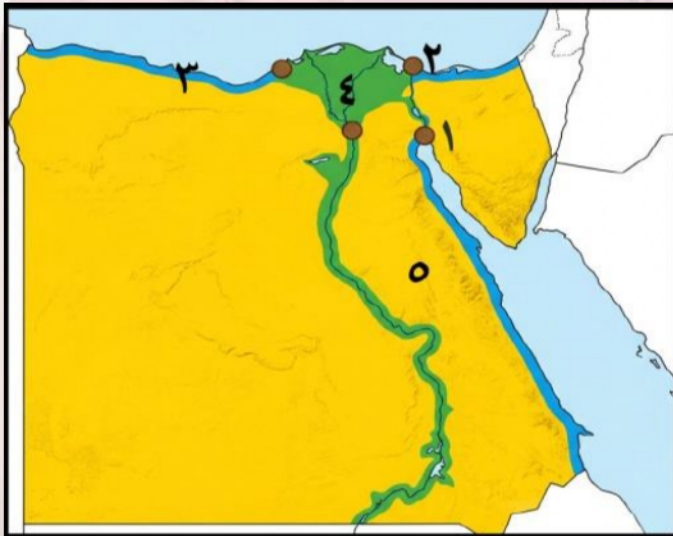
٣- البيئة الصحراوية والبيئة الساحلية من حيث موقع كل منهما .

مقارنة	البيئة الصحراوية	البيئة الساحلية
الموقع	- الصحراء الشرقية - الصحراء الغربية - شبه جزيرة سيناء - المنخفضات مثل القطارة وسيوة والفرافرة والبحرية والداخلة والخارجة .	مدن ساحلية على البحر الأحمر مثل الغردقة والسويس مدن ساحلية على البحر المتوسط مثل الإسكندرية ورفح

٤- البيئة الريفية والبيئة الحضرية من حيث خصائص كل منهما .

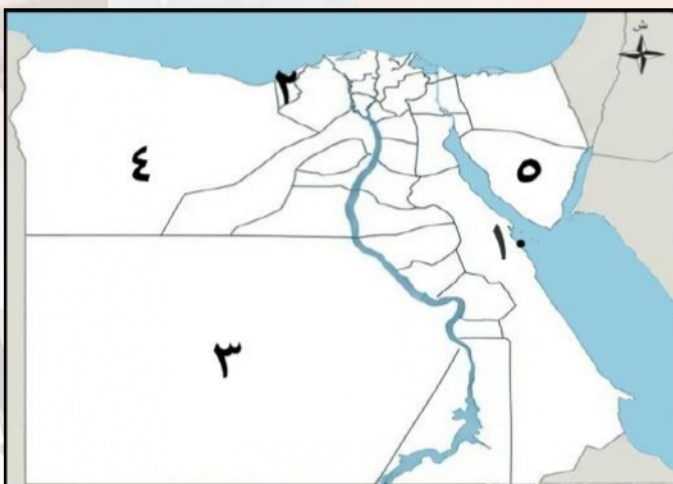
مقارنة	البيئة الريفية	البيئة الحضرية
الخصائص	- تتميز باستواء السطح وتوافر التربة الخصبة والمياه العذبة . - يتميز أهلها بالتعاون والتمسك بالعادات والتقاليد .	تتميز ب: ١- التخطيط العمراني (٢) جودة البنية التحتية (٣) تنوع وسائل النقل والمواصلات

السؤال الحادي عشر : امامك خريطة صماء لمصر اكتب مدلول الأرقام عليها :



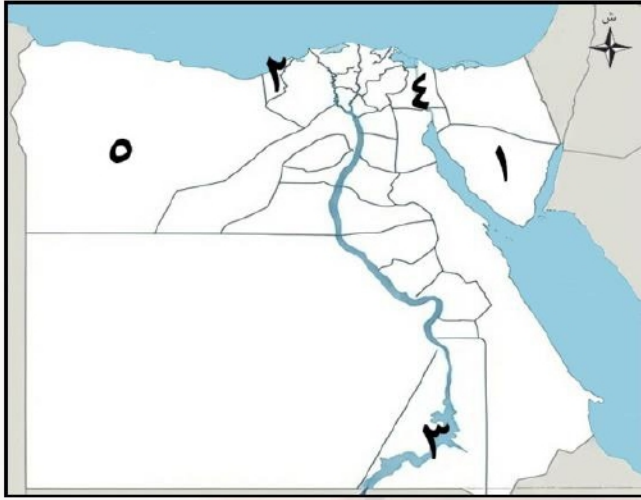
- ١- محافظة حضرية السويس .
- ٢- محافظة حضرية بورسعيد .
- ٣- البيئة الساحلية .
- ٤- البيئة الزراعية .
- ٥- البيئة الصحراوية .

السؤال الحادي عشر : امامك خريطة صماء لمصر اكتب مدلول الأرقام عليها :-



- ١- مدينة ساحلية الغردقة .
- ٢- مدينة ساحلية الاسكندرية .
- ٣- محافظة حدودية الوادي الجديد .
- ٤- محافظة حدودية مطروح .
- ٥- محافظة حدودية جنوب سيناء .

السؤال الحادي عشر : امامك خريطة صماء لمصر اكتب مدلول الأرقام عليها :-



١- اقل محافظات مصر سكاناً جنوب سيناء .

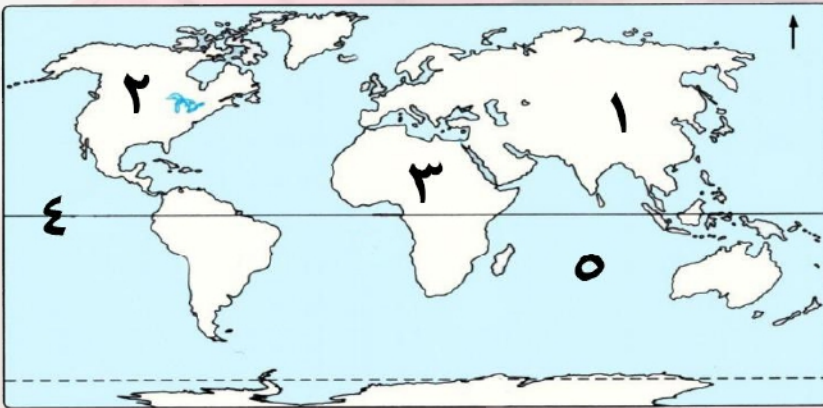
٢- محافظة ساحلية الإسكندرية .

٣- بحيرة ناصر .

٤- قناة السويس .

٥- محافظة حدودية مطروح .

السؤال الحادي عشر : امامك خريطة صماء للعالم اكتب مدلول الأرقام عليها :-



١- قارة اسيا .

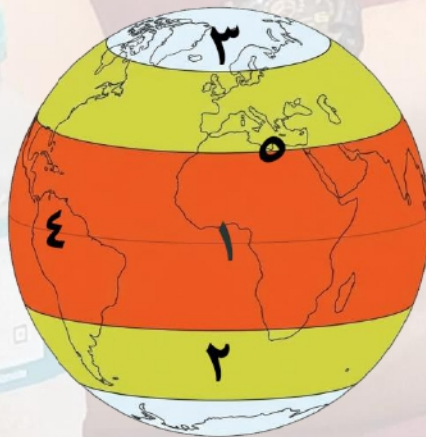
٢- قارة أمريكا الشمالية .

٣- قارة افريقيا .

٤- دائرة عرض الاستواء .

٥- المحيط الهندي .

السؤال الحادي عشر : امامك المناطق الحرارية اكتب مدلول الأرقام عليها :-



١- منطقة حرارية الحارة .

٢- منطقة حرارية المعتدلة .

٣- منطقة حرارية الباردة .

٤- دائرة عرض الاستواء .

٥- دائرة عرض مدار السرطان .

تطبيق



مذكرات جاهزة للطباعة

لتحميل الملفات التعليمية مجاناً للمعلم والطالب

مذكرات وملازم / مراجعات وملخصات / امتحانات / كتب الوزارة /
أدلة المعلم / دفاتر التحضير / سجلات مدرسية / أوراق تأسيس

امسح الكود بموبايلك علشان تقدر تثبت التطبيق

وتقدر ف أي وقت تحمّل ال نفسك فيه ببلاش

هيغنيك عن البحث والجروبات والقنوات الكثيرة

