

1



التحاطر

أحدث وأقوى سلسلة كتب تعليمية للمرحلتين الابتدائية والإعدادية

الرياضيات

نماذج تقييمات نهائية

الصف الأول الابتدائي


الفصل الدراسي الثاني



تقييم (١)



١ أولاً : ضَع دائرةً حَوْلَ الإجابةِ الصَّحيحةِ :



- أ التفاح (داخل - خارج) السلة .
ب الكمثرى (داخل - خارج) السلة .



- أ الطائرة (فوق - تحت) المنزل .
ب الولد (أمام - خلف) المنزل .

ثانياً : لَاحِظِ الصُّورةَ ثُمَّ اكْمِلْ بِكتابةِ الأعدادِ التَّرتيبيةِ :



رانيا

يوسف

سهام

محمد

 د سهام

 ج يوسف

 ب محمد

 أ رانيا

٢ أولاً : صلِّ كُلَّ شَكْلِ حَسَبِ الجُزءِ المُلونِ :



ربع



أربعة أرباع



نصف



ثلاثة أرباع

ثانياً : اكْمِلْ :



٣ أولاً : اجمع :

هـ	د	ج	ب	أ
$\begin{array}{r} 16 \\ 52 \\ \hline \end{array}$	$\begin{array}{r} 52 \\ 43 \\ \hline \end{array}$	$\begin{array}{r} 40 \\ 35 \\ \hline \end{array}$	$\begin{array}{r} 36 \\ 20 \\ \hline \end{array}$	$\begin{array}{r} 13 \\ 5 \\ \hline \end{array}$
$\begin{array}{r} \\ \\ \hline \end{array}$	$\begin{array}{r} \\ \\ \hline \end{array}$	$\begin{array}{r} \\ \\ \hline \end{array}$	$\begin{array}{r} \\ \\ \hline \end{array}$	$\begin{array}{r} \\ \\ \hline \end{array}$

ثانياً : اطرخ :

هـ	د	ج	ب	أ
$\begin{array}{r} 68 \\ 43 \\ \hline \end{array}$	$\begin{array}{r} 78 \\ 70 \\ \hline \end{array}$	$\begin{array}{r} 86 \\ 6 \\ \hline \end{array}$	$\begin{array}{r} 80 \\ 50 \\ \hline \end{array}$	$\begin{array}{r} 19 \\ 4 \\ \hline \end{array}$
$\begin{array}{r} \\ \\ \hline \end{array}$	$\begin{array}{r} \\ \\ \hline \end{array}$	$\begin{array}{r} \\ \\ \hline \end{array}$	$\begin{array}{r} \\ \\ \hline \end{array}$	$\begin{array}{r} \\ \\ \hline \end{array}$

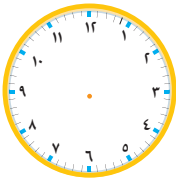
٤ أولاً : اشترت مارين ٨ قصص ، وأعطتها والدها مجموعة أخرى من القصص

فأصبح معها ١٤ قصة ، ما عدد القصص التي أخذتها من والدها ؟

عدد القصص التي أخذتها من والدها = - = قصص .

ثانياً : ارسم عقارب الساعة واكتب الوقت على الساعة الرقمية :

الثانية عشرة



: ..

السادسة



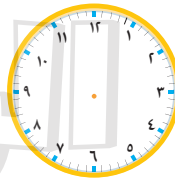
: ..

الثانية



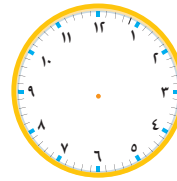
: ..

التاسعة



: ..

الخامسة



: ..


٥ أكمل النمط الآتي بكتابة الأعداد الناقصة :

<input type="text"/>	٦	<input type="text"/>	٦	<input type="text"/>	٦	<input type="text"/>	٦	٦١	٦٠	٥٩	أ
<input type="text"/>	٦	<input type="text"/>	٦	<input type="text"/>	٦	<input type="text"/>	٦	٥٨	٤٨	٣٨	ب
<input type="text"/>	٦	<input type="text"/>	٦	<input type="text"/>	٦	<input type="text"/>	٦	٨٠	٩٠	١٠٠	ج

نموذج (٢)



أولاً : لَاحِظْ ثُمَّ اكْمِلْ بِاسْتِخْدَامِ : دَاخِلَ ، خَلْفَ ، أَمَامَ :



الكلب المنزل .

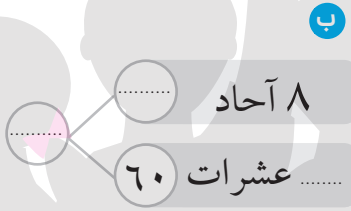


الكلب المنزل .



الكلب المنزل .

ثانياً : اكْمِلْ :



ثانياً : عَدِّ وَاكْتُبِ الْعَدَدَ ثُمَّ قَارِنْ بِاسْتِخْدَامِ (<) أَوْ (>) أَوْ (=) :

عشرات	آحاد
.....

عشرات	آحاد
.....


عشرات	آحاد
.....

عشرات	آحاد
.....

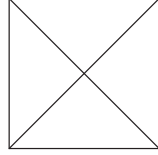
نموذج (٣)



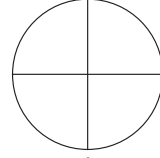
١ تَوْنٌ حَسَبِ الكَسْرِ المَطْلُوبِ :



ربع



نصف



ثلاثة أرباع

٢ اِجْمَعْ وَاطْرَحْ ، وَصِلِ النُّوَاتِجَ المُتساوِيَةَ :

$$\begin{array}{r} 69 \\ - 15 \\ \hline \end{array}$$

$$\begin{array}{r} 58 \\ - 46 \\ \hline \end{array}$$

$$\begin{array}{r} 35 \\ - 10 \\ \hline \end{array}$$

$$\begin{array}{r} 74 \\ - 40 \\ \hline \end{array}$$

$$5 + 20$$

$$20 + 12$$

$$8 + 4$$

$$41 + 13$$

$$\begin{array}{r} 7 \\ + 5 \\ \hline \end{array}$$

$$\begin{array}{r} 24 \\ + 30 \\ \hline \end{array}$$

$$\begin{array}{r} 48 \\ - 23 \\ \hline \end{array}$$

$$\begin{array}{r} 85 \\ - 53 \\ \hline \end{array}$$

٣ اَرَسِّمْ ○ عَلى الإِجابَةِ الصَّحِيحَةِ :

(٥٥ أ، ٤٨ أ، ٧٣ أ، ٦٠ أ)

(٥٤ أ، ٦٤ أ، ٦٦ أ، ٤٦ أ) . جنيهاً = جنيهاً

(١٨ أ، ٢٤ أ، ٣٠ أ، ٦٠ أ)

٥٤ أكبر من

٩٦ - ٣٢ جنيهاً = جنيهاً

اليوم = ساعة .

٤ أحسب المبالغ المتبقية بعد شراء كل من الأشياء الآتية :

المبلغ المتبقى جنيهاً .




١٠٠ جنيهاً



• مع مريم

المبلغ المتبقى جنيهاً .

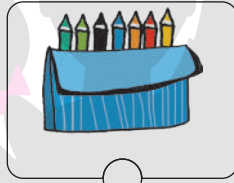


٣٠٠ جنيهاً



• مع رامت

المبلغ المتبقى جنيهاً .

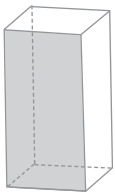


١٥٠ جنيهاً



• مع حسناء

٥ صل :



• مكعب •

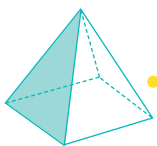


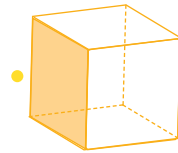
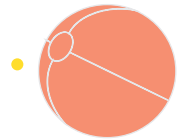
• هرم •

• متوازي مستطيلات •

• مخروط •

• أسطوانة •

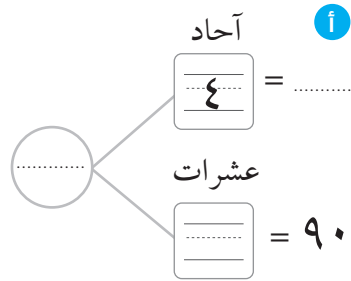
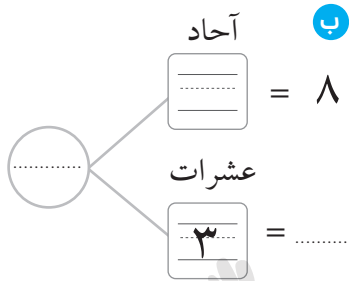
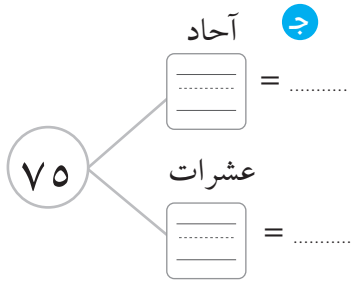
• كرة •



نموذج (٤)



أولاً : أكمل ما يأتي :



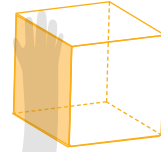
ثانياً : اكتب اسم كل مجسم من المجسمات الآتية :



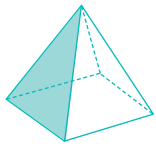
أسطوانة



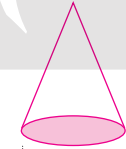
كرة



مكعب



هرم



مخروط



متوازي مستطيلات

أولاً : إطرخ :

عشرات	أحاد
٧	٠
٢	٠
.....

عشرات	أحاد
٩	٠
٦	٠
.....

عشرات	أحاد
٨	٠
٤	٠
.....

ثانياً : اجمع :

عشرات	أحاد
٤	٨
٣	٠
.....

عشرات	أحاد
٦	٣
٣	٦
.....

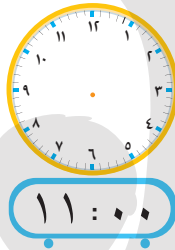
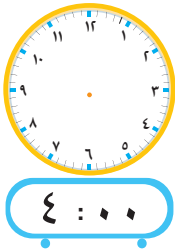
عشرات	أحاد
٣	٤
٤	٥
.....



٣ أولاً : أكمل ما يأتي :

٤٤	→	١٠+	→	>	٣٢	→	٥+	→	ب	←	١-	←	١٧	ا
٥٤	→		→		٤٢	→		→	←		←	٢٧	
٦٤	→		→		٥٢	→		→	←		←	٣٧	
٧٤	→		→		٦٢	→		→	←		←	٤٧	
٨٤	→		→		٧٢	→		→	←		←	٥٧	

ثانياً : ارسم عقارب كل ساعة لتعبّر عن الوقت المعطى :

٤ ضغ حول الإجابة الصحيحة :

- ١ الجزء الملون من الشكل يمثل (نصفين أو ربعاً أو أربعة أرباع أو ثلاثة أرباع)
- ب $94 - 54 = \dots$
- ج 75 جنيهاً 57 جنيهاً .
- د للمربع أضلاع متساوية .
- ا (\quad , \quad) (\quad , \quad) (\quad , \quad) (\quad , \quad)
- ب (\quad , \quad) (\quad , \quad) (\quad , \quad) (\quad , \quad)
- ج (\quad , \quad) (\quad , \quad) (\quad , \quad) (\quad , \quad)

٥ أولاً : أكمل بنفس النمط :

٦٨	٦	٦	٦	٦	٦	٥٨	٦	٥٦	٦	٥٤	ا
٣٠	٦	٦	٦	٦٠	٦	٧٠	٦	٦	٩٠	٦	ب
٤٥	٦	٦	٦	٦٠	٦	٦	٧٠	٦	٧٥	٦	ج

ثانياً : مع وفاء ٦٥ جنيهاً أعطت أختها ٢٥ جنيهاً ، كم جنيهاً تبقى مع وفاء ؟

ما تبقى مع وفاء = = - = جنيهاً .

نموذج (0)



أكتب المبلغ:



أولاً: عدّ واكتب العدد:

عشرات	آحاد
.....

..... = العدد

عشرات	آحاد
.....

..... = العدد

ثانياً: أكمل بكتابة الأعداد الآتية في المكان المناسب:

٦٧	٣٥	٥٣
.....	>	>

٩٦	٤٨	٨٤
.....	<	<

ثالثاً: أولاً: مع أمل ٧٨ جنيهاً، اشترت مأكولات بمبلغ ٥٦ جنيهاً، كم جنيهاً تبقى معها؟

ما تبقى معها = - = جنيهاً.

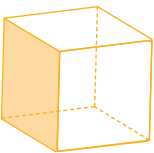
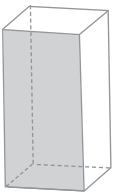
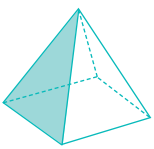
ثانيًا : أكمل ما يأتي :

ب

		١٠+		
		↑		
٣٥	-	٧٥	+	٩٥
		↓		
		٥٥		

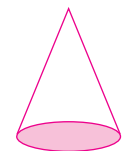
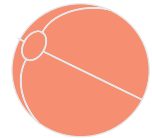
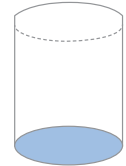
ا

		٣٠+		
		↑		
	-	٥٤	+	٢٠
		↓		
		٣٠-		



- متوازي مستطيلات •
- كرة •
- مخروط •
- هرم •
- أسطوانة •
- مكعب •

٤ صل:




٥ أجب عما يأتي :

.....

.....

.....

.....



ا كم ربعًا في المستطيل الكامل؟

ب كم نصفًا في الدائرة الكاملة؟

ج كم نصفًا في المربع الكامل؟

د كم ربعًا في المربع الكامل؟