

تدريبات الدراسات
الاجتماعية للصف
الرابع الابتدائي
الترم الثاني

تدريبات الدراسات
الاجتماعية للصف
الرابع الابتدائي
الترم الثاني

اللهم اجعل هذا العمل خالصا
لوجهك الكريم واكتب له القبول
والنفع يا كريم يا وهّاب

سلسلة السلطان في التاريخ والجغرافيا
أ / محمد عيد

01094015222

الوحدة الأولى: السكان ونظام الحكم في بلدنا

السؤال الأول: اختر الاجابة الصحيحة من بين الأقواس :

- ١- تقوم بعمل تعداد كل ١٠ سنوات
(الأردن - مصر - السودان - السعودية)
- ٢- أي المحافظات الآتية تعد أقل سكاناً
(القاهرة - الجيزة - جنوب سيناء - الإسكندرية)
- ٣- من المدن التي يزيد سكانها عن ٨ مليون نسمة
(القاهرة - شمال سيناء - مطروح - الوادي الجديد)
- ٤- ينقسم سكان مصر إلى أنماط
(ثلاث- خمس- أربع- اثنان)
- ٥- أغلب سكان مصر من سكان
(الريف - البدو - الحضر- الحدود)
- ٦- يعمل سكان الريف في مصر بحرفة
(الزراعة - التجارة - التعدين- الصناعة)
- ٧- أكبر محافظات مصر من حيث عدد السكان
(أسوان - مطروح - الإسكندرية- القاهرة)
- ٨- يعيش سكان البدو في مصر في
(الريف- الصحاري- المدن- السواحل)
- ٩- يعمل سكان الحضر بحرفة
(الزراعة- الرعي- الصناعة- التعدين)
- ١٠- تنخفض نسبة الأمية في مصر بين سكان
(الحضر - الريف - البدو - الصعيد)

- ١١- تظهر تغيرات لعدد سكان مصر من خلال الساعة
- (القومية - البولوجية - الكونية - السكانية)
- ١٢- من المحافظات الحضرية في مصر محافظة
- (الشرقية - الغربية - النوفية - بورسعيد)
- ١٣- يمارس سكان الصحراء حرفة وهي الحرفة الأساسية
- (الرعي - الزراعة - الصناعة - التجارة)
- ١٤- عاصمة مصر مدينة
- (القاهرة - المنيا - الجيزة - الإسكندرية)
- ١٥- واحدة يحتفلون بعيد حصاد التمور والزيتون في منتصف شهر أكتوبر
- (سيوة- الداخلة- الفرافرة - الخارجة)
- ١٦- انشأت منظمة اليونيسكو متحف في أسوان عام ١٩٩٧م
- (الشمع - المصري- القاهرة - النوبة)
- ١٧- يشتهر سكان مدن بالأغاني المرتبطة بآلة السمسمية ويؤدون
- رقصة البمبوتية (القناة - الحدود - الريف - الصحاري)
- ١٨- تم إنشاء متحف السيرة الهلالية في محافظة عام ٢٠١٥م .
- (القاهرة - قنا - أسوان - الإسكندرية)
- ١٩- ينفرد أهل النوبية باللغة
- (الصينية - الهيروغليفية - الديموطيقية - النوبية)
- ٢٠- يشتهر صعيد مصر بانتشار فن
- (الأغاني الشعبية - البمبوتية - التحطيب - جميع ماسبق)
- ٢١- كان لأهل النوبة دور مهم في انتصار مصر في حرب
- (يونيو ١٩٦٧م - ١٩٤٨م - ١٩٥٦م - أكتوبر ١٩٧٣م)

٢٢- تعد مشكلة الأمية الهجائية مشكلة.....

(محلية- ساحلية - عالمية - قارية)

٢٣- ترتفع نسبة الأمية بين.....

(الشباب - الذكور - الإناث - العمال)

٢٤- الغير قادرين علي العمل ولا يعملون يطلق عليهم.....

(البطالة- الأمية - المهاجرين - المدمنين)

٢٥- من أسباب انتشار الأمية في مصر.....

(زيادة عدد السكان - عدم التحاق جميع الأطفال بالمدارس - التسرب من التعليم -

جميع ما سبق)

٢٦- أي من المحافظات الآتية تقل فيها نسبة الأمية.....

(المنيا- البحر الاحمر - بني سويف- المنوفية)

٢٧- أعلى محافظات مصر من حيث معدل الأمية محافظة.....

(القاهرة - المنيا- بورسعيد- الجيزة)

٢٨- تزداد نسبة الأمية في مصر في المحافظات.....

(الريفية - الحضرية - الساحلية - العمرانية)

٢٩- يمثل رئيس الجمهورية السلطة.....

(التنفيذية - القضائية - التشريعية - المحلية)

٣٠- رئيس جمهورية مصر العربية الحالي هو الرئيس.....

(حسني مبارك- محمد انور السادات- عبدالفتاح السيسي - عدلي منصور)

٣١- يمثل المحافظ في محافظته السلطة.....

(القضائية - التنفيذية - التشريعية- القضائية)

٣٢- المحافظة التي تعيش فيها هي محافظة.....

(القاهرة - الجيزة - الفيوم - المنيا)

- ٣٣- يتم تعيين رئيس مجلس الوزراء
- (مجلس الشعب- رئيس الهيئة القضائية- رئيس الجمهورية- رئيس مجلس الشوري)
- ٣٤- يتم انتخاب رئيس الجمهورية عن طريق.....
- (الوراثة - القرابة - الانتخاب - التزكية)
- ٣٥- يقابل المحافظ قديما منصب فرعوني هو
- (حاكم أقليم- كاتب - وزير - والي)
- ٣٦- يشرف علي أمور التعليم في الدولة وزير.....
- (الصحة - الزراعة - الصناعة - التعليم)
- ٣٧- المسئول عن المرضي وتوفير الادوية اللازمة وزير.....
- (الصحة - التعليم - النقل والمواصلات- الزراعة)
- ٣٨- عاصمة جمهورية مصر العربية مدينة
- (القاهرة - الجيزة - الأسكندرية - بور سعيد)
- ٣٩- يمثل مجلس الشعب في الدولة السلطة.....
- (القضائية - التنفيذية - المحلية - التشريعية)
- ٤٠- نظام الحكم في بلدي
- (ملكي - رئاسي- وراثي - شبه ملكي)

السؤال الثاني : ضع كلمة (صح) أمام العبارة الصحيحة
وكلمة (خطأ) أمام العبارة الخطأ

- ١- تقوم مصر بالتعداد السكاني كل خمس سنوات . ()
- ٢- محافظات شمال سيناء أكثر محافظات مصر سكانا . ()
- ٣- محافظة القاهرة أكثر محافظات مصر من حيث عدد السكان . ()
- ٤- تستخدم الساعة السكانية في معرفة أعداد السكان . ()

- ٥- الحرفة الغالبة لسكان الريف هي حرفة الصناعة ()
 ٦- يعيش سكان الحضر في المدن ويعملون بحرفة الرعي ()
 ٧- أكثر سكان مصر يمثلهم سكان الريف . ()
 ٨- يعيش البدو في المناطق الصحراوية ويعملون بحرفة الرعي ()
 ٩- يفيد التعداد السكاني في التعرف علي احتياجات السكان . ()
 ١٠- يمارس سكان مدن القناة الكثير من الاغاني الشعبية والعزف على آلة السمسمية . ()

- ()
 ١١- تم إنشاء متحف السيرة الهلالية في صعيد مصر عام ٢٠١٥ م ()
 ١٢- يمارس الشباب في صعيد مصر ألعاب منها التحطيب . ()
 ١٣- قامت منظمة اليونيسكو بإنشاء متحف النوبية في محافظة أسوان . ()
 ١٤- يحتفل سكان واحة سيوة بعيد حصاد التمر في منتصف شهر أكتوبر ()
 ١٥- تنتشر نسبة الأمية بين سكان المدن أكثر من سكان الريف . ()
 ١٦- مشكلة الأمية الهجائية هي مشكلة محلية. ()
 ١٧- الأشخاص الذين لايعملون يطلق عليهم اسم البطالة. ()
 ١٨- أكثر محافظات مصر من حيث نسبة لامية هي محافظة البحر الاحمر. ()
 ١٩- كان لأهل النوبة دور مهم في انتصار مصر في حرب السادس من أكتوبر عام ١٩٧٣ م . ()
 ٢٠- يتحدث سكان النوبة اللغة النوبية. ()
 ٢١- من أسباب انتشار الأمية في مصر زيادة نسبة المتسربين من التعليم. ()
 ٢٢- من اهم المحافظات الحضرية في مصر محافظة القاهرة وبورسعيد ()
 ٢٣- محافظة جنوب سيناء من أقل محافظات مصر سكانا. ()
 ٢٤- محافظة القاهرة عاصمة مصر يقل السكان فيها عن ٨ مليون نسمة. ()
 ٢٥- من المحافظات التي تزيد عن مليون نسمة الجيزة والأسكندرية. ()
 ٢٦- يحتفل سكان النوبة بالعيد القومي يوم ٧ يوليو من كل عام . ()
 ٢٧- يرتفع مستوي المعيشة لسكان المدن عن الريف. ()
 ٢٨- تنشأ الأحياء العشوائية بسبب الهجرة من الريف الي المدن ()
 ٢٩- محافظة الوادي الجديد من المحافظات التي تزداد فيها نسبة الأمية. ()
 ٣٠- لم تهتم الدولة بالقضاء علي الأمية في السنوات الاخيرة. ()
 ٣١- محافظة جنوب سيناء من المحافظات التي يزيد فيها عدد السكان عن مليون نسمة. ()
 ()

- ٣٢- من العادات الإيجابية المنتشرة في الريف المصري الزواج المبكر. ()
- ٣٣- اهتمت منظمة اليونيسكو العالمية بالتراث المصري . ()
- ٣٤- يمثل مجلس الشعب السلطة القضائية في الدولة . ()
- ٣٥- يحكم المحافظة المحافظ الذي يتم تعيينه عن طريق رئيس الوزراء ()
- ٣٦- نظام الحكم في مصر هو النظام الملكي الوراثي . ()
- ٣٧- يتم انتخاب رئيس الجمهورية عن طريق الشعب . ()
- ٣٨- يتم تعيين رئيس مجلس الوزراء عن طريق رئيس الجمهورية . ()
- ٣٩- كانت مصر قديما مقسمة الي ٤٢ إقليم . ()
- ٤٠- عدد محافظات مصر حاليا يبلغ ٢٧ محافظة . ()
- ٤١- يقوم المحافظ بتنفيذ الكثير من المشروعات في محافظته . ()
- ٤٢- وزير التربية والتعليم هو المسئول عن الرعاية الصحية للمواطنين . ()
- ٤٣- من اختصاصات رئيس الجمهورية رعاية مصالح الشعب وقيادة الدولة سياسيا وعسكريا . ()
- ٤٤- رئيس مجلس الوزراء يمثل السلطة التنفيذية في الدولة . ()
- ٤٥- يتم تعيين اعضاء مجلس الشعب عن طريق الانتخابات البرلمانية . ()
- ٤٦- تمثل المحاكم السلطة القضائية في مصر . ()
- ٤٧- يوجد تشابه بين منصب حاكم الأقليم قديما والمحافظ حاليا . ()
- ٤٨- للمرأة دور مهم في المجالس المحلية والنيابية . ()
- ٤٩- يتم تعيين أعضاء مجلس الشعب بطريق مباشرة عن طريق رئيس الجمهورية . ()
- ٥٠- يعد البنك المركزي هو المسئول عن إجراء التعداد السكاني ()
- ٥١- يختلف توزيع سكان مصر من محافظة إلى أخرى . ()

السؤال الثالث : أعط مفهوما لكل من العبارات الآتية:

- ١- عملية عد شامل للسكان كل عشر سنوات
- ٢- الساعة التي تقدم تقديرات عن عدد سكان مصر
- ٣- عدم معرفة الشخص للقراءة والكتابة
- ٤- واحة مصرية تحتفل بعيد جكع التمور منتصف أكتوبر

- ٥- منظمة عالمية قامت بإنشاء متحف النوبة في مدينة أسوان
- ٦- مناطق تنشأ بسبب الهجرة من الريف إلى المدن
- ٧- هم الأشخاص في سن العمل والذين لا يعملون
- ٩- رقصة شعبية يمارسها سكان مدن القناة في مصر
- ١٠- لعبة شعبية يمارسها الشباب في صعيد مصر
- ١١- متحف تم إنشائه في مدينة قنا عام ٢٠١٥ م
- ١٢- عدم قدرة الفرد علي تشغيل الاجهزة التكنولوجية والتواصل من خلالها أو الوصول إلى معلومات الأمية
- ١٣- إنشاد يقام على لسان الراوي وهو يعزف على الربابة
- ١٤- الدخل الذي تحققه الأنشطة الاقتصادية في عام واحد
- ١٥- هو المسئول عن السلطة التنفيذية في الدولة وإصدار القرارات
- ١٦- السلطة التي من اختصاصها إصدار القوانين والتشريعات
- ١٧- السلطة التي من اختصاصها رئاسة المحاكم وإصدار الاحكام
- ١٨- منصب يتولي ادارة شئون المحافظة يعين من قبل رئيس الدولة
- ١٩- هو نظام الحكم السائد في جمهورية مصر العربية
- ٢٠- منصب يتم تعيينه من خلال رئيس الجمهورية ويرأس الوزراء
- ٢١- جهاز تابع للمحافظة يضم مجموعة من الاعضاء المثليين للمحافظة
- ٢٢- عاصمة جمهورية مصر العربية التي يتركز فيها شئون الحكم
- ٢٣- الذي يختص بأمور التعليم في الدولة

السؤال الرابع:- بم تفسر

١- تركز السكان في المدن عن الريف

٢- القاهرة أكثر محافظات مصر سكانا

٣- ظهور الأحياء العشوائية

٤- أهمية منظمة اليونسكو العالمية بالنسبة لمصر

٥- تنتشر نسبة الأمية في الريف عن المدن

٦- اهتمام الدولة ببناء المدارس

٧- تقوم الدولة بجهود التوعية للشباب بأهمية تنظيم الأسرة وتقليل الانجاب

٨- تنخفض نسبة الأمية بين سكان الحضر

٩- تقوم الدولة بتوفير فرص عمل وبناء مساكن للبدو

١٠- أهمية الجهاز المركزي للتعبئة العامة والإحصاء

١١- كان لأهل النوبة دور عسكري مهم.

١٢- أهمية التعداد السكاني والساعة السكانية.

١٣- يعاني سكان الريف من انخفاض مستوى المعيشة وانخفاض الدخل.

١٤- محافظة جنوب سيناء من أقل محافظات مصر سكانا

١٥- يتركز السكان في الريف المصري

١٦- أهمية منصب رئيس الجمهورية

١٧- أهمية مجلس الشعب (النواب) في الدولة

١٨- أهمية السلطة القضائية في الدولة (المحاكم)

١٩- أهمية منصب رئيس الوزراء

٢٠- أهمية مدينة القاهرة بالنسبة لمصر

٢١- ضرورة إجراء انتخابات في اختيار الرئيس وأعضاء مجلس الشعب.

السؤال الخامس : ما النتائج المترتبة على

١- صعوبة مظاهر السطح وقلة موارد المياه في محافظة جنوب سيناء .

٢- الهجرة المستمرة من الريف الي المدن .

٣- زيادة نسبة المتسربين من التلاميذ من التعليم .

٤- توافر فرص العمل وارتفاع الدخل في القاهرة .

٥- انتشار المؤسسات التعليمية في الحضر .

٦- اهتمام الدولة ببناء المدارس .

٧- تنوع سكان مصر في البيئات المختلفة .

٨- إنشاء منظمة اليونيسكو بالنسبة لمصر .

٩- ضعف المستوي الاقتصادي بالأسرة .

١٠- ارتفاع معدل الأمية في محافظة المنيا .

١١- عدم حصول الفرد على فرص العمل في الدولة .

١٢- مبادرة مشروع حياة كريمة .

١٣- اجراء انتخابات رئاسية وبرلمانية .

١٤- تولي المحاكم إصدار الاحكام طبقا للقوانين .

السؤال السادس : صوب ما تحته خط في العبارات الآتية

- ١- من المحافظات التي يزيد سكانها عن ٨ مليون نسمة الجيزة . ()
- ٢- يعمل معظم سكان الصحراء بحرفة التعدين . ()
- ٣- أكثر محافظات مصر طردا للسكان محافظة القاهرة . ()
- ٤- يعمل معظم سكان الريف بحرفة الصناعة . ()
- ٥- أغلب سكان مصر يعيشون في الريف . ()
- ٦- تنتشر الأمية في مصر في الحضر . ()
- ٧- ينقسم السكان في مصر إلى أربعة أنماط . ()
- ٨- أعلى محافظات مصر في معدل الأمية محافظة الوادي الجديد ()
- ٩- من أسباب انتشار الأمية في مصر عدم وجود فرص عمل للشباب ()
- ١٠- أول دولة عربية عرفت التعداد السكاني كل ١٠ سنوات السعودية . ()
- ١١- الساعة الإلكترونية تساعد في التعرف علي اعداد السكان . ()
- ١٢- رئيس الوزراء يتولى السلطة التشريعية في الدولة . ()
- ١٣- تم إنشاء متحف السيرة الهلالية في محافظة أسوان . ()
- ١٤- تمارس لعبة التحطيب في مصر في الوجه البحري . ()
- ١٥- من المحافظات الحضرية في مصر محافظة الغربية . ()
- ١٦- من المحافظات التي ينخفض بها معدل الأمية شمال سيناء . ()
- ١٧- يقابل منصب المحافظ في العصر الفرعوني منصب الوزير . ()
- ١٨- تنقسم جمهورية مصر العربية الي ٢٤ محافظة . ()
- ١٩- قامت منظمة اليونسيف بإنشاء متحف النوبة في أسوان . ()

- ٢٠- يمثل مجلس النواب السلطة القضائية في الدولة . ()
- ٢١- يتم تعيين رئيس الوزراء عن طريق مجلس النواب . ()
- ٢٢- يتولى رئيس الجمهورية السلطة التشريعية في الدولة . ()
- ٢٣- عاصمة جمهورية مصر العربية هي الأسكندرية . ()
- ٢٤- المحافظة التي نعيش على أرضها تقع في الوجه البحري ()



الوحدة الثانية: الأماكن السياحية والأثرية في بلدنا

السؤال الأول: اختر الاجابة الصحيحة من بين الأقواس :

- ١- تحتفل منظمة اليونسكو باليوم العالمي يو ١٨ من كل عام
(يناير - فبراير - مارس - ابريل)
- ٢- من أهم اختصاص منظمة اليونسكو الحفاظ علي التراث
(الحضاري - الثقافي- الأثري- كل ماسبق)
- ٣- تقع محمية رأس محمد في
(شمال سيناء- جنوب سيناء - الصحراء الشرقية - الصحراء الغربية)
- ٤- من أهم المحميات التي تقع في الصحراء الغربية في الوادي الجديد.....
(الصحراء البيضاء - وادي الريان - وادي الحيطان - رأس محمد)
- ٥- تقع محمية وادي الريان في محافظة.....
(الفيوم - الجيزة - أسوان - القاهرة)
- ٦- من أهم المناطق الاثرية في محافظة الجيزة تمثل ابو الهول و
(معبد أبوسمبل - معبد الكرنك - الأهرامات- معبد ادفو)
- ٧- تم اختيار مدينة..... من خلال منظمة اليونسكو مدينة للتراث العالمي
(الغردقة - الأسكندرية - شرم الشيخ- الجيزة)
- ٨- من أهم الآثار في مدينة الاقصر معبد.....
(الكرنك - فيلة - دير المدينة - دندرة)
- ٧- يقع حصن بابلون وهو من الآثار..... في مدينة القاهرة
(الرومانية - اليونانية - الفارسية - الإسلامية)
- ٨- من أقدم الجوامع في مصر الذي يقع في مدينة القاهرة
(عمرو بن العاص- محمد علي - السلطان حسن - الحسيني)
- ٩- زيارة المتاحف يعتبر نوعا من السياحة
(العلاجية - الترفيهية - الثقافية - الدينية)
- ١٠- من أهم مناطق السياحة العلاجية في مصر
(جنوب سيناء - شمال سيناء - المنيا- الأسكندرية)
- ١١- زيارة مدينة شرم الشيخ والغردقة من السياحة
(الثقافية - الدينية - الترفيهية - العلاجية)

- ١٢- من أنواع السياحة في مصر
- (دينية - ثقافية - ترفيهية - جميع ماسبق)
- ١٣- يقع معبد الكرنك في محافظة
- (القاهرة - أسوان - الجيزة - الاقصر)
- ١٤- من أهم آثار محافظة جنوب سيناء قلعة
- (قايتباي - صلاح الدين - سمنا - قمنا)
- ١٥- من أنواع السياحة الدينية في مصر زيارة
- (دير سانت كاترين - معبد حتشبسوت - معبد الكرنك - معبد أبوسمبل)
- ١٦- من أهم الفوائد التي تعود علي الدولة من النشاط السياحي
- (زيادة الدخل - توفير فرص العمل - بناء المشروعات - كل ماسبق)
- ١٧- من أهم آثار مدينة الإسكندرية المسرح
- (اليوناني الروماني - الشمع - الفرعوني - المصري)
- ١٨- تقع منطقة أبومينا الأثرية في محافظة
- (الأسكندرية - الجيزة - أسوان - الاقصر)
- ١٩- من الآثار التي تم وضعها في قائمة التراث العالمي لليونسكو معبد فيلة و
- (معبد أبوسمبل - معبد الدير البحري - معبد الكرنك - أهرامات الجيزة)
- ٢٠- من أهم المعالم الاثرية في محافظة القاهرة
- (جزيرة فيلة - معبد ابوسمبل - الأهرامات - برج الجزيرة)
- ٢١- تقع محمية وادي الحيتان في محافظة
- (الفيوم - أسوان - القاهرة - الاقصر)
- ٢٢- من أهم المحميات الطبيعية في محافظة القاهرة الغابة المتحجرة شرق حي
- (المعادي - البساتين - الدقي - القليوبية)
- ٢٣- تعتبر محمية وادي الريان في الفيوم من التراث
- (الجيولوجي - الثقافي - الطبيعي - الديني)
- ٢٤- من أنواع السياحة الجديدة المستحدثة
- (المستدامة - الثقافية - التاريخية - العلاجية)
- ٢٥- تم افتتاح طريق الكباش الجديد عام ٢٠٢١م في عهد الرئيس عبدالفتاح السيسي في محافظة
- (أسوان - الجيزة - الاقصر - جنوب سيناء)

- ٢٦- من أهم الآثار الإسلامية في محافظة القاهرة
- (جامع عمرو بن العاص- جامع أحمد بن طولون- الجامع الأزهر - كل ماسبق)
- ٢٧- تقع محمية بين خليجي العقبة والسويس
- (رأس محمد - وادي الحيتان- الغابة المتحجرة - وادي الريان)
- ٢٨- تم حفر ثمثال ابو الهول في عهد الملك
- (خفرع - خوفو - أحمس - منكاورع)
- ٢٩- من أهم مناطق السياحة العلاجية في مصر.....
- (واحة سيوة - جنوب سيناء - البحر الاحمر - جميع ماسبق)
- ٣٠- من المناظر الطبيعية الخلابة الشعاب المرجانية في ساحل
- (البحر الاحمر - الدلتا - البحر المتوسط - خليج السويس)
- ٣١- يجب عدم استخدام..... الكاميرا عند التصوير لأنه يؤثر سلب أعلى بعض القطع الأثرية
- (فلاش- ضوء- صور - كل ماسبق)
- ٣٢- تسعى الدولة لتحويل منطقة إلى متحف مفتوح
- (سور مجري العيون - الغورية - الأهرام - معبد الكرنك)
- ٣٤- يعتبر ترميم مسجد أحمد بن طولون احد مشروعات تطوير منطقة.....
- (القاهرة التاريخية - الجيزة - الأقصر - أسوان)
- ٣٥- قامت الدولة بإصدار..... لمعاقبة تجار الآثار
- (الشكاوي- الغرامات - القوانين - القرارات)

السؤال الثاني: ضع علامة (صح) أو علامة (خطأ) أمام كل عبارة :

- ١- من أهم المحميات التي تعتبر تراث طبيعي محمية رأس محمد ()
- ٢- تحتفل منظمة اليونسيف باليوم العالمي في ١٨ ابريل من كل عام . ()
- ٣- من أهم اثار محافظة الجيزة معبد الكرنك وابوسمبل . ()
- ٤- من أهم أنواع السياحة الثقافية في مصر زيارة مناطق واحة سيوة وجنوب سيناء . ()
- ٥- يتميز مصر بالاعتدال مما جعلها من أفضل بلاد العالم سياحيا . ()
- ٦- من المناطق التي تم وضعها في قائمة التراث العالمي معبد الكرنك وابوسمبل . ()
- ٧- الهدف من إنشاء منظمة اليونسكو حماية التراث العالمي ()
- ٨- تقع محمية وادي الحيتان والريان في محافظة أسوان ()

- ٩- أشرف علي بناء برج القاهرة الشهير المهندس نعم شبيب. ()
- ١٠- من أهم المناطق التي تقوم الدولة بإعادة إحيائها جامع أحمد بن طولون وسور مجري العيون في محافظة القاهرة. ()
- ١١- ابتكرت الدولة نوع جديد من السياحة هو السياحة المستدامة ()
- ١٢- واجبنا محو الآثار والمناطق السياحية حمايتها والمحافظة عليها. ()
- ١٣- من أهم المؤتمرات التي تنظمها مصر معرض القاهرة الدولي للكتاب ()
- ١٤- زيارة مدينة شرم الشيخ والغردقة نوع من السياحة الترفيهية. ()
- ١٥- من أهم الآثار المسيحية في مصر دير سانت كاترين جنوب سيناء. ()
- ١٦- من أهم الآثار الفرعونية في مصر معبد ابوسمبل في محافظة أسوان ()
- ١٧- من أهم الآثار اليونانية الرومانية المسرح اليوناني الروماني. ()
- ١٨- توفر الساحة لمصر فرص عمل وتزيد من الدخل القومي ()
- ١٩- زيارة المتاحف يعد نوعا من السياحة العلاجية. ()
- ٢٠- من أهم الآثار المسيحية في محافظة القاهرة الكنيسة المعلقة ()
- ٢١- من أهم المشروعات التي تقوم الدولة بتطويرها شارع المعز وقصر محمد علي ()
- ٢٢- تقع مدينة الفسطاط في مصر القديمة ()
- ٢٣- من أهم آثار محافظة الجيزة الأهرامات الثلاثة ()
- ٢٤- يوجد في الأسكندرية الكثير من الآثار اليونانية الرومانية. ()
- ٢٥- تقع محمية الصحراء البيضاء في الصحراء الشرقية ()
- ٢٦- تم افتتاح طريق الكباش الجديد في مدينة الأقصر عام ٢٠٢١ م. ()
- ٢٧- من أهم مناطق السياحة الدينية في مصر جنوب سيناء ()
- ٢٨- يأتي السياح إلى مصر طوال أيام السنة ()
- ٢٩- يقع جامع أحمد بن طولون في مدينة الجيزة ()
- ٣٠- قامت منظمة اليونسكو بإعادة إحياء آثار النوبة وابوسمبل. ()
- ٣١- السياحة من الأنشطة الاقتصادية الهامة بالنسبة لمصر ()
- ٣٢- تعتبر الواحات في الصحراء العربية وخاصة واحة سيوة مناطق للجذب السياحي ()
- ٣٣- تقام في الصحاري المصرية سياحة السفاري ()
- ٣٤- ليس للدولة دور في حماية المنشآت السياحية ()

- ٣٥ - التقاط الصور وأنت ملاصق للقطع الأثرية من السلوكيات الصحيحة. ()
- ٣٦ - تعد مدينة القاهرة التاريخية من أبرز المدن التراثية علي مستوى العالم. ()
- ٣٧ - تساعد الدولة في تنظيم عملية البحث والتقيب عن الآثار. ()
- ٣٨ - تطوير طريق الكباش يعد دليلا علي جهود الدولة في الاهتمام بالمواقع الأثرية. ()
- ٣٩ - من الجيد كتابة اسمك علي جدار معبد الكرنك ()
- ٤٠ - يمكن لأي فرد أن يشارك في عملية ترميم الآثار ()

السؤال الثالث:- بم تفسر

١ - منطقة الفيوم منطقة جذب سياحي

٢ - أهمية السياحة بالنسبة لمصر

٣ - مدينة القاهرة مدينة جذب سياحي

٤ - يوم من كل ١٨ أبريل اليوم العالمي لليونيسكو

٥ - بناء قلعة صلاح الدين في مدينة طابا جنوب سيناء

٦ - تسمية الكنيسة المعلقة بهذا الاسم

٧ - إنشاء الرومان لحصن بابلينون ؟

٨- مدينة شرم الشيخ من أهم مدن الجذب السياحي في مصر

٩- الأهمية السياحية لمحافظة الجيزة؟

١٠- بناء الملك خفرع لتمثال أبو الهول

١١- بناء المصريين القدماء للأهرامات؟

١٢- أهمية منطقة ابي مينا في محافظة الإسكندرية؟

١٣- توافد السياح الي مصر طوال العام من كل دول العالم ؟

١٤- لمدينة الإسكندرية أهمية سياحية وأثرية.

١٥- أهمية شبه جزيرة سيناء دينيا ؟

١٦- تتميز مصر بوجود السياحة العلاجية؟

١٧- أهمية الصحاري المصرية سياحيا ؟

١٨- إنشاء الدولة للمحميات الطبيعية

١٩- أهمية منظمة اليونيسكو بالنسبة لمصر؟

٢٠- ظهور السياحة المستدامة حيثًا؟

٢١- ضرورة احترام السياح وحسن معاملتهم؟

٢٢- اهتمام الدولة بتطوير المشروعات السياحية؟

٢٣- أهمية منطقة البحر المتوسط سياحيا؟

٢٤- تتميز مصر بوجود السياحة الثقافية؟

٢٥- قيام الدولة بتطوير منطقة الأهرامات؟

٢٦- أهمية الحفاظ علي الأماكن الاثرية خلال زيارتك؟

٢٧- حرص الدولة علي تطوير مدينة القاهرة التاريخية؟

٢٨- إصدار الدولة بعض القوانين الخاصة بحماية الآثار ؟

السؤال الرابع : أعط مفهومًا لكل من العبارات الآتية:

- ١- يشمل المواقع الطبيعية الجميلة ذات القيمة العالية التي لم يتدخل الإنسان في صنعها أو أثر فيها
- ٢- مناطق تم انشاؤها للحفاظ على الحيوانات النادرة من الانقراض والحفاظ على الارث الطبيعي من حفريات جيولوجية ونبات طبيعي وغيرها
- ٣- محمية طبيعية تم انشائها في حي المعادي شرق القاهرة
- ٤- قلعة تم بنائها في مدينة طابا جنوب سيناء
- ٥- منظمة تحتفل باليوم العالمي لها يوم ٨ ابريل من كل عام
- ٦- محمية طبيعية تقع في مدينة الفيوم تشتهر بالمناظر الطبيعية مثل البحيرات والشلالات
- ٧- سياحة تعتمد على زيارة الأماكن التاريخية مثل المتاحف والمعبد
- ٨- سياحة تقوم في الصحراء وتعتمد على زيارة المحميات الطبيعية
- ٩- سياحة تهدف لزيارة المناطق التي يوجد بها مياه كبريتية ورمال ساخنة
- ١٠- سياحة تهدف إلى زيارة المناطق المقدسة الإسلامية والمسيحية مثل المساجد والكنائس والاديرة المتنوعة
- ١١- مدينة مصرية تشتهر بالمناظر الطبيعية الخلابة وتم وضعها ضمن قائمة التراث العالمي لمنظمة اليونيسكو العالمية
- ١٢- الحفاظ على البيئة والموارد الطبيعية وترشيد استهلاك الطاقة والمياه في المنشآت السياحية والتعامل الآمن مع المخلفات والاعتماد على الطاقة النظيفة
- ١٣- خاصية دينية اعتقد فيها المصريين القدماء بالحياة بعد الموت
- ١٤- طريق يقع في مدينة الاقصر تم اعادة افتتاحه عام ٢٠٢١ م
- ١٥- معبد يقع في جنوب مصر في مدينة أسوان قامت منظمة اليونيسكو العالمية باتقاذه من الغرق وإعادة احيائه
- ١٦- حصن قديم تم إنشائه في عصر الرومان يقع الان في مصر القديمة
- ١٧- سياحة تهدف لحضور المؤتمرات والمهرجانات

- ١٨- مدينة مصرية تتميز بوجود الأهرامات وتمثال ابو الهول
- ١٩- تمثال تم حفره في عهد الملك خفرع من ملوك الدولة القديمة
- ٢٠- مدينة مصرية تقع علي البحر المتوسط تشتهر بودود المناطق الاثرية مثل منطقة ابي مينا والمسرح اليوناني الروماني
- ٢١- محمية طبيعية تقع بين خليجي العقبة والسويس
- ٢٢- محمية طبيعية تشتهر بوجود بقايا الأسماك والحفريات تقع في مدينة الفيوم
- ٢٣- مدينة مصرية تشتهر بوجود الآثار الإسلامية مسجد جامع عمرو بن العاص والكنائس مثل الكنيسة المعلقة البرج
- ٢٤- منطقة جنوب مصر قامت منظمة اليونيسكو باحيائها

السؤال الخامس : صوب ما تحته خط في العبارات الآتية :

- ١- تقع محمية وادي الريان في مدينة القاهرة . ()
- ٢- زيارة الصحاري المصرية تعد ساحة دينية. ()
- ٣- تقع محمية الصحراء البيضاء في الصحراء الشرقية . ()
- ٤- من أهم الآثار التي تقع شمال سيناء قلعة صلاح الدين . ()
- ٥- يوجد المسرح اليوناني الروماني في مدينة الجيزة . ()
- ٦- قامت منظمة اليونيسيف باحياء اثار ابوسمبل والنوبة . ()
- ٧- التحنيط هي العودة الحياة بعد الموت مرة اخري ()
- ٨- حصن بابليون من أهم المنشآت التي بنيت في عهد البطالمة . ()
- ٩- تنتشر الشعاب المرجانية في مصر في البحر المتوسط . ()
- ١٠- نحصل من النشاط الرعوي علي العملات الاجنبية . ()
- ١١- ظهر مفهوم السياحة العلاجية للحفاظ علي الموارد البيئية. ()
- ١٢- تقع الكنيسة المعلقة في محافظة الاقصر. ()
- ١٣- من أهم المشروعات التي تقوم الدولة بتطويرها سور الصين . ()
- ١٤- الشعاب المرجانية في مصر تنتشر في البحر المتوسط . ()
- ١٥- يجب التقاط الصور بفلاش بجانب القطع الاثرية . ()
- ١٦- تنظيم التنقيب والبحث عن الآثار يعد مسؤولية الفرد . ()
- ١٧- تقوم الجمعيات بإصدار القوانين الخاصة بحماية الآثار . ()

١٨- ترميم مسجد احمد بن طولون كان ضمن مشروع تطوير منطقة الأهرامات .

()

السؤال السادس : ما النتائج المترتبة على

١- توافر المياه الكبريتية والرمال الساخنة في بعض المناطق في مصر .

٢- اعتدال مناخ مصر معظم أيام السنة .

٣- اهتمام منظمة اليونيسكو العالمية بمصر سياحيا .

٤- توافر المناظر الطبيعية الجميلة بمدينة شرم الشيخ .

٥- توافر الآثار التاريخية والاماكن السياحية الهامة في مدينة القاهرة .

٦- اعتقاد المصريين القدماء في البعث والخلود .

٧- اهتمام الدولة بمنطقة القاهرة التاريخية .

٨- إنشاء الدولة للمحميات الطبيعية المختلفة .

٩- توافر الاديرة والمناطق المقدسة في شبه جزيرة سيناء .

١٠- وجود الشعاب المرجانية في البحر الاحمر .

١١- ظهور مفهوم السياحة المستدامة .

١٢- اهتمام الدول بالآثار المصرية .

١٣- وجود المناظر الطبيعية بالصحاري المصرية .

١٤- احتلال الرومان لمصر من الناحية العمرانية .

١٥- توافر المناظر اطيبيعية والمحميات الطبيعية في مدينة الفيوم .

١٦- استضافة مصر للمؤتمرات الدولية .

١٧- اهتمام منظمة اليونيسكو بمدينة شرم الشيخ .

١٨- تنوع المناطق السياحية في مصر .

١٩- الأحوال المناخية بالنسبة للمواقع الاثرية .

٢٠- السياحة بالنسبة للإقتصاد المصري .

٢١- اهتمام المصريين القدماء بفنون العمارة .

٢٢- الكتابة علي جدران المعابد والآثار المصرية .



الوحدة الثالثة : وسائل النقل والاتصال في بلدنا

السؤال الأول : أكمل العبارات الآتية بما يناسبها :

- ١- استخدم المصريون القدماء في التنقل وحمل الأشياء
- ٢- استخدام الدواب في التنقل يعد أحد وسائل النقل
- ٣- أنشأ منحف السكة الحديد في مدينة عام ١٩٣٢ م
- ٤- ظهرت السيارات في مصر بعد
- ٥- أول سيارة دخلت مصر كانت تعتمد على طاقة قوة البخار في عهد الخديوي
- ٦- أول من حاول الطيران باستخدام أجنحه هو
- ٧- تعتبر مصر أول دول افريقية أنشأت بعد الملكة المتحدة
- ٨- أرسلت الملكة حتشبسوت رحلات تجارية إلى بلاد لجلب الأخشاب
- ٩- شاركت مصر في مؤتمر النقل المستدام الذي عقد في بدولة الصين
- ١٠- أول دولة عربية عرفت مترو الأنفاق هي
- ١١- نجح في الطيران الحقيقي عام ١٩٠٣ م
- ١٢- أرخص وسائل أنواع النقل في مصر هو النقل
- ١٣- يربط مترو الأنفاق بين ثلاث مدن مصرية هي
- ١٤- كانت رحلة الملك الفرعوني إلى بلاد فينيقيا لجلب خشب الأرز
- ١٥- تهتم الدولة بإنشاء الكباري والمحاور مثل محور
- ١٦- أقدم مركب مصنوع من الخشب في التاريخ مركب الملك
- ١٧- تأسست شركة عام ١٩٣٢ م
- ١٨- تم إنشاء أول خط سكة حديد بين مدينة القاهرة و عام ١٨٥٦ م
- ١٩- يعتمد النقل المستدام على استخدام مصادر
- ٢٠- أغلى وسائل النقل وأسرعها هو
- ٢١- من أهم المطارات الدولية في مصر
- ٢٢- تنتشر الموانئ على البحر الأحمر ومنها ميناء
- ٢٣- تربط بين البحر الأحمر والمتوسط
- ٢٤- يجب عدم التحدث في أثناء القيادة
- ٢٥- من أهم الموانئ على البحر المتوسط
- ٢٦- من وسائل النقل المائي

- ٢٧- يتم نقل المواد الخام اللازمة للصناعة عن طريق
- ٢٨- صنع المصري القديم أول منذ نحو ٤٠٠٠ عام
- ٢٩- هي علامات توضح معالم الطريق للسائقين
- ٣٠- يجب عدم جلوس في المقاعد الأمامية للسيارة
- ٣١- يجب عدم على وسائل لنقل
- ٣٢- يجب عدم استخدام المقاعد المخصصة ل.....
- ٣٣- يجب عدم التحدث مع أثناء قيادة السيارة
- ٣٤- يجب وضع على الطرق لمعرفة مدى الالتزام بقواعد المرور
- ٣٥- العلامات التي تشير إلى السلوكيات التي يجب تجنبها أثناء القيادة هي
- ٣٦- العلامات التي تنظم حركة مرور السيارات
- ٣٧- العلامات التي تحذر من المخاطر المحتملة هي
- ٣٨- العصور التي تسبق معرفة الكتابة هي عصور
- ٣٩- استخدم الإنسان التواصل خلال عصور ما قبل التاريخ
- ٤٠- هي التي بدأت بمعرفة الإنسان الكتابة
- ٤١- استخدم لنقل الرسائل لأنه أسرع
- ٤٢- صدر أول مصري عام ١٨٦٦ م
- ٤٣- أول تم بين القاهرة والأسكندرية عام ١٨٨١ م
- ٤٤- من وسائل الاتصالات في العصر الحديث
- ٤٥- الملك خوفو أحد ملوك الأسرة الرابعة تولى الحكم بعد الملك
- ٤٦- الملك هو صاحب بناء الهرم الأكبر
- ٤٧- عثر عند منطقة الأهرامات على الملك خوفو
- ٤٨- أرسل الملك خوفو بعثات الي سيناء
- ٤٩- أشهر ملكات مصر في عصر الدولة الحديثة
- ٥٠- لقبت الملكة حتشبسوت
- ٥١- تم في عهد الملكة حتشبسوت إنشاء معبد في الأقصر
- ٥٢- أرسلت الملكة حتشبسوت رحلات تجارية إلى
- ٥٣- الملكة حتشبسوت من ملوك عصر
- ٥٤- الملك خوفو من ملوك عصر

السؤال الثاني : بم تفسر :

١- أهمية الدواب عند قدماء المصريين ؟

٢- أهمية السكك الحديدية ؟

٣- أهمية السفن والمراكب عند المصريين القدماء؟

٤- إرسال الملكة حتشبسوت رحلات تجارية إلى بلاد يونت ؟

٥- أهمية العربيات الحربية ؟

٦- أهمية مترو الأنفاق ؟

٧- أهمية النقل الجوي (مميزات النقل الجوي)؟

٨- سلبيات النقل الجوي؟

٩- للنقل المائي عيوب ومميزات؟

١٠- أهمية وسائل النقل النهري ؟

١١- اهتمام الدولة بتطوير الموانئ البحرية؟

١٢- اهتمام الدولة بالنقل المستدام ؟

١٣- اهتمام الدولة بإنشاء الطرق والكباري ؟

١٤- إنشاء الدولة لمشروع القطار الكهربائي السريع ؟

١٥- إنشاء المونوريل المعلق ؟

١٦- مشاركة مصر في مؤتمر النقل المستدام؟

١٧- أهمية العلامات الإرشادية في حركات المرور ؟

١٨- أهمية وجود كاميرات مراقبة على الطريق ؟

١٩- إصدار قانون المرور ؟

٢٠- أهمية العلامات الأرضية في المرور ؟

٢١- أهمية علامات المنع المرورية ؟

٢٢- أهمية وجود العلامات الإلزامية المرورية ؟

٢٣- أثر التطور العلمي إيجابيا على حياة أصحاب الهمم ؟

٢٤- استخدام الحمام الزاجل ؟

٢٥- لشبكة الإنترنت فوائد عديدة؟

٢٦- إرسال الملك خوفو البعثات إلى شبه جزيرة سيناء ؟

السؤال الثالث : ضع علامة (صح) أو علامة (خطأ) أمام كل عبارة :

- ١- ساعدت وسائل النقل المختلفة على انتشار التجارة بين الدول . ()
- ٢- نجح عباس بن فرناس في الطيران بجناحيه . ()
- ٣- أول سيارة تعتمد على قوة البخار تم اختراعها في عهد الخديوي اسماعيل . ()
- ٤- تعد طائرة الأخوين رايت هي أول طائرة في التاريخ . ()
- ٥- أخذ الهكسوس عن المصريين استخدام العربات الحربية . ()
- ٦- قام البنك الأهلي بتأسيس شركة مصر للطيران . ()

- ٧- تعد ناقلات البترول والبواخر من أبرز وسائل النقل المائي . ()
- ٨- يستخدم النقل المائي في نقل البضائع ثقيلة الوزن . ()
- ٩- يتم النقل البحري في مصر عن طريق نهر النيل . ()
- ١٠- النقل المائي هو أسرع أنواع النقل في مصر . ()
- ١١- يتميز النقل الجوي بالسرعة لكن تكلفته عالية . ()
- ١٢- شاركت مصر في مؤتمر النقل المستدام في بكين عاصمة الصين . ()
- ١٣- يعد ميناء سفاجا من أهم موانئ البحر المتوسط . ()
- ١٤- يعد ميناء الغردقة من أهم موانئ البحر الأحمر . ()
- ١٥- يجب علينا إفساح الطريق أمام سيارات الإسعاف . ()
- ١٦- قيام بعض الأشخاص بالكتابة على مقاعد المترو يعد تصرفا صحيحا . ()
- ١٧- يعاني النقل المائي من الكثير من المشاكل . ()
- ١٨- يربط مترو الأنفاق بين مدن القاهرة الكبرى . ()
- ١٩- تفيد العلامات التحذيرية في معرفة خط سير السيارات . ()
- ٢٠- تم إنشاء أول خط سكة حديد بين القاهرة والأسكندرية عام ١٨٥٦م . ()
- ٢١- من أهم وسائل الاتصالات في العصور الحديثة الحمام الزجاجي . ()
- ٢٢- كان أول خط هاتف في مصر يصل بين القاهرة والسويس . ()
- ٢٣- لعب التقدم العلمي دورا في تطور وسائل الاتصال عبر الزمن . ()
- ٢٤- قديما كان جدي يمكنه التواصل عبر شبكة الإنترنت مع أصدقائه خارج مصر ()
- ٢٥- ساعد التطور التكنولوجي على سهولة قيام أصحاب الهمم بوظائف مختلفة ()
- ٢٦- قام الإنسان بالنداء بأصوات عالية لتحذير الآخرين من الخطر . ()
- ٢٧- تم الاعتماد على التليغراف في التواصل قبل إشارات الدخان . ()
- ٢٨- أنشأت وزارة التربية والتعليم منصة الكترونية لتلقي طلبات لقاح فيروس كورونا . ()
- ٢٩- الملك خوفو من ملوك الأسرة الرابعة . ()
- ٣٠- من أهم أعمال الملك خوفو الهرم الأوسط . ()
- ٣١- عثر في منطقة الأهرامات على خمس مراكب للملك خوفو . ()
- ٣٢- حكمت الملكة حتشبسوت مصر أكثر من ٢٠ عام . ()
- ٣٣- من أهم أعمال الملكة حتشبسوت إنشاء معبد الدير البحري . ()
- ٣٤- لقب الملكة حتشبسوت بالزوجة الملكية . ()
- ٣٥- الملكة حتشبسوت من أشهر ملكات الدولة الوسطى . ()

السؤال الرابع : أعط مفهوماً لكل من العبارات الآتية:

- ١- دخلت مصر عن طريق الهكسوس الذين جاءوا عن طريق آسيا واحتلوها
- ٢- تعد مصر أولى دول افريقيا والشرق الأوسط في إنشائها
- ٣- أقدم أثر مصنوع من الخشب في التاريخ الإنساني
- ٤- أول من حاول الطيران في التاريخ
- ٥- نجح في اختراع الطائرة عام ١٩٠٣ م
- ٦- يربط بين مناطق القاهرة الكبرى والقاهرة والجيز والقلوبية وشبرا الخيمة
- ٧- يعد أسرع وسائل النقل وأكثرها تكلفة
- ٨- أرخص وسائل النقل ويشمل السفن والمراكب والأتوبيسات النهرية
- ٩- هو النقل عن طريق البحر من خلال قناة السويس وموانئ البحر الأحمر والمتوسط .
- ١٠- استخدام وسائل نقل صديقة للبيئة تستخدم مصادر طاقة نظيفة مثل الغاز الطبيعي والكهرباء والطاقة الشمسية
- ١١- مشروع الهدف منه ربط العين السخنة بمدينة العلمين الجديدة مرورا بالعاصمة الإدارية
- ١٢- مشروع الهدف منه ربط المدن المصرية ببعضها وربطها بمترو الأنفاق
- ١٣- علامات توضح معالم الطريق للسائقين
- ١٤- خطوط مرسومة على الأرض توضح مسار تحرك السيارة على الطريق
- ١٥- علامات تشير إلى الاتجاه الإلزامي الذي يجب أن تسير فيه
- ١٦- علامات تحذر من المخاطر المحتملة
- ١٧- علامات تشير إلى السلوكيات التي يجب تجنبها أثناء القيادة
- ١٨- علامات دائرية لتنظيم حركة مرور السيارات
- ١٩- كان يستخدم قديما لإرسال الرسائل لأنه أسرع
- ٢٠- جعل العالم قرية صغيرة وسرعة الحصول على المعلومات
- ٢١- صاحب بناء الهرم الأكبر
- ٢٢- بناء معبد الدير البحري غرب الأقصر
- ٢٣- إرسال رحلات تجارية إلى بلاد فينيقيا (لبنان) لجلب أخشاب الأرز
- ٢٤- إرسال رحلات إلى سيناء لاستخراج الفيروز والنحاس
- ٢٥- إرسال رحلات تجارية إلى بلاد بونت لجلب الأخشاب والبخور

- ٢٦- القواعد التي يجب أن يلتزم بها السائق عند القيادة
- ٢٧- استخدمها المصريون القدماء في التنقل وحمل الأشياء
- ٢٨- هو النقل عن طريق نهر النيل
- ٢٩- مشروع تم إنشائه في مصر يربط بين البحر الأحمر والبحر المتوسط
- ٣٠- القواعد التي يجب أن يلتزم بها المشاه عند عبور الطريق

السؤال الخامس : صوب ما تحته خط في العبارات الآتية :

- ١- يعد النقل المائي أعلى وسائل النقل . ()
- ٢- النقل بالشاحنات والسكة الحديد نوع من النقل البحري . ()
- ٣- تعد قناة السويس من أنواع النقل النهري . ()
- ٤- أسرع وسائل النقل في العالم النقل البحري . ()
- ٥- تم إنشاء أول سيارة تعتمد على قوة البخار في عهد محمد علي . ()
- ٦- أول من حاول الطيران هم الأخوان رايت . ()
- ٧- تم إنشاء أول خط سكة حديد بين القاهرة والسويس . ()
- ٨- استخدم الحمام الزاجل حديثاً لنقل الرسائل . ()
- ٩- أخذ المصريين العربات الحربية عن الفرس . ()
- ١٠- النقل بالسفن والمراكب يعد نوع من النقل البري . ()
- ١١- أرسل الملك خوفو رحلات تجارية إلى بلاد فينيقيا لجلب أخشاب الأرز . ()
- ١٢- الملك خوفو من ملوك الدولة الحديثة . ()
- ١٣- أقدم مركب مصنوع من الخشب في العالم مركب الملك خفرع . ()
- ١٤- توضح العلامات الإلزامية مسار تحرك السيارة على الطريق . ()
- ١٥- من أهم أعمال الملكة حتشبسوت إنشاء معبد ابوسمبل . ()
- ١٦- النقل الذي يعاني من البطء هو النقل الجوي . ()
- ١٧- يعتمد النقل المستدام على الطاقة النظيفة مثل البترول . ()
- ١٨- شاركت مصر في مؤتمر النقل العام بمدينة بكين عاصمة الصين . ()
- ١٩- أول دولة عرفت مشروع مترو الأنفاق السعودية . ()
- ٢٠- تم إنشاء أول تلغراف بين القاهرة والأسكندرية عام ١٨٨١ م . ()
- ٢١- تربط قناة السويس بين البحر الأحمر والخليج العربي . ()
- ٢٢- تفيد العلامات الضوئية إلى الاتجاه الإلزامي الإجباري الذي يجب أن نسير فيه ()

- ٢٣- الملك خوفو من ملوك الأسرة الثالثة . ()
- ٢٤- اليوم العالمي لليونيسكو هو ٤ مايو من كل عام . ()

السؤال السادس : ما النتائج المترتبة على

١- محاولة عباس بن فرناس الطيران .

٢- احتلال الهكسوس مصر بالنسبة لوسائل النقل .

٣- محاولة الأخوين رايت الطيران .

٤- استخدام المصريين القدماء وسائل النقل المائي في التجارة .

٥- قيام الدولة بتطوير الموانئ البحرية .

٦- رحلة الملكة حتشبسوت إلى بلاد بونت (الصومال) .

٧- رحلة الملك سنفرو إلى بلاد فينيقيا (لبنان) .

٨- بطء النقل النهري .

٩- وفاة الملك سنفرو .

١٠- الالتزام باتباع العلامات المرورية .

١١- الالتزام بآداب وقواعد المرور .

١٢- الاستخدام السيء لوسائل التواصل الاجتماعي .

١٣- إنشاء الدولة موقع مصر الرقمية .

١٤- حفر قناة السويس في مصر .

١٥- السرعة الهائلة للنقل الجوي .

١٦- إنشاء السكة الحديد في مصر .

١٧- إنشاء مترو الأنفاق في مصر .

١٨- تنوع وسائل النقل في مصر .

١٩- اهتمام الملك خوفو بالعمران .

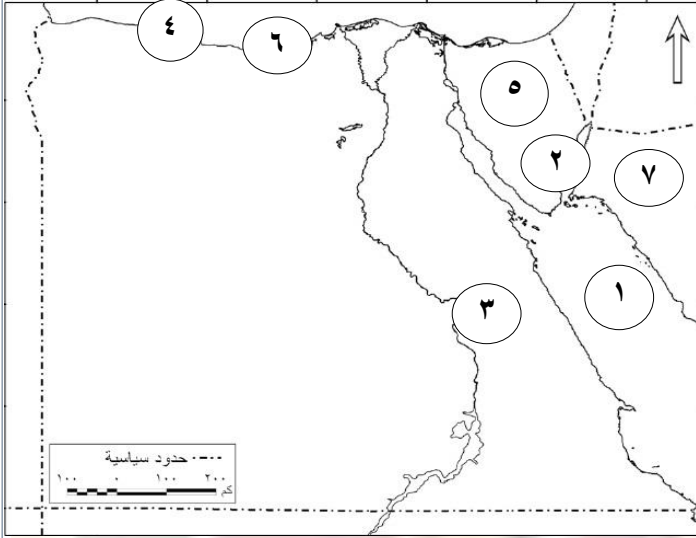
٢٠- اهتمام الملكة حتشبسوت بالعمران .

٢١- اهتمام الملك سنفرو بالتجارة الخارجية .

٢٢- اهتمام الملكة حتشبسوت بالتجارة .

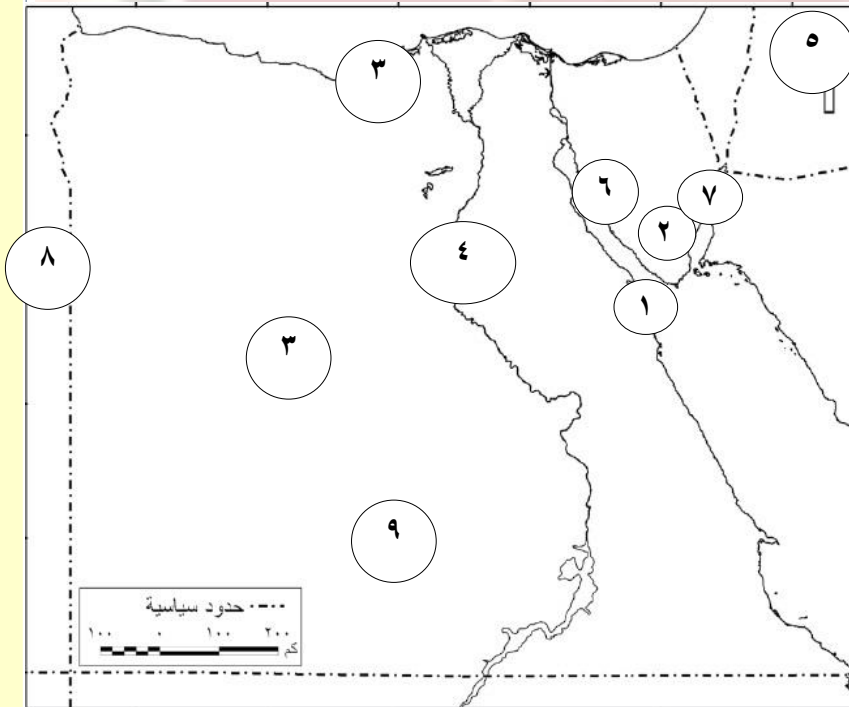
أهم الخرائط بالمنهج وإجاباتها

س ١ : أمامك خريطة صماء لمصر اكتب مدلول الأرقام



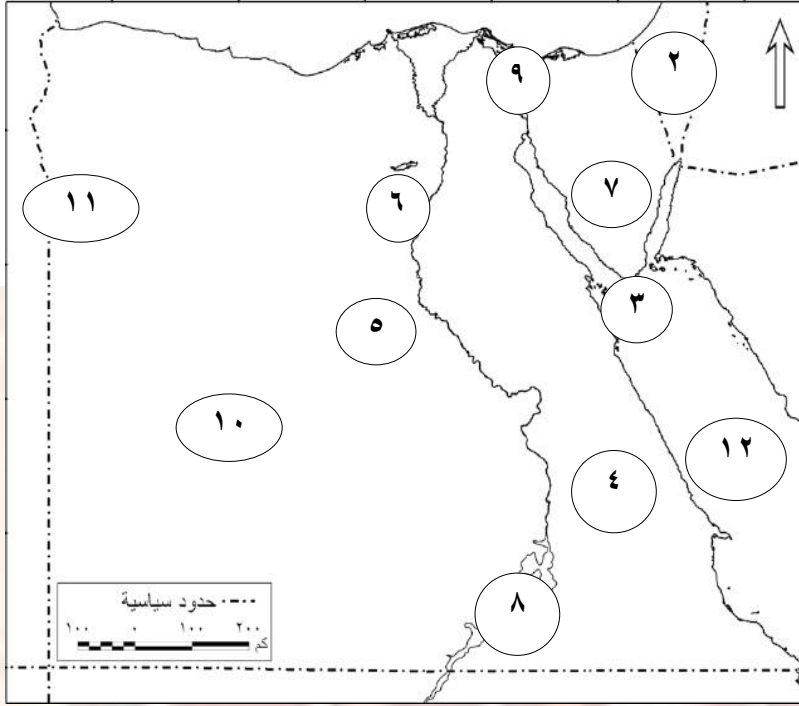
- ١- البحر
- ٢- محافظة يقل سكانها عن مليون نسمة
- ٣- محافظة أثرية
- ٤- البحر
- ٥- شبة جزيرة
- ٦- مدينة بها المسرح اليوناني الروماني
- ٧- دولة تجاور مصر من الشرق

س ٢ : أمامك خريطة صماء لمصر اكتب مدلول الأرقام



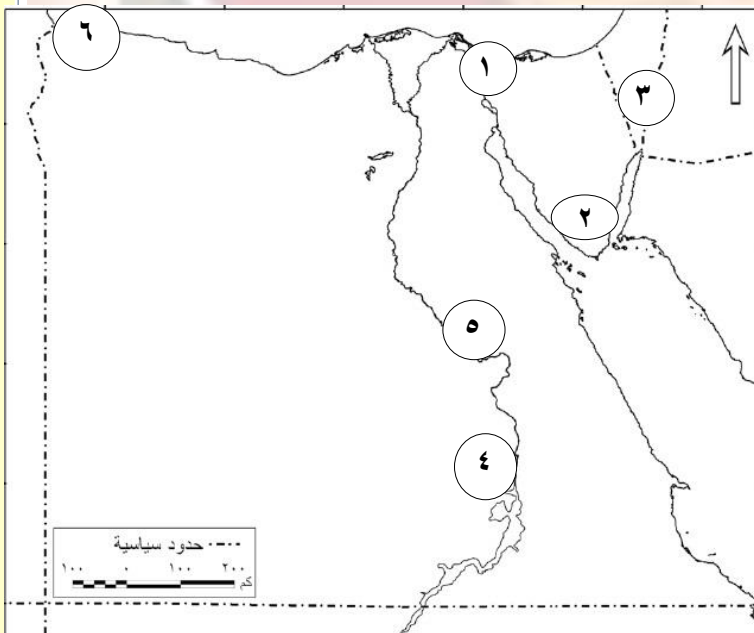
- ١- ميناء هام على ساحل البحر الأحمر
- ٢- مدينة
- ٣- محمية طبيعية
- ٤- نهر
- ٥- دولة
- ٦- خليج
- ٧- خليج
- ٨- دولة
- ٩- دولة

س ٣ : أمامك خريطة صماء لمصر اكتب مدلول الأرقام



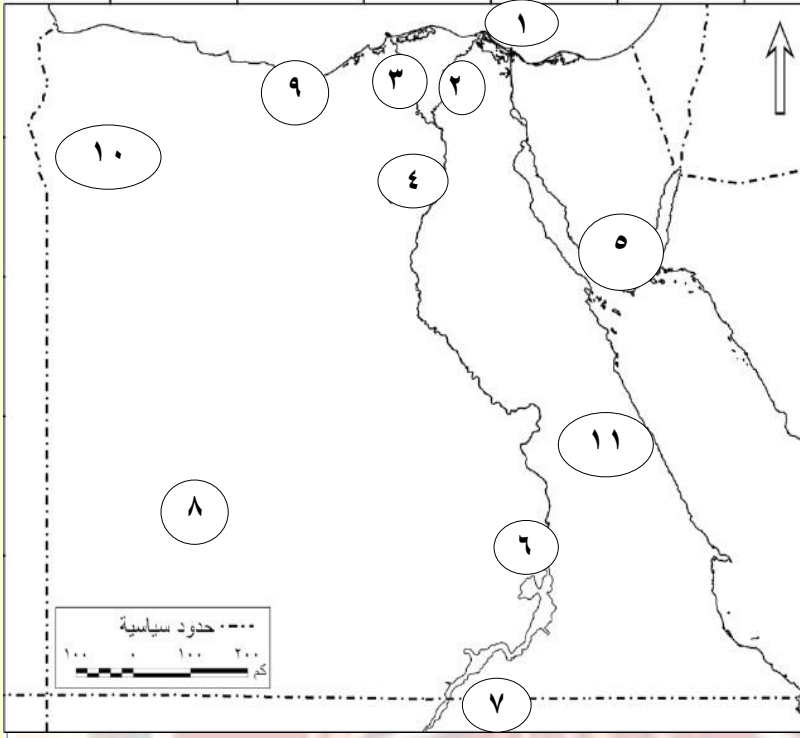
- ١- عاصمة مصر
- ٢- دولة
- ٣- محمية طبيعية
- ٤- الصحراء
- ٥- أعلى محافظات مصر في معدل الأمية
- ٦- محمية طبيعية
- ٧- قلعة تاريخية
- ٨- مدينة تم إنشاء متحف النوبة
- ٩- قناة
- ١٠- الصحراء
- ١١- واحة
- ١٢- منطقة يكثر بها الشعب المرجانية

س ٤ : أمامك خريطة صماء لمصر اكتب مدلول الأرقام



- ١- محافظة تشتهر برقصة البمبوتية
- ٢- مدينة تم وضعها في قائمة التراث العالمي لليونسكو
- ٣- مدينة
- ٤- بحيرة
- ٥- محافظة
- ٦- مدينة

س ° : أمامك خريطة صماء لمصر اكتب مدلول الأرقام



١- ميناء على البحر المتوسط

٢- فرع

٣- فرع

٤- منطقة سياحية

٥- مدينة بها سياحة دينية

٦- مدينة بها معبد الكرنك

٧- مدينة بها معبد ابوسمبل

٨- منطقة بها سياحة علاجية

٩- مدينة بها منطقة ابي مينا والمسرح اليوناني الروماني

١٠- منطقة بها سياحة علاجية

١١- ميناء هام على البحر الأحمر



إرشادات

أثناء الاختبارات للطلاب والطالبات

2 تأكد من
زمن و مكان
الاختبار

1 قبل الاختبار
لا تحاول
تعلم شيء
جديد

3 استعن بالله
وتوكل عليه

4 حافظ على
انضباطك

5 اقرأ كل سؤال
بعناية بالغة

6 أجب على الأسئلة
السهلة أولاً

7 لا تتوقف عند
الأسئلة الصعبة

راجع إجاباتك
بعد الإنتهاء

8

7