

- Write two sentences .

{ yesterday - bazaar - my mother }



.....

.....

Task (6)

- Write two sentences .

{ museum - Cairo - yesterday }



.....

.....

- Write two sentences .

{ yesterday - bazaar - my mother }



.....

.....

Task (6)

- Write two sentences .

{ museum - Cairo - yesterday }



.....

.....

Task (3)

- Write two sentences .

{ breakfast - ful - falafel }



.....

.....

Task (4)

- Write two sentences .

{ winter - favorite - cold - season }



.....

.....

Task (5)



المهام الأدائية (لغة انجليزية) للف الثالث الابتدائى


Task (1)

- Write a sentence to describe the picture .



Task (2)

- Write a sentence to describe the picture .



– المهمة الثامنة : اختر الاجابة الصحيحة :

– بردية (إدوين سميث) تعتبر من أشهر

(المنحوتات – البرديات الطبية – الفنون المصرية)

١- غير أمحوتب تفكير المصريين تجاه الصحة والطب وقام بتشخيص وعلاج اكثر من

(١٠٠ مرض – ٢٠٠ مرض - ٣٠٠ مرض)

٢- كان الاطباء في البردية بسألون المريض عن

(عمره – مكان الألم - طعامه)

٣- هل ساهمت في تطوير الاساليب الجراحية التي تستخدم في الطب الحديث

(نعم - لا)

– المهمة التاسعة : اختر ثلاث حقائق صحيحة عن بردية (إدوين سميث) :

١- هي بردية طبية قديمة تعنى بتشخيص وعلاج الامراض الجراحية .

٢- تعود بردية (إدوين سميث) إلى فترة حكم الفراعنة .

٣- تحتوى على نصوص تركز على العمليات الجراحية وأدواتها .

٤- تمت كتابتها باللغة اليونانية .

٥- تعد من اقدم النصوص الطبية التي نسخت من النصوص القديمة في مصر .

- المهمة السادسة :

الآلات الموسيقية



- المهمة السابعة : اكتب حقيقة / رأى / خيال :

- ١- الرياضة تساعد في الحفاظ على صحة الجسم . ()
- ٢- يستطيع الانسان أن يطير بجناحين . ()
- ٣- تمتلك الزرافات رقعات ملونة لتتمكن من التخفي في الغابة . ()
- ٤- يمكن للأطفال أن تطير . ()
- ٥- اللون الأحمر هو أفضل الألوان . ()
- ٦- نط الحبل هو أكثر التمارين الممتعة على الاطلاق . ()
- ٧- سافرت إلى المستقبل بآلة الزمن . ()
- ٨- العقل السليم في الجسم السليم . ()
- ٩- يمكن رؤية الديناصورات في حديقة الحيوان . ()

- المهمة الخامسة :

المنحوتات

حديثة

تطور فن النحت وأضافوا المزيد قبل
صناعة المنحوتات من البلاستيك والورق .

قديمة

صنعت من الحجر والمعادن والاشباب و
استخدموا الألوان المتعددة والاحجار
الكريمة في تزيينها .

- متحف الإسكندرية القومي :

- تتميز التماثيل به بكون حجمها .
- يحتوى على الاواني الكانوبية التي عصورها في المقابر .
- ترجع المجوهرات فيها إلى اسرة محمد على الملكية .

- ضع دائرة حول الشكل الذي يعبر عن المشاعر المناسبة لكل موقف :

١- عندما أرى حجم التمثال أشعر بـ



٢- عندما انطفأ النور فجأة شعرت بـ



٣- عندما نجحت شعرت بـ



٤- عندما فقدت لعبتي شعرت بـ



– المهمة الرابعة : وصف أبو الهول :

- تمثال اسطوري : بجسم أسد (يمثل القوة) و رأس انسان (يمثل الحكمة والعقل)
- مصنوع من الأحجار
- اعتقد المصريون أنه حارس للاهرامات
- يقع على هضبة الاهرام بالجيزة في الضفة الغربية لنهر النيل .

- المهمة الثالثة : حدد إذا كانت التماثيل قديمة أم حديثة :



- وصل كل صورة بما يناسبها :



مشاركة

إرسال

تعليق

أعجبني

- المهمة الثانية :

تجربة (اهمية الدهون)الخطوات :

- ١- ضع الدهون النباتية في الكيس مزدوج الجدارين بين الجدارين .
- ٢- ضع إحدى اليدين في الكيس الذي بدون دهون ، والأخرى في الكيس مزدوج الجدار الموجود فيه الدهون .
- ٣- ضع اليدين بالاكياس في حوض الماء الثلج .
- ٤- قس درجة الحرارة بالترمومتر عن طريق وضعه في أسفل كل كيس .

- الاستنتاج :

عند وضع اليد في الكيس الخالي من الدهون انتقل الحرارة من اليد الأعلى حرارة إلى الماء (الأقل حرارة) مما يجعلنا نشعر بالبرودة ، ولكن عند وضع الدهون نجد أنها عملت كعازل للحرارة فمنعت انتقالها من اليد إلى الماء فظلت الحرارة كما هي . (تعمل الدهون كعازل حرارى) .

- اختر الإجابة الصحيحة :



- ١- درجة الحرارة في الكيس الموجود فيه دهون .
(تزايدت - تناقصت - لم تتغير)
- ٢- اليد التي كانت في الكيس بدون الدهون شعرت ب.....
(الحرارة - البرودة - لا شيء)
- ٣- اليد في الكيس المحتوى على الدهون شعرت ببرودة بسبب
عزل الدهون للحرارة .
(أقل - أكثر - مماثل)
- ٤- الدهون ساعدت اليد على تقليل الإحساس ب.....
(الحرارة - البرودة - لا شيء)



المهام الأدائية (متعدد التخصصات)

لصف الثالث الابتدائي

- المهمة الأولى : صل كل صورة بالنسل الخاص بها :



- صل كل صورة بما يناسبها :



– المهمة الخامسة :

(١) اكتب الصيغة اللفظية و الممتدة للعدد ١٢٦٨٤٠

.....
.....

(٢) استخدم خاصية التوزيع في ايجاد ناتج ١٤×٧

.....
.....


– المهمة الثالثة :

(أ) اكمل النمط ثم صف النمط :

وصف النمط $\frac{\dots}{8} = \frac{3}{\dots} = \frac{\dots}{4} = \frac{1}{2}$

(ب) استخدم خط الأعداد في تمثيل الكسر :

$$\frac{3}{4}$$



– المهمة الرابعة :

– أكتب مجموعة عائلة الحقائق للأعداد ٥٤ ، ٦ ، ٩

.....
.....
.....
.....

– أوجد الناتج باستخدام خواص عملية الضرب موضحاً اسم الخاصية :

(أ) = ١٠ × ٣ × ٤

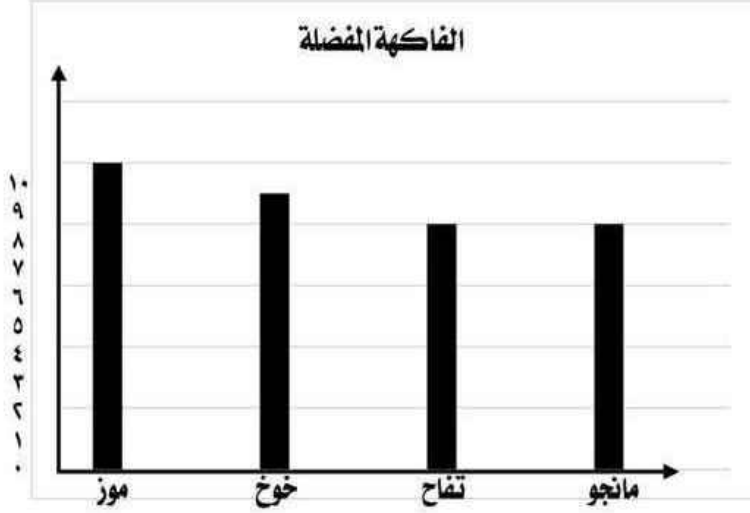
.....

.....

(ب) = ١٨ × ٥

.....

– المهمة الثانية : الجدول التالي يوضح الفاكهة المفضلة لتلاميذ فصل أنشئ تمثيلاً بيانياً بالأعمدة ، ثم أكمل :



الفاكهة	العلامات التكرارية	عدد التلاميذ
موز	
خوخ	
تفاح	
مانجو	

١ – الفاكهة التي يفضلها أكبر عدد من التلاميذ هي :


٢ – يزيد عدد التلاميذ الذين يفضلون الموز عن الذين يفضلون المانجو بمقدار :



المهام الأدائية (رياضيات) للف الثالث الابتدائى


المهمة الأولى : عبر بالكسور والكلمات عن الجزء المظلل فى كل شكل مما يلى :

(ج)




ويقرأ

(ب)



ويقرأ

(أ)



ويقرأ

٢) أوجد محيط كل من الأشكال التالية :

(ب)


٥ سم



المحيط =

(أ)

٨ سم




المحيط =



المهام الأدائية (رياضيات) للف الثالث الابتدائى


– المهمة الأولى : عبر بالكسور والكلمات عن الجزء المظلل فى كل شكل مما يلى :

(ج)




..... ويقراً
.....

(ب)



..... ويقراً
.....

(أ)



..... ويقراً
.....

٢) أوجد محيط كل من الأشكال التالية :

(ب)



..... = المحيط

(أ)




..... = المحيط



المهام الأدائية (رياضيات) لصف الثالث الابتدائى


المهمة الأولى : عبر بالكسور والكلمات عن الجزء المظل فى كل شكل مما يلى :

(ج)




..... ويقراً
.....

(ب)



..... ويقراً
.....

(أ)



..... ويقراً
.....


٢) أوجد محيط كل من الأشكال التالية :

(ب)



..... = المحيط

(أ)



..... = المحيط

– المهمة الخامسة :

– اكتب آداب الدعاء .

.....

.....

.....

– اكتب أوقات استجابة الدعاء .

..... ١-

..... ٢-

..... ٣-

..... ٤-

..... ٥-

– المهمة الرابعة :

– اكتب آداب آيات سورة الحجرات .

- ١-
- ٢-
- ٣-
- ٤-
- ٥-

– اكتب الدعاء أسفل كل صورة .



اللهم لنا فيه
و..... خيراً منه



الحمد لله الذى
بعد ما اماننا
وإليه

– المهمة الثانية :

– اذكر تحديين مما تعرض له الرسول وكيف تغلب عليهم؟

التحدى الاول :

التحدى الثانى :

– المهمة الثالثة :

(١) اكمل دعاء يدعو المسلم الله باسمه الله العفو :

" اللهم تحب فاعف عنى "

(٢) اكتب الفرق بين الجنة والنار :

النار

.....
.....
.....
.....
.....

الجنة

.....
.....
.....
.....
.....

– المهمة الخامسة :

(١) اكتب الصيغة اللفظية و الممتدة للعدد ١٢٦٨٤٠

.....
.....

(٢) استخدم خاصية التوزيع في ايجاد ناتج ١٤×٧

.....
.....



المهام الأدائية (تربية إسلامية) لصف الثالث الابتدائى

– المهمة الأولى :رتب خطوات لصوم من قبل الفجر إلى الغروب :

- ١- أمتنع عن الطعام والشراب من طلوع الفجر إلى غروب الشمس . ()
- ٢- أقول دعاء عند الافطار . ()
- ٣- أتناول الافطار عند سماع آذان المغرب . ()
- ٤- أنوى الصوم والنية محلها القلب . ()

– أكمل دعاء الإفطار :

" اللهم لك وعلى رزقك ذهب

..... وابتلت وثبت أن شاء الله "

– المهمة الرابعة : اقرأ نموذج كتابة الرأي التالي وحلله لعناصر:

من العزل إلى الدمج

(إن لذوى الإرادة حقوق و واجبات في المجتمع مثل العاديين وأعتقد أن عزلهم في مدارس خاصة لا يفيدهم بشئ فمن الضروري دمج ذوى الإرادة في التعليم العام لتحصل على فرص تعلم متكافئة وتفاعلهم مع أطفال عاديين مما يزيد من درجة تقبلهم في المجتمع)

(١) العنوان :

(٢) الرأى :

(٣) السبب :

– المهمة الثالثة : اكتب فقرة اقتراح لحل مشكلة قلة القصص في المكتبة المدرسية مراعيًا عناصرها وعلى أن يتراوح عدد الكلمات من (٦٠ – ١٠٠) كلمة .

.....

.....

.....

.....

.....

- المهمة الثانية : حل الاعلان الذي أمامك :

تعلن شركة (النور للعيون) عن إنتاج نظارة شمسية تحمي العين من أشعة الشمس الضارة . فهي تنفع لكل من الأطفال والرجال والنساء . وقد قامت الشركة بعمل عرض إذا تم شراء نظارة سوف تحصل على خصم ٢٥٪ من النظارة الثانية .

- اسم المنتج :

- جهة الانتاج :

- الفئة المستهدفة :

- أهمية المنتج :

- الدافع وراء الحصول على المنتج :

.....



المهام الأدائية (لغة عربية)

لصف الثالث الابتدائى - الفصل الدراسى الثانى

- المهمة الأولى : اقرأ القصة التالية ، ثم حلل عناصرها :

الهدية المميزة

ذات صباح عاد خالى من السفر، وجاء ليزورنا فى البيت و أحضر لى هدية عبارة عن برواز مكتوب بداخله اسمى بالخط الثلث .

فساعدتنى أمى فى تعليقه فى غرفتى ولكنى كنت تارك القط الخاص بى فى الغرفة ، فى أثناء اللعب معه قفز وقام بالصعود على الكرسي ومن ثم أوقع بالبرواز فجلست على سريرى عابسا ولكن أمى قامت بجمع قطع البرواز زأخذته إلى النجار فقام بتصليحه .

- عنوان القصة :
- الشخصيات :
- المشكلة :
- تصاعد الأحداث :
- تراجع الأحداث :
- الحل :