

الصف  
الرابع  
الابتدائي  
٢٠٢٥

بنك أسئلة

# التميز

أ / محمود سعيد

مراجعة المتميز

## الدراسات الاجتماعية

الفصل الدراسي الثاني

اعداد

د / اسلام عطية / أ / محي الدين سمير

نسخة  
مجانية

ملق الإجابات  
بالداخل



El.Motamez.School

يمكنكم الحصول على المذكرات والاختبارات من خلال مسح رمز ال QR Code  
أو من خلال صفحة "التميز - أ / محمود سعيد".  
يرجى مراعاة حقوق صاحب المحتوى عند النشر.



## بنك أسئلة التميز علي الفصل الدراسي الثاني

تشمل اسئلة الوزارة واختبارات المحافظات

## اختر الاجابة الصحيحة مما بين القوسين

## السؤال الأول

- ١ يوجد المتحف القومي للحضارة في مدينة .....  
 (أ) المعادي (ب) الفسطاط (ج) شرم الشيخ (د) أكتوبر
- ٢ إذا أردت التمتع بالمناظر الخلابة والشعاب المرجانية فعليك زيارة مدينة .....  
 (أ) مرسى مطروح (ب) شرم الشيخ (ج) الإسكندرية (د) العلمين
- ٣ الجهة المسئولة عن سن القوانين في مصر هي .....  
 (أ) مجلس النواب (ب) المجلس المحلي (ج) دار القضاء العالي (د) مجلس الوزراء
- ٤ أسهمت منظمة اليونسكو في إنقاذ إحدى المناطق الأثرية في مصر من الغرق  
 (أ) معبد أبو سمبل (ب) دير سانت كاترين (ج) منطقة أبو مينا (د) وادي الريان
- ٥ إذا أردت زيارة أحد مواقع التراث الطبيعي في مصر فإنك سوف تتوجه لزيارة .....  
 (أ) برج القاهرة (ب) محمية الغابة المتحجرة (ج) قلعة صلاح الدين (د) الكنسية المعلقة
- ٦ إذا أردت الاستمتاع بشكل هياكل الحيتان التي تكونت في مصر منذ ٤٠ مليون سنة فإنك ستزور إحدى المحميات الطبيعية في محافظة وهي .....  
 (أ) القاهرة (ب) البحيرة (ج) الفيوم (د) أسوان
- ٧ إذا أردت التمتع بالمناظر الخلابة والشعاب المرجانية فعليك زيارة مدينة .....  
 (أ) مرسى مطروح (ب) شرم الشيخ (ج) الاسكندرية (د) العلمين
- ٨ يمثل حضور والدك مؤتمر النقل الذكي نموذج لـ .....  
 (أ) السياحة الترفيهية (ب) السياحة الثقافية (ج) سياحة المؤتمرات والمهرجانات (د) السياحة العلاجية
- ٩ يقع دير سانت كاترين في محافظة .....  
 (أ) شمال سيناء (ب) جنوب سيناء (ج) البحر الأحمر (د) مرسى مطروح
- ١٠ المنظمة التي خصصت يوما عالميا للتوعية بحماية التراث الوطني هي منظمة .....  
 (أ) اليونسيف (ب) السياحة (ج) الفاو (د) اليونسكو
- ١١ تنصح زميلك عند زيارته لأحد الأماكن الأثرية بأن يقوم بـ .....  
 (أ) تصوير القطع الأثرية (ب) تناول الأطعمة والمشروبات (ج) تسجيل زيارته على قطعة أثرية (د) المحافظة على نظافة المكان



١٢ من المواقع التراثية المسجلة على خريطة التراث العالمي لليونسكو في مصر .....

- أ وادي الحيتان ب السد العالى ج برج القاهرة د الحاجز المرجاني

١٣ إذا أردت دعوة أصدقاءك الأجانب لمعرفة الجوانب الثقافية لمصر فإنك تقترح عليهم زيارة.....

- أ شواطئ البحر الاحمر ب دار الاوبرا ج حديقة الأزهر د شرم الشيخ

١٤ إذا رغب أحد أصدقائك في قضاء إجازة ترفيهية فيمكنك توجيهه لزيارة

- أ مدن البحر الأحمر ب جامع احمد بن طولون ج مجمع الاديان د معرض القاهرة الدولي للكتاب

١٥ الشخص الذي يعاني من بعض الأمراض الجلدية يمكنه زيارة.....والتي تعد سياحة علاجية

- أ واحة سيوة ب الجيزة ج مدينة الإسكندرية د مدينة القاهرة

١٦ إذا قمت بتخطيط لرحلة سياحية لمناطق السياحة العلاجية في مصر فإنك تختار.....

- أ عيون موسى بسياء ب مكتبة الإسكندرية ج المتحف المصري د خان الخليل

١٧ إذا أردت زيارة أحد مناطق التراث الثقافي في الجيزة فإنك سوف تتوجه لزيارة .....

- أ محمية راس محمد ب الاهرامات ج قلعة قايتباي د قلعة صلاح الدين

١٨ تقوم مصر بترشيد استهلاك الطاقة والمياه في المنشآت السياحية لتحقيق ....

- أ السياحة الثقافية ب السياحة المستدامة ج السياحة المؤقتة د السياحة الدينية

١٩ تبذل الدولة جهودًا كبيرة للحفاظ على المناطق الأثرية منها.....

- أ تشجيع الاتجار في الآثار ب ترميم المناطق الأثرية ج استبدال الآثار بالمناطق السكنية د تشجيع السكان للبحث عن الآثار

٢٠ الدخل التي تحققها الأنشطة الاقتصادية والخدمات بمصر يطلق عليها الدخل.....

- أ الحقيقي ب المتوسط ج الدولي د القومي

٢١ تجرى جمهورية مصر العربية تعدادها السكاني كل .....

- أ خمس سنوات ب عشر سنوات ج عشرين سنة د خمسة وعشرين سنة

٢٢ تتضمن العملة الورقية التي أمامك وسيلة نقل أخذها المصريون القدماء عن .

- أ الفرس ب الروم ج الهكسوس د الانجليز

٢٣ إذا أردت تصدير مصادر الطاقة عبر موانئ البحر المتوسط فعليك بالتوجه إلى ميناء

- أ سفاجا ب دمياط ج السويس د الغردقة

٢٤ وضعت الدولة كاميرات على الطرق وملصقات إلكترونية على كل سيارة بهدف .

- أ تنظيم عبور المشاه ب مراقبة حوادث الطرق ج حصر أماكن الكثافات السكانية د حصر الكثافات المرورية

٢٥ تنصح زميل لك باستخدام النقل المائي وذلك لأنه .....

- أ أرخص وسائل النقل ب أعلى وسائل النقل ج أسرع وسائل النقل د انتشاره بكل محافظات مصر



٣٦. ينفرد أهل جنوب أسوان بالتحدث باللغة ..... التي يحرص السكان على الحفاظ عليها وتناقلها بين الأجيال.

أ) الهيروغليفية      ب) الأمازيغية      ج) اليونانية      د) النوبية

٣٧. ....يؤخذ رأيه في معاهدات الصلح والاقترحات الخاصة بتعديل الدستور

أ) المجلس المحلي      ب) مجلس الدفاع      ج) مجلس النواب      د) مجلس الشيوخ

٣٨. إذا دُعيت إلى إلقاء ندوة لشباب الريف فمن الأفضل أن يكون موضوعها عن .....

أ) أهمية تنظيم الأسرة      ب) أهمية حرفة الرعي      ج) ضرورة الهجرة إلى المدن      د) ضرورة زيادة حجم الأسرة الريفية

٣٩. المحافظة التي يقع بها مينائي الغردقة وسفاجا هي محافظة .....

أ) البحر الاحمر      ب) مطروح      ج) جنوب سيناء      د) القاهرة

٣٠. عدم قدرة أحد جيرانك على القراءة والكتابة تعرف بالأمية

أ) التكنولوجيا      ب) البصرية      ج) الهجائية      د) النفسية

٣١. إذا كنت ترغب في نقل بضائع كبيرة الحجم وثقيلة الوزن فعليك باختيار .....

أ) النقل البرى      ب) النقل المائى      ج) النقل الجوى      د) الشاحنات

٣٢. تسعى مصر للقضاء على الأمية الهجائية لذا أنشأت .....

أ) الهيئة القومية للتأمين الاجتماعى      ب) الهيئة العامة للاستعلامات      ج) الهيئة العامة لتعليم الكبار      د) مركز دعم واتخاذ القرار

٣٣. أرسل الملك سنفرو رحلاته التجارية إلى بلاد فينيقيا باستخدام .....

أ) السيارات      ب) السفن      ج) الطائرات      د) القطارات

٣٤. الجهة المسئولة عن سن قوانين لحماية الأطفال ومنع استغلالهم هي.

أ) السلطة القضائية      ب) السلطة التشريعية      ج) السلطة التنفيذية      د) السلطة المحلية

٣٥. تعد السكك الحديدية المصرية ثاني خطوط تم مدها عالمياً بعد خطوط السكك الحديدية في .....

أ) المملكة المتحدة      ب) المملكة الأردنية      ج) فرنسا      د) الولايات المتحدة

٣٦. أتوقع أن المسئول عن إصدار قرار إعلان الحرب في حالة تعرض البلاد لأخطار خارجية هو .....

أ) رئيس الوزراء      ب) رئيس الجمهورية      ج) وزير الدفاع      د) المجلس المحلى

٣٧. تؤدي مشكلات الأمية والفقر والبطالة إلى ارتفاع .....

أ) متوسط عمر الافراد      ب) معدل الرفاهية      ج) معدل الادخار      د) معدل الجريمة

٣٨. أرسلت حتشبسوت رحلاتها التجارية إلى بلاد .....

أ) فينيقيا      ب) بونت      ج) السودان      د) اليونان

٣٩. إذا أرادت الدولة جمع بيانات عن سكانها لتلبية احتياجاتهم في المستقبل فعليها إجراء .....

أ) حصر للاحتياجات      ب) تعداد سكانى      ج) حصر للوفيات      د) حصر للمتقدمين للخدمة العسكرية



٤٠ للمحافظة على البيئة من التلوث علينا استخدام مصادر الطاقة النظيفة مثل .....

- أ) البترول      ب) البنزين      ج) الطاقة الشمسية      د) الفحم

٤١ نعد رياضة سباق الهجن من المناسبات المميزة لسكان...

- أ) الصعيد      ب) النوبة      ج) سيناء      د) سيوة

٤٢ تطوير الموانئ البحرية يساعد على .....

- أ) تنشيط التجارة      ب) تنوع المحاصيل      ج) ترشيد المياه      د) اكتشاف مصادر الطاقة

٤٣ النشاط الاقتصادي الأصلي لسكان البدو هو .....

- أ) الزراعة      ب) الصناعة      ج) التجارة      د) الرعي

٤٤ تطوير الطريق الدائري دليل على جهود الدولة بتطوير طرق النقل ....

- أ) البحري      ب) النهري      ج) البري      د) الجوي

٤٥ وسيلة نقل دخلت إلى مصر في عهد الخديوي توفيق وكانت تعمل بالبخار هي .....

- أ) البواخر      ب) الطائرات      ج) القوارب      د) السيارات

٤٦ إذا أردت تصدير السلع الزراعية عبر موانئ البحر الأحمر فعليك بالتوجه إلى ميناء

- أ) الاسكندرية      ب) دمياط      ج) بور توفيق      د) الغردقة

٤٧ استخدم المصريون القدماء وسائل النقل المائي مثل ....

- أ) البواخر      ب) الغواصات      ج) ناقلات النفط      د) القوارب

٤٨ يعتمد اقتصاد واحة سيوة على

- أ) الزراعة والصناعة      ب) الزراعة والسياحة      ج) السياحة والتجارة      د) الزراعة والتجارة

٤٩ المحافظة الاقل سكانا في جمهورية مصر العربية هي .....

- أ) الوادي الجديد      ب) جنوب سيناء      ج) أسوان      د) شمال سيناء

٥٠ مشكلة الأمية في مصر من المشكلات .....

- أ) الاقتصادية      ب) السياسية      ج) الاجتماعية      د) النفسية

٥١ أكثر المشكلات الاجتماعية المنتشرة في مصر هي .....

- أ) الأمية      ب) البطالة      ج) الزواج المبكر      د) التلوث

٥٢ يتم إجراء حصر شامل للسكان في مصر كل عشر سنوات عن طريق .....

- أ) وزارة الصحة والسكان      ب) الجهاز المركزي للتعبئة العامة والإحصاء      ج) الجهاز المركزي للرقابة الإدارية      د) الجهاز المركزي للمحاسبات

٥٣ تشترك مع رئيس الجمهورية في وضع الخطة العامة للدولة .....

- أ) الحكومة      ب) السلطة التشريعية      ج) السلطة القضائية      د) المجلس المحلي



- ٥٤ تم مد أول خط سلك حديد في مصر بين القاهرة و.....  
 أ) السويس ب) الجيزة ج) الإسكندرية د) المنيا
- ٥٥ متابعة جودة الخدمات والمرافق في محافظتي من مهام .....  
 أ) رئيس الوزراء ب) الوزراء ج) المحافظ د) رئيس الجمهورية
- ٥٦ تنتشر رقصة البمبوتية بين سكان محافظة .....  
 أ) الإسكندرية ب) قنا ج) القاهرة د) السويس
- ٥٧ عند التخطيط لنزهة نيلية أنت وأسرتك فتنصح باستخدام.....  
 أ) دراجة بخارية ب) السيارة ج) الغواصة د) الأتوبيس النهري
- ٥٨ يعد التراث النوبي في محافظة أسوان امتدادًا للحضارة  
 أ) المصرية القديمة ب) الرومانية ج) اليونانية د) الإسلامية
- ٥٩ عندما تريد الإقامة في محافظة حضرية فعليك التوجه إلى محافظة.....  
 أ) الوادي الجديد ب) بورسعيد ج) الجيزة د) المنيا
- ٦٠ ثاني أعلى محافظات مصر من حيث نسبة الأمية محافظة  
 أ) المنيا ب) البحر الأحمر ج) القاهرة د) بنى سويف
- ٦١ يتولى رئيس الجمهورية الرئاسة عن طريق .....  
 أ) التعيين ب) الانتخاب ج) التوريث د) التحكيم
- ٦٢ مصر أولى دول إفريقيا والشرق الأوسط استخدامًا لـ  
 أ) السيارات ب) الطائرات ج) القطارات د) السفن
- ٦٣ يمثل السلطة التشريعية في مصر .....  
 أ) مجلس الوزراء ب) مجلس النواب ج) المجلس المحلي د) مجلس الدولة
- ٦٤ تواصل الإنسان قديماً في عصور ما قبل معرفة الكتابة عن طريق .....  
 أ) الدخان ب) الحمام الزاجل ج) البريد د) الإنترنت
- ٦٥ تم تشييد القلاع والحصون في مصر قديماً بهدف .....  
 أ) حماية البلاد ب) جذب السياح ج) توفير المساكن د) توفير حياة كريمة
- ٦٦ سهل ..... العمل في الأماكن التي يصعب السفر إليها.  
 أ) التلغراف ب) البريد ج) الإنترنت د) المكتب
- ٦٧ إحدى إيجابيات شبكة الإنترنت هي .....  
 أ) نشر الشائعات ب) التسوق الإلكتروني ج) إضاعة الوقت د) إهمال الهوايات



- ٦٨ كتب المصري القديم الرسائل على ورق .....
- أ البردي ب التوت ج الكتان د الجوت
- ٦٩ استخدم الإنسان قديماً في العصور التاريخية ..... في إرسال الرسائل.
- أ النار ب الهاتف ج البريد د الحمام الزاجل
- ٧٠ استخدم الإنسان للتواصل في عصور ما قبل التاريخ .....
- أ الرسائل النصية ب الطبول ج التليفون د التلغراف
- ٧١ يمكنك استخراج جواز سفر من خلال موقع .....
- أ بنك المعرفة ب بوابة مصر ج منصة مصر د التحول الرقمي
- ٧٢ عند زيارتك للأهرامات الثلاثة فإنك تشاهد أثراً ترجع للحضارة .....
- أ المصرية القديمة ب اليونانية ج الرومانية د القبطية
- ٧٣ تم بناء جامع عمرو بن العاص بمدينة الفسطاط في عهد الخليفة .....
- أ عمر بن عبد العزيز ب عمر بن الخطاب ج أبي بكر الصديق د عثمان بن عفان
- ٧٤ المصدر الأول للعملات الأجنبية في مصر يتتمثل في النشاط .....
- أ الزراعي ب الرعوي ج الصناعي د السياحي
- ٧٥ عند زيارتك لأحد المناطق الأثرية عليك الالتزام .....
- أ تصوير القطع الأثرية ب التقاط الصور ج حسن معاملة السياح د كتابة عبارات تذكارية على الآثار

## ضع علامة صح أو علامة خطأ أمام العبارات التالية

## السؤال الثاني

- ١ توضح علامات المرور الأرضية مسار تحرك السيارات .
- ٢ يختلف توزيع سكان مصر بين المحافظات .
- ٣ تشير العلامة المرورية  إلى أحد العلامات المرورية التحذيرية .
- ٤ أدى الزواج المبكر إلى زيادة نسبة السكان في الريف بمصر .
- ٥ لتشجيع النقل المستدام يمكنك أن تقترح على والدك استخدام سيارته الخاصة بدلا من وسائل النقل الجماعي .
- ٦ أنشأت منظمة اليونسكو متحف النوبة بمحافظة جنوب سيناء
- ٧ ترتب على إنشاء الكباري والمحاور زيادة زمن رحلة الوصول بين الأماكن .
- ٨ تتشابه لهجات السكان في كل البيئات المصرية
- ٩ أسس بنك مصر أول شركة طيران في العالم



- ( ) ١٠ يشتهر سكان سيناء بإقامة سباقات الهجن.
- ( ) ١١ تعد السفن أول وسيلة نقل مائي عرفها المصري القديم
- ( ) ١٢ تزداد نسبة الأمية بين الاناث عن الذكور
- ( ) ١٣ يمثل مجلس النواب السلطة التشريعية بينما يمثل مجلس الشيوخ السلطة القضائية في مصر .
- ( ) ١٤ تمثل الامية مشكلة اقتصادية تواجه المجتمع المصري .
- ( ) ١٥ يساعد وجود نواب يمثلون الشباب والمرأة على تقدم المجتمع .
- ( ) ١٦ تقلل الأمية من فرص العمل المتاحة امام الفرد
- ( ) ١٧ يمثل رئيس الجمهورية السلطة القضائية في مصر.
- ( ) ١٨ يقابل منصب رئيس الوزراء حاليا منصب رئيس الإدارة المركزية قديما .
- ( ) ١٩ استخدم المصريون القدماء الكتابة الهيروغليفية في تسجيل اخبارهم وانجازاتهم
- ( ) ٢٠ كان الوزير على رأس نظام الحكم في مصر القديمة.
- ( ) ٢١ يرجع ارتفاع نسبة الامية الهجائية بين الشعب المصرى الى التحاق جميع الاطفال بالمدارس
- ( ) ٢٢ يختار رئيس الجمهورية نصف أعضاء مجلس النواب.
- ( ) ٢٣ تزداد نسبة البطالة والأمية في الحضر عن الريف
- ( ) ٢٤ يمكن لمجلس النواب توجيه استجواب لأحد أعضاء الحكومة.
- ( ) ٢٥ يمتلك بدو سيناء تراثا ثقافيا متنوعا يعد جزءا من هويتهم المصرية
- ( ) ٢٦ تعد الحكومة جزء من السلطة التنفيذية.
- ( ) ٢٧ يتنوع التراث الثقافي لسكان مصر بتنوع المناطق التي يعيشون فيها
- ( ) ٢٨ تم الاعتماد على الرسائل النصية في التواصل قبل إشارات الدخان.
- ( ) ٢٩ يعمل معظم سكان الحضر بالتجارة والصناعة والخدمات الأخرى .
- ( ) ٣٠ سباقات الهجن هي رياضة تراثية تشتهر بها سيناء
- ( ) ٣١ تسببت هجرة سكان المدن إلى الريف في ظهور العشوائيات حول المدن.
- ( ) ٣٢ عندما تستخدم الدولة وسائل نقل صديقة للبيئة فهي تحقق مفهوم النقل المستدام.
- ( ) ٣٣ يمثل سكان الحضر أكثر من نصف سكان مصر.
- ( ) ٣٤ يتميز النقل المائي عن غيره بأنه أسرع ولكنه مرتفع التكلفة.
- ( ) ٣٥ يساعد تنظيم الأسرة على زيادة عدد الأطفال لدى الأسرة .
- ( ) ٣٦ يربط القطار الكهربائي بين العين السخنة والعلمين مرورا بالعاصمة الإدارية الجديدة .
- ( ) ٣٧ تساعدنا قائمة التراث العالمي على معرفة مواقعنا التراثية الثقافية والطبيعية
- ( ) ٣٨ تعد صيانة منطقة الأهرامات من مشروعات تطوير التراث العمراني بالقاهرة.
- ( ) ٣٩ تم إنشاء القلاع لحماية البلاد من الأعداء وهي تعد من مناطق التراث الطبيعي
- ( ) ٤٠ يساهم التراث الثقافي المصرى في توفير فرص عمل لشباب



- ( ) ٤١. معبد الدير البحري من أقدم الأديرة الدينية في سيناء.
- ( ) ٤٢. التعامل الآمن مع المخلفات بالمنشآت السياحية يضر السياحة المستدامة.
- ( ) ٤٣. يرجع تاريخ منطقة أبو مينا بالإسكندرية إلى الحضارة المصرية القديمة.
- ( ) ٤٤. كلما اتسع النشاط السياحي في الدولة كلما ازدادت نسبة البطالة .
- ( ) ٤٥. إذا قمت بزيارة معرض الكتاب الدولي فأنت بذلك تقوم بسياحة المؤتمرات والمهرجانات.
- ( ) ٤٦. تختار اليونيسكو بعض الأماكن الفريدة والمميّزة لتكون ضمن قائمة التراث العالمي .
- ( ) ٤٧. عند زيارتك لمدينة دهب على ساحل البحر الأحمر فأنت تقوم بسياحة علاجية.
- ( ) ٤٨. ساهمت منظمة اليونيسكو في إنقاذ معبد أبو سمبل من الغرق بعد بناء السد العالى.
- ( ) ٤٩. إذا أرادت الدولة الحفاظ على المصدر الأول للعملة الأجنبية فعليها بدعم الأنشطة السياحية.
- ( ) ٥٠. تعد مدينة طيبة من المواقع التراثية المسجلة على خريطة التراث العالمي.
- ( ) ٥١. كلما تطورت أساليب التسويق السياحي ووسائل المواصلات زادت الأنشطة السياحية.
- ( ) ٥٢. تخيل أنك ذهبت في رحلة إلى معبد الكرنك فأنت بذلك تقوم بزيارة منطقة للتراث الثقافي
- ( ) ٥٣. تمثل زيارتك لمكتبة الإسكندرية نوع من السياحة الترفيهية.
- ( ) ٥٤. إذا كنت مسؤولاً عن تنشيط السياحة في مصر فعليك تطوير وسائل النقل والمنشآت الفندقية.
- ( ) ٥٥. يعد تناول الطعام والشراب بجوار المناطق الأثرية أمر مقبول .
- ( ) ٥٦. حماية الشعب المرجانية في مصر تدعم السياحة المستدامة.
- ( ) ٥٧. استخدام ضوء الكاميرا عند التقاط الصور يمكن أن يؤثر سلبيًا على الأماكن الأثرية .
- ( ) ٥٨. زيارة السائحين لمعبد الأقصر، تعد زيارة لمنطقة تراث طبيعي.
- ( ) ٥٩. إذا ذهبت في رحلة إلى منطقة وادي الحيتان في الفيوم فأنت بذلك تكون قمت بزيارة منطقة تراث طبيعي.
- ( ) ٦٠. منطقة القاهرة التاريخية من أهم وأكبر المدن التراثية في العالم.
- ( ) ٦١. تضم منطقة وادي الحيتان مجموعة من الأشجار المتحجرة على شكل قطع صخرية .
- ( ) ٦٢. الشخص الذى يحتاج إلى علاج واستجمام عليه زيارة العيون الكبريتية بسيوة.
- ( ) ٦٣. عند زيارتك لشواطئ الإسكندرية فإنك تقوم بسياحة ترفيهية .
- ( ) ٦٤. عند زيارتك لأهرامات الجيزة وشارع المعز وخان الخليلي فأنت تقوم بسياحة دينية.
- ( ) ٦٥. عند زيارتك لمعرض القاهرة الدولي للكتاب فأنت تقوم بسياحة علاجية .
- ( ) ٦٦. كلما زادت نسبة الامية زادت معها فرصه الحصول على عمل
- ( ) ٦٧. إذا كنت قائد سيارة ورأيت تلك العلامة المرورية  فعليك عدم التوقف نهائيا .
- ( ) ٦٨. اذا استطاع زميلك القراءة والكتابة فهو يعانى من الامية الهجائية .
- ( ) ٦٩. يمكنك عبور الطريق إذا كانت إشارة المرور الضوئية الدائرية لونها أخضر .
- ( ) ٧٠. يمثل أعضاء مجلس النواب جميع فئات المجتمع المصري.



- ( ) ٧١ تختص الحكومة بسن قوانين لحماية البيئة من التلوث .
- ( ) ٧٢ يشرف المحافظ على المشروعات القومية بالدولة
- ( ) ٧٣ استخدم المصريون القدماء جذوع الأشجار المربوطة بالأعشاب المتينة في صناعة القوارب.
- ( ) ٧٤ أخذ الهكسوس العربات الحربية عن المصريين القدماء .
- ( ) ٧٥ تعد مصر أولى الدول عربيًا وإفريقيًا في إنشاء مترو الأنفاق.
- ( ) ٧٦ يمكنك استخدام النقل الجوي عندما تريد نقل بضائع سريعة التلف.
- ( ) ٧٧ إذا رأيت العلامة المرورية  على الطريق فهذا يعني وجود محطة وقود .
- ( ) ٧٨ إذا كنت قائد سيارة و رأيت إشارة المرور الضوئية الدائرية لونها أخضر فعليك التوقف فوراً .
- ( ) ٧٩ تساعد علامات المرور الضوئية على شكل إنسان على تنظيم عبور المشاة .
- ( ) ٨٠ تظهر الساعة السكانية نتائج التعداد السكاني الذي يتم إجراءه كل عشر سنوات .
- ( ) ٨١ يقيم معظم السكان الذين يعملون بالزراعة في المدن
- ( ) ٨٢ يعاني معظم سكان الريف من انخفاض الدخل ومستوى المعيشة .
- ( ) ٨٣ يتوزع السكان على كل محافظات مصر بالتساوي
- ( ) ٨٤ تساعد الحكومة رئيس الجمهورية في إدارة شئون البلاد.
- ( ) ٨٥ يمكنك الاستمتاع بالعزف على آلة السمسمية في محافظة البحر الأحمر
- ( ) ٨٦ يساعد الاهتمام بالتراث الثقافي على زيادة عدد السائحين لمصر
- ( ) ٨٧ إذا كنت من سكان محافظة المنيا فانت تسكن في أعلى محافظات مصر حيث نسبة الأمية
- ( ) ٨٨ تقتصر مشكلة الأمية الهجائية على جمهورية مصر العربية
- ( ) ٨٩ أصبح التواصل أسهل وأسرع في العصر الحديث بعد اختراع شبكة الإنترنت.
- ( ) ٩٠ يقتصر تمثيل الشعب المصري في مجلس النواب والشيوخ على الشباب.
- ( ) ٩١ تشترك الحكومة مع رئيس الجمهورية في وضع الخطة العامة للدولة.
- ( ) ٩٢ كانت طائفة الأخوين رايت أول طائفة في التاريخ.
- ( ) ٩٣ لتحقيق النقل المستدام قامت مصر بتحويل السيارات التي تعمل بالغاز الطبيعي إلى بنزين.
- ( ) ٩٤ تزداد نسبة سكان الريف في مصر عن نسبة سكان الحضر .
- ( ) ٩٥ أمر الملك خوفو بنحت تمثال أبو الهول بمحافظة الجيزة.
- ( ) ٩٦ شيدت الكنيسة المعلقة على الأبراج الجنوبية لحص بابليون.
- ( ) ٩٧ بنى عمرو بن العاص جامعه المعروف في حي مصر القديمة.
- ( ) ٩٨ تم تصميم برج القاهرة على شكل نبات البردي.
- ( ) ٩٩ بدأت العصور التاريخية بمعرفة الإنسان للكتابة.
- ( ) ١٠٠ انتشر استخدام الحمام الزاجل في إرسال الرسائل بعد ظهور البريد.
- ( ) ١٠١ تم توصيل أول خط هاتفي في مصر بين القاهرة السويس.



## أكمل العبارات التالية بالاجابات المناسبة

## السؤال الثالث

١

(سور مجرى العيون - السياحة - القاهرة - الإسكندرية - خفرع - فرص عمل)

أمر الملك ..... بنحت تمثال أبو الهول.

من أهم المدن التراثية في العالم مدينة.....

توفر السياحة ..... للشباب

تعد ..... المصدر الأول للعملات الأجنبية في مصر

قامت الدولة بتطوير ..... بالقاهرة .

١

٢

٣

٤

٥

٢

(توفيق - المعلوماتية - الجهاز المركزي للتعبئة العامة والاحصاء - التحذيرية - حاكم - الهجائية)

العلامات..... هي التي تحذر من المخاطر المحتملة.

كان الفرعون في مصر قديماً يعين ..... لكل إقليم .

دخلت أول سيارة مصر في عهد الخديوى.....

الجهة المسئولة عن إجراء التعداد السكاني في مصر هي .....

الأمية ..... هي عدم قدرة الفرد على القراءة والكتابة .

١

٢

٣

٤

٥

٣

(10 - الهيروغليفية - أون - مجلس النواب - رئيس الجمهورية - القاهرة - 5 - السويس)

تعتبر محافظة ..... أعلي محافظات مصر سكاناً .

اخترع المصريون القدماء الكتابة.....

يختار رئيس الجمهورية ..... % من أعضاء مجلس النواب .

الجهة المسئولة عن سن القوانين هي .....

تعتبر جامعة ..... هي أول جامعة في التاريخ .

١

٢

٣

٤

٥

٤

( كثرة الانجاب - الريف - الحكومة - السمسية - الحضر )

يمثل سكان ..... نسبة 57.6 % من عدد السكان في مصر .

يشتهر سكان محافظات القناة باستخدام آلة.....

..... من أسباب الزيادة السكانية في مصر .

تعاون..... رئيس الدولة وتتكون الحكومة من رئيس الوزراء و الوزراء .

١

٢

٣

٤



0

( البري - رئيس الجمهورية - الجوي - الإسكندرية - انسان - السياحة - دائرية )

أسرع وسائل النقل هو النقل.....

يقوم ..... بتعيين المحافظين .

تنقسم العلامات الضوئية إلى علامات ضوئية..... وعلامات ضوئية على شكل.....

أول خط هاتف في مصر بط بين القاهرة و .....

يحتفل سكان واحة سيوة بحصاد التمور والزيتون في عيد .....

1

2

3

4

5

1

( البمبوتية - السيرة الهلالية - السلطة القضائية - الجوي - المنيا - المائي - الانترنت )

تعد محافظة ..... أعلي محافظات مصر في نسبة الأمية .

يستخدم النقل..... في نقل البضائع ثقيلة الوزن وكبيرة الحجم

يشتهر سكان الصعيد بإنشاد.....

أصبح العالم قرية صغيرة نتيجة لاختراع الإنسان .....

..... هي سلطة مستقلة تتولاها المحاكم المتنوعة .

1

2

3

4

5

## اكتب ما تشير اليه العبارات التالية

## السؤال الرابع

( )

1 كان يقوم بتعيين حاكم لكل إقليم في مصر قديماً .

( )

2 سياحة تتمثل في زيارة المدن الشاطئية مثل مدينة دهب .

( )

3 حصر شامل للسكان لتحديد الخدمات التي يحتاجونها .

( )

4 منطقة في الاسكندرية تعد مزاراً دينياً مهددة بالتآكل

( )

5 أقل محافظات مصر سكاناً بسبب صعوبة مظاهر سطحها .

( )

6 المواقع الطبيعية الجميلة ذات القيمة العالمية التي يتدخل الإنسان في صنعها .

( )

7 الدخل الذي تحققه جميع الأنشطة الاقتصادية في عام واحد

( )

8 عيد يجذب السياح في واحة سيوة

( )

9 هي علامات توضح معالم الطريق للسائق

( )

10 سياحة تعتمد على زيارة العيون الكبريتية والرمال الساخنة للعلاج أو الاستجمام

( )

11 هي عربات تجرها الأحصنة ودخلت مصر مع غزو الهكسوس

( )

12 عدم القدرة على القراءة أو الكتابة

( )

13 تُظهر تقديرات لعدد سكان مصر





- ( ) ٤٢ مناطق ظهرت بسبب هجرة سكان الريف الى المدن .
- ( ) ٤٣ الجهة المسئولة عن اجراء التعداد السكاني .
- ( ) ٤٤ هي زيارة أماكن عيون المياه الكبريتية والرمال الساخنة
- ( ) ٤٥ معبد يقع في نهاية منطقة الكنائس القبطية في الفسطاط.
- ( ) ٤٦ مبادرة أطلقتها الدولة لتنمية الريف
- ( ) ٤٧ اقدم الاديرة ويقع جنوب سيناء عند سفح جبل سيناء
- ( ) ٤٨ اكبر واهم المدن التراثية في العالم لتعدد آثارها ومبانيها التاريخية
- ( ) ٤٩ يمثل السلطة التشريعية ويقوم بسن القوانين في الدولة
- ( ) ٥٠ أحد معالم القاهرة الحديثة تم تصميمه على شكل زهرة اللوتس

## بم تفسر

## السؤال الخامس

١ أهمية منطقة ابو ميناء كموقع تراث عالمي

.....

٢ اكتب تفسيراً واحداً لمنع التقاط صور بالقرب من القطع الأثرية.

.....

٣ أهمية السياحة في مصر

.....

٤ إدراج منطقة وادي الحيطان على قائمة التراث العالمي

.....

٥ اكتب تفسيراً واحداً لاهتمام الدولة بالمناطق الأثرية.

.....

٦ منطقة أبو ميناء مهددة بالخطر

.....

٧ بناء القلاع والحصون في مناطق مختلفة في مصر قديماً

.....

٨ اكتب تفسيراً واحداً لاهتمام الدولة بتطوير منطقة الأهرامات.

.....

٩ اكتب تفسيراً واحداً لاهتمام الدولة بتطوير مدينة القاهرة التاريخية

.....



١٠ اكتب تفسيراً واحداً لإصدار الدولة بعض القوانين الخاصة بالآثار.

.....

١١ لماذا بنى المصريون القدماء الأهرامات على الضفة الغربية لنهر النيل؟..

.....

١٢ حدد سببا واحدا لاستخدام الحمام الزاجل في إرسال الرسائل قديماً

.....

١٣ أهمية قائمة التراث العالمي؟

.....

١٤ اكتب تفسيراً واحداً لأهمية وسائل النقل في حياة الشعوب.

.....

١٥ احتفال منظمة اليونسكو باليوم الدولي لمحو الأمية في الثامن من شهر سبتمبر من كل عام

.....

١٦ أهمية مجلس الشيوخ

.....

١٧ تسمية عيد الحصاد بواحة سيوة بعيد السياحة

.....

١٨ اكتب تفسيراً واحداً لأهمية السكك الحديدية.

.....

١٩ أهمية التعداد السكاني لمصر

.....

٢٠ أهمية منصب المحافظ

.....

٢١ اكتب تفسيراً واحداً لاهتمام مصر بإنشاء الكبارى والطرق.

.....

٢٢ تنوع التراث الثقافي المصري؟

.....

٢٣ اكتب تفسيراً واحداً لإصدار الدولة لقانون المرور

.....



٢٤ انخفاض عدد سكان محافظة جنوب سيناء

.....

٢٥ اكتب تفسيراً واحداً لاهتمام مصر بتطوير الموانئ البحرية.

.....

٢٦ أهمية التراث الثقافي المصري

.....

٢٧ اكتب تفسيراً واحداً لأهمية مجلس النواب المصري ؟

.....

٢٨ انتشار الأمية بين سكان مصر

.....

٢٩ ضرورة الالتزام بقواعد وآداب المرور

.....

٣٠ أهمية منصب رئيس الجمهورية ؟

.....

٣١ نشاط السياحة في واحة سيوة في شهر أكتوبر من كل عام ؟

.....

٣٢ لزيادة حجم الأسرة في الريف عن الحضر ؟

.....

اجب عن الاسئلة الاتية بما هو مطلوب

السؤال السادس

١ ما العلاقة بين السد العالي وآثار النوبة؟

.....

٢ اكتب مقترحاً واحداً للحفاظ على المناطق الأثرية

.....

٣ حدد سبباً واحداً لضرورة زيارتك لمحافظة جنوب سيناء

.....

٤ اكتب سبباً واحداً لحدوث السيلاب في الريف عن الحضر.

.....



0 استبعد المكان الذي لا ينتمي للمجموعة التالية مع ذكر السبب ؟  
( دير سانت كاترين - منطقة أبو مينا - معبد أبو سمبل - المتحف المصري الكبير )

.....

1 ماذا تتوقع اذا اهملت الدولة المناطق التراثية بها

.....

2 ماذا يحدث إذا لم يتم تفعيل قوانين معاقبة التعدي على المناطق الأثرية والسياحية؟

.....

3 أكتب نتيجة واحدة ترتبت على : اعتقاد المصريين القدماء في البعث والخلود ؟

.....

4 اكتب دليلاً واحداً على الجهود التي تبذلها الدولة للحفاظ على المناطق الأثرية والسياحية.

.....

5 اكتب نتيجة واحدة ترتبت على اهتمام اليونسكو بمناطق التراث العالمي التي حددتها على قائمتها؟

.....

6 اكتب دليلاً واحداً على جهود اليونسكو لتحقيق التنمية المستدامة ؟

.....

7 اكتب مقترحا واحداً للحفاظ على المناطق الأثرية والسياحية في مصر.

.....

8 اكتب دليلاً واحداً على اهتمام اليونسكو بالمناطق التراثية حول العالم ؟

.....

9 اكتب دليلاً واحداً على دعم مصر للسياحة المستدامة

.....

10 ماذا يحدث إذا ارتفعت درجات الحرارة وزاد منسوب المياه في المناطق الأثرية بمصر ؟

.....

11 ما المقصود بالتراث الطبيعي؟

.....

12 اكتب دليلاً واحداً على اهتمام الدولة بتطوير مدينة القاهرة التاريخية.

.....

13 استبعد المكان الذي لا ينتمي للمجموعة التالية مع ذكر السبب ؟

( الغابة المتحجرة - وادي الحيتان - برج القاهرة - محمية نبق )

.....



١٩ اكتب دليلاً واحداً على اهتمام مصر بالتنمية السياحية

.....

٢٠ اكتب نتيجة واحده ترتبت على استخدام وسائل النقل المستدام

.....

٢١ اكتب دليلا واحدا على اهمية الجهاز المركزي للتعبئة العامة والإحصاء بمصر ؟

.....

٢٢ ما العلاقة بين التراث الثقافي والاقتصاد المصري؟

.....

٢٣ اكتب نتيجة واحدة ترتبت على اهتمام الدولة بالتراث الثقافي ؟

.....

٢٤ اكتب حالة واحدة يفضل فيها استخدام النقل المائي

.....

٢٥ اكتب نتيجة واحدة ترتبت على انتشار الأمية في مصر ؟

.....

٢٦ اكتب نتيجة واحدة ترتبت على الثورة الصناعية .

.....

٢٧ اكتب نتيجة واحدة ترتبت على تأسيس نظام حكم قوي وثابت في مصر القديمة ؟

.....

٢٨ اكتب دليلاً واحداً على أهمية منصب الفرعون في مصر القديمة ؟

.....

٢٩ ما العلاقة بين زيادة استخدام السيارات والبيئة؟

.....

٣٠ اكتب أهم استخدامات السفن في مصر القديمة.

.....

٣١ اكتب حالة واحدة يفضل فيها استخدام النقل الجوي

.....

٣٢ اكتب دليلاً واحداً على أن مصر تدعم النقل المستدام .

.....

٣٣ اكتب مقترحاً للحد من هجرة سكان الريف إلى المدن ؟

.....



٣٤ ماذا يحدث اذا لم تهتم الدولة بوضع كاميرات على الطرق

.....

٣٥ ماذا يحدث إذا تم القضاء على مشكلة الأمية في مصر؟

.....

٣٦ دلل على أن فن التخطيط له أصول مصرية قديمة ؟

.....

٣٧ اكتب دليلا واحدا على صحة العبارة التالية ( تبذل الدولة المصرية جهودا كبيرة لتنظيم حركة المرور وتقليل حوادث الطرق ) ؟

.....

٣٨ اكتب دليلاً واحداً على اهتمام المصريين القدماء بالتعليم ؟

.....

٣٩ دلل : تعد منطقة مصر القديمة مزيجاً من الحضارات المختلفة ؟

.....

٤٠ اكتب نتيجة واحدة ترتبت على معرفة الإنسان للكتابة.

.....

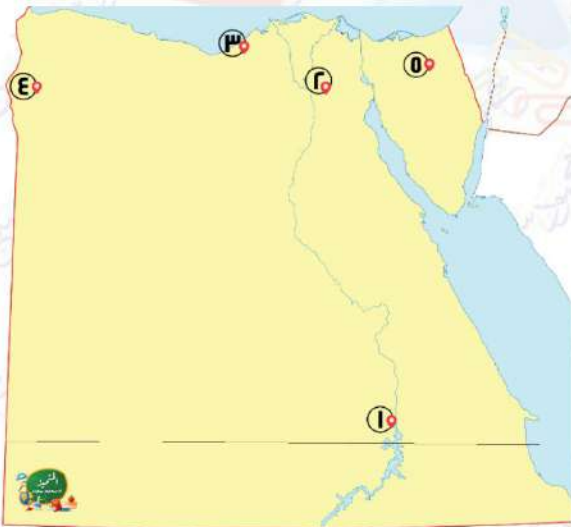
٤١ اكتب اثنين من فوائد شبكة الانترنت

.....

## اكتب مدلول الأرقام علي الخريطة

## السؤال السابع

١



١ محافظة أنشئ بها متحف النوبة.....

٢ محافظة يقع بها مجمع الأديان

.....

٣ منطقة تراثية معرضة لخطر تآكل التربة والمباني

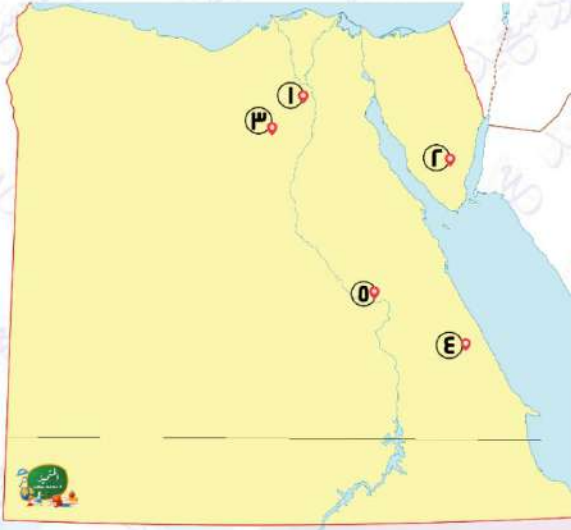
.....

٤ منطقة تشتهر بعيد حصاد التمور والزيتون

.....

٥ محافظة تشتهر بسباقات الهجن.....





٢

- ١ محافظة يوجد بها تمثال أبو الهول .....
- ٢ اقل محافظات مصر سكانا .....
- ٣ محافظة يوجد بها محمية وادي الحيتان .....
- ٤ محافظة تنخفض بها نسبة الامية .....
- ٥ محافظة يقع فيها متحف السيرة الهلالية .....

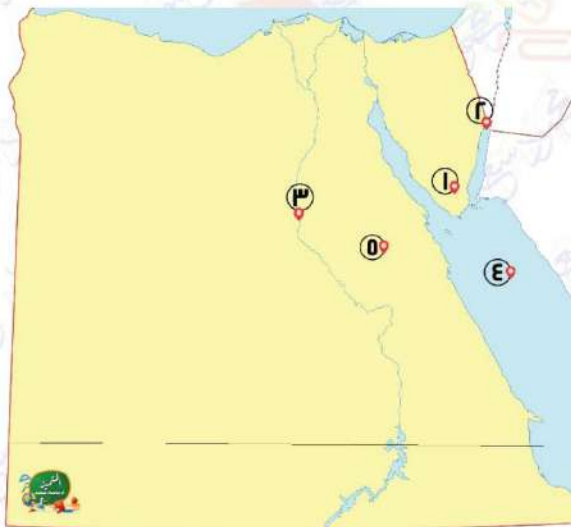
١  
٢  
٣  
٤  
٥



٣

- ١ اعلي محافظات مصر من حيث عدد السكان .....
- ٢ محافظة صحراوية يقل سكانها عن مليون نسمة .....
- ٣ قناة .....
- ٤ محافظة تشتهر بألة السمسمية .....
- ٥ يحتفل سكانها بعيد السياحة واحة .....

١  
٢  
٣  
٤  
٥



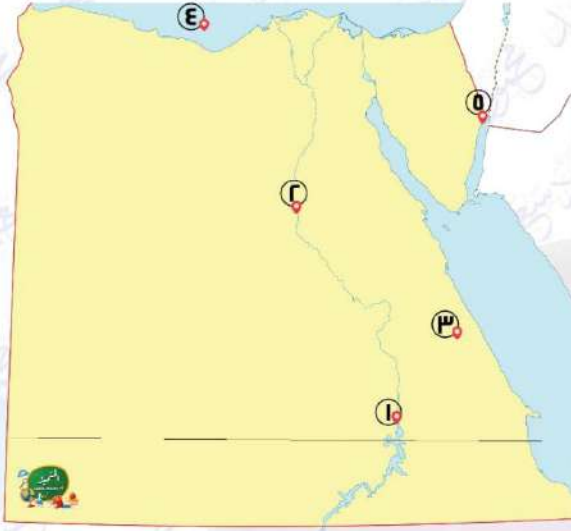
٤

- ١ أقدم الاديرة المصرية .....
- ٢ منطقة تراث ثقافي .....
- ٣ نهر .....
- ٤ البحر .....
- ٥ الصحراء .....

١  
٢  
٣  
٤  
٥



٥



أقرب اللغات للغة المصرية القديمة هي لغة أهل

١

أعلي محافظات مصر من حيث نسبة الامية

٢

أقل محافظات مصر من حيث نسبة الامية

٣

البحر

٤

مدينة يوجد بها قلعة صلاح الدين

٥

٦



محافظة بها موقع أثري مسجل على قائمة التراث

١

العالمي

واحدة من اكبر المدن التراثية في العالم

٢

مدينة تشتهر بالسياحة الشاطئية

٣

معابد انقذتها منظمة اليونسكو

٤

محافظة يقع بها ميناء الغردقة وسفاجا

٥

تم بحمد الله

بسم الله الرحمن الرحيم " إِنَّ الَّذِينَ آمَنُوا وَعَمِلُوا الصَّالِحَاتِ إِنَّا لَا نُضِيعُ أَجْرَ مَنْ أَحْسَنَ عَمَلًا " صدق الله العظيم



الصف  
الرابع  
الابتدائي  
٢٠٢٥

بنك اسئلة

# التميز

أ / محمود سعيد

مذكرتي  
Motamez

الاجابات النموذجية لبنك الاسئلة

## الدراسات الاجتماعية

الفصل الدراسي الثاني

اعداد

د / اسلام عطية / أ / محي الدين سمير



El.Motamez.School

يمكنكم الحصول على المذكرات والاختبارات من خلال مسح رمز ال QR Code او من خلال صفحة "التميز - أ / محمود سعيد".  
© يرجى مراعاة حقوق صاحب المحتوى عند النشر.



## بنك أسئلة التميز علي الفصل الدراسي الثاني

تشمل اسئلة الوزارة واختبارات المحافظات

## اختر الاجابة الصحيحة مما بين القوسين

## السؤال الأول

- ١ يوجد المتحف القومي للحضارة في مدينة .....  
 أ المعادي (ف) ب الفسطاط (ب) ج شرم الشيخ (ج) د أكتوبر (د)
- ٢ إذا أردت التمتع بالمناظر الخلابة والشعاب المرجانية فعليك زيارة مدينة .....  
 أ مرسى مطروح (ف) ب شرم الشيخ (ب) ج الإسكندرية (ج) د العلمين (د)
- ٣ الجهة المسئولة عن سن القوانين في مصر هي .....  
 أ مجلس النواب (ف) ب المجلس المحلي (ب) ج دار القضاء العالي (ج) د مجلس الوزراء (د)
- ٤ أسهمت منظمة اليونسكو في إنقاذ إحدى المناطق الأثرية في مصر من الغرق  
 أ معبد أبو سمبل (ف) ب دير سانت كاترين (ب) ج منطقة أبو مينا (ج) د وادي الريان (د)
- ٥ إذا أردت زيارة أحد مواقع التراث الطبيعي في مصر فإنك سوف تتوجه لزيارة .....  
 أ برج القاهرة (ف) ب محمية الغابة المتحجرة (ب) ج قلعة صلاح الدين (ج) د الكنسية المعلقة (د)
- ٦ إذا أردت الاستمتاع بشكل هياكل الحيتان التي تكونت في مصر منذ ٤٠ مليون سنة فإنك ستزور إحدى المحميات الطبيعية في محافظة وهي .....  
 أ القاهرة (ف) ب البحيرة (ب) ج الفيوم (ج) د أسوان (د)
- ٧ إذا أردت التمتع بالمناظر الخلابة والشعاب المرجانية فعليك زيارة مدينة .....  
 أ مرسى مطروح (ف) ب شرم الشيخ (ب) ج الاسكندرية (ج) د العلمين (د)
- ٨ يمثل حضور والدك مؤتمر النقل الذكي نموذج لـ .....  
 أ السياحة الترفيهية (ف) ب السياحة الثقافية (ب) ج سياحة المؤتمرات والمهرجانات (ج) د السياحة العلاجية (د)
- ٩ يقع دير سانت كاترين في محافظة .....  
 أ شمال سيناء (ف) ب جنوب سيناء (ب) ج البحر الأحمر (ج) د مرسى مطروح (د)
- ١٠ المنظمة التي خصصت يوماً عالمياً للتوعية بحماية التراث الوطني هي منظمة .....  
 أ اليونسيف (ف) ب السياحة (ب) ج الفاو (ج) د اليونسكو (د)
- ١١ تنصح زميلك عند زيارته لأحد الأماكن الأثرية بأن يقوم بـ .....  
 أ تصوير القطع الأثرية (ف) ب تناول الأطعمة والمشروبات (ب) ج تسجيل زيارته على قطعة أثرية (ج) د المحافظة على نظافة المكان (د)



١٢ من المواقع التراثية المسجلة على خريطة التراث العالمي لليونسكو في مصر .....

أ وادي الحيتان ب السد العالي ج برج القاهرة د الحاجز المرجاني

١٣ إذا أردت دعوة أصدقاءك الأجانب لمعرفة الجوانب الثقافية لمصر فإنك تقترح عليهم زيارة.....

أ شواطئ البحر الاحمر ب دار الاوبرا ج حديقة الأزهر د شرم الشيخ

١٤ إذا رغب أحد أصدقائك في قضاء إجازة ترفيهية فيمكنك توجيهه لزيارة

أ مدن البحر الأحمر ب جامع احمد بن طولون ج مجمع الاديان د معرض القاهرة الدولي للكتاب

١٥ الشخص الذي يعاني من بعض الأمراض الجلدية يمكنه زيارة.....والتي تعد سياحة علاجية

أ واحة سيوة ب الجيزة ج مدينة الإسكندرية د مدينة القاهرة

١٦ إذا قمت بتخطيط لرحلة سياحية لمناطق السياحة العلاجية في مصر فإنك تختار.....

أ عيون موسى بسيناء ب مكتبة الإسكندرية ج المتحف المصري د خان الخليل

١٧ إذا أردت زيارة أحد مناطق التراث الثقافي في الجيزة فإنك سوف تتوجه لزيارة .....

أ محمية راس محمد ب الاهرامات ج قلعة قايتباي د قلعة صلاح الدين

١٨ تقوم مصر بترشيد استهلاك الطاقة والمياه في المنشآت السياحية لتحقيق ....

أ السياحة الثقافية ب السياحة المستدامة ج السياحة المؤقتة د السياحة الدينية

١٩ تبذل الدولة جهودًا كبيرة للحفاظ على المناطق الأثرية منها.....

أ تشجيع الاتجار في الآثار ب ترميم المناطق الأثرية ج استبدال الآثار بالمناطق السكنية د تشجيع السكان للبحث عن الآثار

٢٠ الدخل التي تحققها الأنشطة الاقتصادية والخدمات بمصر يطلق عليها الدخل.....

أ الحقيقي ب المتوسط ج الدولي د القومي

٢١ تجرى جمهورية مصر العربية تعدادها السكاني كل .....

أ خمس سنوات ب عشر سنوات ج عشرين سنة د خمسة وعشرين سنة

٢٢ تتضمن العملة الورقية التي أمامك وسيلة نقل أخذها المصريون القدماء عن .

أ الفرس ب الروم ج الهكسوس د الانجليز

٢٣ إذا أردت تصدير مصادر الطاقة عبر موانئ البحر المتوسط فعليك بالتوجه إلى ميناء

أ سفاجا ب دمياط ج السويس د الغردقة

٢٤ وضعت الدولة كاميرات على الطرق وملصقات إلكترونية على كل سيارة بهدف .

أ تنظيم عبور المشاه ب مراقبة حوادث الطرق ج حصر أماكن الكثافات السكانية د حصر الكثافات المرورية

٢٥ تنصح زميل لك باستخدام النقل المائي وذلك لأنه .....

أ أرخص وسائل النقل ب أعلى وسائل النقل ج أسرع وسائل النقل د انتشاره بكل محافظات مصر



٣٦ ينفرد أهل جنوب أسوان بالتحدث باللغة ..... التي يحرص السكان على الحفاظ عليها وتناقلها بين الأجيال.

أ) الهيروغليفية ب) الأمازيغية ج) اليونانية د) النوبية

٣٧ .....يؤخذ رأيه في معاهدات الصلح والاقترحات الخاصة بتعديل الدستور

أ) المجلس المحلي ب) مجلس الدفاع ج) مجلس النواب د) مجلس الشيوخ

٣٨ إذا دُعيت إلى إلقاء ندوة لشباب الريف فمن الأفضل أن يكون موضوعها عن .....

أ) أهمية تنظيم الأسرة ب) أهمية حرفة الرعي ج) ضرورة الهجرة إلى المدن د) ضرورة زيادة حجم الأسرة الريفية

٣٩ المحافظة التي يقع بها مينائي الغردقة وسفاجا هي محافظة .....

أ) البحر الاحمر ب) مطروح ج) جنوب سيناء د) القاهرة

٣٠ عدم قدرة أحد جيرانك على القراءة والكتابة تعرف بالأمية

أ) التكنولوجيا ب) البصرية ج) الهجائية د) النفسية

٣١ إذا كنت ترغب في نقل بضائع كبيرة الحجم وثقيلة الوزن فعليك باختيار .....

أ) النقل البري ب) النقل المائي ج) النقل الجوي د) الشاحنات

٣٢ تسعى مصر للقضاء على الأمية الهجائية لذا أنشأت .....

أ) الهيئة القومية للتأمين الاجتماعي ب) الهيئة العامة للاستعلامات ج) الهيئة العامة لتعليم الكبار د) مركز دعم واتخاذ القرار

٣٣ أرسل الملك سنفرو رحلاته التجارية إلى بلاد فينيقيا باستخدام .....

أ) السيارات ب) السفن ج) الطائرات د) القطارات

٣٤ الجهة المسئولة عن سن قوانين لحماية الأطفال ومنع استغلالهم هي.

أ) السلطة القضائية ب) السلطة التشريعية ج) السلطة التنفيذية د) السلطة المحلية

٣٥ تعد السكك الحديدية المصرية ثاني خطوط تم مدها عالمياً بعد خطوط السكك الحديدية في .....

أ) المملكة المتحدة ب) المملكة الأردنية ج) فرنسا د) الولايات المتحدة

٣٦ أتوقع أن المسئول عن إصدار قرار إعلان الحرب في حالة تعرض البلاد لأخطار خارجية هو .....

أ) رئيس الوزراء ب) رئيس الجمهورية ج) وزير الدفاع د) المجلس المحلي

٣٧ تؤدي مشكلات الأمية والفقر والبطالة إلى ارتفاع .....

أ) متوسط عمر الافراد ب) معدل الرفاهية ج) معدل الادخار د) معدل الجريمة

٣٨ أرسلت حتشبسوت رحلاتها التجارية إلى بلاد .....

أ) فينيقيا ب) بونت ج) السودان د) اليونان

٣٩ إذا أرادت الدولة جمع بيانات عن سكانها لتلبية احتياجاتهم في المستقبل فعليها إجراء .....

أ) حصر للاحتياجات ب) تعداد سكاني ج) حصر للوفيات د) حصر للمتقدمين للخدمة العسكرية



٤٠ للمحافظة على البيئة من التلوث علينا استخدام مصادر الطاقة النظيفة مثل .....

- أ) البترول      ب) البنزين      ج) الطاقة الشمسية      د) الفحم

٤١ نعد رياضة سباق الهجن من المناسبات المميزة لسكان...

- أ) الصعيد      ب) النوبة      ج) سيناء      د) سيوة

٤٢ تطوير الموانئ البحرية يساعد على .....

- أ) تنشيط التجارة      ب) تنوع المحاصيل      ج) ترشيد المياه      د) اكتشاف مصادر الطاقة

٤٣ النشاط الاقتصادي الأصلي لسكان البدو هو .....

- أ) الزراعة      ب) الصناعة      ج) التجارة      د) الرعى

٤٤ تطوير الطريق الدائري دليل على جهود الدولة بتطوير طرق النقل ....

- أ) البحري      ب) النهري      ج) البرى      د) الجوى

٤٥ وسيلة نقل دخلت إلى مصر في عهد الخديوي توفيق وكانت تعمل بالبخار هي .....

- أ) البواخر      ب) الطائرات      ج) القوارب      د) السيارات

٤٦ إذا أردت تصدير السلع الزراعية عبر موانئ البحر الأحمر فعليك بالتوجه إلى ميناء

- أ) الاسكندرية      ب) دمياط      ج) بور توفيق      د) الغردقة

٤٧ استخدم المصريون القدماء وسائل النقل المائي مثل ....

- أ) البواخر      ب) الغواصات      ج) ناقلات النفط      د) القوارب

٤٨ يعتمد اقتصاد واحة سيوة على

- أ) الزراعة والصناعة      ب) الزراعة والسياحة      ج) السياحة والتجارة      د) الزراعة والتجارة

٤٩ المحافظة الأقل سكانا في جمهورية مصر العربية هي .....

- أ) الوادي الجديد      ب) جنوب سيناء      ج) أسوان      د) شمال سيناء

٥٠ مشكلة الأمية في مصر من المشكلات .....

- أ) الاقتصادية      ب) السياسية      ج) الاجتماعية      د) النفسية

٥١ أكثر المشكلات الاجتماعية المنتشرة في مصر هي .....

- أ) الأمية      ب) البطالة      ج) الزواج المبكر      د) التلوث

٥٢ يتم إجراء حصر شامل للسكان في مصر كل عشر سنوات عن طريق .....

- أ) وزارة الصحة والسكان      ب) الجهاز المركزي للتعبئة العامة والإحصاء      ج) الجهاز المركزي للرقابة الإدارية      د) الجهاز المركزي للمحاسبات

٥٣ تشترك مع رئيس الجمهورية في وضع الخطة العامة للدولة .....

- أ) الحكومة      ب) السلطة التشريعية      ج) السلطة القضائية      د) المجلس المحلى




- ٥٤ تم مد أول خط سلك حديد في مصر بين القاهرة و.....  
 أ) السويس ب) الجيزة ج) الإسكندرية د) المنيا
- ٥٥ متابعة جودة الخدمات والمرافق في محافظتي من مهام.....  
 أ) رئيس الوزراء ب) الوزراء ج) المحافظ د) رئيس الجمهورية
- ٥٦ تنتشر رقصة البمبوتية بين سكان محافظة.....  
 أ) الإسكندرية ب) قنا ج) القاهرة د) السويس
- ٥٧ عند التخطيط لنزهة نيلية أنت وأسرتك فتنصح باستخدام.....  
 أ) دراجة بخارية ب) السيارة ج) الغواصة د) الأتوبيس النهري
- ٥٨ يعد التراث النوبي في محافظة أسوان امتدادًا للحضارة  
 أ) المصرية القديمة ب) الرومانية ج) اليونانية د) الإسلامية
- ٥٩ عندما تريد الإقامة في محافظة حضرية فعليك التوجه إلى محافظة.....  
 أ) الوادي الجديد ب) بورسعيد ج) الجيزة د) المنيا
- ٦٠ ثاني أعلى محافظات مصر من حيث نسبة الأمية محافظة  
 أ) المنيا ب) البحر الأحمر ج) القاهرة د) بنى سويف
- ٦١ يتولى رئيس الجمهورية الرئاسة عن طريق.....  
 أ) التعيين ب) الانتخاب ج) التوريث د) التحكيم
- ٦٢ مصر أولى دول إفريقيا والشرق الأوسط استخدامًا لـ  
 أ) السيارات ب) الطائرات ج) القطارات د) السفن
- ٦٣ يمثل السلطة التشريعية في مصر.....  
 أ) مجلس الوزراء ب) مجلس النواب ج) المجلس المحلي د) مجلس الدولة
- ٦٤ تواصل الإنسان قديماً في عصور ما قبل معرفة الكتابة عن طريق.....  
 أ) الدخان ب) الحمام الزاجل ج) البريد د) الإنترنت
- ٦٥ تم تشييد القلاع والحصون في مصر قديماً بهدف.....  
 أ) حماية البلاد ب) جذب السياح ج) توفير المساكن د) توفير حياة كريمة
- ٦٦ سهل..... العمل في الأماكن التي يصعب السفر إليها.  
 أ) التلغراف ب) البريد ج) الإنترنت د) المكتب
- ٦٧ إحدى إيجابيات شبكة الإنترنت هي.....  
 أ) نشر الشائعات ب) التسوق الإلكتروني ج) إضاعة الوقت د) إهمال الهوايات



- ٦٨ كتب المصري القديم الرسائل على ورق .....
- أ البردي ب التوت ج الكتان د الجوت
- ٦٩ استخدم الإنسان قديماً في العصور التاريخية ..... في إرسال الرسائل.
- أ النار ب الهاتف ج البريد د الحمام الزاجل
- ٧٠ استخدم الإنسان للتواصل في عصور ما قبل التاريخ .....
- أ الرسائل النصية ب الطبول ج التليفون د التلغراف
- ٧١ يمكنك استخراج جواز سفر من خلال موقع .....
- أ بنك المعرفة المصري ب بوابة مصر الرقمية ج منصة مصر التعليمية د التحول الرقمي
- ٧٢ عند زيارتك للأهرامات الثلاثة فإنك تشاهد أثراً ترجع للحضارة .....
- أ المصرية القديمة ب اليونانية ج الرومانية د القبطية
- ٧٣ تم بناء جامع عمرو بن العاص بمدينة الفسطاط في عهد الخليفة .....
- أ عمر بن عبد العزيز ب عمر بن الخطاب ج أبي بكر الصديق د عثمان بن عفان
- ٧٤ المصدر الأول للعملات الأجنبية في مصر يتتمثل في النشاط .....
- أ الزراعي ب الرعوى ج الصناعي د السياحي
- ٧٥ عند زيارتك لأحد المناطق الأثرية عليك الالتزام .....
- أ تصوير القطع الأثرية ب التقاط الصور بجوار الآثار ج حسن معاملة السياح د كتابة عبارات تذكارية على الآثار

## ضع علامة صح أو علامة خطأ أمام العبارات التالية

## السؤال الثاني

- ١ توضح علامات المرور الأرضية مسار تحرك السيارات .
- ٢ يختلف توزيع سكان مصر بين المحافظات .
- ٣ تشير العلامة المرورية  إلى أحد العلامات المرورية التحذيرية .
- ٤ أدى الزواج المبكر إلى زيادة نسبة السكان في الريف بمصر .
- ٥ لتشجيع النقل المستدام يمكنك أن تقترح على والدك استخدام سيارته الخاصة بدلا من وسائل النقل الجماعي .
- ٦ أنشأت منظمة اليونسكو متحف النوبة بمحافظة جنوب سيناء
- ٧ ترتب على إنشاء الكباري والمحاور زيادة زمن رحلة الوصول بين الأماكن .
- ٨ تتشابه لهجات السكان في كل البيئات المصرية
- ٩ أسس بنك مصر أول شركة طيران في العالم





- ١٠ يشتهر سكان سيناء بإقامة سباقات الهجن.
- ١١ تعد السفن أول وسيلة نقل مائي عرفها المصري القديم
- ١٢ تزداد نسبة الأمية بين الاناث عن الذكور
- ١٣ يمثل مجلس النواب السلطة التشريعية بينما يمثل مجلس الشيوخ السلطة القضائية في مصر .
- ١٤ تمثل الامية مشكلة اقتصادية تواجه المجتمع المصري .
- ١٥ يساعد وجود نواب يمثلون الشباب والمرأة على تقدم المجتمع .
- ١٦ تقلل الأمية من فرص العمل المتاحة امام الفرد
- ١٧ يمثل رئيس الجمهورية السلطة القضائية في مصر.
- ١٨ يقابل منصب رئيس الوزراء حاليا منصب رئيس الإدارة المركزية قديما .
- ١٩ استخدم المصريون القدماء الكتابة الهيروغليفية في تسجيل اخبارهم وانجازاتهم
- ٢٠ كان الوزير على رأس نظام الحكم في مصر القديمة.
- ٢١ يرجع ارتفاع نسبة الامية الهجائية بين الشعب المصرى الى التحاق جميع الاطفال بالمدارس
- ٢٢ يختار رئيس الجمهورية نصف أعضاء مجلس النواب.
- ٢٣ تزداد نسبة البطالة والأمية في الحضر عن الريف
- ٢٤ يمكن لمجلس النواب توجيه استجواب لأحد أعضاء الحكومة.
- ٢٥ يمتلك بدو سيناء تراثا ثقافيا متنوعا يعد جزءا من هويتهم المصرية
- ٢٦ تعد الحكومة جزء من السلطة التنفيذية.
- ٢٧ يتنوع التراث الثقافي لسكان مصر بتنوع المناطق التي يعيشون فيها
- ٢٨ تم الاعتماد على الرسائل النصية في التواصل قبل إشارات الدخان.
- ٢٩ يعمل معظم سكان الحضر بالتجارة والصناعة والخدمات الأخرى .
- ٣٠ سباقات الهجن هي رياضة تراثية تشتهر بها سيناء
- ٣١ تسببت هجرة سكان المدن إلى الريف في ظهور العشوائيات حول المدن.
- ٣٢ عندما تستخدم الدولة وسائل نقل صديقة للبيئة فهي تحقق مفهوم النقل المستدام.
- ٣٣ يمثل سكان الحضر أكثر من نصف سكان مصر.
- ٣٤ يتميز النقل المائي عن غيره بأنه أسرع ولكنه مرتفع التكلفة.
- ٣٥ يساعد تنظيم الأسرة على زيادة عدد الأطفال لدى الأسرة .
- ٣٦ يربط القطار الكهربائي بين العين السخنة والعلمين مرورا بالعاصمة الإدارية الجديدة .
- ٣٧ تساعدنا قائمة التراث العالمي على معرفة مواقعنا التراثية الثقافية والطبيعية
- ٣٨ تعد صيانة منطقة الأهرامات من مشروعات تطوير التراث العمراني بالقاهرة.
- ٣٩ تم إنشاء القلاع لحماية البلاد من الأعداء وهي تعد من مناطق التراث الطبيعي





- ٤٠ يساهم التراث الثقافي المصري في توفير فرص عمل لشباب
- ٤١ معبد الدير البحري من أقدم الأديرة الدينية في سيناء.
- ٤٢ التعامل الآمن مع المخلفات بالمنشآت السياحية يضر السياحة المستدامة.
- ٤٣ يرجع تاريخ منطقة أبو مينا بالإسكندرية إلى الحضارة المصرية القديمة.
- ٤٤ كلما اتسع النشاط السياحي في الدولة كلما ازدادت نسبة البطالة .
- ٤٥ إذا قمت بزيارة معرض الكتاب الدولي فأنت بذلك تقوم بزيارة المؤتمرات والمهرجانات.
- ٤٦ تختار اليونسكو بعض الأماكن الفريدة والمميّزة لتكون ضمن قائمة التراث العالمي .
- ٤٧ عند زيارتك لمدينة دهب على ساحل البحر الأحمر فأنت تقوم بزيارة علاجية.
- ٤٨ ساهمت منظمة اليونسكو في إنقاذ معبد أبو سمبل من الغرق بعد بناء السد العالي.
- ٤٩ إذا أرادت الدولة الحفاظ على المصدر الأول للعملة الأجنبية فعليها بدعم الأنشطة السياحية.
- ٥٠ تعد مدينة طيبة من المواقع التراثية المسجلة على خريطة التراث العالمي.
- ٥١ كلما تطورت أساليب التسويق السياحي ووسائل المواصلات زادت الأنشطة السياحية.
- ٥٢ تخيل أنك ذهبت في رحلة إلى معبد الكرنك فأنت بذلك تقوم بزيارة منطقة للتراث الثقافي
- ٥٣ تمثل زيارتك لمكتبة الإسكندرية نوع من السياحة الترفيهية.
- ٥٤ إذا كنت مسؤولاً عن تنشيط السياحة في مصر فعليك تطوير وسائل النقل والمنشآت الفندقية.
- ٥٥ يعد تناول الطعام والشراب بجوار المناطق الأثرية أمر مقبول .
- ٥٦ حماية الشعاب المرجانية في مصر تدعم السياحة المستدامة.
- ٥٧ استخدام ضوء الكاميرا عند التقاط الصور يمكن أن يؤثر سلباً على الأماكن الأثرية .
- ٥٨ زيارة السائحين لمعبد الأقصر، تعد زيارة لمنطقة تراث طبيعي.
- ٥٩ إذا ذهبت في رحلة إلى منطقة وادي الحيتان في الفيوم فأنت بذلك تكون قمت بزيارة منطقة تراث طبيعي.
- ٦٠ منطقة القاهرة التاريخية من أهم وأكبر المدن التراثية في العالم.
- ٦١ تضم منطقة وادي الحيتان مجموعة من الأشجار المتحجرة على شكل قطع صخرية .
- ٦٢ الشخص الذي يحتاج إلى علاج واستجمام عليه زيارة العيون الكبريتية بسيوة.
- ٦٣ عند زيارتك لشواطئ الإسكندرية فإنك تقوم بزيارة ترفيهية .
- ٦٤ عند زيارتك لأهرامات الجيزة وشارع المعز وخان الخليلي فأنت تقوم بزيارة دينية.
- ٦٥ عند زيارتك لمعرض القاهرة الدولي للكتاب فأنت تقوم بزيارة علاجية .
- ٦٦ كلما زادت نسبة الامية زادت معها فرصه الحصول على عمل
- ٦٧ إذا كنت قائد سيارة ورأيت تلك العلامة المرورية  فعليك عدم التوقف نهائياً .
- ٦٨ اذا استطاع زميلك القراءة والكتابة فهو يعاني من الامية الهجائية .



- ٦٩ يمكنك عبور الطريق إذا كانت إشارة المرور الضوئية الدائرية لونها أخضر .
- ٧٠ يمثل أعضاء مجلس النواب جميع فئات المجتمع المصري .
- ٧١ تختص الحكومة بسن قوانين لحماية البيئة من التلوث .
- ٧٢ يشرف المحافظ على المشروعات القومية بالدولة
- ٧٣ استخدم المصريون القدماء جذوع الأشجار المربوطة بالأعشاب المتينة في صناعة القوارب .
- ٧٤ أخذ الهكسوس العربات الحربية عن المصريين القدماء .
- ٧٥ تعد مصر أولى الدول عربيًا وإفريقيًا في إنشاء مترو الأنفاق .
- ٧٦ يمكنك استخدام النقل الجوي عندما تريد نقل بضائع سريعة التلف .
- ٧٧ إذا رأيت العلامة المرورية  على الطريق فهذا يعني وجود محطة وقود .
- ٧٨ إذا كنت قائد سيارة و رأيت إشارة المرور الضوئية الدائرية لونها أخضر فعليك التوقف فوراً .
- ٧٩ تساعد علامات المرور الضوئية على شكل إنسان على تنظيم عبور المشاة .
- ٨٠ تظهر الساعة السكانية نتائج التعداد السكاني الذي يتم إجراءه كل عشر سنوات .
- ٨١ يقيم معظم السكان الذين يعملون بالزراعة في المدن
- ٨٢ يعاني معظم سكان الريف من انخفاض الدخل ومستوى المعيشة .
- ٨٣ يتوزع السكان على كل محافظات مصر بالتساوي
- ٨٤ تساعد الحكومة رئيس الجمهورية في إدارة شؤون البلاد .
- ٨٥ يمكنك الاستمتاع بالعزف على آلة السمسمية في محافظة البحر الأحمر
- ٨٦ يساعد الاهتمام بالتراث الثقافي على زيادة عدد السائحين لمصر
- ٨٧ اذا كنت من سكان محافظة المنيا فانت تسكن في أعلى محافظات مصر حيث نسبة الامية
- ٨٨ تقتصر مشكلة الأمية الهجائية على جمهورية مصر العربية
- ٨٩ أصبح التواصل أسهل وأسرع في العصر الحديث بعد اختراع شبكة الإنترنت .
- ٩٠ يقتصر تمثيل الشعب المصري في مجلس النواب والشيوخ على الشباب .
- ٩١ تشترك الحكومة مع رئيس الجمهورية في وضع الخطة العامة للدولة .
- ٩٢ كانت طائفة الأخوين رايت أول طائفة في التاريخ .
- ٩٣ لتحقيق النقل المستدام قامت مصر بتحويل السيارات التي تعمل بالغاز الطبيعي إلى بنزين .
- ٩٤ تزداد نسبة سكان الريف في مصر عن نسبة سكان الحضر .
- ٩٥ أمر الملك خوفو بنحت تمثال أبو الهول بمحافظة الجيزة .
- ٩٦ شيدت الكنيسة المعلقة على الأبراج الجنوبية لحص بابليون .
- ٩٧ بنى عمرو بن العاص جامع المعروف في حي مصر القديمة .
- ٩٨ تم تصميم برج القاهرة على شكل نبات البردي .





بدأت العصور التاريخية بمعرفة الإنسان للكتابة. ٩٩

انتشر استخدام الحمام الزاجل في إرسال الرسائل بعد ظهور البريد. ١٠٠

تم توصيل أول خط هاتفي في مصر بين القاهرة السويس. ١٠١

### اكمل العبارات التالية بالاجابات المناسبة

### السؤال الثالث

١

(سور مجرى العيون - السياحة - القاهرة - الإسكندرية - خفرع - فرص عمل)

أمر الملك ..... **خفرع** ..... بنحت تمثال أبو الهول.

من أهم المدن التراثية في العالم مدينة.....**القاهرة**.....

توفر السياحة **فرص عمل** للشباب

تعد **السياحة** المصدر الأول للعملة الأجنبية في مصر

قامت الدولة بتطوير .....**سور مجرى العيون**..... بالقاهرة

٢

(توفيق - المعلوماتية - الجهاز المركزي للتعبئة العامة والاحصاء - التحذيرية - حاكم - الهجائية)

العلامات.....**التحذيرية**.....هى التي تحذر من المخاطر المحتملة

كان الفرعون في مصر قديماً يعين .....**حاكم**..... لكل إقليم .

دخلت أول سيارة مصر في عهد الخديوى.....**توفيق**.....

الجهة المسؤولة عن إجراء التعداد السكاني في مصر هي ... **الجهاز المركزي للتعبئة العامة**

**والاحصاء** ...

الأمية **الهجائية** هي عدم قدرة الفرد على القراءة والكتابة

٣

(10 - الهيروغليفية - أون - مجلس النواب - رئيس الجمهورية - القاهرة - 5 - السويس)

تعتبر محافظة.....**القاهرة**..... أعلى محافظات مصر سكاناً .

اخترع المصريون القدماء الكتابة ..... **الهيروغليفية** .....

يختار رئيس الجمهورية .....5..... % من أعضاء مجلس النواب .

الجهة المسؤولة عن سن القوانين هي ..... **مجلس النواب** .....

تعتبر جامعة ..... **أون** ..... هي أول جامعة في التاريخ .

٤

( كثرة الانجاب - الريف - الحكومة - السمسمة - الحضر )



- ١ يمثل سكان .....الريف..... نسبة 57.6 % من عدد السكان في مصر .
- ٢ يشتهر سكان محافظات القناة باستخدام آلة.....السسمية
- ٣ .... كثرة الانجاب ..... من أسباب الزيادة السكانية في مصر .
- ٤ تعاون..... الحكومة .....رئيس الدولة وتتكون الحكومة من رئيس الوزراء و الوزراء .

٥

( البري - رئيس الجمهورية - الجوي - الإسكندرية - انسان - السياحة - دائرية )

- ١ أسرع وسائل النقل هو النقل.....الجوى.....
- ٢ يقوم ..... رئيس الجمهورية ..... بتعيين المحافظين .
- ٣ تنقسم العلامات الضوئية إلى علامات ضوئية...دائرية.....وعلامات ضوئية على شكل...إنسان..
- ٤ أول خط هاتف في مصر بط بين القاهرة و ..... الإسكندرية
- ٥ يحتفل سكان واحة سيوة بحصاد التمور والزيتون في عيد ..... السياحة .....

٦

(البمبوية - السيرة الهلالية - السلطة القضائية - الجوي - المنيا - المائي - الانترنت )

- ١ تعد محافظة ..... المنيا ..... أعلى محافظات مصر في نسبة الأمية .
- ٢ يستخدم النقل.....المائى.....فى نقل البضائع ثقيلة الوزن وكبيرة الحجم
- ٣ يشتهر سكان الصعيد بإنشاد.....السيرة الهلالية .....
- ٤ أصبح العالم قرية صغيرة نتيجة لاختراع الإنسان ... الإنترنت
- ٥ ..... السلطة القضائية ..... هي سلطة مستقلة تتولاها المحاكم المتنوعة .

اكتب ما تشير اليه العبارات التالية

السؤال الرابع

- ١ الملك ( الفرعون )
- ٢ ترفيهية
- ٣ التعداد السكاني
- ٤ أبو مينا
- ٥ جنوب سيناء
- ٦ التراث الطبيعي
- ٧ الدخل القومي

- ١ كان يقوم بتعيين حاكم لكل إقليم في مصر قديماً .
- ٢ سياحة تتمثل في زيارة المدن الشاطئية مثل مدينة دهب .
- ٣ حصر شامل للسكان لتحديد الخدمات التي يحتاجونها .
- ٤ منطقة في الاسكندرية تعد مزاراً دينياً مهددة بالتآكل
- ٥ أقل محافظات مصر سكاناً بسبب صعوبة مظاهر سطحها .
- ٦ المواقع الطبيعية الجميلة ذات القيمة العالمية التي يتدخل الإنسان في صنعها .
- ٧ الدخل الذي تحققه جميع الأنشطة الاقتصادية في عام واحد



- ٨ عيد يجذب السياح في واحة سيوة
- ٩ هي علامات توضح معالم الطريق للسائق
- ١٠ سياحة تعتمد على زيارة العيون الكبريتية والرمال الساخنة للعلاج أو الاستجمام
- ١١ هي عربات تجرها الأحصنة ودخلت مصر مع غزو الهكسوس
- ١٢ عدم القدرة على القراءة أو الكتابة
- ١٣ تُظهر تقديرات لعدد سكان مصر
- ١٤ يشتهر بإنشادها صعيد مصر على لسان الراوي
- ١٥ مدينة تعد من أقدم المدن التاريخية وأكبرها في العالم
- ١٦ منطقة أثرية تمتد من ابو سمبل الى فيلة .
- ١٧ متحف تم إنشائه في اسوان .
- ١٨ الأماكن السياحية والأثرية ذات القيمة العظيمة مثل المعابد والأهرامات والمساجد
- ١٩ دير يقع في محافظة جنوب سيناء
- ٢٠ حتى يوجد به مسار العائلة المقدسة
- ٢١ قائمة تساعد على معرفة المواطنين بالتراث الثقافي والطبيعي في وطنهم
- ٢٢ الذين يسكنون الصحارى المصرية و يعملون بحرفة الرعي .
- ٢٣ منظمة تبذل عدة جهود للحفاظ على التراث الطبيعي والثقافي واستدامته في ١٦٧ دولة حول العالم.
- ٢٤ كان بنائه سبباً في إنقاذ اليونسكو لمعبد ابو سمبل
- ٢٥ منطقة كان يغطيها البحر قديماً وتحتوى على حفريات لأسماك وهياكل وعظام لحياتان ضخمة .
- ٢٦ سياحة تدعمها مصر للحفاظ على البيئة والموارد الطبيعية
- ٢٧ مناطق ظهرت بسبب هجرة سكان الريف للمدن
- ٢٨ هي علامات تشير إلى السلوكيات التي يجب تجنبها أثناء القيادة.
- ٢٩ عملية حصر شامل للسكان تجريه الدولة كل عشر سنوات
- ٣٠ هي منظمة الأمم المتحدة للتربية والعلوم والثقافة
- ٣١ يعبر عن كل ما تركه لنا الاجداد من اماكن تاريخيه وفنون وصناعات.
- ٣٢ مسئول عن أمن الوطن ورعاية مصالح الشعب .
- ٣٣ سلطة مستقلة تتولاها المحاكم المتنوعة.

- عيد السياحة
- علامات ارشادية
- علاجية
- العربات الحربية
- الأميه الهجائية
- الساعه السكانيه
- السيره الهلاليه
- القاهرة
- آثار النوبة
- متحف النوبه
- التراث الثقافى
- سانت كاترين
- حتى المطرية كاترين
- التراث العالمى
- البدو
- اليونسكو
- السد العالى
- وادي الحيتان
- سياحة مستدامة
- العشوائيات
- علامات المنع
- التعداد السكانى
- اليونسكو
- التراث الثقافى
- رئيس الجمهورية
- السلطة القضائيه



- القاهرة . أعلى محافظات مصر سكاناً لأنها العاصمة . ٣٤
- حصن بابليون . أحد معالم الحضارة الرومانية تم بناء الكنيسة المعلقة على أبراجه الجنوبية. ٣٥
- البدو . يسكنون الصحاري ويمارسون حرفة الرعي . ٣٦
- المؤتمرات والمهرجانات . سياحة تعتمد على زيارة مصر لحضور المؤتمرات او المعارض او المهرجانات . ٣٧
- ثقافية . سياحة تعتمد على زيارة الاماكن التاريخية والثقافية مثل اهرامات الجيزة ٣٨
- تنظيم الأسرة . تقليل عدد الاطفال في الأسرة الواحدة ٣٩
- السلطة التنفيذية . سلطة تتمثل في رئيس مجلس الوزراء والوزراء ٤٠
- حاكم الإقليم . مسئول عن الحفاظ علي الامن داخل الإقليم . ٤١
- العشوائيات . مناطق ظهرت بسبب هجرة سكان الريف الي المدن . ٤٢
- الجهاز المركزي للتعبئة . الجهة المسئولة عن اجراء التعداد السكاني . ٤٣
- السياحة العلاجية . هي زيارة أماكن عيون المياه الكبريتية والرمال الساخنة ٤٤
- المعبد اليهودي . معبد يقع في نهاية منطقة الكنائس القبطية في الفسطاط. ٤٥
- مبادرة حياة كريمة . مبادرة أطلقتها الدولة لتنمية الريف ٤٦
- دير سانت كاترين . اقدم الدير ويقع جنوب سيناء عند سفح جبل سيناء ٤٧
- القاهرة . اكبر واهم المدن التراثية في العالم لتعدد آثارها ومبانيها التاريخية ٤٨
- مجلس النواب . يمثل السلطة التشريعية ويقوم بسن القوانين في الدولة ٤٩
- برج القاهرة . أحد معالم القاهرة الحديثة تم تصميمه على شكل زهرة اللوتس ٥٠

## بم تفسر

## السؤال الخامس

- ١ أهمية منطقة ابو ميناء كموقع تراث عالمي لأنها مزاراً دينياً واثرياً يرجع لفترة الحكم الروماني لمصر
- ٢ اكتب تفسيراً واحداً لمنع التقاط صور بالقرب من القطع الأثرية. تؤثر سلبا على الآثار
- ٣ أهمية السياحة في مصر المصدر الأول للعملات الاجنبية - توفر فرص العمل
- ٤ إدراج منطقة وادي الحيتان على قائمة التراث العالمي لان بها هياكل وعظام لحياتان ضخمة كانت تعيش قبل 40 مليون سنة



٥ اكتب تفسيرًا واحدًا لاهتمام الدولة بالمناطق الأثرية.

لحمايتها والمحافظة عليها وجذب السياح

منطقة أبو ميناء مهددة بالخطر

بسبب تآكل التربة والمباني

٧ بناء القلاع والحصون في مناطق مختلفة في مصر قديمًا

حماية البلاد

٨ اكتب تفسيرًا واحدًا لاهتمام الدولة بتطوير منطقة الأهرامات.

لاسترجاع صورتها التاريخية وتعظيم قيمتها الأثرية وتحويلها لمتحف مفتوح

٩ اكتب تفسيرًا واحدًا لاهتمام الدولة بتطوير مدينة القاهرة التاريخية

لحماية المباني الأثرية والتاريخية بها

١٠ اكتب تفسيرًا واحدًا لإصدار الدولة بعض القوانين الخاصة بالآثار.

للمحافظة عليها وبسبب قيمته التاريخية والاقتصادية

١١ لماذا بنى المصريون القدماء الأهرامات على الضفة الغربية لنهر النيل؟..

لتكون بعيدة عن مخاطر الفيضان.

١٢ حدد سببا واحدا لاستخدام الحمام الزاجل في إرسال الرسائل قديماً

لأنه أسرع في التواصل

١٣ أهمية قائمة التراث العالمي؟

تساعد المواطنين على معرفة التراث الطبيعي والثقافي في وطنهم

١٤ اكتب تفسيرًا واحدًا لأهمية وسائل النقل في حياة الشعوب.

توفر الوقت والجهد لانتقال الافراد والسلع

١٥ احتفال منظمة اليونسكو باليوم الدولي لمحو الأمية في الثامن من شهر سبتمبر من كل عام

لتوعية العالم بأهمية محو الامية

١٦ أهمية مجلس الشيوخ

يتم اخذ رأيه في معاهدات الصلح - مشروعات القوانين - الاقتراحات الخاصة بتعديل مواد الدستور .

١٧ تسمية عيد الحصاد بواحة سيوة بعيد السياحة

لان هذا الاحتفال يجذب السياح من كل مكان للاستمتاع به .

١٨ اكتب تفسيرًا واحدًا لأهمية السكك الحديدية.

نقل الركاب والبضائع



- ١٩ أهمية التعداد السكاني لمصر  
تحديد الخدمات التي يحتاجها السكان في الحاضر والمستقبل .
- ٢٠ أهمية منصب المحافظ  
يقوم بعدة مهام منها إدارة شؤون المحافظة وحفظ الامن والنظام بالمحافظة ومتابعة جودة المرافق والخدمات العامة  
كالتعليم والصحة والاشراف علي تنفيذ المشروعات التنموية .
- ٢١ اكتب تفسيرا واحداً لاهتمام مصر بإنشاء الكبارى والطرق.  
لتقليل الحوادث / والمسافات / والزحام / وزمن الرحلة
- ٢٢ تنوع التراث الثقافي المصري ؟  
بسبب تنوع العادات والتقاليد ومظاهر الاحتفالات والزي والمأكولات .
- ٢٣ اكتب تفسيرا واحداً لإصدار الدولة لقانون المرور  
لتنظيم حركة المرور / وتقليل الحوادث
- ٢٤ انخفاض عدد سكان محافظة جنوب سيناء  
بسبب صعوبة مظاهر سطحها وندرة المياه بها
- ٢٥ اكتب تفسيرا واحداً لاهتمام مصر بتطوير الموانئ البحرية.  
لتقليل زمن انتظار السفن خارج الميناء / وتنشيط التجارة
- ٢٦ أهمية التراث الثقافي المصري  
تنشيط الساحة - توفير فرص عمل للشباب - زيادة الدخل القومي
- ٢٧ اكتب تفسيرا واحداً لأهمية مجلس النواب المصري ؟  
سن القوانين في الدولة
- ٢٨ انتشار الأمية بين سكان مصر  
بسبب الزيادة السكانية
- ٢٩ ضرورة الالتزام بقواعد وآداب المرور  
لحفاظ على ارواح الناس / وتقليل الحوادث
- ٣٠ أهمية منصب رئيس الجمهورية ؟  
مسئول عن أمن الوطن - رعاية مصالح الشعب - يمثل مصر محليا ودوليا
- ٣١ نشاط السياحة في واحة سيوة في شهر أكتوبر من كل عام ؟  
بسبب الاحتفال بعيد حصاد التمور والزيتون
- ٣٢ زيادة حجم الأسرة في الريف عن الحضر ؟  
بسبب كثرة الانجاب والزواج المبكر



## اجب عن الاسئلة الاتية بما هو مطلوب

## السؤال السادس

- ١ ما العلاقة بين السد العالي وآثار النوبة؟
- ٢ بسبب بناء السد العالي تعرضت آثار النوبة للغرق وقامت منظمة اليونسكو بإنقاذهم اكتب مقترحًا واحدًا للحفاظ على المناطق الأثرية
- ٣ تشكيل لجان متخصصة لمتابعة المناطق الاثرية باستمرار وصيانتها حدد سببًا واحدًا لضرورة زيارتك لمحافظة جنوب سيناء
- ٤ لان بها عيون موسى - مدينة شرم الشيخ - ومحمية رأس محمد - ودير سانت كاترين اكتب سببًا واحدًا لحدوم السياح لزيارة بلادنا.
- ٥ لزيارة الأماكن السياحية والأثرية - والاستمتاع بالمناظر الطبيعية الخلابة والمناخ المعتدل استبعد المكان الذي لا ينتمى للمجموعة التالية مع ذكر السبب؟ ( دير سانت كاترين - منطقة أبو مينا - معبد أبو سمبل - المتحف المصري الكبير )
- ٦ المتحف المصري الكبير لأنه متحف يضم قطع أثرية وليس مثل باقى الاماكن من التراث الثقافى المسجلة بقائمة التراث العالمى.
- ٧ ماذا تتوقع اذا اهملت الدولة المناطق التراثية بها
- ٨ سوف تختفى بعض المناطق التراثية المهددة بالخطر - يقل اعداد السائحين
- ٩ ماذا يحدث إذا لم يتم تفعيل قوانين معاقبة التعدي على المناطق الأثرية والسياحية؟ تدهور المناطق الاثرية والسياحية
- ١٠ أكتب نتيجة واحدة ترتبت على : اعتقاد المصريين القدماء في البعث والخلود ؟ ترتب على ذلك : بناء الأهرامات ووضعوا مع الميت الأشياء التي يعتقدون أنه سوف يحتاج إليها في الحياة الأخرى.
- ١١ اكتب دليلاً واحدًا على الجهود التي تبذلها الدولة للحفاظ على المناطق الأثرية والسياحية. ترميم وصيانة الأثار
- ١٢ اكتب نتيجة واحدة ترتبت على اهتمام اليونسكو بمناطق التراث العالمي التي حددتها على قائمتها؟ أدى الى دعم السياحة - وزيادة الدخل القومى للدولة
- ١٣ اكتب دليلاً واحدًا على جهود اليونسكو لتحقيق التنمية المستدامة ؟ حيث تدعوا دول العالم لـ : توفير فرص التعليم الجيد لجميع الأفراد. - القضاء على الفقر. - المساواة بين الجنسين.
- ١٤ اكتب مقترحًا واحدًا للحفاظ على المناطق الأثرية والسياحية في مصر. صيانة وتطوير المناطق الأثرية والسياحية
- ١٥ اكتب دليلاً واحدًا على اهتمام اليونسكو بالمناطق التراثية حول العالم ؟ حيث قامت بترميم بعض المدن القديمة



- ١٤ اكتب دليلاً واحداً على دعم مصر للسياحة المستدامة  
حيث تقوم بـ: ترشيد استهلاك الطاقة في المنشآت السياحية - التعامل الأمن مع المخلفات - الاعتماد على الطاقة النظيفة
- ١٥ ماذا يحدث إذا ارتفعت درجات الحرارة وزاد منسوب المياه في المناطق الأثرية بمصر؟  
غرق الكثير من المناطق التراثية خاصة في المدن الساحلية مثل الإسكندرية  
ما المقصود بالتراث الطبيعي؟
- ١٦ هو المواقع الجميلة ذات القيمة العالية التي لم يتدخل الإنسان في صناعتها أو التأثير فيها  
اكتب دليلاً واحداً على اهتمام الدولة بتطوير مدينة القاهرة التاريخية.
- ١٧ ترميم وصيانة منطقة الأزهر - والغورية - والدرب الأحمر - ومسجد احمد بن طولون  
استبعد المكان الذي لا ينتمي للمجموعة التالية مع ذكر السبب؟  
( الغابة المتحجرة - وادي الحيتان - برج القاهرة - محمية نبق )
- ١٨ برج القاهرة - لأنه من التراث الثقافي اما باقى الاماكن من التراث الطبيعي  
اكتب دليلاً واحداً على اهتمام مصر بالتنمية السياحية
- ١٩ قامت بإنشاء وتطوير المنشآت السياحية ( فنادق والقرى ) - صيانة المناطق الأثرية  
اكتب نتيجة واحده ترتبت على استخدام وسائل النقل المستدام
- ٢٠ تقليل تلوث الهواء / توفير استخدام الوقود
- ٢١ اكتب دليلاً واحداً على اهمية الجهاز المركزى للتعبئة العامة والإحصاء بمصر؟  
يقوم بعمل تعداد سكاني كل عشر سنوات لتحديد الخدمات التى يحتاجها السكان فى الحاضر والمستقبل
- ٢٢ ما العلاقة بين التراث الثقافي والاقتصاد المصري؟  
يساهم التراث الثقافي فى تنشيط السياحة وتوفير فرص عمل للشباب وزيادة الدخل القومى
- ٢٣ اكتب نتيجة واحدة ترتبت على اهتمام الدولة بالتراث الثقافي؟  
ادى الى زيادة عدد السياح - وزيادة الدخل القومى
- ٢٤ اكتب حالة واحدة يفضل فيها استخدام النقل المائي  
عند نقل البضائع كبيرة الحجم وثقيلة الوزن
- ٢٥ اكتب نتيجة واحدة ترتبت على انتشار الأمية في مصر؟  
انتشار الجهل والخرافات - انتشار البطالة والفقر - قلة فرص العمل
- ٢٦ اكتب نتيجة واحدة ترتبت على الثورة الصناعية .  
اختراع الماكينات وتطور صناعة السيارات
- ٢٧ اكتب نتيجة واحدة ترتبت على تأسيس نظام حكم قوي وثابت في مصر القديمة؟  
تحقيق القوى والرخاء لمصر عبر العصور مما ساعد على بناء الحضارة المصرية القديمة

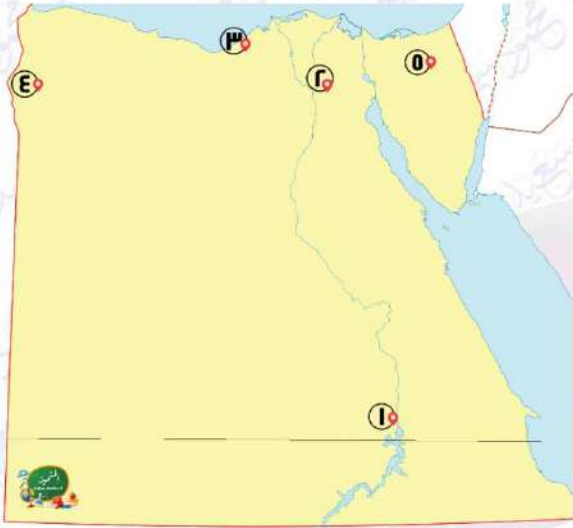


- ٢٨ اكتب دليلاً واحداً على أهمية منصب الفرعون في مصر القديمة ؟  
ادارة شئون البلاد - عقد المعاهدات - إصدار القوانين
- ٢٩ ما العلاقة بين زيادة استخدام السيارات والبيئة؟  
زيادة استخدام السيارات يؤدي الى تلوث الهواء
- ٣٠ اكتب أهم استخدامات السفن في مصر القديمة.  
نقل الركاب والاحتفالات والتجارة
- ٣١ اكتب حالة واحدة يفضل فيها استخدام النقل الجوي  
عند نقل بضائع سريعة التلف
- ٣٢ اكتب دليلاً واحداً على أن مصر تدعم النقل المستدام .  
قامت بتحويل الكثير من السيارات لتعمل بالغاز الطبيعي / زيادة استخدام الأتوبيسات التي تعمل بالغاز الطبيعي والكهرباء
- ٣٣ اكتب مقترحاً للحد من هجرة سكان الريف إلى المدن ؟  
توفير فرص عمل لهم - رفع مستوى المعيشة لسكان الريف
- ٣٤ ماذا يحدث اذا لم تهتم الدولة بوضع كاميرات على الطرق  
عدم معرفة مدى الالتزام بقواعد المرور / وعدم معرفة اماكن الكثافات المرورية
- ٣٥ ماذا يحدث إذا تم القضاء على مشكلة الأمية في مصر؟  
يختفى الجهل والخرافات بين الناس- وتزداد فرص العمل
- ٣٦ دلل على أن فن التحطيب له أصول مصرية قديمة ؟  
حيث يوجد على حائط معبد الكرنك لوحة منقوش عليها تمثال للأله حورس يعلم امنحوتب فن التحطيب
- ٣٧ اكتب دليلاً واحداً على صحة العبارة التالية ( تبذل الدولة المصرية جهوداً كبيرة لتنظيم حركة المرور وتقليل حوادث الطرق ) ؟  
قامت بإصدار قانون المرور - وضعت كاميرات على الطرق
- ٣٨ اكتب دليلاً واحداً على اهتمام المصريين القدماء بالتعليم ؟  
حيث اخترعوا الكتابة الهيروغليفية - اهتموا ببناء المدارس
- ٣٩ دلل : تعد منطقة مصر القديمة مزيجاً من الحضارات المختلفة ؟  
حيث يوجد بها آثار للحضارة المصرية القديمة والحضارة الرومانية والحضارة القبطية والحضارة الإسلامية
- ٤٠ اكتب نتيجة واحدة ترتبت على معرفة الإنسان للكتابة.  
بدأت العصور التاريخية
- ٤١ اكتب اثنين من فوائد شبكة الانترنت  
البحث عن فرص عمل مناسبة - العمل عن بعد في مجالات متعددة - سهل التواصل مع الزملاء والمعلمين للمناقشة.



اكتب مدلول الأرقام علي الخريطة

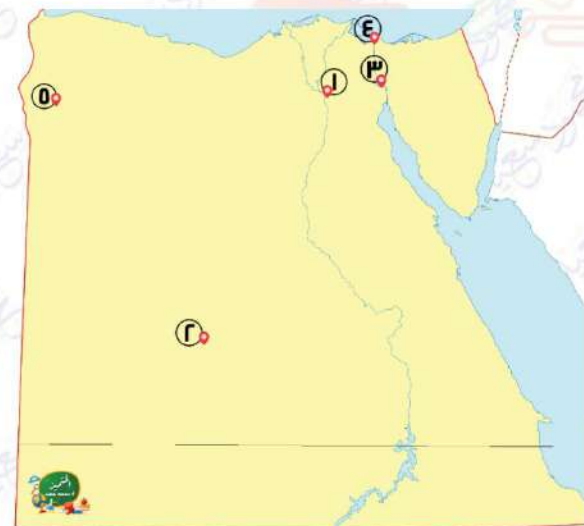
السؤال السابع



- ١ محافظة أنشئ بها متحف النوبة... أسوان ....
- ٢ محافظة يقع بها مجمع الأديان ..... القاهرة .....
- ٣ منطقة تراثية معرضة لخطر تآكل التربة والمباني ..... ابومينا .....
- ٤ منطقة تشتهر بعيد حصاد التمور والزيتون ..... واحة سيوة .....
- ٥ محافظة تشتهر بسباقات الهجن .... شمال سيناء ....

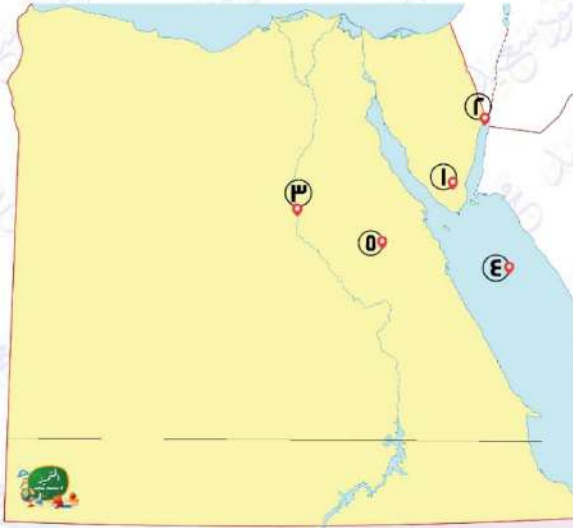


- ١ محافظة يوجد بها تمثال أبو الهول .... الجيزة ...
- ٢ اقل محافظات مصر سكانا .... جنوب سيناء .....
- ٣ محافظة يوجد بها محمية وادي الحيتان ... الفيوم ....
- ٤ محافظة تنخفض بها نسبة الامية .... البحر الأحمر ...
- ٥ محافظة يقع فيها متحف السيرة الهلالية .... قنا ...



- ١ اعلي محافظات مصر من حيث عدد السكان .... القاهرة ...
- ٢ محافظة صحراوية يقل سكانها عن مليون نسمة .... الوادي الجديد .....
- ٣ قناة .... السويس .....
- ٤ محافظة تشتهر بألة السمسمية .... بورسعيد ....
- ٥ يحتفل سكانها بعيد السياحة واحة ..... سيوة ....

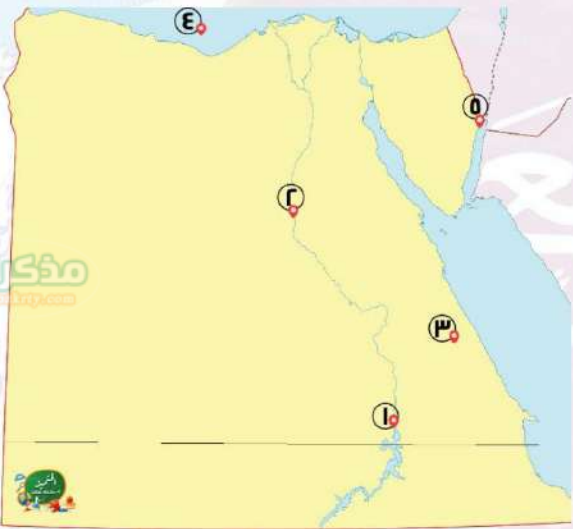




٤

- أقدم الاديرة المصرية .... سانت كاترين ....  
منطقة تراث ثقافي ..... قلعة صلاح الدين بطابا ....  
نهر ..... النيل .....  
البحر ..... الأحمر .....  
الصحراء ..... الشرقية ....

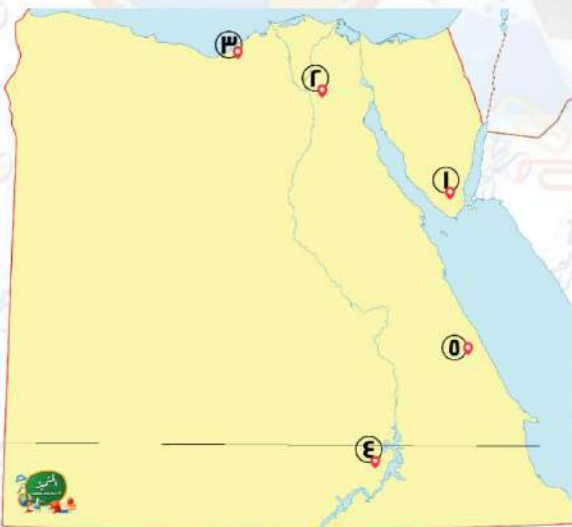
- ١  
٢  
٣  
٤  
٥



٥

- أقرب اللغات للغة المصرية القديمة هي لغة أهل  
النوبة ....  
أعلي محافظات مصر من حيث نسبة الامية ..... المنيا ....  
أقل محافظات مصر من حيث نسبة الامية ..... البحر ...  
الأحمر ...  
البحر ..... المتوسط .....  
مدينة يوجد بها قلعة صلاح الدين ..... طابا ....

- ١  
٢  
٣  
٤  
٥



٦

- محافضة بها موقع أثري مسجل على قائمة التراث  
العالمي ..... جنوب سيناء ....  
واحدة من اكبر المدن التراثية في العالم ... القاهرة ...  
مدينة تشتهر بالسياحة الشاطئية ... الإسكندرية ..  
معابد انقذتها منظمة اليونسكو .. ابوسمبل ...  
محافضة يقع بها ميناء الغردقة وسفاجا  
... البحر الأحمر ...

- ١  
٢  
٣  
٤  
٥

تم بحمد الله

بِسْمِ اللَّهِ الرَّحْمَنِ الرَّحِيمِ " إِنَّ الَّذِينَ آمَنُوا وَعَمِلُوا الصَّالِحَاتِ إِنَّا لَا نُضِيعُ أَجْرَ مَنْ أَحْسَنَ عَمَلًا " صدق الله العظيم

