

## اجابات بنك اسئلة للصف الثالث الاعدادي اولاً : الجغرافيا

السؤال الاول : صوب ما تحته خط

- 1- تنتشر الزراعة البدائية في المناطق الباردة وعلني هوامش الغابات الصنوبرية
- 2 - أكبر دول العالم انتاجاً للقمح دولة مصر
- 3 - تتركز زراعة البنجر في بريطانيا بالقارة الأوروبية
- 4- تعد قارة أفريقيا أكبر قارات العالم انتاجاً للقطن وتنتج منه نحو ثلثي الانتاج العالمي
- 5 - يشكل الفحم والغاز نحو 55% من الطاقة المستخدمة في العالم
- 6- أكبر الاقاليم الصناعية في العالم الجديد اقليم شمال شرق المانيا الصناعي
- 7 - تعد مصر أكبر دول العالم انتاجاً للشاي
- 8 - توجد جبال البرانس في دولة ألمانيا و فيها أعلى القمم الجبلية
- 9 - يستخرج الحديد في نيجيريا من هضبة جوس
- 10 - تقع دولة المانيا في غرب قارة آسيا
- 11 - يجري نهر الجانج في جنوب الهند

الإجابة

- 1- الحارة - الاستوائية
- 2 - الصين
- 3 - فرنسا
- 4 - آسيا
- 5 - البترول
- 6 - الولايات المتحدة
- 7 - الصين
- 8 - الألب
- 9 - القصدبر
- 10 - أوروبا
- 11- كوفري

السؤال الثاني : اختر الإجابة الصحيحة مما بين القوسين واكمل بها العبارات الآتية

- 1 - تتميز الزراعة ..... بصغر مساحة الحقول الزراعية  
( البسيطة - الكثيفة - التجارية - المختلطة )
- 2 - تعد قارة آسيا أولى قارات العالم في انتاج .....  
( البنجر - الذرة - القطن - جميع ما سبق )
- 3 - تعتبر دولة ..... أولى دول العالم في انتاج القمح  
( موريتانيا - البرازيل - الصين - مصر )
- 4 - تعتبر ..... العمود الفقري للاقتصاد الألماني  
( الزراعة - الصناعة - التجارة - الثروة الحيوانية )
- 5 - من أهم دول أفريقيا في انتاج القطن .....  
( المغرب - ليبيا - تونس - مصر )
- 6 - أولى دول العالم المربية للاغنام .....  
( الهند - البرازيل - الصين - الولايات المتحدة )
- 7 - تحتل دولة ..... المركز الاول عالمياً في انتاج لحوم الدواجن  
( الولايات المتحدة الأمريكية - السعودية - الهند - الصين )
- 8 - أكبر الدول المنتجة للصوف دولة .....  
( الولايات المتحدة الأمريكية - الهند - استراليا - الصين )

- 9 - يسود الرعي التجاري في دولة ..... بأمريكا الجنوبية  
( شيلي - الأرجنتين - البرازيل - فنزويلا )
- 10 - تعتبر دولة ..... أولى دول العالم في إنتاج الاسماك  
( بيرو - الصين - البرازيل - الأرجنتين )
- 11 - من العوامل البشرية التي تساعد علي نجاح حرفة الصيد .....  
( ضحالة مياة الساحل - التقاء التيارات البحرية - الارصفة القارية - توافر الخبرات الفنية )
- 12 - يستخدم البوكسيت في صناعة .....  
( الاسلاك - الادوات الكهربائية - الحديد والصلب - الالومنيوم )
- 13- تعتبر دولة ..... أولى دولة العالم في إنتاج البوكسيت  
( جنوب أفريقيا - الصين - كندا - استراليا )
- 14- يأتي 3/4 إنتاج الفحم في قارتي .....  
( اوروبا وأفريقيا - اسيا واوروبا - اسيا واستراليا - الامريكتين )
- 15- يشكل البترول و ..... نحو 55% من الطاقة المستخدمة في العالم  
( الفحم - الغاز الطبيعي - الرياح - جميع ما سبق )
- 16- أكبر الاقاليم الصناعية في العالم الجديد اقليم .....  
( غرب ووسط اوروبا - شمال شرق الولايات المتحدة الأمريكية - روسيا واورانيا - شرق اسيا )
- 17- يبدو اقليم ..... الصناعي في شكل مناطق صناعية متباعدة  
( غرب ووسط اوروبا - شمال شرق الولايات المتحدة الأمريكية - روسيا واورانيا - شرق اسيا )
- 18- تقع أهم المراكز الصناعية الحديثة في أمريكا الشمالية بدولة .....  
( المكسيك - فنزويلا - كوبا - تايلاند )
- 19 - يعد الاقليم الغربي بنيجيريا أهم مناطق الانتاج .....  
( الصناعي - التعدين - السمكي - الزراعي )
- 20 - تصدر مصر إلى المانيا .....  
( الصناعات الكيماوية - الآلات - السيارات - البترول )
- 21- تعد ..... مناطق جذب للسياح في ألمانيا  
( السهل الألماني الشمالي - جبال الغات - السهل الأوروبي العظيم - المرتفعات الوسطى )
- 22- تعد الصين ..... دول العالم لإنتاج اللحوم  
( اولي - ثانية - ثالثة - رابعة )
- 23- تقع دولة ميانمار الي ..... من الهند  
( الجنوب الشرقي - الجنوب الغربي - الشمال الشرقي - الشمال الغربي )
- 24- يحد المانيا من جهة الشمال دولة .....  
( الدنمارك - بولندا - فرنسا - النمسا )
- 25 - يتم استخراج الفحم في نيجيريا من .....  
( هضبة جوس - المنطقة الشرقية - الساحل الجنوبي - الاقليم الغربي )
- 26- تعد نيجيريا أكبر دول أفريقيا .....  
( سكانا - مساحة - انتاجا للبترول - انتاجا للقمح )
- 27- تحتل نيجيريا المركز الثاني بأفريقيا في إنتاج ..... بعد مصر  
( الذرة - القطن - المطاط - الارز )
- 28- تقع المانيا في ..... قارة أوروبا  
( غرب - شمال - جنوب - شرق )
- 29- تعتبر مدينة ..... عاصمة اقليم بافاريا بألمانيا  
( برلين - ميونخ - هامبرج - النمسا )

الإجابة

- 1- الكثيفة 2- القطن 3- الصين 4- الصناعة 5- مصر 6- الصين 7- الولايات المتحدة الأمريكية 8- استراليا 9- الأرجنتين 10- الصين 11- توافر الخبرات الفنية 12- الألومنيوم 13- استراليا 14- آسيا وأوروبا 15- الغاز الطبيعي 16- شمال شرق الولايات المتحدة الأمريكية 17- روسيا وأكرانيا 18- المكسيك 19- الزراعي 20- البترول 21- المرتفعات الوسطى 22- أولى 23- الشمال الشرقي 24- الدنمارك 25- المنطقة الشرقية 26- سкана 27- الأرز 28- غرب 29- ميونخ

السؤال الثالث : اكتب المصطلح الذي تعبر عنه كل عبارة من العبارات الاتية

- 1- زراعة الارض أكثر من مرة في العام لأشباع حاجة السكان المحليين من الغذاء  
2- زراعة تتم في مزارع واسعة وتستخدم احدث الالات الزراعية وتهدف الي الانتاج الضخم  
3- من أهم محاصيل الالياف وتتركز زراعة في دول قارة اسيا  
4- نوع من انواع الرعي تمارسه جماعات سكانية في المناطق الصحراوية في مساحات واسعة في قارات العالم  
5- استخراج المعادن ومصادر الطاقة الاخرى من فحم وبترول وغاز طبيعي من باطن الارض .

الإجابة

- 1- الزراعة الكثيفة 2- الزراعة التجارية والعلمية 3- القطن 4- الرعي البدائي ( التقليدي ) 5- النشاط التعديني

السؤال الرابع:-

- (أ) لقد أدى تباين التربة وتوزيع السكان – إلى تباين أساليب الزراعة والمحاصيل من إقليم لآخر في ضوء العبارة وضح:-  
1- أهمية النشاط الزراعي  
مصدر رئيسي لغذاء الإنسان - مصدرا هاما للمواد الخام الصناعية - ترتبط الزراعة بتربية الحيوان - يعمل عدد كبير من السكان بالزراعة  
2- أماكن إنتشار الزراعة الكثيفة ومميزاتها  
في المناطق الحارة والمعتدلة - تزرع الأرض أكثر من مرة في العام الواحد - تتم من خلال عمليات عديدة - توجد في المناطق الكثيفة السكان  
3- أهم قارات العالم انتاجا للقطن ؟  
اسيا اول القارات  
(ب) ترعى الماشية والأغنام في مناطق حشائش السافانا والإستبس في ضوء العبارة وضح :-  
1- الأهمية الاقتصادية لحشائش السافانا والإستبس  
تعد أهم مناطق الرعي التجاري حيث ترعى الماشية والأغنام والعديد من الحيوانات الاخرى  
2- أولى دول العالم في إنتاج الأغنام والأبقار ؟  
الأغنام الصين ----- الأبقار الهند  
3- أهم مناطق الرعي التجاري في العالم ؟  
الولايات المتحدة الأمريكية بأمريكا الشمالية - أمريكا الجنوبية ( في الأرجنتين ) - استراليا

السؤال الخامس :- بم تفسر.....؟

- 1- إعتبار النشاط الزراعي من الأنشطة الاقتصادية الأساسية في العالم .  
مصدر رئيسي لغذاء الإنسان مصدرا هاما للمواد الخام الصناعية - ترتبط الزراعة بتربية الحيوان

- 2 - إحتياج الزراعة الكثيفة إلى أيدي عاملة وفيرة .  
لأنها تتم من خلال عمليات عديدة مثل بذر البذور و الري و تنقية الحشائش
- 3 - إعتبار محصول القمح الغذاء الرئيسي لمعظم شعوب العالم  
يصنع منة رغيف الخبز و إنتاج المكرونة و الحلويات
- 4 - عدم جودة زراعة قصب السكر في أوروبا  
لأنه يحتاج حرارة مرتفعة وهي تقع في منطقة معتدلة
- 5- توجد في نيجيريا أعداد كبيرة من الأبقار و الأغنام و الماعز ؟  
- بسبب وجود مراعى حشائش السافانا
- 6 - إعتبر القطن في مصر والسودان من أجود أنواع القطن في العالم ؟  
- لأنه من النوع طويل التيلة
- 7 - تنتج نيجيريا كميات كبيرة من الأسماك ؟  
- لأن بها ساحل طويل على خليج غينيا و أنهار و بحيرات بالداخل
- 8 - يقل السكان في دلتا نهر النيجر جنوب نيجيريا ؟  
- بسبب الغابات الكثيفة و الظروف المناخية القاسية
- 9- زيادة معدل الإستهلاك لعالمي من اللحوم ؟  
سبب إرتفاع مستوى المعيشة
- 10- عدم كفاية إنتاج الألبان في مصر لحاجة الإستهلاك المحلي  
- بسبب زيادة السكان وزيادة الإستهلاك
- 11- إحتلال الصين المركز الأول في إنتاج الأسماك  
بسبب مصاندها علي المحيط الهادي و الأنهار والبحيرات والمزارع السمكي
- 12- لجوء بعض الدول لصيد الحيتان ؟  
- للاستفادة من لحومها وشحومها
- 13- معظم الدول المنتجة للألومنيوم ليست هي المنتجة للبوكسيت  
لأنه يحتاج إلى طاقة كهربائية وخبرة علمية وفنية وسوقا محلية وخارجية
- 14- الأهمية الاقتصادية لمعدن النحاس  
يستخدم في كثير من الصناعات مثل الأسلاك والأدوات الكهربائية
- 15- إعتبار البترول أهم مصادر الطاقة في العالم  
يرتبط بالتنمية الاقتصادية والاجتماعية ومن أكثر مصادر الطاقة ارتباطا بالعلاقات السياسية بين الدول الصناعية
- 16- توسع العالم في استخدام الغاز الطبيعي كبدل لمصادر الطاقة الأخرى ؟  
- يعد من مصادر الطاقة النظيفة والرخيصة , ويستخدم في توليد الطاقة الكهربائية  
و الاستخدامات المنزلية
- 17- جذب المرتفعات الوسطى للسياح في ألمانيا ؟  
- لأنها تكثر بها التلال و الينابيع المائية
- 18- شهدت الصناعة الألمانية تطورا كبيرا بعد الحرب العالمية الثانية  
- بسبب : توافر مقومات الصناعة و تدفق الاستثمارات و توافر المراكز العلمية المتقدمة
- 19- إرتفاع الكثافة السكانية فوق هضبة جوس  
بسبب وجود الاراضي الزراعية والمراعي ومناطق التعدين
- 20- الأهمية الاقتصادية للغابات في نيجيريا .  
لأنها مصدر للأخشاب
- 21- انكماش مساحة الحشائش بالمانيا  
بسبب كثافة النشاط الزراعي وقطع الكثير من الأشجار .
- 22- تعد الهند من الدول الرئيسية المنتجة للأسماك  
لأنها تطل علي مسطحات مائية بجبهات ساحلية طويلة مثل خليج البنغال والبحر العربي
- 23- تعد مدينة ميونخ أحد أهم المدن بدولة المانيا

حيث يوجد بها مقر عدد من الشركات والمصانع الألمانية العالمية

السؤال السادس : قارن بين :

1- الزراعة البسيطة والزراعة التجارية والعلمية من حيث مناطق الانتشار والمميزات وأهم المحاصيل

وجه المقارنة	الزراعة البسيطة	الزراعة التجارية والعلمية
مناطق الانتشار	المناطق الحارة على هوامش الغابات الإستوائية ومناطق السافانا	الولايات المتحدة - جنوب وشرق آسيا - أوروبا
المميزات	إستخدام أدوات بدائية - ضيق المساحة المزروعة - توافر الإحتياجات الغذائية دون وجود فائض للتصدير	تهدف إلى الإنتاج التجارى الضخم - إستخدام الآلات الزراعية حديثة - قلة التكاليف
أهم المحاصيل	اليام - اللوزة - الكسافا - الموز	القمح - القطن - المطاط - الشاي

2- القمح والقطن من حيث أهم الدول المنتجة

وجه المقارنة	القمح	القطن
أهم الدول المنتجة	الصين - الهند	الصين - الهند

3- قصب السكر والبنجر من حيث أهم القارات المنتجة وأهم الدول المنتجة

وجه المقارنة	قصب السكر	البنجر
أهم القارات المنتجة	كل القارات ما عدا أوروبا	أوروبا - أمريكا الشمالية
أولى الدول المنتجة	البرازيل	فرنسا - الولايات المتحدة

4- الأبقار والأغنام من حيث أهم الدول المربية

وجه المقارنة	الأبقار	الأغنام
أهم الدول المنتجة	الهند	الصين - الهند - استراليا

5- مدينتي لاجوس وأبوجا من حيث الأهمية والموقع

وجه المقارنة	لاجوس	أبوجا
	نيجيريا - العاصمة القديمة - العاصمة الاقتصادية - أكبر المدن سكانا	نيجيريا - العاصمة الحالية - مدينة داخلية حديثة

6- مدينتي برلين وهامبورج من حيث الأهمية

برلين	هامبورج
- العاصمة السياسية	- عاصمة إقليم بافاريا و يوجد بها مقر عدد من الشركات و المصانع الألمانية العالمية

7- مدينتي نيودلهي وبومباي من حيث الأهمية .

نيودلهي	بومباي
---------	--------

أهم مدن الساحل الغربي وهي تعد من أكبر الموانئ ومن أكبر المدن الصناعية بالهند	العاصمة السياسية وتتميز بوجود الجامعات والمراكز الصناعية والمعالم التاريخية المهمة
--	--

السؤال الثامن:- امامك مجموعة من المدن المهمة اكتب اين تقع وما سبب شهرتها

- 1- إبيادان : مركز للتجارة و التعليم و المواصلات في نيجيريا
- 2- برلين : العاصمة السياسية لألمانيا
- 3- لاجوس : نيجيريا – العاصمة الاقتصادية .
- 4 - هامبورج : أهم موانئ ألمانيا
- 5 – نيودلهي : تتميز بوجود الجامعات والمراكز الصناعية والمعالم التاريخية المهمة – الهند
- 6- بومباي : أهم المدن علي الساحل الغربي فهي تعد من أكبر الموانئ ومن أكبر المدن الصناعية - الهند
- 7- حيدر اباد : توجد في هضبة الدكن من اكبر مراكز الصناعات اليدوية وتضم العديد من المراكز الاسلامية – الهند

السؤال التاسع ماذا يحدث إذا.....:-

- 1- اتبعت مصر نظام الزراعة الواسعة في الصحراء الغربية وسيناء يزيد إنتاجها من المحاصيل المختلفة خاصة القمح و لا تحتاج أن تستورد من الخارج
  - 2- كانت مصر غنية بالمراعى الطبيعية يزيد إنتاجها من الثروة الحيوانية ومن اللحوم والألبان ولا تستورد من الخارج
  - 3- قامت مصر ببناء أساطيل صيد حديثة يتضاعف إنتاجها من الأسماك ولايحتاج ان تستورد من الخارج
  - 4- توسعت مصر في إنشاء محطات الطاقة النووية السلمية يزيد إنتاجها من الكهرباء و تتوسع في الصناعة
  - 5- أهتمت مصر بالجودة في صناعتها
- سوف تصبح مصر من الدول المتقدمة ذات الدخل الأقتصادي المرتفع

السؤال العاشر ما النتائج المترتبة على.....:-

- 1- صغر مساحات الحقول الزراعية بالزرعة الكثيفة - صعوبة استخدام الآلات الزراعية
- 2- إهتمام الدول المتقدمة بالزراعة التجارية والعلمية - يؤدي الى تحقيق إنتاج تجارى ضخم وتقليل التكاليف وعدد العمال
- 3- تركيز إنتاج البترول في دول الخليج العربي - أصبحت من المراكز الصناعية الحديثة
- 4 – وجود مراعى حشائش السافانا في نيجيريا - أدى ذلك إلى وجود أعداد كبيرة من الأبقار و الأغنام و الماعز
- 5 – وقوع دلتا نهر النيجر في المنطقة الاستوائية - أدى ذلك إلى قلة السكان في دلتا نهر النيجر جنوب نيجيريا
- 6 - وقوع شمال ألمانيا في نطاق مناخ غرب أوروبا - أصبح يسود ألمانيا مناخ غرب أوروبا الممطر طوال العام خاصة في الشمال
- 7 - تعدد الأنشطة الاقتصادية في ألمانيا - أصبحت ألمانيا من أولى الدول الاقتصادية في العالم و أكثرها تقدما
- 8- اشراف الهند علي محيطات و خلجان بجهات ساحلية طويلة . - أصبحت من الدول الرئيسية في إنتاج الاسماك
- 9- افتقار الهند لمصادر الطاقة مثل البترول . - لجأت الهند الي الطاقة النووية والكهربائية ومصادر الطاقة الاخرى

ثانيا : التاريخ

السؤال الأول : اكتب كلمة (صواب) أو (خطأ) مع التصويب :

- 1- كانت ثورة 23 يوليو 1952م ثورة علي الفساد والاحتلال وسوء الحكم
- 2- ألغت ثورة يوليو 1952م دستور 1923م
- 3- القي السادات أول بيان لثورة 23 يوليو 1952م
- 4- ساهمت مشاركات الدول العربية في حرب اكتوبر 1973م في تحقيق النصر
- 5- عقد مؤتمر باندونج باندونيسيا في عام 1955م
- 6- قبلت مصر قرار مجلس الامن رقم 242 وامتنعت اسرائيل عن تنفيذة
- 7- انسحبت القوات الانجليزية والفرنسية من بورسعيد في عام 1956م
- 8 - أظهرت حرب اكتوبر 1973م أهمية استخدام سلاح النفط العربي
- 9- يعرف خط الدفاع الاسرائيلي في هضبة الجولان باسم خط بارليف
- 10- نادي الرئيس السادات بالسلام العادل لكل شعوب المنطقة
- 11- دعا الرئيس الامريكي كارتر لعقد مؤتمر كامب ديفيد عام 1978م
- 12- تحقق الانسحاب الاسرائيلي الكامل من سيناء في ابريل 1982م فيما عدا منطقة طابا
- 13- صدر ما عرف بدستور مصر الدائم عام 1971م
- 14- انشأ رفاة الطهطاوي أول مدرسة لتعليم البنات عام 1873م
- 15- وضع ميثاق جامعة الدول العربية بالقاهرة في مارس 1945م
- 16- ساهمت منظمة اليونسكو في انقاذ معابد أبو سمبل في عام 1964م
- 17- يعتبر محمد نجيب أول رئيس لجمهورية مصر العربية .
- 18 - يتم تعيين الأمين العام للأمم المتحدة عن طريق مجلس الوصاية
- 19 - شاركت مصر في كافة المؤتمرات الإسلامية

الإجابة

- 1- (صواب) 2- (صواب) 3- (صواب) 4- (صواب) 5- (صواب) 6- (صواب) 7- (صواب) 8- (صواب) 9- (خطأ)
- 10- (صواب) 11- (صواب) 12- (صواب) 13- (صواب) 14- (خطأ) 15- (صواب)
- 16- (صواب) 17- (صواب) 18- (خطأ) 19- (صواب)

السؤال الثاني : اختر الإجابة الصحيحة مما بين القوسين واكمل بها العبارات الاتية

- 1- قامت الوحدة بين مصر و ..... عام 1958 م  
( لبنان - سوريا - السعودية - الاردن )
- 2- عقدت معاهدة السلام بين مصر واسرائيل عام 1979م برعاية .....  
( اوروبية - امريكية - الاتحاد السوفيتي - المانية )
- 3- عقد مؤتمر باندونج بالاشتراك بين مصر والهند ويوغوسلافيا و.....  
( فرنسا - انجلترا - اندونيسيا - ليبيا )
- 4- اعلن الرئيس ..... عن مبادرة للسلام عام 1977م  
( محمد نجيب - جمال عبد الناصر - السادات - حسني مبارك )
- 5- رفضت الدول العربية مشروع تقسيم ..... عام 1947م  
( لبنان - السودان - فلسطين - سوريا )
- 6- أول وزيرة للشئون الاجتماعية في مصر هي .....  
( تهاني الجبالي - امال عثمان - عائشة راتب - حكمت ابو زيد )
- 7- ساهمت منظمة ..... في احياء مكتبة الاسكندرية  
( اليونسكو - الصحة العالمية - اليونسيف - الاغذية )
- 8- عقد اول قمة افريقية عام 1964م بدولة .....  
( السودان - اوغندا - نيجيريا - مصر )
- 9- يعين الامين العام للجامعة العربية بموافقة مجلس .....  
( الأمن - الجامعة - الشعب - الشيوخ )

- 10- كان أول رئيس لجمهورية مصر العربية الرئيس .....  
( محمد نجيب - محمد انور السادات- جمال عبد الناصر - محمد حسني مبارك )  
11 - يوجد مقر محكمة العدل الدولية في مدينة ..... بهولندا  
( نيويورك - جنيف - روما - لاهى )

#### الإجابة

- 1- سوريا 2- أمريكية 3- إندونيسيا 4- السادات 5- فلسطين 6- حكمت ابوزيد 7- اليونسكو 8- مصر  
9- الجامعة 10 - محمد نجيب 11 - لاهى

#### السؤال الثالث : الى من تنسب الأعمال الآتية

- 1- تعين عائشة راتب وزيرة للشئون الاجتماعية 1971م  
2- تزعم مجموعة من ضباط الجيش المصري عرفوا باسم الضباط الاحرار  
3- أنشاء اول مدرسة لتعليم البنات عام 1873م  
4- اعلان أول بيان لثورة 23 يوليو سنة 1952م  
5- توقيع معاهدة السلام بين مصر واسرائيل عام 1979م  
6- اصدار حكم باحقية مصر في طابا عام 1988م  
7- انشاء مجلس المشورة  
8- انشاء مجلس شوري النواب عام 1866م  
9- اصدار مجلة الريحانية 1907م كاول مجلة نسائية مصرية

#### الإجابة

- 1- الرئيس السادات 2- جمال عبد الناصر 3- الخديوي إسماعيل 4 - السادات 5  
- الرئيس السادات 6- محكمة العدل الدولية 7- محمد علي 8- الخديوي اسماعيل  
9- جميلة حافظ

#### السؤال الرابع : صوب ما تحته خط

- 1- كان الهدف من قيام ثورة 23 يوليو 1952م هو التخلص من الاحتلال الفرنسي  
2- تزعم جمال عبد الناصر مجموعة من ضباط الجيش المصري عرفوا باسم حركة عدم الانحياز  
3- قررت عصبة الأمم وضع مصر تحت الانتداب البريطاني وتنفيذ وعد بلفور  
4- قامت الوحدة بين مصر واليمن عام 1958م  
5- قبلت مصر قرار مجالس الامن رقم 242 وامتنعت بريطانيا عن تنفيذه  
6- تم تدمير المدمرة البريطانية ايلات بصواريخ البحرية المصرية في اكتوبر 1967م  
7- اقامت فرنسا جسر جوي لتقديم المساعدات العسكرية لاسرائيل في حرب اكتوبر 1973م  
8- يعرف خط الدفاع الاسرائيلي علي هضبة الجولان باسم بارليف  
9- عرف خط الدفاع الاسرائيلي في شبة جزيرة سيناء باسم دفرسوار  
10- دعا الرئيس الامريكي كارتر السادات وبيجن الي اجتماعات في مدريد  
11- عقد مؤتمر كامب ديفيد علي اساس مبدأ الارض مقابل السلام  
12- ظهرت اول مجلة نسائية مصرية علي يد هدى شعراوي

#### الإجابة

- 1- البريطاني 2 - الضباط الأحرار 3- فلسطين 4 - سوريا 5- اسرائيل 6 - الاسرائيلية 7 - الولايات  
المتحدة 8 - خط الوان 9 - خط بارليف  
10- كامب ديفيد 11 - مدريد 12- جميلة حافظ

#### السؤال الخامس : بما تفسر ..... ؟

- 1- قيام ثورة 23 يوليو 1952م  
استمرار الاحتلال البريطاني - فساد النظام الملكي- هزيمة مصري حرب فلسطين - تدهور الأحوال الاقتصادية - سوء الأحوال  
الاجتماعية

- 2- اصدار قرار بناء السد العالي لحماية مصر من خطر الفيضان - زيادة الرقعة الزراعية - توليد الكهرباء .
- 3- هزيمة الجيش المصري في حرب فلسطين 1948م
- 4- مساعدة الولايات المتحدة لإسرائيل - الأسلحة الفاسدة - عدم الاستعداد للحرب .
- 5- العدوان الثلاثي علي مصر 1956م
- 6- عقد مصر صفقة الأسلحة مع الاتحاد السوفيتي - تأمين قناة السويس - مساعدة مصر للثورة الجزائرية .
- 7- العدوان الاسرائيلي علي الدول العربية في 5 يونيو 1967م
- 8- لاستيلاء علي الاراضي العربيه - القضاء علي قوة مصر العسكرية .
- 9- هزيمة الدول العربية امام اسرائيل عام 1967م
- 10- بسبب عنصر المفاجأة - تفوق سلاح الطيران الإسرائيلي- مساعدة الولايات المتحدة لإسرائيل
- 11- قيام حرب اكتوبر 1973م
- 12- بسبب رفض إسرائيل نداء السلام - ازالة اثار الكسة 1967- استرداد الاراضي العربية المحتلة .
- 13- اهمية استخدام سلاح البترول في حرب اكتوبر 1973م
- 14- تم استخدامه كوسيلة ضغط اقتصادية على الدول المساندة لإسرائيل .
- 15- زيادة الرئيس السادات لاسرائيل عام 1977م
- 16- لإحلال السلام في المنطقة -إنهاء الصراع العربي الإسرائيلي- إسترداد الأراضى المحتلة
- 17- اصدار قانون الإصلاح الزراعي في سبتمبر 1952م
- 18- للقضاء على الإقطاع - تحقيق العدالة الإجتماعية
- 19- فساد النظام الملكي قبيل ثورة يوليو 1952م
- 20- بسبب استبداد الملك بالحكم - الصراع مع الأحزاب .
- 21- فشل العدوان الثلاثي علي مصر عام 1956م
- 22- لتهديد الاتحاد السوفيتي باستخدام القوة - مساعدة البلاد العربيه - قوة المقاومة من الجيش والشعب- تنديد الامم المتحدة بالعدوان.
- 23- اغلاق مصر لخليج العقبة في وجه الملاحة الاسرائيلية مايو 1967م
- 24- لإحكام الحصار الاقتصادي الذي يفرضه العرب على إسرائيل .
- 25- يعد مجلس الأمن أهم أجهزة الأمم المتحدة
- 26- لأنه مسنول عن حفظ السلام و الأمن الدوليين

#### السؤال السادس : ما رايك في .....

- 1- الدعم العربي اثناء حرب السادس من اكتوبر 1973م
- 2- بنود اتفاقية السلام 1979م
- 3- قرار تاميم شركة قناة السويس
- 4- مشروع تقسيم فلسطين 1947م

الاجابة : متروك للطالب

#### السؤال السابع :

كان لثورة 23 يوليو 1952م اهداف عظيمة . في ضوء العبارة السابقة اجب عن الاتي

- 1- اذكر اهداف الثورة
- القضاء علي الاقطاع .. القضاء علي الاستعمار .. القضاء على الاحتكار .. إقامة جيش قوى .. إقامة عدالة اجتماعية .. إقامة حياة ديمقراطية سليمة .
- 2- اختر اثنين من انجازات ثورة 23 يوليو 1952م و اشرحها
- الانجاز في المجال السياسي :-
- إلغاء دستور 1923 (1952) -- حل الأحزاب السياسية (1953) -- إلغاء الملكية إعلان الجمهورية -- توقيع اتفاقية الجلاء (1954) -- تأميم القناة (1956) .
- الانجازات في المجال الاقتصادي :- الزراعة - الصناعة -- التجارة).

- الزراعة :-** // استصلاح الأراضي الصحراوية لزيادة الأرض الزراعية // إنشاء السد العالي .  
**الصناعة :-** // إنشاء مصانع الحديد والصلب بحلوان والأسمدة بأسوان  
**الإهتمام بالتعليم الصناعي** // البحث عن البترول وإنشاء معامل لتكريره .  
**التجارة :-** // فتح أسواق جديدة في الخارج لتسويق المنتجات المصرية .  
**3- ما رايك في تنظيم الضباط الاحرار ؟ متروك للطالب**

**السؤال الثامن : اكتب المصطلح الذي تعبر عنه كل عبارة من العبارات الاتية**

- 1- قيام الشعب بانتخاب ممثلين لادارة شئون الحكم في البلاد وسن القوانين ومراقبة اعمال الحكومة
- 2- الوثيقة الرسمية التي تحدد نظام الحكم في الدولة وتحدد شكل واختصاصات المؤسسات المختلفة
- 3- مجموعة من ضباط الجيش المصري راوا ضرورة القيام بثورة للقضاء علي الفساد وتزعّمهم جمال عبد الناصر
- 4- قانون اصدره ثورة يوليو في سبتمبر 1952م وبمقتضاة حددت الملكية الزراعية وتم القضاء علي الإقطاع
- 5- مؤتمر دعا اليه كل من الولايات المتحدة والاتحاد السوفيتي مؤكدا مبدا الارض مقابل السلام
- 6- تضم جمعيات المجتمعات المحلية والمنظمات غير الحكومية والنقابات العمالية والجمعيات الخيرية وغيرها
- 7- المنظمة التي تجمع عددا من الدول المستقلة وترتبط ببعضها بروابط معينة مثل جامعة الدول العربية
- 8- المنظمة التي تضم في عضويتها دول العالم المستقلة وان لم ترتبط بروابط معينة
- 9- احد أجهزة الأمم المتحدة تضم جميع الدول الأعضاء في الأمم المتحدة ولكل دولة صوت واحد
- 10- أهم أجهزة الأمم المتحدة المسنولة عن حفظ السلام والأمن الدوليين
- 11- منظمة تابعة للأمم المتحدة هدفها الرئيسي المساهمة في إحلال السلام والأمن عن طريق رفع مستوي التعامل بين العالم في مجالات التربية والتعليم والثقافة
- 12- منظمة عالمية متخصصة في المجال الزراعي للقضاء علي الجوع ومساعدة البلدان النامية علي تطوير وتحسين الإنتاج الزراعي
- 13- المنظمة العالمية الوحيدة المتخصصة في مجال الطفولة لتعزيز وحماية حقوق الاطفال ورفاهيتهم
- 14- الجهاز القضائي الاساسي للأمم المتحدة ينظر في القضايا التي تضعها الدول امامها وتقديم الاستشارات القانونية للهيئات الدولية
- 15- عدم الانضمام الي اي من الكتلتين الشرقية والغربية
- 16- منظمة عالمية متخصصة في المجال الصحي انشئت في 1948م مقرها جنيف بسوسرا
- 17- المجلس الذي يتكون من ممثلي جميع الدول الاعضاء في جامعة الدول العربية

**الإجابة**

- |                    |                         |                   |                                |                            |           |
|--------------------|-------------------------|-------------------|--------------------------------|----------------------------|-----------|
| 1- الحياة النيابية | 2- الدستور              | 3- الضباط الاحرار | 4- قانون الإصلاح الزراعي الاول | 5- مدريد                   | 6- منظمات |
| المجتمع المدني     | 7- منظمة إقليمية        |                   |                                |                            |           |
| 8- منظمة دولية     | 9- الجمعية العامة       | 10- مجلس الامن    | 11- منظمة اليونسكو             | 12- منظمة الأغذية والزراعة |           |
| 13- منظمة اليونسيف | 14- محكمة العدل الدولية | 15- عدم الانحياز  | 16- منظمة الصحة العالمية       |                            |           |
| 17 - مجلس الجامعة  |                         |                   |                                |                            |           |

**السؤال التاسع : ما النتائج المترتبة على .....**

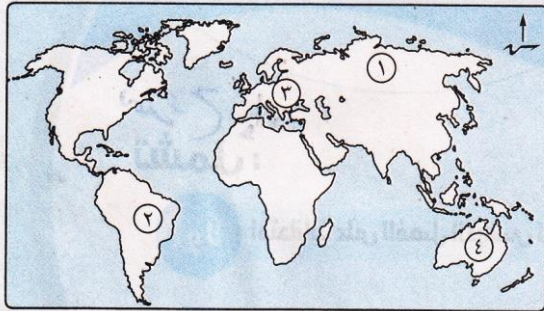
- 1- فساد النظام الملكي قبيل ثورة يوليو 1952 ؟
- 2- إصدار قانون الإصلاح الزراعي الاول في سبتمبر 1952 ؟  
أدى إلى القضاء على الإقطاع -- توزيع الاراضي علي الفلاحين .
- 3- إصدار بريطانيا لوعد بلفور 1917 ؟  
أدى إلى هجرة اليهود إلى فلسطين وقيام دولة إسرائيل .
- 4- الانتداب البريطاني علي فلسطين ( 1920 - 1948 ) ؟  
قيام إنجلترا بتسهيل هجرة اليهود إلى فلسطين - تنفيذ وعد بلفور
- 5- فشل العدوان الثلاثي علي مصر في 1956 ؟

- أدى إلى فشل العدوان الثلاثي وانسحاب دول العدوان بعد تهديد الاتحاد السوفيتي .
- 6- الدعم العربي اثناء حرب اكتوبر 1973 ؟
- ادي الي الانتصار في الحرب و انسحاب اسرائيل .
- 7- تقديم الولايات المتحدة المساعدات العسكرية لاسرائيل اثناء حرب اكتوبر 1973م ؟
- ادي الي احداث ثغرة الدفراسوار.
- 8- مؤتمر كامب ديفيد سبتمبر 1978
- أدى إلى عقد معاهدة السلام .
- 9-معاهدة السلام في مارس 1979
- أدى إلى إنتهاء حالة الحرب بين مصر و إسرائيل .
- 10- حكم محكمة العدل الدولي الصادر في مارس 1989
- أدى إلى عودة طابا إلى السيادة المصرية .

### النموذج الأول

### السؤال الأول

- ا ) امامك خريطة صماء للعالم اكتب في كراسة الاجابة مدلول الارقام الموقعة عليها
- 1- اولي قارات العالم انتاجا للقمح اسيا
- 2- ثاني قارات العالم في تربية الابقار امريكا الجنوبية
- 3- اولي قارات العالم انتاجا للغاز الطبيعي اوروبا
- 4- اولي دول العالم انتاجا للبوكسيت استراليا



### ب ) بم تفسر .....

- 1- تركز زراعة البنجر في معظم دول أوروبا .
- لملائمة الظروف المناخية والتربة
- 2- التوسع في استخدام الغاز الطبيعي كبديل لمصادر الطاقة الأخرى .
- لنظافته ورخص ثمنه وسهولة نقله وعدم تلويثه للبيئة
- 3- تعد الصين من الدول الرئيسية المنتجة للأسمك .
- لامتلاكها سواحل طويلة على المحيط الهادي

### السؤال الثاني

#### أ - اكتب المصطلح الذي تعبر عنه كل عبارة مما يأتي

- 1- زراعة الارض اكثر من مرة في السنة لاشباع حاجة السكان المحليين من الغذاء
- ( زراعة كثيفة )
- 2 - نوع من انواع الرعي يمارسه سكان المناطق الصحراوية في مساحات واسعة في قارات العالم
- ( رعى بدائي )

#### ب) قارن بين نيجيريا و جمهورية المانيا الاتحادية من حيث المناخ والموقع الجغرافي

الموقع الجغرافي	المناخ	أوجه المقارنة
تقع في قارة أفريقيا و يحدها من : - الشمال : دولة النيجر - الجنوب : المحيط الأطلنطي - الشرق : دولتي الكاميرون و تشاد - الغرب دولة بنين	يقع معظم نيجيريا ضمن نطاق المناخ المداري ذات الحرارة المرتفعة و المطر الصيفي بينما تقع الأطراف الجنوبية ضمن المناخ الاستوائي ذات الحرارة المرتفعة و الأمطار طوال العام	نيجيريا

<p>- تقع في قارة أوروبا ويحدها من : - الشمال : البحر البطي و دولة الدنمارك - الجنوب : دولتي النمسا و سويسرا - الشرق : دولتي بولندا و التشيك - الغرب : هولندا و بلجيكا و لوكسمبورج و فرنسا</p>	<p>- يسود ألمانيا مناخ غرب أوروبا الممطر طوال العام في الشمال متأثراً بالمحيط الأطلنطي</p>	<p>ألمانيا</p>
---	--	----------------

ج ( توجد علاقات مصرية مع كل من نيجيريا والهند في ضوء العبارة السابقة اجب عما يأتي:  
1- ما مدي صحة العبارة السابقة ولماذا ؟ العبارة صحيحة

تستورد مصر من نيجيريا : السلع الزراعية وأهمها الحبوب الزيتية  
تصدر مصر لنيجيريا : الأسمدة والإطارات والمعدات الثقيلة والأسلاك النحاسية  
توجد علاقات بين مصر والهند حيث شهدت العلاقات المصرية الهندية نموا كبيرا علي كافة المجالات  
تصدر مصر الي الهند : القطن - الفوسفات - الأسمدة الخام - الجلود  
تستورد مصر من الهند : غزل القطن - السمسم - التوابل - قطع غيار السيارات  
2- ما اوجة الاختلاف بين كل منها من حيث اهم الصناعات  
الصناعات في نيجيريا : الغزل والنسيج - تكرير البترول - الصناعات الكيماوية  
الصناعات في الهند : الحديد والصلب - الالكترونيات والالات

### ثانيا : التاريخ

#### السؤال الثالث

- ا) اكتب كلمة صواب أمام العبارات الصحيحة وكلمة خطأ أمام العبارات غير الصحيحة مع التصويب
- 1- كان من اهداف قيام ثورة 23 يوليو 1952م التخلص من الاحتلال البريطاني
  - 2- ا عطي مؤتمر سان ريمو لبريطانيا حق الانتداب علي فلسطين 1920م
  - 3- انشا محمد علي عدد مجالس استشارية منها مجلس النواب
  - 4- يقع مقر منظمة الامم المتحدة في مدينة مدريد

#### الاجابة

- 1- (صواب) 2- (صواب) 3- (خطأ) المشورة 4- (خطأ) نيويورك

#### ب) ما النتائج التي ترتبت علي ؟

- 1- عقد مؤتمر مدريد للسلام عام 1991م
- 2- ادى الى حل النزاع العربي الإسرائيلي علي اساس الأرض مقابل السلام
- 3- قيام ثورة 23 يوليو 1952م في مجال التجارة
- 4- ادى إلى فتح أسواق جديدة - تمصير البنوك .
- 3- تدهور الاوضاع الاجتماعية والاقتصادية في عهد مبارك
- 4- ادى ذلك إلى قيام ثورة 25 يناير 2011م

#### السؤال الرابع

#### أ) من يكون ..... ؟

- 1- اذاع أول بيان لثورة 23 يوليو 1952م
- 2- قادت الثورة عام 1936م بفلسطين
- 3- المنظمة التي ساهمت في احياء مكتبة الاسكندرية وانقاذ معابد ابو سمبل
- 4- الجهة المسنولة عن تولي السلطة التشريعية في الدولة

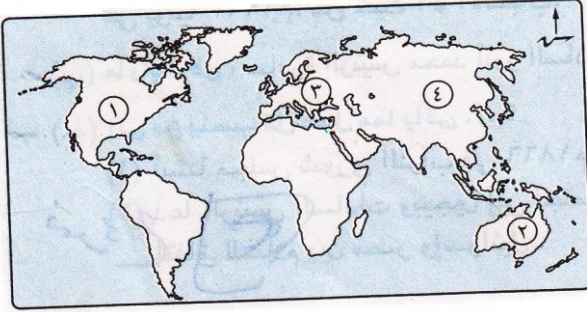
- الإجابة  
1- السادات 2- اللجنة العربية 3- منظمة اليونسكو 4- مجلس النواب

(ب) ماذا كان يحدث إذا

- 1- لم تصدر بريطانيا وعد بلفور 1917م  
ما قررت دول الحلفاء وضع فلسطين تحت الإنتداب البريطاني
- 2- استجابات اسرائيل لنداءات السلام بالانسحاب من الاراضي التي احتلتها في حرب 1967م  
ما قامت حرب أكتوبر 1973م
- 3- لم يتضامن الجيش مع الشعب اثناء ثورة 25 يناير 2011م  
ما نجحت ثورة 25 يناير 2011 .

النموذج الثاني  
أولا الجغرافيا

السؤال الأول ( ا ) أمامك خريطة صماء للعالم اكتب في كراسية اجابتك مدلول الارقام الموقعة عليها



- 1- اولي قارات العالم انتاجا للذرة امريكا الشمالية
- 2- من الدول المربية للاغنام استراليا
- 3- اولي قارات العالم انتاجا للطاقة النووية اوروبا
- 4- اولي قارات العالم انتاجا للقطن اسيا

(ب) بم تفسر :-

- 1- يعد النشاط الزراعي من الأنشطة الاقتصادية الأساسية في العالم  
مصدر للغذاء الانسان - يمثل مصدر للمواد الخام اللازمة لبعض الصناء
  - 2- توسع دول العالم في استخدام الغاز الطبيعي كبديل لمصادر للطاقة الاخرى  
اقل تلوثا - رخيص الثمن - سهل النقل
- السؤال الثاني :- ( أ ) أكتب المفهوم أو المصطلح الذي تعبر عنه العبارات التالية

- 1 - الخام الرئيسي للالومنيوم
- 2 - اقليم صناعي يبدو في شكل مناطق متباعدة اهمها مركز الصناعة في اقليم موسكو
- 3 - نشاط اقتصادي يمثل العمود الفقري للاقتصاد الالمانى ويعمل بها نحو ثلث القوي العاملة

الإجابة

- 1- البوكسيت 2- إقليم روسيا وأوكرانيا الصناعي 3- الصناعة

(ب) ماذا يحدث إذا.....؟

- 1- تطورت الصناعة في نيجيريا .
- 2- ستصبح من الدول المتقدمة وسيزيد انتاجها الصناعي وتستغل ثرواتها الزراعية والمواد المعدنية
- 3- توافرت مصادر الطاقة والخبرة العلمية والفنية لدى الدول المنتجة للبوكسيت  
ما صدرتة للدول المتقدمة قامت هي بتصنيع الألومنيوم

ثانيا التاريخ

السؤال الثالث :- ضع كلمة (صواب) أمام العبارة الصحيحة وكلمة ( خطأ ) أمام العبارة غير الصحيحة مع التصويب

- 1 - قدمت الدول العربية دعما عسكريا وماليا لمصر اثناء حرب اكتوبر 1973م
- 2 - اقرت معاهدة السلام انهاء حالة الحرب بين مصر واسرائيل
- 3 - استمرت حرب الاستنزاف لمدة خمس سنوات
- 4 - نص دستور 1956م ان تكون السلطة التشريعية في يد مجلس منتخب هو مجلس الأمة

الإجابة

- 1- ( صواب ) 2- ( صواب ) 3- ( خطأ ) سنتان 4- ( صواب )

( ب ) ما النتائج التي تترتب على.....؟

- 1- سوء الأحوال الإجتماعية قبل ثورة 23 يوليو 1952م انتشار ظاهرة الفقر والجهل والمرض
  - 2- إنشاء السد العالي حماية مصر من خطر الفيضان وتوليد الكهرباء
  - 3- التعاون بين مصر ومنظمة اليونسكو
- انقاذ معبد ابو سمبل - احياء مكتبة الاسكندرية
- السؤال الرابع :- قارن بين كل من :-

( أ )\_ العدوان الثلاثي على مصر في 1956م والعدوان الاسرائيلي علي مصر في يونية 1967م من حيث الاسباب والنتائج

عدوان يونية 1967	العدوان الثلاثي على مصر في 1956
<p><u>الاسباب :</u></p> <ol style="list-style-type: none"> <li>1- تهديد إسرائيل لسوريا وحشد قواتها على الحدود</li> <li>2- إغلاق خليج العقبة في وجه الملاحة الإسرائيلية</li> <li>1- وقوف مصر إلى جانب سوريا وفقا لاتفاقية الدفاع المشترك</li> </ol> <p><u>النتائج :</u></p> <p>سيطرة اسرائيل علي غزة و سيناء و الجولان و القدس العربية و الضفة الغربية لنهر الاردن</p>	<p><u>اسباب :</u></p> <ol style="list-style-type: none"> <li>1- صفقة الأسلحة السوفيتية إلى مصر لمواجهة الأطماع الإسرائيلية</li> <li>2- غضب فرنسا لمساندة مصر للجزائر ضدها</li> <li>3- تأميم قناة السويس</li> </ol> <p><u>النتائج :</u></p> <p>فشل العدوان وانسحاب القوات المعتدية من بورسعيد انسحاب اسرائيل من سيناء و غزة ووضع قوات طواري دولية</p>

( ب ) ما رأيك : مبادرة الرئيس الراحل محمد انور السادات بالذهاب الي اسرائيل من اجل السلام ( مترك للطلب )

( ج ) لمن تنسب الأعمال التالية :-

- 1- انشا مجلس شعوري النواب في 1866م
- 2- دعا الرئيس السادات وبيجن الي اجتماعات في كامب ديفيد لتوصل الي اطار اتفاق للسلام بين مصر واسرائيل

الاجابة

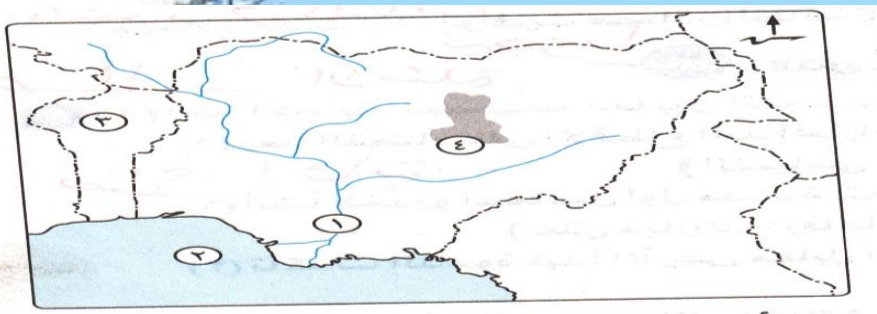
2- جيمى كارتر

1- الخديو اسماعيل

النموذج الثالث

أولا الجغرافيا

السؤال الأول :- ( أ ) امامك خريطة للدولة نيجيريا اكتب في كراسة اجابتك مدلول الارقام الموقعة امامك



- 1- نهر .....
- 2- خليج .....
- 3- دولة .....
- 4- هضبة .....

1 - نهر النيجر 2 - خليج غينيا

( ب )

قارن بين المانيا والولايات المتحدة من حيث اهم المدن وعلاقتها بمصر

الهند	المانيا	
- نيودلهي : تتميز بوجود الجامعات والمراكز الصناعية والمعالم التاريخية المهمة - - - بومباي : أهم المدن علي الساحل الغربي فهي تعد من أكبر	- هامبورج : أهم الموانئ - برلين : العاصمة السياسية	اهم المدن

اجابات شيت الصف الثالث الاعدادي تابع المراجعات النهائية لباقي الصفوف علي صفحة أ / أحمد عطيه - معلم الدراسات الاجتماعية

<p>المواني ومن أكبر المدن الصناعية - حيدر اباد : توجد في هضبة الدكن من اكبر مراكز الصناعات اليدوية وتضم العديد من المراكز الاسلامية</p>	<p>- ميونيخ : عاصمة إقليم بافاريا جنوبا - يوجد بها مقر عدد من الشركات و المصانع الألمانية العالمية</p>	
<p>توجد علاقات بين مصر والهند حيث شهدت العلاقات المصرية الهندية نموا كبيرا علي كافة المجالات تصدر مصر الي الهند : القطن - الفوسفات - الاسمدة الخام - الجلود تستورد مصر من الهند : غزل القطن - السمسم - التوابل - قطع غيار السيارات</p>	<p>- توجد علاقات ثقافية و علمية تتمثل في : - هيئة التبادل العلمي الألمانية - المركز الثقافى الألماني - الجامعة الألمانية بالقاهرة - معهد الآثار الألماني</p>	<p>علاقتها بمصر</p>

### السؤال الثاني

#### ( ا ) حدد الدولة في انتاج ما يلي

- 1- اللحوم الحمراء : الصين
- 2- الحديد : الصين
- 3- البترول : السعودية
- 4- قصب السكر : البرازيل

#### ب ) ما المقصود بكل من

- 1- الزراعة البسيطة : زراعة تتميز باستخدام أدوات بدائية تسود هوامش الغابات الاستوائية - لا يوجد فائض للتصدير - يقوم بها عدد قليل من السكان
- 2- الزراعة الكثيفة : يقصد بها زراعة الأرض بشكل مكثف - تزرع أكثر من مرة في العام الواحد - تتم من خلال عمليات عديدة - يصعب استخدام الآلات والميكنة الزراعية

#### ( ج ) دلل على صحة كل عبارة من العبارات الآتية :-

- 1- تركز الصناعة في الدول المتقدمة  
الدول المتقدمة تطورت تطور مذهلا اخذة بالاساليب العلمية وتطبيق الابحاث والتجارب العلمية في الاختراع وتطوير المنتجات الصناعية بشكل مستمر
- 2- يربط مصر بنيجيريا علاقات قوية  
تستورد مصر من نيجيريا : السلع الزراعية واهمها الحبوب الزيتية  
تصدر مصر لنيجيريا : الاسمدة والاطارات والمعدات الثقيلة والاسلاك النحاسية
- 3- تنوع النبات الطبيعي في المانيا : حيث يتمثل في الغابات النفضية و الغابات المخروطية  
- و الحشائش في السهل الساحلى

#### ثانيا التاريخ

#### السؤال الثالث :- ضع كلمة ( صواب ) أمام العبارة الصحيحة وكلمة ( خطأ ) أمام العبارة غير الصحيحة مع التصويب

- 1 - غادر الملك فاروق مصر قبل الموعد المحدد له
- 2 - وافقت الدول العربية علي مشروع تقسيم فلسطين عام 1947م
- 3- تم انسحاب اسرائيل بالكامل من سيناء بعد توقيع معاهدة السلام 1979م
- 4 - اصبح للمرأة حق الترشح في البرلمان وفق دستور 1956م

#### الاجابة

- 1- ( صواب )      2- ( خطأ ) رفضت      3- ( خطأ ) ما عدا طابا      4- ( صواب )

**( ب ) بم تفسر :-**

- 1- إنشاء جامعة الدول العربية  
لتنسق العلاقات بين الدول الأعضاء - التعاون وحماية الأمن القومي العربي  
صيانة وحماية الدول الأعضاء وسيادتها - تعزيز العمل العربي المشترك في مختلف المجالات
- 2- اهمية البترول العربي في حرب 1973م  
بسبب قرار وزراء النفط العربي حظر الصادرات النفطية الي الولايات المتحدة عندما طلب الرئيس الامريكى مساعدات عاجلة  
لاسرائيل
- 3- العدوان الثلاثي علي مصر عام 1956م  
صفقة الأسلحة السوفيتية إلى مصر لمواجهة الأطماع الإسرائيلية  
غضب فرنسا لمساندة مصر للجزائر ضدها - تأميم قناة السويس

**السؤال الرابع****( أ ) ما النتائج التي ترتبت على .....؟**

- 1- التعاون بين جمهورية مصر العربية ومنظمة اليونسكو  
إنقاذ معبد ابو سمبل - إحياء مكتبة الإسكندرية
  - 2- حرب فلسطين عام 1948م  
استيلاء اليهود علي جميع الاراضي الفلسطينية ما عدا الضفة الغربية وقطاع عزة
  - 3- مؤتمر مدريد للسلام 1991م  
حدوث مفاوضات بين اسرائيل ومنظمة التحرير الفلسطينية اسفرت عن توقيع اتفاقية اوسلو للسلام
- ( ب ) رتب الأحداث التاريخية الآتية من القديم إلى الحديث :-**

- نشأة الامم المتحدة  
اصدار ما عرف بالدستور الدائم لمصر  
مجلس شوري النواب  
اغتيال الرئيس السادات

**الإجابة**

مجلس شوري النواب - نشأة الامم المتحدة - إصدار الدستور الدائم - اغتيال الرئيس السادات

**( ج ) ما رايك في .....؟**

- 1- قرار تأميم شركة قناة السويس عام 1956م
- 2- الدعم العربي اثناء حرب اكتوبر 1973م

**الإجابة**

متروك للطالب

**النموذج الرابع****أولا الجغرافيا****السؤال الأول: ( أ ) امامك خريطة لدولة نيجيريا اكتب في كراسة اجابتك مدلول الارقام الموقعة امامك**

1 - خليج .....

2 - دولة .....

3 - دولة .....

4 - نهر .....

**الإجابة**

1- غينيا 2- بنو

**( ب ) ما مدى صحة العبارات الآتية**

اجابات شيت الصف الثالث الاعداي تابع المراجعات النهائية لباقي الصفوف علي صفحة أ / أحمد عطيه - معلم الدراسات الاجتماعية

- 1- النشاط الزراعي من الأنشطة الاقتصادية المهمة  
مصدر للغذاء - ومصدر للمواد الخام اللازمة للصناعة
- 2- واجهت الهند المشكلة السكانية بسياسات تنموية مختلفة .  
حيث أهتمت بالتعليم وتطور البحث العلمي مما أدى الي تطور الزراعة والصناعة
- 3- سواحل شمال غرب أوروبا من أهم مناطق صيد الأسماك في العالم  
لتوافر مقومات تطور حرفة الصيد الطبيعية و البشرية بها

ج - امامك مجموعة من المدن حدد ما تشتهر به والدولة التي تنتمي اليها

نيودلهي : العاصمة السياسية - الهند

ميونخ : عاصمة إقليم بافاريا جنوبا - المانيا

ايبادان : ثان المدن اهمية بعد لاجوس - تعتبر مركز للتجارة والتعليم و الصناعة نيجيريا

السؤال الثاني

أ ) صوب ما تحته خط

1- تستخدم الذرة الشامية في امريكا الشمالية كغذاء للانسان

2- أوروبا اكثر قارات العالم انتاجا للقطن

3- استراليا اكبر دول العالم انتاجا لقصب السكر

4- قارة أوروبا اكثر قارات العالم انتاجا للبتروك كمصدر للطاقة

الاجابة

- 1- علف للحيوان      2- اسيا      3- البرازيل      4- الغاز الطبيعي

ب-

قارن بين :

1- نيجيريا و المانيا من حيث الموقع الجغرافي و مناطق التركيز السكاني

نيجيريا	المانيا	
تقع في غرب إفريقيا و يحدها من : - الشمال : دولة النيجر - الجنوب : خليج غانا - الشرق : الكاميرون وتشاد - الغرب : دولة بنين	- تقع في قارة أوروبا و يحدها من : - الشمال : البحر البطي و دولة الدنمارك - الجنوب : دولتي النمسا و سويسرا - الشرق : دولتي بولندا و التشيك - الغرب : هولندا و بلجيكا و لوكسمبورج و فرنسا	الموقع الجغرافي
- يتركز السكان في : الغرب - السهول الشمالية - هضبة جوس	- يتركز السكان في : - المدن الكبرى و المناطق الصناعية - الأودية على جانبي الأنهار حيث تقوم الزراعة	مناطق التركيز السكاني

2- اقليم غرب ووسط أوروبا الصناعي و اقليم شرق اسيا الصناعي من حيث اهم مراكز الصناعة

اقليم شرق اسيا الصناعي	اقليم غرب ووسط أوروبا الصناعي	اهم المراكز الصناعية
جزيرة هنشو باليابان جمهورية كوريا	بريطانيا فرنسا المانيا	

التاريخ

السؤال الثالث

أ ) ضع كلمة ( صواب ) أمام العبارة الصحيحة وكلمة ( خطأ ) أمام العبارة غير الصحيحة مع التصويب

1- صدر أول قانون للإصلاح الزراعي في مصر عام 1952م

2- تشكلت لجنة الوفد المركزية للسيدات عام 1920م برئاسة هدي شعراوي

- 3- حصلت مصر علي طابا بالقوة العسكرية  
4- وافق الملك فاروق علي مغادرة البلاد قبل الموعد المحدد له

### الإجابة

- 1- (صواب) 2- (صواب) 3- (خطأ) 4- (صواب)

ب ( قارن بين :

حرب عام 1948 م وحرب عام 1973م من حيث الاسباب

حرب عام 1973م	حرب عام 1948 م	الاسباب
رفض اسرائيل لكل نداءات السلام تصميم مصر وسوريا علي ازالة نكسة 1967م	نصرة الشعب الفلسطيني من بطش اليهود و مساعدة الشعب الفلسطيني علي اقامة حكومة وطنية	

ج ( ما المقصود بكل من

- 1- منظمة اقليمية : منظمة تجمع عددا من الدول المستقلة التي تربط ببعضها بروابط معينة  
2- الحياة النيابية : أن يقوم أفراد الشعب بانتخاب ممثلين عنهم لإدارة الحكم وسن القوانين ومراقبة أعمال الحكومة

### السؤال الرابع

ا ( ماذا كان يحدث اذا

- 1- لم يصدر تصريح بلفور في عام 1917م  
ما تعهدت بريطانيا ببذل مساعيها لإنشاء وطن قومي لليهود في فلسطين  
2- لم تشارك مصر في منظمة الوحدة الافريقية  
لم يكن لمصر دور قوي في افريقيا

ب ( من يكون

- 1- اعطاء اشارة البدء لحرب اكتوبر 1973م  
2- انشأ مجلس شعوري النواب 1866م  
3 - قادت ثورة 1936م بفلسطين

### الإجابة

- 1- السادات 2- الخديو إسماعيل 3- اللجنة العربية

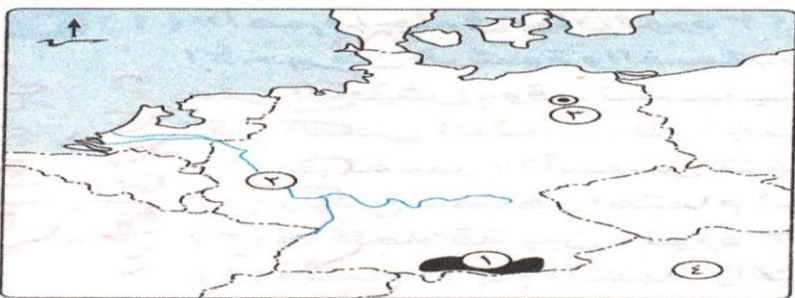
### النموذج الخامس

اولا : الجغرافيا

### السؤال الأول

أ ( أمامك خريطة صماء لجمهورية المانيا الاتحادية اكتب مدلول الارقام الموقعة عليها

- 1 - جبال .....  
2- نهر .....  
3 - مدينة .....  
4 - دولة .....



- 1- الالب 2- الراين 3- برلين 4- النمسا

( ب ) بم تفسر ؟

- 1 - توجد بالهند ثروات حيوانية ضخمة .
  - 2- ينتج قصب السكر في كل القارات ماعدا أوربا لعدم توافر شروط زراعتها
  - 3 - معظم الدولة المنتجة للبوكسيت ليست هي المنتجة للألومنيوم لعدم وجود الطاقة الكهربائية - والخبرة الفنية والعلمية اللازمة لصناعة الألمنيوم
- السؤال الثاني(ا)ضع كلمة ( صواب ) أمام العبارة الصحيحة وكلمة ( خطأ ) أمام العبارة غير الصحيحة مع التصويب
- 1- نيودلهي العاصمة التجارية للهند وبومباي العاصمة السياسية
  - 2- يعد القطن من المحاصيل المدارية
  - 3 - تتمتع نيجيريا بساحل طويل علي خليج غينيا
  - 4- تأتي العراق في المركز الاول في الانتاج العالمي من البترول

الإجابة

- 1- ( خطأ ) نيودلهي العاصمة السياسية وبومباي العاصمة التجارية 2- (صواب)
- 3- ( صواب ) 4-

( ب ) قارن بين

المانيا و نيجيريا من حيث العاصمة السياسية ونوع المناخ السائد وما تصدره مصر اليها

نيجيريا	المانيا	العاصمة السياسية
ابوجا	برلين	نوع المناخ
يقع معظمها ضمن نطاق المناخ المداري تقع الاطراف الجنوبية ضمن المناخ الاستوائي	- يسود ألمانيا مناخ غرب أوروبا الممطر طوال العام خاصة في الشمال	ما تصدره مصر اليها
تصدر مصر لنيجيريا : الاسمدة والاطارات والمعدات الثقيلة والاسلاك النحاسية	البترول - الغاز الطبيعي - الملابس	

( ج ) حدد اولي دول العالم انتاجا لكل من

- 1- القمح : الصين
- 2- الفحم : الصين
- 3- المطاط : تايلاند

التاريخ

( ا ) صوب ما تحته خط

- 1- عقد المؤتمر الاسلامي عام 1955م في باندونج
- 2- انتهت حرب اكتوبر 1973م حالة اللاسلم وللاحرب بين مصر وفرنسا
- 3- اشترك في العدوان الثلاثي علي مصر كل من فرنسا و الولايات المتحدة الامريكية واسرائيل
- 5- اذيع اول بيان لثورة 23 يوليو 1952 باسم جمال عبد الناصر

الإجابة

- 1- مؤتمر عدم الانحياز
- 2- اسرائيل
- 3- بريطانيا
- 4- اللواء محمد نجيب

( ب ) الي من ينسب كل عمل مما ياتي

- 1- هيئة تقوم بتقديم الاستشارات القانونية للهيئات الدولية
- 2- اسس تنظيم الضباط الاحرار
- 3- انشا مجلس شوري النواب عام 1866م

الاجابة

- 1- محكمة العدل الدولية
- 2- جمال عبد الناصر
- 3- الخديو اسماعيل

السؤال الرابع

( أ ) اختر الاجابة الصحيحة مما بين القوسين

- 1- استمرت الوحدة بين مصر و ..... حتى عام 1961م  
( اليمن - العراق - السعودية - سوريا )
- 2- وافقت هيئة الامم المتحدة في عام 1947م علي .....  
( ضم القدس للدولة اليهودية - الانتداب البريطاني علي فلسطين - تقسيم السودان - تقسيم فلسطين )
- 3- عقد مؤتمر القمة الاسلامي عام 1969م بمدينة ..... ( الكويت - الرباط - الرياض - القاهرة )
- 4 - استجاب الخديوي اسماعيل لدعوة ..... وانشاء اول مدرسة لتعليم البنات 1873م  
( رفاة الطهطاوي - جمال الدين الافغاني - سعد زغلول - محمد فريد )

الاجابة

- 1- سوريا
- 2- تقسيم فلسطين
- 3- الرباط
- 4- رفاة الطهطاوي

( ب ) دلل تاريخيا على صحة كل عبارة من العبارات الاتية

- 1- شهدت مصر نهضة نسائية في فترة ما قبل ثورة عام 1919 م  
استجاب الخديوي اسماعيل لدعوة رفاة الطهطاوي بتعليم البنات  
تأسيس اول مجلة نسائية مصرية وهي الريحانية عام 1907
- 2- حققت مبادرة السلام للرئيس السادات عام 1977 أهدافها .  
مهدت زيارة الرئيس السادات الطريق امام اسرائيل لقبول مبدأ التفاوض مع الأطراف المعنية - إقامة دولة إسرائيل