



المراجعة النهائية

اسم الطالب:

الصف:

المادة:

رقم المجموعة:

رقم ولي الأمر:

موسوعة

في الدراسات الاجتماعية

مراجعة 4 الابتدائي 2024

المصطلحات

السؤال الأول

اكتب تعريف المصطلحات الآتية

التعداد السكاني

هو حصر شامل للسكان من حيث النوع والعمر محل الإقامة ومستوى التعليم والحالة الاجتماعية

اليوم العالمي لمحو الأمية

هو اليوم الثامن من شهر سبتمبر من كل عام وقد قامت منظمه اليونسكو بالاحتفال به لتتميه الوعي الدولي بأهمية محو الأمية

السلطة التنفيذية

مراجعة 4 الابتدائي
الصف 2024

في الدراسات الاجتماعية

موسوعة

المصطفى

الوحدة الأولى

اليوم العالمي لمحو الأمية

هو اليوم الثامن من شهر سبتمبر من كل عام وقد قامت منظمته اليونسكو بالاحتفال به لتنمية الوعي الدولي بأهمية محو الأمية

السلطة التنفيذية

يمثلها رئيس الجمهورية والمحافظون

السلطة التشريعية

يمثلها مجلس النواب ومجلس الشيوخ

المجلس المحلي

مجلس منتخب يعاون المحافظ في إدارة شؤون المحافظة

السؤال الثاني : أهم التفسيرات

أهمية التعداد السكاني

للتحديد الخدمات التي يحتاجها السكان في الحاضر المستقبل

محافظه جنوب سيناء أقل محافظات الجمهورية من حيث عدد السكان

بسبب صعوبة مظاهر السطح وندره موارد المياه بها

السؤال الأول

أكتب تعريف المصطلحات الآتية

التعداد السكاني

هو حصر شامل للسكان من حيث النوع والعمر محل الإقامة ومستوى التعليم والحالة الاجتماعية

الساعة السكانية

هي شائشه موجودة أعلى مبنى الجهاز المركزي للتعينة العامة والاحصاء تظهر تقديرات السكان

سكان الحضر

هم الذين يسكنون المدن ويعملون بالصناعة والتجارة والسياحة والخدمات التعليمية والصحية والمصرفية

سكان الريف

هم الذين يسكنون القرى ويعملون بالزراعة وتربية الحيوانات

سكان البدو

هم الذين يعيشون بالصحاري المصرية ويمارسون حرفه الرعي

الاميه المجانيه

هي عدم قدره الفرد على القراءة أو الكتابة

الاميه المعلوماتيه "التكنولوجيه"

هي عدم قدره الفرد على تشغيل الأجهزة الإلكترونية والتواصل من خلالها

السلطة القضائيه

سلطه مستقله تتولاها المحاكم المختلفه

01062765452

دكتور احمد محجوفى

مراجعة 4 الابتدائي
الصف 2024

في الدراسات الاجتماعية

موسوعة

المصطفى

كان للغة النوبية دور مهم فى حرب أكتوبر

محافظه القاهرة أعلى محافظات

كان للغة النوبية دور مهم في حرب أكتوبر ١٩٧٣	محافظه القاهرة أعلى محافظات الجمهورية من حيث عدد السكان
حيث استخدمها الجيش كسفره للتواصل بين قياداته والفرق العسكري المصري في سيناء	لأنها عاصمه الدولة
قيام اليونسكو بأنشاء متحف النوبة في ١٩٩٧	زيادة عدد أفراد الأسرة بين سكان الريف عن الحضر
لعرض التاريخ والحضارة النوبية	بسبب كثرة الانجاب- الزواج المبكر للإناث
أهمية التراث الثقافي بالنسبة للاقتصاد المصري	إنخفاض نسبه الأميه في المحافظات الحضرية
يؤدي الى تنشيط السياحة - توفير فرص العمل - زيادة الدخل القومي	بسبب انتشار المدارس والجامعات إرتفاع مستوى المعيشة
انشاء متحف السيرة الهلالية في محافظه قنا عام ٢٠١٥	ظهور العشوائيات في المحافظات الحضرية
حفاظاً على تراث صعيد مصر والذي يشتهر بأنه السيرة الهلالية	بسبب هجره سكان الريف الى المدن
أهمية الكتابة الهيروغليفية عند المصريين القدماء	الاحتفال بعيد السياحة في واحة سيوة
لأنها ساعدت على تسجيل أخبارهم وأحداثهم	لأنه يوافق موسم حصاد التمور والزيتون وهما المورد الرئيسي لاقتصاد الواحة
أهمية السلطة القضائية	يعتبر التراث النوبي جزءاً من الحضارة المصرية
تصدر الأحكام في ضوء القوانين ليسود العدل	لأنه امتداد للحضارة المصرية القديمة فقط أقرب اللغات الى اللغة المصرية القديمة

01062765452

دكتور احمد مصطفى

مراجعة 4 الصف الابتدائي 2024

في الدراسات الاجتماعية

موسم

التميز

السؤال الثالث : أهم النتائج

أهمية التنوع السكاني في مصر

أدى التنوع الى تحقيق التكامل بين السكان وتبادل المنتجات وتحقيق التنمية في جميع المجالات الاقتصادية

زيادة معدلات المواليد يوميا

أهمية الحكومة في النظام الحكم المصري

تقوم بمعاونه الرئيس في إدارة شؤون الدولة تشارك معه في وضع الخطة العامة للدولة والاشراف على تنفيذها انها تصدر القرارات وفق القانون

التنوع السكاني في مصر

أهمية السلطة القضائية

تصدر الأحكام في ضوء القوانين ليسود العدل

يعتبر التراث النوبي جزءا من الحضارة المصرية

تعد الحضارة المصرية القديمة فقط سرب اللغات الى اللغة المصرية القديمة

3

01062765452

دكتور / محمد مصطفى

مراجعة 4 الصف الابتدائي 2024

في الدراسات الاجتماعية

موسوعة

البنس

السؤال الثالث : أهم النتائج

أهمية التنوع السكاني في مصر

أدى التنوع الى تحقيق التكامل بين السكان وتبادل المنتجات وتحقيق التنمية في جميع المجالات الاقتصادية

زيادة معدلات المواليد يوميا

أدى الى زيادة أعداد سكان مصر باستمرار

هجرة سكان الريف الى المدن

ظهور العشوائيات في المدن

قله الخدمات وفرص العمل بالريف المصري

انخفاض مستوى المعيشة

انتشار الأمية في المجتمع

تؤدي الأمية الى انتشار الجهل والخرافات بين الناس تقلل من فرص الحصول على عمل فتنتشر البطالة والفقر

أهمية الحكومة في النظام الحكم المصري

تقوم بمعاونه الرئيس في إدارة شؤون الدولة تشترك معه في وضع الخطة العامة للدولة والاشراف على تنفيذها انها تصدر القرارات وفق القانون

انتشار الأمية في مصر

بسبب الزيادة السكانية - ضعف المستوى الاقتصادي للأسرة عدم الالتحاق بالمدارس او التسرب منها

أهمية منصب المحافظ

يقوم بإدارة شؤون المحافظة وحفظ الأمن والنظام متابعة جوده المرافق والخدمات العامة كالتهليم والصحة والكهرباء والنظافة توفير فرص العمل لأبنائها

أهمية مجلس النواب في مصر

يقوم بسن القوانين في الدولة



627

01062765452

دكتور / محمد مصطفى

مراجعة 4 الصف الابتدائي 2024

في الدراسات الاجتماعية

موسوعة

01062765452

دكتور محمد مصطفى

مراجعة 4 الابداعي 2024

في الدراسات الاجتماعية

4

المصطفى

السؤال الخامس: قارن بين

الفنون الشعبية في مدن القناة - الفنون الشعبية في صعيد مصر

الفنون الشعبية في صعيد مصر	الفنون الشعبية في مدن القناة
يشتهر سكان الصعيد ب	يشتهر سكان مدن القناة ب
العزف على الربابة وإنشاد السيرة الملادية	الغاني المرتبطة باله السمسمة
يشتهرون بفن التحطيب	رقصه البهبوبية الفلكلورية الشعبية

مهام كل من رئيس الجمهورية حديثاً - الملك قديماً

منصب الملك قديماً	منصب رئيس الجمهورية حديثاً
إدارة شئون البلاد	الحفاظ على أمن الوطن
عقد المعاهدات	يرعى مصالح الشعب
اصدار القوانين	يمثل مصر محلياً ودولياً



السؤال الرابع: دلك على صحة العبارك الآتية

يعاني سكان الريف من مشكلات عديدة

الدليل هو انخفاض مستوى المعيشة بسبب نقص الخدمات ونقص فرص العمل قيام الدولة بأطلاق مبادرات لتنمية الريف مثل حياه كريمة

تبذل الدولة جهودا لتحسين مستوى معيشة سكان البدو

الدليل هو قيام الدولة ببناء المساكن لهم توفير فرص العمل في مجالي الزراعة والتعدين

تساهم سباقات الهجن في زيادة الدخل القومي

الدليل انها تسهم فيه تنشيط السياحة من خلال حضور العديد من الوفود العربية للمشاركة

اهتمام المصريون القدماء بالتعليم

الدليل هو اختراعهم للكتابة الهيروغليفية انشاء المدارس انشاء جامعه أون وهي أول جامعه في التاريخ

قامت الدولة بالعديد من الجهود للقضاء على الأمية العشوائية

الدليل هو إنشاء الهيئة العامة لتعليم الكبار ومحو الأمية عام ١٩٩٢ م إنشاء المدارس للاستيعاب الكامل للأطفال ومواجهه التسرب

يتكون نظام الحكم في مصر من عدة سلطات

حيث يتكون من السلطة التنفيذية والسلطة التشريعية والسلطة القضائية

01062765452

دكتور محمد مصطفى

مراجعة 4 الابداعي 2024

في الدراسات الاجتماعية

موسوعة

المصطفى

الوحدة الثانية

السياحة العلاجية

تتمثل في زيارة أماكن عيون المياه الكبريتية

السؤال الأول

اكتب تعريف المصطلحات الآتية

أهمية الدواب بالنسبة للمصريين القدماء
استخدم المصريون الدواب مثل الحمير - الحصان -
الجمال في التنقل وحمل الأشياء

كان للهكسوس دور في تطوير وسائل النقل
البري في مصر

حيث عرف المصريون القدماء العربات الحربية مع
غزو الهكسوس لمصر وقد استخدمها
المصريون القدماء بعد ذلك في أغراض عديدة
مثل السفر والصيد

الفيضان وموقع بناء الأهرامات وأبو الهول
بنى المصريون القدماء الأهرامات الثلاثة على مضبه
مرتفعة في محافظة الجيزة غرب نهر النيل لتكون
بعيد عن الفيضان

السياحة والبطالة
توفر السياحة العديد من فرص العمل مما يقلل
معدل البطالة في الدولة

طارق الخرك

01062765452

دكتور محمد مصطفى

مراجعة 4
الصف الابتدائي
2024

في الدراسات الاجتماعية

موسوعة

البيسافس

أهمية وسائل النقل في حياتنا
-توفير الوقت والجهد - انتقال الأفراد والسلع
من مكان الى آخر
-المساعدة في انتشار التجارة بين الدول

أهمية السكك الحديدية في مصر
تستخدم في نقل الركاب والبضائع كما أنها تربط
بين محافظات الوجه البحري والقبلي

أهمية مترو الانفاق
لأنه يقوم بربط ثلاث مدن مصرية مهمه (القاهرة-
الجيزة- شبرا الخيمة)

اهتمام الدولة بإنشاء الكباري والمحاور والطرق
لتخفيف الضغط المروري على الطرق - تقليل
المسافات والوقت

اهتمام الدولة بالنقل المستدام
لخفض معدلات تلوث الهواء- توفير استخدام
الوقود

إنشاء مشروع المونوريل المغلق

أهمية القطار الكهربائي السريع
لربط مدينه العين السخنة بمدينه العلمين
الجديدة مرورا بالعاصمة الإدارية

أهمية الالتزام بقواعد المرور
المحافظة على أرواح الناس وتفادي الحوادث

ضرورة وضع علامات ارشادية على الطرق
لتوضيح معالم الطريق للسائقين

أهمية العلامات الأرضية على الطرق
لتوضيح مسار تحرك السيارات على الطريق

أهمية العلامات الإلزامية على الطريق
للإشارة الى الاتجاه الإلزامي الذي يجب أن تسير
فيه السيارة أو المشاة أو الحراجات أو الحيوانات

**ضرورة وضع علامات تحذيرية عند بعض نقاط
الطريق**

الالتزام باتباع العلامات المرورية

-تنظيم حركة المرور والتجنب الازدحام
-المحافظة على ارواح الناس وتفادي الحوادث

إهدار كثير من الوقت على شبكات التواصل الاجتماعي

يؤثر على مستوى الطالب الدراسي واهمال ممارسه الهوايات المفيدة والتباعد بين افراد الأسرة

بعد شبكة الانترنت افضل وسائل التواصل

لأنها أسهل وأسرع وسيله اتصال بين البشر في كل دول العالم عبر التطبيقات المختلفة

على الرغم من الفوائد المتعددة لشبكة الانترنت إلا أن لها اضرارا

-من اهم الاضرار: وجود معلومات غير صحيحة على شبكة الانترنت
-إهدار الكثير من الوقت على شبكات التواصل الاجتماعي
-يحاول بعض الاشخاص الاستيلاء على حسابات غيرهم

01062765452

دكتور / محمد مصطفى

مراجعة 4 الابتدائي
الصف 2024

في الدراسات الاجتماعية

موسوعة

المصطفى

تنوع وسائل النقل في مصر

-وسائل للنقل البري مثل السيارات والشاحنات والقطارات
-وسائل للنقل المائي مثل السفن والمراكب والأتوبيسات النهرية
-وسائل للنقل الجوي الطائرات

لعب تطور وسائل الاتصال دورا في تقليل البطالة

حيث تم استخدام شبكة الانترنت في البحث عن فرص عمل مناسبة والعمل عن بعد في مجالات متعددة مثل التسويق الالكتروني وغيرها

السؤال الخامس : ما العلاقة بين

بنك مصر والنقل الجوي

إنشاء بنك مصر أول شركة طيران في الشرق الأوسط والسابعة على مستوى العالم مصر الطيران

الغاز الطبيعي والنقل

توسع الدولة في استخدام وسائل النقل المستدام الآمنة والحديثة لخفض معدلات تلوث الهواء باستخدام مصادر الوقود النظيف مثل الغاز الطبيعي

شبكة الانترنت والسياحة

أتاحه شبكة الانترنت للناس الزيارات الافتراضية لبعض المواقع السياحية والأثرية حول العالم والتعرف عليهما مما يعمل على تنشيط السياحة

السؤال الرابع : دلل على صحة العبارة الآتية

تطورت وسائل النقل المائي على يد المصريين القدماء

حيث صنعوا القوارب في البداية من مجموعة من جذوع الأشجار وربطوها بالأعشاب المثينة مثل البردي وكان يتم تحريكها في الأقدام ثم اضافة بعد ذلك المقاعد واستخدام قطع خشبية لتجديف وانتقال استخدامها من القنوات والأنهار الى البحار

تعددت محاولات الانسان للتقل عبر الجو

مرت فكرة التقل عبر الجو بعده مراحل وهي: محاوله عباس بن فرناس الذي استخدم جناحين للطيران محاكاة للطيور وجاءت بعدها العديد من المحاولات -نجح الاخوان رأيت في الطيران الحقيقي عام ١٩٠٣ وتطورت بعد ذلك اشكال الطائرات حتى وصلت لشكلها الحالي

قامت الدولة بالعديد من الجهود لدعم النقل المستدام

-تحويل الكثير من السيارات للعمل بالغاز الطبيعي -زيادة عدد الأتوبيسات الكهربائية والأتوبيسات التي تسير بالغاز الطبيعي
-تشجيع المواطنين على استخدام وسائل النقل الجماعي لتقليل استخدام السيارات الخاصة

مرت وسائل الاتصال بعده مراحل خلال العصور التاريخية

تطورت وسائل الاتصال بين البشر في هذا الوقت ومنها كتابه الرسائل على ورق البردي وارسالها مع اشخاص ثم استخدم الحمام الزاجل لأرسال الرسائل أسرع ثم تم تأسيس البريد كوسيله للتواصل

01062765452

١٣

دكتور محمد مصطفى

مراجعة 4 الابتدائي 2024

في الدراسات الاجتماعية

موسوعة

المصطفى

أهم خرائط المنهج

14

أمامك خريطة لجمهورية مصر العربية، وضح ما تشير إليه الأرقام:



(١) تشير (١) إلى محافظة يندربها عدد السكان جنوب سيناء.

(٢) تشير (٢) إلى محافظة يرتفع بها عدد السكان القاهرة.

(٣) يشير (٣) إلى محافظة حضارية الإسكندرية.

أمامك خريطة لجمهورية مصر العربية، وضح ما تشير إليه الأرقام:



(١) يشير (١) إلى واحة سيوة.

(٢) يشير (٢) إلى منطقة النوبة.

(٣) يشير (٣) إلى مدينة تشتهر برقصة البمبوتية بورسعيد

(٤) يشير (٤) إلى محافظة تحتوى على متحف للسيرة الهلالية قنا.

01062765452

١٤

دكتور محمد مصطفى

مراجعة 4 الابتدائي 2024

في الدراسات الاجتماعية

موسوعة

المصطفى

أمامك خريطة لجمهورية مصر العربية، وضح ما تشير إليه الأرقام:



01062765452

14

دكتور / محمد مصطفى

مراجعة الصف 4 الابتدائي 2024

في الدراسات الاجتماعية

موسوعة

المصطفى

أمامك خريطة لجمهورية مصر العربية، وضح ما تشير إليه الأرقام:



15

(1) محافظة ترتفع بها نسبة الأمية المنيا.

(2) محافظة تنخفض فيها نسبة الأمية الوادي الجديد.

أمامك خريطة لجمهورية مصر العربية، وضح ما تشير إليه الأرقام:



(1) يشير (1) إلى محافظة يوجد بها الأهرامات الثلاثة الجيزة.

(2) يشير (2) إلى محمية رأس محمد.

(3) يشير (3) إلى محافظة تحتوى على محمية الغابة المتحجرة القاهرة.

(4) يشير (4) إلى مدينة تقع بها قلعة صلاح الدين طايا.

01062765452

15

دكتور / محمد مصطفى

مراجعة الصف 4 الابتدائي 2024

في الدراسات الاجتماعية

موسوعة

المصطفى

أمامك خريطة لجمهورية مصر العربية، وضح ما تشير إليه الأرقام:





(١) مدينه تقع جنوب سيناء شرم الشيخ.

(٢) محافظة بها تمثال أبو الهول الجيزة.

(٣) محافظة تحتوى على مجمع الأديان القاهرة.

01062765452

١٦

دكتور محمد مصطفى

مراجعة 4 الابتدائي 2024 الصف

في الدراسات الاجتماعية

موسوعة

البيس

اختر فهدك على الخرائط

أمامك خريطة صماء لمصر، اكتب مدلول الأرقام التي عليها:



(١) يشير رقم (١) إلى أعلى المحافظات من حيث السكان.....

(٢) يشير رقم (٢) إلى محمية.....

(٣) يشير رقم (٣) إلى محافظة تم إنشاء متحف النوبة بها.....

(٤) يشير رقم (٤) إلى منطقة معرضة لتآكل التربة.....

(٥) يشير رقم (٥) إلى أعلى المحافظات في الأمية.....



أمامك خريطة صماء لمصر، حدد عليها مدلول الأرقام:



(١) البحر.....

(٢) أقل محافظات مصر سكانا.....

(٣) محافظة تشتهر بسباق الهجن.....

(٤) بحيرة.....

(٥) واحة تشتهر بالسياحة العلاجية.....

تدريبات على الوحدة الأولى



السؤال الأول

- أكمل العبارات الآتية بما يناسبها مما بين القوسين
- ١- اَلْحَصْر الشامل للسكان من حيث النوع والعمر ومحل الإقامة ومستوى التعليم يعرف بـ (الساعة السكانية - الهجرة - التعداد السكاني - النمو السكاني)
 - ٢- تكون مصر بعمل تعداد للسكان كل..... سنوات (٧-٨-٩-١٠)
 - ٣- الجهة المسؤولة عن عمل التعداد السكاني..... (الحكومة - جهاز الشباب والرياضة - الجهاز المركزي للتعبئة العامة والاحصاء - وزاره الداخلية)
 - ٤- توضع أعلى مبنى الجهاز المركزي للتعبئة العامة والاحصاء وتظهر تقديرات السكان..... (التعداد السكاني - الساعة السكانية - النمو السكاني - المؤشر)
 - ٥- أسمى محافظات الجمهورية سكانا محافظه..... (مطروح - القاهرة - شمال سيناء - جنوب سيناء)
 - ٦- أقله يقل عدد سكانها عن مليون نسمة لصعوبة مظاهر سطحها وندره المياه فيها.... (مطروح - الوادي الجديد - البحر الاحمر - جنوب سيناء)
 - ٧- أعلى محافظات مصر سكانا لأنها عاصمه البلاد..... (الإسكندرية - القاهرة - الجيزة - جنوب سيناء)
 - ٨- ييسكنون في المدن ويعملون بالصناعة والتجارة والخدمات سكان..... (البدو - الريف - القرى - الحضر)
 - ٩- تعتبر محافظه القاهرة والإسكندرية والسويس وبورسعيد محافظات..... (صحراوية - ريفيه - بدويه - حضرية)
 - ١٠- تتخفص نسبة الأميه في محافظات..... لانتشار المدارس وارتفاع مستوى المعيشة (الريف - الحضر - البدو - الحدود)
 - ١١- ظهور العشوائيات وزيادة الضغط على الخدمات من مشكلات..... (الريف - المدن - البدو - الصحاري)
 - ١٢- يسكنون القرى ويعملون بالزراعة وتربية الحيوانات سكان..... (الحضر - الحدود - الريف - الصحراء)
 - ١٣- يعيشون في الصحاري المصرية ويمارسون حرفه الرعي سكان..... (البدو - الحضر - الريف - القرى)

20

دكتور محمد مصطفى 01062765452

مراجعة 4 الابدائي 2024

البيس

موسم

- ١٤- قام المصريون القدماء بعمل تعداد سكاني وعد الضباط والجنود المؤهلين للخدمة العسكرية في عهد..... (الدولة الإسلامية - الدولة الحديثة - زوسر - أمنحتب الثالث)
- ١٥- النشاط الاقتصادي الرئيسي لسكان البدو..... (الزراعة - الصناعة - الرعي - التجارة)
- ١٦- إذا ارادت الدولة جمع بيانات عن سكانها لتبنيه احتياجاتهم في المستقبل فعليها اجراء..... (حصص المنازل - تعداد سكاني - حصص الوفيات - حصص المواليد)
- ١٧- عند ما تريد الإقامة في محافظه حضرية فأنتك سوف تتوجه الى محافظه..... (المنيا - الفيوم - المنوفية - الإسكندرية)
- ١٨- إحدى مبادرات الدولة لحل مشكلات الريف هي..... (حياه كريمه - قادرون باختلاف - مليون صحة)
- ١٩- احد، المحافظات التي أقل ، عدد سكانها عن مليون، نسمة هـ.....

رئيس جمهورية - بحومه - حاكم الامم - امت)
 ٦٦- من مهامه معاونة الملك في إدارة شؤون البلاد قديما.....
 (حكم الأقليم - الفرعون - الوزير - رئيس الوزراء)
 ٦٧- حاكم الإقليم قديما يقابله الآن وظيفة..... 01062765452
 (الوزير - المحافظ - رئيس الجمهورية - رئيس الوزراء)
 ٦٨- يقوم باستجواب الوزراء في كل المشاكل في وزاراتهم.....
 (مجلس الوزراء - المجلس المحلي - مجلس الشيوخ - مجلس النواب)

دكتور محمد مصطفى ٢٤ 01062765452

مراجعة 4 الصف الابتدائي 2024

في الدراسات الاجتماعية

موسوعة

المصطفى

25

٢٥
 ك مع رئيس الجمهورية في وضع الخطة العامة للدولة.....
 (الحكومة - السلطة التشريعية - المجلس المحلي - الوزير)
 ٧٠- المسؤول عن إعلان الحرب في حاله تعرض البلاد لأخطار خارجيه.....
 (رئيس الوزراء - وزير الدفاع - رئيس الجمهورية - مجلس النواب)
 ٧١- تتكون السلطة التشريعية من مجلس النواب ومجلس.....
 (الامن - الشيوخ - الشباب - المرأة)
 ٧٢- يتشابه منصب المحافظ حاليا وحاكم الأقاليم قديما أن كليهما مسؤول عن.....
 (آمن منطقته من البلاد - مرافق الحولة كلها - تمثيل البلاد خارجيا - مراقبه الحكومة)
 ٧٣- الوزير المسؤول عن توفير تعليم جيد للمواطنين وزير.....
 (الصناعة - العدل - الصحة - التعليم)
 ٧٤- حكم البلاد في مصر القديمة يتمثل في.....
 (الوزير - الكاهن - الفرعون - رئيس الإدارة المركزية)

السؤال الثاني اكتب كلمة (صواب) أمام العبارة الصحيحة وكلمة (خطأ) أمام العبارة الخاطئة

- ١- يزيد عدد سكان مصر يوميا لزيادة عدد المواليد ()
- ٢- تعد أقل محافظات مصر سكانا محافظه جنوب سيناء ()
- ٣- تعد محافظه بورسعيد إحدى المحافظات الحضرية ()
- ٤- تنخفض نسبة الأميه في الريف مقارنة بسكان المدن ()
- ٥- تعد محافظتي من محافظات الحضر ()
- ٦- يزيد عدد سكان محافظتي عن مليون نسمة ()
- ٧- تعتبر أعلى محافظات مصر سكانا المحافظة الإسكندرية ()
- ٨- يقوم جهاز حماية المستهلك بأجراء التعداد السكاني ()
- ٩- يساعد تنظيم الأسرة في الحفاظ على صحة الام والأطفال ()
- ١٠- يتوزع السكان على كل محافظات مصر بالتساوي ()
- ١١- يتمثل سكان الحضر أكثر من نصف السكان مصر ()
- ١٢- يعاني الريف من انخفاض مستوى المعيشة ()

دكتور محمد مصطفى ٢٥ 01062765452

المصطفى

الوحدة الأولى

التركيب العمري

تصنيف السكان حسب الفئات العمرية صغار السن الاشخاص في سن العمل كبار السن

مشكله الزيادة

زيادة عدد السكان بنسبه أكبر من الموارد والخدمات المتاحة

التحنيط

حفظ جسد الانسان بعد الموت

البعث

الحياة مره أخرى بعد الموت

الخلود

حياه أبدية لا موت بعدها

السؤال الثاني : أهم التفسيرات

حدث النمو السكاني خلال فتره زمنيه معينه

بسبب الزيادة الطبيعية والهجرة

اتجاه بعض السكان الى الهجرة

للبحث عن فرص عمل وتعليم أفضل ولتحسين مستوى المعيشة

مدينتنا القاهرة والجيزة أكثر مدن مصر ازدحاما بالسكان

لتوافر مجموعه من العوامل الطبيعية مثل توافر المياه العذبة والتربة الخصبة واستواء السطح وعوامل بشرية مثل توافر الخدمات وسهولة المواصلات

السؤال الأول

اكتب تعريف المصطلحات الآتية

النمو السكاني

تغيير عدد السكان بسبب الزيادة الطبيعية والهجرة

الزيادة الطبيعية

الفرق بين أعداد المواليد وأعداد الوفيات في فتره معينه

الهجرة

انتقال الأفراد من مكان لأخر وتنقسم الى هجرة داخلية وهجرة خارجيه

الهجرة الداخلية

الانتقال بين المحافظات المختلفة

الهجرة الخارجية

الانتقال بين مصر ودول العالم

الكثافة السكانية

النسبة بين عدد السكان ومساحه الأرض التي يعيشون عليها

الهرم السكاني

رسم بياني يوضح توزيع السكان من حيث النوع ذكور إناث والعمر

التركيب النوعي

تصنيف السكان حسب النوع الى الذكور وإناث

01062765452

دكتور / محمد مصطفى

المصطفى

اهتمام المصريين القدماء بحفظ جثث موتاهم

بسبب اعتقاد المصريين القدماء أن الانسان يبعث مره أخرى وتعود اليه الروح في القبر ويعيش حياه أبدية لا موت بعدها

أهمية الهرم السكاني

تساعد بياناته في تقدير الاحتياجات المختلفة لكل فئة عمرية في الحاضر والمستقبل من (تعليم- صحة- مرافق- خدمات- فرص عمل)

أهميه فئة الاشخاص في سن العمل " ١٥-٦٤ "

المصطفى

اهتمام المصريين القدماء بحفظ جثث موتاهم

بسبب اعتقاد المصريين القدماء أن الانسان يبعث مره أخرى وتعود اليه الروح في القبر ويعيش حياه أبدية لا موت بعدها

السؤال الثالث : أهم التالي

هجرة السكان من مكان لأخر

- ⊙ زيادة الكثافة السكانية في المناطق المستقبلية لهجرة السكان
- ⊙ زيادة الضغط على الخدمات العامة
- ⊙ ظهور العشوائيات

ارتفاع نسبه صغار السن في مصر

- ⊙ أصبح الهرم السكاني لمصر يتسم بالقاعدة العريضة
- ⊙ زيادة الضغط على الفئات المنتجة

مشكله الزيادة السكانية في مصر

- ⊙ زيادة استهلاك الموارد ونقص نصيب الفرد منها والضغط على الخدمات
- ⊙ زيادة الطلب على فرص العمل مما يسبب عبئا على الدولة المصرية
- ⊙ زيادة النفايات وتلوث البيئة
- ⊙ اعاقه مشروعات التنمية بالدولة

تفضيل الذكور على الاناث

- ⊙ استمرار بعض الأسر في الانجاب رغبة في الذكور

أهميه الهرم السكاني

تساعد بياناته في تقدير الاحتياجات المختلفة لكل فئة عمرية في الحاضر والمستقبل من (تعليم - صحة - مراقق - خدمات - فرص عمل)

أهميه فئة الاشخاص في سن العمل " ١٥-٦٤ "

لأنها فئة منتجة في المجتمع كما أنها تعول صغار السن وكبار السن

ظهور مشكله الزيادة السكانية في مصر

بسبب الزواج المبكر - كثرة الانجاب - تفضيل الذكور على الاناث - تحسين الرعاية الصحية

اختلاف الملابس عند المصريين القدماء

بسبب اختلاف طبقات المجتمع

أهميه دور الأب في المجتمع المصري القديم

يرعى أفراد الأسرة ويعمل على توفير احتياجاتهم

أهميه دور الأم في المجتمع المصري القديم

تقوم برعاية الأبناء وتشرف على أعمال المنزل وتعمل في مجالات متعددة مثل الزراعة والتجارة

توسع الدولة في مشروعات التنمية وبناء المدن الجديدة

إعادة توزيع السكان وتقليل الكثافة السكانية في الوادي والدلتا

تعدد الألهة عند المصريين القدماء

بسبب انقسام البلاد قبل توحيدها الي ٤٢ اقليما فكان لكل اقليم معبود خاص به

01062765452

٢

دكتور / محمد مصطفى

المصطفى

قارن بين دور المرأة في المجتمع المصري قديما

• قديما تولت المناصب العليا في الدولة فكانت ملكه وقاضيه ووزيره وكاتبه وكاهنه وكان يحق لها البيع والشراء

المصادر

احترام المصري القديم للحياة الأسرية

⊙ قيام الحياة الأسرية في مصر القديمة على المشاركة والتعاون بين جميع أفراد الأسرة حيث يشارك الوالدان في تربيته ابنائهما وتعليمهم القيم والسلوكيات الحميدة

رغبة الاسكندر الأكبر في السيطرة على مصر

لتوسيع امبراطوريته ويؤمن الغذاء لجيشه

استطاع الملك زوسر حماية مصر من هجوم بعض القبائل في بدايه العهد الأسره الثالثه

لنجاحه في توحيد جيوش الأقاليم وتنظيمها وتسليحها

نجاح الهكسوس في غزو مصر في عصر الضعف الثاني

لزيادة الصراعات بين الحكام وانتشار الفوضى في البلاد نهايه عصر الدوله الوسطى

سقوط دوله البطالمه في مصر

بسبب ثورات الشعب المصري ضد حكم البطالمه

- ضعف الملوك بعد حكم بطلميوس الثالث
- تدخل روما في شؤون مصر الداخليه
- هزيمه كليوباترا السابعه في معركة اكتوبر البحريه عام ٣٠ ق.م

تخطيط الاسكندر الأكبر لبناء مدينه الاسكندريه

لتكون عاصمه للبلاد

أهميه المباني العسكريه عند المصريين القدماء

لحمايه البلاد ولتأمين سكن للجنود

مبان اتساها المصريون القدماء لحمايه البلاد وتأمين سكن للجنود.

المعابد الجنائزيه

تقام بها طقوس الجنازه للملك مثل معبد حتشبسوت (الدير البحري).

معابد الألهه

تقام بها الطقوس اليوميه للألهه مثل معبد الأقصر.

السؤال الثاني : أهم التفسيرات

بنى المصريون القدماء المقابر من الحجر

لحفاظ على جسد المتوفي وتأمينها من اللصوص

أهميه الرسم عند المصريين القدماء

استخدموه في التعبير عن الأحداث السياسيه والاجتماعيه والعسكريه والدينيه وبعض الأنشطة الاقتصاديه كالزراعه والتجاره

رحب المصريون بالفتح العربي الاسلامي لمصر عام ٦٤١م

للتخلص من ظلم الرومان

📞 01062765452 📍 **دكتور احمد مصطفى**

مراجعة 5 الابتدائي
الصف 2024

في الدراسات الاجتماعيه

موسوعة

المصطفى

معركة اكتوبر البحريه عام ٣٠ ق.م

- هزيمه الملكه كليوباترا
- سقوط دوله البطالمه
- تحول مصر الى ولايه رومانيه عام ٣٠ ق.م

وضع المصريين القدماء التقويم الشمسي

- تقسيم السنه الى ٣٦٥ يوما مقسمه الى ١٢ شهرا متساويه
- كل شهر يحتوي ٣٠ يوما وجعلوا الخمس أيام الاخيريه أعياد نهايه العام وبعدها يبدأ العام الجديد
- تقسيم اليوم الى ٢٤ ساعه

براعه المصريين القدماء في علم الهندسه

- ساعدهم في تخطيط المدن وحفر الترعه وبناء الاهرامات

معرفه المصريين القدماء علم الحساب

أهميه المسلات في مصر القديمه

تزيين مداخل المعابد وتخليد ذكرى الملك

أهميه علم الفلك عند المصريين القدماء

ساعدهم على معرفه مواقع الكثر من النجوم والكواكب ووضع التقويم الشمسي

السؤال الثالث : أهم النتائج

اقبال المصريين على اعتناق المسيحيه بعد ظهورها

- زياده الاضطهاد الروماني للمصريين

معاهده السلام بين مصر واسرائيل

- استعاده مصر أرض سيناء
- الاهتمام بمشروعات التميمه
- تحسين حياه المصريين بدلا من إنفاق الدوله مواردها على الحروب

براعة المصريين القدماء في فن النحت

تمكنوا من نحت التماثيل من الطين والحجر والنحاس مثل تمثال الملك خوفو وأبو الهول والكتاب المصري كما نحت العديد من المسلات مثل مسلة الملكة حتشبسوت في معابد الكرنك بمحاظته الأقصر

للطرفين

تنوع الكتابات التي تركها لنا المصريون القدماء

🕒 ساعدتنا على معرفه الكثير عن ثقافه المصريه القديمه

📞 01062765452

6

دكتور / محمد مصطفى

مراجعة 5 الابتدائي
الصف 2024

في الدراسات الاجتماعيه

موسوعه

المصريين

فن الرسم - مناخ مصر

ساعد مناخ مصر على حفظ الرسومات والنقوش حتى وقتنا الحالي

السؤال السادس
حدد وجه الشبه والاختلاف بين كلا من

قصر الملك ومنازل العمال في مصر القديمه

وجه المقارنه	قصر الملك	منازل العمال
التشابه	كانت تبني بالطوب اللبن على وادي النيل	
الاختلاف	كان كبيرا ومتسعا ويتميز بجمال زينته	كانت بسيطه وصغيره وتتكون من طابق واحد او طابقين

أظهرت حرب السادس من أكتوبر براعه الجيش المصري العسكريه

تمكن الجيش المصري من عبور قناه السويس - تدمير خط بارليف في 6 ساعات وهزيمة الجيش الاسرائيلي

اهتم الاسكندر الأكبر بالتقرب من الشعب المصري

أظهر احترامه لديانه المصريه وزار معبد آمون في واحه سيوه

تنوعت مواد البناء التي استخدمها المصريين والقدماء في بناء الحصون

استخدمهم الطوب اللبن والحجر في بناء الحصون

برع المصريون القدماء في الرسم والنقش

ظهر على جدران المعابد مثل معابد الكرنك بمحاظته الأقصر والمقابر والفخار والأقمشه والعاج

السؤال الخامس : ما العلاقة بين

الملكة اياح حوتب - المكسوس

شجعت الملكه اياحتب ابنها الملك احمس على قتال المكسوس والانتصار عليهم بعد استشهاده زوجها وابنها

الابداع العسكري - الملك تحتمس الثالث

قام الملك تحتمس الثالث بتخطيط عسكري غير متوقع في معركه مجدو حيث وصل المدينه من أقصر الطرق وأكثرها خطوره وصعوبه

📞 01062765452

7

دكتور / محمد مصطفى

مراجعة 5 الابتدائي
الصف 2024

في الدراسات الاجتماعيه

موسوعه

ثقافيه | وجامعه الاسكندريه | اهتماموا ببناء المعابد والمسارح

غير متوقع في معركة مجدو حيث وصل المدينة من أقصر الطرق وأكثرها خطوره وصعوبه

01062765452

دكتور / محمد مصطفى

مراجعة 5 الابتدائي 2024

في الدراسات الاجتماعيه

موسوعه

المصطفى

الوحدة الثالثة

السؤال الأول أكتب تعريف المصطلحات الآتية

وزاره الخارجية

احدى الوزارات التابعة للحكومة المصرية وتتواصل مصر سياسيا مع الدول الأخرى عن طريقها

البورصة

سوق منظمه يتم فيها بيع وشراء الأوراق المالية الأسهم والسندات

الأسهم

أوراق ماليه تجعل صاحبها شريكا في المشروع وفق عدد الأسهم التي يشتريها من البورصة

السندات

أوراق ماليه تثبت أن مالكاها قدم قرضا لصاحب المشروع لمدته محددته تمتد من سنه الى ١٠ سنوات أو أكثر

سماسة البورصة

أشخاص يقدمون المشورة والمساعدة في شراء الأسهم والسندات وبيعها في البورصة

السؤال الثاني : أهم التفسيرات

قيام الملك تحتمس الثالث بمعركه مجدو ؟

لتأمين حدود مصر الشمالية الشرقية وتدعيم النفوذ المصري في آسيا

ارسال الملك سنفرو اسطولا بحريا الى فينيقيا

لإحضار خشب الارز

معركة قادش ومجدو وحرب السادس من اكتوبر ١٩٧٣ من حيث القائد المصري الاسباب والنتائج

وجه المقارنة	مجدو	قادش	حرب السادس من اكتوبر
القائد المصري	الملك تحتمس الثالث	الملك رمسيس الثاني	الرئيس الراحل محمد انور السادات
الاسباب	تأمين حدود مصر	استلاء الحيثيين على بعض مناطق الامبراطوريه المصريه	تحرير ارض سيناء من الاحتلال الاسرائيلي
النتائج	انتصار المصريين القداماء بسبب الابداع العسكري للملك تحتمس الثالث	انتصار المصريين توقيع اول معاهده سلام في التاريخ	هزيمه الجيش الاسرائيلي توقيع معاهده السلام بين مصر واسرائيل عام ١٩٧٩



01062765452

دكتور / محمد مصطفى

مراجعة 5 الابتدائي 2024

في الدراسات الاجتماعيه

موسوعه

المصطفى

مشاركه مصف في العديد من المنظمات

أهميه علاقات التواصل السياسي والعسكري

إحضار خشب الدرز

01062765452

دكتور / محمد مصطفى

مراجعة 5 الابتدائي
الصف 2024

في الدراسات الاجتماعية

موسوعة

المصطفى

مشاركه مصر في العديد من المنظمات الاقتصادية ؟

- ⊙ للاستفادة من التجارب الناجحة لتطوير الأنشطة الاقتصادية وزيادة الانتاج

أهميه مدينه نقراتيس التي بناها ملوك الأسرة الـ ٢٦ ؟

- ⊙ مركز تجارى وصناعى للراعايا اليونانيين وانتشرت بها صناعة الخزف

أهميه المركز الثقافى القومى دار الوبرا المصرية ؟

- ⊙ مناره ثقافيه مصريه تقدم الفنون والأنشطة الإبداعية
- ⊙ تعمل على استمرار التواصل الثقافى القومى والعالمى

السؤال الثالث : أهم النتائج

امتلاك الفرد اغلبيه الأسهم في مشروع ما

- ⊙ يعطيه حق ملكيه المشروع وأرباحه حسب عدد الأسهم ويتحمل صاحبها الخسائر التي قد تحدث

توفير البورصة التمويل اللازم لأصحاب المشروعات

- ⊙ تشغيل العمالة وزيادة الاستثمارات والانتاج فيزدهر الاقتصاد

اهتمام البطالمة في بدايه حكمهم لمصر بالتجارة ؟

- ⊙ أنشأوا منارة الإسكندرية لإرشاد السفن في البحر
- ⊙ فرضوا رسوما على التجارة الخارجية

أهميه علاقات التواصل السياسى والعسكرى بين مصر ودول العالم ؟

- ⊙ عقد المعاهدات والاتفاقات مع الدول
- ⊙ امداد بعد الدول بالمساعدات العسكرية في حاله الحرب
- ⊙ تبادل الخبرات العسكرية

أهميه البعثات العلميه والمنح الدراسيه بالنسبة للطلاب ؟

- ⊙ تساعدهم في الاطلاع على الجديد في مجال حراساتهم وتعرفهم ثقافات الشعوب الاخرى

وفود العديد من العلماء وطلاب العلم الى مصر للتعلم في مدارسها قديما ؟

- ⊙ لبراعة المصريين القدماء في كثير من العلوم مثل (الفلك - الطب - الهندسة - العمارة - والفنون)

أهميه وزاره الخارجية المصرية ؟

- ⊙ تطوير وتعميق علاقات مصر بالدول الأخرى - تحمي مصالح المواطنين بالخارج

استقدام الملك تحتمس الثالث أبناء أمراء البلاد الآسيوية للدراسة في مصر

- ⊙ ليعيشوا على حب مصر والولاء لها

زاد النشاط التجارى بين مصر وجرائها في عصر الدولة الوسطى ؟

- ⊙ بسبب حفر قناة سيزوستريس في عهد الملك سنوسرت الثالث

قيام الملك نخاوي الثاني برحلته الاستكشافية حول أفريقيا ؟

- ⊙ لاكتشاف الطريق تجارى جديد يمر بأغلب الشواطئ الغربية لأفريقيا

01062765452

دكتور / محمد مصطفى

مراجعة 5 الابتدائي
الصف 2024

في الدراسات الاجتماعية

موسوعة

المصطفى

السؤال الخامس : ماذا يحدث اذا

تأثر اليونانيون بالعمارة المصرية القديمة

مراجعة 5 الابتدائي
الصف 2024

في الدراسات الاجتماعية

موسوعة

المسططفس

أهم خرائط المنعرج

امامك خريطة صماء لمصر، اكتب مدلول الأرقام عليها:



- (1) واحدة من أكثر مدن مصر سكانا الجزيرة.
- (2) محافظة يقل فيها تركيز السكان الوادي الجديد.
- (3) من المحافظات الجاذبة للسكان الإسكندرية.
- (4) البحر الأحمر.

امامك خريطة صماء لمصر، اكتب مدلول الأرقام عليها:



- (1) لإحدى أكبر المدن ازدحاما بالسكان القاهرة.
- (2) لإحدى أكبر المناطق الطاردة للسكان في مصر الصحراء الغربية.
- (3) لإحدى أكبر المناطق كثافة سكانية الدلتا.
- (4) البحر المتوسط.

مراجعة 5 الابتدائي
الصف 2024

في الدراسات الاجتماعية

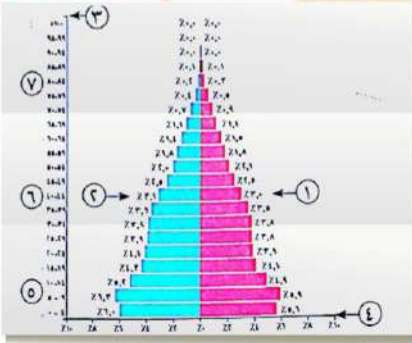
موسوعة

المسططفس

أهم الأشكال

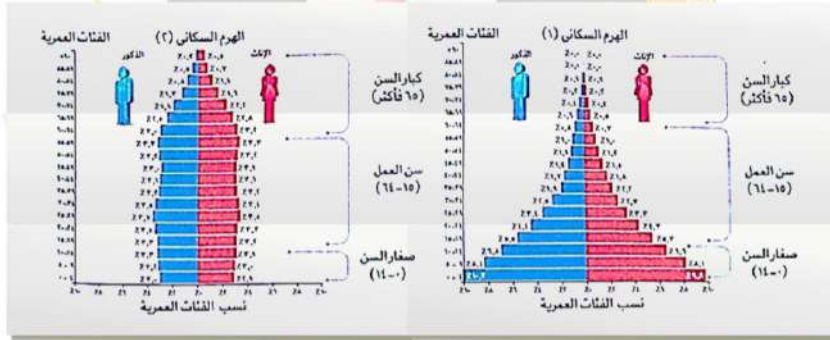
أهم الأشكال

أمامك أحد الأشكال البيانية لتمثيل السكان اكتب مدلول الأرقام الموقعة عليه:



- يشير رقم (1) إلى إحصائيات الإناث.
- يشير رقم (2) إلى إحصائيات الذكور.
- يشير رقم (3) إلى التركيب العمري للسكان.
- يشير رقم (4) إلى النسب المئوية للفئات العمرية.
- يشير رقم (5) إلى فئة صغار السن.
- يشير رقم (6) إلى فئة سن العمل.
- يشير رقم (7) إلى فئة كبار السن.

أمامك أحد الأشكال البيانية لتمثيل السكان:



يشير الهرم السكاني (1) إلى الهرم ذي القاعدة العريضة بسبب زيادة معدل المواليد.

يشير الهرم السكاني (2) إلى الهرم ذي القاعدة الضيقة بسبب انخفاض معدل المواليد.

01062765452

12

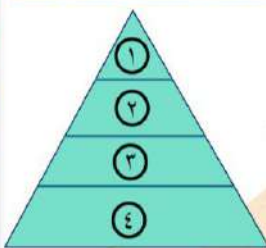
دكتور محمد مصطفى

مراجعة 5 الابتدائي
الصف 2024

الموظفين

موسومة

يمثل الشكل التالي طبقات المجتمع المصري القديم، بالاستعانة به أكمل العبارات التالية:



- (1) يمثل الرقم (1) الطبقة الأولى ومنها الملك وأسرته.
- (2) يمثل الرقم (2) الطبقة الثانية ومنها الوزير وكبار الكهنة.
- (3) يمثل الرقم (3) الطبقة الثالثة ومنها صغار الموظفين والتجار.
- (4) يمثل الرقم (4) الطبقة الرابعة ومنها العاملون بالزراعة والرعي.

المراجعة النهائية

1



اسم الطالب:

الصف:

المادة:

رقم المجموعة:

رقم ولي الأمر:

موسوعة

في الدراسات الاجتماعية

مراجعة 6 الابتدائي 2024

المعطوفات

الوحدة الأولى

أولاً: أهم التعريفات

معدل النمو السكاني

نسبة الزيادة في السكان خلال فترة زمنية نتيجة

ثانياً: الشخصيات وأعمالهم

عمر بن الخطاب رضي الله عنه

رسم وبي امر

مراجعة 6
الصف الابتدائي
2024

في الدراسات الاجتماعية

موسوعة

المصطفى

الوحدة الأولى

ثانياً: الشخصيات وأعمالهم

عمر بن الخطاب رضي الله عنه

عندما فتح عمر بن الخطاب رضي الله عنه بيت المقدس عام ٦٥ هـ أعطى أهلها الأمان لأنفسهم وأموالهم وكنائسهم.

خالد بن الوليد

فتح خالد بن الوليد بلاد الشام ، وعقد معهم صلحاً أكد فيه على عدم هدم الكنائس .

السيدة خديجة بنت خويلد رضي الله عنها

أول من أسلم من النساء .
تميزت بالذكاء والحكمة وقوة الشخصية .
ساهمت بأموالها وشاركت بأرائها في نشر الدعوة .
ساندت الرسول ﷺ أثناء نشره للدعوة الإسلامية .

السيدة أسماء بنت أبي بكر الصديق رضي الله عنها

ساهمت في نجاح خطة هجرة الرسول ﷺ من مكة إلى المدينة .

أولاً: أهم التعريفات

معدل النمو السكاني

نسبة الزيادة في السكان خلال فترة زمنية نتيجة للمواليد والوفيات والهجرة .

معدل المواليد

نسبة المواليد إلى إجمالي السكان في عام معين .

معدل الوفيات

نسبة الوفيات إلى إجمالي السكان في عام معين .

الكثافة السكانية

النسبة بين عدد السكان والمساحة الكلية .

الهرم السكاني

رسم بياني يوضح خصائص السكان من حيث التركيب النوعي والتركيب العمري .



طارق الفكر

01062765452

دكتور / محمد مصطفى

مراجعة 6
الصف الابتدائي
2024

في الدراسات الاجتماعية

موسوعة

المصطفى

الوحدة الأولى

السيدة خديجة بنت خويلد

وإخًا: أهم التفسيرات

ارتفاع معدل النمو السكاني في الوطن العربي؟

بسبب ارتفاع معدلات المواليد وانخفاض معدل الوفيات - تحسن المستوى الصحي والمستوى المعيشي في الدول العربية - الهجرة الخارجية وبخاصة إلى دول الخليج العربي .

تختلف الكثافة السكانية من دولة إلى أخرى في الوطن العربي .

بسبب اختلاف عدد سكان كل دولة ومساحتها الكلية .

تركز السكان في بلاد الشام وشمال إفريقيا .

بسبب اعتدال المناخ وتوافر المياه العذبة .

زيادة نسبة الذكور في بعض الدول العربية عن الإناث في سن العمل .

نتيجة لهجرة الذكور بحثًا عن فرص عمل .

السيدة رفيدة الأسيوطية

عملت بالتمريض : لتقديم الرعاية الطبية للمرضى والجرحى في الغزوات .

السيدتان الشفاء العذوية وصبراء الأسيوطية

تولتا في عهد الخليفة عمر بن الخطاب رضي الله عنه الإشراف على الأسواق .
مراقبة التجار والعمال .
معاينة المخالفين .

ثالثًا: أهم المنظمات

منظمة تابعة لجامعة الدول العربية
تعمل على نشر الوعي بقضايا المرأة العربية في مختلف المجالات .
تعزيز التعاون العربي المشترك في مجال تحسين وضع المرأة .

منظمة المرأة العربية

يسعى إلى دعم حقوق المرأة المصرية .

المجلس القومي للمرأة
ش.م. مصر

01062765452

دكتور/ محمد مصطفى

مراجعة 6 الابتدائي
الصف 2024

في الدراسات الاجتماعية

موسوعة

المصطفى

أهمية التراث الثقافي العربي الاقتصادية .

مصدر لتنشيط السياحة .

الهرم السكاني للوطن العربي ذو قاعدة عريضة .

بسبب ارتفاع نسبة صفار السن .

عززت الحضارة العربية الإسلامية من

ارتفاع نسبة سكان الحضر في الوطن

مصدر لتنشيط السياحة .

بسبب ارتفاع نسبة صفار السن .

عززت الحضارة العربية الإسلامية من المكانة الأدبية والاقتصادية للمرأة .

ارتفاع نسبة سكان الحضرة في الوطن العربي عن المستوى العالمي .

كرم الإسلام المرأة فأعطى لها الحق في :
الميراث - التملك وإدارة أمواله
الإشراف على مختلف شئونها
الاقتصادية - أوصى بالتعامل معها بود ورحمة .

بسبب ارتفاع معدلات الهجرة من الريف إلى المدن في الدول العربية .

نقل نسبة التعليم في الصومال والسودان وجيبوتي وسوريا .

بسبب الفقر والحروب .

خامساً: أهم النتائج

تحسن المستوى الصحي والمعيشي في الدول العربية .

استقبال دول الخليج العربي الهجرات الخارجية في الخمسينيات من القرن الماضي .

أدى إلى ارتفاع معدل النمو السكاني في الوطن العربي .

للعمل بها .

زيادة عدد السكان وقلة الموارد في بعض الدول العربية .

ظهور مشكلة الأمية في الوطن العربي .

تدفع تلك الدول إلى وضع برامج تنموية لمواجهة هذه المشكلة .

بسبب عدم قيد كل الأطفال بالتعليم الابتدائي ، بالإضافة إلى التسرب من التعليم .

دكتور / محمد مصطفى 01062765452

دكتور / محمد مصطفى

مراجعة 6 الابتدائي
الصف 2024

في الدراسات الاجتماعية

موسوعة

المهجر

هجرة سكان الوطن العربي إلى المدن .

وفرة الماء العذب والتربة الخصبة بسهولة وادي النيل .

أصبحت من مناطق تركيز السكان .

أدت إلى ازدحام المدن والضغط الكبير على الخدمات العامة، مثل : النقل والمستشفيات والمدارس والإسكان - ازدحام حركة المرور - ارتفاع مستويات التلوث - ارتفاع معدلات البطالة - زيادة احتمالية انتشار العشوائيات .

انخفاض معدلات الوفيات وارتفاع معدلات المواليد في الدول العربية .

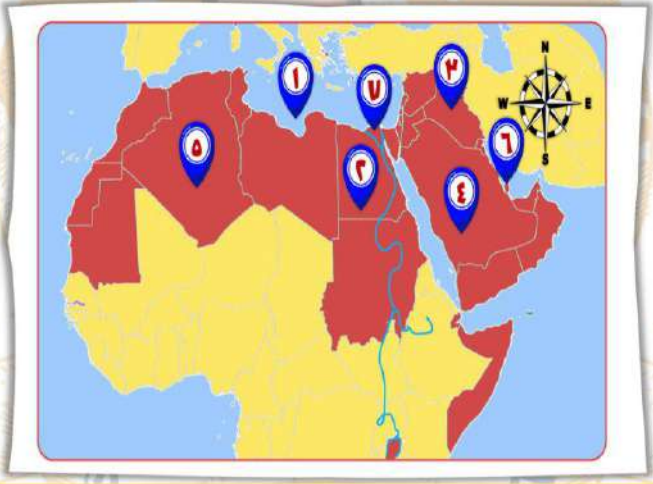
أدى إلى ارتفاع معدل النمو السكاني في الوطن العربي .

اهتمام الدول العربية بالتعليم .

المدى

أحد الخرائط

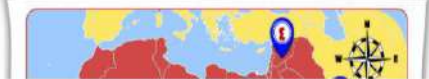
أمامك خريطة صماء للوطن العربي، اكتب مدلول الأرقام التي عليها:



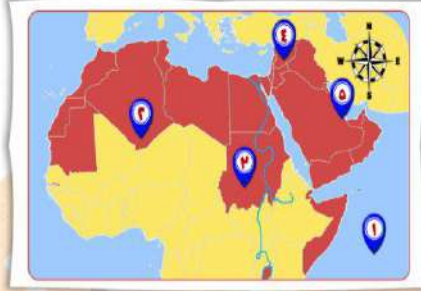
- (١) البحر المتوسط.
- (٢) أكبر الدول العربية من حيث عدد السكان مصر.
- (٣) سهول نهري دجلة والفرات.
- (٤) دولة تعاني من قلة السكان السعودية.
- (٥) ثالث الدول العربية من حيث عدد السكان الجزائر .
- (٦) دولة مستقبلة للهجرات الخارجية قطر .
- (٧) منطقة تركز سكاني الدلتا .

المدى

أمامك خريطة صماء للوطن العربي، اكتب مدلول الأرقام التي عليها:



أمامك خريطة صماء للوطن العربي، اكتب مدلول الأرقام التي عليها:



7

(١) المحيط الهندي.

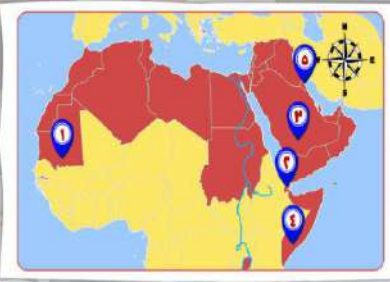
(٢) منطقة يندر بها السكان الصحراء الكبرى .

(٣) ثاني الدول العربية من حيث عدد السكان السودان .

(٤) دولة تعاني من فائض السكان وقلة الموارد سوريا .

(٥) الخليج العربي.

أمامك خريطة صماء للوطن العربي، اكتب مدلول الأرقام التي عليها:



(١) دولة ترتفع بها معدلات الأمية موريتانيا.

(٢) دولة تسجل أعلى معدلات بطالة جيبوتي .

(٣) دولة يزيد بها أعداد الذكور عن الإناث السعودية .

(٤) أقل الدول العربية في متوسط العمر المتوقع الصومال.

(٥) دولة حضرية الكويت .

01062765452

دكتور محمد مصطفى

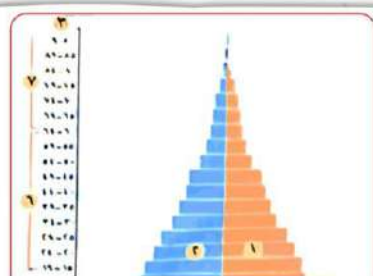
مراجعة 6 الابتدائي
الصف 2024

في الدراسات الاجتماعية

موسوعة

البيانات

أمامك أحد الأشكال البيانية لتمثيل سكان الوطن العربي، اكتب مدلول الأرقام الموقعة عليه :



(١) يشير رقم (١) إلى إحصائيات الإناث.

(٢) يشير رقم (٢) إلى إحصائيات الذكور .

(٣) يشير رقم (٣) إلى الفئات العمرية للسكان .

(٤) يشير رقم (٤) إلى النسب المئوية للفئات العمرية .

(٥) يشير رقم (٥) إلى فئة صغار السن .

(٦) يشير رقم (٦) إلى الفئة العاملة .

الوحدة الثانية

ثانياً: الشخصيات وأعمالهم

معاوية بن أبي سفيان

- مؤسس الدولة الأموية .
- أسس ديوان الخاتم الرسائل بالشمع منعاً للتزوير والتعديل .
- أسس ديوان البريد النقل الرسائل تسهيلاً للاتصال بين الخليفة والأقاليم الإسلامية .
- اهتم بالعمارة فشيّد في عهده مدينة القيروان في تونس .
- اهتم بالجيش والبحرية الإسلامية .
- أنشأ العديد من المصانع لبناء السفن .
- قام بتطوير الموانئ البحرية .

عبد الملك بن مروان

- المؤسس الثاني للدولة الأموية .
- تعريب الدواوين وأصبحت اللغة العربية اللغة الرسمية في الإدارة .
- أنشأ أول دار لسك الدراهم والدنانير الإسلامية باللغة العربية .
- شيد مسجد قبة الصخرة في فلسطين .

أولاً: أهم التعريفات

الخانات

أماكن تم بناؤها لاستضافة المسافرين واهتم بها الخليفة عمر بن عبد العزيز .

الأسطرلاب

أداة تقنية لرصد النجوم وتحديد الاتجاهات .

الحروب الصليبية

حملات عسكرية قادها ملوك أوروبا .

المغول

قبائل رعوية بدوية كانت تعيش في وسط آسيا .

المماليك

الغلمان الذين كانوا يشترون ويُدربون على فنون الحرب والقتال لاستخدامهم كفرق عسكرية في الجيش .



01062765452

دكتور / محمد مصطفى

مراجعة 6 الابتدائي
الصف 2024

في الدراسات الاجتماعية

موسوعة

المصطفى

أم البنين زوجة الوليد بن عبد الملك

عرفت بجودها وكرمها، فكانت تدعو النساء إلى بيتها وتكسوهن الأياب الحسنة وتعطيهن الأموال.

الوليد بن عبد الملك

- أطلق على عصره العصر الذهبي للدولة الأموية .
- اتسم عصره بالرخاء والأمن والاستقرار الداخلي .
- شيد المسجد الأموي في دمشق بسوريا .
- أمر بتوسيع الحرم المكي، والحرم النبوي .

- أشار على الخليفة عمر بن الخطاب رضي الله عنه يفتح مصر .
- عين والياً على مصر بعد الفتح الإسلامي .
- حرص على إتاحة الحرية الدينية للمصريين ، وحماية كنائسهم .
- اهتم ببناء مدينة **الفسطاط** لتكون عاصمة لمصر .
- بني جامع عمرو بن العاص الذي يُعد أول جامع في مصر وإفريقيا .
- أعاد حفر قناة **سيروساتريس** التي كانت تصل النيل بالبحر الأحمر ، وسميت بخليج أمير المؤمنين التسهيل التجارة بين **مصر وبلاد الحجاز** .

أحمد بن طولون

- شيد مدينة **القطائع** لتكون عاصمة لدولته .
- أسس مسجد (أحمد بن طولون) .

محمد بن طنج الإكشيد

- اتخذ من مدينة **العسكر** عاصمة لدولته .

- بلغ العصر العباسي الأول ذروة **المجدفي** عهده .
- اتسعت رقعة الدولة الإسلامية في عهده .
- اهتم بالزراعة وشق قنوات الري .
- أسس سوق **الوراقين** في بغداد .
- تأسس في عهد بيت الحكمة .

المأمون بن هارون

- ازدهرت العلوم في عصره مثل : الرياضيات والطب والفلسفة وعلم الفلك .
- أنشأ أول **مرصد فلخي** في بغداد ، وعمل فيه أكبر علماء الفلك المسلمين .
- شهد عصره اختراع العديد من الأدوات التقنية مثل : **الأسطرلاب** الرصد النجوم وتحديد الاتجاهات .

السيدة زبيدة زوجة الخليفة هارون الرشيد

- قدمت الكثير من الأعمال الخيرية : حيث عملت على :
- بناء أحواض السقاية الحجاج .
- الاهتمام بالآداب والعلوم ورعاية العلماء والفقهاء .

01062765452

دكتور محمد مصطفى

مراجعة 6 الابتدائي الصف 2024

في الدراسات الاجتماعية

موسوعة

الرمضان

أرباط

- حاكم **حصن الكرك** التابع المملكة بيت المقدس .

جوهر المقلبي

- قام ببناء مدينة **القاهرة** والجامع الأزهر الشريف .

ريتشارد قلب الأسد

- ملك إنجلترا .
- عقد صلحاً مع صلاح الدين سمى **بصلح الرملة** .

صلاح الدين الأيوبي

- نجح في إقامة دولة إسلامية موحدة ضمت **مصر ومعظم بلاد الشام والعراق** .

01062765452

13

دكتور / محمد مصطفى

مراجعة الصف 6 الابتدائي 2024

في الدراسات الاجتماعية

موسوعة

المعتمد

صلح الإسكندرية - صلح الرملة

وجه المقارنة	صلح الإسكندرية	صلح الرملة
الأطراف	عمرو بن العاص (رضي الله عنه) مع الروم .	صلاح الدين الأيوبي مع ريتشارد قلب الأسد .
النتائج	أصبحت مصر ولاية إسلامية وتم تعيين عمرو بن العاص (رضي الله عنه) واليًا على مصر .	بقاء بيت المقدس تحت حكم المسلمين على أن يكون للمسيحيين حرية الحج إليه .

قطر

- عين نائبًا للسلطان نور الدين .
- قام بعزل السلطان نور الدين ، وأعلن نفسه سلطانًا للبلاد .
- رفض تسليم البلاد للمغول .
- تحالف مع الملك الناصر ملك الشام .
- انتصر على المغول في معركة عين جالوت .

ثالثًا: أهم المقارنات

معركة حطين - معركة عين جالوت

وجه المقارنة	معركة حطين	معركة عين جالوت
الأطراف	المسلمون بقيادة صلاح الدين ضد الصليبيين .	المسلمون بقيادة قطز ضد المغول .
الأسباب	نقض أرناب الهدنة مع صلاح الدين ورفض الإفراج عن الأسرى .	مواجهة المغول قبل دخولهم لمصر .
النتائج	انتصر صلاح الدين انتصارًا ساحقًا ودمر الجيش الصليبي - تساقطت الحصون الصليبية في أيدي المسلمين حتى وصلوا لأبواب مملكة بيت المقدس فاضطر الصليبيون للاستسلام .	القضاء على جيش المغول واضطر الباقون للفرار - قتل قائد المغول - حمت مصر العالم الإسلامي من خطر المغول - توحدت مصر وبلاد الشام تحت حكم المماليك وأصبحت زعيمة العالم الإسلامي .

رابعًا: أهم التفسيرات

ازدهرت الدولة الإسلامية في عهد الدولة الأموية .

حيث اهتم الأمويون بـ (تنظيم شؤون الدولة داخليا وخارجيا - العلوم والفنون والعمارة - استكمال حركة الفتوحات وتوسيع حدود الدولة الإسلامية شرقا وغربا) .

أسس معاوية بن أبي سفيان ديوان الخاتم .

لختم الرسائل بالششمع منها للتزوير والتعديل .

01062765452

13

دكتور / محمد مصطفى

مراجعة الصف 6 الابتدائي 2024

في الدراسات الاجتماعية

موسوعة

المعتمد

يعد أبو جعفر المنصور المؤسس الحقيقي للدولة العباسية .

أسس معاوية بن أبي سفيان ديوان البريد .

المساجد والمدارس والمكتبات .

01062765452

٢٤

دكتور محمد مصطفى

مراجعة 6 الصف الابتدائي 2024

في الدراسات الاجتماعية

موسوعة

الموسوعة

بنك أسئلة على الوحدة الأولى

أسئلة الخرائط والأشكال:

السؤال الأول

لاحظ خريطة الوطن العربي ، ثم أجب :



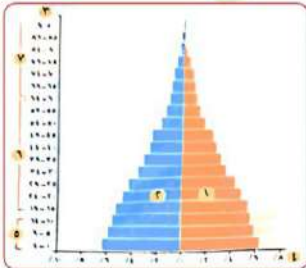
- (١) يشير رقم (١) إلى أولى الدول العربية من حيث عدد السكان وهي .
- (٢) يشير رقم (٢) لدولة مستقبلية للهجرات الخارجية وهي دولة السعودية
- (٣) يشير رقم (٣) لدولة يعيش سكانها فوق المرتفعات وهي .
- (٤) صواب أم خطأ : يشير رقم (٤) إلى منطقة نادرة السكان . ()
- (٥) يشير رقم (٥) إلى دولة عربية تتخلف بها نسبة التعليم بسبب الحروب والفقر وهي

لاحظ خريطة الوطن العربي ، ثم أجب :



- (١) صواب أم خطأ : يشير رقم (١) إلى أقل الدول العربية سكاناً . ()
- (٢) يشير رقم (٢) إلى صحراء
- (٣) يشير رقم (٣) لدولة تتسم بارتفاع معدل الوفيات وهي
- (٤) صواب : يشير رقم (٤) إلى دولة عربية ترتفع بها نسبة التعليم .
- (٥) صواب أم خطأ : يشير رقم (٥) إلى دولة عربية سجلت أعلى متوسط عمر متوقع ()
- (٦) يتركز السكان في الدولة رقم (٦) على سهول نهر

لاحظ الهرم السكاني التالي ثم أجب :



- (١) صواب أم خطأ : يشير رقم (١) إلى فئة سكانية منتجة . ()
- (٢) يشير رقم (٢) إلى فئة
- (٣) صواب : يشير رقم (٣) إلى فئة صغار السن .

01062765452

٢٥

دكتور محمد مصطفى

مراجعة 6 الصف الابتدائي 2024

في الدراسات الاجتماعية

موسوعة

الموسوعة

أكمل العبارات الآتية بما يناسبها من كلمات :

السؤال الثاني