

« الأسبوع الثاني »

① ضع علامة (✓) أمام التصريف الصحيح
وعلمة (X) أمام التصريف الخاطئ:

١- الملابس القديمة اضع منها شيئاً جديداً ()

٢- الملابس القديمة أقيها في القمامة ()

② اكمل العبارات بكلمات مناسبة:

١- يصنع من القمح

٢- نحصل على العسل من

٣- نضجع من الشجر

الأسبوع الثالث

① اكمل العبارات الآتية:

Date: _____

no: _____

الأسبوع السابع للدرس الخامس والرابع ()
٢٢٠٢٥/٣/٢٢

ضع علامة (✓) أو (X) :-

- ١- من الاجهزة التي تعمل بالكهرباء التلاجة ()
- ٢- عند استخدام جردل للمسح نحتاج للكهرباء ()
- ٣- للحفاظ على الموارد غلق الصنبور أثناء غسل الاسنان ()
- ٤- للحفاظ على الموارد عدم أطفاء المصابيح أثناء النهار ()

أكمل بما يناسب

- (الحيوانات - المروحة - الكهرباء)
- تعمل الغسالة بواسطة _____
- نحتاج _____ المياه لتعيش
- جهاز يعمل بالكهرباء _____

الدرس الثاني ١٥ / ٢ / ٢٠٢٥

ضع علامة (✓) أو (X) :-

- ١- تقاس سرعة الرياح بالترمومتر ()
- ٢- من وحدات قياس الطول المسطرة ()
- ٣- عندما يكون الطقس دافئ وشمس ترتدى الحواشي ()

أكمل بما يناسب

(الترمومتر - الأنيومتر - الطقس - المسطرة)

- ٤- _____ يساعد في قياس سرعة الرياح .
- ٥- _____ يساعد في قياس درجة الحرارة .
- ٦- _____ هو وصف لحالة الجو لفترة زمنية قصيرة .

مشاركة ➔

إرسال 📧

تعليق 🗨

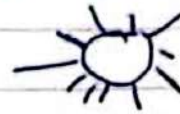
أعجبنى 👍

الدرس الثالث ١٥ / ٢ / ٢٠٢٥


ضع علامة (✓) أو (X) :-

- ١- يوجد بهض أكثر من ١٠٠ هضبة ()
 - ٢- تستخدم الأتجار الصناعية في الحصول على الصور الفضائية ()
- صل كل رمز بحالة الطقس المعبر عنه


رياح



شمس



مطر



متعدد التخيمات
الصف الثاني الرشيد
تقديم الاسبوع الاول

الحمد الثالث
الدرس الاول

٢٠٢٥ / ٢ / ٨

- السؤال الاول، ضع علامة (٤) أمام العبارة الصحيحة وعلامة (X) أمام العبارة الخطأ
- (١) يعبر اللون الأزرق على الخريطة عن المسطحات المائية (٤)
 - (٢) يتجه نهر النيل من الجنوب للشمال (٤)
 - (٣) يعبر اللون البني على الخريطة عن المنخفضات (X)

السؤال الثاني، أكل مستخدماً تلك الكلمات
(نور - البنتي)

- (١) جاءت نور إلى مائدة الطعام أثناء تناول الأسرة طعام الإفطار
- (٢) نـعـبر عن الجبال على الخريطة باللون البني

تقديم الاسبوع الثاني ٢٠٢٥ / ٢ / ١٥

الفصل الاول
الدرس الثاني والثالث

- السؤال الاول، ضع علامة (٤) أمام العبارة الصحيحة وعلامة (X) أمام العبارة الخطأ
- (١) عرض سمير كنور مور للأهرامات الجيزة من الفضاء ()
 - (٢) تقاس سرعة الرياح بالترموومتر ()

سؤال الثاني أكل العبارات مستخدماً تلك الكلمات
(سقارة - الترمومتر - الأهرامات)

- (١) تستقر منطقة الأهرامات
- (٢) تقيس درجة الحرارة باستخدام الترموومتر
- (٣) تقيس سرعة الرياح باستخدام السقارة

المحور الثالث كيف يهل العالم ؟

الفصل الأول

الأُسبوع الأول ١٨/٩/٢٠٢٠

ضع علامة ✓ أو ✗ :-

- ١- يعبر اللون الأزرق على الخريطة عن المسطحات المائية ()
- ٢- المناطق المستوية هي الأراضي الزراعية ()

أكمل بما يناسب

(بنى - أضر - المنخفضات)

- ٣- تلون الجبال في الخريطة باللون _____
- ٤- اللون الأخضر النامق على الخريطة يعبر عن _____

الدرس الثاني ١٥/٩/٢٠٢٠

ضع علامة ✓ أو ✗ :-

- ١- تقاس سرعة الرياح بالترموتر ()
- ٢- من وحدات قياس طول المسطرة ()
- ٣- عند ما يكون الطقس دافئ وشمس ترتدى الحواشي ()

أكمل بما يناسب

(الترمومتر - الأنيمومتر - اللقس - المسطرة)

- ٤- يساعد في قياس سرعة الرياح .
- ٥- يساعد في قياس درجة الحرارة .
- ٦- هو وصف لحالة الجو لفترة زمنية قصيرة .

الفصل الثالث من المحور الثالث

٣٤٠٥١٣/٨

الأسبوع الخامس الدرس الأول والثاني

أختار الأجابة الصحيحة :-

- ١- من المصادر الطبيعية للمياه
(نهر النيل - وقود - عصير)
- ٢- من استخدام الماء :-
(قراءة الكتب - الغناء - الزراعة)
- ٣- من الكائنات التي تحتاج الى الماء
(الكتاب - الشجر - الكرسي)

منع علامة (X) أو () :-

- ٤- يعد التساح من الزواحف ()
- ٥- تعد الضفادع من الأسماك الصغيرة ()

الأسبوع السادس - الدرس الثالث ٣٤٠٥١٣/١٥

منع علامة (X) أو () :-

- ١- كلما زاد عدد السكان قل استهلاك الماء ()
 - ٢- المدن الكبيرة تنفذ مياهها أولاً عن المدن الصغيرة ()
 - ٣- المدينة الصغيرة عدد سكانها كبير ()
- أذكر بعض الأنشطة التي تستخدم فيها المياه

تقسيم الاسبوع الخامس ٢٠٢٥ / ٣ / ٨

المحور الثالث
الفصل الثالث
الدرس الاول والثاني

السؤال الاول، ضع علامة (ء) أمام العبارة الصحيحة وعلامة (x) أمام العبارة الخطأ

() الماء هو أحد المصادر الطبيعية المهمة

() يعيش الثعبان الشوكي في البحر المتوسط

السؤال الثاني أكمل العبارات الآتية مستخدماً نيك الكلمات
(مياه - نهر النيل - طهي الطعام)

١ يحتاج المزارعون إلى لرى المحاصيل

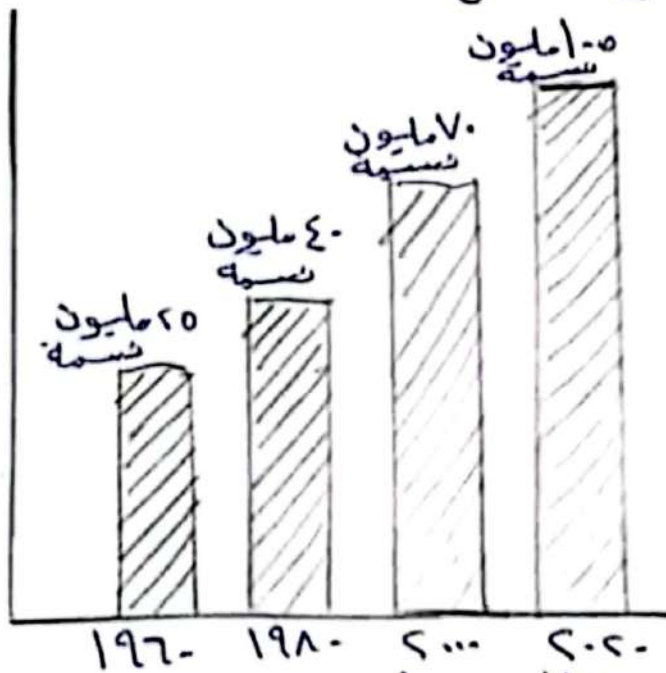
٢ تعيش أنواع كثيرة من الزواحف بالقرب من

٣ تستخدم المياه في أشياء كثيرة مثل

تقسيم الاسبوع السادس ٢٠٢٥ / ٣ / ١٥

الفصل الثالث
الدرس الثالث

السؤال الاول، لاحظ ثم اجب عن الاسئلة



١ أكبر عدد للسكان عام

٢ اقل عدد للسكان عام

٣ عدد السكان في مصر عام

٤ عدد السكان في مصر عام ١٩٦٠

٥ عدد السكان في مصر عام ١٩٨٠

السؤال الثاني ضع دائرة حول الإجابة الصحيحة

١ عدد سكان مصر .. (يزيد - ينقص - لا يتغير)

Date : _____

No: _____

الاسبوع الخامس أخت الاجابه الصحيحه ما بين قوسين

- 1- يعمل الطبيب في [المستشفى - البنك - المخبز]
- 2- يعمل المعلم في [البنك - المدرسه - المخبز]
- 3- من أدوات الجزار [القلم - الساعات - الميزان]
- 4- يقوم المعلم ب [تصليح السياره - تعليم الأطفال الكيف]
- 5- من أدوات الميكانيكا [المسطره - المفك - السكين]

الاسبوع السادس

ضع علامه (X) أو علامه ()

- 1- المغناطيس هو شيء يجذب المعادن إليه ()
- 2- لا تتجذب المغناطيس له غناطيس ()
- 3- يزور السائح المتحف ()

أخت الاجابه الصحيحه

- 1- تستخدم المشاحنه لنقل [الاشخاص - البضائع]
- 2- تستخدم الياده لنقل [البضائع - الاشخاص]

الأسبوع السابع

وهل لجل بها يناسوها كلمات

القطن

١- ليستخدّم للوصول على معلومات

الكمبيوتر

٢- هزوريةً للاسنان كما يعيش

الامهناجات

٣- نحمل على اللين من

البقره

٤- نحمل على الملايس ولقماش من

أحتر لاجاب لاسم
١- نشر على القوم من
[المخبز - الجزار - المكتبة]

الأسبوع الثامن

صنع دائره حول نعم أو لا بما يناسبها

١- اليوصله هي أداة تستخدم في تحديد الاتجاهات نعم

٢- اتجاهات اليوصله لاساسيه في اتجاهات نعم لا

٣- السياره وسائل نقل الاشخاص نعم لا

٤- الكرسي يجذب الرغناطيس لا نعم

٥- المشاحنه وسيله نقل لاجانب لا نعم

المحور الثالث

٢٠٢٥/٢/٢٢

متعدد التخصصات

المهف الأول الإبتدائي

الفصل الدراسي الثالث

تقييم الأسبوع الثالث

الدرس :

الخامس والسادس

مس /
عزة مصطفى

السؤال الأول: أكمل العبارات الآتية مستخدماً ما بينك لكلمات

[آلة جمع القطن - آلة الغزل - المثلاجة - الميكرويف

آلة حلج القطن]

① يُستخدم في تسخين الطعام .

② تُستخدم - - - - - لتجميع القطن .

③ تُستخدم في حفظ الطعام بارداً .

④ تُستخدم في فصل بذور القطن .

⑤ تُستخدم - - - - - لتحويل القطن إلى خيوط



الدرجة

٢٠٢٠/٢/٢٥

متعدد التخصيصات
الهدف الأول الإبتدائي

الفصل الدراسي الثالث

تقييم الأسبوع الثالث

مس /
عزة مصطفى

السؤال الأول: أكمل العبارات الآتية مستخدماً ما بينك لكلمات

[آلة جمع القطن - آلة الغزل - الثلاجة - الميكرويف

آلة حلب القطن]

١) يُستخدم في تسخين الطعام .

٢) تُستخدم لتجميع القطن .

٣) تُستخدم في حفظ الطعام بارداً .

٤) تُستخدم في فصل بذور القطن .

٥) تُستخدم لتحويل القطن إلى خيوط



الدرجة

المحور الثالث

٢٠٢٥/٥/٨

متعدد التخصصات

الصف الأول الابتدائي

الفصل الدراسي الثاني

تقييم الأسبوع الأول

الدرس ..

الأول والثاني

مس /
عزة مصطفى

* السؤال الأول: اختر الإجابة الصحيحة مما بين القوسين

① من الاحتياجات الأساسية للإنسان

(التنزه - شراء الألعاب - الطعام)

② نحمل على البيض من

(الأغنام - الدجاج - الأبقار)

③ نمنع الخبز من

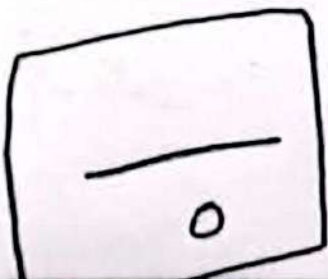
(الذرة - الأرز - القمح)

④ نشترى الملابس من

(الصيدلية - متجر الملابس - متجر الألعاب)

⑤ نأخذ .. من الأشجار

(الخشب - البلاستيك - الصوف)



الدرجة

الأداء المفقود «التشقق» =

« الأسبوع الأول » <<

1. ضع علامة (✓) أو (X) أمام العبارات

1- الطعام من احتياجات الإنسان الأساسية ()

2- الكرة من منتجات الملاهي ()

3- يمكن شراء الأدوية من الصيدلية ()

2. اكمل العبارات بكلمات مناسبة:

1- يمكن الحصول على البيض من ...

2- تصنع من القطن ...

3- من حاجات الإنسان الضرورية ...

تقسيم الاسبوع السابع

٢٠٢٥/٢/٢٢

السؤال الاول اضع علامة (ء) أما العبارة الصحيحة وعلامة (خ) أما العبارة الخاطئة

- ١ النفايات البلاستيكية هي إحدى المشكلات التي تعاني منها البيئة ()
٢ تعمل الأجهزة المترلية بالكهرباء ()

السؤال الثاني اكمل مستخدماً بنك الكلمات
(الكهرباء - البلاستيك - الشلحجة)

- ١ تعمل الضالة بواسطة ---
٢ ابتكرت عزة طريقة لحمل على الوقود من ---
٣ تعمل --- بواسطة الكهرباء

مراجعة عيد الفطر المبارك

٢٠٢٥/٢/٢٩

تقسيم الاسبوع التاسع

٢٠٢٥/٤/٥

السؤال الاول اختر الإجابة الصحيحة مما بين القوسين

- ١ التواصل عبر البريد تدرب على كتابة العنوان على ---
(الطرف - الحائط - السبورة)
٢ يقوم بجميع الرسائل من متاديق البريد ---
(ساعي البريد - المعلم - المطباخ)

السؤال الثاني اضع علامة (ء) أما العبارة الصحيحة وعلامة (خ) أما العبارة الخاطئة

- ١ تحتاج و صنع طابع بريد من الخطابات ()
٢ اذا طلب مني شخص عنواني على الهاتف اعميه له ()
السؤال الثالث اقرأ المسئلة الآتية ثم اختر جلا مناسباً بوضع علامه (ء)
١ منه أرسلت رسالة أرعجت ابنته خالتهما يجب على منه

الاستئذار لها

المتجار معها

الأسبوع التاسع

1 اكمل العبارات الآتية :-

من الطعام الصحي .

2. تشتري الدواء من .

3. ضع علامة (✓) أو (x) أمام العبارات :-

1. من السلوكيات الصحيحة عند التسوق والقراء

القمامة داخل المتجر ()

2. السحك من الأطعمة الصحية ()

3. تشتري الخبز من المخبز ()

الأسبوع العاشر

1. امل كل كلمة بما يناسبها :-

من قائمة التسوق

المياه الغازية

من الأطعمة غير الصحية

المكتبة

تشتري منها الكتب

الملابس

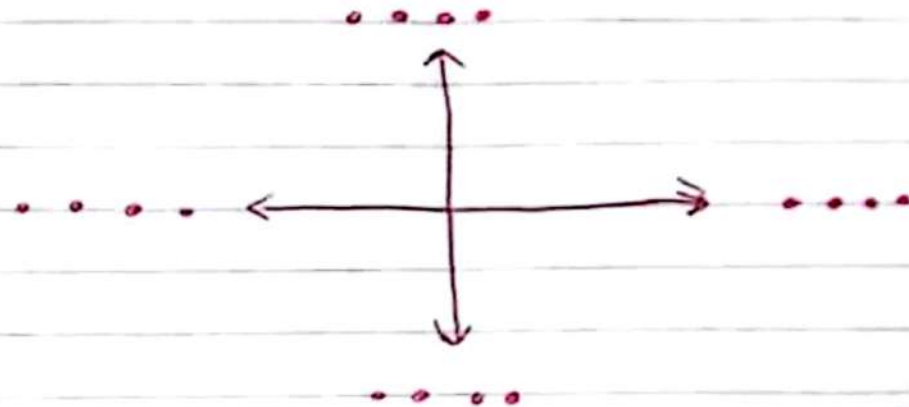
2. اذكر أمثلة للأطعمة الصحية
وغير الصحية ؟

« الأسبوع الثامن »

1) صل كل كلمة بما يناسبها :-

- | | |
|-----------|------------------------------|
| - الشاحنة | - تساعدنا في تحديد الاتجاهات |
| - الدراجة | - لا يتجذب إلى المغناطيس |
| - البوملة | - من وسائل نقل البضائع |
| - الكرسي | - من وسائل نقل الأشخاص |

2) اكتب كل كلمة في الاتجاه الصحيح :-



[شمال - جنوب - شرق - غرب]

تقييم الأسبوع الثالث

٢٥١٢/٢٢

السؤال الأول، اختر الإجابة الصحيحة مما بين القوسين
① يساعد الطيار في قيادة الطائرة ---
(المائق - مساعد الطيار - المظيفة)

② تنوع مصر العديد من المعامل الزراعية مثل ---
(الجسور - القمح - الآلات)

السؤال الثاني: ضع علامة (✓) أمام العبارة الصحيحة، وعلامة (×) أمام العبارة الخطأ

① المسئول عن محطة القطر هو ناظر المحطة ()

② التعدين هو عملية استخراج الموارد من الماء ()

③ صناعة الأقمشة والملابس من الضامات المهمة في الاقتصاد المصري ()

« الأسبوع الخامس »

1) اختر الإجابة الصحيحة مما بين القوسين

1- تستخدم الضيعة لفحص المرضى -

(المسكين - المفتاح - السماعة)

2- يعمل في البنك .

(المحاسب - الطبيب - المعلم)

3- يستخدم ميزاناً لوزن اللحوم .

(المعلم - الجزار - الطبيب)

2) امل كل مهنة بما يناسبها:

- المعلم - يقوم بتصليح السيارات

- الميكانيكي - يعلم الأطفال

« الأسبوع السادس »

1) اكمل العبارات مستخدماً بنك الذاكرة

(خريطة - تنجذب - القندق - المغناطيس)

الاسبوع التاسع

صنع علبه ك) أو علبه (لا)

١- اللبن من الطعام المحض (١)

٢- البيتر من الطعام غير محض (١)

٣- الدجاج من الطعام المحض (١)

أعمل العبارات لايب

١- تشتري الادوية من

٢- تشتري الخبز من

الاسبوع العاشر

أعمل عبارات لايب

١- من الأطعمة المحيية

٢- من الاطعمه غير المحيية

٣- المكينه تشتري منها

٤- تشتري من محل بلاديس

٥- تشتري الجبن من محل

1- تستخدم آلة لفصل البذور عن القطن

..... تساعد في حفظ الطعام.

2- يستخدم الميكرويف في الطعام

3- هل كل كلمة بما يناسبها:

ماكينة الغزل لتجميع القطن

ماكينة جمع القطن لتحويل القطن إلى خيوط

« الأسبوع الرابع »

1- ارسم دائرة حول السلوك الصحيح: -

* الإفراط في المياه أثناء الاستحمام

* ترشيد المياه عند غسل السيارة

* فتح المنبر أثناء غسل الأسنان

2- كيف نحافظ على المياه؟

3- هل تغلق المنبر جيداً بعد الاستخدام

« الأسبوع الحادي عشر »

1 اكمل العبارات باستخدام بيك الكلمات :

(الترمومتر - آلة الجمع - الساعة)

1- تستخدم لقياس الوقت .

2- آلة حاسبة تقوم بعمليات الجمع

3- يستخدم لقياس درجة الحرارة .

2 اجب عن الاسئلة التالية :

1- ما هو الحيوان المفضل لديك ؟

2- اذكر مثالاً لاستخدام الأرقام في حياتنا

المحور الثالث

الدرس: الثالث والرابع

٢٠٢٥/٢٠١٦٥

متعدد التخصيمات
الهدف الأول الإبتدائي
الفصل الدراسي الثاني

مس /
عزّة مصطفى

تقييم الأسبوع الثاني

السؤال الأول:

ضع علامة (✓) أو (X) أمام العبارات الآتية:-

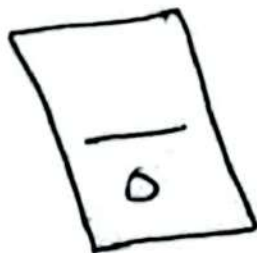
① ستستخدم آلة الغزل لجمع القطن. ()

② نُلقي الملابس القديعة في القمامة. ()

③ يُصنع القلم الرصاص من الأخشاب. ()

④ نأخذ القطن من الأغنام. ()

⑤ ترتدى الملابس الصوفية في الشتاء. ()



الدرجة

المحور الثالث
الدرس: الثالث
والرابع

متعدد التخصيبات
الصف الأول الإبتدائي
الفصل الدراسي الثاني

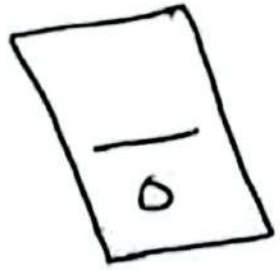
٢٠٢٥/٢٠١٦٥

تقييم الأسبوع الثاني

مس /
عزّة رمضان

السؤال الأول:

- ضع علامة (✓) أو (x) أمام العبارات الآتية:-
- ① تستخدم آلة الغزل لجمع القطن. ()
 - ② نلقى الملابس القديعة في القمامة. ()
 - ③ يصنع القلم الرصاص من الأخشاب. ()
 - ④ نأخذ القطن من الأغنام. ()
 - ⑤ ترتدى الملابس الصوفية في الشتاء. ()



الدرجة

المحور الثالث

متعدد التخصصات

٢٠٢٥/٢/٨

الصف الأول الابتدائي

الفصل الدراسي الثاني

تقييم الأُسبوع الأول

الدرس -
الأول والثاني

مس /
عزة مصطفى

* السؤال الأول: اختر الإجابة الصحيحة مما بين القوسين

① من الاحتياجات الأساسية للإنسان

(التنزه - شراء الألعاب - الطعام)

② نحمل على البيض من

(الأغنام - الدجاج - الأبقار)

③ نمنع الخبر من

(الذرة - الأرز - القمح)

④ نشترى الملابس من

(الصيدلية - متجر الملابس - متجر الألعاب)

⑤ نأخذ من الأشجار.

(الخشب - البلاستيك - الصوف)



الدرجة

المحور الثالث

الدرس: الثالث
والرابع

متعدد التخصصات
الصف الأول الإبتدائي
الفصل الدراسي الثاني

٢٠٢٥/٢٠١٦٥

مس /
عزّة مصطفى

تقييم الأسبوع الثاني

السؤال الأول:

ضع علامة (✓) أو (X) أمام العبارات الآتية:-

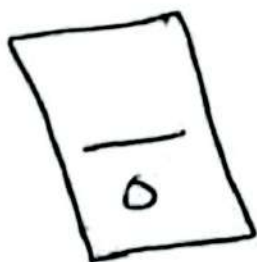
① تستخدم آلة الغزل لجمع القطن. ()

② نلقى الملابس القديعة في القمامة. ()

③ يصنع القلم الرصاص من الأخشاب. ()

④ نأخذ القطن من الأغنام. ()

⑤ ترتدى الملابس الصوفية في الشتاء. ()



الدرجة

لمحور الثالث

٢٠٢٢/٢/٢٥

متعدد التخصصات

المهف الأول الإبتدائي

الفصل الدراسي الثالث

تقييم الأسبوع الثالث

لدرس :

الخامس والسادس

مس /
عزة مصطفى

السؤال الأول: أكمل العبارات الآتية مستخدمًا ما بينك لكلمات

[آلة جمع القطن - آلة الغزل - المثلاجة - الميكرويف

آلة حلب القطن]

① يُستخدم في تسخين الطعام .

② تُستخدم - - - - - لتجميع القطن .

③ تُستخدم في حفظ الطعام باردًا .

④ تُستخدم في فصل بذور القطن .

⑤ تُستخدم - - - - - لتحويل القطن إلى خيوط



الدرجة

١..... هوشية يجذب المعادن اليه .

٢. من الأماكن التي يزورها السائح

٣. المفاتيح إلى المقناطيس .

٤. من الأشياء التي يحتاجها السائح أثناء سفره

٥. اكمل :-

* وسائل النقل تنقسم إلى قسمين

١ وسائل نقل ٢ وسائل نقل

« الأسبوع السابع »

مراجعة لما سبق دراسته

١. ضع علامة (✓) أو (X) أمام العبارات :-

١. يستخدم الكمبيوتر للحصول على المعلومات ()

٢. الرغبات ضرورية للإنسان ()

٣. نحصل على الجبن من البقرة ()

٤. اكمل العبارات بكلمات مناسبة :-

١. نشترى الفاكهة من

٢. نستخدم في صناعة الملابس .

المسائل الثاني من المحور الثالث
الدرس الأول ٢٢/٢/٢٠٢٥

ضع علامة (✓) أو (X)

- ١- سابق الحافلة يبيع لنا التذاكر ()
- ٢- هزيمة الطيران تتأخر من سلامتك على الطائرة ()
- ٣- يساعد الطيار في القيادة للطائرة في الهزيمة ()
أكمل بما يناسب
- (ميكانيكي - مساعد الطيار - الهزيمة)
- ٤- الشخص الذي يقوم بتصليح الحافلة هو _____
- ٥- الشخص الذي يساعد الطيار في القيادة هو _____

الدرس الثاني ٢٢/٢/٢٠٢٥

ضع علامة (✓) أو (X)

- ١- يستخرج الفحم من الارض ()
- ٢- تصنع القماش من القطن ()
أكمل بما يناسب
- (الفحم - السيارات - القطن)
- ٣- أحد المنتجات الزراعية _____
- ٤- إحدى الموارد التي نستخرجها من الارض _____
- ٥- يستخرج الصلب في صناعة _____

اداء منزلي

الاسبوع الثالث

① جمع الملابس (أمان) لغارات الجسم والملابس (X)
أمان لغارات الخاطم.

- 1- ماكينه جمع القطن جمع القطن من الحقل ()
- 2- ماكينه الخياطه تقوم خياطه لغاش ()
- 3- مراحل نسيج القمصين 3 مراحل ()

② اختر الاجابه المهميه

- 1- تسخدم الة لفصل ليندرج لقطن
[جمع القطن - حلج القطن]
- 2- تسخدم ماكينه لتحويل القطن لأك خيوط
[غزل القطن - نسيج القطن]

الاسبوع الرابع

① حل الاجوزه باستخدمها

1- يساعده على تسخين الطعام

2- تسخدم في تنظيف اللابس

3- يساعده في حفظ الطعام

4- يساعده في الحصول على معلومات

② جمع الملابس (X) أمان لغارات الجسم والملابس (X)
اطام الخاطم

1- عند غسل لاسنان تترك لظهور مفتوح ()

2- ترشيد المياه عند غسل السيارة سلوك صحيح ()

السؤال الاول، اختر الاجابة الصحيحة مما بين القوسين

١) يعد من الأماكن السياحية في مصر...
(برج ابيقل - متحف اللوفر - معبد دير البحري)

٢) كوبري ستانلي موجود في مدينة...
(القاهرة - الاسكندرية - اسيوط)

السؤال الثاني اكمل العبارات متخدما بنك الكلمات
(قميص - يرتقال - تلاجية)

١) ممنوع من القماش... -

٢) عاكهة... -

٣) تستخدم في المنزل... -