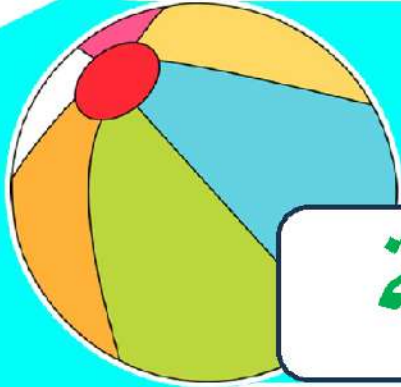


2025

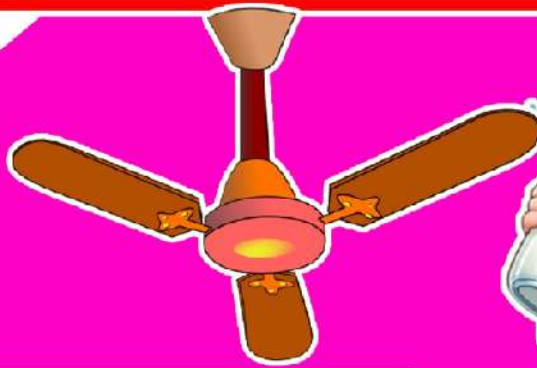
الاسماء القطرية

الخوارزمي



المراجعة النهائية

اكتشف



إعداد: بلال نصر

٠١٠٦٥٧٦٠٤٨٣

1

الصف الأول الابتدائي
الفصل الدراسي الثاني

الزملاء والزميلات الأعزاء

أولياء الأمور الافاضل - ابنائي وبناتي الطلاب

يسعدني أن اقدم هذا العمل المتواضع

وللعلم هذه النسخة اصدار عام ٢٠٢٤ -

٢٠٢٥ م وغير مسموح بالتعديل على

المحتوى الا بعد الرجوع لي شخصياً من خلال

التواصل على رقم ٠١٠٦٥٧٦٠٤٨٣

وأنا غير مسامح لأي شخص يقوم بحذف

بياناتي او حذفها بدون الرجوع الي اولاً

خالص تحياتي سلسلة الخوارزمي (اكتشف -

Discover - تكنولوجيا المعلومات والاتصالات

ICT عام ولغات - المهارات المهنية) لحجز

وحضور شرح الحصص أونلاين للمرحلة الابتدائية

والاعدادية تواصل على رقمي- بلال نصر..

المحور ٣ : كيف يعمل العالم من حولي ؟
الفصل الأول: كيف يتم تصنيع المنتجات حول العالم؟

أسئلة الدرس الأول احتياجات أم رغبات

السؤال الأول : ضع علامة (✓) او علامة (x) :-

- ١- الاحتياجات هي الأشياء التي تجعلك سعيدا . ()
٢- الاحتياجات يمكن الاستغناء عنها. ()
٣- الرغبات لايمكنك الاستغناء عنها. ()

السؤال الثاني : اختر الإجابة الصحيحة:-

- ١- يمكن الاستغناء عنها.
أ- الاحتياجات ب- الرغبات ج- الاثنين معا
٢- لايمكنك الاستغناء عنها.
أ- الاحتياجات ب- الرغبات ج- الاثنين معا

أسئلة الدرس الثاني أنواع المنتجات

السؤال الأول : ضع علامة (✓) او علامة (x) :-

- ١- الألعاب تعتبر احتياجات . ()
٢- الطعام يعتبر احتياجات. ()
٣- الملابس تعتبر رغبات. ()
٤- نشتر من الصيدلية الطعام. ()
٥- نشتر من السوق الملابس. ()
٦- متجر بيع الكتب يبيع الكتب والمجلات. ()

السؤال الثاني : اختر الإجابة الصحيحة:-

- ١- نجده في متجر البقالة .
أ- الطعام
ب- الملابس
ج- الألعاب
- ٢- نجده في مكتبة بيع الكتب.
أ- الكتب
ب- الطعام
ج- أدوات النظافة الشخصية
- ٣- نجده في الصيدلية .
أ- الكتب
ب- الطعام
ج- أدوات النظافة الشخصية

أسئلة الدرس الثالث متاهة المواد

السؤال الأول : ضع علامة (✓) او علامة (x) :-

- ١- الكرسي الخشب مصدره هو القمح. ()
- ٢- ينتج من الطمي الاواني الفخارية. ()
- ٣- ينتج من القطن الملابس. ()

السؤال الثاني : اختر الإجابة الصحيحة:-

- ١- نصنع من القمح
أ- الكراسي
ب- الملابس
ج- الخبز
- ٢- ينتج من القطن
أ- الكراسي
ب- الملابس
ج- الخبز
- ٣- ينتج من الأشجار
أ- الكراسي الخشب
ب- الملابس
ج- الاواني الفخارية
- ٤- أول مرحلة لتنصيع الملابس هي
أ- زراعة القطن
ب- صناعة الملابس
ج- شراء الملابس

أسئلة الدرس الرابع التخلص من الملابس أم إعادة تدويرها

السؤال الأول : ضع علامة (✓) او علامة (x) :-

- ١- من الأفضل التخلص من الملابس القديمة برميها في سلة المهملات. ()
- ٢- من الأفضل إعادة تدوير الملابس القديمة. ()
- ٣- يمكنك التبرع بالملابس القديمة لشخص آخر. ()
- ٤- يفضل اصلاح الملابس القديمة . ()

السؤال الثاني : اختر الإجابة الصحيحة:-

- ١- يفضل الملابس القديمة.
أ- حرق
ب- رمي
ج- إعادة تدوير
- ٢- يمكن بالملابس القديمة لشخص آخر.
أ- التبرع
ب- بيع
ج- تمزيق

أسئلة الدرس الخامس التكنولوجيا وتصنيع القميص

السؤال الأول : ضع علامة (✓) او علامة (x) :-

- ١- يتم زراعة القطن في الحقول. ()
- ٢- جمع القطن يتم بالماكينات. ()
- ٣- نفصل بذور القطن بماكينة جمع القطن. ()
- ٤- نفصل بذور القطن بألة حلج القطن. ()

السؤال الثاني : اختر الإجابة الصحيحة:-

- ١- يتم زراعة القطن في
أ- الحقول
ب- المصانع
ج- المتاجر

- ٢- يتم جمع القطن بـ
- أ- الطائرات ب- ماكينات ج- الكمبيوتر
- ٣- نفصل بذور القطن بـ
- أ- ماكينة جمع القطن ب- آلة حطج القطن ج- آلة غزل القطن
- ٤- لتحويل القطن الى قماش يتم القطن.
- أ- غزل ونسيج ب- زراعة ج- فصل البذور

أسئلة الدرس السادس الأجهزة

السؤال الأول : ضع علامة (✓) او علامة (x) :-

- ١- تستخدم المروحة لتبريد الهواء. ()
- ٢- تستخدم الغسالة للحفاظ على الطعام. ()
- ٣- يستخدم البوتجاز لتسخين الطعام. ()
- ٤- تستخدم الغسالة لتنظيف الملابس. ()
- ٥- يستخدم الكمبيوتر للعثور على المعلومات. ()
- ٦- تستخدم الثلاجة للحفاظ على الطعام. ()
- ٧- تستخدم الثلاجة لتنظيف الملابس. ()

السؤال الثاني : اختر الإجابة الصحيحة:-

- ١- تستخدم لتبريد الهواء.
- أ- البوتجاز ب- المروحة ج- الثلاجة
- ٢- تستخدم للحفاظ على الطعام.
- أ- البوتجاز ب- المروحة ج- الثلاجة
- ٣- يستخدم لتسخين الطعام.
- أ- البوتجاز ب- المروحة ج- الثلاجة

- ٤- يستخدم للعثور على المعلومات.
 أ- البوتجاز ب- الكمبيوتر
 ج- الثلاجة
- ٥- تستخدم لتنظيف الملابس.
 أ- الغسالة ب- المروحة
 ج- الثلاجة

أسئلة الدرس السابع الحفاظ على المياه

السؤال الأول : ضع علامة (✓) او علامة (x) :-

- ١- يجب غلق الصنبور بعد الاستخدام. ()
 ٢- يجب ري النبات وقت الضرورة. ()
 ٣- يجب اصلاح تسريب المياه. ()

السؤال الثاني : اختر الإجابة الصحيحة:-

- ١- اتعهد بالحفاظ على في منزلي.
 أ- الوقت ب- المياه ج- الهواء
- ٢- يجب تسريبات المياه.
 أ- اصلاح ب- ترك ج- تجاهل

المحور ٣ : كيف يعمل العالم من حولي ؟

الفصل الثاني: كيفية القيام بالأعمال؟

أسئلة الدرس الأول في العمل

السؤال الأول : ضع علامة (✓) او علامة (x) :-

- ١- يقوم الجزار بتقطيع اللحوم باستخدام سكينه. ()
 ٢- يعمل الصراف في المخبز. ()
 ٣- يكتب الصراف المبالغ النقدية داخل الكمبيوتر. ()

- ٤- الخباز يعمل في البنك. ()
٥- يعمل الميكانيكي في ورشة السيارات. ()
٦- يستخدم الميكانيكي قمعا لتغيير الزيت ()

السؤال الثاني : اختر الإجابة الصحيحة:-

- ١- يعمل الجزار في
أ- محل بيع اللحول ب- البنك
ج- المخبز
- ٢- من أدوات الجزار
أ- السكينة ب- الفرن
ج- الكمبيوتر
- ٣- يستخدم الجزار لوزن اللحوم
أ- السكينة ب- الميزان
ج- الكمبيوتر
- ٤- يعمل في البنك
أ- الصراف ب- الجزار
ج- الخباز
- ٥- يكتب الصراف المبالغ النقدية داخل
أ- السكينة ب- الميزان
ج- الكمبيوتر
- ٦- الخباز يعمل في
أ- المخبز ب- البنك
ج- المخبز
- ٧- يضع الخباز الخبز في لتسويته.
أ- الفرن ب- الميزان
ج- الكمبيوتر
- ٨- يعمل في ورشة السيارات.
أ- الميكانيكي ب- الجزار
ج- الخباز
- ٩- يقوم الميكانيكي بتغيير إطار السيارات باستخدام
أ- مفتاح فك وتركيب ب- السكين
ج- الميزان

أسئلة الدرس الثاني أنواع وسائل المواصلات

السؤال الأول : ضع علامة (✓) او علامة (x) :-

- ١- تستخدم الطائرة لنقل الافراد. ()

٢- نستخدم الاتوبيس لنقل المنتجات. ()

السؤال الثاني : اختر الإجابة الصحيحة:-

١- تستخدم الشحانات الكبيرة لنقل

أ- الطلاب ب- الأفراد ج- المنتجات

نستخدم الاتوبيس لنقل

أ- اللحوم ب- الأفراد ج- المنتجات

أسئلة الدرس الثالث هل يجذب إلى المغناطيس؟

السؤال الأول : ضع علامة (✓) او علامة (x) :-

١- المغناطيس تنجذب إليه جميع الاجسام. ()

٢- توجد بعض الاجسام التي لا تنجذب للمغناطيس. ()

٣- تنجذب المسامير للمغناطيس. ()

٤- يجذب البلاستيك للمغناطيس. ()

٥- لا يجذب الخشب للمغناطيس. ()

٦- تستخدم البوصلة لتحديد الاتجاهات. ()

السؤال الثاني : اختر الإجابة الصحيحة:-

١- هو جسم تنجذب إليه المعادن فقط.

أ- المكنسة ب- الثلاجة ج- المغناطيس

٢- يجذب للمغناطيس.

أ- مشبك الورق ب- كرة بلاستيك ج- ورقة

٣- لا يجذب للمغناطيس.

أ- البلاستيك ب- المسمار ج- الدبوس

٤- أداة تستخدم لتحديد الاتجاهات.

أ- البوصلة ب- الثلاجة ج- الغسالة

أسئلة الدرس الرابع سائح ليوم واحد

السؤال الأول : ضع علامة (✓) او علامة (x) :-

- ١- يمكنك الذهاب للمخبز في الصباح. ()
- ٢- يمكن للسائح زرياء مدينتي ليوم واحد. ()
- ٣- يتناول السائح الطعام في متجر الهداية. ()

السؤال الثاني : اختر الإجابة الصحيحة:-

- ١- يتناول السائح الطعام في
أ- متجر الهداية ب- المدرسة ج- المطعم
- ٢- يصلح السائح سيارته في
أ- ورشة السيارات ب- المدرسة ج- المطعم

المحور ٣ : كيف يعمل العالم من حولي ؟

الفصل الثالث : البيع والشراء والادخار

أسئلة الدرس الأول النظام الغذائي اليومي

السؤال الأول : ضع علامة (✓) او علامة (x) :-

- ١- الطعام الصحي هو الذي يجب أن نتناوله يومياً. ()
- ٢- تعد الشكولاتة طعام صحي. ()

- ٣- تعد الفاكهة طعام غير صحي. ()
- ٤- يعد الفول من الطعام الصحي. ()
- ٥- تعد الحلويات من الطعام غير الصحي. ()

السؤال الثاني : اختر الإجابة الصحيحة:-

- ١- هو الذي يجب أن نتناوله يومياً..
- أ- الطعام الصحي ب- الطعام غير الصحي ج- المشروبات الغازية
- ٢- تعتبر طعام غير صحي.
- أ- المشروبات الغازية ب- الموز ج- الخضروات
- ٣- يعتبر طعام صحي.
- أ- المشروبات الغازية ب- الشكولاتة ج- الزبادي
- ٤- يعد طعام صحي .
- أ- الازر ب- الحلويات ج- الكيك

أسئلة الدرس الثاني نادية تتسوق

السؤال الأول : ضع علامة (✓) او علامة (x) :-

- ١- نشترى الخبز من الصيدلية. ()
- ٢- نشترى العسل من البقالة. ()
- ٣- نشترى الدواء من الصيدلية. ()
- ٤- نشترى الكتب من المكتبة . ()
- ٥- يعمل الصيدلي في الصيدلية. ()

السؤال الثاني : اختر الإجابة الصحيحة:-

- ١- نشترى الخبز من
 أ- الصيدلية ب- المخبز ج- المكتبة
- ٢- نشترى الكتب من
 أ- الصيدلية ب- المخبز ج- المكتبة
- ٣- نشترى الدواء من
 أ- الصيدلية ب- المخبز ج- المكتبة
- ٤- يعمل الخباز في
 أ- الصيدلية ب- المخبز ج- المكتبة
- ٥- يعمل الصيدلي في
 أ- الصيدلية ب- المخبز ج- المكتبة

الدرس ٣ : هيا نتسوق مع نادية



- ضع دائرة حول المنتج الأعلى تكلفة.
- ارسم مثلثا حول المنتج الأقل تكلفة.
- اختر منتجين لتشتريهما. أكمل الجمل.

جنية
٩جنية
٥جنية
٥جنية
٥٠جنية
٧جنية
٤٠

سأشتري ١ :

سأشتري ٢ :

السعر :	السعر :
---------------	---------------

سعر المنتج الأول	+	سعر المنتج الثاني	=	الإجمالي
.....	+	=

أحتاج إلى جنيهات لشراء هذه المنتجات.

المحور ٤ : التواصل
الفصل الأول : التواصل بلغة الأرقام

أسئلة الدرس الأول قائمة الأرقام

السؤال الأول : ضع علامة (✓) او علامة (x) :-

- ١- ٣ كجم هو وزن الفاكهة. ()
- ٢- ١٠ ج تعبر عن وزن المنتج. ()
- ٣- ٩٠م هي درجة الحرارة. ()

السؤال الثاني : اختر الإجابة الصحيحة:-

- ١- هو سعر المنتج .
أ- ٢ كجم ب- 3:00 ج- ١٠ ج
- ٢- هو سعر المنتج .
أ- ٢ كجم ب- 3:00 ج- ١٠ ج

الدرس ٢ : الفاكهة المفضلة



- استخدم معلومات الاستطلاع للإجابة عن الأسئلة.
- سيتناول التلاميذ فاكهة كوجبة خفيفة.
- يطلب المعلم من التلاميذ اختيار فاكهة مفضلة.

الفاكهة	العدد
برتقال	
تين	
عنب	
بطيخ	
مانجو	

.....	كم عدد التلاميذ الذين يفضلون البرتقال؟
.....	كم عدد التلاميذ الذين يفضلون التين؟
.....	كم عدد التلاميذ الذين يفضلون العنب؟
.....	كم عدد التلاميذ الذين يفضلون البطيخ؟
.....	كم عدد التلاميذ الذين يفضلون المانجو؟
.....	ما الفاكهة المفضلة لمعظم التلاميذ؟

سيشتري المعلم نوعين من الفاكهة. ما الذي يجب أن يشتريه المعلم؟

النوع الأول هو	النوع الثاني هو
----------------------	-----------------------

أسئلة الدرس الثالث الفاكهة المفضلة

السؤال الأول : ضع علامة (✓) او علامة (x) :-

- ١- استخدم المصريون عداد الأرقام منذ ٤٠٠٠ عام تقريبا. ()
- ٢- تم اختراع الآلة الحاسبة بسكالين منذ أكثر من ٣٠٠ عام. ()
- ٣- آلة الحاسبة الالكترونية تستخدم حالياً. ()

السؤال الثاني : اختر الإجابة الصحيحة:-

- ١- هي آلة حاسبة تستخدم حالياً.
- أ- اباكيس ب- بسكالين ج- الآلة الحاسبة
- ٢- استخدم المصريون منذ ٤٠٠٠ عام تقريبا.
- أ- اباكيس ب- بسكالين ج- آلة الجمع
- ٣- هي آلة حاسبة ميكانيكية.
- أ- اباكيس ب- بسكالين ج- آلة الجمع الميكانيكية

المحور ٤ : التواصل

الفصل الثاني : التواصل من خلال الفن

أسئلة الدرس الأول تقليد الحركات

صل صورة حركة الطفل بالكرة بالكلمة المناسبة

للخلف	للأمام	لأسفل	لأعلى
-------	--------	-------	-------



أسئلة الدرس الثالث مجسمات الطيور

انظر الى مجسمات القطط التالية وصل كل مجسم بكل نوع مصنوع منه؟

مصنوع من	مجسم القطة
----------	------------

الخشب



القماش



المعدن



البلاستيك



الورق




الدرس ٤ : الأقنعة

- صمم القناع المفضل لديك :




٢

لون الرسم



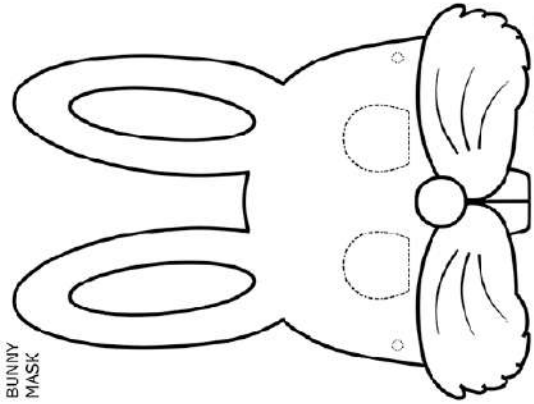
٤

احضر عدد ٢ استيك وركبهم



١

ارسم القناع على ورقة




٣

فرغ القناع



BUNNY
MASK
(Blue)



copyright 2010 www.firstpalette.com

أسئلة الدرس الخامس سيناريو التسوق

السؤال الأول : ضع علامة (✓) او علامة (x) :-

- ١- يساعد عامل المتجر المتسوق. ()
- ٢- يسلمنا عامل المتجر ما نشتره . ()
- ٣- يمكن صناعة المجسمات من المعدن. ()
- ٤- يمكن صناعة قناع على شكل قطة. ()

السؤال الثاني : اختر الإجابة الصحيحة:-

- ١- يساعدنا في التسوق داخل المتجر.
- أ- عامل المتجر ب- الطبيب ج- الفنان
- ٢- نذهب الى لشراء الطعام.
- أ- المتجر ب- الصيدلية ج- المكتبة
- ٣- نسلم المال عند الشراء من المتجر لـ
- أ- عامل المتجر ب- السائق ج- الطيار