

الصف
الخامس
الابتدائي
٢٠٢٤

بنك أسئلة

التميز

أ / محمود سعيد



بنك أسئلة المتميز

الدراسات الاجتماعية

علي مقررات مارس

اعداد

د / اسلام عطية أ / محي الدين سمير

5
الصف
الخامس

نسخة
مجانية

ملحق الإجابات
بالداخل



El.Motamez.School



يمكنكم الحصول على المذكرات والاختبارات من خلال مسح رمز ال QR Code
أو من خلال صفحة "التميز - أ / محمود سعيد".
يرجى مراعاة حقوق صاحب المحتوى عند النشر.



بنك أسئلة الترميز علي مقررات شهر مارس

تشمل اسئلة الوزارة واختبارات المحافظات

اختر الاجابة الصحيحة

السؤال الأول

أهم الحروب التي خاضتها مصر في العصر الحديث.....

- ١ (أ) قادش (ب) مجدو (ج) أكتوبر (د) حطين

عقد الملك رمسيس الثاني أقدم معاهدة سلام مع.....

- ٢ (أ) الفينيقيين (ب) اللبيين (ج) الحيثيين (د) اليونانيين

أشهر المعارك التي خاضها الملك تحتمس الثالث معركة.....

- ٣ (أ) قادش (ب) حطين (ج) مجدو (د) عين جالوت

وقعت معركة مجدو في دولة تسمى حالياً.....

- ٤ (أ) الأردن (ب) مصر (ج) فلسطين (د) لبنان

قائد حرب 6 أكتوبر 1973م الرئيس الراحل.....

- ٥ (أ) محمد أنور السادات (ب) محمد حسني مبارك (ج) اجمال عبد الناصر (د) محمد نجيب

تعرضت مصر لغزو الهكسوس في عصر.....

- ٦ (أ) الدولة القديمة (ب) الضعف الثاني (ج) الضعف الأول (د) الدولة الحديثة

تعرضت مصر لهجمات بعض القبائل خلال عصر الأسرة الثالثة فتصدي لها الملك.....

- ٧ (أ) زوسر (ب) مينا (ج) خوفو (د) سنفرو

مدينة اتخذها البطالمة عاصمة لهم.....

- ٨ (أ) بلبيس (ب) العريش (ج) الإسكندرية (د) الفرما

تنسب منارة الإسكندرية إلي عصر.....

- ٩ (أ) البطالمة (ب) الرومان (ج) الفرس (د) الهكسوس

أدخل البطالمة آلات زراعية جديدة لمصر منها.....

- ١٠ (أ) الفأس (ب) المنجل (ج) الساقية (د) المذراة

أحد الإنجازات الثقافية للبطالمة في مصر هو بناء مكتبة وجامعة.....

- ١١ (أ) أون (ب) روما (ج) قرطبة (د) الإسكندرية

مؤسس دولة البطالمة في مصر.....

- ١٢ (أ) الإسكندر الأكبر (ب) بطليموس الثالث (ج) بطليموس الأول (د) كليوباترا السابعة



١٣

أحد أهم المعابد التي تم تشييدها في فترة الحكم البطلمي لمصر هو معبد

١ كوم أمبو ٢ رأس السوداء ٣ الدير البحري ٤ الإله آمون

١٤

أدخل البطالمة محاصيل جديدة لمصر منها محصول

١ القمح ٢ الشعير ٣ الرومان ٤ الزيتون

١٥

إحدى الآثار التي تعبر عن براعة المصريين في نحت التماثيل

١ لوحة نعرمر ٢ أبو الهول ٣ معبد إيزيس ٤ اللوحات الجدارية

١٦

كانت مخازن الحبوب في مصر القديمة توجد في منزل

١ صغار الموظفين ٢ حكام الأقاليم ٣ عمال الزراعة ٤ عمال الصناعة

١٧

بني المصري القديم المعابد الجنائزية و منها معبد

١ حتشبسوت ٢ الأقصر ٣ الكرنك ٤ إدفو

١٨

أحد المعابد التي كان يقام بها الطقوس اليومية للآلهة هو معبد

١ الدير البحري ٢ الأقصر ٣ أمنحتب الثالث ٤ الرامسيوم

١٩

" منزل بسيط يتكون من طابق أو طابقين " ينطبق هذا الوصف علي منزل

١ كبار الكهنة ٢ حكام الأقاليم ٣ الوزراء ٤ العمال

٢٠

بنيت المسلات لتسجيل أعمال

١ الملك ٢ الوزير ٣ الكاهن ٤ الكاتب

٢١

أي مما يلي يعد دليلا علي براعة المصري في العمارة و الفن حديثا؟

١ أهرامات الجيزة ٢ تمثال أبي الهول ٣ مسلة حتشبسوت ٤ البرج الأيقوني

٢٢

بناء أهرامات الجيزة يدل علي براعة المصريين القدماء في علم

١ الأدب ٢ الطب ٣ الهندسة ٤ التشريح

٢٣

وضع المصريين القدماء للتقويم الشمسي يدل علي براعتهم في علم

١ الفلك ٢ الطب ٣ الهندسة ٤ التشريح

٢٤

سجل المصريون القدماء رواتب الجنود، لأنهم برعوا في علم

١ الهندسة ٢ التاريخ ٣ الأدب ٤ الحساب

٢٥

تمكن المصريون القدماء من تخطيط المدن نتيجة لبراعتهم في

١ الطب ٢ الهندسة ٣ الفلك ٤ الأدب

٢٦

عرف المصريون القدماء مواقع كثير من الكواكب و النجوم نتيجة لبراعتهم في

١ الطب ٢ الفلك ٣ الهندسة ٤ الحساب

٢٧

استطاع المصريون القدماء تحديد قيمة الضرائب بفضل براعتهم في علم

١ الحساب ٢ الطب ٣ الفلك ٤ الهندسة

٢٨

استطاع المصريون القدماء حساب مساحة الأرض الزراعية بفضل براعتهم في علم

١ الهندسة ٢ الحساب ٣ الفلك ٤ الطب



- ٣٩ في عصر الدولة تعرضت مصر لهجوم قبائلي علي حدودها الشمالية.
- أ الحديثة ب الوسطي ج القديمة د المعاصرة
- ٣٠ مؤسس الدولة الحديثة و طارد الهكسوس هو الملك.....
- أ خوفو ب كامس ج سقن رع د أحمس
- ٣١ أشهر معارك الملك تحتمس الثالث معركة.....
- أ اليرموك ب التل الكبير ج مجدو د قادش
- ٣٢ معركة قادها الملك رمسيس الثاني و انتهت باتفاقية السلام.....
- أ مجدو ب قادش ج عين جالوت د اليرموك
- ٣٣ أول معاهدة سلام في التاريخ وقعها الملك.....
- أ رمسيس الأول ب رمسيس الثاني ج رمسيس الثالث د تحتمس الثالث
- ٣٤ تعرضت مصر لهجوم بعض القبائل علي حدودها الشمالية الشرقية في بداية الأسرة.....
- أ الثانية ب الثالثة ج الرابعة د الخامسة
- ٣٥ من أقدم الأديرة في مصر هو دير الأنبا..... بمحافظة البحر الأحمر.
- أ بيشوى ب أنطونيوس ج سمعان د نجوم
- ٣٦ كان حكم بطليموس الأول لمصر بداية للعصر.....
- أ الفرعوني ب البطلمي ج الروماني د الأيوبي
- ٣٧ كان البطالمة يحكمون مصر حكما.....
- أ مطلقا ب برلمانيا ج قبليا د انتخابيا
- ٣٨ الملكة كيلوبترا السابعة هي آخر ملوك.....
- أ الرومان ب البطالمة ج الفراعنة د الإخشيد
- ٣٩ دخلت المسيحية مصر علي يد القديس في منتصف القرن الأول الميلادي.
- أ يوليوس ب بولس ج مرقس د أنطونيوس
- ٤٠ الكتابة..... كانت تعد الخط الرئيسي للدولة في مصر القديمة
- أ الهيروغليفية ب الديموطيقية ج الهيراطيقية د القبطية
- ٤١ استكمل بطليموس الأول بناء مدينة.....
- أ الإسكندرية ب الجيزة ج الفيوم د القاهرة
- ٤٢ تنسب منارة الإسكندرية القديمة إلي عصر.....
- أ الرومان ب البطالمة ج الفرس د الهكسوس
- ٤٣ بني المصري القديم لأغراض دينية.
- أ الحصون ب المعابد ج الأهرامات د القصور



- ٤٤) ساعد علي حفظ رسوم و نقوش المصريين القدماء حتي وقتنا الحالي.....
- ٤٥) بني المصري القديم معابد جنائزية منها معبد.....
- ٤٦) يقع حصن بوهين علي الحدود المصرية.....
- ١) موقع مصر ٢) موارد مصر ٣) مناخ مصر ٤) تضاريس مصر
- ١) حتشبسوت ٢) الأقصر ٣) الكرنك ٤) إدفو
- ١) الجنوبية ٢) الشرقية ٣) الشمالية ٤) الغربية

ضع علامة صح او خطأ امام العبارات التالية

السؤال الثاني

- ١) يعد الجيش المصري من أقدم جيوش العالم. ()
- ٢) تعرضت مصر لغزو الهكسوس في عصر الضعف الأول. ()
- ٣) استطاع الملك سقن رع طرد الهكسوس من مصر. ()
- ٤) استطاع الملك تحتمس الثالث الانتصار في معركة قادش. ()
- ٥) دمر الجيش المصري خط بارليف في 6 ساعات. ()
- ٦) يطلق لقب بطل التحرير علي الملك تحتمس الثالث. ()
- ٧) وقعت معركة قادش ضد الحيثيين في دولة فلسطين حالياً. ()
- ٨) الملك رمسيس الثاني هو صاحب أقدم معاهدة سلام في التاريخ. ()
- ٩) أهمل البطالمة النشاط التجاري في بداية حكمهم. ()
- ١٠) زار الإسكندر الأكبر معبد الإله رع بواحة سيوة. ()
- ١١) ازدهرت صناعة الزيوت و المنسوجات في عصر البطالمة. ()
- ١٢) استغل الرومان أرض مصر لزراعة محصول الأرز. ()
- ١٣) أنشأ الرومان معبد رأس السوداء في محافظة القاهرة. ()
- ١٤) عانى المصريون من ظلم الرومان. ()
- ١٥) حكم خلفاء الإسكندر الأكبر مصر حوالي خمس قرون. ()
- ١٦) كان نظام الحكم الروماني في مصر قائماً علي الديمقراطية. ()
- ١٧) يمثل هرم زوسر المرحلة الثانية لبناء المقابر قديماً. ()
- ١٨) تميزت منازل العمال بمصر القديمة بالفخامة و الاتساع. ()
- ١٩) المعابد الجنائزية تقام بها الطقوس اليومية للآلهة. ()
- ٢٠) اعتمدت فنون العمارة في مصر القديمة علي الموارد الطبيعية. ()



- () ٢١ تميزت رسومات المصري القديم بالدقة والإبداع
- () ٢٢ بني المصري القديم المقابر من الطوب اللبن للحفاظ علي جسد المتوفي.
- () ٢٣ يقع مركز مصر الثقافي الإسلامي في العاصمة الإدارية الجديدة.
- () ٢٤ ساعدنا تسجيل الكاتب المصري للأحداث علي معرفة نواحي الحياة المصرية القديمة.
- () ٢٥ استخدم المصري القديم أدوات طبية تشبه أدوات عصرنا الحالي.
- () ٢٦ قصة سنوحي إحدى أنواع أدب المديح.
- () ٢٧ عرف المصريون القدماء الجمع و الطرح و القسمة.
- () ٢٨ استخدم المصريون القدماء نوعا واحدا من الكتابة و هي الهيروغليفية.
- () ٢٩ استطاع المصري القديم حفظ جسد الميت نتيجة براعته في علم الهندسة.
- () ٣٠ يتضمن الأدب القصصي قصصا حقيقية و خيالية تعكس حياة المصريين القدماء.
- () ٣١ كانت وظيفة الكاتب المصري القديم تساعد علي الوصول للمناصب العليا بالدولة.
- () ٣٢ اكتشف المصريون القدماء الكثير من الأمراض و الوصفات الطبية المناسبة لعلاجها.
- () ٣٣ استفاد المصريون القدماء من علم الهندسة في حساب مساحة الأرض الزراعية.
- () ٣٤ لعب العلم و العلماء دور مهم في بناء الحضارة المصرية القديمة
- () ٣٥ يعكس الأدب التهذيبي حياة المصريين القدماء من الناحية السياسية و الاقتصادية.
- () ٣٦ عرف المصريون القدماء التخصصات الطبية مثل العيون و الأسنان و الجراحة.
- () ٣٧ مسلة حتشبسوت من أشهر المسلات الموجودة في معبد آمون.
- () ٣٨ أشهر الحصون التي لدى المصريين القدماء كان حصن بوهين علي الحدود الشرقية.
- () ٣٩ توصل العلم الحديث إلي كيفية بناء الهرم الأكبر
- () ٤٠ يمثل هرم زوسر المرحلة الثانية في بناء المقابر المصرية القديمة.
- () ٤١ بدأت المرحلة الأولى لبناء الأهرامات قديما من عدة مصاطب.
- () ٤٢ بني المصريون القدماء المقابر من الطوب اللبن.
- () ٤٣ اعتمدت فنون العمارة في مصر الفرعونية علي الموارد الطبيعية لمصر.
- () ٤٤ كانت منازل العمال قديما ملحقة بمخازن الحبوب.
- () ٤٥ اشترك المصريين في حكم بلادهم أثناء حكم البطالمة والرومان
- () ٤٦ اهتم البطالمة بالتجارة فأنشئوا منارة الإسكندرية لإرشاد السفن.
- () ٤٧ خضعت مصر لإشراف الإمبراطور الروماني بشكل مباشر.



- () من أشهر المعارك التي خاضها الملك تحتمس الثالث معركة مجدو. (٤٨)
- () تتضمن بانوراما حرب أكتوبر لوحات جدارية تحكي بطولات الجيش و الشعب المصري. (٤٩)
- () قسم المصري القديم اليوم إلي 12 ساعة ليلا و 12 ساعة نهارا. (٥٠)

أكمل العبارات التالية بالاجابة المناسبة

السؤال الثالث

١

(نهر النيل - القصصي - الكرنك - الحساب - المستطيل)

- أسطورة الملاح الغريق تعد أحد أنواع الأدب..... (١)
- عرف المصريون القدماء الأشكال الهندسية كالمربع و..... (٢)
- استطاع المصري القديم تحديد قيمة الضرائب لأنه برع في علم..... (٣)
- توجد مسلة للملكة حتشبسوت في معابد..... (٤)
- بني المصري القديم المقابر غرب..... (٥)

٢

(الهكسوس - كليوباترا السابعة - المعابد والمقابر - الروماني - اكتيوم البحرية)

- برع المصريون القدماء في الرسم و النقش علي جدران..... (١)
- انتصر الرومان علي البطالمة عام 31 ق.م في معركة..... (٢)
- يرجع معبد رأس السوداء إلي العصر..... (٣)
- آخر ملوك دولة البطالمة في مصر هي الملكة..... (٤)
- استطاع الملك أحمس تحرير مصر من..... (٥)

٣

(النوبية - الحيثيين - الهكسوس - محمد أنور السادات - إياح حتب)

- أدت صراعات حكام الدولة الوسطى إلي تعرض مصر لغزو..... (١)
- انتصر الملك أحمس علي الهكسوس بتشجيع من والدته الملكة..... (٢)
- خاض الملك رمسيس الثاني أكبر المعارك ضد..... (٣)
- استخدم الجيش المصري اللغة..... كشفرة أثناء حرب أكتوبر 1973م. (٤)
- أحد أبرز القادة العسكريين في مصر الحديثة هو..... (٥)



٤

(الإسلامي - بارليف - سيناء - الهكسوس - القمح)

- استعادت مصر أرض.....بموجب اتفاقية السلام1979م.
 قام الجيش المصري بتدمير خط.....و هزيمة الجيش الإسرائيلي في حرب أكتوبر1973م.
 أدت صراعات الحكام في الدولة الوسطي إلي دخول.....مصر.
 كانت مصر أثناء الحكم الروماني أكبر مصدر لإنتاج.....في العالم.
 رحب المصريون بالفتح.....للتخلص من اضطهاد الرومان لهم.

 ١
 ٢
 ٣
 ٤
 ٥

٥

(الهيرايقية - أني - حكام الأقاليم - الشهداء - بتاح حتب - مسلة حنشبسوت - الديموطيقية)

- سمي عصر الإمبراطور دقلديانوس بعصر.....
 تعد المسلات علامة بارزة في الفن المعماري المصري القديم و من أشهرها.....
 منزل متعدد الحجرات و به مخازن للحبوب. هذا الوصف لمنزل.....
 أشهر الحكماء في مصر القديمة.....و.....
 استخدم رجال الدين في مصر الفرعونية الكتابة.....بينما أفراد الشعب استخدموا
 الكتابة.....

 ١
 ٢
 ٣
 ٤
 ٥

اكتب ما تشير إليه العبارات التالية

السؤال الرابع

- ١ قاد الحرب ضد العدو الإسرائيلي في أكتوبر 1973م.
 ٢ نجح في صد الهجمات علي شبه جزيرة سيناء في عصر الدولة القديمة.
 ٣ خاض 16 حملة عسكرية لتأمين حدود مصر، و انتصر في معركة مجدو.
 ٤ قاد أمراء آسيا في معركة مجدو.
 ٥ قائد يوناني سيطر علي مصر لتوسيع إمبراطوريته.
 ٦ مؤسس دولة البطالمة في مصر.
 ٧ ضعفت دولة البطالمة في مصر بعد وفاته.
 ٨ آخر ملوك البطالمة في مصر.
 ٩ معابد أنشئت لتقام فيها طقوس الجنازة للملك.
 ١٠ معابد أنشئت لتقام فيها الطقوس اليومية للآلهة.
 ١١ من أشهر التماثيل المنحوتة في منطقة الأهرامات
 ١٢ هرم مدرج مكون من عدة مصاطب.

 ١
 ٢
 ٣
 ٤
 ٥
 ٦
 ٧
 ٨
 ٩
 ١٠
 ١١
 ١٢


- () ١٣ تقسيم اليوم إلى 24 ساعة متساوية.
- () ١٤ تقدير مساحة الأرض الزراعية.
- () ١٥ معرفة تخصصات مختلفة مثل العيون والأسنان.
- () ١٦ قصة سنوحي و أسطورة الملاح الغريق.
- () ١٧ تقويم مصري قديم قسم السنة إلى 365 يوما مقسمة علي 12 شهرا.
- () ١٨ أدب يتناول الحياة بعد الموت و عقيدة البعث و الخلود.
- () ١٩ أدب ركز علي تمجيد أعمال الملك.
- () ٢٠ أدب يتناول الحكم و النصائح التي يوجهها الملك لابنه أو أحد الحكماء لتلاميذه.
- () ٢١ مباني الهدف منها حماية البلاد و الدفاع عنها.
- () ٢٢ شجعت ابنها علي حربه ضد الهكسوس
- () ٢٣ أدخل المسيحية إلى مصر.
- () ٢٤ إمبراطور أطلق علي عهده عصر الشهداء.
- () ٢٥ قام بحماية أرض سيناء من القبائل التي هجمت علي حدود مصر الشمالية الشرقية.

أجب عن الاسئلة الآتية

السؤال الخامس

- ١ بم تفسر: استطاع المصريون القدماء تحديد قيمة الضرائب؟
.....
- ٢ ما النتائج المترتبة علي: براعة المصريين القدماء في علم الحساب؟
.....
- ٣ ما العلاقة بين: تعامد الشمس علي وجه الملك رمسيس الثاني في معبده- العلوم عند المصريين القدماء؟
.....
- ٤ دلل: براعة المصريين القدماء في الطب.
.....
- ٥ بم تفسر: بناء المصريين القدماء مقابرهم غرب النيل؟
.....
- ٦ دلل: لم تكن أشكال المنازل عند المصريين القدماء متماثلة.
.....
- ٧ قارن بين: قصر الملك - منازل حكام الأقاليم.
• قصر الملك :
• منازل حكام الأقاليم.



٨ ما العلاقة بين: الهرم الأكبر - تطوير بناء المقابر؟

.....

٩ بم تفسر: زيارة الإسكندر الأكبر لمعبد الإله آمون في واحة سيوة؟

.....

١٠ دلل: استغلت روما الأراضي الزراعية في مصر قديما.

.....

١١ ما النتائج المترتبة علي: ظهور المسيحية في مصر؟

.....

١٢ قارن بين الحياة الثقافية في مصر أثناء حكم البطالمة - و في أثناء حكم الرومان.

.....

١٣ بم تفسر: تنظيم و تسليح الجيش المصري في عهد الملك زوسر؟

.....

١٤ ما النتائج المترتبة علي: الخطة العبقورية التي نفذها الملك تحتمس الثالث في معركة مجدو؟

.....

١٥ دلل: سعت مصر منذ القدم إلي تحقيق السلام.

.....

١٦ ماذا يحدث إذا: لم ينجح الملك أحمس في طرد الهكسوس من مصر؟

.....

١٧ ما النتائج علي: معاهدة السلام بين رمسيس الثاني و ملك الحيثيين؟

.....

١٨ دلل: كان للملكة إياح حتب دور في حرب التحرير.

.....

١٩ بم تفسر: اعتناق المصريين للديانة المسيحية؟

.....

٢٠ اكتب دما النتائج المترتبة علي: وفاة الإسكندر الأكبر عام 323 ق.م؟

.....

٢١ دلل: اهتمام البطالمة بالزراعة في مصر.

.....



٢٢ دلل: زاد اهتمام البطالمة بالعلوم الثقافية في مصر.

٢٢

٢٣ بم تفسر: بناء المصريين القدماء المقابر من الحجر؟

٢٣

٢٤ دلل: أهمية الرسوم و النقوش التي خلفتها الحضارة المصرية القديمة.

٢٤

٢٥ بم تفسر: تعامد الشمس علي وجه الملك رمسيس الثاني مرتين في العام؟

٢٥

٢٦ دلل: ابتكر المصريون القدماء العديد من الأشياء التي ساعدتها علي معرفة الوقت.

٢٦

٢٧ ما العلاقة بين: تقدم المصريين القدماء في علوم الفلك و الهندسة و بناء الأهرامات و المعابد؟

٢٧

٢٨ ما النتائج المترتبة علي: براعة المصريين القدماء في تشريح جثث موتاهم؟

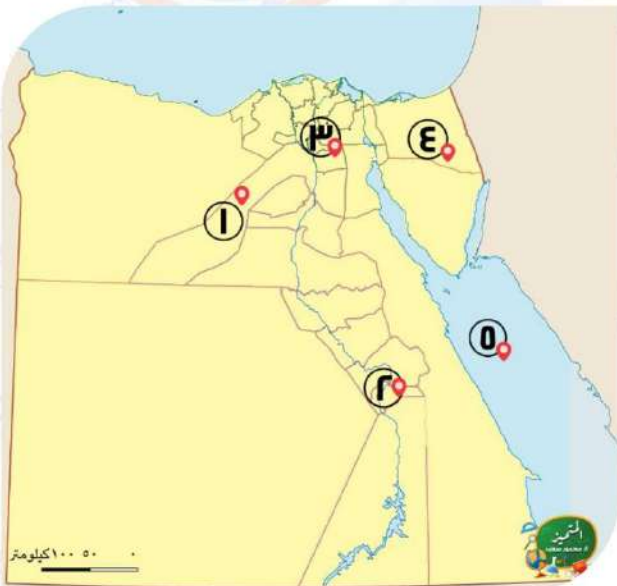
٢٨

٢٩ قارن بين: الكتابة الهيروغليفية و الكتابة الهيراطيقية.

٢٩

أكتب مدلول الأرقام علي الخريطة

السؤال السادس



١ محافظة يقع بها تمثال أبو

١

الهول.....

٢ محافظة يقع بها مسلة الملكة

٢

حتشبسوت.....

٣ محافظة بها متحف بانوراما حرب

٣

أكتوبر.....

٤ منطقة أستعادتها مصر بعد معاهدة السلام مع

٤

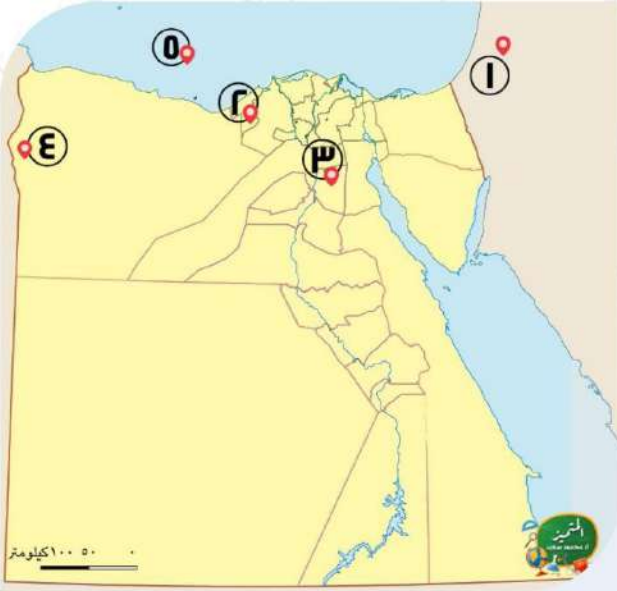
اسرائيل.....

٥ البحر.....

٥



٢



١ دولة وقعت بها معركة مجدو.....

٢ أحد آثار البطلمة في الإسكندرية لإرشاد

السفن.....

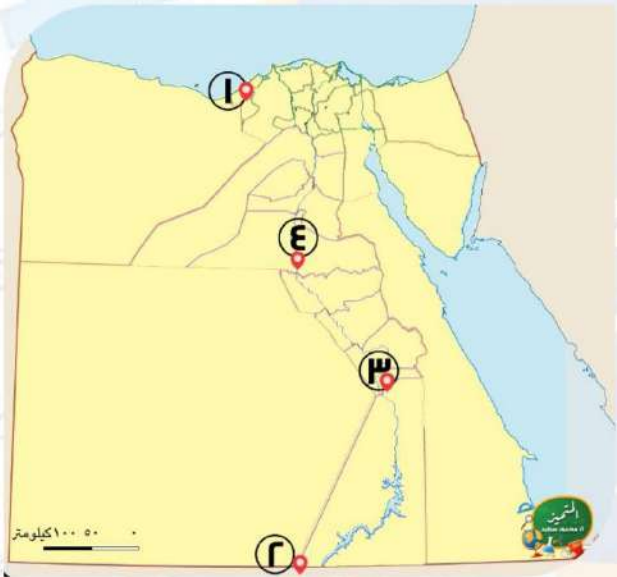
٣ أحد الحصون التي بناها

الرومان.....

٤ معبد زاره الإسكندر الأكبر

٥ البحر

٣



١ مدينة استكمل بطلميوس الأول

بناؤها.....

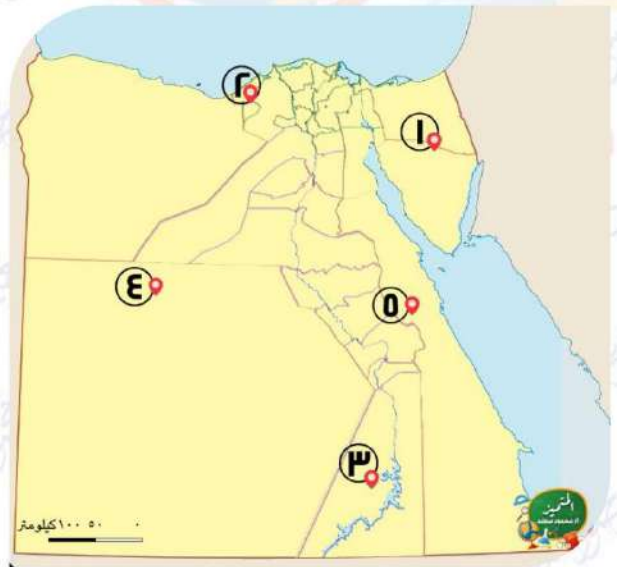
٢ أحد الحصون الجنوبية

القديمة.....

٣ أحد المعابد الجنائزية.....

٤ نهر

٤



١ إحدى حروب الجيش المصري الحديثة قامت على

هذه الأرض.....

٢ محافظة بها أشهر مكتبة قديماً

وحديثاً.....

٣ معبد بناه الملك رمسيس الثاني.....

٤ الصحراء.....

٥ محافظة بها أقدم الأديرة المسيحية

.....

انتهت الأسئلة مع أطيب الامنيات بالنجاح والتوفيق



الصف
الخامس
الابتدائي
٢٠٢٤

بنك اسئلة

التميز

أ / محمود سعيد



الاجابات النموذجية لبنك الأسئلة

الدراسات الاجتماعية

علي مقررات مارس

اعداد

د / اسلام عطية أ / محي الدين سمير



El.Motamyez.School



يمكنكم الحصول على المذكرات والاختبارات من خلال مسح رمز ال QR Code او من خلال صفحة "التميز - أ / محمود سعيد".
يرجى مراعاة حقوق صاحب المحتوى عند النشر.



بنك أسئلة الترميز علي مقررات شهر مارس

تشمل اسئلة الوزارة واختبارات المحافظات

اختر الاجابة الصحيحة

السؤال الأول

أهم الحروب التي خاضتها مصر في العصر الحديث.....

- ١ (أ) قادش (ب) مجدو (ج) أكتوبر (د) حطين

عقد الملك رمسيس الثاني أقدم معاهدة سلام مع.....

- ٢ (أ) الفينيقيين (ب) اللبيين (ج) الحيثيين (د) اليونانيين

أشهر المعارك التي خاضها الملك تحتمس الثالث معركة.....

- ٣ (أ) قادش (ب) حطين (ج) مجدو (د) عين جالوت

وقعت معركة مجدو في دولة تسمى حالياً.....

- ٤ (أ) الأردن (ب) مصر (ج) فلسطين (د) لبنان

قائد حرب 6 أكتوبر 1973م الرئيس الراحل.....

- ٥ (أ) محمد أنور السادات (ب) محمد حسني مبارك (ج) اجمال عبد الناصر (د) محمد نجيب

تعرضت مصر لغزو الهكسوس في عصر.....

- ٦ (أ) الدولة القديمة (ب) الضعف الثاني (ج) الضعف الأول (د) الدولة الحديثة

تعرضت مصر لهجمات بعض القبائل خلال عصر الأسرة الثالثة فتصدي لها الملك.....

- ٧ (أ) زوسر (ب) مينا (ج) خوفو (د) سنفرو

مدينة اتخذها البطالمة عاصمة لهم.....

- ٨ (أ) بلبيس (ب) العريش (ج) الإسكندرية (د) الفرما

تنسب منارة الإسكندرية إلي عصر.....

- ٩ (أ) البطالمة (ب) الرومان (ج) الفرس (د) الهكسوس

أدخل البطالمة آلات زراعية جديدة لمصر منها.....

- ١٠ (أ) الفأس (ب) المنجل (ج) الساقية (د) المذراة

أحد الإنجازات الثقافية للبطالمة في مصر هو بناء مكتبة وجامعة.....

- ١١ (أ) أون (ب) روما (ج) قرطبة (د) الإسكندرية

مؤسس دولة البطالمة في مصر.....

- ١٢ (أ) الإسكندر الأكبر (ب) بطليموس الثالث (ج) بطليموس الأول (د) كليوباترا السابعة



١٣

أحد أهم المعابد التي تم تشييدها في فترة الحكم البطلمي لمصر هو معبد

أ. كوم أمبو ب. رأس السوداء ج. الدير البحري د. الإله آمون

١٤

أدخل البطالمة محاصيل جديدة لمصر منها محصول

أ. القمح ب. الشعير ج. الرومان د. الزيتون

١٥

إحدى الآثار التي تعبر عن براعة المصريين في نحت التماثيل

أ. لوحة نعمر ب. أبو الهول ج. معبد إيزيس د. اللوحات الجدارية

١٦

كانت مخازن الحبوب في مصر القديمة توجد في منزل

أ. صغار الموظفين ب. حكام الأقاليم ج. عمال الزراعة د. عمال الصناعة

١٧

بني المصري القديم المعابد الجنائزية و منها معبد

أ. حتشبسوت ب. الأقصر ج. الكرنك د. إدفو

١٨

أحد المعابد التي كان يقام بها الطقوس اليومية للآلهة هو معبد

أ. الدير البحري ب. الأقصر ج. أمنحتب الثالث د. الرامسيوم

١٩

" منزل بسيط يتكون من طابق أو طابقين " ينطبق هذا الوصف علي منزل

أ. كبار الكهنة ب. حكام الأقاليم ج. الوزراء د. العمال

٢٠

بنيت المسلات لتسجيل أعمال

أ. الملك ب. الوزير ج. الكاهن د. الكاتب

٢١

أي مما يلي يعد دليلا علي براعة المصري في العمارة و الفن حديثا؟

أ. أهرامات الجيزة ب. تمثال أبي الهول ج. مسلة حتشبسوت د. البرج الأيقوني

٢٢

بناء أهرامات الجيزة يدل علي براعة المصريين القدماء في علم

أ. الأدب ب. الطب ج. الهندسة د. التشريح

٢٣

وضع المصريين القدماء للتقويم الشمسي يدل علي براعتهم في علم

أ. الفلك ب. الطب ج. الهندسة د. التشريح

٢٤

سجل المصريون القدماء رواتب الجنود، لأنهم برعوا في علم

أ. الهندسة ب. التاريخ ج. الأدب د. الحساب

٢٥

تمكن المصريون القدماء من تخطيط المدن نتيجة لبراعتهم في

أ. الطب ب. الهندسة ج. الفلك د. الأدب

٢٦

عرف المصريون القدماء مواقع كثير من الكواكب و النجوم نتيجة لبراعتهم في

أ. الطب ب. الفلك ج. الهندسة د. الحساب

٢٧

استطاع المصريون القدماء تحديد قيمة الضرائب بفضل براعتهم في علم

أ. الحساب ب. الطب ج. الفلك د. الهندسة

٢٨

استطاع المصريون القدماء حساب مساحة الأرض الزراعية بفضل براعتهم في علم

أ. الهندسة ب. الحساب ج. الفلك د. الطب



- ٣٩ في عصر الدولة تعرضت مصر لهجوم قبائلي علي حدودها الشمالية.
 (أ) الحديثة (ب) الوسطى (ج) القديمة (د) المعاصرة
- ٣٠ مؤسس الدولة الحديثة و طارد الهكسوس هو الملك.....
 (أ) خوفو (ب) كامس (ج) سقن رع (د) أحمس
- ٣١ أشهر معارك الملك تحتمس الثالث معركة.....
 (أ) اليرموك (ب) التل الكبير (ج) مجدو (د) قادش
- ٣٢ معركة قادها الملك رمسيس الثاني و انتهت باتفاقية السلام.....
 (أ) مجدو (ب) قادش (ج) عين جالوت (د) اليرموك
- ٣٣ أول معاهدة سلام في التاريخ وقعها الملك.....
 (أ) رمسيس الأول (ب) رمسيس الثاني (ج) رمسيس الثالث (د) تحتمس الثالث
- ٣٤ تعرضت مصر لهجوم بعض القبائل علي حدودها الشمالية الشرقية في بداية الأسرة.....
 (أ) الثانية (ب) الثالثة (ج) الرابعة (د) الخامسة
- ٣٥ من أقدم الأديرة في مصر هو دير الأنبا.....بمحافظة البحر الأحمر.
 (أ) بيشوى (ب) أنطونيوس (ج) سمعان (د) نجوم
- ٣٦ كان حكم بطليموس الأول لمصر بداية للعصر.....
 (أ) الفرعوني (ب) البطلمي (ج) الروماني (د) الأيوبي
- ٣٧ كان البطالمة يحكمون مصر حكما.....
 (أ) مطلقا (ب) برلمانيا (ج) قبليا (د) انتخابيا
- ٣٨ الملكة كيلوبترا السابعة هي آخر ملوك.....
 (أ) الرومان (ب) البطالمة (ج) الفراعنة (د) الإخشيد
- ٣٩ دخلت المسيحية مصر علي يد القديسفي منتصف القرن الأول الميلادي.
 (أ) يوليوس (ب) بولس (ج) مرقس (د) أنطونيوس
- ٤٠ الكتابة.....كانت تعد الخط الرئيسي للدولة في مصر القديمة
 (أ) الهيروغليفية (ب) الديموطيقية (ج) الهيراطيقية (د) القبطية
- ٤١ استكمل بطليموس الأول بناء مدينة.....
 (أ) الإسكندرية (ب) الجيزة (ج) الفيوم (د) القاهرة
- ٤٢ تنسب منارة الإسكندرية القديمة إلي عصر.....
 (أ) الرومان (ب) البطالمة (ج) الفرس (د) الهكسوس
- ٤٣ بني المصري القديملأغراض دينية.
 (أ) الحصون (ب) المعابد (ج) الأهرامات (د) القصور



- ٤٤) ساعد علي حفظ رسوم و نقوش المصريين القدماء حتي وقتنا الحالي.....
- ٤٥) بني المصري القديم معابد جنائزية منها معبد.....
- ٤٦) يقع حصن بوهين علي الحدود المصرية.....
- ١) موقع مصر ٢) موارد مصر ٣) مناخ مصر ٤) تضاريس مصر
- ١) حتشبسوت ٢) الأقصر ٣) الكرنك ٤) إدفو
- ١) الجنوبية ٢) الشرقية ٣) الشمالية ٤) الغربية

ضع علامة صح او خطأ امام العبارات التالية

السؤال الثاني

- ١) يعد الجيش المصري من أقدم جيوش العالم.
- ٢) تعرضت مصر لغزو الهكسوس في عصر الضعف الأول.
- ٣) استطاع الملك سقنن رع طرد الهكسوس من مصر.
- ٤) استطاع الملك تحتمس الثالث الانتصار في معركة قادش.
- ٥) دمر الجيش المصري خط بارليف في 6 ساعات.
- ٦) يطلق لقب بطل التحرير علي الملك تحتمس الثالث.
- ٧) وقعت معركة قادش ضد الحيثيين في دولة فلسطين حالياً.
- ٨) الملك رمسيس الثاني هو صاحب أقدم معاهدة سلام في التاريخ.
- ٩) أهمل البطالمة النشاط التجاري في بداية حكمهم.
- ١٠) زار الإسكندر الأكبر معبد الإله رع بواحة سيوة.
- ١١) ازدهرت صناعة الزيوت و المنسوجات في عصر البطالمة.
- ١٢) استغل الرومان أرض مصر لزراعة محصول الأرز.
- ١٣) أنشأ الرومان معبد رأس السوداء في محافظة القاهرة.
- ١٤) عانى المصريون من ظلم الرومان.
- ١٥) حكم خلفاء الإسكندر الأكبر مصر حوالي خمس قرون.
- ١٦) كان نظام الحكم الروماني في مصر قائماً علي الديمقراطية.
- ١٧) يمثل هرم زوسر المرحلة الثانية لبناء المقابر قديماً.
- ١٨) تميزت منازل العمال بمصر القديمة بالفخامة و الاتساع.
- ١٩) المعابد الجنائزية تقام بها الطقوس اليومية للآلهة.
- ٢٠) اعتمدت فنون العمارة في مصر القديمة علي الموارد الطبيعية.



- ٢١ تميزت رسومات المصري القديم بالدقة والإبداع
- ٢٢ بني المصري القديم المقابر من الطوب اللبن للحفاظ علي جسد المتوفي.
- ٢٣ يقع مركز مصر الثقافي الإسلامي في العاصمة الإدارية الجديدة.
- ٢٤ ساعدنا تسجيل الكاتب المصري للأحداث علي معرفة نواحي الحياة المصرية القديمة.
- ٢٥ استخدم المصري القديم أدوات طبية تشبه أدوات عصرنا الحالي.
- ٢٦ قصة سنوحي إحدى أنواع أدب المديح.
- ٢٧ عرف المصريون القدماء الجمع و الطرح و القسمة.
- ٢٨ استخدم المصريون القدماء نوعا واحدا من الكتابة و هي الهيروغليفية.
- ٢٩ استطاع المصري القديم حفظ جسد الميت نتيجة براعته في علم الهندسة.
- ٣٠ يتضمن الأدب القصصي قصصا حقيقية و خيالية تعكس حياة المصريين القدماء.
- ٣١ كانت وظيفة الكاتب المصري القديم تساعد علي الوصول للمناصب العليا بالدولة.
- ٣٢ اكتشف المصريون القدماء الكثير من الأمراض و الوصفات الطبية المناسبة لعلاجها.
- ٣٣ استفاد المصريون القدماء من علم الهندسة في حساب مساحة الأرض الزراعية.
- ٣٤ لعب العلم و العلماء دور مهم في بناء الحضارة المصرية القديمة
- ٣٥ يعكس الأدب التهذيبي حياة المصريين القدماء من الناحية السياسية و الاقتصادية.
- ٣٦ عرف المصريون القدماء التخصصات الطبية مثل العيون و الأسنان و الجراحة.
- ٣٧ مسلة حتشبسوت من أشهر المسلات الموجودة في معبد آمون.
- ٣٨ أشهر الحصون التي لدى المصريين القدماء كان حصن بوهين علي الحدود الشرقية.
- ٣٩ توصل العلم الحديث إلي كيفية بناء الهرم الأكبر
- ٤٠ يمثل هرم زوسر المرحلة الثانية في بناء المقابر المصرية القديمة.
- ٤١ بدأت المرحلة الأولى لبناء الأهرامات قديما من عدة مصاطب.
- ٤٢ بني المصريون القدماء المقابر من الطوب اللبن.
- ٤٣ اعتمدت فنون العمارة في مصر الفرعونية علي الموارد الطبيعية لمصر.
- ٤٤ كانت منازل العمال قديما ملحقة بمخازن الحبوب.
- ٤٥ اشترك المصريين في حكم بلادهم أثناء حكم البطالمة والرومان
- ٤٦ اهتم البطالمة بالتجارة فأنشئوا منارة الإسكندرية لإرشاد السفن.
- ٤٧ خضعت مصر لإشراف الإمبراطور الروماني بشكل مباشر.





من أشهر المعارك التي خاضها الملك تحتمس الثالث معركة مجدو. ٤٨

تتضمن بانوراما حرب أكتوبر لوحات جدارية تحكي بطولات الجيش و الشعب المصري. ٤٩

قسم المصري القديم اليوم إلي 12 ساعة ليلا و 12 ساعة نهارا. ٥٠

اكمل العبارات التالية بالاجابة المناسبة

السؤال الثالث

١

(نهر النيل - القصصي - الكرنك - الحساب - المستطيل)

أسطورة الملاح الغريق تعد أحد أنواع الأدب..... **القصصي**.....

عرف المصريون القدماء الأشكال الهندسية كالمربع و..... **المستطيل**.....

استطاع المصري القديم تحديد قيمة الضرائب لأنه برع في علم..... **الحساب**.....

توجد مسلة للملكة حتشبسوت في معابد..... **الكرنك**.....

بني المصري القديم المقابر غرب..... **نهر النيل**.....

٢

(الهكسوس - كليوباترا السابعة - المعابد والمقابر - الروماني - اكتيوم البحرية)

برع المصريون القدماء في الرسم و النقش علي جدران..... **المعابد والمقابر**.....

انتصر الرومان علي البطالمة عام 31 ق.م في معركة..... **اكتيوم البحرية**.....

يرجع معبد رأس السوداء إلي العصر..... **الروماني**.....

آخر ملوك دولة البطالمة في مصر هي الملكة..... **كليوباترا السابعة**.....

استطاع الملك أحمس تحرير مصر من..... **الهكسوس**.....

٣

(النوبية - الحيثيين - الهكسوس - محمد أنور السادات - إياح حتب)

أدت صراعات حكام الدولة الوسطى إلي تعرض مصر لغزو..... **الهكسوس**.....

انتصر الملك أحمس علي الهكسوس بتشجيع من والدته الملكة..... **إياح حتب**.....

خاض الملك رمسيس الثاني أكبر المعارك ضد..... **الحيثيين**.....

استخدم الجيش المصري اللغة... **النوبية**.....كشفرة أثناء حرب أكتوبر 1973م.

أحد أبرز القادة العسكريين في مصر الحديثة هو..... **محمد أنور السادات**.....



٤

(الإسلامي - بارليف - سيناء - الهكسوس - القمح)

- استعادت مصر أرض..... **سيناء**.....بموجب اتفاقية السلام 1979م.
 قام الجيش المصري بتدمير خط..... **بارليف**..... و هزيمة الجيش الإسرائيلي في حرب أكتوبر 1973م.
 أدت صراعات الحكام في الدولة الوسطي إلي دخول... **الهكسوس**.....مصر.
 كانت مصر أثناء الحكم الروماني أكبر مصدر لإنتاج.... **القمح**..... في العالم.
 رحب المصريون بالفتح... **الإسلامي**..... للتخلص من اضطهاد الرومان لهم.

١
٢
٣
٤
٥

٥

(الهيراطيقية - أني - حكام الأقاليم - الشهداء - بتاح حتب - مسلة حتشبسوت - الديموطيقية)

- سمي عصر الإمبراطور دقلديانوس بعصر..... **الشهداء**.....
 تعد المسلات علامة بارزة في الفن المعماري المصري القديم و من أشهرها..... **مسلة حتشبسوت**.....
 منزل متعدد الحجرات و به مخازن للحبوب. هذا الوصف لمنزل..... **حكام الأقاليم**.....
 أشهر الحكماء في مصر القديمة..... **أنى**..... و..... **بتاح حتب**.....
 استخدم رجال الدين في مصر الفرعونية الكتابة... **الهيراطيقية**..... بينما أفراد الشعب استخدموا
 الكتابة..... **الديموطيقية**.....

١
٢
٣
٤
٥

اكتب ما تشير اليه العبارات التالية

السؤال الرابع

- محمد أنور السادات
الملك زوسر
الملك تحتمس الثالث
أمير قادش
الإسكندر الأكبر
الملك بطلميوس الأول
الملك بطلميوس الثالث
الملك كليوباترا السابعة
المعابد الجنائزية
معابد الآلهة
أبو الهول
هرم سقارة - زوسر

- ١ قاد الحرب ضد العدو الإسرائيلي في أكتوبر 1973م.
 ٢ نجح في صد الهجمات علي شبه جزيرة سيناء في عصر الدولة القديمة.
 ٣ خاض 16 حملة عسكرية لتأمين حدود مصر، و انتصر في معركة مجدو.
 ٤ قاد أمراء آسيا في معركة مجدو.
 ٥ قائد يوناني سيطر علي مصر لتوسيع إمبراطوريته.
 ٦ مؤسس دولة البطالمة في مصر.
 ٧ ضعفت دولة البطالمة في مصر بعد وفاته.
 ٨ آخر ملوك البطالمة في مصر.
 ٩ معابد أنشئت لتقام فيها طقوس الجنازة للملك.
 ١٠ معابد أنشئت لتقام فيها الطقوس اليومية للآلهة.
 ١١ من أشهر التماثيل المنحوتة في منطقة الأهرامات
 ١٢ هرم مدرج مكون من عدة مصاطب.

١
٢
٣
٤
٥
٦
٧
٨
٩
١٠
١١
١٢



التقويم الشمسي - علم
الفلك

علم الحساب

علم الطب

الأدب القصصي

تقوم شمسي

الأدب الديني

أدب المديح

الأدب التهذيبي

المباني العسكرية

إياح حتب

القديس مرقس

دقلديانوس

الملك زوسر

تقسيم اليوم إلى 24 ساعة متساوية.

تقدير مساحة الأرض الزراعية.

معرفة تخصصات مختلفة مثل العيون و الأسنان.

قصة سنوحي و أسطورة الملاح الغريق.

تقويم مصري قديم قسم السنة إلى 365 يوما مقسمة علي 12 شهرا.

أدب يتناول الحياة بعد الموت و عقيدة البعث و الخلود.

أدب ركز علي تمجيد أعمال الملك.

أدب يتناول الحكم و النصائح التي يوجهها الملك لابنه أو أحد الحكماء لتلاميذه.

مباني الهدف منها حماية البلاد و الدفاع عنها.

شجعت ابنها علي حربه ضد الهكسوس

أدخل المسيحية إلى مصر.

إمبراطور أطلق علي عهده عصر الشهداء.

قام بحماية أرض سيناء من القبائل التي هجمت علي حدود مصر الشمالية الشرقية.

أجب عن الاسئلة الآتية

السؤال الخامس

١ بم تفسر: استطاع المصريون القدماء تحديد قيمة الضرائب؟

بسبب براعتهم في علم الحساب

٢ ما النتائج المترتبة علي: براعة المصريين القدماء في علم الحساب؟

معرفة مساحات الأراضي الزراعية - معرفة رواتب الجنود - معرفة قيمة الضرائب بناء على فيضان النيل

٣ ما العلاقة بين: تعامد الشمس علي وجه الملك رمسيس الثاني في معبده- العلوم عند المصريين القدماء؟

تقدم المصريين في علم الفلك والحساب والهندسة أدبي إلى تحقيق تعامد الشمس مرتين على وجه الملك رمسيس الثاني في معبده.

٤ دلل: براعة المصريين القدماء في الطب.

حيث توصلوا إلى معرفة كثير من التخصصات مثل: الجراحة والأسنان والعيون

تقدموا في علم التشريح وتوصلهم إلى التحنيط

توصلوا إلى تشخيص الكثير من الأمراض ومعرفة طرق علاجها.

٥ بم تفسر: بناء المصريين القدماء مقابرهم غرب النيل؟

لتكون بعيدة عن فيضان النيل



٦ دلل: لم تكن أشكال المنازل عند المصريين القدماء متماثلة.

حيث اختلفت منازل العمال عن منازل الطبقة الثانية من حكام الأقاليم والوزراء والكهنة .

٧ قارن بين: قصر الملك - منازل حكام الأقاليم.

• قصر الملك : قصر كبير ومتسع . - تميز بجمال زينته وزخارفه.

• منازل حكام الأقاليم. منازل كبيرة. - متعددة الحجرات. - بها مخازن للحبوب.

٨ ما العلاقة بين: الهرم الأكبر- تطوير بناء المقابر؟

يعد الهرم الأكبر المرحلة الثالثة من تطور بناء المقابر عند المصريين القدماء

٩ بم تفسر: زيارة الإسكندر الأكبر لمعبد الإله آمون في واحة سيوة؟

ليدلل للمصريين على احترامه للديانة المصرية.

١٠ دلل: استغلت روما الأراضي الزراعية في مصر قديما.

حيث اعتبرت مصر مزرعة للقمح لإرساله إلى روما .

١١ ما النتائج المترتبة علي: ظهور المسيحية في مصر؟

أدى إلى اضطهاد الرومان للمسيحيين خاصة في عهد الامبراطور دقلديانوس الذي عرف عصره بعصر الشهداء.

١٢ قارن بين الحياة الثقافية في مصر أثناء حكم البطالمة - و في أثناء حكم الرومان.

• الحياة الثقافية في ظل عهد البطالمة : أنشئوا جامعة الإسكندرية ومكتبة الإسكندرية

• الحياة الثقافية في ظل عهد الرومان : احتلت الإسكندرية المركز الثاني ثقافيا بعد روما وأنشأ الرومان فيها:

- المسارح مثل المسرح الروماني - المعابد مثل معبد رأس السوداء.

١٣ بم تفسر: تنظيم و تسليح الجيش المصري في عهد الملك زوسر؟

لصد هجمات القبائل على حدود مصر الشمالية والشرقية وحماية أرض شبه جزيرة سيناء .

١٤ ما النتائج المترتبة علي: الخطة العبقورية التي نفذها الملك تحتمس الثالث في معركة مجدو؟

أدت إلى تفرق صفوف أمراء آسيا بقيادة أمير قادش وهروبهم داخل مدينة مجدو فأمر الملك تحتمس الثالث بحفر خندق حول المدين وحاصرها حتى استسلم العدو وانتصر الجيش المصري.

١٥ دلل: سعت مصر منذ القدم إلي تحقيق السلام.

حيث عقد الملك رمسيس الثاني أول معاهدة سلام في التاريخ مع ملك الحيثيين بعد انتصاره في معركة قادش.

١٦ ماذا يحدث إذا: لم ينجح الملك أحمس في طرد الهكسوس من مصر؟

لم ينتهي عصر الضعف الثاني - لم يكن مؤسس عصر الدولة الحديثة.



١٧ ما النتائج علي: معاهدة السلام بين رمسيس الثاني و ملك الحيثيين؟

ساعدت هذه المعاهدة على تحقيق الأمن والاستقرار للطرفين.

١٨ دلل: كان للملكة إياح حتب دور في حرب التحرير.

حيث شجعت زوجها سقنن رع وأبنائها كاس وأحمس على طرد الهكسوس من مصر .

١٩ بم تفسر: اعتناق المصريين للديانة المسيحية؟

لتعاليمها السمحة ودعوتها للمحبة والإخاء.

٢٠ اكتب دما النتائج المترتبة علي: وفاة الإسكندر الأكبر عام 323ق.م؟

تولى بطلميوس الأول حكم مصر وأسس دولة البطالمة.

٢١ دلل: اهتمام البطالمة بالزراعة في مصر.

حيث قاموا بـ :

- حفر الترع والقنوات
- ادخلوا محاصيل زراعية جديدة مثل : العنب والزيتون
- ادخلوا آلات زراعية جديدة مثل الساقية
- تم استيراد سلالات جديدة من الحيوانات.
- دلل: زاد اهتمام البطالمة بالعلوم الثقافية في مصر.

• حيث قاموا بإنشاء : مكتبة الإسكندرية وجامعة الإسكندرية

٢٢ بم تفسر: بناء المصريين القدماء المقابر من الحجر؟

لحماية جسد المتوفي وتأمين سرقة المقبرة من اللصوص

٢٣ دلل: أهمية الرسوم و النقوش التي خلفتها الحضارة المصرية القديمة.

حيث عبرت الرسوم والنقوش عن الأحداث السياسية والاجتماعية والعسكرية والدينية وبعض الأنشطة

الاقتصادية كالزراعة والتجارة.

٢٤ بم تفسر: تعامد الشمس علي وجه الملك رمسيس الثاني مرتين في العام؟

بسبب براعة المصريين القدماء وتقدمهم في علوم الفلك والهندسة والحساب

٢٥ دلل: ابتكر المصريون القدماء العديد من الأشياء التي ساعدتها علي معرفة الوقت.

حيث استخدموا المسلات كساعات شمسية لمعرفة الوقت من خلال مراقبة الظل أثناء النهار

واستخدموا ساعات مائية على شكل مزهريات لمعرفة الوقت بدقة خلال الليل

٢٦ ما العلاقة بين: تقدم المصريين القدماء في علوم الفلك و الهندسة و بناء الأهرامات و المعابد؟

كان لبراعة المصريين القدماء وتقدمهم في علوم الفلك والهندسة والحساب الأثر العظيم في بناء المعابد والأهرامات.



٢٨ ما النتائج المترتبة علي: براعة المصريين القدماء في تشريح جثث موتاهم؟

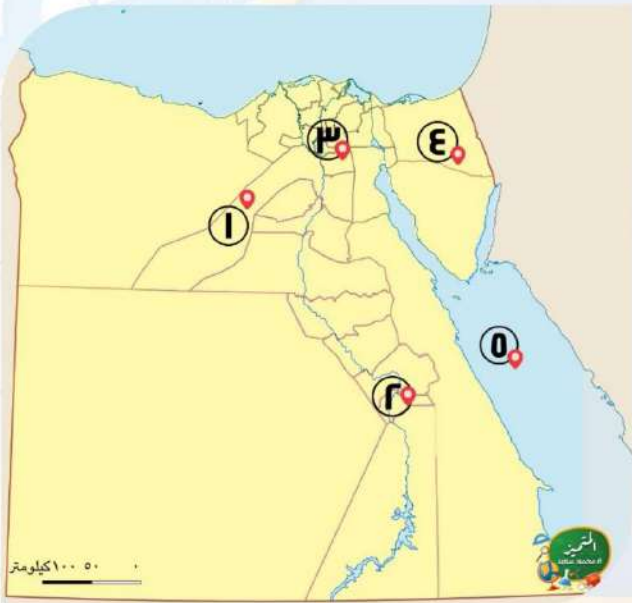
أدى إلى توصلهم إلى معرفة علم التحنيط - ومعرفة أجزاء الجسم الداخلية وتشخيص أمراضها وطرق علاجها.

٢٩ قارن بين: الكتابة الهيروغليفية و الكتابة الهيراطيقية.

- الكتابة الهيروغليفية : هي الخط الرسمي للدولة - وكانت على شكل صور ورسوم - كانت تستخدم في تسجيل أحداث حياة المصري القديم على جدران المعابد
- الكتابة الهيراطيقية : استخدمها رجال الدين (الكهنة) للكتابة على ورق البردي وقطع الخشب.

أكتب مدلول الارقام علي الخريطة

السؤال السادس



١ محافظة يقع بها تمثال أبو

الهل..... الجيزة

٢ محافظة يقع بها مسلة الملكة

حتشبسوت..... الأقصر

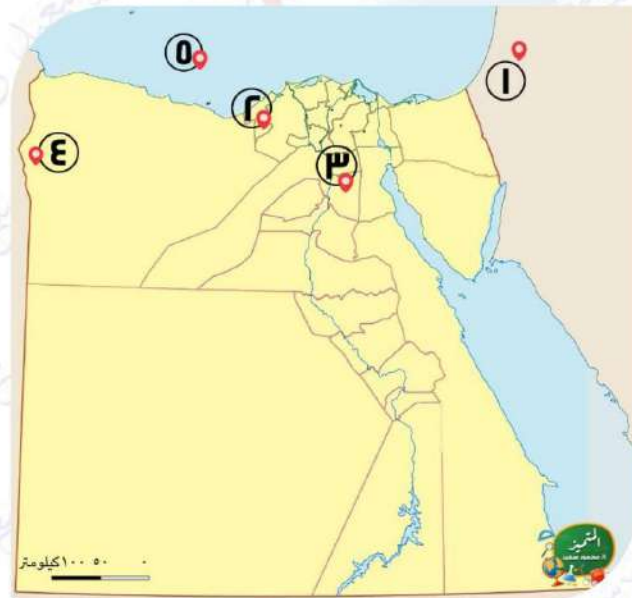
٣ محافظة بها متحف بانوراما حرب

أكتوبر القاهرة

٤ منطقة أستعادتها مصر بعد معاهدة السلام مع

اسرائيل سيناء

٥ البحر الأحمر



١ دولة وقعت بها معركة مجدو..... فلسطين

أحد آثار البطالمة في الإسكندرية لإرشاد

السفن..... منارة الإسكندرية

أحد الحصون التي بناها

الرومان..... حصن بابليون

٤ معبد زاره الإسكندر الأكبر..... أمون

٥ البحر المتوسط



٣

مدينة استكمل بطلميوس الأول بناؤها

..... الإسكندرية

أحد الحصون الجنوبية القديمة

..... بوهين

أحد المعابد الجنائزية

..... معبد حتشبسوت

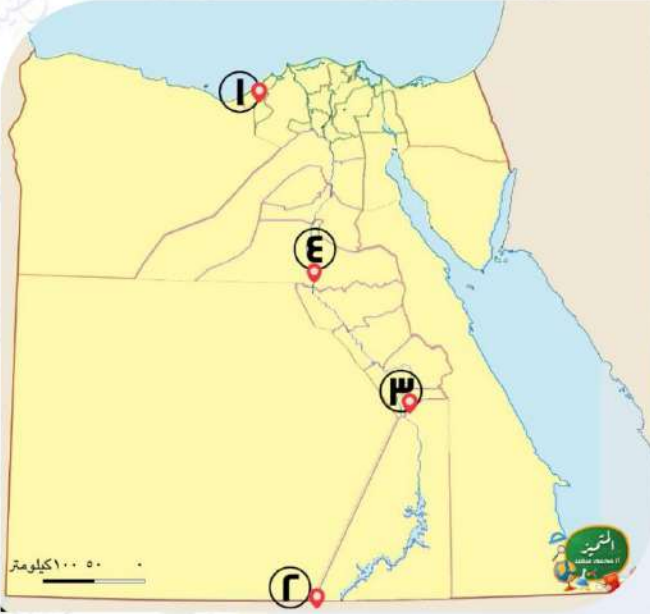
نهر النيل

١

٢

٣

٤



٤

إحدى حروب الجيش المصري الحديث قامت على

هذه الأرض حرب أكتوبر

محافظة بها أشهر مكتبة قديماً وحديثاً

..... الإسكندرية

..... معبد بناه الملك رمسيس الثاني

..... أبو سمبل

..... الصحراء الغربية

محافظة بها أقدم الأديرة المسيحية

..... البحر الأحمر

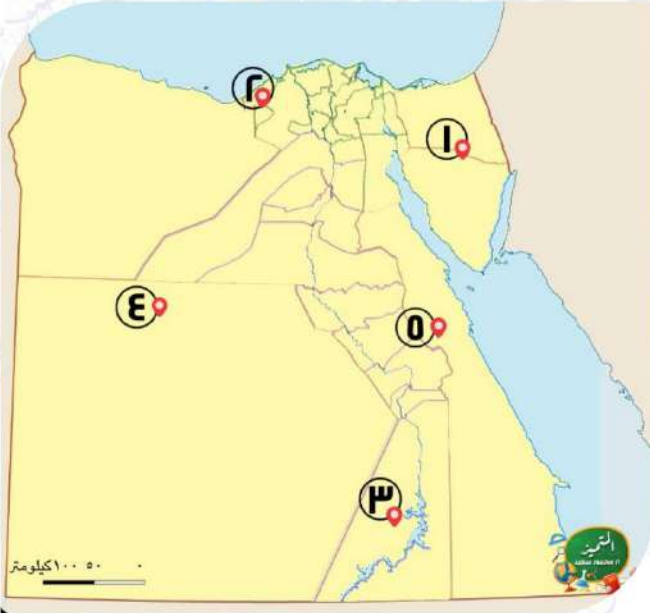
١

٢

٣

٤

٥



انتهت الأسئلة مع أطيب الامنيات بالنجاح والتوفيق

