

الصف
الرابع
الابتدائي
٢٠٢٤

بنك أسئلة

التميز

أ / محمود سعيد



بنك أسئلة المتميز

الدراسات الاجتماعية

علي مقررات مارس
اعداد

د / اسلام عطية أ / محي الدين سمير



نسخة
مجانية

ملحق الإجابات
بالداخل



El.Motamez.School



يمكنكم الحصول على المذكرات والاختبارات من خلال مسح رمز ال QR Code او من خلال صفحة "التميز - أ / محمود سعيد".
يرجى مراعاة حقوق صاحب المحتوى عند النشر.



بنك أسئلة التميز علي مقررات شهر مارس

تشمل اسئلة الوزارة واختبارات المحافظات

اختر الاجابة الصحيحة مما بين القوسين

السؤال الأول

- ١ من أشكال التراث الثقافي في مصر.....
 (أ) المحميات (ب) الغابات (ج) الأهرامات (د) البحيرات
- ٢ محمية الغابات المتحجرة توجد في محافظة.....
 (أ) القاهرة (ب) الجيزة (ج) دمياط (د) السويس
- ٣ بني صلاح الدين الأيوبي قلعة لتأمين خليج العقبة و البحر الأحمر عند مدينة.....
 (أ) طابا (ب) رفح (ج) العريش (د) السلوم
- ٤ يضم مسار العائلة المقدسة.....نقطة زهابا و عودة من سيناء حتي أسيوط.
 (أ) 23 (ب) 24 (ج) 25 (د) 26
- ٥ من الأحياء المائية المهددة بالانقراض وتوجد في محمية رأس محمد
 (أ) السلاحف البحرية (ب) قناديل البحر (ج) الدلافين (د) القروش
- ٦ تقع محمية رأس محمد في.....
 (أ) شمال سيناء (ب) جنوب سيناء (ج) القاهرة (د) الجيزة
- ٧ أسهمت منظمة..... في إنقاذ معبد أبو سمبل من الغرق.
 (أ) اليونسيف (ب) اليونسكو (ج) الفاو (د) السياحة
- ٨ تم إعادة افتتاح طريق الكباش بحضور ممثلين من منظمة.....
 (أ) اليونسيف (ب) اليونسكو (ج) الفاو (د) الأوبيك
- ٩ من معالم النوبة معبد إيزيس في جزيرة.....
 (أ) شدوان (ب) فيلة (ج) الجفتون (د) الجونة
- ١٠ قامت منظمة اليونسكو بإنقاذ آثار النوبة من الغرق بعد بناء.....
 (أ) متحف النوبة (ب) القناطر الخيرية (ج) السد العالي (د) قناطر إسنا
- ١١ منطقة أبو مينا التراثية يرجع تاريخها إلي فترة الحكم.....
 (أ) البطلمي (ب) الروماني (ج) الأموي (د) العباسي



- ١٢ دير سانت كاترين يقع عند جبل.....
 أ علبة ب العوينات ج سيناء د حماطة
- ١٣ يوجد برج القاهرة في جزيرة.....
 أ الذهب ب الزمالك ج الروضة د فيلة
- ١٤ من الآثار المصرية التي ترجع للعصر الفرعوني.....
 أ الكنيسة ب حصن بابلون ج تمثال أبو الهول د جامع أحمد بن طولون
- ١٥ بني المصريين القدماء الأهرامات الثلاثة علي هضبة في.....النيل.
 أ غرب ب شرق ج شمال د جنوب
- ١٦ يمكنك زيارة قلعة صلاح الدين علي جزيرة فرعون بمحافظة.....
 أ القاهرة ب الجيزة ج البحر الأحمر د جنوب سيناء
- ١٧ تم تصميم برج القاهرة علي شكل زهرة.....
 أ الفل ب اللوتس ج البنفسج د الياسمين
- ١٨ تنتشر الشعاب المرجانية الملون في مياه البحر.....
 أ المتوسط ب الأحمر ج الميت د قزوين
- ١٩ يوجد المتحف القومي للحضارة في مدينة.....
 أ المعادي ب الفسطاط ج شرم الشيخ د أكتوبر
- ٢٠ من أماكن السياحة العلاجية في مصر.....
 أ جنوب سيناء ب شمال سيناء ج واحة الداخلة د واحة الخارجة
- ٢١ زيارة شارع المعز تعد سياحة.....
 أ ترفيهية ب ثقافية ج علاجية د مؤتمرات
- ٢٢ مكان في مصر يقدم عروضاً فنية.....
 أ دار الأوبرا ب المتحف المصري ج مكتبة الإسكندرية د معرض الكتاب
- ٢٣ يذهب السياح للعلاج بالرمال الساخنة في مصر إلي واحة.....
 أ الفرافرة ب سيوة ج الداخلة د الخارجة
- ٢٤ المدونة العالمية لأخلاق السياحة تهدف إلي تحقيق السياحة.....
 أ العلاجية ب الترفيهية ج المستدامة د الثقافية
- ٢٥ مجموع الدخول التي تحققها الأنشطة الاقتصادية و الخدمات بمصر يطلق عليها الدخل.....
 أ الحقيقي ب القومي ج المتوسط د الدولي



- ٣٦ لزيارة الأماكن الأثرية آداب منها
 أ عدم تلوينها ب الكتابة عليها ج تلوينها د خدشها
- ٣٧ أحد مشروعات الحفاظ علي التراث العمراني في مصر هو تطوير.....
 أ وادي الريان ب رأس محمد ج الغابة المتحجرة د شارع المعز
- ٣٨ قامت الدولة بتطوير مسار العائلة المقدسة في حي.....
 أ شبرا ب حلوان ج المطرية د الوايلي
- ٣٩ من مشروعات تطوير المناطق الأثرية مشروع تطوير مدينة.....
 أ القاهرة ب الجيزة ج العبور د أسيوط
- ٣٠ قامت الدولة بترميم مسجد أحمد بن طولون الذي يقع في محافظة
 أ الاسكندرية ب القاهرة ج القليوبية د البحيرة
- ٣١ أي من المناطق التالية تعد ضمن مشروع تطوير مدينة القاهرة التاريخية؟
 أ ميت رهينة ب سقارة ج درب الأحمر د ميدوم
- ٣٢ تبذل الدولة جهودا كبيرة للحفاظ علي المناطق الأثرية منها
 أ تشجيع الاتجار ب ترميم المناطق ج استبدال الآثار د تشجيع السكان
 في الآثار الأثرية بالمناطق السكنية للبحث عن الآثار
- ٣٣ تقوم الدولة بتطوير مسجد أحمد بن طولون في محافظة.....
 أ الجيزة ب القاهرة ج الاسكندرية د الفيوم
- ٣٤ محمية تضم مجموعة من الأشجار علي شكل قطع صخرية اسطوانية هي محمية.....
 أ وادي الريان ب وادي الحيطان ج الغابة المتحجرة د الصحراء البيضاء
- ٣٥ منطقة أثرية تقوم الدولة بتطويرها ضمن مشروع القاهرة التاريخية.....
 أ الأهرامات ب الغورية ج برج القاهرة د المتحف المصري
- ٣٦ عند زيارتك لإحدى المناطق الأثرية عليك الالتزام ب.....
 أ تصوير القطع ب تناول الطعام ج كتابة عبارات د حسن معاملة
 الأثرية داخل المكان تذكارية السياحة
- ٣٧ زيارتك لمكتبة الاسكندرية للاطلاع علي الكتب تعد سياحة.....
 أ ثقافية ب ترفيهية ج علاجية د مؤتمرات
- ٣٨ المصدر الأول للعملات الأجنبية في مصر يتمثل في النشاط.....
 أ الزراعي ب الرعوي ج الصناعي د السياحي
- ٣٩ تستطيع التمتع بنزهة في منطقة الأهرامات إذا زرت محافظة.....
 أ العالمين ب الجيزة ج شرم الشيخ د مرسي مطروح



- ٤٠ عقد مؤتمر المناخ (cop27) في مدينة.....
 الفردقة (أ) شرم الشيخ (ب) بني سويف (ج) القاهرة (د)
- ٤١ زيارة خان الخليلي تعد سياحة.....
 ثقافية (أ) مؤتمرات (ب) علاجية (ج) مهرجانات (د)
- ٤٢ توجد هياكل عظمية لأسماك و حيتان ترجع لملايين السنين في منطقة.....
 وادي الحيتان (أ) سانت كاترين (ب) أبو مينا (ج) الصحراء البيضاء (د)
- ٤٣ تقع الأهرامات الثلاثة و أبو الهول بمحافظة.....
 المنيا (أ) أسيوط (ب) الجيزة (ج) مطروح (د)
- ٤٤ الوصف الذي ينطبق علي تمثال أبو الهول هو
 رأس نمر و جسم (أ) رأس إنسان و جسم (ب) رأس أسد و جسم (ج) جسم إنسان و رأس أنثي (د) تمساح
- ٤٥ أحد أبرز المعالم السياحية الحديثة في مصر هو.....
 برج الساعة (أ) جامع الكتبية (ب) برج القاهرة (ج) أهرامات الجيزة (د)
- ٤٦ الجامع الذي تم تأسيسه في عصر عمر بن الخطاب.....
 محمد علي (أ) الأزهر الشريف (ب) السلطان حسن (ج) عمر بن العاص (د) بالقلعة
- ٤٧ تساهم اليونسكو في ترميم مدينة صنعاء القديمة بدولة.....
 اليمن (أ) لبنان (ب) العراق (ج) سوريا (د)
- ٤٨ زيارة مناطق التراث العالمي تساعد علي زيادة.....
 الدخل القومي (أ) تلوث البيئة (ب) مشكلة السكان (ج) الموارد الطبيعية (د)
- ٤٩ تتعرض منطقة أبو مينا لخطر.....
 حدوث الجفاف (أ) نوبان الجليد (ب) حرائق الغابات (ج) تآكل التربة (د)
- ٥٠ توعية دول و شعوب العالم بالحفاظ علي التراث العالمي أحد اختصاصات منظمة.....
 الفاو (أ) اليونسكو (ب) اليونسيف (ج) الأوبك (د)

ضع علامة صح أو علامة خطأ أمام العبارات التالية

السؤال الثاني

- ١ خصصت اليونسيف يوما عالميا للتراث للتوعية بحماية التراث العالمي. ()
- ٢ يساهم التراث الثقافي في تنشيط السياحة في مصر. ()
- ٣ نشاهد أشجارا علي شكل قطع صخرية في محمية رأس محمد. ()
- ٤ تعد محمية الغابة المتحجرة من مناطق التراث الثقافي. ()



- () ٥ تساعد قائمة التراث العالمي علي معرفة المواقع التراثية و الطبيعية.
- () ٦ تختار اليونسكو بعض الأماكن لتكون ضمن قائمة التراث العالمي.
- () ٧ يقع وادي الحيتان في محافظة الإسكندرية.
- () ٨ تم إدراج منطقة "أبو مينا" بقائمة التراث العالمي.
- () ٩ تضم منطقة وادي الحيتان هياكل و عظاما و حفريات أسماك عاشت من ملايين السنين.
- () ١٠ تعد مدينة طيبة من المواقع التراثية المسجلة علي خريطة التراث العالمي.
- () ١١ أنشأ المصريون القدماء طريق الكباش لإقامة الاحتفالات الملكية و الدينية.
- () ١٢ مدية الإسكندرية التاريخية من أهم و أكبر المدن التراثية في العالم.
- () ١٣ قامت علي ارض مصر الكثير من الحضارات و أشهرها الحضارة البابلية .
- () ١٤ يقع المعبد اليهودي في منطقة الكنائس القبطية بالدرب الاحمر .
- () ١٥ تتميز مدينة شرم الشيخ بالعديد من المظاهر الطبيعية الخلابة منها الجبال الشاهقة .
- () ١٦ يرجع تاريخ نحت تمثال ابو الهول الي فترة حكم الملك منكاورع.
- () ١٧ تم اختيار موقع الاهرامات الثلاثة لتجنب فيضان النيل .
- () ١٨ حصن بابليون يعد أحد اثار منطقة جزيرة فيلة .
- () ١٩ تقتصر انواع السياحة في مصر علي السياحة الترفيهية .
- () ٢٠ زيارتك لشواطئ مدينة العريش تعني انك تقوم بسياحة علاجية .
- () ٢١ تسعى الدولة لتطوير وسائل النقل و القري السياحية .
- () ٢٢ الدخل الذي تحققه الانشطة الاقتصادية في عام واحد يسمى الدخل القومي
- () ٢٣ يمكنك الاستمتاع بالشعاب المرجانية عند زيارة مدينة دهب .
- () ٢٤ عند زيارتك لأهرامات الجيزة فأنت تقوم بسياحة دينية.
- () ٢٥ تعد صيانة منطقة الأهرامات من مشروعات تطوير مدينة القاهرة التاريخية.
- () ٢٦ تسعى الدولة لترميم الآثار للحفاظ عليها.
- () ٢٧ استخدام ضوء (فلاش) الكاميرا يمكن أن يؤثر سلبا علي الأماكن الأثرية.
- () ٢٨ لمس القطع الأثرية وعدم اتباع تعليمات الأمن من مسؤوليتنا نحو تراث بلدنا.
- () ٢٩ تقوم الدولة بإصدار القوانين بمعاقبة تجار الآثار.
- () ٣٠ طورت الدولة منطقة درب الأحمر في محافظة السويس.
- () ٣١ منطقة القاهرة التاريخية من أهم و أكبر المدن التراثية في العالم.
- () ٣٢ يجب ترميم الآثار بواسطة المتخصصين و صيانة المواقع الأثرية.



- () يعد تناول الطعام و الشراب بجوار المناطق الأثرية أمرا مقبولا. (٣٣)
- () لمس القطع الأثرية يعد سلوكا ايجابيا. (٣٤)
- () يمكن لأي فرد القيام بعملية ترميم الآثار. (٣٥)
- () يحتوي شارع المعز علي تراث عمراني مميز. (٣٦)
- () تعد السياحة ثالث أكبر مصدر للعملات الأجنبية في مصر. (٣٧)
- () زيارة مدن البحر الأحمر للتمتع بالمناظر الخلابة تعد سياحة ثقافية. (٣٨)
- () استخدام الأساليب التكنولوجية في التسويق السياحي تساعد علي تنمية السياحة في مصر. (٣٩)
- () استضافت مصر المؤتمر العربي للحد من السياحة. (٤٠)
- () زيارة مناطق العيون الكبريتية من أنواع السياحة الترفيهية. (٤١)
- () السياحة العلاجية تهدف للحفاظ علي البيئة. (٤٢)
- () قام الملك خوفو بنحت تمثال أبو الهول. (٤٣)
- () تقع الأهرامات الثلاثة بالجيزة شرق النيل. (٤٤)
- () حصن بابليون بني في عهد البطالمة. (٤٥)
- () سميت الكنيسة المعلقة بهذا الاسم لأنها بنيت علي الأبراج الشمالية من حصن بابليون. (٤٦)
- () الهدف من بناء قلعة صلاح الدين الأيوبي في مدينة طابا هو أن تكون مقرا للحكم. (٤٧)
- () مدينة شرم الشيخ اختارتها منظمة اليونسكو كأفضل مدينة سلام علي مستوى العالم. (٤٨)
- () مصر بها عدد من المواقع التراثية المسجلة في منظمة اليونسيف. (٤٩)
- () من آثار النوبة المسجلة ضمن قائمة التراث العالمي معبدا أبو سمبل. (٥٠)
- () تتميز مدينة القاهرة بتاريخها ، لأنها عاصمة سياسية و ثقافية و تجارية عريقة. (٥١)
- () طريق الكباش يربط بين معبد الكرنك شمالا و معبد الأقصر جنوبا. (٥٢)
- () يشمل مسار رحلة العائلة المقدسة الأماكن التي مرت بها العائلة المقدسة في مصر. (٥٣)
- () ساهمت منظمة اليونسكو في انقاذ معبد إيزيس في جزيرة فيلة. (٥٤)
- () تعد قلعة صلاح الدين منطقة تراث طبيعي. (٥٥)
- () يختلف التراث المصري من منطقة لأخرى. (٥٦)
- () منظمة الأمم المتحدة المسؤولة عن التربية و العلوم و الثقافية هي منظمة اليونسكو. (٥٧)
- () نعد محمية رأس محمد جنوب سيناء من مناطق التراث الطبيعي في مصر. (٥٨)



أكمل العبارات التالية بالاجابات المناسبة

السؤال الثالث

١

(اليونسكو - الأحمر - سيناء - الثقافي - إيزيس - المتوسط)

- تطل مدينة شرم الشيخ علي سواحل البحر..... ١
- عادات و تقاليد الشعوب تعد من التراث|..... ٢
- أحد أهم معابد جزيرة فيلة معبد..... ٣
- يقع دير سانت كاترين عند سفح جبل..... ٤
- المنظمة الدولية التي اختارت مدينة شرم الشيخ كأفضل مدينة سلام في العالم هي..... ٥

٢

(صيانة المناطق الأثرية - القاهرة التاريخية - اليونسكو - المطرية - اليونسيف - ثقافية - ترفيهية)

- زيارة أهرامات الجيزة تعد سياحة..... ١
- مدينة تاريخية تعد من أكبر المدن التراثية في العالم هي..... ٢
- قامت الدولة بتطوير مسار العائلة المقدسة في حي..... ٣
- تبذل الدولة جهودا كبيرة للحفاظ علي المناطق الأثرية منها..... ٤
- المنظمة التي خصصت يوما للاحتفال بالتراث العالمي هي منظمة..... ٥

٣

(مصر القديمة - الشعاب المرجانية - الدخول القومي - الفيوم - المستدامة)

- تتميز محمية رأس محمد بوجود..... والسلاحف البحرية. ١
- تساعد السياحة لمناطق التراث العالمي في زيادة..... للدولة. ٢
- يعد الحفاظ علي البيئة و مواردها الطبيعية من أهداف السياحة..... ٣
- منطقة وادي الحيتان تقع في محافظة..... ٤
- توجد الكنيسة المعلقة في حي..... ٥

٤

(متخصصين - المؤتمرات - الأهرامات - القاهرة - الأثرية)

- المتحف القومي للحضارة يقع في مدينة..... ١
- حضور مؤتمر شباب العالم في مدينة شرم الشيخ يعد ضمن السياحة..... ٢
- من جهود الدولة لتنمية السياحة في مصر صيانة المناطق..... وترميمها. ٣
- المنطقة التي تسعى الدولة لتحويلها إلي متحف مفتوح هي منطقة..... ٤
- يجب أن تتم عمليات ترميم الآثار بواسطة..... ٥



اكتب ما تشير إليه العبارات التالية

السؤال الرابع

- ١ () المواقع الطبيعية الجميلة ذات القيمة العالمية و التي لم يتدخل الإنسان في صنعتها أو التأثير فيها.
- ٢ () منظمة خصصت يوم 18 إبريل من كل عام ليكون يوم للتراث العالمي.
- ٣ () العودة إلى الحياة مرة أخرى بعد الموت.
- ٤ () عيش حياة أبدية لا موت بعدها.
- ٥ () منطقة صنفتها اليونسكو منطقة مهددة بخطر تآكل التربة و المباني.
- ٦ () دير من أقدم الأديرة في مصر.
- ٧ () الدخل التي تحققه الأنشطة الاقتصادية في عام واحد.
- ٨ () السياحة التي تهدف إلى الحفاظ علي البيئة و الموارد الطبيعية.
- ٩ () تتمثل في زيارة الأماكن الطبيعية الخلابة.
- ١٠ () تتمثل في زيارة الأماكن التاريخية و الثقافية.
- ١١ () سياحة تتمثل في زيارة العيون الكبريتية و الرمال الساخنة.
- ١٢ () صاحب الهرم الأكبر.
- ١٣ () برج تم تصميمه ليكون علي شكل زهرة اللوتس.
- ١٤ () الاسم الذي أطلقته منظمة اليونسكو علي مدينة شرم الشيخ.
- ١٥ () دير يقع في محافظة جنوب سيناء عند سفح جبل سيناء.
- ١٦ () معبد يوجد بجزيرة فيلة تم إنقاذه من الغرق من قبل منظمة اليونسكو.
- ١٧ () منطقة تحتوي علي هياكل و عظام لحيتان ضخمة و تقع في محافظة الفيوم.
- ١٨ () تراث يتمثل في الأماكن السياحية و الأثرية التي قام بها الإنسان.
- ١٩ () عادات و تقاليد الشعوب في المأكول و الملابس و الفنون الشعبية.
- ٢٠ () محمية تقع جنوب سيناء عند إلتقاء خليج السويس و خليج العقبة.

أجب عن الاسئلة الاتية

السؤال الخامس

- ١ ماذا يحدث إذا: لم تضع الدولة القوانين التي تجرم الاتجار بالآثار؟
.....
- ٢ حدد ثلاثا من المناطق الأثرية التي تعمل الدولة علي تطويرها ضمن تطوير مدينة القاهرة التاريخية.
.....
- ٣ بماذا تصف: سلوك الشخص الذي يكتب علي الآثار؟
.....



٤ ما النتيجة المترتبة علي: وجود هياكل لحيتان عاشت قبل 40 مليون سنة في وادي الحيتان؟

.....

٥ بم تفسر: بناء قلعة صلاح الدين في طابا؟

.....

٦ وضح: أهمية قائمة التراث العالمي.

.....

٧ بم تفسر: تعد مدينة القاهرة من أهم و أكبر المدن التراثية في العالم؟

.....

٨ دلل: تبذل اليونيسكو جهودا لإنقاذ بعض المواقع التراثية المصرية.

.....

٩ اذكر بعض المناطق التراثية بمصر التي تم إدراجها بقائمة التراث العالمي.

.....

١٠ بم تفسر: بني المصريون القدماء الأهرامات علي هضبة مرتفعة؟

.....

١١ دلل: مصر بلد سياحي.

.....

١٢ بم تفسر: نحت الملك خفرع تمثال أبو الهول؟

.....

١٣ دلل: تتعدد أنواع السياحة في مصر.

.....

١٤ فسر: وفود السياح بأعداد كبيرة إلي مصر؟

.....

١٥ ما العلاقة بين السياحة - الدخل القومي؟

.....

١٦ ما الذي تتميز به مدينة القاهرة التاريخية؟

.....

١٧ اذكر اثنين من السلوكيات التي يجب اتباعها للحفاظ علي الآثار المصرية.

.....

١٨ اكتب اثنين من شروط اختيار الأماكن ضمن قائمة التراث العالمي.

.....

١٩ ما رأيك في شخص يقوم بالكتابة علي بعض القطع الأثرية؟

.....

٢٠ بم تفسر: يجب عدم استخدام ضوء الكاميرا في أثناء التقاط صور للآثار؟

.....



دلل: جهود الدولة لتطوير منطقة الأهرامات.

٢١

اقترح أحد الأساليب للحفاظ علي المناطق الأثرية عند زيارتك لها.

٢٢

بم تفسر: اهتمام الحكومة المصرية بتطوير المنشآت السياحية؟

٢٣

دلل على صحة العبارة: تنتشر الساحية الترفيهية علي السواحل المصرية.

٢٤

قارن بين: السياحة الثقافية و السياحة العلاجية.؟

٢٥

ما العلاقة بين: السياحة و البطالة؟

٢٦

بم تفسر: مدينة شرم الشيخ من أكثر المدن السياحية شهرة في مصر؟

٢٧

دلل علي صحة العبارة: حي مصر القديمة به العديد من الآثار التي ترجع لفترات زمنية مختلفة.

٢٨

ما العلاقة بين: برج القاهرة و الحضارة المصرية القديمة؟

٢٩

ما النتائج علي: اهتمام منظمة اليونسكو بآثار النوبة؟

٣٠

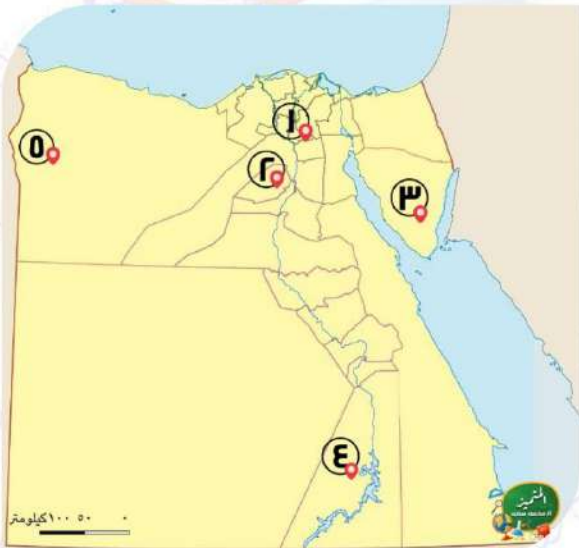
ماذا يحدث اذا: ارتفعت درجات الحرارة و زاد منسوب المياه الأثرية بمصر؟

٣١

لاحظ الخرائط التالية ثم أكتب مدلول الارقام عليها

السؤال السادس

١



١ أحد أكبر المدن التراثية في العالم

١

٢ محافظة يوجد بها محمية وادي الريان

٢

٣ محافظة بها دير سانت كاترين

٣

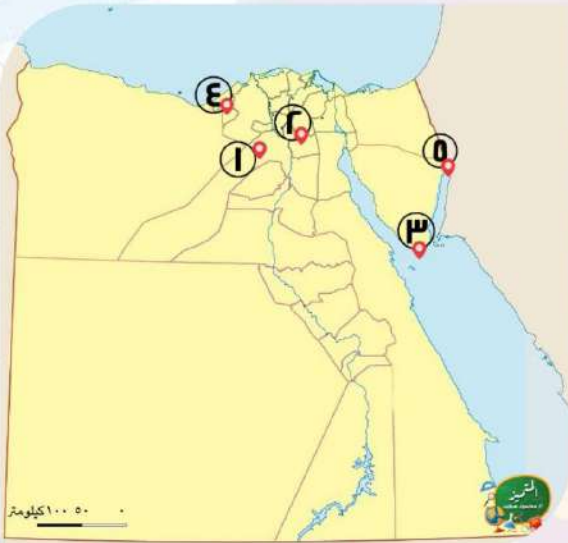
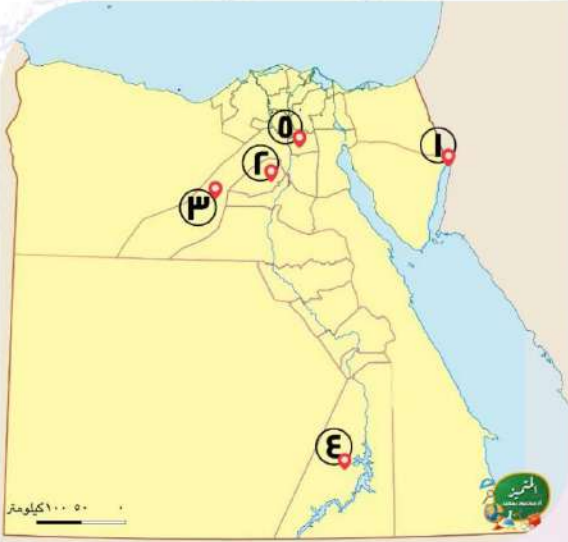
٤ منطقة تعرضت لخطر الغرق بعد بناء السد العالي

٤

٥ منطقة يوجد بها سياحة علاجية

٥





٢

أحد مناطق التراث الثقافي

١

.....

أحد مناطق التراث الطبيعي

٢

.....

أحد التماثيل المصرية القديمة

٣

..... أمر بنحته الملك خفرع.

..... جزيرة في النيل بها معبد إيزيس

٤

..... محمية طبيعية

٥

٣

منطقة تهدف الدولة إلى تحويلها إلى

١

..... متحف مفتوح

شارع تقوم الدولة بتطويره لأهمية

٢

..... الأثرية

منطقة تراث طبيعي

٣

.....

منطقة مهددة بخطر تآكل

٤

..... التربة.

مدينة تقع بها قلعة صلاح الدين

٥

.....

٤

إحدى مدن البحر الأحمر التي تشتهر

١

..... بالسياحة الترفيهية

محافظة بها طريق الكباش

٢

.....

محافظة تتمتع بسياحة ترفيهية

٣

..... وعلاجية معا

محافظة يقع بها المسرح الروماني

٤

.....

أفضل مدينة للسلام في العالم

٥

.....

انتهت الأسئلة مع أطيب الامنيات بالنجاح والتوفيق



الصف
الرابع
الابتدائي
٢٠٢٤

بنك أسئلة

التميز

أ/ محمود سعيد



الاجابات النموذجية لبنك الأسئلة

الدراسات الاجتماعية

علي مقررات مارس

اعداد

د / اسلام عطية أ / محي الدين سمير



El.Motamez.School



يمكنكم الحصول على المذكرات والاختبارات من خلال مسح رمز ال QR Code
أو من خلال صفحة "التميز - أ/ محمود سعيد".
يرجى مراعاة حقوق صاحب المحتوى عند النشر.



بنك أسئلة التميز علي مقررات شهر مارس

تشمل اسئلة الوزارة واختبارات المحافظات

اختر الاجابة الصحيحة مما بين القوسين

السؤال الأول

- ١ من أشكال التراث الثقافي في مصر.....
 أ المحميات ب الغابات ج الأهرامات د البحيرات
- ٢ محمية الغابات المتحجرة توجد في محافظة.....
 أ القاهرة ب الجيزة ج دمياط د السويس
- ٣ بني صلاح الدين الأيوبي قلعة لتأمين خليج العقبة و البحر الأحمر عند مدينة.....
 أ طابا ب رفح ج العريش د السلوم
- ٤ يضم مسار العائلة المقدسة.....نقطة زهابا و عودة من سيناء حتي أسيوط.
 أ 23 ب 24 ج 25 د 26
- ٥ من الأحياء المائية المهددة بالانقراض وتوجد في محمية رأس محمد
 أ السلاحف البحرية ب قناديل البحر ج الدلافين د القروش
- ٦ تقع محمية رأس محمد في.....
 أ شمال سيناء ب جنوب سيناء ج القاهرة د الجيزة
- ٧ أسهمت منظمة..... في إنقاذ معبد أبو سمبل من الغرق.
 أ اليونيسيف ب اليونسكو ج الفاو د السياحة
- ٨ تم إعادة افتتاح طريق الكباش بحضور ممثلين من منظمة.....
 أ اليونيسيف ب اليونسكو ج الفاو د الأوبيك
- ٩ من معالم النوبة معبد إيزيس في جزيرة.....
 أ شدوان ب فيلة ج الجفتون د الجونة
- ١٠ قامت منظمة اليونسكو بإنقاذ آثار النوبة من الغرق بعد بناء.....
 أ متحف النوبة ب القناطر الخيرية ج السد العالي د قناطر إسنا
- ١١ منطقة أبو مينا التراثية يرجع تاريخها إلي فترة الحكم.....
 أ البطلمي ب الروماني ج الأموي د العباسي



- ١٢ دير سانت كاترين يقع عند جبل.....
 أ علبة ب العوينات ج سيناء د حماطة
- ١٣ يوجد برج القاهرة في جزيرة.....
 أ الذهب ب الزمالك ج الروضة د فيلة
- ١٤ من الآثار المصرية التي ترجع للعصر الفرعوني.....
 أ الكنيسة ب حصن بابلون ج تمثال أبو الهول د جامع أحمد بن طولون
- ١٥ بني المصريين القدماء الأهرامات الثلاثة علي هضبة في.....النيل.
 أ غرب ب شرق ج شمال د جنوب
- ١٦ يمكنك زيارة قلعة صلاح الدين علي جزيرة فرعون بمحافظة.....
 أ القاهرة ب الجيزة ج البحر الأحمر د جنوب سيناء
- ١٧ تم تصميم برج القاهرة علي شكل زهرة.....
 أ الفل ب اللوتس ج البنفسج د الياسمين
- ١٨ تنتشر الشعاب المرجانية الملون في مياه البحر.....
 أ المتوسط ب الأحمر ج الميت د قزوين
- ١٩ يوجد المتحف القومي للحضارة في مدينة.....
 أ المعادي ب الفسطاط ج شرم الشيخ د أكتوبر
- ٢٠ من أماكن السياحة العلاجية في مصر.....
 أ جنوب سيناء ب شمال سيناء ج واحة الداخلة د واحة الخارجة
- ٢١ زيارة شارع المعز تعد سياحة.....
 أ ترفيهية ب ثقافية ج علاجية د مؤتمرات
- ٢٢ مكان في مصر يقدم عروضاً فنية.....
 أ دار الأوبرا ب المتحف المصري ج مكتبة الإسكندرية د معرض الكتاب
- ٢٣ يذهب السياح للعلاج بالرمال الساخنة في مصر إلي واحة.....
 أ الفرافرة ب سيوة ج الداخلة د الخارجة
- ٢٤ المدونة العالمية لأخلاق السياحة تهدف إلي تحقيق السياحة.....
 أ العلاجية ب الترفيهية ج المستدامة د الثقافية
- ٢٥ مجموع الدخول التي تحققها الأنشطة الاقتصادية و الخدمات بمصر يطلق عليها الدخل.....
 أ الحقيقي ب القومي ج المتوسط د الدولي



- ٣٦ لزيارة الأماكن الأثرية آداب منها
 أ عدم تلوينها ب الكتابة عليها ج تلوينها د خدشها
- ٣٧ أحد مشروعات الحفاظ علي التراث العمراني في مصر هو تطوير.....
 أ وادي الريان ب رأس محمد ج الغابة المتحجرة د شارع المعز
- ٣٨ قامت الدولة بتطوير مسار العائلة المقدسة في حي.....
 أ شبرا ب حلوان ج المطرية د الوايلي
- ٣٩ من مشروعات تطوير المناطق الأثرية مشروع تطوير مدينة.....
 أ القاهرة ب الجيزة ج العبور د أسيوط
- ٤٠ قامت الدولة بترميم مسجد أحمد بن طولون الذي يقع في محافظة
 أ الاسكندرية ب القاهرة ج القليوبية د البحيرة
- ٤١ أي من المناطق التالية تعد ضمن مشروع تطوير مدينة القاهرة التاريخية؟
 أ ميت رهينة ب سقارة ج درب الأحمر د ميدوم
- ٤٢ تبذل الدولة جهودا كبيرة للحفاظ علي المناطق الأثرية منها
 أ تشجيع الاتجار ب ترميم المناطق ج استبدال الآثار د تشجيع السكان
 في الآثار الأثرية بالمناطق السكنية للبحث عن الآثار
- ٤٣ تقوم الدولة بتطوير مسجد أحمد بن طولون في محافظة.....
 أ الجيزة ب القاهرة ج الاسكندرية د الفيوم
- ٤٤ محمية تضم مجموعة من الأشجار علي شكل قطع صخرية اسطوانية هي محمية.....
 أ وادي الريان ب وادي الحيطان ج الغابة المتحجرة د الصحراء البيضاء
- ٤٥ منطقة أثرية تقوم الدولة بتطويرها ضمن مشروع القاهرة التاريخية.....
 أ الأهرامات ب الغورية ج برج القاهرة د المتحف المصري
- ٤٦ عند زيارتك لإحدى المناطق الأثرية عليك الالتزام ب.....
 أ تصوير القطع ب تناول الطعام ج كتابة عبارات د حسن معاملة
 الأثرية داخل المكان تذكارية السياحة
- ٤٧ زيارتك لمكتبة الاسكندرية للاطلاع علي الكتب تعد سياحة.....
 أ ثقافية ب ترفيهية ج علاجية د مؤتمرات
- ٤٨ المصدر الأول للعملات الأجنبية في مصر يتمثل في النشاط.....
 أ الزراعي ب الرعوي ج الصناعي د السياحي
- ٤٩ تستطيع التمتع بنزهة في منطقة الأهرامات إذا زرت محافظة.....
 أ العالمين ب الجيزة ج شرم الشيخ د مرسي مطروح



- ٤٠ عقد مؤتمر المناخ (cop27) في مدينة.....
 الفردقة (أ) شرم الشيخ (ب) بني سويف (ج) القاهرة (د)
- ٤١ زيارة خان الخليلي تعد سياحة.....
 ثقافية (أ) مؤتمرات (ب) علاجية (ج) مهرجانات (د)
- ٤٢ توجد هياكل عظمية لأسماك و حيتان ترجع لملايين السنين في منطقة.....
 وادي الحيتان (أ) سانت كاترين (ب) أبو مينا (ج) الصحراء البيضاء (د)
- ٤٣ تقع الأهرامات الثلاثة و أبو الهول بمحافظة.....
 المنيا (أ) أسيوط (ب) الجيزة (ج) مطروح (د)
- ٤٤ الوصف الذي ينطبق علي تمثال أبو الهول هو
 رأس نمر و جسم (أ) رأس إنسان و جسم (ب) رأس أسد و جسم (ج) جسم إنسان و رأس أنثي (د)
- ٤٥ أحد أبرز المعالم السياحية الحديثة في مصر هو.....
 برج الساعة (أ) جامع الكتبية (ب) برج القاهرة (ج) أهرامات الجيزة (د)
- ٤٦ الجامع الذي تم تأسيسه في عصر عمر بن الخطاب.....
 محمد علي (أ) الأزهر الشريف (ب) السلطان حسن (ج) عمر بن العاص (د) بالقلعة
- ٤٧ تساهم اليونسكو في ترميم مدينة صنعاء القديمة بدولة.....
 اليمن (أ) لبنان (ب) العراق (ج) سوريا (د)
- ٤٨ زيارة مناطق التراث العالمي تساعد علي زيادة.....
 الدخل القومي (أ) تلوث البيئة (ب) مشكلة السكان (ج) الموارد الطبيعية (د)
- ٤٩ تتعرض منطقة أبو مينا لخطر.....
 حدوث الجفاف (أ) نوبان الجليد (ب) حرائق الغابات (ج) تآكل التربة (د)
- ٥٠ توعية دول و شعوب العالم بالحفاظ علي التراث العالمي أحد اختصاصات منظمة.....
 الفاو (أ) اليونسكو (ب) اليونسيف (ج) الأوبك (د)

ضع علامة صح أو علامة خطأ أمام العبارات التالية

السؤال الثاني

- ١ خصصت اليونسيف يوما عالميا للتراث للتوعية بحماية التراث العالمي.
- ٢ يساهم التراث الثقافي في تنشيط السياحة في مصر.
- ٣ نشاهد أشجارا علي شكل قطع صخرية في محمية رأس محمد.
- ٤ تعد محمية الغابة المتحجرة من مناطق التراث الثقافي.



- ٥ تساعد قائمة التراث العالمي علي معرفة المواقع التراثية و الطبيعية.
- ٦ تختار اليونسكو بعض الأماكن لتكون ضمن قائمة التراث العالمي.
- ٧ يقع وادي الحيتان في محافظة الإسكندرية.
- ٨ تم إدراج منطقة "أبو مينا" بقائمة التراث العالمي.
- ٩ تضم منطقة وادي الحيتان هياكل و عظاما و حفريات أسماك عاشت من ملايين السنين.
- ١٠ تعد مدينة طيبة من المواقع التراثية المسجلة علي خريطة التراث العالمي.
- ١١ أنشأ المصريون القدماء طريق الكباش لإقامة الاحتفالات الملكية و الدينية.
- ١٢ مدية الإسكندرية التاريخية من أهم و أكبر المدن التراثية في العالم.
- ١٣ قامت علي ارض مصر الكثير من الحضارات و أشهرها الحضارة البابلية .
- ١٤ يقع المعبد اليهودي في منطقة الكنائس القبطية بالدرب الأحمر .
- ١٥ تتميز مدينة شرم الشيخ بالعديد من المظاهر الطبيعية الخلابة منها الجبال الشاهقة .
- ١٦ يرجع تاريخ نحت تمثال ابو الهول الي فترة حكم الملك منكاورع.
- ١٧ تم اختيار موقع الاهرامات الثلاثة لتجنب فيضان النيل .
- ١٨ حصن بابليون يعد أحد اثار منطقة جزيرة فيلة .
- ١٩ تقتصر انواع السياحة في مصر علي السياحة الترفيهية .
- ٢٠ زيارتك لشواطئ مدينة العريش تعني انك تقوم بسياحة علاجية .
- ٢١ تسعى الدولة لتطوير وسائل النقل و القري السياحية .
- ٢٢ الدخل الذي تحققه الانشطة الاقتصادية في عام واحد يسمى الدخل القومي
- ٢٣ يمكنك الاستمتاع بالشعاب المرجانية عند زيارة مدينة دهب .
- ٢٤ عند زيارتك لأهرامات الجيزة فأنت تقوم بسياحة دينية.
- ٢٥ تعد صيانة منطقة الأهرامات من مشروعات تطوير مدينة القاهرة التاريخية.
- ٢٦ تسعى الدولة لترميم الآثار للحفاظ عليها.
- ٢٧ استخدام ضوء (فلاش) الكاميرا يمكن أن يؤثر سلبا علي الأماكن الأثرية.
- ٢٨ لمس القطع الأثرية وعدم اتباع تعليمات الأمن من مسؤوليتنا نحو تراث بلدنا.
- ٢٩ تقوم الدولة بإصدار القوانين بمعاقبة تجار الآثار.
- ٣٠ طورت الدولة منطقة درب الأحمر في محافظة السويس.
- ٣١ منطقة القاهرة التاريخية من أهم و أكبر المدن التراثية في العالم.
- ٣٢ يجب ترميم الآثار بواسطة المتخصصين و صيانة المواقع الأثرية.



- ٣٣٣ يعد تناول الطعام و الشراب بجوار المناطق الأثرية أمرا مقبولا.
- ٣٣٤ لمس القطع الأثرية يعد سلوكا ايجابيا.
- ٣٣٥ يمكن لأي فرد القيام بعملية ترميم الآثار.
- ٣٣٦ يحتوي شارع المعز علي تراث عمراني مميز.
- ٣٣٧ تعد السياحة ثالث أكبر مصدر للعملات الأجنبية في مصر.
- ٣٣٨ زيارة مدن البحر الأحمر للتمتع بالمناظر الخلابة تعد سياحة ثقافية.
- ٣٣٩ استخدام الأساليب التكنولوجية في التسويق السياحي تساعد علي تنمية السياحة في مصر.
- ٤٠ استضافت مصر المؤتمر العربي للحد من السياحة.
- ٤١ زيارة مناطق العيون الكبريتية من أنواع السياحة الترفيهية.
- ٤٢ السياحة العلاجية تهدف للحفاظ علي البيئة.
- ٤٣ قام الملك خوفو بنحت تمثال أبو الهول.
- ٤٤ تقع الأهرامات الثلاثة بالجيزة شرق النيل.
- ٤٥ حصن بابليون بني في عهد البطالمة.
- ٤٦ سميت الكنيسة المعلقة بهذا الاسم لأنها بنيت علي الأبراج الشمالية من حصن بابليون.
- ٤٧ الهدف من بناء قلعة صلاح الدين الأيوبي في مدينة طابا هو أن تكون مقرا للحكم.
- ٤٨ مدينة شرم الشيخ اختارتها منظمة اليونسكو كأفضل مدينة سلام علي مستوى العالم.
- ٤٩ مصر بها عدد من المواقع التراثية المسجلة في منظمة اليونسيف.
- ٥٠ من آثار النوبة المسجلة ضمن قائمة التراث العالمي معبدا أبو سمبل.
- ٥١ تتميز مدينة القاهرة بتاريخها ، لأنها عاصمة سياسية و ثقافية و تجارية عريقة.
- ٥٢ طريق الكباش يربط بين معبد الكرنك شمالا و معبد الأقصر جنوبا.
- ٥٣ يشمل مسار رحلة العائلة المقدسة الأماكن التي مرت بها العائلة المقدسة في مصر.
- ٥٤ ساهمت منظمة اليونسكو في انقاذ معبد إيزيس في جزيرة فيلة.
- ٥٥ تعد قلعة صلاح الدين منطقة تراث طبيعي.
- ٥٦ يختلف التراث المصري من منطقة لأخرى.
- ٥٧ منظمة الأمم المتحدة المسؤولة عن التربية و العلوم و الثقافية هي منظمة اليونسكو.
- ٥٨ نعد محمية رأس محمد جنوب سيناء من مناطق التراث الطبيعي في مصر.



أكمل العبارات التالية بالاجابات المناسبة

السؤال الثالث

١

(اليونسكو - الأحمر - سيناء - الثقافي - إيزيس - المتوسط)

- تطل مدينة شرم الشيخ علي سواحل البحر..... **الأحمر** ١
- عادات و تقاليد الشعوب تعد من التراث|..... **الثقافي** ٢
- أحد أهم معابد جزيرة فيلة معبد..... **إيزيس** ٣
- يقع دير سانت كاترين عند سفح جبل..... **سيناء** ٤
- المنظمة الدولية التي اختارت مدينة شرم الشيخ كأفضل مدينة سلام في العالم هي..... **اليونسكو** ٥

٢

(صيانة المناطق الأثرية - القاهرة التاريخية - اليونسكو - المطرية - اليونسيف - ثقافية - ترفيهية)

- زيارة أهرامات الجيزة تعد سياحة..... **ثقافية** ١
- مدينة تاريخية تعد من أكبر المدن التراثية في العالم هي..... **القاهرة التاريخية** ٢
- قامت الدولة بتطوير مسار العائلة المقدسة في حي..... **المطرية** ٣
- تبذل الدولة جهودا كبيرة للحفاظ علي المناطق الأثرية منها..... **صيانة المناطق الأثرية** ٤
- المنظمة التي خصصت يوما للاحتفال بالتراث العالمي هي منظمة..... **اليونسكو** ٥

٣

(مصر القديمة - الشعاب المرجانية - الدخل القومي - الفيوم - المستدامة)

- تتميز محمية رأس محمد بوجود..... **الشعاب المرجانية** ١
- تساعد السياحة لمناطق التراث العالمي في زيادة..... **الدخل القومي** ٢
- يعد الحفاظ علي البيئة و مواردها الطبيعية من أهداف السياحة **المستدامة** ٣
- منطقة وادي الحيطان تقع في محافظة..... **الفيوم** ٤
- توجد الكنيسة المعلقة في حي..... **مصر القديمة** ٥

٤

(متخصصين - المؤتمرات - الأهرامات - القاهرة - الأثرية)

- المتحف القومي للحضارة يقع في مدينة..... **القاهرة** ١
- حضور مؤتمر شباب العالم في مدينة شرم الشيخ يعد ضمن السياحة..... **المؤتمرات** ٢
- من جهود الدولة لتنمية السياحة في مصر صيانة المناطق **الأثرية** ٣
- المنطقة التي تسعى الدولة لتحويلها إلي متحف مفتوح هي منطقة..... **الأهرامات** ٤
- يجب أن تتم عمليات ترميم الآثار بواسطة..... **متخصصين** ٥



اكتب ما تشير إليه العبارات التالية

السؤال الرابع

التراث الطبيعي

منظمة اليونسكو

البعث

الخلود

منطقة أبو مينا

دير سانت كاترين

الدخل القومي

سياحة مستدامة

سياحة ترفيهية

سياحة ثقافية

سياحة علاجية

خوفو

برج القاهرة

مدينة السلام

دير سانت كاترين

إيزيس

محمية وادي الحيتان

تراث ثقافي

تراث وطني

رأس محمد

المواقع الطبيعية الجميلة ذات القيمة العالمية و التي لم يتدخل الإنسان في صنعها أو التأثير فيها.

منظمة خصصت يوم 18 إبريل من كل عام ليكون يوم للتراث العالمي.

العودة إلي الحياة مرة أخرى بعد الموت.

عيش حياة أبدية لا موت بعدها.

منطقة صنفتها اليونسكو منطقة مهددة بخطر تآكل التربة و المباني.

دير من أقدم الأديرة في مصر.

الدخل التي تحققة الأنشطة الاقتصادية في عام واحد.

السياحة التي تهدف إلي الحفاظ علي البيئة و الموارد الطبيعية.

تتمثل في زيارة الأماكن الطبيعية الخلابة.

تتمثل في زيارة الأماكن التاريخية و الثقافية.

سياحة تتمثل في زيارة العيون الكبريتية و الرمال الساخنة.

صاحب الهرم الأكبر.

برج تم تصميمه ليكون علي شكل زهرة اللوتس.

الاسم الذي أطلقته منظمة اليونسكو علي مدينة شرم الشيخ.

دير يقع في محافظة جنوب سيناء عند سفح جبل سيناء.

معبد يوجد بجزيرة فيلة تم إنقاذه من الغرق من قبل منظمة اليونسكو.

منطقة تحتوي علي هياكل و عظام لحيتان ضخمة و تقع في محافظة الفيوم.

تراث يتمثل في الأماكن السياحية و الأثرية التي قام بها الإنسان.

عادات و تقاليد الشعوب في المأكل و الملابس و الفنون الشعبية.

محمية تقع جنوب سيناء عند إلتقاء خليج السويس و خليج العقبة.

أجب عن الاسئلة الاتية

السؤال الخامس

ماذا يحدث إذا: لم تضع الدولة القوانين التي تجرم الاتجار بالآثار؟

سوف يتم الاعتداء الآثار أو سرقتها.

حدد ثلاثا من المناطق الأثرية التي تعمل الدولة علي تطويرها ضمن تطوير مدينة القاهرة التاريخية.

الغورية - جامع أحمد بن طولون - شارع المعز.



بماذا تصف: سلوك الشخص الذي يكتب علي الآثار؟

٣

سلوك خاطئ يؤدي إلى تدهور الآثار وتشويهها.

ما النتيجة المترتبة علي: وجود هياكل لحيتان عاشت قبل 40 مليون سنة في وادي الحيتان؟

٤

ترتب علي ذلك تقوم الدولة بحماياتها في محمية طبيعية والمحافظة عليها.

بم تفسر: بناء قلعة صلاح الدين في طابا؟

٥

لحماية البحر الأحمر وخليج العقبة من الأعداء

لتأمين

وضوح: أهمية قائمة التراث العالمي.

تساعد المواطنين علي :

٦

1- زيادة معرفتهم بالتراث الثقافي والطبيعي في وطنهم.

2- تعميق شعورهم بالانتماء

3- تحفيز دول العالم علي اتخاذ الإجراءات اللازمة لحماية المواقع التراثية الثقافية والطبيعية.

بم تفسر: تعد مدينة القاهرة من أهم و أكبر المدن التراثية في العالم؟

٧

لأنها تتميز بتعدد المباني والآثار التاريخية وأنها عاصمة سياسية وتجارية وثقافية ودينية

دلل: تبذل اليونيسكو جهودا لإنقاذ بعض المواقع التراثية المصرية.

٨

حيث قامت بإنقاذ آثار النوبة من الغرق بعد بناء السد العالي

اذكر بعض المناطق التراثية بمصر التي تم إدراجها بقائمة التراث العالمي.

٩

منطقة أبو مينا - آثار النوبة - مدينة طيبة بالأقصر - الأهرامات - محمية وادي الحيتان

بم تفسر: بني المصريون القدماء الأهرامات علي هضبة مرتفعة؟

١٠

لتكون بعيدة عن فيضان النيل

دلل: مصر بلد سياحي.

١١

حيث يوجد بها العديد من المناطق السياحية المتنوعة ووجود العديد من مناطق التراث الثقافي والطبيعي

في مصر

بم تفسر: نحت الملك خفرع تمثال أبو الهول؟

١٢

ليقوم بحماية الأهرامات (مقابر الملوك) وليعبر عن القوة

دلل: تتعدد أنواع السياحة في مصر.

١٣

حيث يوجد سياحة ترفيهية وعلاجية وثقافية ومؤتمرات ومهرجانات

فسر: وفود السياح بأعداد كبيرة إلي مصر؟

١٤

بسبب وجود العديد من أنواع السياحة في مصر ووجود العديد من مناطق التراث الثقافي والطبيعي في مصر

ما العلاقة بين السياحة - الدخل القومي؟

١٥

توفر السياحة نحو 12 % من إجمالي الدخل القومي.



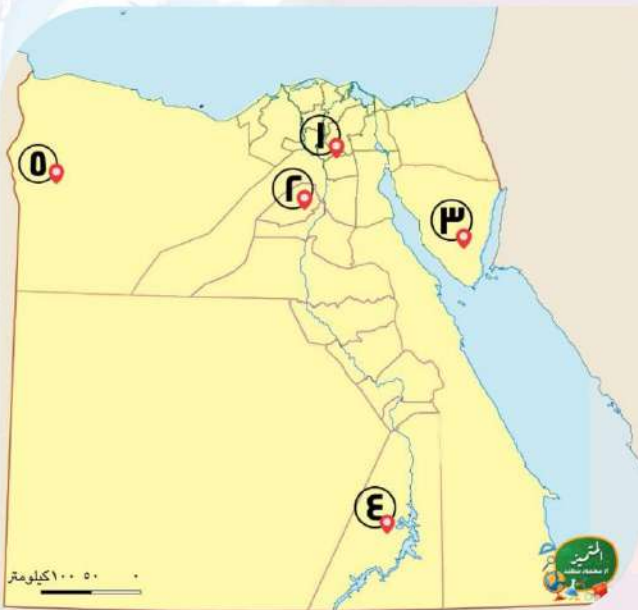
- ١٦ ما الذي تتميز به مدينة القاهرة التاريخية؟
بكثر الآثار وتعدد المباني الأثرية - من أكبر المدن التراثية في العالم - وأنها عاصمة سياسية وتجارية وثقافية ودينية
- ١٧ اذكر اثنين من السلوكيات التي يجب اتباعها للحفاظ علي الآثار المصرية.
عدم لمس القطع الأثرية أو الوقوف ملاصقا لها - عدم استخدام ضوء الكاميرا في التصوير
- ١٨ اكتب اثنين من شروط اختيار الأماكن ضمن قائمة التراث العالمي.
أن يكون المكان فريد من نوعه لا مثيل له - أن يكون المكان أو الأثر يمثل نموذجاً للإبداع البشري.
- ١٩ ما رأيك في شخص يقوم بالكتابة علي بعض القطع الأثرية؟
أمنعه من ذلك لأنه سلوك خاطئ يؤدي إلى تدهور القطع الأثرية
- ٢٠ بم تفسر: يجب عدم استخدام ضوء الكاميرا في أثناء التقاط صور للآثار؟
لأن فلاش الكاميرا يؤثر سلباً على بعض القطع الأثرية
- ٢١ دلل: جهود الدولة لتطوير منطقة الأهرامات.
حيث تقوم بتحويلها إلى متحف مفتوح - وإنشاء العديد من الفنادق حول المنطقة
- ٢٢ اقترح أحد الأساليب للحفاظ علي المناطق الأثرية عند زيارتك لها.
اتباع قواعد الأمن والنظافة في المكان.
- ٢٣ بم تفسر: اهتمام الحكومة المصرية بتطوير المنشآت السياحية؟
من أجل تنمية السياحة وزيادة الدخل القومي
- ٢٤ دلل على صحة العبارة: تنتشر الساحية الترفيهية علي السواحل المصرية.
حيث يوجد سياحة ترفيهية في المدن الشاطئية مثل : الإسكندرية مطروح والعلمين على ساحل البحر المتوسط - وشرم الشيخ ودهب والغردقة على ساحل البحر الأحمر
- ٢٥ قارن بين: السياحة الثقافية و السياحة العلاجية؟
السياحة الثقافية تتمثل في زيارة المناطق الأثرية والثقافية مثل المتاحف ومكتبة الإسكندرية
السياحة العلاجية تتمثل في زيارة مناطق الرمال الساخنة والعيون الكبريتية
- ٢٦ ما العلاقة بين: السياحة و البطالة؟
توفر السياحة المزيد من فرص العمل مما يقلل من نسبة البطالة.
- ٢٧ بم تفسر: مدينة شرم الشيخ من أكثر المدن السياحية شهرة في مصر؟
لأنه تتميز بالمناظر الطبيعية الخلابة من جبال ومياه البحر الأحمر النقية والشعاب المرجانية
- ٢٨ دلل علي صحة العبارة: حي مصر القديمة به العديد من الآثار التي ترجع لفترات زمنية مختلفة.
حيث يوجد به آثار رومانية مثل حصن بابلون - آثار إسلامية مثل جامع عمرو بن العاص - آثار يهودية مثل المعبد اليهودي - وآثار قبطية مثل الكنيسة المعلقة.



- ٢٩ ما العلاقة بين: برج القاهرة و الحضارة المصرية القديمة؟
 تم تصميم برج القاهرة على شكل زهرة اللوتس التي تعد من رموز الحضارة المصرية القديمة.
 ما النتائج علي: اهتمام منظمة اليونسكو بآثار النوبة؟
 ترتب على ذلك انقاذها لآثار النوبة منهم معبدا أبو سمبل ومعبد إيزيس
 ماذا يحدث اذا: ارتفعت درجات الحرارة و زاد منسوب المياه الأثرية بمصر؟
 يؤدي إلى تدهور العديد من مناطق التراث الثقافي والطبيعي في مصر.

لاحظ الخرائط التالية ثم أكتب مدلول الارقام عليها

السؤال السادس



١

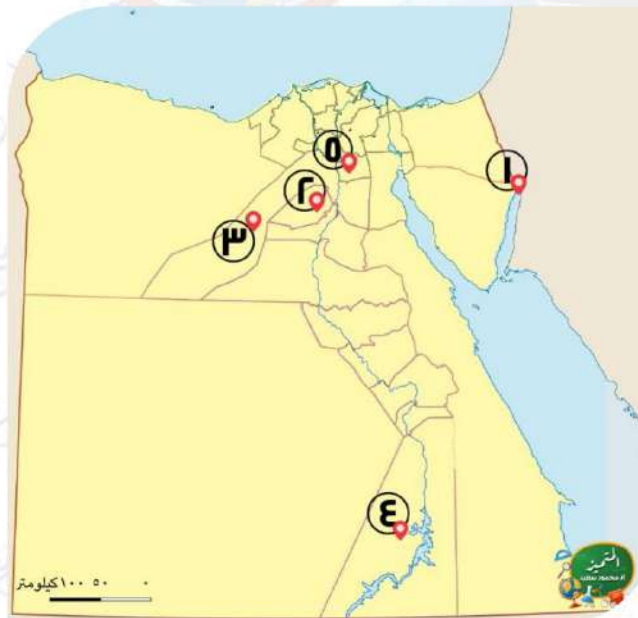
أحد أكبر المدن التراثية في العالم
 القاهرة.....

محافظة يوجد بها محمية وادي الريان
 الفيوم.....

محافظة بها دير سانت كاترين
 جنوب سيناء.....

منطقة تعرضت لخطر الغرق بعد بناء السد العالي
 النوبة.....

منطقة يوجد بها سياحة علاجية
 واحة سيوة.....



٢

أحد مناطق التراث الثقافي
 قلعة صلاح الدين.....

أحد مناطق التراث الطبيعي
 محمية وادي الريان - محمية وادي الحيتان

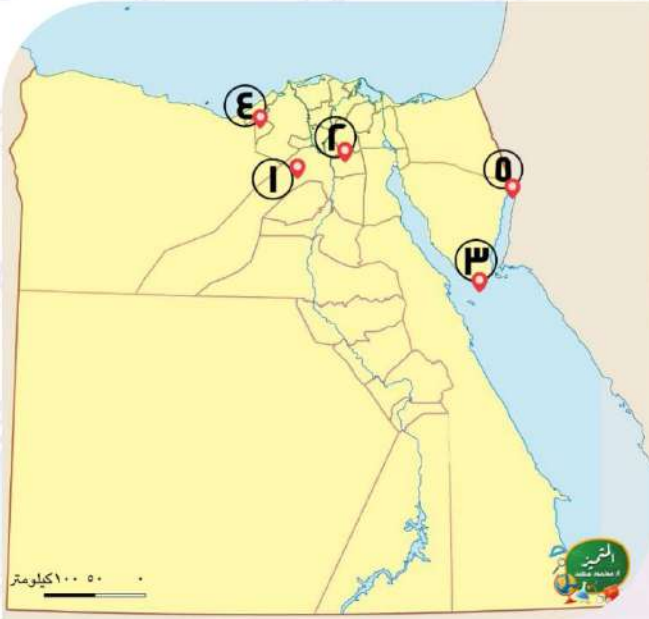
أحد التماثيل المصرية القديمة
 ... تمثال أبو الهول ... أمر بنحته الملك خفرع.

جزيرة في النيل بها معبد إيزيس ... فيلة...

محمية طبيعية ... الغابة المتحجرة...

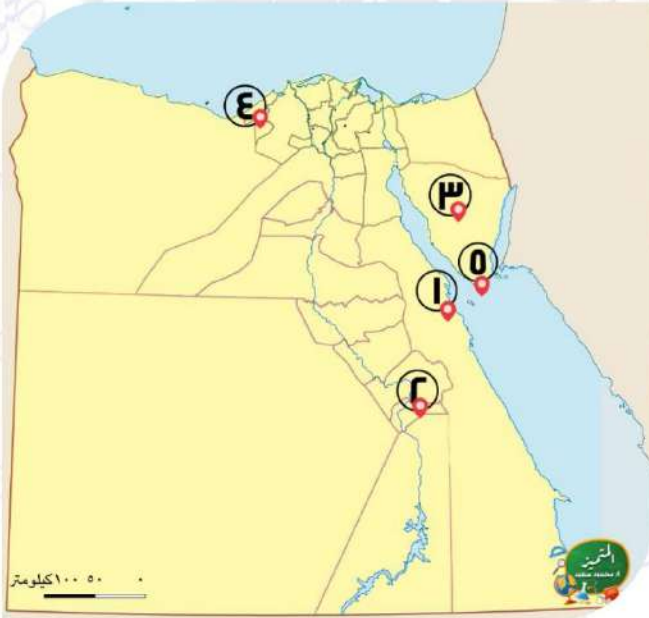


٣



- ١ منطقة تهدف الدولة إلى تحويلها إلى
متحف مفتوح الأهرامات.....
- ٢ شارع تقوم الدولة بتطويره لأهمية
الأثرية شارع المعز.....
- ٣ منطقة تراث طبيعي
..... محمية رأس محمد.....
- ٤ منطقة مهددة بخطر تآكل
التربة..... أبو ميناء.....
- ٥ مدينة تقع بها قلعة صلاح الدين
..... طابا.....

٤



- ١ إحدى مدن البحر الأحمر التي تشتهر
بالسياحة الترفيهية .. الغردقة..
- ٢ محافظة بها طريق الكباش
... الأقصر...
- ٣ محافظة تتمتع بسياحة ترفيهية
وعلاجية معا ... جنوب سيناء..
- ٤ محافظة يقع بها المسرح الروماني
.. الإسكندرية..
- ٥ أفضل مدينة للسلام في العالم
.... شرم الشيخ.....

انتهت الأسئلة مع أطيب الامنيات بالنجاح والتوفيق

