

التأسيس السليم

مراجعات شهر ابريل

الدراسات الاجتماعية

الصف الرابع الابتدائي

مراجعات
شهر
ابريل


الصف الرابع الابتدائي

4

الدراسات الاجتماعية



اختيارك
الأول في
مصادر



ذاكر معنا

شركة التأسيس السليم

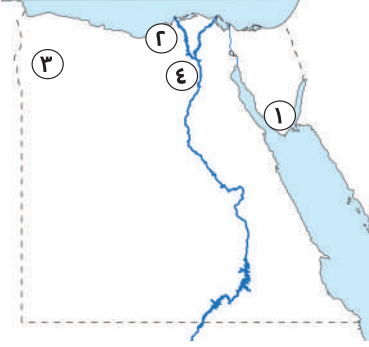




ذاكر معنا

النموذج الأول

السؤال الأول: (أ) أمامك خريطة صماء لمصر، ادرسها ثم أجب:



(١) محافظة يقع بها دير سانت كاترين:

(٢) محافظة يوجد بها منطقة آثار أبو مينا:

(٣) منطقة سياحية علاجية:

(٤) محمية طبيعية:

(ب) ما المقصود بـ: السياحة؟

.....

السؤال الثاني: (أ) أكمل العبارات الآتية بما يناسبها من كلمات:

(١) صنفت اليونسكو منطقة بأنها مهددة بخطر تآكل المباني.

(٢) في عهد الاحتلال الروماني تم بناء

(٣) تصنف واحة سيوة على أنها منطقة سياحة

(ب) أجب عما يلي:

(١) دلل على صحة العبارة الآتية: تسهم السياحة في دعم الاقتصاد المصري.

.....

.....

(٢) حدد اثنين من: السلوكيات التي يجب اتباعها للحفاظ على الآثار المصرية.

.....

.....

السؤال الثالث: (أ) اكتب كلمة (صواب) أو (خطأ) أمام العبارات الآتية:

(١) يوجد بمصر مواقع عديدة مسجلة على قائمة التراث العالمي لليونسيف. ()

(٢) يقع المعبد اليهودي في نهاية منطقة الكنائس القبطية في الفسطاط. ()

(٣) ازدهرت السياحة العلاجية في مصر لوجود مناطق العيون الكبرى. ()



(ب) أجب عما يلي:

(١) بم تفسر: تسمية الكنيسة المعلقة بهذا الاسم؟

⊖

(٢) ما العلاقة بين: بناء السد العالي وآثار النوبة؟

⊖

⊖

النموذج الثاني



السؤال الأول: (أ) أكمل العبارات الآتية بما يناسبها من كلمات:

(١) يقع برج القاهرة في جزيرة

(٢) يرجع تاريخ منطقة أبو مينا إلى فترة الحكم لمصر.

(٣) يقع جامع عمرو بن العاص في حي

(ب) أجب عما يلي:

(١) بم تفسر: بناء أهرامات الجيزة على هضبة مرتفعة.

⊖

(٢) دلل على صحة العبارة: تدعم مصر السياحة المستدامة.

⊖

⊖

السؤال الثاني: (أ) اختر الإجابة الصحيحة مما بين القوسين:

(١) مدينة مصرية تراثية تتميز بتاريخها العريق

(الإسكندرية - القاهرة - العريش - أسيوط)

(٢) تنتشر الشعاب المرجانية على ساحل البحر

(المتوسط - الأحمر - الأسود - الميت)

(٣) يجب علينا الالتزام بالعديد من الآداب عند زيارة المناطق الأثرية ومنها

(الكتابة على الجدران - خدش آثارها - عدم تلوينها - لمس القطع الأثرية)

(ب) أجب عما يلي:

(١) بم تفسر: أهمية قائمة التراث العالمي؟



(٢) دلل: يضم حي مصر القديمة العديد من الآثار.



السؤال الثالث: (أ) اكتب ما تشير إليه العبارات الآتية:

(١) محمية يوجد بها بقايا عظام وحياتان ضخمة كانت تعيش قبل ٤٠ مليون سنة. (.....)

(٢) سياحة تتمثل في زيارة الأماكن التاريخية والتراثية. (.....)

(٣) برج تم تصميمه على شكل زهرة اللوتس والتي تعد من رموز الحضارة المصرية.

(.....)

(ب) أجب عما يلي:

(١) ما العلاقة بين: السياحة والدخل القومي؟



(٢) دلل: تبذل الدولة العديد من الجهود للحفاظ على المناطق الأثرية.



النموذج الثالث

السؤال الأول: (أ) اكتب كلمة (صواب) أو (خطأ) أمام العبارات الآتية:

(١) شاركت منظمة اليونسكو في ترميم المدن القديمة. ()

(٢) تقوم الدولة بمشروعات للحفاظ على التراث العمراني. ()

(٣) محمية الغابة المتحجرة من التراث الثقافي لمصر. ()

(ب) أجب عما يلي:

(١) بم تفسر: قيام الدولة بمشروع تطوير مدينة القاهرة؟



(٢) ما النتائج المترتبة على: ازدهار السياحة في مصر؟



السؤال الثاني: (أ) حدد نوع السياحة عند زيارتك للمناطق الآتية:

- (١) العيون الكبرى بواحة سيوة. (.....)
- (٢) أهرامات الجيزة والمتاحف. (.....)
- (٣) رحلات السفاري في الصحراء المصرية. (.....)
- (٤) معرض القاهرة الدولي للكتاب. (.....)

(ب) **دلل على صحة العبارة:** تبذل مصر العديد من الجهود لتنمية السياحة في مصر.(ج) **ما المقصود ب:** السياحة المستدامة؟

السؤال الثالث: (أ) أكمل العبارات الآتية بما يناسبها من كلمات:

- (١) أمر الملك بنحت تمثال أبو الهول.
- (٢) تقع منطقة أبو مينا في بجوار مدينة برج العرب.
- (٣) تتم رحلات السفاري في المصرية.

(ب) أجب عما يلي:

(١) ما العلاقة بين: بناء الأهرامات والمعتقدات الدينية عند المصريين القدماء؟



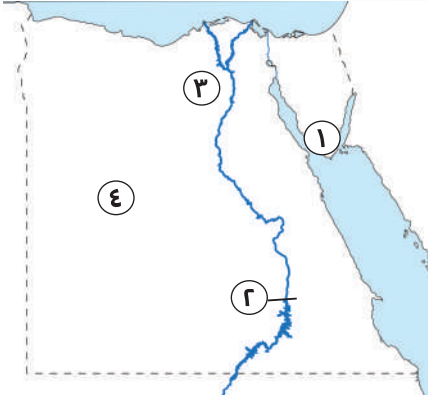
(٢) ما النتائج المترتبة على: تمتع مصر بالجو المعتدل ووجود الكثير من الآثار بها؟





النموذج الرابع

السؤال الأول: (أ) أمامك خريطة صماء لمصر، ادرسها ثم أجب:



(١) من أقدم الأديرة في مصر:

(٢) السد

(٣) محافظة بها منطقة وادي الحيتان:

(٤) الصحراء

(ب) ما النتائج المترتبة على؟

اعتقاد المصريين القدماء في البعث والخلود.

⌂

السؤال الثاني: (أ) اختر الإجابة الصحيحة مما بين القوسين:

(١) من التراث الطبيعي في مصر

(المحميات الطبيعية - الأهرامات - القلاع - المساجد)

(٢) يوجد مسجد (أحمد بن طولون) في محافظة

(شمال سيناء - جنوب سيناء - القاهرة - الإسكندرية)

(٣) زيارة مكتبة الإسكندرية من السياحة

(العلاجية - الترفيهية - الثقافية - الرياضية)

(ب) أجب عما يلي:

(١) بم تفسر: تصنيف اليونسكو منطقة أبو مينا بأنها منطقة مهددة بالخطر؟

⌂

(٢) وضح: دور منظمة اليونسكو في الحفاظ على التراث العالمي.

⌂

السؤال الثالث: (أ) اكتب ما تشير إليه العبارات:

(١) دير يقع في محافظة جنوب سيناء وهو من أقدم الأديرة في مصر. (.....)

(٢) نوع من أنواع السياحة يتم في الصحاري المصرية. (.....)

(٣) منظمة الأمم المتحدة للتربية والعلوم والثقافة. (.....)

(ب) بم تفسر..؟

(١) تقع الأهرامات على هضبة مرتفعة غرب نهر النيل.



(٢) القيام بمشروع تطوير القاهرة التاريخية.



النموذج الخامس

السؤال الأول: (أ) اختر الإجابة الصحيحة مما بين القوسين:

(١) يقع دير سانت كاترين في محافظة جنوب سيناء عند سفح جبل

(العوينات - علة - الشايب - سيناء)

(٢) قامت منظمة اليونسكو بإنقاذ معبدي أبو سمبل من الغرق بعد بناء

(القناطر الخيرية - خزان أسوان - السد العالي - قناطر إسنا)

(٣) من المناطق الأثرية التي يهتم بها مشروع تطوير مدينة القاهرة التاريخية منطقة

(المعادي - المقطم - الأزهر - الزمالك)

(ب) أجب عما يلي:

(١) ما العلاقة بين: اليونسكو ومنطقة أبو مينا؟



(٢) بم تفسر: تعد مدينة القاهرة التاريخية من أهم وأكبر المدن التراثية في العالم؟



السؤال الثاني: (أ) أكمل العبارات الآتية بما يناسبها من كلمات:

(١) توجد الكنيسة المعلقة بحي بالقاهرة.

(٢) من أهم المعارض السنوية التي تقام في مصر معرض

(٣) برج يعد من أحد معالم العاصمة وصمم على شكل زهرة اللوتس.

(ب) اذكر اثنين من: السلوكيات التي يجب اتباعها للحفاظ على الآثار المصرية.



السؤال الثالث: (أ) أمامك مجموعة من الأماكن السياحية، صفها على حسب نوعها:

"مهرجان الإسماعيلية - رحلات السفاري - شارع المعز - العيون الكبريتية - مؤتمر النقل الذكي - واحة سيوة - دار الأوبرا"

سياحة ثقافية	سياحة ترفيهية	سياحة علاجية	سياحة مؤتمرات ومهرجانات
.....
.....

(ب) اكتب سبباً واحداً لـ: قدوم السياح لزيارة بلادنا.



النموذج السادس

السؤال الأول: (أ) اكتب ما تشير إليه العبارات الآتية:

- (١) يشمل الصناعات والحرف التراثية وعادات وتقاليد الشعوب. (.....)
- (٢) يوجد في جزيرة الزمالك وتم تصميمه على شكل زهرة اللوتس. (.....)
- (٣) يشمل المواقع الطبيعية الجميلة التي لم يتدخل الإنسان في صناعتها. (.....)

(ب) أجب عما يلي:

(١) فسر: نحت تمثال أبو الهول على شكل رأس إنسان وجسم أسد.



(٢) ما النتائج المترتبة على: تغطية البحر قديماً لمنطقة الفيوم؟



السؤال الثاني: (أ) صوب ما تحته خط:

- (١) توجد مدينة شرم الشيخ على ساحل البحر المتوسط. (.....)
- (٢) تقع منطقة أبو مينا في الإسكندرية بجوار مدينة العجمي. (.....)
- (٣) دير القديسين من أقدم الأديرة في مصر. (.....)
- (ب) حدد: بعض الحضارات التي قامت على أرض مصر قديمًا.

السؤال الثالث: (أ) اختر الإجابة الصحيحة مما بين القوسين:

- (١) يرجع تاريخ بناء حصن بابلين إلى فترة الحكم
(البطلمي - الروماني - الإسلامي - الروماني)
- (٢) يضم التراث الطبيعي
(الجامع الأزهر - الكنيسة المعلقة - محمية الغابة المتحجرة - قلعة صلاح الدين)
- (٣) زيارتك لمكتبة الإسكندرية للاطلاع على الكتب تعد سياحة
(ثقافية - ترفيهية - علاجية - مؤتمرات)

(ب) أجب عما يلي:

- (١) فسر: يجب عدم استخدام ضوء (فلاش) الكاميرا عند التقاط صور الآثار. (.....)
- (٢) دلل: تساهم منظمة اليونسكو في تحقيق أهداف التنمية المستدامة. (.....)



ذاكر معنا

النموذج السابع

السؤال الأول: (أ) اكتب كلمة (صواب) أو (خطأ) أمام العبارات الآتية:

- (١) تعد عادات وتقاليد الشعوب من التراث الطبيعي. ()
- (٢) يعد تطوير سور مجرى العيون أحد جهود الدولة للحفاظ على المواقع الأثرية. ()
- (٣) يمكنك كتابة اسمك على جدران معبد الكرنك لتخليد ذكرى زيارتك. ()
- (ب) حدد: أحد معايير اختيار منظمة اليونسكو للأماكن على قائمة التراث العالمي.

.....

.....

السؤال الثاني: (أ) أكمل العبارات الآتية بما يناسبها من كلمات:

- (١) حضورك لإحدى حفلات دار الأوبرا المصرية يعد سياحة
- (٢) تم تصميم برج القاهرة على شكل زهرة
- (٣) أفضل مدينة سلام على مستوى العالم تقع ضمن محافظة

(ب) أجب عما يلي:

- (١) اكتب دليلاً عما يلي: وجود السياحة الترفيهية في مصر.

.....

.....

(٢) ما المقصود بـ: السياحة؟

.....

.....

.....



السؤال الثالث: (أ) اختر الإجابة الصحيحة مما بين القوسين:

- (١) يعد دفن السائحين لأجسامهم في رمال واحة سيوة سياحة.....
(علاجية - ثقافية - ترفيهية - بيئية)
- (٢) يشمل تطوير القاهرة التاريخية منطقة.....
(النوبة - جزيرة فيلة - الأزهر - أبو سمبل)
- (٣) أي من السلوكيات التالية يعد سلوكاً مقبولاً عند زيارة المناطق الأثرية؟.....
(استخدام ضوء الكاميرا - اتباع قواعد الأمن - تناول الطعام والشراب - لمس القطع الأثرية)

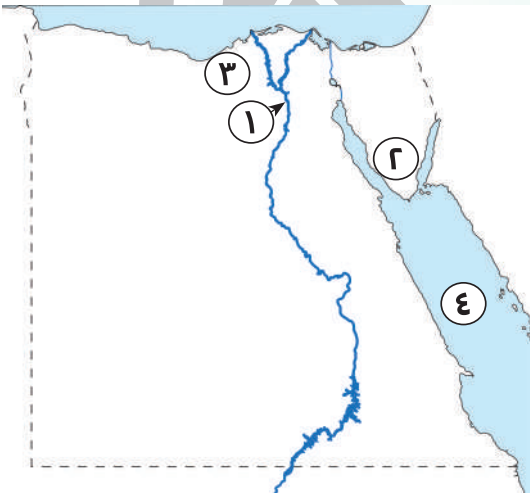
(ب) أجب عما يلي:

صنف الأماكن التالية إلى تراث طبيعي وتراث ثقافي: "محمية رأس محمد - الأهرامات وأبو الهول - محمية الغابة المتحجرة - الكنيسة المعلقة"

تراث طبيعي	تراث ثقافي
.....
.....

النموذج الثامن

السؤال الأول: (أ) أمامك خريطة صماء لمصر، ادرسها ثم أجب:



- (١) منطقة تراث طبيعي:
- (٢) دير
- (٣) منطقة تراثية:
- (٤) البحر
- (ب) ما المقصود ب: البعث؟

السؤال الثاني: (أ) اكتب كلمة (صواب) أو (خطأ) أمام العبارات الآتية:

- () (١) بُني حصن بابلون خلال الاحتلال الروماني لمصر.
- () (٢) استضافت مصر مؤتمر المناخ في مدينة الغردقة.
- () (٣) اختارت منظمة اليونسكو مدينة مرسى مطروح كأفضل مدينة سلام في العالم.

(ب) أجب عما يلي:

(١) دلل على صحة العبارة: وجود سياحة المؤتمرات في مصر.



(٢) بم تفسر: أهمية الأهرامات عند المصريين القدماء؟



السؤال الثالث: (أ) أكمل العبارات الآتية:

- (١) يعد مسجد "أحمد بن طولون" تراثاً
- (٢) يقع في نهاية منطقة الكنائس القبطية في الفسطاط.
- (٣) يعتبر نشاط المصدر الأول للعملة الأجنبية في مصر.

(ب) قارن بين: التراث الطبيعي والتراث الثقافي من حيث "التعريف".

التراث الثقافي	التراث الطبيعي	وجه المقارنة
.....	التعريف
.....	
.....	
.....	
.....	



ذاكر معنا

النموذج التاسع

السؤال الأول: (أ) اختر الإجابة الصحيحة مما بين القوسين:

- (١) قامت الدولة في حي المطرية بتطوير
- (منطقة الأزهر - سور مجرى العيون - الدرب الأحمر - مسار العائلة المقدس)
- (٢) زيارة السائحين لمدينة شرم الشيخ للاستمتاع بالشعاب المرجانية تعد سياحة
- (ثقافية - علاجية - ترفيهية - مؤتمرات)
- (٣) إحدى المواقع المصرية المسجلة ضمن قائمة التراث العالمي
- (جزيرة فرعون - محمية رأس محمد - المسرح الروماني - منطقة وادي الحيتان)

(ب) أجب عما يلي:

(١) ما العلاقة بين: السياحة - البطالة؟

.....

(٢) دلل: تتعدد المناطق التي يشملها مشروع تطوير القاهرة التاريخية.

.....

.....

السؤال الثاني: (أ) اكتب كلمة (صواب) أو (خطأ) أمام العبارات الآتية:

- (١) تم نحت تمثال أبو الهول في عهد الملك خفرع. ()
- (٢) يفضل أخذ القطع الأثرية إلى المنزل لتخليد زيارتك. ()
- (٣) ازدهرت السياحة العلاجية في مصر، لوجود مناطق العيون الكبريتية والرمال الساخنة. ()

(ب) أجب عما يلي:

(١) دلل على صحة العبارة: تأثر تصميم برج القاهرة بالحضارة المصرية القديمة.

.....

.....



(٢) بم تفسر: يعد مجمع الأديان منطقة سياحية مهمة؟



السؤال الثالث: (أ) أكمل العبارات الآتية بما يناسبها من كلمات:

(١) استضافت مصر مؤتمر (Cop 27) في مدينة

(٢) يقع معبد إيزيس في جزيرة

(٣) تطل مدينة مرسى مطروح على شواطئ البحر

(ب) أجب عما يلي:

(١) ما النتائج المترتبة على: وجود العديد من العيون الكبريتية في مصر؟



(٢) ما المقصود بـ: الدخل القومي؟



النموذج العاشر

السؤال الأول: (أ) صوب ما تحته خط:

(١) تصنف عادات وتقاليد الشعوب على أنها تراث طبيعي. (.....)

(٢) يقع تمثال أبو الهول في محافظة القاهرة. (.....)

(٣) إحدى أبرز المدن التراثية في العالم مدينة شرم الشيخ. (.....)

(ب) أجب عما يلي:

(١) استنتج: أهمية حي مصر القديمة.



(٢) وضح: دور الدولة في الحفاظ على القيمة التاريخية والاقتصادية للمناطق الأثرية.



السؤال الثاني: (أ) أكمل العبارات الآتية بما يناسبها من كلمات:

(الطعام - الآثار - البيئة - فلاش الكاميرا)

- (١) تضع الدولة القوانين التي تجرم الاتجار في
- (٢) تدعم مصر السياحة المستدامة من أجل الحفاظ على
- (٣) يجب عليك أثناء زيارتك للمناطق الأثرية عدم استخدام

(ب) أجب عما يلي:

(١) ما النتائج المترتبة على: تنوع السياحة في بلدنا؟



(٢) بم تفسر: أهمية السياحة للاقتصاد المصري؟



السؤال الثالث: (أ) اختر الإجابة الصحيحة مما بين القوسين:

- (١) أحد الآثار التابعة للتابعة للاحتلال الروماني في مصر
- (برج القاهرة - الجامع الأزهر - حصن بابلون - أبو الهول)
- (٢) أحد مظاهر السياحة الثقافية في مصر القيام بـ
- (رحلات السفاري - زيارة شواطئ الغردقة - حضور المؤتمرات - زيارة أهرامات الجيزة)
- (٣) تدعم مصر السياحة المستدامة من خلال مشاركتها في مبادرات دولية لحماية
- (النباتات الشوكية - الشعاب المرجانية - الأشجار المتحجرة - النبات الطبيعي)

(ب) أجب عما يلي:

(١) ما العلاقة بين: منطقة اليونسكو - الآثار المصرية؟



(٢) حدد اثنين من: السلوكيات الواجب اتباعها عند زيارة المناطق الأثرية.



التأسيس السليم

مراجعات شهر ابريل

الدراسات الاجتماعية

الصف الرابع الابتدائي

مراجعات
شهر
ابريل

الصف الرابع الابتدائي

4

الدراسات الاجتماعية



اختيارك
الأول في
مصادر



ذاكر معنا

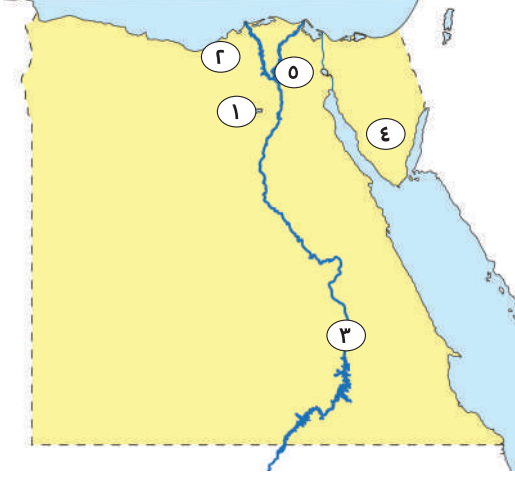
شركة التأسيس السليم





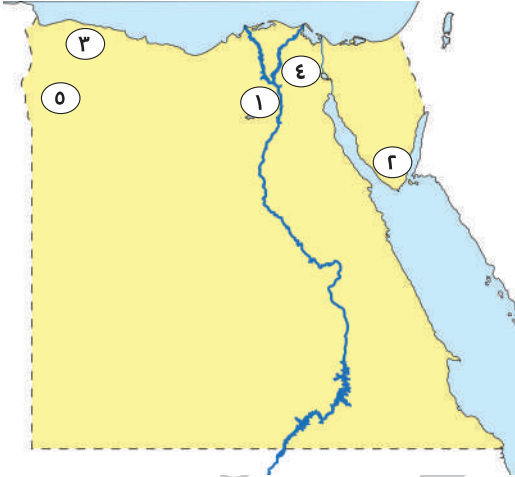
١

(أ) أمامك خريطة صماء لمصر، ادرسها ثم أجب:



- (١) محافظة يوجد بها وادي الحيتان:
- (٢) محافظة يوجد بها منطقة أبو مينا:
- (٣) محافظة يوجد بها معبدي أبو سمبل:
- (٤) دير
- (٥) محافظة تراثية:

(ب) أمامك خريطة صماء لمصر، ادرسها ثم أجب:



- (١) محافظة يوجد بها الأهرامات:
- (٢) مدينة سياحية:
- (٣) محافظة سياحية:
- (٤) محافظة بها مجمع الأديان:
- (٥) واحة تشتهر بالسياحة العلاجية:

٢

أكمل العبارات الآتية بما يناسبها من الكلمات:

- (أ) يرجع تاريخ منطقة أبو مينا إلى فترة الحكم لمصر.
- (ب) تم تصميم برج القاهرة على شكل
- (ج) تم بناء جامع عمرو بن العاص في عهد الخليفة
- (د) ساهمت منظمة في إنقاذ معبدي أبو سمبل من الغرق.
- (هـ) يهدف مشروع تطوير القاهرة التاريخية إلى صيانة الأماكن الأثرية مثل
- (و) تتمثل السياحة الترفيهية في زيارة مدينة و..... على شاطئ البحر المتوسط.



٣

اكتب كلمة (صواب) أمام العبارة الصحيحة وكلمة (خطأ) أمام العبارة غير الصحيحة:

- (أ) تساهم منظمة اليونسكو في ترميم بعض المدن القديمة. ()
- (ب) تم بناء حصن بابلين في عهد الاحتلال اليوناني لمصر. ()
- (ج) زيارة العيون الكبرى والرمال الساخنة من أنواع السياحة العلاجية. ()
- (د) يجب علينا عدم مساعدة السياح إذا طلبوا ذلك. ()
- (هـ) بنى المصريون القدماء الأهرامات لاعتقادهم في البعث والخلود. ()

٤

اختر الإجابة الصحيحة مما بين القوسين:

- (أ) تقع محمية في محافظة الفيوم.
(رأس محمد - الغابة المتحجرة - وادي الحيتان - أبو مينا)
- (ب) بُنيت على الأبراج الجنوبية من حصن بابلين.
(الكنيسة المعلقة - المعبد اليهودي - جامع عمرو بن العاص - دير سانت كاترين)
- (ج) من الواحات التي تشتهر بالسياحة العلاجية
(الغرافرة - سيوة - الداخلة - الخارجة)
- (د) تعد مدينة بمصر من أبرز المدن التراثية القديمة في العالم.
(القاهرة - الإسكندرية - العريش - طابا)
- (هـ) ساهمت منظمة اليونسكو في إنقاذ معبدي أبو سمبل من الغرق بعد بناء
(القناطر الخيرية - السد العالي - خزان أسوان - قناطر إسنا)

٥

صوب ما تحته خط:

- (أ) مدينة شرم الشيخ تقع في شمال سيناء. ()
- (ب) يوجد برج القاهرة على جزيرة أبو سمبل بالقاهرة. ()
- (ج) يوجد مسجد أحمد بن طولون في الإسكندرية. ()
- (د) توجد حفريات لكائنات بحرية تعود لحوالي ٤٠ مليون سنة في منطقة رأس محمد. ()
- (هـ) مؤتمر (قمة المناخ 27 Cop) في مدينة شرم الشيخ يعد سياحة ترفيهية. ()

٦ اكتب ما تشير إليه العبارات الآتية:

- (أ) السياحة التي تهدف إلى الحفاظ على البيئة والموارد الطبيعية. (.....)
- (ب) مدينة تعد من أبرز المدن التراثية القديمة على مستوى العالم. (.....)
- (ج) يشمل المواقع الطبيعية الجميلة ذات القيمة العالمية التي لم يتدخل الإنسان في صناعتها. (.....)
- (د) سياحة تتمثل في زيارة مناطق العيون الكبريتية والرمال الساخنة للاستجمام. (.....)
- (هـ) انتقال الأفراد من أماكن إقامتهم إلى أماكن أخرى لأغراض متعددة منها الترفيه والعلاج وغيرها. (.....)

٧ بم تفسر..؟

- (أ) أهمية قائمة التراث العالمي. (.....)
- (ب) تسمية الكنيسة المعلقة بهذا الاسم. (.....)
- (ج) أهمية السياحة لمصر. (.....)
- (د) قيام الدولة بمشروع تطوير مدينة القاهرة. (.....)
- (هـ) أمر الملك خفرع بنحت تمثال أبو الهول. (.....)

دليل على صحة العبارات الآتية:

٨

(أ) تبذل منظمة اليونسكو جهودًا لإنقاذ بعض المواقع التراثية المصرية.

Ⓒ

Ⓒ

(ب) جهود الدولة لتنمية السياحة في مصر.

Ⓒ

Ⓒ

Ⓒ

(ج) تدعم مصر السياحة المستدامة.

Ⓒ

Ⓒ

Ⓒ

(د) تبذل مصر العديد من الجهود للحفاظ على الآثار المصرية.

Ⓒ

Ⓒ

Ⓒ

Ⓒ

(هـ) تتعدد السلوكيات الواجب اتباعها للحفاظ على الآثار. "حدد ثلاثة منها".

Ⓒ

Ⓒ

Ⓒ



انضم لقناة الواتساب الرسمية واستمتع
بفيديوهات الشرح والمراجعة والتدريبات
وذاكر مع التأسيس السليم



علوم

اللغة العربية

الإجابات النموذجية

الرياضيات

MATHEMATICS

الدراسات الاجتماعية

التربية الدينية

المهارات المهنية

تكنولوجيا المعلومات
والاتصالات

مراجعات
شهر
أبريل

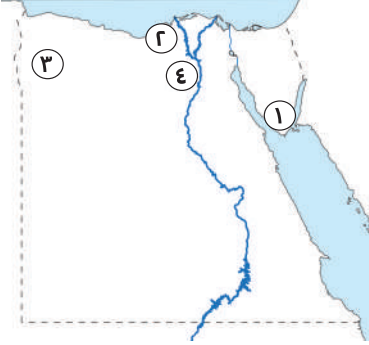




ذاكر معنا

النموذج الأول

السؤال الأول: (أ) أمامك خريطة صماء لمصر، ادرسها ثم أجب:



- (١) محافظة يقع بها دير سانت كاترين: جنوب سيناء.
- (٢) محافظة يوجد بها منطقة آثار أبو مينا: الإسكندرية.
- (٣) منطقة سياحية علاجية: واحة سيوة.
- (٤) محمية طبيعية: وادي الحيتان.

(ب) ما المقصود بـ: السياحة؟

☞ هي انتقال الأفراد من مكان إقامتهم إلى أماكن أخرى لأغراض متعددة منها التنزه والترفيه والعلاج وغيرها.

السؤال الثاني: (أ) أكمل العبارات الآتية بما يناسبها من كلمات:

- (١) صنفت اليونسكو منطقة **أبو مينا** بأنها مهددة بخطر تآكل المباني.
- (٢) في عهد الاحتلال الروماني تم بناء **حصن بابليون**.
- (٣) تصنف واحة سيوة على أنها منطقة **سياحة علاجية**.

(ب) أجب عما يلي:

(١) دلل على صحة العبارة الآتية: تسهم السياحة في دعم الاقتصاد المصري.

☞ حيث إنها: توفر فرص عمل للشباب.

☞ المصدر الأول للعملات الأجنبية.

☞ تساهم بنحو ١٢% من إجمالي الدخل القومي.

(٢) حدد اثنين من: السلوكيات التي يجب اتباعها للحفاظ على الآثار المصرية.

☞ اتباع قواعد النظافة والأمن داخلها. ☞ عدم لمس القطع الأثرية أو الوقوف ملاصقين لها.

السؤال الثالث: (أ) اكتب كلمة (صواب) أو (خطأ) أمام العبارات الآتية:

- (١) يوجد بمصر مواقع عديدة مسجلة على قائمة التراث العالمي لليونسيف. (خطأ)
- (٢) يقع المعبد اليهودي في نهاية منطقة الكنائس القبطية في الفسطاط. (صواب)
- (٣) ازدهرت السياحة العلاجية في مصر لوجود مناطق العيون الكبرى. (صواب)



(ب) أجب عما يلي:

- (١) بم تفسر: تسمية الكنيسة المعلقة بهذا الاسم؟
- Ⓒ لأنها بنيت على الأبراج الجنوبية من حصن بابلليون، وترتفع عدة أمتار عن سطح الأرض.
- (٢) ما العلاقة بين: بناء السد العالي وآثار النوبة؟
- Ⓒ كان بناء السد العالي سببًا في نقل "معبد أبو سمبل ومعبد إيزيس" إلى موقعهم الحالي لإنقاذهم من الغرق.

النموذج الثاني



السؤال الأول: (أ) أكمل العبارات الآتية بما يناسبها من كلمات:

- (١) يقع برج القاهرة في جزيرة **الزمالك**.
- (٢) يرجع تاريخ منطقة أبو مينا إلى فترة الحكم **الروماني** لمصر.
- (٣) يقع جامع عمرو بن العاص في حي **مصر القديمة**.

(ب) أجب عما يلي:

- (١) بم تفسر: بناء أهرامات الجيزة على هضبة مرتفعة.
- Ⓒ لتكون بعيدة عن خطر فيضان نهر النيل.
- (٢) دلل على صحة العبارة: تدعم مصر السياحة المستدامة.
- Ⓒ حيث إنها: تقوم بترشيد استهلاك المياه والطاقة.
- Ⓒ وتوفر التعامل الآمن مع المخلفات والاعتماد على الطاقة النظيفة.

السؤال الثاني: (أ) اختر الإجابة الصحيحة مما بين القوسين:

- (١) مدينة مصرية تراثية تتميز بتاريخها العريق
(الإسكندرية - **القاهرة** - العريش - أسبوط)
- (٢) تنتشر الشعاب المرجانية على ساحل البحر
(المتوسط - **الأحمر** - الأسود - الميت)
- (٣) يجب علينا الالتزام بالعديد من الآداب عند زيارة المناطق الأثرية ومنها
(الكتابة على الجدران - خدش آثارها - **عدم تلويثها** - لمس القطع الأثرية)

(ب) أجب عما يلي:

- (١) بم تفسر: أهمية قائمة التراث العالمي؟
 ج تساعد على زيادة معرفة المواطنين بالمواقع الأثرية.
 ج تشجيع الشعوب على زيارة المواقع الأثرية مما يساهم في زيادة الدخل القومي.
 (٢) دلل: يضم حي مصر القديمة العديد من الآثار.
 ج حيث يوجد داخل حي مصر القديمة: "المعبد اليهودي - حصن بابليون - الكنيسة المعلقة - جامع عمرو بن العاص".

السؤال الثالث: (أ) اكتب ما تشير إليه العبارات الآتية:

- (١) محمية يوجد بها بقايا عظام وحياتان ضخمة كانت تعيش قبل ٤٠ مليون سنة. (وادي الحيتان)
 (٢) سياحة تتمثل في زيارة الأماكن التاريخية والتراثية. (السياحة الثقافية)
 (٣) برج تم تصميمه على شكل زهرة اللوتس والتي تعد من رموز الحضارة المصرية. (برج القاهرة)

(ب) أجب عما يلي:

- (١) ما العلاقة بين: السياحة والدخل القومي؟
 ج يساهم نشاط السياحة في زيادة الدخل القومي.
 (٢) دلل: تبذل الدولة العديد من الجهود للحفاظ على المناطق الأثرية.
 ج حيث إنها: تصدر قوانين تجرم الاتجار بالآثار والاعتداء عليها.
 ج تنظم عمليات البحث والتنقيب عن الآثار وتشرف عليها.

النموذج الثالث

السؤال الأول: (أ) اكتب كلمة (صواب) أو (خطأ) أمام العبارات الآتية:

- (١) شاركت منظمة اليونسكو في ترميم المدن القديمة. (صواب)
 (٢) تقوم الدولة بمشروعات للحفاظ على التراث العمراني. (صواب)
 (٣) محمية الغابة المتحجرة من التراث الثقافي لمصر. (خطأ)

(ب) أجب عما يلي:

- (١) بم تفسر: قيام الدولة بمشروع تطوير مدينة القاهرة؟
 ✎ لحماية وصيانة المباني الأثرية والتاريخية بالقاهرة.
 (٢) ما النتائج المترتبة على: ازدهار السياحة في مصر؟
 ✎ زيادة الدخل القومي وتوفير فرص العمل وتحقيق التنمية الاقتصادية.

السؤال الثاني: (أ) حدد نوع السياحة عند زيارتك للمناطق الآتية:

- (١) العيون الكبرى بواحة سيوة. (سياحة علاجية)
 (٢) أهرامات الجيزة والمتاحف. (سياحة ثقافية)
 (٣) رحلات السفاري في الصحراء المصرية. (سياحة ترفيهية)
 (٤) معرض القاهرة الدولي للكتاب. (سياحة مؤتمرات ومهرجانات)

(ب) **دل على صحة العبارة:** تبذل مصر العديد من الجهود لتنمية السياحة في مصر.

- ✎ حيث إنها: تقوم بإنشاء وتطوير المنشآت السياحية مثل: "القرى والفنادق".
 ✎ تقوم بتطوير وسائل النقل والمواصلات.
 ✎ تقوم بصيانة المناطق الأثرية وترميمها.
 (ج) **ما المقصود بـ:** السياحة المستدامة؟

✎ السياحة التي تهدف إلى الحفاظ على البيئة ومواردها الطبيعية.

السؤال الثالث: (أ) أكمل العبارات الآتية بما يناسبها من كلمات:

- (١) أمر الملك **خفرع** بنحت تمثال أبو الهول.
 (٢) تقع منطقة أبو مينا في **الإسكندرية** بجوار مدينة برج العرب.
 (٣) تتم رحلات السفاري في **الصحاري** المصرية.

(ب) أجب عما يلي:

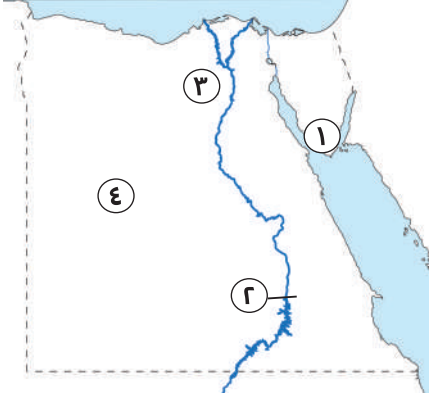
- (١) ما العلاقة بين: بناء الأهرامات والمعتقدات الدينية عند المصريين القدماء؟
 ✎ قام المصريون القدماء ببناء الأهرامات "كمقابر حصينة" لاعتقادهم في البعث والخلود.
 (٢) ما النتائج المترتبة على: تمتع مصر بالجو المعتدل ووجود الكثير من الآثار بها؟
 ✎ جعلها من مناطق الجذب السياحي.



ذاكر معنا

النموذج الرابع

السؤال الأول: (أ) أمامك خريطة صماء لمصر، ادرسها ثم أجب:



(١) من أقدم الأديرة في مصر: **سانت كاترين**.

(٢) **السد العالي**.

(٣) محافظة بها منطقة وادي الحيتان: **الفيوم**.

(٤) **الصحراء الغربية**.

(ب) ما النتائج المترتبة على؟

اعتقاد المصريين القدماء في البعث والخلود.

قاموا ببناء الأهرامات لتكون مقابر حصينة للملوك.

السؤال الثاني: (أ) اختر الإجابة الصحيحة مما بين القوسين:

(١) من التراث الطبيعي في مصر

(المحميات الطبيعية - الأهرامات - القلاع - المساجد)

(٢) يوجد مسجد (أحمد بن طولون) في محافظة

(شمال سيناء - جنوب سيناء - **القاهر** - الإسكندرية)

(٣) زيارة مكتبة الإسكندرية من السياحة

(العلاجية - الترفيهية - **الثقافية** - الرياضية)

(ب) أجب عما يلي:

(١) بم تفسر: تصنيف اليونسكو منطقة أبو مينا بأنها منطقة مهددة بالخطر؟

لأنها تعاني من خطر تآكل التربة والمباني.

(٢) وضح: دور منظمة اليونسكو في الحفاظ على التراث العالمي.

تقديم المساعدة إلى الدول للحفاظ على المواقع التراثية المهددة بالخطر.

تساهم في ترميم بعض المدن القديمة.

السؤال الثالث: (أ) اكتب ما تشير إليه العبارات:

(١) دير يقع في محافظة جنوب سيناء وهو من أقدم الأديرة في مصر. (دير سانت كاترين)

(٢) نوع من أنواع السياحة يتم في الصحاري المصرية. (سياحة السفاري)

(٣) منظمة الأمم المتحدة للتربية والعلوم والثقافة. (منظمة اليونسكو)



(ب) بم تفسر..؟

- (١) تقع الأهرامات على هضبة مرتفعة غرب نهر النيل.
 Ⓒ لتكون بعيدة عن الفيضان.
 (٢) القيام بمشروع تطوير القاهرة التاريخية.
 Ⓒ لحماية وصيانة المباني الأثرية والتاريخية مثل "منطقة الأزهر والغورية والدرب الأحمر وغيرها".

النموذج الخامس

السؤال الأول: (أ) اختر الإجابة الصحيحة مما بين القوسين:

- (١) يقع دير سانت كاترين في محافظة جنوب سيناء عند سفح جبل.....
 (العوينات - علة - الشايب - سيناء)
 (٢) قامت منظمة اليونسكو بإنقاذ معبدي أبو سمبل من الغرق بعد بناء.....
 (القناطر الخيرية - خزان أسوان - السد العالي - قناطر إسنا)
 (٣) من المناطق الأثرية التي يهتم بها مشروع تطوير مدينة القاهرة التاريخية منطقة.....
 (المعادي - المقطم - الأزهر - الزمالك)

(ب) أجب عما يلي:

- (١) ما العلاقة بين: اليونسكو ومنطقة أبو مينا؟
 Ⓒ صنفت منظمة اليونسكو منطقة أبو مينا بأنها مهددة بخطر تآكل التربة والمباني.
 (٢) بم تفسر: تعد مدينة القاهرة التاريخية من أهم وأكبر المدن التراثية في العالم؟
 Ⓒ لأنها تتميز بتعدد الآثار والمباني التاريخية التي تعبر عن تاريخ القاهرة الطويل بصفتها عاصمة (سياسية وثقافية ودينية.... وغيرها).

السؤال الثاني: (أ) أكمل العبارات الآتية بما يناسبها من كلمات:

- (١) توجد الكنيسة المعلقة بحي مصر القديمة بالقاهرة.
 (٢) من أهم المعارض السنوية التي تقام في مصر معرض القاهرة الدولي للكتاب.
 (٣) برج القاهرة يعد من أحد معالم العاصمة وصمم على شكل زهرة اللوتس.

- (ب) اذكر اثنين من: السلوكيات التي يجب اتباعها للحفاظ على الآثار المصرية.
- ⊖ يجب علينا أن نحسن معاملة السياح في الأماكن السياحية.
 - ⊖ عدم تلويث الآثار بالكتابة عليها أو خدشها أو أخذ قطعة منها إلى المنزل.

السؤال الثالث: (أ) أمامك مجموعة من الأماكن السياحية، صفها على حسب نوعها:

"مهرجان الإسماعيلية - رحلات السفاري - شارع المعز - العيون الكبريتية - مؤتمر النقل الذكي - واحة سيوة - دار الأوبرا"

سياحة ثقافية	سياحة ترفيهية	سياحة علاجية	سياحة مؤتمرات ومهرجانات
دار الأوبرا. شارع المعز.	رحلات السفاري.	واحة سيوة. العيون الكبريتية.	مؤتمر النقل الذكي. مهرجان الإسماعيلية.

- (ب) اكتب سببًا واحدًا ل: قدوم السياح لزيارة بلادنا.
- ⊖ لأن مصر تتمتع بالمناطق السياحية المتنوعة والخلابة التي تجذب السياح إليها من دول العالم.

النموذج السادس

السؤال الأول: (أ) اكتب ما تشير إليه العبارات الآتية:

- (١) يشمل الصناعات والحرف التراثية وعادات وتقاليد الشعوب. (التراث الثقافي)
- (٢) يوجد في جزيرة الزمالك وتم تصميمه على شكل زهرة اللوتس. (برج القاهرة)
- (٣) يشمل المواقع الطبيعية الجميلة التي لم يتدخل الإنسان في صناعتها. (التراث الطبيعي)

(ب) أجب عما يلي:

- (١) فسر: نحت تمثال أبو الهول على شكل رأس إنسان وجسم أسد.
- ⊖ ليكون رمزًا للقوة ولحماية الأهرامات من السرقة.
- (٢) ما النتائج المترتبة على: تغطية البحر قديمًا لمنطقة الفيوم؟
- ⊖ أدى إلى وجود حفريات لأسماك وحياتان منذ ٤٠ مليون سنة في محمية وادي الحيتان.

السؤال الثاني: (أ) صوب ما تحته خط:

- (١) توجد مدينة شرم الشيخ على ساحل البحر المتوسط. (البحر الأحمر)
- (٢) تقع منطقة أبو مينا في الإسكندرية بجوار مدينة العجمي. (برج العرب)
- (٣) دير القديسين من أقدم الأديرة في مصر. (سانت كاترين)
- (ب) حدد: بعض الحضارات التي قامت على أرض مصر قديمًا.
- ج "الحضارة المصرية القديمة - الحضارة اليونانية والرومانية - الحضارة القبطية - الحضارة الإسلامية".

السؤال الثالث: (أ) اختر الإجابة الصحيحة مما بين القوسين:

- (١) يرجع تاريخ بناء حصن بابلون إلى فترة الحكم
(البطلمي - الروماني - الإسلامي - الروماني)
- (٢) يضم التراث الطبيعي
(الجامع الأزهر - الكنيسة المعلقة - محمية الغابة المتحجرة - قلعة صلاح الدين)
- (٣) زيارتك لمكتبة الإسكندرية للاطلاع على الكتب تعد سياحة
(ثقافية - ترفيهية - علاجية - مؤتمرات)

(ب) أجب عما يلي:

(١) فسر: يجب عدم استخدام ضوء (فلاش) الكاميرا عند التقاط صور الآثار.

ج لأنه يمكن أن يكون له تأثير سلبي على بعض الآثار.

(٢) دلل: تساهم منظمة اليونسكو في تحقيق أهداف التنمية المستدامة.

ج حيث إنها: توفر فرص التعليم الجيد للأفراد.

ج تساعد في القضاء على الفقر.

ج تساعد في المساواة بين الجنسين.



ذاكر معنا

النموذج السابع

السؤال الأول: (أ) اكتب كلمة (صواب) أو (خطأ) أمام العبارات الآتية:

- (١) تعد عادات وتقاليد الشعوب من التراث الطبيعي. (خطأ)
- (٢) يعد تطوير سور مجرى العيون أحد جهود الدولة للحفاظ على المواقع الأثرية. (صواب)
- (٣) يمكنك كتابة اسمك على جدران معبد الكرنك لتخليد ذكرى زيارتك. (خطأ)
- (ب) حدد:** أحد معايير اختيار منظمة اليونسكو للأماكن على قائمة التراث العالمي.

يشترط أن تضم الأماكن مناطق طبيعية فائقة الجمال لا مثيل لها أو تعكس مراحل مهمة من التطور عبر العصور.

السؤال الثاني: (أ) أكمل العبارات الآتية بما يناسبها من كلمات:

- (١) حضورك لإحدى حفلات دار الأوبرا المصرية يعد سياحة **ثقافية**.
- (٢) تم تصميم برج القاهرة على شكل زهرة **اللوتس**.
- (٣) أفضل مدينة سلام على مستوى العالم تقع ضمن محافظة **جنوب سيناء**.

(ب) أجب عما يلي:

- (١) اكتب دليلاً عما يلي: وجود السياحة الترفيهية في مصر.
- حيث يوجد العديد من الأماكن مثل مدينة ذهب وشرم الشيخ على ساحل البحر الأحمر ويمكنك التمتع فيهم بالمناظر الخلابة والشعاب المرجانية وأيضاً رحلات السفاري والتنزه عبر نهر النيل.
- (٢) ما المقصود بـ: السياحة؟
- انتقال الأفراد من مكان إقامتهم إلى أماكن أخرى لأغراض متعددة مثل: التنزه والترفيه والعلاج وزيارة الأماكن الترفيهية.



السؤال الثالث: (أ) اختر الإجابة الصحيحة مما بين القوسين:

- (١) يعد دفن السائحين لأجسامهم في رمال واحة سيوة سياحة.....
(علاجية - ثقافية - ترفيهية - بيئية)
- (٢) يشمل تطوير القاهرة التاريخية منطقة.....
(النوبة - جزيرة فيلة - الأزهر - أبو سمبل)
- (٣) أي من السلوكيات التالية يعد سلوكاً مقبولاً عند زيارة المناطق الأثرية؟.....
(استخدام ضوء الكاميرا - اتباع قواعد الأمن - تناول الطعام والشراب - لمس القطع الأثرية)

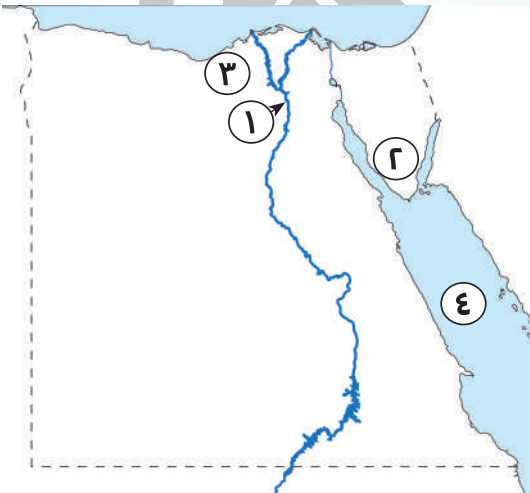
(ب) أجب عما يلي:

صنف الأماكن التالية إلى تراث طبيعي وتراث ثقافي: "محمية رأس محمد - الأهرامات وأبو الهول - محمية الغابة المتحجرة - الكنيسة المعلقة"

تراث ثقافي	تراث طبيعي
الأهرامات وأبو الهول.	محمية رأس محمد.
الكنيسة المتحجرة.	محمية الغابة المتحجرة.

النموذج الثامن

السؤال الأول: (أ) أمامك خريطة صماء لمصر، ادرسها ثم أجب:



- (١) منطقة تراث طبيعي: وادي الحيتان.
(٢) دير سانت كاترين.
(٣) منطقة تراثية: أبو مينا.
(٤) البحر الأحمر.

(ب) ما المقصود ب: البعث؟

☞ العودة إلى الحياة مرة أخرى بعد الموت.

السؤال الثاني: (أ) اكتب كلمة (صواب) أو (خطأ) أمام العبارات الآتية:

- (١) بُني حصن بابلون خلال الاحتلال الروماني لمصر. (صواب)
- (٢) استضافت مصر مؤتمر المناخ في مدينة الغردقة. (خطأ)
- (٣) اختارت منظمة اليونسكو مدينة مرسى مطروح كأفضل مدينة سلام في العالم. (خطأ)

(ب) أجب عما يلي:

(١) دلل على صحة العبارة: وجود سياحة المؤتمرات في مصر.

ج حيث تستضيف مصر العديد من المؤتمرات منها:

- مؤتمر النقل الذكي للشرق الأوسط وإفريقيا.
- مؤتمر المناخ في شرم الشيخ (COP 27).

(٢) بم تفسر: أهمية الأهرامات عند المصريين القدماء؟

ج كان يتم دفن الملك بها مع كل الأشياء التي سوف يحتاجها بعد البعث.

السؤال الثالث: (أ) أكمل العبارات الآتية:

- (١) يعد مسجد "أحمد بن طولون" تراثاً ثقافياً.
- (٢) يقع المعبد اليهودي في نهاية منطقة الكنائس القبطية في الفسطاط.

(٣) يعتبر نشاط سياحة المصدر الأول للعملات الأجنبية في مصر.

(ب) قارن بين: التراث الطبيعي والتراث الثقافي من حيث "التعريف".

وجه المقارنة	التراث الطبيعي	التراث الثقافي
التعريف	المواقع الطبيعية الجميلة ذات القيمة العالمية والتي لم يتدخل الإنسان في صناعتها.	يشمل كلاً من الصناعات الحرفية وعادات وتقاليد الشعوب. والأماكن السياحية والأثرية ذات القيمة العظيمة.



ذاكر معنا

النموذج التاسع

السؤال الأول: (أ) اختر الإجابة الصحيحة مما بين القوسين:

- (١) قامت الدولة في حي المطرية بتطوير
- (منطقة الأزهر - سور مجرى العيون - الدرب الأحمر - مسار العائلة المقدس)
- (٢) زيارة السائحين لمدينة شرم الشيخ للاستمتاع بالشعاب المرجانية تعد سياحة
- (ثقافية - علاجية - ترفيهية - مؤتمرات)
- (٣) إحدى المواقع المصرية المسجلة ضمن قائمة التراث العالمي
- (جزيرة فرعون - محمية رأس محمد - المسرح الروماني - منطقة وادي الحيتان)

(ب) أجب عما يلي:

- (١) ما العلاقة بين: السياحة - البطالة؟
- Ⓒ توفر السياحة فرص عمل للشباب مما يقضي على البطالة.
- (٢) دلل: تتعدد المناطق التي يشملها مشروع تطوير القاهرة التاريخية.
- Ⓒ حيث يشمل المشروع تطوير: منطقة الأزهر - الغورية - الدرب الأحمر - شارع المعز - مسجد "أحمد بن طولون".

السؤال الثاني: (أ) اكتب كلمة (صواب) أو (خطأ) أمام العبارات الآتية:

- (١) تم نحت تمثال أبو الهول في عهد الملك خفرع. (صواب)
- (٢) يفضل أخذ القطع الأثرية إلى المنزل لتخليد زيارتك. (خطأ)
- (٣) ازدهرت السياحة العلاجية في مصر، لوجود مناطق العيون الكبريتية والرمال الساخنة. (صواب)

(ب) أجب عما يلي:

- (١) دلل على صحة العبارة: تأثر تصميم برج القاهرة بالحضارة المصرية القديمة.
- Ⓒ حيث تم تصميمه على شكل زهرة اللوتس المصرية التي تعد رمزاً من رموز الحضارة المصرية القديمة.



(٢) بم تفسر: يعد مجمع الأديان منطقة سياحية مهمة؟

☞ لأنه يضم مجموعة من الآثار "الرومانية واليهودية والقبطية والإسلامية".

السؤال الثالث: (أ) أكمل العبارات الآتية بما يناسبها من كلمات:

(١) استضافت مصر مؤتمر (Cop 27) في مدينة **شرم الشيخ**.

(٢) يقع معبد إيزيس في جزيرة **فيلة**.

(٣) تطل مدينة مرسى مطروح على شواطئ البحر **المتوسط**.

(ب) أجب عما يلي:

(١) ما النتائج المترتبة على: وجود العديد من العيون الكبريتية في مصر؟

☞ أدى إلى وجود السياحة العلاجية بمصر.

(٢) ما المقصود بـ: الدخل القومي؟

☞ الدخل الذي تحققه الأنشطة الاقتصادية في عام واحد.



النموذج العاشر

السؤال الأول: (أ) صوب ما تحته خط:

(١) تصنف عادات وتقاليد الشعوب على أنها تراث طبيعي.

(٢) يقع تمثال أبو الهول في محافظة القاهرة.

(٣) إحدى أبرز المدن التراثية في العالم مدينة شرم الشيخ.

(ب) أجب عما يلي:

(١) استنتج: أهمية حي مصر القديمة.

☞ حيث إنه يضم: مجمع الأديان والذي يحتوي على العديد من الآثار "الرومانية -

اليهودية - القبطية - الإسلامية".

(٢) وضح: دور الدولة في الحفاظ على القيمة التاريخية والاقتصادية للمناطق الأثرية.

☞ تقوم الدولة بـ: صيانة المناطق الأثرية وترميمها.

☞ إنشاء وتطوير المنشآت مثل القرى والفنادق السياحية.

السؤال الثاني: (أ) أكمل العبارات الآتية بما يناسبها من كلمات:

(الطعام - الآثار - البيئة - فلاش الكاميرا)

- (١) تضع الدولة القوانين التي تجرم الاتجار في الآثار.
 (٢) تدعم مصر السياحة المستدامة من أجل الحفاظ على البيئة.
 (٣) يجب عليك أثناء زيارتك للمناطق الأثرية عدم استخدام فلاش الكاميرا.

(ب) أجب عما يلي:

- (١) ما النتائج المترتبة على: تنوع السياحة في بلدنا؟
 Ⓒ أصبحت مصر من الدول التي تجذب السياح إليها من جميع دول العالم.
 (٢) بم تفسر: أهمية السياحة للاقتصاد المصري؟
 Ⓒ توفر فرص عمل للشباب. - تعد المصدر الأول للعملة الأجنبية. - تساهم بحوالي ١٢٪ من إجمالي الدخل القومي.

السؤال الثالث: (أ) اختر الإجابة الصحيحة مما بين القوسين:

- (١) أحد الآثار التابعة للتابعة للاحتلال الروماني في مصر
 (برج القاهرة - الجامع الأزهر - حصن بابلون - أبو الهول)
 (٢) أحد مظاهر السياحة الثقافية في مصر القيام ب.....
 (رحلات السفاري - زيارة شواطئ الغردقة - حضور المؤتمرات - زيارة أهرامات الجيزة)
 (٣) تدعم مصر السياحة المستدامة من خلال مشاركتها في مبادرات دولية لحماية.....
 (النباتات الشوكية - الشعاب المرجانية - الأشجار المتحجرة - النبات الطبيعي)

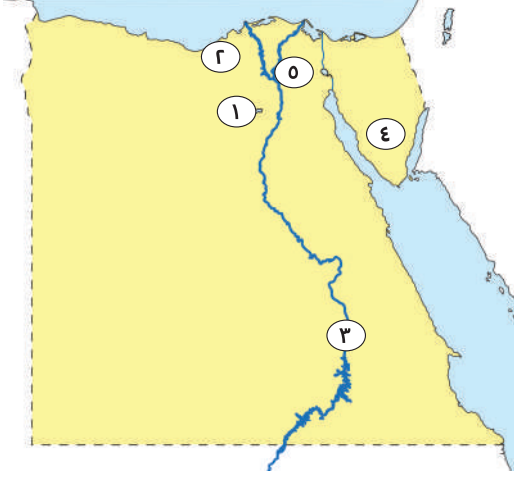
(ب) أجب عما يلي:

- (١) ما العلاقة بين: منطقة اليونسكو - الآثار المصرية؟
 Ⓒ أنقذت اليونسكو معبدي أبو سمبل بأسوان من الغرق.
 (٢) حدد اثنين من: السلوكيات الواجب اتباعها عند زيارة المناطق الأثرية.
 Ⓒ اتباع قواعد النظافة والأمن داخلها. - عدم تلوث الآثار بالكتابة عليها أو خدشها.



١

(أ) أمامك خريطة صماء لمصر، ادرسها ثم أجب:



(١) محافظة يوجد بها وادي الحيتان: الفيوم.

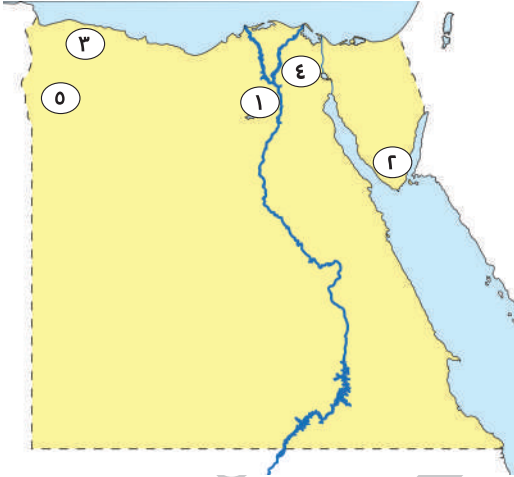
(٢) محافظة يوجد بها منطقة أبو مينا: الإسكندرية.

(٣) محافظة يوجد بها معبدي أبو سمبل: أسوان.

(٤) دير سانت كاترين.

(٥) محافظة تراثية: القاهرة.

(ب) أمامك خريطة صماء لمصر، ادرسها ثم أجب:



(١) محافظة يوجد بها الأهرامات: الجيزة.

(٢) مدينة سياحية: شرم الشيخ.

(٣) محافظة سياحية: مرسى مطروح.

(٤) محافظة بها مجمع الأديان: القاهرة.

(٥) واحة تشتهر بالسياحة العلاجية: واحة سيوة.

٢

أكمل العبارات الآتية بما يناسبها من الكلمات:

(أ) يرجع تاريخ منطقة أبو مينا إلى فترة الحكم الروماني لمصر.

(ب) تم تصميم برج القاهرة على شكل زهرة اللوتس.

(ج) تم بناء جامع عمرو بن العاص في عهد الخليفة عمر بن الخطاب.

(د) ساهمت منظمة اليونسكو في إنقاذ معبدي أبو سمبل من الغرق.

(هـ) يهدف مشروع تطوير القاهرة التاريخية إلى صيانة الأماكن الأثرية مثل منطقة الأزهر.

(و) تتمثل السياحة الترفيهية في زيارة مدينة مرسى مطروح والعلمين على شاطئ

البحر المتوسط.



٣

اكتب كلمة (صواب) أمام العبارة الصحيحة وكلمة (خطأ) أمام العبارة غير الصحيحة:

- (أ) تساهم منظمة اليونسكو في ترميم بعض المدن القديمة. (صواب)
- (ب) تم بناء حصن بابلين في عهد الاحتلال اليوناني لمصر. (خطأ)
- (ج) زيارة العيون الكبرى والرمال الساخنة من أنواع السياحة العلاجية. (صواب)
- (د) يجب علينا عدم مساعدة السياح إذا طلبوا ذلك. (خطأ)
- (هـ) بنى المصريون القدماء الأهرامات لاعتقادهم في البعث والخلود. (صواب)

٤

اختر الإجابة الصحيحة مما بين القوسين:

- (أ) تقع محمية في محافظة الفيوم.
(رأس محمد - الغابة المتحجرة - وادي الحيتان - أبو مينا)
- (ب) بُنيت على الأبراج الجنوبية من حصن بابلين.
(الكنيسة المعلقة - المعبد اليهودي - جامع عمرو بن العاص - دير سانت كاترين)
- (ج) من الواحات التي تشتهر بالسياحة العلاجية
(الفرافرة - سيوة - الداخلة - الخارجة)
- (د) تعد مدينة بمصر من أبرز المدن التراثية القديمة في العالم.
(القاهرة - الإسكندرية - العريش - طابا)
- (هـ) ساهمت منظمة اليونسكو في إنقاذ معبدي أبو سمبل من الغرق بعد بناء
(القناطر الخيرية - السد العالي - خزان أسوان - قناطر إسنا)

٥

صوب ما تحته خط:

- (أ) مدينة شرم الشيخ تقع في شمال سيناء. (جنوب)
- (ب) يوجد برج القاهرة على جزيرة أبو سمبل بالقاهرة. (الزمالك)
- (ج) يوجد مسجد أحمد بن طولون في الإسكندرية. (القاهرة)
- (د) توجد حفريات لكائنات بحرية تعود لحوالي ٤٠ مليون سنة في منطقة رأس محمد.
(وادي الحيتان)
- (هـ) مؤتمر (قمة المناخ 27 Cop) في مدينة شرم الشيخ يعد سياحة ترفيهية.
(سياحة مؤتمرات ومهرجانات)

اكتب ما تشير إليه العبارات الآتية:

- (أ) السياحة التي تهدف إلى الحفاظ على البيئة والموارد الطبيعية. (السياحة المستدامة)
- (ب) مدينة تعد من أبرز المدن التراثية القديمة على مستوى العالم. (القاهرة)
- (ج) يشمل المواقع الطبيعية الجميلة ذات القيمة العالمية التي لم يتدخل الإنسان في صنعها. (التراث الطبيعي)
- (د) سياحة تتمثل في زيارة مناطق العيون الكبريتية والرمال الساخنة للاستجمام. (السياحة العلاجية)
- (هـ) انتقال الأفراد من أماكن إقامتهم إلى أماكن أخرى لأغراض متعددة منها الترفيه والعلاج وغيرها. (السياحة)

بم تفسر..؟

- (أ) أهمية قائمة التراث العالمي.
- Ⓒ تساعد على زيادة معرفة المواطنين بالمواقع التراثية في وطنهم.
- Ⓒ تشجيع الشعوب على زيارة هذه المواقع مما يساعد في زيادة الدخل القومي.
- (ب) تسمية الكنيسة المعلقة بهذا الاسم.
- Ⓒ لأنها بُنيت على الأبراج الجنوبية من حصن بابليون.
- (ج) أهمية السياحة لمصر.
- Ⓒ توفر فرص عمل للشباب.
- Ⓒ المصدر الأول للعمات الأجنبية.
- Ⓒ تسهم بنحو ١٢% من إجمالي الدخل القومي.
- (د) قيام الدولة بمشروع تطوير مدينة القاهرة.
- Ⓒ لحماية وصيانة المباني الأثرية والتاريخية بالقاهرة.
- (هـ) أمر الملك خفرع بنحت تمثال أبو الهول.
- Ⓒ ليكون رمزًا للقوة ولحماية الأهرامات (مقابر الملوك) من السرقة.

دل على صحة العبارات الآتية:

٨

(أ) تبذل منظمة اليونسكو جهودًا لإنقاذ بعض المواقع التراثية المصرية.

☞ ساهمت منظمة اليونسكو في إنقاذ معبدي أبو سمبل ومعبد إيزيس من الغرق بعد

بناء السد العالي.

(ب) جهود الدولة لتنمية السياحة في مصر.

☞ تطوير وسائل النقل والمواصلات.

☞ صيانة المناطق الأثرية وترميمها.

☞ إنشاء وتطوير المنشآت السياحية مثل القرى السياحية والفنادق.

(ج) تدعم مصر السياحة المستدامة.

☞ من خلال: ترشيد استهلاك الطاقة والمياه في المنشآت السياحية.

☞ الاعتماد على الطاقة النظيفة والتعامل الآمن مع المخلفات.

☞ المشاركة في المبادرات لحماية الشعب المرجانية.

(د) تبذل مصر العديد من الجهود للحفاظ على الآثار المصرية.

☞ صيانة المناطق الأثرية وترميمها.

☞ إصدار قوانين تجرم الاتجار بها والاعتداء عليها.

☞ تنظيم عملية البحث والتنقيب عن الآثار والإشراف عليها.

☞ تنفيذ عمليات ترميم الآثار بواسطة المتخصصين.

(هـ) تتعدد السلوكيات الواجب اتباعها للحفاظ على الآثار. "حدد ثلاثة منها".

☞ اتباع قواعد النظافة والأمن داخلها.

☞ عدم تناول الطعام والشراب بجانبها.

☞ عدم تلويث الآثار بالكتابة عليها أو خدشها.



انضم لقناة الواتساب الرسمية واستمتع
بفيديوهات الشرح والمراجعة والتدريبات
وذاكر مع التأسيس السليم