

# سندباد

## مراجعة لامتحانات شهر أبريل

الفصل الدراسي الثاني



الاجتماعية  
الدراسات

الصف  
الرابع  
الابتدائي  
4

## بنك أسئلة الوحدة الثانية

## ١ أكمل العبارات الآتية بما يناسبها:

- ١ خصصت منظمة ..... يوم ١٨ أبريل من كل عام ليكون يوم التراث العالمي.
- ٢ من أمثلة التراث الثقافي ..... و .....
- ٣ من أمثلة التراث الطبيعي .....
- ٤ توجد منطقة وادي الحيتان في محافظة .....
- ٥ يوجد برج القاهرة في جزيرة .....
- ٦ تساعد قائمة التراث العالمي على زيادة .....
- ٧ من أشهر المحميات في جمهورية مصر العربية محمية ..... و .....
- ٨ تقع منطقة أبو مينا في محافظة ..... بجوار مدينة .....
- ٩ يقع دير ..... في محافظة جنوب سيناء ويُعد من أقدم الأديرة.
- ١٠ تعد مدينة ..... من أهم وأكبر المدن التراثية في العالم.
- ١١ ساهمت منظمة اليونسكو فى إنقاذ معبدي ..... من الغرق.
- ١٢ تم بناء حصن بابلون في عهد ..... لمصر.
- ١٣ يقع ..... في نهاية منطقة الكنائس القبطية فى الفسطاط.
- ١٤ بنى المصريون القدماء الأهرامات لاعتقادهم فى .....
- ١٥ معرض القاهرة الدولي للكتاب من أمثلة السياحة .....
- ١٦ من أمثلة السياحة الترفيهية ..... و .....
- ١٧ من أشهر المدن السياحية على البحر المتوسط .....
- ١٨ يقع جامع أحمد بن طولون فى محافظة .....
- ١٩ من المناطق التى نُفذت بها أعمال الصيانة والترميم منطقة ..... و ..... بالقاهرة
- ٢٠ من أهم الشوارع التاريخية التى شملتها مشروعات الحفاظ على التراث العمراني شارع .....

## ٢ اكتب (صح) أمام العبارة الصحيحة، وكلمة (خطأ) أمام العبارة غير الصحيحة، فيما يلي:

- ١ تُعدُّ الحرف التراثية وعادات وتقاليد الشعوب فى المأكل والملبس تراثاً ثقافياً. ( )
- ٢ يشمل التراث الطبيعي المواقع التي لم يتدخل الإنسان في صناعتها أو التأثير فيها. ( )
- ٣ لا تساعد قائمة التراث العالمي من زيادة معرفة المواطنين بالتراث. ( )
- ٤ تهتم منظمة اليونسيف بالأماكن التراثية المهددة بالخطر. ( )
- ٥ تُعدُّ محمية وادي الريان من التراث الثقافي. ( )
- ٦ من أقدم الأديرة فى مصر هو دير سانت كاترين بجنوب سيناء. ( )
- ٧ تقع محمية وادي الحيتان بمحافظة الإسكندرية. ( )

- ٨) ساهمت منظمة اليونسكو في إنقاذ آثار النوبة من الغرق بعد بناء السد العالي. ( )
- ٩) أمر الملك سنفر بنحت تمثال أبو الهول. ( )
- ١٠) يقع برج القاهرة بجزيرة الزمالك في نهر النيل. ( )
- ١١) يقع مجمع الأديان في حي مصر القديمة بالإسكندرية. ( )
- ١٢) تم تصميم برج القاهرة على شكل زهرة اللوتس. ( )
- ١٣) زيارة العيون الكبريتية والرمال الساخنة سياحة علاجية. ( )
- ١٤) تنتشر السياحة العلاجية في جنوب سيناء وواحة سيوة. ( )
- ١٥) توجد الشعاب المرجانية في البحر المتوسط. ( )
- ١٦) مدينة دهب وشرم الشيخ من المدن السياحية على البحر المتوسط. ( )
- ١٧) يجب عدم تناول الطعام والشراب بجانب المواقع الأثرية. ( )
- ١٨) من مظاهر المحافظة على المواقع الأثرية الكتابة على القطع الأثرية. ( )
- ١٩) من المناطق الأثرية التي يتم تنفيذ أعمال صيانة وترميمها منطقة مصر الجديدة. ( )

### ٣ اختر الإجابة الصحيحة مما بين القوسين:

- ١) من أمثلة التراث الطبيعي ..... ( الأهرامات - جامع أحمد بن طولون - تمثال أبو الهول - محمية رأس محمد )
- ٢) تُعرف منظمة الأمم المتحدة للتربية والعلوم والثقافة بمنظمة: ..... ( اليونسكو - الفاو - الأوبك - اليونسيف )
- ٣) تُعدّ الأهرامات بجمهورية مصر العربية أمثلة التراث ..... ( الثقافي - الاجتماعي - الطبيعي - التجاري )
- ٤) تُعدّ منطقة ..... مُهدّدة بخطر تآكل التربة والمباني. ( دير سانت كاترين - واحة سيوة - أبومينا - وادي الريان )
- ٥) يوجد في منطقة ..... هياكل عظمية لحياتان ضخمة وحفريات لأسماك. ( الغابة المتحجرة - وادي الحيتان - وادي النطرون - وادي الريان )
- ٦) من آثار النوبة معبد ..... ( الكرنك - حتشبسوت - الدير البحري - أبوسمبل الكبير )
- ٧) تم بناء الأهرامات ..... نهر النيل لتكون بعيدة عن الفيضانات. ( شرق - شمال - غرب - جنوب )
- ٨) تتميز مدينة ..... بالمياه الصافية والشعاب المرجانية. ( الإسكندرية - بورسعيد - القاهرة - شرم الشيخ )
- ٩) التنزه في نهر النيل من أنواع السياحة: ..... ( العلاجية - الثقافية - الدينية - الترفيهية )
- ١٠) تعد السياحة المصدر ..... للعملة الأجنبية في مصر. ( الأول - الثالث - الثاني - الخامس )
- ١١) يُعد دفن السياح أجسامهم في الرمال من أنواع السياحة: ..... ( العلاجية - الثقافية - الدينية - الرياضية )
- ١٢) من أهم الشوارع التاريخية التي شملتها مشروعات الحفاظ على التراث العمراني شارع ..... ( المعز - التحرير - الجيش - الديويدار )
- ١٣) من أشهر المساجد التي يتم تطويرها وترميمها بالقاهرة مسجد ..... ( الفتح - النور - الرحمن الرحيم - أحمد بن طولون )

## ٤ اكتب ما تشير إليه العبارات التالية:

- ١ منظمة الأمم المتحدة للتربية والعلوم والثقافة. (.....)
- ٢ تراث يشمل الصناعات والحرف التراثية والعادات والتقاليد والأماكن السياحية. (.....)
- ٣ قائمة تساعد على زيادة معرفة المواطنين بالتراث الثقافي والطبيعي في وطنهم. (.....)
- ٤ من أقدم الأديرة في مصر ويقع جنوب سيناء. (.....)
- ٥ منطقة كان يغطيها البحر قديماً وتحتوي على حفريات لأسماك وهياكل عظمية لحياتان ضخمة منذ ٤٠ مليون سنة. (.....)
- ٦ معبدان ساهمت منظمة اليونسكو في إنقاذهما من الغرق بعد بناء السد العالي. (.....)
- ٧ يقع في حي مصر القديمة ويضم آثاراً رومانية وقبطية ويهودية وإسلامية. (.....)
- ٨ حصن بناه الرومان أثناء احتلالهم لمصر. (.....)
- ٩ كنيسة بُنيت على الأبراج الجنوبية لحصن بابلين. (.....)
- ١٠ ما تحققة الأنشطة الاقتصادية في عام واحد. (.....)

## ٥ بم تفسر...؟

- ١ لقائمة التراث العالمي التي أصدرتها منظمة اليونسكو أهمية كبيرة. (.....)
- ٢ لمنظمة اليونسكو دور كبير في الحفاظ على بعض المواقع التراثية. (.....)
- ٣ تصميم برج القاهرة على شكل زهرة اللوتس. (.....)
- ٤ تُعدُّ مدينة القاهرة التاريخية من أهم وأكبر المدن التراثية في العالم. (.....)
- ٥ الأهمية الدينية لمحافظة جنوب سيناء. (.....)
- ٦ بناء المصريين القدماء الأهرامات. (.....)
- ٧ تسمية الكنيسة المعلقة بهذا الاسم. (.....)
- ٨ أهمية السياحة للاقتصاد المصري. (.....)
- ٩ دعم مصر للسياحة المستدامة. (.....)
- ١٠ اهتمام الدولة بالحفاظ على المناطق الأثرية. (.....)

## ٦ ما النتائج المترتبة على...؟

- ١ إصدار اليونسكو قائمة التراث العالمي. (.....)
- ٢ بناء قلعة صلاح الدين في جزيرة فرعون في مدينة طابا. (.....)
- ٣ بناء السد العالي بالنسبة لآثار النوبة. (.....)
- ٤ تغطية البحر قديماً لبعض المناطق في الفيوم. (.....)
- ٥ دعم منظمة اليونسكو للسياحة إلى مناطق التراث العالمي. (.....)
- ٦ اعتقاد المصري القديم في البعث والخلود. (.....)
- ٧ اهتمام مصر بتنمية السياحة. (.....)

## ٧ استنتج العلاقة بين:

- ١ بناء السد العالي ومنظمة اليونسكو  
٢ برج القاهرة والحضارة المصرية القديمة  
٣ العيون الكبريتية وواحة سيوة  
٤ السياحة المستدامة والحفاظ على البيئة والموارد الطبيعية

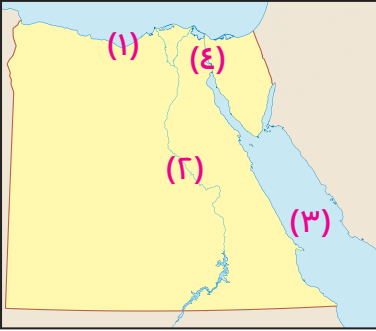
## ٨ قارن بين:

- ١ قارن بين التراث الثقافي والتراث الطبيعي من حيث المفهوم والأمثلة.  
٢ قارن بين منطقة أبومينا ومنطقة آثار النوبة.  
٣ قارن بين دور الدولة ودور الفرد في المحافظة على المواقع الأثرية والسياحية.

## ٩ أجب عما يلي:

- ١ حدد خطوات منظمة اليونسكو في اختيار قائمة التراث العالمي.  
٢ دلل على جهود اليونسكو لإنقاذ بعض المواقع التراثية المصرية.  
٣ ما رأيك في جهود الدولة لدعم السياحة المستدامة؟  
٤ دلل على جهود الدولة المصرية في الاهتمام بالمناطق الأثرية والحفاظ عليها.

## ١٠ أمامك خريطة صفاء لمصر، وضح ما تدل عليه الأرقام التالية:



- ١ محافظة حضرية .....
- ٢ نهر .....
- ٣ البحر .....
- ٤ قناة .....

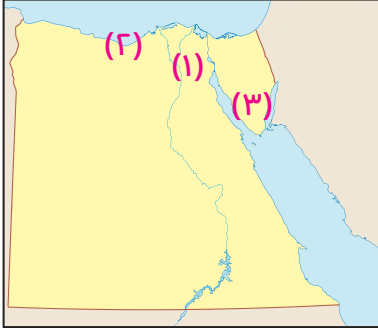
يجيب  
عنه الطالب

## نماذج الوحدة الثانية

## نموذج (١)

٣ درجات

١ أمامك خريطة صقأ لمصر، وضح ما تدل عليه الأرقام الآتية:



٣ درجات

٢ أكمل العبارات الآتية بكلمات مناسبة:

- ١ عاصمة مصر .....
- ٢ محافظة حَضْرِيَّة .....
- ٣ محافظة بها دَيْر سانت كاترين .....
- ١ تقع منطقة مَجْمَع الأديان في محافظة .....
- ٢ يقع برج القاهرة في جزيرة .....
- ٣ تم بناء جامع عمرو بن العاص في عهد الخليفة .....

٣ درجات

٣ صل العبارة من العمود (أ) بما يناسبها من العمود (ب):

ب	أ
أ	توجد على البحر الأحمر.
ب	توجد في محافظة الفيوم.
ج	توجد في محافظة القاهرة.

أ	ب
١	محمية وادي الحيطان
٢	منطقة مجمع الأديان
٣	مدينة ذهب

٣ درجات

٤ صوّب ما تحته خط:

- ١ مدينة سوهاج اختارتها اليونسكو أفضل مدينة سلام في العالم.
- ٢ أمر الملك خفرع بنحت تمثال نفررتاري.
- ٣ تقع منطقة «أبو مينا» في محافظة الجيزة.

٣ درجات

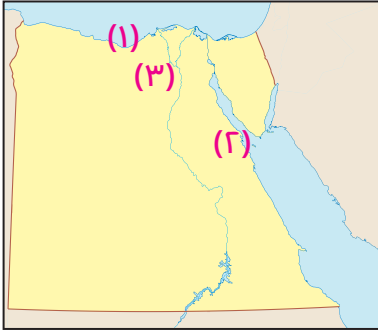
٥ بم تُفسّر...؟

- ١ أهمية السياحة لمصر.
- ٢ دعم مصر للسياحة المستدامة.
- ٣ بناء المصريين القدماء للأهرامات.

## نموذج (٢)

## ٣ درجات

١ أمامك خريطة صفاء لمصر، وضح ما تدل عليه الأرقام الآتية:



- ١ البحر .....
- ٢ ميناء .....
- ٣ عاصمة مصر .....

## ٣ درجات

٢ اكتب ما تشير إليه كل عبارة، مما يلي :

- ( ..... )
- ( ..... )
- ( ..... )

١ مُنظمة الأمم المتحدة للتربية والعلوم والثقافة.

٢ جامع تم بنائه بمصر في عهد الخليفة عمر بن الخطاب.

٣ أقدم أديرة مصر، ويوجد في جنوب سيناء.

## ٣ درجات

٣ اكتب (صح) أمام العبارة الصحيحة، وكلمة (خطأ) أمام العبارة غير الصحيحة، فيما يلي:

- ( )
- ( )
- ( )

١ يجب علينا الترحيب بالسياح ومعاملتهم معاملة حسنة.

٢ يوجد مسجد أحمد بن طولون في القاهرة.

٣ توجد محمية وادي الحيتان جنوب سيناء.

## ٣ درجات

٤ ما هو نوع السياحة عند زيارة المناطق الآتية:

١ العيون الكبريتية في واحة سيوة.

٢ معرض القاهرة الدولي للكتاب.

٣ شارع المعز، وخان الخليلي.

## ٣ درجات

٥ أجب عما يلي:

١ بم تفسر: بناء المصريين القدماء للأهرامات؟

٢ ما العلاقة بين منظمة اليونسكو، والسد العالي؟

٣ ما مقترحاتك؛ للحفاظ على الآثار المصرية؟

## تدريبات الدرس الأول (الوحدة الثالثة)

### ١ أكمل العبارات التالية بجمل تناسبها:

- ١ أرسل الملك «سنفرو» رحلات إلى بلاد فينيقيا لجلب
- ٢ تطورت وسائل النقل المائي في العصر الحديث، لتشمل ..... و .....
- ٣ استُخدمت العربات الحربية في أغراض عديدة، مثل: ..... و .....
- ٤ نتج عن اختراع طاقة البخار اختراع .....
- ٥ تُعدُّ السكك الحديدية المصرية ..... خطوط للسكك الحديدية في إفريقيا.
- ٦ ساعدت وسائل النقل على توفير ..... و ..... لانتقال الأفراد، والسلع.
- ٧ بفضل ..... تطورت وسائل النقل، وظهرت اكتشافات حديثة.
- ٨ أرسلت الملكة (حتشبسوت) رحلات تجارية إلى بلاد ..... لجلب البخور.
- ٩ كان ..... هو أول مَنْ حاول الطيران، باستخدام جناحين، مقلدًا الطيور.
- ١٠ نجح الأخوان «رايت» في ..... عام ١٩٠٣ م.

### ٢ اختر الإجابة الصحيحة، مما بين القوسين:

- ١ استخدم المصريون القدماء ..... في التنقل، وحمل الأشياء.
- ( العربات - الطائرات - الدواب - البائرات )
- ٢ دخلت العربة الحربية إلى مصر مع غزو ..... ( التتار - المغول - الحيثيين - الهكسوس )
- ٣ أرسل الملك «سنفرو» رحلات إلى بلاد ..... لجلب أخشاب الأرز.
- ( النوبة - بونت - فينيقيا - اليمن )
- ٤ أرسلت الملكة ..... رحلات إلى بلاد بونت؛ لجلب البخور، والأخشاب.
- ( كليوباترا - نفرتاري - إياح حتب - حتشبسوت )
- ٥ استخدمت طاقة ..... بعد الثورة الصناعية؛ لتشغيل السيارات.
- ( الكهرباء - البخار - الماء - الرياح )
- ٦ دخلت السيارات مصر عام ١٨٩٠ م في عهد الخديوي .....
- ( إسماعيل - محمد علي - توفيق - عباس )

### ٣ اكتب (صح) أمام العبارة الصحيحة، وكلمة (خطأ) أمام العبارة غير الصحيحة، فيما يلي:

- ١ صُنِعَ أول قارب، منذ نحو ٢٠٠ عام قبل الميلاد. ( )
- ٢ دخلت السيارات مصر عام ١٩٩٠ م. ( )
- ٣ تُعدُّ السكك الحديدية المصرية أولى السكك الحديدية في الشرق الأوسط. ( )
- ٤ دخلت العجلة الحربية مصر مع غزو الجيش العثماني لها. ( )
- ٥ تم مدُّ أول خط سكة حديد بين القاهرة، والإسماعيلية. ( )

- ٦ بعد الثورة الزراعية أصبحت السيارات تعمل باستخدام طاقة البخار. ( )
- ٧ تعد إحدى محاولات الإنسان للطيران هي محاولة (عباس بن فرناس). ( )
- ٨ استخدم المصريون القدماء الدواب في التنقل، وحمل الأشياء. ( )
- ٩ نجح الأخوان «رايت» في الطيران عام ١٩٠٣ م. ( )
- ١٠ تأسست شركة مصر للطيران، كأول شركة للخطوط الجوية في الشرق الأوسط. ( )

### ٤ بم تُفسّر ...؟

- ١ تَغَيَّر وسائل النقل، عبر الزمن. ( )
- ٢ إرسال الملكة (حتشبسوت) رحلات إلى بلاد بونت. ( )
- ٣ أهمية وسائل النقل في حياة البشر. ( )
- ٤ إرسال الملك سنfro رحلات لبلاد فينيقيا. ( )

### ٥ اكتب ما تشير إليه العبارات التالية:

- ١ أدخلوا العربات الحربية التي يجرّها الحصان إلى مصر، مع غزوهم لها. ( )
- ٢ أول خطوط للسكك الحديدية في إفريقيا، والشرق الأوسط. ( )
- ٣ إحدى مؤسسات بنك مصر، وأول شركة طيران في الشرق الأوسط. ( )
- ٤ طاقة اخترعها الإنسان، بعد الثورة الصناعية، كانت تعمل بها السيارات. ( )

### ٦ من هو ...؟

- ١ استخدم جناحين للطيران، كحاكاة لحركة الطيور. ( )
- ٢ نجح في الطيران الحقيقي عام ١٩٠٣ م. ( )
- ٣ أرسل رحلات إلى بلاد فينيقيا؛ لجلب أخشاب الأرز. ( )
- ٤ أرسلت رحلات إلى بلاد بونت؛ لجلب البخور، والأخشاب. ( )

### ٧ قارن بين:

وسائل النقل البري قديماً، وحديثاً

### ٨ دّل على صحة العبارة التالية:

كان لتطور العلم تأثير كبير على تطوّر وسائل النقل.

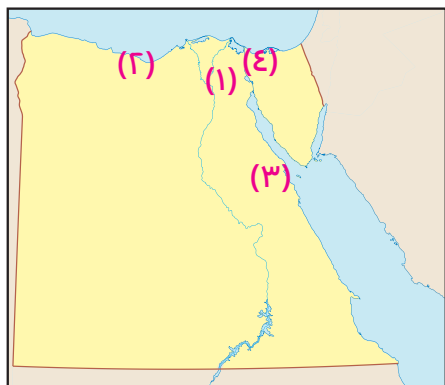
## ٩ صوب ما تحته خط:

١ أرسل الملك سنفرو رحلات إلى بلاد بونت لجلب أخشاب الأرز.

٢ دخلت العربات الحربية لمصر مع غزو الفرس لها.

٣ دخلت أول سيارة مصر في عهد محمد علي.

## ١٠ أمامك خريطة صماء لمصر، وضح ما تدلّ عليه الأرقام الآتية:



١ عاصمة مصر .....

٢ ميناء على البحر المتوسط .....

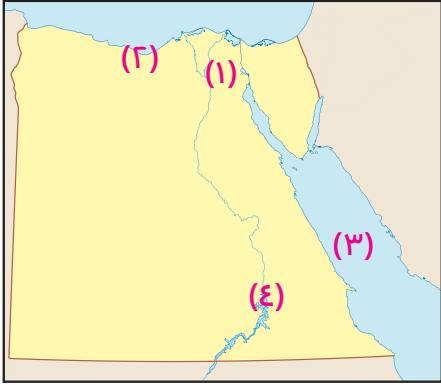
٣ ميناء على البحر الأحمر .....

٤ محافظة حَضْرِيَّة .....

## امتحان الدرس الأول (الوحدة الثالثة)

## ٢ درجة

١ أمامك خريطة صفاء لمصر، وضح ما تدل عليه الأرقام الآتية:



١ مدينة بها متحف السكك الحديدية

٢ مدينة ممد إليها أول خط سكة حديد من القاهرة

٣ البحر

٤ محافظة بها متحف النوبة

## ٣ درجات

٣ اكتب (صح) أمام العبارة الصحيحة، وكلمة (خطأ) أمام العبارة غير الصحيحة، فيما يلي:

( )

١ دخلت العرب الحربية مصر مع غزو الهكسوس لها.

( )

٢ دخلت أول سيارة إلى مصر في عهد الخديوي إسماعيل.

( )

٣ كانت أول محاولة للطيران على يد عباس بن فرناس.

## ٣ درجات

٣ أكمل العبارات التالية:

١ كانت رحلات الملك ..... لبلاد فينيقيا؛ لجلب أخشاب الأرز.

٢ تُعد شركة مصر للطيران إحدى مؤسسات بنك .....

٣ أول دولة إفريقية، وعربية في إنشاء السكك الحديدية دولة .....

## ٢ درجة

٤ بم تفسر ...؟

١ رحلات الملكة حتشبسوت إلى بلاد بونت؟

٢ أهمية وسائل النقل في حياة الشعوب والأمم؟

## تدريبات

### الدرس الثاني (الوحدة الثالثة)

#### ١ أكمل العبارات التالية بجمل تناسبها:

- ١ عُقد مؤتمر النقل المستدام في ..... عاصمة الصين.
- ٢ يُقصد بالنقل المستدام استخدام وسائل نقل ..... وطاقة .....
- ٣ من مصادر الطاقة النظيفة ..... و .....
- ٤ من أنواع النقل البري ..... و .....
- ٥ يربط مترو الأنفاق بين ثلاث مدن هي ..... و ..... و .....
- ٦ يُعدُّ النقل ..... أرخص وسائل النقل.
- ٧ تتعدد وسائل النقل المائي، مثل: ..... و .....
- ٨ يُستخدم النقل الجوي في نقل .....
- ٩ ينقسم النقل المائي إلى ..... و .....
- ١٠ يوجد في مصر العديد من المطارات الدولية، مثل: .....

#### ٢ اختر الإجابة الصحيحة؛ مما بين القوسين :

- ١ من وسائل النقل البري ..... (السفن - الموانئ - الأتوبيسات النهرية - السيارات)
- ٢ من أنواع النقل التي تتسم بالتكلفة المرتفعة مقارنةً بالوسائل الأخرى ..... (النقل البحري - النقل النهري - النقل الجوي - النقل البري)
- ٣ تُشجع الدولة المواطنين على استخدام وسائل النقل ..... (الجماعي - الفردي - الجوي - البحري)
- ٤ يربط مشروع القطار الكهربائي السريع بين مدينة العين السخنة، ومدينة ..... (الأقصر - العلمين الجديدة - الإسماعيلية - الإسكندرية)
- ٥ يربط مترو الأنفاق ثلاث مدن مصرية هي: القاهرة، والجيزة، و ..... (الإسكندرية - مرسى مطروح - شبرا الخيمة بالقليوبية - أسوان)

#### ٣ اكتب (صح) أمام العبارة الصحيحة، وكلمة (خطأ) أمام العبارة غير الصحيحة، فيما يلي:

- ١ يشمل النقل البري السكك الحديدية، ومترو الأنفاق، والسيارات. ( )
- ٢ تُعدُّ مصر خامس دولة عربية وإفريقية، أنشأت مترو الأنفاق. ( )
- ٣ النقل النهري يُستخدم في نقل البضائع سريعة التلف. ( )
- ٤ تكلفة النقل الجوي مرتفعة، مقارنةً بالوسائل الأخرى. ( )
- ٥ يوجد في مصر العديد من المطارات الدولية، مثل: مطار القاهرة. ( )
- ٦ قامت الدولة بتحويل كثير من السيارات؛ لتعمل بالغاز الطبيعي. ( )
- ٧ تشجع الدولة استخدام وسائل النقل الجماعي؛ لتقليل استخدام السيارات. ( )
- ٨ يتم النقل البحري عن طريق قناة السويس، وموانئ مصر على البحر المتوسط. ( )
- ٩ تهتم الدولة بتطوير الموانئ؛ لتقليل زمن انتظار السفن خارج الميناء. ( )
- ١٠ يتميز النقل الجوي بالانتشار، وتخطي المرتفعات، والبحار. ( )

## ٤ اكتب ما تُشير إليه العبارات التالية:

- ١ هي وسائل نقل صديقة للبيئة تستخدم مصادر طاقة نظيفة. ( )
- ٢ أحد أنواع النقل التي تُستخدم في نقل الركاب، والبضائع سريعة التلف. ( )
- ٣ وسيلة نقل تربط بين ثلاث مدن هي القاهرة، والجيزة، وشبرا الخيمة بالقليوبية، وتُعدّ مصر أولى الدول الإفريقية التي أنشأتها. ( )
- ٤ إحدى أنواع النقل التي تنقل الركاب؛ والبضائع كبيرة الحجم، والثقيلة. ( )
- ٥ يشمل كافة وسائل النقل التي تسير على الطرق المرصوفة، مثل: السيارات، والأتوبيسات. ( )

## ٥ بم تفسّر ...؟

- ١ تَوَسَّعَ الدولة في استخدام وسائل النقل المستدام. ( )
- ٢ تسعى الدولة إلى إنهاء مشروع القطار الكهربائي السريع. ( )
- ٣ تهتمُّ الدولة بتطوير الموانئ المصرية. ( )
- ٤ إنشاء الدولة للكباري، والمحاور. ( )

## ٦ قارن بين:

النقل المائيّ، والنقل الجويّ

وجه المقارنة	النقل المائيّ	النقل الجويّ
التكلفة	.....	.....
نوع البضائع	.....	.....
مثال	.....	.....

## ٧ ما النتائج المترتبة على ...؟

إنشاء الدولة لطرق بمواصفات عالمية، من حيث التخطيط، والجودة وإنشاء الكباري والمحاور.

## ٨ دَلِّ على صحة العبارة السابقة:

تسعى الدولة إلى التحوّل نحو استخدام النقل المستدام.

## ٩ صنّف وسائل المواصلات التالية، تبعًا لأنواع وسائل النقل المعروفة:

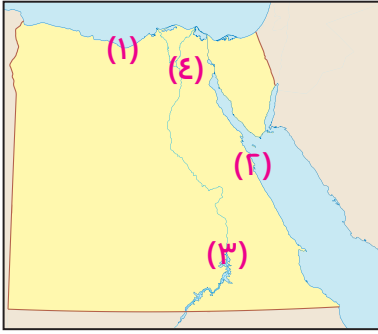
- ١ الكباري والمحاور. ( )
- ٢ مترو الأنفاق. ( )
- ٣ الطائرات. ( )
- ٤ السفن. ( )
- ٥ القطار الكهربائي السريع. ( )
- ٦ الباخرات. ( )

النقل البريّ	النقل المائيّ	النقل الجويّ

## ١٠ صوب ما تحته خط:

- ١ يتميز النقل البري بالسرعة وتخطي المرتفعات.  
 ٢ يعد النقل الجوي أرخص أنواع النقل.  
 ٣ يوجد ميناء الغردقة على البحر المتوسط.

## ١١ أمامك خريطة صفاء لمصر، وضح ما تدل عليه الأرقام الآتية:

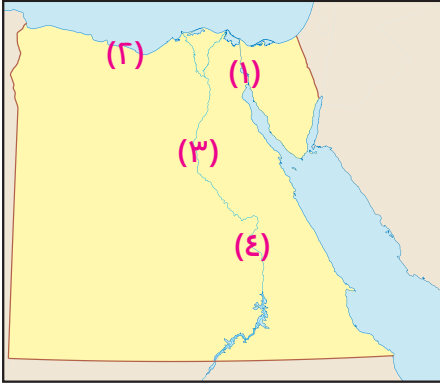


- ١ ميناء على البحر المتوسط  
 ٢ ميناء على البحر الأحمر  
 ٣ مدينة يوجد بها مطار  
 ٤ مطار مصري دولي

## امتحان الدرس الثاني (الوحدة الثالثة)

## ٢ درجة

١ أمامك خريطة صفاء لمصر، وضح ما تدل عليه الأرقام الآتية:



١ يُشير الرقم (.....) إلى ميناء الإسكندرية.

٢ يُشير الرقم (.....) إلى قناة السويس.

٣ يُشير الرقم (.....) إلى أعلى المحافظات في نسبة الأمية.

٤ يُشير الرقم (.....) إلى محافظة بها معبد الكرنك.

## ٣ درجات

٢ اختر الإجابة الصحيحة مما بين القوسين:

(الجوي - المائي - البري - الفضائي)

١ أرخص أنواع النقل هو النقل.....

(دمياط - العريش - الغردقة - الإسكندرية)

٢ من موانئ مصر المطلة على البحر الأحمر.....

٣ نجح..... في الطيران الحقيقي عام ١٩٠٣ م.

(الأخوان رايت - عباس بن فرناس - ابن سينا - جراهام بل)

## ٣ درجات

٣ صوّب ما تحته خط:

١ يقع مطار برج العرب في محافظة القاهرة.٢ تُعد دولة السعودية أول دولة عربية أنشأت مترو الأنفاق.٣ أول سيارة دخلت مصر كانت تعتمد على طاقة البنزين.

## ٢ درجة

٤ أجب عما يلي:

١ اذكر سبباً لـ: اهتمام الدولة بالنقل المُستدام؟

٢ ما العلاقة بين: العلم، ووسائل النقل؟

## الإجابات النموذجية

٧ لأنها بنيت على الأبراج الجنوبية من حصن بابلون وترتفع عدة أمتار عن سطح الأرض.

٨ توفير فرص العمل - توفير العملات الأجنبية - زيادة الدخل القومي.

٩ للحفاظ على البيئة.

١٠ لأهميتها في جذب السياح.

## ٦ ما النتائج:

١ تدعيم السياحة في الدول والتوعية بأهمية الحفاظ على الآثار

٢ أجب بنفسك

٣ قيام منظمة اليونسكو بالمساهمة في نقل آثار النوبة لحفظها من الغرق

٤ وجود حفريات للأسماك والحيتان منذ أكثر من ٤٠ مليون سنة

في منطقة وادي الحيتان.

٥ تنشيط السياحة.

٦ بناء المصريين القدماء للأهرامات.

٧ أجب بنفسك

## ٧ استنتج العلاقة:

١ قامت منظمة اليونسكو بنقل آثار النوبة بعد بناء السد العالي وأُنقذتها من الغرق.

٢ تم تصميم برج القاهرة على شكل زهرة اللوتس ليعبر عن الحضارة المصرية القديمة.

٣ توجد عيون كبريتية في واحة سيوة يقصدها السياح للعلاج.

٤ السياحة المستدامة تحافظ على البيئة والموارد الطبيعية من التلوث.

٨ **قارن بين:** أجب بنفسك

٩ **أجب عما يلي:** أجب بنفسك

## ١٠ الخريطة:

١ الإسكندرية ٢ النيل ٣ الأحمر ٤ السويس

## إجابة تدريبات الدرس الأول (الوحدة الثالثة)

## ١ أكمل العبارات الآتية باختيار الكلمة مناسبة:

١ أخشاب الأرز ٢ البواخر - ناقلات البترول

٣ السفر - الصيد ٤ الماكينات ٥ أول

٦ الوقت - الجهد ٧ العلم ٨ بونت

٩ عباس بن فرناس ١٠ الطيران لأول مرة

## ٢ اختر الإجابة الصحيحة، مما بين القوسين:

١ الدواب ٢ الهكسوس ٣ فينيقيا ٤ حثشبوت

٥ البخار ٦ توفيق

## ٣ اكتب كلمه (صح) وكلمه (خطأ):

١ خطأ ٢ خطأ ٣ صح ٤ خطأ ٥ خطأ ٦ خطأ

٧ صح ٨ صح ٩ صح ١٠ صح

## إجابة بنك أسئلة الوحدة الثانية

## ١ أكمل العبارات الآتية باختيار الكلمة مناسبة:

١ اليونسكو ٢ القلاع - المساجد

٣ المحميات الطبيعية ٤ الفيوم

٥ الزمالك ٦ جذب السياح

٧ رأس محمد - وادي الريان

٨ الإسكندرية - برج العرب الجديدة ٩ سانت كاترين

١٠ القاهرة ١١ أبي سمبل ١٢ الاحتلال الروماني

١٣ المعبد اليهودي ١٤ البعث والخلود ١٥ المؤتمرات

١٦ التنزه في النيل - زيارة الشواطئ ١٧ الإسكندرية

١٨ القاهرة ١٩ الأزهر - الغورية ٢٠ المعز

## ٢ اكتب كلمه (صح) وكلمه (خطأ):

١ صح ٢ صح ٣ خطأ ٤ خطأ ٥ خطأ ٦ صح

٧ خطأ ٨ صح ٩ خطأ ١٠ صح ١١ خطأ ١٢ صح

١٣ صح ١٤ صح ١٥ خطأ ١٦ خطأ ١٧ صح ١٨ خطأ

١٩ خطأ

## ٣ اختر الإجابة الصحيحة، مما بين القوسين:

١ محمية رأس محمد ٢ اليونسكو ٣ الثقافي

٤ أبو مينا ٥ وادي الحيتان ٦ أبو سمبل الكبير

٧ غرب ٨ شرم الشيخ ٩ الترفيهية

١٠ الأول ١١ العلاجية ١٢ المعز

١٣ أحمد بن طولون

## ٤ اكتب ما تشير إليه كل عبارة:

١ منظمة اليونسكو ٢ التراث الثقافي

٣ قائمة اليونسكو للتراث العالمي

٤ دير سانت كاترين ٥ وادي الحيتان

٦ معبد أبي سمبل ٧ مجمع الأديان

٨ حصن بابلون ٩ الكنيسة المعلقة

١٠ الدخل القومي

## ٥ بم تفسر:

١ لأنها تعرف المواطنين على تراثهم الثقافي والحضارى وتعمق الشعور بالانتماء وتحفز الدولة على حماية مواقعها التراثية.

٢ لأنها تقدم المساعدة للدول للحفاظ على الآثار.

٣ أجب بنفسك

٤ لأنها تضم الكثير من الآثار والمعالم التاريخية

٥ لوجود ديرسانت كاترين الذي يعد من أقدم الأديرة في مصر.

٦ لاعتقادهم في البحث والخلود.

## ٦ قارن بين:

وجه المقارنة	النقل المائي	النقل الجوي
التكلفة	أرخص	أعلى
نوع البضائع	ثقيلة الوزن	سريعة التلف
مثال	السفن	الطائرات

## ٧ ما النتائج:

- تخفيف الضغط على المحاور - تقليل الحوادث
- تقليل المسافات - خفض زمن الرحلة.

٨ ، ٩ ، ١٠ ، ١١ أجب بنفسك

## ٤ بم تفسر:

- ١ بسبب تطور حياة الانسان.
- ٢ لجلب البخور والأخشاب وغيرها من منتجات هذه البلاد.
- ٣ توفر الجهد والوقت - ساعدت على التبادل التجاري والحضاري.
- ٤ لجلب أخشاب الأرز.

## ٥ اكتب ما تشير إليه كل عبارة:

- ١ الهكسوس
- ٢ خطوط السكك الحديدية بمصر
- ٣ شركة مصر للطيران
- ٤ طاقة البخار

## ٦ من هو:

- ١ عباس بن فرناس
- ٢ الأخوين رايت
- ٣ الملك سنفرو
- ٤ الملكة حتشبسوت

٧ ، ٨ ، ٩ ، ١٠ أجب بنفسك

## ١٠ الخريطة:

- ١ القاهرة
- ٢ الإسكندرية
- ٣ سفاجا
- ٤ بورسعيد

## إجابة تدريبات الدرس الثاني (الوحدة الثالثة)

## ١ أكمل العبارات الآتية باختيار الكلمة مناسبة:

- ١ بكين
- ٢ صديقة للبيئة نظيفة
- ٣ الغاز الطبيعي - الطاقة الشمسية
- ٤ السكك الحديدية - مترو الأنفاق
- ٥ القاهرة - الجيزة - شبرا الخيمة بالقليوبية
- ٦ المائي
- ٧ السفن - البواخر
- ٨ السلع سريعة التلف
- ٩ نهري - بحري
- ١٠ مطار القاهرة

## ٢ اختر الإجابة الصحيحة، مما بين القوسين:

- ١ السيارات
- ٢ النقل الجوي
- ٣ الجماعي
- ٤ العلمين الجديدة
- ٥ شبرا الخيمة بالقليوبية

## ٣ اكتب كلمه (صح) وكلمه (خطأ):

- ١ صح
- ٢ خطأ
- ٣ خطأ
- ٤ صح
- ٥ صح
- ٦ صح
- ٧ صح
- ٨ صح
- ٩ صح
- ١٠ صح

## ٤ اكتب ما تشير إليه كل عبارة:

- ١ النقل المستدام
- ٢ النقل الجوي
- ٣ مترو الأنفاق
- ٤ النقل المائي
- ٥ النقل البري

## ٥ بم تفسر:

- ١ للحفاظ علي البيئة من التلوث.
- ٢ لربط العين السخنة بمدينة العلمين الجديدة مرورًا بالعاصمة الإدارية الجديدة.
- ٣ و ٤ أجب بنفسك