

# الأستاذ

سلسلة كتب الأستاذ

## الدراسات الاجتماعية

مراجعة شهر مارس



الصف الرابع الابتدائي

الفصل الدراسي الثاني

4

إعداد:

محمد عبد الصبور عبد الجواد

## مراجعة على الوحدة الثانية

## السؤال الأول اختر الإجابة الصحيحة مما يلي:

- ١ يوم التراث العالمي هو يوم ١٨ من شهر.....  
 أ مارس      ب أبريل      ج مايو      د يونيو
- ٢ إذا أردت القيام برحلة لمنطقة تراث في الفيوم فإنك ستتوجه إلى.....  
 أ رأس محمد      ب أبو مينا      ج وادي الحيتان      د جبل علبة
- ٣ من أشكال التراث الثقافي في مصر.....  
 أ الفنون الشعبية      ب الصناعات والحرف  
 ج عادات وتقاليد      د جميع ما سبق
- ٤ يوجد دير سانت كاترين في محافظة.....  
 أ القاهرة      ب الفيوم      ج جنوب سيناء      د الجيزة
- ٥ من معالم النوبة معبد إيزيس في جزيرة.....  
 أ شدوان      ب فيلة      ج الجفتون      د الجونة
- ٦ مدينة مصرية تتمتع بتاريخ ممتد بصفتها عاصمة سياسية وثقافية ودينية.....  
 أ القاهرة      ب جدة      ج الإسكندرية      د الكوفة
- ٧ من أشكال التراث الثقافي في مصر.....  
 أ المحميات      ب الغابات      ج الأهرامات      د البحيرات
- ٨ تم تخصيص يوم عالمي للتوعية بحماية التراث الوطني برعاية منظمة.....  
 أ اليونيسيف      ب الفاو      ج اليونسكو      د الصحة العالمية
- ٩ صنفت منظمة اليونسكو..... منطقة مهددة بخطر تآكل التربة والمباني.  
 أ حلوان      ب أبو مينا      ج أبو رواش      د قليوب
- ١٠ يقع معبد أبو سمبل الكبير والصغير ومعبد إيزيس في محافظة.....  
 أ القاهرة      ب الإسكندرية      ج أسوان      د الجيزة
- ١١ إذا أردت زيارة منطقة مجمع الأديان فعليك التوجه إلى محافظة.....  
 أ شمال سيناء      ب الجيزة      ج الوادي الجديد      د القاهرة

- ١٢ يوجد برج القاهرة في جزيرة .....
- أ الذهب ب الزمالك ج الروضة د فيلة
- ١٣ تم بناء برج القاهرة على شكل .....
- أ نبات البردي ب نبات الحلفا ج زهرة اللوتس د زهرة النرجس
- ١٤ من الآثار المصرية التي ترجع للعصر الفرعوني .....
- أ الكنيسة المعلقة ب حصن بابليون ج تمثال أبو الهول د المعبد اليهودي
- ١٥ إذا أردت معرفة معلومات عن المصريين القدماء فعليك زيارة .....
- أ الأهرامات ب برج القاهرة ج مجمع الأديان د شرم الشيخ
- ١٦ بنى المصريون القدماء الأهرامات الثلاثة على هضبة في .....
- أ غرب ب شمال ج شرق د جنوب
- ١٧ يرجع تمثال أبو الهول إلى عصر الملك .....
- أ خوفو ب خفرع ج منكاورع د زوسر
- ١٨ تنتشر الشعاب المرجانية الملونة في مياه البحر .....
- أ الأحمر ب المتوسط ج الميت د قزوين
- ١٩ من الآثار الإسلامية التي توجد في مجمع الأديان .....
- أ المعبد اليهودي ب جامع عمرو بن العاص ج حصن بابليون د الكنيسة المعلقة
- ٢٠ من الآثار القبطية الموجودة في مصر .....
- أ الأهرامات ب المسرح الروماني ج الكنيسة المعلقة د حصن بابليون
- ٢١ إذا أردت التمتع بالمناظر الخلابة والشعاب المرجانية فعليك زيارة مدينة .....
- أ مرسى مطروح ب شرم الشيخ ج الإسكندرية د العلمين
- ٢٢ زيارة شارع المعز في القاهرة تعد سياحة .....
- أ ترفيهية ب ثقافية ج علاجية د مؤتمرات
- ٢٣ استضافت مصر مؤتمر المناخ cop27 في مدينة .....
- أ الغردقة ب شرم الشيخ ج بني سويف د القاهرة

٢٤ مكان في مصر يقدم عروضاً فنية .....

- أ دار الأوبرا  
ب المتحف المصري  
ج مكتبة الإسكندرية  
د معرض الكتاب

٢٥ أحد أماكن السياحة العلاجية في سيناء .....

- أ عيون موسى  
ب حمام كليوباترا  
ج كهف الملح  
د عين حلوان

٢٦ السياحة ..... تهدف إلى المحافظة على البيئة.

- أ التاريخية  
ب العلاجية  
ج الثقافية  
د المستدامة

٢٧ زيارة معرض الكتاب الدولي بالقاهرة يعد سياحة .....

- أ ترفيهية  
ب علاجية  
ج مؤتمرات ومهرجانات  
د دينية

٢٨ تسهم السياحة بنحو ١٢ ٪ من إجمالي .....

- أ الدخل القومي  
ب الدخل المحلي  
ج فرص العمل  
د الصادرات

٢٩ الشخص الذي يعاني من بعض الأمراض الجلدية يمكنه زيارة .....

- أ واحة سيوة  
ب مدينة الجيزة  
ج الإسكندرية  
د القاهرة

٣٠ تعد زيارة أهرامات الجيزة والمتاحف سياحة .....

- أ مستدامة  
ب ترفيهية  
ج رياضية  
د ثقافية

٣١ عند زيارتك للمناطق الأثرية يجب عليك .....

- أ الكتابة على الآثار  
ب التصوير بضوء قوي  
ج عدم اللعب بالكرة  
د لمس الآثار

٣٢ قامت الدولة المصرية بتطوير مسار العائلة المقدسة في حي .....

- أ شبرا  
ب حلوان  
ج المطرية  
د الوايلي

٣٣ إحدى المناطق التي تقوم الدولة بتطويرها في مدينة القاهرة التاريخية .....

- أ شارع المعز  
ب معبد أبو سمبل  
ج دير سانت كاترين  
د وادي الريان

٣٤ من مشروعات تطوير المناطق الأثرية مشروع تطوير مدينة .....

- أ الإسماعيلية  
ب القاهرة  
ج بني سويف  
د الفيوم

## مراجعة الأستاذ لشهر مارس

- ٣٥ كل السلوكيات الآتية ممنوعة عند دخول المناطق الأثرية ما عدا.....  
أ اللعب بالآثار  
ب تناول الطعام  
ج الكتابة على الآثار  
د اتباع القوانين
- ٣٦ أي من المناطق الآتية يعد ضمن مشروع تطوير مدينة القاهرة التاريخية؟.....  
أ ميت رهينة  
ب سقارة  
ج الدرب الأحمر  
د ميدوم
- ٣٧ نتبع بعض السلوكيات عند زيارتنا لمتحف، منها.....  
أ عدم لمس الآثار  
ب عدم تناول الطعام  
ج عدم الكتابة على الآثار  
د جميع ما سبق
- ٣٨ جميع المناطق التالية تقوم الدولة بتطويرها في القاهرة ما عدا.....  
أ منطقة الأزهر  
ب منطقة الغورية  
ج منطقة ميدوم  
د شارع المعز
- ٣٩ من جهود الدولة للحفاظ على الآثار.....  
أ صيانة المناطق الأثرية  
ب تنظيم عملية البحث  
ج التخطيط لمشروعات التطوير  
د جميع ما سبق
- ٤٠ استخدام ضوء الكاميرا (الFLASH) له تأثير..... على الآثار الموجودة.  
أ إيجابي  
ب سلبي  
ج مفيد  
د نافع
- ٤١ أرسل الملك سنفرو رحلات تجارية إلى فينيقيا لجلب أخشاب.....  
أ السنط  
ب الأرز  
ج البلوط  
د الزان
- ٤٢ من وسائل النقل المائي ولم تكن موجودة قديماً.....  
أ القوارب  
ب السفن  
ج الغواصات  
د المراكب
- ٤٣ من الدواب التي استخدمها المصريون القدماء في التنقل وحمل الأشياء.....  
أ الحمار  
ب الحصان  
ج الجمل  
د جميع ما سبق
- ٤٤ الثورة الصناعية واختراع الماكينات ظهر بسبب طاقة.....  
أ البخار  
ب الكهرباء  
ج الماء  
د الشمس
- ٤٥ أرسلت الملكة حتشبسوت رحلات بالسفن إلى بلاد.....  
أ المغرب  
ب النوبة  
ج الشام  
د بونت

- ٤٦ دخلت السيارات مصر عام ١٨٩٠ م في عهد الخديوي .....
- أ إسماعيل      ب سعيد      ج توفيق      د عباس
- ٤٧ ترجع وسيلة النقل (العربات الحربية) إلى غزو .....
- أ الهكسوس      ب الرومان      ج الفرس      د اليونانيين
- ٤٨ أول محاولة للطيران قام بها .....
- أ الحسن بن الهيثم      ب جابر بن حيان      ج عباس بن فرناس      د ابن سينا
- ٤٩ المركز الذي تحتله شركة مصر للطيران من حيث الإنشاء على مستوى العالم هو .....
- أ الخامس      ب السادس      ج السابع      د الثامن
- ٥٠ تعتبر السكك الحديدية المصرية في المركز ..... عالمياً.
- أ الأول      ب الثاني      ج الثالث      د الرابع
- ٥١ وسيلة من وسائل المواصلات تسير على الطرق المرصوفة .....
- أ القطارات      ب الطائرات      ج مترو الأنفاق      د الشاحنات
- ٥٢ إذا أردت نقل كمية من الخضراوات من دولة إلى دولة أنسب وسائل النقل المستخدمة .....
- أ السيارة      ب السفينة      ج الطائرة      د القطار
- ٥٣ وسيلة تتميز برخص تكلفتها وتستخدم في نقل البضائع ثقيلة الوزن .....
- أ النقل المائي      ب النقل الجوي      ج السكك الحديدية      د مترو الأنفاق
- ٥٤ أحد المشروعات المهمة التي تقوم بها مصر لتنمية النقل المستدام .....
- أ المونوريل      ب السكك الحديدية      ج الطائرات      د سيارات الأجرة
- ٥٥ من عيوب النقل الجوي .....
- أ سرعة الانتشار      ب ارتفاع التكلفة      ج رخص التكلفة      د بطء الحركة
- ٥٦ عند التخطيط لنزهة نيلية أنت وأسررتك فيمكنك استخدام .....
- أ دراجة بخارية      ب السيارة      ج الغواصة      د الأتوبيس النهري
- ٥٧ من مواصفات الطرق العالمية مواجهة الظروف .....
- أ الاقتصادية      ب المناخية      ج الاجتماعية      د السياسية
- ٥٨ تنتشر الموانئ على سواحل البحر الأحمر ومنها ميناء .....
- أ بورسعيد      ب دمياط      ج الإسكندرية      د سفاجا

- ٥٩ مطار برج العرب من المطارات الدولية التي تقع في محافظة .....
- أ بورسعيد      ب دمياط      ج الإسكندرية      د القاهرة
- ٦٠ تطوير الطريق الدائري دليل على جهود الدولة لتطوير طرق النقل .....
- أ البري      ب الجوي      ج النهري      د البحري

### السؤال الثاني أكمل العبارات التالية:

- ١ مدينة تاريخية تعد من أكبر المدن التراثية في العالم .....
- ٢ تم إنقاذ معبدي أبو سمبل من الغرق بمساهمة منظمة .....
- ٣ يرجع تاريخ منطقة أبو مينا إلى الحضارة .....
- ٤ منطقة وادي الحيطان تقع في محافظة .....
- ٥ تعتبر مدينة ..... عاصمة سياسية وثقافية وتجارية عريقة.
- ٦ يحتفل العالم بيوم ١٨ أبريل من كل عام باليوم العالمي لـ .....
- ٧ تعد محمية الغابات المتحجرة من التراث .....
- ٨ يقع دير سانت كاترين في محافظة ..... عند سفح الجبل.
- ٩ التراث ..... يشمل المواقع الطبيعية الجميلة ذات القيمة العالية.
- ١٠ توجد بوادي الحيطان كائنات حية متنوعة مثل ..... و .....
- ١١ تقع الأهرامات الثلاثة في محافظة .....
- ١٢ تم بناء جامع عمرو بن العاص في عهد الخليفة ..... رضي الله عنه.
- ١٣ تم اختيار مدينة شرم الشيخ كأفضل مدينة للسلام في العالم من قبل منظمة .....
- ١٤ يوجد برج القاهرة في محافظة القاهرة في جزيرة .....
- ١٥ توجد الكنيسة المعلقة بالقاهرة في حي .....
- ١٦ يوجد مجمع الأديان في حي مصر القديمة بمحافظة .....
- ١٧ بُني حصن بابليون في عهد الاحتلال ..... لمصر.
- ١٨ نحت الملك ..... تمثال أبو الهول على جسم أسد ورأس إنسان.
- ١٩ صُمم برج القاهرة على شكل ..... التي تعد رمزًا من رموز الحضارة المصرية القديمة.

- ٢٠ يوجد في مدينة ..... الجبال الشاهقة ومياه البحر الأحمر الصافية والشعاب المرجانية.
- ٢١ تجمع شباب العالم في مدينة شرم الشيخ لحضور مؤتمر شباب العالم يعد سياحة .....
- ٢٢ إذا أردت زيارة إحدى مناطق السياحة الثقافية في الجيزة فسوف تذهب إلى .....
- ٢٣ من جهود الدولة لتنمية السياحة في مصر صيانة المناطق .....
- ٢٤ تعتبر مكتبة الإسكندرية من أماكن السياحة .....
- ٢٥ زيارة معرض القاهرة الدولي للكتاب تعد سياحة .....
- ٢٦ تنتشر السياحة الترفيهية في مدينة الغردقة التي تقع على ساحل .....
- ٢٧ استضافت مصر مؤتمر المناخ cop 27 في مدينة .....
- ٢٨ يعد الحفاظ على البيئة ومواردها الطبيعية من أهداف السياحة .....
- ٢٩ تعد مدينة مرسى مطروح من الشواطئ المطلة على البحر .....
- ٣٠ حضور مؤتمر الشباب العالمي يعد سياحة .....
- ٣١ أحد الشوارع التي يتم تطويرها ضمن تطوير مدينة القاهرة التاريخية شارع .....
- ٣٢ الأماكن السياحية المصرية تعد جزءاً من .....
- ٣٣ الحفاظ على المناطق الأثرية مسئولية كل من ..... و .....
- ٣٤ تهتم الدولة بتطوير مدينة القاهرة التاريخية مثل منطقة .....
- ٣٥ يعتبر صيانة مسجد أحمد بن طولون إحدى مشروعات تطوير مدينة .....
- ٣٦ من واجبنا للحفاظ على الآثار عدم استخدام ضوء .....
- ٣٧ تتم عملية ترميم الآثار بواسطة .....
- ٣٨ من السلوكيات التي يجب اتباعها عند دخول متحف عدم تناول .....
- ٣٩ من جهود الدولة لتطوير الآثار المصرية إصدار قوانين تجرم .....
- ٤٠ يجب علينا معاملة السياح معاملة .....
- ٤١ حمل الأشياء استخدم المصريون القدماء .....
- ٤٢ وسيلة للتنقل كان يجرها الحصان وبدأت مع غزو الهكسوس لمصر .....
- ٤٣ كانت السفن في عهد المصريين القدماء تستخدم في .....

- ٤٤ أول سيارة دخلت مصر كانت تعتمد على طاقة .....
- ٤٥ الملك سنفرو جلب من بلاد فينيقيا .....
- ٤٦ دخلت العربات الحربية مصر مع غزو .....
- ٤٧ أرسلت الملكة حتشبسوت رحلات تجارية إلى بلاد .....
- ٤٨ اخترع الأخوان رايت عام ١٩٠٢ م .....
- ٤٩ من وسائل النقل المائي في العصر الحديث .....
- ٥٠ دخلت السيارات مصر في عهد الخديوي .....
- ٥١ شاركت مصر في مؤتمر النقل المستدام الذي عقد في دولة .....
- ٥٢ النقل البري يشمل نوعين هما ..... و .....
- ٥٣ تعد مصر أول دولة عربية وإفريقية أنشأت .....
- ٥٤ تستخدم السيارات والأتوبيسات في نقل .....
- ٥٥ إذا أردنا نقل حمولة من الألبان فأفضل أنواع النقل هو النقل .....
- ٥٦ النقل النهري يستخدم في نقل المواد الخام اللازمة لـ .....
- ٥٧ أرخص أنواع النقل في مصر هو النقل .....
- ٥٨ تشجع الدولة المواطنين على استخدام النقل الجماعي لتقليل استخدام .....
- ٥٩ يربط مترو الأنفاق بين ثلاث مدن مصرية هي القاهرة والجيزة و .....
- ٦٠ من مصادر الطاقة النظيفة التي تستخدم في النقل المستدام ..... و .....

### السؤال الثالث اكتب كلمة (صواب) أو (خطأ) فيما يلي:

- ١ مصر بها عدد من المواقع التراثية المسجلة في منظمة اليونسيف. ( )
- ٢ يعد دير سانت كاترين من أقدم الأديرة الدينية في مصر. ( )
- ٣ يحتفل العالم بيوم ١٨ أبريل من كل عام باليوم العالمي للأمية. ( )
- ٤ منطقة أبو مينا التراثية تقع في محافظة الأقصر. ( )
- ٥ ساهمت منظمة اليونسكو في إنقاذ معبد إيزيس في جزيرة فيلة. ( )
- ٦ التراث الطبيعي يشمل المواقع الطبيعية الجميلة التي لم يتدخل الإنسان في صناعتها. ( )

- ٧ تعد القاهرة التاريخية من أهم وأكبر المدن التراثية في العالم. ( )
- ٨ توجد في وادي العلاقي كائنات حية مثل الصقور والثعالب والغزلان. ( )
- ٩ تساهم منظمة اليونسكو في ترميم بعض المدن القديمة. ( )
- ١٠ من التراث الثقافي في مصر معبد الكرنك في مدينة الأقصر. ( )
- ١١ بنى المصريون القدماء الأهرامات شرق البحر الأحمر لتكون بعيدة عن الفيضان. ( )
- ١٢ يوجد المعبد اليهودي بمنطقة الكنائس القبطية بالفسطاط. ( )
- ١٣ اختارت اليونسكو مدينة الغردقة كأفضل مدينة للسلام في العالم. ( )
- ١٤ شيدت الكنيسة المعلقة على أحد الأبراج الجنوبية لحصن بابليون. ( )
- ١٥ يتم دفن الملك وكل الأشياء التي سوف يحتاج إليها بعد البعث في حجرة داخل الهرم. ( )
- سلسلة كتب الأستاذ
- ١٦ ظهر على أرض مصر العديد من الحضارات كالحضارة المصرية واليونانية. ( )
- ١٧ اعتقد المصريون القدماء في البعث والخلود لذا أنشئوا الأهرامات. ( )
- ١٨ تتميز مدينة شرم الشيخ بالمناظر الطبيعية الخلابة. ( )
- ١٩ برج القاهرة هو بناء سياحي مرتفع على شكل نبات البردي. ( )
- ٢٠ صمم تمثال أبو الهول على شكل إنسان وجسم بقرة. ( )
- ٢١ زيارة مدن البحر الأحمر للتمتع بالمناظر الخلابة تعد سياحة ثقافية. ( )
- ٢٢ شخص يحتاج إلى العلاج والاستجمام فتنصحه بزيارة واحة سيوة. ( )
- ٢٣ حماية الشعاب المرجانية في مصر من مظاهر دعم السياحة المستدامة. ( )
- ٢٤ زيارة مناطق العيون الكبرى من أنواع السياحة الترفيهية. ( )
- ٢٥ إذا أردت حضور عرض فني عالمي فيمكنك زيارة معرض القاهرة الدولي للكتاب. ( )
- ٢٦ أحد مظاهر السياحة الترفيهية التخطيط لرحلات السفاري في الصحاري المصرية. ( )
- ٢٧ تقتصر أنواع السياحة في مصر على السياحة الدينية فقط. ( )
- ٢٨ حضور إحدى الحفلات في دار الأوبرا المصرية يعد سياحة ثقافية. ( )

## مراجعة الأستاذ لشهر مارس

- ٣٩ عند زيارتك لمدينة دهب فأنت تقوم بسياحة علاجية. ( )
- ٣٠ تطوير المنشآت السياحية يساعد على تنمية السياحة في مصر. ( )
- ٣١ تعد مدينة بورسعيد من أبرز المدن التراثية على مستوى العالم. ( )
- ٣٢ المواقع الأثرية والأماكن السياحية تمثل جزءاً من تراث بلدنا. ( )
- ٣٣ تطوير شارع المعز يعد دليلاً على جهود الدولة في الاهتمام بالمواقع الأثرية. ( )
- ٣٤ تقوم الدولة بمشروعات للحفاظ على التراث الطبيعي والثقافي. ( )
- ٣٥ يشمل مشروع تطوير مدينة القاهرة تطوير مسجد القائد إبراهيم. ( )
- ٣٦ يسمح باستخدام ضوء الكاميرا في المناطق الأثرية مثل المتاحف. ( )
- ٣٧ عدم لمس الآثار أو الوقوف ملاصقين لها من واجبنا للمحافظة عليها. ( )
- ٣٨ يجب علينا أن نحسن معاملة السياح في المناطق الأثرية والسياحية. ( )
- ٣٩ قامت الدولة بتطوير مسار العائلة المقدسة في حي المطرية. ( )
- ٤٠ يجب عليك كتابة اسمك على جدار معبد الكرنك عند زيارته لتخليد ذكرى زيارتك. ( )
- ٤١ أنشأت الدولة متحف السكك الحديدية في الجيزة عام ١٩٣٢ م. ( )
- ٤٢ السكك الحديدية تقتصر على نقل الركاب فقط. ( )
- ٤٣ دخلت العربات الحربية مصر مع غزو الهكسوس. ( )
- ٤٤ تطبيق خرائط جوجل يعد نتيجة لتأثير العلم على وسائل النقل. ( )
- ٤٥ أخذ الهكسوس العربات الحربية من المصريين القدماء. ( )
- ٤٦ الدراجات وسيلة انتقال تسهم في ازدحام المرور. ( )
- ٤٧ ساعدت وسائل النقل المختلفة على التبادل التجاري بين الدول. ( )
- ٤٨ مصر أول دولة على مستوى العالم في إنشاء السكك الحديدية. ( )
- ٤٩ قام البنك الأهلي بتأسيس شركة مصر للطيران. ( )
- ٥٠ من أمثلة الرحلات التجارية قديماً رحلات الملك سنفرو إلى بلاد فينيقيا. ( )
- ٥١ يستخدم النقل المائي في نقل البضائع ثقيلة الوزن وكبيرة الحجم. ( )

- ٥٢ تسعى الدولة للتوسع في استخدام النقل المستدام. ( )
- ٥٣ يعد ميناء سفاجا من أهم الموانئ على البحر المتوسط. ( )
- ٥٤ يقتصر النقل البري على الطرق المرصوفة فقط. ( )
- ٥٥ يتم النقل البحري في مصر عن طريق نهر النيل. ( )
- ٥٦ مترو الأنفاق يربط بين محافظات الوجه البحري ومحافظات الوجه القبلي. ( )
- ٥٧ النقل المائي هو أسرع أنواع النقل في مصر. ( )
- ٥٨ أنشأت مصر كوبري الشهيد المنسي على قناة السويس. ( )
- ٥٩ يعد مطار برج العرب من أهم المطارات الدولية في مصر. ( )
- ٦٠ استخدام السيارات الخاصة يدعم النقل المستدام. ( )

### السؤال الرابع صوّب ما تحته خط في العبارات الآتية:

- ١ يعد معبدا أبو سمبل الكبير والصغير من التراث الطبيعي. ( )
- ٢ خصص يوم ١٨ من مارس من كل عام ليكون يوم التراث العالمي. ( )
- ٣ منطقة وادي الحيطان تقع في محافظة الغربية. ( )
- ٤ يقع دير سانت كاترين في جنوب القاهرة. ( )
- ٥ مدينة الجيزة هي مدينة تاريخية عريقة وعاصمة مصر. ( )
- ٦ محمية البرلس يوجد بها ثعالب وغزلان. ( )
- ٧ أنقذت منظمة اليونسكو معبدي الأقصر في أسوان. ( )
- ٨ التراث الثقافي هو الذي لا يتدخل الإنسان في صنعه أو التأثير فيه. ( )
- ٩ من أمثلة التراث الثقافي الغابة المتحجرة. ( )
- ١٠ صنفت اليونسكو منطقة سانت كاترين منطقة مهددة بالخطر. ( )
- ١١ صاحب الهرم الأصغر هو الملك خفرع. ( )
- ١٢ مدينة شرم الشيخ تقع في شمال سيناء. ( )
- ١٣ بنى المصريون القدماء الأهرامات شرق النيل. ( )

- ١٤ حصن بابليون يعد من الآثار القبطية في مصر.
- ١٥ تقع الأهرامات الثلاثة في محافظة الفيوم.
- ١٦ صمم برج إيفل على شكل زهرة اللوتس.
- ١٧ يقع برج القاهرة في جزيرة فرعون في نهر النيل.
- ١٨ يوجد المعبد القبطي في مدينة الفسطاط.
- ١٩ يوجد جامع عمرو بن العاص في محافظة الإسكندرية.
- ٢٠ بنى المصريون القدماء المعابد ليدفن فيها الملوك.
- ٢١ مؤتمر النقل الذكي يعد ضمن السياحة التاريخية.
- ٢٢ توجد في مصر مناطق سياحية محدودة.
- ٢٣ مهرجان الموسيقى العربية نوع من أنواع السياحة العلاجية.
- ٢٤ تعد السياحة المصدر الثاني للعملات الأجنبية في مصر.
- ٢٥ زيارة مناطق العيون الكبرى من أنواع السياحة المستدامة.
- ٢٦ خان الخليلي في القاهرة من أنواع السياحة الرياضية.
- ٢٧ تسهم السياحة بنحو ٣٠٪ من إجمالي الدخل القومي.
- ٢٨ الدخل المحلي هو إجمالي الدخل الذي تحققه الأنشطة الاقتصادية في عام واحد.
- ٢٩ تدعم مصر السياحة المستدامة من خلال الاعتماد على الطاقة الملوثة.
- ٣٠ رحلات السفاري في الصحاري المصرية تعد سياحة مؤتمرات.
- ٣١ عدم الكتابة على الآثار من مسؤوليات الدولة.
- ٣٢ من السلوكيات الإيجابية لمس الآثار والكتابة عليها.
- ٣٣ تحرص الدولة على تطوير مناطق عديدة منها مسجد الحامدية الشاذلية.
- ٣٤ من مشروعات الحفاظ على التراث العمراني مشروع تطوير شارع فؤاد.
- ٣٥ تنظيم التنقيب والبحث عن الآثار والإشراف عليه يعد من مسؤوليات الفرد.
- ٣٦ منطقة الأزهر من مناطق التطوير في محافظة الجيزة.

- ٣٧ تسمح الدولة بالاتجار في الآثار وتخريبها.
- ٣٨ يعد مشروع ترميم مسجد أحمد بن طولون ضمن مشروعات التراث الطبيعي.
- ٣٩ يجب تلويث الآثار بالكتابة عليها أو خدشها وأخذ قطع منها للمنزل.
- ٤٠ يجب علينا معاملة السياح معاملة سيئة عند زيارة المتاحف.
- ٤١ أول سيارة دخلت مصر كانت تعمل بطاقة الشمس.
- ٤٢ عرف المصريون العربات الحربية من غزو الرومان.
- ٤٣ أحد أهم مؤسسات النقل الجوي في مصر هيئة السكك الحديدية.
- ٤٤ تم اختراع الماكينات بعد الثورة العراقية.
- ٤٥ تعد البواخر وناقلات النفط من وسائل النقل البري.
- ٤٦ أرسلت الملكة نفرتيتي رحلاتها التجارية قديماً إلى بلاد بونت.
- ٤٧ تحتل مصر المركز الثاني عالمياً في إنشاء السكك الحديدية بعد فرنسا.
- ٤٨ دخلت أول سيارة إلى مصر في عهد الملك فاروق.
- ٤٩ عندما استقر الإنسان على ضفاف نهر النيل عرف الصناعة.
- ٥٠ من وسائل النقل المائي المتطورة القوارب.
- ٥١ النقل الجوي أرخص وسائل النقل في مصر.
- ٥٢ مترو الأنفاق يربط بين القاهرة و*الإسكندرية* وشبرا الخيمة.
- ٥٣ ميناء دمياط يقع على ساحل البحر الأحمر.
- ٥٤ مصر أول دولة عربية إفريقية أقامت طرقاً مرصوفة.
- ٥٥ يوجد أربعة أنواع للنقل في مصر.
- ٥٦ من وسائل النقل البري في مصر السفن والبواخر.
- ٥٧ من عيوب النقل الجوي بطء الحركة.
- ٥٨ من الموانئ الموجودة على ساحل البحر الأحمر الإسكندرية.
- ٥٩ يعتبر مطار الفيوم الدولي من المطارات الموجودة بالقاهرة.
- ٦٠ النقل البري هو النقل الذي يحافظ على البيئة من التلوث.

السؤال الخامس أجب عن الأسئلة التالية:

١ اكتب سببًا واحدًا: تعد منطقة أبو مينا منطقة مهددة بالخطر.

.....

٢ ما العلاقة بين: السد العالي وآثار النوبة؟

.....

٣ حدد أوجه الاختلاف بين وادي الحيتان - أبو مينا.

.....

٤ حدد المختلف فيما يلي: أ أبو مينا - سانت كاترين - أبو سمبل - وادي الحيتان.

.....

ب المعابد - الأهرامات - القلاع - الجبال. الاستاذ

.....

٥ اكتب سببًا واحدًا: بنى المصريون القدماء الأهرامات في الصحراء.

.....

٦ وضح العلاقة بين: برج القاهرة - جزيرة الزمالك.

.....

٧ حدد أوجه الاختلاف بين: الكنيسة المعلقة وجامع عمرو بن العاص.

.....

٨ حدد المختلف فيما يلي:

أ الأهرامات - برج القاهرة - معبد أبو سمبل الكبير - أبو الهول.

.....

ب الإسلامي - الروماني - البرازيلي - الفرعوني.

.....

٩ دلل على صحة العبارة التالية: تتعدد أنواع السياحة في مصر.

.....

١٠ حدد اثنين من: جهود الدولة لتنمية السياحة.

١١ وضح: أهمية السياحة للاقتصاد المصري.

١٢ حدد المختلف فيما يلي:

أ) سياحة ثقافية - سياحة دينية - سياحة علاجية - سياحة مستدامة.

ب) المؤتمرات - المعارض - المهرجانات - الملاعب الرياضية.

١٣ اكتب واحدًا من: أ) أدوارك كمواطن للحفاظ على الآثار.

ب) جهود الدولة للحفاظ على الآثار.

١٤ وضح: أهم المشروعات التي تقوم الدولة بتطويرها.

١٥ حدد المختلف فيما يلي: الأزهر - المعز - الخليفة المأمون - الدرب الأحمر.

١٦ اكتب سببًا واحدًا ل: أهمية الدواب عند المصريين القدماء.

١٧ حدد نتيجة على: غزو الهكسوس لمصر بالنسبة لوسائل النقل.

١٨ ما العلاقة بين: الدراجات والبيئة؟

١٩ حدد المختلف فيما يلي:

أ العربات - السيارات - السكك الحديدية - السفن

ب القوارب - المراكب - الطائرات - السفن.

٢٠ اكتب سببًا واحدًا لـ: أهمية مترو الأنفاق في مصر.

٢١ حدد نتيجة على: اهتمام الدولة بتطوير الموانئ.

٢٢ ما العلاقة بين: النقل النهري والصناعة؟ الاستاذ

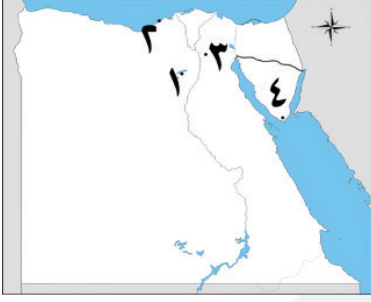
٢٣ حدد المختلف فيما يلي :

أ السيارات - القطارات - الشاحنات - الطائرات

ب السفن - البواخر - الدواب - القوارب

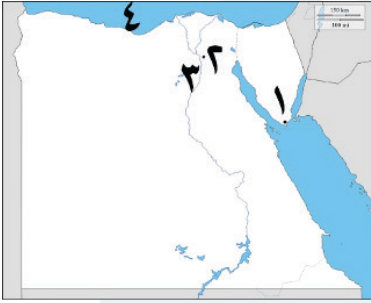
سلسلة كتب الأستاذ

**السؤال السادس** أ لاحظ الخريطة المقابلة وكتب مدلول الأرقام عليها:



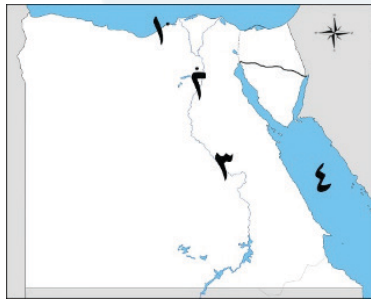
- ١ يشير رقم (١) إلى محافظة بها محمية وادي الحيتان.....
- ٢ يشير رقم (٢) إلى محافظة بها أبو مينا.....
- ٣ يشير رقم (٣) إلى عاصمة عريقة تاريخية.....
- ٤ يشير رقم (٤) إلى محافظة بها دير سانت كاترين.....

**ب** لاحظ الخريطة المقابلة وكتب مدلول الأرقام عليها:



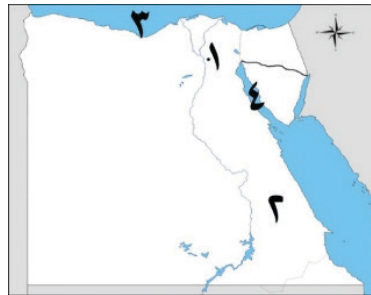
- ١ يشير رقم (١) إلى أفضل مدينة سلام في العالم.....
- ٢ يشير رقم (٢) إلى محافظة بها برج القاهرة.....
- ٣ يشير رقم (٣) إلى محافظة بها تمثال أبو الهول.....
- ٤ يشير رقم (٤) إلى مسطح مائي هو البحر.....

**ج** لاحظ الخريطة المقابلة وكتب مدلول الأرقام عليها:



- ١ مكتبة توجد بها العديد من المؤلفات النادرة هي.....
- ٢ يشير رقم (٢) إلى محافظة بها الأهرامات.....
- ٣ يشير رقم (٣) إلى سياحة ترفيهية التنزه عبر.....
- ٤ مسطح مائي به الشعاب المرجانية.....

**د** لاحظ الخريطة المقابلة وكتب مدلول الأرقام عليها:



- ١ جامع تطوره الدولة في القاهرة هو.....
- ٢ يشير رقم (٢) إلى الصحراء.....
- ٣ يشير رقم (٣) إلى مسطح مائي مالح هو.....
- ٤ يشير رقم (٤) إلى خليج.....

## الإجابات النموذجية

### السؤال الأول:

- |                                  |                     |                       |                                  |
|----------------------------------|---------------------|-----------------------|----------------------------------|
| ١ أبريل.                         | ٢ وادي الحيتان.     | ٣ جميع ما سبق.        | ٤ جنوب سيناء.                    |
| ٥ فيلة.                          | ٦ القاهرة.          | ٧ الأهرامات.          | ٨ اليونسكو.                      |
| ٩ أبو مينا.                      | ١٠ أسوان.           | ١١ القاهرة.           | ١٢ عمر بن الخطاب.                |
| ١٣ زهرة اللوتس.                  | ١٤ تمثال أبو الهول. | ١٥ مصر القديمة.       | ١٦ القاهرة.                      |
| ١٤ ثقافة.                        | ١٥ شرم الشيخ.       | ١٦ الروماني.          | ١٧ زهرة اللوتس.                  |
| ١٥ الأهرامات.                    | ١٦ غرب.             | ١٧ الأثرية.           | ١٨ خفرع.                         |
| ١٦ ثقافة.                        | ١٧ دار الأوبرا.     | ١٨ الأثرية.           | ١٩ جامع عمرو بن العاص.           |
| ١٧ خفرع.                         | ١٨ المستدامة.       | ١٩ الأثرية.           | ٢٠ الكنيسة المعلقة.              |
| ٢٠ شرم الشيخ.                    | ٢١ شرم الشيخ.       | ٢٢ الأثرية.           | ٢٣ شرم الشيخ.                    |
| ٢١ شرم الشيخ.                    | ٢٢ ثقافة.           | ٢٣ مؤتمرات ومهرجانات. | ٢٤ شرم الشيخ.                    |
| ٢٢ أهرامات الجيزة.               | ٢٣ ثقافة.           | ٢٤ شرم الشيخ.         | ٢٥ عيون موسى.                    |
| ٢٣ شرم الشيخ.                    | ٢٤ ثقافة.           | ٢٥ مؤتمرات ومهرجانات. | ٢٦ البحر الأحمر.                 |
| ٢٤ شرم الشيخ.                    | ٢٥ ثقافة.           | ٢٦ مؤتمرات ومهرجانات. | ٢٧ شرم الشيخ.                    |
| ٢٥ عيون موسى.                    | ٢٦ ثقافة.           | ٢٧ مؤتمرات ومهرجانات. | ٢٨ المستدامة.                    |
| ٢٦ البحر الأحمر.                 | ٢٧ ثقافة.           | ٢٨ مؤتمرات ومهرجانات. | ٢٩ المتوسط.                      |
| ٢٧ شرم الشيخ.                    | ٢٨ ثقافة.           | ٢٩ مؤتمرات ومهرجانات. | ٣٠ المعز.                        |
| ٢٨ المستدامة.                    | ٢٩ ثقافة.           | ٣٠ مؤتمرات ومهرجانات. | ٣١ الأزهر.                       |
| ٢٩ المتوسط.                      | ٣٠ ثقافة.           | ٣١ مؤتمرات ومهرجانات. | ٣٢ تراث بلدنا.                   |
| ٣٠ المعز.                        | ٣١ ثقافة.           | ٣٢ مؤتمرات ومهرجانات. | ٣٣ الفرد والدولة.                |
| ٣١ الأزهر.                       | ٣٢ ثقافة.           | ٣٣ مؤتمرات ومهرجانات. | ٣٤ الأزهر.                       |
| ٣٢ تراث بلدنا.                   | ٣٣ ثقافة.           | ٣٤ مؤتمرات ومهرجانات. | ٣٥ القاهرة.                      |
| ٣٣ الفرد والدولة.                | ٣٤ ثقافة.           | ٣٤ مؤتمرات ومهرجانات. | ٣٦ الكاميرا.                     |
| ٣٤ الأزهر.                       | ٣٥ ثقافة.           | ٣٥ مؤتمرات ومهرجانات. | ٣٧ المتخصصين.                    |
| ٣٥ القاهرة.                      | ٣٦ ثقافة.           | ٣٥ مؤتمرات ومهرجانات. | ٣٨ الطعام والشراب.               |
| ٣٦ الكاميرا.                     | ٣٧ ثقافة.           | ٣٥ مؤتمرات ومهرجانات. | ٣٩ الاتجار بالآثار.              |
| ٣٧ المتخصصين.                    | ٣٨ ثقافة.           | ٣٥ مؤتمرات ومهرجانات. | ٤٠ حسنة.                         |
| ٣٨ الطعام والشراب.               | ٣٩ ثقافة.           | ٣٥ مؤتمرات ومهرجانات. | ٤١ الدواب مثل الحصان والحمار.    |
| ٣٩ الاتجار بالآثار.              | ٤٠ ثقافة.           | ٣٥ مؤتمرات ومهرجانات. | ٤٢ العربات الحربية.              |
| ٤٠ حسنة.                         | ٤١ ثقافة.           | ٣٥ مؤتمرات ومهرجانات. | ٤٣ نقل الركاب.                   |
| ٤١ الدواب مثل الحصان والحمار.    | ٤١ ثقافة.           | ٣٥ مؤتمرات ومهرجانات. | ٤٤ البخار.                       |
| ٤٢ العربات الحربية.              | ٤١ ثقافة.           | ٣٥ مؤتمرات ومهرجانات. | ٤٥ أخشاب الأرز.                  |
| ٤٣ نقل الركاب.                   | ٤١ ثقافة.           | ٣٥ مؤتمرات ومهرجانات. | ٤٦ الهكسوس.                      |
| ٤٤ البخار.                       | ٤١ ثقافة.           | ٣٥ مؤتمرات ومهرجانات. | ٤٧ بونت.                         |
| ٤٥ أخشاب الأرز.                  | ٤١ ثقافة.           | ٣٥ مؤتمرات ومهرجانات. | ٤٨ الطيران الحقيقي.              |
| ٤٦ الهكسوس.                      | ٤١ ثقافة.           | ٣٥ مؤتمرات ومهرجانات. | ٤٩ البواخر.                      |
| ٤٧ بونت.                         | ٤١ ثقافة.           | ٣٥ مؤتمرات ومهرجانات. | ٥٠ توفيق.                        |
| ٤٨ الطيران الحقيقي.              | ٤١ ثقافة.           | ٣٥ مؤتمرات ومهرجانات. | ٥١ الصين.                        |
| ٤٩ البواخر.                      | ٤١ ثقافة.           | ٣٥ مؤتمرات ومهرجانات. | ٥٢ السكك الحديدية ومترو الأنفاق. |
| ٥٠ توفيق.                        | ٤١ ثقافة.           | ٣٥ مؤتمرات ومهرجانات. | ٥٣ مترو الأنفاق.                 |
| ٥١ الصين.                        | ٤١ ثقافة.           | ٣٥ مؤتمرات ومهرجانات. | ٥٤ الركاب.                       |
| ٥٢ السكك الحديدية ومترو الأنفاق. | ٤١ ثقافة.           | ٣٥ مؤتمرات ومهرجانات. | ٥٥ البري.                        |
| ٥٣ مترو الأنفاق.                 | ٤١ ثقافة.           | ٣٥ مؤتمرات ومهرجانات. | ٥٦ الصناعة.                      |
| ٥٤ الركاب.                       | ٤١ ثقافة.           | ٣٥ مؤتمرات ومهرجانات. | ٥٧ المائي.                       |
| ٥٥ البري.                        | ٤١ ثقافة.           | ٣٥ مؤتمرات ومهرجانات. | ٥٨ السيارات الخاصة.              |
| ٥٦ الصناعة.                      | ٤١ ثقافة.           | ٣٥ مؤتمرات ومهرجانات. | ٥٩ شبرا الخيمة.                  |
| ٥٧ المائي.                       | ٤١ ثقافة.           | ٣٥ مؤتمرات ومهرجانات. | ٦٠ الكهرباء والطاقة الشمسية.     |
| ٥٨ السيارات الخاصة.              | ٤١ ثقافة.           | ٣٥ مؤتمرات ومهرجانات. |                                  |
| ٥٩ شبرا الخيمة.                  | ٤١ ثقافة.           | ٣٥ مؤتمرات ومهرجانات. |                                  |
| ٦٠ الكهرباء والطاقة الشمسية.     | ٤١ ثقافة.           | ٣٥ مؤتمرات ومهرجانات. |                                  |

السؤال الثالث:

- |                      |                   |          |          |          |
|----------------------|-------------------|----------|----------|----------|
| ٢٣ المهرجانات.       | ٢٤ الأول.         | ١ خطأ.   | ٢ صواب.  | ٣ خطأ.   |
| ٢٥ العلاجية.         | ٢٦ الثقافية.      | ٤ خطأ.   | ٥ صواب.  | ٦ صواب.  |
| ٢٧ ١٢ %              | ٢٨ القومي.        | ٧ صواب.  | ٨ خطأ.   | ٩ صواب.  |
| ٢٩ النظيفة.          | ٣٠ الترفيهية.     | ١٠ صواب. | ١١ خطأ.  | ١٢ صواب. |
| ٣١ الفرد.            | ٣٢ السلبية.       | ١٣ خطأ.  | ١٤ صواب. | ١٥ صواب. |
| ٣٣ أحمد بن طولون.    | ٣٤ المعز.         | ١٦ صواب. | ١٧ صواب. | ١٨ صواب. |
| ٣٥ الدولة.           | ٣٦ القاهرة.       | ١٩ خطأ.  | ٢٠ خطأ.  | ٢١ خطأ.  |
| ٣٧ تجرم.             | ٣٨ الثقافي.       | ٢٢ صواب. | ٢٣ صواب. | ٢٤ خطأ.  |
| ٣٩ عدم تلويث.        | ٤٠ حسنة.          | ٢٥ خطأ.  | ٢٦ صواب. | ٢٧ خطأ.  |
| ٤١ طاقة البخار.      | ٤٢ الهكسوس.       | ٢٨ صواب. | ٢٩ خطأ.  | ٣٠ صواب. |
| ٤٣ شركة مصر للطيران. | ٤٤ الصناعية.      | ٣١ خطأ.  | ٣٢ صواب. | ٣٣ صواب. |
| ٤٥ المائي.           | ٤٦ حتشبسوت.       | ٣٤ صواب. | ٣٥ خطأ.  | ٣٦ خطأ.  |
| ٤٧ المملكة المتحدة.  | ٤٨ الخديوي توفيق. | ٣٧ صواب. | ٣٨ صواب. | ٣٩ صواب. |
| ٤٩ الزراعة.          | ٥٠ البواخر.       | ٤٠ خطأ.  | ٤١ خطأ.  | ٤٢ خطأ.  |
| ٥١ المائي.           | ٥٢ الجيزة.        | ٤٣ صواب. | ٤٤ صواب. | ٤٥ خطأ.  |
| ٥٣ المتوسط.          | ٥٤ مترو الأنفاق.  | ٤٦ خطأ.  | ٤٧ صواب. | ٤٨ خطأ.  |
| ٥٥ ثلاثة.            | ٥٦ المائي.        | ٤٩ خطأ.  | ٥٠ صواب. | ٥١ صواب. |
| ٥٧ المائي.           | ٥٨ سفاجا.         | ٥٢ صواب. | ٥٣ خطأ.  | ٥٤ خطأ.  |
| ٥٩ القاهرة.          | ٦٠ المستدام.      | ٥٥ خطأ.  | ٥٦ خطأ.  | ٥٧ خطأ.  |
|                      |                   | ٥٨ صواب. | ٥٩ صواب. | ٦٠ خطأ.  |

السؤال الخامس:

- ١ لأنها تعاني من خطر تآكل التربة والمباني.
- ٢ ساهمت اليونسكو في إنقاذ معبدي اليونسكو وإيزيس من الغرق بعد بناء السد العالي.
- ٣ يعتبر وادي الحيتان من التراث الطبيعي بينما تعد منطقة أبو مينا من التراث الثقافي.
- ٤ أ وادي الحيتان. ب الجبال.
- ٥ لتكون بعيدة عن الفيضان.
- ٦ يقع برج القاهرة في جزيرة الزمالك بمحافظة القاهرة.
- ٧ تعد الكنيسة المعلقة من الآثار القبطية بينما جامع عمرو بن العاص من الآثار الإسلامية.
- ٨ أ برج القاهرة. ب البرازيلي.

السؤال الرابع:

- ١ الثقافي.
- ٢ أبريل.
- ٣ الفيوم.
- ٤ سيناء.
- ٥ القاهرة.
- ٦ وادي الحيتان.
- ٧ أبو سمبل.
- ٨ الطبيعي.
- ٩ القاهرة التاريخية.
- ١٠ أبو مينا.
- ١١ منكاورع.
- ١٢ جنوب.
- ١٣ غرب.
- ١٤ الرومانية.
- ١٥ الجيزة.
- ١٦ القاهرة.
- ١٧ الزمالك.
- ١٨ اليهودي.
- ١٩ القاهرة.
- ٢٠ الأهرامات.
- ٢١ المؤتمرات.
- ٢٢ متعددة.

## مراجعة الأستاذ لشهر مارس

- ٩ حيث توجد السياحة الثقافية - السياحة الترفيهية -  
السياحة العلاجية - سياحة المؤتمرات.  
١٠- إنشاء وتطوير المنشآت السياحية .  
٢- تطوير وسائل النقل والمواصلات .  
١١ توفر فرص عمل للشباب - تعد المصدر الأول للعمالات الأجنبية - تسهم ١٢ ٪ من الدخل القومي.  
١٢ سياحة مستدامة. **ب** الملاعب الرياضية.  
١٣ عدم لمس القطع الأثرية - عدم تناول الطعام والشراب بجانب الآثار - عدم الكتابة عليها.  
**ب** صيانة المناطق الأثرية وترميمها - إصدار قوانين تجرم الاتجار بها - تنظيم عملية البحث والتنقيب.  
١٤ منطقة الأزهر - الغورية - درب الأحمر - مسجد أحمد بن طولون - شارع المعز. سلسلة كتب الأستاذ  
١٥ الخليفة المأمون.  
١٦ تستخدم في التنقل وحمل الأشياء مثل الحصان والحمار والجمال.  
١٧ أدى إلى معرفة العربات الحربية واستخدامها في مصر.  
١٨ يجب علينا التوسع في استخدام الدراجات للحفاظ على البيئة من التلوث.
- ١٩ **أ** السفن. **ب** الطائرات.  
٢٠ يربط بين ثلاث مدن مصرية هي القاهرة والجيزة وشبرا الخيمة.  
٢١ لتقليل زمن انتظار السفن خارج الميناء - زيادة كمية البضائع - زيادة مساحات التخزين داخل الميناء.  
٢٢ يستخدم النقل النهري في نقل المواد الخام اللازمة للصناعة.  
٢٣ **أ** الطائرات. **ب** الدواب.  
السؤال السادس:  
**أ** ١ الفيوم. ٢ الإسكندرية.  
٣ القاهرة. ٤ جنوب سيناء.  
**ب** ١ شرم الشيخ. ٢ القاهرة.  
٣ الجيزة. ٤ المتوسط.  
**ج** ١ الإسكندرية. ٢ الجيزة.  
٣ النيل. ٤ البحر الأحمر.  
**د** ١ أحمد بن طولون. ٢ الشرقية.  
٣ البحر المتوسط. ٤ السويس.