

6

20
25



الدراسات الاجتماعية

الصف السادس الابتدائي

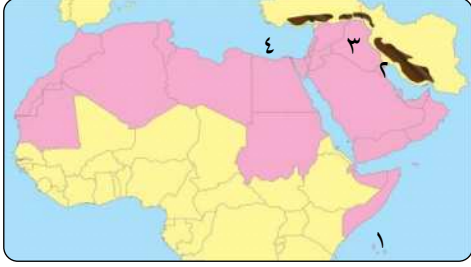
اختبارات شهر إبريل

Katr Elnada
قطر الندى



الاختبار الأول

مجاب عنه



١ (أ) أمامك خريطة صماء للوطن العربي . اكتب مدلول الأرقام الآتية:

- ١- أقل دول الوطن العربي سكاناً
- ٢- دولة حضرية بالكامل
- ٣- دولة يتركز سكانها بالسهول الفيضية
- ٤- البحر

(ب) اكتب تفسيراً واحداً لما يأتي :

- ١- يعد أبو جعفر المنصور المؤسس الحقيقي للدولة العباسية .
- ٢- تعدد مهام الخليفة في الدولة الإسلامية .

٢ (أ) اختر الإجابة الصحيحة مما بين القوسين :

- ١- أسس هارون الرشيد سوق الوراقين في (البصرة - الكوفة - سامراء - البصرة)
- ٢- انتصر قطز على في معركة عين جالوت . (الصليبيين - المغول - الروم - الأيوبيين)

(ب) قارن بين :

- أهم أعمال كل من أحمد بن طولون ومحمد بن طغج الإخشيد .

وجه المقارنة	أحمد بن طولون	محمد بن طغج الإخشيد
أهم الأعمال

٣ (أ) أكمل العبارات الآتية بما يناسبها من كلمات :

- ١- مهّد الخليفة أبو العباس عبد الله الطريق بين الكوفة و.....
- ٢- تم اختراع الإسطرلاب في عهد الخليفة العباسي
- ٣- بنى المسلمون مقياساً على النيل لتحديد

(ب) ما النتائج المترتبة على ؟

- ١- انغماس خلفاء الدولة العباسية في حياة الترف في آخر عهدها .
- ٢- تأسيس هارون الرشيد سوق الوراقين في بغداد .

٤ (أ) صل كل عبارة من العمود (أ) بما يناسبها من العمود (ب) :

- ١- عقد صلاح الدين مع ريتشارد قلب الأسد صلح العريش . (.....)
- ٢- أول عاصمة في مصر الإسلامية هي مدينة القطائع . (.....)

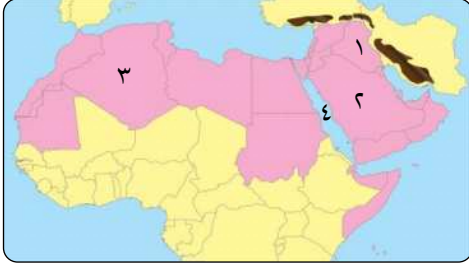
(ب) ماذا يحدث إذا ؟

- ١- لم يستعن الخلفاء العباسيون بالعناصر غير العربية .
- ٢- لم ينتصر صلاح الدين في معركة حطين .

الاختبار الثاني

مجاب عنه

١ (أ) أمامك خريطة صماء للوطن العربي . اكتب مدلول الأرقام الآتية :



- ١- سهول نهري
- ٢- دولة تعاني من قلة السكان
- ٣- ثالث الدول العربية من حيث عدد السكان
- ٤- البحر

(ب) ما العلاقة بين ؟

- ١- المغول والدولة العباسية
- ٢- فتح مصر وبلاد الشام

٢ (أ) اختر الإجابة الصحيحة مما بين القوسين :

- ١- انتشرت في مصر قبل الفتح الإسلامي الديانة (اليهودية - المسيحية - المجوسية - الهندوسية)
- ٢- استولى الصليبيون على العديد من المدن في بلاد الشام منها (بابل - الطائف - انطاكية - بغداد)
- ٣- أنشأ القائد جوهر الصقلي مدينة (دمشق - العسكر - القطائع - القاهرة)

(ب) ما النتائج المترتبة على ؟

- ١- تولى الوليد بن عبد الملك حكم الدولة الأموية
- ٢- معركة عين جالوت عام ١٢٦٠م

٣ (أ) صل كل عمل من الأعمال في العمود (أ) بالشخصية التي قامت به في العمود (ب) :

العمود (ب)	العمود (أ)
- سيف الدين قطز.	١- طور الطريق بين مكة والكوفة.
- صلاح الدين الأيوبي.	٢- انتصر على المغول عام ١٢٦٠م.
- أبو العباس عبد الله.	٣- عقد صلح الرملة مع ريتشارد قلب الأسد.
- جوهر الصقلي.	

(ب) دلل على صحة العبارات التالية :

- ١- اهتمام صلاح الدين الأيوبي بتنظيم شئون مصر الداخلية
- ٢- كان الرسول (ﷺ) أول من وضع أسس النظام السياسي والإداري في الدولة الإسلامية

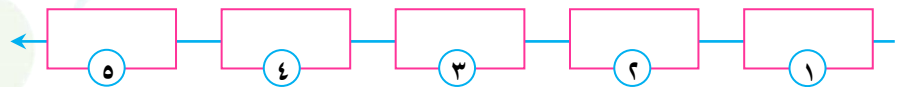
٤ (أ) صوب ما تحته خط :

- ١- استمرت الدولة العباسية أكثر من سبعة قرون. (.....)
- ٢- شيدت مدينة الفسطاط في تونس في عهد الخليفة معاوية بن أبي سفيان. (.....)

(ب) ١- رتب المدن المصرية التالية التي فتحها عمرو بن العاص

بأسبقية الفتح :

(الإسكندرية - حصن بابليون - العريش - بلبيس - الفرما)



٢- ما النتائج المترتبة على ؟

- فتح العرب المسلمين لمصر



الاختبار الثالث

مجاب عنه

١ (أ) أمامك خريطة صماء للوطن العربي . اكتب مدلول الأرقام الآتية :



- ١- المحيط
- ٢- مضيق
- ٣- سهول فيضية
- ٤- إحدى دول الخليج العربي

(ب) بم تفسر ؟

- ١- أطلق على عصر الوليد بن عبد الملك اسم العصر الذهبي للدولة الأموية .
- ٢- تأسس عثمان بن عفان (رضي الله عنه) الأسطول البحري الإسلامي .

٢ (أ) اكتب كلمة (صواب) أمام العبارة الصحيحة وكلمة (خطأ) أمام العبارة غير الصحيحة :

- ١- أمر الخليفة معاوية بن أبي سفيان بتوسيع الحرم النبوي والمكي . ()
- ٢- أصبحت بغداد مقراً للخلافة العباسية في عهد المعتصم بالله . ()
- ٣- أحسن الروم معاملة المصريين وحافظوا على حقوقهم . ()

(ب) اكتب عملاً تاريخياً واحداً لكل من :

- ١- أحمد بن طولون
- ٢- جوهر الصقلي

٣ (أ) أكمل العبارات الآتية بكلمات مناسبة :

- ١- أعاد عمرو بن العاص حفر قناة سيروستريس وسميت بـ
- ٢- المغول هم قبائل رعوية جاءت من وسط قارة
- ٣- ظهرت الدعوة العباسية على يد

(ب) اذكر اثنين من :

- ١- أسباب ضعف وسقوط الدولة الأموية .
- ٢- مهام الوالي في الدولة الإسلامية .

٤ (أ) اختر الإجابة الصحيحة مما بين القوسين :

- ١- يقع المسجد الأموي في دولة (سوريا - لبنان - الأردن - فلسطين)
- ٢- أول خلفاء الدولة العباسية هو (هارون الرشيد - المأمون بن هارون - أبو العباس عبد الله - أبو جعفر المنصور)

(ب) قارن بين :

- معركة حطين ومعركة عين جالوت من حيث الأطراف والنتائج .

وجه المقارنة	معركة حطين	معركة عين جالوت
الأطراف
النتائج

الاختبار الرابع

مجاب عنه



١ (أ) أمامك خريطة صماء للوطن العربي . اكتب مدلول الأرقام الآتية :

- ١- منطقة تركيز سكاني
- ٢- ثاني الدول العربية من حيث عدد السكان
- ٣- الخليج
- ٤- دولة ترتفع بها معدلات الأمية

(ب) دلل على صحة العبارات الآتية :

- ١- ازدهار العلوم في عصر الخليفة العباسي المأمون بن هارون
- ٢- ظهور نظام الإمارة منذ عهد الرسول (ﷺ)

٢ (أ) لمن تنسب الأعمال الآتية ؟

- ١- خليفة عباسي اتخذ من مدينة الأنبار عاصمة للدولة العباسية .
- ٢- قائد عربي مسلم فتح مصر وأعاد حفر قناة سيزوستريس .
- ٣- قائد الجيش المغولي في معركة عين جالوت .

(ب) بم تفسر ؟

- ١- تأسيس الخليفة معاوية بن أبي سفيان ديوان البريد
- ٢- سقوط الدولة العباسية

٣ (أ) صل من العمود (أ) ما يناسبه من العمود (ب) :

العمود (ب)	العمود (أ)
- الفسطاط .	١- الخليفة الأموي الذي سك أول عملة إسلامية
- محمد بن طغج الإخشيد .	٢- أول عاصمة في مصر الإسلامية مدينة
- عبد الملك بن مروان .	٣- اتخذ
- القطائع .	مدينة العسكر عاصمة لدولته .

(ب) اذكر نتيجة واحدة ترتبت على :

- ١- استكمال حركة الفتوحات الإسلامية في عهد الدولة الأموية
- ٢- رغبة عمر بن الخطاب (ﷺ) في تنظيم شؤون الدولة الإسلامية

٤ (أ) اقرأ العبارة التالية ، ثم أجب عن الأسئلة التالية :

" ظهرت في مصر عدة دول مستقلة في أواخر العصر العباسي الثاني "

- ١- ما هي أشهر الدول المستقلة التي ظهرت في مصر ؟
- ٢- ما هي أسباب ظهور الدول المستقلة في ذلك الوقت ؟
- ٣- ما نتيجة ضعف الدولة العباسية في العصر العباسي الثاني ؟

(ب) حدد :

- ١- أهمية ديوان الخاتم
- ٢- مجي الحملات الصليبية على العالم الإسلامي

الاختبار الخامس

مجاب عنه

١ (أ) أمامك خريطة صماء للوطن العربي . اكتب مدلول الأرقام الآتية :



- ١- الصحراء
- ٢- دولة سجلت أعلى معدلات بطالة
- ٣- أعلى الدول العربية سكاناً
- ٤- المحيط

(ب) ما النتائج المترتبة على ؟

- ١- اهتمام معاوية بن أبي سفيان بالبحرية الإسلامية
- ٢- اتساع رقعة الدولة الإسلامية في عهد الخليفة عمر بن الخطاب

٢ (أ) أكمل العبارات الآتية بما يناسبها من كلمات :

- ١- عقد عمرو بن العاص مع الروم صلح
- ٢- نجح المماليك في صد خطر الصليبيين بعد وفاة الملك
- ٣- شيدت مدينة القيروان في عهد الخليفة

(ب) اكتب دليلاً واحداً على :

- ١- اهتمام الوليد بن عبد الملك بالعمران
- ٢- تكون النظام السياسي والإداري في الدولة الإسلامية من سبعة عناصر

٣ (أ) اكتب كلمة (صح) أمام العبارة الصحيحة وكلمة (خطأ) أمام العبارة غير الصحيحة :

- ١- أنشأ الخليفة العباسي المعتصم بالله مدينة سامراء. ()
- ٢- أسس الخليفة هارون الرشيد ديوان الخاتم لحفظ مراسلات الخليفة. ()

(ب) فسر :

- ١- تسمية الحروب الصليبية بهذا الاسم
- ٢- ازدهار الدولة الإسلامية في عهد الدولة الأموية
- ٣- إنشاء المقاييس على النيل في مصر في ظل الحكم الإسلامي

٤ (أ) اكتب ما تشير إليه العبارات الآتية :

- ١- غلمان كانوا يشترتون ويدربون على فنون القتال لاستخدامهم كفرق عسكرية. (.....)
- ٢- أماكن لاستضافة المسافرين واهتم بها الخليفة عمر بن عبد العزيز. (.....)
- ٣- هو العصر الذهبي للدولة العباسية ويتميز بالقوة والازدهار. (.....)

(ب) أجب عن الأسئلة التالية :

- ١- رتب الأحداث التاريخية الآتية من الأقدم إلى الأحدث :
(معركة عين جالوت - الفتح الإسلامي لمصر - قيام الدولة الأيوبية - معركة حطين - قيام الدولة الطولونية)
- ٢- ما العلاقة بين الدولة الفاطمية والفنون والعمارة ؟

6

20
25



الدراسات الاجتماعية

الصف السادس الابتدائي

الإجابات النموذجية

Katr Elnada
قطر الندى



الإجابات النموذجية

إجابة الاختبار الأول

ج ١: (أ)

١- جزر القمر. ٢- الكويت.

٣- العراق. ٤- المتوسط.

(ب)

١- بسبب: قيامه بالعديد من الأعمال الهامة ،

ومنها :

١- سن القوانين ونشر الأمن والأمان

في كافة أنحاء الدولة.

٢- قضى على الثورات وراقب الولاة

وحاسبهم.

٢- لأنه كان يقوم ب: متابعة أمور الدولة - إقامة

العدل - حماية الدولة.

ج ٢: (أ)

١- بغداد.

٢- المغول.

(ب)

محمد بن طغج
الإخشيدي

أحمد بن طولون

وجه المقارنة

١- أسس

١- أسس الدولة

الدولة

الطولونية.

الإخشيدي.

٢- بنى مدينة

٢- اتخذ من

القطائع

مدينة

واتخذها

العسكر

عاصمة له

عاصمة له.

وبنى مسجده

الشهير.

أهم الأعمال

ج ٣: (أ)

٢- المأمون بن هارون.

١- مكة.

٣- قيمة الضرائب.

(ب)

١- أدى إلى : ضعف الدولة العباسية خاصة في

العصر العباسي الثاني وانهايار الدولة

العباسية.

٢- أدى إلى : المساعدة على انتشار نسخ الكتب

العلمية وترجمتها وبيعها.

ج ٤: (أ)

١- الرملة. ٢- الفسطاط.

(ب)

١- لم تظهر الدول المستقلة في مصر، ولم

تدهور الأوضاع الداخلية للدولة العباسية

والتي ساعدت في سقوطها.

٢- لم يستطع صد الجيش الصليبي ولم تسقط

حصون الصليبيين في أيدي المسلمين ولم يصل

جيش المسلمين إلى أبواب بيت المقدس

لفتحها.

إجابة الاختبار الثاني

ج ١: (أ)

١- دجلة والفرات. ٢- السعودية.

٣- الجزائر. ٤- الأحمر.

(ب)

١- حيث سقطت الدولة العباسية على يد المغول.

٢- حيث كان فتح مصر لتأمين حدود الدولة

الإسلامية في بلاد الشام من هجمات الروم

وتخليص أهل مصر من ظلم الروم.

ج ٢: (أ)

١- المسيحية. ٢- أنطاكية.

٣- القاهرة.

إجابة الاختبار الثالث

ج ١: (أ)

- ١- الأطلنطي. ٢- باب المندب.
٣- وادي النيل. ٤- السعودية.

(ب)

- ١- حيث شهدت الدولة الأموية في عهده ازدهاراً في كافة المجالات.
٢- لحماية حدود الدولة الإسلامية من الخطر البيزنطي.

ج ٢: (أ)

- ١- (خطأ). ٢- (خطأ).
٣- (خطأ).

(ب)

- ١- أحمد بن طولون: أسس الدولة الطولونية واتخذ من مدينة القطائع عاصمة له وأسس بها مسجده الشهير الذي عرف باسمه.
٢- جوهر الصقلي: بني مدينة القاهرة والجامع الأزهر.

ج ٣: (أ)

- ١- خليج أمير المؤمنين. ٢- آسيا.
٣- أبي مسلم الخراساني.

(ب)

١- أسباب ضعف وسقوط الدولة الأموية :

- ١- صراعات الأسرة الأموية على الحكم.
٢- انشغال الحكام بالملذات فظلموا رعيتهم.
٣- ظهور الدعوة العباسية في خراسان.

٢- مهام الوالي:

- ١- إدارة شؤون الولاية وقيادة جيشها.
٢- جمع الضرائب والزكاة.

(ب)

١- أدى إلى : انتشار الأمن والاستقرار الداخلي للدولة الأموية واتسم عصره بالرخاء حتى عرف بالعصر الذهبي للدولة الأموية.

٢- أدى إلى :

- ١- قتل معظم جنود المغول وقائدهم كتبغا.
٢- حمت مصر العالم الإسلامي من خطر المغول.
٣- أصبحت لمصر زعامة العالم الإسلامي.

ج ٣: (أ)

- ١- أبو العباس عبد الله.
٢- سيف الدين قطز.
٣- صلاح الدين الأيوبي.

(ب)

١- حيث :

- ١- اهتم بالزراعة وتطهير الترع القديمة.
٢- اهتم بالتجارة وازدهر الإنتاج والاقتصاد.
٣- اهتم بالتعليم وأدخل نظام المدارس العامة.

٢- حيث عرف نظام الوزارة منذ عهد الرسول (ﷺ)

حيث كان يستشير بعض أصحابه، كما كان يكلفهم ببعض الأعمال نيابة عنه، وكذلك نظام الإمارة حيث كان يرسل (ﷺ) بعض أصحابه إلى المدن والقبائل التي دخلت الإسلام ليعلمهم أمور دينهم وإمامة الناس في الصلاة.

ج ٤: (أ)

- ١- خمسة. ٢- القيروان.

(ب)

١- العريش - الفرما - بلييس - حصن بابليون - الإسكندرية.

٢- أدى إلى: تخلص المصريون من ظلم الروم وتحولت مصر إلى ولاية إسلامية.

ج ٤: (أ)

١- سوريا . ٢- أبو العباس عبد الله .

(ب)

وجه المقارنة	معركة حطين	معركة عين جالوت
الأطراف	صلاح الدين الأيوبي ضد الصليبيين	سيف الدين قطز ضد المغول
النتائج	هزيمة الصليبيين واسترداد بيت المقدس .	هزيمة المغول وانتصار المسلمين وحماية العالم الإسلامي والعالم أجمع من خطر المغول .

إجابة الاختبار الرابع

ج ١: (أ)

١- الدلتا . ٢- السودان .

٣- العربي . ٤- موريتانيا .

(ب)

١- حيث ازدهرت في عصره العديد من العلوم المختلفة ، مثل : الرياضيات والطب والفلسفة وعلم الفلك ، كما أنشأ أول مرصد فلكي في بغداد وعمل فيه أكبر علماء الفلك المسلمين .
٢- حيث كان الرسول (ﷺ) يرسل أصحابه إلى المدن والقبائل التي دخلت في الإسلام ليعلمهم أمور دينهم وإمامة الناس في الصلاة .

ج ٢: (أ)

١- أبو العباس عبد الله .

٢- عمرو بن العاص .

٣- كتبغا .

(ب)

١- لنقل الرسائل بسرعة تسهيلاً للاتصال بين الخليفة والأقاليم الإسلامية .

٢- بسبب : ١- الصراع على الحكم .

٢- ضعف الدولة سياسياً واقتصادياً .

٣- سيطرة العناصر غير العربية على الجيش والإدارة .

٤- انغماس الملوك في حياة الترف .

ج ٣: (أ)

١- عبد الملك بن مروان . ٢- الفسطاط .

٣- محمد بن طغج الإخشيد .

(ب)

١- أدى إلى : توسيع حدود الدولة الإسلامية شرقاً وغرباً .

٢- أدى إلى : تقسيم الدولة الإسلامية إلى ولايات

وعين لكل ولاية منها والياً نائباً عنه .

ج ٤: (أ)

١- الدولة الطولونية - الدولة الإخشيدية .

٢- ضعف الملوك في العصر العباسي الثاني -

انغماس الملوك في حياة الترف والملذات .

٣- أدى إلى : ظهور العديد من الدول المستقلة

وغزو المغول للعالم الإسلامي .

(ب)

١- لختم الرسائل بالشمع منعاً للتزوير والتعديل .

٢- لأسباب دينية : رغبة ملوك أوروبا في تأمين

الحجاج المسيحيين إلى كنيسة

القيامة بعد زعم الباباوات سوء

معاملة المسلمين لهم .

- لأسباب سياسية : رغبتهم في تأسيس

مستعمرات لهم في الشرق .

- لأسباب اقتصادية : رغبتهم في الحصول على

ثروات الشرق .

إجابة الاختبار الخامس

ج ١: (أ)

- ١- الكبرى .
- ٢- الصومال .
- ٣- مصر .
- ٤- الهندي .

(ب)

١- أدى إلى:

- ١- إنشاء العديد من المصانع لبناء السفن .
- ٢- تطوير الموانئ البحرية .

٢- أدى إلى:

- ١- إنشاء عمر بن الخطاب الدواوين .
- ٢- تقسيم الدولة الإسلامية لولايات وعين على كل ولاية واليًا عليها .

ج ٢: (أ)

- ١- الإسكندرية .
- ٢- نجم الدين أيوب .
- ٣- معاوية بن أبي سفيان .

(ب)

- ١- أصلح الطرق وخاصة التي تؤدي إلى الحجاز لتيسير سفر الحجاج إلى بيت الله الحرام .
- ٢- حيث تكون النظام السياسي والإداري من: الخلافة - الوزارة - الإمارة - الدواوين - القضاء - الشرطة - الجيش والأسطول .

ج ٣: (أ)

- ١- (صح) .
- ٢- (خطأ) .

(ب)

- ١- لأنهم اتخذوا من الصليب شعاراً لهم .
- ٢- حيث اهتم الأمويون ب:
 - ١- تنظيم شؤون الدولة داخلياً وخارجياً .
 - ٢- العلوم والفنون والعمارة .
 - ٣- استكمال حركة الفتوحات وتوسيع حدود الدولة الإسلامية شرقاً وغرباً .
 - ٣- لتحديد قيمة الضرائب .

ج ٤: (أ)

- ١- المماليك .
- ٢- الخانات .
- ٣- العصر العباسي الأول .

(ب)

- ١- الفتح الإسلامي لمصر - قيام الدولة الطولونية
 - قيام الدولة الأيوبية - معركة حطين
 - معركة عين جالوت .
- ٢- حيث اهتم الفاطميون بالعمارة فبنيت مدينة القاهرة والجامع الأزهر الشريف على يد القائد جوهر الصقلي - اهتموا ببناء المساجد والقصور وجعلها مراكز لنشر العلم والثقافة .