

5

20  
25



# الدراسات الاجتماعية

الصف الخامس الابتدائي

اختبارات شهر إبريل

Katrina  
قطر الندى



## الاختبار الأول

مجاب عنه



١ ( أ ) أمامك خريطة صماء لمصر وضح ما تدل عليه الأرقام:

- ١- محافظة بها الأهرامات الثلاثة .....
- ٢- محافظة بها أحد معابد الآلهة .....
- ٣- البحر .....
- ٤- قناة .....

(ب) قارن بين :

- عصري البطالمة والرومان في مصر، من حيث : نظام الحكم - مظاهر الحياة الاقتصادية .

عصر الرومان	عصر البطالمة	وجه المقارنة
.....	.....	نظام الحكم
.....	.....	مظاهر الحياة الاقتصادية

٢ ( أ ) اكتب كلمة (صح) أمام العبارة الصحيحة وكلمة (خطأ) أمام العبارة غير الصحيحة:

- ١- ازدهرت الأنشطة الاقتصادية في مصر أثناء الحكم البطلمي. ( )
- ٢- زار الإسكندر الأكبر معبد الإله أتون بواحة سيوة. ( )
- ٣- اكتشف المصريون القدماء الكثير من الوصفات الطبية والأمراض. ( )

(ب) بم تفسر؟

١- قرر الإسكندر الأكبر السيطرة على مصر.

.....

٢- نجاح الهكسوس في احتلال مصر.

.....

٣- للقوات المسلحة دورًا هامًا في حفظ السلام.

.....

٣ ( أ ) أكمل العبارات الآتية بكلمات مناسبة:

- ١- أسست مكتبة الإسكندرية في عصر دولة .....
- ٢- أنشأت الدولة بانوراما حرب أكتوبر في مدينة .....
- ٣- أهم مركز تجارى شرق البحر المتوسط في العصر الروماني مدينة .....

(ب) اقرأ الفقرة التالية ثم أجب:

"عرف المصريون القدماء أنواعًا مختلفة من الأدب سجلوا به العديد من الأمور الحياتية والإبداعية في حياتهم"



١- اذكر بعض الأنواع المختلفة للأدب المصري القديم.

.....  
.....

٢- ما نتيجة تعدد كتابات المصريين القدماء في مجالات الأدب المختلفة؟

.....  
.....

٤ (أ) اختر الإجابة الصحيحة مما بين القوسين:

١- استطاع المصريون القدماء تحديد قيمة الضرائب بفضل براعتهم في علم .....

( الحساب - الطب - الفلك - الهندسة )

٢- كان منزل ..... كبير متعدد الحجرات وبه مخازن للحبوب.

( الفلاح - الراعي - الوزير - الصانع )

(ب) ما النتائج المترتبة على؟

١- معركة أكتيوم البحرية.

.....

٢- ضعف الملوك بعد بطليموس الثالث وكثرة ثورات الشعب المصري ضدهم.

.....

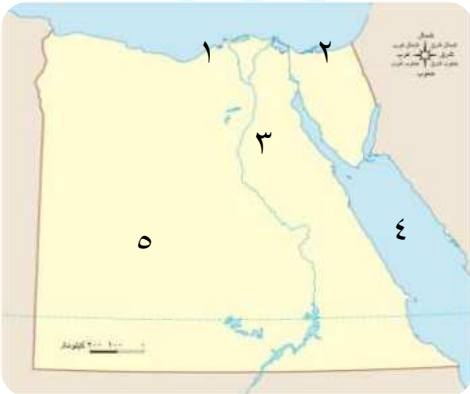
٣- التعاون العسكري بين الفينيقيين والملك تحتمس الثالث في معركة مجدو.

.....

## الاختبار الثاني

مجاب عنه

١ (أ) أمامك خريطة صماء لمصر وضح ما تدل عليه الأرقام التالية:



١- مدينة .....

٢- محافظة يقل بها السكان .....

٣- وادي .....

٤- البحر .....

٥- الصحراء .....

(ب) اكتب تفسيراً واحداً على :

١- أهمية اختراع الكتابة الهيروغليفية .

٢- أهمية وزارة الخارجية المصرية .

٢ (أ) أكمل العبارات التالية بكلمات مناسبة :

- ١- بنى المصريون القدماء منازلهم من .....
- ٢- قام الإسكندر الأكبر بزيارة معبد ..... دليلاً على احترام الديانة المصرية القديمة .
- ٣- آخر ملوك البطالمة في مصر .....

(ب) قارن بين :

- إنجازات المصريين القدماء في مجال الهندسة وإنجازات المصريين في مجال الفلك .

٣ (أ) اكتب كلمة (صح) أمام العبارة الصحيحة وكلمة (خطأ) أمام العبارة غير الصحيحة :

- ١- بنى المصري القديم المقابر من الحجر حفاظاً على جسد المتوفى. ( )
- ٢- تعددت أنواع الأدب عند المصريين القدماء. ( )

(ب) ما النتائج المترتبة على؟

١- براعة المصريين القدماء في تشريح جثث موتاهم .

٢- تأسيس البطالمة لمكتبة الإسكندرية .

٤ (أ) اكتب ما تشير إليه العبارات الآتية :

- ١- قائد يوناني حكم مصر هو وخلفاؤه حوالي ثلاثة قرون. (.....)
- ٢- مهنة من أهم المهن قديماً تساعد صاحبها في الوصول للمناصب العليا. (.....)
- ٣- برج أو عمود من الحجر له أربعة جوانب تنتهي بشكل هرمي. (.....)

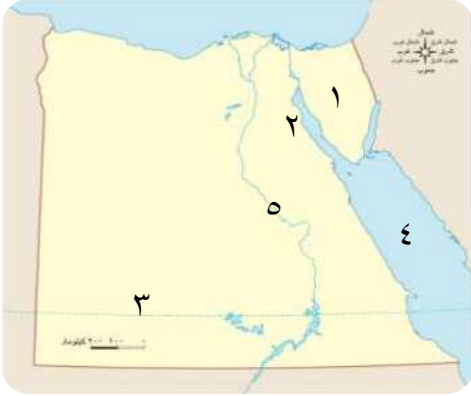
(ب) أجب عن الأسئلة التالية :

١- رتب الأحداث التاريخية التالية من الأقدم إلى الأحدث : ( تحول مصر إلى ولاية رومانية - سيطرة الإسكندر الأكبر على مصر - بناء مدينة الإسكندرية - تولية الملكة كليوباترا السابعة الحكم - الفتح الإسلامي لمصر )

٢- اذكر : مراحل تطور بناء المقابر في مصر القديمة .

## الاختبار الثالث

مجاب عنه



١ ( أ ) أمامك خريطة صماء لمصر وضح ما تدل عليه الأرقام عليها :

- ١- شبه جزيرة.....
- ٢- خليج.....
- ٣- محافظة قليلة السكان.....
- ٤- البحر.....
- ٥- نهر.....

( ب ) وضح العلاقة بين :

١- تقدم المصريين القدماء في علم الحساب والزراعة.

٢- الملكة كليوباترا السابعة وتغير تبعية مصر السياسية.

٢ ( أ ) أكمل العبارات الآتية بكلمات مناسبة:

- ١- تحولت مصر إلى ولاية..... بعد معركة أكتيوم البحرية.
- ٢- كانت مدينة..... في مصري المركز الثاني ثقافياً بعد روما.
- ٣- يعد معبد رأس السوداء من الآثار..... في مصر ويوجد في مدينة.....

( ب ) دلل على صحة العبارات التالية :

١- اختلفت منازل المصريين القدماء باختلاف طبقاتهم الاجتماعية.

٢- عبقرية الملك تحتمس الثالث العسكرية.

٣ ( أ ) اكتب كلمة (صح) أمام العبارة الصحيحة وكلمة (خطأ) أمام العبارة غير الصحيحة:

- ١- اعتبر الرومان مصر مزرعة للقمح فاهتموا بزراعته. ( )
- ٢- يعد معبد إدفو من أهم المعابد التي أقامها الرومان في مصر. ( )



( ب ) الصورة التي أمامك تعبر عن أحد الآثار في مصر. انظر ثم أجب :

- ١- ما اسم هذا الأثر؟.....
- ٢- في أي عصر بنى هذا الأثر؟.....
- ٣- ما الهدف من إنشائه؟.....

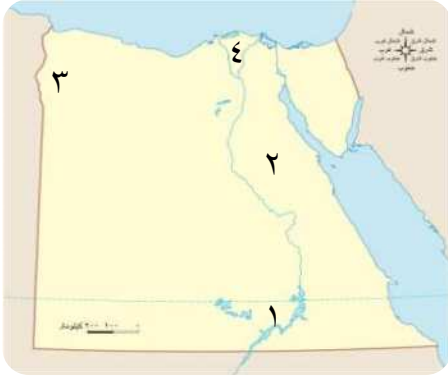
٤ ( أ ) صل العبارات من العمود ( أ ) بالعبارات المناسبة لها في العمود ( ب ):

العمود (ب)	العمود (أ)
- علم الفلك.	١- استكمل بناء مدينة الإسكندرية واتخذها عاصمة للبلاد.
- ورق البردى.	٢- علم يهتم بدراسة ومعرفة مواقع النجوم والكواكب.
- بطلميوس الأول.	٣- سجل المصريون القدماء ما وصلوا إليه من علم عليه.

( ب ) اذكر: - الدور الذي قام به البطالمة في مجال التجارة في مصر.

## الاختبار الرابع

مجاب عنه



١ ( أ ) أمامك خريطة لمصر حدد ما تدل عليه الأرقام:

- ١- بحيرة .....
- ٢- الصحراء .....
- ٣- واحة .....
- ٤- منطقة تزداد بها الكثافة السكانية .....

(ب) قارن بين:

- المعابد الجنائزية - معابد الآلهة من حيث التعريف مع ذكر مثال.

وجه المقارنة	المعابد الجنائزية	معابد الآلهة
التعريف	.....	.....
مثال	.....	.....

٢ ( أ ) اكتب كلمة (صح) أمام العبارة الصحيحة وكلمة (خطأ) أمام العبارة غير الصحيحة:

- ١- عرف المصريون القدماء الأشكال الهندسية وبرعوا في علم الحساب. ( )
- ٢- قسم المصريون القدماء السنة إلى ١٢ شهراً متساوياً. ( )
- ٣- استغل الرومان مصر لزراعة محصول الأرز بكميات كبيرة. ( )

(ب) صنف الكلمات التالية في مكانها المناسب بالجدول:

- متعدد الحجرات.
- تتكون من طابق واحد أو طابقين.
- بسيطة.
- بها مخازن للحبوب.
- متسعة.
- تمتاز بجمال الزينة والزخرفة.

منازل العمال	منازل الوزراء وكبار الكهنة	منزل الملك
.....	.....	.....
.....	.....	.....

٣ ( أ ) أكمل العبارات التالية بكلمات مناسبة :

- ١- من الأدوات الطبية التي اخترعها المصريون القدماء .....
- ٢- أسس البطالمة في مصر مكتبة .....
- ٣- آخر ملوك دولة البطالمة في مصر .....

(ب) ما النتائج المترتبة على ؟

١- معركة قادش بين الملك رمسيس الثاني والحيثيين.

.....

٢- اضطهاد الرومان للمصريين.

.....

٣- اشتراك الفينيقيين مع الملك تحتمس الثالث في معركة مجدو.

.....

٤ (أ) اكتب ما تشير إليه العبارات التالية:

١- قبائل رعوية أتت إلى مصر من آسيا في أثناء ضعف الدولة الوسطى. (.....)

٢- مباني تم تصميمها لحماية البلاد والدفاع عنها وتأمين السكن للجنود. (.....)

(ب) أجب عن الأسئلة التالية :

١- اذكر: اثنين من الآثار الرومانية في مصر، واثنين من آثار البطالمة في مصر.

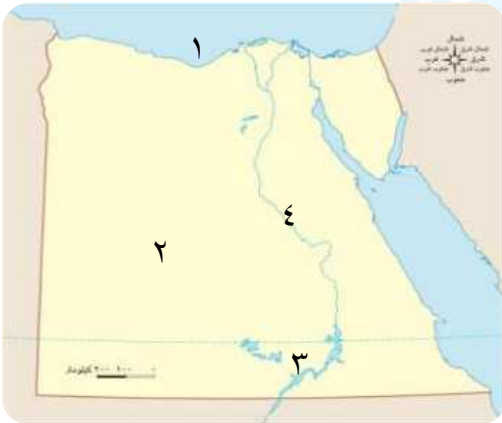
.....

٢- فسر: أهمية التواصل السياسي والعسكري بين مصر ودول العالم.

.....

## الاختبار الخامس

مجاب عنه



١ (أ) أمامك خريطة صماء لمصر وضح ما تدل عليه الأرقام :

١- البحر .....

٢- بنى المصريون القدماء مقابرهم

..... في الصحراء

٣- بحيرة .....

٤- نهر .....

(ب) دلل على صحة العبارات التالية:

١- اهتمام البطالمة بالزراعة.

.....

٢- براعة المصريين القدماء في علم النحت.

.....

٢ (أ) اكتب كلمة (صح) أمام العبارة الصحيحة وكلمة (خطأ) أمام العبارة غير الصحيحة:

- ١- تدخلت روما في شئون مصر الداخلية في عهد الملكة كليوباترا السابعة. ( )
- ٢- أنشأ البطالمة منارة الإسكندرية لإرشاد السفن ليلاً. ( )
- ٣- منازل العمال قديمًا كانت تحتوى على مخازن للحبوب. ( )

(ب) رتب الأحداث التاريخية التالية من الأقدم إلى الأحدث :

- ( معركة أكتيوم البحرية - دخول الإسكندر الأكبر إلى مصر - تأسيس مدينة الإسكندرية -  
الفتح العربي الإسلامي لمصر )

.....

.....

.....

٣ (أ) اختر الإجابة الصحيحة مما بين القوسين :

- ١- يقع حصن بوهين على الحدود ..... لمصر. ( الشمالية - الجنوبية - الشرقية - الغربية )
- ٢- بنى المصريون القدماء المنازل من ..... ( الطوب اللبن - الحجر الجيري - النحاس - الطوب الأحمر )
- ٣- احتلت مدينة ..... المركز الثاني ثقافيًا بعد روما. ( اليونان - الإسكندرية - بورسعيد - أثينا )

(ب) وضح :

- ١- أسباب انهيار حكم البطالمة في مصر.

.....

- ٢- دور الملك زوسر أثناء عصر الدولة القديمة في حماية البلاد والدفاع عنها.

.....

٤ (أ) أكمل العبارات التالية بكلمات مناسبة :

- ١- انتهى الاضطهاد الروماني للمسيحيين في مصر بالفتح ..... عام ٦٤١ م.
- ٢- كانت عاصمة مصر مدينة ..... في عصر البطالمة.
- ٣- أدخل البطالمة إلى مصر أدوات ري جديدة مثل .....

(ب) اكتب دليلاً واحدًا على :

- ١- براعة المصري القديم في علم الفلك.

.....

- ٢- اهتمام المصريين القدماء بأدوات الزينة.

.....

5

20  
25



الدراسات  
الاجتماعية

الصف الخامس الابتدائي

الإجابات النموذجية

Katr Elnada  
قطر الندى



## الإجابات النموذجية

## إجابة الاختبار الأول

ج ١: (أ)

- ١- الجيزة. ٢- الأقصر.  
٣- الأحمر. ٤- السويس.

(ب)

وجه المقارنة	عصر البطالمة	عصر الرومان
نظام الحكم	ملكياً مطلقاً	خضعت مصر لإشراف الامبراطور الروماني الذي يتحكم في كافة شئون مصر.
مظاهر الحياة الاقتصادية	<p>- اهتم البطالمة بالزراعة ، فقاموا بحفر الترغ والقنوات وأدخلوا محاصيل زراعية جديدة وآلات ، <b>مثل: الساقية.</b></p> <p>- اهتم البطالمة بالصناعة ، ازدهرت بعض الصناعات ، <b>مثل: الزيوت - المنسوجات - الزجاج والعمود.</b></p> <p>- اهتموا بالتجارة ، أنشأوا منارة الإسكندرية - فرضوا رسوماً على التجارة الخارجية.</p>	<p>- اعتبر الرومان مصر مزرعة للقمح ، لذلك اهتموا بزراعته لتزويد روما به .</p> <p>- اهتموا ببعض الصناعات ، <b>مثل: ورق البردي والزيوت - الأدوية والزجاج.</b></p> <p>- اهتموا بالتجارة ، حيث أصبحت الإسكندرية أهم مركز تجارى في شرق البحر المتوسط.</p>

ج ٢: (أ)

- ١- (صح). ٢- (خطأ). ٣- (صح).

(ب)

- ١- لتوسيع إمبراطورتيه وتأمين الغذاء لجيشه باعتبار مصر أكبر مصدر للقمح في العالم القديم.  
٢- بسبب كثرة الصراعات بين الحكام وانتشار الفوضى في البلاد في نهاية عصر الدولة الوسطى.  
٣- لدعم الأمن والاستقرار داخل القارة الإفريقية.

ج ٣: (أ)

- ١- البطالمة. ٢- القاهرة.  
٣- الإسكندرية.

(ب)

- ١- الأدب الديني - الأدب القصصي - الأدب التهذيبي.  
٢- ساعدت على معرفة الكثير عن الثقافة المصرية القديمة.

ج ٤: (أ)

- ١- الحساب. ٢- الوزير.

(ب)

- ١- أدى إلى : هزيمة الملكة كليوباترا السابعة على يد الرومان وتحول مصر إلى ولاية رومانية عام ٣٠ ق.م.  
٢- أدى ذلك إلى : ضعف وانهايار دولة البطالمة .  
٣- أدى إلى : تأمين حدود مصر الشمالية - تدعيم النفوذ المصرى في آسيا .

## إجابة الاختبار الثاني

ج ١: (أ)

- ١- الإسكندرية. ٢- شمال سيناء. ٣- النيل.  
٤- الأحمر. ٥- الغربية.

(ب)

- ١- رتب الأحداث التاريخية التالية من الأقدم إلى الأحدث : ( سيطرة الإسكندر الأكبر على مصر - بناء مدينة الإسكندرية - تولية الملكة كليوباترا السابعة الحكم - تحول مصر إلى ولاية رومانية - الفتح الإسلامي لمصر).
- ٢- (أ) في البداية كانت تبنى من مصطبة واحدة. (ب) ثم أصبحت هرمًا مدرجًا مكون من عدة مصاطب ، مثل هرم زوسر.
- (ج) ثم أصبحت أهرامات كاملة وبرعوا في تصميمها وتنفيذها ، مثل أهرامات الجيزة.

إجابة الاختبار الثالث

ج١: (أ)

- ١- سيناء.
- ٢- السويس.
- ٣- الوادي الجديد.
- ٤- الأحمر.
- ٥- النيل.

(ب)

- ١- حيث برع المصريون القدماء في علم الحساب وعرفوا الجمع والطرح والضرب والقسمة واستفادوا من ذلك في حساب مساحة الأراضي الزراعية ، وتحديد قيمة الضرائب بناءً على فيضان النيل مما ساهم في ازدهار وتقدم الزراعة.
- ٢- كانت الملكة كيلوباترا آخر البطالمة في مصر وتحولت مصر بعد هزيمتها في معركة أكتيوم البحرية لولاية رومانية عام ٣٠ ق.م.

ج٢: (أ)

- ١- رومانية.
- ٢- الاسكندرية.
- ٣- الرومانية - الإسكندرية.

(ب)

- ١- استطاع المصريون القدماء تسجيل أخبارهم وأحداثهم على جدران المعابد والمقابر المصرية القديمة.
  - ٢- تطوير وتعميق علاقات مصر بالدول الأخرى وحماية مصالح المواطنين بالخارج.
- ج٢: (أ)
- ١- الطوب اللبن.
  - ٢- الإله آمون.
  - ٣- الملكة كليوباترا السابعة.

(ب)

إنجازات المصريين في الهندسة	إنجازات المصريين في الفلك
١- تخطيط المدن.	١- عرفوا مواقع النجوم والكواكب.
٢- حضر الترع وبناء الأهرامات.	٢- عرفوا التقويم الشمسي وقسموا السنة إلى ٣٦٥ يومًا مقسمة إلى ١٢ شهرًا متساويًا.
٣- عرفوا الأشكال الهندسية ، مثل : المربع والمستطيل.	٣- استخدموا المسلات في تحديد الوقت ، والساعات المائية ليلاً.

ج٣: (أ)

- ١- (صح).
- ٢- (صح).

(ب)

- ١- أدى إلى : براعة المصريين القدماء في التحنيط وساعدهم ذلك على معرفة أجهزة جسم الإنسان الداخلية والأمراض التي تصيبه.
- ٢- أصبحت أشهر المكتبات في العالم القديم حيث ضمت الكثير من الكتب في مختلف فروع المعرفة.

ج٤: (أ)

- ١- الإسكندر الأكبر.
- ٢- مهنة الكاتب.
- ٣- المسلة.

(ب)

وجه المقارنة	المعابد الجنائزية	معابد الآلهة
التعريف	هي المعابد التي كان يقوم بها طقوس الجنائز على الملك.	هي المعابد التي كان يقام بها الطقوس اليومية للآلهة.
مثال	معبد حتشبسوت (الدير البحري).	معبد الأقصر.

ج ٢: (أ)

١- (صح). ٢- (صح). ٣- (خطأ).

(ب)

منازل العمال	منازل الوزراء وكبار الكهنة	منزل الملك
- بسيطة. - تتكون من طابق واحد أو طابقين.	- متعدد الحجرات. - بها مخازن للحبوب.	- متسعة. - تمتاز بجمال الزينة والزخرفة.

ج ٣: (أ)

١- المشرط. ٢- الإسكندرية.  
٣- الملكة كليوباترا السابعة.

(ب)

١- أدى إلى: انتصار الملك رمسيس الثاني وعقد أول معاهدة سلام في التاريخ مع الحيثيين.  
٢- أدى إلى: ترحيب المصريين بالفتح العربي الإسلامي لمصر عام ٦٤١م للتخلص من الرومان.  
٣- أدى إلى: تأمين حدود مصر الشمالية الشرقية وتدعيم نفوذ مصر في آسيا.

ج ٤: (أ)

١- الهكسوس. ٢- الحصون.

(ب)

١- حيث تميزت **منازل العمال** بالبساطة وتكونت من طابق واحد أو طابقين ، أما **منازل الوزراء** و**حكام الأقاليم** تميزت بأنها كبيرة ومتعددة الحجرات وفيها مخازن للحبوب ، أما **الملك** فكان يعيش في القصر الذي يمتاز باتساعه وجمال زينته وزخارفه .

٢- حيث فاجأ العدو في معركة مجدو بتخطيط غير متوقع حيث اختار دخول مدينة مجدو في فلسطين من أقصر الطرق وأكثرها صعوبة فتفرقت صفوف أمراء آسيا بقيادة أميرقادش وانتصر الجيش المصري .

ج ٣: (أ)

١- (صح). ٢- (خطأ).

(ب)

١- منارة الإسكندرية. ٢- عصر البطالمة.  
٣- إرشاد السفن ليلاً في البحر.

ج ٤: (أ)

١- بطليموس الأول. ٢- علم الفلك.  
٣- ورق البردي.

(ب)

- اهتم البطالمة بالزراعة والصناعة مما ساعد على تقدم التجارة حيث :  
١- أنشأ البطالمة منارة الإسكندرية لإرشاد السفن في البحر ليلاً.  
٢- فرضوا رسوماً على التجارة الخارجية .

إجابة الاختبار الرابع

ج ١: (أ)

١- ناصر. ٢- الشرقية.  
٣- سيوة. ٤- الدلتا.

ج ٣: (أ)

- ١- الجنوبية.
- ٢- الطوب اللبن.
- ٣- الإسكندرية.

(ب)

- ١- بسبب ضعف الملوك بعد بطلميوس الثالث وتدخل روما في شئون مصر وخاصة في عهد الملكة كليوباترا السابعة.
- ٢- حيث سارع الملك (زوسر) بتوحيد أقاليم مصر وتنظيمها وتسليحها ونجح في صد هذه الهجمات وحماية أرض شبه جزيرة سيناء.

ج ٤: (أ)

- ١- العربي الإسلامي.
- ٢- الإسكندرية.
- ٣- الساقية .

(ب)

- ١- حيث : ١- عرف المصريون القدماء **التقويم الشمسي** وقسموا السنة إلى ٣٦٥ يومًا مقسمة إلى ١٢ شهرًا متساويًا.
- ٢- استخدموا **المسلات** لتحديد الوقت نهارًا ، و**الساعات المائية** لتحديد الوقت بدقة ليلاً.
- ٢- حيث استخدم المصريون القدماء الأساور والعطور والشعر المستعار.

(ب)

- ١- آثار الرومان ( حصن بابليون ومعبد رأس السوداء ).
- آثار البطالمة ( معبد إدفو - منارة الإسكندرية ).
- ٢- لأنه يسهم في عقد المعاهدات والاتفاقيات مع الدول وإمداد بعض الدول بالمساعدات العسكرية في حالة الحرب وتبادل الخبرات العسكرية.

إجابة الاختبار الخامس

ج ١: (أ)

- ١- المتوسط.
- ٢- الغربية.
- ٣- ناصر.
- ٤- النيل.

(ب)

- ١- اهتم البطالمة بالزراعة ، حيث :  
١- قاموا بحفر الترغ والقنوات.
- ٢- أدخلوا إلى مصر محاصيل زراعية جديدة ،  
**مثل : العنب والزيتون.**

- ٣- استخدموا آلات زراعية جديدة ، مثل :  
الساقية .

- ٢- وجود تمثال أبو الهول والمسلات .

ج ٢: (أ)

- ١- (صح).
- ٢- (صح).
- ٣- (خطأ).

(ب)

- ( دخول الإسكندرا الأكبر إلى مصر -  
تأسيس مدينة الإسكندرية - معركة أكتيوم البحرية -  
الفتح العربي الإسلامي لمصر ).