

4

20  
25



# الدراسات الاجتماعية

المصف الرابع الابتدائي

اختبارات شهر إبريل

Katrina Nada  
قطر الندى



## الاختبار الأول

مجاب عنه



١ (أ) أمامك خريطة صماء لمصر اكتب مدلول الأرقام الآتية :

- ١- البحر.....
- ٢- مدينة ساحلية.....
- ٣- نهر.....

(ب) اذكر سببًا واحدًا لـ :

١- أهمية دير سانت كاترين بسيينا.

٢- أهمية وسائل النقل في حياتنا.

٢ (أ) أكمل العبارات الآتية بكلمات مناسبة :

- ١- من واجبنا نحو الأماكن السياحية عدم تلويث الآثار بـ..... أو.....
- ٢- تتم عملية ترميم الآثار المصرية بواسطة.....

(ب) ما النتائج المترتبة على ؟

- ١- تنوع المناطق السياحية في مصر.....
- ٢- تأثير التطور العلمي على وسائل النقل.....

٣ (أ) اكتب كلمة (صواب) أمام العبارة الصحيحة وكلمة (خطأ) أمام العبارة غير الصحيحة :

- ١- تؤثر التغيرات المناخية على بعض الأماكن التراثية وتجعلها معرضة للخطر. ( )
- ٢- زيارة السائحين لمعبد الأقصر تعد زيارة لمنطقة تراث طبيعي. ( )

(ب) ماذا يحدث إذا ؟

- ١- لم يهتم المصريون القدماء ببناء الأهرامات.....
- ٢- تم استخدام ضوء (فلاش) الكاميرا عند التقاط الصور للمناطق الأثرية.....

٤ (أ) اختر الإجابة الصحيحة مما بين القوسين :

١- من الأماكن التي تقوم الدولة بتطويرها في منطقة القاهرة التاريخية.....

( سور مجرى العيون - معبد إدفو - معبد الكرنك - معبد فيلة )

٢- تقع محمية الغابة المتحجرة في محافظة..... ( الفيوم - الوادي الجديد - القاهرة - جنوب سيناء )

(ب) دلل على صحة العبارات التالية :

- ١- تهتم مصر بسياحة المؤتمرات والمهرجانات.....
- ٢- استخدم المصريون القدماء النقل المائي.....

## الاختبار الثاني

مجاب عنه



١ ( أ ) أمامك خريطة صماء لمصر اكتب مدلول الأرقام الآتية :

- ١- مدينة .....
- ٢- وادى .....
- ٣- البحر .....

( ب ) ما العلاقة بين ؟

- ١- رياضة الغوص في البحر الأحمر والسياحة الترفيهية .
- ٢- الفيضان وموقع بناء الأهرامات وأبو الهول .

٢ ( أ ) اكتب كلمة (صح) أمام العبارة الصحيحة وكلمة (خطأ) أمام العبارة غير الصحيحة :

- ١- لكل فرد دور في الحفاظ على آثار بلاده وحسن معاملة السياح . ( )
- ٢- اعتبرت منظمة اليونسكو مدينة الغردقة أفضل مدينة للسلام في العالم . ( )
- ٣- ترجع منطقة (أبو مينا) إلى فترة الحكم اليوناني لمصر . ( )

( ب ) اذكر سببًا واحدًا لـ :

- ١- أهمية السياحة للاقتصاد المصري .
- ٢- أهمية دور منظمة اليونسكو بالنسبة لآثار النوبة .




٣ ( أ ) أكمل العبارات الآتية بكلمات مناسبة :

- ١- من أبرز المدن التراثية القديمة على مستوى العالم مدينة .....
- ٢- يفضل عند زيارة المناطق الأثرية عدم تناول .....
- ٣- يهدف مشروع تطوير القاهرة التاريخية إلى صيانة عدة مناطق منها .....

( ب ) دلل على صحة العبارات التالية :

- ١- تعدد أنواع السياحة في مصر .
- ٢- تقوم مصر بجهود عديدة لتنمية السياحة .

٤ ( أ ) اقرأ العبارات في العمود ( أ ) وصلها بالصورة المناسبة لها من العمود ( ب ) :

العمود (ب)	العمود (أ)
 <p>( أ )</p>	١- محمية توجد في شرق حي المعادي بالقاهرة ، يوجد بها مجموعة من الأشجار المتحجرة على شكل قطع صخرية .
 <p>( ب )</p>	٢- قلعة توجد في محافظة جنوب سيناء وهي إحدى القلاع التي تحمل اسم صلاح الدين وبنيت لتأمين خليج العقبة والبحر الأحمر من الأعداء .
 <p>( ج )</p>	٣- دخلت مع الهكسوس في غزو مصر وكان يجرها الحصان ثم استخدمت بعد ذلك لأغراض عديدة ، مثل السفر والصيد .

( ب ) ماذا يحدث إذا ؟

- ١- لم تقم الدولة بصيانة المناطق الأثرية .
- ٢- لم يرسل الملك سنفرورحلة تجارية إلى بلاد فينيقيا .

## الاختبار الثالث

مجاب عنه



١ (أ) أمامك خريطة صماء لمصر وضح عليها مدلول الأرقام الآتية :

- ١- واحة تشتهر بالسياحة العلاجية .....
- ٢- مدينة ..... من أبرز المدن التراثية القديمة.
- ٣- البحر .....

(ب) ما النتائج المترتبة على ؟

- ١- استضافت مصر الكثير من المؤتمرات .....
- ٢- اعتقاد المصريين القدماء في البعث والخلود .....

٢ (أ) اكتب كلمة (صح) أمام العبارة الصحيحة وكلمة (خطأ) أمام العبارة غير الصحيحة :

- ١- ترميم مسجد أحمد بن طولون من ضمن مشروع تطوير مدينة القاهرة التاريخية. ( )
- ٢- تم إنشاء القلاع لحماية البلاد من الأعداء ، وهي تعد من مناطق التراث الطبيعي. ( )
- ٣- شيدت الكنيسة المعلقة على أحد الأبراج الجنوبية لحصن بابليون. ( )

(ب) ما العلاقة بين ؟

- ١- السياحة والبطالة .....
- ٢- بنك مصر والنقل الجوي .....

٣ (أ) أكمل العبارات الآتية بما يناسبها مما بين القوسين :

( الإسكندرية - السد العالي - السياحة )

- ١- المصدر الأول للعملات الأجنبية في مصر هي .....
- ٢- تم مد أول خط سكة حديد بين القاهرة و ..... عام ١٨٥٦م.
- ٣- ساهمت منظمة اليونسكو في إنقاذ معبد أبو سمبل من الغرق بعد بناء .....

(ب) بم تفسر ...؟

- ١- زيارة السائحين للعيون الكبريتية والرمال الساخنة .....
- ٢- أهمية النقل المائي في مصر القديمة .....
- ٣- تميز عصر الملكة حتشبسوت بالازدهار التجاري .....

٤ (أ) اختر الإجابة الصحيحة مما بين القوسين :

- ١- من السلوكيات الصحيحة عند زيارة المواقع الأثرية .....
- ( الكتابة على الآثار - التقاط الصور بالفلاش - تناول الطعام بجانب الآثار - عدم لمس القطع الأثرية )
- ٢- تم تصميم برج القاهرة على شكل زهرة .....
- ( البردى - الياسمين - اللوتس - القرنفل )

(ب) وضح :

- ١- أهمية قائمة التراث العالمي .....
- ٢- دعم مصر للسياحة المستدامة .....

## الاختبار الرابع

مجاب عنه



١ ( أ ) أمامك خريطة صماء لمصر اكتب مدلول الأرقام عليها :

- ١- محافظة ..... تشتهر بوجود الأهرامات الثلاثة.
- ٢- مدينة ..... على ساحل البحر الأحمر.
- ٣- مدينة ساحلية .....

( ب ) ما العلاقة بين ؟

- ١- السياحة الثقافية ودار الأوبرا .....
- ٢- تمثال أبو الهول والملك خفرع .....

٢ ( أ ) اكتب كلمة (صح) أمام العبارة الصحيحة وكلمة (خطأ) أمام العبارة غير الصحيحة :

- ١- عند زيارتك لمعرض القاهرة الدولي للكتاب فأنت تقوم بسياحة علاجية. ( )
  - ٢- تطوير المنشآت السياحية يساعد على تنمية السياحة في مصر. ( )
  - ٣- تعمل الدولة على تنظيم عملية البحث والتنقيب عن الآثار المصرية. ( )
- ( ب ) قارن بين : - دور الفرد ودور الدولة في الحفاظ على المناطق الأثرية.

دور الدولة	دور الفرد	وجه المقارنة
.....	.....	كيفية الحفاظ على المناطق الأثرية
.....	.....	
.....	.....	

٣ ( أ ) اختر الإجابة الصحيحة مما بين القوسين :

- ١- الدخل القومي هو الدخل الذى تحققه الأنشطة ..... فى عام واحد.
- ٢- توجد محمية وادى الريان فى محافظة ..... (الثقافية - الاقتصادية - الاجتماعية - العلمية)
- ٣- (دمياط - القاهرة - الجيزة - الفيوم) ..... ( ب ) وضح :

- ١- جهود منظمة اليونسكو فى الحفاظ على التراث العالمى .....
- ٢- ما هى المناطق التى يشتمل عليها مشروع تطوير القاهرة التاريخية .....

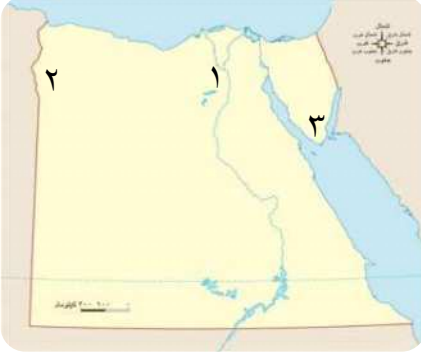
٤ ( أ ) صوب ما تحته خط :

- ١- يعد مشروع ترميم مسجد أحمد بن طولون ضمن مشروعات التراث الطبيعي. (.....)
  - ٢- إذا أردت مشاهدة المناظر الطبيعية والشعاب المرجانية فعليك زيارة مدينة الإسكندرية. (.....)
  - ٣- بنى المصريون القدماء المعابد ليدفن فيها الملوك. (.....)
- ( ب ) ما الفرق بين : وسائل النقل المائى فى مصر قديماً وحديثاً؟

وسائل النقل المائى فى مصر قديماً	وسائل النقل المائى فى مصر حديثاً
.....	.....
.....	.....
.....	.....

## الاختبار الخامس

مجاب عنه



١ ( أ ) أمامك خريطة صماء لمصر وضح مدلول الأرقام الآتية :

- ١- محمية طبيعية .....
- ٢- واحة ..... للسياحة العلاجية.
- ٣- محمية طبيعية .....

( ب ) أجب عن الأسئلة التالية :

- ١- ما النتائج المترتبة على : اعتقاد المصريين القدماء في البعث والخلود؟ .....
- ٢- ما العلاقة بين : واحة سيوة والسياحة العلاجية؟ .....

٢ ( أ ) أكمل العبارات الآتية بكلمات مناسبة :

- ١- يعد دير ..... من أقدم الأديرة في مصر.
- ٢- يرجع بناء حصن بابليون إلى العصر .....
- ٣- تدعم مصر السياحة المستدامة من أجل الحفاظ على .....

( ب ) قارن بين : التراث الثقافي والتراث الطبيعي من حيث التعريف مع ذكر مثال لكل منهما.

وجه المقارنة	التراث الثقافي	التراث الطبيعي
التعريف	.....	.....
مثال	.....	.....

٣ ( أ ) صوب ما تحته خط :

- ١- التجارة هي المصدر الأول للعملات الأجنبية في مصر. (.....)
- ٢- البعث والخلود يعنى العودة إلى الحياة بعد الميلاد. (.....)

( ب ) بم تفسر...؟

- ١- أهمية " منطقة أبو مينا " في التراث العالمي. ....
- ٢- أهمية السكك الحديدية في مصر. ....

٤ ( أ ) صل عبارات العمود ( أ ) بما يناسبه من العمود ( ب ) :

العمود ( أ )	العمود ( ب )
١- المنظمة التي اهتمت بالاحتفال بالتراث العالمي .....	( ) فيلة .
٢- يقع معبد إيزيس على جزيرة .....	( ) خفرع.
٣- أمر الملك ..... بنحت تمثال أبو الهول.	( ) اليونسكو.

( ب ) أجب عن السؤال التالي :

- اذكر اثنين من السلوكيات الصحيحة التي يجب اتباعها عند زيارة المواقع الأثرية.

4

20  
25



# الدراسات الاجتماعية

الصف الرابع الابتدائي

الإجابات النموذجية

Katrina Nada  
قطر الندى



## الإجابات النموذجية

(ب)

- ١- استضافة مصر للعديد من المؤتمرات الدولية،  
**مثل** : مؤتمر النقل الذكي للشرق الأوسط  
وأفريقيا - ومهرجانات ، **مثل** : مهرجان  
الموسيقى العربية .
- ٢- قام المصريون القدماء بعدة رحلات بحرية ، **مثل** :  
رحلات الملك سنفرو إلى بلاد فينيقيا لجلب أخشاب  
الأرز ورحلات الملكة حتشبسوت إلى بلاد بونت  
لجلب البخور والأخشاب وغيرها من المنتجات .

## إجابة الاختبار الثاني

ج١: (أ)

- ١- الإسكندرية . ٢- النيل .  
٣- الأحمر .

(ب)

- ١- تعمل رياضة الغوص في البحر الأحمر على تنشيط  
السياحة الترفيهية وجذب السياح لممارستها .  
٢- بنى المصريون القدماء الأهرامات الثلاثة  
وأبو الهول على هضبة مرتفعة في محافظة الجيزة  
غرب نهر النيل لتكون بعيدة عن الفيضان .

ج٢: (أ)

- ١- (صح) . ٢- (خطأ) .  
٣- (خطأ) .

(ب)

- ١- لأنها تساهم في زيادة الدخل القومي وتوفير  
فرص العمل .  
٢- لأن منظمة اليونسكو قامت بإنقاذ معبد أبو سمبل  
ومعبد إيزيس من الغرق بعد بناء السد العالي .

ج٣: (أ)

- ١- القاهرة .  
٢- الطعام أو الشراب بالقرب منها .  
٣- الأزهر وشارع المعز .

## إجابة الاختبار الأول

ج١: (أ)

- ١- الأحمر . ٢- الإسكندرية .  
٣- النيل .

(ب)

- ١- لأنه يعتبر مزارًا سياحيًا دينيًا هامًا فهو أقدم  
الأديرة في مصر .  
٢- لأنها : ١- توفر الوقت والجهد لانتقال الأفراد  
والسلع من مكان لآخر .  
٢- تساعد على التبادل التجاري  
والتواصل الحضاري بين الدول .

ج٢: (أ)

- ١- الكتابة عليها - خدشها .  
٢- المتخصصين .

(ب)

- ١- أدى إلى : زيادة أعداد السائحين وتوفير فرص  
عمل للشباب وبالتالي زيادة الدخل  
القومي .  
٢- أدى إلى : تطور وسائل النقل وتسهيل عملية  
السفر والتنقل .

ج٣: (أ)

- ١- (صح) . ٢- (خطأ) .

(ب)

- ١- لم يحفظوا جثث موتاهم من الملوك في  
أماكن حصينة لحمايتها ، ولم تصبح الأهرامات  
المصرية أحد أهم المعالم الأثرية حديثًا .  
٢- تؤثر على المناطق الأثرية تأثيرًا سلبيًا مما يؤثر  
على قيمة الآثار .

ج٤: (أ)

- ١- سور مجرى العيون . ٢- القاهرة .

٢- **أدى إلى** : بناء الأهرامات لدفن الملوك وكل الأشياء التي سوف يحتاجون إليها بعد البعث في حجرة داخل الهرم.

**ج ٢: (أ)**

١- (صح) . ٢- (خطأ) .

٣- (صح) .

**(ب)**

١- حيث تساهم السياحة في توفير فرص عمل للشباب وبالتالي تقضى على البطالة .  
٢- أنشأ بنك مصر شركة مصر للطيران وهى أول شركة طيران في الشرق الأوسط والسابعة على مستوى العالم .

**ج ٣: (أ)**

١- السياحة . ٢- الإسكندرية .

٣- السد العالى .

**(ب)**

١- للعلاج والاستجمام كما في جنوب سيناء وواحة سيوة .

٢- لأن المصريين القدماء استخدموا النقل المائي في نقل الركاب والاحتفالات والتجارة .

٣- لأنها اهتمت بالرحلات التجارية خاصة إلى بلاد بونت لجلب البخور والأخشاب وغيرها من المنتجات .

**ج ٤: (أ)**

١- عدم لمس القطع الأثرية .

٢- اللوتس .

**(ب)**

١- **أهمية قائمة التراث العالمي :**

١- تساعد على زيادة معرفة المواطنين

بالتراث الطبيعي والثقافي في وطنهم .

٢- تعميق شعور المواطنين بالانتماء إلى

مجتمعهم وتاريخهم وأهمية المحافظة عليه .

٣- تحفيز دول العالم على حماية المواقع

التراثية وتطويرها .

**(ب)**

١- وجود العديد من أنواع السياحة في مصر ،

حيث تنتشر في مصر:

- السياحة الثقافية حيث زيارة الأماكن التاريخية والثقافية كما في الأهرامات والمعابد .

- السياحة الترفيهية تتمثل في زيارة الأماكن

الطبيعية الخلابة كما في الشواطئ المختلفة .

- السياحة العلاجية تتمثل في زيارة مناطق

العيون الكبريتية والرمال الساخنة للعلاج .

- سياحة المؤتمرات والمهرجانات تتمثل في زيارة

السياح لحضور المؤتمرات أو المعارض

أو المهرجانات .

٢- حيث تهتم ب:

١- إنشاء وتطوير المنشآت السياحية ، مثل :

القرى السياحية والفنادق .

٢- استخدام الأساليب التكنولوجية في

التشويق السياحي .

٣- تطوير وسائل النقل والمواصلات .

٤- صيانة المناطق الأثرية وترميمها .

**ج ٤: (أ)**

١- (ج) . ٢- (ب) . ٣- (أ) .

**(ب)**

١- ستتعرض للتدهور وتفقد مصر أهمية المناطق

الأثرية للسياحة والاقتصاد المصري .

٢- لم يتم جلب خشب الأرز من بلاد فينيقيا ولم

يعرف المصريين القدماء النقل المائي قديماً .

### إجابة الاختبار الثالث

**ج ١: (أ)**

١- سيوة . ٢- القاهرة . ٣- الأحمر .

**(ب)**

١- **أدى إلى** : جذب المزيد من السياح لزيارة مصر

لحضور المؤتمرات العالمية ، مثل :

مؤتمر المناخ في مدينة شرم الشيخ .

٢- من خلال:

- ١- ترشيد استهلاك الطاقة والمياه في المناطق السياحية للحفاظ على الموارد الطبيعية والبيئة.
- ٢- التعامل الآمن مع المخلفات.
- ٣- الاعتماد على الطاقة النظيفة.

**إجابة الاختبار الرابع**

ج ١: (أ)

- ١- الجيزة.
- ٢- الغردقة.
- ٣- الإسكندرية.

(ب)

- ١- تتمثل السياحة الثقافية في زيارة الأماكن التاريخية والثقافية ومنها دار الأوبرا المصرية.
- ٢- أمر الملك خضوع بنحت تمثال أبو الهول على شكل رأس إنسان وجسم أسد ليكون رمزاً للقوة ولحماية الأهرامات من السرقة.

ج ٢: (أ)

- ١- (خطأ).
- ٢- (صح).
- ٣- (صح).

(ب)

وجه المقارنة	دور الفرد	دور الدولة
كيفية الحفاظ على المناطق الأثرية	١- عدم لمس القطع الأثرية أو الوقوف ملاصقاً لها.	١- صيانة المناطق الأثرية وترميمها.
	٢- عدم التقاط الصور غير المناسبة بجوارها.	٢- إصدار قوانين تجرم الاتجار والاعتداء عليها.
	٣- حسن معاملة السياح وتقديم المساعدة لهم.	٣- تنظيم عملية البحث والتنقيب عن الآثار.
	٤- لا يفضل استخدام ضوء فلاش الكاميرا عند التقاط الصور.	٤- التخطيط لمشروعات تطوير المناطق الأثرية.

ج ٣: (أ)

- ١- الاقتصادية.
- ٢- الفيوم.

(ب)

١- جهود منظمة اليونسكو:

- ١- تساعد الدول في الحفاظ على المواقع التراثية المهددة بالخطر.
- ٢- تساهم في ترميم بعض المدن القديمة.
- ٣- تشجع كل دول العالم على تحديد مواقع التراث الطبيعي والثقافي بها.
- ٢- المناطق التي يشتمل عليها تطوير القاهرة التاريخية: الأزهر - الغوريه - الدرب الأحمر - مسجد أحمد بن طولون - شارع المعز.

ج ٤: (أ)

- ١- الثقافي.
- ٢- شرم الشيخ.
- ٣- الأهرامات.

(ب)

وسائل النقل المائي في مصر حديثاً	وسائل النقل المائي في مصر قديماً
تطورت وسائل النقل المائي في مصر في العصر الحديث فأصبحت تشمل: <b>البواخر وناقلات النفط</b> وغيرها.	استخدم المصريون القدماء <b>القوارب والسفن</b> في نقل الركاب والاحتفالات والتجارة، <b>مثل: رحلات الملك سنفر</b> وإلى بلاد فينيقيا ورحلات الملكة حتشبسوت.

**إجابة الاختبار الخامس**

ج ١: (أ)

- ١- وادي الحيتان في الفيوم.
- ٢- سيوة.
- ٣- رأس محمد.

(ب)

١- (السياحة). ٢- (الموت).

(ب)

١- تعد " منطقة أبو مينا " مزارًا دينيًا وأثرًا هامًا وترجع أهميته إلى فترة الحكم الروماني في مصر.  
٢- لأنها تستخدم في نقل الركاب والبضائع في جميع أنحاء البلاد من شمالها إلى جنوبها ومن شرقها إلى غربها.

ج ٤: (أ)

١- اليونسكو. ٢- فيلة.

٣- خضوع.

(ب)

- السلوكيات الصحيحة التي يجب اتباعها عند زيارة المواقع الأثرية:  
١- عدم تلويث الأثر بالكتابة عليه أو خدشه.  
٢- حسن معاملة السياح وتقديم المساعدة لهم إذا طلبوا ذلك.

١- أدى إلى : بناء المصريين مقابر حصينة مثل

الأهرامات لدفن الملوك وأشياءهم التي سيحتاجون إليها بعد البعث.

٢- السياحة العلاجية تتمثل في زيارة مناطق العيون الكبريتية والرمال الساخنة للعلاج والاستحمام كما في واحة سيوة.

ج ٢: (أ)

١- سانت كاترين. ٢- الروماني.

٣- البيئة والموارد الطبيعية.

(ب)

وجه المقارنة	التراث الثقافي	التراث الطبيعي
التعريف	يتمثل في الأماكن السياحية والأثرية ذات القيمة العظيمة والتي صنعها الإنسان.	يتمثل في المواقع الطبيعية الجميلة ذات القيمة العالمية والتي لم يتدخل الإنسان في صناعتها أو التأثير فيها.
مثال	١- الصناعات والحرف التراثية. ٢- عادات وتقاليد الشعوب في المأكول والملبس والفنون الشعبية. ٣- المعابد القديمة والأهرامات والمساجد والكنائس.	١- محمية الغابة المتحجرة وفيها أشجار متحجرة على شكل قطع صخرية. ٢- محمية رأس محمد.

ج ٣: (أ)