

# سلاح التلميذ

منذ عام ١٩٦٠



اللغة  
العربية

2024-2025

الصف الخامس الابتدائي  
الفصل الدراسي الثاني

نماذج اختبارات شهر إبريل  
طبقاً لآخر مواصفة للورقة الامتحانية

5

## نموذج ١

(نص الاستماع صفحة ١٢)

السؤال الأول (نص الاستماع) استمع، ثم أجب:

١ ضع علامة (✓) أمام العبارة الصحيحة، وعلامة (X) أمام العبارة غير الصحيحة:

- ١ تسابقَ الناسُ نحو المقاعد الخالية. ( )  
٢ تركَ الأبُ مكانه؛ لأنه وصلَ إلى محطّته. ( )

ب أكمل: تعجب بشير من .....

السؤال الثاني (التعبير الكتابي): أعد كتابة القصة بعد تغيير ما تحته خط إلى الآتي: «لكن

الضفدع الأول لم يسمع تلك الأقوال؛ لأنه كان أصم»:

سقط ضفدعان في حفرة عميقة، فحاول أن يخرج من الحفرة بصعوبة، وبدأت بعض الضفادع تحببهم بأقوال، مثل: (من المستحيل أن يخرج، إنها حفرة عميقة جداً)؛ وللأسف تأثر الضفدع الأول بالكلمات وشعر بالإحباط وتوقف عن المحاولة، أما الآخر فقد تجاهل الكلمات المُحِبِّطة واستمر في المحاولة ونجا.

السؤال الثالث (النص الأدبي المتحرر) اقرأ الفقرة التالية:

«كان هناك شخص يدعى لويس برايل، تعرّض في طفولته لحادث، وفقد بصره؛ فلم يحزن، ولكن فكر، وجعل من ذلك **هواية** له وهدفاً في الوقت ذاته، وبإصراره و**دراسته** ابتكر طريقة (برايل) المعروفة لدينا الآن، والتي تعتمد على كتابة الكلمات على شكل نقط بارزة، فيقوم الشخص الذي فقد بصره بتمرير أصابعه على هذه النقط برفق، فيستطيع القراءة».

١ اختر الإجابة الصحيحة مما بين القوسين:

- ١ مرادف (هواية): عمل ..... (ممنوع - صعب - محبب - جديد)  
٢ كلمة (دراسته): جذرها ..... (درس - دارس - دار - مدرسة)

ب أكمل: ١ سبب فقد لويس لبصره هو .....

٢ ساعد لويس بابتكاره .....

ج أجب: ما النجاح الذي حققه لويس وكيف حققه؟

السؤال الرابع (النص المعلوماتي المتحرر) اقرأ الفقرة التالية:

«تضع الدول **الضوابط** والقوانين؛ لتنظم حياة الناس داخل المجتمع، وتلجأ لاتخاذ بعض الإجراءات التي قد تبدو غريبة في بعض الأحيان، فإن أطعمت الحمام في ساحة القديس مارك في مدينة البندقية فستدفع غرامة قدرها ٧٠٠ يورو؛ وذلك في إطار المحافظة على صحة المواطنين وعلى التماثيل الأثرية بالمدينة، أما في كمبوديا فإنهم يمنعون استيراد كل أنواع رشاشات المياه وبيعها؛ خوفاً من **تداعيات** استخدامها بين الناس خلال الاحتفالات».



١ اختر المرادف المناسب للكلمة الملونة:

١ الضوابط: ..... (الخطط - القواعد - العقوبات - الإعدادات)

٢ تداعيات: ..... (ضوابط - إجراءات - أسباب - عواقب)

ب أكمل: يمنع استيراد رشاشات الماء في كمبوديا؛ بسبب .....

ج أجب: ما الهدف من وضع القوانين؟ .....

### السؤال الخامس (النص الشعري المتحرر) اقرأ الأبيات التالية:

يَا مِصْرُ لَا تَقْتِطِي فَالْنَصْرُ قَدْ حَانَ  
فَالْكُلُّ بِالرُّوحِ يَفْدِيهَا وَيَنْصُرُهَا  
فَقَاتِرُوا يَا بَنِي مِصْرٍ وَلَا تَهْنُوا  
فَسَوْفَ نَحْطِي بِمَا نَرْجُو لِأُمَّتِنَا  
سُبْحَانَ مَنْ أَرْعَمَ الْأَعْدَاءَ سُبْحَانَا  
وَإِنْ هُمْ اخْتَلَفُوا رُسُلًا وَأَدْيَانًا  
فَعَنْ قَرِيبٍ نَرَى صَعْبَ الْمُنَى هَانَا  
وَنُبْصِرُ الْقَطْرَ بِالْأَفْرَاحِ مُرْدَانَا

١ اختر: مُضَادُّ (ثَابِرُوا): ..... (استَسَلِمُوا - أَهْمَلُوا - أَفْسَلُوا - أَقْبَلُوا)

ب أكمل: بَيْنَ (صَعْبٍ) و (هَانَا): ..... (ترادف - توكيد - تضاد - تشبيه)

ج أجب: إلى مَنْ يَتَحَدَّثُ الشَّاعِرُ فِي الْبَيْتِ الْأَوَّلِ وَالثَّلَاثِ؟ .....

### السؤال السادس (القواعد النحوية) اقرأ الفقرة، ثم أجب:

«الوالدان أقرب الناس إليك، لا يسعدان إلا بسعادتك، فلتكن مطيعاً لهما، واعمل جاهداً على إرضائهما، وأحسن إليهما بالفعل والقول الطيب.»

١ استخرج من الفقرة: ١) اسماً مجروراً بحرف جر: .....

٢) مبتدأ: .....

ب اختر: كلمة (الناس): ..... (مضاف إليه - فاعل - مفعول به)

ج صوب الخطأ فيما يأتي:

١) المسلمین صاموا شهر رمضان.

٢) للوالدان أفضال على الأبناء.

### السؤال السابع (الخط) اكتب بخط النسخ:

من يزرع الخير يحصده.

### السؤال الثامن (الإملاء) اكتب ما يملئ عليك:

(فقرة الإملاء صفحة ١٢)

.....  
.....  
.....



## نموذج ٢

(نص الاستماع صفحة ١٤)

السؤال الأول (نص الاستماع) استمع، ثم أجب:

١ ضع علامة (✓) أمام العبارة الصحيحة، وعلامة (X) أمام العبارة غير الصحيحة:

- ١ الإنسان الكسول يحقق الأجر الكبير. ( )
- ٢ الأشخاص المنتجون يحبهم المجتمع. ( )

ب أجب: ما جزاء العامل النشيط؟

السؤال الثاني (التعبير الكتابي): اكتب إعلاناً مراعيًا عناصر الإعلان ومستعينًا بالتحليل التالي:

موضوع الإعلان	المعلن	الزمان	المكان	الفئة المستهدفة
مسابقة أجمل لوحة	أسرة التربية الفنية في المدرسة	آخر موعد لاستلام الأعمال يوم الأربعاء الموافق ٨ - ٣	تُسلم الأعمال في غرفة التربية الفنية	تلاميذ المدرسة

السؤال الثالث (النص الأدبي المتحرر) اقرأ الفقرة التالية:

«أنجز أبي أعماله، وجاء وقت الرحلة، ركبنا السيارة، وانطلقنا، وفي الطريق اتصل شخص بأبي، فأخرج أبي هاتفه، وفي أثناء رده اصطدم بسيارة، أوقف أبي سيارتنا، ونزل في عجلة؛ ليعرف تداعيات ما حدث، كان قائد السيارة بخير، لكن امرأة السيارة تهشمت؛ اعتذر أبي لقائد السيارة، وأخرج نقودًا وقدمها له، وقال: أنا المسئول عما حدث».

١ استخرج من الفقرة مرادف ما يلي:

- ١ سرعة: ..... ٢ أتم: ..... ٣ تكسرت: .....

ب أكمل: ١ أخطأ الأب في أثناء القيادة؛ لأنه .....

٢ عندما توقف الأب وجد .....

ج أجب: لماذا قدم الأب نقودًا لصاحب السيارة؟ .....

السؤال الرابع (النص المعلوماتي المتحرر) اقرأ الفقرة التالية:

«تهدف كل القوانين في العالم إلى تحقيق المنفعة للإنسان، وكلُّ صررٍ يلحق بالبيئة يضرُّ الإنسان؛ وفي الوقت الراهن، وبعد الكثير من الدراسات أصدرت كثير من دول العالم قوانين تتضمن ضوابط حماية البيئة للحد من التداعيات السلبية للتلوث، مثل: قوانين منع استخدام البلاستيك، والحد من استخدام السيارات».



١ اختر الإجابة الصحيحة مما بين القوسين:

١ مرادف (الراهن): ..... (الحالي - الماضي - الضائع - المستقبل)

٢ مفرد (الدراسات): ..... (الدرس - الدارس - الدراسة - المدرسة)

ب ضع علامة (✓) أو (X) أمام ما يلي: تلوث البيئة لا يؤثر على الإنسان. ( )

ج أكمل: تهدف كل القوانين إلى .....

### السؤال الخامس (النص الشعري المتحرر) اقرأ الأبيات التالية:

يَا سَائِلِي عَنْ حَالِ مِصْرٍ إِنَّهَا  
قَدْ زِينَتْ وَتَزَخَّرَتْ بِبَهَائِهَا  
وَتَعَطَّطَتْ نَحْوَ الْعَرِيبِ وَلَمْ تَزَلْ  
وَكَاثَتْهَا وَقُصُورَهَا وَرَبُوعَهَا  
أَعْجُوبَةٌ بَيْنَ الْبِلَادِ الْعَامِرَةِ  
حَتَّى حَلَّتْ فِي كُلِّ عَيْنٍ بَاصِرَةً  
تُبْدِي لَهُ وُدًّا وَحُسْنَ مَعَاشِرَةٍ  
فَلَكَ النُّجُومُ بِهَا النُّجُومُ السَّائِرَةِ

١ اختر الإجابة الصحيحة مما بين القوسين: معنى (تُبْدِي): ..... (تُجِو - تُظْهِر - تُعْلِي - تُقَدِّم)

ب هات من الأبيات: كلمتين بينهما ترادف: ..... =

ج اكتب البيت الذي نفهم منه أن: أهل مصر يحبون ضيوفهم ويكرمونهم.

### السؤال السادس (القواعد النحوية) اقرأ الفقرة، ثم أجب:

«وسائل المواصلات كثيرة ومتنوعة، وقد اهتم العلماء اهتمامًا كبيرًا بتطويرها من أجل راحة الإنسان.»

١ استخرج من الفقرة: ١ مضافًا إليه ..... ٢ خبرًا .....

ب أكمل ما يلي: كلمة (العلماء) تُعَرَّبُ فاعلاً مرفوعاً، وعلامة رفعه .....

ج اختر الإجابة الصحيحة مما بين القوسين:

١ «أعجبنى نشاط الفلاحين». كلمة (الفلاحين) تُعَرَّبُ ..... (فاعلاً - خبراً - مضافاً إليه)

٢ «حقق اللاعبون الفوز». علامة رفع كلمة (اللاعبون) ..... (الواو - الضمة - الكسرة)

### السؤال السابع (الخط) اكتب بخط النسخ:

لو لم أكن مصرياً لوددت أن أكون مصرياً.

(فقرة الإملاء: صفحة ١٢)

### السؤال الثامن (الإملاء) اكتب ما يملئ عليك:



### نموذج ٣

(نص الاستماع صفحة ١٢)

(نص الاستماع) استمع، ثمّ أجب:

السؤال الأول

١ ضع علامة (✓) أمام العبارة الصحيحة، وعلامة (X) أمام العبارة غير الصحيحة:

- ( ) ١ ينبغي أن يتقدّم الصغار أمام الكبار في أثناء المشي.  
( ) ٢ حصل ياسين على أعلى درجة وفق مقياس احترام الكبير.

ب أكمل: من تصرفات الاحترام للكبير .....

(التعبير الكتابي): اقرأ القصة القصيرة الآتية، ثم أعد كتابتها بعد إضافة هذه الجملة:

«تذكر الأرنب نصيحة أمه، ولم يصدق الثعلب» مكان ما تحته خط:

السؤال الثاني

«خرج الثعلب باحثاً عن الطعام، لكنه لم يجد طعاماً، ثم رأى أرنباً يجلس تحت شجرة، فأراد أن يحتال عليه ليأكله؛ فذهب إليه وتظاهر بالمرض، وطلب منه أن يساعده في العودة إلى بيته، صدّق الأرنب الثعلب، ولم يأخذ بنصيحة أمه التي حذرته من مكر الثعالب؛ فذهب معه إلى البيت وساعده للجلوس على كرسي بالداخل؛ فهجم عليه الثعلب وأكله.»

(النص الأدبي المتحرر) اقرأ الفقرة التالية:

السؤال الثالث

«ذات يوم في مصر الفرعونية خرج فلاح مصري من قريته؛ لبيع القمح، ويشتري بثمنه طعاماً لأسرته، وفي الطريق رآه رجل اسمه تحوت، فمال قلبه إلى حمير الفلاح، وأراد أن يسرقها منه؛ فاحتال عليه، ووضع ثيابه وقمحه في طريق الفلاح، فوطئ الحمار ثيابه، وأكل من قمحه، فضرب تحوت الفلاح وسرق بضاعته؛ فاشتكى الفلاح للمدير العظيم، حتى يأخذ حقه من تحوت.»

١ استخرج من الفقرة مرادف ما يأتي: ١ (أحب): ..... ٢ (داس): .....

ب أكمل: احتال تحوت على الفلاح لكي .....

ج أجب: ١ ماذا فعل الفلاح في النهاية؟

٢ ماذا تعلمت من القصة؟

(النص المعلوماتي المتحرر) اقرأ الفقرة التالية:

السؤال الرابع

« للنجاح مفاتيح وعوامل تؤدي إليه، ومن بينها إدارة الوقت، وإدارة الوقت الجيدة تتطلب منا تحديد المهام وتقدير الوقت المتوقع لإنجاز كل مهمة، بلا إفراط ولا تفريط، وبذلك نوفر أوقاتاً نستطيع أن نمارس فيها الهوايات التي تميل قلوبنا إليها.»



١ استخرج من الفقرة ما يلي:

١ مرادف (إتمام): .....  
٢ مضاد (الفشل): .....

ب أكمل: إدارة الوقت تساعدنا على .....

ج أجب: ماذا تفعل لتدير وقتك بطريقة جيدة؟

### السؤال الخامس (النص الشعري المتحرر) اقرأ الأبيات التالية:

سَنبِنِي الْمَجْدَ يَا قَوْمِي      إِذَا سِرْنَا مَعَ الْعِلْمِ  
فَرَبُّ الْعِلْمِ مَصْبَاحٌ      يُضِيءُ الْقَلْبَ بِالْفَهْمِ  
وَيُنْزِلُ جُهْدَهُ دَوْمًا      لِأُبْصِرَ هَاهُنَا حُلْمِي  
وَأَحْضُدُ مِنْهُ خَيْرَاتٍ      تُمِدُّ الْكَوْنَ بِالنَّعْمِ

١ استخرج من الأبيات: مفرد (أحلامي): .....

ب أكمل ما يأتي كما فهمت من البيت الأول: سنبني المجد إذا سرنا في طريق .....

ج اختر: «قَرِبُ الْعِلْمِ مِصْبَاحٌ» تعبير: ..... (حقيقي - مجازي)

### السؤال السادس (القواعد النحوية) اقرأ الفقرة، ثم أجب:

«الإرادة والعمل مفتاحان من مفاتيح النجاح، وينبغي أن يمتلك الناجحون متطلبات النجاح».

١ استخرج من الفقرة ما يلي:

١ اسمًا مجرورًا: .....  
٢ علامة جرّه: .....  
٣ خبرًا مثنى: .....  
٤ علامة رفعه: .....

ب اختر الإجابة الصحيحة مما بين القوسين:

١ (الناجحون): فاعلٌ علامة رفعه ..... (الألف - الواو - الفتحة)

٢ (متطلبات): مفعولٌ به علامة نصبه ..... (الألف - الفتحة - الكسرة)

ج اجعل الفاعل والمفعول به مفردًا واضبطهما: «يملك الناجحون متطلبات النجاح».

### السؤال السابع (الخط) اكتب بخط النسخ:

الصدق والأمانة من الأخلاق الحميدة.

(فقرة الإملاء صفحة ١٢)

### السؤال الثامن (الإملاء) اكتب ما يملأ عليك:



## نموذج ٤

(نص الاستماع صفحة ١٢)

السؤال الأول (نص الاستماع) استمع، ثم أجب:

١ ضع علامة (✓) أمام العبارة الصحيحة، وعلامة (X) أمام العبارة غير الصحيحة:

- ١ لا يساعد النجاح على تحقيق أهداف الإنسان. ( )
- ٢ من أشكال النجاح: النجاح في الدراسة. ( )

ب أكمل: من صور النجاح:

السؤال الثاني (التعبير الكتابي): اكتب إعلاناً لجيرانك تدعوهم لطلاب مدخل العمارة مراعيًا عناصر الإعلان:

السؤال الثالث (النص الأدبي المتحرر) اقرأ الفقرة التالية:

«ونحن نستعدُّ للسفرِ إلى اليونانِ طلبَ أبي منِّي أنْ أطلعَ على قوانينِ اليونانِ، فأطلعتُ في عِجالَةٍ على القوانينِ، ووجدتُ قانونًا عجيبًا يمنعُ التجوُّلَ بالأحذيةِ ذاتِ الكعبِ العاليِ في المناطقِ الأثريَّةِ؛ لأنه يضرُّ بالآثارِ هناك، ومَن يخترقُ هذا القانونَ يتعرَّضُ للعِقَابِ. فقلتُ: من الأخرى أنْ أخبرَ أمِّي بذلكِ.»

١ استخرج من الفقرة ما يلي:

- ١ مرادف (من الأفضل):
- ٢ مضاد (تأن):

ب أكمل: ١ يهدف القانون العجيب في اليونان لـ

٢ بعد أن عرف الابن القوانين قرأ أن

ج أجب: ماذا يحدث لو لم يحترم الشخص القوانين؟

السؤال الرابع (النص المعلوماتي المتحرر) اقرأ الفقرة التالية:

«إذا نظرتُ إلى جدرانِ المعابدِ الفرعونيةِ؛ فستلفتُ نظركَ الرسوماتُ الزاهيةُ الملونةُ، التي تحكي تفاصيلَ الحياةِ في مصرَ القديمةِ، وستلاحظُ اهتمامَ المصريينَ بمظهرهم؛ فملابسهم تبدو جميلةً وأهدابها مُزخرفةً، وهذا فلاحٌ بيده مكيالٌ وبجواره جرينٌ، وهؤلاءُ عمالٌ يهونونَ أعمالَ البناءِ الشاقَّةِ بتعاونهم.»



١ اختر الإجابة الصحيحة مما بين القوسين:

١ مرادف (جرين): مكان ..... (تربية الحيوانات - الاحتفاظ بالماء - زراعة القمح - تجفيف الثمار)

٢ مفرد (أهداب): ..... (هدب - أهدب - هدباء - هداب)

ب أكمل: تعبر رسومات المعابد عن .....

ج أجب: ما الدليل على اهتمام الفراعنة بمظهرهم؟

### السؤال الخامس (النص الشعري المتحرر) اقرأ الأبيات التالية:

هَيَّا بِنَا نَبِي الْوَطْنِ بِالْعِلْمِ فِي كُلِّ الْمَهْنِ  
نَرْجُو لَهُ أَنْ يَنْقِي نَجَسَ الْوَلَدَانِ  
بِعَزْمِهِ يَحْيَا الْوَطْنَ وَيُقْدِيهِ فِي كُلِّ الْمَحْنِ  
وَشَعْبُهُ عَوْنٌ لَهُ

١ اختر الإجابة الصحيحة مما بين القوسين:

١ مرادف (نرجو): ..... (تتمنى - نكتب - نقرأ - نرسم)

٢ «نَبِي الْوَطْنِ بِالْعِلْمِ» تعبير: ..... (حقيقي - مجازي)

ب هات من الأبيات كلمة لها نفس نهاية (الوطن):

### السؤال السادس (القواعد النحوية) اقرأ الفقرة، ثم أجب:

«البيئة بيت الإنسان، وتصدر المجتمعات قوانين البيئة، ويجب أن يطبق المسئولون القوانين بكل حزم».

١ استخرج من الفقرة ما يلي:

١ مضافاً إليه: ..... المضاف: ..... ٢ مفعولاً به: ..... علامة نصبه: .....

ب اختر الإجابة الصحيحة مما بين القوسين:

١ كلمة (بيت): مرفوعة؛ لأنها ..... (فاعل - مبتدأ - خبر)

٢ (المسئولون): فاعل علامة رفعه ..... (الواو - الضمة - الفتحة)

ج ضع خطاً تحت المفعول به، ثم اضبطه: يطبق المسئولون القوانين.

### السؤال السابع (الخط) اكتب بخط النسخ:

مصر بلد الخيرات.

### السؤال الثامن (الإملاء) اكتب ما يملى عليك: (فقرة الإملاء صفحة ١٢)



## نموذج لطلاب الأزهر الشريف

السؤال الأول (التعبير الكتابي) اقرأ الإعلان التالي، ثم أكمل:

«تُعلنُ مَدْرَسَةُ مِصرَ الابتدائيةُ عن تنظيم رحلةٍ يومَ الثلاثاءِ المقبلِ المُوافقِ ٧ نوفمبر لتلاميذ الصفِّ الخامس؛ لزيارةِ المُتحفِ المِصريِّ، وعلى مَنْ يرغبُ تسجيلُ اسمه بمكتبِ الرحلاتِ بالمَدْرَسَةِ، سيكونُ الانطلاقُ على متني الحافلةِ في الساعةِ التاسعةِ صباحًا، فهيَّا نستمتعُ بآثارِ مِصرَ الرائعةِ عبرِ التاريخِ».

- ١) موضوعُ الإعلانِ: ..... ٢) المُعلنُ: .....  
٣) الزمانُ: اليومُ: ..... الساعةُ: ..... ٤) المكانُ: .....

السؤال الثاني (القراءة) اقرأ الفقرة التالية من نص «الفلاح الفصيح»:

«قالَ تحوت حينما رأى حَميرَ الفلاحِ، وقد مالَ قلبُه إليها: ليتني أتمكَّنُ من سرقةِ متاعِ الفلاحِ!.. واتفقَ أن يبيتَ تحوت على ممرِّ بجانبِ النهرِ وقد كانَ ضيقًا؛ إذ كانَ عَرَضُه يعادلُ قطعةَ النسيجِ التي تُسْتَرُ الجسمَ، وكانَ أحدُ جوانبِ هذا الممرِّ مغمورًا بالماءِ والثاني مغطى بالقمحِ. قالَ تحوت لخادمه: اذهبْ وأحضِرْ لي قطعةَ نسيجٍ من داري.. فأحضرتُ إليه في الحالِ، فمدَّها على الممرِّ بطريقةٍ جعلتْ هُدْبها على الماءِ وطرفها على سيقانِ القمحِ، ثم سارَ الفلاحُ على الطريقِ».

١) استخرج من الفقرة ما يلي:

- ١) مُرادفَ (طَرفها): ..... ٢) مضادَّ (واسعًا): ..... ٣) جمعَ (جانب): .....

ب) ضع علامة (✓) أمام العبارة الصحيحة، وعلامة (X) أمام العبارة غير الصحيحة:

- ١) طمِعَ الفلاحُ في متاعِ تحوت. ( )  
٢) العقبَةُ الوحيدةُ التي واجهتِ الفلاحَ في رحلتهِ إلى مِصرَ هي ضيقُ الطريقِ. ( )  
٣) ساعدَ الخادمُ تحوت بإحضارِ قطعةٍ من الخشبِ ليسيَرِ عليها. ( )

ج) أجب: ١) ماذا طلبَ تحوت من خادمه؟ ولماذا؟

٢) ماذا تمنى تحوت في نفسه؟

السؤال الثالث (النصوص) اقرأ الأبيات التالية من نص «عيون الحكم»، ثم أجب:

أَقْبِلْ عَلَى النَّفْسِ وَاسْتَكْمِلْ فَضَائِلَهَا  
وَإِنْ أَسَاءَ مُسِيءٌ فَلْيَكُنْ لَكَ فِي  
فَأَنْتَ بِالنَّفْسِ لَا بِالْجِسْمِ إِنْسَانٌ  
عُرُوضَ زَلَّتْهُ صَفْحٌ وَعُفْرَانٌ  
وَكُنْ عَلَى الدَّهْرِ مِعْوَانًا لِذِي أَمَلٍ  
يَرْجُو نَدَاكَ فَإِنَّ الحُرَّ مِعْوَانٌ



١ اختر المرادف الصحيح للكلمة الملونة:

١ صَفْح: ..... (سُكُوت - سَعِي - عَفُو - تَجَاهُل)

٢ مِعْوَان: ..... (ناصِح - مُجِب - مُنْتَبِه - كَثِيرُ الْمُسَاعَدَةِ)

ب ضع علامة (✓) أمام العبارة الصحيحة، وعلامة (X) أمام العبارة غير الصحيحة:

١ قُوَّةُ الْجِسْمِ هي التي تُظهِرُ قِيَمَةَ الْإِنْسَانِ الْحَقِيقِيَّةَ. ( )

٢ الصَّفْحُ وَالْإِحْسَانُ من صِفَاتِ خِيَارِ النَّاسِ. ( )

٣ «إِنَّ الْحُرْمِعَوَانَ». أسلوبٌ نهي غرضه النصْحُ والإرشادُ. ( )

د هات من الآيات أسلوب أمر ثم حدد غرضه:

السؤال الرابع (القواعد النحوية) اقرأ، ثم أجب:

«يتحدّث أبناء الوطن اللُّغة العربيَّة، لكن نلاحظ اختلاف اللُّهجات العربيَّة من بلد لآخر، حتَّى داخلَ البلد الواحد يتحدّث المواطنون بلهجاتٍ مُختلفةٍ؛ لذلك من الأدب احترامُ الآخرين ولهجاتهم».

١ استخرج من الفقرة ما يلي:

١ اسمًا مجرورًا: ..... ■ علامة جرّه: ..... ٢ مضافًا إليه: .....

ب اختر الإجابة الصحيحة مما بين القوسين:

١ كلمة (اللُّهجات): ..... (اسمٌ مجرورٌ - مضافٌ إليه - مفعولٌ به)

٢ كلمة (البلد): مضافٌ إليه علامة جرّه ..... (الكسرة - الضمّة - الفتحة)

د أعرب ما تحته خطّ:

١ اختلاف: ..... ٢ المواطنون: .....

السؤال الخامس (الخطّ) اكتب العبارة الآتية بخط النسخ مرة وبخط الرقعة مرة أخرى:

لو لم أكن مصريًّا لوددت أن أكون مصريًّا.

• النسخ: ..... • الرقعة: .....


السؤال السادس (الإملاء) اكتب ما يملئ عليك: (فقرة الإملاء صفحة ١٢)


.....  
.....  
.....




## فقرات الاستماع والإملاء


### نموذج (١)

**فقرة الاستماع**  فَبَحَثْ أَبْوَابَ الْقَطَارِ الَّذِي كُنَّا نركبه، فَتَسَابَقَ النَّاسُ نَحْوَ الْمَقَاعِدِ الْخَالِيَةِ، وَفَجْأَةً رَأَيْتُ أَبِي يَتَنَاوَلُ عَنْ مَكَانِهِ لِرَجُلٍ أَكْبَرَ مِنْهُ سَنًا، وَعِنْدَمَا رَأَى أَبِي عِلَامَاتِ التَّعَجُّبِ عَلَيَّ وَجْهِي قَال لِي: يَا بَشِيرُ، هَذَا الرَّجُلُ أَكْبَرُ مِنِّي وَقَدْ تَرَبَّيْتُ عَلَى احْتِرَامِ الْكَبِيرِ؛ لِذَلِكَ تَحْتَمُّ عَلَيَّ أَنْ أَبَادِرَ بِتَرْكِ مَقْعَدِي لَهُ.. وَفِي أَثْنَاءِ ذَلِكَ قَامَ طِفْلٌ فِي مِثْلِ عُمُرِي وَخَاطَبَ أَبِي قَائِلًا: تَفَضَّلْ اجْلِسْ مَعَانِي يَا عَمِي.. فَأَدْرَكْتُ أَنَّ قِيَمَةَ الْاحْتِرَامِ تَتَوَارَثُهَا وَتُؤَمِّنُ بِهَا الْأَجْيَالُ.


**فقرة الإملاء**  احترام الكبير يعد من القيم الأساسية في المجتمعات؛ فهو يعكس تقديرنا للخبرة والحكمة التي يمتلكها الأشخاص الأكبر سنًا.


### نموذج (٢)

**فقرة الاستماع**  الشَّخْصُ النَّاجِحُ لَا يَعْرِفُ الْكَسْلَ وَلَا الْخُمُولَ، وَيَسْعَى دَائِمًا إِلَى الْإِنْتِاجِ؛ وَلِذَلِكَ يُحِبُّ النَّاسُ النَّاجِحِينَ الْمُنْتَجِينَ، وَلَا يُحِبُّونَ الْكَسَالَى الَّذِينَ يَسْتَهْلِكُونَ مَا أُنتَجَ مِنْهُمْ دُونَ أَنْ يَنْتِجُوا؛ فَالصَّانِعُ النَشِيطُ وَالْعَامِلُ النَشِيطُ يُقَدَّرُهُمَا الْجَمِيعُ، وَيَرَى كُلُّ مَنْهُمَا أَثَرَ نَشَاطِهِ فِي عَمَلِهِ وَكَسْبِ رِزْقِهِ، فَيُنَالُ كُلُّ مَنْهُمَا تَقْدِيرًا أَفْضَلَ وَرِبْحًا أَكْبَرَ.


**فقرة الإملاء**  التحطيط للمشروعات هو خطوة أساسية لضمان النجاح والاستمرارية؛ فهو يساعد على تحديد الأهداف وتوزيع الموارد بشكل فعال.


### نموذج (٣)

**فقرة الاستماع**  فَاجَانَا الْمَعْلَمُ الْيَوْمَ حِينَ طَلِبْنَا مِنْهُ إِعْدَادَ (مِقْيَاسٍ لِاحْتِرَامِ الْكِبَارِ)؛ فَلَمْ نَكُنْ نَعِي مَا يَقْصُدهُ، وَبَعْدَ مَنَاقِشَاتٍ بَيْنَنَا تَوَصَّلْنَا إِلَى مَا يَتَحْتَمُّ عَلَيْنَا فَعَلُهُ، وَأَعْدَدْنَا قَائِمَةً بِالتَّصَرُّفَاتِ الَّتِي تَعْبُرُ عَنْ احْتِرَامِ الْكَبِيرِ وَتَقْدِيرِهِ؛ مِثْلُ: عَدَمِ مَقَاطَعَةِ الْكِبَارِ خِلَالَ تَحَدِّثِهِمْ، وَعَدَمِ التَّقَدُّمِ أَمَامَهُمْ فِي أَثْنَاءِ الْمَشْيِ، وَالْمُبَادَرَةَ بِالْقَاءِ السَّلَامِ عَلَيْهِمْ، وَغَيْرِهَا مِنَ التَّصَرُّفَاتِ، وَأَعْطَيْنَا لِكُلِّ تَصَرُّفٍ مِنْهَا دَرَجَةً، وَبَعْدَمَا انْتَهَيْنَا قَيَّمْنَا أَنْفُسَنَا وَفَقَّ هَذَا الْمِقْيَاسَ، وَكَانَ زَمِيلُنَا يَاسِينَ هُوَ الْأَفْضَلُ بَيْنَنَا.


**فقرة الإملاء**  المثابرة هي القدرة على الاستمرار في العمل رغم الصعوبات. إنها تعكس قوة الإرادة والعزيمة في تحقيق الأهداف. عندما نثابر نتعلم من الأخطاء ونستفيد من التجارب السابقة. هذا يعزز من فرصنا للنجاح في مختلف مجالات الحياة.

### نموذج (٤)

**فقرة الاستماع**  الْكَثِيرُ مِنَّا حِينَ يَحْصُلُ - مِثْلًا - عَلَى دَرَجَاتٍ مَنْخَفِضَةٍ فِي الْمَوَادِّ الدِّرَاسِيَةِ يَقُولُ لِنَفْسِهِ: أَنَا لَسْتُ نَاجِحًا. وَهَذَا لَيْسَ صَحِيحًا؛ فَالنَّجَاحُ لَا يُمْكِنُ أَنْ يَكُونَ مَقْصُورًا عَلَى الدِّرَاسَةِ؛ فَهُوَ لَيْسَ لَهُ صُورَةٌ وَاحِدَةٌ، بَلْ صُورُهُ مُتَعَدِّدَةٌ جَدًّا، مِنْهَا: الْإِنْدِمَاجُ مَعَ أُسْرَتِكَ وَمَعَامَلَتَهُمْ جَيِّدًا، وَمِشَارَكَةُ أَصْدِقَائِكَ فِي الْأَفْرَاحِ وَالْأَحْزَانِ، وَالسُّؤَالُ عَنْ أَقَارِبِكَ وَزِيَارَتُهُمْ دَائِمًا، وَالْوُقُوفُ مَعَ جِيرَانِكَ وَقَتِ الْحَاجَةِ، وَتَطْوِيرُ عِلَاقَاتِكَ مَعَهُمْ، كُلُّ ذَلِكَ نَجَاحٌ، وَالنَّجَاحُ الْحَقِيقِيُّ هُوَ الَّذِي يَحَقِّقُ كُلَّ صُورِ النَّجَاحِ.

**فقرة الإملاء**  التحدث بصوت هادئ يعكس الثقة بالنفس والاحترام للآخرين؛ فهو يساعد على خلق جو من الهدوء والتفاهم في النقاشات. عندما نتحدث بهدوء نكون أكثر تأثيرًا في الآخرين. كما أن ذلك يسهل التواصل الفعال ويعزز من العلاقات الإيجابية.

### نموذج لطلاب الأزهر الشريف

**فقرة الإملاء**  القوانين هي التي تحدد لنا حدود السلوك الصحيح وتمنعنا من إيذاء أنفسنا أو الآخرين. سواء كانت قوانين المرور أو قوانين المدرسة أو غيرها، فإن احترامها واجب على الجميع. وعندما نلتزم بالقوانين نبني مجتمعًا قويًا و متماسكًا.



# سلاح التلميز

منذ عام ١٩٦٠



اللغة  
العربية

2024-2025

الصف الخامس الابتدائي  
الفصل الدراسي الثاني  
إجابات نماذج اختبارات شهر إبريل

5

## نموذج ١

### السؤال الأول:

١ اضع علامة (✓) أو (X): ١ ✓ ٢ X

٢ أكمل: من تنازل أبيه عن مكانه لرجل أكبر منه سنًا.

### السؤال الثالث:

١ اختر: ١ محبب. ٢ درس.

٢ أكمل: تعرضه لحادث في طفولته.

٢ مَنْ فَقَدَ بَصْرَهُ عَلَى الْقِرَاءَةِ مِنْ خِلَالِ تَمْرِيرِ أَصَابِعِهِ بِرَفْقٍ عَلَى هَذِهِ النُّقْطِ.

٣ أجب: ابتكاره طريقة (برايل)، بإصراره ودراسته.

### السؤال الرابع:

١ اختر: ١ القواعد. ٢ عواقب.

٢ أكمل: الخوف من تداعيات استخدامها بين الناس أثناء الاحتفالات.

٣ أجب: تنظيم حياة الناس داخل المجتمع.

### السؤال الخامس:

١ اختر: استسلموا. ٢ أكمل: تضاد.

٣ أجب: يتحدث إلى مصرفي البيت الأول، وإلى أبناء مصرفي البيت الثالث.

### السؤال السادس:

١ استخرج: ١ الفعل. ٢ الوالدان.

٢ اختر: مضاف إليه.

٣ صَوِّب: ١ المسلمون. ٢ للوالدين.

## نموذج ٢

### السؤال الأول:

١ اضع علامة (✓) أو (X): ١ X ٢ ✓

٢ أجب: ينال تقديرًا أفضل وريحًا أكبر.

### السؤال الثالث:

١ استخرج: ١ عجلة. ٢ أنجز. ٣ تهشمت.

٢ أكمل: ١ انشغل بالرد على الهاتف.

٢ قائد السيارة بخير، لكن مرآة السيارة تكسرت.

٣ أجب: لأنه المسئول عمّا حدث.

### السؤال الرابع:

١ اختر: ١ الحالي. ٢ الدراسة.

٢ اضع علامة (✓) أو (X): X

٣ أكمل: تحقيق المنفعة للإنسان.

### السؤال الخامس:

١ اختر: تُظهِر.

٢ هات: زِيْنَتْ = تَزَخَّرَتْ

٣ وَنَعَطْتُ نَحْوَ الْغَرِيبِ وَلَمْ تَزَلْ

تُبْدِي لَهُ وُدًّا وَحَسَنَ مَعَاشِرَةٍ

### السؤال السادس:

١ استخرج: ١ المواصلات. ٢ كثيرة.

٢ أكمل: الضمة.

٣ اختر: ١ مضافًا إليه. ٢ الواو.

## نموذج ٣

### السؤال الأول:

١ اضع علامة (✓) أو (X): ١ X ٢ ✓

٢ أكمل: عدم مقاطعة الكبار خلال تحدثهم.

### السؤال الثالث:

١ استخرج: ١ مال إلى. ٢ وطئ.

٢ أكمل: يسرق بضاعته.

٣ أجب: ١ اشتكى للمدير حتى يأخذ حقه.

٢ السعي لرد حقي؛ فما ضاع حقٌّ وراءه مُطالِب.

### السؤال الرابع:

١ استخرج: ١ إنجاز. ٢ النجاح.

٢ أكمل: توفير أوقات نستطيع أن نمارس فيها الهوايات

التي نحبها.



## نموذج لطلاب الأزهر الشريف

### السؤال الأول:

- ١ رحلة إلى المتحف المصري.  
٢ مدرسة مصر الابتدائية.  
٣ الثلاثاء ٧ نوفمبر - التاسعة صباحًا  
٤ المتحف المصري.

### السؤال الثاني:

- أ استخرج: ١ هُذِّبها. ٢ ضِيْقًا. ٣ جوانب.  
ب ضع علامة (✓) أو (X): ١ X ٢ X ٣ X  
ج أجب:

- ١ أن يُحضِر له قطعة من النسيج؛ ليستخدمها في الاحتفال على الفلاح.  
٢ أن يسرق متاع الفلاح.

### السؤال الثالث:

- أ اختر: ١ عَفْو. ٢ كثير المُساعدة.  
ب ضع علامة (✓) أو (X): ١ X ٢ ✓ ٣ X  
ج هات: (أقيل)، النصح والإرشاد.

### السؤال الرابع:

- أ استخرج:  
١ بلد. ٢ الكسرة. ٣ الوطن.  
ب اختر: ١ مضافٌ إليه. ٢ الكسرة.  
ج أعرب:  
١ مفعول به منصوب، وعلامة نصبه الفتحة.  
٢ فاعل مرفوع، وعلامة رفعه الواو.

- ج أجب: أحدّد مهامي، وأقدّر الوقت المتوقع لإنجاز كل مهمة، بلا إفراط ولا تفريط.

### السؤال الخامس:

- أ استخرج: حُلْمِي.  
ب أكمل: العلم.  
ج اختر: مجازي.

### السؤال السادس:

- أ استخرج:  
١ مفاتيح. ٢ الكسرة. ٣ مفتاحان. ٤ الألف.  
ب اختر: ١ الواو. ٢ الكسرة.  
ج اجعل: يَمْتَلِكُ الناجحُ متطلبَ النجاح.

## نموذج ٤

### السؤال الأول:

- أ ضع علامة (✓) أو (X): ١ X ٢ ✓  
ب أكمل: الاندماج مع الأسرة ومعاملتهم جيدًا.

### السؤال الثالث:

- أ استخرج: ١ من الأخرى. ٢ عَجالة.  
ب أكمل: ١ للحفاظ على الآثار. ٢ يُخبر أمّه.  
ج أجب: يتعرض للعقاب.

### السؤال الرابع:

- أ اختر: ١ تجفيف الثمار. ٢ هُذِّب.  
ب أكمل: تفاصيل الحياة في مصر القديمة.  
ج أجب: جمال ملابسهم، وزخرفة أهدابها.

### السؤال الخامس:

- أ اختر: ١ نتمنى.  
ب هات: المِخَن.  
ج مجازي.

### السؤال السادس:

- أ استخرج:  
١ الإنسان. ٢ بيت. ٣ قوانين. ٤ الفتحة.  
ب اختر: ١ خبرٌ.  
ج ضع: يُطبِّقُ المسئولون القوانين.



# سلاح التلميز

منذ عام ١٩٦٠



## الرياضيات

2024-2025

الصف الخامس الابتدائي  
الفصل الدراسي الثاني

اختبارات شهر إبريل

# 5

(4 درجات)

السؤال الأول اختر الإجابة الصحيحة من بين الإجابات المعطاة:

1  $11 \div 5 = \dots\dots\dots$

أ  $\frac{5}{11}$  ب  $2 \frac{1}{5}$  ج  $2 \frac{11}{5}$  د  $\frac{1}{5}$

2 الأضلاع الأربعة متساوية في الطول في كل من .....

أ المعين والمربع ب المربع والمستطيل ج المعين والمستطيل د المعين ومتوازي الأضلاع

3 المثلث الذي أطوال أضلاعه 3 سم، 5 سم، 3 سم يُسمَّى مثلثاً .....

أ متساوي الأضلاع ب متساوي الساقين ج مختلف الأضلاع د غير ذلك

4 أي النقاط التالية تقع على المحور y؟

أ (1, 2) ب (5, 0) ج (0, 3) د (1, 0)

(6 درجات)

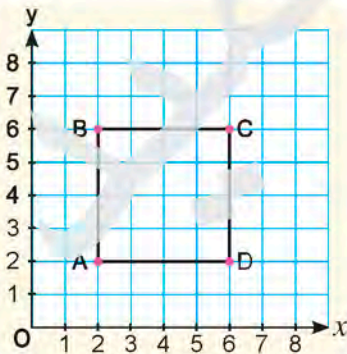
السؤال الثاني أجب عما يلي:

5 حوض للزهور على شكل مستطيل طوله 3 أمتار، وعرضه  $2 \frac{1}{3}$  متر. احسب مساحته.

6 أوجد ناتج:  $5 \div \frac{1}{4}$

7 أكمل باستخدام المستوى الإحداثي المقابل:

أ (....., .....) ، D (....., .....) C (....., .....)

ب طول  $\overline{AB} = \dots\dots\dots$  وحدات طول.

(4 درجات)

السؤال الأول اختر الإجابة الصحيحة من بين الإجابات المعطاة:

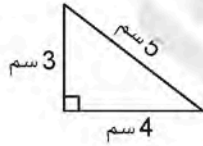
- 1 قياس الزاوية المستقيمة = .....
- أ  $90^\circ$       ب  $180^\circ$       ج  $270^\circ$       د  $360^\circ$
- 2 الإحداثي  $x$  في الزوج المرتب  $(2, 5)$  هو .....
- أ 5      ب 2      ج 0      د غير ذلك
- 3 نافذة طولها 2 متر، وعرضها  $\frac{7}{10}$  متر، فإن مساحتها = ..... متر مربع.
- أ  $2 + \frac{7}{10}$       ب  $2 - \frac{7}{10}$       ج  $2 \times \frac{7}{10}$       د  $2 \div \frac{7}{10}$
- 4  $4 \div 7 =$  .....
- أ  $\frac{7}{4}$       ب  $\frac{4}{7}$       ج  $\frac{4}{11}$       د  $1 \frac{3}{4}$

(6 درجات)

السؤال الثاني أجب عما يلي:

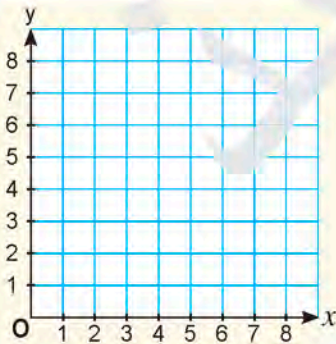
5 أوجد ناتج:  $15 \div \frac{1}{3}$ 

6 حدّد نوع كل مثلث من المثلثات التالية بالنسبة لأطوال أضلاعه:



7 حدّد النقاط التالية على المستوى الإحداثي، ثم صل النقاط بالترتيب، ثم أكمل:

A(1, 2) ، B(4, 2) ، C(4, 7) ، D(1, 7)



- أ اسم الشكل الناتج: .....
- ب تبعد النقطة B عن النقطة A بمقدار ..... وحدات طول.
- ج تبعد النقطة C عن النقطة B بمقدار ..... وحدات طول.
- د مساحة الشكل الناتج = .....



(4 درجات)

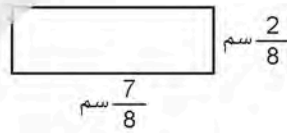
السؤال الأول اختر الإجابة الصحيحة من بين الإجابات المعطاة:

- 1) الشكل الذي ليس له خطوط تماثل هو .....
- أ المربع      ب متوازي الأضلاع      ج المستطيل      د المعين
- 2) قيمة النقطة C على خط الأعداد المقابل = .....
- أ  $2\frac{1}{2}$       ب 2      ج  $1\frac{1}{2}$       د  $3\frac{1}{2}$
- 3) يمكن رسم مثلث به زاويتان .....
- أ قائمتان      ب حادتان      ج منفرجتان      د مستقيمتان
- 4) الشكل الرباعي الذي به زاويتان حادتان ، وزاويتان منفرجتان يكون .....
- أ مثلثًا      ب مربعًا      ج متوازي أضلاع      د مستطيلًا

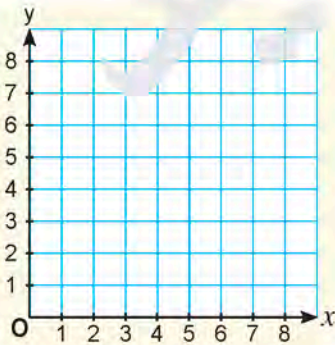
(6 درجات)

السؤال الثاني أجب عما يلي:

- 5) لدى ندى بيتزا، وتريد تقسيم  $\frac{1}{2}$  منها بين 4 من صديقاتها بالتساوي، فما يب كل صديقة؟



- 6) احسب مساحة المستطيل المقابل:



- 7) باستخدام المستوى الإحداثي المقابل:

- أ حدّد النقاط: A (5, 2) ، B (1, 2) ، C (1, 7)
- ب صلّ النقاط: A ، B ، C واكتب اسم الشكل الناتج.



(4 درجات)

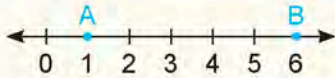
السؤال الأول اختر الإجابة الصحيحة من بين الإجابات المعطاة:

- 1) إذا كان أكبر قياسات زوايا مثلث زاوية قائمة ، فإن المثلث يكون .....
- أ حاد الزوايا      ب قائم الزاوية      ج منفرج الزاوية      د غير ذلك

- 2) خارج قسمة:  $7 \div 3$  يساوي .....

- أ  $\frac{3}{5}$       ب  $2\frac{1}{3}$       ج  $1\frac{2}{3}$       د  $1\frac{1}{3}$

- 3) تبعد النقطة B عن النقطة A بمقدار ..... وحدات طول.



- أ 6      ب 1      ج 5      د 7

- 4) الشكل يُسمَّى .....

- أ زاوية حادة      ب شعاعًا      ج خطًا مستقيمًا      د قطعة مستقيمة

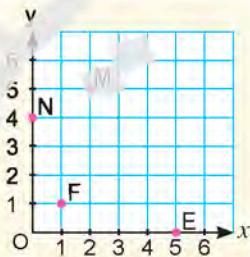
(6 درجات)

السؤال الثاني أجب عما يلي:

- 5) أوجد ناتج:  $\frac{1}{5} \div 3$

- 6) شباك على شكل مستطيل طوله  $2\frac{1}{5}$  م ، وعرضه  $1\frac{1}{5}$  م . أوجد مساحته .

- 7) اكتب الزوج المرتب الذي يمثل كل نقطة على المستوى الإحداثي التالي:



M ( ..... , ..... )

N ( ..... , ..... )

F ( ..... , ..... )

E ( ..... , ..... )



(4 درجات)

السؤال الأول اختر الإجابة الصحيحة من بين الإجابات المعطاة:

- 1 إذا تساوت الأضلاع الأربعة لمتوازي الأضلاع ، فإنه يصبح .....
- أ مربعًا      ب معينًا      ج مستطيلًا      د شبه منحرف
- 2 مستطيل طوله  $\frac{3}{5}$  سم ، وعرضه  $\frac{5}{9}$  سم ، فإن مساحته = ..... سم<sup>2</sup>.
- أ 3      ب  $\frac{1}{3}$       ج  $\frac{1}{45}$       د 9
- 3 المثلث الذي قياس أكبر زواياه تساوي  $115^\circ$  يكون مثلثًا .....
- أ حاد الزوايا      ب قائم الزاوية      ج منفرج الزاوية      د غير ذلك
- 4  $2 \div \frac{1}{10} = 12 \times \dots\dots\dots$
- أ  $\frac{1}{10}$       ب 10      ج 12      د 1

(6 درجات)

السؤال الثاني أجب عما يلي:

5 اكتب فئة فرعية تجمع بين المربع والمستطيل .

6 اذكر أنواع الزوايا وخطوط التماثل في الأشكال الهندسية التالية:



7 حدّد النقاط التالية على شبكة الإحداثيات ، ثم صل النقاط بالترتيب:

A (4 , 0) ، B (1 , 0) ، C (1 , 4) ، D (4 , 4)

اسم الشكل الناتج: .....



# سلاح التلميز

منذ عام ١٩٦٠



## الرياضيات

2024-2025

الصف الخامس الابتدائي  
الفصل الدراسي الثاني  
إجابة اختبارات شهر إبريل

# 5

## إجابة اختبار (1)

### السؤال الأول

- ①  $2\frac{1}{5}$       ② المعين والمربع      ③ متساوي الساقين      ④ (0 , 3)

### السؤال الثاني

⑤ مساحة الحوض =  $7\text{ م}^2$ ؛ لأن:  $3 \times 2\frac{1}{3} = 7$

⑥  $5 \div \frac{1}{4} = 5 \times 4 = 20$

ب 4 وحدات طول

- ⑦ أ (6 , 2) ، C (6 , 6)

## إجابة اختبار (2)

### السؤال الأول

- ①  $180^\circ$       ② 5      ③  $2 \times \frac{7}{10}$       ④  $\frac{4}{7}$

### السؤال الثاني

⑤  $15 \div \frac{1}{3} = 15 \times 3 = 45$

ب مثلث مختلف الأضلاع

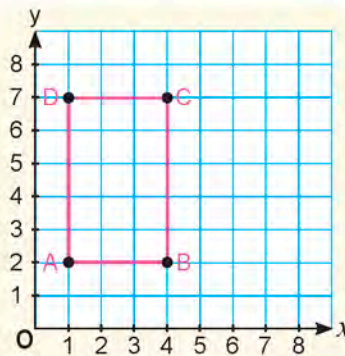
- ⑥ أ مثلث متساوي الأضلاع

- ⑦ أ مستطيل

ب 3

ج 5

د 15 وحدة مربعة



### إجابة اختبار (3)

#### السؤال الأول

4 متوازي أضلاع

3 حادثان

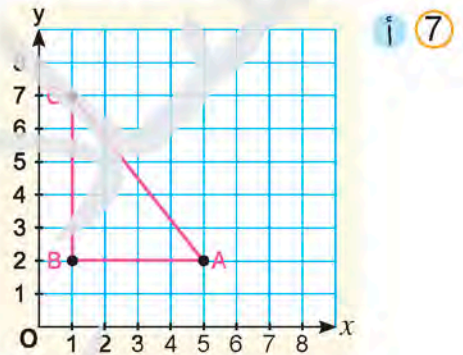
2  $2\frac{1}{2}$

1 متوازي الأضلاع

#### السؤال الثاني

5 نصيب كل صديقة =  $\frac{1}{8}$  من البيتزا؛ لأن:  $\frac{1}{2} \div 4 = \frac{1}{8}$

6 مساحة المستطيل =  $\frac{7}{32}$  سم<sup>2</sup>؛ لأن:  $\frac{7}{8} \times \frac{2}{8} = \frac{7}{32}$



ب اسم الشكل الناتج: مثلث قائم الزاوية.

### إجابة اختبار (4)

#### السؤال الأول

4 خطًا مستقيمًا

5

2  $2\frac{1}{3}$

1 قائم الزاوية

#### السؤال الثاني

5  $\frac{1}{5} \div 3 = \frac{1}{5} \times \frac{1}{3} = \frac{1}{15}$

6 مساحة الشبّاك =  $2\frac{16}{25}$  م<sup>2</sup>؛ لأن:  $2\frac{1}{5} \times 1\frac{1}{5} = 2\frac{16}{25}$

7 M (2, 5) ، N (0, 4)

F (1, 1) ، E (5, 0)



## إجابة اختبار (5)

### السؤال الأول

- 1 معيّنًا ①  $\frac{1}{3}$  ② منفرج الزاوية ③ 10 ④

### السؤال الثاني

5 الزوايا الأربع قائمة. (توجد إجابات أخرى)

6 أ زاويتان - ادتان وزاويتان منفرجتان ، لا يوجد به خطوط تماثل.

ب الزوايا الأربع قوائم ، عدد خطوط التماثل = 2

7 ارسم بنفسك ، اسم الشكل الناتج. مسدّيل.



أشهر وأحب كتب تعليمية ، وأوسعها انتشارًا

# Selah El-Telmeez

Since 1960



English  
Connect

2024-2025

**Fifth Primary**  
**Second Term**

نماذج اختبارات شهر أبريل  
طبقًا لآخر مواصفة للورقة الامتحانية

5

# Test 1

## (A) Listening

نصوص الاستماع بملف الإجابات

### 1 Listen and circle the correct answer from a, b, c or d:

- Alexandria is a/an ..... place to visit.  
a. boring                      b. exciting                      c. far                      d. scary
- It is a big .....  
a. city                      b. town                      c. village                      d. forest
- There is a ..... that we can visit on hot days.  
a. market                      b. museum                      c. beach                      d. restaurant
- We can spend ages walking around the .....  
a. banks                      b. schools                      c. shopping malls                      d. zoos

## (B) Reading

### 2 Choose the correct answer from a, b, c or d:

- Tourists visit famous ..... in Luxor.  
a. mints                      b. ingredients                      c. monuments                      d. books
- This tree has many green .....  
a. branches                      b. wheels                      c. vests                      d. beds
- The jerboa has ..... ears.  
a. foolish                      b. lost                      c. sorry                      d. enormous



### 3 Read and complete the text with the words in the box:

project – fun – parrot – lions

Last week, Omar went to a wildlife park with his family. He enjoyed it very much. They saw lots of different animals like (1) ....., penguins, and kangaroos. Omar saw his favorite bird, the (2) ....., . He was a bit sad because he didn't see the bats. He is doing a (3) ..... on them.

### 4 Read the text and answer the questions:

Mom received an email from her sister, Mona, yesterday. Mona and her husband Adel are on a business trip. They are traveling around the world. They were in India last week. This week they are in Singapore. It is hot in Singapore. Mona and Adel have got a lovely hotel room. There's a huge swimming pool on the roof of the hotel! They sometimes swim in it. In Singapore, there are lots of high-rise buildings, but there are also many parks, gardens, and trees to sit under and relax.

#### (A) Choose the correct answer from a, b, c or d:

1. Mona and Adel were in ..... last week.  
a. France                      b. Egypt                      c. India                      d. Singapore
2. The underlined word "many" means .....  
a. no                      b. a lot of                      c. little                      d. small

#### (B) Answer the following questions:

3. What did Mom receive yesterday?

.....

4. What can Mona and Adel do in the parks?

.....

5. Where do Mona and Adel swim?

.....



## (C) Writing

### 5 Put the words in the correct order to make sentences:

1. on – The – is – city – beach. – the

.....

2. birds – What – you – see, – did – Ramez?

.....

### 6 Read and write the correct form of the word(s) between brackets:

1. She likes her new English ..... (**teach**).

2. .... (**Pushed**) the number five button, Maged.

### 7 Punctuate the following:

1. How do i get to the museum

.....

2. We will fly to japan tomorrow

.....

### 8 Write a paragraph of about THIRTY (30) words using the following guiding elements:

**“Your last vacation”**

(suitcase – tickets)

.....

.....

.....

.....

.....

**GOOD LUCK**



## Test 2

### (A) Listening

نصوص الاستماع بملف الإجابات

#### 1 Listen and circle the correct answer from a, b, c or d:

- Mom received a/an ..... from her sister Samia.  
a. letter                      b. message                      c. email                      d. book
- Samia is on a business .....  
a. visit                      b. walk                      c. journey                      d. trip
- She can see the .....  
a. swimming pool                      b. restaurant                      c. tower                      d. museum
- She met a lot of ..... there.  
a. students                      b. tourists                      c. children                      d. vets

### (B) Reading

#### 2 Choose the correct answer from a, b, c or d:

- When someone is ....., they don't thank others for doing something good.  
a. grateful                      b. ungrateful                      c. comfortable                      d. useless
- Amir needs his ..... to travel to London.  
a. passport                      b. tourist                      c. theme park                      d. swimming pool
- We've got a lovely hotel room on the 15<sup>th</sup> .....  
a. garden                      b. park                      c. floor                      d. square



### 3 Read and complete the text with the words in the box:

nickname – bed – dugong – grass

My name is Ramy. I like to write about unusual animals from around the world. My favorite animal from Egypt is the (1) ..... . I think it's got a lovely friendly face and it's very cute! Its (2) ..... is the sea cow. It spends many hours eating (3) ..... from the sea bed every day.

### 4 Read the text and answer the questions:

There was a tree in a hot, dry land. It had lived for many years. Its trunk was wide and it had many green branches. It was famous because it was the only tree where it lived. It gave shelter to travelers as they moved across the country. It was near many villages and it was a meeting point for traders. One day two travelers were walking across the field and saw the tree. It was very hot and dry. They rested under the tree and enjoyed the cool breeze.

#### (A) Choose the correct answer from a, b, c or d:

- The tree's trunk was .....  
a. hot                      b. cold                      c. wide                      d. green
- The underlined word "breeze" means a little .....  
a. water                      b. sand                      c. mountain                      d. wind

#### (B) Answer the following questions:

3. Where was the tree?

.....

4. Why was the tree famous?

.....

5. What did the tree give to travelers?

.....



## (C) Writing

### 5 Put the words in the correct order to make sentences:

1. borrow – books. – to – some – I – want

.....

2. go – Could – the – you – lions? – near

.....

### 6 Read and write the correct form of the word(s) between brackets:

1. Excuse me, ..... (where) do I get to the factory?

2. .... (Can) you take the bus when you were ten?

### 7 Punctuate the following:

1. where is the post office, please

.....

2. we have to pack our suitcases

.....

### 8 Write a paragraph of about THIRTY (30) words using the following guiding elements:

**“Your town”**

(parks – picnics)

.....

.....

.....

.....

.....

**GOOD LUCK**



## Test 3

### (A) Listening

نصوص الاستماع بملف الإجابات

#### 1 Listen and circle the correct answer from a, b, c or d:

1. One day, a villager wanted to sell his .....  
a. shoots                      b. sweets                      c. seeds                      d. beans
2. Gabi offered to take the beans to the ..... for him.  
a. village                      b. field                      c. market                      d. desert
3. Gabi got lost and met a/an ..... and a jerboa.  
a. ibis                      b. snail                      c. bat                      d. panda
4. Gabi was ..... and refused their help.  
a. unsafe                      b. unkind                      c. unhappy                      d. unusual

### (B) Reading

#### 2 Choose the correct answer from a, b, c or d:

1. Alexandria is on the ..... so you can swim in the sea.  
a. city                      b. beach                      c. restaurant                      d. museum
2. .... sleep upside down on trees.  
a. Lions                      b. Dolphins                      c. Bats                      d. Penguins
3. This restaurant serves ..... food from all over the world.  
a. lazy                      b. tiring                      c. delicious                      d. bad



### 3 Read and complete the text with the words in the box:

trunk – breeze – enjoy – meeting

Once there was a very big old tree in a hot, dry land. Its (1) ..... was very wide and it had many green branches. It was near four towns and many villages in its area. It was a (2) ..... point for traders. Two travelers rested under the tree and drank some water. They enjoyed the shade and the cool (3) .....

### 4 Read the text and answer the questions:

New Alamein is a beautiful city in Egypt. There are many things in it. The city is on a beach so you can visit the cool sea when it is hot. The beach is fourteen kilometers long. There is also a large, green lake in it. You can visit the beautiful International Park there. You can visit the Archaeological Center if you want to learn about the fascinating history of the area. There are some amazing treasures there. I really love visiting this city.

#### (A) Choose the correct answer from a, b, c or d:

1. New Alamein is on a ..... by the sea.  
a. beach                      b. desert                      c. park                      d. lake
2. The underlined word "large" means .....  
a. clean                      b. short                      c. small                      d. big

#### (B) Answer the following questions:

3. When can you visit the cool sea?  
.....

4. How long is the beach of the city?  
.....

5. What can you learn at the Archaeological Center?  
.....



## (C) Writing

### 5 Put the words in the correct order to make sentences:

1. run – was little. – Lama – when – she – could

.....

2. animal – saw – on – Gabi – the road. – a little

.....

### 6 Read and write the correct form of the word(s) between brackets:

1. I ..... (could) speak French.

2. .... (Didn't) use your cell phone in the library.

### 7 Punctuate the following:

1. When did omar and Sara visit alexandria?

.....

2. we went to the new wildlife park

.....

Write a paragraph of about THIRTY (30) words using the following guiding elements:

8

**“Places around us”**

(factory – monument)

.....

.....

.....

.....

.....

**GOOD LUCK**



## Test 4

### (A) Listening

نصوص الاستماع بملف الإجابات

#### 1 Listen and circle the correct answer from a, b, c or d:

- Hani likes reading about unusual sea ..... from around the world.  
a. animals                      b. things                      c. plants                      d. birds
- The dugong's got a lovely friendly face and it's very .....  
a. ugly                      b. cute                      c. boring                      d. strong
- Its nickname is the sea .....  
a. dog                      b. lion                      c. horse                      d. cow
- It spends many hours eating ..... from the sea bed every day.  
a. meat                      b. fish                      c. grass                      d. bread

### (B) Reading

#### 2 Choose the correct answer from a, b, c or d:

- Gabi offered to ..... the villager.  
a. fly                      b. eat                      c. read                      d. help
- There was a huge swimming pool on the ..... of the hotel.  
a. airport                      b. roof                      c. ticket                      d. suitcase
- Malak ..... to her friend because she made a mistake.  
a. rained                      b. flew                      c. apologized                      d. borrowed



### 3 Read and complete the text with the words in the box:

foolish – sacks – jerboa – rudely

One day, a villager couldn't walk to sell his beans. His camel offered to take the (1) ..... of beans to the market. Along the road, he got lost and met an ibis and a snake. They offered help, but he replied (2) ..... and refused their help. Later it began to get dark. He knew he was (3) ..... and apologized the next day.

### 4 Read the text and answer the questions:

I'm Ali. I went on a trip to the zoo yesterday. I went with my friends. We bought ten tickets to get in. We were very excited. We saw the lions first. Lions are very big cats. They are very strong. Then, we saw the pandas. They are big. They are black and white. They eat bamboo. After that, we saw the penguins. They can swim, but they can't fly. We also saw many penguins. They were in a special cold place inside.

#### (A) Choose the correct answer from a, b, c or d:

1. Ali went on a trip to the .....  
a. pool                      b. park                      c. zoo                      d. airport
2. The underlined pronoun "They" refers to the .....  
a. lions                      b. bats                      c. cats                      d. pandas

#### (B) Answer the following questions:

3. Who went to the zoo with Ali?  
.....

4. How many tickets did they buy to get in the zoo?  
.....

5. Where were the penguins?  
.....



## (C) Writing

### 5 Put the words in the correct order to make sentences:

1. visit – You – tourist – can – amazing – attractions.

.....

2. live – interesting – grasslands. – on – Some – animals

.....

### 6 Read and write the correct form of the word(s) between brackets:

1. Go straight. .... (Turns) right. It's across from the bank.

2. Can kangaroos ..... (jumped) on two legs?

### 7 Punctuate the following:

1. can you play the guitar

.....

2. i go to London in winter

.....

### 8 Write a paragraph of about THIRTY (30) words using the following guiding elements:

**“A trip to London”**

(big red bus – Buckingham Palace)

.....

.....

.....

.....

.....

**GOOD LUCK**



## Test 5

### (A) Listening

نصوص الاستماع بملف الإجابات

#### 1 Listen and circle the correct answer from a, b, c or d:

1. Yesterday, Donia went to the .....  
a. shopping mall      b. factory      c. bank      d. square
2. She asked someone for .....  
a. streets      b. directions      c. numbers      d. buildings
3. He told her to go straight on High .....  
a. Square      b. Station      c. Park      d. Street
4. The shopping mall is ..... the bookstore.  
a. behind      b. across from      c. next to      d. between

### (B) Reading

#### 2 Choose the correct answer from a, b, c or d:

1. Dugongs eat grass from the sea .....  
a. chair      b. bed      c. table      d. closet
2. If I want to borrow books, I go to the .....  
a. museum      b. factory      c. library      d. square
3. Little kangaroos can sit inside their mom's .....  
a. shell      b. wing      c. box      d. pouch



### 3 Read and complete the text with the words in the box:

surface – wolves – school – cool

My name is Lara. Rana and I are doing a school project about grasslands habitat.

You can find grasslands everywhere. Some grasslands are warm and some are

(1) ..... . 40 percent of the land (2) ..... of Earth is grasslands. Some very interesting animals live on grasslands, like eagles and (3) .....

### 4 Read the text and answer the questions:

My name is Mai. I live in Baltim with my parents and my brother. It is a perfect town near the sea. A lot of people live in Baltim. There are many markets. They sell all kinds of delicious food, like fresh bread and fresh fruit and vegetables. I usually go there with my mom. There is a supermarket. It is always open. In my town, you can get everything you need. There are two banks and a post office. There is a police station and a library.

#### (A) Choose the correct answer from a, b, c or d:

- The underlined pronoun "It" refers to.....  
a. Cairo                      b. Baltim                      c. Alexandria                      d. London
- Mai lives in a ..... town.  
a. perfect                      b. dirty                      c. noisy                      d. bad

#### (B) Answer the following questions:

- Where can Mai get fresh fruit and vegetables?  
.....

- How many banks are there in Baltim?  
.....

- Summarize the text in one sentence.  
.....



## (C) Writing

### 5 Put the words in the correct order to make sentences:

1. India – Nadia – in – were – and Hani – last week.

.....

2. to – the animals. – help – We – feed – can

.....

### 6 Read and write the correct form of the word(s) between brackets:

1. Don't ..... (losing) your book.

2. I was ..... (annoy) because the music was loud.

### 7 Punctuate the following:

1. what could you do when you were three

.....

2. They saw lions bats, and parrots

.....

### 8 Write a paragraph of about THIRTY (30) words using the following guiding elements:

“What you could/couldn't do when you were seven”

(count – swim)

.....

.....

.....

.....

.....

**GOOD LUCK**



أشهر وأحب كتب تعليمية ، وأوسعها انتشاراً

# Selah El-Telmeez

Since 1960



English  
Connect

2024-2025

**Fifth Primary  
Second Term**

إجابات نماذج اختبارات شهر أبريل

**5**

# Test 1 Answers

## (A) Listening

### Listening Script:

Alexandria is an exciting place to visit. It is a big city. It has lots of amazing restaurants, markets, and museums. There is a beach that we can visit on hot days. The thing we love most about Alexandria is shopping. We can spend ages walking around the shopping malls.

### 1 Listen and circle the correct answer from a, b, c or d:

1. (b)                      2. (a)                      3. (c)                      4. (c)

## (B) Reading

### 2 Choose the correct answer from a, b, c or d:

1. (c)                      2. (a)                      3. (d)

### 3 Read and complete the text with the words in the box:

1. lions                      2. parrot                      3. project

### 4 Read the text and answer the questions:

#### (A) Choose the correct answer from a, b, c or d:

1. (c)                      2. (b)

#### (B) Answer the following questions:

3. She received an email from her sister, Mona, yesterday.  
4. They can sit under trees and relax in the parks.  
5. They swim in the huge swimming pool on the roof of the hotel.



## (C) Writing

### 5 Put the words in the correct order to make sentences:

1. The city is on the beach.
2. What birds did you see, Ramez?

### 6 Read and write the correct form of the word(s) between brackets:

1. teacher
2. Push

### 7 Punctuate the following:

1. How do **I** get to the museum?
2. We will fly to **J**apan tomorrow.

### 8 Write a paragraph of about THIRTY (30) words using the following guiding elements:

- Last week, my family and I went on a vacation. I packed my **suitcase**. Dad bought the **tickets**. We traveled to a big city. We had fun and took many pictures!



## Test 2 Answers

### (A) Listening

#### Listening Script:

Mom received an email from her sister Samia. Samia is on a business trip. She was in India last week. This week she is in Singapore. She got a lovely hotel room. The view is beautiful. She can see the swimming pool. She met a lot of tourists there.

#### 1 Listen and circle the correct answer from a, b, c or d:

1. (c)                      2. (d)                      3. (a)                      4. (b)

### (B) Reading

#### 2 Choose the correct answer from a, b, c or d:

1. (b)                      2. (a)                      3. (c)

#### 3 Read and complete the text with the words in the box:

1. dugong                      2. nickname                      3. grass

#### 4 Read the text and answer the questions:

##### (A) Choose the correct answer from a, b, c or d:

1. (c)                      2. (d)

##### (B) Answer the following questions:

3. It was in a hot, dry land.  
4. Because it was the only tree where it lived.  
5. It gave shelter to travelers as they moved across the country.



## (C) Writing

### 5 Put the words in the correct order to make sentences:

1. I want to borrow some books.
2. Could you go near the lions?

### 6 Read and write the correct form of the word(s) between brackets:

1. how
2. Could

### 7 Punctuate the following:

1. Where is the post office, please?
2. We have to pack our suitcases.

### 8 Write a paragraph of about THIRTY (30) words using the following guiding elements:

- In my town, there is a zoo next to my school. My town has parks with trees. We go there for family picnics. It also has markets that sell delicious food.



## Test 3 Answers

### (A) Listening

#### Listening Script:

One day, a villager wanted to sell his beans. But he couldn't walk to the market. His camel, Gabi, offered to take the beans to the market for him. Along the road, Gabi got lost and met an ibis and a jerboa. They offered help. Gabi was unkind and refused their help.

#### 1 Listen and circle the correct answer from a, b, c or d:

1. (d)                      2. (c)                      3. (a)                      4. (b)

### (B) Reading

#### 2 Choose the correct answer from a, b, c or d:

1. (b)                      2. (c)                      3. (c)

#### 3 Read and complete the text with the words in the box:

1. trunk                      2. meeting                      3. breeze

#### 4 Read the text and answer the questions:

##### (A) Choose the correct answer from a, b, c or d:

1. (a)                      2. (d)

##### (B) Answer the following questions:

3. I can visit the cool sea when it is hot.  
4. It is fourteen kilometers long.  
5. I can learn about the fascinating history of the area.



## (C) Writing

### 5 Put the words in the correct order to make sentences:

1. Lama could run when she was little.
2. Gabi saw a little animal on the road.

### 6 Read and write the correct form of the word(s) between brackets:

1. can
2. Don't

### 7 Punctuate the following:

1. When did Omar and Sara visit Alexandria?
2. We went to the new wildlife park.

### 8 Write a paragraph of about THIRTY (30) words using the following guiding elements:

- My cousin is visiting us. I'm going to show him around. We will go to the factory to find out how cotton is turned into clothes. We will visit the famous monument in the square.



## Test 4 Answers

### (A) Listening

#### Listening Script:

Hani likes reading about unusual sea animals from around the world. His favorite unusual sea animal is the dugong. It is from Egypt. It's got a lovely friendly face and it's very cute. Its nickname is the sea cow. It spends many hours eating grass from the sea bed every day.

#### 1 Listen and circle the correct answer from a, b, c or d:

1. (a)                      2. (b)                      3. (d)                      4. (c)

### (B) Reading

#### 2 Choose the correct answer from a, b, c or d:

1. (d)                      2. (b)                      3. (c)

#### 3 Read and complete the text with the words in the box:

1. sacks                      2. rudely                      3. foolish

#### 4 Read the text and answer the questions:

##### (A) Choose the correct answer from a, b, c or d:

1. (c)                      2. (a)

##### (B) Answer the following questions:

3. Ali's friends went with him to the zoo.
4. They bought ten tickets to get in the zoo.
5. They were in a special cold place inside.



## (C) Writing

### 5 Put the words in the correct order to make sentences:

1. You can visit amazing tourist attractions.
2. Some interesting animals live on grasslands.

### 6 Read and write the correct form of the word(s) between brackets:

1. Turn
2. jump

### 7 Punctuate the following:

1. Can you play the guitar?
2. I go to London in winter.

### 8 Write a paragraph of about THIRTY (30) words using the following guiding elements:

- There are many fun things to do in London. You can go on a **big red bus** and see famous places. You can visit **Buckingham Palace** and the British Museum.



## Test 5 Answers

### (A) Listening

#### Listening Script:

Yesterday, Donia went to the shopping mall. She got lost. So she asked someone for directions. He told her to go straight on High Street, turn right onto Station Road, then cross the road. Go over the square and the shopping mall is next to the bookstore.

#### 1 Listen and circle the correct answer from a, b, c or d:

1. (a)                      2. (b)                      3. (d)                      4. (c)

### (B) Reading

#### 2 Choose the correct answer from a, b, c or d:

1. (b)                      2. (c)                      3. (d)

#### 3 Read and complete the text with the words in the box:

1. cool                      2. surface                      3. wolves

#### 4 Read the text and answer the questions:

##### (A) Choose the correct answer from a, b, c or d:

1. (b)                      2. (a)

##### (B) Answer the following questions:

3. She can get fresh fruit and vegetables from the markets.  
4. There are two banks in Baltim.  
5. Mai lives in a perfect town near the sea with markets, banks, a post office, and other places.



## (C) Writing

### 5 Put the words in the correct order to make sentences:

1. Nadia and Hani were in India last week.
2. We can help to feed the animals.

### 6 Read and write the correct form of the word(s) between brackets:

1. lose
2. annoyed

### 7 Punctuate the following:

1. What could you do when you were three?
2. They saw lions, bats, and parrots.

### 8 Write a paragraph of about THIRTY (30) words using the following guiding elements:

- When I was seven, I could **count** to twenty. I could speak English well. I could draw. But I couldn't **swim**. I couldn't speak French. I couldn't ride a bike.



# سلاح التلميز

منذ عام ١٩٦٠



العلوم

2024-2025

الصف الخامس الابتدائي  
الفصل الدراسي الثاني

اختبارات شهر إبريل

5

## الاختبار 1

### السؤال الأول

أ ضع علامة (✓) أو (X) أمام العبارات الآتية:

- ( ) 1 لا يؤثر اختلاف كتلة الأجسام على قوة الجاذبية بينها.  
( ) 2 يؤثر موقع الشمس في السماء على طول ظل الجسم.  
( ) 3 تُعتبر المغناطيسية قوة سحب أو دفع.

ب علل لما يأتي:

1 حدوث ظاهرة تعاقب الليل والنهار.

2 لا نشعر بدوران الأرض حول محورها.

### السؤال الثاني

أ اختر الإجابة الصحيحة:

- يكون ظل الأجسام أقصر ما يمكن وقت .....  
أ الشروق      ب منتصف الليل      ج الظهيرة      د الغروب

ب أجب عن الأسئلة التالية:

1 ما المقصود بمحور الأرض؟

2 ماذا يحدث لو انعدمت الجاذبية بين الشمس والكواكب؟

### السؤال الثالث

أ اكتب المصطلح العلمي:

- المسار البيضاوي الذي تدور فيه الكواكب حول الشمس.  
(.....)

ب أجب عن الأسئلة التالية:

1 لماذا تظهر الأجسام في السماء كما لو كانت تشرق وتغرب؟

2 من الشكل المقابل، ما القوة التي تسبب تحرك الطفلة لأسفل على الزحلوقة؟



## الاختبار 2

### السؤال الأول

أ ضع علامة (✓) أو (X) أمام العبارات الآتية:

- 1 عند سقوط جسم من ارتفاع، فإن قوة الجاذبية تدفعه بعيداً عن مركز الأرض. ( )
- 2 أثناء الظهيرة تكون الشمس في وسط السماء. ( )
- 3 يُعدُّ كوكب المشتري أسرع الكواكب دوراً حول محوره في المجموعة الشمسية. ( )

ب أجب عن الأسئلة التالية:

1 ما المقصود بمقاومة الهواء؟

2 ما تأثير دوران الأرض حول محورها على رؤيتنا للأجسام السماوية الأخرى؟

### السؤال الثاني

أ اختر الإجابة الصحيحة:

- يكون ظل الأجسام أطول ما يمكن وقت .....  
أ الظهيرة      ب منتصف الليل      ج الشروق أو الغروب      د قبل منتصف النهار بقليل

ب أجب عن الأسئلة التالية:

1 ماذا يحدث إذا زادت المسافة بين جسمين (بالنسبة لقوة الجاذبية بينهما)؟

2 قارن بين الدوران في مدار والدوران حول المحور: من حيث التعريف.

### السؤال الثالث

أ اكتب المصطلح العلمي:

- الشمس ومجموعة الكواكب التي تدور حولها. (.....)

ب أجب عن الأسئلة التالية:

1 ما نوع القوة في الشكل المقابل؟

2 اكتب المفهوم العلمي الدال على هذه القوة.



### الاختبار 3

#### السؤال الأول

أ ضع علامة (✓) أو (X) أمام العبارات الآتية:

- ( ) 1) تتسبب جاذبية القمر في ظاهرة المد والجزر في البحار والمحيطات.  
( ) 2) المحور هو خط افتراضي يمر بمركز جسم ما.  
( ) 3) لا يجذب المغناطيس الحديد والنيكل.

ب علل لما يأتي:

1) يطفو رائد الفضاء في محطة الفضاء الدولية.

2) تبدو لنا الأرض كأنها ثابتة.

#### السؤال الثاني

أ أكمل:

- تؤثر قوة ..... في اتجاه معاكس لاتجاه حركة الأجسام، وتقلل من سرعتها.

ب أجب عن الأسئلة التالية:

1) ما العاملان اللذان يؤثران في طول وزاوية الظل؟

2) صنّف كلّ مما يلي إلى قوة سحب أو دفع:

1 - سقوط صخرة من أعلى الجبل  
2 - غلق درج المكتب

#### السؤال الثالث

أ اكتب المصطلح العلمي:

- قوة جذب تنشأ بين الأجسام بفعل كتلتها.

ب أجب عن الأسئلة التالية:

1) ما هي الفترة الزمنية التي تستغرقها الأرض لإتمام دورة كاملة حول الشمس؟ وماذا ينتج عن ذلك؟



2) من الشكل المقابل، ما القوة المسؤولة عن دوران الكواكب حول الشمس في مدارات ثابتة؟



## الاختبار 4

### السؤال الأول

أ ضع علامة (✓) أو (X) أمام العبارات الآتية:

- ( ) 1 تُعرف حركة الأجسام في السماء، كما تبدو لنا بالحركة الظاهرية.
- ( ) 2 ضرب كرة التنس بالمضرب يُعتبر مثلاً على قوة السحب.
- ( ) 3 تدور الأرض حول محورها من الشرق إلى الغرب.

ب علل لما يأتي:

1 يتحرك الزيت إلى الأسفل عند سكبه.

2 تتغير طول وزاوية الظل خلال فترة النهار.

### السؤال الثاني

أ اختر الإجابة الصحيحة:

- الخط الوهمي الذي يمر بمركز الأرض من القطب الشمالي إلى القطب الجنوبي هو .....  
(خط الاستواء - محور الأرض)

ب أجب عن الأسئلة التالية:

1 ما مدة دوران الأرض حول محورها؟

2 تصل الريشة والكرة المعدنية إلى الأرض في نفس الوقت عند إسقاطهما من نفس الارتفاع في غرفة مفرغة من الهواء رغم اختلاف كتلتيهما. وضح سبب ذلك .

### السؤال الثالث

أ صوّب ما تحته خط:

- تظهر الشمس في الصباح الباكر من جهة الغرب. (.....)

ب أجب عن الأسئلة التالية:

1 قارن بين قوة الجاذبية وقوة المغناطيسية؛ من حيث نوع الأجسام التي تتأثر بهما.

2 ما القوة التي تنشأ بين الفرامل وإطارات الدراجة؟ وحدد تأثيرها على سرعة الدراجة.



## الاختبار 5

### السؤال الأول

أ ضع علامة (✓) أو (X) أمام العبارات الآتية:

- ( ) 1 يُعد سقوط التفاحة من الشجرة باتجاه الأرض مثالاً على قوة الجاذبية.  
( ) 2 تستغرق الأرض 365.25 يوم لإتمام دورة كاملة حول محورها.  
( ) 3 نصف الكرة الأرضية المواجه للشمس يكون نهاراً؛ لأنه يتعرّض لضوء الشمس.

ب أجب عن الأسئلة التالية:

1 تتوقف قوة الجاذبية بين جسمين على عاملين. حدّدهما.

2 حدّد نوع الدوران في الشكل المقابل.



### السؤال الثاني

أ اختر الإجابة الصحيحة:

- مركز الحركة في المجموعة الشمسية هو .....  
أ الأرض      ب الشمس      ج المشتري      د عطارد

ب ماذا يحدث إذا؟:

1 تضاعفت كتلة القمر بالنسبة لقوة الجاذبية بين الأرض والقمر.

2 تم تقريب قطبين متشابهين لمغناطيسين من بعضهما بعضاً.

### السؤال الثالث

أ اكتب المصطلح العلمي:

- قوة تجذب بعض الأجسام المعدنية باتجاهها. (.....)

ب أجب عن الأسئلة التالية:

1 اذكر سبب الحركة الظاهرية للشمس والكواكب في السماء.

2 من الشكل المقابل، وضّح كيف يساعد فتح المظلة على هبوط الشخص

القافز بأمان؟



# سلاح التلميز

منذ عام ١٩٦٠



العلوم

2024-2025

الصف الخامس الابتدائي  
الفصل الدراسي الثاني

إجابات اختبارات شهر إبريل

5

## إجابة الاختبار 1

### السؤال الأول:

أ 1  ×      ب 2       ج 3

- ب 1 نتيجة دوران الأرض حول محورها دورة كاملة كل 24 ساعة.  
2 لأننا نتحرك معها بنفس السرعة.

### السؤال الثاني:

أ (ج)

- ب 1 خط افتراضي يمر بشكل عمودي بمركز الأرض من القطب الشمالي إلى القطب الجنوبي.  
2 ستسبح الكواكب في الفضاء بشكل عشوائي.

### السؤال الثالث:

أ المدار

- ب 1 بسبب دوران الأرض حول محورها في عكس اتجاه عقارب الساعة.  
2 قوة الجاذبية الأرضية.

## إجابة الاختبار 2

### السؤال الأول:

أ 1  ×      ب 2       ج 3

- ب 1 قوة احتكاك تنشأ بين الأجسام المتحركة والهواء، وتقلل من سرعة حركة الأجسام.  
2 تبدو لنا وكأنها تتحرك في السماء من الشرق إلى الغرب.

### السؤال الثاني:

أ (ج)

- ب 1 تقل قوة الجاذبية بينهما.  
2 الدوران في مدار: هو دوران الجسم حول جسم آخر في مدار ثابت.  
الدوران حول المحور: هو دوران الجسم حول نفسه.

### السؤال الثالث:

أ المجموعة الشمسية

- ب 1 قوة الجذب المغناطيسي  
2 قوة تجذب بعض الأجسام المعدنية باتجاهها.



### إجابة الاختبار 3

#### السؤال الأول:

- أ  1 ✓  
ب  1 لعدم وجود قوة جاذبية تسحبه لأسفل.  
2 لأننا نتحرك مع الأرض بنفس سرعتها.

#### السؤال الثاني:

- أ الاحتكاك  
ب  1 موقع الشمس وموقع الجسم  
2 - 1 قوة سحب  
2 - قوة دفع

#### السؤال الثالث:

- أ قوة الجاذبية  
ب  1 365.25 يوماً (أي سنة كاملة) - تعاقب فصول السنة الأربعة  
2 قوة جاذبية الشمس

### إجابة الاختبار 4

#### السؤال الأول:

- أ  1 ✓  
ب  1 بسبب قوة الجاذبية الأرضية التي تسحبه نحو مركز الأرض.  
2 بسبب تغير موقع الشمس ظاهرياً في السماء نتيجة دوران الأرض حول محورها.

#### السؤال الثاني:

- أ محور الأرض  
ب  1 24 ساعة (يوماً كاملاً)  
2 لأنه عند انعدام مقاومة الهواء، تؤثر الجاذبية على الأجسام بنفس المقدار.

#### السؤال الثالث:

- أ الشرق  
ب  1 تؤثر قوة الجاذبية على جميع الأجسام، بينما تؤثر القوة المغناطيسية على بعض المواد المعدنية فقط مثل الحديد.  
2 قوة الاحتكاك - تبطئ من سرعتها حتى تتوقف تماماً.



## إجابة الاختبار 5

### السؤال الأول:

- أ ✓ 1 الكتلة والمسافة  
ب 1 الكتلة والمسافة  
2 دوران حول المحور  
3 ✓ دوران حول المحور

### السؤال الثاني:

- أ (ب)  
ب 1 ستزداد قوة الجاذبية.  
2 يدفع كل منهما الآخر، ويتعدان عن بعضهما.

### السؤال الثالث:

- أ قوة الجذب المغناطيسي  
ب 1 دوران الأرض حول محورها.  
2 لأن ذلك يُسبب زيادة مقاومة الهواء للشخص؛ فتقل سرعة هبوطه.



# سلاح التمهيد

منذ عام ١٩٦٠



الدراسات  
الاجتماعية

2024-2025

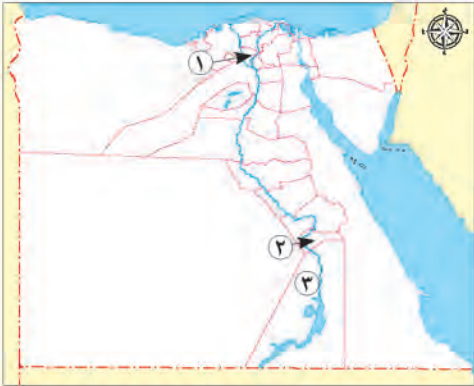
الصف الخامس الابتدائي  
الفصل الدراسي الثاني

نماذج اختبارات شهر أبريل

5

## الاختبار ١

## السؤال الأول لاحظ خريطة مصر المقابلة، ثم أجب:



١ يشير الرقم (١) إلى محافظة وُلد بها الرئيس الراحل محمد أنور السادات

٢ اختر: يشير الرقم (٢) إلى محافظة بها مسلة الملكة .....

(نفرتيتي - إياح حتب - حتشبسوت - كليوباترا)

٣ يشير الرقم (٣) إلى محافظة يوجد بها معبد نفرتاري هي .....

## السؤال الثاني اكتب كلمة (صواب) أمام العبارة الصحيحة، وكلمة (خطأ) أمام العبارة غير الصحيحة:

١ ضعفت دولة البطالمة بعد بطلميوس الأول. ( )

٢ تُعد معاهدة رمسيس الثاني مع الحيثيين أقدم معاهدة سلام في التاريخ. ( )

٣ الوزارة المسؤولة عن دعم التواصل السياسي بين مصر والعالم هي وزارة الخارجية. ( )

## السؤال الثالث اختر الإجابة الصحيحة مما بين القوسين:

١ اتصفت منازل العمال في مصر قديمًا بـ ..... (البساطة - الفخامة - الاتساع - الترف)

٢ استخدم المصريون القدماء عددًا من الأدوات الطبية خلال عملية التحنيط، ومنها .....

(المحراث - المشرط - المنجل - الفأس)

٣ بدأ المصريون في استخدام السواقي خلال عصر ..... (البطالمة - الرومان - الهكسوس - الفرس)

## السؤال الرابع اكتب ما تشير إليه كل عبارة مما يلي:

١ مبانٍ أنشأها المصريون القدماء لحماية البلاد والدفاع عنها، وتأمين سكن للجنود. (.....)

٢ فن استخدمه المصريون القدماء للتعبير عن الأحداث السياسية والاجتماعية والدينية. (.....)

٣ مبانٍ استُخدمت لإقامة طقوس الجنازة للملك في مصر قديمًا. (.....)

٤ علم برع فيه المصريون القدماء وعرفوا من خلاله تخطيط المدن. (.....)

## السؤال الخامس أجب عما يلي:

١ دلل على صحة العبارة: تواصلت مصر سياسيًا وعسكريًا مع الدول العربية حديثًا.

.....

٢ اكتب تفسيرًا واحدًا لـ: أهمية وظيفة الكاتب المصري القديم.

.....



السؤال الأول

لاحظ خريطة مصر المقابلة، ثم أجب:



- ١ اختر: استعادت مصر المنطقة رقم (١) بفضل معاهدة السلام التي وقعها الرئيس .....  
(جمال عبد الناصر - محمد أنور السادات - عدلي منصور - محمد نجيب)
- ٢ صواب أم خطأ: يشير الرقم (٢) إلى دولة وقعت معها مصر اتفاقية للدفاع المشترك. ( )
- ٣ يشير الرقم (٣) إلى محافظة توجد بها مسلة الملكة حتشبسوت وهي .....

السؤال الثاني اكتب كلمة (صواب) أمام العبارة الصحيحة، وكلمة (خطأ) أمام العبارة غير الصحيحة:

- ١ تولى المصريون مناصب عليا في فترة حكم الرومان لمصر. ( )
- ٢ قسم المصريون القدياء اليوم إلى ٢٤ ساعة متساوية ليلاً ونهاراً. ( )
- ٣ دعمت الدول العربية كلاً من مصر والجزائر مالياً وعسكرياً خلال حرب أكتوبر ١٩٧٣م. ( )

السؤال الثالث اختر الإجابة الصحيحة مما بين القوسين:

- ١ يُنسب بناء جامعة الإسكندرية إلى .....  
(الفرس - الرومان - البطالمة - الهكسوس)
- ٢ يُعد تمثال أبو الهول دليلاً على براعة المصري القديم في فن .....  
(الرسم - النقش - النحت - البناء)
- ٣ الوزارة المسئولة عن تطوير العلاقات المصرية بدول العالم المختلفة هي وزارة .....  
(الدفاع - الاتصالات - الإعلام - الخارجية)
- ٤ كانت المقابر في بداية تطورها عند المصريين القدياء على شكل .....  
(مصطبة واحدة - أهرامات كاملة - هرم مدرج - مقابر منحوتة)

السؤال الرابع صوب ما تحته خط فيما يلي:

- ١ آخر ملوك البطالمة في مصر هي الملكة إياح حتب. (.....)
- ٢ وقعت معاهدة سلام بين الملك رمسيس الثاني والفينيقين. (.....)
- ٣ ملك مصري قديم شيد مقبرته على شكل هرم مدرج هو الملك خوفو. (.....)

السؤال الخامس أجب عما يلي:

- ١ بم تفسر: اعتبر الرومان مصر مزرعة للقمح واهتموا بزيادة زراعته؟ .....
- ٢ ما النتائج المترتبة على: براعة المصريين القدياء في الأدب؟ .....



لاحظ خريطة مصر المقابلة، ثم وضع مدلول الأرقام الموقعة عليها:

السؤال الأول



- ١ نهر .....
- ٢ البحر .....
- ٣ الصحراء .....

السؤال الثاني اكتب كلمة (صواب) أمام العبارة الصحيحة، وكلمة (خطأ) أمام العبارة غير الصحيحة:

- ١ انتصرت الملكة كليوباترا السابعة على الرومان في معركة أكتيوم البحرية. ( )
- ٢ جعل المصريون القدماء الأيام الخمس الأولى من كل عام أيام أعياد. ( )
- ٣ تولى الملك رمسيس الثاني حكم مصر بعد والده الملك سيتي الأول. ( )
- ٤ رحب المصريون بالفتح العربي الإسلامي لمصر للتخلص من البطالمة. ( )

السؤال الثالث اختر الإجابة الصحيحة مما بين القوسين:

- ١ أنشأ المصريون القدماء العديد من القلاع والحصون في بلاد (الهند - اليونان - العراق - فينيقيا) .....
- ٢ اهتم المصري القديم بتخليد ذكرى الملوك وتزيين مداخل المعابد فقام بنحت (المنازل - القصور - المسلات - المقابر) .....
- ٣ برع المصريون القدماء في علم الهندسة فتمكنوا من (تخطيط المدن - معرفة مواقع النجوم - تحديد قيمة الضرائب - تسجيل رواتب الجنود) .....

السؤال الرابع أكمل العبارات التالية بما يناسبها من كلمات:

- ١ اتخذ الرئيس الراحل محمد أنور السادات قرار حرب أكتوبر ضد العدو .....
- ٢ أخذ المصريون القدماء عن الهكسوس استخدام .....
- ٣ استمد المصري القديم أفكاره المعمارية من .....

السؤال الخامس أجب عما يلي:

- ١ فسر: سقوط الحكم الروماني في مصر. ....
- ٢ في رأيك: كيف يمكن استخدام تقدم المصريين القدماء في دعم السياحة المصرية حالياً؟



## الاختبار ٤

## السؤال الأول : لاحظ خريطة مصر المقابلة، ثم أجب :



- ١ يشير الرقم (١) إلى محافظة يوجد بها معبداً أبو سمبل، هي .....
- ٢ صواب أم خطأ: بنى المصريون القدماء مقابرهم غرب المظهر التضاريسي رقم (٢).
- ٣ أكمل: عاصمة دولة البطالمة في مصر يشير إليها الرقم .....

## السؤال الثاني اكتب كلمة (صواب) أمام العبارة الصحيحة، وكلمة (خطأ) أمام العبارة غير الصحيحة:

- ١ اقتصر إنجازات الملك رمسيس الثاني على الجانب العسكري. ( )
- ٢ ساعد تنوع الأدب عند المصريين القدماء على معرفة الثقافة المصرية القديمة. ( )
- ٣ تُظهر تصاميم المباني في العاصمة الإدارية مدى تطور العمارة في مصر حالياً. ( )

## السؤال الثالث اختر الإجابة الصحيحة مما بين القوسين:

- ١ إحدى المعارك التاريخية التي اشترك بها الفينيقيون مع الملك تحتمس الثالث هي معركة .....  
(أكتوبر - حطين - أكتيوم - مجدو)
- ٢ الرئيس الذي ألقى بيان ثورة ٢٣ يوليو ١٩٥٢م هو .....  
(جمال عبد الناصر - محمد أنور السادات - عدلي منصور - محمد نجيب)
- ٣ "إذا كنت ماهراً في الكتابة فإن الناس أجمع يفعلون كل ما تقوله" تنسب العبارة للحكيم .....  
(آني - كامس - أحمس - بتاح)

## السؤال الرابع حدد المختلف في كل مجموعة مما يلي، مع ذكر السبب:

- ١ (مصطبة واحدة - معابد الكرنك - هرم زوسر - أهرامات الجيزة).
- ٢ (عقد اتفاقيات الدفاع المشترك - المساعدات العسكرية - تبادل الخبرات الحربية - المنح الدراسية).
- ٣ (تحنيط جثث الموتى - تخطيط المدن - حفر الترع - بناء الأهرامات).
- ٤ (خاض معركة قادش - أمر ببناء معبد أبو سمبل - حصل على جائزة نوبل للسلام - عقد أول معاهدة سلام في التاريخ).

## السؤال الخامس أجب عما يلي:

- ١ ما العلاقة بين: علم الحساب - الزراعة عند المصريين القدماء؟
- ٢ دلل: حاول الإسكندر الأكبر كسب تأييد المصريين.



لاحظ خريطة مصر المقابلة، ثم وضع مدلول الأرقام الموقعة عليها:

السؤال الأول



- ١ خليج .....  
٢ بحيرة .....  
٣ البحر .....

اكتب كلمة (صواب) أمام العبارة الصحيحة، وكلمة (خطأ) أمام العبارة غير الصحيحة:

السؤال الثاني

- ١ سمح البطالمة للمصريين بالمشاركة في إدارة شؤون الحكم في مصر. ( )  
٢ تزخر مصر حاليًا بالعديد من العلماء والأدباء الذين يساهمون في بنائها وتقدمها. ( )  
٣ تولى الملك رمسيس الثاني حكم البلاد وهو في سن العشرين. ( )  
٤ نجح سقنن رع في تدعيم النفوذ المصري في قارة آسيا. ( )

اختر الإجابة الصحيحة مما بين القوسين:

السؤال الثالث

- ١ أي مما يلي كان يتميز بجمال زينته وزخارفه؟ .....  
(منزل العامل - قصر الملك - منزل الكاهن - قصر الوزير)  
٢ الكتابات المتنوعة للمصريين القدماء دليل على براعتهم في .....  
(الهندسة - الفلك - الأدب - الطب)  
٣ خاض الملك رمسيس الثاني معركة قادش ضد .....  
(الهكسوس - الآشوريين - النوبيين - الحيثيين)

أكمل العبارات التالية بما يناسبها من كلمات:

السؤال الرابع

- ١ استطاع الملك تحتمس الثالث بعد معركة مجدو تأمين حدود مصر من الجهة .....  
٢ برع المصري القديم في تصميم أعمدة العديد من المعابد على شكل زهرة .....  
٣ معرفة المصريين القدماء الضرب والقسمة دليل على تفوقهم في علم .....

السؤال الخامس أجب عما يلي:

- ١ اكتب عملاً تاريخياً واحداً لـ: الملك بطلميوس الأول.

- ٢ بم تفسر: استحق الرئيس الراحل محمد أنور السادات لقب بطل الحرب والسلام؟



# سلاح التلميز

منذ عام ١٩٦٠



## الدراسات الاجتماعية

2024-2025

الصف الخامس الابتدائي  
الفصل الدراسي الثاني

إجابات نماذج اختبارات شهر إبريل

5

## إجابة الاختبار ١

### السؤال الأول:

١ المنوفية.

٢ حتشبسوت.

٣ أسوان.

### السؤال الثاني:

١ خطأ.

٢ صواب.

٣ صواب.

### السؤال الثالث:

١ البساطة.

٢ المشروط.

٣ البطالمة.

### السؤال الرابع:

١ الحصون.

٢ الرسم والنقش.

٣ المعابد الجنائزية.

٤ الهندسة.

### السؤال الخامس:

- ١ حيث تواصلت مصر عسكريًا مع جمهورية السودان ووَقَّعت معها اتفاقيات للدفاع المشترك، كذلك شاركت مصر في القمة العربية ٣١ في العاصمة الجزائرية في الأول من نوفمبر ٢٠٢٢ م.
- ٢ كان يقوم بتسجيل كل نواحي الحياة المصرية القديمة، كما ساعدت هذه المهنة صاحبها في الوصول إلى المناصب العليا في الدولة.

## إجابة الاختبار ٢

### السؤال الأول:

١ محمد أنور السادات.

٢ صواب.

٣ الأقصر.

### السؤال الثاني:

١ خطأ.

٢ صواب.

٣ خطأ.

### السؤال الثالث:

١ البطالمة.

٢ النحت.

٣ الخارجية.

٤ مصطبة واحدة.

### السؤال الرابع:

١ كليوباترا السابعة.

٢ الحيثيين.

٣ زوسر.



### السؤال الخامس:

- ١ لتزويد روما به.  
٢ تركوا لنا كتابات متنوعة في الأدب ومنها الأدب "الديني، القصصي، المديح، التهذيبي"، وقد ساعدت هذه الكتابات على معرفة الثقافة المصرية القديمة.

### إجابة الاختبار ٣

#### السؤال الأول:

١ النيل.

٢ الأحمر.

٣ الغربية.

#### السؤال الثاني:

١ خطأ.

٢ خطأ.

٣ صواب.

٤ خطأ.

#### السؤال الثالث:

١ فينيقيا.

٢ المسلات.

٣ تخطيط المدن.

#### السؤال الرابع:

١ الإسرائيلي.

٢ العربات الحربية.

٣ البيئة المصرية.

### السؤال الخامس:

- ١ بسبب ظلم الحكم الروماني الذي عانى منه المصريون، وزيادة الاضطهاد الروماني لهم بعد ظهور المسيحية، والفتح العربي الإسلامي لمصر عام ٦٤١ م.  
٢ أجب بنفسك.

### إجابة الاختبار ٤

#### السؤال الأول:

١ أسوان.

٢ صواب.

٣ (٤).

#### السؤال الثاني:

١ خطأ.

٢ صواب.

٣ صواب.

#### السؤال الثالث:

١ مجدو.

٢ محمد أنور السادات.

٣ آني.



### السؤال الرابع:

- ١ معابد الكرنك، لأنها ليست من مراحل تطور المقابر المصرية القديمة.
- ٢ المنح الدراسية، لأنها ليست أحد نماذج التواصل العسكري.
- ٣ تحنيط جثث الموتى، لأنه ليس من إنجازات المصريين القدماء في علم الهندسة.
- ٤ حصل على جائزة نوبل للسلام، لأنها من إنجازات الرئيس محمد أنور السادات وليس الملك رمسيس الثاني.

### السؤال الخامس:

- ١ استطاع المصريون القدماء حساب مساحة الأراضي الزراعية بسبب تقدمهم في علم الحساب.
- ٢ حيث زار معبد الإله آمون بواحة سيوة ليظهر احترامه للديانة المصرية القديمة وليتقبل المصريون حكمه.

## إجابة الاختبار ٥

### السؤال الأول:

- ١ السويس.
- ٢ ناصر.
- ٣ المتوسط.

### السؤال الثاني:

- ١ خطأ.
- ٢ صواب.
- ٣ صواب.
- ٤ خطأ.

### السؤال الثالث:

- ١ قصر الملك.
- ٢ الأدب.
- ٣ الحثيين.

### السؤال الرابع:

- ١ الشمالية الشرقية.
- ٢ اللوتس.
- ٣ الحساب.

### السؤال الخامس:

- ١ أسس دولة البطالمة في مصر، استكمل بناء مدينة الإسكندرية.
- ٢ لأنه اتخذ قرار الحرب ضد العدو الإسرائيلي في أكتوبر عام ١٩٧٣م، وانتهت الحرب بانتصار الجيش المصري، وبعد النصر العظيم نادى محمد أنور السادات بالسلام، ودعا العالم كله إلى دعم السلام الدائم في الشرق الأوسط بعد حروب استنزفت دماء وأموال وجهود شعوب المنطقة، وتم توقيع معاهدة السلام بين مصر وإسرائيل عام ١٩٧٩م، والتي استعادت مصر بموجبها أراضي سيناء.



# سلاح التمهيد

منذ عام ١٩٦٠



تكنولوجيا  
المعلومات  
والاتصالات

2024-2025

الصف الخامس الابتدائي  
الفصل الدراسي الثاني  
نماذج اختبارات شهر إبريل

5

## الاختبار 1

### السؤال الأول

ضع علامة (✓) أمام العبارة الصحيحة، وعلامة (X) أمام العبارة غير الصحيحة:

- 1) تُستخدم لوحة العمل لإعداد عرض تقديمي فعّال. ( )
- 2) يمكن إضافة محتوى صوتي للعرض التقديمي. ( )
- 3) يمكنك إنشاء ملصق لمشاركة قصتك مع الآخرين. ( )
- 4) يتم إضافة الرمز (-) في بداية الخلية لإنشاء معادلة في برنامج Excel. ( )
- 5) توزيع الأدوار في المشروع يتم بناءً على نقاط القوة لكل فرد. ( )
- 6) من الأفضل ألا تزيد مدة العرض التقديمي عن 40 دقيقة. ( )
- 7) يمكن كتابة لغة HTML عن طريق معالج الكلمات (Word). ( )

### السؤال الثاني

اختر الإجابة الصحيحة من بين الاختيارات التالية:

- 1) يمكن إرسال العمل لأفراد مجموعتك باستخدام .....  
أ برنامج الرسام      ب معالج الكلمات      ج البريد الإلكتروني      د الرسائل النصية
- 2) يُستخدم برنامج Movie Maker لإنشاء ..... من مجموعة صور.  
أ فيلم      ب عرض تقديمي      ج برنامج      د لوحة فنية
- 3) يجب أن يكون حجم الخط في العرض التقديمي .....  
أ صغير الحجم      ب سهل القراءة      ج صعب القراءة      د معقدًا
- 4) العناوين ..... تفصل المعلومات وتكون أصغر من العناوين الرئيسية.  
أ الفرعية      ب الأساسية      ج الصورية      د العشوائية
- 5) للتحقق من توفر تحديثات على جهاز أندرويد، يتم الانتقال إلى النظام، ثم اختيار .....  
أ ابدأ      ب تحديثات النظام      ج التنزيلات      د الإعدادات
- 6) برنامج ..... يسمح للعديد من الأشخاص بتحرير نفس المستند في الوقت نفسه.  
أ البريد الإلكتروني      ب معالج الكلمات      ج العروض التقديمية      د صانع الأفلام
- 7) يُستخدم تبويب ..... لإنشاء رسم بياني في برنامج Excel.  
أ Home      ب Delete      ج Insert      د Layout
- 8) يمكن استخدام ..... مثل الصور والمقاطع الصوتية في صفحة الويب.  
أ الأرقام      ب المرثيات      ج التطبيقات      د البرمجيات



## الاختبار 2

### السؤال الأول

ضع علامة (✓) أمام العبارة الصحيحة، وعلامة (X) أمام العبارة غير الصحيحة:

- 1 ( ) العنوان الرئيسي في صفحة الويب يلفت انتباه الجمهور.
- 2 ( ) يعتمد نظام العد الثنائي على رقمين 0 و 1.
- 3 ( ) يُستخدم برنامج PowerPoint لإنشاء العروض التقديمية.
- 4 ( ) يجب أن لا يزيد عدد شرائح العرض التقديمي عن 10 شرائح.
- 5 ( ) توجد أدوات التنسيق في برنامج Word.
- 6 ( ) تساعد لوحة العمل على تقديم عرض مفهوم ومنظم.
- 7 ( ) يمكن تنزيل متصفح كروم من الإنترنت.

### السؤال الثاني

اختر الإجابة الصحيحة من بين الاختيارات التالية:

- 1 ( ) الخطوة الأخيرة لمعالجة المعلومات الرقمية هي .....  
أ البحث      ب التصنيف      ج جمع المعلومات      د المعالجة
- 2 ( ) البرامج التي تم تنزيلها من على الإنترنت توجد في مجلد ".....".  
أ التنزيلات      ب المستندات      ج الموسيقى      د الصور
- 3 ( ) تثبيت ميزة ..... في برنامج Word يسمح للمستخدمين حول العالم تعديل نفس المستند.  
أ "التعديل على الإنترنت"      ب "التصميم"  
ج "التعديل"      د "العرض"
- 4 ( ) لغة ..... هي اللغة التي تفهمها أجهزة الكمبيوتر.  
أ الأرقام الثلاثية      ب الأرقام الثنائية      ج الرموز الحسابية      د الحروف العربية
- 5 ( ) يُستخدم التبوليب "....." لتغيير تصميم العرض التقديمي في برنامج PowerPoint.  
أ عرض      ب تصميم      ج ملف      د المساعدة
- 6 ( ) يمكن استخدام برنامج ..... لفتح صفحة الويب (Web page).  
أ المعرض      ب المتصفح      ج مكافحة الفيروسات      د الكتب
- 7 ( ) الوسائط المتعددة هي العناصر ..... التي يمكن إضافتها للعرض التقديمي.  
أ المرئية فقط      ب الحسية فقط      ج المرئية والمسموعة      د المسموعة فقط
- 8 ( ) برنامج ..... يُستخدم لإنشاء الصور وحفظها.  
أ جداول الحسابات      ب العروض التقديمية      ج معالج الكلمات      د الرسام



### الاختبار 3

#### السؤال الأول

ضع علامة (✓) أمام العبارة الصحيحة، وعلامة (X) أمام العبارة غير الصحيحة:

- 1) يُستخدم جوجل بلاي ستور لتنزيل البرامج على جهاز ويندوز. ( )
- 2) يمكن استخدام الورقة والقلم في جمع المعلومات. ( )
- 3) يمكن استخدام برنامج العروض التقديمية لإنشاء لوحة العمل. ( )
- 4) يجب مراعاة الملكية الفكرية عند استخدام ملفات الصور. ( )
- 5) يجب تحديد الأدوات المطلوبة لمشروع ما قبل البدء فيه. ( )
- 6) يجب أن يحتوي العرض التقديمي على معلومات كثيرة لتنال إعجاب الجمهور. ( )
- 7) تُستخدم لغة HTML في إنشاء المواقع. ( )

#### السؤال الثاني

اختر الإجابة الصحيحة من بين الاختيارات التالية:

- 1) توزيع الأدوار في المشروع لكل فرد، يتم بناءً على ..... التي يتمتع بها.
 

أ العيوب	ب السلبيات	ج الميزات	د الحقوق
----------	------------	-----------	----------
- 2) يجب ..... البرمجيات بانتظام حتي يمكنها العمل بكفاءة أكثر.
 

أ حذف	ب تدمير	ج نقل	د تحديث
-------	---------	-------	---------
- 3) لتغيير لون الرسم البياني في برنامج Excel يتم اختيار "تصميم المخطط"، ثم اختيار ".....".
 

أ التنسيق	ب نوع المخطط	ج شكل المخطط	د التخطيطات السريعة
-----------	--------------	--------------	---------------------
- 4) يُعتبر ..... من الأدوات الرقمية التي تُستخدم لإرسال مستند ما.
 

أ البريد الإلكتروني	ب معالج الكلمات	ج الرسام	د الملصق
---------------------	-----------------	----------	----------
- 5) لغة الترميز التشعبي يُرمز لها ب.....
 

أ THML	ب Word	ج HTML	د HTS
--------	--------	--------	-------
- 6) مخطط يبين تسلسل محتوى معين على شكل خطوط عريضة .....
 

أ معالج الكلمات	ب لوحة العمل	ج التبويب	د التخطيطات
-----------------	--------------	-----------	-------------
- 7) يُكتب العنوان ..... بخط أكبر لتمييزه عن باقي النص.
 

أ الفرعي	ب الأساسي	ج الرئيسي	د الجانبي
----------	-----------	-----------	-----------
- 8) يُستخدم ..... على جهاز يعمل بنظام ويندوز لغلق أي برنامج لا يستجيب للتشغيل.
 

أ مدير المهام	ب مدير الملفات	ج مجلد التنزيلات	د معالج الكلمات
---------------	----------------	------------------	-----------------



## الاختبار 4

### السؤال الأول

ضع علامة (✓) أمام العبارة الصحيحة، وعلامة (X) أمام العبارة غير الصحيحة:

- 1) يُعتبر العرض التقديمي قصة تتواصل من خلالها مع الجمهور. ( )
- 2) قبل البدء بأي مشروع جماعي يجب مناقشة طبيعة المنتج النهائي المطلوب. ( )
- 3) تساعدك لوحة العمل على تصور نتائج عرضك التقديمي مسبقاً. ( )
- 4) يمكن مشاركة قصتك على الإنترنت من خلال صفحة ويب. ( )
- 5) تفهم أجهزة الكمبيوتر البيانات من خلال إشارة كهربائية رباعية. ( )
- 6) تُستخدم الرسوم البيانية في برنامج Excel لعرض أفلام تسجيلية. ( )
- 7) برنامج معالج الكلمات يسمح لأفراد المشروع الواحد العمل معاً بشكل متزامن. ( )

### السؤال الثاني

اختر الإجابة الصحيحة من بين الاختيارات التالية:

- 1) لوحة العمل هي ..... يبين تسلسل محتوى معين.
  - أ مخطط
  - ب جدول
  - ج ملف
  - د برنامج
- 2) تُعتبر ..... إحدى طرق عرض البيانات.
  - أ المعادلات
  - ب الرسوم البيانية
  - ج الكتب الورقية
  - د المتصفحات
- 3) من الأفضل أن لا تتجاوز مدة العرض التقديمي .....
  - أ 30 دقيقة
  - ب ساعة
  - ج 20 دقيقة
  - د ساعتين
- 4) يجب أن يكون خط صفحة الويب ..... حتى تسهل قراءته.
  - أ واضحاً
  - ب معقداً
  - ج مبهماً
  - د غامضاً
- 5) تستخدم أجهزة الكمبيوتر نظام ..... لتخزين البيانات.
  - أ العد الثنائي
  - ب العد العشري
  - ج معالج الكلمات
  - د العد الفردي
- 6) للوصول للوحة عمل العرض التقديمي، يتم اختيار تبويب "عرض"، ثم ".....".
  - أ عرض الشريحة
  - ب عرض اللوحة
  - ج فارز الشرائح
  - د التصميمات
- 7) يجب أن يكون حجم خط النص ..... أصغر من العناوين الفرعية.
  - أ الرئيسي
  - ب الأساسي
  - ج الفرعي
  - د الأول
- 8) برنامج ..... يُستخدم لتحرير المستندات.
  - أ الجداول الحسابية
  - ب العروض التقديمية
  - ج الرسام
  - د معالج الكلمات



## الاختبار 5

### السؤال الأول

ضع علامة (✓) أمام العبارة الصحيحة، وعلامة (X) أمام العبارة غير الصحيحة:

- 1) يمكن استخدام الكتب الإلكترونية في البحث عن المعلومات. ( )
- 2) التصميم العادي للعرض التقديمي في برنامج PowerPoint يكون بالأبيض والأسود. ( )
- 3) يتم تنزيل التطبيقات على جهاز أندرويد من جوجل بلاي ستور. ( )
- 4) يمكن استخدام برنامج Excel لإنشاء صفحة ويب. ( )
- 5) يمكن استخدام الورقة والقلم لإعداد لوحة العمل. ( )
- 6) يفضل أن يستغرق العرض التقديمي مدة طويلة من الوقت. ( )
- 7) تُستخدم لغة الترميز لإنشاء ملصقات إعلانية. ( )

### السؤال الثاني

اختر الإجابة الصحيحة من بين الاختيارات التالية:

- 1) يمكن استخدام تبويب "عرض" في برنامج العروض التقديمية لـ.....  
أ تغيير التصميم      ب عرض لوحة العمل      ج حذف الصفحات      د حفظ العرض
- 2) يستخدم برنامج الرسام لإنشاء..... وحفظها.  
أ النصوص      ب العروض التقديمية      ج الصور      د الأفلام
- 3) لإنشاء صفحة الويب ببرنامج Word نختار تبويب "....."، ثم اختيار "تخطيط الويب".  
أ تصميم      ب إنشاء      ج عرض      د ملف
- 4) إذا توقفت شاشة جهاز يعمل بنظام ويندوز نضغط على.....  
أ Ctrl + Alt      ب Ctrl + Shift      ج Delete      د Ctrl + Alt + Del
- 5) يتم الضغط على "....." لإجراء التغييرات على مستند في برنامج Word.  
أ حذف المستند      ب نقل الملف      ج تحرير المستند      د تسمية الملف
- 6) للقيام بعملية الجمع التلقائي في برنامج Excel عليك اختيار.....  
أ Sum      ب AutoSum      ج AutoRun      د Add
- 7) يُعتبر البريد الإلكتروني من الأدوات الرقمية التي تستخدم لـ.....  
أ إرسال المستندات      ب إنشاء المستندات      ج إنشاء الرسومات      د إنشاء المعادلات
- 8) احرص على استخدام متاجر التطبيقات..... لتنزيل البرمجيات.  
أ الرسمية      ب المجهولة      ج غير الموثوقة      د المبهمة



# سلاح التمهيد

منذ عام ١٩٦٠



تكنولوجيا  
المعلومات  
والاتصالات

2024-2025

الصف الخامس الابتدائي  
الفصل الدراسي الثاني  
إجابات نماذج اختبارات شهر إبريل

5

## 1 إجابة الاختبار

✗ 4

✓ 3

✓ 2

✓ 1

✓ 7

✗ 6

✓ 5

### السؤال الأول

### السؤال الثاني

الفرعية 4

سهل القراءة 3

فيلم 2

البريد الإلكتروني 1

المرئيات 8

Insert 7

معالج الكلمات 6

تحديثات النظام 5

## 2 إجابة الاختبار

✓ 4

✓ 3

✓ 2

✓ 1

✓ 7

✓ 6

✓ 5

### السؤال الأول

### السؤال الثاني

الأرقام الثنائية 4

"التعديل على الإنترنت" 3

التنزيلات 2

المعالجة 1

الرسام 8

المرئية والمسموعة 7

المتصفح 6

تصميم 5

## 3 إجابة الاختبار

✓ 4

✓ 3

✓ 2

✗ 1

✓ 7

✗ 6

✓ 5

### السؤال الأول

### السؤال الثاني

البريد الإلكتروني 4

التنسيق 3

تحديث 2

الميزات 1

مدير المهام 8

الرئيسي 7

لوحة العمل 6

HTML 5



## 4 إجابة الاختبار

### السؤال الأول

✓ 4

✓ 3

✓ 2

✓ 1

✓ 7

✗ 6

✗ 5

### السؤال الثاني

واضحًا 4

20 دقيقة 3

الرسوم البيانية 2

مخطط 1

معالج الكلمات 8

الأساسي 7

فأرز الشرائح 6

العد الثنائي 5

## 5 إجابة الاختبار

### السؤال الأول

✗ 4

✓ 3

✓ 2

✓ 1

✗ 7

✗ 6

✓ 5

### السؤال الثاني

Ctrl + Alt + Del 4

عرض 3

الصور 2

عرض لوحة العمل 1

الرسمية 8

إرسال المستندات 7

AutoSum 6

تحرير المستند 5



# سلاح التلمين

منذ عام ١٩٦٠



## المهارات المهنية

2024-2025

الصف الخامس الابتدائي  
الفصل الدراسي الثاني

نماذج اختبارات شهر أبريل  
طبقاً لآخر مواصفة للورقة الامتحانية

5

## الاختبار ١

اختر الإجابة الصحيحة مما يلي:

- ١ أ جراحة القلب ب جراحة المسالك ج طب الأطفال د الطب النفسي
- ٢ قبل تغيير ريشة المثقب يجب التأكد من .....  
أ نظافة الريشة ب فصل الكهرباء ج تشغيل المروحة د فتح النوافذ
- ٣ الإجراء السليم الذي يجب اتّباعه عند حدوث إصابة خطيرة .....  
أ تحريك المصاب ب تجاهل الإصابة ج الاتصال بالإسعاف د ترك المصاب وحده
- ٤ عدد الألوان الرئيسية المقترح استخدامها في تنسيق الحديقة هو ..... ألوان.  
أ ٣-١ ب ٤-٦ ج ٧-٩ د ١٠ فأكثر
- ٥ تشجع لويز إيمانويل مابولو المجتمع على استخدام مكونات محلية عند .....  
أ إنتاج الخشب ب صناعة البلاستيك ج طهي الطعام د صناعة الورق
- ٦ في وضعية الإفاقة، يوضع ذراع المصاب القريبة من المسعف .....  
أ مفروداً إلى جانبه ب على صدره ج بزاوية قائمة د فوق رأسه
- ٧ قام الدكتور ..... بتأسيس أول مركز في الشرق الأوسط لعلاج أمراض الكلى.  
أ مجدي يعقوب ب فاروق الباز ج محمد أحمد غنيم د أحمد زويل
- ٨ أحد الأغراض الرئيسية للحدائق هو توفير .....  
أ التلوث البيئي ب الإزعاج الصوتي ج الضغوط النفسية د الهواء النقي
- ٩ يجب ارتداء نظارات واقية عند الطلاء لتجنب ..... المتناثرة.  
أ السوائل والألوان ب قطع البلاستيك ج بقايا الطعام د بقايا الحديد
- ١٠ الجهة المسؤولة عن إجراء الفحوصات على الأغذية المصنّعة في مصر هي .....  
أ المديرية العامة ب الهيئة القومية ج المؤسسة الوطنية د المنظمة المركزية
- ١١ الخطوة الأولى في وقف النزيف هي الضغط ..... على الجرح.  
أ برفق ب المؤقت ج بقوة د المتوسط
- ١٢ يتم استخدام المروحة في المكان أثناء .....  
أ توصيل الكهرباء ب صنفرة الأبواب ج الطلاء د دق المسامير
- ١٣ وظيفة الممرّات في الحديقة .....  
أ إتلاف النباتات ب تنظيم الحركة ج تشويه المنظر د إهدار المساحة
- ١٤ هدف مصر من زيادة الأراضي المزروعة هو .....  
أ تخزين المحاصيل ب الاكتفاء الذاتي ج تشجيع الاستثمار د تحسين البيئة
- ١٥ يقدّم مركز د. محمد أحمد غنيم خدماته المجانية بالتعاون مع منظمة .....  
أ الرعاية الطبيّة ب الصحة العالمية ج الإغاثة الإنسانية د التنمية الصحيّة



## الاختبار ٢

### اختر الإجابة الصحيحة مما يلي:

- ١ الإجراء الصحيح عند استخدام مزيل الطلاء أو الغراء هو .....  
أ غلق الغرفة      ب عدم ارتداء النظارات      ج العمل بسرعة      د فتح النوافذ للتهوية
- ٢ بعد الضغط على مكان النزيف، الخطوة التالية هي ..... الجزء المصاب.  
أ تنظيف      ب رفع      ج تضميد      د فحوص
- ٣ أهمية النافورة في تصميم الحديقة هي إصدار .....  
أ أصوات آلات      ب ضوضاء عالية      ج أصوات للاسترخاء      د ضجيج الرياح
- ٤ يحتاج الأطفال ..... يومياً للرياضة.  
أ نصف ساعة      ب ساعة      ج ساعتين      د ربع ساعة
- ٥ يجب تجنب زراعة ..... بجانب المباني الصغيرة عند اختيار حجم النباتات.  
أ أشجار طويلة      ب زهور ملونة      ج نباتات عشبية      د نباتات ظل
- ٦ عند استخدام المثقب يجب إبقاء اليد ..... الريشة.  
أ قريبة من      ب على      ج بعيدة عن      د تحت
- ٧ يتم تحليل محتويات المنتجات للتأكد من خلوها من ..... في المختبرات المختصة.  
أ البكتيريا      ب الفيتامينات      ج المواد الغذائية      د البروتينات
- ٨ الهدف من وضع المصاب في وضعية الإفاقة هو تسهيل .....  
أ حركة المصاب      ب عملية التنفس      ج تدفق الدم      د هضم الطعام
- ٩ يجب تجنب استخدام الأدوات الكهربائية بالقرب من .....  
أ الطاولات      ب الماء      ج النوافذ      د الأثاث
- ١٠ د. محمد أحمد غنيم كان متفوقاً في الدراسة وتخرّج في كلية .....  
أ الطب      ب الهندسة      ج العلوم      د الآداب
- ١١ تمنح الألوان الباردة مثل الأزرق والأخضر للحديقة شعوراً ب .....  
أ الحيوية والنشاط      ب الاسترخاء والهدوء      ج التوتر والقلق      د الحزن والكآبة
- ١٢ تعاون د. محمد أحمد غنيم مع منظمة ..... لتقديم خدمات طبية مجانية للمرضى.  
أ الأمم المتحدة      ب الصحة العالمية      ج الجمعية البريطانية      د الأكاديمية السويدية
- ١٣ المحاصيل التي شجعت لويز إيمانويل مابولو على زراعتها مع الكاكاو .....  
أ الذرة والقمح      ب البامية واليقطين      ج الأرز والشعير      د المانجو والجوافة
- ١٤ عند استخدام الآلات الحادة الثقيلة أثناء العمل يمكن الاستعانة ب .....  
أ طفل صغير      ب شخص بالغ      ج مُسن      د مراهق
- ١٥ يتم ثني ركبة المصاب أثناء وضعه في وضعية الإفاقة من أجل منع الجسم من .....  
أ التدرج      ب الانكماش      ج الاختناق      د الارتخاء



## الاختبار ٣

### اختر الإجابة الصحيحة مما يلي:

- ١ الألووان الدافئة مثل الأحمر والبرتقالي في الحديقة تعطي شعوراً ب.....  
أ الهدوء والسكينة      ب النشاط والحيوية      ج الملل والرتابة      د الحزن والكآبة
- ٢ إذا كان الشخص فاقداً للوعي ولكنه يتنفس يجب وضعه..... لمساعدته على التنفس.  
أ في وضعية الإفاقة      ب على ظهره      ج بشكل مستقيم      د على بطنه
- ٣ عند استخدام المثقب يجب أن يكون السلك الكهربائي.....  
أ ممتداً في الممرِّ      ب بعيداً عن الممرِّ      ج قصيراً جداً      د ملفوفاً
- ٤ يهدف مشروع الكاكاو الذي أسَّسته لويز إيمانويل مابولو إلى مساعدة المزارعين.....  
أ تعليمياً      ب مالياً      ج زراعياً      د نفسياً
- ٥ يجب استخدام حقيبة الإسعافات الأولية في حالات.....  
أ الإصابات الخطيرة      ب الحروق الخطيرة      ج الجروح الطفيفة      د فقدان الوعي
- ٦ لُقِّبت السيدة لويز إيمانويل مابولو ب..... لعام ٢٠١٨ م.  
أ أبطال الشباب      ب أفضل مزارع شاب      ج مبتكرة الزراعة      د مدافعة عن البيئة
- ٧ منحت مصر د. محمد أحمد غنيم جائزة الدولة التقديرية في مجال.....  
أ الفنون التشكيلية      ب الأدب العربي      ج العلوم الطبيَّة      د الترجمة
- ٨ عند تقطيع الخشب يجب تثبيته باستخدام.....  
أ المسامير      ب الصمغ      ج قطع من القماش      د الدهان
- ٩ لا يُفضَّل زراعة أشجار طويلة بالقرب من.....  
أ مبنى عالٍ      ب جدار طويل      ج منشأة مرتفعة      د مبنى قصير
- ١٠ معرفة..... إحدى الفوائد التي يحصل عليها المستهلك من قراءة ملصق المنتج.  
أ مكونات المنتج      ب موقع المصنع      ج عدد العاملين      د لون العبوة
- ١١ منحت دولة..... درجة الدكتوراه الشرفية للدكتور محمد أحمد غنيم.  
أ السودان      ب ألمانيا      ج الولايات المتحدة الأمريكية      د السويد
- ١٢ أثناء العمل على الطلاء، من الضروري حماية العينين بارتداء.....  
أ غطاء الرأس      ب الوشاح      ج نظارات السلامة      د القفَّازات
- ١٣ الهدف من إمالة رأس المصاب بلطف للخلف أثناء وضعية الإفاقة هو.....  
أ إراحته      ب فتح مجرى الهواء      ج تخفيف الألم      د تحريك الرقبة
- ١٤ قام د. محمد أحمد غنيم بإجراء بحوث علمية متقدمة على زراعة.....  
أ الكبد      ب القرنية      ج القلب      د الخلايا الجذعية
- ١٥ تؤثر كمية الشمس أو الرياح التي تصل للحديقة في اختيار.....  
أ البرجولات      ب المقاعد      ج النباتات      د الممرَّات



## الاختبار ٤

### اختر الإجابة الصحيحة مما يلي:

- ١ يجب التأكد من أن المصاب ..... قبل وضعه في وضعية الإفاقة.  
أ يتنفس      ب لا يتنفس      ج يتحرك      د مستيقظ
- ٢ عند زراعة النباتات في الحديقة يجب معرفة ..... المنطقة.  
أ شكل      ب مناخ      ج طراز      د لون
- ٣ تقوم مصر بزيادة ..... لتحقيق الاكتفاء الذاتي.  
أ السدود المائية      ب المشروعات السياحية      ج الأراضي المزروعة      د الضرائب الزراعية
- ٤ لضمان السلامة، يُنصح باستخدام الأجهزة الكهربائية بعيداً عن .....  
أ الخشب      ب البلاستيك      ج المعدن      د الماء
- ٥ يجب التفكير في طريقة مساعدة المصاب حتى يصل .....  
أ الصحفيون      ب المسعفون      ج الأصدقاء      د الجيران
- ٦ يجب تهوية المكان عند استخدام الطلاء لأن الأبخرة المتصاعدة .....  
أ مُضرة بالصحة      ب مفيدة للتنفس      ج تُنظف الهواء      د تُعطر المكان
- ٧ العنصر الذي يساعد على تنظيم حركة الزوار في الحديقة هو .....  
أ المقاعد      ب الممرات      ج النافورة      د البرجولات
- ٨ يجب استخدام ..... للحصول على طعام صحي ولذيذ.  
أ المكونات الطازجة      ب الكثير من الملح      ج الكثير من الدهون      د الكثير من السكر
- ٩ يجب الاتصال برقم ..... لاستدعاء سيارة الإسعاف.  
أ ١٢٢      ب ١٢٣      ج ١٢٤      د ١٢٥
- ١٠ أثناء القيام بأعمال النجارة يجب طلب المساعدة من شخص آخر عند استخدام .....  
أ الشاكوش      ب مفك البراغي      ج ورق الصنفرة      د الأدوات الثقيلة
- ١١ عند تصميم الحديقة، يجب أن يتمشى التصميم مع .....  
أ الممرات      ب البيئة المحيطة      ج التصاميم العشوائية      د التكلفة المادية
- ١٢ يُعتبر المركز الذي أسسه د. محمد أحمد غنيم رائداً في الشرق الأوسط في علاج .....  
أ الحالات النفسية      ب أمراض الكلى      ج العمود الفقري      د طب الأطفال
- ١٣ تخضع مصانع الأغذية للتفتيش بشكل .....  
أ دوري      ب متقطع      ج عشوائي      د دائم
- ١٤ تمنع الركبة ..... الجسم من التدرج أثناء إفاقة المريض.  
أ المستقيمة      ب المكسورة      ج المثنية      د المرتخية
- ١٥ تم تثبيت الأشياء على الطاولة عند تقطيع الخشب أو ثقبه بواسطة .....  
أ الدبابيس      ب المسامير      ج الحبال      د الشريط اللاصق



## الاختبار ٥

اختر الإجابة الصحيحة مما يلي:

- ١ قام د. محمد أحمد غنيم بإجراء أول عملية ..... في مصر.  
أ قلب مفتوح      ب زراعة قرنية      ج استئصال ورم      د زراعة كلى
- ٢ يجب ..... في حالة عدم وجود مسامير للتثبيت.  
أ الدفع بقوة      ب الإمساك باليدين      ج ترك العمل      د إهمال السلامة
- ٣ عند تصميم الحديقة، يجب اختيار النباتات والأشجار المناسبة لـ .....  
أ الذوق الشخصي      ب مناخ المنطقة      ج التكلفة المنخفضة      د المظهر الجمالي
- ٤ يمكن وضع الشخص الذي يتنفس ولكنه ..... في وضعية الإفاقة.  
أ يتألم      ب يشعر بالصداع      ج ينزف      د فاقد الوعي
- ٥ عند استخدام الشاكوش، يجب دق المسمار في البداية دقاً .....  
أ شديداً      ب خفيفاً      ج سريعاً      د عشوائياً
- ٦ استيراد المواد الغذائية يؤدي إلى زيادة استخدام .....  
أ الوقود الأحفوري      ب الطاقة الخضراء      ج الطاقة النظيفة      د الطاقة المتجددة
- ٧ الخطوة الأولى عند تقديم الإسعافات الأولية هي .....  
أ تنظيف الجرح      ب الاتصال بالمسعفين      ج وضعية الإفاقة      د تقييم وضع المريض
- ٨ الألوان التي تخلق شعوراً بالهدوء في الحديقة هي .....  
أ الأزرق والأخضر      ب الأحمر والبرتقالي      ج الأبيض والأسود      د الرمادي والبنفسجي
- ٩ يُعتبر الاختبار الأساسي للمستهلك عند فحص المنتجات المُصنَّعة هو استخدام .....  
أ الأجهزة الإلكترونية      ب الحواس الأساسية      ج المُعدَّات المخبرية      د الاختبارات الكيميائية
- ١٠ وجود المقاعد والبرجولات في الحديقة ضروري من أجل .....  
أ الجلوس والاسترخاء      ب تحسين التربة      ج تنسيق الألوان      د تعزيز الظلال
- ١١ يجب على المستهلك اتِّباع إرشادات ..... قبل وبعد فتح العبوة.  
أ الكسر      ب الحرق      ج التخزين      د التدمير
- ١٢ الخطوة الأخيرة التي يجب القيام بها عند تنظيف الجرح هي ..... الجرح.  
أ تضميد      ب تجفيف      ج تعقيم      د تطهير
- ١٣ يجب ارتداء ..... لحماية الأعين عند التعامل مع الخشب.  
أ القفَّازات      ب الخوذة      ج نظَّارات السلامة      د الكمامة
- ١٤ يجب ممارسة ..... للحصول على نمط غذائي صحي.  
أ الرياضة      ب الكتابة      ج القراءة      د ركوب السيارات
- ١٥ تخصَّص د. محمد أحمد غنيم في جراحة .....  
أ القلب      ب العظام      ج المسالك البولية      د الرئتين



# سلاح التلميز

منذ عام ١٩٦٠



## المهارات المهنية

2024-2025

الصف الخامس الابتدائي  
الفصل الدراسي الثاني  
إجابات نماذج اختبارات شهر أبريل

5

## ١ إجابة الاختبار

- ١ جراحة المسالك
- ٢ فصل الكهرباء
- ٣ الاتصال بالإسعاف
- ٤ ٣-١
- ٥ طهي الطعام
- ٦ بزاوية قائمة
- ٧ محمد أحمد غنيم
- ٨ الهواء النقي
- ٩ السوائل والألوان
- ١٠ الهيئة القومية
- ١١ بقوة
- ١٢ الطلاء
- ١٣ تنظيم الحركة
- ١٤ الاكتفاء الذاتي
- ١٥ الصحّة العالمية

## ٢ إجابة الاختبار

- ١ فتح النوافذ للتهوية
- ٢ رفع
- ٣ أصوات للاسترخاء
- ٤ ساعة
- ٥ أشجار طويلة
- ٦ بعيدة عن
- ٧ البكتيريا
- ٨ عملية التنفس
- ٩ الماء
- ١٠ الطب
- ١١ الاسترخاء والهدوء
- ١٢ الصحّة العالمية
- ١٣ البامية واليقطين
- ١٤ شخص بالغ
- ١٥ التدرج

## ٣ إجابة الاختبار

- ١ النشاط والحيوية
- ٢ في وضعية الإفاقة
- ٣ بعيداً عن الممرّ
- ٤ مالياً
- ٥ الجروح الطفيفة
- ٦ أفضل مزارع شاب
- ٧ العلوم الطّبيّة
- ٨ المسامير
- ٩ مبنى قصير
- ١٠ مكونات المنتج
- ١١ السويد
- ١٢ نظّارات السلامة
- ١٣ فتح مجرى الهواء
- ١٤ الخلايا الجذعية
- ١٥ النباتات



## ٤ إجابة الاختبار

- |                    |                     |                    |
|--------------------|---------------------|--------------------|
| ١ يتنفس            | ٢ مناخ              | ٣ الأراضي المزروعة |
| ٤ الماء            | ٥ المسعفون          | ٦ مُضَرَّة بالصحة  |
| ٧ الممرات          | ٨ المكوّنات الطازجة | ٩ ١٢٣              |
| ١٠ الأدوات الثقيلة | ١١ البيئة المحيطة   | ١٢ أمراض الكلى     |
| ١٣ دائم            | ١٤ المثنية          | ١٥ المسامير        |

## ٥ إجابة الاختبار

- |                      |                   |                    |
|----------------------|-------------------|--------------------|
| ١ زراعة كلى          | ٢ الإمساك باليدين | ٣ مناخ المنطقة     |
| ٤ فاقد الوعي         | ٥ خفيفاً          | ٦ الوقود الأحفوري  |
| ٧ تقييم وضع المريض   | ٨ الأزرق والأخضر  | ٩ الحواس الأساسية  |
| ١٠ الجلوس والاسترخاء | ١١ التخزين        | ١٢ تضميد           |
| ١٣ نظارات السلامة    | ١٤ الرياضة        | ١٥ المسالك البولية |



# سلاح التلميز

منذ عام ١٩٦٠



التربية  
الدينية  
الإسلامية

2025 - 2024

الصف الخامس الابتدائي  
الفصل الدراسي الثاني

اختبارات شهر أبريل

5

## الاختبار

### أولاً: القرآن الكريم

قال (تعالى): ﴿شَهْرُ رَمَضَانَ الَّذِي أُنزِلَ فِيهِ هُدًى لِّلنَّاسِ وُبَيِّنَتِ مِّنَ الْهُدَىٰ وَفَمَنْ شَهِدَ مِنْكُمُ الشَّهْرَ.....﴾.

اكتب المحذوف من الآية الكريمة.

اختر الإجابة الصحيحة مما بين القوسين:

- ١) معنى ﴿بَيِّنَتِ﴾: (شروط - أدلة - افتراضات)
- ٢) أي من المواضع الآتية به نون مشددة؟ (شَهْرُ رَمَضَانَ - هُدًى لِّلنَّاسِ - فَمَنْ شَهِدَ مِنْكُمُ)
- ج) أجب: لشهر رمضان فضل عظيم. وضح.

### ثانياً: الحديث الشريف

قال رسول الله ﷺ: «بُنِيَ الْإِسْلَامُ عَلَى شَهَادَةِ أَنْ لَا إِلَهَ إِلَّا اللَّهُ وَأَنَّ مُحَمَّدًا رَسُولُ اللَّهِ، وَإِقَامِ الصَّلَاةِ، وَإِيتَاءِ.....، وَحَجِّ الْبَيْتِ، وَصَوْمِ رَمَضَانَ».

اكتب المحذوف من الحديث الشريف.

- ب) ضع علامة (✓) أو علامة (X) أمام ما يلي: صوم رمضان أحد أركان الإيمان. ( )
- ج) اذكر اثنين من أركان الإسلام كما تفهم من الحديث الشريف.

### ثالثاً: الفروع

أكمل مكان النقط بالكلمة المناسبة:

- ١) سخر الله (تعالى) البيئة لخدمة.....
- ٢) أقرب ما يكون العبد من ربه وهو.....
- ب) ١) أكمل: تُغْنِي زكاة الفطر الفقراء عن السؤال يوم.....
- ٢) أجب: اذكر واحدة من مفسدات الصوم.

- ج) ١) اختر: وقعت غزوة بدر في السابع عشر من شهر..... (رجب - شعبان - رمضان)
- ٢) أجب: ما أسباب غزوة أحد؟



## الاختبار ٢

أولاً: القرآن الكريم اقرأ الآية الكريمة، ثم أجب:

قال (تعالى): ﴿إِنَّمَا الصَّدَقَتُ لِلْفُقَرَاءِ وَ..... وَالْعَمِلِينَ عَلَيْهَا وَالْمَوْلَةَ فَلُوْمِهِمْ وَفِي..... وَالْغَرْمِينَ وَفِي..... سَبِيلِ اللَّهِ وَأَبْنِ السَّبِيلِ فَرِيضَةً مِّنَ..... وَاللَّهُ عَلَيْهِمْ حَكِيمٌ ﴿٦٠﴾.

اكتب المحذوف من الآية الكريمة.

اختر الإجابة الصحيحة مما بين القوسين:

- ١) المقصود بـ ﴿الصَّدَقَتُ﴾ في الآية الكريمة: (الهدايا - الصدقة - الزكاة)
- ٢) معنى ﴿الْغَرْمِينَ﴾: أصحاب (الحقوق - الديون - الأمراض)
- ج) استخرج من الآيات الكريمة موضعاً للنون المشددة.
- د) ما المقصود بـ (ابن السبيل)؟

ثانياً: الحديث الشريف اقرأ الحديث الشريف، ثم أجب:

قال رسول الله ﷺ: «يا غلامُ إني أعلمُكَ.....، احفظِ اللهَ يحفظَكَ، احفظِ اللهَ تجِدُهُ تجاهَكَ، إذا سألتَ فاسألِ.....، وإذا استعنتَ فاستعنْ باللهِ».

اكتب المحذوف من الحديث الشريف.

ضع علامة (✓) أمام العبارة الصحيحة، وعلامة (X) أمام العبارة غير الصحيحة:

- ١) المقصود بالغلام في الحديث الشريف عبد الله بن عباس رضي الله عنه.
- ٢) طاعة الله (تعالى) تحفظ الإنسان وتسهل أموره.
- ج) أجب: إلام يرشدنا الحديث الشريف؟

ثالثاً: الفروع أجب عما يلي:

- ١) اختر: دور الإنسان نحو البيئة.....
- ٢) أجب: ما المقصود باسم الله (تعالى) الحكيم؟

ب) ١) أكمل: أنزل الله (تعالى) القرآن الكريم في شهر.....

٢) أجب: ما مقدار زكاة الفطر؟

ج) ضع علامة (✓) أمام العبارة الصحيحة، وعلامة (X) أمام العبارة غير الصحيحة:

- ١) كان عدد جيش المسلمين في غزوة بدر ألف مقاتل.
- ٢) تعلمنا من غزوة أُحُد ضرورة الالتزام بأوامر القائد.



### الاختبار ٣

أولاً: القرآن الكريم اقرأ الآيات الكريمة، ثم أجب:

قال (تعالى): ﴿أَفَلَا يَنْظُرُونَ إِلَىٰ﴾ ..... كَيْفَ خُلِقَتْ ﴿١٧﴾ وَإِلَى السَّمَاءِ كَيْفَ ..... وَإِلَى الْجِبَالِ كَيْفَ .....  
وَإِلَى الْأَرْضِ كَيْفَ سُطِحَتْ ﴿٢٠﴾.

أ اكتب المحذوف من الآية الكريمة.

ب اختر: معنى ﴿سُطِحَتْ﴾: .....

(بسطت - رفعت - وضعت)

ج أجب: كيف يستدل الإنسان على عظمة الله (تعالى) وقدرته؟

د اذكر مظهرًا من مظاهر قدرة الله (تعالى) في الآيات الكريمة.

ثانياً: الحديث الشريف اقرأ الحديث الشريف، ثم أجب:

قال رسول الله ﷺ: «مَا هَذَا السَّرْفُ يَا سَعْدُ؟ قَالَ: أَفِي ..... سَرْفٌ؟ قَالَ: نَعَمْ، وَإِنْ كُنْتُ عَلَىٰ ..... جَارٍ».

أ اكتب المحذوف من الحديث الشريف.

ب ضع علامة (✓) أمام العبارة الصحيحة، وعلامة (X) أمام العبارة غير الصحيحة:

١ نهانا الرسول ﷺ في الحديث الشريف عن السرف. ( )

٢ يجوز للمسلم الإسراف في الماء عند الوضوء. ( )

ج أجب: ما المقصود بـ (السرف)؟

ثالثاً: الفروع أجب عما يلي:

أ ١ أكمل: ميز الله (تعالى) الإنسان عن بقية المخلوقات بـ .....

٢ أجب: لماذا نهانا الرسول ﷺ عن التصويب على الحيوانات؟

ب ١ اختر: الأفعال التي يجب أن يقوم بها الصائم تسمى .....

٢ أجب: اذكر واحدة من الأفعال التي لا تفسد الصوم.

ج أكمل مكان النقط بالكلمة المناسبة:

١ أيد الله (تعالى) المسلمين في غزوة بدر بـ ..... من الملائكة.

٢ استشهد ..... عم الرسول ﷺ في غزوة أُحُد.



## الاختبار ٤

أولاً: القرآن الكريم اقرأ الآية الكريمة، ثم أجب:

قال (تعالى): ﴿يَأَيُّهَا الَّذِينَ كُتِبَ عَلَيْكُمُ الصِّيَامُ كَمَا كُتِبَ عَلَى الَّذِينَ مِنْ لَدُنْكُمْ تَتَّقُونَ﴾ (١٨٣).

أ اكتب المحذوف من الآية الكريمة.

ب ضع علامة (✓) أمام العبارة الصحيحة، وعلامة (X) أمام العبارة غير الصحيحة:

١ معنى ﴿كُتِبَ عَلَيْكُمُ﴾: أي فرض عليكم. ( )

٢ شرع الله الصوم منذ قديم الزمان. ( )

ج أجب: ما المقصود بقوله (تعالى): ﴿لَعَلَّكُمْ تَتَّقُونَ﴾؟

ب أكمل: الصوم هو .....

ثانياً: الحديث الشريف اقرأ الحديث الشريف، ثم أجب:

قال رسول الله ﷺ: «مَا مِنْ مُسْلِمٍ يَغْرِسُ ..... أَوْ يَزْرَعُ زَرْعًا فَيَأْكُلُ مِنْهُ طَيْرٌ أَوْ ..... أَوْ بِهِمَةٌ إِلَّا كَانَ لَهُ بِهِ صَدَقَةٌ».

أ اكتب المحذوف من الحديث الشريف.

ب ضع علامة (✓) أمام العبارة الصحيحة، وعلامة (X) أمام العبارة غير الصحيحة:

١ معنى (يغرس): يهدم ويدمر. ( )

٢ يعطى الإنسان الأجر والثواب بعد موته على تنمية البيئة وإعمارها. ( )

ج أجب: إلام يرشدنا الحديث الشريف؟

ثالثاً: الفروع أجب عما يلي:

أ ضع علامة (✓) أمام العبارة الصحيحة، وعلامة (X) أمام العبارة غير الصحيحة:

١ علينا أن نستخدم الطعام قدر حاجتنا دون إسراف. ( )

٢ فعل الشيء الصحيح في الوقت الصحيح يسمى حكمة. ( )

ب أكمل مكان النقط بالكلمة المناسبة:

١ يختلف قدر زكاة الفطر من شخص لآخر وفق قدرته .....

٢ قال ﷺ: «لا تزال أمتي بخير ما عجلوا .....

ج ١ أكمل: كان النبي ﷺ يقف في ..... الجيش؛ ليشرف على غزوة بدر.

٢ أجب: ما سبب غلبة المشركين في نهاية غزوة أُحد؟



## الاختبار 5

أولاً: القرآن الكريم اقرأ الآية الكريمة، ثم أجب:

قال (تعالى): ﴿وَكُلُوا وَكُلُوا وَحَقَّ يَتَّبِعَنَّ لَكُمْ أَلَا بَيْضُ مِنَ الْحَيْطِ الْأَسْوَدِ مِنَ الْفَجْرِ ثُمَّ أَتُمُوا الصَّيَامَ إِلَى﴾

اكتب المحذوف من الآية الكريمة.

اختر الإجابة الصحيحة مما بين القوسين:

١ معنى ﴿يَتَّبِعَنَّ﴾: .....

(يتراجع - يظهر - ينتهي)

(حافظوا - استمروا - أكملوا)

ب أجب: متى يمتنع الصائمون عن المفطرات؟

د استخرج من الآية الكريمة موضعاً من مواضع الميم المشددة.

ثانياً: الحديث الشريف اقرأ الحديث الشريف، ثم أجب:

قال رسول الله ﷺ: «واعلم أن الأمة لو اجتمعت على أن ..... بشيء لم ينفعوك إلا بشيء قد كتبه الله لك، وإن

اجتمعوا على أن ..... بشيء لم يضرّوك إلا بشيء قد كتبه الله عليك، رفعت الأقلام وجفت الصحف».

اكتب المحذوف من الحديث الشريف.

ب ضع علامة (✓) أمام العبارة الصحيحة، وعلامة (X) أمام العبارة غير الصحيحة:

١ المقصود بـ «رفعت الأقلام وجفت الصحف»: أي لا تبديل لكلمات الله (تعالى). ( )

٢ الله (تعالى) الحفيظ هو وحده الذي يملك النفع والضرر. ( )

ج أجب: إلى أي شيء يرشدنا الحديث الشريف؟

ثالثاً: الفروع أجب عما يلي:

ا أكمل مكان النقط بالكلمة المناسبة:

١ العبادة التي تحتوي على دعاء وركوع وسجود هي .....

٢ عند نطق الميم المشددة تغن بمقدار .....

ب ضع علامة (✓) أمام العبارة الصحيحة، وعلامة (X) أمام العبارة غير الصحيحة:

١ من فضائل الصوم أنه يشفع لصاحبه يوم القيامة. ( )

٢ المعسر هو من كان قدرته المادية كبيرة. ( )

ج اختر: كان ..... يقود قافلة قريش من مكة إلى الشام. (أبو سفيان - أبو جهل - أبو لهب)

٢ من هو؟ رأس المنافقين الذي انسحب من جيش المسلمين في غزوة أحد مع ٣٠٠ آخرين. ....



# سلاح التلميز

منذ عام ١٩٦٠



التربية  
الدينية  
الإسلامية

2024 - 2025

الصف الخامس الابتدائي  
الفصل الدراسي الثاني

إجابات اختبارات شهر أبريل

5

٢) الذي يفعل الشيء الصحيح في الوقت الصحيح يعلمه ورحمته.

ب) ١) رمضان.

٢) تخرج بقدر صاع من الطعام الأساسي للناس في بلدهم.

ج) ١) X ٢) ✓

### ٣ إجابة الاختبار

أولاً: القرآن الكريم

أ) الأبل - رُفِعَتْ - نُصِبَتْ  
ب) بسطت.

ج) بالنظر والتدبر فيما حوله من كائنات ومخلوقات.

د) خلق الله (تعالى) الجمال تتحمل العطش، ورفع السماء، وجعل الجبال لتثبيت الأرض، لاوبسط الأرض لتيسير حياة الإنسان عليها.

ثانياً: الحديث الشريف

أ) الوضوء - نهر  
ب) ١) ✓ ٢) X  
ج) مجاوزة الحد.

ثالثاً: الفروع

أ) ١) العقل. ٢) لأنها كائن حي يشعر ويتألم.  
ب) ١) فرائض. ٢) الممضضة والاستنشاق دون مبالغة.  
ج) ١) ألف. ٢) حمزة بن عبد المطلب.

### ٤ إجابة الاختبار

أولاً: القرآن الكريم

أ) ءَأَمْتُوا - قَبْلِكُمْ  
ب) ١) ✓ ٢) ✓

ج) أي تخافون الله، وتطيعونه فيما أمر، وتتجنبون ما نهى عنه.  
د) الامتناع.

ثانياً: الحديث الشريف

### ١ إجابة الاختبار

أولاً: القرآن الكريم

أ) الْقُرْآنُ - الْفُرْقَانُ - فَلْيُصِّمَهُ

ب) ١) أدلة. ٢) هدى للناس.

ج) أنزل فيه القرآن، وفرض فيه الصوم على المسلمين، وهو أحد أركان الإسلام الخمسة.

ثانياً: الحديث الشريف

أ) خمس - الزكاة  
ب) X  
ج) إقام الصلاة - صوم رمضان

ثالثاً: الفروع

أ) ١) الإنسان. ٢) ساجد.  
ب) ١) العيد. ٢) القيء عمدًا.  
ج) ١) رمضان. ٢)

٢) رغبة كفار قريش في الانتقام من المسلمين؛ لاستعادة مكانتهم بين القبائل بعد هزيمتهم في غزوة بدر.

### ٢ إجابة الاختبار

أولاً: القرآن الكريم

أ) الْمَسْكِينِ - الرِّقَابِ - اللَّهُ

ب) ١) الزكاة. ٢) الديون.  
ج) إنما.

د) هو المغترب عن وطنه الذي لا يستطيع العودة إليه.

ثانياً: الحديث الشريف

أ) كلمات - الله

ب) ١) ✓ ٢) ✓

ج) يرشدنا إلى أن الله (تعالى) دائماً معنا يحفظنا وقريب منا في جميع أحوالنا، وهو وحده المعين والمعطي.

ثالثاً: الفروع

أ) ١) إعمارها.



أ غرسًا - إنسان

✓ ٢

× ١

ج إلى تنمية الثروة الزراعية والحفاظ على الخضرة  
النافعة للبشر.

### ثالثًا: الفروع

✓ ٢

✓ ١

٢ الفطور.

ب ١ المادية.

ج ١ آخر.

٢ مخالفة الرماة أوامر رسول الله ﷺ بعدم النزول من  
التل، وإشاعة موت الرسول ﷺ.

## ٥ إجابة الاختبار

### أولًا: القرآن الكريم

أ أَشْرُؤًا - أَلْحَيْطُ - أَلَيْلِ

٢ أكملوا.

ب ١ يظهر.

ج من مطلع الفجر حتى غروب الشمس.

د ثُرَّ - أَتَمُّوا

### ثانيًا: الحديث الشريف

أ ينفعوك - يضروك

✓ ٢

✓ ١

ج إلى أن الله (تعالى) وحده هو الذي يملك النفع والضرر،  
ولا يحدث للإنسان أمر إلا بإذن الله ﷻ.

### ثالثًا: الفروع

٢ حركتين.

أ ١ الصلاة.

× ٢

✓ ١

٢ عبد الله بن أبي ابن سلول.

ج ١ أبو سفيان.

