

سلاح التلميز

منذ عام ١٩٦٠



اللغة
العربية

2024-2025

الصف الرابع الابتدائي
الفصل الدراسي الثاني
نماذج اختبارات شهر أبريل
طبقاً لآخر مواصفة للورقة الامتحانية

4

نموذج ١

(نص الاستماع صفحة ١٢)

(الاستماع) استمع، ثم أجب:

السؤال الأول

١ ضع علامة (✓) أمام العبارة الصحيحة، وعلامة (X) أمام العبارة غير الصحيحة:

- ١) أنشئ أول مشروع للطاقة الشمسية في مصر بمحافظة الإسكندرية. ()
- ٢) تهدف تجربة قرية البسايسة إلى إنشاء مجتمعات صديقة للبيئة. ()

ب أكمل: من مصادر الطاقة المتجددة

(التعبير الكتابي) اكتب مقالاً عن مشكلة حرمان بعض الأطفال من التعليم، وقدم حلولاً لهذه المشكلة، مراعيًا عناصر المقال (المشكلة والحل).

السؤال الثاني

(النص الأدبي المتحرر) اقرأ الفقرة التالية:

السؤال الثالث

«سافرنا لنقضي أسبوعاً في البحر الأحمر، وفي الطريق رأينا مساحة كبيرة بها طواحين هواء ضخمة تشبه المراوح، وعلى سورها لافتة مكتوب فيها: محطة رياح (غرب بكر) للطاقة النظيفة، فقال أبي: هذا أحد المشروعات التي تُستخدم فيه التقنيات الحديثة لتوليد الكهرباء من الرياح، وهذا يدل على اهتمام الدولة بالبيئة.»

١ استخرج من الفقرة ما يلي:

- ١) معنى (يبين):
- ٢) مفرد (محطات):

ب أكمل ما يلي:

١) كانت الأسرة في رحلة إلى

٢) محطة رياح (غرب بكر) تقوم بتوليد الكهرباء من

ج أجب: ما الدليل على اهتمام الدولة بالبيئة؟

(النص المعلوماتي المتحرر) اقرأ الفقرة التالية:

السؤال الرابع

«نشأ الأديب طه حسين في بيئة فقيرة، وفقد بصره وهو صغير، لكنه مع ذلك أحب العلم، ورأى فيه نوراً يكفي للقضاء على ظلام الجهل، فحفظ القرآن الكريم، وتعلم في الأزهر الشريف وجامعة القاهرة قبل سفره إلى فرنسا، ارتقى في المناصب الأدبية، وارتوى الطلاب من فيض علمه.»



١ اختر الإجابة الصحيحة مما بين القوسين:

(كثرة - زيادة - نتيجة - الأول والثاني)

١ مرادف (فيض):

(الجهل - الحزن - الغضب - القبح)

٢ مضاد (العلم):

ب أكمل: نشأ طه حسين في أسرة

ج أجب: كيف غيّر العلم حياة طه حسين؟

السؤال الخامس (النص الشعري المتحرر) اقرأ الأبيات التالية:

يَا مَضْرُ الْخَيْرُ سَيَاتِينَا وَسَنَحْيَا أَزْهَى الْأَزْمَانِ
وَسَيَحْكِي النَّيْلُ لِأَحْفَادِي عَنِ أَحْلَامِي عَنِ بُنْيَانِي
بِعُلُوكِ نَبْقَى فِي عِرٍّ يَا فَحْرِي بَيْنَ الْأَوْطَانِ

(رفعة - عظمة - قوة - الأول والثاني)

١ اختر الإجابة الصحيحة: مرادف (علو):

ب أكمل: «وَسَيَحْكِي النَّيْلُ لِأَحْفَادِي» تعبير

ج أجب: ضع خطًا تحت البيت الذي يؤكد فيه الشاعر أن الخير قادم لوطنه.

السؤال السادس (القواعد النحوية) اقرأ الفقرة، ثم أجب:

«وقف التلاميذ في طابور الصباح، وألقى المدير كلمة عن أهمية العلم والتعليم بعنوان: العلم سبيل التقدم، ثم نظم المعلمون انصراف الصفوف، وفي الفصول تحمس الجميع للدراسة والتفوق.»

١ استخرج من الفقرة ما يلي:

١ فاعلاً جمع تكسير:

■ علامة رفعه:

٢ مبتدأ:

■ علامة رفعه:

ب اختر الإجابة الصحيحة مما بين القوسين:

(الكسرة - الفتحة - الضمة)

١ (المدير) فاعل، علامة رفعه

(مبتدأ - خبر - فاعل)

٢ (سبيل) كلمة مرفوعة؛ لأنها

ج حوّل الفاعل إلى المثنى: نظم المعلمون انصراف الصفوف.

السؤال السابع (الخط العربي) اكتب بخط النسخ:

الطاقة المتجددة حصن للبيئة.

(فقرة الإملاء صفحة ١٢)

السؤال الثامن (الإملاء) اكتب ما يملى عليك:



نموذج ٢

(نص الاستماع صفحة ١٢)

(الاستماع) استمع، ثم أجب:

السؤال الأول

١ ضع علامة (✓) أمام العبارة الصحيحة، وعلامة (X) أمام العبارة غير الصحيحة:

- ١) هناك بعض السُّلبيات لمواقع التواصل الاجتماعي. ()
- ٢) يَبين الكاتب اختلاف الرأي حول مواقع التواصل الاجتماعي. ()

ب أكمل: للاستخدام الصحيح لمواقع التواصل اقترح الخبراء

السؤال الثاني (التعبير الكتابي) اكتب تقريرًا عن رحلة مدرسية إلى السد العالي، مراعيًا عناصر التقرير: (الزمان - المكان - والتفاصيل - والآراء - والمقترحات).

السؤال الثاني

(النص الأدبي المتحرر) اقرأ الفقرة التالية:

السؤال الثالث

«تعتمد معلمتي على الألغاز في تعليمنا، كتَبْتُ يومًا على السبورة: تعامل معي بحرص؛ فمن يسرف في استخدامي فسوف يتعرض للمشكلات الصحية، ولا تستعملني دون إشراف من الكبار؛ حتى لا يضيع وقتك، أو يخدعك أحد المجرمين الذين يرغبون في سرقة بياناتك الشخصية واستخدامها في الشر. فمن أكون؟ عرفت الحل، وقلت: يا معلمتي، إنه الإنترنت».

١ استخرج من الفقرة ما يلي:

- ١) مرادف (يريدون):
- ٢) مضاد (يعتدل):

ب أكمل ما يلي:

- ١) لتعليم التلاميذ استخدمت المعلمة
- ٢) ينبغي أن يقوم الكبار بـ
- ج أجب: ما مخاطر الإنترنت التي ذكرتها الفقرة؟

(النص المعلوماتي المتحرر) اقرأ الفقرة التالية:

السؤال الرابع

«الطاقة نعمة، أدرك الجميع أهميتها، وأنه لا يمكنهم الاستغناء عنها، ونحن نحصل عليها من الموارد الطبيعية، وتلك الموارد نوعان: الموارد المتجددة التي لا تنتهي؛ كالشمس، والرياح، والأمواج.. والموارد غير المتجددة المحدودة؛ كالفحم، والبترو، والمعادن. فيجب علينا الحفاظ عليها، وألا نسرف في استخدامها».



١ اختر مرادف ما يأتي مما بين القوسين:

(تذكر - فهم - كتب - استطاع)

١ (أدرك):

(الإسراف - الاستغلال - التقليل - التخلي)

٢ (الاستغناء):

ب أكمل: من الموارد المتجددة

ج أجب: قارن بين الطاقة المتجددة وغير المتجددة.

السؤال الخامس (النص الشعري المتحرر) اقرأ الأبيات التالية:

أُمَّنَا مِصْرُ تُنَادِي يَا تَلَامِيذَ الْبِلَادِ
ارْتَوُوا مِنْ كُلِّ عِلْمٍ وَاجْمَعُوا خَيْرَ الْحَصَادِ
وَاحْفَظُوا أَمْجَادَ قَوْمِي بِاتِّحَادٍ وَاجْتِهَادٍ

١ اختر الإجابة الصحيحة: مضاد (ارتووا):

(أكثروا - اتركوا - اظمئوا - أهملوا)

ب أكمل: «يَا تَلَامِيذَ الْبِلَادِ». أسلوب

ج أجب: إلام يدعو الشاعر؟

السؤال السادس (القواعد النحوية) اقرأ الفقرة، ثم أجب:

«يُحِبُّ الْمِصْرِيُونَ وَطَنَهُمْ مِصْرَ؛ فَهِيَ دَائِمًا أَمَامَ أَعْيُنِهِمْ، وَتَعِيشُ فِي قُلُوبِهِمْ، فَهِيَ الْأُمُّ وَالْوَطَنُ وَكُلُّ شَيْءٍ لَهُمْ.»

١ استخرج من الفقرة ما يلي:

١ فاعلاً:

■ علامة رفعه:

٢ فعلاً:

■ نوعه:

ب اختر الإجابة الصحيحة مما بين القوسين:

١ كلمة (دائماً) ظرف

(زمان - مكان)

٢ كلمة (أمام) ظرف

(زمان - مكان)

ج ضع ظرفاً مناسباً مكان حرف الجر: تعيش في قلوبهم.

السؤال السابع (الخط العربي) اكتب بخط النسخ:

العلماء ورثة الأنبياء.

(فقرة الإملاء صفحة ١٢)

السؤال الثامن (الإملاء) اكتب ما يملأ عليك:



نموذج ٣

(نص الاستماع صفحة ١٢)

(الاستماع) استمع، ثم أجب:

السؤال الأول

١ ضع علامة (✓) أمام العبارة الصحيحة، وعلامة (X) أمام العبارة غير الصحيحة:

١) كان الاجتماع في مقر الشركة. ()

٢) ناقش الاجتماع مشكلة ضعف الإضاءة. ()

ب أكمل: من فوائد الطاقة النظيفة

(التعبير الكتابي) اكتب مقالاً عن مشكلة نفاذ الطاقة في المستقبل، مراعيًا العناصر التالية: (جملة افتتاحية - المشكلة - الحل - سبب اختيار الموضوع - تلخيص ما قيل - التشجيع على تجريب الحل).

السؤال الثاني

(النص الأدبي المتحرر) اقرأ الفقرة التالية:

السؤال الثالث

«كانت الأم سعيدة للغاية على الرغم من انقطاع الإنترنت، فقد جلس أبنائها معها، وتحدثوا وتسامروا جميعًا، كانت الأم تتمنى هذا اللقاء بفاغ الصبر، بعدما أصبحت التقنيات الحديثة الشغل الشاغل للجميع، وقالت لهم: أرجو أن يستمر انقطاع الإنترنت حتى نتواصل معًا».

١ استخرج من الفقرة مرادف ما يلي:

١) (شوق): ٢) (ما يأخذ اهتمام الإنسان):

ب أكمل ما يلي:

١) شعرت الأم بسعادة عندما

٢) بعد انقطاع الإنترنت

ج أجب: لماذا كانت الأم تتمنى انقطاع الإنترنت؟

(النص المعلوماتي المتحرر) اقرأ الفقرة التالية:

السؤال الرابع

«هل تعلم أن ما ترسله لنا الشمس من طاقة لمدة ساعة يكفي سكّان الكوكب جميعهم لمدة عام كامل؟ وهذا الأمر جعل العلماء يبحثون عن تقنية يتم من خلالها تخزين هذه الطاقة واستغلالها في الأوقات التي تغيب فيها الشمس، وهنا يتجلى دور العلم في الاستفادة من كل الموارد بطريقة تحافظ على البيئة».



١ اختر الإجابة الصحيحة مما بين القوسين:

١ مرادف (استغلال): (تشغيل - توصيل - توليد - استثمار)

٢ مفرد (الموارد): (الوريد - المورد - الإرادة - المستورد)

ب أكمل: الطاقة الشمسية تحافظ على

ج أجب: لماذا يبحث العلماء عن تقنية لتخزين الطاقة الشمسية؟

السؤال الخامس (النص الشعري المتحرر) اقرأ الأبيات التالية:

يَا مِصْرُ شَبَابِكَ شُجْعَانُ وَبَدَلِكَ تَشَهَّدُ بُلْدَانُ
وَبِعَزْمٍ يَنْبُعُ مِنْ حُبِّ يَحْكِيهِ بِصِدْقِ إِنْسَانُ
سَتَظَلُّ بِلَادِي فِي عِزِّ وَسَتَذْهَبُ عَنَّا الْأَحْزَانُ

١ اختر الإجابة الصحيحة: مرادف (ينبع): (يزداد - ينمو - يصدر - يذهب)

ب أكمل: الشاعر يتحدث عن

ج أجب: ضع خطًا تحت البيت الذي أكد فيه الشاعر أن الإرادة القوية تأتي من حب الوطن.

السؤال السادس (القواعد النحوية) اقرأ الفقرة، ثم أجب:

«نرتدي الملابس الخفيفة صيفًا، ونذهب إلى الإسكندرية التي تقع شمال مصر، ونستمتع بمنظر البحر».

١ استخرج من الفقرة ما يلي:

■ نوعه:

٢ فعلًا:

١ ظرف مكان:

ب اختر الإجابة الصحيحة مما بين القوسين:

١ كلمة (صيفًا): (ظرف زمان - ظرف مكان - حرف جر)

٢ الباء في كلمة (بمنظر) حرف (عطف - جر)

ج ضع ظرف مكان مناسبًا بدلًا من حرف الجر: نذهب إلى الإسكندرية.

السؤال السابع (الخط العربي) اكتب بخط النسخ:

البيئة بيت للجميع.

(فقرة الإملاء صفحة ١٢)

السؤال الثامن (الإملاء) اكتب ما يملئ عليك:



نموذج ٤

(نص الاستماع صفحة ١٣)

(الاستماع) استمع، ثم أجب:

السؤال الأول

١ ضع علامة (✓) أمام العبارة الصحيحة، وعلامة (X) أمام العبارة غير الصحيحة:

- ١) الغاز الطبيعي من أمثلة الطاقة غير المتجددة. ()
- ٢) تهدف اللعبة إلى التوعية بأهمية الطاقة المتجددة. ()

ب أكمل: يفوز اللاعب الذي

السؤال الثاني (التعبير الكتابي) اكتب مقالاً عن أضرار الألعاب الإلكترونية على الأطفال، مراعيًا وجود (المشكلة - حل للمشكلة - سبب اختيارك هذا الحل).

السؤال الثالث (النص الأدبي المتحرر) اقرأ الفقرة التالية:

السؤال الثالث

«ما أجمل أن تكون طاقتك متجددة لا تنتهي، مثل الشمس، أو ربما مثل الرياح! كل يوم لديك طاقة لتعلم والتطلع لكل جديد، وتفيد غيرك، ما أجمل أن تكون كالمياه التي تولد الكهرباء، فتولد الفكر، وتكون دائم الحركة والنشاط، تواصل العمل بجد وصبر، فكن نموذجًا منتجًا متجددًا.»

١ استخرج من الفقرة مرادف ما يلي:

٢ (تنتج):

١ (الترقب):

ب أكمل ما يلي:

١ تتميز الطاقة المتجددة بأنها

٢ من مصادر الطاقة المتجددة في الطبيعة

ج أجب: كيف تكون كالطاقة المتجددة؟

السؤال الرابع (النص المعلوماتي المتحرر) اقرأ الفقرة التالية:

السؤال الرابع

«السد العالي واحد من أكبر المشروعات المصرية العملاقة في القرن العشرين؛ لأنه حمى مصر من الفيضانات؛ وذلك بحجز الماء الزائد في بحيرة ناصر، وقد استفادت مصر من بنائه كثيرًا، فقد تم استغلال تلك المياه في استصلاح الأراضي، وتوليد الطاقة الكهربائية من المياه المندفعة، وهنا تتجلى العبقرية في استخدام الموارد.»



١ اختر الإجابة الصحيحة مما بين القوسين:

(تظهر - تزيد - تتأكد - تتطور)

١ معنى (تتجلى):

(وريد - مورد - إرادة - مستورد)

٢ مفرد (موارد):

ب أكمل: حمى السد العالي مصر من

ج أجب: كيف استفادت مصر من السد العالي في إنتاج الطاقة؟

السؤال الخامس (النص الشعري المتحرر) اقرأ الأبيات التالية:

تَعَلَّمَ فِي الْعِلْمِ الشَّرِيفِ فَوَائِدُ يَحْنُ لَهَا الْقَلْبُ السَّلِيمُ الْمُوَفَّقُ
فَمِنْهُمْ رِضْوَانُ الْإِلَهِ وَجَنَّةُ وَفَوْزٌ وَعِزٌّ دَائِمٌ مُتَحَقِّقُ
فَفِي الْعِلْمِ مَا تَهْوَاهُ مِنْ كُلِّ مَطْلَبٍ وَطَالِبُهُ بِالنُّورِ وَالْحَقِّ يُشْرِقُ

١ اختر الإجابة الصحيحة: مرادف (تهواه):

(تتعلمه - تعرفه - تحبه - تجيده)

ب أكمل: «وَطَالِبُهُ بِالنُّورِ وَالْحَقِّ يُشْرِقُ» التعبير السابق تعبير

ج أجب: إلام يدعونا الشاعر في الأبيات؟

السؤال السادس (القواعد النحوية) اقرأ الفقرة، ثم أجب:

«مرت الأيام سريعًا، وعاد المهاجر بعد سنين إلى الوطن، فتذكر العمر الذي عاشه فوق أرضه وتحت سماءه.»

١ استخرج من الفقرة ما يلي:

٢ ظرف مكان:

الفعل:

١ جملة فعلية:

ب اختر الإجابة الصحيحة مما بين القوسين:

(فاعلاً - مبتدأً - خبرًا)

١ كلمة (الأيام) تُعرب:

(ظرف زمان - ظرف مكان - حرف جر)

٢ كلمة (بعد):

ج اجعل الفاعل جمعًا، وغير ما يلزم: عاد المهاجر بعد شوق كبير إلى الوطن.

السؤال السابع (الخط العربي) اكتب بخط النسخ:

بالعلم نرتقي.

(فقرة الإملاء صفحة ١٣)

السؤال الثامن (الإملاء) اكتب ما يملئ عليك:



نموذج لطلاب الأزهر الشريف

السؤال الأول

(التعبير الكتابي) اكتب تقريراً عن رحلة إلى محطة توليد الطاقة الكهربائية من الرياح، مراعيًا عناصر التقرير: (الزمان - المكان - تفاصيل وحقائق دقيقة - آراءك - اقتراحاتك).

السؤال الثاني (القراءة) اقرأ الفقرة التالية من نص (فوائد التكنولوجيا وأضرارها):

«هل تعلم أن للتكنولوجيا استعمالات عديدة؟

فمثلاً هناك الاتصالات التي تهدف إلى تسهيل وزيادة طرائق التواصل بين الأشخاص.. والتقنيات المنزلية التي تؤثر على الحياة اليومية للأسرة، وتوفير الوقت والجهد، وهناك تقنية المعلومات التي تساعد على حفظها وإرسالها والبحث عن كل جديد، وغيرها من التقنيات الأخرى».

أ استخرج من الفقرة ما يلي:

١ مرادف (أساليب في إنجاز المهمات): ٢ مضاد (الراحة):

٣ جمع (الشخص):

ب ضع علامة (✓) أمام العبارة الصحيحة، وعلامة (X) أمام العبارة غير الصحيحة:

١ أصبح التَّواصلُ سهلاً بفضلِ التَّقَدُّمِ في مَجَالِ الاتِّصَالَاتِ. ()

٢ تُساعدُ التَّقْنِيَّاتُ المَنْزِلِيَّةُ على حِفْظِ وإرْسَالِ المَعْلُومَاتِ. ()

٣ تحدَّثَ الكاتِبُ في هذه الفِقرة عن أضرارِ التكنولوجِيا. ()



السؤال الثالث

(النص الشعري المتحرر) اقرأ الأبيات التالية من نص (إلى أبناء المدارس)، ثم أجب:

كَفَى بِالْعِلْمِ فِي الظُّلُمَاتِ نُورًا
أَبْنَاءَ الْمَدَارِسِ إِنَّ نَفْسِي
سَتَكْتَسِبُ الْبِلَادُ بِكُمْ عُلُومًا
يُبَيِّنُ فِي الْحَيَاةِ لَنَا الْأُمُورًا
تُؤَمِّلُ فِيكُمْ الْأَمَلَ الْكَبِيرًا
إِذَا وَجَدَتْ لَهَا مِنْكُمْ نَصِيرًا

١ أكمل ما يلي:

١ مرادف (نستغني):

٢ قائل النص:

ب اختر الإجابة الصحيحة مما بين القوسين:

١ يتحدث النص عن أهمية

٢ يعقد الشاعر آماله على

ج هات من الأبيات ما يلي:

١ تعبيراً مجازياً:

٢ كلمة لها نفس نهاية (الكبير):

(الشجاعة - الأمانة - الحياة - العلم)

(طلاب العلم - الأمل - النور - الكبار)

٢ كلمة لها نفس نهاية (الكبير):

٣ ما يدل على أن طلاب العلم هم أساس عظمة البلاد:

(القواعد النحوية) اقرأ الفقرة، ثم أجب:

السؤال الرابع

«المدرسة مؤسسة اجتماعية مهمة، فيها يساعد المعلمون الطلاب على تحصيل العلوم واكتساب الأخلاق».

١ استخرج من الفقرة ما يلي:

١ فاعلاً: علامة رفعه:

٢ مبتدأً: علامة رفعه:

ب اختر الإجابة الصحيحة مما بين القوسين:

١ المدارس علمية.

٢ يساعد الطلاب.

(مؤسسات - مؤسسات - مؤسسات)

(المعلم - المعلمان - كلاهما صحيح)

ج اجعل الفاعل مثنى مؤنثاً مرة، وجمع مؤنثاً مرة أخرى، وغير ما يلزم: يساعد المعلمون الطلاب.

(الخط العربي) اكتب بخط النسخ:

السؤال الخامس

اطلبوا العلم من المهد إلى اللحد.

(فقرة الإملاء صفحة ١٣)

(الإملاء) اكتب ما يملئ عليك:

السؤال السادس



فقرات الاستماع والإملاء

نموذج (1)

فقرة الاستماع



قبل خمسين عامًا كانت قرية (البسايسة) التي تقع جنوب محافظة الشرقية على موعد مع تجربة فريدة من نوعها، وذلك بإنشاء أول محطة لتوليد الكهرباء من الطاقة الشمسية في مصر، وكان هدف هذه التجربة إنشاء مجتمعات صديقة للبيئة؛ من أجل التخلص من التلوث الناتج عن استخدام مصادر الطاقة غير المتجددة، واللجوء إلى مصادر متجددة ونظيفة لإنارة المنازل والشوارع وتشغيل الأجهزة الكهربائية.

فقرة الإملاء



قال المعلم: البيئة أمانة بين أيدينا؛ لذلك علينا أن نفكر دائمًا في وسائل المحافظة عليها، وأن ننشر الوعي بأهمية استخدام الطاقة المتجددة؛ لأنها تحافظ عليها، ما أجمل البيئة النظيفة!

نموذج (2)

فقرة الاستماع



ينصرف كثير من الأطفال إلى مواقع التواصل الاجتماعي، وفي حين يرى البعض أن تلك المواقع مفيدة، يبين آخرون مساوئها؛ فهي تُضيّع وقت الأطفال، وتضر بالجهاز العصبي والبصري لهم، ويقترح الخبراء تخصيص أوقات محدودة لها، وأن تكون تحت رقابة الأسرة.

فقرة الإملاء



ما أجمل الربيع! فيه تتفتح الأزهار، ويعتدل الطقس، وينتشر الجمال في كل مكان؛ فيخرج الناس إلى الحدائق والمنتزهات؛ ليتمتعوا بجمال الطبيعة.

نموذج (3)

فقرة الاستماع



في بيتنا أمس عُقد اجتماع مجلس إدارة العمارة، وتناقش أبي مع الجيران عن مشكلة ضعف الإضاءة أمام العمارة، فقلت لهم: «لماذا لا نستخدم الطاقة النظيفة في إنارة الشارع؟ لقد درست أن الطاقة المتجددة النظيفة تحافظ على البيئة ولا تنتهي وموفرة». فقال جارنا فؤاد: «فكرة رائعة، سأبحث في الإنترنت عن مصابيح تعمل بالطاقة الشمسية». وبالفعل وجد في أحد مواقع التجارة الإلكترونية مصباحًا يعمل بالطاقة الشمسية ومعه جهاز تحكم عن بُعد، كان أبي في غاية السعادة؛ لأنني استفدت من دراستي وأسهمت في المحافظة على البيئة.

فقرة الإملاء



ما واجبنا نحو وطننا؟ سؤال مهم، ويحتاج إلى إجابة واضحة، أنا تلميذ الآن، وفي رأيي أن واجبي هو الاجتهاد في التعلم؛ لأكتسب العلم والمعرفة؛ لأفيد نفسي وأهلي ومجتمعي ووطنني، ما أحبَّ الوطن إلى قلبي!



نموذج (٤)

فقرة الاستماع



وقفت في حصة النشاط مُحدثًا زملائي؛ أنتهز هذه الفرصة؛ لأعرض عليكم - ببساطة - اللعبة التي ابتكرتها، وهي تتكون من بطاقات عليها رموز لمصادر الطاقة المتجددة؛ كالشمس والرياح وأمواج البحر، وبطاقات أخرى عليها رموز لمصادر الطاقة غير المتجددة؛ كالصخر والبتروول والغاز الطبيعي، وبطاقات عليها نقود تُوزع على اللاعبين، ويفوز اللاعب الذي يستطيع شراء أكبر عدد من مصادر الطاقة التي لا تنفذ.

فقرة الإملاء



قال الأب لأبنائه: بماذا تحلمون؟ فقال خالد: أحلم أن أصبح طيارًا، وقالت كريمة: أحلم أن أكون طبيبة، وقال ماجد: أحلم أن أكون مهندسًا، ثم قال الأب: الحلم يصبح حقيقة بالعلم والعمل.

نموذج لطلاب الأزهر

فقرة الإملاء



ما أسعد العالم! وما أشقى الجاهل! العالم يرى الخير خيرًا؛ فيفعله، ويرى الشر شرًا؛ فيتجنبه، والجاهل لا يميز الخير من الشر، ولا يميز الحق من الباطل؛ لذلك وصفوا العلم بالنور الذي ينير لصاحبه الطريق؛ فهل ستسلك طريق العلم؟



سلاح التلميز

منذ عام ١٩٦٠



اللغة
العربية

2024-2025

الصف الرابع الابتدائي
الفصل الدراسي الثاني
إجابات نماذج اختبارات شهر أبريل

4

نموذج ١

السؤال الأول:

- ١ ضع علامة (✓) أو (X): ١ (X) ٢ (✓)
 ب أكمل: الشمس.

السؤال الثالث:

- ١ استخرج: ١ يدل ٢ محطة
 ب أكمل: ١ البحر الأحمر ٢ الرياح
 ج أجب: الدليل أن الدولة تنشئ مشروعات لتوليد الطاقة النظيفة، مثل مشروع محطة رياح (غرب بكر).

السؤال الرابع:

- ١ اختر: ١ الأول والثاني ٢ الجهل
 ب أكمل: فقيرة.
 ج أجب: بفضل العلم ارتقى طه حسين في المناصب الأدبية.

السؤال الخامس:

- ١ اختر: الأول والثاني ب أكمل: مجازي
 ج أجب: يا مصر الخير سيأتينا وسنحيا أزهى الأزمان

السؤال السادس:

- ١ استخرج:
 ١ التلاميذ ٢ الضمة ٣ العلم ٤ الضمة
 ب اختر: ١ الضمة ٢ خبر
 ج حوّل: نظم المعلمان انصراف الصفوف.

نموذج ٢

السؤال الأول:

- ١ ضع علامة (✓) أو (X): ١ (✓) ٢ (✓)
 ب أكمل: تخصيص أوقات محدودة لها تحت رقابة الأسرة.

السؤال الثالث:

- ١ استخرج: ١ يرغبون ٢ يسرف
 ب أكمل: ١ الألبان.
 ٢ الإشراف على استخدام أبنائهم الإنترنت.
 ج أجب: من مخاطر الإنترنت ضياع الوقت وسرقة البيانات الشخصية.

السؤال الرابع:

- ١ اختر: ١ فهم ٢ التخلي
 ب أكمل: الشمس والرياح والأمواج.
 ج أجب:

- الطاقة المتجددة (لا تنتهي، ولا تلوث البيئة).
 – الطاقة غير المتجددة (تنتهي، وتلوث البيئة).

السؤال الخامس:

- ١ اختر: اظمنوا
 ب أكمل: نداء
 ج أجب: يدعو إلى العلم والاتحاد والاجتهاد والمحافظة على الوطن.

السؤال السادس:

- ١ استخرج:
 ١ المصريون ٢ الواو
 ٢ يحب ٣ مضارع
 ب اختر: ١ زمان ٢ مكان
 ج تعيش داخل قلوبهم.

نموذج ٣

السؤال الأول:

- ١ ضع علامة (✓) أو (X): ١ (X) ٢ (✓)
 ب أكمل: المحافظة على البيئة.

السؤال الثالث:

- ١ استخرج: ١ فارغ الصبر ٢ الشاغل
 ب أكمل:

- ١ انقطع الإنترنت
 ٢ جلس الأبناء مع الأم وتحدثوا وتسامروا
 ج أجب: ليزيد التواصل بين أفراد الأسرة.

السؤال الرابع:

- ١ اختر: ١ استثمار ٢ المورد
 ب أكمل: البيئة
 ج أجب: لأن الطاقة التي ترسلها الشمس في ساعة تكفي الأرض لمدة عام.

السؤال الخامس:

- ١ اختر: يصدر
 ب أكمل: شباب مصر
 ج أجب: وبعزم ينبع من حب يحكيه بصدق إنسان



السؤال السادس:

- أ استخرج: ١ شمال ٢ نرتدي ٣ مضارع
ب اختر: ١ ظرف زمان ٢ جر
ج ضع: نذهب نحو الإسكندرية.

نموذج ٤

السؤال الأول:

- أ ضع علامة (✓) أو (X): ١ (✓) ٢ (✓)
ب أكمل: يشتري أكبر عدد من مصادر الطاقة التي لا تنفذ.

السؤال الثالث:

- أ استخرج: ١ التطلع ٢ تولد
ب أكمل: ١ لا تنتهي ٢ الشمس والرياح
ج أجب: أواصل العمل بجد وصبر.

السؤال الرابع:

- أ اختر: ١ تظهر ٢ مورد
ب أكمل: الفيضانات
ج أجب: قامت بتوليد الكهرباء من المياه المندفعة منه.

السؤال الخامس:

- أ اختر: تحبه
ب أكمل: مجازي
ج أجب: يدعوننا إلى طلب العلم.

السؤال السادس:

- أ استخرج: ١ مرت الأيام. ٢ مرت ٣ فوق
ب اختر: ١ فاعلاً ٢ ظرف زمان
ج اجعل: عاد المهاجرون بعد شوق كبير إلى الوطن.

نموذج لطلاب الأزهر الشريف

السؤال الثاني:

- أ استخرج: ١ التقنيات ٢ الجهد ٣ الأشخاص
ب ضع علامة (✓) أو (X):
١ (✓) ٢ (X) ٣ (X)

السؤال الثالث:

- أ أكمل:
١ كفى ٢ نصيراً ٣ معروف الرصافي

٢ طلاب العلم

ب اختر: ١ العلم

ج هات:

- ١ كفي بالعلم في الظلمات نورا
٢ الأمور
٣ ستكتسب البلاد بكم علوا

السؤال الرابع:

أ استخرج:

- ١ المعلمون
٢ المدرسة
ب اختر: ١ مؤسسات
ج اجعل:
١ الواو
٢ الضمة
٢ كلاهما صحيح

تساعد المعلمتان الطلاب.

تساعد المعلمات الطلاب.



سلاح التلميز

منذ عام ١٩٦٠



الرياضيات

2024-2025

الصف الرابع الابتدائي
الفصل الدراسي الثاني

اختبارات شهر إبريل

4

(4 درجات)

السؤال الأول اختر الإجابة الصحيحة من بين الإجابات المعطاة:

0.32 0.4 ①

أ > ب < ج = د غير ذلك

② الشكل المقابل يُسمَّى ←

أ شعاعًا ب نقطة ج خطًا مستقيمًا د قطعة مستقيمة

③ الزاوية هي زاوية أكبر من الزاوية القائمة.

أ الحادة ب القائمة ج المنفرجة د غير ذلك

④ عدد خطوط تماثل السهم =

أ 2 ب 3 ج 4 د 0

(6 درجات)

السؤال الثاني أجب عما يلي:

⑤ استخدم المسطرة لرسم زاوية منفرجة

على شبكة النقاط المقابلة.

⑥ أوجد ناتج: $\frac{3}{100} + \frac{7}{10} =$ (في صورة كسر عشري)

⑦ التمثيل البياني المقابل يوضح المادة المفضلة لمجموعة

من الأولاد والبنات:


أ ما المادة التي يفضلها أكبر عدد من الأولاد؟

.....

ب كم عدد البنات اللاتي يفضلن مادة العلوم؟

.....

المادة المفضلة



(4 درجات)

السؤال الأول اختر الإجابة الصحيحة من بين الإجابات المعطاة:

- 1) التمثيل البياني المناسب للمقارنة بين اللون المفضل لدى مجموعة من البنات والبنين هو التمثيل بـ
- أ الأعمدة ب الأعمدة المزدوجة ج النقاط د الصور
- 2) الشكل الرباعي الذي جميع أضلعه متساوية في الطول هو
- أ متوازي الأضلاع ب المستطيل ج المربع د شبه المنحرف
- 3) نوع الزاوية المطابقة:
- أ قائمة ب حادة ج منفرجة د مستقيمة
- 4) أصغر كسر عشري من الكسور التالية هو
- أ 0.5 ب 0.245 ج 0.34 د 0.4

(6 درجات)

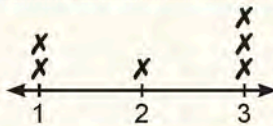
السؤال الثاني أجب عما يلي:

- 5) أكلت منار $\frac{2}{10}$ من الفطيرة، وأكلت ريهام $\frac{2}{100}$ من نفس الفطيرة. إجمالي ما أكلته ريهام ومنار؟

- 6) ارسم خطًا مستقيمًا XY يوازي الخط المستقيم AB

- 7) مخطط التمثيل بالنقاط المقابل يمثل عدد ساعات مذاكرة أحمد في بعض الأيام:

عدد ساعات مذاكرة أحمد



X = يومًا واحدًا

- أ كم عدد الأيام التي ذكرفيها أحمد لمدة ساعة واحدة؟

- ب كم عدد الأيام التي ذكرفيها أحمد لمدة ساعتين أو أكثر؟



(4 درجات)

السؤال الأول اختر الإجابة الصحيحة من بين الإجابات المعطاة:

1 $\frac{7}{10} = \frac{\dots}{100}$

أ 7

ب 700

ج 17

د 70

2 الخطان لا يتقاطعان أبدًا.

أ المتوازيان

ب المتعامدان

ج المتقاطعان

د المنطبقان

3 المربع والمثلث متطيل أشكال هندسية تحتوي على زوايا

أ قائمة

ب حادة

ج منفرجة

د مستقيمة

4 الزاوية الحادة الزاوية القائمة.

أ أكبر من

ب أصغر من

ج تساوي

د غير ذلك

(6 درجات)

السؤال الثاني أجب مما يلي:

5 رتب الكسور العشرية التالية تنازليًا: 0.132 ، 0.31 ، 0.12 ، 0.123

..... ، ، ،

6 ارسم خط تماثل لكل مما يلي، إن وجد.

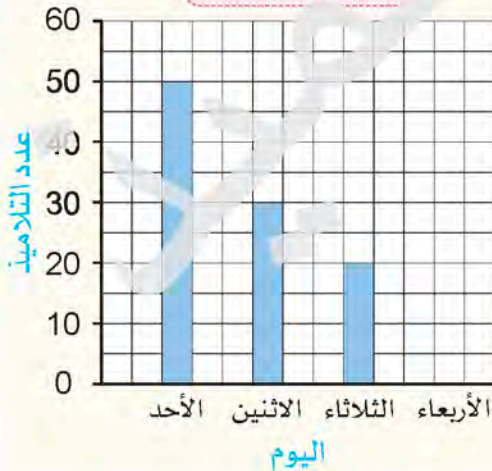
أ



ب



غياب التلاميذ



7 أكمل باستخدام الجدول التالي:

اليوم	عدد التلاميذ
الأحد	50
الاثنين	30
الثلاثاء	20
الأربعاء	60

أ مثل عدد التلاميذ الذين تغيبوا يوم الأربعاء بيانياً.

ب عدد التلاميذ الذين تغيبوا يوم الاثنين = تلميذاً.



(4 درجات)

السؤال الأول اختر الإجابة الصحيحة من بين الإجابات المعطاة:

د $\frac{473}{10}$

ج 47.3

ب 4.73

أ 0.7

2 $\frac{5}{100} + \frac{2}{10} =$

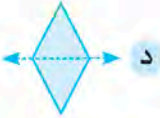
د 5.2

ج 2.5


ب 0.52

أ 0.25

3 الخط المرسوم في كل شكل من الأشكال التالية يمثل خط تماثل، عدا



د



ج



ب



أ

4 الشكل الرباعي الذي به زوج واحد فقط من الأضلاع المتوازية هو

د المعين

ج شبه المنحرف

ب المستطيل

أ المربع


(6 درجات)

السؤال الثاني أجب عدا يلي:

5 رتب الأعداد العشرية التالية تصاعدياً: 12.31 ، 1.3 ، 21.3 ، 2.32

..... ، ، ،

6 اذكر العلاقة بين كل زوج من أزواج الخطوط المستقيمة التالية:



ب



أ

النشاط المفضل

7 باستخدام التمثيل البياني المقابل أكمل الجدول، ثم أجب:



عدد التلاميذ	النشاط
.....	الرسم
.....	الموسيقى
.....	كرة القدم
.....	كرة السلة

• ما الفرق بين عدد التلاميذ الذين يفضلون كرة السلة والذين يفضلون كرة القدم؟





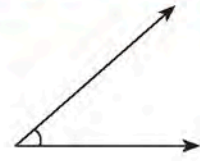
(4 درجات)

السؤال الأول اختر الإجابة الصحيحة من بين الإجابات المعطاة:

- 1 كل مما يلي يمثل بالأعمدة لمجموعة من التلاميذ، عدا.....
- أ الأنشطة المدرسية
ب المادة المفضلة
ج درجات المواد
د مقارنة اللون المفضل لدى البنات والبنين
- 2 المستقيمان يُكوّنان 4 زوايا قائمة.
- أ المتعامدان
ب المتوازيان
ج المتقاطعان
د المتباعدان
- 3 عدد خطوط تماثل المعين =
- أ 1
ب 0
ج 2
د 3
- 4 $\frac{45}{100} = \frac{1}{10} + \dots$
- أ $\frac{3}{10}$
ب $\frac{2}{10}$
ج $\frac{5}{100}$
د $\frac{5}{10}$

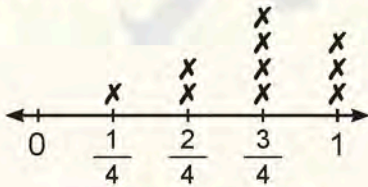
(6 درجات)

السؤال الثاني أجب عما يلي:

- 5 حدّد نوع كل زاوية من الزوايا التالية:
- أ  ج  ب 

6 ارسم خطًا مستقيمًا L M يتقاطع مع الخط المستقيم X Z في النقطة Y

المسافة بين المنزل والمدرسة بالكيلومتر



X = تلميذًا واحدًا

7 باستخدام التمثيل البياني بالنقاط المقابل، أكمل:

- أ المسافة الأكثر تكرارًا هي
- ب عدد التلاميذ الذين يبعد منزلهم 1 كيلومتر عن المدرسة =
- ج عدد التلاميذ الذين يبعد منزلهم 1 كيلومتر عن المدرسة =



سلاح التلميز

منذ عام ١٩٦٠



الرياضيات

2024-2025

الصف الرابع الابتدائي
الفصل الدراسي الثاني

إجابة اختبارات شهر إبريل

4

إجابة اختبار (1)

السؤال الأول

- ① < ② شعاعاً ③ المنفرجة ④ 4

السؤال الثاني

⑤ يسهل الرسم

$$\frac{3}{100} + \frac{7}{10} = \frac{3}{100} + \frac{70}{100} \\ = \frac{73}{100} = 0.73$$

- ⑦ أ اللغة العربية ب 12 بنتاً

إجابة اختبار (2)

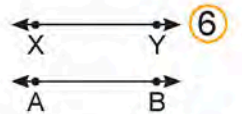
السؤال الأول

- ① الأعمدة المزدوجة ② المربع ③ حادة ④ 0.245

السؤال الثاني

⑤ إجمالي ما أكلته ريهام ومنار = $\frac{22}{100}$ من الفطيرة ؛ لأن: $\frac{2}{100} + \frac{20}{100} = \frac{22}{100}$

(توجد طرق أخرى للرسم)



- ⑦ أ 2 يوم ب 4 أيام



إجابة اختبار (3)

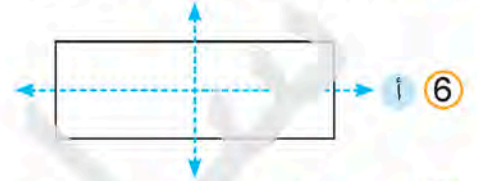
السؤال الأول

- 70 ① المتوازيان ② قائمة ③ أصغر من ④

السؤال الثاني

- 5 ⑤ 0.31 ، 0.132 ، 0.123 ، 0.12

ب ليس له خط تماثل



ب 30

7 ⑦ يسهل الرسم

إجابة اختبار (4)

السؤال الأول

- 4.73 ① 0.25 ② شبه المنحرف ④



3 ③

السؤال الثاني

- 5 ⑤ 1.3 ، 2.32 ، 12.31 ، 21.3

6 ⑥ متقاطعان أ متوازيان ب

النشاط	عدد التلاميذ
الرسم	10
الموسيقى	6
كرة القدم	14
كرة السلة	16

• الفرق بين عدد التلاميذ الذين يفضلون كرة السلة والذين يفضلون كرة القدم = 2 تلميذ ؛ لأن: $16 - 14 = 2$



السؤال الأول

④ $\frac{5}{100}$

③ 2

② المتعامدان

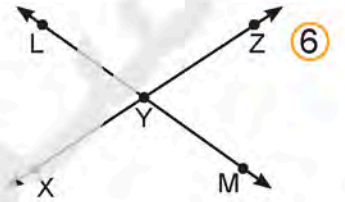
① مقارنة اللون المفضل لدى البنات والبنين

السؤال الثاني

ج زاوية قائمة

ب زاوية منفرجة

⑤ أ زاوية حادة



ب 3

⑦ أ $\frac{3}{4}$ كيلومتر



أشهر وأحب كتب تعليمية ، وأوسعها انتشارًا

Selah El-Telmeez

Since 1960



English Connect

2024-2025

Fourth Primary Second Term

نماذج اختبارات شهر أبريل
طبقًا لآخر مواصفة للورقة الامتحانية

4

Test 1

(A) Listening

نصوص الاستماع بملف الإجابات

1 Listen and circle the correct answer from a, b, c or d:

1. Samy has an account on
a. park b. social media c. school d. club
2. He logged into a library website and created a
a. presentation b. homework c. message d. password
3. Samy tries to be when he is online.
a. careful b. noisy c. nervous d. sad
4. He likes to ideas with his friends.
a. play b. care c. share d. tidy

(B) Reading

2 Choose the correct answer from a, b, c or d:

1. Basbousa is a thin, semolina cake with syrup.
a. salty b. bad c. awful d. sweet
2. You should cross the the road at the
a. crosswalk b. motorbike c. station d. trees

3 Read and complete the text with the words in the box:

players – seeker – eyes – find – music

Hide and seek is a very popular game. One player, called the seeker, closes his or her (1) and counts to ten. The other (2) hide. The seeker tries to (3) them. The first player the seeker finds becomes the next (4) The last one left is the winner.



4 Read the text and answer the questions:

Nancy lives in a big city with her family. There are many cars where she lives. These cars put chemicals in the air and cause air pollution. Nancy thinks it is dangerous because when people breathe polluted air, they cough and feel sick. Nancy shares some ideas with her family to help stop air pollution. She thinks her dad should share a car with a friend to go to work. Her sister Nada should walk to school because it is near her home.

(A) Choose the correct answer from a, b, c or d:

1. The general idea of the text is about pollution.
a. water b. air c. land d. soil
2. The underlined pronoun "they" refers to
a. cars b. chemicals c. people d. ideas

(B) Answer the following questions:

3. What should Nancy's dad do?
.....

4. Why should Nada walk to school?
.....

(C) Writing

5 Read and write the correct form of the word(s) between brackets:

1. You must (**wearing**) a helmet.
2. We go to school (**in**) car.
3. You (**shouldn't**) look left and right to cross the road.
4. She (**push**) the round cheese down the hill yesterday.



6 Punctuate the following:

– dalia is doing her homework about chameleons

7 Write a paragraph of EIGHTEEN (18) words using the following guiding elements:

“Transportation”

(travel – water – bus)

GOOD LUCK



Test 2

(A) Listening

نصوص الاستماع بملف الإجابات

1 Listen and circle the correct answer from a, b, c or d:

- Air pollution is for us.
a. good b. happy c. dangerous d. healthy
- When we breathe polluted air, we and feel sick.
a. sleep b. cough c. laugh d. see
- In, parents don't drive children to school.
a. Egypt b. London c. Italy d. China
- The children walk or to school.
a. sail b. fly c. drive d. cycle

(B) Reading

2 Choose the correct answer from a, b, c or d:

- Social media has pros and
a. coins b. cats c. coats d. cons
- In pass the parcel game, the players sit in a
a. toy b. table c. circle d. picture

3 Read and complete the text with the words in the box:

place – see – change – chameleons – ears

Last week, I did research on chameleons. They are famous for being able to ⁽¹⁾ the color of their skin. They are the same color as the ⁽²⁾ where they are. They have amazing eyes and they can ⁽³⁾ all around. Most ⁽⁴⁾ live in trees.



4 Read the text and answer the questions:

Egypt is a country that's full of culture and history. Egyptian food is amazing, especially ful medames. It's a dish made of beans, cooked slowly and served with lots of olive oil and garlic. If you like sweets, try Basbousa. It is a delicious cake made with semolina and syrup. Most Egyptians are young. Egyptians are known for being helpful and full of energy. They're also hospitable people. Egypt's rich culture and beautiful nature make the country special.

(A) Choose the correct answer from a, b, c or d:

1. The underlined pronoun "It" refers to
a. Basbousa b. ful medames c. garlic d. rice
2. Egyptians are people.
a. unkind b. angry c. tall d. hospitable

(B) Answer the following questions:

3. What is ful medames?
.....

4. Summarize the text in one sentence.
.....

(C) Writing

5 Read and write the correct form of the word(s) between brackets:

1. You (**mustn't**) wear a seat belt.
2. I hurt my ankle. It's very (**pain**).
3. I should (**using**) safe websites.
4. I (**win**) the race last year.



6 Punctuate the following:

- why are you having the party

7 Write a paragraph of EIGHTEEN (18) words using the following guiding elements:

“Social media”

- What can you learn on social media?
- What should you do on social media?
- What shouldn't you do on social media?

GOOD LUCK



Test 3

(A) Listening

نصوص الاستماع بملف الإجابات

1 Listen and circle the correct answer from a, b, c or d:

- Omar started at a new
a. zoo b. school c. park d. class
- Omar had a problem with online
a. shopping b. playing c. bullying d. studying
- Zeyad said that Omar was
a. stupid b. smart c. fast d. nice
- Omar showed his teacher the messages because he felt
a. hungry b. bad c. sad d. happy

(B) Reading

2 Choose the correct answer from a, b, c or d:

- are people who write movies and stories.
a. Players b. Authors c. Workers d. Teachers
- We must wear a in a car.
a. helmet b. sign c. seat belt d. road

3 Read and complete the text with the words in the box:

teach – foot – bus – wake – went

I go to school every day. I ⁽¹⁾ up early in the morning. I go by ⁽²⁾
My friends like to come to school on ⁽³⁾ I meet them to play and study. Our
teachers are kind. They ⁽⁴⁾ us all subjects.



4 Read the text and answer the questions:

Many people say that computer games are bad for children. Children can spend many hours on their computers and tablets. They look at the screen and they don't go outside or do their homework. Parents say this is not healthy for their children. On the other hand, there are some reasons why computer games are good for children. In some games, children need to solve problems. Some computer games need teams, so children make friends and play with their family.

(A) Choose the correct answer from a, b, c or d:

1. The main idea of the text is about
a. friends b. homework c. computer games d. solving problems
2. Children use computers and to play games.
a. teams b. problems c. parents d. tablets

(B) Answer the following questions:

3. What do many people say?
.....

4. Why are some computer games good for children?
.....

(C) Writing

5 Read and write the correct form of the word(s) between brackets:

1. We can go there (by) foot.
2. The players (need to) a wide place to play football.
3. We (should) bully people online.
4. He helps his grandma. He's very (help).



6 Punctuate the following:

– la Tomatina festival is in Spain.

7 Write a paragraph of EIGHTEEN (18) words using the following guiding elements:

“Chinese New Year”

(envelopes – money – number)

GOOD LUCK



Test 4

(A) Listening

نصوص الاستماع بملف الإجابات

1 Listen and circle the correct answer from a, b, c or d:

- Omar saw one of the things.
a. strangest b. biggest c. longest d. happiest
- Omar went to a rolling festival.
a. cookies b. pizza c. cheese d. bottle
- The people pushed a round cheese down the
a. hill b. street c. mountain d. road
- The person who the race, won the cheese.
a. lost b. got c. gave d. won

(B) Reading

2 Choose the correct answer from a, b, c or d:

- I into a library website.
a. logged b. chatted c. created d. made
- When we travel by, we are on the water.
a. train b. plane c. taxi d. ship

3 Read and complete the text with the words in the box:

matter – outside – computer – sad – spend

Hadeer met her neighbor, Rania, at the restaurant. Rania was (1) Hadeer asked, "What's the (2), my friend?" Rania answered, "It's my children, Nancy and Nader. They love playing (3) games. They don't do their homework. They don't go (4) I don't know what to do."



4 Read the text and answer the questions:

I'm Amira. I'm Egyptian. Egypt's nature is beautiful. Many people think that Egypt is only a desert. Egypt is not only a desert. We have green lands. Near the Nile it is green and beautiful. There are mountains in the south and east. It even snows in the Sinai region. Egypt's culture is also rich. We make lots of movies. We won important prizes. We also love sports. Anyone who loves karate knows the famous karate player, Ferial Abdelaziz.

(A) Choose the correct answer from a, b, c or d:

1. Many people think that Egypt is only a/an
a. forest b. river c. desert d. oasis
2. There are in the south and east of Egypt.
a. rivers b. mountains c. lakes d. deserts

(B) Answer the following questions:

3. Where does it snow in Egypt?
.....

4. Summarize the text in one sentence.
.....

(C) Writing

5 Read and write the correct form of the word(s) between brackets:

1. They go to work (on) taxi.
2. You (must) run across the roads.
3. Children need to (looking) left and right.
4. She (fly) her kite two days ago.



6 Punctuate the following:

– Sleem Maged, and ramy go to school on foot.

7 Write a paragraph of EIGHTEEN (18) words using the following guiding elements:

“Hide and seek”

(seeker – players – winner)

GOOD LUCK



Test 5

(A) Listening

نصوص الاستماع بملف الإجابات

1 Listen and circle the correct answer from a, b, c or d:

1. It's important to be online.
a. safe b. dangerous c. bad d. useless
2. You shouldn't give your to anyone who asks.
a. address b. password c. number d. name
3. You share your personal information with anyone.
a. should b. can c. must d. shouldn't
4. You should to be friends only with people you know.
a. share b. go c. accept d. do

(B) Reading

2 Choose the correct answer from a, b, c or d:

1. When I travel by, I go through the air.
a. metro b. taxi c. bus d. plane
2. To is to give food or drink to people.
a. celebrate b. serve c. describe d. catch

3 Read and complete the text with the words in the box:

blue – tomatoes – messy – red – runs

Every year in Spain, there's a special festival called La Tomatina. It's a very (1) day. People come to throw old (2) at each other. Everyone (3) around laughing while throwing tomatoes. Soon, everyone is covered in (4) tomatoes. The streets turn red too. It's all just for fun!



4 Read the text and answer the questions:

I'm Tamer. I go to school on foot. I like walking. If my friend Kamal is not late, he also likes to come on foot so we can meet our friends. My friend Ali goes to school by car. If his father isn't in town, he takes the bus. He likes it because it travels slowly and he can see the city. Hassan never goes to school on foot because his house is far from the school.

(A) Choose the correct answer from a, b, c or d:

1. The pronoun "he" refers to
a. Hassan b. Tamer c. Ali d. father
2. Hassan goes to school on foot.
a. always b. never c. often d. usually

(B) Answer the following questions:

3. How does Tamer go to school?
.....

4. Why does Ali like the bus?
.....

(C) Writing

5 Read and write the correct form of the word(s) between brackets:

1. You must (**follows**) road signs.
2. You shouldn't (**telling**) everyone your phone number.
3. The tool is very (**use**). I use it every day.
4. I (**need**) get up early.



6 Punctuate the following:

– what are you doing, Mona

7 Write a paragraph of EIGHTEEN (18) words using the following guiding elements:

“Egyptian people”

(energy – helpful – hospitable)

GOOD LUCK



أشهر وأحب كتب تعليمية ، وأوسعها انتشاراً

Selah El-Telmeez

Since 1960



**English
Connect**

2024-2025

**Fourth Primary
Second Term**

إجابات نماذج اختبارات شهر أبريل

4

Test 1 Answers

(A) Listening

Listening Script:

Samy is my friend. He has an account on social media. He logged into a library website and created a password to get information. Samy tries to be careful when he is online. He likes to share ideas with his friends.

1 Listen and circle the correct answer from a, b, c or d:

1. (b) 2. (d) 3. (a) 4. (c)

(B) Reading

2 Choose the correct answer from a, b, c or d:

1. (d) 2. (a)

3 Read and complete the text with the words in the box:

1. eyes 2. players 3. find 4. seeker

4 Read the text and answer the questions:

(A) Choose the correct answer from a, b, c or d:

1. (b) 2. (c)

(B) Answer the following questions:

3. Nancy's dad should share a car with a friend to go to work.
4. Because it is near her home.



(C) Writing

5 Read and write the correct form of the word(s) between brackets:

1. wear

2. by

3. should

4. pushed

6 Punctuate the following:

– Dalia is doing her homework about chameleons.

Write a paragraph of EIGHTEEN (18) words using the following guiding elements:

7

– When I travel by ship, I am on the water. When I travel by bus, I am on the road.



Test 2 Answers

(A) Listening

Listening Script:

Air pollution is dangerous for us. When we breathe polluted air, we cough and feel sick. Some cities are trying to stop the air pollution. In London, parents don't drive children to school. The children walk or cycle to school.

1 Listen and circle the correct answer from a, b, c or d:

1. (c) 2. (b) 3. (b) 4. (d)

(B) Reading

2 Choose the correct answer from a, b, c or d:

1. (d) 2. (c)

3 Read and complete the text with the words in the box:

1. change 2. place 3. see 4. chameleons

4 Read the text and answer the questions:

(A) Choose the correct answer from a, b, c or d:

1. (a) 2. (d)

(B) Answer the following questions:

3. Ful medames is a dish made of beans, cooked slowly and served with lots of olive oil and garlic.
4. Egypt is a special country with rich culture, delicious food, and friendly people.



(C) Writing

5 Read and write the correct form of the word(s) between brackets:

1. must

2. painful

3. use

4. won

6 Punctuate the following:

– Why are you having the party?

7 Write a paragraph of EIGHTEEN (18) words using the following guiding elements:

– You can learn interesting things on social media. You should keep your password secret. You shouldn't make new friends online.



Test 3 Answers

(A) Listening

Listening Script:

Omar started at a new school. He had a problem with online bullying. Zeyad was a boy in his class. He sent Omar messages. Zeyad said that Omar was stupid and no one liked him. Omar showed his teacher the messages because he felt sad.

1 Listen and circle the correct answer from a, b, c or d:

1. (b) 2. (c) 3. (a) 4. (c)

(B) Reading

2 Choose the correct answer from a, b, c or d:

1. (b) 2. (c)

3 Read and complete the text with the words in the box:

1. wake 2. bus 3. foot 4. teach

4 Read the text and answer the questions:

(A) Choose the correct answer from a, b, c or d:

1. (c) 2. (d)

(B) Answer the following questions:

3. Many people say that computer games are bad for children.
4. Because in some games, children need to solve problems. Some computer games need teams, so children make friends and play with their families.



(C) Writing

5 Read and write the correct form of the word(s) between brackets:

1. on

2. need

3. shouldn't

4. helpful

6 Punctuate the following:

– La Tomatina festival is in Spain.

7 Write a paragraph of EIGHTEEN (18) words using the following guiding elements:

– Chinese people give envelopes to children. There's money inside them. The amount of money usually has an even number.



Test 4 Answers

(A) Listening

Listening Script:

I'm Omar. Yesterday, I saw one of the strangest things. I went to a cheese rolling festival. The people pushed a round cheese down the hill and hundreds of people ran after it. The person who won the race, won the cheese.

1 Listen and circle the correct answer from a, b, c or d:

1. (a) 2. (c) 3. (a) 4. (d)

(B) Reading

2 Choose the correct answer from a, b, c or d:

1. (a) 2. (d)

3 Read and complete the text with the words in the box:

1. sad 2. matter 3. computer 4. outside

4 Read the text and answer the questions:

(A) Choose the correct answer from a, b, c or d:

1. (c) 2. (b)

(B) Answer the following questions:

3. It snows in the Sinai region.
4. Egypt has beautiful nature and rich culture.



(C) Writing

5 Read and write the correct form of the word(s) between brackets:

1. by

2. mustn't

3. look

4. flew

6 Punctuate the following:

– Sleem, Maged, and Ramy go to school on foot.

Write a paragraph of EIGHTEEN (18) words using the following guiding elements:

7

– The **seeker** closes his eyes and counts to ten. The other **players** hide. The last one left is the **winner**.



Test 5 Answers

(A) Listening

Listening Script:

It's important to be safe online. You shouldn't give your password to anyone who asks. You shouldn't share your personal information with anyone. You shouldn't make new friends online. You should accept to be friends only with people you know.

1 Listen and circle the correct answer from a, b, c or d:

1. (a) 2. (b) 3. (d) 4. (c)

(B) Reading

2 Choose the correct answer from a, b, c or d:

1. (d) 2. (b)

3 Read and complete the text with the words in the box:

1. messy 2. tomatoes 3. runs 4. red

4 Read the text and answer the questions:

(A) Choose the correct answer from a, b, c or d:

1. (c) 2. (b)

(B) Answer the following questions:

3. Tamer goes to school on foot.
4. Because it travels slowly and he can see the city.



(C) Writing

5 Read and write the correct form of the word(s) between brackets:

1. follow

2. tell

3. useful

4. need to

6 Punctuate the following:

– What are you doing, Mona?

7 Write a paragraph of EIGHTEEN (18) words using the following guiding elements:

– Egyptian people are full of energy. They are helpful to each other. They are very friendly and hospitable, too.



سلاح التلميز

منذ عام ١٩٦٠



العلوم

2024-2025

الصف الرابع الابتدائي
الفصل الدراسي الثاني
اختبارات شهر إبريل

4

الاختبار 1

السؤال الأول

أ ضع علامة (✓) أو علامة (X) أمام العبارات التالية:

- () 1 تقل التعرية عندما يزداد تدفق الماء على الصخور.
() 2 التوربينات الهوائية الحديثة أطول من الطواحين الهوائية القديمة.
() 3 ينتج عن تفاعل أكسجين الهواء مع معادن الصخور تجوية كيميائية.

ب أجب عن الأسئلة التالية:

1 علل: يصعب رؤية التجوية وهي تحدث.

2 اذكر اثنين من مصادر الطاقة المتجددة.

السؤال الثاني

أ أكمل العبارة التالية:

• يطلق على الكهرباء الناتجة من طاقة حركة الماء اسم الطاقة

ب أجب عن الأسئلة التالية:

1 تساقطت أمطار غزيرة على الصخور. حدّد نوع التجوية.

2 اذكر أهمية كلٍّ من:

1- المرايا المقعرة

2- الصوبة الزراعية

السؤال الثالث

أ اختر الإجابة الصحيحة:

• العملية الأخيرة التي ينتج عنها تكوّن دلتا نهر النيل هي

د التجوية

ج الترسيب

ب التفتيت

أ التعرية

ب أجب عن الأسئلة التالية:

1 ماذا يحدث عندما تحرك الرياح شفرات التوربينات الهوائية؟

2 ما سبب اختفاء الشكل المقابل بعد بنائه على الشاطئ بعد فترة قصيرة؟



الاختبار 2

السؤال الأول

أ ضع علامة (✓) أو علامة (X) أمام العبارات التالية:

- () 1 يفضل استخدام مصادر الطاقة المتجددة في توليد الكهرباء.
() 2 تخزن الطاقة الكهربائية في البطاريات في صورة طاقة كيميائية.
() 3 تنتقل الصخور المُفتتة من مكانٍ إلى آخر بفعل عملية الترسيب.

ب أجب عن الأسئلة التالية:

1 علل: تسبب التجوية الكيميائية تغيرات في مظاهر السطح أكبر من تلك التي تسببها التجوية الميكانيكية.

2 اذكر اثنين من استخدامات الطاقة الشمسية.

السؤال الثاني

أ أكمل العبارة التالية:

• أثناء سقوط مياه الأنهار على المنحدرات من أعلى لأسفل تتحول طاقة إلى طاقة

ب ماذا يحدث عند؟:

1 توقف هبوب الرياح التي تحمل الرمال.

2 سقوط ضوء الشمس على الألواح الشمسية.

السؤال الثالث

أ اكتب المصطلح العلمي:

• التجوية التي تحدث عندما تنمو جذور الأشجار داخل شقوق الصخور. (.....)

ب أجب عن الأسئلة التالية:

1 اذكر عيوب استخدام طواحين الماء.

2 ما نوع التجوية التي أدت إلى تغيير لون الصخور في الشكل المقابل؟



الاختبار 3

السؤال الأول

أ ضع علامة (✓) أو علامة (X) أمام العبارات التالية:

- () 1 تتسبب الطاقة الشمسية في حركة الهواء وهبوب الرياح على سطح الأرض.
- () 2 تدفع الرياح الخفيفة كميات صغيرة من الرمال لمسافات قصيرة.
- () 3 تُصنع السخانات الشمسية من ألواح مصنوعة من أنابيب بيضاء.

ب علل لما يأتي:

1 يُعتبر الماء من أهم عوامل التجوية الميكانيكية والكيميائية.

2 أهمية بناء السدود على الأنهار.

السؤال الثاني

أ اختر الإجابة الصحيحة:

- انتقال قطع الصخور من مكانٍ إلى مكانٍ آخر على سطح الأرض، يسمى
- أ الترسيب ب التعرية ج التجوية د النحت

ب أجب عن الأسئلة التالية:

1 ما نوع الطاقة التي تخزنها المياه أعلى المنحدرات؟

2 ماذا يحدث عندما يصب النهر الرواسب في قاع البحر؟

السؤال الثالث

أ أكمل العبارة التالية:

- قطع الصخور التي تفتتت، ثم تحركت من مكانٍ إلى آخر، تسمى

ب أجب عن الأسئلة التالية:

1 كيف يمكن الاستفادة من الطاقة الشمسية في زراعة المحاصيل التي تحتاج مناخًا دافئًا؟

2 ما اسم مظهر السطح الموضح بالشكل المقابل؟



الاختبار 4

السؤال الأول

أ ضع علامة (✓) أو علامة (X) أمام العبارات التالية:

- () 1 تعوق السدود تدفق المياه؛ فتقل طاقة وضعها.
- () 2 تحوّل الألواح الشمسية الطاقة الضوئية للشمس إلى طاقة كهربائية.
- () 3 يصدأ الحديد المكوّن للصخور نتيجة حدوث التجوية الكيميائية.

ب أجب عن الأسئلة التالية:

1 ما المقصود بالطاقة المتجددة؟

2 حدّد العامل الرئيسي لتكوين الكثبان الرملية في الصحراء وعلى الشواطئ.

السؤال الثاني

أ أكمل مما بين القوسين:

• تستخدم توربينات الهواء والماء الطاقة لإنتاج الكهرباء. (الضوئية - الحركية)

ب أجب عن الأسئلة التالية:

1 اذكر استخدام السخانات الشمسية.

2 ما العوامل التي قد تتسبب في تكوّن الصخور الساحلية؟

السؤال الثالث


أ اكتب المصطلح العلمي:

• تكسير وتفتيت الصخور إلى قطع صغيرة. (.....)

ب أجب عن الأسئلة التالية:

1 علل: يمكننا الشعور بالدفء ليلاً على الرغم من غياب الشمس.

2 كيف يتكون مظهر السطح الموضح بالشكل المقابل؟



الدلتا



الاختبار 5

السؤال الأول

أ ضع علامة (✓) أو علامة (X) أمام العبارات التالية:

- () 1 تدور التوربينات بفعل الماء المتساقط.
() 2 عملية تجمُّع الرواسب في مكان آخر بعد تعريتها تُعرف بالتجوية.
() 3 يطلق على الطاقة الصادرة من الشمس الطاقة الإشعاعية.

ب علل لما يأتي:

1 تُعتبر الرياح من مصادر الطاقة المتجددة.

2 نمو الأشنيات على الصخور يسبب تكسُّرها وتفتُّتها.

السؤال الثاني

أ اختر الإجابة الصحيحة:

- أيُّ مما يلي يُعتبر مصدر طاقة وعاملاً من عوامل التعرية والتجوية.....
أ الغاز الطبيعي ب الرياح ج الفحم د البنزين

ب أجب عن الأسئلة التالية:

1 ما الفرق بين تأثير التجوية الميكانيكية والكيميائية على طبيعة المواد المكونة للصخور؟

2 مم تتكون الألواح الشمسية؟ وما أهميتها؟

السؤال الثالث

أ اكتب المصطلح العلمي:

- جزءٌ من محطات الطاقة الكهربائية يحوّل الطاقة الحركية إلى طاقة كهربائية.
(.....)

ب أجب عن الأسئلة التالية:

1 تُعتبر الجاذبية عاملاً من عوامل التعرية. وضح ذلك.

2 حدّد وظيفة الشكل المقابل.



سلاح التلميز

منذ عام ١٩٦٠



العلوم

2024-2025

الصف الرابع الابتدائي
الفصل الدراسي الثاني
إجابات اختبارات شهر إبريل

4

1 إجابة الاختبار

السؤال الأول:

- أ 1 X 2 ✓ 3 ✓

ب 1 لأنها تحدث ببطء، وتستغرق فترة زمنية طويلة.

2 الرياح والشمس

السؤال الثاني:

أ الكهرومائية

ب 1 تجوية ميكانيكية

2 1 - تجميع وتركيز حرارة الشمس لطهي الطعام. 2 - زراعة المحاصيل التي تحتاج إلى مناخ دافئ.

السؤال الثالث:

أ (ج)

ب 1 دوران المولدات وتولد طاقة كهربائية.

2 حركة الأمواج التي تسحب رمال القلعة من مكانها إلى مكان آخر.

2 إجابة الاختبار

السؤال الأول:

- أ 1 ✓ 2 ✓ 3 X

ب 1 لأنها ينتج عنها مواد جديدة.

2 طهي الطعام وتسخين الماء (أو أي إجابة أخرى صحيحة مقبولة)

السؤال الثاني:

أ الوضع - حركة

ب 1 تترسب الرمال وتتراكم مكونة كتلاً رملية.

2 تحول الطاقة الضوئية إلى كهربائية.

السؤال الثالث:

أ التجوية الميكانيكية

ب 1 لا تعمل عند جفاف الماء أو في المياه الراكدة. 2 التجوية الكيميائية

3 إجابة الاختبار

السؤال الأول:

- أ 1 ✓ 2 ✓ 3 X

ب 1 لأن اندفاع الماء يسبب تجوية ميكانيكية للصخور، بينما إذابته لمعادنها يسبب تجوية كيميائية.

2 لأنها تُستخدم للتحكم في تدفق المياه لتوليد الكهرباء.



السؤال الثاني:

- أ (ب)
ب 1 طاقة وضع الجاذبية
2 تتكون الدلتا

السؤال الثالث:

- أ الرواسب
ب 1 يمكن ذلك عن طريق الصوبات الزراعية.
2 الكثبان الرملية

4 إجابة الاختبار

السؤال الأول:

- أ 1 X
ب 1 طاقة تتجدد بمعدل أسرع من استهلاكنا لها
2 في الصحراء: الرياح
على الشواطئ: أمواج البحر

السؤال الثاني:

- أ الحركية
ب 1 تسخين المياه
2 الماء والرياح

السؤال الثالث:

- أ التجوية
ب 1 لأن الأرض تمتص طاقة الشمس نهارًا، فترتفع درجة حرارتها، ثم تبعث هذه الحرارة ليلاً.
2 يتكون عندما يصب النهر الرواسب التي يحملها في البحر.

5 إجابة الاختبار

السؤال الأول:

- أ 1 ✓
ب 1 لأنها تتجدد باستمرار بمعدل أسرع من استهلاكها.
2 بسبب الأحماض التي تفرزها.

السؤال الثاني:

- أ (ب)
ب 1 التجوية الميكانيكية لا تُغير طبيعة مواد الصخور، بينما الكيميائية تُغيرها.
2 تتكون من خلايا شمسية صغيرة - توليد الكهرباء

السؤال الثالث:

- أ المولد الكهربائي
ب 1 لأنها تسحب الصخور من جوانب الجبال إلى أسفل.
2 طحن الحبوب



سلاح التلميز

منذ عام ١٩٦٠



الدراسات الاجتماعية

2024-2025

الصف الرابع الابتدائي
الفصل الدراسي الثاني

نماذج اختبارات شهر إبريل

4

الاختبار ١

لاحظ خريطة مصر المقابلة، ثم أجب:

السؤال الأول



- ١ صواب أم خطأ: يشير الرقم (١) إلى أفضل مدينة سلام في العالم. ()
- ٢ يشير الرقم (٢) إلى محافظة تتميز بوجود سياحة ترفيهية وعلاجية معًا وهي
- ٣ يشير الرقم (٣) إلى محافظة تشتهر بالسياحة الثقافية وهي

السؤال الثاني اكتب كلمة (صواب) أمام العبارة الصحيحة، وكلمة (خطأ) أمام العبارة غير الصحيحة:

- ١ طورت الدولة منطقة الغورية في محافظة الجيزة. ()
- ٢ نجح الأخوان رايت في تأسيس شركة مصر للطيران. ()
- ٣ يهدف المونوريل المعلق إلى ربط العديد من المدن المصرية ببعضها. ()
- ٤ يتبع الجهاز المركزي للتعبئة العامة والإحصاء لمجلس الوزراء مباشرة. ()

السؤال الثالث اختر الإجابة الصحيحة مما بين القوسين:

- ١ يقع جامع عمرو بن العاص في حي (مصر القديمة - المطرية - السيدة زينب - المعادي)
- ٢ تقوم الدولة بتطوير مسجد أحمد بن طولون في محافظة (الجيزة - الدقهلية - القاهرة - المنوفية)
- ٣ أرسلت الملكة حتشبسوت رحلات تجارية لجلب البخور من بلاد (العراق - فينيقيا - اليونان - بونت)

السؤال الرابع أكمل العبارات التالية بما يناسبها من كلمات:

- ١ زيارة معرض تراثنا تُعد سياحة
- ٢ تُعد مصر ثاني الدول في مد خطوط السكك الحديدية بعد
- ٣ إذا أردنا نقل منتجات سريعة التلف يُفضل استخدام النقل

السؤال الخامس أجب عما يلي:

- ١ ما العلاقة بين: فلاش الكاميرا - الآثار؟
- ٢ ماذا سيحدث إذا: لم تستخدم مصر التكنولوجيا في التسويق السياحي؟



الاختبار ٢

١٥

السؤال الأول

لاحظ خريطة مصر المقابلة، ثم أجب:



- ١ يشير الرقم (١) إلى محافظة تشتهر بالسياحة الثقافية هي
- ٢ صواب أم خطأ: يشير الرقم (٢) إلى مدينة بها متحف هيئة السكك الحديدية. ()
- ٣ يشير الرقم (٣) إلى ميناء

السؤال الثاني

اكتب كلمة (صواب) أمام العبارة الصحيحة، وكلمة (خطأ) أمام العبارة غير الصحيحة:

- ١ يقع مجمع الأديان بحي مصر القديمة بمحافظة القاهرة. ()
- ٢ تحافظ الدولة على تاريخها الثقافي عن طريق منع تجارة الآثار. ()
- ٣ دخلت أول سيارة إلى مصر في عهد الخديو إسماعيل. ()
- ٤ يزور السياح واحة سيوة من أجل القيام بسياحة دينية. ()

السؤال الثالث

اختر الإجابة الصحيحة مما بين القوسين:

- ١ أي من الجهات التالية تعاونت مع مصر في إنشاء المتحف القومي للحضارة المصرية؟
(اليونسكو - اليونيسف - الجهاز المركزي للمحاسبات - وزارة التربية والتعليم)
- ٢ أحد أنواع النقل ويفضل استخدامه في نقل البضائع الثقيلة
(النقل البري بالسيارات - النقل المائي - النقل الجوي - النقل بالسكك الحديدية)
- ٣ يجب علينا الالتزام بالعديد من الآداب عند زيارة المناطق الأثرية، ومنها
(الكتابة على جدرانها - خدش آثارها - عدم تلوينها - لمس القطع الأثرية)

السؤال الرابع

أكمل العبارات التالية بما يناسبها من كلمات:

- ١ الجهاز المركزي للتعبئة العامة والإحصاء هيئة تابعة بشكل مباشر إلى
- ٢ مترو الأنفاق يربط بين القاهرة وشبرا الخيمة و
- ٣ طورت الدولة مسار العائلة المقدسة بحي

السؤال الخامس

بم تفسر...؟

- ١ إصدار الدولة المصرية قوانين تجرّم الاتجار بالآثار والاعتداء عليها.
- ٢ أهمية العربات الحربية عند المصريين القدماء.



الاختبار ٣

١٥

السؤال الأول

لاحظ خريطة مصر المقابلة، ثم أجب:



- ١ يشير الرقم (١) إلى البحر
- ٢ اختر: يوجد في المحافظة رقم (٢)
- (الجامع الأزهر - حصن بابليون - الكنيسة المعلقة - المسرح الروماني)
- ٣ يشير الرقم (٣) إلى محافظة يمر فيها مترو الأنفاق وهي

السؤال الثاني

اكتب كلمة (صواب) أمام العبارة الصحيحة، وكلمة (خطأ) أمام العبارة غير الصحيحة:

- ١ تُعد السياحة المصدر الثاني للعملة الأجنبية في مصر. ()
- ٢ تُعد مصر للطيران سابع شركة على مستوى العالم في تشغيل الخطوط الجوية. ()
- ٣ تلويث الآثار والتقاط الصور باستخدام فلاش الكاميرا بجوارها يُعد سلوكًا مرفوضًا. ()
- ٤ تهدف منظمة اليونسكو للقضاء على الفقر. ()

السؤال الثالث

اختر الإجابة الصحيحة مما بين القوسين:

- ١ أي مما يلي يُعد من الآثار المصرية التي تعود لفترة الاحتلال الروماني لمصر؟
- (طريق الكباش - تمثال أبو الهول - حصن بابليون - مسجد أحمد بن طولون)
- ٢ أول سيارة دخلت مصر كانت تعمل بطاقة
- (الشمس - الرياح - الكهرباء - البخار)
- ٣ يوجد العديد من الموانئ على البحر الأحمر منها ميناء
- (الإسكندرية - دمياط - سفاجا - بورسعيد)

السؤال الرابع

أكمل العبارات التالية بما يناسبها من كلمات:

- ١ السياحة الترفيهية في الصحاري المصرية تسمى رحلات
- ٢ توجد منطقة الأزهر في محافظة
- ٣ يبدأ القطار الكهربائي السريع من مدينة العين السخنة وينتهي في مدينة

السؤال الخامس

دل على صحة ما يلي:

- ١ اهتمام مصر بالتنمية السياحية.
- ٢ تبذل الدولة المصرية العديد من الجهود للحفاظ على الآثار.



الاختبار ٤

١٥

السؤال الأول للاحظ خريطة مصر المقابلة، ثم أجب:



- ١ صواب أم خطأ: يشير الرقم (١) إلى محافظة يقع بها دير سانت كاترين. ()
 - ٢ يشير الرقم (٢) إلى واحة تشتهر بالسياحة العلاجية هي
 - ٣ اختر: يشير الرقم (٣) إلى ميناء
- (الإسكندرية - بورسعيد - الغردقة - دمياط)

السؤال الثاني اكتب كلمة (صواب) أمام العبارة الصحيحة، وكلمة (خطأ) أمام العبارة غير الصحيحة:

- ١ تم اختيار موقع الأهرامات الثلاثة لتكون بعيدة عن الفيضان. ()
- ٢ الاهتمام بثروة مصر الثقافية واجب وطني. ()
- ٣ عرف المصريون القدماء العربات الحربية مع غزو الرومان. ()
- ٤ الدخل الذي تحققه الأنشطة الاقتصادية في عام واحد يسمى التنمية المستدامة. ()

السؤال الثالث اختر الإجابة الصحيحة مما بين القوسين:

- ١ أحد المباني التاريخية التي يشملها مشروع تطوير القاهرة التاريخية
(برج القاهرة - مسجد أحمد بن طولون - قصر عابدين - المتحف القومي للحضارة المصرية)
- ٢ أقدم محاولة للطيران قام بها
(الحسن بن الهيثم - جابر بن حيان - عمرو بن العاص - عباس بن فرناس)
- ٣ زيارة خان الخليلي تُعدُّ سياحة
(ثقافية - مؤتمرات - علاجية - مهرجانات)

السؤال الرابع أكمل العبارات التالية بما يناسبها من كلمات:

- ١ جاء تصميم برج القاهرة على شكل زهرة
- ٢ أرخص أنواع النقل في مصر هو النقل
- ٣ أرسل الملك سنفرو رحلات تجارية إلى بلاد فينيقيا لجلب أخشاب

السؤال الخامس أجب عما يلي:

- ١ وضح: أهمية منظمة اليونسكو.
- ٢ اكتب نتيجة واحدة ترتبت على: استخدام وسائل النقل المستدام.



الاختبار ٥

السؤال الأول: لاحظ خريطة مصر المقابلة، ثم أجب:



- ١ يشير الرقم (١) إلى البحر
- ٢ يشير الرقم (٢) إلى مدينة تتمتع بالمناظر الخلابة والشعاب المرجانية
- ٣ صواب أم خطأ: يشير الرقم (٣) إلى محافظة يقع بها المعبد اليهودي. ()

السؤال الثاني اكتب كلمة (صواب) أمام العبارة الصحيحة، وكلمة (خطأ) أمام العبارة غير الصحيحة:

- ١ يمكنك أخذ قطعة من الآثار إلى المنزل. ()
- ٢ تم اختراع الماكينات قبل الثورة الصناعية. ()
- ٣ يوجد للجهاز المركزي للتعبئة العامة والإحصاء فروع عديدة على مستوى الجمهورية. ()

السؤال الثالث اختر الإجابة الصحيحة مما بين القوسين:

- ١ تأسس بمصر في عهد الخليفة عمر بن الخطاب (رضي الله عنه) جامع
(محمد علي بالقلعة - الأزهر الشريف - السلطان حسن - عمرو بن العاص)
- ٢ تطوّر المواني البحرية يساعد على ازدهار
(التجارة - الزراعة - الرعي - الصناعة)
- ٣ أيّ من المناطق التالية تُعدّ ضمن مشروع تطوير القاهرة التاريخية؟
(ميت رهينة - سقارة - الدرب الأحمر - شرم الشيخ)
- ٤ إحدى وسائل النقل البري التي تسير على الطرق المرصوفة
(القطارات - الطائرات - مترو الأنفاق - الشاحنات)

السؤال الرابع صوب ما تحته خط فيما يلي:

- ١ عدم الكتابة على الآثار مسئولية الدولة. (.....)
- ٢ شاركت مصر في مؤتمر النقل المستدام في بكين عاصمة الهند. (.....)
- ٣ بُنيت أهرامات الجيزة لاعتقاد المصريين القدماء في الثواب والعقاب. (.....)

السؤال الخامس أجب عما يلي:

- ١ وضح: أهمية وسائل النقل في حياتنا.
- ٢ اكتب مقترحاً: لتنمية السياحة في مصر.



سلاح التلميز

منذ عام ١٩٦٠



الدراسات الاجتماعية

2024-2025

الصف الرابع الابتدائي
الفصل الدراسي الثاني

إجابات نماذج اختبارات شهر إبريل

4

إجابة الاختبار ١

السؤال الأول:

١ خطأ.

٢ جنوب سيناء.

٣ أسوان.

السؤال الثاني:

١ خطأ.

٢ خطأ.

٣ صواب.

٤ خطأ.

السؤال الثالث:

١ مصر القديمة.

٢ القاهرة.

٣ بونت.

السؤال الرابع:

١ مؤتمرات ومهرجانات.

٢ المملكة المتحدة.

٣ الجوي.

السؤال الخامس:

١ يمكن أن يؤثر فلاش (ضوء) الكاميرا سلبياً على بعض القطع الأثرية.

٢ أجب بنفسك.

إجابة الاختبار ٢

السؤال الأول:

١ الأقصر.

٢ صواب.

٣ الإسكندرية.

السؤال الثاني:

١ صواب.

٢ صواب.

٣ خطأ.

٤ خطأ.

السؤال الثالث:

١ اليونسكو.

٢ النقل المائي.

٣ عدم تلوينها.

السؤال الرابع:

١ رئاسة الجمهورية.

٢ الجيزة.

٣ المطرية.



السؤال الخامس:

- ١ نظرًا للقيمة التاريخية والاقتصادية للمناطق الأثرية والسياحية.
- ٢ استخدمها المصريون القدماء في أغراض عديدة، مثل السفر والصيد.

إجابة الاختبار ٣

السؤال الأول:

١ الأحمر.

٢ المسرح الروماني.

٣ القاهرة.

السؤال الثاني:

١ خطأ.

٢ صواب.

٣ صواب.

٤ صواب.

السؤال الثالث:

١ حصن بابلون.

٢ البخار.

٣ سفاجا.

السؤال الرابع:

١ سفاري.

٢ القاهرة.

٣ العلمين الجديدة.

السؤال الخامس:

- ١ إنشاء وتطوير المنشآت السياحية، مثل القرى السياحية والفنادق - صيانة المناطق الأثرية وترميمها - تطوير وسائل النقل والمواصلات - استخدام الأساليب التكنولوجية في التسويق السياحي.
- ٢ أصدرت قوانين تُجرم الاتجار بالآثار والاعتداء عليها - تنظيم عملية البحث والتنقيب عن الآثار والإشراف عليها - صيانة المناطق الأثرية، وتنفيذ عمليات ترميمها بواسطة المتخصصين.

إجابة الاختبار ٤

السؤال الأول:

١ خطأ.

٢ واحة سيوة.

٣ الغردقة.

السؤال الثاني:

١ صواب.

٢ صواب.

٣ خطأ.

٤ خطأ.



السؤال الثالث:

- ١ مسجد أحمد بن طولون. ٢ عباس بن فرناس. ٣ ثقافية.

السؤال الرابع:

- ١ اللوتس. ٢ المائي. ٣ الأرز.

السؤال الخامس:

- ١ تساهم برامج اليونسكو في تحقيق أهداف التنمية المستدامة، حيث تدعو كل دول العالم لتوفير فرص التعليم الجيد لجميع الأفراد، والقضاء على الفقر، والمساواة بين الجنسين، كذلك تبذل عدة جهود للحفاظ على التراث الطبيعي والثقافي واستدامته في ١٦٧ دولة حول العالم.
٢ خفض معدلات تلوث الهواء، وتوفير استخدام الوقود.

إجابة الاختبار ٥

السؤال الأول:

- ١ المتوسط. ٢ شرم الشيخ. ٣ صواب.

السؤال الثاني:

- ١ خطأ. ٢ خطأ. ٣ صواب.

السؤال الثالث:

- ١ عمرو بن العاص. ٢ التجارة. ٣ الدرب الأحمر.

- ٤ الشاحنات.

السؤال الرابع:

- ١ الفرد. ٢ الصين. ٣ البعث والخلود.

السؤال الخامس:

- ١ توفّر الوقت والجهد لانتقال الأفراد والسلع من مكان لآخر - تساعد على التبادل التجاري والتواصل الحضاري بين الدول.
٢ أجب بنفسك.



سلاح التلميز

منذ عام ١٩٦٠



تكنولوجيا
المعلومات
والاتصالات

2024-2025

الصف الرابع الابتدائي
الفصل الدراسي الثاني
نماذج اختبارات شهر إبريل

4

الاختبار 1

السؤال الأول

ضع علامة (✓) أمام العبارة الصحيحة، وعلامة (X) أمام العبارة غير الصحيحة:

- 1) تقسيم المشكلات الكبيرة إلى أجزاء صغيرة يساعد على حلها بسهولة. ()
- 2) يجب أن تكون الصور المستخدمة في الملصقات واضحة وذات جودة عالية. ()
- 3) يمكن استخدام الخوارزميات لحل المسائل الرياضية. ()
- 4) تستخدم البرمجة لإنشاء متاهات إلكترونية. ()
- 5) تُعدّ الممحاة والفرشاة من أدوات برنامج الرسام. ()
- 6) يستخدم برنامج PowerPoint لكتابة النصوص فقط. ()
- 7) يجب أن تعرّض نفسك للخطر عند اختبار فرضيتك. ()

السؤال الثاني

اختر الإجابة الصحيحة من بين الاختيارات التالية:

- 1) يفضل عدم استخدام أكثر من ألوان في الملصق.
أ ثلاثة ب خمسة ج سبعة د تسعة
- 2) تُعتبر الإرشادات إلى مكانٍ ما مثلاً على
أ الخوارزميات ب الأكواد ج الفرضيات د الاحتمالات
- 3) يساعدك موقع في تعلم البرمجة.
أ Facebook ب Code.org ج LinkedIn د Windows
- 4) تستخدم أداة لتلوين الأشكال في برنامج الرسام.
أ الممحاة ب الملء باللون ج الخط المنحني د النصوص
- 5) يُستخدم برنامج PowerPoint في تصميم
أ صفحات الويب ب الأكواد البرمجية ج الصور د العروض التقديمية
- 6) الخطوة الأولى في حل مشكلة ما هي
أ تقسيم المشكلة ب اختبار الفرضية ج بناء فرضية د تحديد القواعد
- 7) مقدار المساحة بين أطراف الملصق ومحتواه يسمى بـ " "
أ المحيط ب النشر ج التصميم د الهامش
- 8) الخوارزمية هي
أ مصدر معلومات ب قاعدة بيانات ج سلسلة من الخطوات د أداة رقمية



الاختبار 2

السؤال الأول

ضع علامة (✓) أمام العبارة الصحيحة، وعلامة (X) أمام العبارة غير الصحيحة:

- 1 () تُستخدم البرمجة لإنشاء ألعاب الفيديو فقط.
- 2 () يُستخدم برنامج الرسام (Paint) لتصميم الرسومات وتحرير الصور.
- 3 () يُستخدم برنامج PowerPoint لتصميم عروض تقديمية.
- 4 () بناء فرضية هو تخمين علمي حول كيفية حدوث الأشياء.
- 5 () الهوامش المناسبة تجعل الملصق أكثر تنظيماً وجاذبية.
- 6 () الخوارزميات تُستخدم على أجهزة الكمبيوتر فقط.
- 7 () البرمجة هي عملية كتابة خوارزميات لإنشاء برنامج كامل.

السؤال الثاني

اختر الإجابة الصحيحة من بين الاختيارات التالية:

- 1 () يحتوي مربع في برنامج الرسام على الأدوات التي تُستخدم لتصميم رسمة.
أ الملفات ب الخصائص ج الأدوات د الألوان
- 2 () تتم إضافة شريحة جديدة من خلال تبويب ".....".
أ File ب Insert ج View د Home
- 3 () إذا لم ينجح اختبار الفرضية يجب أن
أ تتوقف عن المحاولة ب تتعلم من أخطائك ج تعرّض نفسك للخطر د تتجاهل المشكلة
- 4 () يُفضل اختيار هامش بحجم لاستخدامه في الملصق.
أ 5 سم ب 25 ملم ج 10 سم د 100 ملم
- 5 () أجهزة الكمبيوتر وتطبيقاتها تستخدم لأداء مهام محددة.
أ الخوارزميات ب الوصفات ج الخرائط الرقمية د محركات البحث
- 6 () يقوم المخطّط بعرض مشكلة ما على هيئة خطوات منطقية وبسيطة.
أ الانسيابي ب الشبكي ج الدائري د العمودي
- 7 () تستخدم أداة  في برنامج الرسام لـ
أ رسم الأشكال ب قص الصور ج ملء الأشكال د مسح الصورة
- 8 () يُستخدم مفتاح من لوحة المفاتيح لمشاهدة العرض التقديمي.
أ F1 ب F3 ج F5 د F7



الاختبار 3

السؤال الأول

ضع علامة (✓) أمام العبارة الصحيحة، وعلامة (X) أمام العبارة غير الصحيحة:

- 1) عند تنظيم رحلة، يجب أن تحدّد وجهة الرحلة أولاً. ()
- 2) يُفضل استخدام أكثر من ثلاثة ألوان في الملصق لجعله أكثر جاذبية. ()
- 3) تُعتبر وصفة الطعام مثلاً على خوارزمية. ()
- 4) أجهزة الكمبيوتر تستخدم لغة واحدة فقط للبرمجة. ()
- 5) برنامج معالج الكلمات Word لا يوفر أدوات جرافيك. ()
- 6) يفضل إضافة العنوان الرئيسي في الشريحة الأولى من العرض التقديمي. ()
- 7) النجاح في اختبار الفرضية يعني أن الفرضية كانت غير صحيحة. ()

السؤال الثاني

اختر الإجابة الصحيحة من بين الاختيارات التالية:

- 1) يجب اختيار خطوط عند تصميم ملصق.

أ مُعقدة	ب غريبة	ج صغيرة	د بسيطة
----------	---------	---------	---------
- 2) سلسلة من الخطوات تشرح كيفية أداء مهمة ما، هي

أ الخوارزميات	ب التعبيرات	ج المرثيات	د الفرضيات
---------------	-------------	------------	------------
- 3) كتابة خوارزميات متعددة لإنشاء برنامج كامل تُسمى

أ البرمجة	ب الفرضية	ج المخطط الانسيابي	د الشبكات
-----------	-----------	--------------------	-----------
- 4) تستخدم الأداة **T** في برنامج الرسام لـ

أ رسم الأشكال	ب كتابة النص	ج ملء الأشكال	د مسح الصورة
---------------	--------------	---------------	--------------
- 5) يتواجد شريط القوائم في برنامج PowerPoint في الجزء من الشاشة.

أ السفلي	ب العلوي	ج الأيسر	د الأيمن
----------	----------	----------	----------
- 6) تخمين علمي حول كيفية حدوث الأشياء يسمى بـ

أ المحاولة والخطأ	ب التقسيم	ج الفرضية	د المشكلة
-------------------	-----------	-----------	-----------
- 7) يُفضل تجنّب عند تقديم المعلومات في ملصق.

أ الألوان المتناغمة	ب الهوامش	ج الصور ضعيفة الجودة	د الخطوط المناسبة
---------------------	-----------	----------------------	-------------------
- 8) يتم إدخال في محرك البحث.

أ المسائل الرياضية	ب البرامج التطبيقية	ج الكلمات العكسية	د الكلمات المفتاحية
--------------------	---------------------	-------------------	---------------------



ضع علامة (✓) أمام العبارة الصحيحة، وعلامة (X) أمام العبارة غير الصحيحة:

- 1 يساعدك موقع Code.org على تعلم البرمجة. ()
- 2 لا يمكن قص جزء من الصورة باستخدام برنامج الرسام. ()
- 3 يتيح تبويب "تصميم" في برنامج PowerPoint تغيير ألوان خلفية الشرائح. ()
- 4 بناء الفرضية هو الخطوة الأولى لحل المشكلة. ()
- 5 تحديد الأدوات الرقمية المناسبة يساعدك على تقديم المعلومات بشكل أفضل. ()
- 6 خطوات تنظيف الغرفة لا تُعتبر خوارزمية. ()
- 7 يمكن استخدام البرمجة لإنشاء الرسوم المتحركة والأفلام. ()

اختر الإجابة الصحيحة من بين الاختيارات التالية:

- 1 يوفر برنامج Word أدوات لتصميم الجرافيك من خلال تبويب
 أ الصفحة الرئيسية ب إدراج ج تصميم د تخطيط
- 2 صفحة في برنامج PowerPoint تحتوي على النصوص والصور تسمى
 أ الأدوات ب القائمة ج التبويب د الشريحة
- 3 إذا كنت تواجه مشكلة مع لوحة المفاتيح، فيجب لحلها.
 أ بناء فرضية ب اختبار الفرضية ج تقسيم المشكلة د تجاهل المشكلة
- 4 برنامج من برامج Microsoft 365.
 أ Word ب Paint ج Windows د Linux
- 5 يُعد وصولك إلى المدرسة الخطوة في خوارزمية الذهاب إليها.
 أ الأولى ب الثانية ج الثالثة د الأخيرة
- 6 تستخدم البرمجة في
 أ الرسم ب إنشاء الأفلام ج الطهي د كتابة الشعر
- 7 يستخدم برنامج لتصميم الرسومات وتحرير الصور.
 أ فلابي ب ويندوز ج الرسام د ويكي
- 8 تساعد على جعل العرض التقديمي أكثر جاذبية.
 أ النصوص ب الفقرات الطويلة ج البصريات والمؤثرات د الصور المخيفة



الاختبار 5

السؤال الأول

ضع علامة (✓) أمام العبارة الصحيحة، وعلامة (X) أمام العبارة غير الصحيحة:

- 1) الفشل في اختبار الفرضية يساعد على تعلُّم شيء جديد. ()
- 2) الهامش هو المسافة بين أطراف الملصق ومحتواه. ()
- 3) الكلمات المفتاحية الدقيقة تؤدي إلى نتائج غير دقيقة في محركات البحث. ()
- 4) يمكن للمخطط الانسيابي أن يُستخدم في حل مشاكل يومية. ()
- 5) يمكن فتح برنامج الرسام من خلال قائمة "ابدأ". ()
- 6) يجب استخدام الفقرات أو الجمل الطويلة عند تصميم العرض التقديمي. ()
- 7) الفرضية هي تخمين عشوائي لا يساعد على حل المشكلة. ()

السؤال الثاني

اختر الإجابة الصحيحة من بين الاختيارات التالية:

- 1) يجب التأكد من أن الجهاز الرقمي للوصول إلى برامج Microsoft 365 .
أ صغير ب قديم ج كبير د مُحدث
- 2) تحضير المكونات التي ستحتاج إليها لإعداد سانديتش الفلافل هي الخطوة
أ الأولى ب الثانية ج الثالثة د الأخيرة
- 3) البرمجة هي كتابة متعددة لإنشاء برنامج كامل.
أ كتيبات ب فرضيات ج مخططات د خوارزميات
- 4) يحتوي شريط في برنامج الرسام على الاختيارات الخاصة بفتح الملفات.
أ القوائم ب الخصائص ج الأدوات د الألوان
- 5) المؤثرات البصرية التي تستخدم عند الانتقال من شريحة إلى أخرى تسمى
أ الشرائح ب التصميمات ج الانتقالات د مؤثرات الحركة
- 6) تقسيم المشكلات إلى أجزاء صغيرة يساعد على
أ تعقيدها ب حلها ج تجاهلها د زيادتها
- 7) يُعتبر برنامج برنامجًا للنشر المكتبي.
أ Word ب Excel ج Publisher د Paint
- 8) الخوارزميات هي سلسلة من تشرح كيفية أداء مهمة ما.
أ الصور ب الخطوات ج النصوص د مقاطع الفيديو



سلاح التلميذ

منذ عام ١٩٦٠



تكنولوجيا
المعلومات
والاتصالات

2024-2025

الصف الرابع الابتدائي
الفصل الدراسي الثاني
إجابات نماذج اختبارات شهر إبريل

4

1 إجابة الاختبار

✓ 4

✓ 3

✓ 2

✓ 1

✗ 7

✗ 6

✓ 5

السؤال الأول

السؤال الثاني

1 ثلاثة

5 العروض التقديمية

4 الملء باللون

8 سلسلة من الخطوات

3 Code.org

7 الهامش

2 الخوارزميات

6 بناء فرضية

2 إجابة الاختبار

✓ 4

✓ 3

✓ 2

✗ 1

✓ 7

✗ 6

✓ 5

السؤال الأول

السؤال الثاني

1 الأدوات

5 الخوارزميات

4 25 ملم

8 F5

3 تتعلم من أخطائك

7 مسح الصورة

2 Home

6 الانسيابي

3 إجابة الاختبار

✗ 4

✓ 3

✗ 2

✓ 1

✗ 7

✓ 6

✗ 5

السؤال الأول

السؤال الثاني

1 بسيطة

5 العلوي

4 كتابة النص

8 الكلمات المفتاحية

3 البرمجة

7 الصور ضعيفة الجودة

2 الخوارزميات

6 الفرضية



4 إجابة الاختبار

✓ 4

✓ 3

✗ 2

✓ 1

✓ 7

✗ 6

✓ 5

السؤال الأول

السؤال الثاني

Word 4

بناء فرضية 3

الشريعة 2

إدراج 1

البصريات والمؤثرات 8

الرسام 7

إنشاء الأفلام 6

الأخيرة 5

5 إجابة الاختبار

✓ 4

✗ 3

✓ 2

✓ 1

✗ 7

✗ 6

✓ 5

السؤال الأول

السؤال الثاني

القوائم 4

خوارزميات 3

الأولى 2

مُحدث 1

الخطوات 8

Publisher 7

حلها 6

الانتقالات 5



سلاح التلمين

منذ عام ١٩٦٠



المهارات المهنية

2024-2025

الصف الرابع الابتدائي
الفصل الدراسي الثاني

نماذج اختبارات شهر أبريل
طبقاً لآخر مواصفة للورقة الامتحانية

4

الاختبار ١

اختر الإجابة الصحيحة وفقًا يلي:

- ١ الأواني التي لا تتفاعل مع الأطعمة الحمضية هي
أ الألومنيوم ب البلاستيك ج السيليكون د الاستانلس
- ٢ يُستخدم الشاش المعقّم لعلاج
أ الكدمات البسيطة ب الجروح المفتوحة ج الالتواءات د الكسور
- ٣ تساعد النباتات في الحدائق على تنقية البيئة من خلال امتصاص غاز
أ الأكسجين ب النيتروجين ج ثاني أكسيد الكربون د الميثان
- ٤ عند انقطاع الكهرباء يجب
أ فصل الأجهزة ب غلق الباب ج فتح الثلاجة د تشغيل التلفزيون
- ٥ الطعام غير الصحيّ هو الذي يتم طهيه عن طريق
أ الشوي ب القلي ج السلق د البخار
- ٦ يتّبع النّقاشون المحترفون عند الطلاء أسلوب
أ خطوة خطوة ب التنفيذ المباشر ج التجربة والخطأ د العمل السريع
- ٧ شارك الدكتور مجدي يعقوب في إجراء أول جراحة قلب مفتوح على الإطلاق في
أ أمريكا ب الهند ج الصين د نيجيريا
- ٨ لتوفير الطاقة عند غسل الملابس يُفضّل استخدام المياه
أ الساخنة ب الباردة ج الدافئة د المغلية
- ٩ أحد الإرشادات المهمّة عند الطهي هو
أ غسل المكونات ب تجاهل النظافة ج التخزين الفاسد د عدم غسل اليدين
- ١٠ لمعالجة لسعة النحل نستخدم كريمًا لعلاج
أ الحروق ب اللدغات ج الجروح د الالتهابات
- ١١ النباتات التي تنمو لمدة عام فقط تُسمّى نباتات
أ مُعمّرة ب حولية ج دائمة د موسمية
- ١٢ لمنع الحرائق في المطبخ يجب توفير
أ سخان مياه ب رمل جاف ج طفاية حريق د مياه كثيرة
- ١٣ لا يُنصح بتقديم الإسعافات الأولية في حالة
أ الجرح البسيط ب لسعة حشرة ج الخدش البسيط د الكسور الخطيرة
- ١٤ وضع مقابض الأواني بعيدًا عن طرف البوتاجاز يهدف إلى منع
أ طهي الطعام ب الحوادث والحروق ج برودة الطعام د استهلاك الغاز
- ١٥ أثناء طلاء الجدران الداخلية يجب
أ فتح النوافذ ب إغلاق النوافذ ج إغلاق الأبواب د دهن النوافذ



الاختبار ٢

اختر الإجابة الصحيحة مما يلي:

- ١ الكمادات تُستخدم لعلاج
 أ النزيف ب الجروح ج اللدغات د آلام العضلات
- ٢ إضافة شرائح الليمون للطعام عند تقديمه هو نوع من
 أ تزيينه ب تغليفه ج تخزينه د تعليبه
- ٣ يجب التأكد من وضع ساقَي السُّلم أثناء الطلاء على سطح
 أ مائل ب متعرج ج مستو د منحني.
- ٤ يُعتبر مؤسس ورئيس جمعية «سلسلة الأمل» الخيرية التي تهتم بعلاج أمراض القلب للأطفال.
 أ د. أحمد زويل ب د. مجدي يعقوب ج د. محمد أحمد غنيم د نجيب محفوظ
- ٥ الأواني ذات الطلاء غير اللاصق تصبح خطيرة عند
 أ تعرّضها للحرارة ب تخزينها جيداً ج غسلها بالماء د خدش طلائها
- ٦ يجب وضع الخضراوات والدجاج بعد غسلها في
 أ نفس الوعاء ب أي مكان متاح ج أوعية منفصلة د كيس واحد
- ٧ الخطوة الأولى الواجب اتخاذها عند انفجار مواسير المياه هي
 أ تجفيف الأرضية ب غلق مصدر التسريب ج كسر المواسير د فتح الحنفيات
- ٨ النباتات التي تنمو لأكثر من عام تُسمّى نباتات
 أ مُعمّرة ب حولية ج مؤقتة د فصلية
- ٩ يُفضّل تخزين الطلاء في مكان
 أ دافئ ب بارد وجاف ج مشمس د ساخن ومظلم
- ١٠ الأواني البلاستيكية تذوب إذا تركت في
 أ الثلجة ب الماء البارد ج الهواء الطلق د إناء ساخن
- ١١ تثبيت الشاش على الجرح يكون باستخدام
 أ كريم اللدغات ب الرباط الطبيّ ج شريط لاصق جراحي د الكمادات الباردة
- ١٢ لضمان التهوية الجيدة أثناء الطلاء يجب
 أ غلق المروحة ب فتح النوافذ ج إغلاق الأبواب د إغلاق النوافذ
- ١٣ يُعدُّ من الأخطاء التي تحدث عند طهي الخضراوات.
 أ التقليب في المقلاة ب السلق ج الإفراط في الطهي د الشوي
- ١٤ لإخماد حريق الزيت في المطبخ، يُفضّل استخدام
 أ الماء البارد ب بيكربونات الصوديوم ج منشفة مبلّلة د مُعطر الجوّ
- ١٥ للحفاظ على البيئة عند تجفيف الملابس يُفضّل استخدام
 أ المُجفّف الكهربائي ب حبل الغسيل ج المُجفّف الغازي د السخان الكهربائي



الاختبار ٣

اختر الإجابة الصحيحة مما يلي:

- ١ عند البدء بالطهي، يجب التأكد من
 أ إهمال النظافة ب نظافة اليدين ج تشغيل التلفاز د ترك الطعام مكشوفاً
- ٢ عند تسرّب الغاز لا يجب
 أ الاتصال بالطوارئ ب إضاءة المصباح ج مغادرة المنزل د فتح النوافذ
- ٣ الأواني المصنوعة من الفولاذ المقاوم للصدأ تتميز بأنها
 أ خفيفة الوزن ب سريعة التلف ج تجمع البكتيريا د ثقيلة الوزن
- ٤ لإزالة شوكة النحلة من يد المصاب نستخدم
 أ المقص الطبي ب الرباط الطبي ج الكريم المطهر د الملقط الطبي
- ٥ يُعتبر من الأقمشة الصديقة للبيئة.
 أ البوليستر ب النايلون ج القطن د الأكريليك
- ٦ عند حدوث صعقة كهربائية يجب استخدام لفصل الكهرباء.
 أ عصا معدنية ب سلك معدني ج مفك معدني د أداة خشبية
- ٧ إحدى الأدوات التي نحتاجها أثناء عملية الطلاء
 أ بكرة دهان ب مقص ج رباط طبي د كريم طبي
- ٨ عند استخدام الأواني ذات الطلاء غير اللاصق، يجب تجنّب
 أ الحرارة المرتفعة ب الملاعق الخشبية ج غسلها بالماء د خدش الطلاء
- ٩ لتجنّب اندفاع الطاقة الكهربائية عند عودة التيار، يجب
 أ زيادة الاستهلاك ب تشغيل الأجهزة ج فصل الأجهزة د تشغيل المولد
- ١٠ المقص في حقيبة الإسعافات يُستخدم لـ
 أ لصق الضمادات ب قطع الملابس ج تثبيت الرباط د تنظيف الجروح
- ١١ الطبيب الذي أسس أكبر برنامج لزراعة القلب والرئة في العالم هو د.
 أ أحمد زويل ب فاروق الباز ج مصطفى محمود د مجدي يعقوب
- ١٢ أحد إرشادات السلامة بالمطبخ عند استخدام السكين هو توجيهها
 أ بجانب اليد ب فوق الطاولة ج بعيداً عن اليد د نحو البوتاجاز
- ١٣ لتجنّب اندلاع الحريق عند الطلاء يجب تخزين الطلاء في أماكن
 أ حارة ب باردة ج ساخنة د مغلقة
- ١٤ الحدائق للبيئة.
 أ مشنّنة ب مُضرة ج ملوّثة د مفيدة
- ١٥ يُفضّل غسل الدجاج والسّمك
 أ معاً ب بعد الطهي ج لا حاجة للغسل د بشكل منفصل



الاختبار ٤

اختر الإجابة الصحيحة مما يلي:

- ١ يتميز القماش المصنوع من الصوف بأنه
أ غير دافئ ب يتجعد بسهولة ج لا يتجعد بسهولة د خفيف وبارد
- ٢ يجب حماية اليدين عند القيام بعملية الطلاء عن طريق ارتداء
أ نظارات الأمان ب كمامة واقية ج قفازات مطاطية د أحذية جلدية
- ٣ يُفضّل تغطية الجرح المفتوح بـ
أ شاش معقم ب كريم اللدغات ج كمادات ساخنة د ملقط طبيّ
- ٤ تُعتبر عملية الشوي طريقة لطهي اللحوم.
أ بطيئة ب صحيّة ج مُتعبة د غير صحيّة
- ٥ السبب الرئيسي لاندلاع الحرائق في المطبخ هو
أ اشتعال الدهون ب عطل بالثلاجة ج الأبواب المفتوحة د تناول الطعام
- ٦ أواني الطهي المصنوعة من الألومنيوم تتميز بـ
أ متانتها العالية ب سعرها الرخيص ج مقاومتها للحرارة د سهولة التنظيف
- ٧ تم بناء مركز د. مجدي يعقوب العالمي حاليًا في مدينة
أ المنصورة ب القاهرة ج أسوان د الغردقة
- ٨ عند حدوث تسرّب للغاز في المنزل، علينا الاتصال برقم طوارئ
أ الغاز الطبيعي ب الحريق ج الشرطة د الكهرباء
- ٩ يجب وضع مخطط قبل الطلاء من أجل تحديد
أ وقت العمل ب شكل الطلاء ج مساحة الغرف د عدد العمّال
- ١٠ النباتات الحولية تنمو لمدة
أ عام ب ثلاثة أعوام ج شهرين د يومين
- ١١ أحد طرق النظافة الصحيحة في المطبخ هي استخدام
أ لوح تقطيع متسخ ب خضراوات نظيفة ج ماء راكد د مناديل مستخدمة
- ١٢ تتميزّ الملاعق المصنوعة من السيليكون بأنها
أ لا تخدش الأواني ب تجمع البكتيريا ج صلبة ومتينة د يلتصق الطعام بها
- ١٣ يتم تمويل مشروع مركز أسوان للقلب الذي أسسه د. مجدي يعقوب من خلال
أ الشركات الأهلية ب البنك الدولي ج التبرّعات د الاستثمارات الخاصّة
- ١٤ تحتوي حقيبة الإسعافات الأولية على
أ قلم وورقة ب كريم فاسد ج فرشاة أسنان د شاش معقم
- ١٥ يجب معالجة بقع الملابس
أ بعد التخزين ب بعد الغسيل ج قبل الغسيل د بعد الكي



الاختبار ٥

اختر الإجابة الصحيحة مما يلي:

- ١ إذا شممت رائحة غاز بالمنزل يجب عليك
أ مغادرة المنزل ب توصيل الكهرباء ج فتح المياه د فتح الغاز
- ٢ يجب استخدام أدوات لتقطيع الطعام وإعداده.
أ مُتَّسِخَة ب مُخَزَّنَة ج نظيفة د صدئة
- ٣ آلة تجفيف الملابس تستهلك من الطاقة.
أ الكثير ب القليل ج المتوسط د المحدود
- ٤ عند التعامل مع الأطعمة الحمضية يُفَضَّلُ تجنُّب الأواني المصنوعة من
أ السيليكون ب الألومنيوم ج الاستانلس د الزجاج
- ٥ يُعْتَبَرُ أحد طرق الحفاظ على سلامة الأشخاص عند القيام بعملية الطلاء.
أ توصيل الكهرباء ب فتح الغاز ج غلق النوافذ د ارتداء نظارات الأمان
- ٦ قبل البدء في إعداد الطعام يجب
أ فتح النوافذ ب تخزين الطعام ج تنظيف الأسطح د تسخين الفرن
- ٧ يتم استخدام في تطهير الجروح.
أ شريط لاصق ب كريم اللدغات ج الضمادات اللاصقة د الكريم المُطَهِّر
- ٨ للحفاظ على سلامتك عند إشعال البوتاجاز يجب إشعال عود الكبريت من
أ الأسفل ب الأعلى ج قريب د بعيد
- ٩ الهدف الرئيسي لمؤسسة د. مجدي يعقوب هو تقديم العلاج المجاني لمرضى
أ القلب ب العظام ج الكبد د السرطان
- ١٠ يجب غلق البوتاجاز قيد التشغيل عند
أ انقطاع الكهرباء ب الطهي ج تسرُّب المياه د تسرُّب الغاز
- ١١ عند تصميم الحداثق يجب مراعاة أحجام وأنواع
أ الألعاب ب النباتات ج المُعَدَّات د المظلات
- ١٢ يجب التأكد من حالة السلم أثناء الطلاء من أجل
أ الحفاظ على السلامة ب توفير التكلفة ج تجميل الشكل د تسريع عملية الطلاء
- ١٣ رقم طوارئ الغاز الطبيعي هو
أ ١٢٢ ب ١٢٣ ج ١٢٨ د ١٢٩
- ١٤ لا يجب قلي الطعام بالزيت حتى لا يصبح
أ دهنيًا ب بروتينيًا ج ملوثًا د صحيًا
- ١٥ يُسْتخدَم الشاش المعقَّم في الإسعافات الأولية لمعالجة
أ الخدوش الصغيرة ب الكسور الخطيرة ج الجروح المفتوحة. د آلام العضلات



سلاح التلمين

منذ عام ١٩٦٠



المهارات المهنية

2024-2025

الصف الرابع الابتدائي
الفصل الدراسي الثاني
إجابات نماذج اختبارات شهر أبريل

4

١ إجابة الاختبار

- ١ الاستانلس
- ٢ الجروح المفتوحة
- ٣ ثاني أكسيد الكربون
- ٤ فصل الأجهزة
- ٥ القلي
- ٦ خطوة خطوة
- ٧ نيجيريا
- ٨ الباردة
- ٩ غسل المكونات
- ١٠ اللدغات
- ١١ حولية
- ١٢ طفاية حريق
- ١٣ الكسور الخطيرة
- ١٤ الحوادث والحروق
- ١٥ فتح النوافذ

٢ إجابة الاختبار

- ١ آلام العضلات
- ٢ تزيينه
- ٣ مستو
- ٤ د. مجدي يعقوب
- ٥ خدش طلائها
- ٦ أوعية منفصلة
- ٧ غلق مصدر التسريب
- ٨ مُعمرة
- ٩ مكان بارد وجاف
- ١٠ إنشاء ساخن
- ١١ شريط لاصق جراحي
- ١٢ فتح النوافذ
- ١٣ الإفراط في الطهي
- ١٤ بيكربونات الصوديوم
- ١٥ حبل الغسيل

٣ إجابة الاختبار

- ١ نظافة اليدين
- ٢ إضاءة المصباح
- ٣ خفيفة الوزن
- ٤ الملقط الطبّي
- ٥ القطن
- ٦ أداة خشبية
- ٧ بكرة دهان
- ٨ خدش الطلاء
- ٩ فصل الأجهزة
- ١٠ قطع الملابس
- ١١ مجدي يعقوب
- ١٢ بعيداً عن اليد
- ١٣ باردة
- ١٤ مفيدة
- ١٥ بشكل منفصل



٤ إجابة الاختبار

- ١ لا يتجدد بسهولة
- ٢ قفازات مطاطية
- ٣ شاش معقم
- ٤ صحية
- ٥ اشتعال الدهون
- ٦ سعرها الرخيص
- ٧ أسوان
- ٨ الغاز الطبيعي
- ٩ شكل الطلاء
- ١٠ عام
- ١١ خضراوات نظيفة
- ١٢ لا تخدش الأواني
- ١٣ التبرعات
- ١٤ شاش معقم
- ١٥ قبل الغسيل

٥ إجابة الاختبار

- ١ مغادرة المنزل
- ٢ نظيفة
- ٣ الكثير
- ٤ الألومنيوم
- ٥ ارتداء نظارات الأمان
- ٦ تنظيف الأسطح
- ٧ الكريم المطهر
- ٨ بعيد
- ٩ القلب
- ١٠ تسرب الغاز
- ١١ النباتات
- ١٢ الحفاظ على السلامة
- ١٣ ١٢٩
- ١٤ دهنيًا
- ١٥ الجروح المفتوحة



سلاح التلميز

منذ عام ١٩٦٠



التربية الدينية الإسلامية

2025 - 2024

الصف الرابع الابتدائي
الفصل الدراسي الثاني

اختبار شهر أبريل

4

الاختبار 1

أولاً: القرآن الكريم اقرأ قوله (تعالى)، ثم أجب:

- قال (تعالى): ﴿هَلْ أُنْتَكِ حَدِيثُ الْغَاشِيَةِ ۝١ وَجُوهٌ يُؤْمِنُ خَشِيعَةً ۝٢ نَاصِبَةٌ ۝٣ تَصَلَّى نَارًا حَامِيَةً ۝٤ تُسْقَى مِنْ عَيْنٍ ۝٥﴾
- ١ اكتب المحذوف من الآيات الكريمة.
 ٢ ما المقصود بـ ﴿الْغَاشِيَةِ﴾؟
 ٣ من المخاطب في الآية الأولى؟
 ٤ صف حال الكافرين يوم القيامة كما فهمت من الآيات الكريمة
 ٥ اختر: حكم التنوين في ﴿خَلَقَ جَدِيدٍ﴾: (الإخفاء - الإدغام بغنة)

ثانياً: الحديث الشريف اقرأ، ثم أجب:

- قال رسول الله ﷺ: «صلاة الجماعة تفضل صلاة الفذ بسبع وعشرين درجة».
- ١ معنى: (تفضل): (الفذ):
- ٢ ما فضل صلاة الجماعة كما فهمت من الحديث الشريف؟
 ٣ ضع علامة (✓) أمام العبارة الصحيحة، وعلامة (X) أمام العبارة غير الصحيحة:
 ١) يحثنا الحديث الشريف على الحرص على صلاة الجماعة.
 ٢) تؤدي صلاة الجماعة في المسجد فقط.

ثالثاً: العقيدة أجب عما يلي:

- ١ ضع علامة (✓) أو (X) أمام ما يلي:
 • من نعم الله الظاهرة على الإنسان نعمة الأمن والأمان.
 ١) ما ثواب من يسر على معسر؟
 ٢) ما معنى اسم الله (تعالى) الشكور؟
 ٣ أكمل: ١) من صفات العمل المقبول عند الله (تعالى) أن يكون له (تعالى) ومشروعاً.
 ٢) نزلت سورة الغاشية في

رابعاً: العبادات أجب عما يلي:

- ١ اختر الإجابة الصحيحة مما بين القوسين:
 ١) ثاني أركان الإسلام
 ٢) تعطى في أي وقت وبأي مقدار.
 ٢ ضع علامة (✓) أمام العبارة الصحيحة، وعلامة (X) أمام العبارة غير الصحيحة:
 ١) النية محلها القلب.
 ٢) الصلاة في المسجد سبب في مغفرة ذنوب العبد.
 ٣ اذكر واحدة من آداب المسجد.



الاختبار ٢

أولاً: القرآن الكريم اقرأ قوله (تعالى)، ثم أجب:

قال (تعالى): ﴿لَيْسَ لَهُمْ... إِلَّا مِنْ ضَرِيحٍ ٦ لَا يُسْمِنُ وَلَا... مِنْ جُوعٍ ٧ وَجُوهٌ يَوْمَئِذٍ نَاعِمَةٌ ٨ لَسَعِيَهَا ٩ فِي جَنَّةٍ عَالِيَةٍ ١٠﴾.

أ اكتب المحذوف من الآيات الكريمة.

ب ما معنى ﴿ضَرِيحٍ﴾؟

ج صف حال المؤمنين يوم القيامة كما فهمت من الآيات الكريمة

د اختر: حرف الإقلاب في قوله (تعالى): ﴿عَلِمُ بِذَاتِ﴾: (الثاء - الميم - اللام - الباء)

ثانياً: الحديث الشريف اقرأ، ثم أجب:

قال رسول الله ﷺ: «إِنَّمَا جُعِلَ الْإِمَامُ لِيُؤْتَمَّ بِهِ، فَإِذَا كَبَّرَ فَكَبِّرُوا، وَإِذَا قَرَأَ فَأَنْصِتُوا، وَإِذَا قَالِ غَيْرِ... عَلَيْهِمْ وَلَا الضَّالِّينَ فقولوا: آمين، وإذا ركع فاركعوا، وإذا قال: سَمِعَ اللَّهُ لِمَنْ حَمِدَهُ، فقولوا: اللَّهُمَّ رَبَّنَا وَلَكَ الْحَمْدُ، وإذا... فاسجدوا».

أ اكتب المحذوف من الحديث الشريف.

ب ما معنى «لِيُؤْتَمَّ بِهِ»؟

ج ضع علامة (✓) أمام العبارة الصحيحة، وعلامة (X) أمام العبارة غير الصحيحة:

١ يجب على المأموم الإنصات للإمام عند تلاوة القرآن الكريم. ()

٢ يستحب أن يسبق المأموم الإمام في صلاة الجماعة. ()

ثالثاً: العقيدة أجب عما يلي:

أ ضع علامة (✓) أو (X) أمام ما يلي:

• رفع السماء بغير عمد دليل على عظمة خلق الله (تعالى). ()

ب أجب: ١ كيف يكون شكر الله (تعالى)؟

٢ ما أثر الصدقة على أفراد المجتمع؟

ج صوب الخطأ فيما يأتي: ١ نِعَمَ اللهُ (تعالى) على عباده يمكن عداها وحصرها.

٢ الرفق بالحيوان من أسباب دخول النار.

رابعاً: العبادات أجب عما يلي:

أ اختر الإجابة الصحيحة مما بين القوسين:

١ حكم صيام رمضان (مستحب - فرض - مكروه)

٢ من مصارف الزكاة (الفقراء - المساكين - هما معاً)

ب ضع علامة (✓) أمام العبارة الصحيحة، وعلامة (X) أمام العبارة غير الصحيحة:

١ يُباح للمريض الإفطار في رمضان. ()

٢ من آثار الصلاة في المسجد احترام الوقت والحفاظ عليه. ()

ج اذكر واحدة من مبطلات الصوم.



الاختبار ٣

أولاً: القرآن الكريم

اقرأ قوله (تعالى)، ثم أجب:

قال (تعالى): ﴿لَا تَسْمَعُ فِيهَا لَغِيَةً﴾ (١١) فِيهَا..... جَارِيَةً (١٢) فِيهَا سِرٌّ..... وَأَكْوَابٌ مَوْضُوعَةٌ (١٤) وَمَنَارِقٌ (١٥).

أ اكتب المحذوف من الآيات الكريمة.

ب اختر: معنى ﴿مَنَارِقٌ﴾: (بسط - أكواب - وسائل)

ج ما المقصود بقوله (تعالى): ﴿لَا تَسْمَعُ فِيهَا لَغِيَةً﴾؟

د أكمل: حكم التنوين في قوله (تعالى): ﴿عَلِيمٌ قَدِيرٌ﴾:

ثانياً: الحديث الشريف

اقرأ، ثم أجب:

قال رسول الله ﷺ: «مَنْ تَوَضَّأَ لِلصَّلَاةِ فَأَسْبَغَ الوُضُوءَ، ثُمَّ..... إلى الصَّلَاةِ المَكْتُوبَةِ، فَصَلَّاهَا مع.....، أو مع الجَمَاعَةِ، أو في المَسْجِدِ غَفَرَ اللهُ لَهُ ذُنُوبَهُ».

أ اكتب المحذوف من الحديث الشريف.

ب ما المقصود بقوله ﷺ «أسبغ الوضوء»؟

ج ضع علامة (✓) أمام العبارة الصحيحة، وعلامة (X) أمام العبارة غير الصحيحة:

١ المقصود بالصلاة المكتوبة صلاة الجمعة. ()

٢ المواظبة على الصلاة وإتقان الوضوء سبب في مغفرة الذنوب. ()

ثالثاً: العقيدة

أجب عما يلي:

أ ضع علامة (✓) أو (X) أمام ما يلي:

• تقتصر الصدقة على التصدق بالمال فقط. ()

ب أجب: ١ متى لا يستشعر المسلم نعم الله (تعالى) عليه؟

٢ كيف يكون شكر الناس؟

ج صوب الخطأ فيما يأتي: ١ شكر الله (تعالى) بالجوارح يكون باستشعار نعم الله (تعالى) علينا.

٢ العمل الخالص هو الذي يبتغي به العبد رضا الناس.

رابعاً: العبادات

أجب عما يلي:

أ اختر الإجابة الصحيحة مما بين القوسين:

١ من آداب المسجد عدم..... (الكلام - رفع الصوت - السلام على الآخرين)

٢ تبدأ الصلاة بالتكبير وتنتهي ب..... (التشهد - التسليم - السجود)

ب ضع علامة (✓) أمام العبارة الصحيحة، وعلامة (X) أمام العبارة غير الصحيحة:

١ من شرب ناسياً بطل صومه وعليه قضاء. ()

٢ الزكاة هي الركن الثاني من أركان الإسلام. ()

ج ما المقصود بالنصاب؟



الاختبار ٤

أولاً: القرآن الكريم. اقرأ قوله (تعالى)، ثم أجب:

قال (تعالى): ﴿وَزَرَأِي مُبْتُوئَةٌ﴾ (١٦) أفلاً إلى الِإِيلِ كَيْفَ خُلِقَتْ (١٧) وَإِلَى السَّمَاءِ كَيْفَ (١٨) وَإِلَى الْجِبَالِ كَيْفَ نُصِبَتْ

(١٩) وَإِلَى كَيْفَ سَطِحَتْ ﴿٢٠﴾.

أ اكتب المحذوف من الآيات الكريمة.

(بسط - أكواب - وسائد)

ب اختر: معنى ﴿زَرَأِي﴾؟

ج اذكر واحدة من دلائل قدرة الله كما فهمت من الآيات الكريمة.

د اكتب: حُكْمُ النون في قوله (تعالى): ﴿يُنِثُ﴾:

ثانياً: الحديث الشريف. اقرأ، ثم أجب:

قال رسول الله ﷺ: «مَنْ نَسِيَ وَهُوَ صَائِمٌ فَأَكَلَ أَوْ فَلَيْتَمَّ صَوْمُهُ فَإِنَّمَا أَطْعَمَهُ وَسَقَاهُ».

أ اكتب المحذوف من الحديث الشريف.

ب إلام يرشدنا الحديث الشريف؟

ج ضع علامة (✓) أمام العبارة الصحيحة، وعلامة (X) أمام العبارة غير الصحيحة:

()

١ مَنْ تَقِيًّا مَتَعَمِدًا وَهُوَ صَائِمٌ بَطَلَ صَوْمِهِ.

()

٢ يُبَاحُ لِلصَّائِمِ الْاسْتِحْمَامُ فِي نَهَارِ رَمَضَانَ.

ثالثاً: العقيدة. أجب عما يلي:

أ ضع علامة (✓) أو (X) أمام ما يلي:

()

• يظهر على الكافرين علامات النعيم يوم القيامة.

()

ب أجب: ١ ما المقصود بالعمل المشروع؟

()

٢ كيف نشكر الله (تعالى) على نعمه؟ اكتب واحدة فقط.

()

ج أكمل: قال ﷺ: «مَنْ لَمْ يَشْكُرْ لَمْ يَشْكُرْ».

رابعاً: العبادات. أجب عما يلي:

أ اختر الإجابة الصحيحة مما بين القوسين:

(مباحة - واجبة - محرمة)

١ حُكْمُ السباحة في نهار رمضان

(الصلاة - الصوم - الحج)

٢ لأهمية الزكاة قرنت في آيات كثيرة بـ

ب ضع علامة (✓) أمام العبارة الصحيحة، وعلامة (X) أمام العبارة غير الصحيحة:

()

١ المضمضة والاستنشاق يبطلان الصوم.

()

٢ من آداب المسجد الدخول بالقدم اليمنى.

()

ج لمن يباح الفطر في نهار رمضان؟



الاختبار ٥

أولاً: القرآن الكريم

اقرأ الآية الكريمة، ثم أجب:

قال (تعالى): ﴿فَذَكِّرْ إِنَّمَا أَنْتَ مُذَكِّرٌ ۗ لَسْتَ بِمُصَيِّرٍ ۗ إِلَّا مَنْ تَوَلَّىٰ وَكَفَرَ ۗ فَيُعَذِّبُهُ اللَّهُ ۗ أَلَا كَبُرَ ۗ إِنَّ إِيَّانَا يَا لَهُمْ ۗ ثُمَّ إِنَّ عَلَيْنَا ۗ﴾

اكتب المحذوف من الآيات الكريمة.

ضع علامة (✓) أمام العبارة الصحيحة، وعلامة (X) أمام العبارة غير الصحيحة:

أمر الرسول ﷺ في الآيات الكريمة بتبليغ الرسالة. ()

ما المقصود بقوله (تعالى): ﴿إِنَّ إِيَّانَا يَا لَهُمْ ۗ﴾؟

أكمل: الإقلاب هو قلب النون الساكنة أو التنوين عند التقائها بحرف الباب.

ثانياً: الحديث الشريف

اقرأ، ثم أجب:

قال رسول الله ﷺ: «وَمَنْ عَلَىٰ مُعْسِرٍ يَسَّرَ اللَّهُ عَلَيْهِ فِي وَالْآخِرَةَ».

اكتب المحذوف من الحديث الشريف.

اختر: ١) مرادف «يسر الله عليه»: له كل أموره. (عسر - سهل - صعب)

٢) الفقير غير القادر على تحصيل رزقه يسمى (الموسر - المنفق - المعسر)

إلام يرشدنا الحديث الشريف؟

ثالثاً: العقيدة

أجب عما يلي:

ضع علامة (✓) أو (X) أمام ما يلي:

الغاشية من أسماء يوم القيامة؛ لأنها تغطي الناس بأهوالها. ()

أجب: اذكر مظهرين من دلائل قدرة الله (تعالى) في سورة الغاشية.

صوب الخطأ فيما يأتي: ١) الملابس والمسكن من النعم الباطنة.

٢) العمل الذي يوافق ما أمر الله به ورسوله هو العمل الخالص.

رابعاً: العبادات

أجب عما يلي:

اختر الإجابة الصحيحة مما بين القوسين:

١) من أركان الصوم (الاستحمام - المضمضة - النية)

٢) يصلي الغني بجانب الفقير؛ فتتحقق (المساواة - الكراهية - الصدقة)

ضع علامة (✓) أمام العبارة الصحيحة، وعلامة (X) أمام العبارة غير الصحيحة:

١) من أفطر في رمضان بسبب السفر عليه القضاء. ()

٢) عند الخروج من المسجد نقول: «اللهم إني أسألك من فضلك». ()

ماذا يستحب للمسلم عند دخوله المسجد؟



سلاح التلميز

منذ عام ١٩٦٠



التربية
الدينية
الإسلامية

2025 - 2024

الصف الرابع الابتدائي
الفصل الدراسي الثاني

إجابات اختبار شهر أبريل

4

ثانياً: الحديث الشريف

- أ المغضوب - سجد
ب ليتبع.
ج ١ ✓
د ٢ ✗

ثالثاً: العقيدة

- أ ١ ✓
ب ١ يكون باللسان والقلب والجوارح.
ج ٢ تنشر الود والرحمة بين أفراد المجتمع.
د ١ لا يمكن.
هـ ٢ الجنة.

رابعاً: العبادات

- أ ١ فرض.
ب ١ ✓
ج القىء متعمداً.
د ٢ هما معاً.
هـ ٢ ✓

إجابة الاختبار ٣

أولاً: القرآن الكريم

- أ عَيْنٌ - مَرْفُوعَةٌ - مَصْفُوفَةٌ
ب وسائد.
ج أي لا تسمع فيها أذى أو كلاماً غير نافع لا فائدة منه.
د الإخفاء.

ثانياً: الحديث الشريف

- أ مشى - الناس
ب أحسن الوضوء وأعطى كل عضو حقه من الماء.
ج ١ ✗
د ٢ ✓

ثالثاً: العقيدة

- أ ١ ✗
ب ١ عندما يعتاد عليها؛ فلا يشعر بقيمتها إلا إذا زالت.
ج ٢ بالثناء عليهم أو بالكلمة الطيبة والدعاء لهم.
د ١ بالقلب.
هـ ٢ الله (تعالى).

إجابة الاختبار ١

أولاً: القرآن الكريم

- أ عَامِلَةٌ - عَائِنَةٌ.
ب يوم القيامة.
ج الرسول ﷺ.
د وجوههم متعبة، وشرابهم ماء شديد الحرارة، وطعامهم شوك لا يسد جوعهم.
هـ الإخفاء.

ثانياً: الحديث الشريف

- أ أفضل من - الفرد
ب صلاة الجماعة تفضل وتزيد على صلاة الفرد بسبع وعشرين مرة من الثواب.
ج ١ ✓
د ٢ ✗

ثالثاً: العقيدة

- أ ١ ✓
ب ١ يسر الله (تعالى) عليه في الدنيا والآخرة.
ج ٢ هو الذي يتقبل من عباده العمل الخالص المشروع ولو كان قليلاً، ويكافئهم بالكثير من الأجر والحسنات.
د ١ خالصاً.
هـ ٢ مكة.

رابعاً: العبادات

- أ ١ الصلاة.
ب ١ ✓
ج ٢ الصدقة.
د ٢ التزين والتعطر ولبس الثياب النظيفة.

إجابة الاختبار ٢

أولاً: القرآن الكريم

- أ طَعَامٌ - يُغْنِي - رَاضِيَةٌ
ب نبات شجرة له شوك.
ج وجوههم ناعمة مستبشرة، في جنة عالية يرون منها ما أعد الله (تعالى) لهم من النعيم.
د الباء.



رابعًا: العبادات

- أ ١ رفع الصوت. ٢ التسليم.
- ب ١ X ٢
- ج ١ القدر الذي إذا وصل إليه المال وجبت فيه الزكاة.

٤ إجابة الاختبار

أولًا: القرآن الكريم

- أ ١ يَنْظُرُونَ - رُفِعَتْ - الْأَرْضِ
- ب ١ بسط.
- ج ١ خلق الجبال منتصبه ثابتة في الأرض.
- د ١ الإقلاب.

ثانيًا: الحديث الشريف

- أ ١ شرب - الله
- ب ١ أن من أكل أو شرب ناسيًا وهو صائم فلا يبطل ذلك صومه.
- ج ١ X ٢

ثالثًا: العقيدة

- أ ١ X
- ب ١ العمل الذي يوافق ما أمر به الله (تعالى) ورسوله ﷺ.
- ج ١ بأن نسلم بأن ما لدينا من النعم من الله (تعالى).
- د ١ الناس - الله

رابعًا: العبادات

- أ ١ مباحة. ٢ الصلاة.
- ب ١ X ٢
- ج ١ المريض والمسافر.

٥ إجابة الاختبار

أولًا: القرآن الكريم

- أ ١ عَلَيْهِم - الْعَذَابَ - حَسَابُهُمْ
- ب ١

- ج ١ أي إن إلى الله (تعالى) مرجع الكفار عند الموت.
- د ١ ميمًا.

ثانيًا: الحديث الشريف

- أ ١ يسر - الدنيا
- ب ١ سهل. ٢ المعسر.
- ج ١ يرشدنا إلى مساعدة الآخرين؛ حتى يكون الله (تعالى) عونًا وسندًا لنا في تيسير أمور حياتنا.

ثالثًا: العقيدة

- أ ١
- ب ١ خلق الإبل. ٢ رفع السماء بغير أعمدة.
- ج ١ الظاهرة. ٢ المشروع.

رابعًا: العبادات

- أ ١ النية. ٢ المساواة.
- ب ١ ٢
- ج ١ صلاة ركعتي تحية المسجد.

