



النشاط

نماذج اختبارات فبراير

6



نموذج (1) اختبار شهر فبراير



1 | الاستماع - استمع للنص ، ثم ضع علامة (✓) أو علامة (X) : « نص الاستماع في نهاية الاختبارات »

- (أ) التراث المصري يقلل من الدخل القومي .
 (ب) العروض الفنية والمتاحف تنشط السياحة .
 (ج) يسهم التراث المصري في توفير فرص عمل .

2 | التعبير الكتابي :

صف مشهداً عن تلاميذ في رحلة إلى الأهرامات ، مراعيًا الوصف من خلال الحواس الخمس واختيار المفردات والتعبيرات الدقيقة والمناسبة مع إملاء وخط سليمين بعدد كلمات من (٥٠ : ٧٠) كلمة .

3 | اقرأ النص الأدبي الآتي ، ثم أجب :

« تكاد نفسك تكون كالمرأة ، تظهر فيها أخلاق من تصاحب ، وأفكار ما تقرأ ؛ فاختر الطيب من ذلك دائماً ، ويمكنك التعرف إلى حقيقة أخلاقك بالنظر إليها إذا غضبت ، وعليك أن تفعل الخير ، وتلتزم الأخلاق الفاضلة مع الناس ولا تتبعد عن الفطرة التي فطرك الله عليها » .

(أ) تخير الإجابة الصحيحة مما بين القوسين :

- معنى (فطرك) : (أبعدك - رحمك - خلقك - أكرمك)

(ب) ضع علامة (✓) أمام العبارة الصحيحة ، وعلامة (X) أمام العبارة غير الصحيحة :

- ١ - فطر الله الإنسان على الخير .
 ٢ - تظهر أخلاق الإنسان عند الغضب .
 (ج) ١ - كيف تكون نفس الإنسان ؟

٢ - ما هي الأفكار والأخلاق التي يجب أن يلتزم بها الإنسان ؟



• اختبارات شهر فبراير

4 | اقرأ النص المعلوماتي الآتي ، ثم أجب :

« جمال حمدان عالم جغرافي وكاتب معروف بحبه الشديد لوطنه مصر وإخلاصه له ، واهتم بدراسة مصر فكتب عن موقعها بالنسبة إلى العالم وخصائصها الجغرافية والتاريخية وحضارتها ، ألف أكثر من ٢٥ كتاباً وأكثر كتبه شهرة كتابه الرائع « شخصية مصر » ، حصل على العديد من الجوائز ، توفي عام ١٩٩٣ وترك رصيذاً علمياً لا يزال يتعلم منه الكثيرون » .

(أ) تخير الإجابة الصحيحة مما بين القوسين :

- مرادف (العديد) : (الضخم - القليل - الكثير - العظيم)

(ب) ضع علامة (✓) أمام العبارة الصحيحة ، وعلامة (X) أمام العبارة غير الصحيحة :

١ - اهتم جمال حمدان بخصائص مصر الجغرافية . ()

٢ - ألف جمال حمدان عشرة كتب . ()

(ج) بم عرف جمال حمدان ؟

5 | النصوص المتحررة - اقرأ ثم أجب :

نتعلم نبنى الأمجاد

في أي مجال في الدنيا

نتعب في تحصيل العلم

نبذل جهداً وبإحكام

بنجاح يلمع كالنجم

نخطو ، وبنا أعلى ثقة

(أ) مرادف (ثقة) : (شك - يقين - تغيير - تردد)

(ب) مفرد (الأمجاد) : (المجيد - المجد - الماجد - الأمجد)

(ج) بم شبه الشاعر النجاح في البيت الأخير ؟

6 | القواعد النحوية :

(أ) تخير الإجابة الصحيحة لما يلي :

١ - بات المصنعان (فارغان - فارغون - فارغين)

٢ - إنك رحمة . (ذو - ذا - ذي)

(ب) ١ - صوّب الخطأ : « هما صانعان الأجيال » .

٢ - أكمل بخبر جملة اسمية : مصر

(ج) بين الموقع الإعرابي لما تحته خط : « صنعت كعكتين » .

7 | الخط - اكتب بخط الرقعة :

ليس العلم ما حفظ وإنما ما نفع .

8 | الإملاء - تخير الصواب :

(أ) تشقشق العصافير

(ب) لماذا تقرأ

(ج) العلم سلاح الإنسان

(صباحًا - صباحن - صباحون)

(. - ، - ؟)

(، - . - !)

• اختبارات شهر فبراير

(أ) تخير الإجابة الصحيحة مما بين القوسين :

- مرادف (يُثري) : (يكثر وينمي - يبعد - ينهي - يقلل)

(ب) ضع علامة (✓) أمام العبارة الصحيحة ، وعلامة (X) أمام العبارة غير الصحيحة :

١ - يقضي العلماء حياتهم في البحث والتجريب . ()

٢ - لم يستطع « يوري جاجارين » الذهاب إلى الفضاء . ()

(ج) ١ - ماذا شغل عقل الإنسان ؟

٢ - بم ميز الله الإنسان ؟

٤ | اقرأ النص المعلوماتي الآتي ، ثم أجب :

« يمثل التراث النوبي جزءاً أصيلاً من مكونات الهوية المصرية وامتداداً للحضارة المصرية القديمة ، ويحتفل سكان النوبة يوم ٧ يوليو من كل عام باليوم العالمي للنوبة لإحياء التراث والحضارة النوبية ، حيث تقام الاحتفالات والمهرجانات التي يرتدي فيها السكان الملابس المحلية ويرددون الأغاني التراثية النوبية ، وقد أنشأت منظمة اليونسكو متحف النوبة في أسوان عام ١٩٩٧ لعرض التاريخ والحضارة النوبية العريقة » .

(أ) تخير الإجابة الصحيحة مما بين القوسين :

- مرادف (العريقة) : (الكبيرة - الأصيلة - البديعة - العامرة)

(ب) ضع علامة (✓) أمام العبارة الصحيحة ، وعلامة (X) أمام العبارة غير الصحيحة :

١ - يحتفل سكان النوبة يوم ٢٧ يوليو من كل عام باليوم العالمي للنوبة . ()

٢ - التراث النوبي جزء من الحضارة المصرية القديمة . ()

(ج) لماذا أنشأت منظمة اليونسكو متحف النوبة ؟

٥ | النصوص المتحررة - اقرأ ثم أجب :

فلا يكن بك إعراض وإملال
عذب الشراب وصافي الماء سلسال
حتى يساعده قول وأفعال

وإن أتاك أخ للعلم مقتبساً
العلم أوله مر وآخره
العلم لا يهتدي للنفع حامله

(أ) مرادف (إملال) : (ضيق - فرح - انشغال - كره)

(ب) مضاد (يساعده) : (يعاونه - يباعده - يخذله - يعاتبه)

(ج) بين كلمتي « مر - عذب » : ، غرضه :

٦ | القواعد النحوية :

(أ) تخير الإجابة الصحيحة لما يلي :

- ١ - ليتك أدب .
 (ذو - ذي - ذا)
- ٢ - أقدر صاحب الخلق . الضمير المستتر هنا تقديره :
 (هو - أنت - أنا)
- (ب) ١ - صوّب الخطأ : « إن المسافرين عائدون » .
 ٢ - أكمل بخبر شبه جملة : المعلم
- (ج) ١ - ثن الجملة الآتية : « هو يحب أسرته » .
 ٢ - بيّن الموقع الإعرابي لما تحته خط : « ظل القمر منيراً » .

٧ | الخط - اكتب بخط الرقعة :

بِالْعِلْمِ وَالْأَخْلَاقِ تَرْفَعُ الْأُمَمُ .

٨ | الإملاء - تخير الصواب :

- (أ) يا طالب العلم اجتهد .
 (؛ - ، - :)
- (ب) ما أنفع العلم
 (؟ - - : - !)
- (ج) ظلت السماء
 (صافيتين - صافيةً - صافياتن)

الشاطر

الإجابات

نموذج (2) اختبار شهر فبراير

- (1): (أ) X (ب) ✓ (ج) ✓
 ■ (2): أجب بنفسك .
 ■ (3): (أ) يكثر وينمي (ب) ١ - ✓ ٢ - X
 (ج) ١ - الفضاء الخارجي ٢ - بالعقل
 ■ (4): (أ) الأصيلة (ب) ١ - X ٢ - ✓
 (ج) لعرض التاريخ والحضارة النوبية .
 ■ (5): (أ) ضيق (ب) يخذله
 (ج) تضاد ، يقوي المعنى ويوضحه
 ■ (6): (أ) ١ - ذو ٢ - أنا
 (ب) ١ - إن المسافرين عائدون ٢ - في الفصل
 (ج) ١ - هما يحبان أسرتهما .
 ٢ - خبر ظل منصوب وعلامة نصبه الفتحة ؛ لأنه مفرد .
 ■ (7): أجب بنفسك .
 ■ (8): (أ) ، (ب) ! (ج) صافية

نموذج (1) اختبار شهر فبراير

- (1): (أ) X (ب) ✓ (ج) ✓
 ■ (2): أجب بنفسك .
 ■ (3): (أ) خلقك (ب) ١ - ✓ ٢ - ✓
 (ج) ١ - كالمراة تظهر فيها أخلاق من تصاحب وأفكار
 ما تقرأ
 ٢ - الأفكار الطيبة والأخلاق الفاضلة
 ■ (4): (أ) الكثير (ب) ١ - ✓ ٢ - X
 (ج) عُرِف بحبه الشديد لوطنه مصر وإخلاصه له .
 ■ (5): (أ) يقين (ب) المجد (ج) كالنجم يلمع
 ■ (6): (أ) ١ - فارغين ٢ - ذو
 (ب) ١ - هما صانعا الأجيال ٢ - شهرتها واسعة
 (ج) مفعول به منصوب وعلامة نصبه الياء ؛ لأنه مثنى .
 ■ (7): أجب بنفسك .
 ■ (8): (أ) صباحًا (ب) ؟ (ج) .

الشارط

Model Test (1)



A. Listening

(نص الاستماع بنهاية الاختبار)

1 Listen and circle the correct answer from a, b, c, or d.

- The Egyptian museum is one of the most museums.
a) dangerous b) famous c) beautiful d) expensive
- The Egyptian Museum is in
a) Aswan b) Luxor c) Alexandria d) Cairo
- There are hundreds of and statues.
a) artists b) metals c) artifacts d) crops
- from all over the world come to the museum.
a) Farmers b) Doctors c) Nurses d) Tourists

B. Reading

2 Choose the correct answer from a, b, c or d.

- I my mom. It means I love her very much.
a) adore b) preserve c) dislike d) teach
- are used for fighting and hunting animals.
a) Objects b) Weapons c) Tears d) Shoes
- There are many Ancient Egyptian to see in the museum.
a) kings b) tombs c) metals d) artifacts

3 Read and complete the text with the words in the box.

foot – chin – mask – gold

One of the most beautiful artifacts from Ancient Egypt is Tutankhamun's (1)....., which was found in his tomb. This mask is (2)....., with blue lines between gold lines. Under his (3)..... is a thin beard. There is also a snake on the top of his head.



4 Read the text and answer the questions. اقرأ النص وأجب عن الأسئلة.

Last summer, we went to the Egyptian Museum in Cairo. We arrived there at 9 o'clock just while it was opening. There were so many interesting artifacts to see. My brother and I walked around and listened to the guide who gave important information about the artifacts there. We saw a room that had lots of animal statues. The Ancient Egyptians made lots of animal statues, because animals were very important in their culture. My favorite was a small snake made of metal. My brother liked a gold falcon with blue eyes. There were lots of cats made of brightly colored stone, too. The Ancient Egyptians adored cats. They believed that cats kept them safe.

A) Choose the correct answer from a, b, c or d. اختر الإجابة الصحيحة.

- The helped them to get information about the artifacts.
a) teacher b) brother c) guide d) doctor
- The underlined word "adored" means
a) disliked very much b) liked very much
c) cooked and ate d) hated and killed

B) Answer the following questions. أجب عن الأسئلة الآتية.

- What time does the Egyptian Museum open?
.....
- Why did the Ancient Egyptians adore cats?
.....
- Write four things that you can see at the Egyptian Museum.
.....

C. Writing

5 Put the words in the correct order to make sentences.

ضع الكلمات في الترتيب الصحيح لتكوّن جملاً صحيحة .

1. Egypt – popular – in – Cats – pets – today – are.

.....

2. precious – and – Gold – metals – are – silver.

.....

6 Read and write the correct form of the word(s) between brackets.

اقرأ واكتب الصيغة الصحيحة للكلمات بين القوسين .

1. The ibis (represents) wisdom in Ancient Egypt.

2. There is a library in front (to) the school.

7 Punctuate the following.

ضع علامات الترقيم المناسبة .

1. what did they feed their cats

.....

2. The Ancient Egyptians liked animals

.....

8 Write a paragraph of FIFTY (50) words using the following guiding elements:

اكتب فقرة مكونة من خمسين (٥٠) كلمة باستخدام العناصر الآتية :

‘Your visit to the Egyptian Museum’

- school trip – Friday
- many artifacts & statues – guides help

Listening Script

One of the most famous museums in the world is the Egyptian Museum. It is in Tahrir Square in Cairo. There are hundreds of artifacts and statues of the Ancient Egyptians. There are also gold and jewelry. Tourists from all over the world come to see this museum.



Model Test (2)



A. Listening

(نص الاستماع بنهاية الاختبار)

1 Listen and circle the correct answer from a, b, c or d.

- The game needs a wide
a) chair b) place c) room d) car
- The seeker closes his/her eyes and counts to
a) one b) five c) ten d) seven
- The player the seeker finds becomes the next seeker.
a) last b) first c) second d) third
- The last one left is the
a) winner b) loser c) seeker d) player

B. Reading

2 Choose the correct answer from a, b, c or d.

- You can go quite fast on
a) shoes b) hopscotch c) rollerblades d) marbles
- I like making up games for my figures.
a) action b) cuddly c) skipping d) hiding
- is a board game.
a) Drought b) Skateboarding c) Skipping d) Draughts

3 Read and complete the text with the words in the box.

baking – figures – games – making

When Amira was little, she had many toys. She really liked (1)..... that used a lot of imagination. She was good at (2)..... up stories. She had a doll's house. She also had some cuddly toys and some action (3)..... .

C. Writing

5 Put the words in the correct order to make sentences.

1. didn't – Asser – train – at all – like – sets.

.....

2. games – like – board – I – really – playing.

.....

6 Read and write the correct form of the word(s) between brackets.

1. This book is not funny at (quite) .

2. I enjoy (to look) at the market stalls.

7 Punctuate the following.

1. how often do you play video games

.....

2. She s quite good at hide and seek

.....

8 Write an email of FIFTY (50) words to your friend Ehab using the following guiding elements:

'Your favorite video game'

- only on the weekend
- where you build cities – creative

[Your name is Abdallah.]

Listening Script

“Hide and seek” is a very old and popular game. Many players can join in this exciting game. All you need is a wide place to play it. How to play: One player, called the seeker, closes his/her eyes and counts to ten. The other players hide. The seeker tries to find them. The first player the seeker finds becomes the next seeker. The last one left is the winner.

نموذج (1) اختبار شهر فبراير



أولاً : اختر الإجابة الصحيحة من بين الإجابات المُعطاة :

- 1 $\frac{1}{5} \div 2 = \dots\dots\dots$ أ $\frac{2}{5}$ ب $2\frac{1}{2}$ ج 0.1 د 0.01
- 2 $12 \div \frac{3}{4} = \dots\dots\dots$ أ 16 ب 1.6 ج 0.16 د 9
- 3 $\frac{15}{16} \div \frac{5}{8} = \dots\dots\dots$ أ $\frac{2}{3}$ ب 1.5 ج $1\frac{1}{4}$ د لا شيء مما سبق
- 4 $4.8 \div 0.8$ $48 \div 8$ أ > ب < ج = د غير ذلك
- 5 $35.6 \times \dots\dots\dots = 3.56$ أ 1 ب 0.1 ج 0.01 د 0.001
- 6 $3\frac{1}{2} \times \dots\dots\dots = 1$ أ $2\frac{1}{3}$ ب $\frac{1}{2}$ ج 7 د $\frac{2}{7}$
- 7 $7 \div \frac{1}{7}$ 7×7 أ < ب > ج = د غير ذلك
- 8 عدد المجموعات المتساوية من $\frac{1}{5}$ في الكسر $\frac{16}{20}$ يساوي أ 1 ب 2 ج 3 د 4

ثانياً : أكمل ما يأتي :

- 1 مقلوب العدد $\frac{2}{3}$ هو 1
- 2 $\frac{3}{4} \div 3 = \dots\dots\dots$ 2
- 3 $6 \div \frac{1}{3} = \dots\dots\dots$ 3
- 4 $1.2 \times 1.2 = \dots\dots\dots$ 4
- 5 إذا كان : $\frac{1}{3} X = 7$ ، فإن : $X = \dots\dots\dots$ 5
- 6 $3.2 \div 0.04 = \dots\dots\dots$ 6
- 7 إذا كان : $n = 3.6 \div \frac{1}{3}$ ، فإن : $n = \dots\dots\dots$ 7

ثالثًا : اختر الإجابة الصحيحة من بين الإجابات المُعطاة :

- 1 إذا كان : $25 \times 31 = 775$ ، فإن : $0.25 \times 3.1 = \dots\dots\dots$
- أ 0.775 ب 7.75 ج 77.5 د 775
- 2 $4.2 \times 5.3 = \dots\dots\dots$
- أ 22.26 ب 26.22 ج 20.06 د 21.7
- 3 $\frac{1}{2}$ من العدد 24 = $\dots\dots\dots$
- أ 3 ب 2 ج 8 د 12
- 4 $3.75 \div 0.125 = \dots\dots\dots$
- أ 0.3 ب 3 ج 30 د 300
- 5 إذا كان : $325 \div 13 = 25$ ، فإن : $3.25 \div 1.3 = \dots\dots\dots$
- أ 2.5 ب 0.25 ج 25 د 0.025
- 6 إذا كان : $126 \div 15 = 8.4$ ، فإن : $12.6 \div 0.84 = \dots\dots\dots$
- أ 0.15 ب 1.5 ج 15 د 150
- 7 $2.4 \times 1.7 = \dots\dots\dots$
- أ 4.8 ب 4.08 ج 48 د 0.48

رابعًا : أجب عمّا يأتي :

1 زجاجة سعتها 0.64 لتر ، وزعت بالتساوي على عبوات سعة العبوة الواحدة 0.08 لتر ، احسب عدد العبوات .

2 إذا قسّم 16 كيلو جرامًا من الفراولة على أطباق بالتساوي بوضع $\frac{4}{5}$ كيلو جرام بكل طبق ، فأوجد عدد الأطباق .

3 مستطيل مساحته 25.2 سم² ، وعرضه 3.6 سم ، أوجد طوله .

4 اكتب الكسر العشري الذي يكافئ عملية الضرب الآتية : 2.7×0.05



نموذج (2) اختبار شهر فبراير



أولاً : اختر الإجابة الصحيحة من بين الإجابات المُعطاة :

1 إذا كان : $\frac{5}{9} = \frac{15}{n}$ ، فإن : $n = \dots\dots\dots$

- أ 3 ب 5 ج 15 د 27

2 النسبة 5 : 25 تكافئ النسبة

- أ 6 : 1 ب 5 : 1 ج 4 : 1 د 3 : 1

3 إذا كان : $\frac{2}{5}$ ، $\frac{A}{20}$ نسبتين متكافئتين ، فإن : $A = \dots\dots\dots$

- أ 17 ب 6 ج 4 د 8

4 النسبة 3 : 4 تكافئ النسبة 12 :

- أ 8 ب 12 ج 16 د 9

5 إذا كانت النسبة 3 : 2 تكافئ النسبة 24 : a ، فإن : $a = \dots\dots\dots$

- أ 10 ب 12 ج 15 د 16

6 إذا كان : $\frac{10}{15} = \frac{B}{3}$ ، فإن : $7B = \dots\dots\dots$

- أ 14 ب 9 ج 2 د 5

7 فصل دراسي النسبة بين عدد البنات إلى عدد البنين 3 : 4 ، فإذا كان عدد تلاميذ الفصل 42 تلميذاً

فإن : عدد البنات = بنتاً .

- أ 18 ب 24 ج 16 د 26

ثانياً : 1 أكمل ما يأتي :

أ 8 ساعات إلى $\frac{1}{2}$ يوم = إلى (في أبسط صورة)

ب إذا كان : $\frac{2}{7} = \frac{c}{21}$ ، فإن : $c = \dots\dots\dots$

2 أكمل جدول التناسب التالي ، ثم اكتب بعض صور التناسب :

.....	15	6	3
28	12	4

بعض صور التناسب : $\frac{3}{4} = \frac{\dots}{\dots} = \frac{\dots}{\dots} = \frac{\dots}{\dots} = \frac{\dots}{\dots}$

ثالثًا: اختر الإجابة الصحيحة من بين الإجابات المُعطاة:

1 النسبة 9 : 7 تكافئ النسبة

أ 27 : 21 ب 21 : 27 ج 7 : 9 د 16 : 7

2 النسبة 70 : 35 تكافئ النسبة

أ 65 : 30 ب 10 : 7 ج 1 : 2 د 2 : 1

3 أي من النسب الآتية تكافئ 5 : 4 ؟

أ 10 : 8 ب 15 : 12 ج 35 : 28 د جميع ما سبق

4 النسبة 7 : 6 تكافئ النسبة 49 :

أ 24 ب 42 ج 48 د 30

5 النسبة التي تكافئ نسبة حدها الأول 5 وحدها الثاني يزيد عن حدها الأول بمقدار 2 هي

أ $\frac{10}{14}$ ب $\frac{40}{56}$ ج $\frac{15}{21}$ د جميع ما سبق

6 النسبة التي تكافئ نسبة حدها الثاني 9 وحدها الأول ينقص عن حدها الثاني بمقدار 5 هي

أ $\frac{8}{18}$ ب $\frac{12}{27}$ ج $\frac{20}{45}$ د جميع ما سبق

رابعًا: أجب عما يأتي:

أ قارن باستخدام (=) أو (\neq) لتحدد ما إذا كانت النسبتان متكافئتين أم لا:

أ $\frac{28}{35}$ ○ $\frac{16}{20}$

ب $\frac{5}{8}$ ○ 0.75

ج $\frac{66}{88}$ ○ $\frac{5}{6}$

ب من المخططات الشريطية التالية، أكمل ما يأتي:



أ : أ + ب = :

أ : ب = :



أ - ب : ب = :

أ : ب = :



الإجابات

نموذج (2) اختبار شهر فبراير

أولاً: 1 (د) 2 (ب)

3 (د) 4 (ج)

5 (د) 6 (أ)

7 (ب)

ثانياً: 1 (أ) 2 (ب) $3:2 = \frac{8}{12}$ 3 (ب) $c = 6$

21	15	9	6
28	20	12	8

$$\frac{3}{4} = \frac{6}{8} = \frac{9}{12} = \frac{15}{20} = \frac{21}{28}$$

ثالثاً: 1 (ب) 2 (د)

3 (د) 4 (ب)

5 (د) 6 (د)

رابعاً: 1 (أ) 2 (ب) 3 (ج) 4 (د) $a =$ $b \neq$ $c \neq$ 1 (أ) 2 (ب) $a : b = 3 : 7$ 3 (ب) $a : a + b = 3 : 10$ 4 (أ) 5 (ب) $a : b = 9 : 5$ 6 (ب) $a - b : b = 4 : 5$

نموذج (1) اختبار شهر فبراير

أولاً: 1 (ج) 2 (أ)

3 (ب) 4 (ج)

5 (ب) 6 (د)

7 (ج) 8 (د)

ثانياً: 1 (أ) 2 (ب) $\frac{3}{2}$

3 (ب) 4 (ج) 1.44

5 (ب) 6 (د) 80

7 (ب) $X = 21$ $n = 10.8$

ثالثاً: 1 (أ) 2 (أ)

3 (د) 4 (ج)

5 (أ) 6 (ج)

7 (ب)

رابعاً: 1 عدد العبوات = 8 عبوات .

(لأن : $0.64 \div 0.08 = 8$)

2 عدد الأطباق = 20 طبقاً .

(لأن : $16 \div \frac{4}{5} = 20$)

3 طول المستطيل = 7 سم .

(لأن : $25.2 \div 3.6 = 7$)

4 0.135

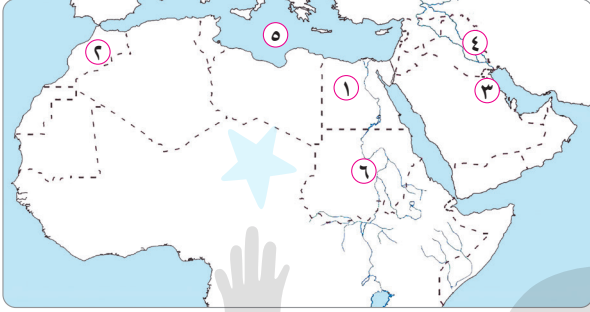
١٠

نموذج (1) اختبار شهر فبراير



٣

السؤال الأول : أمامك خريطة صماء للوطن العربي ، وضح مدلول الأرقام التي عليها :



- ١ أكبر دولة عربية من حيث السكان
- ٢ دولة من دول شمال إفريقيا
- ٣ دولة حضرية بالكامل
- ٤ دولة من دول الهلال الخصيب
- ٥ البحر
- ٦ ثاني دولة عربية من حيث عدد السكان

٣

السؤال الثاني : اكتب ما تشير إليه كل عبارة مما يأتي :

- ١ طبقة اجتماعية كانت تضم العلماء والتجار وكبار الأدياء في الدولة الإسلامية .
 - ٢ كانت تمرض الجرحى في الغزوات .
 - ٣ رابع دولة عربية من حيث عدد السكان .
- (.....)
- (.....)
- (.....)

٢

السؤال الثالث : أكمل العبارات الآتية بكلمات مناسبة :

- ١ يتركز السكان في سهول و بالعراق .
- ٢ يندر السكان في صحراء بالجناح الآسيوي .

٢

السؤال الرابع : بم تفسر ... ؟

- ١ أهمية منظمة المرأة العربية .

- ٢ ارتفاع معدل النمو السكاني بالوطن العربي



• اختبارات شهر فبراير

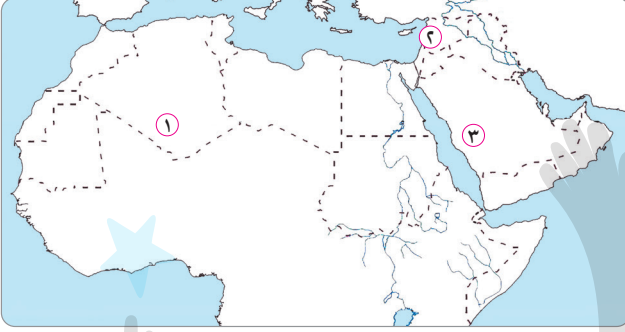
١٥

نموذج (2) اختبار شهر فبراير



٣

السؤال الأول : أمامك خريطة صماء للوطن العربي ، وضح مدلول الأرقام التي عليها :



١ ثالث دولة عربية من حيث

عدد السكان

٢ دولة عربية يعيش فيها السكان

فوق المرتفعات

٣ دولة عربية تعاني من تناقص السكان

.....

٣

السؤال الثاني : أكمل العبارات الآتية بكلمات مناسبة :

١ تأتي في المرتبة الأولى عربياً من حيث عدد السكان .

٢ يندر السكان في صحراء بالجنح الآسيوي .

٣ يتركز السكان في سهول و بالعراق .

٣

السؤال الثالث : صوب ما تحته خط :

١ كانت السيدة أسماء بنت أبي بكر تقوم بمراقبة الأسواق في عهد عمر بن الخطاب .

(.....)

٢ عملت السيدة ربيعة الأسلمية في تمريض الجرحى في معركة حطين .

(.....)

٣ كان العلماء على رأس الهرم في الطبقة العليا بالدولة الإسلامية .

(.....)

٣

السؤال الرابع : اذكر اسم الدولة :

١ أقل دولة عربية من حيث عدد السكان .

(.....)

٢ أعلى دولة عربية من حيث متوسط العمر المتوقع بالوطن العربي .

(.....)

٣ دولة يتركز فيها السكان حول سهول نهر النيل والدلتا .

(.....)

٣

السؤال الخامس : أجب عما يلي :

١ بم تفسر : وجود مشكلة سكانية في مصر ؟

٢ ما العلاقة بين : الإسلام وعادة وأد البنات ؟

٣ ما نتيجة : عدم قيد كل الأطفال بالتعليم الابتدائي ؟

الإجابات

نموذج (2) اختبار شهر فبراير

السؤال الأول :

- ١ الجزائر
٢ لبنان
٣ السعودية

السؤال الثاني :

- ١ مصر
٢ الربع الخالي
٣ دجلة - الفرات

السؤال الثالث :

- ١ السيدة الشفاء العدوية .
٢ غزوات الرسول (ص) .
٣ الخليفة .

السؤال الرابع :

- ١ جزر القمر
٢ قطر
٣ مصر

السؤال الخامس :

- ١ لزيادة عدد السكان عن الموارد المتاحة .
٢ انتشرت عادة وأد البنات عند العرب قبل الإسلام وعندما ظهر الإسلام تم تحريم ومنع هذه العادة .
٣ ظهور مشكلة الأمية بالوطن العربي .

نموذج (1) اختبار شهر فبراير

السؤال الأول :

- ١ مصر
٢ المغرب
٣ الكويت
٤ العراق
٥ المتوسط
٦ السودان

السؤال الثاني :

- ١ الطبقة الخاصة
٢ السيدة روفيدة الأسلمية
٣ العراق

السؤال الثالث :

- ١ دجلة - الفرات .
٢ الربع الخالي .

السؤال الرابع :

- ١ هي منظمة تعمل على :
* نشر الوعي بقضايا المرأة العربية في مختلف المجالات .
* تعزيز التعاون العربي المشترك في مجال تحسين وضع المرأة .
* تدعيم دور المرأة في المجتمع .
٢ ارتفاع معدل المواليد - انخفاض معدل الوفيات - الهجرة الخارجية .

الشاطر

نموذج (1) اختبار شهر فبراير



1 أ أكمل بكلمة مناسبة مما بين القوسين :

- (الغربية 2024) ① عند تسخين سائل أو غاز..... كثافته .
- (الجزيرة 2024) ② عندما تكون أشعة الشمس..... يتركز تأثيرها على مساحة أقل .
- (الإسكندرية 2024) ③ يعرف..... بعملية تساقط الماء على الأرض في صورة أمطار .
- (كفر الشيخ 2024) ④ العاملان الأساسيان في دورة الماء هما الطاقة الحرارية و.....

ب ماذا يحدث عندما تكون زاوية سقوط الشمس على منطقة ما عمودية ؟

2 أ ضع علامة (✓) أمام العبارة الصحيحة وعلامة (X) أمام العبارة الخاطئة :

- ① يعتبر الغلاف الجوي والأنهار الجليدية من أمثلة التجمعات المائية على الأرض .
- (الشرقية 2024) ()
- ② دوران الأرض من العوامل المؤثرة على اتجاه الرياح .
- (البحيرة 2024) ()
- ③ تتوزع الطاقة الشمسية على جميع المناطق على الأرض بدرجات متساوية .
- (الدقهلية 2024) ()
- ④ تعتمد سرعة تبخر الماء على درجة الحرارة .
- (الفيوم 2024) ()

ب اكتب المصطلح العلمي :

• قوة تتسبب في تسرب الماء إلى الأرض ومنها إلى تجمعات الماء الجوفية .

3 أ اختر الإجابة الصحيحة من بين الإجابات المعطاة :

- ① تعرف حركة الماء المستمرة على سطح الأرض بين التجمعات المائية باسم.....
- (القليوبية 2024) أ التوازن الحراري ب التبادل الحراري ج دورة الماء د التساقط
- ② تتكون السحب نتيجة..... بخار الماء .
- (الأقصر 2024) أ تبخر ب تجمد ج التكثف د انصهار
- ③ تفقد جزيئات الماء الطاقة أثناء عمليتي.....
- (القاهرة 2024) أ التبخر والانصهار ب التكثف والتجمد ج التتح والتجمد د التتح والتكثف
- ④ تسبب تيارات..... حركة الهواء والرياح وتغير أحوال الطقس .
- (أسوان 2024) أ الحمل الحراري ب التوصيل الحراري ج الإشعاع الحراري د المحيطات

ب استخرج الكلمة المختلفة :

• التبخر - التكثف - الجاذبية - الهطول

نموذج (2) اختبار شهر فبراير



1 أ أكمل بكلمة مناسبة مما بين القوسين :

- ① يحدث للطاقة الحرارية عند تحول البخار إلى سائل . (اكتساب - فقدان) (اليوم 2024)
- ② تتغذى طيور الفلامنجو على الموجودة في المياه الضحلة للبحيرة .
- (الطحالب - الحشائش) (الإسكندرية 2024)
- ③ الهواء البارد من الهواء الساخن . (أقل كثافة - أكبر كثافة) (قنا 2024)
- ④ يتسبب الارتفاع لدرجات الحرارة على سطح الأرض في اختلاف كثافة الغلاف الجوي (المتساوي - غير المتساوي) (سوهاج 2024)

ب صوب ما تحته خط :

(قنا 2024)

- يفقد النبات الماء على هيئة برد أثناء عملية النتح .

2 أ اختر الإجابة الصحيحة من بين الإجابات المعطاة :

- ① تحول بخار الماء إلى قطرات ماء سائلة في الهواء هو (كفر الشيخ 2024)
- أ الثلج ب التكثف ج التبخر د الذوبان
- ② أي من هذه العمليات تعتمد على قوة الجاذبية ؟ (الغربية 2024)
- أ التكثف ب التبخر ج الهطول د الانصهار
- ③ عندما يسخن الهواء (أسوان 2024)
- أ يزيد ضغطه ب ينكمش ج تقل كثافته د يهبط لأسفل
- ④ أي مما يلي ليس من العمليات الرئيسة التي تنقل الماء بين التجمعات المائية ؟ (الدقهلية 2024)
- أ التجميع ب التبخر ج الاحتكاك د الهطول

ب اكتب المصطلح العلمي :

- عملية مستمرة تتحرك فيها المياه بين سطح الأرض والغلاف الجوي . (بني سويف 2024)

3 أ ضع علامة (✓) أمام العبارة الصحيحة وعلامة (X) أمام العبارة الخطأ :

- ① تتسبب تيارات الحمل الحراري في حركة الهواء وتغير الطقس . (الدقهلية 2024) ()
- ② تؤثر كمية الإشعاع الشمسي على معدل النتح من أوراق النباتات . (الغربية 2024) ()
- ③ تتكون السحب نتيجة تجمد بخار الماء باستمرار . (الجزيرة 2024) ()
- ④ جميع المناطق على سطح الأرض لها نفس درجة الحرارة . (المنوفية 2024) ()

ب علل :

- درجة الحرارة تكون مرتفعة في المناطق القريبة من خط الاستواء والجو حار . (دمياط 2024)



نموذج (3) اختبار شهر فبراير



1 أ اختر الإجابة الصحيحة من بين الإجابات المعطاة :

- (دليل المعلم 2024) ① عند ارتفاع درجات حرارة المواد تمتلك المواد طاقة
 (أ) أكبر (ب) أقل (ج) بنفس المستوى (د) أكثر كثافة
- (كفر الشيخ 2024) ② العمليات الرئيسة التي تنقل الماء بين التجمعات المائية أساسها
 (أ) القوة والإشعاع (ب) الإشعاع والطاقة (ج) القوة والطاقة (د) القوة والتتح
- (سوهاج 2024) ③ تؤدي أشعة الشمس العمودية إلى درجة الحرارة .
 (أ) اعتدال (ب) انخفاض (ج) تساوي (د) ارتفاع
- (الدقهلية 2024) ④ تصل حرارة الشمس إلى الأرض عن طريق
 (أ) التوصيل (ب) الحمل (ج) الإشعاع (د) التبخر

ب اكتب المصطلح العلمي :

- (البحر الأحمر 2024) • عملية تقوم بها أوراق النباتات الخضراء للتخلص من الماء الزائد عن طريق الثغور.

2 أ ضع علامة (✓) أمام العبارة الصحيحة وعلامة (X) أمام العبارة الخاطئة :

- () ① دورة الماء هي مواقع لتخزين الماء على سطح الأرض . (المنوفية 2024)
- () ② الغازات الباردة تكون كثافتها أقل من كثافة الغازات الساخنة . (بورسعيد 2024)
- () ③ المحرك الرئيسي لدورة الماء في الطبيعة هو القمر . (القاهرة 2024)
- () ④ تتوزع أشعة الشمس العمودية على مساحة أكبر فيكون تأثيرها أقل . (الأقصر 2024)

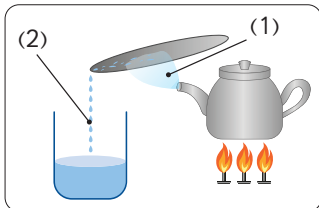
ب ماذا يحدث عندما ...؟

- (الغربية 2024) • تصبح السحب ثقيلة جدًا بحيث لا تستطيع الاحتفاظ بالماء .

3 أ أكمل ما يأتي :

- () ① يرتفع الهواء إلى أعلى عندما كثافته . (تزداد - تقل) (الإسماعيلية 2024)
- () ② تعتمد عملية على قوة الجاذبية . (التبخّر - الهطول) (القليوبية 2024)
- () ③ تسقط أشعة الشمس شبه مائلة على المناطق (الساخنة - المعتدلة) (أسيوط 2024)
- () ④ أثناء عملية التكثف يحدث للطاقة . (فقد - اكتساب)

(بورسعيد 2024)



ب انظر إلى الشكل الذي أمامك ، ثم أكمل :

- ① يصاحب العملية رقم (1) طاقة .
- ② تتشابه العملية رقم (2) مع عملية في دورة الماء في الطبيعة .

نموذج (4) اختبار شهر فبراير



1 أ أكمل ما يأتي :

- 1 يتحرك الهواء البارد إلى (سوهاج 2024)
- 2 يخرج الماء من ثغور أوراق النبات على هيئة (مطروح 2024)
- 3 العاملان الأساسيان لدورة الماء هما و (أسبوط 2024)
- 4 يتكون الضباب بسبب بخار الماء في الصباح الباكر . (المنيا 2024)
- ب ماذا يحدث عند إضافة الماء البارد إلى الماء الساخن ؟ (الغربية 2024)

2 أ ضع علامة (✓) أمام العبارة الصحيحة وعلامة (X) أمام العبارة الخاطئة :

- 1 يزداد معدل التنح من أوراق النباتات في النهار أكثر من الليل . (السويس 2024) ()
- 2 تعتمد سرعة تبخر الماء على درجة الحرارة . (الأقصر 2024) ()
- 3 يتوقف اتجاه حركة الرياح على كمية الإشعاع الشمسي التي تصل للأرض . (مطروح 2024) ()
- 4 يصعد الماء إلى الغلاف الجوي خلال عملية التبخر ويعود إلى الأرض خلال عملية الهطول . (بور سعيد 2024) ()
- ب اذكر أهمية قوة الرياح في دورة الماء في الطبيعة . (الغربية 2024)

3 أ اختر الإجابة الصحيحة من بين الإجابات المعطاة :

- 1 يطلق على عملية تحول بخار الماء إلى سائل اسم (دليل المعلم 2024)
- أ التسامي (ب) التبخر (ج) التكثف (د) الهطول
- 2 تحدث عمليتنا و عندما تكتسب جزيئات الماء طاقة حرارية . (الغربية 2024)
- أ الذوبان والتبخر (ب) التكثف والتتح (ج) التكثف والتجمد (د) الانصهار والتجمد
- 3 تسبب قوة في سقوط قطرات الأمطار نحو الأرض . (الفيوم 2024)
- أ الدفع (ب) الجاذبية (ج) الاحتكاك (د) الطفو
- 4 يتمدد الهواء ويصبح أقل كثافة عندما (بني سويف 2024)
- أ يكتسب طاقة (ب) يفقد طاقة (ج) يهبط لأسفل (د) يصطدم بالجبال
- ب علل لما يأتي :
- تأثير الحرارة منخفض عند القطبين . (أسوان 2024)



الإجابات

نموذج (2) اختبار شهر فبراير

السؤال الأول :

- أ ١ أكبر
ب ٢ القوة والطاقة
ج ٣ ارتفاع
د ٤ الإشعاع

السؤال الثاني :

- أ ١ X
ب ٢ X
ج ٣ X
د ٤ X

السؤال الثالث :

- أ ١ تقل
ب ٢ الهطول
ج ٣ المعتدلة
د ٤ فقد

نموذج (4) اختبار شهر فبراير

السؤال الأول :

- أ ١ أسفل
ب ٢ بخار ماء
ج ٣ الطاقة الحرارية / قوة الجاذبية
د ٤ تكثف

ب يتحرك الماء الساخن لأعلى ويهبط الماء البارد لأسفل

السؤال الثاني :

- أ ١ X
ب ٢ X
ج ٣ X
د ٤ X

ب الرياح قوة تحرك الهواء والسحب من مكان إلى آخر

السؤال الثالث :

- أ ١ التكثف
ب ٢ الذوبان والتبخر
ج ٣ الجاذبية
د ٤ يكتسب طاقة

ب لأن أشعة الشمس تسقط عليها مائلة جداً وتتركز على مساحة كبيرة جداً

نموذج (1) اختبار شهر فبراير

السؤال الأول :

- أ ١ تقل
ب ٢ عمودية
ج ٣ الهطول
د ٤ الجاذبية

ب تتركز أشعة الشمس على مساحة قليلة فيكون تأثيرها كبيراً ونشعر بالحر

السؤال الثاني :

- أ ١ X
ب ٢ X
ج ٣ X
د ٤ X

السؤال الثالث :

- أ ١ دورة الماء
ب ٢ تكثف
ج ٣ التكتف والتجمد
د ٤ الحمل الحراري

نموذج (2) اختبار شهر فبراير

السؤال الأول :

- أ ١ فقدان
ب ٢ الطحالب
ج ٣ أكبر كثافة
د ٤ غير المتساوي

السؤال الثاني :

- أ ١ التكثف
ب ٢ الهطول
ج ٣ تقل كثافته
د ٤ الاحتكاك

السؤال الثالث :

- أ ١ X
ب ٢ X
ج ٣ X
د ٤ X

ب لأن أشعة الشمس تسقط عليها عمودية وتتركز على مساحة قليلة