



النشاط

نماذج اختبارات فبراير

5



نموذج (1) اختبار شهر فبراير




الاستماع - يقرأ ولي الأمر أو المعلم على التلميذ نص الاستماع ثم يجيب التلميذ
عن الأسئلة الآتية :



(أ) تخير الإجابة الصحيحة مما بين القوسين :

- ١ - مشروع تربية من المشروعات الصغيرة . (الأسود - الزهور - الأرنب - العصافير)
 - ٢ - مشروع تربية الأرنب من المشروعات : (المريحة - الفاشلة - الصعبة - المهلكة)
- (ب) أكمل : الأرنب مصدر مهم لإنتاج

التعبير الكتابي - هذا غلاف جهاز ، اكتبه مستخدماً المعلومات المعطاة لك
وأضف طريقة الاستعمال .



ثلاجة كهربائية

صناعة مصرية

السعة : ٥٠٠ لتر

- ١ - اسم المنتج :
- ٢ - مكونات المنتج :
- ٣ - تعليمات مهمة :
- ٤ - تاريخ الإنتاج :

٣

اقرأ النص الأدبي الآتي ، ثم أجب :

« يهدف مشروع تصنيع الصابون السائل إلى إنتاج مواد التنظيف المطلوبة بصفة مستمرة ، ولا يمكن الاستغناء عنها ، إلا أن الإقبال دائماً يتجه إلى الأنواع الجيدة المناسبة لطبيعة الخامات المطلوب تنظيفها والمحافظة عليها ، حيث يوجد في الأسواق مجالات كثيرة تحتاج إلى استخدام مواد التنظيف ، كما أن الخامات الأساسية التي يصنع منها هذا المنتج متوافرة محلياً وبأسعار مناسبة ، فمشروع تصنيع الصابون السائل من المشاريع المربحة والسهلة التي يحتاج إليها كل بيت » .

(أ) تخير الإجابة الصحيحة مما بين القوسين :

١ - مرادف « المناسبة » : (المتوافرة - الكثيرة - الملائمة - القليلة)

٢ - مضاد « محلياً » : (عالمياً - صناعياً - زراعياً - داخلياً)

(ب) ضع علامة (✓) أو علامة (X) :

١ - مشروع الصابون السائل من المشاريع المربحة . ()

٢ - مواد التنظيف يصعب تصنيعها وإنتاجها . ()

(ج) ما مزايا مشروع تصنيع الصابون السائل ؟

٤

اقرأ النص المعلوماتي الآتي ، ثم أجب :

« أنشئ الصندوق الاجتماعي للتنمية بقرار جمهوري كشبكة أمان اجتماعي واقتصادي تسهم في محاربة البطالة والتخفيف من حدة الفقر ، وتعمل على تحسين مستويات المعيشة والإسراع في تحقيق التنمية الاقتصادية والاجتماعية الشاملة ، وكُلفَ الصندوق الاجتماعي بمساندة المشروعات الصغيرة ومتناهية الصغر ، ويعمل الصندوق الاجتماعي من خلال مكاتب إقليمية تغطي كافة محافظات الجمهورية وتتيح للمتقدمين سرعة الحصول على القروض وإنهاء الأوراق المطلوبة » .

(أ) تخير الصواب مما بين القوسين :

١ - مرادف « تسهم » : (تشارك - تعامل - ترفع - تمنع)

٢ - مضاد « الفقر » : (المكسب - الربح - الإنتاج - الغنى)

(ب) ضع علامة (✓) أو علامة (X) :

- يتيح الصندوق الاجتماعي القروض للمتقدمين . ()

(ج) فيم يسهم الصندوق الاجتماعي ؟

٥

النصوص المتحررة - اقرأ ، ثم أجب :

أتقن أعمالك واختمها بالمردود يبقى عليها الناس للأبد شهود
اكتب اسمك بأعرض البنود يكتب في التاريخ مع مر العقود

• اختبارات شهر فبراير

(أ) تخير الإجابة الصحيحة مما بين القوسين :

- معنى « يبقى » : (يرحل - يدوم - يوضح - يعيد)

(ب) ضع علامة (✓) أو علامة (X) :

- إتقان العمل من الصفات الحميدة . ()

(ج) استخرج من البيتين كلمتين لهما النهاية نفسها . ،

القواعد النحوية :

٦

(أ) أكمل بما هو مطلوب :

١ - ابتعد السفهاء . (حرف جر)

٢ - أحب يخلص في عمله . (اسم موصول)

(ب) تخير الصواب مما بين القوسين :

١ - أحمد في عمله . (ماهرًا - ماهرٌ - ماهرٍ - ماهرٌ)

٢ - ذاكرت (درسان - درسين - دروسٍ - درسٌ)

(ج) حول من الجملة الفعلية إلى الجملة الاسمية : يركب المسافرون القطار .

اكتب بخط النسخ :

٧

تمتلك مصر ثروة بشرية هائلة .

الإملاء - تخير الصواب مما بين القوسين :

٨

(أ) أختي (متفألة - متفائلة - متفائلة - متفألة)

(ب) إلى أين ستسافر (؟ - : - . - !)

(ج) ما أبهى الصحة (؟ - : - . - !)

* نَصَّ اسْتِمَاعِ الْاِخْتِبَارِ الْأَوَّلِ

« مَشْرُوعُ تَرْبِيَةِ الْأَرَانِبِ مِنَ الْمَشْرُوعَاتِ الصَّغِيرَةِ الْمُرْبِحَةِ النَّاجِحَةِ ، وَيَسْتَطِيعُ أَيُّ شَابٍّ أَنْ يَبْدَأَ بِهِ ، فَالْأَرَانِبُ مِنَ الْمَصَادِرِ الْهَامَّةِ لِإِنْتِاجِ اللَّحُومِ » .

٣

اقرأ النص الأدبي الآتي ، ثم أجب :

« حسام شاب مصري قدم مشروعاً جديداً ، وهو تصنيع الآيس كريم . يقول حسام : بدأت مشروعاً لتصنيع الآيس كريم منذ سبعة أعوام ، وأعددت دراسة جدوى ، وشعرت أنه يمكن أن أنجح في المنطقة التي أعيش فيها في سوهاج ، فأخذت قرضاً من الصندوق الاجتماعي ، واشترت ماكيتين ، ماكينة بسترة وماكينة تصنيع آيس كريم ، وبدأت مشروعياً وبعد فترة حققت أرباحاً كثيرة ، ثم فتحت قنوات أخرى للتوزيع والبيع » .

(أ) تخير الإجابة الصحيحة مما بين القوسين :

١ - مرادف « أرباح » :

(خسائر - مكاسب - فواتير - سباق)

٢ - مضاد « البيع » :

(الشراء - التبادل - التخلي - الدفع)

(ب) ضع علامة (✓) أو علامة (X) :

١ - قام حسام بتصنيع الأقمشة . ()

٢ - يساعد الصندوق الاجتماعي الشباب في إقامة المشروعات . ()

(ج) ما الخطوات التي قام بها حسام لتنفيذ المشروع ؟

٤

اقرأ النص المعلوماتي الآتي ، ثم أجب :

« يعتبر معرض (تراثنا) أكبر حدث سنوي يتم تنظيمه في مصر ، يتجمع فيه الحرفيون والمهرة المتخصصون في الصناعات اليدوية والتراثية من كل محافظات الجمهورية بتنوعها الثقافي والحضاري ، وذلك لعرض الآلاف من القطع الفنية المتنوعة والفريدة المستوحاة من التراث المصري العريق ، من نجف ومنسوجات ومشغولات جميلة تناسب كل الأذواق » .

(أ) تخير الإجابة الصحيحة مما بين القوسين :

١ - معنى « الفريدة » :

(المميزة - المتشابهة - الجميلة - السريعة)

٢ - مضاد « جمال » :

(صنع - قبح - إبداع - حسن)

(ب) ضع علامة (✓) أو علامة (X) :

- معرض « تراثنا » يتم تنظيمه في أوروبا . ()

(ج) ماذا يُعرض في معرض « تراثنا » ؟

٥

النصوص المتحررة - اقرأ ، ثم أجب :

ويومئذ يحاسبنا	ويومئذ يحاسبنا
ونعبد محاسن ماضيها	ونعبد محاسن ماضيها
وبعين الله نشيده	وبعين الله نشيده
بمآثرنا ومساعدينا	بمآثرنا ومساعدينا
ونحسنة ونزينة	ونحسنة ونزينة
ويومئذ يحاسبنا	ويومئذ يحاسبنا
ونعبد محاسن ماضيها	ونعبد محاسن ماضيها
وبعين الله نشيده	وبعين الله نشيده
بمآثرنا ومساعدينا	بمآثرنا ومساعدينا
ونحسنة ونزينة	ونحسنة ونزينة

(أ) تخير الإجابة الصحيحة مما بين القوسين :

١ - معنى « نحسنه » : (نرفعه - نجمله - نعمره - ننظفه)

٢ - مضاد « نشيده » : (نبنيه - نعزه - نهلمه - ننجزه)

(ب) استخرج من الأبيات ثلاث كلمات لها النهاية نفسها .

..... ، ،

القواعد النحوية :

٦

(أ) أكمل بما هو مطلوب :

١ - مجتهدون .

٢ - غصون مرتفعة .

(مبتدأ جمع)

(اسم إشارة)

(ب) تخير الصواب مما بين القوسين :

١ - يجتهد في عمله .

٢ - أعيش قرية جميلة .

(العامل - العامل - العامل - العامل)

(إلى - في - عن - من)

(ج) ثن ، ثم اجمع : أنت مخلص .

..... ،

اكتب بخط النسخ :

٧

معاً نستطيع أن نحول الصحراء إلى جنة خضراء .

.....

.....

الإملاء - تخير الصواب مما بين القوسين :

٨

(أ) آثار مصر (راءعة - رائعة - رآعة - رءاعة)

(ب) ما زرت جدي (؟ - . - ! - :)

(ج) لماذا تعمل (؟ - . - ! - :)

(راءعة - رائعة - رآعة - رءاعة)

(؟ - . - ! - :)

(؟ - . - ! - :)

* نصّ استمّاع الاختبار الثاني

« سَاعَدَ مَوْقِعَ مِصْرَ الْجُغْرَافِيَّ عَلَى تَسْهِيلِ الْإِتِّصَالِ بِجِيرَانِهَا تِجَارِيًّا وَحَضَارِيًّا ، وَكَانَتْ مِصْرُ

مَرْكَزًا تِجَارِيًّا وَمَعْبَرًا لِلتِّجَارَةِ الدَّوْلِيَّةِ بَيْنَ الشَّرْقِ وَالغَرْبِ » .

الإجابات

نموذج (1) اختبار شهر فبراير

■ (٢،١) : أجب بنفسك .

■ (٣) :

(أ) ١ - الملائمة ٢ - عالمياً

(ب) ١ - (✓) ٢ - (X)

(ج) ١ - هناك مجالات كثيرة تحتاج إلى استخدام مواد

التنظيف .

٢ - الخامات الأساسية متوفرة محلياً وبأسعار مناسبة .

■ (٤) :

(أ) ١ - تشارك ٢ - الغنى

(ب) (✓)

(ج) يساهم في محاربة البطالة والتخفيف من حدة الفقر ،

ويعمل على تحسين مستويات المعيشة والإسراع

في تحقيق التنمية الاقتصادية والاجتماعية الشاملة .

■ (٥) :

(أ) يدوم (ب) (✓)

(ج) شهود ، عقود

■ (٦) :

(أ) ١ - عن ٢ - الذي

(ب) ١ - ماهرٌ ٢ - درسين

(ج) المسافرون يركبون القطار .

■ (٧) : أجب بنفسك .

■ (٨) : (أ) متفائلة (ب) ؟ (ج) !

نموذج (2) اختبار شهر فبراير

■ (٢،١) : أجب بنفسك .

■ (٣) :

(أ) ١ - مكاسب ٢ - الشراء

(ب) ١ - (X) ٢ - (✓)

(ج) ١ - قام بإعداد دراسة جدوى .

٢ - أخذ قرصاً من الصندوق الاجتماعي .

٣ - اشترى ماكيتين من ماكينات البسترة والآيس

كريم .

■ (٤) :

(أ) ١ - المميمة ٢ - قبح

(ب) (X)

(ج) يعرض الآلاف من القطع الفنية المتنوعة والفريدة

المستوحاة من التراث المصري العريق من نجف

ومسوحات ومشغولات جميلة .

■ (٥) :

(أ) ١ - نجمله ٢ - نهدمه

(ب) وادينا ، ماضيها ، مساعيها

■ (٦) :

(أ) ١ - التلاميذُ ٢ - هذه

(ب) ١ - العاملُ ٢ - في

(ج) أنتما مخلصان ، أنتم مخلصون .

■ (٧) : أجب بنفسك .

■ (٨) : (أ) رائعة (ب) . (ج) ؟

Model Test (1)



A. Listening

(نص الاستماع بنهاية الاختبار)

1 Listen and circle the correct answer from a, b, c or d.

استمع وضع دائرة حول الإجابة الصحيحة .

1. Toka lives in
a) Cairo b) Tanta c) Luxor d) Benha
2. Her Rana is in primary three.
a) friend b) mother c) sister d) cousin
3. Their school is near their
a) home b) club c) hospital d) market
4. Toka is very good at
a) science b) math c) Arabic d) English

B. Reading

2 Choose the correct answer from a, b, c or d. اختر الإجابة الصحيحة .

1. This chair is I can't sit on it.
a) comfortable b) safe
c) uncomfortable d) unlucky
2. Our apartment is on the third
a) flour b) floor c) ground d) roof
3. The Ancient Egyptians used mud to build their houses.
a) drops b) sticks c) mats d) bricks

3 Read and complete the text with the words in the box.

اقرأ وأكمل النص بكلمات من القائمة .

mug – mud – banks – style

The Ancient Egyptians were amazing. They built their houses by the (1)..... of the River Nile. Their houses had a special (2)..... . They made reed mats and put them on the roof to keep their houses cool. They used (3)..... to make mud bricks for their walls.

4 Read the text and answer the questions.

اقرأ النص وأجب عن الأسئلة .

The computer is the most important invention in our life. It is used everywhere in the world. People use computers in homes, offices, banks, hospitals, schools... etc. We can store information on computers. Students can get information and do research. Scientists can do experiments on computers. Computers were very big in the past, but now they are very small, such as laptop computers. It is very easy to carry them. I think computers will be more different in the future.

A) Choose the correct answer from a, b, c or d.

اختر الإجابة الصحيحة .

- Students can get and do research on computers.
a) fruit b) information c) money d) small
- Computers are very now.
a) big b) tall c) happy d) small

B) Answer the following questions.

أجب عن الأسئلة الآتية .

- Where can people use computers?
.....
- What do scientists use computers for?
.....
- What do you think computers will be like in the future?
.....



C. Writing

5 Put the words in the correct order to make sentences.

ضع الكلمات في الترتيب الصحيح لتكوّن جملاً صحيحة .

1. didn't – I – football – yesterday – play.

.....

2. armchair – on – The – the – right – is.

.....

6 Read and write the correct form of the word(s) between brackets.

اقرأ واكتب الصيغة الصحيحة للكلمات بين القوسين .

1. She (go) to Aswan last year.

2. The desk is (in) the right.

7 Punctuate the following.

ضع علامات الترقيم المناسبة .

1. where did you go last week

.....

2. Many people made their homes near the Nile

.....

8 Write a paragraph of about THIRTY (30) words using the following guiding elements:

اكتب فقرة إنشائية مكونة من ثلاثين (٣٠) كلمة باستخدام العناصر الآتية :

'My house'

- big - one floor
- three rooms - garden

Listening Script

Toka is in primary five. She lives in Tanta. Her sister Rana is in primary three. They go to the same school. Their school is near their home. Toka is very good at English.

Model Test (2)



A. Listening

(نص الاستماع بنهاية الاختبار)

1 Listen and circle the correct answer from a, b, c or d.

1. Nora and Ola went to the yesterday.
 - a) zoo
 - b) club
 - c) shopping mall
 - d) school
2. They went to the club by
 - a) car
 - b) taxi
 - c) boat
 - d) bus
3. Nora played
 - a) tennis
 - b) football
 - c) swimming
 - d) basketball
4. Ola's favorite sport is
 - a) running
 - b) tennis
 - c) football
 - d) swimming

B. Reading

2 Choose the correct answer from a, b, c or d.

1. He can't eat or talk. He has a
 - a) headache
 - b) backache
 - c) sore throat
 - d) earache
2. Doctors help in hospitals.
 - a) teachers
 - b) patients
 - c) students
 - d) nurses
3. We get from bees.
 - a) honey
 - b) eggs
 - c) meat
 - d) milk



3 Read and complete the text with the words in the box.

crowded – empty – patients – staff

I read a text about a hospital in India. It is a very busy place that treats (1)..... . People usually travel to the hospital with many relatives. So, the hospital is always very (2)..... . At the hospital, the (3)..... teach the family members how to do useful things.

4 Read the text and answer the questions.

To stay healthy, it is important to eat healthy food like fruit and vegetables. You should also have a balanced diet. There are lots of other things that we can do to look after our health. You should do more exercise every day. You should go to bed early. It's important to get enough sleep. You should get between 8 and 9 hours of sleep every night. You should spend time with your friends.

A) Choose the correct answer from a, b, c or d.

- The best title of the text is
 a) Keeping Healthy b) Healthy food
 c) Sports d) Enough sleep
- You should do more every day.
 a) exercise b) homework c) housework d) money

B) Answer the following questions.

- Give some examples of healthy food.

- How long should we sleep every night?

- Who should you spend time with?

C. Writing

5 Put the words in the correct order to make sentences.

1. is – used – Honey – treat – illnesses – to.

.....

2. drink – should – We – water – plenty – of.

.....

6 Read and write the correct form of the word(s) between brackets.

1. Does Mona (has) a headache?

2. Nahla fell over and (have) a cut on her knee.

7 Punctuate the following.

1. what's the matter with you

.....

2. It s important to eat healthy food

.....

8 Write a paragraph of about THIRTY (30) words using the following guiding elements:

'Doctor's work'

• day and night

• hospitals

Listening Script

Nora and Ola went to the club yesterday. They went by bus. They arrived there at 9 a.m. Nora played tennis. Ola's favorite sport is swimming.



اختبارات شهر فبراير •

Answer Model Test (1)

1 Listen and circle the correct answer from a, b, c or d.

1. b) Tanta 2. c) sister
3. a) home 4. d) English

2 Choose the correct answer from a, b, c or d.

1. c) uncomfortable 2. b) floor
3. d) bricks

3 Read and complete the text with the words in the box.

1. banks 2. style 3. mud

4 Read the text and answer the questions.

- A) 1. b) information 2. d) small
B) 3. They can use computers in homes, offices, banks, hospitals, schools... etc.
4. Scientists use computers to do experiments.
5. I think computers will be more different in the future.

5 Put the words in the correct order to make sentences.

1. I didn't play football yesterday.
2. The armchair is on the right.

6 Read and write the correct form of the word(s) between brackets.

1. went 2. on

7 Punctuate the following.

1. Where did you go last week?
2. Many people made their homes near the Nile.

8 Write a paragraph of about THIRTY (30) words using the following guiding elements:

'My house'

I live with my family in a big house. It has one floor. It has three rooms and a garden. I share a room with my brother. There are a lot of posters on the walls of my room.

Answer Model Test (2)

1 Listen and circle the correct answer from a, b, c or d.

1. b) club 2. d) bus
3. a) tennis 4. d) swimming

2 Choose the correct answer from a, b, c or d.

1. c) sore throat 2. b) patients
3. a) honey

3 Read and complete the text with the words in the box.

1. patients 2. crowded 3. staff

4 Read the text and answer the questions.

- A) 1. a) Keeping healthy 2. a) exercise
B) 3. Vegetables and fruit.
4. Between 8 and 9 hours.
5. I should spend time with my friends.

5 Put the words in the correct order to make sentences.

1. Honey is used to treat illnesses.
2. We should drink plenty of water.

6 Read and write the correct form of the word(s) between brackets.

1. have 2. had

7 Punctuate the following.

1. What's the matter with you?
2. It's important to eat healthy food.

8 Write a paragraph of about THIRTY (30) words using the following guiding elements:

'Doctor's work'

Doctors are important for people and countries. They work in hospitals. They work very hard day and night. They help sick people to get well. They give them medicine and tell them advice to keep healthy.

نموذج (1) اختبار شهر فبراير



أولاً: اختر الإجابة الصحيحة من بين الإجابات المُعطاة:

- 1 $5 - \dots = 3 \frac{8}{11}$ أ $8 \frac{8}{11}$ ب $\frac{38}{11}$ ج $1 \frac{3}{11}$ د $2 \frac{3}{11}$
- 2 $\frac{2}{3} + 4 \frac{1}{3} + \frac{4}{7} = \dots$ أ $5 \frac{4}{7}$ ب $5 \frac{7}{4}$ ج $4 \frac{4}{7}$ د $4 \frac{2}{3}$
- 3 $3 \frac{2}{3} - 1 \frac{1}{4} = \dots$ أ $4 \frac{5}{12}$ ب $1 \frac{5}{12}$ ج $2 \frac{3}{12}$ د $2 \frac{5}{12}$
- 4 $1 \frac{2}{5} + 1 \frac{1}{2} = \dots$ أ $3 \frac{11}{10}$ ب $2 \frac{11}{10}$ ج $2 \frac{9}{10}$ د $3 \frac{9}{10}$
- 5 $12 \frac{7}{12} \bigcirc 8 \frac{1}{4} + 5 \frac{2}{3}$ أ $<$ ب $>$ ج $=$ د غير ذلك
- 6 أي مما يلي يمثل مقامًا مشتركًا للعددين الكسريين $4 \frac{5}{6}$ و $3 \frac{18}{27}$ ؟ أ 3 ب 6 ج 9 د 27

ثانيًا: أكمل ما يأتي:

- 1 $5 \frac{5}{7} - 1 \frac{3}{14} = \dots$
- 2 $5 \frac{1}{2} - 3 \frac{1}{3} = \dots$
- 3 $3 \frac{2}{3} + 2 \frac{3}{5} = \dots$

ثالثًا: أجب عمّا يأتي:

1 أوجد قيمة X إذا كان: $2 \frac{7}{8} - X = 1 \frac{1}{2}$

.....

2 أوجد قيمة X إذا كان: $X - 6 \frac{1}{3} = 3 \frac{4}{5}$

.....



نموذج (2) اختبار شهر فبراير



أولاً : اِخْتَرِ الإِجَابَةَ الصَّحِيحَةَ مِنْ بَيْنِ الإِجَابَاتِ الْمُعْطَاةِ :

- 1 $1 \frac{3}{5} + 1 \frac{7}{15} = \dots\dots\dots$
 - أ $3 \frac{1}{15}$
 - ب $\frac{10}{15}$
 - ج $2 \frac{16}{15}$
 - د $2 \frac{10}{20}$
- 2 $5 \frac{2}{6} \text{ } \bigcirc \text{ } 5 \frac{1}{3}$
 - أ $<$
 - ب $>$
 - ج $=$
 - د غير ذلك
- 3 $4 \frac{1}{3} + 3 \frac{1}{2} = \dots\dots\dots$
 - أ $7 \frac{1}{8}$
 - ب $5 \frac{5}{6}$
 - ج $7 \frac{5}{6}$
 - د $7 \frac{1}{6}$
- 4 الكسر غير الحقيقي المكافئ للعدد الكسري $3 \frac{1}{8}$ هو
 - أ $\frac{4}{24}$
 - ب $\frac{28}{8}$
 - ج $\frac{25}{8}$
 - د $\frac{9}{25}$
- 5 $18 \frac{3}{4} - 13 \frac{5}{6} = \dots\dots\dots$
 - أ $4 \frac{11}{12}$
 - ب $6 \frac{22}{33}$
 - ج $5 \frac{11}{13}$
 - د $4 \frac{11}{14}$
- 6 إذا كانت : $a + 1 \frac{1}{3} = 4 \frac{1}{2}$ ، فإن : $a = \dots\dots\dots$
 - أ $3 \frac{1}{6}$
 - ب $3 \frac{1}{2}$
 - ج $2 \frac{1}{3}$
 - د $4 \frac{1}{3}$
- 7 العدد الكسري $3 \frac{1}{2}$ يكافئ العدد الكسري
 - أ $3 \frac{2}{4}$
 - ب $\frac{5}{2}$
 - ج $3 \frac{1}{4}$
 - د $3 \frac{3}{8}$
- 8 الكسر غير الحقيقي $\frac{9}{4}$ يكافئ العدد الكسري
 - أ $2 \frac{1}{4}$
 - ب $3 \frac{1}{6}$
 - ج $5 \frac{1}{4}$
 - د $1 \frac{9}{6}$

ثانياً : أَكْمِلْ مَا يَأْتِي :

- 1 إذا كان : $9 - X = 5 \frac{3}{10}$ ، فإن : $X = \dots\dots\dots$
- 2 $1 \frac{5}{9} + 2 \frac{1}{3} = \dots\dots\dots$
- 3 $8 \frac{1}{10}$ دقيقة = دقائق ، و ثوانٍ .
- 4 $7 \frac{3}{5} - 2 \frac{4}{5} = \dots\dots\dots$
- 5 $9 \frac{5}{12} + 1 \frac{1}{6} = \dots\dots\dots$
- 6 إذا كان : $8 \frac{1}{5} - K = 5 \frac{3}{5}$ ، فإن : $K = \dots\dots\dots$
- 7 $2 \frac{2}{3} + 1 \frac{1}{6} = \dots\dots\dots$

ثالثًا : اِخْتَرِ الإِجَابَةَ الصَّحِيحَةَ مِنْ بَيْنِ الإِجَابَاتِ الْمُعْطَاةِ :

- 1 $6 \frac{3}{5} - 5 \frac{1}{2} = \dots\dots\dots$ أ $1 \frac{2}{3}$ ب $11 \frac{2}{3}$ ج $1 \frac{1}{10}$ د $12 \frac{1}{10}$
- 2 أى الأعداد الكسرية التالية يكافئ العدد الكسرى $1 \frac{8}{10}$ ؟ أ $2 \frac{4}{10}$ ب $1 \frac{4}{5}$ ج $8 \frac{1}{15}$ د $10 \frac{1}{8}$
- 3 لإيجاد قيمة X فى المعادلة : $5 \frac{3}{5} = X + 3 \frac{2}{5}$ نقوم بعملية أ جمع ب طرح ج ضرب د قسمة
- 4 إذا كان : $F - 5 \frac{5}{12} = 3 \frac{1}{6}$ ، فإن : $F = \dots\dots\dots$ أ $1 \frac{3}{12}$ ب $2 \frac{3}{12}$ ج $8 \frac{7}{12}$ د $8 \frac{6}{18}$
- 5 $3 \frac{4}{9} - 2 \frac{2}{3} = \dots\dots\dots$ أ $1 \frac{2}{6}$ ب $\frac{7}{9}$ ج $1 \frac{7}{9}$ د 1
- 6 $\frac{3}{4}$ ساعة = دقيقة . أ 15 ب 30 ج 45 د 60
- 7 $3 \frac{5}{12} + 2 \frac{1}{6} = \dots\dots\dots$ أ $5 \frac{3}{12}$ ب $5 \frac{1}{6}$ ج $5 \frac{7}{12}$ د $5 \frac{4}{12}$

رابعًا : أجب عَمَّا يَأْتِي :

- 1 اشترى أحمد علبة عصير سعتها $1 \frac{1}{2}$ لتر ، فإذا شرب منها $\frac{2}{5}$ لتر ، فأوجد كمية العصير المتبقية .
- 2 لإعداد فطائر اشترى أحمد $3 \frac{2}{3}$ كيلو جرام من الدقيق ، واستخدم منها $2 \frac{1}{5}$ كيلو جرام ، ما كمية الدقيق المتبقية ؟
- 3 لدى هدير $8 \frac{1}{3}$ كعكة ، أعطت أختها $3 \frac{1}{4}$ كعكة منها ، ما الكمية المتبقية مع هدير ؟
- 4 يستغرق هانى فى حل واجب مادة الرياضيات $1 \frac{1}{3}$ ساعة ، بينما يستغرق فى حل واجب مادة اللغة العربية 100 دقيقة ، ما المدة الزمنية التى استغرقها لحل واجب المادتين معًا ؟

الإجابات

نموذج (2) اختبار شهر فبراير

- أولاً: 1 أ 2 ج 3 ج
4 ج 5 د 6 أ
7 أ 8 أ

1 $X = 9 - 5 \frac{3}{10} \rightarrow X = 3 \frac{7}{10}$ ثانياً:

2 $1 \frac{5}{9} + 2 \frac{3}{9} = 3 \frac{8}{9}$

3 8 دقائق، 6 ثوانٍ

4 $4 \frac{4}{5}$

5 $10 \frac{7}{12}$

6 $k = 8 \frac{1}{5} - 5 \frac{3}{5} \rightarrow k = 2 \frac{3}{5}$

7 $3 \frac{5}{6}$

- ثالثاً: 1 ج 2 ب 3 ب 4 ج
5 ب 6 ج 7 ج

رابعاً: 1 الكمية المتبقية = $1 \frac{1}{10}$ لتر

2 الكمية المتبقية = $1 \frac{7}{15}$ كجم

3 الكمية المتبقية = $5 \frac{1}{12}$ كجم

4 المدة الزمنية التي استغرقها = 180 دقيقة = 3

ساعات

نموذج (1) اختبار شهر فبراير

- أولاً: 1 ج 2 أ 3 د
4 ج 5 أ 6 ب

ثانياً: 1 $4 \frac{7}{14} = 4 \frac{1}{2}$ 2 $2 \frac{1}{6}$ 3 $6 \frac{4}{15}$

ثالثاً: 1 $X = 2 \frac{7}{8} - 1 \frac{1}{2}$

$X = 2 \frac{7}{8} - 1 \frac{4}{8} \rightarrow X = 1 \frac{3}{8}$

2 $X = 3 \frac{4}{5} + 6 \frac{1}{3}$

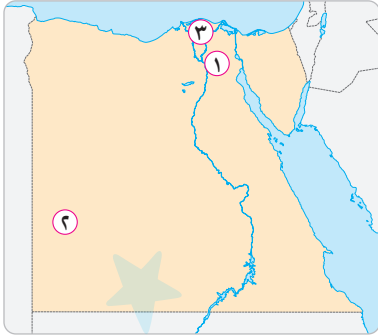
$X = 3 \frac{12}{15} + 6 \frac{5}{15} \rightarrow X = 10 \frac{2}{15}$



نموذج (1) اختبار شهر فبراير

١٥

السؤال الأول : أمامك خريطة صماء لمصر ، وضح مدلول الأرقام التي عليها :



- ١ محافظة جاذبة للسكان
- ٢ محافظة يقل بها عدد السكان
- ٣ منطقة تركّز سكاني

٣

السؤال الثاني : اكتب ما تشير إليه كل عبارة فيما يلي :

- ١ مكان كان يذهب إليه أبناء المصريين القدماء لتعلم القراءة والكتابة . (.....)
- ٢ رسم بياني لتوزيع السكان من حيث التركيب العمري والتركيب النوعي . (.....)
- ٣ حفظ جسم المتوفى بعد الموت . (.....)

٣

السؤال الثالث : بم تفسر ...؟

- ١ هجرة السكان من مكان إلى آخر .
- ٢ أهمية التعداد السكاني في مصر .
- ٣ اختلاف الملابس في مصر القديمة .

٣

السؤال الرابع : ما العلاقة بين ...؟

- ١ الزواج المبكر والمشكلة السكانية في مصر .
- ٢ الأسرة المصرية وازدهار الحضارة المصرية القديمة .
- ٣ الملك أمنحتب الرابع وفكرة السمو إلى الوجدانية .

٣

السؤال الخامس : صوب ما تحته خط :

- ١ الكثافة السكانية هي الفرق بين عدد المواليد وعدد الوفيات في فترة معينة .

٣

- (.....)
- ٢ يقل عدد السكان في محافظة الدلتا .
- ٣ كان الإله ماعت يترأس محكمة الموتى .

(.....)



• اختبارات شهر فبراير

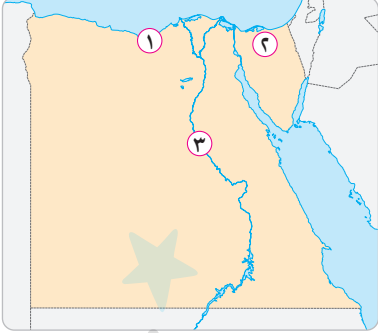


نموذج (2) اختبار شهر فبراير

١٥

السؤال الأول : أمامك خريطة صماء لمصر ، وضح مدلول الأرقام التي عليها :

٣



١ محافظة جاذبة للسكان

٢ محافظة حدود صحراوية

٣ منطقة تركيز سكاني

٣

السؤال الثاني : اكتب ما تشير إليه كل عبارة فيما يلي :

(.....)

١ تحتل المرتبة الثالثة إفريقياً من حيث عدد السكان .

(.....)

٢ النسبة بين عدد السكان ومساحة الأرض التي يعيشون عليها .

(.....)

٣ الحياة مرة أخرى بعد الموت .

٣

السؤال الثالث : دلل على صحة العبارات الآتية :

١ المشكلة السكانية لها آثار سلبية على مصر .

٢ تولت المرأة المناصب العليا في مصر القديمة .

٣ تأثرت الحضارات القديمة بخصائص الديانة المصرية القديمة .

٣

السؤال الرابع : ما النتائج المترتبة على ...؟

١ تحسن الرعاية الصحية في مصر .

٢ الهجرة الداخلية في مصر .

٣ اعتقاد المصري القديم في الحساب بعد الموت .

٣

السؤال الخامس : أجب عما يلي :

١ كيف يمكنك المساعدة في مواجهة المشكلة السكانية في مصر ؟

٢ فسر : أهمية دراسة الهرم السكاني لمصر .

٣ وضح العلاقة بين :

• تحنيط المصريين القدماء لجسد الموتى ومعتقداتهم الدينية .

الإجابات

نموذج (2) اختبار شهر فبراير

السؤال الأول :

- ١ الإسكندرية
- ٢ شمال سيناء
- ٣ وادي النيل

السؤال الثاني :

- ١ مصر
- ٢ الكثافة السكانية
- ٣ البعث

السؤال الثالث :

- ١ تؤثر على اقتصاد الدولة وإعاقه خطط التقدم والتنمية .
- ٢ كانت ملكة وقاضية وكاتبة وكاهنة .
- ٣ التوحيد والاعتقاد في البعث والخلود والحساب بعد الموت .

السؤال الرابع :

- ١ قلة عدد الوفيات .
- ٢ إعادة توزيع السكان في الوادي والدلتا .
- ٣ قاموا بتحنيط أجساد الموتى .

السؤال الخامس :

- ١ ترشيد استهلاك الموارد وتنظيم الأسرة .
- ٢ تقدير احتياجات الدولة من تعليم وصحة وفرص عمل ومرافق .
- ٣ اعتقد المصريون القدماء في البعث والخلود فقاموا بتحنيط أجساد الموتى لحفظ أجسادهم .

نموذج (1) اختبار شهر فبراير

السؤال الأول :

- ١ القاهرة
- ٢ الوادي الجديد
- ٣ الدلتا

السؤال الثاني :

- ١ بيت الحياة
- ٢ الهرم السكاني
- ٣ التحنيط

السؤال الثالث :

- ١ بحثاً عن التعليم وفرص العمل وتحسين مستوى المعيشة .
- ٢ التخطيط الجيد للتنمية والتقدم وتوفير معلومات دقيقة حول عدد السكان .
- ٣ بسبب اختلاف طبقات المجتمع .

السؤال الرابع :

- ١ يؤدي الزواج المبكر إلى زيادة معدل السكان وحدوث مشكلة سكانية .
- ٢ التماسك بين الأسرة المصرية أدى إلى ازدهار الحضارة المصرية .
- ٣ دعا أممحتب إلى عبادة إله واحد وهو آتون (قرص الشمس) .

السؤال الخامس :

- ١ الزيادة الطبيعية
- ٢ الزراعي
- ٣ أوزوريس

نموذج (1) اختبار شهر فبراير



1 أ اختر الإجابة الصحيحة من بين الإجابات المعطاة :

- 1 تعدد جزءاً من الغلاف الجوي . (المنوفية 2023)
- أ النباتات ب الغازات ج المسطحات المائية د الصخور
- 2 توفر التربة العناصر الغذائية للنبات لينمو . يمثل هذا تفاعلاً بين الغلافين (الفيوم 2024)
- أ الغازي والمائي ب الأرضي والمائي ج الحيوي والأرضي د الأرضي والغازي
- 3 من أمثلة المناطق الأحيائية (كفر الشيخ 2023)
- أ الصحاري ب الغابات الحارة ج الغابات المطيرة د جميع ما سبق
- 4 مسطح مائي يحيط به اليابس من جميع الجهات هو (بورسعيد 2024)
- أ البحر ب البحيرة ج المحيط د النهر
- ب في رحلة مدرسية شاهدت بئراً من المياه تستخدم للشرب وري المزروعات :
ما نوع المياه في هذه البئر ؟ (البحيرة 2024)

2 أ ضع علامة (✓) أمام العبارة الصحيحة وعلامة (X) أمام العبارة الخاطئة :

- 1 بحيرة غسل من البحيرات المالحة على سطح الأرض . (القاهرة 2024)
- 2 يغطي الماء حوالي 30% من مساحة الكرة الأرضية . (الجيزة 2023)
- 3 تتعدد البيئات المائية العذبة في مصر مثل بحيرة ناصر . (سوهاج 2023)
- 4 تحدث عملية التعرية نتيجة تفاعل الغلاف الأرضي مع الغلاف الحيوي . (كفر الشيخ 2023)

ب اكتب المصطلح العلمي :

- المنطقة الواقعة على طول الشاطئ وتكون مغمورة بالمياه أثناء المد . (الغربية 2024)

3 أ أكمل ما يأتي :

- 1 مياه المحيطات حول العالم تدور في أنماط تسمى (الإسكندرية 2024)
- 2 معظم الماء العذب يوجد في صورة كتل جليدية تعرف بـ (الإسماعيلية 2024)
- 3 تعيش أسماك السلور في (المنيا 2024)
- 4 تمثل الكائنات الحية الغلاف (الغربية 2023)

ب « تختلف مياه البرك عن مياه المحيطات من حيث نوع وحركة المياه » بم تفسر ذلك؟

- (الدقهلية 2023)

نموذج (2) اختبار شهر فبراير



1 أ اختر الإجابة الصحيحة من بين الإجابات المعطاة :

- (المنوفية 2024)
- 1 تعتبر جزءاً من الغلاف الأرضي .
 أ الحيوانات ب الغازات ج المعادن د مياه البحيرات
- (الإسكندرية 2023)
- 2 مساحة شاسعة من الماء المالح تسمى
 أ الأنهار ب البحار ج البحيرات د المصب
- (الفيوم 2024)
- 3 تتأثر الأشياء غير الحية بالماء مما يؤدي إلى حدوث
 أ التجوية والتعرية ب النمو ج فقدان الحياة د جميع ما سبق
- (دمياط 2024)
- 4 يتواجد السلمون في بيئة من المياه
 أ المالحة الراكدة ب العذبة المتدفقة ج المالحة الجارية د العذبة الراكدة

ب اكتب المصطلح العلمي :

- منطقة كبرى تتميز بكساء خضري وتربة ومناخ وحياة برية تميزها عن غيرها من المناطق .

(السويس 2024)

2 أ ضع علامة (✓) أمام العبارة الصحيحة وعلامة (X) أمام العبارة الخاطئة :

- 1 عند سقوط الأمطار تزداد الكمية الإجمالية للمياه على كوكب الأرض . (كفر الشيخ 2024) ()
- 2 تنمو زهور اللوتس في مياه البرك الراكدة. (الغربية 2023) ()
- 3 تستخدم المياه كوسيلة للسفر ونقل البضائع . (الشرقية 2024) ()
- 4 نسبة المياه العذبة ضئيلة إذا ما قورنت بنسبة المياه المالحة . (كفر الشيخ 2023) ()

ب اذكر السبب :

- تعيش الحيتان في المحيطات فقط ولا تستطيع قناديل البحر العيش في البرك . (القاهرة 2023)

3 أ أكمل ما يأتي :

- 1 تصنف الأنظمة البيئية على الأرض إلى أنظمة تتفاعل معاً. (مطروح 2024)
- 2 المحيطات والبحار من أمثلة المياه (الوادي الجديد 2024)
- 3 يتمثل الغلاف في الرياح التي تحرك الأجسام. (البحر الأحمر 2024)
- 4 تعتبر المياه الجوفية من مصادر المياه (القليوبية 2023)

ب « تأكل الغزالة العشب - تفتت الصخور إلى رمال » .

أي هذه التفاعلات تعبر عن الغلاف الحيوي ؟

(متنصه البث المباشر)



نموذج (3) اختبار شهر فبراير



1 أ اختر الإجابة الصحيحة من بين الإجابات المعطاة :

- (أسبوت 2024)
- 1 الفطط والحشائش جزء من
- أ الغلاف الأرضي ب الغلاف الحيوي ج الغلاف المائي د الغلاف الجوي
- (بني سوف 2024)
- 2 تتميز مياه الجداول المائية بأنها
- أ ساخنة ب باردة وراكدة ج باردة وسريعة التدفق د مالحة
- (المنوفية 2024)
- 3 يعيش سمك السلور في الجداول المائية ، وهذا مثال للتفاعل بين الغلافين
- أ الغازي والمائي ب الحيوي والمائي ج الحيوي والغازي د الأرضي والحيوي
- (الأقصر 2024)
- 4 يعتبر جزءاً من الغلاف الحيوي الذي يؤثر على كل أنظمة الأرض .
- أ الهواء ب التربة ج الأنهار د الإنسان
- ب الماء ضروري لمعظم أشكال الحياة على سطح الأرض. اذكر اثنين من استخدامات الماء.
- (الغربية 2024)

2 أ ضع علامة (✓) أمام العبارة الصحيحة وعلامة (X) أمام العبارة الخاطئة :

- 1 من المناطق الضحلة في الأنظمة البيئية المالحة مناطق المد والجزر. (البحيرة 2024)
- 2 يحدث تفاعل بين أنظمة الأرض وينتج عن ذلك اختلال التوازن البيئي. (سوهاج 2023)
- 3 تنمو في بحيرة عسل في جيوتي نسبة كبيرة من النباتات. (كفر الشيخ 2023)
- 4 عندما تتساقط مياه الأمطار على التربة فهذا يمثل تفاعلاً بين الغلاف الأرضي والمائي. (بور سعيد 2024)

ب اكتب المصطلح العلمي :

- مكان يتدفق إليه الماء في مسار محدد من منطقة عالية الارتفاع إلى منطقة منخفضة. (القليوبية 2024)

3 أ أكمل ما يأتي :

- 1 من أمثلة الكائنات الحية التي تعيش في المحيط
- 2 تشكل المياه المالحة نسبة من الغلاف المائي.
- 3 الصخور والمعادن من أمثلة الغلاف للأرض.
- 4 يحتاج النبات إلى الماء للقيام بعملية
- ب اذكر مثالين لبعض المناطق الأحيائية .
- (السويس 2024)
- (الشرقية 2024)
- (قنا 2023)
- (القليوبية 2023)
- (الفيوم 2023)

نموذج (4) اختبار شهر فبراير



1 أ أكمل مما بين القوسين :

- 1 معظم المياه العذبة على الأرض توجد في صورة..... (أنهار - مياه متجمدة) (دمياط 2024)
- 2 تعيش الحيتان في بيئة مائية..... (مالحة - عذبة) (السويس 2024)
- 3 أي مما يلي لا يعد مثلاً على تفاعل الغلاف الحيوي مع الغلاف الغازي؟..... (التعرية - هواء الزفير) (الشرقية 2024)
- 4 يتواجد سمك موسى في..... (الأنهار- المحيطات) (بور سعيد 2023)

ب علل لما يأتي :

- يبدو كوكب الأرض مثل كرة زرقاء عند النظر إليه من الفضاء . (كفر الشيخ 2023)

2 أ ضع علامة (✓) أمام العبارة الصحيحة وعلامة (X) أمام العبارة الخاطئة :

- 1 تصنف الصخور المنصهرة في باطن الأرض تبعاً للغلاف الصخري. (مطروح 2024) ()
- 2 تحتوي بحيرة عسل في جيبوتي على تركيز منخفض من الأملاح الطبيعية. (الأقصر 2024) ()
- 3 مناطق الشعاب المرجانية هي مناطق شديدة العمق في المحيطات. (المنيا 2024) ()
- 4 يعيش القرموط في مياه الجداول الباردة سريعة التدفق. (القاهرة 2024) ()

ب حدد أغلفة الأرض التي يحدث بينها هذا التفاعل :

- يعيش السمك في الماء . (الدقهلية 2023)

3 أ اختر الإجابة الصحيحة من بين الإجابات المعطاة :

- 1 كمية الماء المالح على سطح الأرض..... كمية الماء العذب . (الجيزة 2024)

أ أكبر من	ب أصغر من	ج تساوي	د نصف
-----------	-----------	---------	-------
- 2 أي مما يلي لا ينتمي للغلاف الحيوي للأرض؟..... (البحيرة 2024)

أ النباتات	ب الحيوانات	ج الأنهار	د الإنسان
------------	-------------	-----------	-----------
- 3 تنمو زهور اللوتس في..... (الإسماعيلية 2024)

أ البرك	ب البحار	ج المحيطات	د البحيرات المالحة
---------	----------	------------	--------------------
- 4 الماء الذي يتدفق من منطقة عالية الارتفاع إلى منطقة منخفضة في قناة محددة هو..... (البحر الأحمر 2024)

أ النهر	ب البحر	ج البحيرة	د المحيط
---------	---------	-----------	----------

ب اكتب المصطلح العلمي :

- غلاف للأرض يحتوي على غاز ضروري لتنفس الكائنات الحية. (أسوان 2024)



الإجابات

نموذج (3) اختبار شهر فبراير

السؤال الأول :

- أ ١ الغلاف الحيوي
ب ٢ باردة وسريعة التدفق
ج ٣ الحيوي والمائي
د ٤ الإنسان

ب أعمال النظافة - نقل البضائع - السفر عبر السفن - الصناعة .

السؤال الثاني :

- أ ١ ✓
ب ٢ ✗
ج ٣ ✗
د ٤ ✓

ب النهر .

السؤال الثالث :

- أ ١ الدولفين
ب ٢ كبيرة (96.5%)
ج ٣ الأراضي
د ٤ البناء الضوئي

ب الصحاري - الغابات - الأراضي الرطبة .

نموذج (4) اختبار شهر فبراير

السؤال الأول :

- أ ١ مياه متجمدة
ب ٢ مالحة
ج ٣ التعرية
د ٤ المحيطات

ب لأن الماء يغطي مساحة كبيرة من سطح الأرض .

السؤال الثاني :

- أ ١ ✓
ب ٢ ✗
ج ٣ ✗
د ٤ ✓

ب الغلاف الحيوي والغلاف المائي .

السؤال الثالث :

- أ ١ أكبر من
ب ٢ الأنهار
ج ٣ البرك
د ٤ النهر

ب الغلاف الجوي .

نموذج (1) اختبار شهر فبراير

السؤال الأول :

- أ ١ الغازات
ب ٢ الحيوي والأرضي
ج ٣ جميع ما سبق
د ٤ البحيرة

ب مياه عذبة .

السؤال الثاني :

- أ ١ ✓
ب ٢ ✗
ج ٣ ✓
د ٤ ✗

ب منطقة المد والجزر .

السؤال الثالث :

- أ ١ تيارات المحيط
ب ٢ الأنهار الجليدية
ج ٣ الجداول المائية
د ٤ الحيوي

ب مياه البرك عذبة وراكدة بينما مياه المحيطات مالحة ومتحركة .

نموذج (2) اختبار شهر فبراير

السؤال الأول :

- أ ١ المعادن
ب ٢ البحار
ج ٣ التجوية والتعرية
د ٤ العذبة المتدفقة

ب المنطقة الأحيائية .

السؤال الثاني :

- أ ١ ✗
ب ٢ ✓
ج ٣ ✓
د ٤ ✗

ب لأن الأنظمة البيئية الموجودة في البرك والمحيطات مختلفة جداً ولكل كائن يبيته التي تناسبه .

السؤال الثالث :

- أ ١ أربعة
ب ٢ المالحة
ج ٣ الجوي
د ٤ العذبة

ب تأكل الغزالة العشب .