

السؤال الأول: اكتب كلمة (صح) أمام العبارات الصحيحة وكلمة (خطأ) أمام العبارات الخاطئة

١ يتركز السكان في السهول الفيضية و الساحلية بالوطن العربي.

٢ يندر السكان في مرتفعات لبنان.

٣ يعيش أكثر من نصف سكان الوطن العربي بالريف.

٤ ينتمي العلماء إلى الطبقة العامة في المجتمع الإسلامي.

٥ بم تفسر: وجود مشكلة الأمية بالوطن العربي؟

السؤال الثاني: أكمل بكلمات مناسبة:

١ تعيش النسبة الأقل من سكان الوطن العربي في الجناح .....

٢ يحتل الوطن العربي المرتبة ..... عالمياً من حيث عدد السكان.

٣ الفئة العمرية التي تحتل قاعدة الهرم السكاني العربي هي .....

٤ انتشرت عادة وأد البنات ..... ظهور الإسلام.

٥ ما النتائج المترتبة على: ارتفاع نسبة صغار السن بالوطن العربي؟

السؤال الثاني: أكمل بكلمات مناسبة:

١ يتركز السكان في دلتا نهر النيل بدولة .....

٢ يندر السكان في الصحراء الكبرى التي بالجناح العربي .....

٣ الفئة العمرية التي تحتل قمة الهرم السكاني العربي هي .....

٤ ينتمي الخليفة في المجتمع الإسلامي رأس الطبقة .....

٥ ما النتائج المترتبة على: ارتفاع معدلات الهجرة من الريف إلى المدن بالوطن العربي؟

السؤال الثالث: (أ) لاحظ الخريطة ثم أجب:

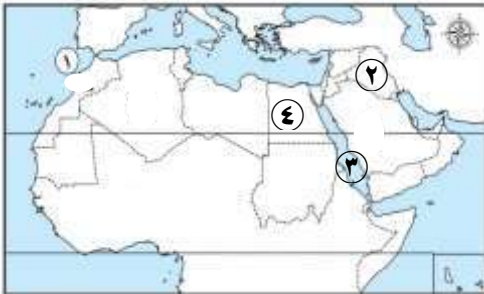
١ المحيط .....

٢ دولة بها سهول نهر الفرات .....

٣ البحر .....

٤ دولة لديها زيادة في السكان .....

٥ ما المقصود بـ : (معدل الوفيات) :



السؤال الثالث: (أ) لاحظ الخريطة ثم أجب:

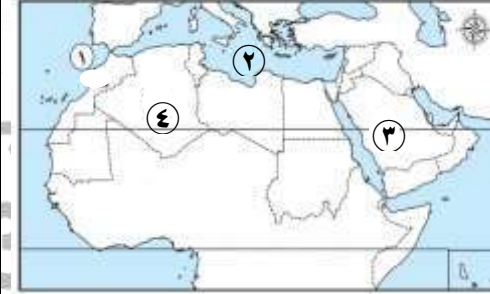
١ المحيط .....

٢ البحر .....

٣ دولة لديها زيادة في الموارد .....

٤ دولة .....

٥ ما المقصود بـ : (معدل المواليد) :



السؤال الأول: اكتب كلمة (صح) أمام العبارات الصحيحة وكلمة (خطأ) أمام العبارات الخاطئة

١ تستقبل دول الخليج أعداداً كبيرة من الوافدين.

٢ يندر وجود السكان في سواحل الشام الشمالية.

٣ تنخفض نسبة المتعلمين بسوريا نتيجة الكوارث الطبيعية.

٤ ضمت الطبقة الخاصة في المجتمع الإسلامي الوزراء.

٥ بم تفسر: يتسم الهرم السكاني للوطن العربي بالقاعدة العريضة؟

السؤال الثاني: أكمل بكلمات مناسبة :

١ أقل الدول العربية من حيث عدد السكان دولة .....

٢ دولة قطر لديها ..... في الموارد وقلة في السكان.

٣ الدولة التي سجلت أعلى معدل عمر متوسط هي دولة .....

٤ ينتمي رؤساء الحرف في المجتمع الإسلامي للطبقة .....

٥ ما النتائج المترتبة على: زيادة عدد السكان في جمهورية مصر العربية عن الموارد ؟

السؤال الثاني: أكمل بكلمات مناسبة :

١ يتركز السكان في شمال أفريقيا لوجود السهول .....

٢ تعاني دولة سوريا و الأردن من قلة .....

٣ يعيش ثلثا سكان الوطن العربي في المناطق .....

٤ ينتمي كبار العمال في المجتمع الإسلامي للطبقة .....

٥ ما النتائج المترتبة على: وجود نقص في عدد السكان بدولتي الإمارات والبحرين ؟

السؤال الثالث: (أ) لاحظ الخريطة ثم أجب:

١ المحيط .....

٢ البحر .....

٣ دولة بها قلة عدد سكان .....

٤ دولة بها سهول نهر النيل .....

٥ اكتب عملاً واحداً : (منظمة المرأة العربية) :

السؤال الثالث: (أ) لاحظ الخريطة ثم أجب:

١ المحيط .....

٢ دولة بها سهول نهر دجلة .....

٣ البحر .....

٤ دولة تزيد بها نسبة الأمية .....

٥ اكتب عملاً واحداً : (السيدة رفيدة الأسلمية) :

السؤال الأول: اكتب كلمة (صح) أمام العبارات الصحيحة وكلمة (خطأ) أمام العبارات الخاطئة

١ تضم مصر حوالي نصف سكان الوطن العربي.

٢ تعد مناطق الصناعة والتعدين من مناطق ندرة السكان.

٣ تعد البحرين من أعلى دول الوطن العربي من حيث الأمية.

٤ تولت المرأة العربية المناصب القيادية في العصر الحديث.

٥ بم تفسر: تفضيل سكان لبنان سكنى الجبال ؟

السؤال الثاني: أكمل بكلمات مناسبة :

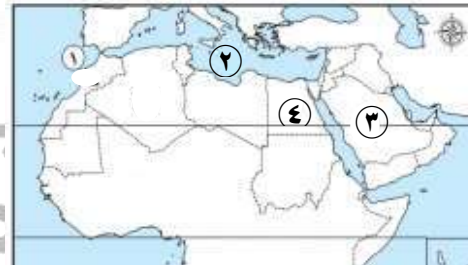
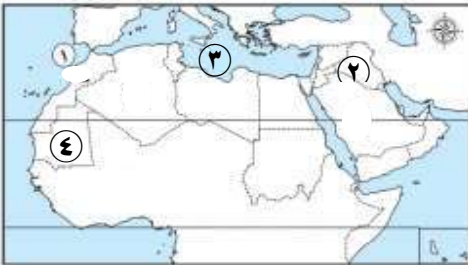
١ يتركز السكان في شمال أفريقيا لوجود السهول .....

٢ تعاني دولة سوريا و الأردن من قلة .....

٣ يعيش ثلثا سكان الوطن العربي في المناطق .....

٤ ينتمي كبار العمال في المجتمع الإسلامي للطبقة .....

٥ ما النتائج المترتبة على: وجود نقص في عدد السكان بدولتي الإمارات والبحرين ؟



الاسم / ..... الفصل...../.....

السؤال الأول: اكتب كلمة (صح) أمام العبارات الصحيحة وكلمة (خطأ) أمام العبارات الخاطئة

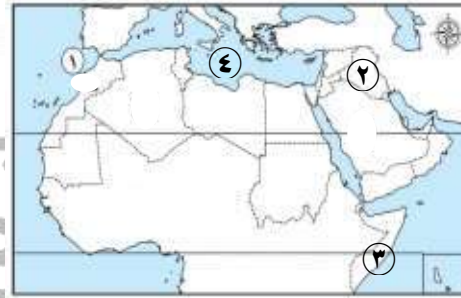
- 1 تعاني دولة الإمارات من نقص الموارد و زيادة أعداد السكان.
  - 2 يتركز السكان في السهل الفيضي بوادي النيل ودلتاه بدولة ليبيا.
  - 3 يؤثر المستوى الصحي للسكان على اقتصاد الدولة.
  - 4 منح الإسلام المرأة حق الوراثة وتملك الأموال.
- ⊖ بم تفسر: تختلف الكثافة السكانية من دولة لأخرى؟

السؤال الثاني: أكمل بكلمات مناسبة :

- 1 تتركز النسبة الأكبر من سكان الوطن العربي بالجنح
  - 2 الدولة العربية الثانية سكانياً من حيث عدد السكان هي
  - 3 ينقسم الهرم السكاني العربي إلى ..... فئات عمرية
  - 4 ينتمي قادة الجند في المجتمع الإسلامي للطبقة
- ⊖ ما النتائج المترتبة على: اعتدال المناخ فوق مرتفعات لبنان؟

السؤال الثالث: (أ) لاحظ الخريطة ثم أجب:

- 1 المحيط
  - 2 دولة بها سهول نهر دجلة
  - 3 دولة بها أدنى متوسط للعمر
  - 4 البحر
- ⊖ اكتب عملاً واحداً لـ : (السيدة سمراء الأودية) :



الاسم / ..... الفصل...../.....

السؤال الأول: اكتب كلمة (صح) أمام العبارات الصحيحة وكلمة (خطأ) أمام العبارات الخاطئة

- 1 يختلف توزيع السكان من دولة إلى أخرى.
  - 2 ينخفض معدل النمو السكاني بالوطن العربي مقارنة بالمعدل العالمي.
  - 3 يمثل سكان الحضر نحو ثلث سكان الوطن العربي.
  - 4 انتشرت عادة وأد البنات بعد ظهور الإسلام.
- ⊖ بم تفسر: تركز السكان بمناطق السهول الفيضية و الساحلية بالوطن العربي؟

السؤال الثاني: أكمل بكلمات مناسبة :

- 1 يتركز السكان في سهول نهري دجلة والفرات بدولة
  - 2 يتركز السكان في مرتفعات لبنان بسبب اعتدال
  - 3 يعيش حوالي ربع سكان الوطن العربي بدولة
  - 4 أعطى الخليفة عمر بن الخطاب (رضي الله عنه) عام 15 هـ الأمان لأهل
- ⊖ ما النتائج المترتبة على: تحسن المستوى الصحي والمعيشي في الدول العربية؟

السؤال الثالث: (أ) لاحظ الخريطة ثم أجب:

- 1 المحيط
  - 2 منطقة نادرة السكان
  - 3 البحر
  - 4 دولة بها زيادة في عدد السكان
- ⊖ اكتب عملاً واحداً لـ : (السيدة الشفاء العدوية) :

