

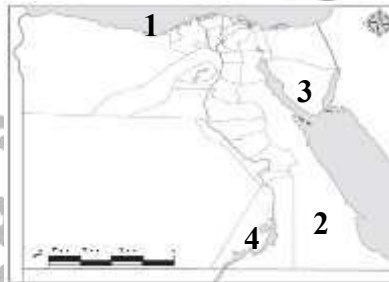
السؤال الأول: اكتب كلمة (صح) أمام العبارات الصحيحة وكلمة (خطأ) أمام العبارات الخاطئة

- 1 يمثل سكان الحضر أكثر من نصف سكان مصر.
  - 2 يشتهر سكان سيناء بسباقات الهجن.
  - 3 عدم معرفة القراءة أو الكتابة هي أمية معلوماتية.
  - 4 يختار رئيس الجمهورية نصف عدد مجلس النواب.
- Ⓒ بم تفسر: انخفاض عدد سكان محافظة جنوب سيناء؟

السؤال الثاني: أكمل بكلمات مناسبة:

- 1 تجري مصر تعداداً سكانيًا كل ..... سنوات.
  - 2 تُعد آلة السمسامية أشهر الآلات الموسيقية في مدن .....
  - 3 السلطة المسنولة عن سن القوانين في مصر هي .....
  - 4 ثالث أكبر محافظات مصر من حيث عدد المتعلمين هي محافظة .....
- Ⓒ ما النتائج المترتبة على: وجود نظام للحكم في مصر قديماً؟

السؤال الثالث: (أ) لاحظ الخريطة ثم أجب:



- 1 البحر .....
  - 2 الصحراء .....
  - 3 محافظة .....
  - 4 بحيرة .....
- Ⓒ ما المقصود بـ: (الساعة السكانية):

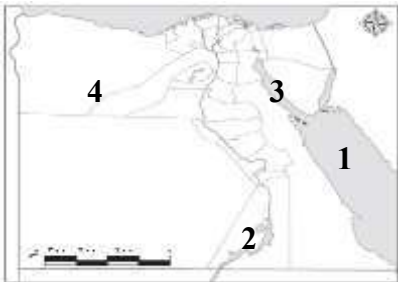
السؤال الأول: اكتب كلمة (صح) أمام العبارات الصحيحة وكلمة (خطأ) أمام العبارات الخاطئة

- 1 النشاط الاقتصادي الرئيسي لسكان البدو هو الصناعة.
  - 2 تنتشر سباقات الهجن في صعيد مصر.
  - 3 زيادة معدلات الجريمة تنتج من انتشار البطالة.
  - 4 يتولى رئيس الجمهورية الرئاسة عن طريق الانتخاب.
- Ⓒ بم تفسر: انخفاض نسبة الأمية بين سكان الحضر؟

السؤال الثاني: أكمل بكلمات مناسبة:

- 1 ينتشر فن التحطيب محافظات .....
  - 2 النشاط الاقتصادي الأصلي لسكان البدو هو .....
  - 3 المحافظة الأقل سكاناً في جمهورية مصر العربية هي محافظة .....
  - 4 يعد التراث النوبي في محافظة أسوان امتداد للحضارة .....
- Ⓒ ما النتائج المترتبة على: اهتمام الدولة بالتراث الثقافي؟

السؤال الثالث: (أ) لاحظ الخريطة ثم أجب:



- 1 البحر .....
  - 2 بحيرة .....
  - 3 خليج .....
  - 4 محافظة .....
- Ⓒ ما المقصود بـ: (التعداد السكاني):

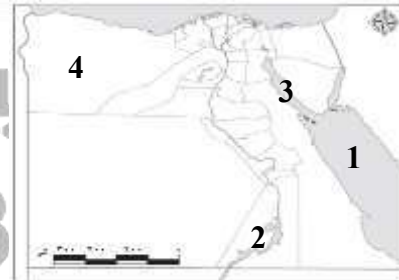
السؤال الأول: اكتب كلمة (صح) أمام العبارات الصحيحة وكلمة (خطأ) أمام العبارات الخاطئة

- 1 تقلل الامية من فرص العمل المتاحة للفرد.
  - 2 يختلف توزيع سكان مصر بين المحافظات.
  - 3 تتشابه لهجات السكان في كل البيئات المصرية.
  - 4 تمثل الأمية مشكلة اقتصادية تواجه المجتمع المصري.
- ⊖ بم تفسر: أهمية وجود حكومة داخل الدولة؟

السؤال الثاني: أكمل بكلمات مناسبة:

- 1 النشاط الاقتصادي الأصلي لسكان البدو هو.....
  - 2 تجري جمهورية مصر العربية تعداداً لسكانها كل ..... سنوات
  - 3 يعد التراث النوبي في محافظة أسوان إمتداد للحضارة .....
  - 4 عدم قدرة أحد جيرانك على القراءة والكتابة تعرف بالأمية .....
- ⊖ ما النتائج المترتبة على: تأسيس نظام حكم قوي وثابت في مصر القديمة؟

السؤال الثالث: (أ) لاحظ الخريطة ثم أجب:



- 1 البحر .....
  - 2 بحيرة .....
  - 3 خليج .....
  - 4 محافظة .....
- ⊖ ما المقصود ب: (التراث الثقافي):

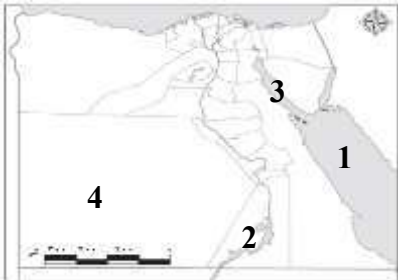
السؤال الأول: اكتب كلمة (صح) أمام العبارات الصحيحة وكلمة (خطأ) أمام العبارات الخاطئة

- 1 أدى الزواج المبكر إلى زيادة نسبة السكان في الريف بمصر.
  - 2 يشتهر سكان سيناء بإقامة سباقات الهجن.
  - 3 أكثر المشكلات الاجتماعية المنتشرة في مصر هي التلوث.
  - 4 تقلل الأمية من فرص العمل المتاحة أمام الفرد.
- ⊖ بم تفسر: زيادة حجم الأسرة في الريف عن الحضر؟

السؤال الثاني: أكمل بكلمات مناسبة:

- 1 المحافظة الأقل سكاناً في جمهورية مصر العربية هي محافظة .....
  - 2 فن ..... من الفنون التراثية التي يشتهر بها صعيد مصر.
  - 3 يعد التراث النوبي في محافظة أسوان امتداد للحضارة .....
  - 4 ثاني أعلى محافظات مصر من حيث نسبة الأمية محافظة .....
- ⊖ ما النتائج المترتبة على: اهتمام الدولة بالتراث الثقافي؟

السؤال الثالث: (أ) لاحظ الخريطة ثم أجب:



- 1 البحر .....
  - 2 بحيرة .....
  - 3 خليج .....
  - 4 محافظة .....
- ⊖ ما المقصود ب: (الأمية الهجائية):

السؤال الأول: اكتب كلمة (صح) أمام العبارات الصحيحة وكلمة (خطأ) أمام العبارات الخاطئة

- 1 يعاني معظم سكان الريف من انخفاض الدخل ومستوى المعيشة.
  - 2 يساعد الاهتمام بالتراث الثقافي على زيادة عدد السائحين لمصر.
  - 3 تزداد نسبة البطالة والأمية في الحضر عن الريف.
  - 4 تعد الحكومة جزء من السلطة التنفيذية.
- ⊖ بم تفسر: أهمية مجلس النواب المصري؟

.....

.....

السؤال الثاني: أكمل بكلمات مناسبة:

- 1 يتولى رئيس الجمهورية الرئاسة عن طريق .....
  - 2 تؤدي مشكلات الأمية والفقر والبطالة إلى ارتفاع معدل .....
  - 3 السكان الذين يشتهرون بالعزف على آلة السمسمية هم سكان .....
  - 4 تجرى جمهورية مصر العربية تعدادها السكاني كل .....
- ⊖ ما النتائج المترتبة على: اختراع المصريين القدماء للكتابة؟

.....

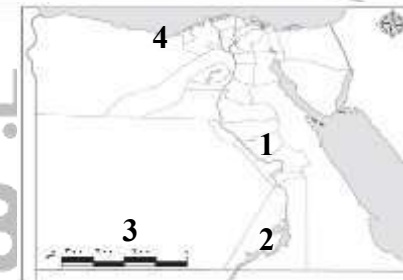
.....

السؤال الثالث: (أ) لاحظ الخريطة ثم أجب:

- 1 الصحراء .....
  - 2 بحيرة .....
  - 3 محافظة .....
  - 4 البحر .....
- ⊖ ما المقصود بـ: (الأمية الهجائية):

.....

.....



السؤال الأول: اكتب كلمة (صح) أمام العبارات الصحيحة وكلمة (خطأ) أمام العبارات الخاطئة

- 1 يعمل معظم سكان الحضر بالتجارة والصناعة والخدمات.
  - 2 يعتمد اقتصاد واحة سيوة على التجارة والسياحة.
  - 3 تقلل الأمية من فرص العمل المتاحة أمام الفرد.
  - 4 كان الوزير على رأس نظام الحكم في مصر القديمة.
- ⊖ بم تفسر: أهمية التراث الثقافي المصري؟

.....

.....

السؤال الثاني: أكمل بكلمات مناسبة:

- 1 يمثل مجلس النواب السلطة ..... في مصر
  - 2 عدم قدرة أحد جيرائك على القراءة والكتابة تعرف بالأمية .....
  - 3 أقامت منظمة اليونسكو بأسوان متحفاً لحفظ التراث الثقافي وهو متحف .....
  - 4 أولى محافظات مصر من حيث نسبة الأمية محافظة .....
- ⊖ ما النتائج المترتبة على: وجود حكومة داخل الدولة؟

.....

.....

السؤال الثالث: (أ) لاحظ الخريطة ثم أجب:

- 1 بحيرة .....
  - 2 الصحراء .....
  - 3 البحر .....
  - 4 محافظة .....
- ⊖ ما المقصود بـ: (مجلس الشيوخ):

.....

.....

