

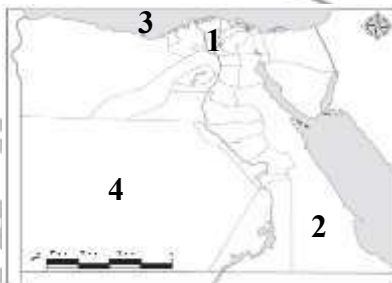
السؤال الأول: اكتب كلمة (صح) أمام العبارات الصحيحة وكلمة (خطأ) أمام العبارات الخاطئة

- 1 تعد محافظة القاهرة محافظة طاردة للسكان.
 - 2 التركيب الاقتصادي هو تقسيم السكان إلى ذكور وإناث.
 - 3 يزيد معدل الانجاب في الحضرة عن الريف.
 - 4 كان المجتمع المصري قديماً ينقسم إلى أربع طبقات.
- ⊖ بم تفسر: ظهور العشوائيات في مصر؟

السؤال الثاني: أكمل بكلمات مناسبة:

- 1 سفر والدك إلى دولة قطر للعمل يعد هجرة
 - 2 يمثل اللون الأزرق في الهرم السكاني
 - 3 صنعت ملابس العامة قديماً عند المصريين القدماء من
 - 4 تأتي مصر في المرتبة أفريقياً من حيث عدد السكان.
- ⊖ ما النتائج المترتبة على: زيادة الهجرة الداخلية بين المحافظات المصرية؟

السؤال الثالث: (أ) لاحظ الخريطة ثم أجب:



- 1 منطقة تركيز سكاني
 - 2 الصحراء
 - 3 البحر
 - 4 محافظة منخفضة الكثافة السكانية
- ⊖ ما المقصود بـ: (الزيادة الطبيعية):

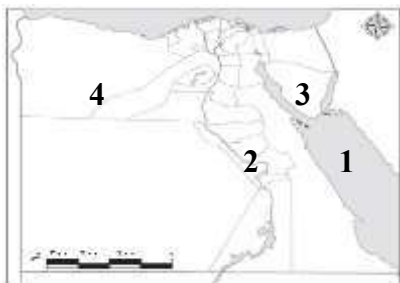
السؤال الأول: اكتب كلمة (صح) أمام العبارات الصحيحة وكلمة (خطأ) أمام العبارات الخاطئة

- 1 يقل تركيز السكان في محافظة جنوب سيناء.
 - 2 ترتفع نسبة الذكور في مصر عن الإناث.
 - 3 مشكلة الزيادة السكانية تؤدي إلى زيادة الخدمات.
 - 4 كبار الحرفيين قديماً كانوا ينتمون إلى الطبقة الثانية.
- ⊖ بم تفسر: ارتفاع الكثافة السكانية في محافظات الوادي و الدلتا؟

السؤال الثاني: أكمل بكلمات مناسبة:

- 1 تحتل مصر المركز من حيث عدد السكان داخل قارة أفريقيا.
 - 2 قاعدة الهرم السكاني تحتلها فئة
 - 3 حكام الأقاليم قديماً كانوا ينتمون إلى الطبقة
 - 4 المسئول عن توفير الاحتياجات الأساسية للأسرة هو
- ⊖ ما النتائج المترتبة على: تقدم الرعاية الصحية والاجتماعية بالنسبة لكبار السن؟

السؤال الثالث: (أ) لاحظ الخريطة ثم أجب:



- 1 البحر
 - 2 منطقة تركيز سكاني
 - 3 محافظة منخفضة الكثافة السكانية
 - 4 الصحراء
- ⊖ ما المقصود بـ: (الهجرة الداخلية):

السؤال الأول: اكتب كلمة (صح) أمام العبارات الصحيحة وكلمة (خطأ) أمام العبارات الخاطئة

- ١ محافظة الإسكندرية من المحافظات الجاذبة للسكان.
 - ٢ تقع فنة صغار السن في قمة الهرم السكاني.
 - ٣ كلما زاد عدد السكان يزيد معدل التلوث.
 - ٤ اقتصرت صناعة ملابس الأغنياء قديماً على الكتان.
- ⊖ بم تفسر: اتساع قاعدة الهرم السكاني في مصر؟

السؤال الثاني: أكمل بكلمات مناسبة:

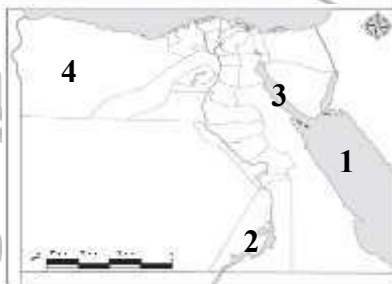
- ١ يحدث النمو السكاني نتيجة الهجرة و
 - ٢ يؤدي الزواج المبكر إلى أعداد السكان
 - ٣ يتسم الهرم السكاني لمصر بالقاعدة
 - ٤ صنعت ملابس الملك و الأغنياء قديماً من
- ⊖ ما النتائج المترتبة على: تفضيل الذكور على الإناث في المجتمع المصري؟

السؤال الثاني: أكمل بكلمات مناسبة:

- ١ الزواج لمبكر يؤدي لزيادة أعداد
 - ٢ قلة المياه العذبة من العوامل لجذب السكان
 - ٣ الفنة المنتجة في مصر تقع في الهرم السكاني.
 - ٤ تكونت الطبقة الأولى في المجتمع المصري قديماً من
- ⊖ ما النتائج المترتبة على: وعورة السطح في محافظة جنوب سيناء؟

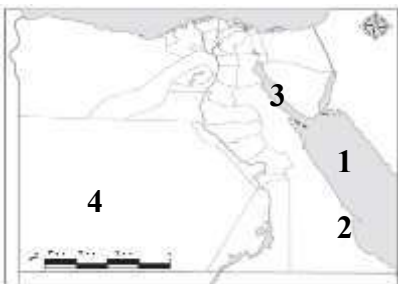
السؤال الثالث: (أ) لاحظ الخريطة ثم أجب:

- ١ البحر
 - ٢ بحيرة
 - ٣ خليج
 - ٤ محافظة منخفضة الكثافة السكانية
- ⊖ ما المقصود بـ: (الكثافة السكانية):



السؤال الثالث: (أ) لاحظ الخريطة ثم أجب:

- ١ البحر
 - ٢ محافظة منخفضة الكثافة السكانية
 - ٣ خليج
 - ٤ الصحراء
- ⊖ ما المقصود بـ: (التركيب النوعي):



السؤال الأول: اكتب كلمة (صح) أمام العبارات الصحيحة وكلمة (خطأ) أمام العبارات الخاطئة

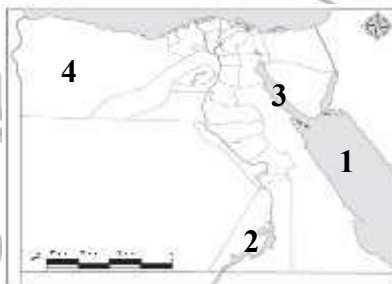
- ١ تأتي مصر في المرتبة ال 16 عالمياً من حيث عدد السكان.
 - ٢ يختلف شكل الهرم السكاني من دولة إلى أخرى.
 - ٣ يزداد معدل عمر الفرد بتحسّن مستوى الرعاية الصحية.
 - ٤ احتفل المصريون القدماء بعيد الفيضان و الحصاد.
- ⊖ بم تفسر: أهمية بيانات الهرم السكاني؟

السؤال الثاني: أكمل بكلمات مناسبة:

- ١ الزواج لمبكر يؤدي لزيادة أعداد
 - ٢ قلة المياه العذبة من العوامل لجذب السكان
 - ٣ الفنة المنتجة في مصر تقع في الهرم السكاني.
 - ٤ تكونت الطبقة الأولى في المجتمع المصري قديماً من
- ⊖ ما النتائج المترتبة على: وعورة السطح في محافظة جنوب سيناء؟

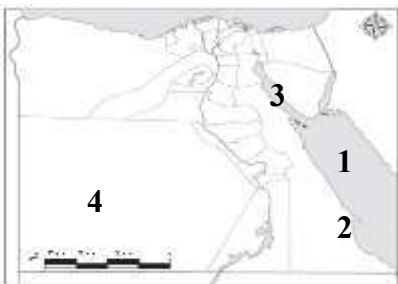
السؤال الثالث: (أ) لاحظ الخريطة ثم أجب:

- ١ البحر
 - ٢ بحيرة
 - ٣ خليج
 - ٤ محافظة منخفضة الكثافة السكانية
- ⊖ ما المقصود بـ: (الكثافة السكانية):



السؤال الثالث: (أ) لاحظ الخريطة ثم أجب:

- ١ البحر
 - ٢ محافظة منخفضة الكثافة السكانية
 - ٣ خليج
 - ٤ الصحراء
- ⊖ ما المقصود بـ: (التركيب النوعي):



السؤال الأول: اكتب كلمة (صح) أمام العبارات الصحيحة وكلمة (خطأ) أمام العبارات الخاطئة

١ تعد مصر من أحدث دول العالم في إجراء التعداد السكاني.

٢ نتوقع أن تقل نسبة كبار السن في مصر مستقبلاً.

٣ مارس المصري القديم رياضة المصارعة.

٤ اقتصر دور المرأة قديماً على العمل داخل المنزل.

Ⓒ بم تفسر: استمرار بعض الأسر في الانجاب حتى تنجب ذكراً؟

السؤال الثاني: أكمل بكلمات مناسبة:

١ تؤدي الهجرة الداخلية إلى زيادة الضغط على

٢ يمثل اللون الأزرق على الهرم السكاني

٣ أصدرت الدولة قوانين تمنع عمالة

٤ الإشراف على الأدوار المتعلقة بالمنزل كانت من مهام

Ⓒ ما النتائج المترتبة على: اختلاف طبقات المجتمع المصري قديماً؟

السؤال الثالث: (أ) لاحظ الخريطة ثم أجب:

١ الصحراء

٢ بحيرة

٣ محافظة منخفضة الكثافة السكانية

٤ البحر

Ⓒ ما المقصود بـ: (التركيب العمري):

السؤال الأول: اكتب كلمة (صح) أمام العبارات الصحيحة وكلمة (خطأ) أمام العبارات الخاطئة

١ تؤدي الهجرة من مكان إلى آخر إلى ظهور زيادة كثافة السكان.

٢ تمثل فئة كبار السن تقريبا ثلث عدد السكان.

٣ أهتم المصري القديم بالعزف و الغناء .

٤ مارس المصريون القدماء لعبة التحطيب.

Ⓒ بم تفسر: وضعت الحكومة قوانين تجرم عمالة الأطفال؟

السؤال الثاني: أكمل بكلمات مناسبة:

١ وعورة السطح من العوامل لندرة السكان

٢ يرجع اختلاف شكل الهرم السكاني من دولة لآخر إلى

٣ يترتب على المشكلة السكانية زيادة الموارد.

٤ ينتمي العاملون بالزراعة إلى الطبقة في المجتمع المصري قديماً.

Ⓒ ما النتائج المترتبة على: مشكلة الزواج المبكر؟

السؤال الثالث: (أ) لاحظ الخريطة ثم أجب:

١ بحيرة

٢ الصحراء

٣ البحر

٤ محافظة منخفضة الكثافة السكانية

Ⓒ ما المقصود بـ: (الهرم السكاني):

