

20
25



المتفوق

الصف الرابع الابتدائي

الدراسات الاجتماعية

الفصل الدراسي الثاني

اعداد | مستر حاتم عاطف



01066015065





" المحتويات "

الوحدة الأولى : السكان ونظام الحكم في بلدنا.	
الدرس الأول : أنماط سكان بلدنا.....	4
الدرس الثاني : التراث الثقافي لسكان بلدنا.....	13
الدرس الثالث : نماذج للمشكلات الاجتماعية في بلدنا.....	21
الدرس الرابع : نظام الحكم في بلدنا.....	27
مراجعة عامة على الوحدة الأولى.....	33
اختبار (1).....	39
الوحدة الثانية : الأماكن السياحية والتراثية في بلدنا.	
الدرس الأول: تراثنا الوطني.....	40
الدرس الثاني: الأماكن التراثية في بلدنا.....	47
الدرس الثالث: الأماكن السياحية والتراثية في بلدنا.....	53
الدرس الرابع: السياحة واقتصاد بلدنا.....	59
الدرس الخامس : مسئوليتنا نحو تراث بلدنا.....	66
هيئات مؤثرة في المجتمع المصري : الجهاز المركزي للتعبئة العامة والاحصاء – منظمة اليونسكو.....	70
مراجعة عامة على الوحدة الثانية.....	71
اختبار(2).....	77
الوحدة الثالثة : وسائل النقل والاتصال في بلدنا.	
الدرس الأول: تطوير وسائل النقل وتأثيرها في بلدنا.....	78
الدرس الثاني: أنواع وسائل النقل في حياتي.....	84
الدرس الثالث: قواعد وأخلاقيات استخدام وسائل النقل.....	91
الدرس الرابع: تطوير وسائل الاتصال وتأثيرها في المجتمع.....	96
شخصيات مصرية مؤثرة : الملك خوفو – الملكة حتشبسوت.....	101

103مراجعة عامة علي الوحدة الثالثة

109اختبار (3)

110مراجعة الكتاب المدرسي



عملية حصر شامل للسكان لتحديد الخدمات التي يحتاجها السكان في الحاضر والمستقبل

ما المقصود بالتعداد السكاني



الجهاز المركزي للتعبئة العامة والاحصاء

من المسئول عنه

✓ تقوم به مصر كل **عشر سنوات** و بلغ عدد سكان مصر نحو 94,8 مليون نسمة وفق آخر تعداد للسكان لعام 2017 م.

تعداد مصر عبر العصور

مصر الحديثة	مصر الاسلامية	مصر القديمة
<ul style="list-style-type: none"> تقوم مصر حاليا بالتعداد كل عشر سنوات يشمل بيانات السكان من حيث : النوع العمر، محل الإقامة، مستوى التعليم الحالة الاجتماعية، الوضع الاقتصادي . مما يساعد في تحديد الخدمات التي يحتاجها السكان في الحاضر والمستقبل . سيتم إجراء التعداد السكاني القادم في عام ٢٠٢٧ م. 	<ul style="list-style-type: none"> التعداد السكاني في عصر الدولة الإسلامية عام ٦٠٠ م : تم إجراء تعداد للأفراد واستمر إجراؤه سنة أشهر. 	<ul style="list-style-type: none"> مصر من أقدم الدول التي أجرت تعداد للسكان حيث : أجرى المصريون القدماء تعداد للأفراد عام ٣٣٤٠ ق.م. ثم تبعه تعداد عام ٣٠٥٠ ق.م. تم تقدير متوسط الأسر وصغار السن و في عهد الملك امنحتب الثالث (١٤١١ - ١٣٧٥ ق . م) : قاموا بعد الجنود والظباط الصالحين للخدمة العسكرية

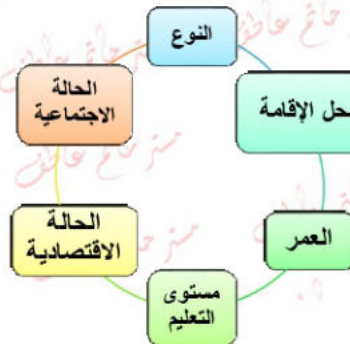
مستر حاتم عاطف

أهمية التعداد السكاني

• تحرص مصر على إجراء تعداد السكان . (**بم تفسر**) لتحديد **الخدمات المختلفة** التي يحتاجها السكان في الحاضر والمستقبل .

بيانات التعداد السكاني

يشمل التعداد السكاني بيانات مثل :



فكر وأجب مع المتفوق

السؤال الاول : أكمل

- 1- الجهاز المسئول عن التعداد السكاني هو
 - 2- تقوم مصر بعمل تعداد للسكان كل سنوات
 - 3- تم في عهد الملك اجراء تعداد للضباط والجنود الصالحين للخدمة العسكرية
- السؤال الثاني : بم تفسر
- 1- أهمية التعداد السكاني؟

ثانيا : انماط السكان في مصر

سكان الصحاري (البدو)

نسبة ضئيلة جدًا من
سكان مصر



سكان الريف

٥٧,٦ ٪ من سكان مصر
عام ٢٠١٧



سكان الحضر

٤٣,٤ ٪ من سكان مصر
عام ٢٠١٧



مستتر حاتم عاطف

سكان الحضر

هم الذين يسكنون المدن ويعملون في الصناعة والتجارة والسياحة والخدمات الأخرى (التعليمية والصحية والمصرفية).

(أ) محافظات الحضر :

هناك أربع محافظات حضرية وهي : (القاهرة - الإسكندرية - السويس - بورسعيد) .

الأمية : هي عدم قدرة الإنسان
على القراءة والكتابة .



(ب) الخصائص التعليمية

تنخفض نسبة الأمية بين سكان الحضر بسبب :

- 1 - انتشار المؤسسات التعليمية .
- 2- ارتفاع مستوى المعيشة .

(ج) الهجرة من الريف إلى المدن :

تؤدي هجرة سكان الريف للمدن إلى :

- 1- زيادة الضغط على الخدمات في المدن .
- 2- ظهور العشوائيات.. لذلك تقوم الدولة حاليا بتنفيذ المشروع القومي لتطوير العشوائيات .

2- سكان الريف

وهم الذين يسكنون القرى ويعملون في الزراعة وتربية الحيوانات .

(أ) الخصائص التعليمية :

ترتفع نسبة الأمية بين سكان الريف مقارنة بسكان الحضر .

(ب) الخصائص الاجتماعية :

يزيد عدد أفراد الأسرة في الريف عن الحضر ، ويرجع ذلك للأسباب الآتية :

- 1- كثرة الإنجاب .
- 2- الزواج المبكر .
- 1- أهمية تنظيم الأسرة .
- 2- تقليل الإنجاب .

(ج) الخصائص الاقتصادية :

يعاني سكان الريف من :

- 1- انخفاض الدخل .
- 2- انخفاض مستوى المعيشة .

بسبب

- 1- قلة الخدمات .
- 2- نقص فرص العمل .

لذلك قامت الدولة بإطلاق مبادرات لتنمية الريف مثل : **مبادرة حياة كريمة** .

3- سكان البدو

هم الذين يعيشون في الصحاري المصرية ويمارسون حرفة **الرعي** ، وهم نسبة ضئيلة جدا من السكان .

جهود الدولة لتحسين أوضاعهم

تعمل الدولة على استقرارهم وتحسين مستوى معيشتهم من خلال :

- 1- بناء المساكن .
- 2- توفير فرص العمل لهم في مجالي الزراعة والتعدين .



النتائج المترتبة على تنوع السكان في مصر

يساعد تنوع السكان في مصر على تحقيق

- 1- التكامل بين السكان .
- 2- التبادل في المنتجات.
- 3 - التنمية في جميع المجالات الاقتصادية.

المشروعات القومية لتطوير الريف المصري :

1- مبادرة حياة كريمة (2014 ، 2030 م)

أسباب قيام المشروع : تحقيق التنمية الشاملة والمستدامة للقرى.



أهداف المشروع

- تحسين مستوى الخدمات كالتعليم والصحة.
- تحسين البنية الأساسية بالقرى كالصرف الصحي والطرق.
- تحسين مستوى الدخل ومستوى معيشة سكان الريف.

2- تنظيم الأسرة يعنى تقليل عدد الأفراد في الأسرة الواحدة.

مميزات تنظيم الأسرة وقلة الأنجاب:

- يساعد على تربية الطفل وتعليمه بشكل جيد.
- يحافظ على صحة المرأة.
- يقلل عدد وفيات الأطفال.

مخاطر عدم تنظيم الأسرة وكثرة الأنجاب:

- زيادة عدد السكان عن الموارد المتاحة.
- مما يؤثر سلباً على مشروعات التنمية

تنظيم الأسرة وتقليل الزيادة السكانية من أجل الأرتقاء بحياة المواطن خاصة حياة المرأة والطفل.

أهداف المشروع

فكر وأجب مع المتفوق

السؤال الأول: أكتب ما تشير إليه العبارات التالية

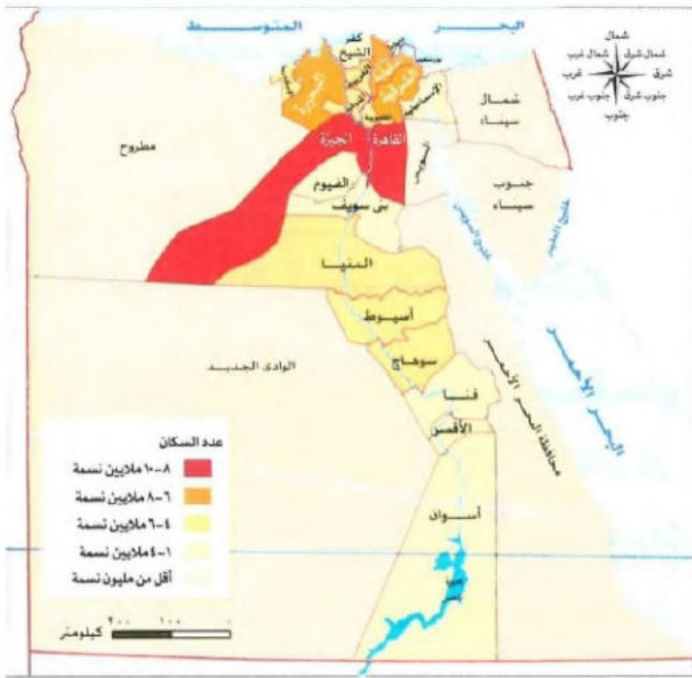
- 1- هم الذين يسكنون المدن ويعملون في الصناعة والتجارة والسياحة
- 2- هم الذين يسكنون القرى ويعملون في الزراعة وتربية الحيوانات
- 3- هم الذين يعيشون في الصحاري المصرية ويمارسون حرفة الرعي

السؤال الثاني: ما النتائج المترتبة علي

- 1- هجرة سكان الريف للمدن؟.....

أسئلة الدرس الأول: أنماط سكان بلدنا

السؤال الأول: بالنظر إلى خريطة توزيع السكان في مصر وبالاستعانة بمفتاح الخريطة ضع دائرة حول الإجابة الصحيحة مما يلي:



1. محافظة يزيد فيها عدد السكان على 8 ملايين نسمة.

(القاهرة - أسيوط - أسوان - الشرقية)

2. محافظة يقل فيها عدد السكان عن مليون نسمة.

(الفيوم - الجيزة - مطروح - الشرقية)

3. تتشابه محافظتا..... و..... أعداد السكان في مصر.

(سوهاج ومطروح - الشرقية والبحيرة - الفيوم والجيزة - أسوان والقاهرة)

4. أكثر المحافظات من حيث عدد السكان محافظتا.....

(قنا وأسوان - القاهرة والجيزة - الشرقية والغربية - المنوفية والإسكندرية)

5. محافظة يتراوح سكانها ما بين ١ - ٤ ملايين نسمة.

(المنيا - الجيزة - الغربية - الأقصر)

6. تتشابه كل من محافظتي..... و..... في عدد السكان.

(الإسكندرية وأسيوط - سوهاج وأسوان - بنى سويف والشرقية - قنا والمنوفية)

السؤال الثاني ضع علامة (✓) أمام العبارة الصحيحة، وعلامة (X) أمام العبارة غير الصحيحة

1. تبذل الدولة جهودًا كبيرة لاستقرار سكان البدو. ()
2. محافظة جنوب سيناء أقل المحافظات سكانًا بسبب وفرة موارد المياه. ()
3. يتجه سكان الحضر إلى الهجرة للمناطق الريفية. ()
4. يسهم تنوع أنماط السكان في مصر في تحقيق التكامل. ()

5. حصر عدد السكان كل عدة سنوات يقصد به التعداد السكاني. ()
6. تسعى مبادرة «حياة كريمة لتحقيق التنمية المستدامة. ()
7. تزداد نسبة البطالة والامية في الحضر عن الريف. ()
8. يساعد تنظيم الأسرة على زيادة عدد الأطفال لدى الأسرة. ()
9. يقيم معظم السكان الذين يعملون بالزراعة في المدن. ()
10. يختلف توزيع سكان مصر بين المحافظات. ()
11. أدى الزواج المبكر إلى زيادة نسبة السكان في الريف. ()
12. تسببت هجرة سكان المدن إلى الريف في ظهور العشوائيات حول المدن. ()

السؤال الثالث أكمل العبارات الآتية بما يناسبها من كلمات

1. المسئول عن إجراء التعداد السكاني في مصر هو.....
2. يمثل سكان... نسبة ضئيلة جدا من سكان مصر
3. يتم إجراء عملية عد شامل للسكان في مصر كل.....
4. تقليل عدد الأطفال في الأسرة الواحدة هو.....
5. يزداد حجم الأسر المصرية في.....
6. أطلقت الدولة مبادرات لتنمية الريف مثل مبادرة.....
7. أعلى محافظات مصر سكاناً.....
8. تعد مصر من أقدم الدول التي أجرت عدا للسكان، وكان ذلك في عهد الملك.....

السؤال الرابع صوب ما تحته خط

1. ترتفع نسبة الأمية في سكان الحضر.
2. يتم حصر عدد السكان في مصر كل خمس سنوات.
3. يعمل سكان الريف بالصناعة والتجارة.
4. شهد عهد الملك أمنمحات الأول تعداد سكانيا يضم عدد الجنود.
5. استمر إجراء تعداد سكاني في مصر لمدة ستة أشهر في عهد الدولة البطلمية.
6. سكان الحضر يمارسون حرفة الزراعة.
7. محافظة جنوب سيناء من المحافظات الحضرية.
8. ترتفع نسبة الأمية بسبب انتشار المدارس وارتفاع مستوى المعيشة.

السؤال الخامس اختر الإجابة الصحيحة مما يلي:

1. أقل محافظات مصر من حيث عدد السكان محافظة.....
أ- الجيزة ب- القاهرة ج- جنوب سيناء د- أسوان
2. يعيش سكان الريف في.....
أ- المدن ب- الصحاري ج- السواحل د- القرى
3. من المحافظات الحضرية المصرية محافظة.....
أ- الإسكندرية ب- السويس ج- بورسعيد د- كل ما سبق
4. من الحرف التي يعمل بها أهل المدن.....
أ- الرعي ب- الزراعة ج- التجارة د- تربية الحيوانات

5. يرتفع مستوى المعيشة لسكان

أ- القري - ب- المدن - ج- الصحاري - د- الواحات

6. تقوم الدولة بتوعية الشباب عن طريق تشجيع

أ- كثرة الإنجاب - ب- الزواج المبكر - ج- تقليل الإنجاب - د- عدم تنظيم الأسرة

7. من المبادرات التي قامت بها الدولة لتنمية الريف مبادرة :

أ- أنحضر للأخضر - ب- حياة كريمة - ج- تشجيع الإنجاب - د- زيادة العشوائيات

8. تجرى جمهورية مصر العربية تعدادها السكاني كل

أ. خمس سنوات - ب. عشر سنوات - ج. عشرين سنة - د. خمس وعشرين سنة

9. النشاط الاقتصادي الأصلي لسكان البدو هو

أ. الزراعة - ب. الصناعة - ج. التجارة - د. الرعي

10. إذا أرادت الدولة جمع بيانات عن سكانها لتلبية احتياجاتهم في المستقبل فعليها إجراء

أ. حصر الاحتياجات - ب. تعداد سكاني

ج. حصر الوفيات - د. حصر المتقدمين للخدمة العسكرية

11. عندما تريد الإقامة في محافظة حضرية فعليك التوجه إلى محافظة

أ. الوادي الجديد - ب. بورسعيد - ج. الجيزة - د. المنيا

12. إذا دعيت إلى إلقاء ندوة لشباب الريف فمن الأفضل أن يكون موضوعها عن

أ. أهمية تنظيم الأسرة - ب. أهمية حرفة الرعي

ج. ضرورة الهجرة الى المدن - د. ضرورة زيادة حجم الأسرة

13. يتم إجراء حصر شامل للسكان في مصر كل عشر سنوات عن طريق

أ. وزارة الصحة والسكان

ب. الجهاز المركزي للتعبئة العامة والإحصاء

ج. الجهاز المركزي للرقابة الإدارية

د. الجهاز المركزي للمحاسبات

السؤال السادس حدد المختلف في عناصر المجموعة التالية من خلال دراستك لنمط السكان

● القاهرة - المنيا - الإسكندرية - السويس.

● الجيزة - الشرقية - بورسعيد - سوهاج.

● شمال سيناء - جنوب سيناء - الجيزة - الوادي الجديد.

● القاهرة - الإسكندرية - بورسعيد - السويس.

السؤال السابع أكتب ما تشير إليه كل عبارة مما يلي

- 1- الجهاز المسنول عن إجراء التعداد السكاني في مصر .
- 2 - مبادرة أطلقتها الدولة التنمية الريف .
- 3 - عملية حصر شامل للسكان لتحديد الخدمات التي يحتاجونها .
- 4 - مناطق ظهرت بسبب هجرة سكان الريف للمدن .
- 5- الذين يسكنون الصحاري المصرية ويعملون بحرفة الرعي .

السؤال الثامن حدد سببا واحدا ل:

1. قيام الحكومة بالمشروع القومي لتطوير الريف.

2. زيادة حجم الأسرة في الريف عن الحضر.

3. انخفاض عدد السكان في محافظة جنوب سيناء.

4. تعدد محافظة القاهرة أعلى محافظات الجمهورية سكانا.

5. انخفاض مستوى المعيشة في الريف.

السؤال التاسع ما النتائج المترتبة على...؟

في الدراسات الاجتماعية

1. هجرة سكان الريف إلى المدن.

2. انتشار المدارس ، وارتفاع مستوى المعيشة بين سكان الحضر.

3. تنوع سكان مصر بالنسبة للمجالات الاقتصادية.

السؤال العاشر أجب عن السؤالين الآتيين

• اذكر اثنين من أهداف المشروع القومي لتطوير قرى الريف المصري (حياة كريمة)..

• وضح: جهود الدولة في مواجهة مشكلة هجرة سكان الريف إلى المدن .

التراث الثقافي لسكان بلدنا

الدرس الثاني



يتنوع التراث الثقافي لسكان مصر من خلال اختلاف لهجاتهم وتقاليدهم وفنونهم الشعبية

التراث الثقافي : هو كل ما تركه لنا الأجداد من أماكن تاريخية وأثرية وفنون شعبية ، وصناعات حرفية ، وقيم وعادات وتقالييد اجتماعية .

نماذج من التراث المصري

- ١- واحة سيوة
- ٢- النوبة
- ٣- مدن القناة
- ٤- صعيد مصر
- ٥- بدو سيناء



1 واحة سيوة

يتميز سكان واحة سيوة بتراث ثقافي مرتبط بالبيئة التي يعيشون فيها

(أ) احتفالات الواحة :

يحتفل السكان في منتصف شهر **أكتوبر** من كل عام بعيد حصاد **التمور والزيتون**، وهما المورد الأساسي لاقتصاد الواحة.



احتفال أهل سيرة بعيد حصاد التمور والزيتون

(ب) مظاهر الاحتفال :

1- يرتدي السكان الملابس المحلية .

2 - يرددون الأغاني التراثية .

3 - يقيمون موائد الطعام لكل سكان الواحة .

يجذب هذا الاحتفال الكثير من السياح للاستمتاع به ؛ لذلك أطلقوا عليه اسم « عيد السياحة ».

النوبة

2

يمثل التراث النوبي جزءاً أصيلاً من مكونات الهوية المصرية ، وامتداداً للحضارة المصرية القديمة .



(أ) احتفالات النوبة :

في الدراسات الاجتماعية

يحتفل سكان النوبة يوم **7 يوليو** من كل عام باليوم العالمي

للنوبة لإحياء التراث والحضارة النوبية

(ب) مظاهر الاحتفال :

1- يرتدي السكان الملابس المحلية .

2 - يرددون الأغاني التراثية النوبية .

(ج) لغة أهل النوبة :

ينفرد أهل النوبة بالتحدث باللغة **النوبية** التي يحرص السكان على الحفاظ عليها ، وتناقلها عبر الأجيال .

(د) متحف النوبة :

أنشأت منظمة اليونسكو **متحف النوبة في أسوان** عام ١٩٩٧ م ؛ لعرض التاريخ والحضارة النوبية العريقة.

فكر وأجب مع المتفوق

السؤال الأول : أكمل

- 1- يحتفل سكان واحة سيوة في منتصف شهر بعيد حصاد و
- 2- أنشأت منظمة متحف للنوبة في أسوان

السؤال الثاني ما المقصود بـ

- 1- التراث الثقافي

مدن القناة

3



السويس - بورسعيد - الاسماعيلية

يشتهر سكان مدن القناة بالأغاني المرتبطة بألة السمسمية ، ويؤدون رقصه شعبية تعرف باسم « البمبوتية ».

صعيد مصر

4



(أ) متحف السيرة الهلالية :

يشتهر الصعيد بإنشاد السيرة الهلالية ، والتي تقدم على لسان (الراوي) ، وهو يعزف على آلة (الربابة) ، وحفاظا على هذا التراث تم إنشاء متحف و السيرة الهلالية في محافظة قنا عام 2015 م.

(ب) فن التحطيب :




- من الفنون الشعبية التراثية بالصعيد وهو " فن التحطيب " الذي نشأ في مصر القديمة .
- يوجد على حائط معبد الكرنك في محافظة الأقصر لوحة مرسوم عليها صورة الإله حورس وهو يعلم الملك أمنحتب الثالث فن التحطيب .
- لا تزال هذه اللعبة تمثل إحدى وسائل الترفيه في صعيد مصر .
- تم إدراج فن التحطيب كفن تراثي عريق على قائمة التراث العالمي لليونسكو منذ عام 2016م

يمتلك بدو سيناء تراثا ثقافيا متنوعا يرتبط بقيمتهم وتقاليدهم التي تعد جزءا من هويتهم المصرية ، مثل

• إكرام الضيف

وكذلك تقاليد الاحتفال بالمناسبات الاجتماعية مثل الاحتفال بعودة المسافر و الزواج والموليد وغيرها، حيث يرتدي السكان في تلك الاحتفالات الزي التقليدي ويقومون حفلات السامر التي تتضمن الرقص والغناء،

كما تنظم **سباقات الهجن (الإبل)** وهي رياضة تراثية تشتهر بها سيناء وتسهم في تنشيط السياحة حيث يحضرها العديد من الوفود العربية للمشاركة في السباق.



اهمية التراث المصري

يساهم في
تنشيط
السياحة

يساهم في توفير فرص
عمل للشباب " من خلال
المهرجانات والمعارض
والمنتجات التراثية
والمتاحف التي تجذب
السياح لمشاهدتها "

يساهم في زيادة
الدخل القومي .

تنوع اللهجات المصري

عند استماعك إلى أشخاص من بينات مصر المختلفة ستلاحظ اختلافا بين محافظات

- الوجهين البحري والقبلي في نطق بعض الكلمات فيما بينهم ،
- كما أن لهجات قبائل بدو سيناء تميل إلى اللغة العربية الفصحى ،
- وتنتشر في واحة سيوة لهجة خاصة بسكانها مشتقة من اللغة الأمازيغية المنتشرة في بلاد المغرب العربي ،
- وينفرد أهل النوبة باللغة النوبية ، وهي أقرب اللغات إلى لغة المصريين القدماء ، وقد لعبت دورا مهما في انتصار الجيش المصري في حرب أكتوبر عام 1973م ، حيث استخدمها الجيش كشفرة للتواصل بين قياداته والفرق العسكرية المصرية في سيناء.

السؤال الأول : أكمل

- 1- تشمل مدن القناة كلاً من و و
- 2- يشتهر صعيد مصر بإشاد والتي تقدم على لسان وهو يعزف على الربابة .
- 3- تم إنشاء متحف السيرة الهلالية في محافظة عام 2015م.

السؤال الثاني : بم تفسر

- 1- أهمية التراث المصري

الاحتفالات عند المصريين القدماء

احتفل المصريون القدماء بكثير من الأعياد، وحرصوا على تسجيل مظاهر الاحتفال بها على جدران المعابد
 مثل : عيد شم النسيم، عيد رأس السنة المصرية القديمة.
 ارتبطت معظم الأعياد عند المصريين بمواسم الزراعة.

عيد رأس السنة المصرية القديمة

من الأعياد التي ارتبطت بمواسم الزراعة! يحتفل به يوم 1 توت أول شهور السنة المصرية القديمة هو عيد رسمي للدولة في مصر القديمة، وكانت الاحتفالات تستمر لعدة أيام.

مظاهر الاحتفال بعيد رأس السنة

اليوم الأول: يخصص للذهاب إلى معابد الآلهة، وكان السكان يأخذون معهم الخبز والكعك والبطائر.

بأقي أيام العيد : يذهبون إلى المنتزهات، ومن أشهر المأكولات في عيد رأس السنة المصرية القديمة (البط والإوز والأسماك).

الاسئلة علي الدرس

اهم



السؤال الاول: أمامك خريطة لجمهورية مصر العربية، وضح ما تشير إليه الأرقام:

1. يشير رقم (١) إلى محافظة تم إنشاء متحف النوبة بها.....
2. يشير رقم (٢) إلى منطقة تشتهر بعيد حصاد التمور.....
3. يشير رقم (٣) إلى محافظة تشتهر بسباق الهجن.....
4. محافظة تشتهر بإنشاد السيرة الهلالية.....

السؤال الثاني ضع علامة (✓) أمام العبارة الصحيحة، وعلامة (X) أمام العبارة غير الصحيحة

1. يعد التراث جزءا من الحضارة المصرية التي يجب المحافظة عليها والاعتزاز بها. ()
2. قام المصريون القدماء بنقش مظاهر احتفالاتهم على جدران المعابد. ()
3. اهتمت منظمة اليونسكو بالتاريخ والحضارة النوبية العريقة. ()
4. يعد سباق الخيول رياضة تراثية تشتهر بها سيناء. ()
5. يشتهر سكان محافظة الشرقية برقصة البمبوتية. ()
6. لعبت اللغة النوبية دورا هاما في حرب أكتوبر عام ١٩٧٣م. ()
7. لهجات الوجه البحرى هي الأقرب إلى لغة المصريين القدماء. ()

السؤال الثالث أكمل العبارات الآتية بما يناسبها من كلمات

1. المورد الأساسي لاقتصاد واحة سيوة هو حصاد.....
2. التراث النوبي يعد جزءا أصيلا من الحضارة.....
3. الفن الذي تم إدراجه على قائمة التراث العالمي لليونسكو عام ٢٠١٦م هو.....
4. أنشأت منظمة اليونسكو..... في أسوان عام ١٩٩٧م لعرض التاريخ والحضارة النوبية العريقة

السؤال الرابع ضع دائرة حول الإجابة الصحيحة مما يلي:

1. يحتفل سكان الواحات في مصر بعيد حصاد التمور والزيتون منتصف شهر.....

- أ. أغسطس ب. سبتمبر ج. أكتوبر د. نوفمبر

2. رقصة «البمبوتية» تنتشر بين سكان.....

- أ. الواحات ب. القناة ج. الصعيد د. النوبة

3. منطقة يشتهر سكانها بإنشاد السيرة الهلالية.....

- أ. القناة ب. الصعيد ج. الحدود د. الواحات

4. الكعك والفتائر من عادات المصري القديم في عيد.....

- ا. شم النسيم ب. الحصاد ج. وفاء النيل د. رأس السنة

5. تم إنشاء متحف للسيرة الهلالية في محافظة..... عام ٢٠١٥

- ا. أسيوط ب. سوهاج ج. قنا د. الأقصر

6. سكان واحة سيوة يحتفلون بحصاد التمور والزيتون في عيد.....

- ا. التجارة ب. الصناعة ج. الزراعة د. الأحياء

7. يشير أحد نقوش معبد الكرنك إلى تعلم الملك أمنحتب الثالث التحطيب على يد.....

- ا. حورس ب. رع ج. أوزوريس د. آمون

السؤال الخامس صوب ما تحته خط

1. أشهر الآلات الموسيقية في منطقة القناة آلة الربابة.
2. تنتشر في واحة الفرافرة بمحافظة مطروح لهجة خاصة مشتقة من اللغة الأمازيغية.
3. ارتبطت معظم الأعياد المصرية القديمة بمواسم التجارة.
4. يشتهر سكان مدن الصعيد بالأغاني المرتبطة بالآلة السمسامية.
5. يعد يوم ٧ يوليو اليوم العالمي لإحياء التراث لدى أهل سيوة.

السؤال السادس قارن بين:

سكان بورسعيد وسكان النوبة من حيث مظاهر التراث التي تنتشر في كل منهما.

وجه المقارنة	سكان بورسعيد	سكان النوبة
مظاهر التراث	في الدراسات الاجتماعية	

السؤال السابع : في أي المحافظات توجد المعالم الآتية

1 - متحف النوبة.

2- متحف السيرة الهلالية .

3- معبد الكرنك .

السؤال الثامن : حدد في أي المناطق بمصر تتم الفنون الآتية :

١ - الاحتفال بيوم حصاد التمور والزيتون "عيد السياحة" .

2 - الاحتفال بالتراث والأغاني النوبية .

3 - إنشاد الأغاني المرتبطة بالآلة السمسامية .

4 - إنشاد السيرة الهلالية .

السؤال التاسع : ما العلاقة بين

1- منظمة اليونسكو والحضارة النوبية .

2- فن التحطيب ومعبد الكرنك.

السؤال العاشر فسر العبارات الآتية:

1. إنشاء منظمة اليونسكو متحف النوبة في مصر.

2. إقامة المهرجانات والمعارض الفنية والتراثية للسياح.

3. أهمية التراث المصري.

4. أطلق سكان واحة سيوة على يوم حصاد التمور والزيتون عيد السياحة.

السؤال الحادي عشر دلل على صحة العبارات الآتية:

1. لعبت اللغة النوبية دورًا مهمًا في انتصار الجيش المصري في حرب أكتوبر عام ١٩٧٣م.

2. للتراث الثقافي المصري أهمية اقتصادية.

3. يشتهر صعيد مصر بانتشار أنواع من الفنون الشعبية التراثية.

في الدراسات الاجتماعية

اعداد /
مستر حاتم عاطف

نماذج للمشكلات الاجتماعية في بلدنا

الدرس الثالث

تقوم مصر بالعديد من خطط التنمية المساعدة المواطنين وتوفير الحياة الكريمة لهم وذلك عن طريق :

- ١- تشييد المدارس.
- ٢- بناء المستشفيات.
- ٣- إقامة العديد من المشروعات




أهم المشكلات التي تعيق خطط التنمية في مصر

تعاني مصر كأى دولة في العالم من مشكلات اجتماعية متنوعة تعيق خطط التنمية، وتؤثر سلبا على مستقبل بلدنا الاقتصادي، ومن هذه المشكلات: اجتماعية

البطالة

الفقر

الأمية



تأتي في مقدمة هذه المشكلات مشكلة الأمية.



مشكلة الأمية

أولا

نحن نعيش في عصر المعلومات، لذا أصبحت القدرة على القراءة والكتابة غير كافية للعيش في هذا العصر، وإنما يستلزم علينا محو الأمية المعلوماتية (التكنولوجية).

أنواع الأمية

1 الأمية الهجائية

1

هي عدم قدرة الفرد على القراءة أو الكتابة.

2 الأمية المعلوماتية (الالكترونية)

2

هي عدم قدرة الفرد على تشغيل الأجهزة التكنولوجية والتواصل من خلالها أو الوصول إلى المعلومات.



اليوم الدولي لمحو الأمية

اليوم الدولي لمحو الأمية (8 سبتمبر):

لان الأمية مشكلة عالمية، قامت منظمة اليونسكو بالاحتفال باليوم الدولي لمحو الأمية.

الهدف: تنمية الوعي الدولي بأهمية محو الأمية.

الأمية في مصر

1- ملامح الأمية في مصر:

(أ) بلغت نسبة الأمية في مصر وفقا لتعداد عام ٢٠١٧م نحو ٢٥,٨ ٪ من جملة السكان البالغين عشرينسنوات فأكثر.

(ب) تزداد نسبة الأمية في الريف وتقل في الحضر كالتالي:

محافظات الريف:

محافظه المنيا: أعلى محافظات مصر من حيث الأمية.

محافظه بني سويف: ثاني أعلى محافظات مصر من حيث الأمية.

محافظات الحضر (والحدود)

محافظه البحر الأحمر: أقل محافظات مصر من حيث الأمية.

محافظه بورسعيد: ثاني أقل محافظات مصر من حيث الأمية.



محافظة الوادي الجديد: ثالث أقل محافظات مصر من حيث الأمية.

تزداد نسبة الأمية بين الإناث أكثر من الذكور.

أسباب انتشار الأمية في مصر



فصول محو الأمية

أ- الزيادة السكانية.

ب- عدم التحاق جميع الأطفال بالمدارس، أو تسرب بعض التلاميذ من المدارس. وذلك بسبب **ضعف المستوى الاقتصادي للأسرة.**

خطورة مشكلة الأمية على الفرد والمجتمع

تؤدي الأمية إلى:



أضف لمعلوماتك: البطالة هي الأشخاص في سن العمل ولا يعملون.

فكر وأجب مع المتفوق

أكمل العبارات التالية بكلمات مناسبة:

١- ترتفع نسبة البطالة بين سكان عن الريف.

٢- ترتفع نسبة الأمية بين الإناث عن

بم تفسر؟:

1- انتشار الأمية في مصر.



جهود الدولة للقضاء على مشكلة الأمية الهجانية


١ - إنشاء الهيئة العامة لتعليم الكبار ومحو الأمية عام ١٩٩٢م.

٢ - إنشاء العديد من المدارس للاستيعاب الكامل للأطفال ومواجهة التسرب.

٣ - إطلاق العديد من المبادرات المجتمعية للمشاركة في تنفيذ برامج محو الأمية.

٤ - رفع الوعي المجتمعي بأهمية التعليم من خلال وسائل الإعلام المختلفة.

التعليم عند المصريين القدماء



١- اهتم المصريون القدماء بالتعليم، حيث كانت تسعى الأسر المصرية إلى الوصول بأبنائها إلى درجة مرموقة من التعليم للعمل في مكانة عالية في المجتمع.

٢- اخترع المصريون القدماء الكتابة الهيروغليفية، وكانت في شكل صور ورسوم. واستخدموا ورق البردي للكتابة عليه.

٣- استخدم المصريون القدماء الكتابة الهيروغليفية في تسجيل الأحداث والأخبار وأهم الإنجازات، مما ساعد على معرفة الحضارة المصرية القديمة.

٤- اهتم المصريون القدماء بإنشاء المدارس، وكانت جامعة "أون" أول جامعة في التاريخ؛ حيث كان يأتي إليها الطلاب من جميع أنحاء العالم.

لنتعمق في الفهم

البطالة في مصر:

١- بلغت نسبة البطالة في مصر نحو ٧,٩% عام ٢٠٢٠م.

٢- ترتفع معدلات البطالة بين الإناث أكثر من الذكور.

٣- تزداد البطالة في الحضر عن الريف.



4 - ترتبط البطالة بمشكلة الفقر والامية، وتؤدي هذه المشكلات إلى:

- تهديد أمن واستقرار المجتمع.

- زيادة معدلات الجريمة في المجتمع.

أسئلة نماذج للمشكلات الاجتماعية في بلدنا

السؤال الأول أكمل العبارات الآتية بما يناسبها من كلمات

1. يتأثر الاقتصاد المصري سلبا بالمشكلات
2. عدم قدرة الفرد على تشغيل الأجهزة الإلكترونية يعد أمية
3. تسعى مصر للقضاء على الأمية وذلك بإنشاء
4. يتم التوعية بأهمية التعليم عن طريق وسائل
5. الأمية تقلل فرص الحصول على العمل وتزيد من انتشار
6. أول جامعة في التاريخ المصري القديم كانت جامعة

السؤال الثاني مع علامة (√) أمام العبارة الصحيحة، وعلامة (X) أمام العبارة غير الصحيحة:

1. إنشاء المدارس أحد جهود الدولة في القضاء على الأمية في مصر. ()
2. تعتبر جامعة أون هي أول جامعة في التاريخ. ()
3. تسعى مصر إلى إقامة مشروعات لتحقيق حياة كريمة لكل المصريين. ()
4. البطالة من المشكلات الاجتماعية التي تعوق خطط التنمية في مصر. ()
5. المشكلات الاجتماعية ليس لها تأثير على الجانب الاقتصادي. ()
6. مشكلة الأمية من المشكلات التي تعاني منها مصر فقط. ()
7. ترتفع معدلات البطالة بين الذكور عن الإناث في مصر. ()
8. تؤدي الأمية إلى زيادة الوعي في المجتمع. ()
9. ترتفع معدلات الأمية بين الإناث في مصر. ()
10. توجد علاقة بين البطالة وانتشار الجرائم. ()
11. تقلل الأمية من فرص العمل المتاحة أمام الفرد. ()

السؤال الثالث دائرة حول الإجابة الصحيحة مما يلي:

1. من أمثلة المشكلات الاجتماعية في مصر مشكلة

- أ. البطالة ب. التعليم ج. الصحة د. التنمية

2. الأمية الهجائية تعني عدم قدرة الفرد على

- أ. استخدام التكنولوجيا ب. القراءة والكتابة ج. المحافظة على البيئة د. معرفة التاريخ

3. أكثر المحافظات المصرية التي تنتشر بها الأمية محافظة

- أ. البحيرة ب. المنيا ج. دمياط د. الشرقية

4. أحد أسباب انتشار الجهل والخرافات بين الناس

- أ. التتمر ب. الأمية ج. البطالة د. الهجرة

5. زيادة معدلات الجريمة تنتج عن انتشار.....

ا. السياحة - ب. الصناعة - ج. المشروعات - د. البطالة

6. أي المحافظات التي تسجل أقل نسبة للأمية في مصر؟

ا. بنى سويف - ب. الأقصر - ج. القاهرة - د. المنيا

السؤال الرابع صوب ما تحته خط

1. من المعوقات التي تؤثر على الخطط التنموية بناء المدارس.
2. تقل نسبة الأمية في الريف في مصر.
3. محافظة المنيا تعد من المحافظات التي تنخفض بها نسبة الأمية.
4. ترتفع معدلات الأمية بين الذكور في مصر.
5. تؤثر الأمية إيجاباً على برامج التنمية المستدامة في المجتمعات.
6. الأمية الهجائية تعنى عدم قدرة الفرد على التعامل مع وسائل التكنولوجيا.
7. استخدم المصريون القدماء ورقاً مصنوعاً من زهرة اللوتس للكتابة عليه.

السؤال الخامس حدد المختلف من العناصر الآتية:

- بناء مدارس - مشكلة الفقر - بناء مستشفيات - إقامة المشروعات.
- أمية - فقر - تنمية - بطالة.

السؤال السادس ما العلاقة بين ...؟

1. المشكلات الاجتماعية والمجتمع.
2. مستوى الأسرة الاقتصادية وتسرب التلاميذ من المدارس.
3. الأمية وبرامج التنمية المستدامة. في الدراسات الاجتماعية

السؤال السابع عدد نتيجة واحدة :-

1. انتشار الأمية في المجتمع المصري.
2. اختراع المصريين القدماء الكتابة.

السؤال الثامن اكتب دليلاً واحداً على:

اهتمام المصريين القدماء بالتعليم.

نظام الحكم في بلدنا

الدرس الرابع

أدارة شئون الدولة

من يدير شئون الدولة؟

تتم إدارة الدولة المصرية من خلال عدة هيئات مختلفة تتعاون مع بعضها البعض، تنقسم الهيئات في الدولة إلى :

السلطة القضائية

السلطة التشريعية

السلطة التنفيذية

1 السلطة التنفيذية

رئيس الجمهورية

الحكومة

المحافظ

في الدراسات الاجتماعية

أ- رئيس الجمهورية ومهامه:


يتولى رئيس الجمهورية الرئاسة عن طريق **التصويت** له في انتخابات عامة، ويقوم بـ:

- العمل على أمن الوطن.
- تمثيل مصر محليا ودوليا.
- رعاية مصالح الشعب.

ب- الحكومة ومهامها:

تتعاون الحكومة المصرية مع رئيس الجمهورية في إدارة شئون الدولة، فهي تتكون من **رئيس** مجلس الوزراء، **الوزراء**، وتقوم الحكومة بمهام عديدة هي:

- إصدار القرارات وفقا للقانون
- إعداد الموازنة العامة للدولة.



المحافظ



ما المقصود بـ.....؟

المحافظ : هو الشخص المسئول عن إدارة شئون المحافظة ويمثل السلطة التنفيذية بالمحافظة، ويتم تعيينه من قبل رئيس الجمهورية.

ويقوم المحافظ بمهام عديدة لتطوير المحافظة، يوضحها الشكل التالي:

مهام المحافظ

إدارة شئون المحافظة

حفظ الأمن والنظام في محافظته

توفير فرص العمل لأبناء المحافظة.

متابعة جودة الخدمات العامة؛ كالتعليم والصحة والبنية التحتية والكهرباء والمياه

العمل على زيادة إنتاج المحافظة في كافة المجالات.

الإشراف على تنفيذ المشروعات التنموية في محافظته.

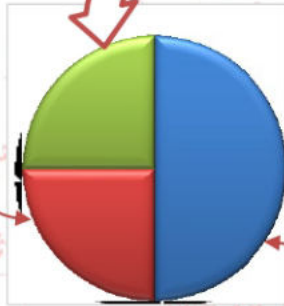
المادة (١٨٠) في الدستور المصري

أشارت المادة (١٨٠) في الدستور المصري العام ٢٠١٤ م إلى:

تخصيص ربع عدد المقاعد في المجالس المحلية في المحافظات للشباب دون سن خمس وثلاثين سنة.

تخصيص نسبة تمثيل لا تقل عن ٥٠% للعمال والفلاحين من إجمالي عدد المقاعد.

تخصيص ربع العدد للمرأة.



فكر وأجب مع المتفوق

أكمل العبارات التالية بكلمات مناسبة:

- 1- إعداد الموازنة العامة للدولة من مهام
- 2- تمثيل مصر محليا ودوليا من مهام.....
- 3- يخصص المجلس المحلي عدد المقاعد للمرأة
- 4- يخصص المجلس المحلي 50% ل.....و..... من اجمالي عدد المقاعد

مجلس النواب

السلطة التشريعية

2

مجلس الشيوخ

أولاً: مجلس النواب:

- يسن القوانين في الدولة.
 - يتكون مجلس النواب من **596 عضوا** يمثلون فئات المجتمع المصري.
 - يتم انتخاب **95%** من النواب، بينما يختار الرئيس **5%** منهم.
- السلطة التنفيذية (رئيس الدولة والحكومة) تعمل وفقا للقوانين التي يضعها مجلس النواب.

الييمين الدستورية لعضو مجلس النواب.

تنص المادة (١٠٤) من الدستور المصري على:

يشترط أن يؤدي العضو أمام مجلس النواب، قبل أن يباشر عمله، اليمين الدستورية الآتية:

«أقسم بالله العظيم أن أحافظ مخلصاً على النظام الجمهوري، وأن أحترم الدستور والقانون، وأن أرعى مصالح الشعب رعاية كاملة، وأن أحافظ على استقلال الوطن ووحدة وسلامة أراضيه.»

ثانياً مجلس الشيوخ

يتم أخذ رأيه في:

- معاهدات الصلح.
- مشروعات القوانين.
- الاقتراحات الخاصة بتعديل مواد الدستور.



السلطة القضائية

3

القضاء سلطة مستقلة تتولاها المحاكم المتنوعة.

مهامها : إصدار الأحكام في ضوء القانون ليسود العدل.

ثانيا : نظام الحكم في مصر القديمة

تعد مصر من أقدم الدول التي وضعت نظاما للحكم.

أسس المصريون القدماء دولة قوية لها نظام حكم ثابت، حقق القوة والرخاء لمصر عبر العصور، وساعد على بناء الحضارة المصرية القديمة التي ما زالت تبهر العالم بتميزها حتى الآن.

عناصر نظام الحكم في مصر قديما

كان على رأس نظام الحكم في مصر، ومن مهامه: - إدارة شئون البلاد- عقد المعاهدات - إصدار القوانين

الملك
(حاكم البلاد)

كان يعاون الملك في إدارة شئون البلاد

الوزير
(رئيس الوزراء
حاليا)

كان يعاون الوزير عدد من كبار الموظفين

رؤساء الادارات
(الوزارات حاليا)

ثالثا : حكام الأقاليم في مصر القديمة

كانت مصر قديما تنقسم إلى 42 إقليما، وكان الملك (الفرعون) يعين لكل إقليم حاكما ويقابل منصب حاكم الإقليم قديما منصب المحافظ حاليا.

مهام حكام الأقاليم :

- الاهتمام بشئون الإقليم
- الحفاظ على أمن الإقليم
- الإشراف على تنفيذ المشروعات بالإقليم



اهم الاسئلة علي الدرس

نظام الحكم في بلدنا

السؤال الاول اكتب كلمة (صواب) أمام العبارة الصحيحة، وكلمة (خطأ) أمام العبارة غير الصحيحة

1. كان الوزير قديما هو من يساعد الملك في إدارة شئون البلاد. ()
2. يتم اختيار كل أعضاء مجلس النواب بالانتخاب. ()
3. يعد مجلس النواب الجهة المسؤولة عن سن القوانين. ()
4. تعد الحكومة جزءا من السلطة التنفيذية. ()
5. يتولى رئيس الجمهورية الحكم عن طريق الانتخاب. ()
6. عدد أعضاء مجلس النواب ٥٥٠ عضوا. ()
7. يتم انتخاب 5% فقط من أعضاء مجلس النواب. ()
8. صوتك الانتخابي يساعد في تكوين مستقبل مصر. ()

السؤال الثاني أكمل العبارات الآتية بما يناسبها من كلمات

1. الجهاز المحلى من الهيئات المعاونة لـ..... في إدارة شئون المحافظة.
2. رئيس الجمهورية والمحافظ يمثلان.....
3. السلطة المستقلة التي تتولاها المحاكم تصدر الأحكام هي.....
4. تتمثل السلطة التشريعية في.....
5. الإدارات في مصر القديمة يقابلها حاليا.....
6. الشرط الأساسي لمباشرة عضو مجلس النواب عمله هو.....

السؤال الثالث صوب ما تحته خط

1. السلطة المسؤولة عن سن القوانين هي السلطة القضائية.
2. الملك في مصر القديمة يقوم بتعيين الوزير الإدارة شئون الإقليم.
3. تشغل المرأة نسبة ٥٠٪ من إجمالي عدد مقاعد المجلس المحلى.
4. رئيس الوزراء مسئول عن الإشراف على تنفيذ المشروعات في المحافظة.

السؤال الرابع اختر الإجابة الصحيحة مما يلي:

1. الوزير المسئول عن توفير تعليم جيد للمواطنين هو وزير.....

- أ. العدل ب. التعليم ج. الصحة د. المالية

2. يمثل السلطة التشريعية في مصر.....

- أ. مجلس النواب ب. المجلس المحلى ج. مجلس الوزراء د. دار القضاء

3. يعاون الملك في إدارة شئون البلاد في عهد المصريين القدماء.....

- أ. رئيس الجمهورية ب. الوزير ج. مجلس النواب د. القضاء

4. مصر قديما تم تقسيمها إلى.....

- أ. محافظات ب. أقاليم ج. ولايات د. مقاطعات

5. المنصب الذي يقابل منصب المحافظ في مصر القديمة هو.....

ا. الوزير - ب. الملك - ج. رئيس الدولة - د. حاكم الإقليم

6. حاكم البلاد في مصر القديمة يتمثل في.....

ا. الوزير - ب. الكاهن - ج. رئيس الإدارة المركزية - د. الملك

السؤال الخامس : صل من المجموعة (أ) ما يناسبها من المجموعة (ب)

المجموعة (ب)	المجموعة (أ)
المحافظ	مسئول عن أمن الوطن ورعاية مصالح الشعب
مجلس النواب.	مسئول عن إدارة شئون المحافظة
السلطة القضائية.	يؤخذ رأيه في معاهدات الصلح ومشروعات القوانين
رئيس الجمهورية.	يتكون من ٥٩٦ عضوا يمثلون فئات المجتمع المصري
مجلس الشيوخ.	سلطة مستقلة تتولى المحاكم وتصدر الأحكام

السؤال السادس حدد المسئول عن القيام بالمهام التالية مستعينا بالكلمات التالية:

(الملك - المحافظ - الوزير)

- أعاون الملك في إدارة شئون البلاد
- أشغل منصب حاكم مصر قديما
- توفير فرص عمل لأبناء المحافظة

السؤال السابع صنف ما يلي:

(الحكومة - المحاكم - مجلس النواب - القضاة)

سلطة التشريعية	سلطة القضائية	سلطة التنفيذية

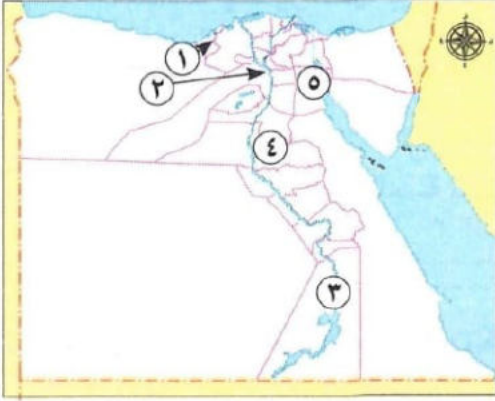
السؤال الثامن قارن بين

مهام رئيس الجمهورية ومهام المحافظ.

مهام رئيس الجمهورية	مهام المحافظ

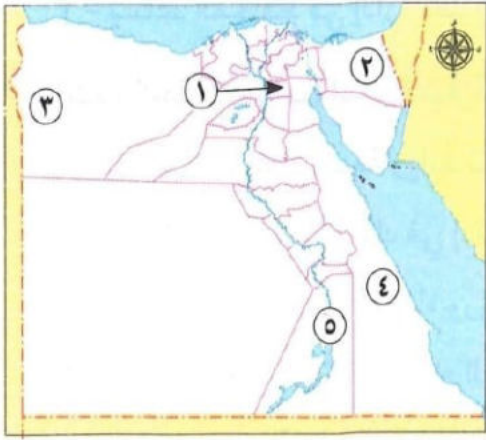
بنك أسئلة على الوحدة الأولى

(أ) لاحظ الخريطة، ثم أجب



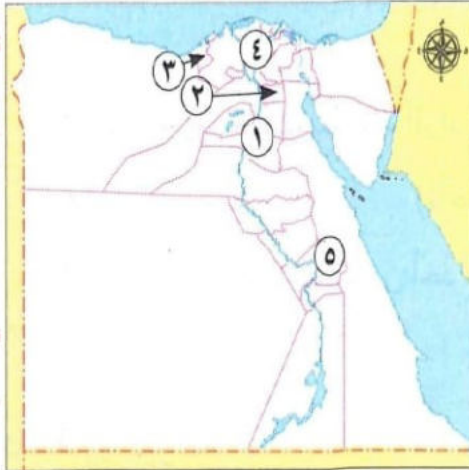
1. يشير رقم (1) إلى محافظة حضرية هي.....
2. صواب أم خطأ بشير رقم (2) إلى أقل محافظات مصر سكانا () .
3. محافظة يوجد بها متحف النوبة هي.....
4. أعلى محافظات مصر أمية هي.....
5. صوب: يشتهر سكان المنطقة رقم (5) بالعزف على آلة الجيتار ()

(ب) لاحظ الخريطة، ثم أجب



1. صواب أم خطأ يشير رقم (1) إلى محافظة ريفية ()
2. تشتهر المحافظة رقم (2) بسباقات.....
3. لهجة سكان الواحة رقم (3) مشتقة من اللغة.....
4. صوب: يشير رقم (4) إلى المحافظة الأقل في التعليم.....
5. منطقة النوبة بمحافظة.....

(ج) لاحظ الخريطة، ثم أجب



1. اختر: يشير رقم (1) لمحافظة..... (البحر الأحمر - المنيا - بني سويف - القاهرة)
2. أعلى محافظات الجمهورية سكانا هي.....
3. صواب أم خطأ تتميز المحافظة رقم (3) بانخفاض مستوى المعيشة وقلّة الخدمات ()
4. يشير رقم (4) لمنطقة يشتهر سكانها بالعمل في حرفة.....
5. محافظة تضم متحف السيرة الهلالية هي.....

أكمل العبارات الآتية بما يناسبها من كلمات:

1. تقوم مصر بإجراء التعداد السكاني كل..... سنوات.
2. يهدف التعداد السكاني إلى تحديد ما يحتاجه السكان من.....
3. أقل المحافظات المصرية سكانا توجد في شبه.....
4. ترتب على انتشار المدارس بالمحافظات الحضرية انخفاض نسبة.....

5. يسكن أهل الريف في القرى، ويعملون بحرفة.
6. نقص فرص العمل بين سكان الريف أدى إلى انخفاض.
7. أحد ملوك مصر القديمة تم في عهده عدا للجنود هو.
8. لهجة سكان واحة سيوة مشتقة من اللغة.
9. استخدم الجيش المصري اللغة النوبية كشفرة في أثناء حرب.
10. أحد الفنون الشعبية بمدن القناة رقصة.
11. إقامة حفلات السامر من عادات وتقاليد سكان.
12. يحضر العديد من الوفود العربية إلى سيناء للمشاركة في رياضة.
13. أعلى محافظات مصر من حيث الأمية.
14. اتجهت الدولة لإنشاء الهيئة العامة لتعليم الكبار القضاء على.
15. أقدم الجامعات في التاريخ البشري هي جامعة.
16. تتمثل السلطة التشريعية في مجلسي.
17. تتمثل السلطة القضائية في.
18. تمثيل مصر محليا ودوليا أحد مهام.
19. الإشراف على تنفيذ الخطة العامة للدولة من مهام رئيس الجمهورية و.
20. رؤساء الإدارات قديما يمثلهم حاليا.
21. الإشراف على تنفيذ مشروعات التنمية في محافظة الجيزة من مهام.
22. يتم اختيار النسبة الأكبر من أعضاء مجلس النواب عن طريق.
23. يتم اختيار النسبة الأكبر من أعضاء مجلس النواب عن طريق.
24. إعداد الموازنة العامة للدولة أحد مهام.

اكتب كلمة (صواب أمام العبارة الصحيحة، وكلمة (خطأ) أمام العبارة غير الصحيحة

1. وزارة التخطيط هي الجهة المسئولة عن إجراء التعداد السكاني كل ١٠ سنوات. ()
2. يختلف توزيع السكان بين محافظات مصر ()
3. سكان الريف يمثلون غالبية السكان في مصر. ()
4. كثرة الإنجاب والزواج المبكر من المشكلات التي تنتشر بين سكان الريف. ()
5. الحرفة الرئيسية لسكان الصحاري هي الزراعة. ()
6. بدأت مصر في عمل أول تعداد لسكانها في العصر الحديث. ()
7. أنشأت منظمة اليونسيف متحف النوبة في أسوان لعرض تاريخ الحضارة النوبية. ()
8. تشتهر مدن القناة بإقامة المهرجانات، منها مهرجان الإسماعيلية الدولي للفنون الشعبية ()
9. أنشأت الدولة متحف السيرة الهلالية في أسوان للحفاظ على هذا التراث. ()
10. عندما تريد تعلم اللغة النوبية فعليك بالذهاب إلى جنوب مصر. ()
11. ينتشر فن التحطيب بين سكان محافظات الدلتا. ()
12. يستمتع الزائر في محافظات الصعيد بالعزف على الربابة. ()
13. مصر هي الدولة الوحيدة في العالم التي تعاني من مشكلات البطالة والفقر. ()
14. الأمية الهجائية هي عدم قدرة الفرد على استخدام التكنولوجيا للوصول للمعلومات ()
15. تؤثر الأمية على خطط التنمية المستدامة في الدولة. ()
16. ترتفع معدلات الأمية بين الإناث عن الذكور. ()
17. يتولى المحافظ منصبه عن طريق التصويت له في انتخابات عامة. ()
18. تقوم السلطة القضائية في مصر بمهمة من القوانين. ()
19. مجلس الشيوخ هو المسئول عن سن التشريعات والقوانين ()

20. حاكم الإقليم قديما هو المسئول عن عقد المعاهدات بين مصر وجيرانها. ()

اختر الإجابة الصحيحة مما بين القوسين

1. تتزايد أعداد السكان باستمرار بسبب ارتفاع عدد.....
 ا. الوفيات ب. المواليد ج. المهاجرين د. المتعلمين
2. إذا أردت زيارة محافظة حضرية، فعليك التوجه إلى.....
 ا. المنيا ب. مطروح ج. قنا د. الإسكندرية
3. لحضور عيد السياحة في واحة سيوة عليك أن تتواجد هناك في منتصف.....
 ا. أغسطس ب. سبتمبر ج. أكتوبر د. نوفمبر
4. أثرت اللغة الأمازيغية في لهجة سكان.....
 ا. سيوة ب. السويس ج. بورسعيد د. قنا
5. اليوم العالمي للنوبة أشهر المناسبات في محافظة.....
 ا. الأقصر ب. أسوان ج. سوهاج د. المنيا
6. أنشأت الدولة في محافظة قنا متحفا للحفاظ على.....
 ا. آلة السمسمية ب. رقصة الببوطية ج. السيرة الهلالية د. اللغة النوبية
7. تشابه سكان الصعيد في فن التحطيب مع الحضارة.....
 ا. الفارسية ب. الرومانية ج. المصرية القديمة د. العراقية القديمة
8. أي من المحافظات التالية تشتهر بعيد السياحة؟.....
 ا. الوادي الجديد ب. جنوب سيناء ج. مطروح د. القاهرة
9. إذا أردت الاستماع إلى لغة تميل إلى اللغة العربية الفصحى، فتحدث مع أهل.....
 ا. الوادي ب. الدلتا ج. سيناء د. سيوة
10. سباق الهجن هي رياضة تراثية يتم فيها التسابق بـ.....
 ا. الخيول ب. الإبل ج. الحمير د. البقر
11. مواطن يجهل استخدام الإنترنت، إذا فهو يعاني من الأمية.....
 ا. الهجائية ب. المعلوماتية ج. الاقتصادية د. السياسية
12. ثالث المحافظات المصرية من حيث انخفاض نسبة الأمية هي.....
 ا. البحر الأحمر ب. بورسعيد ج. الوادي الجديد د. المنيا
13. اخترع المصريون القدماء الكتابة على شكل صور ورسوم عُرفت بالكتابة.....
 ا. الهيروغليفية ب. الهيروغليفية ج. الديموطيقية د. القبطية
14. يعاون المحافظ في إدارة شئون محافظته.....
 ا. مجلس النواب ب. مجلس الشيوخ ج. المجلس المحلي د. المجلس العرفي
15. السلطة القضائية تتمثل في.....
 ا. المحاكم ب. رئيس الجمهورية ج. الحكومة د. مجلس النواب

صوب ما تحته خط

1. يزيد عدد سكان بعض المحافظات عن 8 ملايين نسمة، ومنها القاهرة والفيوم.
2. يعمل بالصناعة والسياحة والتجارة سكان الريف.
3. عد الأفراد وتقدير متوسط عدد الأسر عند المصريين القدماء تم في عهد رمسيس الثاني.
4. يتحدث أهل سيوة بلهجة مشتقة من اللغة الفارسية.
5. تريد الذهاب لمتحف السيرة الهلالية لذا عليك زيارة محافظة أسيوط.
6. سجل المصريون القدماء صورًا للتحطيب على حائط معبد الأقصر.
7. تأتي في المركز الثاني بين المحافظات الأقل أمية محافظة بني سويف.
8. انتشار الجهل والخرافات أحد نتائج مشكلة البطالة.
9. تسعى الدولة للقضاء على الأمية الهجائية من خلال التوسع في إنشاء المستشفيات.
10. يتولى رئيس الجمهورية منصبه عن طريق التعيين.
11. إصدار القرارات وفقا للقانون أحد مهام المحاكم.

اكتب ما تشير إليه العبارة

1. حصّر شامل للسكان لتحديد الخدمات التي يحتاجونها في الحاضر والمستقبل.
2. شاشة موجودة أعلى مبنى الجهاز المركزي للتعبئة العامة والإحصاء.
3. كل ما تركه لنا الأجداد من فنون شعبية وقيم وتقاليد اجتماعية.
4. احتفال يجذب السياح للاستمتاع به في واحة سيوة.
5. لغة استخدمها الجيش المصري كشفرة في حرب أكتوبر ١٩٧٣ م.
6. مدن يشتهر سكانها بالعزف على آلة السمسمية ورقصة البمبوتية.
7. منظمة عالمية أدرجت التحطيب ضمن قائمة التراث العالمي.
8. رياضة تراثية شهيرة في سيناء ويتسابق فيها الإبل.
9. عدم قدرة الفرد على القراءة أو الكتابة.
10. عدم قدرة الفرد على تشغيل الأجهزة التكنولوجية والتواصل من خلالها.
11. المسئول عن رعاية مصالح الشعب والحفاظ على أمن الوطن.
12. هيئة أنشأتها الدولة عام ١٩٩٢ م للقضاء على مشكلة الأمية الهجائية.
13. سلطة ممثلة في رئيس الجمهورية والحكومة والمحافظين.
14. تمثل السلطة القضائية، وتصدر الأحكام ليسود العدل.
15. منصب يقوم صاحبه بتوفير عمل الأبناء المحافظة.
16. مجلس مهمته سن القوانين في الدولة.

بم تفسر؟

1. أهمية إجراء تعداد للسكان..
2. تزايد أعداد السكان باستمرار.
3. محافظة القاهرة أعلى محافظات مصر سكاناً..
4. يقل عدد السكان في محافظة جنوب سيناء عن مليون نسمة..

5. انخفاض نسبة الأمية بين سكان الحضر.

6. ظهور العشوائيات وزيادة الضغط على الخدمات في المدن..

7. زيادة متوسط أعداد الأسرة في الريف..

8. انخفاض مستوى المعيشة لسكان الريف..

9. يُسهم التراث في دعم الاقتصاد الوطني..

10. ضرورة الاهتمام بمحو الأمية المعلوماتية..

11. استخدم المصريون القدماء الكتابة الهيروغليفية.

12. أهمية دور الحكومة في إدارة شئون الدولة..

13. تقوم المحاكم بدور مهم في المجتمع.. في الدراسات الاجتماعية

ما النتائج المترتبة على ؟

1. ارتفاع عدد المواليد في مصر..

2. هجرة سكان الريف إلى المدن.

3. قلة الخدمات في الريف.

4. تنوع أنماط السكان في مصر..

5. ضعف المستوى الاقتصادي لبعض الأسر المصرية..

6. انتشار الأمية في المجتمع.

دلل على صحة العبارات التالية:

1. تبذل الدولة جهودًا كبيرة لحل مشكلات سكان الريف..
2. مصر من أقدم الدول التي أجرت تعدادًا للسكان.
3. تنوع التراث الثقافي في مصر.
4. تعدد مهام رئيس الجمهورية.
5. تختلف طرق اختيار أعضاء مجلس النواب.
6. يتشابه دور الوزير في مصر القديمة مع دور رئيس الوزراء حاليًا.
7. حرص الدولة على حل مشكلات البدو.
8. أهمية منصب الملك في مصر قديمًا..

لاحظ الصور المقابلة، ثم أجب:

1. يشير رقم (١) إلى آلة.....
 2. يشير رقم (٢) إلى آلة.....
- إذا أردت الاستمتاع بعزفها فيمكنك زيارة.....



٢



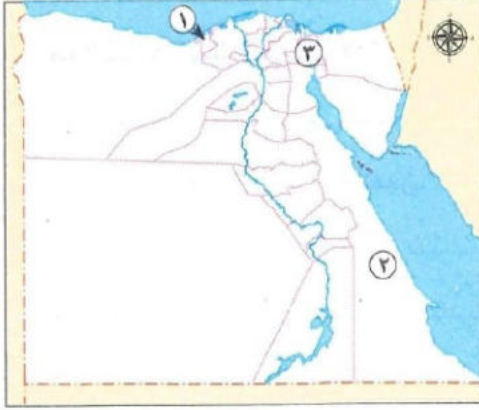
١

قارن بين

مهام رئيس الجمهورية والمحافظ.

اختبار على الوحدة الأولى

لاحظ الخريطة، ثم أجب:



1. يشير رقم (1) لمحافظة حضرية وهي.....
2. صواب أم خطأ يشير رقم (2) لأعلى محافظات مصر أمية ()
3. ينتشر في المنطقة رقم (3) العزف على آلة.....

أكمل العبارات الآتية بما يناسبها من كلمات

1. ترتبط الأمية بمشكلكتي البطالة و.....
2. تظهر العشوائيات في المحافظات.....
3. تعد السلطة القضائية سلطة مستقلة تتولاها.....

اكتب كلمة (صواب) أمام العبارة الصحيحة، وكلمة (خطأ) أمام العبارة غير الصحيحة

1. أنشأت منظمة اليونسكو متحف النوبة في أسوان. ()
2. تعد الأمية مشكلة اقتصادية تواجه المجتمع المصري. ()
3. يؤثر التعداد السكاني سلباً على خطط التنمية في بلدنا مصر. ()

اختر الإجابة الصحيحة مما بين القوسين:

1. أول جامعة في التاريخ بمصر قديماً جامعة.....

- أ. أون ب. طيبة ج. نخب د. بوتو

2. يتولى رئيس الجمهورية الرئاسة عن طريق.....

- أ. التعيين ب. الانتخاب ج. التحكيم د. التوريث

3. إحدى المحافظات التي يقل عدد سكانها عن مليون نسمة محافظة.....

- أ. القاهرة ب. الجيزة ج. البحيرة د. مطروح

4. تشق لهجة سكان واحة سيوة من اللغة.....

- أ. النوبية ب. الأمازيغية ج. العربية د. الهيروغليفية

أجب عما يأتي:

1. اكتب تفسيراً واحداً الأهمية مجلس النواب.....
2. اكتب دليلاً واحداً على اهتمام الدولة بالتراث الثقافي في صعيد مصر.....

الدرس الاول تراثنا الوطني



تزخر مصر بمواقعها التراثية الثقافية والطبيعية الجميلة.

التراث:

هو ما تركه أجدادنا من أشياء قيمة سواء كان آثارا أو مواقع طبيعية أو عادات.

اليوم العالمي للاحتفال بالتراث الوطني (18 إبريل)

المسنول عنه:

منظمة الأمم المتحدة للتربية والعلوم والثقافة "اليونسكو" والتي خصصت يوم 18 إبريل من كل عام، ليكون يوما عالميا للاحتفال بالتراث الوطني.


الهدف منه: توعية كل دول وشعوب العالم بضرورة حماية التراث الطبيعي والثقافي. ينقسم التراث في مصر إلى:

التراث

التراث الطبيعي

يشمل المعالم أو المواقع الطبيعية الجميلة ذات القيمة العالمية التي لم يتدخل الإنسان في صناعتها أو التأثير فيها.

- محمية الغابة المتحجرة
- محمية رأس محمد
- محمية وادي الريان



التراث الثقافي

- هو ما تم توارثه عبر الأجيال
- يشمل كلا من الصناعات والحرف التراثية وعادات وتقاليد الشعوب في المأكل والملبس والفنون الشعبية
- وكذلك الأماكن السياحية والأثرية ذات القيمة العظيمة مثل المعابد المصرية القديمة والأهرامات والقلاع والمساجد والكنائس والأديرة.

- مثل: قلعة صلاح الدين الأيوبي بطابا
- سور مجرى العيون بالقاهرة

ما الأماكن التراثية في مصر؟

أولا أماكن التراث الطبيعي

محمية طبيعية: مساحة محدودة من الأرض أو المياه تتميز بوجود كائنات حية (طيور - حيوانات - نباتات ... إلخ) مهددة بالانقراض أو التدهور لها قيمة ثقافية وعلمية؛ لهذا تقوم الدولة بحمايتها.

لاحظ



1- محمية الغابة المتحجرة: موجودة في محافظة القاهرة شرق حي المعادي.

الأهمية: تحتوي هذه المحمية على مجموعة من الأشجار المتحجرة على شكل قطع صخرية ذات مقاطع أسطوانية تتجمع مع بعضها البعض على شكل غابة.

2- محمية رأس محمد

الموقع: توجد في محافظة جنوب سيناء، عند التقاء خليج السويس وخليج العقبة.

الأهمية: تتميز بـ

- الشواطئ المرجانية والأسماك الملونة.

- السلاحف البحرية المهددة بالانقراض.

- الأحياء المائية النادرة.

3- محمية وادي الريان

الموقع: محافظة الفيوم.

الأهمية:

- تعد من أهم المعالم السياحية في محافظة الفيوم.

- يوجد بها المناظر الطبيعية المميزة كالبحيرات والشلالات والحيوانات البرية كالثعالب الصحراوية والغزلان.

- سجلتها الحكومة المصرية كمحمية طبيعية للحفاظ عليها وحمايتها.

- يحافظ سكان محافظة الفيوم على تلك المحمية ويمنعون صيد الحيوانات البرية الموجودة بها، لأنها:

- تعد مصدر دخل لهم من السياحة. - تمثل تراثا طبيعيا يميز محافظتهم.

فكر وأجب مع المتفوق

أكمل العبارات التالية بكلمات مناسبة:

1. بني المصريون القدماء الكثير من المعابد والأهرامات وهي تعد تراثا
2. من الحيوانات البرية النادرة الموجودة في وادي الريان و
3. يحتفل العالم كل عام يوم 18 إبريل باليوم العالمي لـ
4. توجد محمية الغابة المتحجرة في محافظة

أماكن التراث الثقافي

ثانيا

1- قلعة صلاح الدين الأيوبي بطابا

الموقع: توجد في جزيرة فرعون في مدينة طابا بمحافظة جنوب سيناء.

الأهمية: حماية الطرق البرية والبحرية بين مصروجيرانها.

تأمين خليج العقبة والبحر الأحمر من الأعداء

2- سور مجرى العيون بالقاهرة

الموقع: يوجد في القاهرة

الأهمية:

- من مواقع التراث الثقافي المهمة في مصر .

- شيده صلاح الدين الأيوبي ليحمل المياه التي ترفعها السواقي من النيل،

حتى تصل إلى قلعة صلاح الدين بالقاهرة

- تسعى الدولة لتطوير هذه المنطقة وجعلها منطقة سياحية.

3- مسار العائلة المقدسة

يشمل: الأماكن التي مرت بها العائلة المقدسة في مصر هربا من بطش حاكم فلسطين ويضم ٢٥ نقطة

تمتد لمسافة ٣٥٠٠ كم ذهابا وعودة من سيناء حتى أسيوط.

أهميته:-

• يحتوى كل موقع حلت به العائلة المقدسة على مجموعة من الآثار في صورة كنائس أو أديرة

أو آبار مياه وغيرها.

• يمثل مسار العائلة المقدسة أهمية تاريخية ودينية لدى شعوب العالم أجمع.

جهود الدولة :-

• قامت الدولة بتطوير مسار العائلة المقدسة من ترميم المواقع الأثرية والأديرة.

• بالإضافة إلى تطوير الخدمات السياحية بها ورفع كفاءة الطرق المؤدية لها .

• نجحت مصري في تسجيل ملف الاحتفالات المتعلقة برحلة «العائلة المقدسة» على قائمة التراث

الثقافي غير المادى للإنسانية في منظمة الـ «يونسكو».

فكر وأجب مع المتفوق

أكمل العبارات التالية بكلمات مناسبة:

1. إذا أردت القيام برحلة لزيارة إحدى مناطق التراث الطبيعي في جنوب سيناء فإنك

ستتوجه إلى محمية

2. شيد صلاح الدين قلعته في جنوب سيناء على جزيرة

3. كانت مياه النيل تصل إلى قلعة صلاح الدين بالقاهرة عن طريق

• **بم تفسر** أهمية قلعة صلاح الدين في طابا.....

- منظمة اليونسكو: هي منظمة الأمم المتحدة للتربية والعلوم والثقافة، وتتمثل رسالتها في إرساء السلام من خلال التعاون الدولي في مجال التربية والعلوم والثقافة

جهود منظمة اليونسكو في الحفاظ على التراث العالمي

إن منظمة اليونسكو تشجع كل دول العالم على تحديد مواقع التراث الطبيعي والثقافي فيها، ثم تختار اليونسكو أماكن لتكون ضمن قائمة التراث العالمي.



unesco

شروط الانضمام لقائمة التراث العالمي

يشترط أن :

- يضم المكان مناطق طبيعية فائقة الجمال لا مثيل لها.
- أو يعكس مراحل مهمة من التطور عبر العصور.
- أو أن يمثل الأثر نموذجاً للإبداع البشري.

أهمية قائمة التراث العالمي

- ❖ تساعد على زيادة معرفة المواطنين بالتراث الثقافي والطبيعي في وطنهم وحمايته والمحافظة عليه.
- ❖ تعميق شعور المواطنين بالانتماء لمجتمعهم وتاريخهم.
- ❖ تحفيز دول العالم على اتخاذ الإجراءات اللازمة لحماية المواقع التراثية الثقافية والطبيعية وتطويرها

دور منظمة اليونسكو

- تدعم السياحة إلى مناطق التراث العالمي التي حددها في قائمتها.
- تساعد على زيادة الدخل القومي للدولة.
- تقدم المساعدة إلى الدول للحفاظ على الأماكن التراثية المهددة بالخطر.
- تساهم في ترميم بعض المدن القديمة مثل : ترميم مدينة صنعاء القديمة في اليمن.

اهم الاسئلة علي الدرس

السؤال الأول ضع علامة (√) أمام العبارة الصحيحة، وعلامة (X) أمام العبارة غير الصحيحة:

1. يسهم التراث الثقافي المتنوع في تنشيط السياحة. ()
2. تعد قلعة صلاح الدين منطقة تراث طبيعي. ()
3. يختلف التراث المصري من منطقة لأخرى. ()
4. تم بناء قلعة صلاح الدين في طابا لتأمين خليج العقبة والبحر الأحمر من الأعداء. ()
5. منظمة الأمم المتحدة المسؤولة عن التربية والعلوم والثقافة هي منظمة اليونسكو. ()
6. تعد محمية رأس محمد جنوب سيناء من مناطق التراث الطبيعي في مصر. ()
7. الهدف من بناء قلعة صلاح الدين الأيوبي في مدينة طابا هو أن تكون مقرا للحكم. ()
8. تقوم منظمة اليونسيف بالحفاظ على التراث العالمي. ()
9. تتميز محمية الغابات المتحجرة بوجود الشعاب المرجانية والأسماك الملونة. ()
10. يشمل مسار رحلة العائلة المقدسة الأماكن التي مرت بها العائلة المقدسة في مصر. ()

السؤال الثاني أكمل العبارات الآتية بما يناسبها من كلمات

1. تم تخصيص يوم عالمي للتوعية لحماية التراث الوطني برعاية منظمة.....
2. الصناعات والحرف التراثية تعد تراثا.....
3. المنظمة التي تقدم المساعدة للدول للحفاظ على المناطق المهددة بالخطر هي منظمة.....
4. تقع قلعة صلاح الدين في جزيرة..... في مدينة طابا.
5. تقع محمية رأس محمد عند التقاء خليجي..... و.....
6. تعد محمية الغابات المتحجرة تراثا.....

السؤال الثالث ما المقصود ب...؟

1. التراث الطبيعي.....
2. التراث الثقافي.....
3. محمية طبيعية.....

السؤال الرابع صوب ما تحته خط

1. التراث الثقافي هو الذي لا يتدخل الإنسان في صنعه أو التأثير فيه.
2. خصص يوم ١٨ مارس من كل عام ليكون يوم التراث العالمي.
3. تقع قلعة صلاح الدين في جزيرة فرعون بمدينة رفح.
4. تسهم اليونسكو في ترميم بعض المدن القديمة مثل مدينة صيدا في اليمن.
5. تضم محمية رأس محمد مجموعة من الأشجار المتحجرة على شكل قطع صخرية.
6. مسار رحلة العائلة المقدسة يشمل الأماكن التي مرت بها العائلة المقدسة في مصر هربا من بطش حاكم اليمن.

السؤال السابع فسر بذكر السبب

1. إنشاء صلاح الدين قلعة في مدينة طابا.
2. تسهم منظمة اليونسكو في ترميم المدن القديمة.
- 3.

السؤال الثامن: انظر إلى الخريطة ثم أجب عن الأسئلة الآتية:



1. محمية بجنوب سيناء.....
2. مدينة بها قلعة صلاح الدين الأيوبي.....
3. محمية بمحافظة القاهرة.....

المتفوق

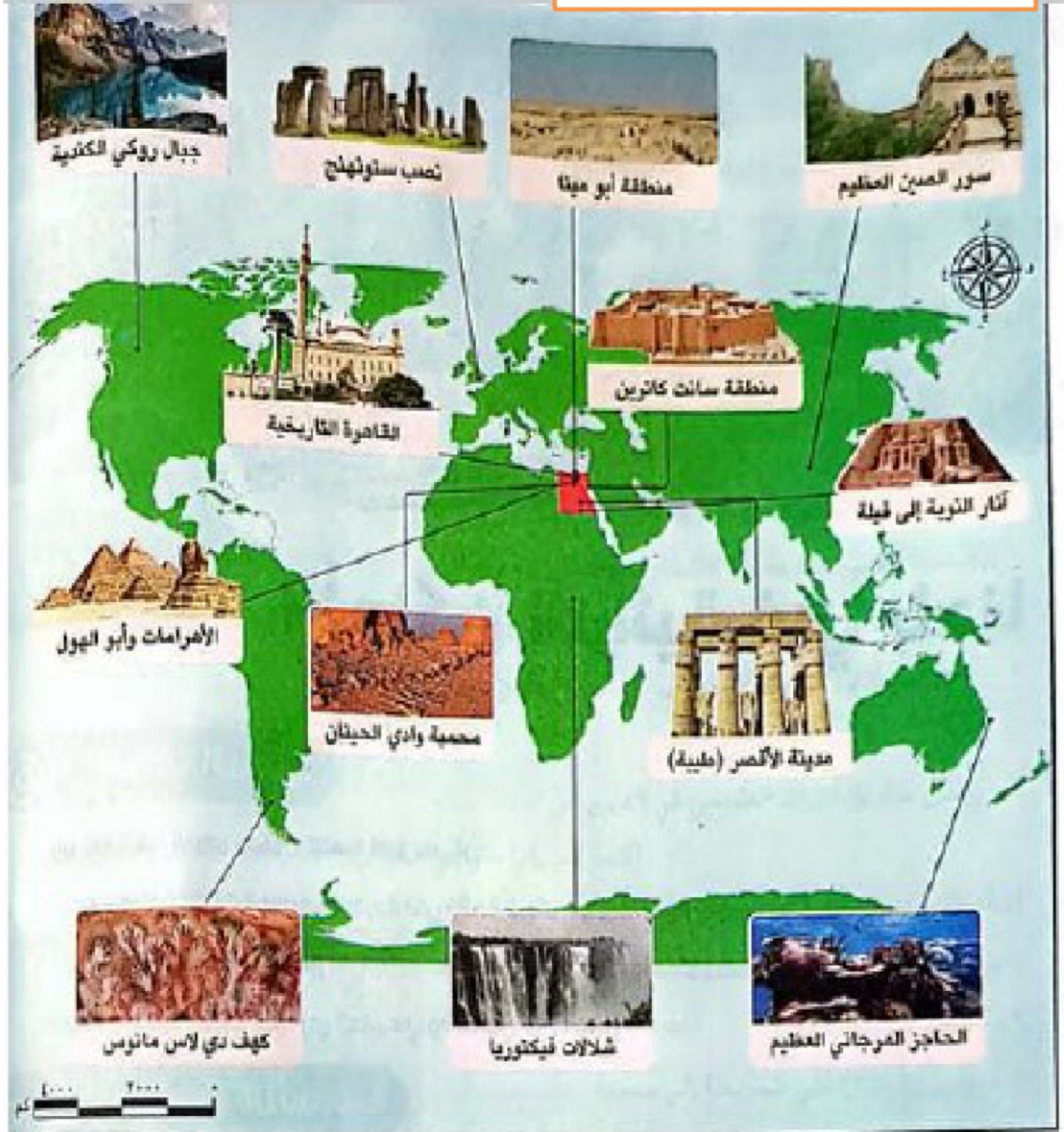
في الدراسات الاجتماعية

اعداد /
مستر حاتم عاطف

الأماكن التراثية في بلدنا

الدرس الثاني

أولاً : مواقع مسجلة على قائمة التراث



بعض مواقع التراث العالمي لليونسكو

يوجد بمصر عدد من المواقع التراثية المسجلة على خريطة التراث العالمي لليونسكو، والتي لها أهمية عالمية كبيرة مثل:

آثار النوبة :



آثار النوبة من "أبو سمبل" إلى **فيلة**.

- يضم هذا الموقع الكثير من الأماكن الأثرية، مثل:

1- معبد "أبو سمبل" الكبير والصغير .

2- معبد "إيزيس" في جزيرة فيلة.

- تعرض المعبدان لخطر الغرق بمياه النيل بعد بناء السد العالي.

دور منظمة اليونسكو: قامت المنظمة بإنقاذها من الغرق ونقلها إلى موقعها الحالي.

القاهرة التاريخية

تعد مدينة القاهرة التاريخية من أهم وأكبر المدن التراثية في العالم.

تتميز بتعدد الآثار والمباني التاريخية التي تعبر عن تاريخ القاهرة الطويل بصفتها عاصمة سياسية وثقافية وتجارية ودينية عريقة.

في الدراسات الاجتماعية

وادي الحيتان

تقع محمية وادي الحيتان في محافظة الفيوم.

يوجد في المحمية:

١ - هياكل وعظام الحيتان ضخمة وحفريات لأسماك أخرى كانت تعيش قبل 40 مليون سنة في تلك المنطقة التي كان يغطيها البحر قديماً.

٢ - كائنات حية متنوعة كالصقور والثعالب والغزلان.


منطقة أبو مينا

تقع منطقة أبي مينا في الإسكندرية بجوار مدينة برج العرب.

يرجع تاريخ المنطقة إلى فترة الحكم الروماني لمصر.

تعد مزارا دينيا وأثريا.

تصنف اليونسكو منطقة أبي مينا منطقة مهددة بخطر تآكل التربة والمباني.



دير سانت كاترين والمنطقة المحيطة به

يقع دير سانت كاترين في محافظة جنوب سيناء عند سفح جبل سيناء (جبل موسى)، حيث تلقى النبي موسى (عليه السلام) الوصايا من الله. يعد من أقدم الأديرة في مصر.

تضم تلك المنطقة الجبلية العديد من المواقع التراثية والدينية بالإضافة إلى طبيعتها الخلابة.

طريق الكباش

هو طريق أنشأه المصريون القدماء لإقامة الاحتفالات لكبرى الملكية والدينية.

يبلغ طوله ٢٧٠٠ متر وعرضه أقل من ٧٠ مترا.

يربط بين معبد الكرنك شمالا ومعبد الأقصر جنوبا.

الطريق كله مزين على الجانبين بتمثال على هيئة كباش في وضعية أبو الهول.

تم إعادة افتتاح هذا الطريق في حفل كبير حضرته وفود من دول متعددة وممثلون لمنظمة اليونسكو. يرى كثير من الخبراء في مجال السياحة أن الأقصر أصبحت أفضل مكان للسياحة الثقافية بلا منازع بعد اكتمال طريق الكباش. ان الاجتماعية

فكر وأجب مع المتفوق

أكمل العبارات التالية

- 1- تعد مدينة في مصر من أهم وأكبر المدن التراثية في العالم.
- 2- قامت منظمة اليونسكو بإنقاذ معبد "أبو سمبل" من الغرق بعد بناء
- 3- تعد محمية وادي الحيتان منطقة تراث عالمي
- 4- توجد منطقة "أبو مينا" التراثية في محافظة

التغيرات المناخية ومواقع التراث العالمي:

تؤثر التغيرات المناخية على مواقع التراث العالمي، فقد أشار تقرير اليونسكو عن التراث العالمي والسياحة في ظل التغيرات المناخية إلى أن ٣١ موقعا طبيعيا وثقافيا على قائمة التراث العالمي في دول مختلفة معرض للخطر بسبب:

درجات الحرارة المتزايدة - ذوبان الجليد - ارتفاع منسوب المياه - الأحوال الجوية القاسية - الجفاف - حرائق الغابات المتزايدة؛ لهذه الأسباب اهتمت اليونسكو بالمواع الأثرية ومنها مصر

اهم الاسئلة علي الدرس

الأماكن التراثية في بلدنا

السؤال الأول ضع علامة (√) أمام العبارة الصحيحة، وعلامة (X) أمام العبارة غير الصحيحة:

1. مصر بها عدد من المواقع التراثية المسجلة في منظمة اليونسيف. ()
2. من آثار النوبة المسجلة ضمن قائمة التراث العالمي معيدا أبو سمبل. ()
3. تتميز مدينة القاهرة بتاريخها : لأنها عاصمة سياسية وثقافية وتجارية عريقة. ()
4. منطقة أبو مينا تقع في الأقصر. ()
5. طريق الكباش يربط بين معبد الكرنك شمالا ومعبد الأقصر جنوبا. ()
6. ارتفاع منسوب المياه لا يسبب ضررا على الأماكن التراثية القريبة من المياه. ()
7. يعد دير سانت كاترين من أقدم الأديرة الدينية في مصر. ()
8. ساهمت منظمة اليونسكو في إنقاذ معبد إيزيس في جزيرة فيلة. ()

السؤال الثاني أكمل العبارات الآتية بما يناسبها من كلمات

في الدراسات الاجتماعية

1. مدينة تاريخية وتعد من أكبر المدن التراثية في العالم.....
2. تم إنقاذ معبدى أبو سمبل من الغرق بمساهمة منظمة.....
3. منطقة وادى الحيطان تقع في محافظة.....
4. منطقة أبو مينا مهددة بخطر تآكل.....
5. طريق يوجد به تماثيل يقع بين معبدى الكرنك والأقصر هو طريق.....
6. واد بالفيوم يضم هياكل عظمية للحيوانات البحرية هو وادى.....
7. يرجع تاريخ منطقة أبو مينا إلى الحضارة.....
8. تعتبر مدينة..... عاصمة سياسية وثقافية وتجارية عريقة.

السؤال الثالث اختر الإجابة الصحيحة مما يلي:

1. أسهمت منظمة في إنقاذ معبد إيزيس من الغرق

- أ. اليونسيف ب. اليونسكو ج. الفاو د. السياحة

2. تم إعادة افتتاح طريق الكباش بحضور ممثلين من منظمة.....

- أ. اليونسيف ب. اليونسكو ج. الفاو د. الأوبك

3. من معالم النوبة معبد إيزيس في جزيرة.....

ا. شنوان ب. الجفتون ج. فيلة ء. الجونة

4. قامت منظمة اليونسكو بإنقاذ آثار النوبة من الغرق بعد بناء.....

ا. متحف النوبة ب. القناطر الخيرية ج. السد العالى ء. قناطر إسنا

5. مدينة مصرية تتمتع بتاريخ ممتد بصفتها عاصمة سياسية وثقافية ودينية عريقة.

ا. السويس ب. الإسكندرية ج. دمياط ء. القاهرة

6. منطقة أبو مينا التراثية يرجع تاريخها إلى فترة الحكم.....

ا. البطلمي ب. الروماني ج. الأموي ء. العباسي

7. دير سانت كاترين يقع عند جبل.....

ا. علبة ب. العوينات ج. سيناء ء. حماطة

8. صنفت منظمة اليونسكو منطقة.....منطقة مهددة بخطر تآكل التربة والمباني.

ا. حلوان ب. أبو مينا ج. أبو رواش ء. قليوب

9. طريق أنشأه المصري القديم الإقامة الاحتفالات الملكية والدينية .

ا. السويس ب. الكباش ج. الإسكندرية ء. المحلة

10. أي من المناطق الأثرية التالية تعد ضمن قائمة التراث العالمي لليونسكو؟

ا. صان الحجر ب. معبدا أبو سمبل ج. تل بسطة ء. تل العمارنة

11. إذا أردت الاستمتاع بشكل هياكل الحيتان التي تكونت في مصر منذ ٤٠ مليون سنة، فإنك

ستزور إحدى المحميات الطبيعية في محافظة.....

ا. القاهرة ب. البحيرة ج. الفيوم ء. أسوان

السؤال الرابع صوب ما تحته خط

1. دير القديسين من أقدم الأديرة في مصر.

2. منطقة وادي الحيتان تقع بمحافظة الغربية.

3. يقع دير سانت كاترين جنوب القاهرة.

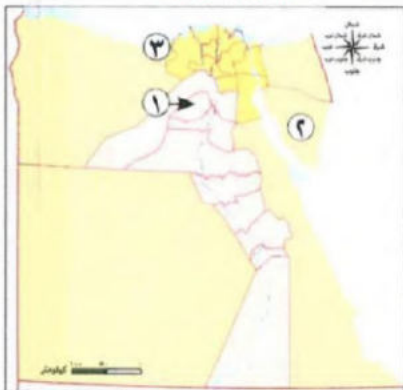
4. مدينة الجيزة تعد عاصمة لمصر ولها تاريخ عريق.

5. محمية البرلس يوجد بها ثعالب وغرلان

السؤال الخامس أمامك خريطة صماء لمصر، حدد عليها مدلول الرقمين

الأتيين

يشير رقم (١) إلى منطقة.....



يشير رقم (٢) إلى دير.....

يشير رقم (٣) إلى منطقة.....

السؤال السادس دلل على صحة العبارتين الآتيتين:

1. تعد مدينة القاهرة التاريخية من أهم وأكبر المدن التراثية في العالم.
2. حدد أحد معايير إدراج المناطق الأثرية ضمن قائمة التراث العالمي.

السؤال السابع قارن بين:

-منطقة أبو مينا ودير سانت كاترين والمنطقة المحيطة به من حيث الأهمية - الموقع

وجه المقارنة	منطقة أبو مينا	دير سانت كاترين والمنطقة المحيطة به
الأهمية	سلسلة	
موقع		

السؤال الثامن بم تفسر...؟

1. تصنيف منظمة اليونسكو منطقة أبو مينا منطقة مهددة بالخطر.
2. تعتبر مدينة القاهرة من أهم وأكبر المدن التراثية في العالم.
3. تؤثر التغيرات المناخية في مواقع التراث العالمي.

السؤال التاسع أجب عما يلي:

1. اذكر بعض المناطق التراثية بمصر التي تم إدراجها بقائمة التراث العالمي.

دلل على صحة العبارة الآتية: تبذل اليونسكو جهودًا لإنقاذ بعض المواقع التراثية المصرية.»

الأماكن السياحية والأثرية في بلدنا

الدرس الثالث


سلسلة

المتفوق

في الدراسات الاجتماعية

اعداد /
مستر حاتم عاطف

إن مصر بلد سياحي له تاريخ عريق يرجع لأكثر من ٧٠٠٠ سنة، عاشت على أرضها كثير من الحضارات مثل:




الحضارة المصرية القديمة (الفرعونية) : الأهرامات وابو الهول

الحضارة اليونانية والرومانية : عمود السواري

الحضارة القبطية : الكنيسة المعلقة

الحضارة الإسلامية : مسجد عمرو بن العاص



الحضارة الإسلامية



الحضارة القبطية



الحضارة اليونانية والرومانية



الحضارة المصرية القديمة (الفرعونية)

مسجد عمرو بن العاص

الكنيسة المعلقة

عمود السواري

الأهرامات وأبو الهول

بعض المناطق السياحية والأثرية في مصر

مدينة شرم الشيخ



أ - الموقع : تقع في جنوب سيناء.

ب - المميزات:

في الدراسات الاجتماعية

❖ تتميز بمناخها المعتدل.

❖ تتميز بمناظرها الخلابة، مثل:

❖ الجبال الشاهقة، مياه البحر الأحمر الصافية، الشعاب

❖ المرجانية الملونة.

ج - منظمة اليونسكو والسلام:

اختارت منظمة اليونسكو مدينة شرم الشيخ كأفضل مدينة سلام على مستوى العالم.



الأهرامات وأبو الهول



أ - الموقع: بنى المصريون القدماء الأهرامات الثلاثة (خوفو - خفرع - منكاورع) على هضبة مرتفعة في محافظة الجيزة غرب نهر النيل، وذلك:

لتكون بعيدة عن الفيضان.

ب - الأهمية: كان يتم دفن الملك وكل الأشياء التي سوف يحتاج إليها بعد البعث في حجرة داخل الهرم بسبب اعتقاد المصريين القدماء في البعث والخلود.

جـ - أبو الهول: بناه الملك **خفرع** صاحب الهرم الأوسط.

رأسه على شكل رأس إنسان وجسمه جسم أسد ليكون رمزا للحكمة والقوة. اعتبره المصريون حارسا للهبضية.

ما المقصود به...؟

البعث: الحياة مرة أخرى بعد الموت.

الخلود: حياة أبدية لا موت بعدها.

مجمع الاديان

أ - الموقع: يقع بحي مصر القديمة في القاهرة.

ب - الأهمية:

يضم مجموعة من الآثار الرومانية واليهودية والقبطية والإسلامية، مثل:

1- حصن بابليون:

بني في عهد الاحتلال **الروماني** لمصر.

2- الكنيسة المعلقة:

هي واحدة من أقدم الكنائس وسميت بالمعلقة لأنها بنيت على الأبراج الجنوبية من **حصن بابليون** وترتفع عدة أمتار عن سطح الأرض.

3- المعبد اليهودي:

يقع في نهاية منطقة الكنائس القبطية بحي مصر القديمة **بالفسطاط**

4- جامع عمرو بن العاص:

بناه عمرو بن العاص الي في عهد الخليفة **عمر بن الخطاب** ال بعد الفتح الإسلامي لمصر عام 141 م.

فكر وأجب مع المتفوق

أكمل العبارات التالية بكلمات مناسبة:

- 1- الملك الذي شيد تمثال "أبو الهول" هو
- 2- بني المصريون القدماء الأهرامات الثلاث في محافظة
- 3- شيد المصريون القدماء الأهرامات لاعتقادهم في
- 4- تم بناء الكنيسة المعلقة فوق أبراج

برج القاهرة



أ - الموقع: يوجد في جزيرة الزمالك بنهر النيل.
 ب - الأهمية:
 يعد من أبرز المعالم السياحية الحديثة بالقاهرة.
 تم تصميمه على شكل زهرة اللوتس المصرية التي تعد رمزا من رموز الحضارة المصرية القديمة.

المتحف القومي للحضارة



أ - الموقع: يقع في قلب مدينة الفسطاط في القاهرة.
 ب - افتتاحه:

تم افتتاحه في اليوم العالمي للتراث 18 إبريل ٢٠٢١م.
 ج - الأهمية:

يعتبر الأول من نوعه في مصر والعالم العربي.

يقدم المتحف نظرة شاملة على الحضارة المصرية القديمة.

يعرض المتحف قطعا أثرية تساعد الزائر على فهم الحضارة المصرية عبر العصور المختلفة من (العصر المصري القديم واليوناني والروماني والقبطي والإسلامي إلى العصر الحديث والمعاصر).

فكر وأجب مع المتفوق

أكمل

1. إذا أردت زيارة منطقة مجمع الأديان فعليك التوجه إلى محافظة
2. تم بناء برج القاهرة على شكل

يوجد برج ايفل في فرنسا

تعلم

اهم الاسئلة علي الدرس

الأماكن السياحية والأثرية في بلدنا

السؤال الأول اكتب كلمة (صواب) أمام العبارة الصحيحة، وكلمة (خطأ) أمام العبارة غير الصحيحة

1. قام الملك خوفو بنحت تمثال أبو الهول. ()
2. تقع الأهرامات الثلاثة بالجيزة شرق النيل. ()
3. حصن بابلون بني في عهد البطالمة. ()
4. يوجد المعبد اليهودي بمنطقة الكنائس القبطية بالفسطاط. ()
5. سميت الكنيسة المعلقة بهذا الاسم لأنها بنيت على الأبراج الشمالية من حصن بابلون. ()
6. لم تمر مصر بعصور تاريخية وظلت ثابتة على حالها. ()
7. مدينة شرم الشيخ اختارتها منظمة اليونسكو كأفضل مدينة للسلام على مستوى العالم. ()

السؤال الثاني أكمل العبارات الآتية بما يناسبها من كلمات:

1. مدينة سياحية تقع جنوب سيناء.....
2. برج يعد من أبرز المعالم السياحية في القاهرة ويوجد في جزيرة الزمالك هو برج.....
3. المتحف القومي للحضارة يقع في مدينة..... بالقاهرة.
4. توجد الأهرامات الثلاثة في محافظة.....
5. إذا أردت التعرف على الحضارة المصرية في مختلف العصور، يمكنك زيارة المتحف.....
6. اختارت منظمة اليونسكو مدينة شرم الشيخ كأفضل مدينة..... على مستوى العالم.
7. توجد الكنيسة المعلقة في حي..... بالقاهرة.
8. تم بناء جامع عمرو بن العاص في عهد الخليفة.....

السؤال الثالث اختر الإجابة الصحيحة مما بين القوسين

1. يوجد برج القاهرة في جزيرة.....
ا. الذهب ب. الزمالك ج. الروضة د. فيلة
2. من الآثار المصرية التي ترجع للعصر الفرعوني.
ا. الكنيسة المعلقة ب. تمثال أبو الهول ج. حصن بابلون د. جامع أحمد بن طولون
3. بنى المصريون القدماء الأهرامات الثلاثة على هضبة في..... النيل
ا. غرب ب. جنوب ج. شمال د. شرق
4. يوجد برج إيفل في دولة.....
ا. ألمانيا ب. فرنسا ج. النمسا د. هولندا
5. تم تصميم وبناء برج القاهرة على شكل زهرة.....
ا. الفل ب. اللوتس ج. البنفسج د. الياسمين
6. تنتشر الشعاب المرجانية الملونة في مياه البحر.....
ا. المتوسط ب. الميت ج. الأحمر د. قزوين

السؤال الرابع صوب ما تحته خط

1. صاحب الهرم الأصغر هو الملك خفرع.
2. مدينة شرم الشيخ تقع في شمال سيناء.
3. بنى المصريون القدماء الأهرامات شرق النيل.
4. حصن بابلليون يعد من الآثار القبطية في مصر.
5. تقع الأهرامات الثلاثة في محافظة الفيوم.
6. صمم برج إيفل على شكل زهرة اللوتس.
7. يضم متحف الأقصر آثارا لمختلف العصور المصرية.
8. يوجد المسرح الروماني في محافظة القاهرة.
9. يوجد جامع أحمد بن طولون في محافظة الإسكندرية.
10. بنى المصريون القدماء المعابد ليُدفن فيها الملوك.

السؤال الخامس اكتب ما تشير إليه العبارات التالية:

1. بناء سياحي مرتفع بالقاهرة على شكل زهرة اللوتس.
2. اعتقاد ديني عند المصريين القدماء بالحياة بعد الموت.
3. الاسم الذي أطلقته منظمة اليونسكو على مدينة شرم الشيخ

السؤال السادس رتب العصور الزمنية المصرية التالية من القديم إلى الحديث

(الإسلامي - القبطي - الحديث والمعاصر - اليوناني والروماني - الفرعوني)

السؤال الثامن فسر بذكر السبب

1. بنى المصريون القدماء الأهرامات على هضبة مرتفعة.
2. نحت الملك خفرع تمثال أبو الهول. في الدراسات الاجتماعية

السؤال التاسع: انظر إلى الخريطة ثم أجب عن الأسئلة الآتية:

يشير رقم (١) إلى محافظة بها الأهرامات اعداد /

يشير رقم (٢) إلى مدينة أطلق عليها مدينة السلام..... حاتم عاطف

يشير رقم (٣) إلى محافظة بها المتحف القومي للحضارة.....



السياحة وأقتصاد بلدنا

الدرس الرابع

تتميز مصر بالمناطق السياحية المتنوعة والخلابة التي تجذب السائحين إليها من دول العالم، فما أنواع السياحة التي يمكن أن يستمتع بها السائحون في مصر؟ وما الفائدة التي تعود على اقتصاد مصر من السياحة؟

السياحة : انتقال الأفراد من مكان إقامتهم إلى أماكن أخرى.

- يأتي السياح إلى مصر لأغراض متعددة مثل: التنزه والترفيه والعلاج وزيارة الأماكن التاريخية أو حضور المؤتمرات والمهرجانات، لذلك تتعدد أنواع السياحة في مصر.

أنواع السياحة في مصر



السياحة الثقافية

في الدراسات الاجتماعية

تتمثل في زيارة الأماكن التاريخية والثقافية، مثل:

- ١ - أهرامات الجيزة وأبو الهول
- ٢ - شارع المعز وخان الخليلي في القاهرة.
- ٣ - المتاحف مثل المتحف المصري ومتحف الحضارة والمتحف الإسلامي والمتحف القبطي.
- ٤ - دار الأوبرا المصرية التي تقدم أفضل العروض الفنية العالمية.
- ٥ - مكتبة الإسكندرية التي تضم العديد من الكتب والمؤلفات النادرة.

السياحة الترفيهية

وتتمثل في زيارة الأماكن الطبيعية الخلابة، مثل:

- ١ - التنزه عبر نهر النيل.
- ٢ - المدن الشاطئية، مثل: - مدن البحر الأحمر مثل: (دهب - شرم الشيخ - الغردقة) حيث التمتع بالمناظر الخلابة والشعاب المرجانية.
- مدن البحر المتوسط: (مرسى مطروح - العلمين - الإسكندرية).
- ٣ - رحلات السفاري في الصحاري المصرية.



السياحة العلاجية

وتتمثل في زيارة أماكن عيون المياه الكبريتية والرمال الساخنة التي يوجد العديد منها في مصر، مثل:

١- عيون موسى في جنوب سيناء.

٢ - العيون الكبريتية في واحة سيوة.

٣ - الرمال الساخنة في الوادي الجديد.

أهميتها: تستخدم في الاستحمام والعلاج من الأمراض الجلدية وأمراض العظام



سياحة المؤتمرات والمهرجانات

تتمثل في زيارة السياح لمصر لحضور المؤتمرات والمهرجانات والمعارض، مثل

المؤتمرات العالمية:

• مؤتمر النقل الذكي

• المؤتمر العربي للحد من مخاطر الكوارث.

المعارض السنوية :

معرض القاهرة الدولي للكتاب

المهرجانات :

- مهرجان الإسماعيلية للفنون الشعبية.

- مهرجان الموسيقى العربية.



المتفوق

سلسلة

في الدراسات الاجتماعية

اعداد /

مستر حاتم عاطف

فكر وأجب مع المتفوق

اكمل العبارات التالية بما يناسبها من كلمات :

١- إذا أردت زيارة إحدى مناطق السياحة الثقافية في الجزيرة، فسوف تذهب إلى

٢ - تعتبر مكتبة الإسكندرية من أماكن السياحة.....

٣ - تسوق الدولة للسياحة باستخدام الوسائل الحديثة.

٤ - تقع مدينة شرم الشيخ ودهب على ساحل

٥- تنتشر السياحة الترفيهية في مدينة الإسكندرية التي تقع على ساحل.....

ثانيا أهمية السياحة

هل تعلم أن عدد السائحين الوافدين إلى مصر بلغ نحو 13 مليون سائح في عام ٢٠١٩م؟ تسهم السياحة في دعم الاقتصاد المصري، حيث:

١- توفر فرص عمل للشباب.

٢- تسهم بنحو ١٢% من إجمالي الدخل القومي (هو الدخل الذي تحققه جميع الأنشطة الاقتصادية الدولة خلال عام واحد)

٣- تعد المصدر الأول للعمات الأجنبية.

ثالثًا : جهود الدولة لتنمية السياحة

تهتم الدولة بتنمية السياحة من خلال:

استخدام الأساليب التكنولوجية في التسويق السياحي.

تطوير وسائل النقل والمواصلات.

دعم السياحة المستدامة.

إنشاء وتطوير المنشآت السياحية مثل القرى السياحية والفنادق.

صيانة المناطق الأثرية وترميمها.

تقوم مصر بدعم السياحة المستدامة للحفاظ على البيئة والموارد الطبيعية عن طريق:

- ❖ ترشيد استهلاك الطاقة والمياه بالمنشآت السياحية.
- ❖ التعامل الآمن مع المخلفات.
- ❖ الاعتماد على الطاقة النظيفة.
- ❖ المشاركة في مبادرات دولية لحماية الشعاب المرجانية والحياة البحرية.

رابعاً : المدونة العالمية لأخلاقيات السياحة

قامت منظمة السياحة العالمية بإصدار "المدونة العالمية لأخلاقيات السياحة" وتتضمن عشرة مبادئ أساسية تستهدف تحقيق السياحة المستدامة.

أهمية المدونة العالمية لأخلاقيات السياحة:

تعود بالنفع على المجتمع وتقلل من الآثار السلبية التي قد تنجم عن ممارسات غير مسنولة تضر بالمجتمعات وتراثها.

أضف لمعلوماتك:

منظمة السياحة العالمية:

هي منظمة تابعة للأمم المتحدة تهتم بشئون الدول من الناحية السياحية.

أكدت المدونة على دور السياحة في :

- 1- مجال التفاهم والاحترام المتبادل بين الشعوب والمجتمعات.
- 2- ضرورة مراعاة الأنشطة السياحية للمساواة بين الرجل والمرأة.
- 3- ضرورة مراعاة الأنشطة السياحية لحقوق ذوي الاحتياجات الخاصة والأطفال والشيوخ
- 4- ضرورة التعاون مع الجهات الحكومية من أجل أمن وسلامة السائحين.

فكر وأجب مع المتفوق

بم تفسر؟

- ١ - أهمية السياحة المصر.
- ٢ - زيارة السائحين العيون الكبريتية والرمال الساخنة.
- 3- اهتمام الدولة بتطوير المنشآت السياحية.



WORLD TOURISM ORGANIZATION
ORGANISATION MONDIALE DU TOURISME
ORGANIZACION MUNDIAL DEL TURISMO
ВСЕМИРНАЯ ТУРИСТСКАЯ ОРГАНИЗАЦИЯ
منظمة السياحة العالمية

اهم الاسئلة علي الدرس
السياحة واقتصاد بلدنا

السؤال الأول ضع علامة (√) أمام العبارة الصحيحة، وعلامة (X) أمام العبارة غير الصحيحة:

1. تعد السياحة ثالث أكبر مصدر للعملة الأجنبية في مصر. ()
2. زيارة مدن البحر الأحمر للتمتع بالمناظر الخلابة تعد سياحة ثقافية ()
3. استخدام الأساليب التكنولوجية في التسويق السياحي يساعد على تنمية السياحة في مصر. ()
4. استضافت مصر المؤتمر العربي للحد من السياحة. ()
5. زيارة مناطق العيون الكبرى من أنواع السياحة الترفيهية. ()
6. السياحة العلاجية تهدف للحفاظ على البيئة. ()

السؤال الثاني أكمل العبارات الآتية بما يناسبها من كلمات

1. حضور مؤتمر شباب العالم في مدينة شرم الشيخ بعد ضمن السياحة.....
2. من جهود الدولة لتنمية السياحة في مصر صيانة المناطق.....
3. إذا قمت بزيارة المكتبة الإسكندرية فهذا يعد سياحة.....
4. تعد مدينة مرسى مطروح من الشواطئ المطلة على البحر.....
5. زيارة معرض القاهرة الدولي للكتاب تعد ضمن السياحة.....

السؤال الثالث اكتب ما تشير إليه العبارات الآتية:

1. نوع من أنواع السياحة يهدف إلى الحفاظ على الموارد الطبيعية. المستوى الثاني.
2. منطقة يزورها السياح للعلاج بالمياه الكبريتية.
3. مكتبة في مصر تضم أمهات الكتب وأندر المؤلفات.
4. الدخل الذي يتحقق من الأنشطة الاقتصادية.

السؤال الرابع اختر الإجابة الصحيحة مما يلي:

1. من أماكن السياحة العلاجية في مصر.....

- أ. جنوب سيناء ب. شمال سيناء ج. واحة الداخلة د. واحة الخارجة

2. زيارة شارع المعز تعد سياحة.....

- أ. ترفيهية ب. ثقافية ج. علاجية د. مؤتمرات

3. مكان في مصر يقدم عروضاً فنية.....

١. دار الأوبرا ب. المتحف المصري ج. مكتبة الإسكندرية د. معرض الكتاب

4. يذهب السياح للعلاج بالرمال الساخنة في مصر إلى واحة

أ. الداخلة ب. جسيوة ج. الفرافرة د. الخارجة

5. السياحة تهدف للحفاظ على البيئة.

أ. التاريخية ب. العلاجية ج. الترفيهية د. المستدامة

6. المدونة العالمية الأخلاق السياحة تهدف إلى تحقيق السياحة.

أ. العلاجية ب. الترفيهية ج. المستدامة د. الثقافية

السؤال الخامس صوب ما تحته خط

1. مؤتمر النقل الذكي يعد ضمن السياحة التاريخية.
2. توجد في مصر مناطق سياحية محدودة.
3. مهرجان الموسيقى العربية نوع من أنواع السياحة العلاجية.
4. تعد السياحة المصدر الثاني للعملات الأجنبية في مصر.
5. زيارة مناطق العيون الكبرى نوع من أنواع السياحة المستدامة.

السؤال السادس أمامك قائمة لبعض الأماكن السياحية في مصر صنفها حسب النوع في

الجدول التالي:

(مهرجان الإسماعيلية - رحلات السفاري - شارع المعز - مؤتمر النقل الذكي - العيون الكبرى - دار الأوبرا - شواطئ البحر المتوسط - واحة سيوة)

ثقافية	ترفيهية	علاجية	المؤتمرات وجانات

السؤال السابع اكتب دليلا واحدا لما يلي:

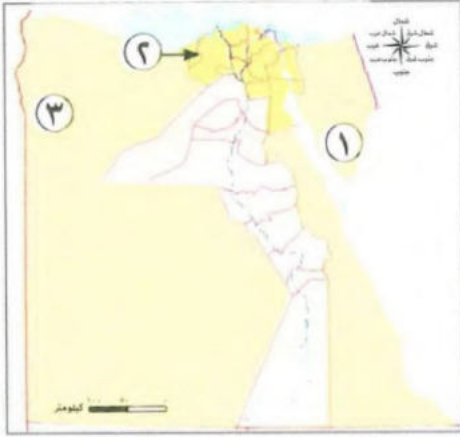
1. جهود الدولة للتنمية السياحية في مصر.
2. دعم مصر للسياحة المستدامة.
3. يوجد بمصر سياحة علاجية.

4. تتعدد أنواع السياحة في مصر.
5. تعد شبه جزيرة سيناء من مناطق الجذب السياحي.

السؤال الثامن أجب عن السؤالين الآتيين:

1. فسر : وفود السياح بأعداد كبيرة إلى مصر.
2. حدد اثنين من جهود الدولة لتنمية السياحة في مصر.

السؤال التاسع انظر إلى الخريطة، ثم أجب عن الأسئلة الآتية:



1. يشير رقم (1) إلى محافظة تتمتع بسياحة ترفيهية وعلاجية معا هي محافظة.....
2. يشير رقم (2) إلى إحدى المدن التي بها سياحة ترفيهية.....
3. يشير رقم (3) إلى إحدى مناطق السياحة العلاجية.....

المتفوق

في الدراسات الاجتماعية

اعداد /
مستتر حاتم عاطف

مسئوليتنا نحو تراث بلدنا

الدرس الخامس

أولا : السلوكيات الصحيحة عند زيارة المواقع الأثرية والأماكن

يجب علينا الاهتمام بثروة مصر الثقافية، والالتزام بالسلوكيات الصحيحة أثناء زيارة المعالم الأثرية والمناطق السياحية ومن هذه السلوكيات، ما يلي:



اتباع قواعد النظافة والأمن داخل المواقع الأثرية والسياحية.



عدم تناول الطعام والشراب بجانب الآثار.



عدم الكتابة على الآثار أو خدشها أو أخذ قطعة منها للمنزل.



عدم التقاط صور غير مناسبة أو استخدام ضوء الكاميرا (فلاش) لتأثيره السلبي على بعض القطع الأثرية.



يجب علينا معاملة السياح معاملة حسنة، وتقديم المساعدة لهم إذا طلبوا.



عدم لمس القطع الأثرية أو الوقوف ملاصقا بها.

ثانيا : جهود الدولة للحفاظ على المواقع الأثرية والأماكن السياحية

نظرا للقيمة التاريخية والاقتصادية للمناطق الأثرية والسياحية، فإن الدولة المصرية تبذل جهودا عدة للحفاظ على الآثار والأماكن السياحية، يمكن تعرفها من خلال الشكل التالي:

١- إصدار قوانين تجرم الاتجار بالآثار أو الاعتداء عليها.

٢- صيانة المناطق الأثرية.

٣- التخطيط لمشروعات تطوير المناطق الأثرية مثل مشروع تطوير مدينة القاهرة التاريخية.

٤- ترميم الآثار بواسطة المتخصصين.

٥- تنظيم عملية البحث والتنقيب عن الآثار والإشراف عليها.

فكر وأجب مع المتفوق

أكمل العبارات التالية بما يناسبها من كلمات:

- ١- عند زيارتك للمتحف المصري يجب اتباع قواعد..... و
- ٢- يجب عدم استخدام..... الكاميرا عند التصوير لأنه يؤثر سلبا على بعض القطع الأثرية
- ٣- قامت الدولة بإصدار..... لمعاقبة تجار الآثار.

ثالثا : نماذج من مشروعات الدولة في تطوير الأماكن السياحية**1 مشروع تطوير مدينة القاهرة التاريخية**

1

هدف المشروع:

حماية وصيانة المباني الأثرية والتاريخية والحفاظ على آثار المنطقة والتراث ال
عمراني فيها وترميم الأضرار التي لحقت بها باعتبارها إحدى أبرز المدن التراثية القديمة على
مستوى العالم
أهم المناطق التي يشملها المشروع:

كما قامت الدولة بتطوير مسار العائلة المقدسة في **حي المطرية****2 مشروع تطوير منطقة الأهرامات**

2

هدف المشروع:

استرجاع الصورة التاريخية للمنطقة وتعظيم قيمتها الأثرية.

كيف يتم التطوير؟ عن طريق تحويل المنطقة **لمتحف مفتوح**، وإقامة **الفنادق**، وتوفير الخدمات
السياحية بهاء وتطوير المنطقة المحيطة لتشمل تحسين المداخل والطرق المؤدية إليها، وإنشاء
ممشى سياحي فيها.

اهم الاسئلة علي الدرس
مسئوليتنا نحو تراث بلدنا
السؤال الأول أكمل العبارات الآتية بكلمات مناسبة

1. الأماكن السياحية المصرية تعد جزءاً من.....
2. تهتم الدولة بتطوير مدينة القاهرة التاريخية، مثل منطقة.....
3. من مشروعات الحفاظ على التراث العمراني مشروع تطوير.....
4. تتم عملية ترميم الآثار بواسطة.....
5. الهدف من تطوير منطقة الأهرامات تحويلها إلى.....
6. من أبرز المدن التراثية القديمة على مستوى العالم.....

السؤال الثاني ضع علامة (✓) أمام العبارة الصحيحة، وعلامة (X) أمام العبارة غير
الصحيحة:

1. من السلوكيات الإيجابية داخل المناطق السياحية اتباع قواعد النظافة والأمن داخلها. ()
2. استخدام ضوء الكاميرا عند التقاط الصور يؤثر على الآثار. ()
3. يفضل تناول الأطعمة في المواقع الأثرية والسياحية. ()
4. من السلوكيات الصحيحة النقاط الصور وأنت ملاصق للقطع الأثرية. ()
5. المواقع الأثرية والأماكن السياحية تمثل جزءاً مهماً من تراث بلدنا. ()
6. من جهود الدولة تجاه المناطق الأثرية صيانتها وترميمها. ()
7. تقوم الدولة بمشروعات للحفاظ على التراث العمراني. ()
8. يسمح بلمس القطع الأثرية والوقوف بجانبها. ()
9. أصدرت الدولة قوانين تجرم الاتجار بالآثار ()
10. تشرف الدولة على عملية البحث والتنقيب عن الآثار. ()
11. يجب أن نحسن معاملة السياح في المناطق الأثرية. ()

السؤال الثالث اختر الإجابة الصحيحة مما يلي:

1. الزيارة المناطق الأثرية آداب منها.....
 - أ. عدم تلوينها
 - ب. الكتابه عليها
 - ج. تلوينها
 - د. خدشها
2. أحد مشروعات الحفاظ على التراث العمراني في مصر هو تطوير
 - أ. الغابة المتحجرة
 - ب. رأس محمد
 - ج. شارع المعز
 - د. وادي الريان
3. قامت الدولة بتطوير مسار العائلة المقدسة في حي.....
 - أ. شبرا
 - ب. المطرية
 - ج. حلوان
 - د. الوايلي

4. من مشروعات تطوير المناطق الأثرية مشروع تطوير مدينة.....
- أ. القاهرة ب. العبور ج. الجيزة د. أسيوط
5. قامت الدولة بترميم مسجد أحمد بن طولون الذي يقع في محافظة.....
- أ. القليوبية ب. القاهرة ج. الإسكندرية د. البحيرة
6. أي من المناطق التالية تعد ضمن مشروع تطوير مدينة القاهرة التاريخية؟
- أ. ميت رهينة ب. سقارة ج. الدرب الأحمر د. ميدوم

السؤال الرابع صوب ما تحته خط

1. من السلوكيات الإيجابية الكتابة على الآثار.
2. من مشروعات الحفاظ على التراث العمراني مشروع تطوير شارع فؤاد.
3. دور المواطن الحفاظ على الآثار صيانتها وترميمها.

السؤال الخامس أمامك مجموعة من المواقف تجاه المناطق الأثرية، قم بتصنيفها إلى سلوك (إيجابي / سلبي)

موقف	ملوك إيجابي	ملوك سلبي
لقاء غلاف البسكويت على الأرض بمنطقة الأهرامات		
تباع قواعد النظافة والأمن داخل المتحف.		
كتابة بقلم حبر على جدران المعابد.		
عدم لمس المنحوتات والقطع الأثرية.		
ناول الطعام والشراب بالقرب من المناطق الأثرية.		

السؤال السادس فسر بذكر سبب واحد

1. تطوير الدولة لمنطقة الأهرامات.
2. تبذل الدولة جهوداً عدة للحفاظ على الآثار.

السؤال السابع أجب عما يلي:

3. اذكر اثنين السلوكيات التي يجب اتباعها للحفاظ على الآثار المصرية.
4. وضح اثنين من جهود الدولة في الحفاظ على الآثار المصرية.

هيئات مؤثرة في المجتمع المصري

الجهاز المركزي للتعبئة العامة والاحصاء

الجهاز المركزي للتعبئة العامة والإحصاء المصري



قديمًا : قام المصريين القدماء بعد السكان واحصاء الموارد

حديثًا : قامت مصر بإنشاء الجهاز المركزي للتعبئة العامة

والاحصاء عام 1964

له فروع على مستوى الجمهورية

اهمية الجهاز المركزي للتعبئة العامة والاحصاء

- 1- جمع البيانات ومعالجتها وتحليلها ونشر الاحصاءات والتقارير السنوية الخاصة باجهزة الدولة
 - 2- اجراء التعدادات السكانية كل عشر سنوات وكان اخرها تعداد عام 2017م
- ملحوظة : وفقا للقانون لايجوز لاي وزارة او هيئة او فرد ان ينشر بيانات او معلومات احصائية دون الاسناد الي الجهاز

منظمة اليونسكو

هي منظمة الامم المتحدة للتربية والعلوم والثقافة الاجتماعية

تاسست : عام 1945

اهداف المنظمة :

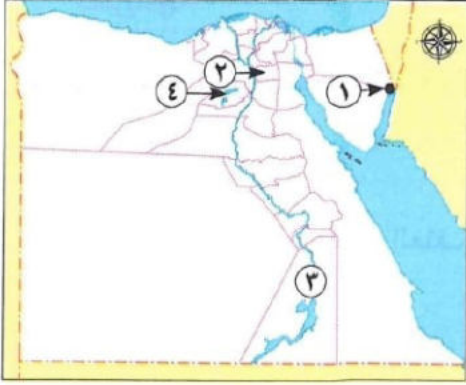
- ❖ تتمثل رسالتها في إرساء السلام ونبذ الكراهية والعنف من خلال التعاون الدولي في مجال التربية والعلوم والثقافة.
- ❖ تسهم برامج اليونسكو في تحقيق أهداف التنمية المستدامة.
- ❖ تدعو كافة دول العالم إلى توفير فرص التعليم الجيد لجميع الأفراد.
- ❖ القضاء على الفقر والمساواة بين الجنسين.
- ❖ تبذل اليونسكو عدة جهود من أجل الحفاظ على التراث الطبيعي والثقافي واستدامته في ١٦٧ دولة حول العالم.

مصر ومنظمة اليونسكو :

- ❖ انضمت مصر إلى اليونسكو في عام ١٩٤٦ م ، وتشارك مصر في مختلف أنشطة اليونسكو
- ❖ كما تعاونت اليونسكو مع مصر لإنقاذ آثار معبدى أبو سمبل ، وكذلك إحياء مكتبة الإسكندرية وإنشاء المتحف الوطني للحضارة المصرية في القاهرة وغيرها من الأماكن الأثرية.

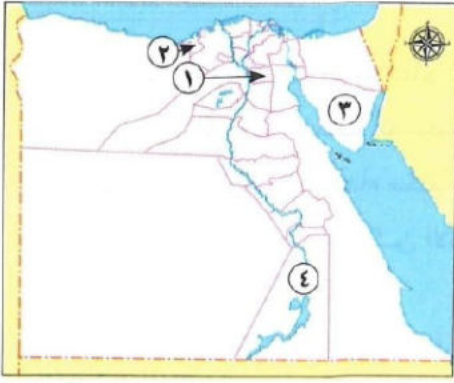
بنك أسئلة على الوحدة الثانية

(أ) لاحظ الخريطة، ثم أجب:



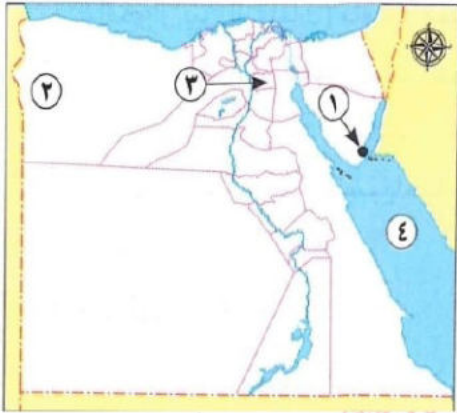
1. اختر: يشير رقم (1) إلى منطقة تراث ثقافي في مدينة.....
(طابا - العريش - رفح - السويس)
2. صوب موقع تراث طبيعي في المحافظة رقم (2) هو محمية رأس محمد.....
3. صواب أم خطأ يشير رقم (3) إلى محافظة بها مسجد أحمد بن طولون.
4. صواب أم خطأ يشير رقم (1) إلى منطقة بها بقايا عظام حيتان من ملايين السنين ()

(ب) لاحظ الخريطة، ثم أجب:



1. إحدى أكبر المدن التراثية بالعالم هي مدينة.....
2. اختر يشير رقم (2) لمحافظة يوجد بها.....
(وادي الحيتان - أبو مينا - معبد الدير البحري - قلعة صلاح الدين)
3. محافظة بها دير.....
4. منطقة تعرضت آثارها لخطر الغرق بعد بناء.....

(ج) لاحظ الخريطة، ثم أجب:



1. صواب أم خطأ يشير رقم (1) المدينة اختارتها اليونسكو كأفضل مدينة سلام في العالم ()
2. فسر: انتشار السياحة العلاجية في المنطقة رقم (2)
3. اختر: يشير رقم (3) لمدينة يتم تطوير الأماكن التاريخية فيها، منها.
(أهرامات الجيزة - منطقة الأزهر - وادي الحيتان - الغابة المتحجرة)
4. يشير رقم (4) إلى البحر.....

أكمل العبارات الآتية بما يناسبها من كلمات:

1. حماية التراث الثقافي والطبيعي في العالم أحد جهود منظمة.....
2. الفنون الشعبية لسكان مدن القناة تعد تراثاً.....
3. أنشأ القائد صلاح الدين الأيوبي قلعته لتأمين البحر الأحمر في مدينة.....
4. تقع مدينة صنعاء القديمة في دولة.....
5. لزيارة محمية الغابة المتحجرة، عليك التوجه إلى محافظة.....
6. معبد إيزيس من آثار النوبة الواقعة في جزيرة.....

7. تم إنقاذ معبدي أبو سمبل من الغرق بعد بناء.
8. تقع منطقة أبو ميناء في الإسكندرية بجوار مدينة.
9. أمر الملك خفرع بنحت تمثال.
10. اختارت اليونسكو أفضل مدينة سلام في العالم وهي مدينة.
11. بني مسجد عمرو بن العاص في عهد الخليفة.
12. تم تصميم برج القاهرة على شكل زهرة.
13. يقع مجمع الأديان في حي.
14. زيارتك لشارع المعز تعد سياحة.
15. يتجه السياح للعلاج بالرمال الساخنة في واحة.
16. تجد العديد من الكتب والمؤلفات النادرة في مكتبة.
17. تطل مدينة مرسى مطروح على شواطئ البحر.
18. حضور مؤتمر النقل الذكي للشرق الأوسط وأفريقيا يعد أحد أنواع سياحة.
19. استضافت مصر مؤتمر المناخ (COP27) في مدينة.
20. تنتشر في مدينة الغردقة على البحر الأحمر السياحة.
21. تنتشر في مدينة الغردقة على البحر الأحمر السياحة.
22. تعد مكتبة الإسكندرية من أماكن السياحة.
23. يقع سور مجرى العيون في محافظة.
24. قامت الدولة بتطوير مسار العائلة المقدسة في حي.

اكتب كلمة (صواب) أمام العبارة الصحيحة، وكلمة (خطأ) أمام العبارة غير الصحيحة

1. تساهم منظمة اليونسيف في الحفاظ على مواقع التراث العالمي. ()
2. تضم محمية رأس محمد مجموعة من الأشجار المتحجرة على شكل قطع صخرية أسطوانية ()
3. يعد الجهاز المركزي للتعبئة العامة والإحصاء هيئة تابعة لرئاسة الجمهورية مباشرة ()
4. تم بناء قلعة صلاح الدين الأيوبي في طابا لتكون مقرا للحكم. ()
5. تعد عادات وتقاليد الشعوب أحد أمثلة التراث الطبيعي. ()
6. منطقة وادي الحيتان أحد نماذج التراث الطبيعي في مصر. ()
7. تقع قلعة صلاح الدين الأيوبي بطابا في جزيرة تيران ()
8. تساعد السياحة على زيادة الدخل القومي. ()
9. يقع دير سانت كاترين في محافظة الأقصر. ()
10. تضم منطقة وادي الحيتان هياكل وعظام وحفريات أسماك عاشت من ملايين السنين ()
11. يرجع تاريخ منطقة أبو ميناء بالإسكندرية إلى الحضارة المصرية القديمة. ()
12. يمكن إدراج بعض المواقع التي تمثل نموذجا للإبداع البشري على قائمة التراث العالمي ()
13. يُعد معبد إيزيس من مناطق التراث الطبيعي. ()
14. يمكننا رؤية الصقور والثعالب والغزلان في وادي الحيتان ()
15. اكتفت اليونسكو بتسجيل موقع واحد في مصر على قائمة التراث العالمي. ()
16. بنى المصريون القدماء الأهرامات شرق نهر النيل لتكون بعيدة عن الفيضان ()
17. شيدت الكنيسة المعلقة على الأبراج الجنوبية لحصن بابلون ()
18. بنى المصريون القدماء الأهرامات لاعتقادهم في البعث والخلود. ()
19. يُعد المعبد اليهودي من المناطق الأثرية في منطقة مجمع الأديان. ()
20. تم نحت تمثال أبو الهول بجسم أسد ورأس إنسان. ()
21. تعمل مصر على تنمية السياحة من خلال تطوير وسائل النقل والمواصلات. ()

22. زيارتك لمعبد إيزيس تعد سياحة علاجية. ()
23. عند زيارتك الشارع المعز، فأنت تقوم بسياحة مؤتمرات ()
24. رحلات السفاري في الصحارى المصرية أحد أمثلة السياحة الترفيهية. ()
25. يجب اتباع قواعد النظافة والأمن عند زيارة المناطق الأثرية. ()
26. زيارتك لمكتبة الإسكندرية تعد سياحة ثقافية. ()
27. يشمل مشروع تطوير مدينة القاهرة التاريخية ترميم منطقة «أبو ميناء». ()
28. يُعد تطوير سور مجرى العيون أحد جهود الدولة للحفاظ على المواقع الأثرية. ()
29. يمكن كتابة اسمك على جدار معبد الكرنك لتخليد ذكرى زيارتك ()
30. يهدف تطوير منطقة الأهرامات إلى تحويلها لمتحف مفتوح ()

اختر الإجابة الصحيحة مما بين القوسين

1. إذا أردت زيارة إحدى مناطق التراث الثقافي في طابا، فإنك تتجه لزيارة.....
 ا. محمية رأس محمد ب. قلعة قايتباي ج. الأهرامات د. قلعة صلاح الدين
2. محمية الغابة المتحجرة أحد معالم التراث الطبيعي لمحافظة.....
 ا. جنوب سيناء ب. القاهرة ج. الفيوم د. الوادي الجديد
3. الغرض من بناء قلعة صلاح الدين في طابا هو تأمين.....
 ا. البحر المتوسط ب. نهر النيل ج. بحيرة ناصر د. البحر الأحمر
4. أي مما يلي يُعد أحد أمثلة التراث الثقافي في مصر؟.....
 ا. المحميات الطبيعية ب. نهر النيل ج. أهرامات الجيزة د. واحة سيوة
5. يقع دير سانت كاترين عند سفح جبل.....
 ا. علبه ب. العوينات الاجتماعية ج. سيناء د. حماطة غ حاد
6. أي من المناطق الأثرية التالية تعد ضمن قائمة التراث العالمي لليونسكو؟.....
 ا. صان الحجر ب. تل بسطة ج. معبدا أبو سمبل د. تل العمارنة
7. تقع منطقة وادي الحيتان في محافظة.....
 ا. الإسكندرية ب. المنيا ج. الفيوم د. السويس
8. تتعرض منطقة أبو ميناء لخطر.....
 ا. ذوبان الجليد ب. ارتفاع الحرارة ج. زراعة الأراضي د. تآكل التربة
9. أنقذت اليونسكو آثار النوبة من الغرق بعد بناء.....
 ا. قناطر أسيوط ب. القناطر الخيرية ج. السد العالي د. قناطر إسنا
10. أحد أقدم الأديرة في مصر، وتم إدراجه على قائمة التراث العالمي هو دير.....
 ا. سانت كاترين ب. أبو ميناء ج. الأنبا بيشوي د. أبو مقار
11. تم بناء برج القاهرة على شكل.....
 ا. ورق البردي ب. زهرة اللوتس ج. زهرة الياسمين د. أوراق النخيل
12. أحد المواقع التي تقوم الدولة بتطويرها في مدينة القاهرة التاريخية.....

ب. معبد أبو سمبل الكبير

ا. منطقة الدرب الأحمر

ع. محمية وادي الحيطان

ج. دير سانت كاترين

13. منطقة تسعى الدولة لتحويلها إلى متحف مفتوح هي

ا. الدلتا

ب. الأهرامات

ج. بولاق

د. إنبابة

صوب ما تحته خط

1. يُعد سور مجرى العيون أحد أماكن التراث الثقافي لمحافظة الفيوم
2. تعد المحميات الطبيعية إحدى مناطق التراث الثقافي.
3. إحدى أبرز المدن التراثية في العالم مدينة شرم الشيخ.
4. يقع تمثال أبو الهول في محافظة المنيا.
5. يعد حصن بابلون أحد الآثار القبطية.

ما المقصود ب؟

1. التراث الطبيعي.....
2. البعث.....
3. الخلود.....
4. السياحة الثقافية.....
5. السياحة الترفيهية.....
6. السياحة العلاجية.....
7. سياحة المؤتمرات والمهرجانات.....
8. السياحة المستدامة.....
9. الدخل القومي.....

فسر العبارات التالية:

1. تعد منطقة أبو ميناء من المواقع التراثية المعرضة للخطر
2. بناء المصريين القدماء الأهرامات على هضبة مرتفعة غرب نهر النيل..
3. أهمية مدينة شرم الشيخ سياحيا..
4. تسمية الكنيسة المعلقة بهذا الاسم..
5. تعد مصر وجهة سياحية للكثير من السياح..
6. تحت تمثال أبو الهول على هيئة جسم أسد ورأس إنسان.
7. أهمية السياحة للاقتصاد المصري..

8. اهتمام الدولة بتطوير منطقة الأهرامات.

9. تجنب استخدام ضوء (فلاش) الكاميرا بجانب القطع الأثرية..

10. اهتمام الدولة بالمناطق الأثرية..

ما النتائج المترتبة على؟

1. دعم اليونسكو لمناطق التراث العالمي..

2. إصدار اليونسكو قائمة التراث العالمي..

3. استضافة مصر الكثير من المؤتمرات.

4. تعدد أنواع السياحة في مصر..

دلل على صحة العبارات الآتية:

1. تهتم اليونسكو بتوعية شعوب العالم بضرورة حماية التراث.

2. ساهمت اليونسكو في إنقاذ معابد مايد النوبة.

3. تعد مدينة القاهرة التاريخية من أهم وأكبر المدن التراثية

4. تأثر تصميم برج القاهرة بالحضارة المصرية القديم في العالم.

ما العلاقة بين؟

1. منظمة اليونسكو - المناطق التراثية

2. التغيرات المناخية - مواقع التراث العالمي.

3. قائمة التراث العالمي لليونسكو - المتحف المصري بالقاهرة.

4. منظمة اليونسكو - دولة اليمن.

5. السياحة - الدخل القومي..

6. السياحة - البطالة..

اجب عما يأتي:

1. حدد أهمية قائمة التراث العالمي.

2. اذكر اثنين من المواقع التراثية المصرية المسجلة على قائمة التراث العالمي لليونسكو.

3. وضح أهمية مدينة القاهرة التاريخية كموقع تراثي.

4. استنتج الأهمية التاريخية لمنطقة أبو مينا كموقع تراثي.

5. اكتب معايير إدراج المناطق الأثرية ضمن قائمة اليونسكو للتراث العالمي..

6. صف تمثال أبو الهول في ضوء ما درست

7. في رأيك: ما أهمية تنوع الحضارات التي عاشت على أرض مصر؟

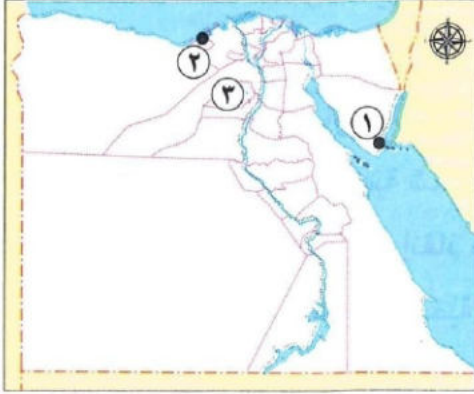
8. استنتج أهمية مجمع الأديان في مصر القديمة.

9. حدد جهود الدولة لتنمية السياحة..

10. اكتب مقترحاً واحداً للحفاظ على المناطق الأثرية..

11. اكتب اثنين من السلوكيات التي يجب اتباعها عند زيارة المناطق الأثرية.

اختبار على الوحدة الثانية



أمامك خريطة صماء لمصر، اكتب مدلول الأرقام
الموقعة عليها:

1. مدينة.....
2. محافظة.....

3. منطقة تنتشر بها حفريات لكائنات بحرية تعود
الملايين السنين، هي.....

أكمل العبارات الآتية مستخدماً بنك الكلمات

(تأكل التربة - العادات والتقاليد - الجيزة - الجفاف)

1. التراث الثقافي يشمل.....

2. تقع الأهرامات في محافظة.....

3. صنفت اليونسكو منطقة أبو ميناء كمناطق مهددة بخطر.....

اكتب كلمة (صواب) أمام العبارة الصحيحة، وكلمة (خطأ) أمام العبارة غير الصحيحة

1. نحت تمثال أبو الهول في عهد الملك خفرع.

2. يجب على السائحين لمس القطع الأثرية عند زيارتهم للمتاحف.

3. الخلود عند المصريين القدماء هو العودة إلى الحياة.

اختر الإجابة الصحيحة مما بين القوسين

1. تقع في محافظة القاهرة محمية.....

أ. وادي الريان ب. رأس محمد ج. الغابة المتحجرة د. وادي الحيتان

2. دفن السائحين أجسامهم في رمال واحة سيوة يعد سياحة.....

أ. علاجية ب. ثقافية ج. ترفيهية د. بيئية

3. يقع دير سانت كاترين في محافظة.....

أ. شمال سيناء ب. القاهرة ج. جنوب سيناء د. الجيزة

4. يشمل تطوير مدينة القاهرة التاريخية منطقة.....

أ. الأزهر ب. الأهرامات ج. أبو ميناء د. وادي الملوك

اكتب دليلاً واحداً لكل مما يأتي:

1. تساهم اليونسكو بدور مهم في دعم التراث العالمي.....

2. وجود مناطق للسياحة الترفيهية بمصر.....

تطور وسائل النقل وتأثيرها

الدرس الاول

مراحل تطور وسائل النقل في مصر عبر الزمن

شهدت مصر تطورات عدة في مجال النقل بكافة أنواعه (البري والمائي والجوي) عبر العصور المختلفة ويمكن توضيح تلك التطورات على النحو التالي:

أولا

النقل البري

قديمًا


1- الدواب:



- استخدمها المصريون القدماء في التنقل وحمل الأشياء.

مثل: الحمار - الحصان - الجمل

2- العربات الحربية:



- هي عربة تجرها الأحصنة.
- دخلت مصر مع غزو الهكسوس، في حروبهم ضد المصريين.
- الهكسوس هم قبائل من آسيا احتلوا شمال مصر.
- استخدمها المصريون القدماء بعد ذلك في أغراض عديدة مثل السفر والصيد.

حديثًا

3- السكك الحديدية:



- السكك الحديدية المصرية: تعد أولى السكك الحديدية في إفريقيا والشرق الأوسط، والثانية عالميا بعد المملكة المتحدة.
- قد تم مد أول خط سكة حديد بين القاهرة والإسكندرية عام 1856م، ثم امتدت الخطوط السكك الحديدية بعد ذلك عبر محافظات مصر من شمالها إلى جنوبها ومن شرقها إلى غربها.
- تستخدم السكك الحديدية في نقل الركاب والبضائع.
- أنشأت الدولة متحف هيئة السكك الحديدية في القاهرة عام ١٩٣٢م.

4- السيارات:



- ✓ دخلت أول سيارة تعتمد على طاقة البخار إلى مصر عام ١٨٩٠م، في عهد الخديو توفيق.
- ✓ ظهرت السيارات في مصر بعد الثورة الصناعية، ونتج عن تلك الثورة عدة صناعات مثل اختراع الماكينات وقد تطورت صناعة السيارات عبر الزمن حتى وصلت إلى شكلها الحالي.

قديمًا

ثانياً : النقل المائي

1- النقل النهري

- ❖ عندما استقر المصري القديم على ضفاف نهر النيل وعرف الزراعة، بدأ استخدام القوارب.
- ❖ صنع المصريون القدماء أول قارب منذ نحو 4000 عام ق.م.
- ❖ استخدم القوارب والسفن كوسيلة نقل نهري.
- ❖ صنع القوارب في البداية من مجموعة من جذوع الأشجار وربطها بالأعشاب المتينة مثل البردي وكان يحركها بأقدامه.
- ❖ ثم أضاف المقاعد للقارب واستخدم قطعاً خشبية للتجديف.
- ❖ تطور استخدام القوارب من القنوات والأنهار إلى استخدامها في البحار للتجارة بين مصر والدول الأخرى



2- النقل البحري

استخدامات السفن والمراكب في :

- ❖ نقل الركاب والاحتفالات.
- ❖ التجارة مثل:
 - أ. رحلات الملك سنفرو لبلاد فينيقيا لجلب أخشاب الأرز.
 - ب. رحلات الملكة حتشبسوت إلى بلاد بونت لجلب البخور والأخشاب وغيرها لهذه البلاد.

أشهر المراكب في مصر القديمة (مركب خوفو):



- هو أقدم أثر عضوي مصنوع من الخشب في التاريخ الإنساني، وعثر عليه عام 1954م بالجهة الجنوبية لهرم خوفو.
- تم نقله إلى المتحف المصري الكبير باستخدام تكنولوجيا متقدمة للحفاظ على قيمته الأثرية.

وسائل النقل المائي حديثا:



تطورت في العصر الحديث فصارت تشمل:

- ❖ البواخر.
- ❖ ناقلات النفط.
- ❖ الغواصات وغيرها

فكر أجب مع المتفوق

أكمل العبارات التالية بما يناسبها من كلمات:

1. استخدام الدواب في التنقل يعد أحد وسائل النقل
2. من وسائل النقل المائي الحديثة، البواخر وناقلات البترول و
3. تعتبر مركب الملك أشهر المراكب في مصر القديمة.
4. ظهرت السيارات في مصر بعد قيام

ثالثا: النقل الجوي

حاول الإنسان بمرور الوقت أن يطور من وسائل النقل والمواصلات إلى أن فكر في التنقل عبر الجو.

(أ) النقل الجوي قديما:



المحاولة الأولى:

محاولة **عباس بن فرناس** الذي استخدم جناحين للطيران محاكاة لحركة الطيور، لكنها فشلت، وجاءت بعدها العديد من المحاولات التي فشلت أيضا.

المحاولة الأخيرة (مخترع الطائرة):

نجح **الأخوان رايت** في الطيران الحقيقي عام 1903م، وتطورت بعد ذلك أشكال الطائرات.

(ب) النقل الجوي حديثا:



- ❖ تأسست في مصر (شركة مصر للطيران) عام ١٩٣٢م.
- ❖ تعد (شركة مصر للطيران) إحدى مؤسسات **بنك مصر**
- ❖ تعد (شركة مصر للطيران) **أول** شركة طيران تشغل خطوطا جوية في الشرق الأوسط و **سابع** شركة طيران على مستوى العالم.

الشرق الأوسط: هي الدول العربية في آسيا ومصر والسودان وأريتريا بالإضافة لإيران وتركيا وأفغانستان وجزيرة قبرص

أهمية وسائل النقل في حياتنا

تطورت وسائل النقل بفضل العلم وظهرت اكتشافات حديثة سهلت عملية السفر والتنقل، وقد أثرت وسائل النقل في حياة الشعوب والأمم عبر العصور لما لها من أهمية كبيرة، كالتالي:

١ - توفير الوقت والجهد لانتقال الأفراد والسلع من مكان لآخر.

٢ - ساعدت علي التبادل التجاري والتواصل الحضاري بين الدول.

ما دور العلم في تطور وسائل النقل؟

بفضل العلم تطورت وسائل النقل وظهرت اكتشافات حديثة سهلت عملية السفر والتنقل، توجد العديد من التطبيقات التي تساعد على الانتقال من منطقة إلى أخرى مثل: تطبيق **خرائط جوجل**.

ما وسائل المواصلات الصديقة للبيئة؟

تعد الدراجة وسيلة مواصلات غير مكلفة وصديقة للبيئة، كما أن استخدامها يخفف من ازدحام المرور خاصة في القاهرة. وتطرح الدولة مبادرة **دراجة لكل مواطن** .

حيث توفر الحكومة الدراجات بأسعار مناسبة.

الهدف من المبادرة

مبادرة رياضية لتغيير ثقافة الانتقال اليومي للمواطنين بدلا من اعتمادهم على السيارات التي تضر البيئة والإنسان بسبب الانبعاثات الضارة الصادرة من عوادم السيارات، إضافة إلى ترسيخ ثقافة ممارسة الرياضة.



اهم الاسئلة علي الدرس

تطور وسائل النقل وتأثيرها في المجتمع

السؤال الأول أكمل العبارات الآتية بما يناسبها من كلمات:

1. دخلت العربات الحربية مصر مع.....
2. تم مد خط سكة حديد في مصر بين القاهرة و.....
3. مصر أول دولة في إنشاء السكك الحديدية في إفريقيا.....
4. لحمل الأشياء استخدم المصريون القدماء.....
5. كانت السفن في عهد المصريين القدماء تستخدم في التجارة و.....
6. الملك سنفرو جلب من بلاد فينيقيا.....
7. أرسلت الملكة حتشبسوت رحلات تجارية إلى بلاد.....
8. من وسائل النقل المائي قديما.....
9. وسيلة للتنقل كان يجرها الحصان وبدأت مع غزو الهكسوس لمصر.....
10. دخلت السيارات مصر في عهد الخديو.....

السؤال الثاني ضع علامة (√) أمام العبارة الصحيحة، وعلامة (X) أمام العبارة غير الصحيحة:

1. دخلت العربات الحربية مصر مع غزو الهكسوس. ()
2. تطبيق خرائط جوجل يساعد السياح على الانتقال من منطقة لأخرى بسهولة. ()
3. أخذ الهكسوس العربات الحربية من المصريين القدماء. ()
4. السكك الحديدية تقتصر على نقل الركاب فقط. ()
5. تطبيق خرائط جوجل بعد نتيجة لتأثير العلم على وسائل النقل. ()
6. الدراجات وسيلة انتقال تسهم في ازدحام المرور. ()
7. مصر أول دولة على مستوى العالم في إنشاء السكك الحديدية. ()
8. عثر على مركب خوفو في الجهة الشمالية من الهرم. ()

السؤال الثالث اختر الإجابة الصحيحة مما يلي:

1. أشهر المراكب المصرية القديمة هي مركب الملك.....
 أ. خوفو ب. سنفرو ج. منكورع د. خفرع
2. أرسلت الملكة حتشبسوت رحلاتها التجارية إلى بلاد بونت باستخدام.....
 أ. القطارات ب. الطائرات ج. السفن د. الشاحنات
3. أرسل الملك سنفرو رحلات تجارية إلى فينيقيا لجلب أخشاب.....
 أ. الزان ب. البلوط ج. السنط د. الأرز
4. من وسائل النقل المائي ولم تكن موجودة قديما.....
 أ. القوارب ب. السفن ج. الغواصات د. المراكب
5. الثورة الصناعية و اختراع الماكينات ظهر بسبب طاقة.....
 أ. البخار ب. الماء ج. الكهرباء د. الشمس

6. دخلت السيارات مصر عام ١٨٩٠م في عهد الخديو.....

- ا. إسماعيل ب. سعيد ج. توفيق د. عباس

7. أول محاولة للطيران قام بها

- ا. الحسن بن الهيثم ب. جابر بن حيان ج. ابن سينا د. عباس بن فرناس

8. المركز الذي تحتله شركة مصر للطيران من حيث الإنشاء على مستوى العالم.....

- ا. الخامس ب. السادس ج. السابع د. الثامن

السؤال الرابع اقرأ العبارات من العمود (1) وصلها بالمناسب لها من العمود (ب)

(أ)	(ب)
صنعوا القوارب من جذوع الأشجار والأعشاب المتينة.	سفنرو.
إرسال رحلة تجارية الفينيقيا.	الأخوان رايت.
نجحوا في الطيران الحقيقي.	حتشبسوت.
إرسال رحلة تجارية إلى بونت.	المصريون القدماء.

سلسلة

السؤال الخامس رتب الأحداث التالية من القديم للحديث:

(استخدام السيارات - استخدام الدواب - استخدام الطائرات - استخدام العربات التي تجرها الخيول)

السؤال السادس حدد العلاقة بين كل من:

1. شركة مصر للطيران وبنك مصر.
2. الدراجات والبيئة.
3. نبات البردي ووسائل النقل.

السؤال السابع ماذا كان يحدث إذا لم ...؟

1. تظهر قوة البخار
2. يتأمل عباس بن فرناس حركة الطيور..

السؤال الثامن حدد نتيجة واحدة لـ:

1. استخدام الدراجات بدلا من السيارات..

السؤال التاسع فسر مع ذكر السبب

1. استخدام المصريين القدماء الدواب..
2. أثرت وسائل النقل في حياة الشعوب عبر العصور.

الدرس الثاني أنواع وسائل النقل في حياتي

تؤثر وسائل النقل في كافة الأنشطة الاقتصادية في الدولة . توقع العلاقة بين النقل وكل من التنمية والبيئة . وما المقصود بالنقل المستدام ؟

النقل المستدام هو:

❖ استخدام وسائل نقل صديقة للبيئة، تستخدم مصادر طاقة نظيفة مثة : الغاز الطبيعي والكهرباء والطاقة الشمسية

ما أنواع وسائل النقل في مصر



أنواع النقل

النقل الجوي

النقل المائي

النقل البري

أولا : النقل البري

تتنوع وسائل النقل البري، ومن أبرزها في مصر ما يلي:

1- السكك الحديدية:

ترتبط بين محافظات الوجه **البحري والقبلي** وتنقسم إلى:

(أ) القطارات وتشمل:

1- قطارات نقل البضائع. 2- قطارات نقل الأفراد.

(ب) مترو الأنفاق:

تعد مصر أول دولة عربية وإفريقية أنشأت مترو الأنفاق.

يربط مترو الأنفاق بين ثلاث مدن مصرية، وهي: القاهرة - الجيزة - شبرا الخيمة بالقليوبية.

أهمية مترو الأنفاق

علاوة على قدراتها الفائقة في نقل أعداد كبيرة من الركاب : حيث تبلغ الطاقة الاستيعابية للخط الثاني مليون راكب يوميا.

لتكون لمصر الريادة في استخدام هذه الوسيلة المتطورة من وسائل النقل الجماعي التي تحقق الأمان والراحة والسرعة.

يعتبر الخط الأول لمترو أنفاق القاهرة هو أول خط مترو أنفاق في إفريقيا والشرق الأوسط.

2- وسائل النقل على الطرق المرصوفة

❖ السيارات والأتوبيسات: تستخدم لنقل الركاب.

❖ الشاحنات: تستخدم لنقل البضائع.

جهود الدولة في تطوير الطرق المرصوفة

○ تهتم الدولة المصرية بتطوير الطرق المرصوفة. مثل: تطوير الطريق الدائري.

○ تهتم الدولة بإنشاء الكباري والمحاور. مثل: محور روض الفرج

في الدراسات الاجتماعية

أسباب اهتمام الدولة بإنشاء الكباري والطرق البرية

- تخفيف الضغط المروري على الطرق
- تقليل الحوادث
- تقليل المسافات
- خفض زمن الرحل

فكر وأجب مع المتفوق

أكمل العبارات التالية

1. قامت الدولة بإنشاء و لتخفيف الضغط المروري.
2. تعد مصر أول دولة عربية وإفريقية أنشأت
3. يربط مترو الأنفاق بين ثلاث مدن مصرية هي القاهرة وشبرا الخيمة و

بم تفسر؟:

1. أهمية مشروع مترو الأنفاق.



ثانيا : النقل المائي

مميزات و عيوب النقل المائي:

❖ مميزاتة (أهميته)

- أرخص وسائل النقل.
- يستخدم في نقل البضائع كبيرة الحجم وثقيلة الوزن.

❖ عيوبه

○ يعد النقل المائي بطيئا.

❖ وسائل النقل المائي:

- السفن.
- الأتوبيسات النهرية.
- المراكب.

انواع النقل المائي

النقل البحري

هو النقل عبر البحار، ويتم عن طريق:

أ - قناة السويس

ب - موانئ مصر المطلة على البحر المتوسط مثل : الإسكندرية ودمياط.

ج - موانئ مصر المطلة على البحر الأحمر مثل: الغردقة وسفاجا.

النقل النهري

هو النقل عبر نهر النيل ويستخدم في:

أ- نقل المواد الخام اللازمة للصناعة.

ب- نقل الركاب والنزهات النيلية.

أسباب اهتمام الدولة بتطوير الموانئ البحرية:

أ- تقليل زمن انتظار السفن خارج الميناء.

ب- زيادة كمية البضائع المتداولة.

ج- زيادة مساحات التخزين داخل الميناء.

د- تنشيط حركة التجارة

ثالثا : النقل الجوي

عيوبه	مميزاته	أهميته
<ul style="list-style-type: none"> تكلفة استخدامه مرتفعة بالمقارنة بالوسائل الأخرى. 	<ul style="list-style-type: none"> تميز بالسرعة والانتشار وتخطي المرتفعات والبحار. 	<ul style="list-style-type: none"> يستخدم في نقل الركاب والبضائع بسرعة التلف.



❖ وسائل النقل الجوي:

تعد الطائرات هي الوسيلة المستخدمة في النقل الجوي.

المطارات المصرية: يوجد بمصر عديد من المطارات الدولية

مثل:

- أ - مطار القاهرة الدولي
- ب - مطار برج العرب بالإسكندرية
- ج - مطار أسوان الدولي.

اعداد /
مستر حاتم عاطف

فكر وأجب مع المتفوق

أكمل العبارات الآتية

1. أسرع وسائل النقل
2. تنتشر الموانئ على سواحل البحر الأحمر ومنها ميناء

بم تفسر؟:

1. أهمية النقل الجوي

رابعاً جهود الدولة للتحويل نحو استخدام النقل المستدام

○ أسباب اهتمام الدولة بالنقل المستدام:

- خفض معدلات تلوث الهواء.
- توفير استخدام الوقود.

○ جهود الدولة الخارجية لدعم النقل المستدام:

○ شاركت مصر في مؤتمر النقل المستدام الذي تم عقده في بكين عاصمة الصين، وعرضت جهود الدولة في تطوير كل أنواع وسائل النقل.

○ جهود الدولة الداخلية لدعم النقل المستدام:

- تحويل الكثير من السيارات لتعمل بالغاز الطبيعي.
- زيادة الأتوبيسات الكهربائية والأتوبيسات التي تسير بالغاز الطبيعي.
- تشجيع المواطنين على استخدام وسائل النقل الجماعي لتقليل استخدام السيارات الخاصة.
- تسعى الدولة للانتهاء من مشروع:

■ القطار الكهربائي السريع

○ لربط مدينة العين السخنة بمدينة العلمين الجديدة مرورا بالعاصمة الإدارية.

○ المونوريل المعلق

○ لربط العديد من المدن المصرية ببعضها بالإضافة لربطها بمترو الأنفاق.



في الدراسات الاجتماعية

اعداد /
مستر حاتم عاطف

اهم الاسئلة علي الدرس
أنواع وسائل النقل في حياتي

السؤال الثاني ضع علامة (√) أمام العبارة الصحيحة، وعلامة (X) أمام العبارة غير الصحيحة:

1. يمكن استخدام النقل الجوي عندما تريد نقل بضائع سريعة التلف. ()
2. يتميز النقل المائي بأنه الأسرع لكنه مرتفع التكلفة. ()
3. تعد مصر أولى الدول عربيا وإفريقيا في إنشاء مترو الأنفاق. ()
4. ميناء دمياط يعد من أهم موانئ البحر الأحمر. ()
5. تسعى الدولة للتوسع في استخدام النقل المستدام. ()
6. يقتصر النقل البري على الطرق المرصوفة. ()
7. مترو الأنفاق يربط بين محافظات الوجه البحري والوجه القبلي. ()
8. النقل البحري يستخدم في نقل البضائع سريعة التلف. ()
9. الاعتماد على استخدام النقل المستدام يساعد على تقليل تلوث الهواء. ()

السؤال الثاني أكمل العبارات الآتية بكلمات مناسبة

1. النقل البري يشمل و.....
2. تستخدم السيارات والأتوبيسات في نقل
3. النقل النهري يستخدم في نقل المواد الخام اللازمة لـ.....
4. تشجع الدولة المواطنين على استخدام النقل الجماعي لتقليل استخدام.....
5. من مصادر الطاقة النظيفة التي تستخدم في النقل المستدام.....و.....
6. ميناء الغردقة يقع على ساحل البحر.....

السؤال الثالث صوب ما تحته خط

1. مترو الأنفاق يربط بين القاهرة والإسكندرية وشبرا الخيمة.
2. النقل **الجوي** أرخص وسائل النقل.
3. ميناء دمياط يقع على ساحل البحر **الأحمر**.
4. مصر أول دولة عربية وإفريقية أقامت **طرقا مرصوفة**.

السؤال الرابع ضع دائرة حول الإجابة الصحيحة مما يلي:

1. إذا أردت تصدير السلع الزراعية عبر موانئ البحر الأحمر فعليك بالتوجه إلى ميناء
 أ. الإسكندرية ب. الغردقة ج. دمياط د. بورتوفيق
2. وسيلة من وسائل المواصلات تسير على الطرق المرصوفة.
 أ. القطارات ب. الطائرات ج. مترو الأنفاق د. الشاحنات
3. وسيلة نقل تستخدم في نقل المواد الخام اللازمة للصناعة والنزهات النيلية النقل ..
 أ. البري ب. النهري ج. الجوي د. الفضائي
4. وسيلة نقل تعد من أسرع وسائل النقل هي النقل ..
 أ. البري ب. النهري ج. البحري د. الجوي

5. من مواصفات الطرق العالمية مواجهة الظروف.....

- ا. الاقتصادية ب. المناخية ج. الاجتماعية د. السياسية

6. مطار برج العرب من المطارات الدولية التي تقع في.....

- ا. دمياط ب. الإسماعيلية ج. الإسكندرية د. السويس

7. النقل البحري في مصر يتم عن طريق.....

- ا. قناة السويس ب. نهر النيل ج. الطرق المرصوفة د. السكك الحديدية

8. من عيوب النقل الجوي.....

- ا. سرعة الانتشار ب. ارتفاع التكلفة ج. رخص التكلفة د. بطء الحركة

9. وسيلة نقل تتميز برخص تكلفتها وتستخدم في نقل البضائع الثقيلة.....

- ا. النقل المائي ب. النقل الجوي ج. السكك الحديدية د. مترو الأنفاق

السؤال الخامس حدد المختلف

- مترو الأنفاق - قطارات - سيارات - مراكب
- السفن - طائرات - قوارب - مراكب

السؤال السادس اكتب نتيجة واحدة ترتبت على:

1. اهتمام الدولة بتطوير الموانئ.

2. استخدام وسائل النقل المستدام.

السؤال السابع اكتب تفسراً واحداً لـ:

1. اهتمام الدولة بإنشاء الكبارى والطرق.

2. أهمية النقل البرى في حياتنا.

3. اهتمام الدولة بتطوير الموانئ المصرية.

4. سعى الدولة للتحول نحو استخدام النقل المستدام.

السؤال الثامن أجب عما يلي:

1. وضح: جهود الدولة المبدولة لاستخدام النقل المستدام.

2. ماذا يحدث إذا لم تهتم الدولة بتطوير الطرق؟

قواعد وأخلاقيات استخدام وسائل النقل

الدرس الثالث



أولاً: قواعد المرور

- يوم 1 مايو من كل عام يوافق اليوم العالمي للمرور. يقوم بعض ضباط الإدارة العامة للمرور بتصميم مدينة مرورية متنقلة، ويتوجهون بها إلى إحدى المدارس لتعريف التلاميذ بقواعد وعلامات المرور بشكل عملي. تنقسم قواعد المرور إلى عنصرين هما:

❖ قواعد قيادة السيارات



ضرورة
تحرك سائق
السيارة في
مسار محدد
على الطريق.



اتباع
العلامات
المرورية.



عدم استخدام
الهاتف المحمول
أو تناول الطعام
والشرب أثناء
القيادة.



عدم تجاوز
السرعة
المحددة

2- قواعد المشاة

القواعد التي يجب أن يلتزم بها المشاة عند عبور الطريق مثل:



❖ العبور من المكان المخصص للمشاة.

❖ استخدام كباري المشاة أو أنفاق العبور.

❖ أن السير دائما على الرصيف المخصص للمشاة.

❖ الانتباه لعلامات المرور عند عبور الطريق.

ثانياً : العلامات المرورية

تنقسم العلامات المرورية إلى 6 أنواع وهي:



علامات إرشادية: وهي علامات توضح معالم الطريق للسائقين، مثل:



محطة وقود



مطعم




مركز إسعاف

ذوي الاحتياجات الخاصة - مركز إسعاف - مطعم - مستشفى - محطة وقود

علامات أرضية:

خطوط مرسومة على الأرض توضح مسار تحرك السيارة على الطريق مثل:



الخط الأصفر المتصل: يفصل حركة مرور السيارات في الاتجاهين.

خطين متصلين: لا يسمح بتخطي السيارات في الاتجاهين المتضادين.

علامات إلزامية:

هي تشير إلى الاتجاه الإلزامي الذي يجب أن تسير فيه مثل: اتجاه اليمين إجباري للسيارات.



طريق إجباري للدراجات



طريق إجباري للحيوانات



طريق إجباري للمشاة

اعداد مستتر تاتم

- طريق إجباري للمشاة.
- طريق إجباري للحيوانات.
- طريق إجباري للدراجات.

علامات تحذيرية:

هي علامات تحذر من المخاطر المحتملة مثل:

وجود منحدر - منطقة زراعية - منطقة عمل



منطقة زراعية



منحدر خطر



احذر منطقة عمل

علامات المنع:

هي علامات تشير إلى السلوكيات التي يجب تجنبها أثناء القيادة مثل:

- ممنوع زيادة السرعة عن 60 كم.
- ممنوع استخدام آلة التنبيه.
- ممنوع الانتظار.



ممنوع استعمال آلة التنبيه



ممنوع الانتظار

• **علامات ضوئية:** وتنقسم إلى

علامات ضوئية دائرية لتنظيم حركة مرور السيارات مثل:

• الاصفر : السيارة تستعد للتوقف

• الاحمر : السيارة تقف

• الاخضر : السيارة تسير

علامات ضوئية على شكل إنسان لتنظيم عبور المشاة وهي:

• (الأخضر) : عبور المشاة

• (الاحمر) : توقف المشاة وعدم عبور الطريق.



فكر وأجب مع المتفوق

اكتب ما تشير إليه العبارات الآتية:

1. خطوط مرسومة على الأرض توضح مسار تحرك السيارة على الطريق.
2. علامات تشير إلى الاتجاه الإلزامي الذي يجب أن تسير فيه السيارة.
3. علامات تحذر من المخاطر المحتملة، مثل منطقة عمل أو منطقة زراعية.
4. علامات تشير إلى السلوكيات التي يجب تجنبها أثناء القيادة.

ثالثا : جهود الدولة لتنظيم حركة المرور

1- اصدار قانون المرور

2- وضع كاميرات علي الطرق وملصقات الكترونية علي السيارات

رابعا : آداب استخدام وسائل النقل

• عدم جلوس الاطفال في المقاعد الامامية

• عدم الكتابة علي وسائل النقل

• عدم القاء الحجارة علي القطارات

• افساح الطريق لسيارة الاسعاف

• عدم استخدام مقاعد المرضى او الحوامل او ذوي الاحتياجات الخاصة

نتائج الالتزام بقواعد المرور

1- الحفاظ علي أرواح الناس

2- التقليل من الحوادث

اهم الاسئلة علي الدرس

قواعد وأخلاقيات استخدام وسائل النقل

السؤال الاول ضع علامة (√) أمام العبارة الصحيحة، وعلامة (X) أمام العبارة غير الصحيحة:

1. اليوم العالمي للمرور يوافق يوم 4 مايو من كل عام. ()
2. تبذل الدولة جهوداً كبيرة لتنظيم حركة المرور في الشوارع. ()
3. جلوس الأطفال في المقاعد الأمامية من آداب استخدام وسائل النقل. ()
4. تم وضع علامات ضوئية على شكل إنسان لتنظيم عبور المشاة. ()
5. من قواعد المشاة العبور من المكان المخصص للعبور المشاة. ()
6. بعد استخدام التليفون المحمول أثناء القيادة من قواعد قيادة السيارات. ()
7. الالتزام بقواعد المرور يزيد من الحوادث ويقضى على أرواح الناس. ()
8. إذا كنت قائد سيارة ورأيت إشارة المرور الضوئية الدائرية لونها أصفر فعليك التوقف فوراً. ()
9. توضح علامات المرور الأرضية مسار تحرك السيارات. ()

السؤال الثاني اكتب ما تشير إليه العبارات الآتية:

1. خطوط مرسومة على الأرض توضح مسار تحرك السيارة على الطريق.
2. علامات تشير إلى الاتجاه الإلزامي الذي يجب أن تسير فيه السيارة.
3. علامات تحذر من المخاطر المحتملة، مثل منطقة عمل أو منطقة زراعية.
4. علامات تشير إلى السلوكيات التي يجب تجنبها أثناء القيادة.

السؤال الثالث اختر الإجابة الصحيحة مما يلي:

1. من قواعد المشاة.....

- أ. عدم استخدام الهاتف المحمول
- ب. العبور من المكان المخصص للمشاة
- ج. عدم تناول أي طعام أو شراب
- د. العبور من المكان المخصص للسيارات

2. تعد العلامة المرورية التالية من العلامات.....

- أ. التحذيرية
- ب. المنع
- ج. الأرضية
- د. الإرشادية

3. تعد العلامة المرورية التالية من العلامات.....

- أ. التحذيرية
- ب. المنع
- ج. الأرضية
- د. الإلزامية

4. تعد العلامة المرورية التالية من العلامات.....

- أ. التحذيرية
- ب. المنع
- ج. الأرضية
- د. الإرشادية

السؤال الرابع اختر من العلامات المرورية التالية الإجابة المناسبة لكل عبارة مما تليها، ثم اكتب الحرف الخاص بالعلامة بجانبها

	(د)		(ج)		(ب)		(ا)
	(ح)		(ز)		(و)		(هـ)

1. علامة مرورية تدل على عدم استخدام الهاتف المحمول أثناء القيادة. ()
2. علامة مرورية تدل على عدم تجاوز السرعة المحددة. ()
3. علامة مرورية تشير إلى أنه طريق الزامي العبور للسيارات. ()
4. علامة مرورية تحذر من منحدر خطر. ()
5. علامة مرورية تشير إلى وجود مركز إسعاف. ()
6. علامة مرورية تشير إلى وجود محطة للوقود في هذه المنطقة. ()
7. علامة مرورية تشير إلى وجود موقف للسيارات في هذه المنطقة. ()
8. علامة مرورية تشير إلى وجود مطعم في هذه المنطقة. ()

السؤال الخامس صنف السلوكيات الآتية : أي منها يعد سليماً ؟ وأيها غير سليم لاستخدامها في وسائل النقل العامة ؟

غير سليم	سليم	السلوك
		جلوس على مقاعد كبار السن أو المرضى أو النساء الحوامل وذوى الهمم.
		2. عدم جلوس الأطفال في المقاعد الأمامية للسيارة.
		3. الكتابة على وسائل النقل أو لصق الملصقات عليها.

السؤال السادس بم تفسر ...؟

1. وضع ملصقات إلكترونية جديدة على كل سيارة.
2. وضع علامات ضوئية دائرية في الشوارع.

تطور وسائل الاتصال وتأثيرها في المجتمع

الدرس الرابع

حرص الإنسان منذ القدم على التواصل مع الآخرين، وقد تطورت الوسائل التي استخدمها في التواصل عبر الزمن كالتالي:

أولاً : تطور وسائل الاتصال



عصور ما قبل التاريخ وهي العصور التي بدأت قبل معرفة الإنسان للكتابة ووسائل الاتصال في عصور ما قبل التاريخ:

استخدم الإنسان للتواصل خلال هذا العصر:

- الدخان - الأصوات العالية - قرع الطبول

العصور التاريخية

• هي العصور التي بدأت بعد معرفة الإنسان الكتابة.

تطورت وسائل الاتصال بين البشر في هذا العصر، ومنها:

1- كتابة الرسائل على ورق البردي وإرسالها مع أشخاص للدول المختلفة.

2- استخدام الحمام الزاجل لإرسال الرسائل لأنه أسرع.

3- ثم تم تأسيس البريد كوسيلة للتواصل و أصدرت مصر أول الطوابع البريدية عام 1866م

في الدراسات الاجتماعية

• من وسائل الاتصال في العصر الحديث (القرن التاسع عشر والعشرين)

• التلغراف

• الهاتف

• شبكة الإنترنت



لعبت الاختراعات في القرن ١٩ والقرن ٢٠ دوراً مهماً في تطور وسائل الاتصالات، مثل:

• اختراع التلغراف.

• اختراع الهاتف. وكان أول خط هاتفي في مصر عام ١٨٨١ م بين القاهرة

والإسكندرية.

• قد تغير شكل الهاتف وحجمه عبر الزمن حتى وصل إلى شكله الحالي.

• ثم تم اختراع شبكة الإنترنت،



فكر وأجب مع المتفوق

أكمل العبارات التالية بما يناسبها من كلمات:

- 1- استخدم الإنسان قرع الطبول للتواصل مع الآخرين في
- 2- قديما كان يتم الاعتماد على أشخاص في توصيل الرسائل ثم أصبحنا نعتمد على لأنها أسرع
- 3- بدأت بمعرفة الإنسان الكتابة.
- 4- استخدم الإنسان في العصر الحديث قبل اختراع الهاتف.
- 5- تم إصدار أول في مصر عام 1866م.

ثانيا مميزات شبكة الإنترنت :

- 1- جعل العالم قرية صغيرة.
- 2- أصبح التواصل أسهل وأسرع بين البشر في كل دول العالم عبر التطبيقات المختلفة.
- 3- سرعة الحصول على المعلومات.
- 4- سرعة التواصل مع الزملاء والمعلمين لمناقشة الموضوعات العلمية والدراسية.
- 5- البحث عن فرص عمل مناسبة.
- 6- العمل عن بعد في مجالات متعددة مثل التسويق الإلكتروني وغيرها من الوظائف.
- 7- وفرت شبكة الإنترنت العديد من أنواع الترفيه والتسلية، مثل الألعاب الإلكترونية أو الزيارات الافتراضية لبعض المواقع السياحية والأثرية حول العالم

ثالثا جهود الدولة لتطوير وسائل الاتصال

تبذل المؤسسات الحكومية المصرية جهودا كبيرة من أجل التحول الرقمي في مختلف هيئات ومؤسسات الدولة وذلك بتوفير الخدمات الإلكترونية للمواطنين مثل:

- 1- استخراج الأوراق الرسمية كشهادة الميلاد والرقم القومي وجواز السفر من خلال **موقع بوابة مصر الرقمية**.
- 2- مكافحة الجرائم الإلكترونية من خلال **وزارة الداخلية**.

رابعا : سلوكيات يجب تجنبها عند استخدام الإنترنت

- ❖ مشاركة أشخاص لا نعرفهم معلوماتنا وصورنا الشخصية، أو حساباتنا البنكية والشخصية على وسائل التواصل.
- ❖ إهدار كثير من الوقت على شبكات التواصل الاجتماعي مما يؤثر على دراستك ويؤدي إلى إهمال ممارسة الهوايات المفيدة التباعد بين أفراد الأسرة.

❖ مشاركة معلومات غير صحيحة على شبكة الإنترنت لذلك يجب أن نتأكد من صحة المعلومات قبل نشرها.

مصادر غير موثوقة

المصادر المجهولة التي لا يعرف كاتبها على وجه التحديد.
المنتديات والمدونات الشخصية

مصادر موثوقة

الكتب المجلات المتخصصة التي تنشرها الجامعات والهيئات العلمية - المكتبات الرقمية الجامعية - المواقع الرسمية.

لذا يجب علينا أن نحرص على الاستخدام الجيد لوسائل التواصل الاجتماعي والمواقع الإلكترونية على شبكة الإنترنت مع تجنب سلبياتها.

خامسا : تأثير التطور العلمي على المجتمع

أصبح العصر الحالي أكثر تطورا وأكثر رفاهية بفضل العلم والتقدم السريع في وسائل الاتصال؛ وقد ظهر ذلك في جوانب متعددة من حياة الناس اليومية، مثل:

1- التعليم:

تم تصميم المنصات التعليمية المخصصة للتعلم عن بعد، مثل منصة **بنك المعرفة المصري**.
في الدراسات الاجتماعية

2- الصحة:

تم تصميم موقع إلكتروني لتسجيل المواطنين بياناتهم لتلقي اللقاح للوقاية من فيروس كورونا.

3- أصحاب الهمم:

تم ابتكار تطبيقات عديدة لمواكبة احتياجاتهم، منها تطبيقات على الهواتف المحمول وأجهزة الكمبيوتر بأنواعها لمساعدة الضم والمكفوفين على استخدام التكنولوجيا الحديثة. و أصبح في إمكان أصحاب الهمم العمل في وظائف كان يصعب عليهم تأديتها من قبل، على سبيل المثال:

يتولى أشخاص من أصحاب الهمم الذين يواجهون صعوبة في مغادرة منازلهم بسبب إعاقات جسدية إدارة مطعم في اليابان، وأهم ما يميز هذا المطعم أن من يقدم الطلبات للزبائن روبوتات يتحكم فيها أصحاب الهمم عن بعد عبر الإنترنت.

الاسئلة علي الدرس

اهم

تطور وسائل الاتصال وتأثيرها في المجتمع

السؤال الأول أكمل العبارات الآتية بكلمات مناسبة

1. تعد من وسائل التواصل في عصور ما قبل التاريخ
2. أصدرت مصر عام ١٨٦٦م أول
3. أول خط هاتف في مصر ربط بين القاهرة و.....
4. أصبح العالم قرية صغيرة بعد اختراع الإنسان لـ
5. يشر الإنترنت العمل للإنسان عن بعد كما في مجال.....

السؤال الثاني ضع علامة (√) أمام العبارة الصحيحة، وعلامة (X) أمام العبارة غير الصحيحة:

1. تواصل الإنسان في العصور التاريخية عبر الأصوات العالية. ()
2. استخدم الحمام الزاجل في إرسال الرسائل السريعة. ()
3. اخترع الإنسان التلغراف في القرن السابع عشر. ()
4. يستخدم الإنترنت في البحث عن فرص عمل. ()
5. يوفر التلفزيون الزيارات الافتراضية لبعض المواقع الأثرية. ()
6. توفر المؤسسات الحكومية الخدمات الإلكترونية للمواطنين. ()
7. نشر معلومات غير صحيحة من السلوكيات السلبية لمواقع التواصل الاجتماعي. ()
8. أصبح في إمكان أصحاب الهمم العمل دون مغادرة المنزل بسبب التكنولوجيا الحديثة. ()
9. تعد المدونات الشخصية من مصادر المعلومات الموثوقة. ()

السؤال الثالث ضع دائرة حول الإجابة الصحيحة فيما يلي:

1. تواصل الإنسان في عصور ما قبل معرفة الكتابة عن طريق.....

- ا. الدخان ب. الحمام الزاجل ج. البريد

2. سهل العمل في الأماكن التي يصعب السفر إليها.....

- ا. التلغراف ب. البريد ج. الإنترنت

3. إحدى إيجابيات شبكة الإنترنت هي.....

- ا. نشر الشائعات ب. الجولات الافتراضية ج. إضاعة الوقت د. إهمال الهوايات

4. تعد أحد المصادر الموثوقة للمعلومات على الإنترنت.....

- ا. المدونات الشخصية ب. المنتديات ج. الكتب د. التطبيقات

السؤال الرابع صوب ما تحته خط

1. استخدم الإنسان الصقر السرعته في إرسال الرسائل.
2. أول خط هاتف في مصر عام ١٨٨١م يصل بين الجيزة والإسكندرية.
3. أصبح التواصل بين البشر أسهل وأسرع بسبب التلغراف.
4. تكافح بوابة مصر الرقمية الجرائم الإلكترونية.
5. الكتب أحد المصادر غير الموثوقة للمعلومات.

السؤال الخامس حدد المختلف من العناصر الآتية:

- الدخان - الحمام الزاجل - الأصوات العالية - قرع الطبول.
- التلغراف - الأصوات العالية - البريد - الإنترنت.
- الكتب - المجالات المتخصصة - المنتديات - الهيئات العلمية.
- سهولة التواصل - إهمال الهوايات - سرعة الحصول على المعلومة - البحث عن عمل.
- منتديات - مواقع - مدونات شخصية - المكتبات الرقمية الجامعية.

السؤال السادس قارن بين وسائل التواصل في عصور ما قبل التاريخ والعصور التاريخية

بائل التواصل في العصور التاريخية	بائل التواصل في عصور ما قبل التاريخ

السؤال السابع حدد سببا لكل من:

1. استخدام الإنسان الحمام الزاجل
2. أهمية التكنولوجيا لأصحاب الهمم.
3. استخدام المصريين القدماء الدخان والأصوات العالية: اجتماعية

السؤال الثامن دلل على صحة العبارات الآتية: اعداد /

1. اختراع الإنسان لشبكة الإنترنت كان له فوائد عديدة.
2. لعبت الاختراعات في القرنين التاسع عشر والعشرين دورا هاما في مجال الاتصالات.
3. لشبكة الإنترنت سلبيات عديدة.

شخصيات مصرية مؤثرة



الملك خوفو

نبذة عنه:

هو أحد ملوك الأسرة الرابعة.

توليته الحكم:

تولى الحكم بعد الملك سنفرو.

إنجازاته الداخلية:

الهرم الأكبر:

صاحب الهرم الأكبر (هرم خوفو) الموجود في محافظة الجيزة.

بني الهرم الأكبر ليكون مقبرة للملك خوفو واستغرق بناؤه

حوالي عشرين عاما.

يعد بناء الهرم أكبر نقلة حضارية في تاريخ مصر.

يعد الهرم الأكبر شاهدا على عظمة المصريين القدماء لما يمتاز

من إتقان في هندسته ودقة في تخطيطه.

المراكب:

عثر عند منطقة الأهرامات على خمسة مراكب للملك خوفو، وتم نقل المراكب الأول إلى المتحف

المصري الكبير.

في الدراسات الاجتماعية

إنجازاته في مجال التجارة:

نشطت التجارة في عهد الملك خوفو الذي ارسل البعثات إلى سيناء بهدف الحصول على الفيروز

والنحاس، وقد ترك خوفو اسمه منقوشا في هذه المناجم.

مستر حاتم عاطف

الملكة حتشبسوت

نبذة عنها:

تعد الملكة حتشبسوت أشهر ملكات مصر في عصر الدولة الحديثة.

حكمت مصر لمدة تزيد عن عشرين عاما.

لقبت بالزوجة الملكية العظيمة، وسيدة كل الأراضي.

أهم الإنجازات:

اهتمت حتشبسوت بإصلاح أوضاع البلاد الداخلية.

تمثال الملكة حتشبسوت

تميز عهدها بالاستقرار والازدهار الاقتصادي.

أعدت فتح المحاجر والمناجم التي أهملت لفترة طويلة، وبخاصة في شبه جزيرة سيناء.

قامت بتنظيم المجاري المائية وتطوير الزراعة



○ من أهم إسهاماتها في مجال العمارة إنشاء معبد حتشبسوت الذي اشتهر بمعبد الدير البحري بالأقصر.

○ أرسلت الرحلات البحرية للتجارة مع الدول المجاورة، وخاصة بلاد بونت (الصومال حالياً). - أخرجت الرحلة التجارية إلى بلاد بونت على متن سفن كبيرة محملة بالهدايا والبضائع المصرية مثل البردي والكتان.

○ استقبل ملك بلاد بونت البعثة استقبالا جيدا.

❖ عادت البعثة محملة بكميات كبيرة من :

الحيوانات المفترسة - الأخشاب والأبنوس - البخور - العاج والجلود - الأحجار الكريمة.

المتفوق

في الدراسات الاجتماعية

اعداد /
مستر حاتم عاطف

بنك أسئلة على الوحدة الثالثة

أكمل العبارات الآتية بما يناسبها من كلمات:

1. يقع متحف هيئة السكك الحديدية في محافظة
2. أرسلت الملكة حتشبسوت رحلات تجارية إلى بلاد
3. عرفت مصر قديما العربات الحربية بعد تعرضها لغزو
4. أنشئ أول خط سكة حديد في مصر ليربط بين القاهرة و
5. شركة مصر للطيران إحدى شركات بنك
6. شاركت مصر في مؤتمر النقل المستدام الذي عقد بالعاصمة الصينية
7. يقع ميناء دمياط على البحر
8. يقع مطار برج العرب في محافظة
9. يربط القطار الكهربائي السريع بين العين السخنة والعلمين الجديدة مرورا ب
10. الدائرة الصفراء في إشارة المرور هي من علامات المرور
11. أشهر المراكب في مصر قديما يعود للملك
12. السكك الحديدية والطرق المرصوفة من أنواع النقل
13. الشاحنات من وسائل النقل المستخدمة لنقل
14. تخطي المرتفعات والبحار من مميزات النقل
15. أول سيارة دخلت مصر كانت تعمل بطاقة
16. أول من حاول الطيران باستخدام جناحين هو
17. يربط مترو الأنفاق بين شبرا الخيمة والقاهرة و
18. التزام السائق في مساره المحدد من قواعد
19. تعد العلامة المقابلة من علامات المرور
20. أرخص وسائل النقل هو النقل
21. أحد آداب استخدام وسائل النقل إفساح الطريق للسيارة
22. بدأت العصور التاريخية عندما عرف المصري القديم

اكتب كلمة (صواب) أمام العبارة الصحيحة، وكلمة (خطأ) أمام العبارة غير الصحيحة

1. استخدم المصريون القدماء الحصان والحمار في التنقل وحمل الأشياء. ()
2. استخدم المصري القديم العربات الحربية في السفر والصيد. ()
3. أول سيارة دخلت مصر كانت في عهد الخديو توفيق. ()
4. تعد السكك الحديدية المصرية الأولى في الشرق الأوسط والعالم. ()
5. حاول عباس بن فرناس محاكاة حركة الطيور. ()
6. نجح الأخوان رايت في الطيران الحقيقي عام ١٩٠٣م. ()
7. شركة مصر للطيران هي أول شركة طيران على مستوى الشرق الأوسط. ()
8. يساهم العلم في تطوير وسائل النقل المختلفة. ()
9. تهتم الدولة بتطوير وتحسين كل أنواع وسائل النقل. ()
10. النقل البري هو أرخص أنواع النقل. ()
11. الأتوبيسات النهرية من أهم وسائل النقل البري. ()

12. تحتفل باليوم العالمي للمرور في الرابع من شهر مايو. ()
13. يجب أن يلتزم سائق السيارة بالسرعة المحددة على الطريق. ()
14. يجوز استخدام الهاتف المحمول في أثناء قيادة السيارة. ()
15. يجب الامتناع عن تناول الطعام أو الشراب في أثناء قيادة السيارة. ()
16. علامة الاتجاه الإجباري للمشاة هي علامة مرور تحذيرية. ()
17. يجب أن يجلس الأطفال في المقاعد الأمامية للسيارة. ()
18. إلقاء الحجارة على القطارات في أثناء سيرها يسبب أضراراً للقطار والركاب. ()
19. أرسل الملك سنفرو رحلات تجارية إلى بلاد فينيقيا. ()
20. تعد السفن أول وسيلة نقل مالي عرفها المصري القديم. ()
21. نقل مركب الملك خوفو إلى المتحف القومي للحضارة المصرية للحفاظ على قيمته الأثرية. ()
22. تعد مصر أولى الدول العربية في إنشاء مترو الأنفاق. ()
23. إنشاء المزيد من الكباري يخفف الضغط المروري على الطرق. ()
24. يُفضل استخدام النقل الجوي إذا كانت البضائع كبيرة الحجم وثقيلة الوزن. ()
25. تهتم الدولة بالنقل المستدام لتوفير استخدام الوقود. ()
26. تهدف الدولة من مشروع المتوريل المعلق ربط المدن المصرية بمترو الأنفاق. ()
27. يجب الانتباه إلى المخاطر المحتملة عند رؤية العلامات التحذيرية. ()
28. عدم التأكد من صحة المعلومات يعد من سلبيات الإنترنت. ()
29. ساهمت شبكة الإنترنت في توفير المعلومات وفرص العمل المناسبة. ()

اختر الإجابة الصحيحة مما بين القوسين:

1. تم مد أول خط سكة حديد في مصر بين القاهرة و.....
 أ. السويس ب. الجيزة ج. الإسكندرية د. المنيا
2. استخدم المصري القديم السفن في.....
 أ. اكتشاف قارات العالم الجديد ب. نقل الركاب
 ج. اكتشاف أعماق البحار الواسعة د. استخراج البترول
3. إحدى وسائل النقل البحري التي عرفت في العصر الحديث.....
 أ. القوارب ب. السفن ج. البواخر د. المراكب
4. تطوير الطريق الدائري دليل على جهود الدولة في تطوير النقل.....
 أ. النهري ب. البحري ج. الجوي د. البري
5. أي من الموانئ التالية يقع على البحر الأحمر؟.....
 أ. الإسكندرية ب. سفاجا ج. العريش د. دمياط
6. تصنف علامة المرور المقابلة على أنها من علامات المرور.....
 أ. الإرشادية ب. التحذيرية ج. الإلزامية د. الضوئية
7. الخط الأصفر المتصل على الطريق يمثل علامة مرور.....
 أ. أرضية ب. إرشادية ج. إلزامية د. ضوئية



8. استخدم الإنسان للتواصل في عصور ما قبل التاريخ.....

- ا. الحمام الزاجل - ب. ورق البردي ج. قرع الطبول د. الطوابع البريدية

9. بدأ استخدام العربات الحربية في مصر قديما بعد غزو.....

- ا. الهكسوس ب. اليونانيين ج. الرومان د. الفرس

10. تستخدم وسائل النقل المستدام طاقة.....

- ا. السولار ب. الفحم ج. الكهرباء د. البنزين

11. عند التخطيط لنزهة نيلية أنت وأسرتك فتنصح باستخدام.....

- ا. دراجة بخارية ب. سيارة ج. غواصة د. أتوبيس نهري

12. يجب عليك عند عبور الطريق الالتزام ب.....

- ا. استخدام كوبري المشاة ب. ترك المقاعد لكبار السن

- ج. السير وسط الطريق د. استخدام آلة التنبيه

صوب ما تحته خط

1. نقل البضائع سريعة التلف أفضل من خلال النقل النهري.

2. تشير الصورة المقابلة العلامة مرور أرضية.

3. علامة المرور التي تعني ممنوع الانتظار هي علامة مرور التحذير.

4. أول خط هاتفى في مصر ربط بين القاهرة وأسوان.

5. أول محاولة للطيران قام بها الأخوان رايت

6. يستمتع الركاب بالنزهات النيلية من خلال النقل البحري.

7. أنشأت الدولة مطار برج العرب في السويس.

8. المقاعد الأمامية في السيارات غير مخصصة لجلوس الأمهات.

اكتب ما تشير إليه العبارة

1. دخلت السيارات في عهده إلى مصر عام ١٨٩٠م.

2. استخدام مصادر طاقة نظيفة في وسائل النقل.

3. عصور ما قبل معرفة المصري القديم للكتابة.

4. علامات مرورية تشير إلى سلوكيات يجب تجنبها في أثناء القيادة.

5. أحد أنواع النقل يتم في مصر من خلال قناة السويس.

6. أولى دول العالم في استخدام السكة الحديدية.

7. أرسلت رحلات تجارية إلى بلاد بونت لجلب البخور.

8. أسرع أنواع النقل.

فسر العبارات الآتية:

1. إرسال الملك سنfro رحلات بحرية لبلاد فينيقيا.

2. أهمية السكك الحديدية في مصر..

3. أهمية وسائل النقل في حياتنا..

4. أهمية النقل النهري في مصر..

5. اهتمام مصر بتطوير موانئها البحرية.

6. التوسع في استخدام وسائل النقل المستدام..

7. تشجيع المواطنين على استخدام وسائل النقل الجماعي.

8. أهمية مشروع القطار الكهربائي السريع في مصر..

9. ضرورة الالتزام بقواعد وآداب المرور..

10. استخدام الحمام الزاجل في إرسال الرسائل قديماً..

11. أهمية العربات الحربية في مصر قديماً.

12. اهتمام الدولة بإنشاء الكباري والمحاور..

13. أهمية موقع بوابة مصر الرقمية..

14. أهمية الدواب عند المصريين القدماء..

ما النتائج المترتبة على؟:

1. الثورة الصناعية..

2. سوء استخدام الإنترنت.

3. اختراع شبكة الإنترنت.

4. تنفيذ مصر مشروع مترو الأنفاق..

5. قضاء معظم وقتك على شبكات التواصل الاجتماعي.

دلل على صحة ما يلي:

1. تبذل الدولة جهودًا كبيرة لتنظيم حركة المرور..

2. تقوم المؤسسات الحكومية المصرية بجهود كبيرة من أجل التحول الرقمي..

قارن بين

النقل المائي والنقل الجوي من حيث المميزات.

وجه المقارنة	النقل المائي	النقل الجوي
المميزات		

على أي البحار توجد الموانئ التالية؟:

- ميناء سفاجا
- ميناء العردقة
- ميناء الإسكندرية
- ميناء دمياط

أجب عما يأتي:

1. اكتب مقترحا لتقليل الآثار السلبية المترتبة على استخدام السيارات.
2. حدد جهود الدولة في دعم النقل البري في مصر..
3. ما العلاقة بين بنك مصر ووسائل النقل في مصر؟
4. كما رأيك في الموقف التالي: استخدام الهاتف المحمول في الألعاب الإلكترونية؟



5. لاحظ الصورة، ثم أجب:

أختَر: علامة المرور المقابلة من العلامات.....

(الضوئية - التحذيرية - الأرضية - الإرشادية)

أكمل: يفهم السائق من علامة المرور المقابلة أنه بالقرب من.....

صنف

وسائل الاتصال التالية حسب العصر الذي تنتمي إليه على الخط الزمني:

(الحمام الزاجل - الأصوات العالية - الهاتف - الدخان - البريد - شبكة الإنترنت - التلغراف - قرع الطبول - أشخاص يحملون رسائل)

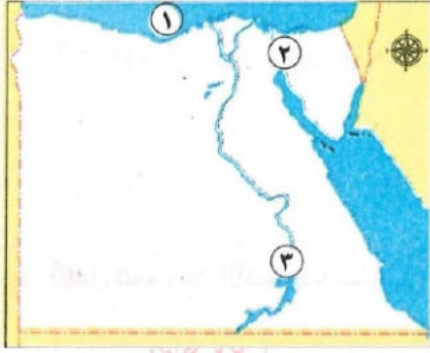
عصور ما قبل التاريخ	العصور التاريخية	القرن ١٩ و ٢٠
	سلسلة	

وسائل النقل التالية حسب النوع الذي تنتمي إليه:

(طائرة هليكوبتر - باخرة - المونوريل - الأتوبيس النهري - قطار - سيارة خاصة - المراكب - أتوبيسات)

نقل بري	نقل مائي	نقل جوي
	اعداد /	
	مستتر حاتم عاطف	

اختبار علي الوحدة الثالثة



لاحظ الخريطة، ثم أجب:

1. رقم (١) يشير إلى البحر.....
2. رقم (٢) يشير إلى قناة.....
3. رقم (٣) يشير إلى أحد المطارات الدولية.....

أكمل العبارات الآتية بما يناسبها من كلمات

1. أول من نجح في الطيران الحقيقي.....
2. شاركت مصر في مؤتمر النقل المستدام المنعقد في بكين عاصمة دولة.....
3. العلامة المرورية الدالة على وجود مطعم من علامات المرور.....

اكتب كلمة (صواب أمام العبارة الصحيحة، وكلمة (خطأ) أمام العبارة غير الصحيحة

1. استخدم المصري القديم ورق البردي في كتابة الرسائل. ()
2. استخدم الملك سنfro الدواب لجلب أخشاب الأرز من فينقيا. ()
3. تهتم الدولة المصرية بتطوير الطرق المرصوفة وإنشاء طرق بمواصفات عالمية. ()

اختر الإجابة الصحيحة مما بين القوسين

1. تعد العلامة المقابلة من العلامات .
 ا. التحذيرية ب. الإرشادية ج. الضوئية د. الأرضية

2. يمكننا استخراج جواز السفر من موقع

- ا. بنك المعرفة المصري
- ب. بوابة مصر الرقمية
- ج. منصة مصر التعليمية
- د. وزارة الصحة والسكان

3. مصر ثاني دول العالم إنشاء للسكك الحديدية بعد

- ا. المملكة المتحدة
- ب. فرنسا
- ج. الولايات المتحدة
- د. الأردن

4. تنصح التاجر الذي يريد التصدير عبر مواني البحر المتوسط بالتوجه لميناء

- ا. سفاجا
- ب. دمياط
- ج. السويس
- د. الغردقة

أجب عما يلي:

1. اكتب حالة واحدة يُفضّل فيها استخدام النقل الجوي.....
2. بم تفسر: استخدام الإنسان قديماً إشارات الدخان وقرع الطبول؟

مراجعة الكتاب المدرسي على الفصل الدراسي الثاني -

اكتب كلمة (صواب) أمام العبارة الصحيحة، وكلمة (خطأ) أمام العبارة غير الصحيحة:

1. تظهر الساعة السكانية نتائج التعداد السكاني الذي يتم إجراؤه كل عشر سنوات. ()
2. يمثل سكان الحضر أكثر من نصف سكان مصر. ()
3. يساعد الاهتمام بالتراث الثقافي على زيادة عدد السائحين لمصر. ()
4. تزداد نسبة الأمية بين الإناث عن الذكور. ()
5. يمثل رئيس الجمهورية السلطة القضائية في مصر. ()
6. تطوير العشوائيات في منطقة السيدة زينب بالقاهرة من مسئوليات المحافظ. ()
7. يتشابه حكام الأقاليم قديما والمحافظون حاليا في بعض المهام المكلفين بها. ()
8. تم إنشاء القلاع لحماية البلاد من الأعداء، وهي تعد من مناطق التراث الطبيعي. ()
9. يُعد دير سانت كاترين من أقدم الأديرة الدينية في مصر. ()
10. ساهمت منظمة اليونسكو في إنقاذ معبد إيزيس بجزيرة فيلة. ()
11. شيدت الكنيسة المعلقة على أحد الأبراج الجنوبية لحصن بابلون. ()
12. الشخص الذي يحتاج إلى علاج واستجمام عليه زيارة العيون الكبريتية بسبوة. ()
13. عند زيارتك الأهرامات الجيزة وشارع المعز وخان الخليلي فأنت تقوم بسياحة دينية. ()
14. استخدام ضوء الكاميرا عند التقاط الصور يمكن أن يؤثر سلبا على الأماكن الأثرية. ()
15. لتحقيق النقل المستدام قامت مصر بتحويل السيارات التي تعمل بالغاز الطبيعي إلى بنزين ()
16. يمكنك عبور الطريق سيرا إذا كانت إشارة المرور الضوئية الدائرية لونها أخضر. ()

اختر الإجابة الصحيحة مما بين القوسين لدراسات الاجتماعية

1. يتم إجراء حصر شامل للسكان في مصر كل عشر سنوات عن طريق.....
 أ. وزارة الصحة والسكان
 ب. الجهاز المركزي للتعبئة العامة والإحصاء
 ج. الجهاز المركزي للرقابة الإدارية
 د. الجهاز المركزي للمحاسبات
2. ثاني أعلى محافظات مصر من حيث نسبة الأمية محافظة.....
 أ. المنيا
 ب. البحر الأحمر
 ج. القاهرة
 د. بني سويف
3. أتوقع أن المسئول عن إصدار قرار إعلان الحرب في حالة تعرض البلاد لأخطار خارجية هو.....
 أ. رئيس الوزراء
 ب. رئيس الجمهورية
 ج. وزير الدفاع
 د. المجلس المحلي
4. الإشراف على نظافة أحد أحياء محافظة القاهرة من مسئوليات.....
 أ. مجلس النواب
 ب. رئيس الجمهورية
 ج. رئيس الوزراء
 د. المحافظ
5. إذا أردت زيارة أحد مواقع التراث الطبيعي في القاهرة، فإليك سوف تتجه لزيارة.....
 أ. محمية وادي الريان
 ب. قلعة صلاح الدين
 ج. محمية الغابة المتحجرة
 د. برج القاهرة

6. إذا أردت الاستمتاع بشكل هياكل الحيتان التي تكونت في مصر منذ ٤٠ مليون سنة، فإنك ستزور

إحدى المناطق الطبيعية في محافظة.....

- أ. القاهرة ب. أسوان ج. الفيوم د. البحيرة

7. إذا قمت بالتخطيط لرحلة سياحية المناطق السياحية العلاجية في مصر، فإنك تختار.....

- أ. واحة سيوة ب. مكتبة الإسكندرية ج. خان الخليلي د. المتحف المصري

8. تنصح زميلك عند زيارته لأحد الأماكن الأثرية بأن يقوم ب.....

- أ. تصوير القطع الأثرية ب. تناول الأطعمة والمشروبات

- ج. تسجيل زيارته على قطعة أثرية د. المحافظة على نظافة المكان

9. أرسل الملك سفرو رحلاته التجارية إلى بلاد فينيقيا باستخدام.....

- أ. السيارات ب. السفن ج. الطائرات د. القطارات

10. إذا أردت تصدير السلع الزراعية غير مواني البحر الأحمر، فعليك التوجه إلى ميناء.....

- أ. الإسكندرية ب. دمياط ج. بورتوفيق د. الغردقة

11. وضعت الدولة كاميرات على الطرق وملصقات إلكترونية على كل سيارة بهدف.....

- أ. تنظيم عبور المشاة ب. حصر أماكن الكثافات السكانية

- ج. حصر أماكن الكثافات المرورية د. مراقبة حوادث الطرق

اكتب تفسيرًا واحدًا لكل عبارة من العبارات التالية:

1. انخفاض عدد سكان محافظة جنوب سيناء..

في الدراسات الاجتماعية

2. أهمية التراث الثقافي المصري..

اعداد /

مستر حاتم عاطف

3. أهمية منصب المحافظ..

4. ضرورة وجود حكومة في الدولة..

5. بناء القلاع والحصون في مناطق مختلفة في مصر قديما..

6. منطقة أبو مينا مهددة بالخطر..

7. أهمية منطقة مصر القديمة سياحيا..

8. اهتمام مصر بتطوير الموانئ البحرية.

9. إصدار الدولة لقانون المرور

10. استخدام الحمام الزاجل في إرسال الرسائل قديماً..

اكتب نتيجة واحدة ترتبت على كل مما يلي:

1. اهتمام اليونسكو بمناطق التراث العالمي التي حددتها على قائمتها..

2. اعتقاد المصريين القدماء في البعث والخلود..

3. الثورة الصناعية..

4. استخدام وسائل النقل المستدام.

5. معرفة الإنسان للكتابة.

اكتب دليلاً واحداً على صحة العبارات التالية:

1. أهمية الجهاز المركزي للتعبئة العامة والإحصاء بمصر..

2. فن التحطيب له أصول مصرية قديمة..

3. تنوع الأماكن الأثرية في حي مصر القديمة بالقاهرة..

4. دعم مصر السياحة المستدامة.

5. جهود الدولة في تطوير منطقة الأهرامات..

اكتب مقترحًا لكل من العبارات التالية:

1. الحد من هجرة سكان الريف إلى المدن..
2. القضاء على مشكلة الأمية بمحافظةك..
3. الحفاظ على المناطق الأثرية..
4. تنمية السياحة في محافظتك..
5. تقليل الآثار السلبية المترتبة على استخدام السيارات.

سلسلة

المتفوق

في الدراسات الاجتماعية

اعداد /
مستتر حاتم عاطف