

الصف
الخامس
الابتدائي
٢٠٢٤

بنك أسئلة

التميز

أ / محمود سعيد



بنك أسئلة المتميز

الدراسات الاجتماعية

علي مقررات فبراير

اعداد

د / اسلام عطية أ / محي الدين سمير

5
الصف
الخامس

نسخة
مجانية

ملحق الإجابات
بالداخل



El.Motamyez.School

يمكنكم الحصول على المذكرات والاختبارات من خلال مسح رمز ال QR Code
أو من خلال صفحة "التميز - أ / محمود سعيد".
يرجى مراعاة حقوق صاحب المحتوى عند النشر.



بنك أسئلة الترميز علي مقررات شهر فبراير

تشمل اسئلة الوزارة واختبارات المحافظات

اختر الاجابة الصحيحة

السؤال الأول

تعد مدينة أكثر مدن مصر ازدهاما بالسكان.

١ قنا (أ) مطروح (ب) القاهرة (ج) الشرقية (د)

إحدى المحافظات الجاذبة للسكان.....

٢ شمال سيناء (أ) الجيزة (ب) مطروح (ج) الوادي الجديد (د)

النسبة بين عدد السكان ومساحة الأرض التي يعيشون عليها هي

٣ الكثافة السكانية (أ) النمو السكاني (ب) الزيادة السكانية (ج) الضغط السكاني (د)

ينقسم الهرم السكاني لمصر إلى فئات

٤ ثلاث (أ) أربع (ب) خمس (ج) ست (د)

يتسم الهرم السكاني لمصر بالقاعدة

٥ الضيقة (أ) العريضة (ب) المدببة (ج) الصغيرة (د)

فئة عمرية تحتل قمة الهرم السكاني في مصر

٦ كبار السن (أ) صغار السن (ب) سن العمل (ج) المراهقين (د)

تصنيف السكان إلى أطفال وكبار وشباب يسمى بالتركيب

٧ النوعي (أ) الاقتصادي (ب) اللغوي (ج) العمري (د)

أصدرت الدولة القوانين التي تجرم عمالة

٨ الشيوخ (أ) الرجال (ب) النساء (ج) الأطفال (د)

اتساع قاعدة الهرم السكاني في مصر يدل على ارتفاع معدل

٩ الوفيات (أ) المواليد (ب) البطالة (ج) الأمية (د)

تمثل قاعدة الهرم السكاني في مصر فئة

١٠ كبار السن (أ) الشباب (ب) صغار السن (ج) متوسط السكان (د)

النصف الأيمن للهرم السكاني المصري يوجد به إحصاءات الإناث باللون

١١ الوردي (أ) البنفسجي (ب) الأزرق (ج) الأخضر (د)



- يرجع اختلاف شكل الهرم السكاني من دولة لأخرى إلى
- ١٢ أ) النمو السكاني ب) التركيب النسبي ج) الأنشطة الاقتصادية د) التركيب الوصفي
- يمثل اللون الأزرق على الهرم السكاني فئة
- ١٣ أ) الشباب ب) الذكور ج) صغار السن د) الإناث
- تتعدد أسباب مشكلة الزيادة السكانية في مصر ومنها
- ١٤ أ) قلة الخدمات ب) انتشار العشوائيات ج) قلة المواليد د) الزواج المبكر
- يترتب على مشكلة الزيادة في مصر زيادة
- ١٥ أ) الإنتاج ب) الوفيات ج) استهلاك الموارد د) فرص العمل
- أحد حلول مشكلة الزيادة السكانية
- ١٦ أ) ارتفاع النمو السكاني ب) القضاء على الزواج المبكر ج) تفضيل الذكور على الإناث د) إنجاب الكثير من الأطفال
- تظهر مشكلة الزيادة السكانية عندما يزيد عدد السكان على
- ١٧ أ) الأفراد ب) الأنشطة ج) الموارد د) فرص العمل
- كل ذلك من أسباب الزيادة السكانية ما عدا
- ١٨ أ) استصلاح الأراضي ب) الزواج المبكر ج) تفضيل الذكور عن الإناث د) كثرة الإنجاب
- يؤدي تحسن الرعاية الصحية إلى
- ١٩ أ) تقلص فئة صغار السن ب) ارتفاع عدد الوفيات ج) تناقص متوسط عمر الفرد د) انخفاض عدد وفيات الرضع
- المحكمة التي اعتقد المصري القديم أنه سيقف أمامها بعد الموت كانت مكونة من قاضياً
- ٢٠ أ) 40 ب) 42 ج) 43 د) 44
- كان للمرأة في مصر القديمة الحق في
- ٢١ أ) البيع ب) الميراث ج) الشراء د) جميع ما سبق
- صنعت ملابس الملوك والأغنياء قديماً من
- ٢٢ أ) القطن ب) الصوف ج) الجلد د) الحرير
- أحد أفراد الأسرة من مهامه على الإشراف أعمال المنزل
- ٢٣ أ) الأب ب) الابن ج) الابنة د) الأم
- ضمت الطبقة الأولى في المجتمع المصري قديماً
- ٢٤ أ) الملك وأسرته ب) الكهنة ج) العمال د) الفلاحين
- من ألعاب التفكير عند المصريين القدماء
- ٢٥ أ) المصارعة ب) التحطيب ج) السباحة د) السنت
- كانت ملابس الملك قديماً تصنع من الحرير وتطرز من
- ٢٦ أ) النحاس ب) الذهب ج) الحديد د) الخشب



- ٢٧ صنع ملابس عامة الشعب عند المصريين القدماء من
 (أ) الحرير (ب) الكتان (ج) القطن (د) الصوف
- ٢٨ أحد الألعاب الرياضية التي مارسها القدماء المصريين هي
 (أ) المصارعة (ب) كرة القدم (ج) الغناء (د) العزف
- ٢٩ المسئول عن رعاية وتوفير الحاجات الأساسية للأسرة
 (أ) الأب (ب) الأم (ج) الابنة (د) الابنة
- ٣٠ يأتي على قمة هرم طبقات المجتمع المصري قديماً
 (أ) الوزير (ب) الكاتب (ج) الملك (د) الكاهن
- ٣١ كان يرمز للإله آتون بـ
 (أ) البقرة (ب) قرص الشمس (ج) الثعبان (د) الصقر
- ٣٢ تعد إلهة الحق والعدل عند المصريين القدماء
 (أ) ماعت (ب) آتون (ج) حورس (د) أوزوريس
- ٣٣ العيش حياة أبدية بعد الموت "تشير هذه العبارة إلى
 (أ) البعث (ب) الحساب (ج) الخلود (د) التوحيد
- ٣٤ دعا الملك إلى عبادة إله واحد.
 (أ) أمنمحات الأول (ب) سنوسرت الثالث (ج) رمسيس الثاني (د) أمنمحات الرابع
- ٣٥ المدينة التي اتخذها الملك أمنمحات الرابع لعبادة الإله آتون
 (أ) منف (ب) نخب (ج) أخيتاتون (د) طيبة
- ٣٦ أحد العوامل الطبيعية التي أدت لزيادة تركيز السكان في الوادي والدلتا
 (أ) توفر الخدمات (ب) خصوبة التربة (ج) سهولة المواصلات (د) وعورة السطح
- ٣٧ كبار الحرفيين في مصر قديماً كانوا ينتمون إلى الطبقة
 (أ) الأولى (ب) الثانية (ج) الثالثة (د) الرابعة
- ٣٨ كان يتولى رئاسة محكمة الموتى
 (أ) ماعت (ب) حورس (ج) إيزيس (د) أوزوريس
- ٣٩ " العودة للحياة مرة أخرى بعد الموت " تشير هذه العبارة إلى
 (أ) البعث (ب) الخلود (ج) الحساب (د) العقاب
- ٤٠ حكام الأقاليم قديماً كانوا ينتمون إلى الطبقة
 (أ) الأولى (ب) الثانية (ج) الثالثة (د) الرابعة



- ٤١ قام المصريين القدماء بالتحنيط عندما اعتقدوا في
 (أ) البعث والخلود (ب) حساب الموتى (ج) السمو الروح (د) تعدد الآلهة
- ٤٢ تنسب فكرة السمو إلى التوحيد عند القدماء المصريين إلى الملك
 (أ) نخاو الثاني (ب) سنوسرت الثالث (ج) أمنحتب الرابع (د) رمسيس الثاني
- ٤٣ من أسباب المشكلة السكانية في مصر تفضيل الذكور
 (أ) الشيوخ (ب) الأطفال (ج) الأفراد (د) الإناث
- ٤٤ تمثل فئة صغار السن في مصر نحو من السكان.
 (أ) النصف (ب) الربع (ج) الثلث (د) السدس
- ٤٥ النشاط الاقتصادي الذي يمثل ربع القوى العاملة في مصر
 (أ) الزراعة (ب) الصناعة (ج) التجارة (د) السياحة
- ٤٦ زيادة متوسط عمر الفرد وانخفاض الوفيات في مصر نتيجة الاهتمام بالرعاية
 (أ) الاجتماعية (ب) الصحية (ج) السياحية (د) الثقافية
- ٤٧ قامت الدولة ببذل الكثير من الجهود لمواجهة مشكلة الزيادة السكانية منها
 (أ) التشجيع على الإنجاب (ب) التشجيع على الزواج المبكر (ج) تنظيم الأسرة (د) إهمال الرعاية الصحية
- ٤٨ كان عيد ميلاده من الأعياد التي احتفل بها المصري القديم
 (أ) الملك (ب) الوزير (ج) حاكم الإقليم (د) كبير الكهنة
- ٤٩ أثناء عملية التحنيط كان يتم لف جسم المتوفى بلفائف مصنوعة من
 (أ) القطن (ب) البردي (ج) الكتان (د) الحرير
- ٥٠ انتشرت عبادة الإله في مملكة كوش بالسودان.
 (أ) آمون (ب) آتون (ج) ماعت (د) إيزيس
- ٥١ انتقلت عبادة المعبودة عشتار من إلى الحضارة المصرية القديمة.
 (أ) بلاد اليونان (ب) بلاد الرومان (ج) العراق (د) النوبة
- ٥٢ كبار الحرفيين في مصر القديمة كانوا ينتمون إلى الطبقة
 (أ) الأولى (ب) الثانية (ج) الثالثة (د) الرابعة
- ٥٣ الفئة التي تصنف على أنها فئة غير منتجة هي
 (أ) سن العمل (ب) صغار السن (ج) الشباب (د) متوسطو السن
- ٥٤ كانت الريشة في ميزان العدالة بمحكمة الموتى رمزاً للإلهة في مصر القديمة.



- ٥٥ (أ) حورس (ب) إيزيس (ج) ماعت (د) عشتار
 عملية التحنيط عند المصريين القدماء كانت تستغرق يوماً
 (أ) 50 (ب) 60 (ج) 70 (د) 80

ضع علامة صح أو خطأ أمام العبارات التالية

السؤال الثاني

- () ١ محافظة الإسكندرية من المحافظات الطاردة للسكان.
 () ٢ تعد مصر من أحدث الدول في إجراء التعدادات السكانية.
 () ٣ يعيش معظم سكان مصر علي ضفاف نهر النيل بمحافظات الوادي والدلتا.
 () ٤ تظهر العشوائيات نتيجة الهجرة الخارجية.
 () ٥ تعد محافظة القاهرة من المحافظات الجاذبة للسكان.
 () ٦ تحتل مصر المرتبة الثالثة عالميا من حيث عدد السكان.
 () ٧ يحدث النمو السكاني نتيجة للزيادة الطبيعية والهجرة.
 () ٨ يتوزع السكان بشكل متساوي علي أرض مصر.
 () ٩ محافظة البحر الأحمر من المحافظات نادرة السكان.
 () ١٠ تعد محافظة الوادي الجديد من المحافظات المصرية الجاذبة للسكان.
 () ١١ سهولة المواصلات من العوامل الطبيعية لندرة السكان.
 () ١٢ تأتي مصر في المرتبة الثالثة إفريقيا من حيث عدد السكان .
 () ١٣ تؤدي الهجرة إلي قلة الكثافة السكانية في المناطق المستقبلية للسكان.
 () ١٤ يتسم الهرم السكاني لمصر بالقاعدة العريضة.
 () ١٥ التركيب النوعي هو تقسيم السكان حسب الفئات العمرية.
 () ١٦ تتساوى قاعدة الهرم السكاني في مصر مع قمته.
 () ١٧ يساعد الهرم السكاني في تحديد احتياجات الفئات العمرية المختلفة.
 () ١٨ تصنيف السكان إلي ذكور و إناث يعرف باسم التركيب النوعي.
 () ١٩ اتخذ الملك أمنحتب الرابع القمر رمزا للاله آتون.
 () ٢٠ يعد كبار السن أقل نسبة للفئات العمرية في الهرم السكاني المصري.
 () ٢١ تضم الفئات المنتجة كلا من الأطفال وكبار السن.
 () ٢٢ يساعد الهرم السكاني في تحديد احتياجات الدولة من تعليم وصحة و مرافق و فرص عمل.



- () ٣٣ نسبة الذكور في مصر أقل من نسبة الإناث.
- () ٣٤ توجد فئة صغار السن في قمة الهرم السكاني لمصر.
- () ٣٥ مارس المصريون القدماء رياضة المصارعة.
- () ٣٦ أحد أسباب الزيادة السكانية الزواج المبكر.
- () ٣٧ يزداد انجاب الأطفال في الحضر عن الريف.
- () ٣٨ تتوسع الدولة في مشروعات التنمية وبناء المدن الجديدة.
- () ٣٩ تؤدي الزيادة السكانية إلي زيادة نصيب الفرد من الموارد.
- () ٤٠ تؤثر الزيادة السكانية ايجابيا علي الموارد والبيئة.
- () ٤١ تحسن الرعاية الصحية أدي لارتفاع معدل وفيات الأطفال.
- () ٤٢ مشكلة الزيادة السكانية تؤدي إلي الضغط علي الخدمات.
- () ٤٣ كان للمرأة المصرية دور سلبي في المشاركة في الحياة السياسية قديما وحديثا.
- () ٤٤ تشابهت طبقات المجتمع في مصر قديما.
- () ٤٥ كان المجتمع المصري القديم ينقسم إلي خمس طبقات.
- () ٤٦ اعتاد المصري القديم علي استخدام العديد من أدوات الزينة مثل العطور والأساور.
- () ٤٧ صنعت ملابس عامة الشعب المصري القديم من الحرير.
- () ٤٨ تحتل المرأة مكانة كبيرة في مصر في الوقت الحاضر.
- () ٤٩ صنعت ملابس الملك والأغنياء قديما من الحرير و الكتان عاي الجودة.
- () ٥٠ مارس المصريون القدماء رياضة كرة القدم.
- () ٥١ شيد الملك أمنحتب الرابع مدينة أخيتاتون لتكون عاصمة له.
- () ٥٢ ترجع لعبة التحطيب إلي المصريين القدماء.
- () ٥٣ اهتم المصريون القدماء بالعزف و الغناء.
- () ٥٤ كانت مصر القديمة تتكون من 24 اقليما.
- () ٥٥ يعد أوزوريس إله الموتى عند المصريين القدماء.
- () ٥٦ حفظ المصريون القدماء جثث موتاهم عن طريق التحنيط.
- () ٥٧ كان لكل أقاليم مصر معبود واحد.
- () ٥٨ اتخذ المصريون القدماء معبوداتهم من الطبيعة.
- () ٥٩ اعتقد المصري القديم في الثواب والعقاب بعد الموت.



أكمل العبارات التالية بالاجابة المناسبة

السؤال الثالث

١

(الاولى - العشوائيات - الهجرة - الكثافة السكانية - الزيادة الطبيعية - الثالثة)

تعتبر النسبة بين عدد السكان و مساحة الأرض التي يعيشون عليها عن.....
تأتي مصر في المرتبة.....إفريقيا من حيث عدد السكان.

يحدث النمو السكاني في أي دولة نتيجة للزيادة الطبيعية و.....

الفرق بين أعداد المواليد و أعداد الوفيات يسمى.....

تؤدي الهجرة الداخلية إلي ظهور.....

١

٢

٣

٤

٥

٢

(تنظيم الأسرة - الزيادة الطبيعية والهجرة - النوعي - الموارد المتاحة - العريضة)

الهرم السكاني لمصر يتسم بالقاعدة.....

تصنيف السكان إلي ذكور و إناث يعرف باسم التركيب.....

تحدث المشكلة السكانية عندما يزداد عدد السكان عن.....

انخفض عدد المواليد في مصر بسبب.....

ارتفاع معدل النمو السكاني يحدث بسبب.....

١

٢

٣

٤

٥

٣

(ثلاثة - الموارد المتاحة - السكان - الأسرة - الأطفال - أربعة)

يتم بناء المدن الجديدة لإعادة توزيع.....

كان المجتمع المصري ينقسم إلي.....طبقات.

أصدرت الدولة قوانين تمنع عمالة.....

بذلت الدولة جهودا عديدة لحل مشكلة الزيادة السكانية، منها تنظيم.....

مشكلة الزيادة السكانية تؤدي لنقص نصيب الفرد من.....

١

٢

٣

٤

٥

٤

(الحرير - المصارعة - الموارد - الكتان - الست)

تظهر مشكلة الزيادة السكانية عندما يزيد عدد السكان عن.....

صنعت ملابس عامة الشعب عند المصريين القدماء من.....

إحدى ألعاب التفكير عند المصريين القدماء.....

من الألعاب الرياضية في مصر قديما.....

صنعت ملابس الملوك و الأغنياء في مصر قديما من الكتان عالي الجودة و.....

١

٢

٣

٤

٥



(أتون - الشمس - التحنيط - أمون - ماعت)

- ١ رمز الملك أمنحتب الرابع الإله أتون بقرص.....
- ٢ حفظ جسد الإنسان المتوفي بعد الموتى يسمى.....
- ٣ اتخذت مملكة كوش الإله.....من الحضارة المصرية.
- ٤ سميت إلهة الحق و العدل عند المصريين القدماء ب.....
- ٥ دعا الملك أمنحتب الرابع إلي عبادة الإله.....

اكتب ما تشير اليه العبارات التالية

السؤال الرابع

- ١ الجهاز المسئول عن إجراء التعداد السكاني لمصر.
- ٢ النسبة بين عدد السكان و مساحة الأرض التي يعيشون عليها.
- ٣ انتقال الأفراد من محافظة لأخرى داخل الدولة.
- ٤ انتقال الأفراد من مكان لآخر.
- ٥ الفرق بين المواليد و الوفيات في فترة معينة.
- ٦ دولة تحتل المرتبة الثالثة إفريقيا من حيث عدد السكان.
- ٧ رسم بياني يوضح توزيع السكان من حيث التركيب العمري و النوعي.
- ٨ الحياة مرة أخرى بعد الموت.
- ٩ العيش حياة أبدية لا موت بعدها.
- ١٠ مدينة اتخذها الملك أمنحتب الرابع مركزا لعبادة الإله أتون.
- ١١ حفظ جسد المتوفي بعد الموت.
- ١٢ إلهة الحق و العدل عند المصريين القدماء.
- ١٣ تشرف على أعمال المنزل في مصر القديمة.
- ١٤ دعا إلى عبادة الإله أتون.
- ١٥ رئيس محكمة الموتى عند المصريين القدماء
- ١٦ إله انتقلت عبادته إلى مملكة كوش في السودان.



- () ١٧ معبودة انتقلت عبادتها إلى حضارة اليونان والرومان القديم.
- () ١٨ معبودة انتقلت عبادتها من العراق القديم إلى مصر.
- () ١٩ الأواني التي كانت توضع بها أحشاء المتوفي أثناء عملية التحنيط.
- () ٢٠ انتقال الأفراد بين مصر وخارجها.
- () ٢١ أكثر محافظات مصر جذباً للسكان.
- () ٢٢ تقسيم السكان حسب النوع إلى ذكور وإناث.
- () ٢٣ تقسيم السكان حسب الفئات العمرية.
- () ٢٤ تصنيف السكان حسب النشاط الاقتصادي الذي يمارسونه.
- () ٢٥ فئة عمرية تمثل نحو 5.4 % من جملة السكان.
- () ٢٦ أكبر الأنشطة الاقتصادية التي يمارسها السكان.
- () ٢٧ طبقة اجتماعية تضم كبار الكهنة والكتبة.

أجب عن الاسئلة الآتية

السؤال الخامس

١ بم تفسر: ارتفاع النمو السكاني في مصر.

١

٢ بم تفسر: هجرة السكان من مكان لآخر؟

٢

٣ بم تفسر: ارتفاع الكثافة السكانية في محافظات في محافظات الوادي و الدلتا؟

٣

٤ بم تفسر: الهرم السكاني لمصر ذو قاعدة عريضة؟

٤

٥ قارن بين: فئة صغار السن و كبار السن من حيث التشابه و الاختلاف.

٥

٦ بم تفسر ظهور مشكلة الزيادة السكانية في مصر؟

٦

٧ بم تفسر: انخفاض أعداد المواليد في مصر؟

٧



٨ اكتب نتيجة واحدة ترتبت علي: توفر المياه العذبة و التربة الخصبة في بعض محافظات مصر.

٨

٩ بم تفسر: أهمية دراسة الهرم السكاني؟

٩

١٠ فسر: يتوقع زيادة نسبة كبار السن مستقبلا.

١٠

١١ اكتب نتيجة واحد: لتقدم الرعاية الطبية في مصر.

١١

١٢ اكتب نتيجة واحدة: للزيادة السكانية في مصر بالنسبة إلى الموارد والمشروعات.

١٢

١٣ ما دورنا كأفراد في: حل مشكلة الزيادة السكانية؟

١٣

١٤ ما النتائج المترتبة علي تفضيل الذكور عن الإناث؟

١٤

١٥ ما العلاقة بين الزيادة السكانية و التلوث؟

١٥

١٦ اكتب اثنين من جهود الدولة لمواجهة المشكلة السكانية.

١٦

١٧ اكتب سببا واحدا: لاستمرار بعض الأسر في الإنجاب حتى تنجب الذكور.

١٧

١٨ بم تفسر: اختلاف الملابس في مصر القديمة؟

١٨

١٩ دلل علي: تكون المجتمع المصري قديما من عدة طبقات.

١٩

٢٠ حدد: اثنين من أدوات الزينة عند المصريين القدماء.

٢٠

٢١ اكتب دليلا واحدا علي: اختلاف ملابس المصريين القدماء تبعا لطبقات المجتمع.

٢١

٢٢ بم تفسر: أهمية دور الأب في المجتمع المصري القديم؟

٢٢



٣٣ بم تفسر: أهمية دور المرأة في الأسرة المصرية القديمة؟

٣٤

٣٤ دلل: تمتعت المرأة المصرية بمكانة كبيرة عند المصريين القدماء.

٣٥

٣٥ وضح العلاقة بين التحنيط و الحياة الدينية عند المصريين القدماء.

٣٦

٣٦ ما النتائج المترتبة على: دعوة الملك أمنحتب الرابع إى توحيد الآلهة؟

٣٧

٣٧ اكتب دليلا على: اعتقاد المصريين فى البعث و الخلود.

٣٨

٣٨ بم تفسر: تعدد الآلهة عند المصريين القدماء؟

٣٩

٣٩ بم تفسر: قيام المصريين القدماء بعملية التحنيط؟

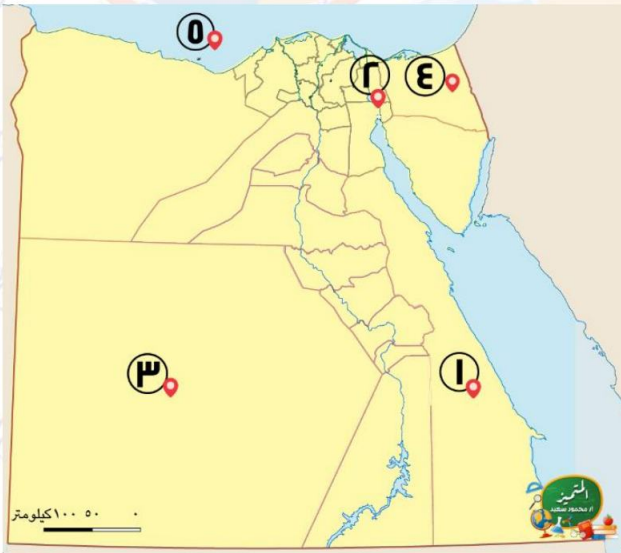
٣٠

٣٠ بم تفسر: شيد إخناتون مدينة أخيتاتون؟

السؤال السادس

أكتب مدلول الارقام على الخريطة

السؤال السادس



١ محافظة صحراوية.....

٢

٢ قناة.....

٣

٣ محافظة ذات كثافة سكانية منخفضة

٤

٤ محافظة يندر بها السكان.....

٥

٥ البحر.....

يمكنكم الحصول على المذكرات والاختبارات من خلال مسح رمز QR Code او من خلال صفحة "التميز - أ / محمود سعيد". يرجى مراعاة حقوق صاحب المحتوى عند النشر.



٢

يشير رقم 1 إلي مدينة مزدحمة جدا بالسكان

.....

يشير رقم 2 إلي محافظة ينذر بها السكان

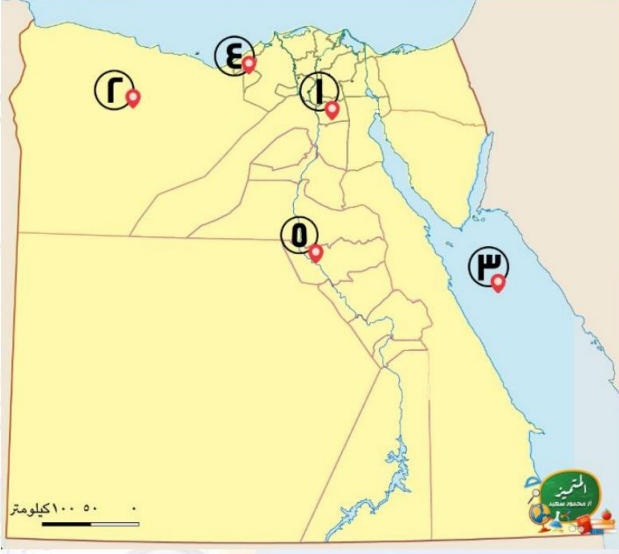
.....

يشير رقم 3 إلي البحر.....

يشير رقم 4 لمحافظة جاذبة للسكان

.....

منطقة تركيز سكاني



١

٢

٣

٤

٥

٣

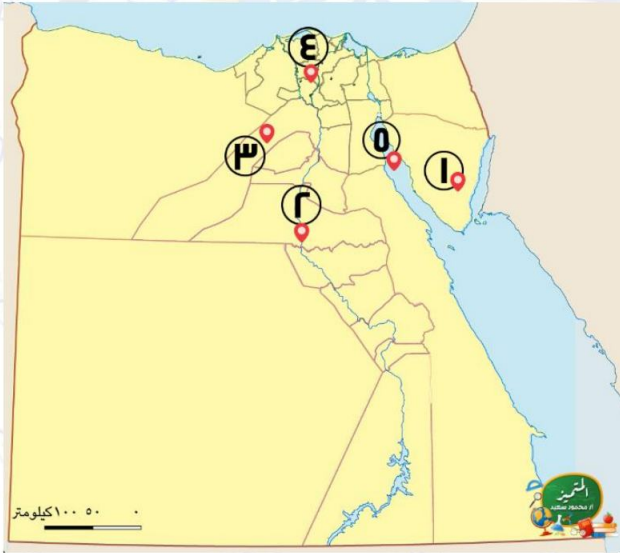
أقل محافظات مصر سكان

..... نهر

..... محافظة جاذبة للسكان

..... منطقة تركيز سكاني

..... خليج



١

٢

٣

٤

٥

انتهت الأسئلة مع أطيب الامنيات بالنجاح والتوفيق



الصف
الخامس
الابتدائي
٢٠٢٤

بنك اسئلة

التميز

أ/ محمود سعيد



الاجابات النموذجية لبنك الاسئلة

الدراسات الاجتماعية

علي مقررات فبراير

اعداد

د / اسلام عطية أ / محي الدين سمير



El.Motamez.School

يمكنكم الحصول على المذكرات والاختبارات من خلال مسح رمز ال QR Code او من خلال صفحة "التميز - أ/ محمود سعيد".
يرجى مراعاة حقوق صاحب المحتوى عند النشر.



بنك أسئلة الترميز علي مقررات شهر فبراير

تشمل اسئلة الوزارة واختبارات المحافظات

اختر الاجابة الصحيحة

السؤال الأول

تعد مدينة أكثر مدن مصر ازدهاما بالسكان.

١ قنا ٢ مطروح ٣ القاهرة ٤ الشرقية

إحدى المحافظات الجاذبة للسكان.....

١ شمال سيناء ٢ الجيزة ٣ مطروح ٤ الوادي الجديد

النسبة بين عدد السكان ومساحة الأرض التي يعيشون عليها هي

١ الكثافة السكانية ٢ النمو السكاني ٣ الزيادة السكانية ٤ الضغط السكاني

ينقسم الهرم السكاني لمصر إلى فئات

١ ثلاث ٢ أربع ٣ خمس ٤ ست

يتسم الهرم السكاني لمصر بالقاعدة

١ الضيقة ٢ العريضة ٣ المدببة ٤ الصغيرة

فئة عمرية تحتل قمة الهرم السكاني في مصر

١ كبار السن ٢ صغار السن ٣ سن العمل ٤ المراهقين

تصنيف السكان إلى أطفال وكبار وشباب يسمى بالتركيب

١ النوعي ٢ الاقتصادي ٣ اللغوي ٤ العمري

أصدرت الدولة القوانين التي تجرم عمالة

١ الشيوخ ٢ الرجال ٣ النساء ٤ الأطفال

اتساع قاعدة الهرم السكاني في مصر يدل على ارتفاع معدل

١ الوفيات ٢ المواليد ٣ البطالة ٤ الأمية

تمثل قاعدة الهرم السكاني في مصر فئة

١ كبار السن ٢ الشباب ٣ صغار السن ٤ متوسط السكان

النصف الأيمن للهرم السكاني المصري يوجد به إحصاءات الإناث باللون

١ الوردي ٢ البنفسجي ٣ الأزرق ٤ الأخضر



- يرجع اختلاف شكل الهرم السكاني من دولة لأخرى إلى
- ١٢ (أ) **النمو السكاني** (ب) التركيب النسبي (ج) الأنشطة الاقتصادية (د) التركيب الوصفي
- يمثل اللون الأزرق على الهرم السكاني فئة
- ١٣ (أ) الشباب (ب) الذكور (ج) صغار السن (د) الإناث
- تتعدد أسباب مشكلة الزيادة السكانية في مصر ومنها
- ١٤ (أ) قلة الخدمات (ب) انتشار العشوائيات (ج) قلة المواليد (د) الزواج المبكر
- يترتب على مشكلة الزيادة في مصر زيادة
- ١٥ (أ) الإنتاج (ب) الوفيات (ج) استهلاك الموارد (د) فرص العمل
- أحد حلول مشكلة الزيادة السكانية
- ١٦ (أ) ارتفاع النمو السكاني (ب) القضاء على الزواج المبكر (ج) تفضيل الذكور على الإناث (د) إنجاب الكثير من الأطفال
- تظهر مشكلة الزيادة السكانية عندما يزيد عدد السكان على
- ١٧ (أ) الأفراد (ب) الأنشطة (ج) الموارد (د) فرص العمل
- كل ذلك من أسباب الزيادة السكانية ما عدا
- ١٨ (أ) **استصلاح الأراضي** (ب) الزواج المبكر (ج) تفضيل الذكور عن الإناث (د) كثرة الإنجاب
- يؤدي تحسن الرعاية الصحية إلى
- ١٩ (أ) تقلص فئة صغار السن (ب) ارتفاع عدد الوفيات (ج) تناقص متوسط عمر الفرد (د) انخفاض عدد وفيات الرضع
- المحكمة التي اعتقد المصري القديم أنه سيقف أمامها بعد الموت كانت مكونة من قاضياً
- ٢٠ (أ) 40 (ب) 42 (ج) 43 (د) 44
- كان للمرأة في مصر القديمة الحق في
- ٢١ (أ) البيع (ب) الميراث (ج) الشراء (د) جميع ما سبق
- صنعت ملابس الملوك والأغنياء قديماً من
- ٢٢ (أ) القطن (ب) الصوف (ج) الجلد (د) الحرير
- أحد أفراد الأسرة من مهامه على الإشراف أعمال المنزل
- ٢٣ (أ) الأب (ب) الابن (ج) الابنة (د) الأم
- ضمت الطبقة الأولى في المجتمع المصري قديماً
- ٢٤ (أ) **الملك وأسرته** (ب) الكهنة (ج) العمال (د) الفلاحين
- من ألعاب التفكير عند المصريين القدماء
- ٢٥ (أ) المصارعة (ب) التحطيب (ج) السباحة (د) السنن
- كانت ملابس الملك قديماً تصنع من الحرير وتطرز من
- ٢٦ (أ) النحاس (ب) الذهب (ج) الحديد (د) الخشب



- ٢٧ صنع ملابس عامة الشعب عند المصريين القدماء من
 أ) الحرير ب) الكتان ج) القطن د) الصوف
- ٢٨ أحد الألعاب الرياضية التي مارسها القدماء المصريين هي
 أ) المصارعة ب) كرة القدم ج) الغناء د) العزف
- ٢٩ المسئول عن رعاية وتوفير الحاجات الأساسية للأسرة
 أ) الأب ب) الأم ج) الابنة د) الابنة
- ٣٠ يأتي على قمة هرم طبقات المجتمع المصري قديماً
 أ) الوزير ب) الكاتب ج) الملك د) الكاهن
- ٣١ كان يرمز للإله أتون بـ
 أ) البقرة ب) قرص الشمس ج) الثعبان د) الصقر
- ٣٢ تعد إلهة الحق والعدل عند المصريين القدماء
 أ) ماعت ب) أتون ج) حورس د) أوزوريس
- ٣٣ العيش حياة أبدية بعد الموت "تشير هذه العبارة إلى
 أ) البعث ب) الحساب ج) الخلود د) التوحيد
- ٣٤ دعا الملك إلى عبادة إله واحد.
 أ) أمنمحات الأول ب) سنوسرت ج) رمسيس الثاني د) أمنحتب الرابع
- ٣٥ المدينة التي اتخذها الملك أمنحتب الرابع لعبادة الإله أتون
 أ) منف ب) نخب ج) أخيتاتون د) طيبة
- ٣٦ أحد العوامل الطبيعية التي أدت لزيادة تركيز السكان في الوادي والدلتا
 أ) توفر الخدمات ب) خصوبة التربة ج) سهولة المواصلات د) وعورة السطح
- ٣٧ كبار الحرفيين في مصر قديماً كانوا ينتمون إلى الطبقة
 أ) الأولى ب) الثانية ج) الثالثة د) الرابعة
- ٣٨ كان يتولى رئاسة محكمة الموتى
 أ) ماعت ب) حورس ج) إيزيس د) أوزوريس
- ٣٩ " العودة للحياة مرة أخرى بعد الموت " تشير هذه العبارة إلى
 أ) البعث ب) الخلود ج) الحساب د) العقاب
- ٤٠ حكام الأقاليم قديماً كانوا ينتمون إلى الطبقة
 أ) الأولى ب) الثانية ج) الثالثة د) الرابعة



- ٤١ قام المصريين القدماء بالتحنيط عندما اعتقدوا في
 (أ) البعث والخلود (ب) حساب الموتى (ج) السمو الروح (د) تعدد الآلهة
- ٤٢ تنسب فكرة السمو إلى التوحيد عند القدماء المصريين إلى الملك
 (أ) نخاو الثاني (ب) سنوسرت الثالث (ج) أمنحتب الرابع (د) رمسيس الثاني
- ٤٣ من أسباب المشكلة السكانية في مصر تفضيل الذكور
 (أ) الشيوخ (ب) الأطفال (ج) الأفراد (د) الإناث
- ٤٤ تمثل فئة صغار السن في مصر نحو من السكان.
 (أ) النصف (ب) الربع (ج) الثلث (د) السدس
- ٤٥ النشاط الاقتصادي الذي يمثل ربع القوى العاملة في مصر
 (أ) الزراعة (ب) الصناعة (ج) التجارة (د) السياحة
- ٤٦ زيادة متوسط عمر الفرد وانخفاض الوفيات في مصر نتيجة الاهتمام بالرعاية
 (أ) الاجتماعية (ب) الصحية (ج) السياحية (د) الثقافية
- ٤٧ قامت الدولة ببذل الكثير من الجهود لمواجهة مشكلة الزيادة السكانية منها
 (أ) التشجيع على الإنجاب (ب) التشجيع على الزواج المبكر (ج) تنظيم الأسرة (د) إهمال الرعاية الصحية
- ٤٨ كان عيد ميلاده من الأعياد التي احتفل بها المصري القديم
 (أ) الملك (ب) الوزير (ج) حاكم الإقليم (د) كبير الكهنة
- ٤٩ أثناء عملية التحنيط كان يتم لف جسم المتوفى بلفائف مصنوعة من
 (أ) القطن (ب) البردي (ج) الكتان (د) الحرير
- ٥٠ انتشرت عبادة الإله في مملكة كوش بالسودان.
 (أ) أمون (ب) آتون (ج) ماعت (د) إيزيس
- ٥١ انتقلت عبادة المعبودة عشتار من إلى الحضارة المصرية القديمة.
 (أ) بلاد اليونان (ب) بلاد الرومان (ج) العراق (د) النوبة
- ٥٢ كبار الحرفيين في مصر القديمة كانوا ينتمون إلى الطبقة
 (أ) الأولى (ب) الثانية (ج) الثالثة (د) الرابعة
- ٥٣ الفئة التي تصنف على أنها فئة غير منتجة هي
 (أ) سن العمل (ب) صغار السن (ج) الشباب (د) متوسطو السن



كانت الريشة في ميزان العدالة بمحكمة الموتى رمزاً للإلهة في مصر القديمة.

حورس (أ) إيزيس (ب) ماعت (ج) عشتار (د)

عملية التحنيط عند المصريين القدماء كانت تستغرق يوماً

50 (أ) 60 (ب) 70 (ج) 80 (د)

ضع علامة صح أو خطأ أمام العبارات التالية

السؤال الثاني

✗

١ محافظة الإسكندرية من المحافظات الطاردة للسكان.

✗

٢ تعد مصر من أحدث الدول في إجراء التعدادات السكانية.

✓

٣ يعيش معظم سكان مصر علي ضفاف نهر النيل بمحافظات الوادي والدلتا.

✗

٤ تظهر العشوائيات نتيجة الهجرة الخارجية.

✓

٥ تعد محافظة القاهرة من المحافظات الجاذبة للسكان.

✗

٦ تحتل مصر المرتبة الثالثة عالمياً من حيث عدد السكان.

✓

٧ يحدث النمو السكاني نتيجة للزيادة الطبيعية والهجرة.

✗

٨ يتوزع السكان بشكل متساوي علي أرض مصر.

✓

٩ محافظة البحر الأحمر من المحافظات نادرة السكان.

✗

١٠ تعد محافظة الوادي الجديد من المحافظات المصرية الجاذبة للسكان.

✗

١١ سهولة المواصلات من العوامل الطبيعية لندرة السكان.

✓

١٢ تأتي مصر في المرتبة الثالثة إفريقيا من حيث عدد السكان .

✗

١٣ تؤدي الهجرة إلي قلة الكثافة السكانية في المناطق المستقبلية للسكان.

✓

١٤ يتسم الهرم السكاني لمصر بالقاعدة العريضة.

✗

١٥ التركيب النوعي هو تقسيم السكان حسب الفئات العمرية.

✗

١٦ تتساوى قاعدة الهرم السكاني في مصر مع قمته.

✓

١٧ يساعد الهرم السكاني في تحديد احتياجات الفئات العمرية المختلفة.

✓

١٨ تصنيف السكان إلي ذكور و إناث يعرف باسم التركيب النوعي.

✓

١٩ اتخذ الملك أمنحتب الرابع القمر رمزاً لاله أتون.

✓

٢٠ يعد كبار السن أقل نسبة للفئات العمرية في الهرم السكاني المصري.

✗

٢١ تضم الفئات المنتجة كلا من الأطفال وكبار السن.

✓

٢٢ يساعد الهرم السكاني في تحديد احتياجات الدولة من تعليم وصحة و مرافق .



- ٣٣ نسبة الذكور في مصر أقل من نسبة الإناث.
- ٣٤ توجد فئة صغار السن في قمة الهرم السكاني لمصر.
- ٣٥ مارس المصريون القدماء رياضة المصارعة.
- ٣٦ أحد أسباب الزيادة السكانية الزواج المبكر.
- ٣٧ يزداد انجاب الأطفال في الحضر عن الريف.
- ٣٨ تتوسع الدولة في مشروعات التنمية وبناء المدن الجديدة.
- ٣٩ تؤدي الزيادة السكانية إلي زيادة نصيب الفرد من الموارد.
- ٤٠ تؤثر الزيادة السكانية ايجابيا علي الموارد والبيئة.
- ٤١ تحسن الرعاية الصحية أدي لارتفاع معدل وفيات الأطفال.
- ٤٢ مشكلة الزيادة السكانية تؤدي إلي الضغط علي الخدمات.
- ٤٣ كان للمرأة المصرية دور سلبي في المشاركة في الحياة السياسية قديما وحديثا.
- ٤٤ تشابهت طبقات المجتمع في مصر قديما.
- ٤٥ كان المجتمع المصري القديم ينقسم إلي خمس طبقات.
- ٤٦ اعتاد المصري القديم علي استخدام العديد من أدوات الزينة مثل العطور والأساور.
- ٤٧ صنعت ملابس عامة الشعب المصري القديم من الحرير.
- ٤٨ تحتل المرأة مكانة كبيرة في مصر في الوقت الحاضر.
- ٤٩ صنعت ملابس الملك والأغنياء قديما من الحرير و الكتان عاي الجودة.
- ٥٠ مارس المصريون القدماء رياضة كرة القدم.
- ٥١ شيد الملك أمنحتب الرابع مدينة أخيتاتون لتكون عاصمة له.
- ٥٢ ترجع لعبة التحطيب إلي المصريين القدماء.
- ٥٣ اهتم المصريون القدماء بالعزف و الغناء.
- ٥٤ كانت مصر القديمة تتكون من 24 اقليما.
- ٥٥ يعد أوزوريس إله الموتى عند المصريين القدماء.
- ٥٦ حفظ المصريون القدماء جثث موتاهم عن طريق التحنيط.
- ٥٧ كان لكل أقاليم مصر معبود واحد.
- ٥٨ اتخذ المصريون القدماء معبوداتهم من الطبيعة.
- ٥٩ اعتقد المصري القديم في الثواب والعقاب بعد الموت.



أكمل العبارات التالية بالاجابة المناسبة

السؤال الثالث

١

(الاولى - العشوائيات - الهجرة - الكثافة السكانية - الزيادة الطبيعية - الثالثة)

تعتبر النسبة بين عدد السكان و مساحة الأرض التي يعيشون عليها عن..... **الكثافة السكانية**.... تأتي مصر في المرتبة..... **الثالثة**.....إفريقيا من حيث عدد السكان.

يحدث النمو السكاني في أي دولة نتيجة للزيادة الطبيعية و..... **الهجرة**.....

الفرق بين أعداد المواليد و أعداد الوفيات يسمى..... **الزيادة الطبيعية**.....

تؤدي الهجرة الداخلية إلي ظهور..... **العشوائيات**.....

٢

(تنظيم الأسرة - الزيادة الطبيعية والهجرة - النوعي - الموارد المتاحة - العريضة)

الهرم السكاني لمصر يتسم بالقاعدة..... **العريضة**.....

تصنيف السكان إلي ذكور و إناث يعرف باسم التركيب..... **النوعي**.....

تحدث المشكلة السكانية عندما يزداد عدد السكان عن..... **الموارد المتاحة**.....

انخفض عدد المواليد في مصر بسبب..... **تنظيم الأسرة**.....

ارتفاع معدل النمو السكاني يحدث بسبب..... **الزيادة الطبيعية والهجرة**.....

٣

(ثلاثة - الموارد المتاحة - السكان - الأسرة - الأطفال - أربعة)

يتم بناء المدن الجديدة لإعادة توزيع..... **السكان**.....

كان المجتمع المصري ينقسم إلي..... **أربعة**.....طبقات.

أصدرت الدولة قوانين تمنع عمالة..... **الأطفال**.....

بذلت الدولة جهودا عديدة لحل مشكلة الزيادة السكانية، منها تنظيم..... **الأسرة**.....

مشكلة الزيادة السكانية تؤدي لنقص نصيب الفرد من..... **الموارد المتاحة**.....

٤

(الحرير - المصارعة - الموارد - الكتان - السنت)

تظهر مشكلة الزيادة السكانية عندما يزيد عدد السكان عن..... **الموارد**.....

صنعت ملابس عامة الشعب عند المصريين القدماء من..... **الكتان**.....

إحدى ألعاب التفكير عند المصريين القدماء..... **السنت**.....

من الألعاب الرياضية في مصر قديما..... **المصارعة**.....

صنعت ملابس الملوك و الأغنياء في مصر قديما من الكتان عالي الجودة و..... **الحرير**.....



0

(آتون - الشمس - التحنيط - أمون - ماعت)

رمز الملك أمنحتب الرابع الإله آتون بقرص..... الشمس.....

حفظ جسد الإنسان المتوفي بعد الموتى يسمى..... التحنيط.....

اتخذت مملكة كوش الإله..... آمون..... من الحضارة المصرية.

سميت إلهة الحق و العدل عند المصريين القدماء ب..... ماعت.....

دعا الملك أمنحتب الرابع إلي عبادة الإله..... آتون.....

١

٢

٣

٤

٥

اكتب ما تشير اليه العبارات التالية

السؤال الرابع

الجهاز المركزي للتعبئة
العامة والإحصاء

الكثافة السكانية

الهجرة الداخلية

الهجرة

الزيادة الطبيعية

مصر

الهرم السكاني

البعث

الخلود

أخيتاتون

التحنيط

ماعت

الأم

أمنحتب الرابع

أزوريس

آمون

الجهاز المسئول عن إجراء التعداد السكاني لمصر.

النسبة بين عدد السكان و مساحة الأرض التي يعيشون عليها.

انتقال الأفراد من محافظة لأخرى داخل الدولة.

انتقال الأفراد من مكان لآخر.

الفرق بين المواليد و الوفيات في فترة معينة.

دولة تحتل المرتبة الثالثة إفريقيا من حيث عدد السكان.

رسم بياني يوضح توزيع السكان من حيث التركيب العمري و النوعي.

الحياة مرة أخرى بعد الموت.

العيش حياة أبدية لا موت بعدها.

مدينة اتخذها الملك أمنحتب الرابع مركزا لعبادة الإله آتون.

حفظ جسد المتوفي بعد الموت.

إلهة الحق و العدل عند المصريين القدماء.

تشرف على أعمال المنزل في مصر القديمة.

دعا إلى عبادة الإله آتون.

رئيس محكمة الموتى عند المصريين القدماء

إله انتقلت عبادته إلى مملكة كوش في السودان.

١

٢

٣

٤

٥

٦

٧

٨

٩

١٠

١١

١٢

١٣

١٤

١٥

١٦



- إيزيس ١٧ معبودة انتقلت عبادتها إلى حضارة اليونان والرومان القديم.
- عشتار ١٨ معبودة انتقلت عبادتها من العراق القديم إلى مصر.
- الأواني الكانوبية ١٩ الأواني التي كانت توضع بها أحشاء المتوفي أثناء عملية التحنيط.
- هجرة خارجية ٢٠ انتقال الأفراد بين مصر وخارجها.
- القاهرة والإسكندرية ٢١ أكثر محافظات مصر جذباً للسكان.
- تركيب نوعي ٢٢ تقسيم السكان حسب النوع إلى ذكور وإناث
- تركيب عمري ٢٣ تقسيم السكان حسب الفئات العمرية.
- تركيب اقتصادي ٢٤ تصنيف السكان حسب النشاط الاقتصادي الذي يمارسونه.
- كبار السن ٢٥ فئة عمرية تمثل نحو 5.4 % من جملة السكان.
- الزراعة ٢٦ أكبر الأنشطة الاقتصادية الذي يمارسها السكان.
- الطبقة الثانية ٢٧ طبقة اجتماعية تضم كبار الكهنة والكتبة.

أجب عن الاسئلة الآتية

السؤال الخامس

- ١ بم تفسر: ارتفاع النمو السكاني في مصر.
بسبب الزيادة الطبيعية والهجرة
- ٢ بم تفسر: هجرة السكان من مكان لآخر؟
للبحث عن فرص عمل - للبحث عن فرصة تعليم أفضل - لتحسين مستوى المعيشة
- ٣ بم تفسر: ارتفاع الكثافة السكانية في محافظات في محافظات الوادي و الدلتا؟
بسبب : توافر المياه العذبة والتربة الخصبة - استواء السطح - توافر الخدمات - سهولة المواصلات
- ٤ بم تفسر: الهرم السكاني لمصر ذو قاعدة عريضة؟
بسبب ارتفاع معدل المواليد
- ٥ قارن بين: فئة صغار السن و كبار السن من حيث التشابه و الاختلاف.
التشابه : الاثنان فئات غير منتجة وتحتاج إلى رعاية
الاختلاف : فئة صغار سن تحتل قاعدة الهرم وتساوي نحو ثلث السكان - فئة كبار السن تحتل قمة الهرم
- ٦ بم تفسر ظهور مشكلة الزيادة السكانية في مصر؟
بسبب : الزواج المبكر - كثرة الانجاب خاصة في الريف - تحسن الرعاية الصحية - تفضيل الذكور على الإناث
- ٧ بم تفسر: انخفاض أعداد المواليد في مصر؟
بسبب : ارتفاع وعي الشباب بضرورة تنظيم الأسرة - الحد من ظاهرة الزواج المبكر



٨ اكتب نتيجة واحدة ترتبت علي: توفر المياه العذبة و التربة الخصبة في بعض محافظات مصر.

تركز السكان وزيادة الكثافة السكانية في هذه المحافظات.

٩ بم تفسر: أهمية دراسة الهرم السكاني؟

تساعد بيانات الهرم السكاني على تقدير الاحتياجات المختلفة لكل فئة عمرية في الحاضر

والمستقبل من : تعليم وصحة ومرافق وخدمات وفرص عمل

١٠ فسر: يتوقع زيادة نسبة كبار السن مستقبلا.

بسبب تحسن الرعاية الصحية

١١ اكتب نتيجة واحد: لتقدم الرعاية الطبية في مصر.

تراجع معدلات الوفيات خاصة بين الأطفال - زيادة نسبة فئة كبار السن مستقبلا

١٢ اكتب نتيجة واحدة: للزيادة السكانية في مصر بالنسبة إلي الموارد والمشروعات.

نقص نصيب الفرد من الموارد - إعاقة مشروعات التنمية

١٣ ما دورنا كأفراد في: حل مشكلة الزيادة السكانية.؟

ترشيد استهلاك الموارد - تنظيم الأسرة

١٤ ما النتائج المترتبة علي تفضيل الذكور عن الإناث؟

مما يدفع بعض الأسر إلي الاستمرار في الإنجاب أكثر ويترتب عليه حدوث مشكلة الزيادة السكانية

١٥ ما العلاقة بين الزيادة السكانية و التلوث؟

مشكلة الزيادة السكانية يترتب عليها زيادة نسبة التلوث

١٦ اكتب اثنين من جهود الدولة لمواجهة المشكلة السكانية.

توفير وسائل تنظيم الأسرة - إصدار القوانين التي تجرم عمالة الأطفال والزواج المبكر

١٧ اكتب سببا واحدا: لاستمرار بعض الأسر في الإنجاب حتى تنجب الذكور.

حدوث مشكلة الزيادة السكانية

١٨ بم تفسر: اختلاف الملابس في مصر القديمة؟

بسبب اختلاف طبقات المجتمع

١٩ دلل علي: تكون المجتمع المصري قديما من عدة طبقات.

حيث تكون المجتمع المصري القديم من أربع طبقات

٢٠ حدد: اثنين من أدوات الزينة عند المصريين القدماء.

الأساور - القلائد - الشعر المستعار - الكحل - العطور

٢١ اكتب دليلا واحدا علي: اختلاف ملابس المصريين القدماء تبعا لطبقات المجتمع.

حيث صنعت ملابس عامة الشعب من الكتان - وصنعت ملابس الأغنياء والملوك من الكتان عالي الجودة

والحرير المطرز بالذهب والفضة والأحجار الكريمة



٢٢

بم تفسر: أهمية دور الأب في المجتمع المصري القديم؟

رعاية أفراد الأسرة - توفير كل ما تحتاجه الأسرة

٢٣

بم تفسر: أهمية دور المرأة في الأسرة المصرية القديمة؟

٢٤

تقوم برعاية الأبناء - تشرف على أعمال المنزل - تعمل خارج المنزل في عدة مجالات منها الزراعة والطب والتجارة

دلل: تمتعت المرأة المصرية بمكانة كبيرة عند المصريين القدماء.

٢٥

حيث كان لها الحق الميراث والتملك والبيع والشراء وتولت العديد من المناصب منها: ملكة وقاضية ووزيرة وكاهنة وكاتبة

وضح العلاقة بين التحنيط و الحياة الدينية عند المصريين القدماء.

٢٦

قام المصريون القدماء بتحنيط جثث موتاهم بسبب اعتقادهم في البعث والخلود

ما النتائج المترتبة على: دعوة الملك أمنحتب الرابع إلى توحيد الآلهة؟

٢٧

أطلق على نفسه اسم اخناتون - بنى عاصمة اخيتاتون لتكون مقراً لعبادة الإله آمون

اكتب دليلاً على: اعتقاد المصريين في البعث و الخلود.

٢٨

حيث قاموا بتحنيط جثث موتاهم

بم تفسر: تعدد الآلهة عند المصريين القدماء؟

٢٩

بسبب انقسام مصر إلى 42 إقليم فكان لكل إقليم معبود خاص به

بم تفسر: قيام المصريين القدماء بعملية التحنيط؟

٣٠

بسبب اعتقادهم في البعث والخلود

بم تفسر: شيد إخناتون مدينة أخيتاتون؟

لتكون عاصمة للبلاد ومقراً لعبادة الإله أتون

أكتب مدلول الأرقام علي الخريطة

السؤال السادس

١

١ محافظة صحراوية..... البحر الأحمر....

١

٢ قناة السويس

٢

٣ محافظة ذات كثافة سكانية منخفضة

٣

.... الوادي الجديد.....

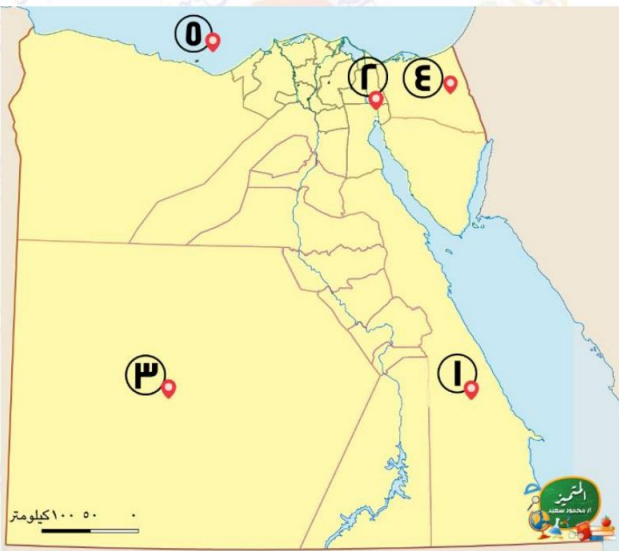
٤ محافظة يندر بها السكان..... شمال

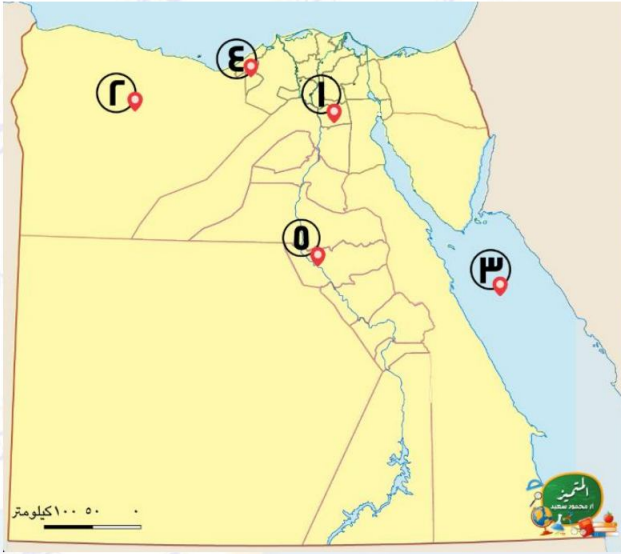
٤

..... سيناء.....

٥ البحر المتوسط.....

٥





يشير رقم 1 إلي مدينة مزدحمة جدا بالسكان.....
القاهرة.....

يشير رقم 2 إلي محافظة ينذر بها السكان.....
مطروح.....

يشير رقم 3 إلي البحر..... الأحمر..

يشير رقم 4 لمحافظة جاذبة للسكان
الإسكندرية.....

منطقة تركيز سكاني ... الوادي

٢

١

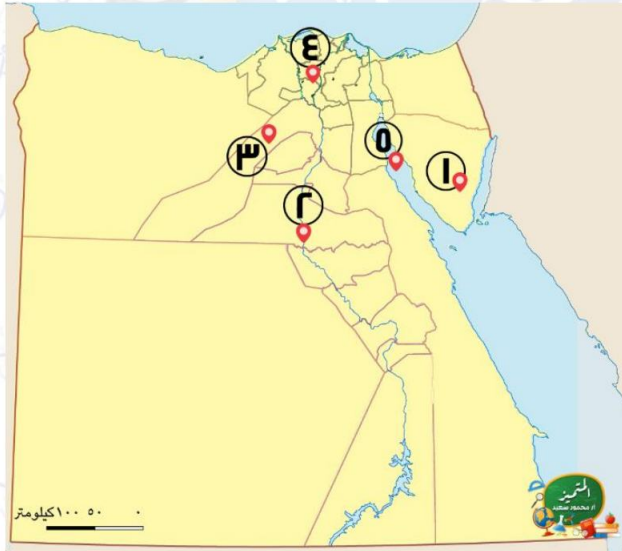
٢

٣

٤

٥

٣



أقل محافظات مصر سكان جنوب سيناء.....

نهر النيل

محافظة جاذبة للسكان الجيزة.....

منطقة تركيز سكاني الدلتا.....

خليج السويس

١

٢

٣

٤

٥

انتهت الأسئلة مع أطيب الامنيات بالنجاح والتوفيق

