

سندباد

مراجعة شهر فبراير

الفصل الدراسي الثاني

الدراسات
الاجتماعية

الصف
الخامس
الابتدائي

5



بنك أسئلة الوحدة الأولى

أكمل العبارات الآتية بما يناسبها:

- ١ تحتل مصر المرتبة _____ إفريقيًا والمرتبة _____ عالميًا من حيث عدد السكّان.
- ٢ الزيادة الطبيعية هي الفرق بين _____ و _____ في فترة معينة.
- ٣ تُؤدّي الهجرة إلى زيادة الكثافة _____ والضغط على _____ وظهور _____
- ٤ تزيد الكثافة السكانية في مصر بمحافظات _____ و _____
- ٥ هي النسبة بين عدد السكّان ومساحة الأرض التي يعيشون عليها.
- ٦ التركيب النوعي يُصنّف السكّان إلى _____ و _____ بينما التركيب _____ يُصنّف السكّان حسب الفئات العمرية.
- ٧ الهرم السكّاني لمصر يتميز بالقاعدة العريضة التي تتكوّن من _____ السن الذين يمثلون نحو _____ السكان.
- ٨ من المتوقع أن تزداد نسبة _____ السن نتيجة زيادة مستوى الرعاية الصحية والاجتماعية.
- ٩ الهرم السكّاني يساعدنا في تقدير احتياجات السكان من _____ و _____
- ١٠ الفئة المنتجة في الهرم السكّاني لمصر توجد في _____ الهرم.
- ١١ من أسباب الزيادة السكّانية في مصر هي الزواج _____ وكثرة _____ وتفضيل _____ على الإناث.
- ١٢ الزيادة السكّانية تؤدي إلى زيادة استهلاك _____
- ١٣ أصدرت الدولة عدة قوانين تُجرّم _____ و _____
- ١٤ بناء المدن الجديدة واستصلاح الصحراء يؤدي إلى _____
- ١٥ تُؤدّي مشكلة الزيادة السكّانية إلى إعاقة _____
- ١٦ كان المجتمع المصري القديم ينقسم إلى _____ طبقات.
- ١٧ كانت الطبقة الثانية تتمثّل في الوزير وكبار _____ وحكام _____ وقادة الجيش.
- ١٨ اتسمت الحياة الأسرية عند المصري القديم بـ _____ و _____ بين جميع أفراد الأسرة.
- ١٩ كان الأب يرفع أفراد _____ ويؤفّر لهم _____
- ٢٠ تولت المرأة المصرية القديمة مناصب عليا في الدولة مثل _____ و _____ و _____
- ٢١ مارس المصريون القدماء ألعاب رياضية مثل _____ و _____ وألعاب التفكير مثل لعبة _____ (الشطرنج حاليًا).
- ٢٢ كانت ملابس عامة الشعب تُصنع من _____ أما ملابس الملك والأغنياء تُصنع من _____ عالي الجودة أو _____
- ٢٣ الإله آتون يرمز إلى قرص _____ ويوجد معبده في مدينة _____
- ٢٤ اتخذ المصريون القدماء معبوداتهم من الطبيعة مثل _____ و _____ و _____
- ٢٥ كانت مصر مُقسّمة إلى _____ إقليم ولكل إقليم _____ خاص به.

- ٢٦ دعا الملك _____ إلى عبادة إله واحد وهو _____ وأطلق على نفسه اسم _____ أي المخلص للإله آتون.
- ٢٧ تم تشييد مدينة أخيتاتون لتكون _____ ومركز لعبادة _____
- ٢٨ هو عملية حفظ جسد المتوفى بعد الموت.
- ٢٩ إله الموتى هو _____ بينما إلهة الحق والعدل هي _____
- ٣٠ هو العودة للحياة بعد الموت، بينما _____ هو حياة أبدية لا موت بعدها.

٢ اكتب كلمة (صح) أمام العبارة الصحيحة وكلمة (خطأ) أمام العبارة غير الصحيحة:

- ١ () الجزائر هي أقدم الدول العربية التي أجرت تعداد سكاني.
- ٢ () تأتي مصر في المرتبة الـ ١٤ إفريقياً من حيث عدد السكان.
- ٣ () يحدث النمو السكاني نتيجة الزيادة الطبيعية فقط.
- ٤ () الزيادة الطبيعية هي الفرق بين المواليد والوفيات.
- ٥ () من المحافظات الجاذبة للسكان في مصر القاهرة والإسكندرية.
- ٦ () ينقسم الهرم السكاني إلى ذكور وإناث.
- ٧ () الفئة التي تعول كبار السنّ وصغار السنّ توجد في قمة الهرم.
- ٨ () تساعدنا بيانات الهرم السكاني في تحديد احتياجاتنا من تعليم وصحة وغيرها.
- ٩ () يُؤدّي الاهتمام بالرعاية الصحية والاجتماعية إلى زيادة نسبة كبار السنّ.
- ١٠ () تُؤدّي الزيادة السكانية إلى النهوض بمشروعات التنمية.
- ١١ () يجب علينا ترشيد استهلاك الموارد وتنظيم الأسرة.
- ١٢ () تحدث الزيادة السكانية بسبب الزواج المُبكر وكثرة الإنجاب خاصة في المدن.
- ١٣ () أصدرت الدولة قوانين تُشجّع الزواج المُبكر وعمالة الأطفال.
- ١٤ () تُؤدّي الزيادة السكانية إلى الضغط على الخدمات وزيادة النفقات وتلوث البيئة.
- ١٥ () تَمَثَّلَت الطبقة الأولى من المجتمع المصري القديم في الوزير وكبار الكهنة.
- ١٦ () كان العاملين في الزراعة والرعي والصيد وصغار الحرفيين يمثلون قاعدة الهرم الاجتماعي في مصر القديمة.
- ١٧ () حرم المصريون القدماء المرأة من حقها في الميراث والبيع والشراء.
- ١٨ () من الأعياد المصرية القديمة عيد ميلاد الملك وتولية العرش والفيضان والحصاد وشم النسيم.
- ١٩ () تشابهت الملابس في مصر القديمة بين طبقات المجتمع.
- ٢٠ () لم يحرص المصري القديم على استخدام أدوات الزينة مثل: الأساور والقلائد والعطور والشعر المستعار.
- ٢١ () اتخذ المصري القديم معبودات من الطبيعة مثل: الصقر والنسر والبقرة.
- ٢٢ () دعا «توت عنخ آمون» إلى عبادة إله واحد «آتون».
- ٢٣ () اهتم المصري القديم بالتحنيط لاعتقاده في البعث والخلود.
- ٢٤ () اعتقد المصري القديم أنه سيقف أمام محكمة مكونة من ٢٤ قاضيًا يمثلون أقاليم مصر.
- ٢٥ () الريشة التي توضع في ميزان العدالة تَمَثَّلُ الإلهة إيزيس.
- ٢٦ () محاكمة الموتى كان يترأسها الإله أوزوريس إله الموت.

٣ اختر الإجابة الصحيحة مما بين القوسين:

- ١ الفرق بين عدد المواليد والوفيات في فترة مُعيّنة يُطلق على
(الزيادة الطبيعية - الهجرة - النمو السكاني - الكثافة السكانية)
- ٢ تُعد مدينة من أكثر المدن في مصر ازدحاماً بالسكان. (العريش - مرسى مطروح - أسوان - القاهرة)
- ٣ يقوم الجهاز المركزي للتعبئة والإحصاء في مصر بـ
(إنشاء المدارس - التعدادات السكانية - إنشاء المستشفيات - إنشاء المدن)
- ٤ يقل عدد السكان في محافظة
(الوادي الجديد - الجيزة - القاهرة - الإسكندرية)
- ٥ رسم بياني لتوزيع السكان من حيث التركيب العمري والنوعي يُطلق على
(الكثافة السكانية - الزيادة الطبيعية - النمو السكاني - الهرم السكاني)
- ٦ تمثل فئة كبار السنّ الهرم السكاني. (قاعدة - وسط - قمة - الجانب الأيمن)
- ٧ النشاط الزراعي في مصر يُمارسه القوى العاملة في مصر. (كل - ربع - نصف - ثلث)
- ٨ تقسيم السكان إلى ذكور وإناث يُطلق على
(التركيب الاقتصادي - التركيب العمري - النمو السكاني - التركيب النوعي)
- ٩ تدل القاعدة العريضة في الهرم السكاني على
(ارتفاع معدل الوفيات - ارتفاع معدل المواليد - ارتفاع معدل الشباب - ارتفاع معدل كبار السن)
- ١٠ يدلُّ تحسين الرعاية الصحية في مصر على انخفاض معدل
(الوفيات - المواليد - الهجرة - الكثافة السكانية)
- ١١ أصدرت الدولة قوانين تُجرّم لمواجهة الزيادة السكانية. (الزواج المُبكر - بناء المدن الجديدة - الزراعة - تلوث الهواء)
- ١٢ عندما يزداد عدد السكان عن الموارد المتاحة تظهر
(الكثافة السكانية - المشكلة السكانية - الهرم السكاني - التعداد السكاني)
- ١٣ انقسم المجتمع المصري القديم إلى طبقات. (ثلاث - أربع - خمس - ست)
- ١٤ بيت الحياة في مصر القديمة يُطلق على
(المقبرة - المعبد - المنزل - المدرسة)
- ١٥ دعا الملك على عبادة الإله آتون. (أمنحتب الرابع - رمسيس الثاني - أحمس - خوفو)
- ١٦ احتفل المصري القديم بالأعياد مثل عيد
(شم النسيم - الأضحى - الفطر - تحرير سيناء)
- ١٧ كانت ملابس عامة الشعب في مصر القديمة تُصنع من
(الصوف - القطن - الجلود - الكتان)
- ١٨ أنشأ الملك إخناتون مدينة لتكون عاصمة البلاد. (طيبة - منف - أخيتاتون - بوتو)
- ١٩ أخذت مملكة عبادة الإله آمون من الحضارة المصرية القديمة. (كوش - بونت - العراق - فينيقيا)
- ١٩ نتيجة اعتقاد المصري القديم في البعث والخلود قام بـ
(بناء المعابد - التحنيط - التجارة - الصناعة)

٤ اكتب ما تشير إليه كل عبارة مما يلي:

- ١ دولة تحتل المركز الثالث إفريقياً وال ١٤ عالمياً من حيث عدد السكان. ()
- ٢ هي الفرق بين المواليد والوفيات في فترة معينة. ()
- ٣ هي النسبة بين عدد السكان ومساحة الأرض التي يعيشون عليها. ()

- ٤ رسم بياني يوضح توزيع السكّان من حيث النوع والعمر وغيرها من خصائص السكّان.
- ٥ تصنيف السكّان إلى ذكور وإناث.
- ٦ توزيع السكّان حسب الفئات العمرية.
- ٧ هي قاعدة الهرم السكّاني في مصر وتمثل ثلث السكان.
- ٨ فئة تقع في منتصف الهرم السكّاني وهم في سن العمل.
- ٩ فئة من المتوقع أن تزداد في المستقبل لزيادة الرعاية الصحية والاجتماعية.
- ١٠ زيادة عدد السكّان بنسبة أكبر من الموارد والخدمات المتاحة.
- ١١ طبقة اجتماعية عند المصري القديم كانت تشمل الوزير والكهنة والكتبة.
- ١٢ مكان كان يتعلم فيه المصريون القدماء القراءة والكتابة والعلوم المختلفة.
- ١٣ كانت محل احترام وتقدير من المجتمع ولها حق الميراث والبيع والشراء.
- ١٤ من ألعاب التفكير عند المصري القديم وتشبه الشطرنج حالياً.
- ١٥ صنع عامة الشعب في مصر القديمة ملابسهم منه.

٥ ما المقصود ب...؟

- ١ الزيادة الطبيعية
- ٢ الكثافة السكّانية
- ٣ الهرم السكّاني
- ٤ التركيب العمري
- ٥ المشكلة السكّانية
- ٦ التركيب النوعي
- ٧ بيت الحياة
- ٨ السن
- ٩ التركيب الاقتصادي
- ١٠ الهجرة الداخلية
- ١١ الهجرة الخارجية
- ١٢ البعث
- ١٣ الخلود
- ١٤ التّحنيط

٦ صوّب ما تحته خط:

- ١ تأتي مصر في المرتبة الأولى إفريقيًا من حيث عدد السكّان.
- ٢ يحدث النمو السكّاني نتيجة الزيادة الطبيعية والبطالة.
- ٣ ارتفع معدل الوفيات في مصر نتيجة التقدم الطبي والرعاية الصحية.
- ٤ من محافظات مصر الجاذبة للسكّان القاهرة ومطروح.
- ٥ يختلف شكل الهرم السكّاني من دولة لأخرى تبعًا للكثافة السكانية.
- ٦ من الفئات المنتجة في مصر صغار السن وكبار السن.
- ٧ تُعاني مصر من الزيادة السكّانية بسبب الزواج المُبكر وقلة الإنجاب.
- ٨ قيام الدولة ببناء مدن جديدة يؤدي لزيادة المشكلة السكّانية.
- ٩ كان الفرعون وأسرته يمثلون الطبقة الثانية.
- ١٠ مارس المصري القديم ألعاب التفكير مثل: لعبة المصارعة.
- ١١ دعا الملك أمنحتب الرابع (إخناتون) إلى عبادة الإله أمون.
- ١٢ المقايضة هي حفظ جسد المتوفى بعد الموت.
- ١٣ كان على رأس محاكمة الموتى الإله رع إله الموتى.
- ١٤ كانت الإلهة إيزيس هي إلهة الحق والعدل.

٧ **بم تُفسّر...؟**

- ١ النمو السكاني السريع في مصر.
- ٢ انخفاض مُعدّل المواليد في مصر.
- ٣ انخفاض مُعدّل الوفيات في مصر.
- ٤ هجرة السكّان من مكان إلى آخر.
- ٥ زيادة الكثافة السكانية في الوادي والدلتا.
- ٦ قلة السكّان في محافظات الحدود المصرية.
- ٧ اتساع قاعدة الهرم السكاني في مصر.
- ٨ زيادة نسبة كبار السنّ في مصر.
- ٩ أهمية بيانات الهرم السكاني.
- ١٠ حدوث مشكلة الزيادة السكانية في مصر.
- ١١ حدوث الزيادة السكانية في الريف.
- ١٢ كان المجتمع المصري القديم مجتمعاً طبقيّاً.
- ١٣ اهتمام المصريين القدماء بتحنيط جثث موتاهم.
- ١٤ تعدّد الآلهة عند المصري القديم.
- ١٥ كانت محاكمة الموتى تتكون من ٤٢ قاضياً.

٨ **ما النتائج المترتبة على...؟**

- ١ زيادة الوعي لدى الشباب بتنظيم الأسرة.
- ٢ التقدم الطبي والرعاية الصحية في مصر.
- ٣ وجود فرص عمل وتحسين مستوى المعيشة في القاهرة والاسكندرية.
- ٤ زيادة الهجرة إلى المحافظات المستقبلية للسكّان.
- ٥ زيادة عدد السكّان بنسبة أكبر من الموارد والخدمات المتاحة.
- ٦ تحسين مستوى الرعاية الصحية في مصر.
- ٧ توسّع الدولة في بناء المدن الجديدة واستصلاح الصحراء.
- ٨ تولّى الملك أمنحتب الرابع (إخناتون) حكم مصر.
- ٩ اعتقاد المصريين القدماء في البعث والخلود.
- ١٠ تفضيل الذكور على الإناث في المناطق الريفية.

٩ **قارن بين:**

- ١ العوامل الطبيعية - العوامل البشرية المؤثرة في توزيع السكّان
- ٢ الهجرة الداخلية - الهجرة الخارجية
- ٣ الزيادة الطبيعية - الهجرة
- ٤ التركيب العمري - التركيب النوعي
- ٥ فئة صغار السن - فئة كبار السن

- ٦ دور الفرد - دور الدولة في مواجهة المشكلة السكانية
- ٧ دور الأب - دور الأم في مصر الفرعونية
- ٨ البعث والخلود من حيث التعريف
- ٩ مكانة المرأة المصرية حديثاً - وقديماً
- ١٠ ملابس عامة الشعب - ملابس الملك والأغنياء في مصر القديمة

١٠. دَلِّ على صحة العبارات الآتية:

- ١ يُؤثر زيادة الوعي بين الشباب على معدل المواليد؟
- ٢ للتقدم الطبي والرعاية الصحية أثر على معدل الوفيات؟
- ٣ تتعدد الأسباب التي تؤدي إلى هجرة السكان؟
- ٤ تعاني المناطق المستقبلية للسكان من مشكلة الهجرة؟
- ٥ تختلف الكثافة السكانية في الوادي والدلتا عن محافظات الحدود الصحراوية؟
- ٦ أهمية بيانات الهرم السكاني؟
- ٧ أهم فئات الهرم السكاني هي فئة منتصف الهرم؟
- ٨ تساعدنا بيانات الهرم السكاني في الحاضر والمستقبل؟
- ٩ تتعدد أسباب الزيادة السكانية في مصر؟
- ١٠ كان المجتمع المصري القديم طبقياً هرمي الشكل؟
- ١١ كان للأب والأم دور كبير في الأسرة المصرية القديمة؟
- ١٢ تولت المرأة في مصر القديمة العديد من المناصب العليا؟
- ١٣ اختلفت الملابس في مصر القديمة؟
- ١٤ كان للمصري القديم الكثير من الأعياد؟
- ١٥ اعتقاد المصريين القدماء في البعث والخلود؟
- ١٦ تعددت خصائص الحياة الدينية في مصر القديمة؟

١١. ما العلاقة بين ...؟

- ١ النمو السكاني في مصر - الزيادة الطبيعية والهجرة
- ٢ قاعدة الهرم السكاني في مصر - معدل المواليد
- ٣ نسبة كبار السن - الرعاية الصحية والاجتماعية
- ٤ بيانات الهرم السكاني - احتياجاتنا في المستقبل
- ٥ الأحوال الصحية - معدل وفيات الأطفال الرضع
- ٦ المشكلة السكانية - استصلاح الصحراء
- ٧ المصريون القدماء - الألعاب الرياضية
- ٨ مظاهر الطبيعة - الآلهة عند المصريين القدماء
- ٩ التحنيط - الاعتقاد في البعث والخلود
- ١٠ الملك امنحتب الرابع - التوحيد

١٢ ما رأيك في ...؟

- ١ تمسك المصريون القدماء بالعديد من القيم
- ٢ دور الفرد والدولة لحل مشكلة الزيادة السكانية
- ٣ بيانات الهرم السكاني بالنسبة للمستقبل
- ٤ دور المرأة في المجتمع المصري قديماً وحديثاً

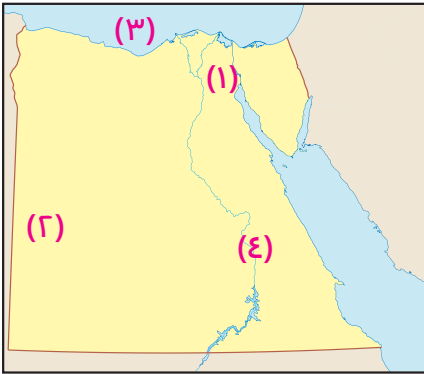
١٣ ما مقترحاتك لكل من ...؟

- ١ مشكلة الزيادة السكانية في مصر.
- ٢ حل مشكلة هجرة السكان من الريف إلى المدن.

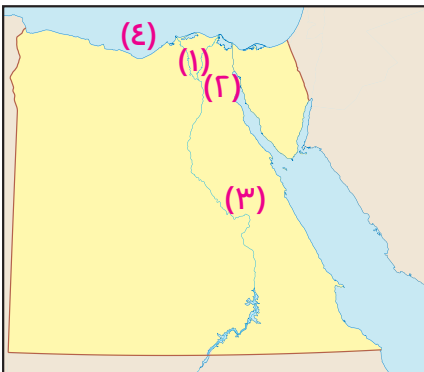
١٤ من يكون ...؟

- ١ كان يتولى رئاسة محكمة الموتى في مصر القديمة.
 - ٢ ملك مصري دعا إلى عبادة إله واحد رُمز له بقرص الشمس.
 - ٣ إلهة مصرية رُمز لها بالريشة وهي تُمثل إلهة الحق والعدل.
- ()
()
()

١٥ أمامك خريطة صماء لمصر وضع ما تدل عليه الأرقام الآتية:

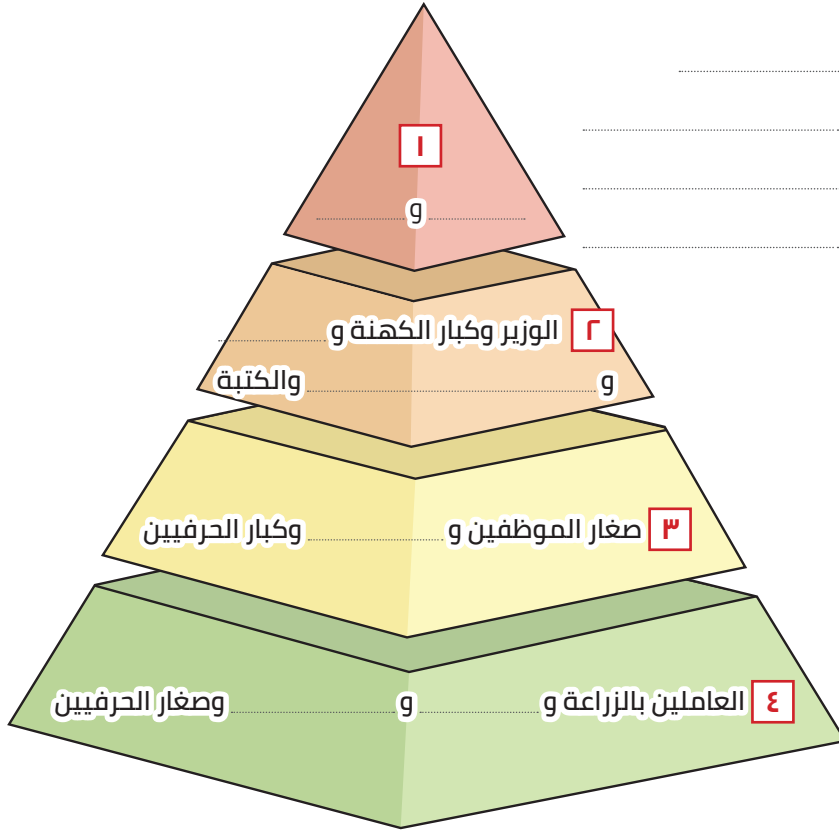


- أ
- ١ محافظة جاذبة للسكان
- ٢ محافظة يندر بها للسكان
- ٣ البحر
- ٤ وادي



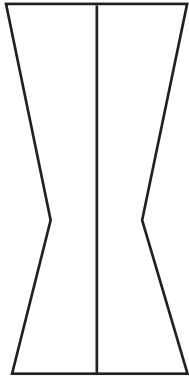
- ب
- ١ منطقة تركز سكاني
- ٢ مدينة ترتفع بها الكثافة السكانية
- ٣ نهر
- ٤ البحر

ج. أمامك هرم يمثل طبقات المجتمع المصري القديم، أكمل الفراغات:

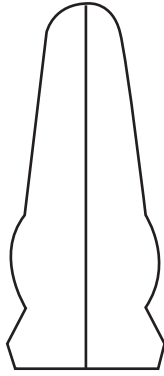


١ و
 ٢ و
 ٣
 ٤ و

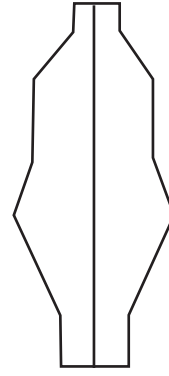
د. أي من الأشكال الآتية يُعبّر عن الهرم السكّاني لمصر عام ٢٠٢٢ م:



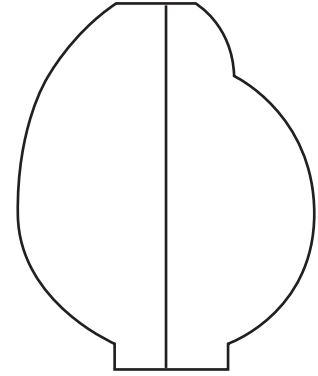
٤



٣



٢



١

ه. أمامك صورة لأحد ملوك مصر القديمة وضّح:

١ اسم هذا الملك

٢ اسم الإله الذي دعا لعبادته

٣ اسم المدينة التي بناها لعبادته



9 أمامك صورة تُوضِّح ميزان العدالة عند المصري القديم:



كان يُوضع في الكفة رقم (١)

بينما يوضع في الكفة رقم (٢)

تُمثِّل الإلهة ماعت

إذا كان رقم (١) أخف يكون الشخص

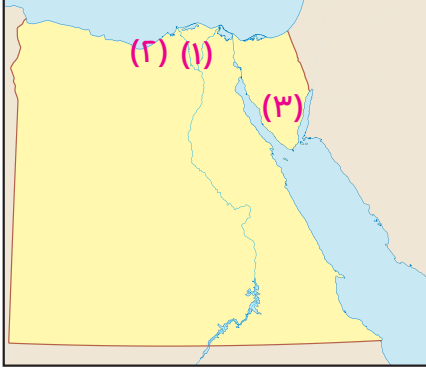
إذا كان رقم (٢) أخف يكون الشخص

نماذج الوحدة الأولى

نموذج (١)

٣ درجات

١ أمامك خريطة صماء لمصر وضع ما تدل عليه الأرقام الآتية:



- ١ منطقة تركز سكاني
- ٢ محافظة جاذبة للسكان
- ٣ محافظة يقل بها السكان

٣ درجات

٢ ما المقصود بـ...؟

- ١ الزيادة الطبيعية.
- ٢ كثافة السكان.
- ٣ التّحنيط.

٣ درجات

٣ صوّب ما تحته خط:

- ١ توجد فئة صغار السن في قمة الهرم السكاني لمصر.
- ٢ كانت المدرسة تعرف عند قدماء المصريين بأسم قصر العلم.
- ٣ صنع المصري القديم ملابسه من الألياف الصناعية.

٣ درجات

٤ بم تفسّر...؟

- ١ قيام المصري القديم بتحنيط جسد الميت.
- ٢ الزيادة السكانية في مصر.
- ٣ أهمية دراسة الهرم السكاني.

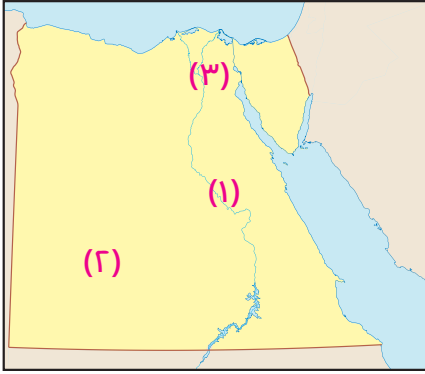
٣ درجات

٥ أذكر نتيجة واحدة لكلًا من:

- ١ الهجرة بين المحافظات.
- ٢ توسّع الدولة في بناء المدن الجديدة.
- ٣ زيادة عدد السكان في مصر.

نموذج (٢)

٣ درجات



١ أمامك خريطة صفاء لمصر، وضح ما تدل عليه الأرقام:

- ١ منطقة تركيز سكاني
- ٢ محافظة حدود صحراوية
- ٣ محافظة مزدهمة السكان

٣ درجات

٢ ما العلاقة بين ...؟

- ١ التحنيط والأعتقاد في البعث والخلود.
- ٢ عدد المواليد وشكل الهرم السكاني.
- ٣ خصوبة التربة وتوفير المياه وتركز السكان.

٣ درجات

٣ أكمل العبارات الآتية بكلمات مناسبة:

- ١ دعا الملك إلى عبادة آتون.
- ٢ كان هو إله الموتى عند قدماء المصريين.
- ٣ عندما يزيد عدد السكان عن تحدث المشكلة السكانية.

٣ درجات

٤ قارن بين:

- ١ الهجرة الداخلية والهجرة الخارجية.
- ٢ الأدب الديني والأدب القصصي.
- ٣ محافظة الإسكندرية ومحافظة شمال سيناء من حيث تركّز السكان.

٣ درجات

٥ أجب عما يلي:

- ١ فسّر: أسباب الزيادة السكانية في مصر.
- ٢ دلّل على: كان المجتمع المصرى القديم طبقياً هرمى الشكل.
- ٣ أذكر أهم الأعياد التي احتفل بها قدماء المصريين.

الإجابات النموذجية

بنك أسئلة الوحدة الأولى

أكمل العبارات الآتية بما يناسبها:

- | | | | |
|----|---------------------------------|----|------------------------------|
| ١ | الثالثة ، الرابعة عشر | ٢ | المواليد والوفيات |
| ٣ | السكانية ، الخدمات ، العشوائيات | ٤ | القاهرة - الإسكندرية |
| ٥ | الكثافة السكانية | ٦ | ذكور وإناث ، العمري |
| ٧ | صغار ، ثلث | ٨ | كبار |
| ٩ | تعليم - صحة | ١٠ | منتصف |
| ١١ | المبكر ، الإنجاب ، الذكور | ١٢ | الموارد |
| ١٣ | الزواج المبكر - عمالة الأطفال | ١٤ | حل المشكلة السكانية |
| ١٥ | مشروعات التنمية في الدولة | ١٦ | أربع |
| ١٧ | الكهنة ، الأقاليم | ١٨ | المشاركة والتعاون |
| ١٩ | أسرته ، احتياجاتهم | ٢٠ | ملكة - قاضية - كاهنة - كاتبة |
| ٢١ | السباحة والمصارعة ، السنن | ٢٢ | الكتان ، الكتان ، الحرير |
| ٢٣ | الشمس ، اختياتون | ٢٤ | النسر والصقر والبقرة |
| ٢٥ | ٤٢ ، معبود | | |
| ٢٦ | أمنحبت الرابع ، آتون ، إخناتون | ٢٨ | التحنيط |
| ٢٧ | عاصمة البلاد ، الإله آتون | ٣٠ | البعث ، الخلود |
| ٢٩ | أوزوريس ، ماعت | | |

اكتب كلمة (صح) وكلمة (خطأ):

- | | | | | | | | | | | | |
|----|-----|----|-----|----|-----|----|-----|----|-----|----|-----|
| ١ | خطأ | ٢ | خطأ | ٣ | خطأ | ٤ | صح | ٥ | صح | ٦ | صح |
| ٧ | خطأ | ٨ | صح | ٩ | صح | ١٠ | خطأ | ١١ | صح | ١٢ | خطأ |
| ١٣ | خطأ | ١٤ | صح | ١٥ | خطأ | ١٦ | صح | ١٧ | خطأ | ١٨ | صح |
| ١٩ | خطأ | ٢٠ | خطأ | ٢١ | صح | ٢٢ | خطأ | ٢٣ | صح | ٢٤ | خطأ |
| ٢٥ | خطأ | ٢٦ | صح | | | | | | | | |

اختر الإجابة الصحيحة مما بين القوسين:

- | | | | | | |
|----|------------------|----|----------------|----|----------------------|
| ١ | الزيادة الطبيعية | ٢ | القاهرة | ٣ | التعداد السكاني |
| ٤ | الوادي الجديد | ٥ | الهرم السكاني | ٦ | قمة |
| ٧ | ربع | ٨ | التركيب النوعي | ٩ | ارتفاع معدل المواليد |
| ١٠ | الوفيات | ١١ | إلى ٢٠ | ١٢ | أجب بنفسك |

اكتب ما تشير إليه كل عبارة مما يلي:

- | | | | | | |
|----|------------------------|----|------------------|----|------------------|
| ١ | مصر | ٢ | الزيادة الطبيعية | ٣ | الكثافة السكانية |
| ٤ | الهرم السكاني | ٥ | التركيب النوعي | ٦ | التركيب العمري |
| ٧ | فئة صغار السن | ٨ | فئة سن العمل | ٩ | فئة كبار السن |
| ١٠ | مشكلة الزيادة السكانية | ١١ | الطبقة الثانية | ١٢ | بيت الحياة |
| ١٣ | المرأة | ١٤ | السنن | ١٥ | الكتان |

ما المقصود بـ:

- | | |
|---|--|
| ١ | الزيادة الطبيعية: الفرق بين المواليد والوفيات في فترة معينة |
| ٢ | الكثافة السكانية: هي النسبة بين عدد السكان ومساحة الأرض التي يعيشون عليها |
| ٣ | الهرم السكاني: رسم بياني لتوزيع السكان من حيث التركيب العمري والتركيب النوعي |
| ٤ | التركيب العمري: هو تقسيم السكان حسب الفئة العمرية |
| ٥ | المشكلة السكانية: هي زيادة عدد السكان بنسبة أكبر من الموارد والخدمات المتاحة |

٦ التركيب النوعي: هو تقسيم السكان حسب النوع إلى (ذكور وإناث)

٧ بيت الحياة: هو مكان عند قدماء المصريين يذهب فيه الأبناء لتعلم القراءة والكتابة ودراسة العلوم المختلفة

٨ السنن: هي لعبة تفكير عند المصريين القدماء تشبه لعبة الشطرنج

٩ التركيب الاقتصادي: هو تقسيم السكان حسب الأنشطة الاقتصادية التي يقومون بها

١٠ الهجرة الداخلية: هي انتقال الأفراد بين محافظات مصر

١١ الهجرة الخارجية: هي انتقال الأفراد بين مصر ودول العالم

١٢ البعث: هو الحياة مرة أخرى بعد الموت

١٣ الخلود: هو عيش حياة أبدية لا موت بعدها

١٤ التحنيط: حفظ جسم المتوفي بعد الموت

٦ صوب ما تحته خط فيما يلي:

- | | | | | | |
|----|------------|----|---------------|----|-------------|
| ١ | الثالثة | ٢ | الهجرة | ٣ | أنخفض |
| ٤ | الإسكندرية | ٥ | النمو السكاني | ٦ | الغير منتجة |
| ٧ | كثرة | ٨ | لتقليل | ٩ | الأولى |
| ١٠ | السنن | ١١ | آتون | ١٢ | التحنيط |
| ١٣ | أوزوريس | ١٤ | ماعت | | |

٧ بم تفسر:

- | | |
|---|--|
| ١ | بسبب الزيادة الطبيعية والهجرة |
| ٢ | بسبب زيادة وعي الشباب بتنظيم الأسرة - والحد من ظاهرة الزواج المبكر |
| ٣ | بسبب التقدم الطبي والرعاية الصحية |
| ٤ | البحث عن فرص عمل تحسين مستوى المعيشة ومن أجل التعليم |
| ٥ | لوجود مياه عذبة وتربة خصبة وأستواء السطح وتوفر الخدمات |
| ٦ | بسبب ندرة المياه العذبة وعدم استواء السطح ونقص الخدمات |
| ٧ | بسبب زيادة معدل المواليد |
| ٨ | نتيجة زيادة مستوى الرعاية الصحية والاجتماعية |
| ٩ | يفيدنا في تقدير الاحتياجات المختلفة لكل فئة عمرية في الحاضر والمستقبل من |

تعليم وصحة ومرافق وفرص عمل

١٠ بسبب الزواج المبكر وكثرة الإنجاب خاصة في الريف وتفضيل الذكور

عن الإناث وتحسين الرعاية الصحية

١١ بسبب الزواج المبكر وكثرة الإنجاب

لأنه كان ينقسم إلى أربع طبقات

١٣ بسبب اعتقادهم في البعث والخلود

١٤ لأن مصر كانت مقسمة إلى ٤٢ إقليم ولكل إقليم معبود خاص به

وبعد أن توحدت هذه الأقاليم في المملكتين كان لكل مملكة معبود خاص

١٥ لأنهم كانوا يمثلون الاقاليم المصرية وعددها ٤٢ إقليم

٨ ما النتائج المترتبة على:

- | | |
|---|--|
| ١ | أنخفاض عدد المواليد في مصر |
| ٢ | أنخفاض عدد الوفيات في مصر وزيادة نسبة كبار السن |
| ٣ | أصبحت القاهرة والإسكندرية من المحافظات الجاذبة للسكان |
| ٤ | أدى ذلك إلى زيادة الضغط على الخدمات وظهور العشوائيات |
| ٥ | حدوث مشكلة الزيادة السكانية وبالتالي زيادة استهلاك الموارد ونقص نصيب الفرد منها والضغط على الخدمات |
| ٦ | أدى إلى تراجع معدل الوفيات الأطفال الرضع وزيادة متوسط عمر الفرد |

مكانة المرأة حديثاً	مكانة المرأة قديماً
- تولت المناصب العليا كوزيرة وقاضية كما تشارك في مجلس النواب ومجلس الشيوخ والعديد من الأحزاب السياسية	- تولت المناصب العليا في الدولة مثل: ملكة ووزيرة وكاتبة وكاهنة
- منحها الدستور المصري عام ٢٠١٤ العديد من الحقوق منها: المساواة مع الرجل في جميع الحقوق المدنية والسياسية والاقتصادية	- كان لها حق الميراث والبيع والشراء
- كما كفل لها حق تولي الوظائف العامة والوظائف الإدارية العليا في الدولة	- كانت محل احترام وتقدير من المجتمع

ملابس الملك والأغنياء	ملابس عامة الشعب
كانت تصنع من الكتان عالي الجودة أو الحرير المطرز بالذهب والفضة والأحجار الكريمة	كانت تصنع من الكتان

١٠. دلل على صحة العبارات الآتية:

١. حيث ان زيادة الأهتمام بتنظيم الأسرة أدى إلى انخفاض معدل المواليد في مصر
٢. أن التقدم الطبي والرعاية الصحية أدى إلى انخفاض عدد الوفيات في مصر
٣. البحث عن فرص عمل - وتحسين مستوى المعيشة ومن أجل التعليم
٤. لأنه يزيد الضغط على الخدمات وتظهر العشوائيات
٥. حيث تزيد الكثافة السكانية في الوادي والدلتا بينما تقل في محافظات الحدود الصحراوية
٦. أنها تفيدنا في تقدير الأحتياجات المختلفة لكل فئة عمرية في الحاضر والمستقبل من التعليم وصحة ومرافق وفرص عمل
٧. لأنها هي الفئة المنتجة التي تعول كبار السن وصغار السن
٨. لأننا من خلال بيانات الهرم السكاني نستطيع تقدير أحتياجات كل فئة عمرية من تعليم وصحة ومرافق وفرص عمل
٩. بسبب الزواج المبكر وكثرة الإنجاب خاصة في الريف وتفضيل الذكور عن الإناث وتحسين مستوى الرعاية الصحية
١٠. حيث إن المجتمع المصري قديماً كان يتكون من أربع طبقات
١١. الأب: كان يقوم برعاية أسرته والعمل من أجل توفير أحتياجاتهم
- الأم: كانت تقوم برعاية الأبناء وتشرف على الأعمال المنزلية
- كما تعمل خارج المنزل بالعديد من امجالات منها التجارة والطب
١٢. كانت المرأة قديماً تتولى العديد من المناصب العليا مثل ملكة ووزيرة وكاتبة وكاهنة
١٣. حيث كانت ملابس عامة الشعب تصنع من الكتان بينما كانت ملابس الملوك والأغنياء تصنع من الكتان عالي الجودة أو الحرير وكانت تطرز بالذهب والفضة والأحجار الكريمة
١٤. لأن المصري القديم كان يحتفل بالعديد من الأعياد مثل: عيد الفيضان والحصاد وشم النسيم
١٥. أن المصريون القدماء قامو بتحنيط جثث موتاهم
١٦. أن الحياة الدينية اتسمت بعدة خصائص منها (تعدد الآلهة - الدعوة الى توحيد الآلهة - الاعتقاد في البعث والخلود - الاعتقاد في الثواب والعقاب)

٧. أدى ذلك إلى المساهمة في حل المشكلة السكانية
٨. أدى ذلك إلى السمو إلى التوحيد حيث دعا لعبادة آله واحد وهو الإله آتون وقام ببناء عاصمة جديدة لمصر وهي مدينة أخيتاتون لتكون مقراً لعبادة الإله آتون
٩. أنهم قامو بتحنيط جثث موتاهم
١٠. أدى إلى زيادة معدل النمو السكاني في الريف

٩. قارن بين:

العوامل الطبيعية	العوامل البشرية
تتمثل في الزيادة الطبيعية وهي الفرق بين عدد المواليد والوفيات	تتمثل في الهجرة وهي تعني أنتقال الافراد من مكان لآخر داخل أو خارج الدولة

الهجرة الداخلية	الهجرة الخارجية
هي أنتقال الأفراد من مكان إلى اخر بين المحافظات	هي أنتقال الأفراد بين مصر ودول العالم

الزيادة الطبيعية	الهجرة
هي الفرق بين عدد المواليد والوفيات في فترة معينة	أنتقال الأفراد من مكان إلى آخر

التركيب العمري	التركيب النوعي
هو تقسيم السكان حسب الفئة العمرية	هو تقسيم السكان حسب النوع (ذكور وإناث)

فئة صغار السن	فئة كبار السن
تمثل من (٠ - ١٤ سنة) هي فئة غير منتجة وتحتاج إلى رعاية	تمثل (٦٥ سنة فأكثر) هي فئة غير منتجة وتحتاج إلى رعاية صحية واجتماعية

دور الفرد في مواجهة المشكلة السكانية	دور الدولة في مواجهة المشكلة السكانية
١. ترشيد أستهلاك كافة الموارد ٢. تنظيم الأسرة	١. التوعية بمشكلة الزيادة السكانية ٢. توفير وسائل تنظيم الأسرة ٣. إصدار قوانين تجرم الزواج المبكر وعمالة الأطفال ٤. التوسع في مشروعات التنمية وبناء مدن جديدة

دور الأب في مصر الفرعونية	دور الأم في مصر الفرعونية
يرعى أفراد الأسرة ويوفر أحتياجاتهم	تقوم برعاية الأبناء وتشرف على أعمال المنزل وتعمل خارج المنزل في العديد من المحافظات

البعث	الخلود
هو الحياة مرة أخرى بعد الموت	هو عيش حياة أبدية لا موت فيها

١١ ما العلاقة بين:

- ١ أن الزيادة الطبيعية والهجرة أدى إلى زيادة النمو السكاني في مصر
- ٢ أن الهرم السكاني في مصر يتسم بالقاعدة العريضة بسبب زيادة معدل المواليد
- ٣ أدى تحسن الرعاية الصحية والاجتماعية إلى زيادة نسبة كبار السن
- ٤ أن بيانات الهرم السكاني تساعدنا في تحديد احتياجاتنا في المستقبل من التعليم وصحة ومرافق وفرص عمل
- ٥ أن تحسين الأحوال الصحية أدى إلى انخفاض معدل وفيات الأطفال الرضع
- ٦ يؤدي استصلاح الصحراء إلى حل المشكلة السكانية
- ٧ مارس المصريون القدماء العديد من الألعاب الرياضية مثل السباحة والمصارعة
- ٨ أخذ المصريون القدماء معبوداتهم من مظاهر الطبيعة مثل النسر والصقر والبقرة
- ٩ أدى الاعتقاد في البعث والخلود إلى قيام قدماء المصريين بتحنيط جثث موتاهم
- ١٠ دعا الملك أمنحتب الرابع لعبادة آله واحد وهو الإله أتون ورمز له بقرص الشمس

١٢ ما رأيك في: أجب بنفسك

١٣ ما مقترحاتك لكل من: أجب بنفسك

١٤ من يكون ..؟

- ١ أوزوريس
- ٢ أمنحتب الرابع (إخناتون)
- ٣ ماعت

١٥ الخريطة:

- أ ١ القاهرة ٢ الوادي الجديد ٣ البحر المتوسط ٤ النيل
- ب ١ الدلتا ٢ القاهرة ٣ النيل ٤ المتوسط
- ج ، هـ ، و ، د أجب بنفسك