



مراجعة شهر فبراير

الفصل الدراسي الثاني



الاجتماعية
الدراسات

الصف
الرابع
الابتدائي
4

بنك أسئلة الوحدة الأولى

أكمل العبارات الآتية باختيار الكلمة المناسبة:

- ١ تعد محافظة أقل محافظات مصر سكاناً.
- ٢ هناك محافظات يزيد سكانها عن ٨ ملايين نسمة مثل
- ٣ تُجري مصر عملية حصر شامل للسكان كل سنوات.
- ٤ يُعد الجهاز هو المسئول عن إجراء التعداد السكاني في مصر.
- ٥ يعمل سكان الحضر في و و
- ٦ هناك أربع محافظات حضرية هي و و
- ٧ يُمارس سكان الصحاري المصرية حرفة
- ٨ يساعد تنوع سكان مصر على تحقيق و
- ٩ يشتهر الصعيد بإنشاد والتي تقدم على لسان الراوي وهو يعزف على آلة
- ١٠ في متحف الكرنك لوحة مرسوم عليها الإله حورس وهو يُعَلَّم الملك أمنحتب الثالث فن
- ١١ اخترع المصريون القدماء الكتابة
- ١٢ أنشأت منظمة اليونسكو في أسوان لعرض التاريخ والحضارة النوبية.
- ١٣ تزداد نسبة الأمية في وتقل في وتزداد بين الإناث أكثر من
- ١٤ من المشكلات الاجتماعية التي تعيق خطط التنمية و
- ١٥ تقلل الأمية من فرص كما تُؤثِّر على برامج التنمية
- ١٦ يتولى رئيس الجمهورية الرئاسة عن طريق في انتخابات
- ١٧ كان يُعيِّن حكام الأقاليم في مصر القديمة.
- ١٨ تُعد السلطة سلطة مستقلة تتولاها المحاكم.
- ١٩ يعاون المحافظ في إدارة شئون المحافظة.
- ٢٠ يجب على كل مواطن مسئول أن يُحافظ على ويشترك في

٢ اكتب (صح) أمام العبارة الصحيحة، وكلمة (خطأ) أمام العبارة غير الصحيحة، فيما يلي:

- ١ تُعد محافظة جنوب سيناء أكثر محافظات الجمهورية سكاناً. ()
- ٢ تُجري مصر عملية حصر شاملة للسكان كل خمس سنوات. ()
- ٣ يعمل سكان الحضر في الصناعة والتجارة والسياحة. ()
- ٤ يزداد متوسط حجم الأسر في الريف بسبب كثرة الإنجاب والزواج المبكر. ()
- ٥ من المبادرات التي أطلقتها الدولة لتنمية الريف مبادرة أتحضر للأخضر. ()
- ٦ استخدم المصريون القدماء ورق البردي في الكتابة. ()
- ٧ يساهم التراث الثقافي في توفير فرص عمل للشباب. ()

- ٨ يُسمَّى عيد حصاد التمور والزيتون في واحة سيوة بعيد الربيع.
- ٩ تم إدراج فن التحطيب على قائمة التراث العالمي لمنظمة الفاو.
- ١٠ تؤدي الأمية إلى انتشار الرخاء والتقدم الاقتصادي للدولة.
- ١١ أنشأت الدولة الهيئة العامة لتعليم الكبار ومحو الأمية عام ١٩٩٢ م.
- ١٢ يرأس المحافظ الحكومة ومن يشرف على أعمالها.
- ١٣ يرجع تسرب بعض التلاميذ من المدارس نتيجة ضعف المستوى الاقتصادي للأسرة.
- ١٤ تعد السلطة التنفيذية سلطة مستقلة تتولاها المحاكم المتنوعة.
- ١٥ يعمل رئيس الجمهورية على رعاية مصالح الشعب ويمثّل مصر محلياً و دولياً.
- ١٦ يُشرف المحافظ على تنفيذ المشروعات التنموية في المحافظة.
- ١٧ الوزير هو الشخص المسئول عن إدارة شئون المحافظة.

٣ اختر الإجابة الصحيحة، مما بين القوسين:

- ١ يعيش البدو في ويعملون بحرفة الرعي. (المدن - القرى - الصحاري - الحضر)
- ٢ يُساعد تنوع السكان في مصر على تحقيق في المنتجات.
- ٣ تقوم الدولة بتوعية الشباب عن طريق
- ٤ (تقليل الإنجاب وتنظيم الأسرة - الزواج المبكر - كثرة الإنجاب - عدم تنظيم الأسرة)
- ٥ تم إنشاء متحف السيرة الهلالية في محافظة عام ٢٠١٥ م. (الإسكندرية - الشرقية - قنا - أسوان)
- ٦ يُسمَّى عيد حصاد التمور والزيتون بواحة سيوه عيد (الأضحى - الفطر - السياحة - رأس السنة)
- ٧ ينفرد أهل النوبة بالتحدث باللغة (الفرنسية - العبرية - الإنجليزية - النوبية)
- ٨ أنشأت الدولة الهيئة العامة لـ عام ١٩٩٢ م.
- ٩ (التعداد السكاني - تعليم الكبار ومحو الأمية - النشاط السياحي - للتجارة والتسوق)
- ١٠ (العلم والثقافة - الحضارة - فرص عمل عديدة - الفقر والجهل)
- ١١ تتمثل الحكومة المصرية في
- ١٢ (أعضاء البرلمان - رئيس الجمهورية - مجلس النواب - رئيس الوزراء والوزراء)
- ١٣ المسئول عن توفير فرص عمل لشباب المحافظة هو
- ١٤ (وزير التربية والتعليم - وزير السياحة - المحافظ - وزير الزراعة)
- ١٥ يختار %٥ من أعضاء البرلمان. (رئيس الجمهورية - رئيس الوزراء - المحافظ - الوزير)
- ١٦ يعاون المحافظ في إدارة شئون المحافظة
- ١٧ (مجلس الشورى - مجلس النواب - المجلس المحلي - مجلس الشعب)
- ١٨ يمثل السلطة التنفيذية في المحافظة ويتم تعيينه من قبل رئيس الجمهورية
- ١٩ (الوزير - المحافظ - رئيس الوزراء - القاضي)

٤ اكتب ما تشير إليه العبارات التالية:

- ١ عملية حصر شامل للسكان تقوم بها الدولة كل عشرة سنوات.
- ٢ الجهاز المسئول عن إجراء التعداد السكاني.
- ٣ مناطق ظهرت نتيجة هجرة سُكَّان الريف إلى المدن.
- ٤ نمط من أنماط السكان يسكنون الصحاري المصرية ويعملون بحرفة الرعي.
- ٥ يحتفل سكان واحة سيوة في منتصف شهر أكتوبر بهذا العيد من كل عام.
- ٦ آلة موسيقية شعبية يشتهر بها سكان مدن القناة.
- ٧ لغة ينفرد بها سكان أهل النوبة.
- ٨ سيرة تقدم على لسان الراوي وهو يعزف على آلة الربابة.
- ٩ عدم قدرة الفرد على القراءة أو الكتابة.
- ١٠ مسئول عن أمن الوطن ويمثّل مصر محلياً ودولياً.
- ١١ سلطة مستقلة تتولاها المحاكم وتصدر الأحكام في ضوء القانون.
- ١٢ أحد أقسام السلطة التشريعية ويسنّ القوانين في الدولة.
- ١٣ نوع من الكتابة اخترعه قدماء المصريين.
- ١٤ هو الشخص المسئول عن إدارة شئون المحافظة ويمثّل السلطة التنفيذية فيها.
- ١٥ كان يقوم بتعيين حُكَّام الأقاليم في مصر القديمة.

٥ صوّب ما تحته خط، فيما يلي:

- ١ يعيش البدو في المدن المصرية.
- ٢ من المبادرات التي قامت بها الدولة لتنمية الريف زيادة العشوائيات.
- ٣ ترتفع نسبة الأمية بين سكان الحضر.
- ٤ من مدن القناة مدينة الإسكندرية.
- ٥ يُطلق على عيد حصاد التمور والزيتون بواحة سيوة عيد الربيع.
- ٦ تم إدراج فن التحطيب على قائمة التراث العالمي لمنظمة اليونسف.
- ٧ محافظة القاهرة أعلى محافظات مصر من حيث الأمية.
- ٨ جامعة الإسكندرية هي أول جامعة في التاريخ.
- ٩ السلطة التنفيذية سلطة مستقلة تتولاها المحاكم.
- ١٠ من مهام وزير الصحة توفير فرص عمل للمواطنين في المحافظة.
- ١١ المجلس المحلي يعاون مجلس النواب في شئون المحافظة.
- ١٢ كان الكاهن يعاون الملك في إدارة شئون البلاد في مصر القديمة.
- ١٣ ٩٥٪ من أعضاء مجلس النواب يتم تعيينهم.
- ١٤ رئيس الوزراء هو من يُعيّن المحافظ.

٦ **بم تُفسّر ...؟**

- ١ تعد محافظة جنوب سيناء أقل المحافظات سكاناً.
- ٢ تُعتبر محافظة القاهرة أعلى المحافظات سكاناً.
- ٣ تُجري مصر عملية حصر شامل للسكان كل عشر سنوات.
- ٤ تنخفض الأمية بين سكان الحضر.
- ٥ ترتفع نسبة الأمية بين سكان الريف مقارنةً بسكان الحضر.
- ٦ أهمية التراث الثقافي المصري.
- ٧ إنشاء متحف النوبة في أسوان عام ١٩٩٧ م.
- ٨ يتنوع التراث الثقافي المصري.
- ٩ تشكل الأمية خطورة على الفرد والمجتمع.
- ١٠ انتشار الأمية في مصر.
- ١١ أهمية وجود حكومة داخل الدولة.
- ١٢ أهمية مجلس النواب.
- ١٣ أهمية الكتابة الهيروغليفية.
- ١٤ أهمية منصب حاكم الأقليم في مصر القديمة.

٧ **ما النتائج المترتبة على ...؟**

- ١ تنوع أنماط السكان في مصر.
- ٢ هجرة سكان أهل الريف إلى المدن.
- ٣ انخفاض مستوى المعيشة في الريف.
- ٤ انتشار الأمية في المجتمع.
- ٥ اختراع الكتابة الهيروغليفية.
- ٦ وجود نظام حكم ثابت في مصر القديمة.

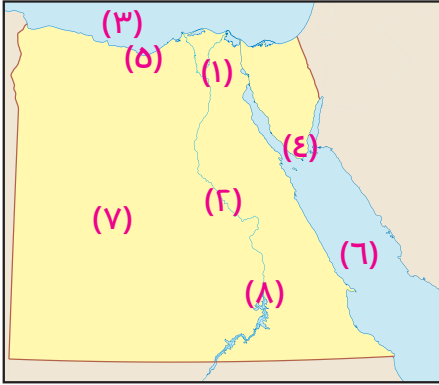
٨ **قارن بين:**

- ١ خصائص سكان الريف والحضر من حيث: (نسبة الأمية - مناطق السكن - نوع الحرفة السائدة).
- ٢ مهام منصب المحافظ ومنصب حاكم الإقليم في مصر القديمة.

٩ **أجب عمّا يلي:**

- ١ ما الجهود التي تبذلها الدولة لتحسين مستوى معيشة سكان الصحاري المصرية؟
- ٢ استنتج كيف تؤثر الأمية في اقتصاد الدولة.
- ٣ تبذل مصر جهودًا كبيرة للقضاء على الأمية الهجائية . وضّح ذلك؟

١٠. خريطة صفاء لمصر، وضح ما تدلّ عليه الأرقام الآتية:



- ١ محافظة جاذبة للسكان
- ٢ أعلى محافظات مصر في الأمية
- ٣ البحر
- ٤ أقل محافظات مصر سكاناً
- ٥ محافظة حضرية
- ٦ البحر
- ٧ الصحراء
- ٨ محافظة بها متحف النوبة

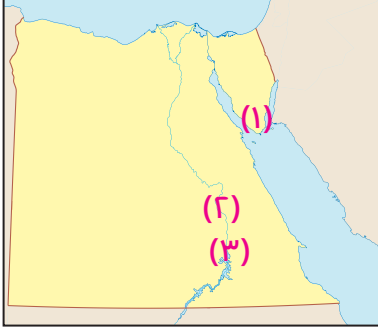
نماذج الوحدة الأولى

يجيب عنه الطالب

نموذج (١)

٣ درجات

١ أمامك خريطة صماء لمصر، وضح ما تدل عليه الأرقام الآتية:



١ أقل محافظات مصر سكاناً

٢ محافظة بها معبد الكرنك

٣ محافظة بها متحف النوبة

٣ درجات

٢ بم تفسّر...؟

١ القاهرة أكثر المحافظات المصرية سكاناً.

٢ ارتفاع نسبة الأمية في الريف.

٣ أهمية مجلس النواب.

٣ درجات

٣ مَنْ يكون...؟

١ يقوم بتعيين المحافظ.

٢ يتولى رئاسة الحكومة.

٣ يقوم بإجراء التعداد السكاني لمصر.

()

()

()

٣ درجات

٤ اذكر نتيجة واحدة لكل من:

١ هجرة أهل الريف إلى المدن.

٢ انتشار الأمية في المجتمع.

٣ إطلاق الدولة لمبادرة حياة كريمة.

٣ درجات

٥ ما العلاقة بين...؟

١ سيناء وسباق الهجن.

٢ الأمية والزيادة السكانية.

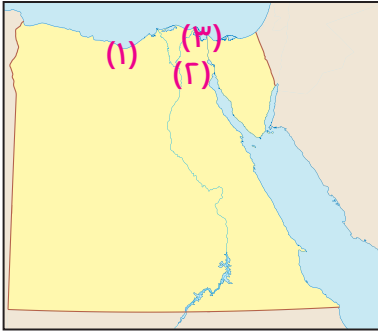
٣ رئيس الجمهورية وأعضاء مجلس النواب.

يجيب
عنه الطالب

نموذج (٢)

٣ درجات

١ أمامك خريطة صفاء لمصر، وضح ما تدل عليه الأرقام الآتية:



١ محافظة حَضْرِيَّة

٢ عاصمة جمهورية مصر العربية

٣ إحدى مدن القناة

٣ درجات

٢ اكتب (صح) أمام العبارة الصحيحة، وكلمة (خطأ) أمام العبارة غير الصحيحة، فيما يلي:

()

١ أنشئت منظمة اليونسكو مُتَحَف السيرة الهلالية في قنا.

()

٢ يساهم التراث المصري في تنشيط السياحة، وتوفير فرص العمل.

()

٣ يرجع انتشار الأمية في مصر؛ بسبب الزيادة السكانية.

٣ درجات

٣ اذكر مهمة واحدة لكل من:

٣ المحافظ

٢ مجلس النواب

١ رئيس الجمهورية

٣ درجات

٤ ما النتائج المترتبة على ...؟

١ انتشار الأمية في المجتمع.

٢ هجرة سگان الريف للمدن.

٣ إطلاق الدولة مبادرة حياة كريمة.

٣ درجات

٥ ما العلاقة بين ...؟

١ المجلس المحلي، والمحافظ.

٢ واحة سيوة وحصاد التمور والزيتون.

٣ السلطة التنفيذية والسلطة التشريعية.

الإجابات النموذجية

٥ صوّب ما تحته خط، فيما يلي:

- ١ الصحاري ٢ مبادرة حياة كريمة ٣ الريف
٤ السويس ٥ عيد السياحة ٦ اليونسكو
٧ المنيا ٨ أون ٩ السلطة القضائية
١٠ المحافظ ١١ المحافظ ١٢ الوزير
١٣ انتخابهم ١٤ رئيس الجمهورية

٦ بم تفسر:

- ١ لندرة المياه ووعورة السطح
٢ لأنها عاصمة مصر
٣ لمعرفة احتياجات السكان في المستقبل
٤ لكثرة المدارس والاهتمام بالتعليم وارتفاع مستوى المعيشة
٥ لانخفاض مستوى المعيشة
٦ لأنه ينشط السياحة - يوفر فرص العمل - يزيد الدخل القومي
٧ للحفاظ على التراث النوبي وحمايته
٨ لتنوع الحضارات التي عاشت على أرض مصر
٩ لأنها تؤدي إلى إنتشار الفقر والجهل والبطالة وتعوق التنمية
١٠ بسبب تهرب بعض التلاميذ من المدارس وكثرة الانجاب
١١ لتنظيم شئون الدولة لأنه يقوم بسن القوانين
١٣ متروك للطلاب ١٤ متروك للطلاب

٧ ما النتائج:

- ١ التكامل بين السكان - تبادل المنتجات - تحقيق التنمية الاقتصادية
٢ ازدهام المدن والضغط عليها وظهور العشوائيات
٣ انتشار الأمية - الهجرة إلى المدن
٤ انتشار الجهل والخرافات - البطالة والفقر - وعدم حدوث تنمية اقتصادية
٥ متروك للطلاب ٦ متروك للطلاب
٨ : ٩ متروك للطلاب

١٠ الخريطة:

- ١ القاهرة ٢ المنيا ٣ المتوسط
٤ جنوب سيناء ٥ الإسكندرية ٦ الأحمر
٧ الغربية ٨ أسوان

بنك أسئلة الوحدة الأولى

١ أكمل العبارات الآتية باختيار الكلمة مناسبة:

- ١ جنوب سيناء ٢ القاهرة - بورسعيد
٣ عشر
٤ المركزي للتعبئة العامة والإحصاء
٥ الصناعة - التجارة - الخدمات
٦ القاهرة - السويس - بورسعيد - السكندرية
٧ الرعى ٨ التكامل بين السكان - تبادل المنتجات
٩ السيرة الهلالية - الرماية
١٠ التحطيب ١١ الهيروغليفية ١٢ متحف النوبة
١٣ الريف - المدن - الذكور ١٤ البطالة - الأمية
١٥ العمل - الاقتصادية ١٦ الانتخاب - عامة ١٧ الملك
١٨ القضائية ١٩ المجلس المحلي
٢٠ بلده - التصويت في الانتخابات

٢ اكتب كلمه (صح) وكلمه (خطأ):

- ١ خطأ ٢ خطأ ٣ صح ٤ صح ٥ خطأ ٦ صح
٧ صح ٨ خطأ ٩ خطأ ١٠ خطأ ١١ صح ١٢ خطأ
١٣ صح ١٤ خطأ ١٥ صح ١٦ صح ١٧ خطأ

٣ اختر الإجابة الصحيحة، مما بين القوسين:

- ١ الصحاري ٢ التكامل
٣ تقليل الإنجاب وتنظيم الأسرة ٤ قنا
٥ السياحة ٦ النوبية
٧ تعليم الكبار ومحو الأمية ٨ الفقر والجهل
٩ رئيس الوزراء والوزراء ١٠ المحافظ
١١ رئيس الجمهورية ١٢ المجلس المحلي
١٣ المحافظ

٤ اكتب ما تشير إليه كل عبارة:

- ١ التعداد السكاني ٢ الجهاز المركزي للتعبئة العامة والإحصاء
٣ العشوائيات ٤ البدو ٥ السياحة
٦ السمسرية ٧ اللغة النوبية ٨ السيرة الهلالية
٩ الأمية الهجائية ١٠ رئيس الجمهورية
١١ السلطة القضائية ١٢ مجلس النواب
١٣ الكتابة الهيروغليفية ١٤ المحافظ ١٥ الملك