

الأخبار



الرياضيات



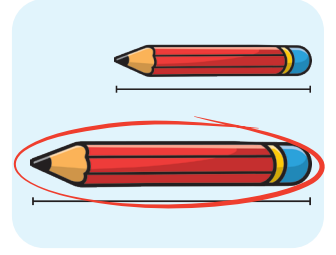
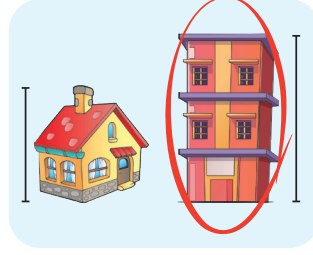

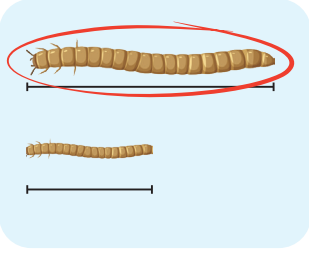
الصف 1 الابتدائي

إجابة تقييمات الأضواء لشهر فبراير

2025م

١ نموذج

١ حوط حول الشيء الأطول في كل مجموعة مما يأتي:



٢ عد، ثم اكتب المبلغ الكلي في كل مما يأتي:



٥ جنيهاً




١٩ جنيهاً



٣٣ جنيهاً

٣ أ أكمل باستخدام (أمام أو تحت أو خلف أو فوق):



★ الكرة تحت الصندوق



★ الكرة أمام الصندوق



★ الكرة فوق الصندوق



★ الكرة خلف الصندوق

ب ظلل الإجابة الصحيحة حسب ترتيب الشيء الملون في كل مجموعة: (ابدأ العد باليمين)



الثاني

الرابع

الخامس



الرابع

الثاني

الأول



الرابع

الثاني

الأول

١ أ لاحظ الصور التالية، ثم رتب الأطفال من الأقصر إلى الأطول:

ماجد



شريف



وعد



منى



أحمد



• الترتيب هو: وعد ، أحمد ، منى ، شريف ، ماجد

ب اكتب العدد الترتيبي طبقاً للنشاط اليومي (الأول، الثاني، الثالث، الرابع) كما بالمثل:

أتناول وجبة الإفطار



أذاكر دروسى



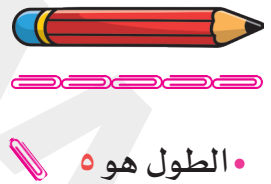

أذهب إلى المدرسة






أستيقظ من النوم



٢ قس أطوال الأشياء الآتية مستخدمًا الوحدات الموضحة:



٣ لاحظ موضع الشجرة بالنسبة للطفل فى كل صورة، ثم صل بالكلمة المناسبة:





أمام

يمين

يسار

خلف

١ ضع علامة (✓) إذا كان المبلغ كافيًا لشراء اللعبة، وعلامة (X) إذا كان المبلغ غير كافٍ لشراء اللعبة:



١٦ جنيهاً

X



١٨ جنيهاً

X



٣٠ جنيهاً

✓


٢ حوِّط حول الشيء المطلوب ترتيبه في كل صف بدءاً من اليمين:



★ السيارة الثالثة



★ العصفور الرابع



★ التفاحة السادسة

٣ قس أطوال الأشياء الآتية مستخدماً الوحدات الموضحة:



• الطول هو ٤



• الطول هو ٢




• الطول هو ٥



• الطول هو ٦

١ حوط حول المبلغ الأكبر في كل مجموعة مما يلي:



٢ أكمل ما يلي مستخدمًا (فوق - يمين - يسار - داخل):




الكرسي يمين الطفل.



الكتاب فوق المكتب.

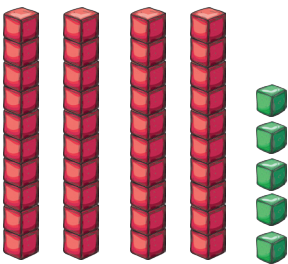


الدب يسار الطفل.

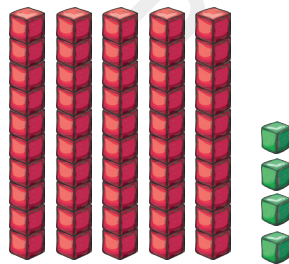


القطعة داخل الصندوق.

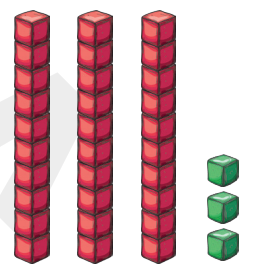
٣ اكتب رقم الآحاد ورقم العشرات والعدد في كل مما يأتي:



العدد	عشرات	آحاد
٤٥	٤	٥



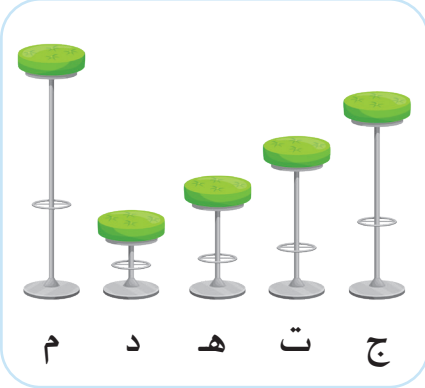
العدد	عشرات	آحاد
٥٤	٥	٤



العدد	عشرات	آحاد
٣٣	٣	٣

نموذج 0


1 رتب الأشياء الآتية من الأطول إلى الأقصر، ثم اكتب الحروف واكتشف الكلمة:



م د ه ت ج



م ه س ن د



أ ل ح م ا

م ج ت ه د

م ه ن د س

أ ح ل ا م

2 لاحظ الصورة المقابلة، ثم لون الإجابة الصحيحة:



خلف

أمام



تحت

فوق



خارج

داخل



يسار

يمين



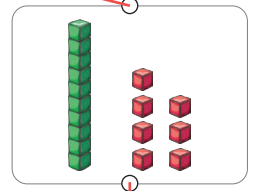
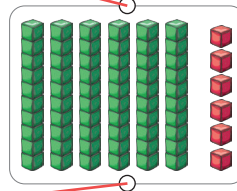
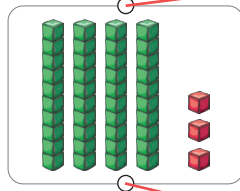
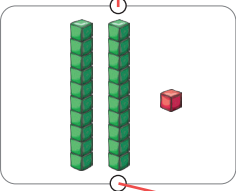
3 صل ما يلي:

٢١

٦٦

١٧

٤٣



٦ أحاد
٦ عشرات

١ أحاد
٢ عشرات

٣ أحاد
٤ عشرات

٧ أحاد
١ عشرات