

النموذج الأول

الاسئلة

١ - يوجد تشابه بين المانيا ونيجيريا ويخرج عن ذلك

- أ- تمتعها بالثروات البحرية
ب - توازن الميزان التجاري
ج - سهولة حركة الجيش
د - قصر الحدود السياسية

٢ - حدد مما يلي الأكثر خطورة على خريطة العالم السياسية الحالية-

- أ-الصراعات بين الامبراطوريات
ب-انتشار ظاهرة الإرهاب الدولي
ج-تفاقم مشكلات التغير المناخي
د-الصراعات بين الدول الكبرى

٣- يبدأ خط التوقيت العالمي شمالا بدولة تتسم بكونها

- أ- ذات نظام برلماني وجزرية
ب- يسيطر فيها البرلمان على سلطتين
ج - رئيسها على رأس الدولة يسود ويحكم
د- ذات نظام ملكي شبه برلماني

٤- حال خروج مالطه رسمياً من الاتحاد الأوروبي

- أ-إعادة تخطيط الحد السياسي
ب-القيام بعملية المسح الميداني للحد
ج-تفعيل المرحلة الرابعة للحد السياسي
د-تغيير مسار الحد السياسي لها

٥ - تشترك في السيادة على مضيق بهرنج دولتين

- أ - لهما حق الفيتو
ب - يشتركان في حدود جبلية
ج- يتشابهان في عدد الدول المجاورة
د- يعتمد اقتصادهما على النبات الطبيعي

٦- تقترب دولة السودان في طول الساحل وشكل الدولة مع



أ- كينيا

ب - الكونغو

ج- اريتريا

د- ناميبيا

تتحقق القدرة المطلقة للوحدات السياسية على أراضيها بعوامل عديدة، وتتاثر سلباً بعوامل أخرى. نستدل من العبارة وجود عامل يؤثر على سيادة الدول يتمثل في

أ - طبيعة الحدود السياسية

ب- وحدة سكان الدولة

ج- تطور وسائل والاتصالات

د- اتفاقية التجارة العالمية

٨- يهدد التفكك اتحاد الايكواس نتيجة للاوضاع الحالية في دول غرب افريقيا

صحة آراء العالم

أ- كيلين

ب - ارسطو

ج- أبن خلدون

د- سجفريد

٩ - تزداد نسبة الذكور في التركيب السكاني . في دول تقع

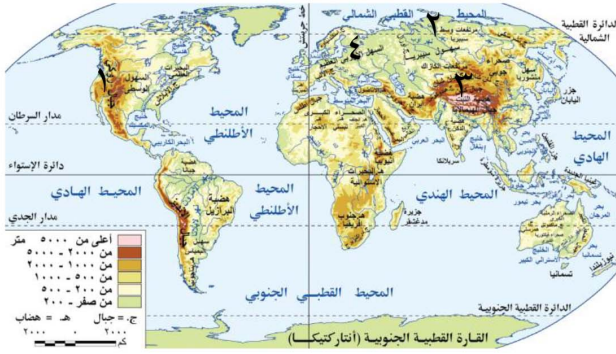
أ-غرب الخليج العربي

ب- شرق البحر المتوسط

ج-جنوب البحر المتوسط

د- شرق الخليج العربي

١٠ - من ملاحظة الخريطة المقابلة، نستنتج أن المنطقة التي تُعدّ مناسبة للامتزاج الثقافي والعمران هي المنطقة رقم



أ- (١) ب - (٢)
ج- (٣) د- (٤)

١١ - هناك متغيرات أدت إلى إعلان النظام العالمي الجديد . في ضوء العبارة السابقة نستنتج أن القوتان العظمتان اللتان ظهر لهما دور مؤثر في النظام الاقتصادي العالمي تتشابهان في

أ- المظهر التضاريسي لكلٍ منهما

ب -شكل الدولة السائد فيهما

ج- عدد الدول المجاورة لهما

د - دورهما في سقوط عصبة الأمم

١٢ - يتشابه شكل الحكم في مصر قبل ثورة يوليو ١٩٥٢ مع شكل الحكم في دولة

أ - بريطانيا

ب- فرنسا

ج- الصين

د- السنغال

١٣- يعد الأكثر تضررا من انهيار الاتحاد السوفيتي وحل حلف وارسو

أ-الأمم المتحدة

ب- حلف الناتو

ج-الولايات المتحدة

د-حركة عدم الانحياز

١٤- توجد علاقة بين وجود الجبال وسياحة الاصطياف في دولة

أ - السودان

ب - ألمانيا

ج - لبنان

د- سويسرا

١٥- تعاني من التبعية والتعرض للضغوط السياسية دول تقع في

أ - جنوب البحر المتوسط

ب-شمال البحر الأسود

ج - شمال البحيرات العظمى

د- جنوب البحيرات العظمى

٦١ يظهر النظام السياسي فى صورته الاجتماعية فى

أ-المؤسسات التعليمية

ب-النظام البرلمانى

ج-المؤسسات القضائية

د-العلاقات الخارجية

١٧ - سعت الدول المتشاطئة على مضيق ملقا إلى الحصول على مكانة مهمة على الساحة الاقتصادية والسياسية يمثل ذلك النظام العالمى الجديد من خلال

أ- المراحل

ب-الأهداف

ج-المتغيرات

د-الخصائص

١٨ - أحد وسائل حل النزاعات يستمد قوته من الموافقة المسبقة من الاطراف بقبول النتائج واجبة التنفيذ

ب-المفاوضات أ-المساعي الحميدة

د-التحكيم ج - التوفيق

١٩-تشابهت جهود حلف شمال الاطلنطي فى حفظ السلام ودور الامم المتحدة السياسى فى منطقة

أ-شرق البحر الادرياتي ب-شرق بحر الشمال

ج-شمال بحر قزوين د- شرق البحر الاحمر

٢٠-يوجد أكبر عدد من الدول التى تمتلك حق الاعتراض على قرارات الجمعية العامة للامم المتحدة ضمن أي من التكتلات الاقتصادية الاتية

أ - منتدى التعاون الاقتصادي ب - الاتحاد الاوروي

ج - اتحاد دول امريكا الشمالية د - دول مجلس التعاون العربى

زيادة مستوى التنوع الانتاجي في دول التكتل الاقتصادي يخفف من آثار الصدمات الخارجية ويفتقر لذلك تكتل

أ- دول شرق الخليج العربي

ب- دول غرب الخليج العربي

ج- شرق آسيا والمحيط الهادي

د- غرب آسيا والمحيط الهادي

٢٢- يمكن أن نطلق عليه نهر التكتل الاقتصادي للرعاه بغرب قارة افريقيا
نهر

أ - زمبيزي ب - جامبيا ج - النيجر د - النيل

٢٣- يوجد تشابه بين دولة كوريا الجنوبية و دولة البرتغال في

أ- الواجهه البحرية - شكل الدولة

ب- الانتماء القاري - التمثيل الدبلوماسي

ج- قصر الحدود - شكل الدولة

د- عدد الدول المجاورة والموقع البحري

٢٤- نجد من خلال مقارنة الدول التي تطل على بحيرة مالوي والدول التي تطل على بحيرة فيكتوريا أن الدول المشرفة عليهما تختلف من حيث

أ- عدد الدول التي تشرف عليهما

ب- عدد الدول البحرية التي تشرف عليهما

ج- أسباب نشأة الحدود في الدول المشرفة عليهما

د- شكل الدول الحبيسة التي تشرف على كل منهما



٢٥- توجد مشكلة مياه بين دول متقابلة يخرقها دائرة عرض رئيسية هي

أ- ايطاليا وتونس

ب- المغرب واسبانيا

ج- جيبوتي واليمن

د- ماليزيا واندونيسيا

٢٦. - تم وضع ميثاق حلف شمال الأطلسي في دولة تتسم ب

أ-تحقيق الديمقراطية واحترام حقوق الانسان

ب-وجود مشكلة في الاتصال والدفاع عن الدولة

ج-المسافة من المركز الى الاطراف على ابعاد متساوية

د-الوحدة الوطنية واختلاف الخصائص الثقافية

٢٧ - نستنتج من تحليل محتوى الخريطة المقابلة إن أكثر المراعي تأثراً
بسلبيات التغيرات المناخية الناتجة عن التطور التكنولوجي تمتد على جانبي



أ- خط الاستواء ومدار الجدي

ب- مدار الجدي وخط جرينتش

ج-خط جرينتش ومدار السرطان

د-دائرة الاستواء وخط جرينتش

٢٨- أبرمت اتفاقيات الانهار في القرن ١٩ والقرن ٢٠ في دول يفصل بينها حدوداً

أ- تتماشى مع خط تقسيم المياه

ب- تسير مع خط العمق الملاحي

ج- تتماشى مع أحد ضفتي النهر

د- بحيرية واثنوغرافية

٢٩ - تدخل في نزاعات مع كل دول العالم بسبب موقعها دولتا

أ- غانا والسنغال

ب- النمسا واسبانيا

ج- اوغندا واثيوبيا

د- مالاي والمغرب

٣٠- يرتكز اقتصادها على منتجات اللحوم والاصواف دول يقطعها

ب- دائرة الاستواء

أ- مدار الجدي

د - خط جرينتش

ج - مدار السرطان

٣١- تمثل الحدود السياسية عبئاً على كلاً من

أ- تشيلي والبرازيل

ب- قطر ومصر

ج- فرنسا وبلجيكا

د- بيلاروسيا وسويسرا

٣٢- ساهم في رسم الحدود السياسية في قارة أوروبا خلال القرن العشرين

أ-الغزو الاستعماري

ب-الحروب الأهلية

ج-الصراعات العالمية

د-الأحلاف العسكرية

٣٣- مجلس الأمن التابع للأمم المتحدة له سلطة قانونية على الدول الاعضاء في ضوء هذه العبارة نستنتج أن مجلس الأمن يمثل سلطة

أ-مركزية في اتحاد فيدرالى

ب-مركزية في اتحاد كونفدرالى

ج-محلية في اتحاد فيدرالى

د-محلية في اتحاد كونفدرالى

٣٤- توجد العديد من الحقائق التي تثبت أن مدن سبتة ومليلة بمدنا مغربية أهمها -

أ- التركيب السكاني

ب- البنية الجيولوجية

ج- التنظيم الداخلي

د- المركب السياسي

٣٥- تتفوق القارات التي تقع في غرب المحيط الاطلنطي على القارات التي تقع شرقه ب

أ-كثرة عدد الدول الحبيسة والجيبية

ب-وجود أطول الحدود الفلكية والجبلية

ج-انتشار حالات الانقسام والاندماج للوحدات

د-كثرة عدد الدول الجزرية والبرية المجزأة

٣٦- يتفق ما حدث في قارة إفريقيا عام ١٧٩٨ م
وأفكار الجيوبولتيك وأفكار رأتزل وذلك بواسطة

أ- بريطانيا

ب- فرنسا

ج - أسبانيا

د- ألمانيا

٣٧- يتضح القاسم المشترك بين دول الكونغو والبرازيل واندونيسيا في

أ-الموقع الجغرافي

ب- شكل الدولة

ج- النبات الطبيعي

د- الموقع المركزي

٣٨- تتشابه اثيوبيا مع سويسرا في الاتي ويخرج عن ذلك

أ- الانتماء القاري

ب - منبع نهر

ج - حبيسة

د- الطابع الجبلي

٣٩- تنتشر مناطق القلب الديني التي تجذب ملايين السكان من دول العالم

ضمن مناطق العالم

أ - النامي

ب - المتقدم

ج - القديم

د -الرأسمالي

٤٠ - يضم أكبر عدد من الدول الحبيسة تكتل

أ - دول شرق وجنوب أفريقيا

ب - الاتحاد الاوروبي

ج - دول مجلس التعاون الخليجي

د - شرق اسيا والمحيط الهادي

٤١ - يقع مقر حلف شمال الاطلنطي في دولة تقع على الاطراف الغربية من سهول

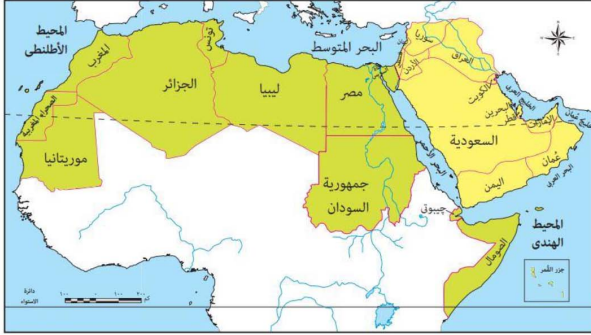
أ - السهل الاوربي العظيم

ب - البراري لأمريكا الشمالية

ج - البمباس بأمريكا الجنوبية

د - شمال شرق أسيا

٤٢ - أكثر الدول العربية تأثراً في حالة حدوث زلزال بقوة ٦,٧ ريختر دولة



أ- اليمن

ب- جيبوتي

ج- السودان

د- مصر

٤٣ - اذا وُجدت سفينة علي بعد ١٤ ميل من الاسكندرية فهي في المياه

أ- الإقليمية

ب - الدولية

ج - الملاصقة

د- المحايدة

٤٤ - من الدول المحايدة التي تتميز سواحلها بوجود البترول

أ - كندا

ب - روسيا

ج - الولايات المتحدة

د - المكسيك

٤٥ - اثر البترول في تغيير مسار الحروب في القرن العشرين دلل على ذلك ؟

.....
.....
.....

٤٦ - وضح رأيك في اهمية الجغرافيا السياسية في حياتنا الان

.....
.....
.....
.....

الاختبار الثاني

الاسئلة



(١) تظهر على الخريطة المقابلة دولة أندورا والتي تتشابه في مقوماتها المورفولوجية مع دولة

- (أ) ليسوتو .
- (ب) سوازيلاند .
- (ج) باراجواي .
- (د) جيبوتي .

(٢) يتمثل أهم أوجه الاختلاف بين الكوميسا والإتحاد الأوروبي في

- (أ) الاتصال الأرضي .
- (ب) اتساع حجم السوق .
- (ج) تنوع الموارد الاقتصادية .
- (د) المستوى التكنولوجي .

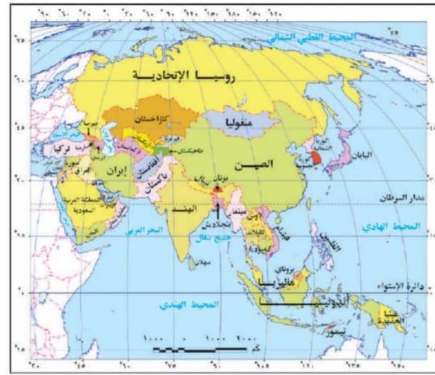
(٣) أي من الأحداث الدولية التالية تزامن مع ظهور النظام العالمي الجديد ؟

- (أ) مؤتمر سان فرانسيسكو .
- (ب) معاهدة باريس .
- (ج) معاهدة ماسترخت .
- (د) اتفاقية برشلونة .

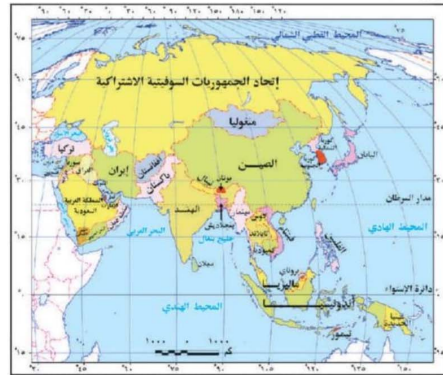
(٤) في ضوء دراستك للعوامل الجغرافية المؤثرة على مستقبل خريطة العالم السياسية نستنتج وجود علاقة طردية بين كل من

- (أ) السيادة القومية للدول والشركات متعددة الجنسيات .
- (ب) إستقلال قرارات الدولة وتدخلات البنك الدولي .
- (ج) وعي الشعوب وثورة الإتصالات الحديثة .
- (د) الاستقرار للدول الجاذبة والهجرة غير الشرعية .

(٥) من خلال المقارنة بين الخريطين التاليين يتضح حدوث تغيرات نتجت عن اندماج دول ويظهر ذلك بالقرب من .



خريطة (ت-٢) آسيا السياسية الآن



خريطة (ت-١) آسيا قبل تفكك الاتحاد السوفيتي في ديسمبر ١٩٩١م

- (أ) المحيط الهادي .
- (ب) البحر الأسود .
- (ج) بحر قزوين .
- (د) خليج عدن .

(٦) ديكتاتورية الأقلية لفظ يمكن أن ينطبق على ما حدث في دولة

- (أ) جنوب أفريقية .
(ب) الولايات المتحدة الأمريكية .
(ج) إسبانيا .
(د) إندونيسيا .

(٧) المؤسسة التي كان لها الدور الأكبر في مواجهة الآثار المترتبة على تدمير البنية التحتية في قارة أوروبا بعد الحرب العالمية الثانية هي

- (أ) منظمة الأغذية والزراعة الدولية .
(ب) منظمة الأمم المتحدة للتنمية الصناعية .
(ج) مركز التجارة الدولي .
(د) البنك الدولي للإتشاء والتعمير .

(٨) أكدت الأمم المتحدة على حق تقرير المصير في الدولتين المظلتين في الخريطة التالية وهو ما يتناقض مع دورها في



- (أ) الكويت .
(ب) فلسطين .
(ج) باكستان .
(د) البوسنة .

(٩) إذا ظهر إقليم كشمير كدولة مستقلة على خريطة العالم السياسية فإنها ستواجه عدد من المشكلات يخرج عنها .

- (أ) صعوبة الاتصال بالعالم الخارجي .
(ب) إعاقة تحقيق التنمية الشاملة .
(ج) صعوبة الاتصال بين أجزاء الدولة .
(د) قلة مصادر الطاقة الحفرية .

(١٠) أي العبارات التالية تُعد الأقرب لشكل العلاقات الدولية حديثاً ؟

- (أ) ضم (محمد علي) للسودان .
(ب) استقدام الخديوي (إسماعيل) لخبراء أجنب .
(ج) تكوين (تحتمس الثالث) للإمبراطورية المصرية .
(د) فتح (الدولة الأموية) للأندلس .

(١١) إذا كانت الدولة قد اختارت عاصمتها لسهولة اتصالها بالعالم الخارجي كما أنها تبعد عن حدودها الشمالية بمسافة (١٠٠) كم وعن حدودها الجنوبية بمسافة (١٠٥) كم بينما تبعد عن حدودها الغربية الفلكية بمسافة (١٩٠) كم فهذا معناه أنها دولة تتمتع ب

- (أ) تعزيز روح الانفصال .
(ب) صعوبة المواصلات .
(ج) إختلاف المناخ .
(د) الجيوبولتيك داخلياً .

(١٢) أي مما يلي لعب دوراً في توتر العلاقات الدولية بين بعض دول العالم الجديد أواخر القرن الـ ١٩م ؟

-
(أ) الأنهار .
(ب) الجبال .
(ج) التباين التكنولوجي .
(د) الاختلافات الدينية .

(١٣) إذا كان التوسع على حساب الدول المجاورة يمثل غاية أحياناً وأحياناً أخرى يمثل مشكلة سياسية فإننا نتحدث بالترتيب عن

- (أ) الجغرافيا السياسية والنظام العالمي الجديد . (ب) الجيوبولتيك والجغرافيا السياسية .
(ج) العولمة والجيوبولتيك . (د) النظام العالمي الجديد والعلاقات الدولية .

(١٤) أي من الدول الآتية تراجعت عن إيمانها بسياسة الانضمام للأحلاف العسكرية ؟

- (أ) أستراليا – العراق – باكستان . (ب) العراق – إيران – تركيا .
(ج) إنجلترا – فرنسا – الولايات المتحدة . (د) إسبانيا – النرويج – ألمانيا .

(١٥) يُعد أحد العوامل المسنولة عن تحديد أهمية الموقع البحري للدولة

- (أ) عدد السكان . (ب) أهمية المسطح المائي .
(ج) المظهر التضاريسي . (د) شكل الدولة .

(١٦) حدد أي من الدول الآتية أثرت مقوماتها المورفولوجية سلباً على سهولة الاتصال بين أجزائها .

- (أ) ميانمار . (ب) بولندا . (ج) أوروغواي . (د) بيلاروسيا .

(١٧) أكثر حلف عسكري كان يضم داخله أقليات لغوية هو

- (أ) حلف وارسو . (ب) الحلف المركزي .
(ج) حلف الناتو . (د) حلف جنوب شرق آسيا .

(١٨) من خلال الخريطة المقابلة ، تخيل أن بحيرة متشجن عبارة عن دولة وسواحلها تمثل حدودها

السياسية



فإنها سوف تشبه في الشكل دولة

- (أ) السويد . (ب) تركيا .
(ج) الفلبين . (د) نيبال .

(١٩) ساهم إنشاء السد العالي بمصر في

- (أ) زيادة خصوبة الأراضي الزراعية . (ب) تغيير ديموجرافية المنطقة .
(ج) زيادة الهجرات الغير شرعية . (د) تقليل معدلات التنمية الاقتصادية .

(٢٠) أي من المناطق الآتية حدث بها نزاعات اقتصادية بين أبناء الأمة الواحدة ؟

- (أ) جنوب البحر المتوسط . (ب) منطقة القوقاز .
(ج) إقليم كشمير . (د) دول حوض نهر الريو جراند .



(٢٩) "أثر التطور المعرفى والتكنولوجى وظهور التقنيات الحديثة فى تطور علم الجغرافيا السياسية"
من خلال العبارة السابقة : أى مما يلى كان له الدور الأهم فى المساهمة فى حل المشكلة الموضحة فى



جنوح سفينة الحاويات فى
قناة السويس عام 2021 م

الصورة المقابلة ؟

- (أ) الاستشعار عن بعد ونظم المعلومات الجغرافية
(ب) وسائل الاتصال وتكنولوجيا المعلومات .
(ج) الاستشعار عن بعد والعلاقات الدولية .
(د) المنظمات الدولية ووسائل الاتصال .

(٣٠) يرجع الاختلاف بين جبال الهيمالايا فى آسيا عن جبال روكى فى أمريكا الشمالية إلى

- (أ) استخدام بعض أجزاءها كحد سياسي
(ب) سيادة المناخ المدارى بها .
(ج) مساهمتها فى تحقيق الإمتزاج الثقافى .
(د) افتقادها للموارد الاقتصادية .

(٣١) يخرج عن اختصاصات حكام الوحدات الإدارية فى الدول الاتحادية الفيدرالية

- (أ) إعادة تخطيط الريف . (ب) توفير الخدمات الاجتماعية .
(ج) تحديد الوعاء الضريبي . (د) إعلان مواعيد غلق المحال التجارية .

(٣٢) فى حالة استقلال المنطقتين الموضحتين فى الخريطة المقابلة

وتكونيهما لدولة واحدة فإنها سوف تتفق فى الشكل مع دولة

- (أ) الولايات المتحدة
(ب) إيطاليا .
(ج) بلجيكا .
(د) بريطانيا

(٣٣) تسبب سقوط التوازن الدولى فى حدوث عدة متغيرات عالمية أهمها

- (أ) زيادة عدد الدول على الخريطة السياسية لآسيا . (ب) اندماج العديد من الدول فى أفريقيا .
(ج) زيادة الوزن السياسي للدول النامية . (د) نجاح التجربة الاقتصادية فى الكتلة الشرقية .

(٣٤) فى حالة وجود دول مرشحة للإضمام لتكتل الأبيك فإنه من المتوقع أن تكون تلك الدول هما

- (أ) الإكوادور وكولومبيا . (ب) جنوب أفريقيا ومصر .
(ج) الهند وليبيا . (د) أوكرانيا وأفريقيا الوسطى .

(٣٥) أكبر التكتلات الاقتصادية ديموجرافياً ومورفولوجياً يفتقد إلى كل من

- (أ) التجانس السكانى والتقدم التكنولوجى . (ب) التقدم التكنولوجى والمقومات الاقتصادية
(ج) المقومات الاقتصادية والاتصال الأرضى . (د) الاتصال الأرضى والتجانس السكانى



دولة أسبانيا

٤٢) تتركز الثروات المعدنية في فرنسا اطرافها

- (أ) الشمالية .
(ب) الجنوبية .
(ج) الشرقية .
(د) الغربية .

٤٣) زادت مساحة المكسيك عام ١٨٩٨ بسبب عوامل

- (أ) التعرية الهوائية .
(ب) التعرية الجليدية .
(ج) التعرية المائية .
(د) التعرية البحرية .

٤٤) القاسم المشترك بين مشكلة سبتة ومليلة – وكشمير

- (أ) الانتماء القاري .
(ب) العمل الديني .
(ج) الاستعمار .
(د) دور مجلس الامن .

٤٥ - مارأيك هل تتسم الخريطة السياسية بالديناميكية..ولماذا ؟

.....
.....
.....

٤٦ - تتوقف اهمية المواقع البحرية للدول على عدة عوامل ؟ دلل

.....
.....
.....