



## مراجعة الوحدة الأولى



### ضع خط تحت الإجابة الصحيحة مما يأتي



١- العنصر المفقود بالخريطة المقابلة هو .....

(ورده البوصلة - عنوان الخريطة - مفتاح الخريطة - مقياس الرسم)

٢- إذا أردت حساب المسافة بين القاهرة والإسكندرية في الطبيعة فإننا نحتاج إلى .....

(ورده البوصلة - عنوان الخريطة - مفتاح الخريطة - مقياس الرسم)

Field service



## مراجعة الوحدة الأولى



### ضع خط تحت الإجابة الصحيحة مما يأتي

٤- تعد محافظه.....من المحافظات الحدودية الصحراوية

( المنوفية - الشرقية - أسيوط - مطروح )

٥- أفريقيا مساحة واسعة من اليابس تضم عددا من الدول داخلها لذا فهي.....

( دولة - محافظة - قارة - جزيرة )

٦- " مساحة شاسعة من الماء المالح ذات أعماق كبيرة " هذه العبارة تنطبق على.....

( نهر النيل - البحر الأحمر - المحيط الهندي - بحيرة ناصر )

ات الصف الرابع

Need help? (https://aka.ms/attendeelearnmore)

Leave



## مراجعة الوحدة الأولى



## ضع خط تحت الإجابة الصحيحة مما يأتي

٧- يحتوي شعار محافظة القاهرة على ..... الذي يُعبّر عن تاريخها


( الجامع الأزهر - جامع عمرو بن العاص - جامعة القاهرة - قلعة صلاح الدين الأيوبي )

٨- " مدينة شرم الشيخ من أجمل المدن السياحية على البحر الأحمر " هذه العبارة تعبر عن .....

( رأي - وجهة نظر - حقيقة - لاشيء مما سبق )

٩- إذا اردت ان تستخدم مصدراً اولياً لعمل بحث عن قناة السويس فانك تستخدم .....

( موسوعة عن القناة - وثيقة رسمية عن القناة - كتاب عن قناة السويس - مقال عن القناة عام ٢٠١٤ م )



## مراجعة الوحدة الأولى

**ضع كلمة صح امام العبارة الصحيحة وكلمة خطأ امام العبارة الغير صحيحة**

- ١- إذا أردت معرفة موقع القاهرة على الخريطة فانك تنظر الى مقياس الرسم
- ٢- العنصر المفقود في الخريطة المقابلة هو وردة البوصلة
- ٣- لحساب المسافات بين المدن على الخريطة نستخدم مقياس الرسم



خريطة بعض المدن المصرية

العاصمة

مدينة رئيسية

بحر

نهر

horita lacking measurement a



## مراجعة الوحدة الأولى



ضع كلمة صح امام العبارة الصحيحة وكلمة خطأ امام العبارة الغير صحيحة

٤- تحيط البحار بمصر من جهة الجنوب والغرب

٥- لتحديد الاتجاهات على الخريطة نستخدم خطوط الطول ودوائر العرض

٦- يوافق السادس من يوليو من كل عام العيد القومي لمحافظة القاهرة

٧- الكتب والمقالات والموسوعات والجرائد من المصادر الأولية

ات الصف الرابع

Need help? (<https://aka.ms/attendeelearnmore>)

Leave



## مراجعة الوحدة الأولى



ضع كلمة صح امام العبارة الصحيحة وكلمة خطأ امام العبارة الغير صحيحة



٧- يعد الجامع الازهر مناره الاسلام في العالم

٨- المحيط الأطلنطي مساحة واسعة من الماء المالح ذات اعماق كبيرة

٩- رفع علم مصر عالياً وعدم لمسها للأرض

١٠- تمر السفن في الاتجاهين بقناة السويس بعد حفر قناة السويس الجديدة



## مراجعة الوحدة الأولى



أكمل الجدول التالي بالكلمات الآتية ( الطائرات - الأماكن - تفصيلاً ودقة - أعلى - الأقمار الصناعية )

الصورة الفضائية	الصورة الجوية	وجه المقارنة
كلاهما يستخدم في تحديد مواقع .....		التشابه
<p>يتم التقاطها باستخدام ..... لذلك تظهر سطح الأرض من ..... تتميز الأقمار بقدرتها على الدوران حول الأرض لذلك تلتقط عدد أكبر من الصور والمواقع</p>	<p>يتم التقاطها من الجو باستخدام ..... وتعطي صورة حقيقية لسطح الأرض ومعالمها تساعد في رسم خرائط أكثر .....</p>	الاختلاف

We all Atmel. I'll get Julie Terry

مراجعة الوحدة الأولى

لاحظ الصور الآتية ثم أكمل الجدول الآتي مستخدماً الكلمات التالية  
( المواقع - شمالاً - أفقياً - شرقاً - غرباً - رأسياً - جنوباً )

دوائر العرض	خطوط الطول	وجه المقارنة
تستخدم في تحديد .....		التشابه
تتخذ شكلاً ..... تقسم الكرة الأرضية الى نصفين ..... و .....	تتخذ شكلاً ..... تقسم الكرة الأرضية الى نصفين ..... و .....	الاختلاف

Solar will color or they will not sc

ات الصف الرابع

Need help? (<https://aka.ms/attendeelearnmore>)

Leave



مراجعة الوحدة الأولى

**السؤال الرابع أجب بما هو مطلوب .**

أذكر احد السلوكيات التي تعبر عن احترامك لعلم مصر

- أكتب دليلاً واحداً على صحة العبارة التالية " مصر دولة بحرية "

ات الصف الرابع

Need help? (<https://aka.ms/attendeelearnmore>)

Leave



مراجعة الوحدة الأولى



- اذكر سبباً واحداً لأهمية الخريطة عند الجيش

- اذكر سبباً واحداً لأهمية قناة السويس

ات الصف الرابع

Need help? (<https://aka.ms/attendeelearnmore>)

Leave



مراجعة الوحدة الأولى



- اذكر سبب احتفال محافظة القاهرة بعيدها القومي في ٦ يوليو من كل عام

- اكتب تفسيراً واحداً للعبارة التالية " ساعد نهر النيل على ازدهار الاقتصاد المصري منذ القدم "

Are they?

ات الصف الرابع

Need help? (<https://aka.ms/attendeelearnmore>)

Leave



مراجعة الوحدة الأولى



أقرأ العبارة التالية ثم فسر  
" محافظة القاهرة عاصمة للبلاد " فسر ذلك ؟

**موقعها المتميز حيث انها نقطة التقاء الوجه البحري بالوجه القبلي**

**يتركز بها معظم الوزارات المختلفة**

حدد سبباً واحداً لإنشاء الدولة للعاصمة الإدارية الجديدة

**لتقليل الضغط السكاني وتكديس الخدمات بالعاصمة الحالية**



clip daughter, so Kenny Ortega

ات الصف الرابع

Need help? (<https://aka.ms/attendeelearnmore>)

Leave



مراجعة الوحدة الأولى

أقرأ العبارة التالية ثم فسر

" محافظة القاهرة عاصمة للبلاد " فسر ذلك ؟

Need help? (<https://aka.ms/attendeelearnmore>)

Leave

**Live event Q&A** <https://aka.ms/qalearnmor>

Featured

My questions

Most recent

**Moderator** 7:00 PM

9

اليوم بامر الله سنتناول 5كلها عاوزاكي نركزوا

**Moderator** 7:00 PM

8

اللي عندو سؤال بيعت

**Moderator** 7:00 PM

10

اكيد اخدتوها بس دي شرح مع حل



Lesson 1 (3) Create models to show multiplicative comparisons.

**PRACTICE**

Rewrite each equation using multiplication.

1.  $6 + 6 + 6 = 18$  \_\_\_\_\_

2.  $2 + 2 + 2 + 2 + 2 + 2 + 2 = 14$  \_\_\_\_\_

Ask a question

|| 07:55 / 56:40





## مراجعة على الوحدة الثانية



### مراجعة على دروس الوحدة الثانية :

- ١ . جمال أرضنا
  - ٢ . الطقس و المناخ
  - ٣ . البيئات المصرية
  - ٤ . الموارد الطبيعية فى بيئاتنا المصرية
  - ٥ . المشكلات البيئية فى بلدنا
- شخصيات مصرية مؤثرة ( جمال حمدان – سيد درويش )

دراسات 4 ب

Need help? (<https://aka.ms/attendeelearnmore>)

Leave



اكتب اختلافًا واحدًا بين الجبل و التل في الجدول التالي :

التل	الجبل	
		
إرتفاعه أقل من ١٠٠٠ متر	إرتفاعه أكثر من ١٠٠٠ متر	الاختلاف



## حدد فرقاً بين السهل الساحلى و السهل الفيضى

### السهول الساحلية

تمتد على طول ساحل البحر



### السهول الفيضية

تتكون من رواسب الأنهار






## مراجعة على الوحدة الثانية

**ضع خطأ تحت الإجابة الصحيحة مما بين القوسين**

١ . إذا أردت تلوين منخفض القطارة على الخريطة فسوف تختار اللون  
( الأزرق - الأخضر - البنى - الأصفر )

٢ . يلون جبل سانت كاترين على الخريطة باللون  
( الأخضر - الأزرق - الأصفر - البنى )

٣ . يشير اللون الأزرق على خريطة مستويات ارتفاعات سطح مصر إلى  
( البحر - المنخفض - الهضبة - الجبل )

٤ . يلون جنوب غرب مصر باللون البنى بسبب وجود  
( المرتفعات - السهول - المنخفضات - البحار )



## مراجعة على الوحدة الثانية



**ضع خطأً تحت الإجابة الصحيحة مما بين القوسين**

٥ . تقع هضبة الجلف الكبير بمصر فى الركن  
( الجنوب الشرقى - الجنوب الغربى - الشمال الشرقى - الشمال الغربى )

٦ . تحيط المياه بسيناء من  
( جهة واحدة - جهتان - ثلاث جهات - أربع جهات )

٧ . تقع أرض شدوان بكاملها داخل البحر الأحمر فهى بذلك تعد  
( جزيرة - شبه جزيرة - هضبة - منخفض )

٨ . إذا أردت تلوين السهل الفيضى على خريطة مصر فإنك تختار اللون  
( الأخضر - الأصفر - البنى - الأزرق )



## مراجعة على الوحدة الثانية



**ضع خطأ تحت الإجابة الصحيحة مما بين القوسين**

٩ . يسود مصر مناخ  
( صحراوي - استوائي - مداري - قطبي )

١٠ . الهيئة المسئولة عن التنبؤ بالأحوال الجوية في مصر هي  
( الهيئة العامة للإستعلام - الجهاز المركزي للتعبئة العامة - الهيئة العامة للأرصاد الجوية - وزارة الصحة و  
السكان )

١١ . لمعرفة درجة الحرارة اليوم فإننا نستخدم  
( دارة الرياح - الترمومتر - الأنيمومتر - جوب الرياح )

١٢ . لو لم يتم اختراع الأنيمومتر لا يمكننا قياس  
( كمية الأمطار - سرعة الرياح - إتجاه الرياح - درجة الحرارة )



## مراجعة على الوحدة الثانية



أكمل الجدول التالي لتحديد أوجه التشابه و الإختلاف بين الطقس و المناخ مستخدماً الكلمات الأتية :  
( سفه - قصيرة - طويلة - أسبوع - الأمطار - الرياح )

المناخ	الطقس	
	يقيس كلا منهما الحرارة و ..... و .....	أوجه التشابه
وصف حالة الجو في فترة زمنية ..... قد تكون فصل أو .....	وصف حالة الجو في فترة زمنية ..... قد تكون يوم أو .....	أوجه الإختلاف



## مراجعة على الوحدة الثانية



فى رأيك ما الفوائد التى تعود على مصر من مشروع إنشاء ١٠٠,٠٠٠ صوبة زراعية ؟

- ١ . تلبية إحتياجات المواطنين من المواد الغذائية
- ٢ . زيادة الخضروات و الفواكه باستخدام كميات قليلة من المياه و مساحات أقل من الأراضى الزراعية
- ٣ . زيادة صادرات مصر من المحاصيل الغذائية وزيادة دخل الدولة
- ٤ . توفير فرص عمل لأكثر من ربع مليون مواطن مصرى





## مراجعة على الوحدة الثانية



### ماذا يحدث إذا

- ١ . كانت مصر تقع فى الإقليم المناخى الإستوائى  
كان سيسودها مناخ حار و ممطر طول العام
- ٢ . لم يتم إنشاء الهيئة العامة للأرصاد الجوية  
لا يمكننا التعرف على الأحوال الجوية المتوقعة
- ٣ . تشابهت الموارد الطبيعية فى كل البيئات المصرية  
لن يكون هناك تنوع فى الأنشطة الإقتصادية
- ٤ . لا يوجد مياه جوفية فى الصحراء الغربية  
لن توجد زراعة فى الصحراء



## مراجعة على الوحدة الثانية



### ما النتائج المترتبة على :

- ١ . حرق قش الأرز  
زيادة نسبة تلوث الهواء و تكون السحابة السوداء
- ٢ . إسراف المزارعين فى إستخدام الأسمدة الكيماوية و المبيدات الحشرية  
تلوث التربة الزراعية
- ٣ . إلقاء مياه الصرف الصحى و نفايات المصانع فى النهر و البحر  
تلوث المياه و يسبب الضرر للكائنات الحية البحرية و يؤثر سلباً على صحة الإنسان



## مراجعة على الوحدة الثانية



### ما النتائج المترتبة على :

٤ . سوء استخدام الموارد الطبيعية أدى إلى ظهور العديد من المشكلات البيئية التي تضر بالموارد الطبيعية و تهدد صحة الإنسان و حياة الكائنات الحية على سطح الأرض

٥ . تلوث التربة في مصر يسبب أضرار للإنسان و الحيوان و النبات

٦ . زيادة دخان المصانع و عوادم السيارات أدى إلى إصابة الإنسان بكثير من الأمراض



دراسات 4 ب

Need help? (<https://aka.ms/attendeelearnmore>)

Leave



## مراجعة على الوحدة الثانية



ما النتائج المترتبة على :

٧ . عوامل التعرية المائية و الهوائية

تشكلت بعض مظاهر السطح مثل السهول الساحلية و السهول الفيضية و المنخفضات



## مراجعة على الوحدة الثانية



ضع خطأً تحت الكلمة التي لا تنتمي إلى المجموعة

١ . الجبل - الهضبة - البحيرة - التل

٢ . البحر - المحيط - النهر

٣ . السهول الساحلية - السهول الفيضية - الهضاب

٤ . البحر الأحمر - البحر المتوسط - بحيرة البرلس - بحيرة ناصر



## حدد أسماء البيئات التالية مع توضيح أماكن انتشارها



البيئة الساحلية  
توجد في شريط ساحل البحر المتوسط  
و شريط ساحل البحر الأحمر



البيئة الصحراوية  
توجد في الصحراء الغربية  
و الصحراء الشرقية  
و شبه جزيرة سيناء



البيئة الزراعية  
توجد في وادي النيل و دلتا  
النيل



## مراجعة على الوحدة الثانية

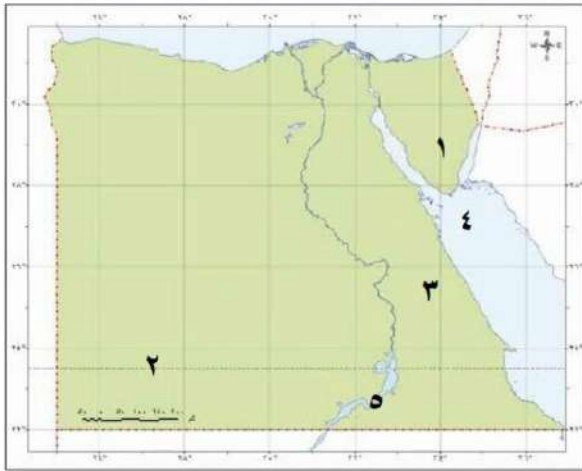


### اثبت بالأدلة صحة العبارات الآتية

- ١ . تتنوع الرمال في الأراضي المصرية  
تضم الأراضي المصرية الرمال البيضاء و الرمال السوداء
- ٢ . لبعض النباتات التي تنمو في البيئات المصرية قيمة إقتصادية  
تدخل في صناعة الأدوية و العطور و الصابون و مستحضرات التجميل و من أمثلتها  
( نبات الصبار - الخروع )
- ٣ . قيام حرفة الزراعة في البيئة الصحراوية  
وجود الواحات التي تقوم فيها الزراعة على المياه الجوفية



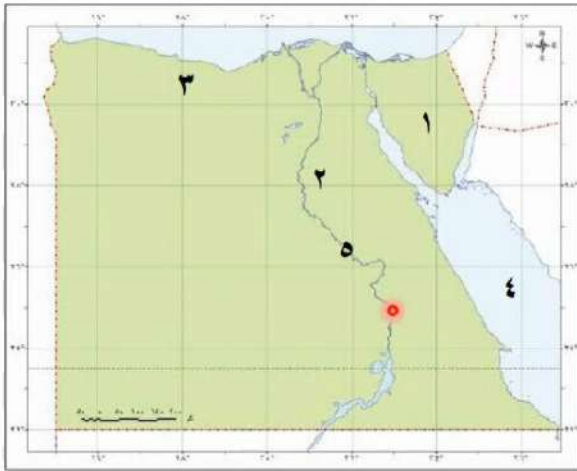
## أمامك خريطة صماء لمصر ، أكتب مدلول الأرقام الموضحة عليها



- سانت كاترين  
 ١ . جبل ..... في جنوب سيناء  
 الجلف الكبير  
 ٢ . هضبة ..... جنوب غرب مصر  
 الشرقية  
 ٣ . الصحراء .....  
 شدوان  
 ٤ . جزيرة .....  
 ناصر  
 ٥ . بحيرة .....



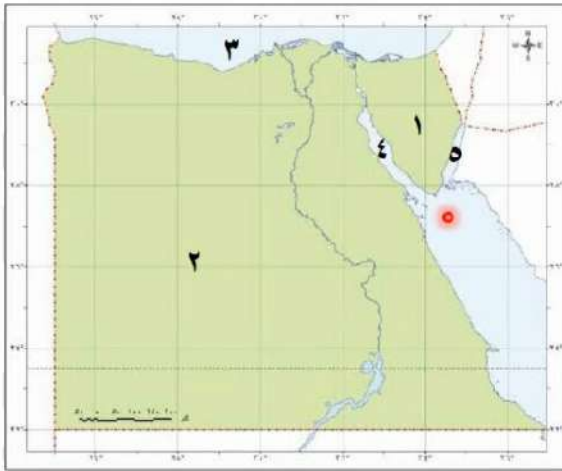
أمامك خريطة صماء لمصر ، أكتب مدلول الأرقام الموضحة عليها



- ١ . بيئة صحراوية .....
- ٢ . بيئة زراعية .....
- ٣ . بيئة ساحلية .....
- ٤ . البحر الأحمر .....
- ٥ . نهر النيل .....



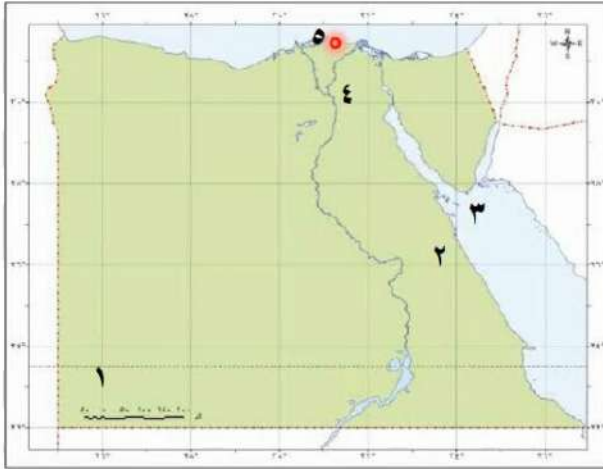
## أمامك خريطة صماء لمصر ، أكتب مدلول الأرقام الموضحة عليها



- شمال شبه جزيرة سيناء
- ١ . منطقة لإستخراج الفحم .....
  - ٢ . الصحراء الغربية .....
  - ٣ . البحر المتوسط .....
  - ٤ . خليج السويس .....
  - ٥ . خليج العقبة .....



### أمامك خريطة صماء لمصر ، أكتب مدلول الأرقام الموضحة عليها



١ . جبل ..... العوينات في جنوب غرب مصر

٢ . الصحراء الشرقية .....

٣ . جزيرة شنوان .....

٤ . تلال المقطم ..... شمال القاهرة

٥ . بحيرة مالحة البرلس .....



## مراجعة على الوحدة الثانية



**أكمل القصة التالية باستخدام هذه الكلمات :**

( العقبة - الشرقية - الزراعية - السويس - العالى - الشعاب المرجانية - شبه جزيرة سيناء )

١ . جاء سائح إلى مصر ليستمتع بالمناظر الطبيعية و قام برحلته من مدينة أسوان جنوبا حيث شاهد عظمة  
السد ..... حتى مدينة القاهرة شمالا .

٢ . بدأ رحلته بالذهاب إلى بيئة تعتمد على مياه نهر النيل فى جميع مجالات الحياه و تتميز بالسطح  
المستوى و هى البيئة .....

٣ . ثم انتقل إلى ساحل البحر الأحمر ليستمتع بالغطس و مشاهدة ..... بمناظرها  
و ألوانها الخلابة .



## مراجعة على الوحدة الثانية



**اكمل القصة التالية باستخدام هذه الكلمات :**

( العقبة – الشرقية – الزراعية – السويس- العالى – الشعاب المرجانية – شبه جزيرة سيناء )

٤ . و من هناك إنتقل إلى صحراء تقع شرق نهر النيل و هى الصحراء .....

٥ . ثم قرر الذهاب إلى أرض الفيروز و هى ..... التى تقع بين خليجى ..... و .....

دراسات 4 ب

Need help? (<https://aka.ms/attendeelearnmore>)

Leave



مراجعة على الوحدة الثانية



<https://forms.gle/fiPvDFvxssnJHAFv8>

## مراجعة الوحدة الثانية

ضع خط تحت الإجابة الصحيحة مما بين القوسين

١ - من خلال الخريطة نجد أن جبل سانت كاترين يقع في مصر .....

(شمال - غرب - شمال شرق - جنوب شرق)

٢ - تعد بحيرة ..... أكبر بحيرة صناعية عذبة في العالم .

( البرلس - ناصر - قارون - المنزلة )

## مراجعة الوحدة الثانية



ضع خط تحت الإجابة الصحيحة مما بين القوسين

٣ - من خلال الخريطة نجد أن هضبة الجلف الكبير تقع ضمن محافظات .....

(الوجه القبلي - الوجه البحري - الحدود - الدلتا)

٤ - توجد البيئة الصحراوية في مصر في .....

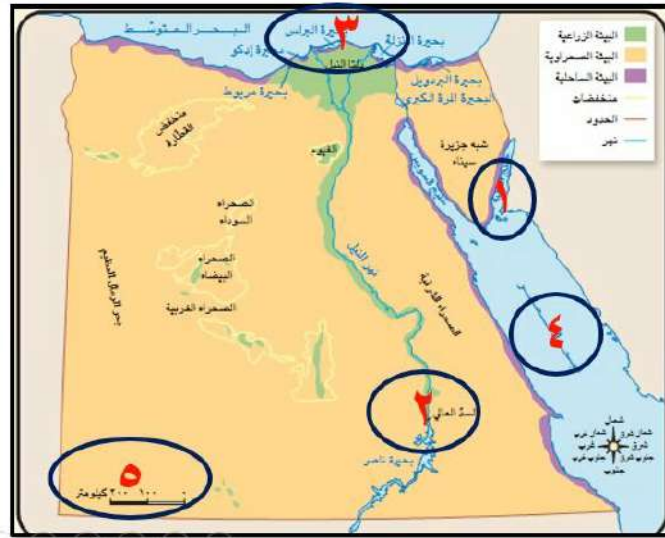
( الدلتا - الوادي - الساحل الشمالي - الصحراء الغربية )



## مراجعة الوحدة الثانية



باستخدام وردة البوصلة حدد الإتجاهات الاصلية أو الفرعية الخاصة  
بالاماكن المختلفة على خريطة مصر



١ . خليج العقبة ... شمال شرق مصر

٢ . محافظة أسوان ..... جنوب مصر

٣ . بحيرة البرلس ..... شمال مصر

٤ . البحر الأحمر ... شرق مصر...

٥ - هضبة الجلف الكبير . جنوب غرب مصر





مراجعة الوحدة الثانية



**أنظر إلى الصور التي أمامك**

**١ - اذكر اثنين من أسباب تلوث المياه في مصر**

**إلقاء مخلفات الصرف الصحي والزراعي الملوثة بالأسمدة والمبيدات الحشرية في الماء**

**إلقاء مخلفات المصانع**

**٢ - اذكر اثنين من أسباب تلوث الهواء في مصر**

**دخان المصانع وعوادم السيارات**

**حرق قش الأرز في البيئة الزراعية**






## مراجعة الوحدة الثانية



### ضع خط تحت الإجابة الصحيحة مما يأتي

- ١ - المرتفعات والجبال الشاهقة تنتشر في .....  
( الصحراء الشرقية - الصحراء الغربية - الوادي - الدلتا )
- ٢ - الزراعة في الواحات تقوم على مياه .....  
( البحار - الأنهار - الابار والعيون - الأمطار )
- ٣ - " وصف حالة الجو من حيث الحرارة والرياح والامطار لفترة قصيرة " هذه العبارة تنطبق على .....  
( الحرارة - الأقمار الصناعية - الطقس - المناخ )



## مراجعة الوحدة الثانية



### ضع خط تحت الإجابة الصحيحة مما يأتي

- ٤ - الشعاب المرجانية توجد في مصر في منطقة .....

( نهر النيل - البحر المتوسط - بحيرة ناصر - البحر الأحمر )

- ٥ - السد العالي يوجد في محافظة .....

( سوهاج - القاهرة - أسوان - الأقصر )

- ٦ - الأداة التي أمامك تستخدم في تحديد اتجاه الرياح وتسمى .....

( ميزان الحرارة - مقياس المطر - جورب الرياح - دوارة الرياح )




مراجعة الوحدة الثانية

صِل كل عبارة من العمود ( أ ) بما يناسبها من عبارات العمود ( ب )

( أ )

١ - الجبل

٢ - الهضبة

٣ - التل

٤ - المنخفض

( ب )

- أرض مرتفعة ولها قمة يقل ارتفاعها عن ١٠٠٠ متر .

- أرض شديدة الارتفاع ولها قمة وجوانبها شديدة الانحدار .

- أرض منخفضة عن مستوى سطح البحر .

- مساحة واسعة من الأرض مرتفعة مستوية أو شبه مستوية .

- مساحة من اليابس تحيط بها المياه من جميع الجهات





## مراجعة الوحدة الثانية



### صوب ما تحته خط :

- أرض تحيط بها المياه من ثلاث جهات تسمى الجزيرة . شبه الجزيرة
- مناجم الذهب تنتشر في الدلتا . الصحراء الشرقية
- الجبال والهضاب المغطاة باللون الأسود توجد في الصحراء البيضاء . الصحراء السوداء
- السحابة السوداء من مظاهر تلوث التربة . الهواء
- مناخ مصر معتدل وممطر في فصل الصيف . الشتاء
- يعد البحر المتوسط من أهم مصادر المياه العذبة في مصر نهر النيل

دراسات 4 ب

Need help? (<https://aka.ms/attendeelearnmore>)

Leave



مراجعة الوحدة الثانية

صنف المظاهر الطبيعية التالية في الجدول التالي :

( وادي النيل – سانت كاترين – الجلف الكبير – ساحل البحر المتوسط – العوينات )

سهول	هضاب	جبال
..... وادي النيل .....	..... الجلف الكبير .....	..... سانت كاترين .....
ساحل البحر المتوسط		العوينات .....

33:34 / 56:19

مذكرتي  
Mozkrty.com

1/1



مراجعة الوحدة الثانية



**ما النتائج المترتبة على .... ؟**

- ١- حرق قش الأرز .  
أدى إلى تلوث الهواء وانتشار السحابة السوداء فوق محافظة القاهرة
- ٢ - اتساع مساحة مصر .  
أدى إلى تنوع البيئات المصرية ( الصحراوية - الزراعية - الساحلية )
- ٣ - إسراف المزارعين في استخدام الأسمدة الكيماوية .  
أدى إلى تلوث التربة وانتشار الأمراض





مراجعة الوحدة الثانية

حدد أي السلوكيات التالية يعد سلوكاً ايجابياً وأي منها يعد سلوكاً سلبياً

١ - شخص يقوم بإلقاء المخلفات في نهر النيل . **سلبى**

٢ - مجموعة طلاب يقومون بزراعة الأشجار في المدرسة . **إيجابى**

٣ - فلاح يسرف في استخدام المبيدات الحشرية . **سلبى**

٤ - شخص يقوم بحرق المخلفات في الشارع . **سلبى**

مراجعة الوحدة الثانية

لاحظ الخريطة ثم اكتب كلمة ( صح ) أمام العبارة الصحيحة و ( خطأ ) أمام غير الصحيحة

١ - تحيط المياه بشبه جزيرة سيناء من جميع الجهات . ( خطأ )

٢ - أكبر البيئات المصرية مساحة هي البيئة الصحراوية ( صح )

٣ - تتركز البيئة الزراعية في مصر في منطقة الوادي والدلتا . ( صح )



مراجعة الوحدة الثانية

ضع كلمة صح امام العبارة الصحيحة وكلمة خطأ امام العبارة الغير صحيحة

٤- تحيط البحار بمصر من جهة الجنوب والغرب ( خطأ )

٥- تلون الجبال والهضاب على الخريطة باللون البني . ( صح )

٦- تشير الصورة التالية الى دراسة المناخ . ( خطأ )

٧- إذا كانت مصر تقع في نطاق المناخ الاستوائي فستكون الامطار طوال العام ( صح )



مراجعة الوحدة الثانية



ضع كلمة صح امام العبارة الصحيحة وكلمة خطأ امام العبارة الغير صحيحة

٤- بحر الرمال العظيم يوجد في غرب مصر ( صح )

٥- تنتشر الشعاب المرجانية على ساحل البحر المتوسط . ( خطأ )

٦- المشكلات البيئية ظهرت بسبب حسن استخدامنا للموارد . ( خطأ )

٧- " دائما ما تكون الحرارة مرتفعة في أسوان طوال العام " العبارة تصف الطقس ( خطأ )





مراجعة الوحدة الثانية

أكمل الجدول الآتي مستخدماً الكلمات التالية

( الرياح - قصيرة - الملابس - الجو - الحرارة - طويلة - المحاصيل الزراعية - الأمطار )

المناخ	الطقس	وجه المقارنة
..... و .....	كلاهما يصف حالة ..... من حيث .....	التشابه
يصف حالة الجو لفترة زمنية ..... تساعد دراسته على تحديد نوع .....	يصف حالة الجو لفترة زمنية ..... تساعد دراسته على تحديد قرارنا اليومية في تحديد نوع .....	الاختلاف





مراجعة الوحدة الثانية



**أجب بما هو مطلوب .**

**حدد تفسيراً واحداً لأهمية الأقمار الصناعية بالنسبة للطقس .**

**تستخدم في جمع بيانات دقيقة عن عناصر الطقس**

**- أكتب دليلاً على تنوع مظاهر السطح في مصر .**

**الدليل :- وجود المرتفعات والمنخفضات والسهول الفيضية  
والساحلية ووجود الجزر واشباه الجزر والمسطحات المائية**





مراجعة الوحدة الثانية



- اذكر سبباً واحداً البحر المتوسط من أكثر بحار العالم تلوثاً  
كثرة المدن والسفن التي تلقى المخلفات فيه

أذكر سببين لتنوع البيئات في مصر

- إتساع مساحة سطح مصر  
- تنوع المظاهر الطبيعية لسطح مصر



دراسات 4 ب

Need help? (<https://aka.ms/attendeelearnmore>)

Leave




مراجعة الوحدة الثانية



دلل على صحة العبارة

" سيد دروش ملحن مصري له أغاني وألحان عظيمة وباقية حتى الآن "

**لحن أغنية " بلادي بلادي " التي أصبحت النشيد الوطني المصري**

- حدد فرقاً واحداً بين السهل الفيضي والسهل الساحلي

**السهل الفيضي يتكون من رواسب الأنهار (مثل سهول نهر النيل )**

**السهل الساحلي يمتد على طول ساحل البحر (مثل سواحل البحر الأحمر والمتوسط )**





## مراجعة على الوحدة الثالثة



### مراجعة على الدروس الثلاثة الأولى من الوحدة الثالثة :

- ١ . الحياة المستدامة
- ٢ . الحرف التراثية
- ٣ . معًا لحياة أفضل!



## مراجعة على الوحدة الثالثة



### اضغط على الكلمة الصحيحة و اسحبها فوق النقاط

- ١ . الطاقة الكهربائية مولدة من .....  
( الرياح - المياه - الشمس - البترول )
- ٢ . لخفض نسبة التلوث تدعو الدولة إلى استخدام السيارات التي تعمل بالغاز الطبيعي بدلاً من .....  
( الفحم - البنزين - الكهرباء - المازوت )
- ٣ . للحفاظ على الموارد الطبيعية للبيئة يجب .....  
( الإسراف في المياه - استهلاك الطاقة - استخدام الفحم - ترشيد الاستهلاك )
- ٤ . من الموارد الطبيعية غير المتجددة .....  
( الهواء - الماء - التربة - البترول )



## مراجعة على الوحدة الثالثة



### اضغط على الكلمة الصحيحة و اسحبها فوق النقاط

٥ . من الخدمات الإلكترونية التي تقدمها الدولة .....  
( متابعة المرضى - الأنشطة الرياضية - إنشاء الطرق - استخراج شهادة الميلاد )

٦ . من الخدمات التي تقدمها الدولة .....  
( الزراعة - الصناعة - الصحة - التجارة )

٧ . أطلقت الدولة مبادرة ..... للحفاظ على البيئة  
( تحيا مصر - اتحضر للأخضر - ١٠٠ مليون صحة - حياة كريمة )

٨ . تنصح الدولة المزارعين باستخدام .....  
( المبيدات الحشرية - الأسمدة الكيماوية - الأسمدة العضوية - الموارد غير المتجددة )



## مراجعة على الوحدة الثالثة



### حدد المختلف في العبارات التالية :

- ١ . الحديد - البترول - الفحم - الغاز الطبيعي .
- ٢ . الرياح - المياه - الفحم - الشمس .
- ٣ . صناعة السيارات - صناعة القطارات - صناعة الفخار - صناعة المُعلبات .
- ٤ . تعليم - صحة - ثقافة - غذاء .
- ٥ . المدن الجديدة - إنشاء الطرق - تطوير العشوائيات - استخراج الوثائق .

دراسات 4 ب

Need help? (<https://aka.ms/attendeelearnmore>)

Leave



## مراجعة على الوحدة الثالثة



### صنف العبارات التالية إلى خدمات أو سلع

- |       |                         |
|-------|-------------------------|
| سلع   | ١ . الأجهزة الإلكترونية |
| خدمات | ٢ . حماية المؤسسات      |
| خدمات | ٣ . علاج المرضى         |
| سلع   | ٤ . المواد الغذائية     |
| خدمات | ٥ . التعليم فى المدارس  |



## مراجعة على الوحدة الثالثة



### صوب ما تحته خط

- ٥ . قامت الدولة بإنشاء مدينة الروبيكي لتشجيع صناعة النسيج الجلود
- ٦ . تهدف الحرف التراثية لتقليل فرص العمل للشباب توفير
- ٧ . صناعة الزجاج تم إدراجها ضمن قائمة التراث العالمي النسيج و السجاد اليدوى
- ٨ . صناعة الفخار يتم إنتاجها فى شارع الخيامية بالأزهر الخيامية





## مراجعة على الوحدة الثالثة



### صوب ما تحته خط

- ٩ . محطة الزعفرانة تولد الكهرباء من الشمس الرياح
- ١٠ . تنصح الدولة المزارعين باستخدام الأسمدة الكيميائية للحفاظ على التربة العضوية
- ١١ . اتجهت دول العالم إلى استخدام مصادر الطاقة المتجددة مثل الرياح و الفحم الشمس
- ١٢ . يتم توليد الكهرباء في محطة كهرباء السد العالي من الرياح المياه





## مراجعة على الوحدة الثالثة



صنّف الصناعات التالية حسب المكان الذي تتركز فيه :

( صناعة الخيامية - صناعة الجلود - صناعة الزجاج )

١ . قرية الجراح صناعة الزجاج

٢ . مدينة الروبيكي صناعة الجلود

٣ . شارع الخيامية صناعة الخيامية





## مراجعة على الوحدة الثالثة



وضح أهمية الحرف التراثية في دعم الإقتصاد المصرى

- ١ . توفير فرص عمل للشباب
- ٢ . تدعيم السياحة المستدامة حيث يُقبل السياح على شراء هذه المنتجات



دراسات 4 ب

Need help? (<https://aka.ms/attendeelearnmore>)

Leave



اذكر الخدمة التي تُعبّر من الصور أدناه



الخدمات البيئية .....



الخدمات الأمنية .....



الخدمات التعليمية .....



الخدمات الصحية .....



اضغط على كلمة ( صح ) أمام العبارة الصحيحة و كلمة ( خطأ ) أمام العبارة الخاطئة

١ . الطاقة الشمسية من مصادر الطاقة المتجددة



٢ . استخدام الدراجات بدلاً من السيارات يقلل التلوث

٣ . تُستخدم السدود لتخزين الأمطار

٤ . ترشيد استهلاك المياه من أهداف التنمية المستدامة



## مراجعة على الوحدة الثالثة



اضغط على كلمة ( صح ) أمام العبارة الصحيحة و كلمة ( خطأ ) أمام العبارة الخاطئة

٥ . تعتمد صناعة السجاد اليدوي على بعض الخامات مثل الكتان أو القطن

٦ . لا تحتاج صناعة الفخار إلى الإحساس الفني للصانع

٧ . تتميز المنازل النوبية بالعديد من أشكال الفنون الجميلة

٨ . رعاية شؤون العمال من جهود الدولة للحفاظ على الصناعات التراثية



## مراجعة على الوحدة الثالثة



اضغط على كلمة ( صح ) أمام العبارة الصحيحة و كلمة ( خطأ ) أمام العبارة الخاطئة

٩ . توجد في محافظتي العديد من الخدمات التي تقدمها الدولة

١٠ . نشر الفنون و إنشاء دور السينما من الخدمات التي تقدمها الدولة في مجال التعليم

١١ . الخدمات هي أى عمل تقوم به الدولة لتلبية حاجات المواطنين

١٢ . يطلق على المنتجات التي يتم إنتاجها اسم السلع



## مراجعة على الوحدة الثالثة



**قارن بين :**

حملة ١٠٠ مليون صحة و مبادرة حياة كريمة من حيث الهدف من كل منهما .

مبادرة حياة كريمة	حملة ١٠٠ مليون صحة	الهدف منها
<p>التخفيف عن المواطنين في المجتمعات الأكثر احتياجاً</p>	<p>١ . الكشف المبكر عن الإصابة ببعض الأمراض مثل : الكبد الوبائي ٢ . تقديم خدمات العلاج و المتابعة للمرضى</p>	



## مراجعة على الوحدة الثالثة



بم تفسر

١. تقوم الدولة بعمل دورات تدريبية للحرفيين  
+  
لتعليمهم المهارات الخاصة ببعض الحرف  
و للحفاظ على الحرف التراثية



## مراجعة على الوحدة الثالثة



اكمل العبارات الآتية بالكلمة المناسبة مما بين القوسين :  
( الأرز - الخدمات - الفول - الشمس )

١ . أحد مصادر الطاقة المتجددة المتوفرة في مصر .....

٢ . تتعرض التربة للإجهاد بسبب زراعة محصول .....

٣ . يعد محصول ..... من المحاصيل غير المُجهدَة على التربة

٤ . " أي عمل أو نشاط موجه لتلبية حاجات أو رغبات المواطنين " تشير العبارة لمفهوم .....



## مراجعة على الوحدة الثالثة



### ماذا يحدث لو ???

- ١ . زادت مساحات الأراضى الزراعية المزروعة بالقطن و الأرز  
تتعرض التربة إلى الإجهاد و التدهور
- ٢ . زاد استهلاك البترول كمصدر للطاقة  
ستزيد نسبة تلوث البيئة  
و سيقبل البترول و يصبح مهددًا بالنفاد
- ٣ . تم تسويق المنتجات التراثية فى الداخل دون الخارج  
لن يقبل السائحون من الخارج على شراء منتجات الحرف اليدوية التراثية و سيقبل حجم  
الصادرات و يتأثر الاقتصاد المصرى



## مراجعة على الوحدة الثالثة



### ما العلاقة بين ؟؟؟؟

١ . بقايا الطعام – الحفاظ على التربة من التلوث  
استخدام بقايا الطعام كسماد عضوي للتربة يحافظ عليها من التلوث

٢ . حفر الآبار – موارد المياه  
حفر المزيد من الآبار يساعد على زيادة مصادر المياه العذبة

٣ . استخدام السيارات التي تسير بالغاز الطبيعي – تلوث الهواء  
استخدام سيارات تستخدم ~~الغاز الطبيعي~~ يقلل من تلوث الهواء



دراسات 4 ب

Need help? (<https://aka.ms/attendeelearnmore>)

Leave



مراجعة على الوحدة الثالثة



<https://forms.gle/uzaYK5ezhmuAkQfn7>

دراسات 4 ب

Need help? (<https://aka.ms/attendeelearnmore>)

Leave



## مراجعة الوحدة الثالثة



## الموارد والخدمات في بلدنا

- |   |                                 |   |                                      |
|---|---------------------------------|---|--------------------------------------|
| ٢ | الدرس الثاني<br>الحرف التراثية  | ١ | الدرس الأول<br>الحياة المستدامة      |
| ٤ | الدرس الرابع<br>حقوق الأطفال    | ٣ | الدرس الثالث<br>معاً لحياة أفضل!     |
| ٦ | الدرس السادس<br>المستثمر الصغير | ٥ | الدرس الخامس<br>مهن ومهارات للمستقبل |

مراجعة الوحدة الثالثة

لاحظ الصور التي أمامك ثم حدد أي منها يُعبّر عن حقوق الطفل وأجباته؟

واجبات الطفل

واجبات الطفل

حقوق الطفل

## مراجعة الوحدة الثالثة



### اختر الإجابة الصحيحة مما يأتي

- ١ - أي من التالي يعد من حقوق الطفل في مصر؟ الحق في .....  
( الرعاية الصحية - أداء الواجبات المدرسية - المحافظة على البيئة - مساعدة أفراد الأسرة )
- ٢ - يحصل الطفل على التعليم المناسب في .....  
( المستشفيات - المدارس - الشوارع - النوادي )
- ٣ - عند تعرض الطفل في مصر للعنف فإن عليه الاتصال ب.....  
( خط نجدة الطفل - وزارة الصحة - المدرسة - الإسعاف )

## مراجعة الوحدة الثالثة



### اختر الإجابة الصحيحة مما يأتي

- ٣ - " لم تكن الإعاقة مانعاً لحصوله على لقب عميد الأدب العربي " العبارة تنطبق على .....
- ( سيد درويش - جمال حمدان - طه حسين - طلعت حرب )
- ٤ - يمكننا الاتصال بخط نجدة الطفل عند تعرضه لـ .....
- ( الحماية - العطف - العنف - الاحتواء )
- ٥ - الحرفة السائدة في المناطق الفيضية هي .....
- ( الصناعة - التجارة - الزراعة - الرعي )

## مراجعة الوحدة الثالثة



### اختر الإجابة الصحيحة مما يأتي

- ٦ - تعد حرفة الرعي من الحرف المميزة للمناطق .....
- ( الفيضية - الصحراوية - الساحلية - الصناعية )
- ٧ - من آثار التطور العلمي والتكنولوجي على المجتمع ظهور .....
- ( الإبداع - اللعب - الكسل - النوم )
- ٨ - المناطق الغنية بالمعادن والبتروك ينشر بها العمل في مجال .....
- ( التعدين - الزراعة - الرعي - التجارة )

## مراجعة الوحدة الثالثة



### اختر الإجابة الصحيحة مما يأتي

- ٩ - من المهن التي زادت الحاجة لها نتيجة التطوير التكنولوجي .....
- ( المزارع - التاجر - المهندس - النجار )
- ١٠ - في رأيك ما المهنة التي تتوقع عدم وجودها في المستقبل ؟ .....
- ( خبراء الذكاء الاصطناعي - خبراء الطاقة الشمسية - المهندسون المبدعون - الصيادون البدائيون )
- ١١ - " تم تأسيس أول بنك وطني عام ١٩٢٠ م " العبارة تنطبق على بنك .....
- ( الأهلي - العربي - مصر - الافريقي )

## مراجعة الوحدة الثالثة



### اختر الإجابة الصحيحة مما يأتي

- ١٢ - الماء بالنسبة للإنسان يعد من .....
- ( الرفاهيات - الرغبات - الأعمال - الحاجات )
- ١٣ - البنوك ومكاتب البريد يتشابهان في أن كلاهما يقدم خدمات .....
- ( مصرفية - تجارية - صناعية - سياحية )
- ١٤ - يترتب على زيادة الاستثمار ازدهار .....
- ( الصحة - التعليم - الاقتصاد - الامن )

دراسات 4 ب

Need help? (<https://aka.ms/attendeelearnmore>)

Leave



## مراجعة الوحدة الثالثة



لاحظ الصور التي أمامك أي منها يُعبّر عن الحاجات وأيها يُعبّر عن الرغبات وصل

الصورة بما تُعبّر عنه؟



حاجات

رغبات



## مراجعة الوحدة الثالثة



### صوب ما تحته خط :

- أسس طلعت حرب بنك القاهرة عام ١٩٢٠ م . مصر
- من أشهر مؤلفات طه حسين كتاب "البحث عن الذات". الأيام
- تنتشر حرفة الرعي في المناطق الساحلية. المناطق الصحراوية
- يعد كلاً من الخبز والملابس من الرغبات لدى الإنسان . الحاجات
- مساعدة أفراد الأسرة في بعض الأعمال المنزلية من حقوق الطفل في مصر . واجبات
- إصدار العملات الورقية من مهام البريد المصري . البنك المركزي المصري



## مراجعة الوحدة الثالثة



صنّف ما يأتي لتمييز بين حقوق الطفل وواجباته:  
 ( الرعاية الصحية - المذاكرة وأداء الواجبات - التعليم والترفيه - الحفاظ على البيئة )

واجبات الطفل	حقوق الطفل
المذاكرة وأداء الواجبات	الرعاية الصحية.....
الحفاظ على البيئة.....	التعليم والترفيه.....





## مراجعة الوحدة الثالثة



صنّف العناصر التالية إلى الحاجات والرغبات :  
( الذهاب إلى الملاهي - الخبز - التلفزيون - المسكن - الملابس - زيارة المتاحف )

الرغبات	الحاجات
الذهاب إلى الملاهي	.....الخبز.....
.....التلفزيون.....	.....المسكن.....
.....زيارة المتاحف.....	.....الملابس.....





## مراجعة الوحدة الثالثة



ضع كلمة صح أمام العبارة الصحيحة وكلمة خطأ أمام العبارة الغير صحيحة

- للطفل الحق في المشاركة في القرارات التي تؤثر في حياته ( صح )

- تقل الحاجة إلى استخدام " الروبوت " مع التطور التكنولوجي ( خطأ )

- النجار وعامل البناء من المهن الحديثة في المستقبل ( خطأ )

- من الممكن أن يحقق ذوي الاحتياجات الخاصة مراكز مرموقة في المجتمع . ( صح )

## مراجعة الوحدة الثالثة



ضع كلمة صح أمام العبارة الصحيحة وكلمة خطأ أمام العبارة الغير صحيحة

- كانت الإعاقة تمثل عائقاً في طريق طه حسين لتحقيق هدفه ( خطأ )

- الحاجات هي الأشياء التي يجب أن تحصل عليها لتعيش ( صح )

- كلما زاد الاستهلاك ازدهر الاقتصاد ( خطأ )

- نُقِبَ طلعت حرب بأبو الاقتصاد المصري . ( صح )

## مراجعة الوحدة الثالثة



أجب عن الأسئلة التالية

١ - حدد بعض الخدمات التي تقدمها البنوك للمواطنين .

قبول الودائع - فتح الحسابات المختلفة  
إعطاء أموال للمستثمرين على هيئة قروض

٢ - وضح سبب تأسيس طلعت حرب بنك مصر .

لاستثمار مدخرات الشعب المصري في مشروعات في مختلف  
المجالات مثل الزراعة والصناعة والسياحة وغيرها

دراسات 4 ب

Need help? (<https://aka.ms/attendeelearnmore>)

Leave



## مراجعة الوحدة الثالثة



أجب عن الأسئلة التالية

٣ - ما العلاقة بين دستور مصر عام ٢٠١٤ وذوي الاحتياجات الخاصة ؟

ينص الدستور المصري في المادة ( ٨١ ) على أن الدولة تضمن حقوق ذوي الإحتياجات الخاصة صحياً ، واقتصادياً، واجتماعياً ، وثقافياً ، وترفيهياً، وتعليمياً وتوفير فرص العمل لهم وتهيئة المرافق العامة والبيئة المحيطة بهم "





## مراجعة الوحدة الثالثة



### دلل على صحة العبارة

- ١ - " كان لطلعت حرب أثر كبير على الاقتصاد المصري "
 

أسس بنك مصر بأموال مصرية وتم تأسيس العديد من الشركات بفضل هذا البنك منها مصر للتأمين وشركة مصر للغزل والنسيج .
- ٢ - " يحتاج الناس إلى مهارات في المستقبل لمواكبة التطور التكنولوجي "
 

من هذه المهارات ( المرونة - القدرة على الإبداع - حل المشكلات - التعلم الذاتي )

