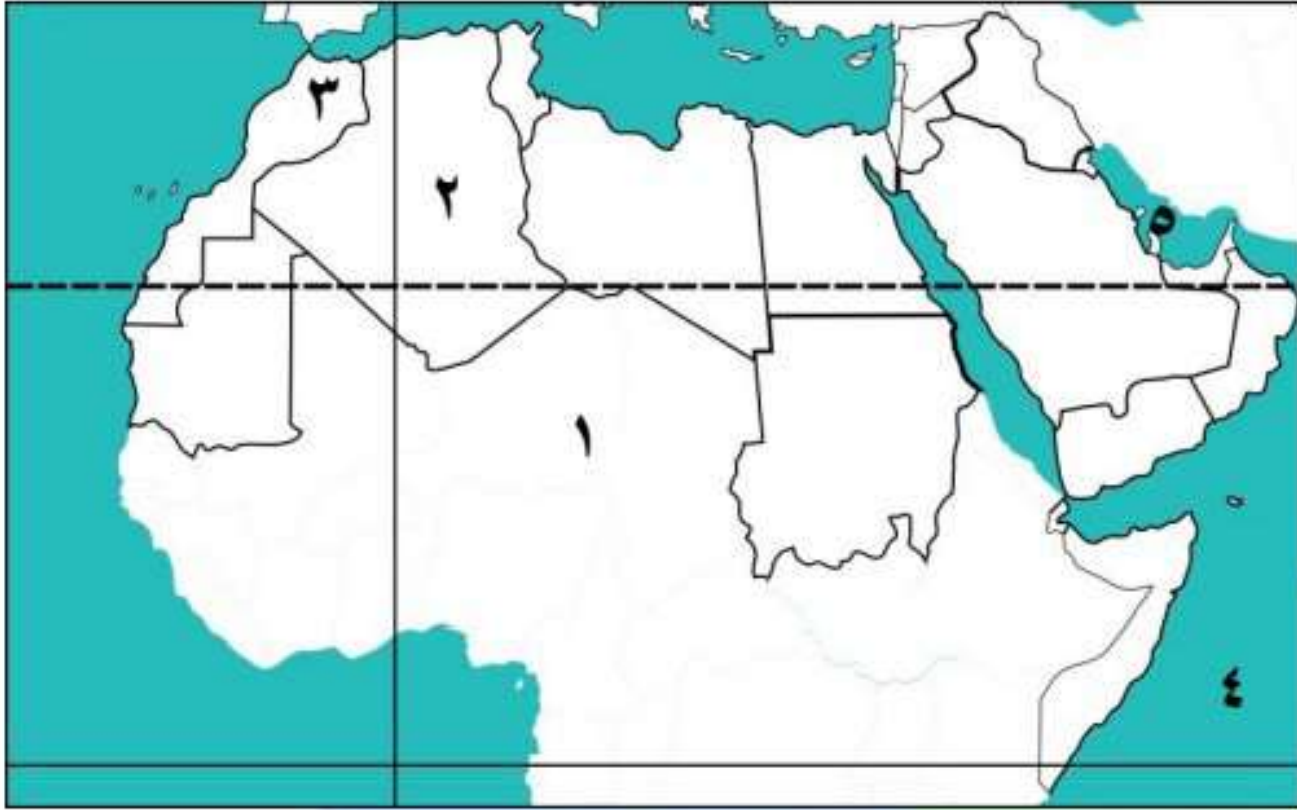
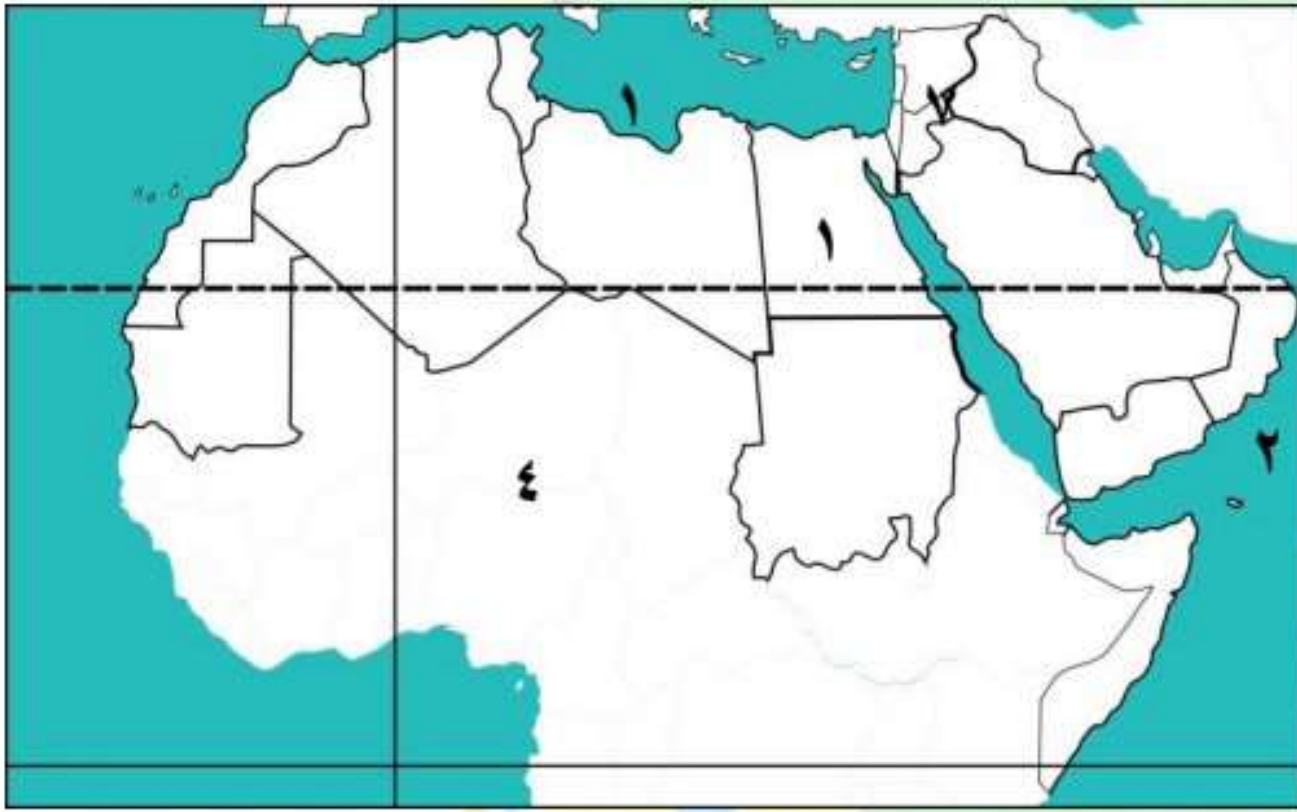


## الوحدة الاولى

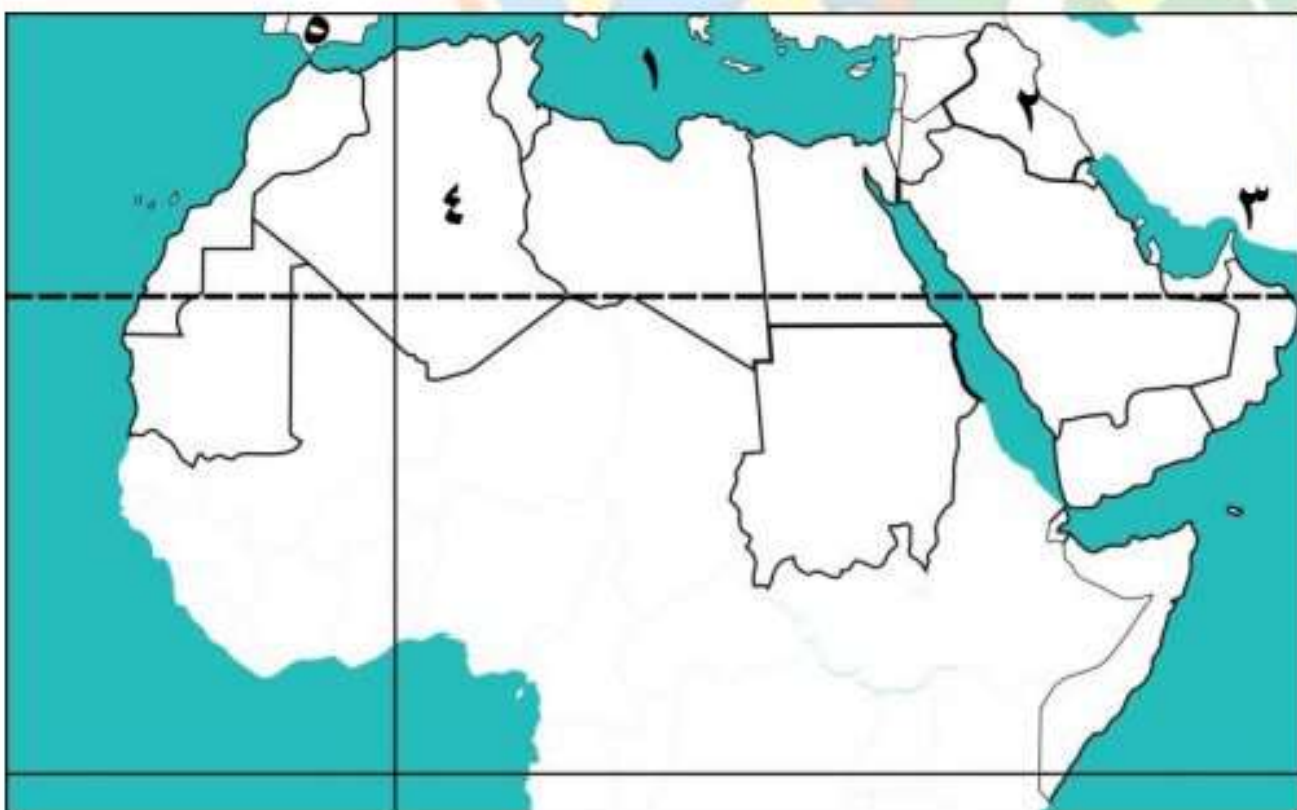
## أهم خرائط



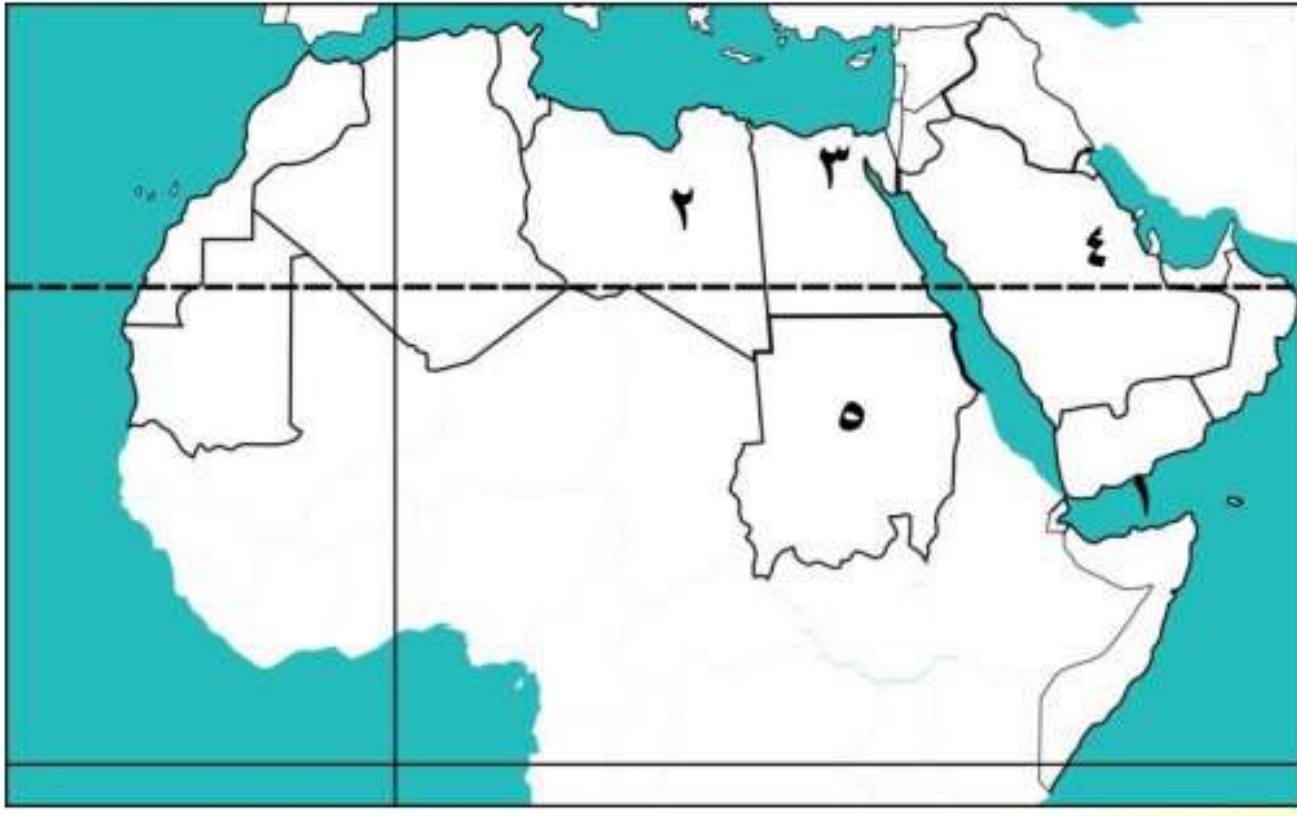
- ١ - لاحظ خريطة الوطن العربي ، ثم أجب :
- ١- يشير رقم (١) للصحراء.....
  - ٢- أكبر دول الوطن العربي مساحة.....
  - ٣- يشير (٣) لمضيق.....
  - ٤- يشير رقم (٤) للمحيط.....
  - ٥- يشير رقم (٥) للخليج.....



- ٢ - لاحظ خريطة الوطن العربي ، ثم أجب :
- ١- إحدى دول الجناح الإفريقي.....
  - ٢- بحر.....
  - ٣- المحيط.....
  - ٤- الصحراء.....
  - ٥- جبال.....

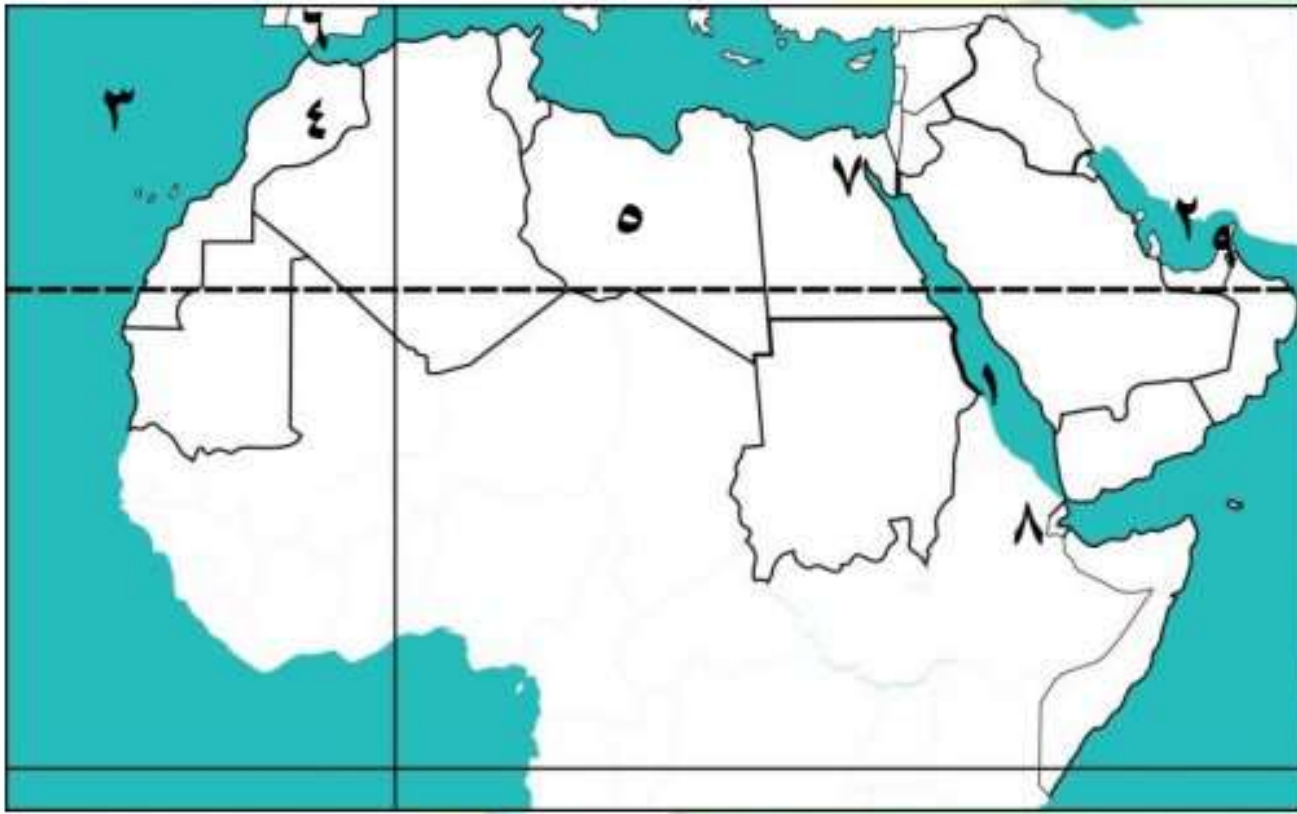


- ٣ - لاحظ خريطة الوطن العربي ، ثم أجب :
- ١- يشير إلى البحر.....
  - ٢- يشير إلى جبال.....
  - ٣- يشير إلى خليج.....
  - ٤- أكبر الدول العربية مساحة.....
  - ٥- مضيق.....



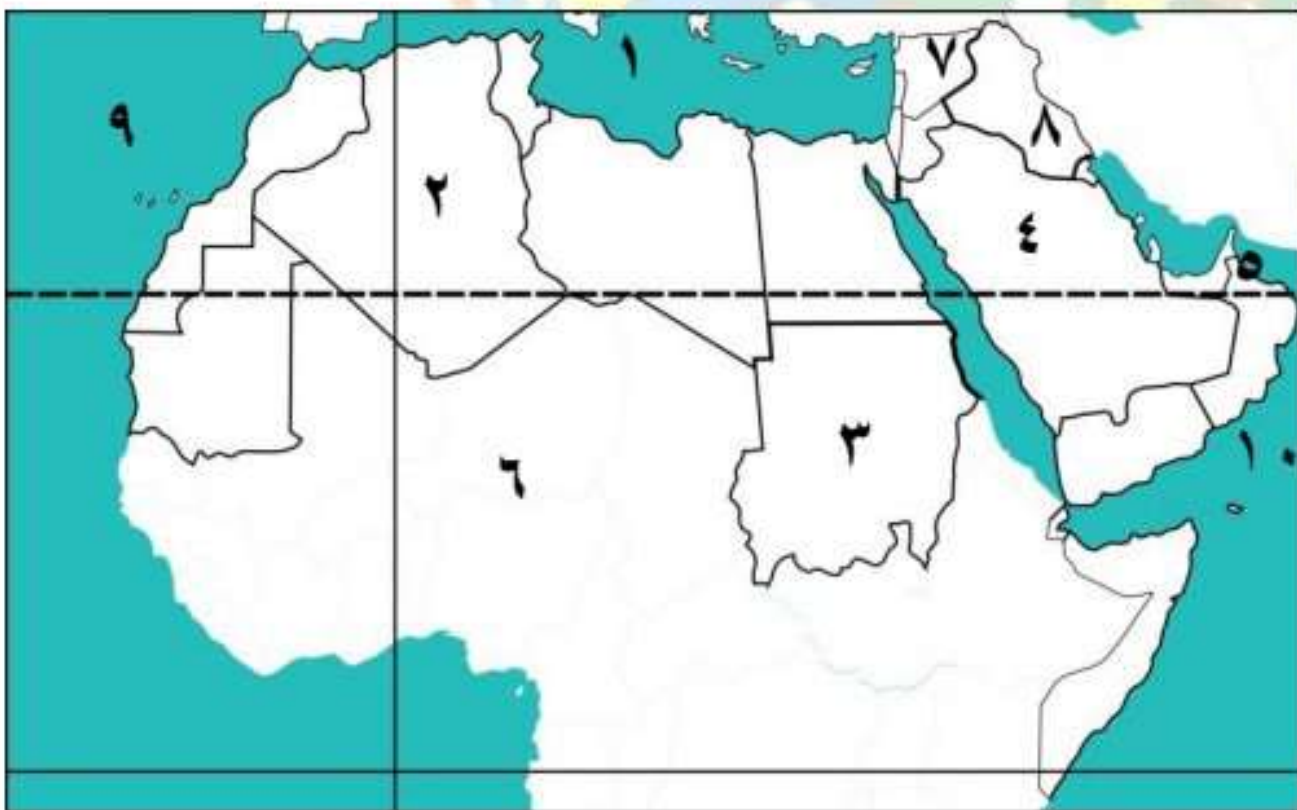
٤ - لاحظ خريطة الوطن العربي ، ثم أجب :

- ١ - خليج.....
- ٢ - دولة.....
- ٣ - ممر مائي مهم.....
- ٤ - أصغر دولة عربية.....
- ٥ - دولة.....



٥ - لاحظ خريطة الوطن العربي ، ثم أجب :

- ١ - البحر.....
- ٢ - الخليج.....
- ٣ - المحيط.....
- ٤ - دولة.....
- ٥ - دولة.....
- ٦ - مضيق.....
- ٧ - قناة.....
- ٨ - مضيق.....
- ٩ - مضيق.....



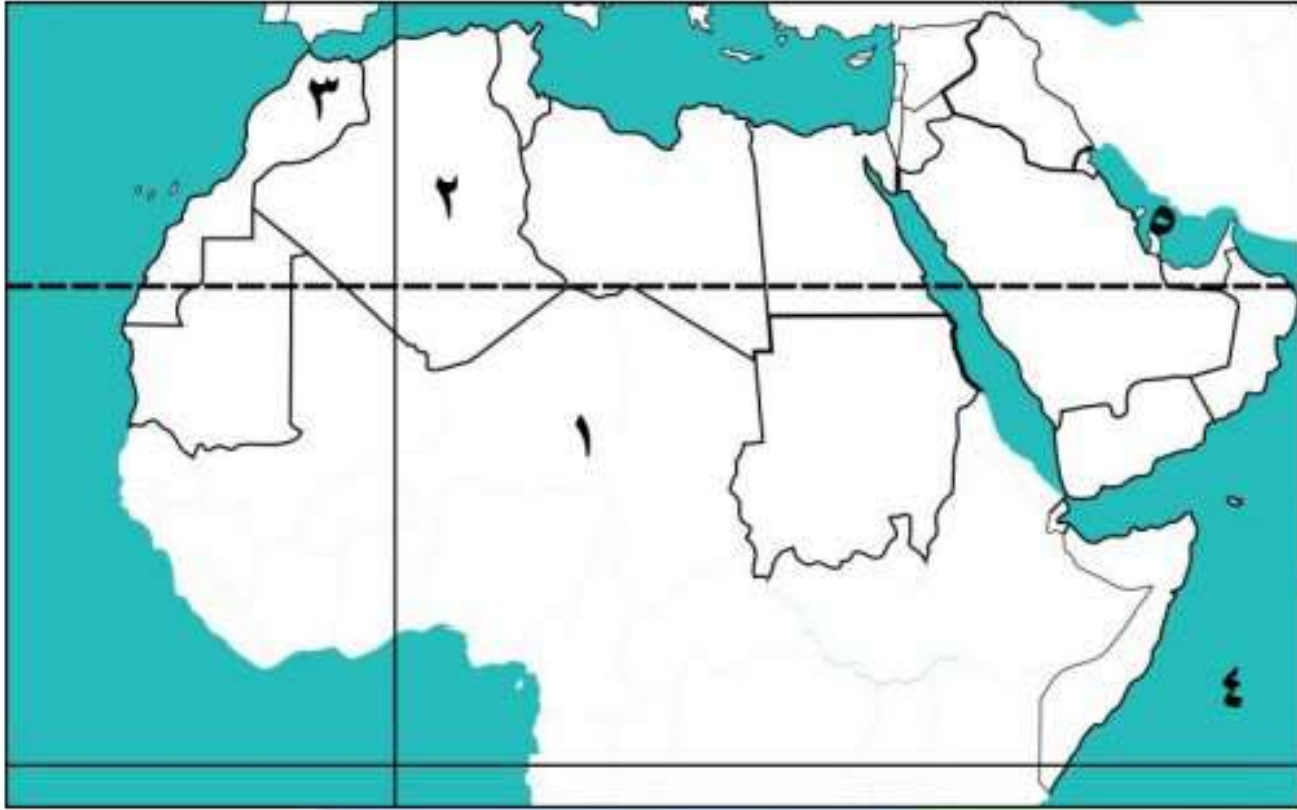
٦ - لاحظ خريطة الوطن العربي ، ثم أجب :

- ١ - البحر.....
- ٢ - دولة.....
- ٣ - دولة.....
- ٤ - دولة.....
- ٥ - خليج.....
- ٦ - الصحراء.....
- ٧ - جبال.....
- ٨ - جبال.....
- ٩ - المحيط.....
- ١٠ - بحر.....



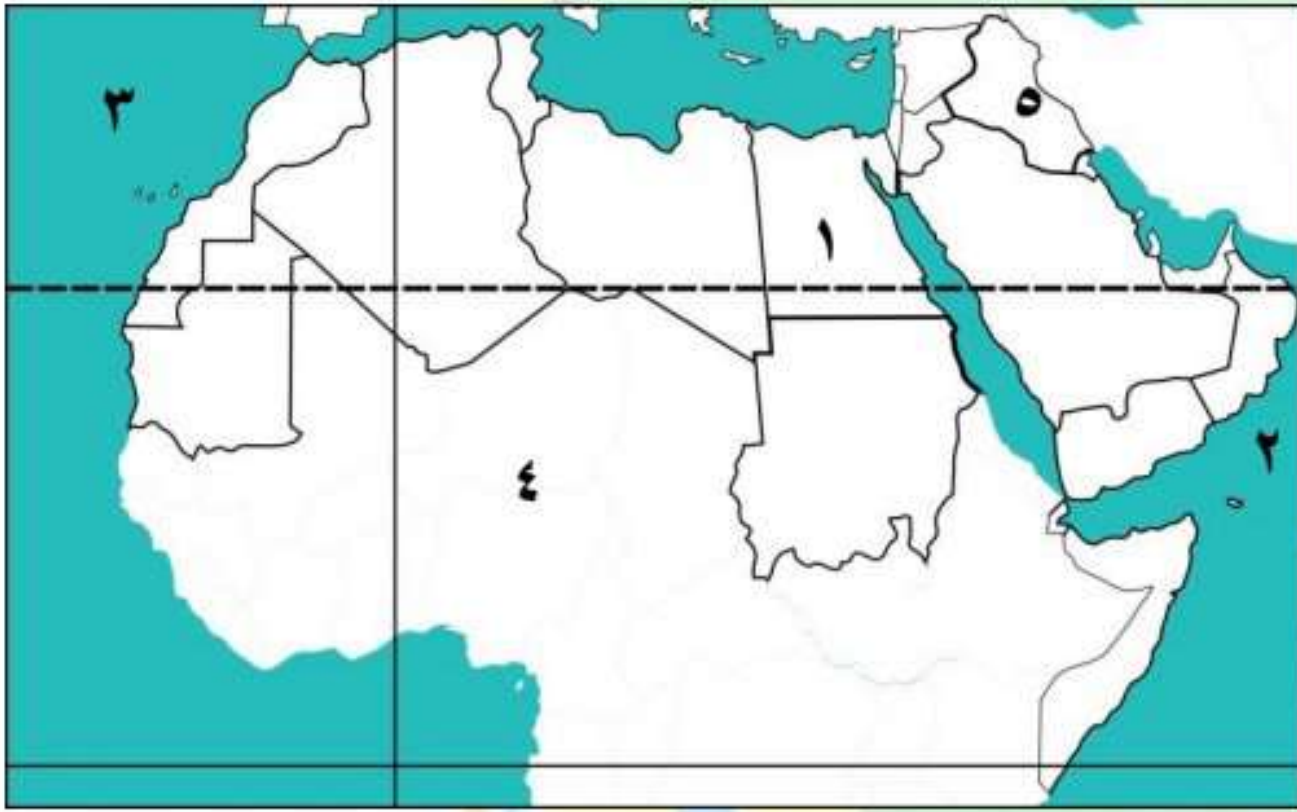
الوحدة الاولى

أهم خرائط



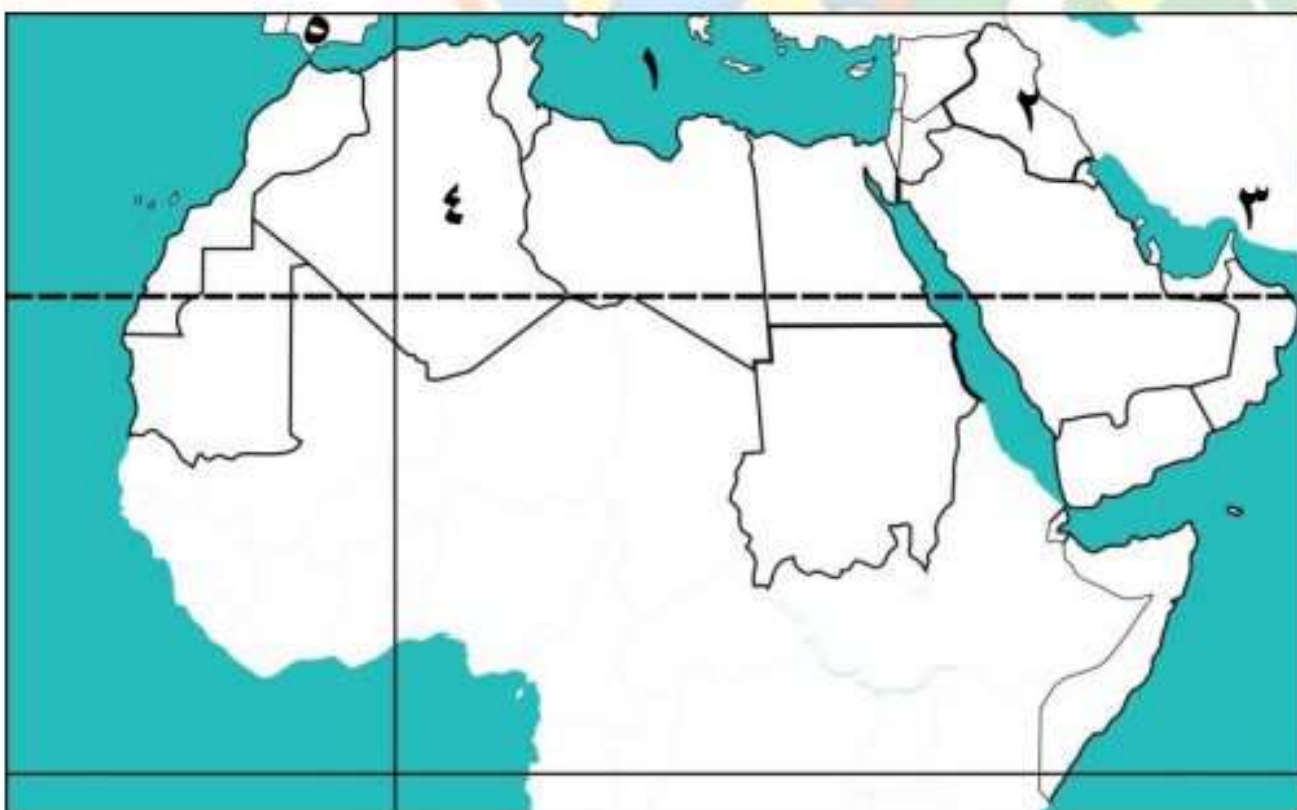
١ - لاحظ خريطة الوطن العربي ، ثم أجب :

- ١ - يشير رقم (١) للصحراء الكبرى
- ٢ - أكبر دول الوطن العربي مساحة الجزائر
- ٣ - يشير (٣) لمضيق جبل طارق
- ٤ - يشير رقم (٤) للمحيط الهندي
- ٥ - يشير رقم (٥) للخليج العربي



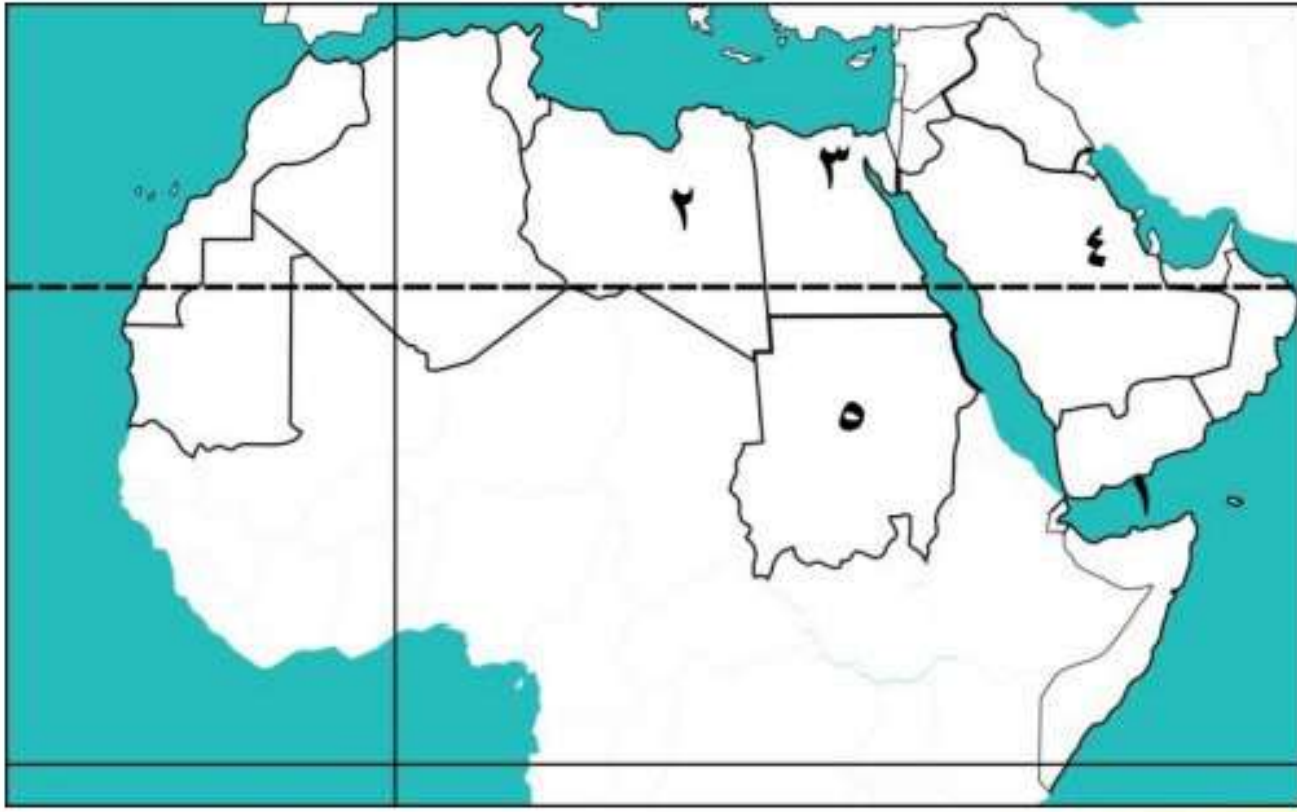
٢ - لاحظ خريطة الوطن العربي ، ثم أجب :

- ١ - إحدى دول الجناح الإفريقي مصر
- ٢ - بحر العرب
- ٣ - المحيط الأطلنطي
- ٤ - الصحراء الكبرى
- ٥ - جبال زاغروس



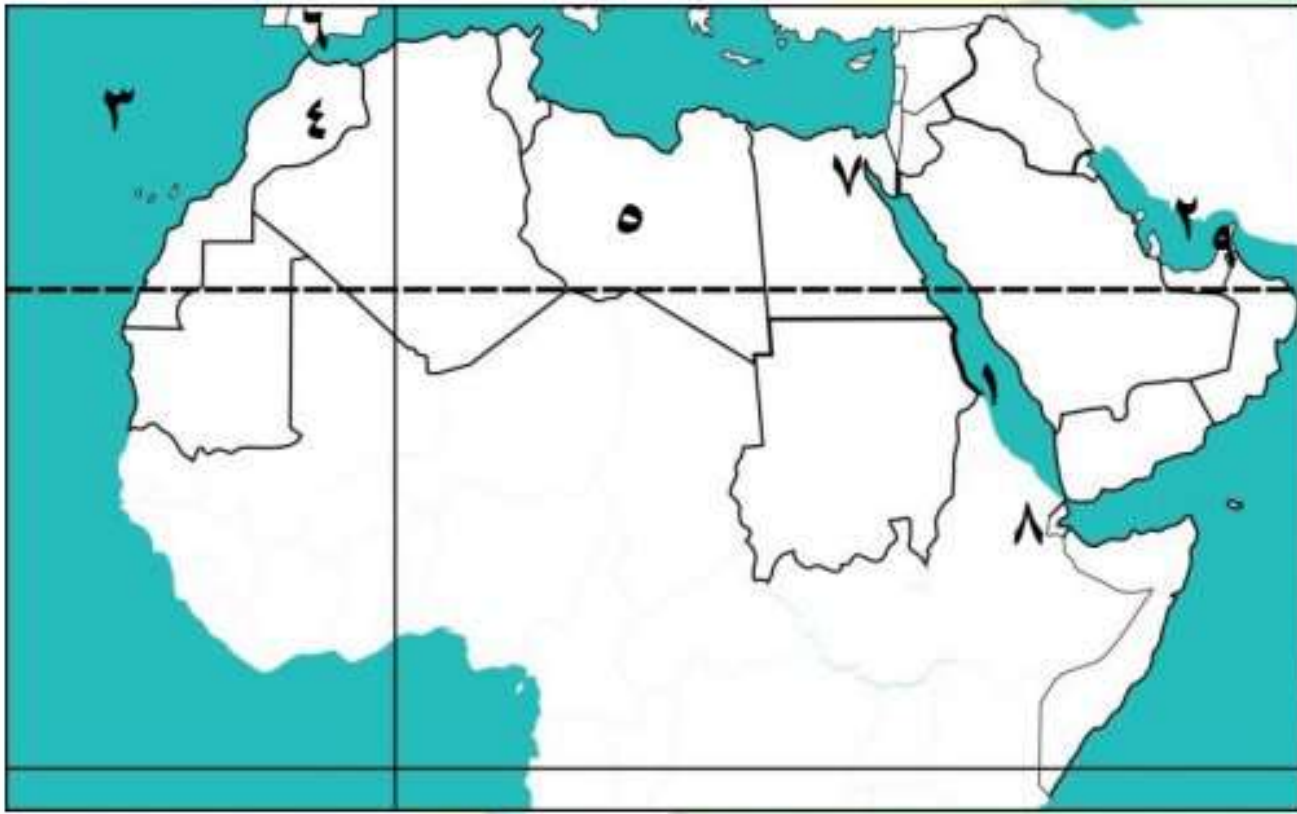
٣ - لاحظ خريطة الوطن العربي ، ثم أجب :

- ١ - يشير إلى البحر المتوسط
- ٢ - يشير إلى جبال زاغروس
- ٣ - يشير إلى خليج عمان
- ٤ - أكبر الدول العربية مساحة الجزائر
- ٥ - مضيق جبل طارق



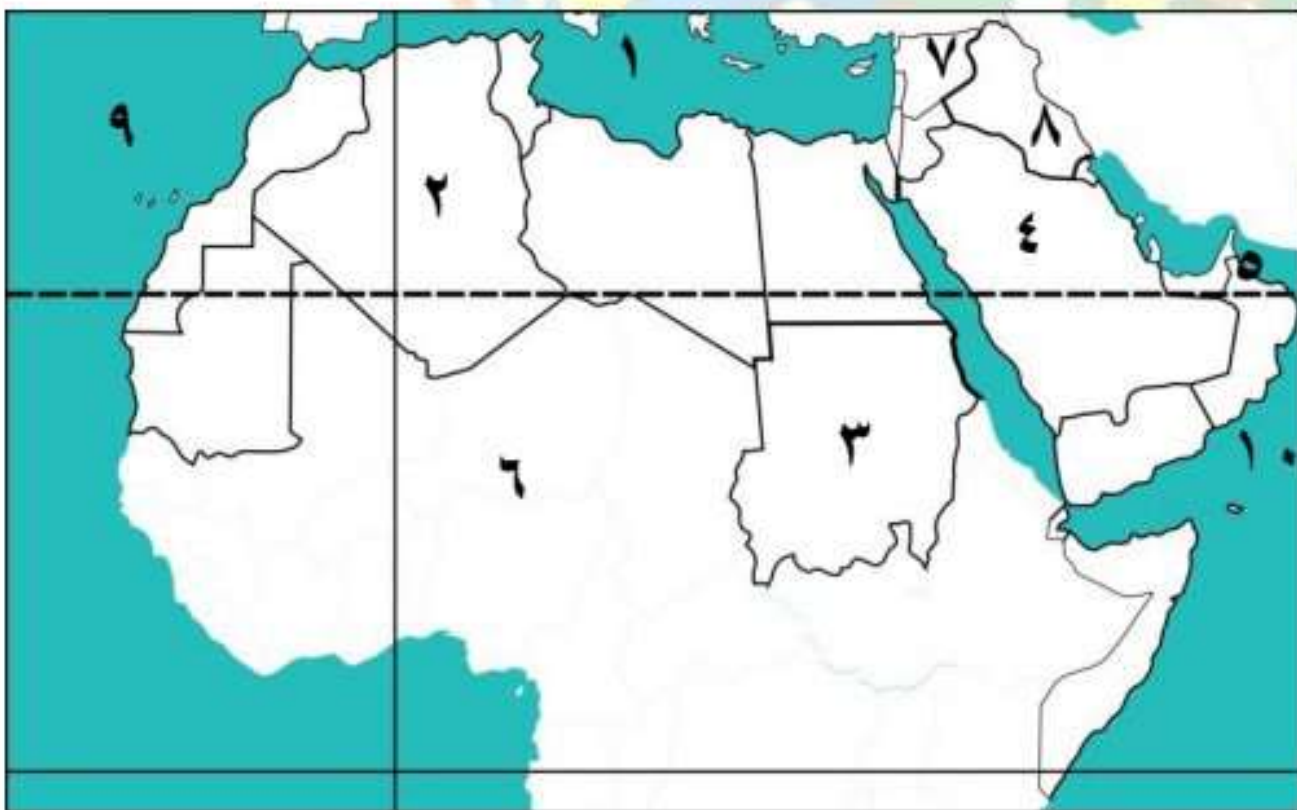
٤ - لاحظ خريطة الوطن العربي ، ثم أجب :

- ١ - خليج عدن
- ٢ - دولة ليبيا
- ٣ - ممر مائي مهم قناة السويس
- ٤ - أصغر دولة عربية البحرين
- ٥ - دولة السودان



٥ - لاحظ خريطة الوطن العربي ، ثم أجب :

- ١ - البحر الأحمر
- ٢ - الخليج العربي
- ٣ - المحيط الأطلنطي
- ٤ - دولة المغرب
- ٥ - دولة ليبيا
- ٦ - مضيق جبل طارق
- ٧ - قناة السويس
- ٨ - مضيق باب المندب
- ٩ - مضيق هرمز



٦ - لاحظ خريطة الوطن العربي ، ثم أجب :

- ١ - البحر المتوسط
- ٢ - دولة الجزائر
- ٣ - دولة السودان
- ٤ - دولة السعودية
- ٥ - خليج عمان
- ٦ - الصحراء الكبرى
- ٧ - جبال طوروس
- ٨ - جبال زاغروس

١٠ - بحر العرب

٩ - المحيط الهندي