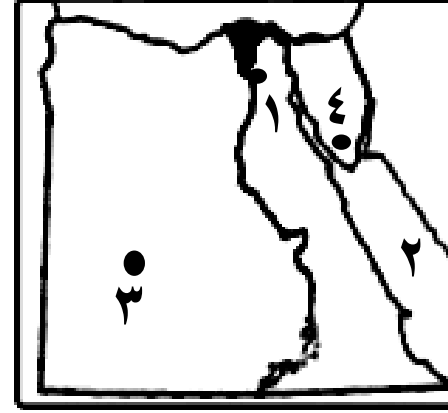


المادة / دراسات اجتماعية
الصف / الرابع الابتدائي
الزمن / ساعة ونصف
امتحان الفصل الدراسي الاول (يناير ٢٠٢٥ م)

٣٠

محافظة
إدارة
توجيه الدراسات الاجتماعية
امتحان الفصل الدراسي الاول (يناير ٢٠٢٥ م)

السؤال الاول : (٨ درجات) أ) امامك خريطة صماء لمصر اكتب مدلول الارقام الاتية:



- ١- عاصمة جمهورية مصر العربية
- ٢- البحر
- ٣- محافظة
- ٤- جبل

ب) أكتب ما تشير إليه العبارات الاتية :

- ١- صور يتم التقاطها من الجو باستخدام الطائرات {.....}
- ٢- مساحة من المياه المالحة أقل من المحيط {.....}
- ٣- الموارد الطبيعية التي تنفذ باستخدام الانسان لها {.....}
- ٤- مؤسسة تقدم خدمات مالية للأفراد والشركات {.....}

السؤال الثاني : (٧ درجات)

أ) أكتب كلمة (صواب) أمام العبارة الصحيحة وكلمة (خطأ) أمام العبارة الخاطئة :

- ١- مؤلف كلمات نشيد " بلادي بلادي " هو الشاعر محمد يونس القاضي ()
- ٢- المناخ هو وصف حالة الجو في فترة زمنية قصيرة ()
- ٣- تنتشر صناعة السجاد اليدوي في قرية الحرائية بمحافظة بالجيزة ()

ب) صوب ما تحته خط في العبارات الاتية:

- ١- تستخدم دوارة الرياح في تحديد سرعة الرياح {.....}
- ٢- ينتشر النحاس والذهب في صحراء مصر الغربية {.....}
- ٣- كل ما يتم انتاجه ونقوم بشرائه يعرف بأسم الخدمات {.....}
- ٤- عميد الادب العربي هو الدكتور جمال حمدان {.....}

السؤال الثالث : (٨ درجات)

أ) اختر الاجابة الصحيحة مما بين القوسين :

- ١- مساحة من الارض تضم مجموعة من المراكز والاحياء (المحافظة - القارة - الدولة)
 - ٢- صاحب فكرة إنشاء بنك مصر هو الاقتصادي (طلعت حرب - محمد يونس القاضي - جمال حمدان)
- ب) اكتب نتيجة واحدة ترتبت على ما يأتي :
- ١- موقع مصر الجغرافي
 - ٢- أهمية الرمال البيضاء
 - ٣- حملة ١٠٠ مليون صحة

السؤال الرابع : (٧ درجات) أ) أكمل العبارات الاتية مما بين القوسين :

(الزعفرانة - الاسود - المسكن)

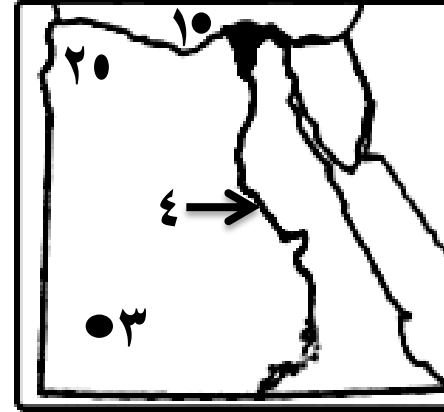
- ١- اللون الذي يعبر عن الظلم الذي تعرضت له مصر في فترات الاستعمار هو اللون
 - ٢- من محطات توليد الكهرباء من الرياح بمحافظة البحر الاحمر محطة
 - ٣- أكد دستور مصر على حق الطفل في الرعاية والتعليم والصحة و
- ب) اكتب تفسيراً واحداً لكل عبارة من العبارات الاتية:
- ١- حفر قناة السويس
 - ٢- أهمية الحرف التراثية

امتحان الفصل الدراسي الاول يناير ٢٠٢٥

اسم التلميذ :
رقم الجلوس :
المادة : دراسات اجتماعية
الصف : الرابع الابتدائي
توقيع الملاحظين : ١- ٢-

محافظة
إدارة
توجيه الدراسات الاجتماعية
امتحان الفصل الدراسي الاول (يناير ٢٠٢٥ م)
٣٠

السؤال الاول : (٨ درجات) أ) امامك خريطة صماء لمصر اكتب مدلول الارقام الاتية :



- ١- البحر
- ٢- محافظة
- ٣- هضبة
- ٤- بنية

ب) الى من تنسب الاعمال الاتية :

- ١- حفر قناة تربط البحرين الاحمر بالمتوسط عن طريق نهر النيل{.....}
- ٢- تلحين نشيد " بلادي بلادي " {.....}
- ٣- تأسيس بنك مصر عام ١٩٢٠م {.....}
- ٤- لقب بعميد الادب العربي {.....}

السؤال الثاني : (٧ درجات)

- أ) اكتب كلمة (صواب) أمام العبارة الصحيحة وكلمة (خطأ) أمام العبارة الخطأ :
- ١- الحدود التي تفصل بين المحافظة والمحافظة التي تجاورها تعرف بالحدود الادارية ()
 - ٢- البحيرة مساحة صغيرة من المياه يحيط بها اليابس من جميع الجهات ()
 - ٣- من أشهر المناطق لصناعة الخيامية قرية جراح بالدقهلية ()

ب) اكتب دليلاً واحداً على صحة العبارات الاتية :

- ١- زادت أهمية موقع مصر بعد حفر قناة السويس الجديدة

- ٢- توجد معالم أثرية مهمة بمحافظة القاهرة

٣- تتعرض التربة الى التلوث

٤- تهتم الدولة بإحياء الحرف التراثية

السؤال الثالث : (٨ درجات) أ) اختر الإجابة الصحيحة مما بين القوسين :

- ١- اللون الذي يعبر عن السلام في علم مصر هو اللون
(الاسود - الاحمر - الابيض)
- ٢- الاشخاص الذين يختمن حدود الوطن هم
(رجال الشرطة - رجال الجيش - رجال التعليم)

ب) ما العلاقة بين :

- ١- الخريطة والفلاح {.....}
- ٢- الرياح والانيمومتر {.....}
- ٣- الاستهلاك والادخار {.....}

السؤال الرابع : (٧ درجات) أ) أكمل العبارات الاتية مما بين القوسين :

(المناخ - أوليه - الخدمات)

- ١- الأفلام التسجيلية وكتابات المؤرخين تعتبر مصادر
- ٢- وصف حالة الجو لفترة زمنية طويلة يعرف بأسم
- ٣- أي عمل أو نشاط تقوم به الدولة لتلبية حاجات أو رغبات المواطنين يعرف بأسم

أ) ماذا يحدث إذا :

- ١- لم توجد المياه الجوفية بالصحراء الغربية

- ٢- وفرت الدولة الخدمات الالكترونية من خلال الانترنت

امتحان الفصل الدراسي الاول يناير ٢٠٢٥

اسم التلميذ :
رقم الجلوس :
المادة : دراسات اجتماعية
الصف : الرابع الابتدائي
توقيع الملاحظين : ١- ٢-

٤- الزراعة هي تحويل المواد الخام الى سلع ومنتجات لسد احتياجاتنا

{.....}

السؤال الثالث : (٨ درجات) أ) اختر الاجابة الصحيحة مما بين القوسين :

- ١- موقع المكان بالنسبة لليابس والماء يعرف بأسم الموقع
- ٢- تم إنشاء مدينة الجلود بالروبيكي في محافظة

(الفلكي - الجغرافى - التاريخى)
ب) اكتب نتيجة واحدة ترتبت على ما يأتى :

١- تعامد الشمس على مدار الجدى فى أشهر (ديسمبر ويناير وفبراير)

٢- تعدد موارد المياه المالحة فى مصر

٣- يسهم قطاع الزراعة فى نمو الاقتصاد المصرى

السؤال الرابع : (٧ درجات) أ) أكمل العبارات الاتية مما بين القوسين :

- ١- الصحارى المصرية فقيرة فى نباتاتها الطبيعية نتيجة
- ٢- لتحديد منسوب مياه النيل وتحديد قيمة الضرائب تم إنشاء
- ٣- الفرق بين قيمة واردات الدولة وصادراتها يعرف بأسم

أ) اكتب تفسيرا واحد لكل عبارة من العبارات الاتية:

١- تسمية عصر الدولة القديمة بعصر بناء الاهرام

٢- أهمية النشاط التعدينى فى مصر

امتحان الفصل الدراسى الاول يناير ٢٠٢٥

اسم التلميذ : رقم الجلوس :

المادة : دراسات اجتماعية الصف : الخامس الابتدائى

توقيع الملاحظين : ١- ٢-

المادة / دراسات اجتماعية

الصف / الخامس الابتدائى

الزمن / ساعة ونصف

٣٠

محافظة

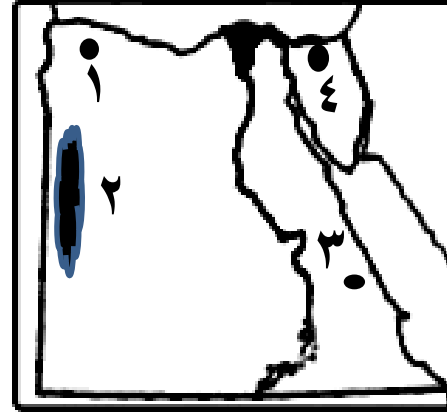
إدارة

توجيه الدراسات الاجتماعية

امتحان الفصل الدراسى الاول (يناير ٢٠٢٥ م)

السؤال الاول : (٨ درجات) أ) امامك خريطة صماء لمصر اكتب مدلول

الارقام الاتية :



١- منخفض

٢- بحر

٣- منجم لاستخراج الذهب

٤- منجم لاستخراج الفحم

ب) اكتب ما تشير إليه العبارات الاتية :

١- أنصاف دوائر رأسية تصل بين القطبين الشمالى والجنوبى {.....}

٢- التغيرات والتحوللات فى الاحوال المناخية {.....}

٣- الموارد التى لا تكفى اشباع حاجات السكان وندرته تسبب مشكلة {.....}

٤- اقل مصادر الطاقة غير المتجددة تلويثاً للبيئة {.....}

السؤال الثانى : (٧ درجات)

أ) اكتب كلمة (صواب) أمام العبارة الصحيحة وكلمة (خطأ) أمام العبارة الخطأ :

١- من العوامل الطبيعية لنشأة الحضارة المصرية القديمة وجود حكومة مركزية ()

٢- ترجع بردية هيرست إلى عصر الملك امنمحات الثالث ()

٣- محافظة البحيرة أكبر محافظات مصر فى تربية الحيوانات ()

ب) صوب ما تحته خط فى العبارات الاتية:

١- مع زيادة حدة التغير المناخى سينخفض منسوب مياه البحر

{.....}

٢- تبادل السلع والخدمات بدون استخدام النقود يعرف بعملية البيع والشراء

{.....}

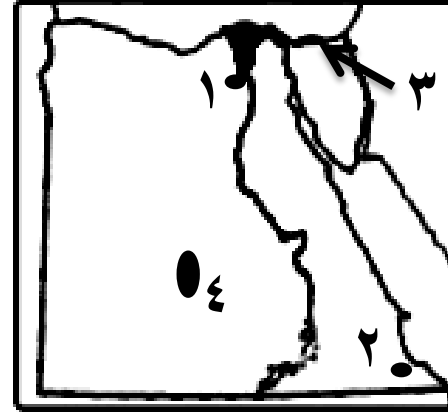
٣- تحتل محافظة الشرقية المركز الاول فى انتاج الاسماك فى مصر {.....}

المادة / دراسات اجتماعية
الصف / الخامس الابتدائي
الزمن / ساعة ونصف
امتحان الفصل الدراسي الاول (يناير ٢٠٢٥ م)

٣٠

محافظة
إدارة
توجيه الدراسات الاجتماعية

السؤال الاول : (٨ درجات) أ) امامك خريطة صماء لمصر اكتب مدلول



الارقام الاتية

١- منخفض

٢- محمية جبل

٣- بحيرة

٤- منطقة لاستخراج الفوسفات

ب) الى من تنسب الاعمال الاتية :

- ١- توحيد البلاد عام ٣٢٠٠ ق.م وبناء مدينة (من- نفر) {.....}
- ٢- اصدار النقود الورقية لأول مره عام ١٨٩٩م {.....}
- ٣- بناء السد العالي وافتتاحه عام ١٩٧١ م {.....}
- ٤- ارسال بعثات تجارية إلى بلاد بونت {.....}

السؤال الثاني : (٧ درجات)

أ) أكتب كلمة (صواب) أمام العبارة الصحيحة وكلمة (خطأ) أمام العبارة الخطأ :

- ١- دوائر العرض دوائر أفقية ترسم حول الكرة الارضية ()
- ٢- في العصر الحجري الحديث استطاع المصري القديم نحت الحجارة بدقة ()
- ٣- مشروع الفيروز في محافظة بورسعيد خاص بالاستزراع السمكى ()

ب) أكتب دليلا واحداً على صحة العبارات الاتية :

١- الصحراء الشرقية تنتشر فيها الاودية الجافة

٢- تؤدي بعض العوامل الطبيعية إلى حدوث التغيير المناخي

٣- استخدام المصريون القدماء طاقة الرياح

٤- تهتم الدولة بتنمية الثروة الحيوانية

السؤال الثالث : (٨ درجات) أ) اختر الاجابة الصحيحة مما بين القوسين :

- ١- من أكبر محطات تحلية المياه على مستوى العالم محطة
(الزعفرانة - العين السخنة - جبل الزيت)
- ٢- كان سكان المكسيك يتخذون من عملة لاتمام عملية البيع والشراء
(القمح - الابقار - جوز الهند)

أ) ما العلاقة بين :

١- نهر النيل والحضارة المصرية القديمة

٢- مصادر الطاقة والدخل القومي

٣- القناطر والترع

السؤال الرابع : (٧ درجات) أ) أكمل العبارات الاتية مما بين القوسين :

(القليوبية - اللوز - الفيوم)

- ١- تنمو على الساحل الشمالي على البحر المتوسط اشجار الزيتون و
- ٢- تم إنشاء مدينة الدواء في الخانكة بمحافظة
- ٣- قام الملك امنمحات الثالث بتشييد هرم هوارة بمحافظة

ب) ماذا يحدث إذا :

١- لم يتم رسم خطوط الطول على الخريطة

٢- تعامدت الشمس على مدار السرطان في أشهر (يونيو ويوليو واغسطس)

امتحان الفصل الدراسي الاول يناير ٢٠٢٥

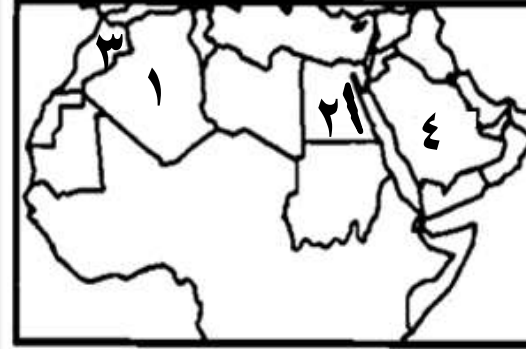
اسم التلميذ : رقم الجلوس :

المادة : دراسات اجتماعية الصف : الخامس الابتدائي

توقيع الملاحظين : ١- ٢-

محافظة
إدارة
توجيه الدراسات الاجتماعية
٣٠
امتحان الفصل الدراسي الاول (يناير ٢٠٢٥ م)

السؤال الاول : (٨ درجات) أ) امامك خريطة صماء للوطن العربي اكتب
مدلول الارقام الاتية



- ١- أكبر الدول العربية
- ٢- جبال انكسارية
- ٣- أولى الدول العربية فى تربية
الدواجن
- ٤- أولى الدول العربية فى انتاج
البتترول

ب) أكتب ما تشير إليه العبارات الاتية :

١- سكان المدينة الذين نصرروا الرسول(ص) فى دعوته .

٢- منطقة جغرافية من سطح الارض تتسم بخصائص مناخية تميزها عن غيرها

٣- نقص كمية الامطار فى بعض السنوات بما لا يسمح بالزراعة أو نمو الحشائش

٤- صناعة تعتمد على الاستثمار الامثل للموارد المتجددة والحد من المخلفات

السؤال الثانى : (٧ درجات)

أ) أكتب كلمة (صواب) أمام العبارة الصحيحة وكلمة (خطأ) أمام العبارة الخطأ :

- ١- نقل على بن أبى طالب الخلافة من المدينة الى الكوفة ()
- ٢- تتعامد الشمس على الوطن العربي فى فصل الشتاء على مدار السرطان ()
- ٣- من المقومات الطبيعية لقيام الزراعة الايدى العاملة والسوق ()

ب) صوب ما تحته خط فى العبارات الاتية:

١- من العادات الحسنة التى أتصف بها العرب قديمان وأد البنات

٢- تنمو حشائش الاستبس فى الاقليم المدارى

٣- تعرضت السودان لأكبر موجة جفاف وحدوث مجاعة لاكثر من مليون شخص

٤- السياحة الترفيهية تشمل زيارة المواقع الاثرية والتراثية

السؤال الثالث : (٨ درجات) أ) اختر الاجابة الصحيحة مما بين القوسين :

- ١- أول من أنشأ اسطول بحرى فى الاسلام هو الخليفة
- ٢- توجد عين ماعت فى دولة

(مصر - الاردن - سوريا)

ب) اكتب نتيجة واحدة ترتبت على ما يأتى :

١- موقع الوطن العربي المتميز

٢- انخفاض درجات الحرارة كلما ارتفعنا عن سطح البحر

٣- طول سواحل دولة المغرب على البحر المتوسط والمحيط الاطلنطى

السؤال الرابع : (٧ درجات) أ) أكمل العبارات الاتية مما بين القوسين :

(التجارة البينية العربية - حضرموت - عمليات النصب والاحتيايل)

- ١- من هضاب الجناح الاسيوى هضبة
- ٢- الصادرات والواردات من السلع والخدمات بين الدول العربية يعرف بأسم
- ٣- من المخاطر ذات الصلة بالتجارة الالكترونية

ب) أكتب تفسيراً واحد لكل عبارة من العبارات الاتية:

١- هزيمة المسلمين فى غزوة أحد ٣ هـ

٢- أهمية الزراعة فى وطننا العربي

امتحان الفصل الدراسي الاول يناير ٢٠٢٥

اسم التلميذ : رقم الجلوس :

المادة : دراسات اجتماعية الصف : السادس الابتدائى

توقيع الملاحظين : ١- ٢-

٤- تتعدد الصناعات التحويلية فى الوطن العربى

المادة / دراسات اجتماعية
الصف / السادس الابتدائى
الزمن / ساعة ونصف

٣٠

محافظة
إدارة
توجيه الدراسات الاجتماعية

امتحان الفصل الدراسى الاول (يناير ٢٠٢٥ م)

السؤال الاول : (٨ درجات) أ) امامك خريطة صماء للوطن العربى اكتب

مدلول الارقام الاتية



- ١- أصغر الدول العربية
- ٢- جبال التوانية
- ٣- أولى الدول العربية فى تربية الابل
- ٤- أولى الدول العربية فى انتاج الذهب

ب) الى من تنسب الاعمال الاتية :

- ١- أشار على النبي محمد "ص" بحفر خندق حول المدينة {.....}
- ٢- إنشاء ديوان بيت المال وديوان الجند {.....}
- ٣- أمر زيد بن ثابت بجمع القرآن الكريم {.....}
- ٤- اختيار الاسكندرية كعاصمة للسياحة العربية عام ٢٠١٠م {.....}

السؤال الثانى : (٧ درجات)

أ) اكتب كلمة (صواب) أمام العبارة الصحيحة وكلمة (خطأ) أمام العبارة الخطأ :

- ١- تتعامد الشمس على الوطن العربى فى فصل الصيف على مدار الجدى ()
- ٢- تعيش الثعالب والزواحف فى الاقليم الصحراوى الحار ()
- ٣- توجد مدينة القيروان فى دولة تونس ()

ب) اكتب دليلا واحداً على صحة العبارات الاتية :

١- الاهمية الثقافية والحضارية لموقع الوطن العربى

٢- اتخذت معظم الدول العربية اجراءات للحفاظ على المحميات

٣- تواجه الزراعة العديد من المشكلات فى الوطن العربى

السؤال الثالث : (٨ درجات) أ) اختر الاجابة الصحيحة مما بين القوسين :

١- من هضاب الجناح الافريقى هضبة
(حضرموت - نجد - إفريقيا الشمالية)

٢- من أسباب التصحر فى الوطن العربى
(التوسع العمرانى - تحلية المياه - مصادر الطاقة)

ب) ما العلاقة بين :

١- عمل العرب قديما بالتجارة والرحلات التجارية

٢- الاحوال الجوية والرحلات الجوية

٣- الثروة السمكية والتغير المناخى

السؤال الرابع : (٧ درجات) أ) أكمل العبارات الاتية مما بين القوسين :

(التجارة الالكترونية - التصحر - البصرة)

١- تناقص قدرة الارض الزراعية على الانتاج يعرف باسم

٢- تبادل السلع والخدمات باستخدام شبطة الانترنت يعرف باسم

٣- من أهم المراكز التجارية فى الدولة الاسلامية

ب) ماذا يحدث إذا :

١- لم تعتدى قريش على قبيلة خزاعة

٢- لم يتنوع المناخ فى الوطن العربى

امتحان الفصل الدراسى الاول يناير ٢٠٢٥

اسم التلميذ : رقم الجلوس :

المادة : دراسات اجتماعية الصف : السادس الابتدائى

توقيع الملاحظين : ١- ٢-