

سلسلة

فنحى الرفاعى



فى الدراسات الاجتماعيه كتاب الشرح



اعداد/ سمير احمد اميرى 01115971548



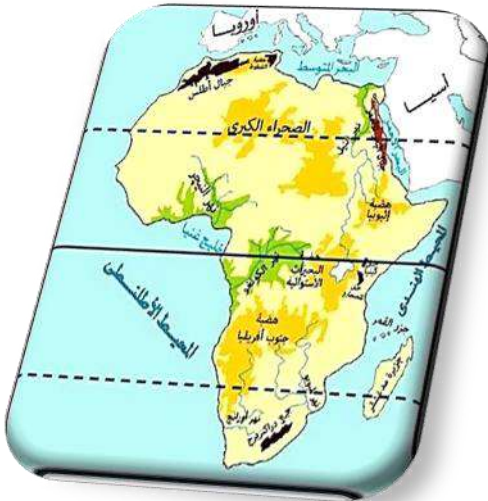
اسم صنعته التاج

الوحدة

الأولى



الدرس الأول : قارة إفريقيا (الموقع والكشوف الجغرافية)



الدرس الثاني : مظاهر سطح قارة إفريقيا



الدرس الثالث : نهر النيل والحضارات القديمة في إفريقيا

قارة إفريقيا (الموقع والكشوف الجغرافية)

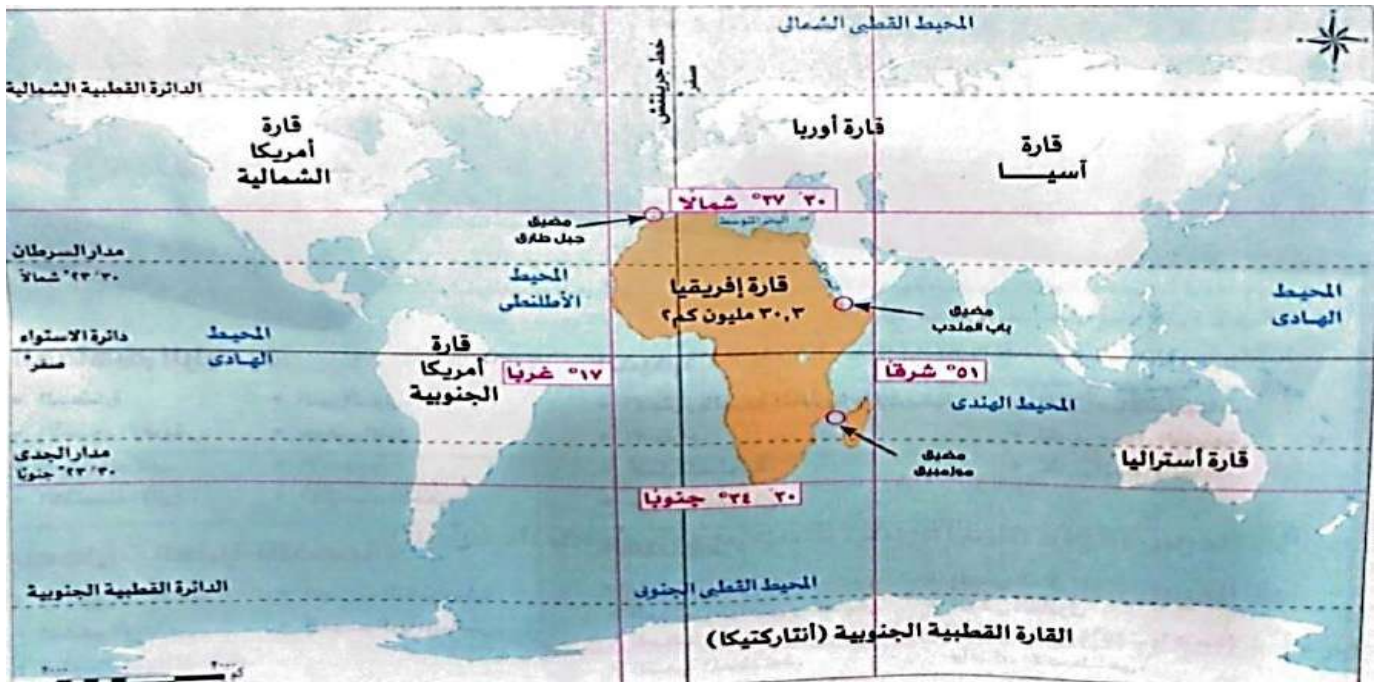
1

تأمل واكتشف:

- تعرفنا في الأعوام السابقة أن مصرنا الحبيبة جزء من قارة إفريقيا التي تعد إحدى قارات العالم القديم، وتتسم بموقع جغرافي مميز، وسوف نتجول معا خلال هذه الوحدة في قارتنا الإفريقية، فهل تعرف أين تقع قارة إفريقيا؟ وكيف تم استكشاف أجزائها وثرواتها؟

تعلم وشارك:

أولاً: نعلم قارة إفريقيا بالنسبة للعالم



- بالنظر إلى خريطة العالم الآتية نستنتج نقاطاً هامة عن قارة إفريقيا:

1/ **الموقع:** تقع وسط قارات العالم وتجاورها قارة آسيا (من الشرق) وقارة أوروبا (من الشمال)

2/ **المساحة:**

- تبلغ مساحتها ٤,٣٠ مليون كم^٢. وتعد ثاني أكبر قارات العالم من حيث المساحة بعد قارة آسيا.
- تمثل مساحتها ٢٠٪ من مساحة قارات العالم.

3/ **البحار والمحيطات**

- تطل قارة إفريقيا على بحار ومحيطات هي: البحر المتوسط - البحر الأحمر - المحيط الهندي - المحيط الأطلنطي.

4/ **إفريقيا والقارات الأخرى**

- **تقترب من:** قارة أوروبا شمالاً عند مضيق جبل طارق.
- **تقترب من:** قارة آسيا شرقاً عند مضيق باب المندب وتتصل بها عن طريق شبه جزيرة سيناء.
- يفصلها المحيط الأطلنطي غرباً عن قارتي أمريكا الشمالية والجنوبية.

- لشبه جزيرة سيناء أهمية حضارية كبيرة للقارة عبر العصور **دلل**...؟ حيث **أهمية حضارية**: تنقلت عن طريقها بعض الثقافات والحضارات من آسيا إلى إفريقيا، مثل الحضارة الإسلامية. **أهمية استراتيجية**: فمن خلالها تعرضت مصر من الحملات العسكرية، ولذلك فإن الحفاظ على أمن شبه جزيرة سيناء ضرورة للحفاظ على الأمن القومي المصري والإفريقي.
- ما المقصود بالحضارة؟** مجموعة الإنتاج الثقافي، مثل العادات والتقاليد والعلوم والفنون والقيم، والإنتاج المادي: مثل القلاع والمباني والقصور، وهي ما يميز مجتمعنا عن غيره.

س؟ سؤال

(أ) أكمل العبارات الآتية بما يناسبها من كلمات:

(١) تأتي قارة إفريقيا في المرتبة الثانية بعد قارة في المساحة.

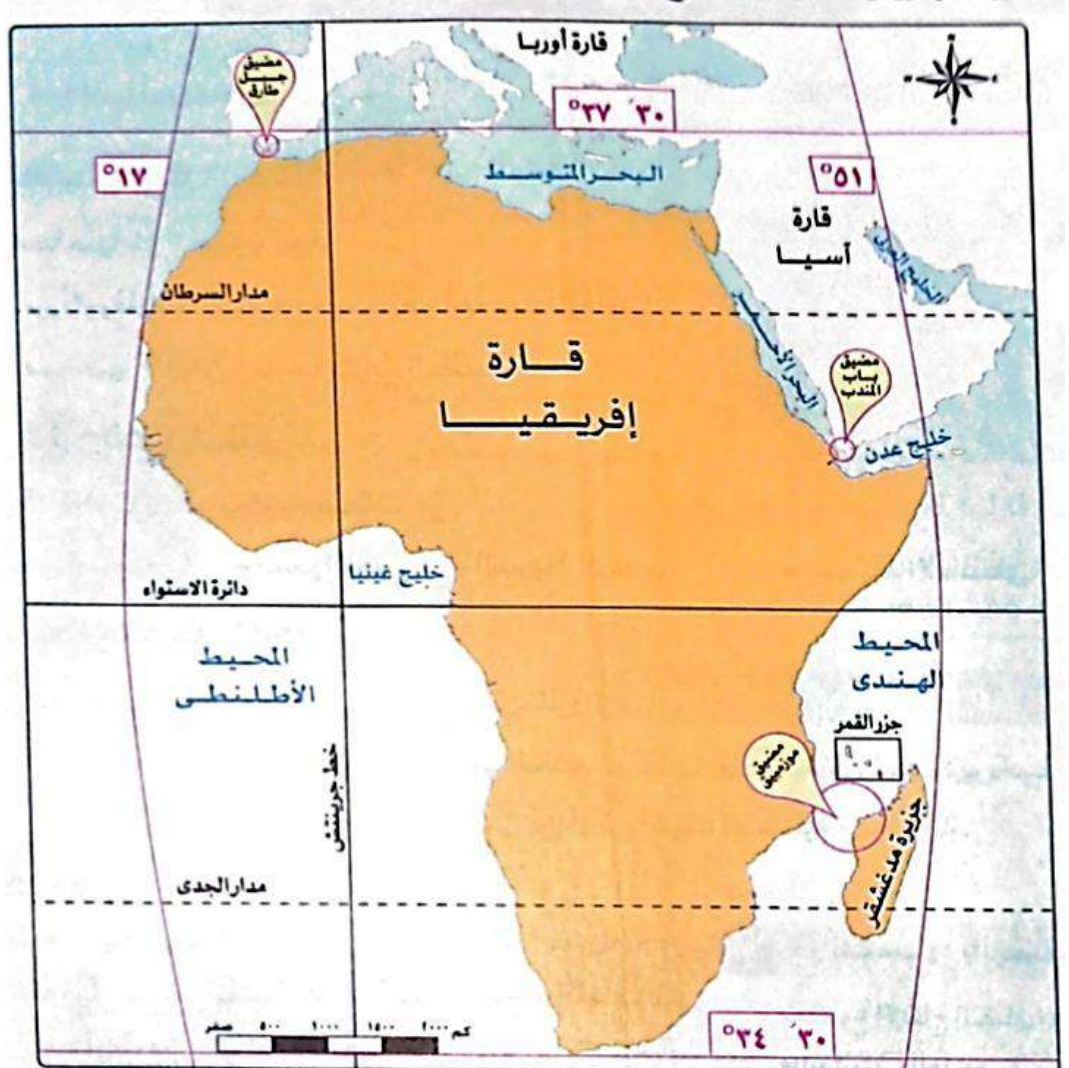
(٢) تقترب قارة إفريقيا من قارة أوروبا عند مضيق

(٣) تتصل قارة إفريقيا بقارة آسيا عند

(ب) ما العلاقة بين...؟- شبه جزيرة سيناء والأمن القومي المصري والإفريقي

ثانياً: الموقع الجغرافي والفلكي لقارة إفريقيا

- لاحظ خريطة إفريقيا التالية واستنتج موقعها الجغرافي والفلكي:



١ / الموقع الجغرافي:

- **شمالاً** : (البحر المتوسط)، يفصلها عن قارة أوروبا.
- **شرقاً** : (البحر الأحمر والمحيط الهندي)، يفصلانها عن قارة آسيا
- **غرباً** : (المحيط الأطلنطي)، يفصلها عن قارتي أمريكا الشمالية والجنوبية.

٢ / الموقع الفلكي:

- تقع بين دائرتي عرض ٣٠:٣٧ شمالاً و ٣٠:٢٤ جنوباً، وبين خطى طول ٥١ شرقاً و ١٧ غرباً.
- تمتد القارة بين أكثر من ٧٠ دائرة عرضية.
- يمر بالقارة ثلاث دوائر عرض رئيسية هي دائرة الاستواء ومدار السرطان ومدار الجدي.
- يمر غرب القارة خط الطول الرئيسي جرينتش.
- تمتد قارة إفريقيا بين نصفي الكرة الأرضية الشمالي والجنوبي **دلل**...؟ حيث يقع نحو ثلثي مساحتها في النصف الشمالي والثلث الآخر في النصف الجنوبي.

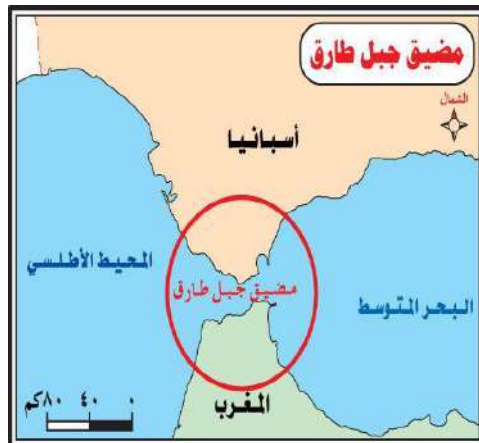
أكد فهمك الأهمية الاستراتيجية: هي الأهمية، وقت الحروب والأزمات والسلم.

أهمية موقع قارة إفريقيا

- تتمتع قارتنا الإفريقية بموقع متميز له أهمية كبيرة، تتمثل في:

١ / الأهمية الاستراتيجية:

- القارة إفريقيا أهمية استراتيجية كبيرة بم تفسر؟ لأنها تشرف على ممرات مائية مهمة مثل:



٢ / الأهمية الاقتصادية:

- القارة إفريقيا أهمية اقتصادية كبيرة **بم تفسر**؟ لأن الموقع الجغرافي لإفريقيا أدى إلى تحكمها في طرق الملاحة العالمية.
- الموقع الفلكي لإفريقيا **ما النتائج**؟ أدى إلى:

١. تنوع المناخ
٢. تنوع النباتات الطبيعية
٣. تنوع المحاصيل الزراعية
٤. تنوع الحيوانات

٣ / الأهمية الحضارية:

- القارة إفريقيا أهمية حضارية كبيرة دلت...؟ حيث نشأت على أرضها العديد من الحضارات والتي تعد من أقدم الحضارات في العالم مثل:

حضارة قرطاج
فى تونس



حضارة أكسوم
فى إريتريا وإثيوبيا



حضارة كوش
فى السودان



الحضارة المصرية
القديمة فى مصر



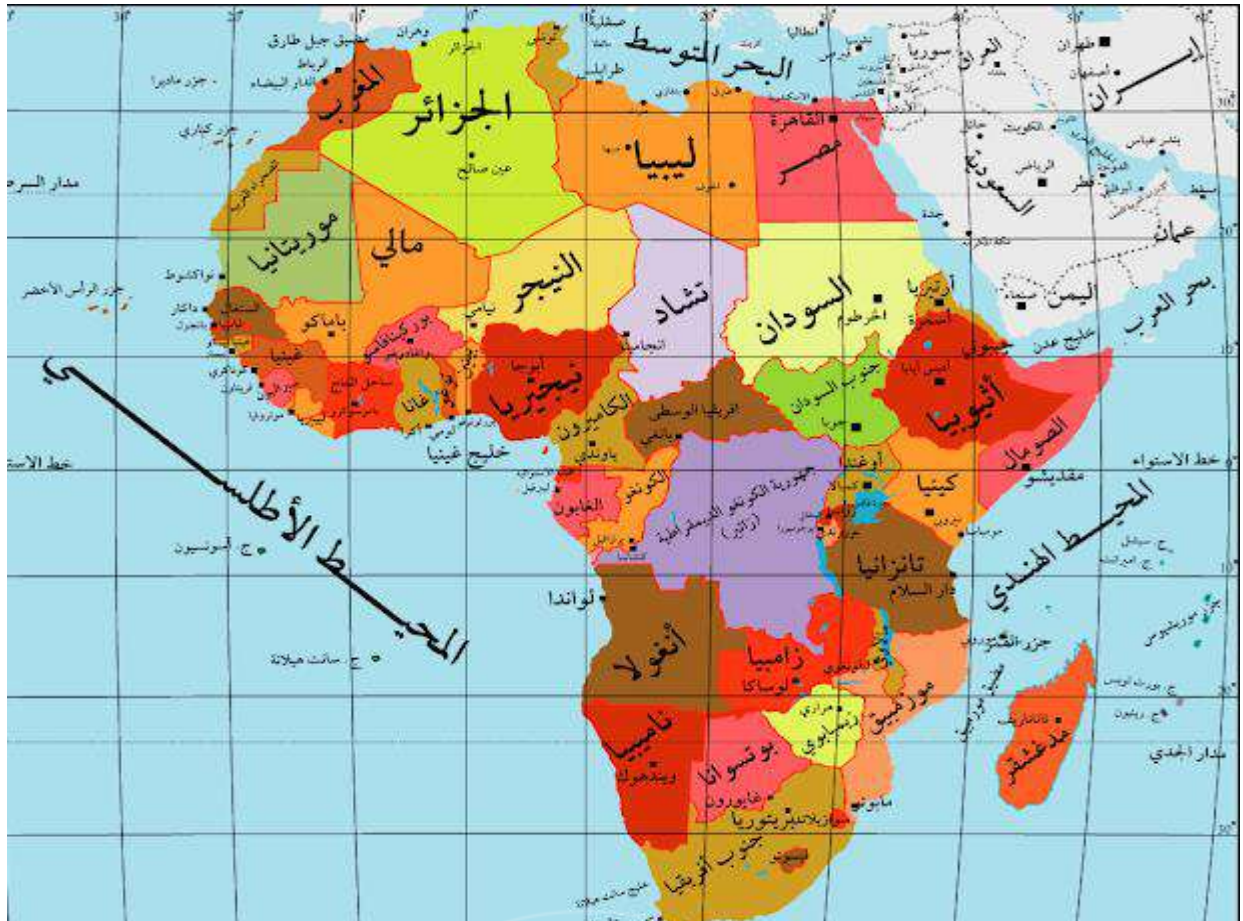
س؟ سؤال

(أ) أكمل: يفصل البحر الأحمر قارة إفريقيا عن قارة.....

(ب) ما النتائج المترتبة على: الموقع الفلكي لقارة إفريقيا

ثالثاً: نظام الخريطة السياسية لقارة إفريقيا

- لاحظ الخريطة السياسية لقارة إفريقيا:



نستنتج من ملاحظة الخريطة

- (١) تضم قارة إفريقيا ٥٤ دولة مختلفة المساحة **بم تفسر**؟ يرجع تقسيم القارة لهذا العدد الكثير من الدول إلى تصارع الدول الاستعمارية على إفريقيا لنهب خيراتها واستغلال ثرواتها، فأقامت هذه الدول مستعمرات لها في أنحاء إفريقيا وعملت على تقسيم القارة لدول متعددة لضمان سيطرتها عليها.
- (٢) تعد الجزائر أكبر دول القارة الإفريقية من حيث المساحة.
- (٣) تقع مصر في الركن الشمالي الشرقى من القارة وتعد واحدة من أكبر وأهم دول قارة إفريقيا.
- تبذل مصر جهودًا مكثفة لتعميق العلاقات المصرية الإفريقية، بما يسهم في تحقيق التنمية المستدامة، والدليل على ذلك:
 - انتخاب مصر لرئاسة الاتحاد الإفريقي عام ٢٠١٩ م ما النتائج؟ أدى ذلك إلى تعميق دور مصر الريادي في قارة إفريقيا وتدعيم علاقاتها مع دول وشعوب القارة الإفريقية.
- (٤) يوجد ١٠ دول عربية في قارة إفريقيا وهي: (مصر - السودان - ليبيا - تونس - الجزائر - المغرب - موريتانيا - جيبوتي - الصومال - جزر القمر). وهناك دول:

ساحلية	حبيسية
مثل: مصر - المغرب - موزمبيق	مثل: تشاد - النيجر - مالي

ما المقصود بالدول الحبيسية؟ الدول التي لا تطل على مسطحات مائية (المحيطات والبحار التي تتصل بها). ارجع إلى الأطلس.

س؟ سؤال : (أ) صوب ما تحته خط:

١. تقع مصر في الركن الشمالي الغربي من قارة إفريقيا.

٢. تعد تونس أكبر دولة إفريقية من حيث المساحة.

(ب) **بم تفسر**: تقسيم القارة الإفريقية إلى دول كثيرة مختلفة المساحة

رابعاً : الكشوف الجغرافية لقارة إفريقيا

١. دور مصر في اكتشاف قارة إفريقيا:

في عصر القدماء المصريين


- كان لمصر دور في اكتشاف إفريقيا منذ القدم **دلل**...؟ حيث إنه: في عصر المصريين القدماء: قام الرحالة «**حر - خوف**» بأربع رحلات نحو الجنوب، وكان من أوائل المصريين الذين اكتشفوا أجزاء من قارة إفريقيا.
- كما أرسل الملك (**نخا و الثاني**) بعثة للدوران حول إفريقيا بدأت من البحر الأحمر، وعادت عبر مضيق جبل طارق، واستمرت الرحلة ثلاث سنوات.
- وقد وصل المصريون القدماء إلى السودان والقرن الإفريقي (جيبوتي - الصومال - إريتريا - إثيوبيا)
- امتد التأثير الحضاري المصري إلى غرب إفريقيا وأعلى منابع النيل الاستوائية.



في العصر الحديث

- **محمد على باشا** (حاكم مصر) كان له دور في اكتشاف منابع النيل **دلل**...؟ حيث:
- أرسل رحلات لاكتشاف منابع النيل عام ١٨٢٩ م وانتهت باكتشاف النيل الأبيض.
- ورسم خريطة للنيل حتى جنوب السودان.
- **الخدويوي إسماعيل** (حفيد محمد على وحاكم مصر) استمر في الاهتمام باكتشاف منابع النيل ووصل حكمه إلى جنوب دائرة الاستواء.

٢. دور العرب في اكتشاف قارة إفريقيا:



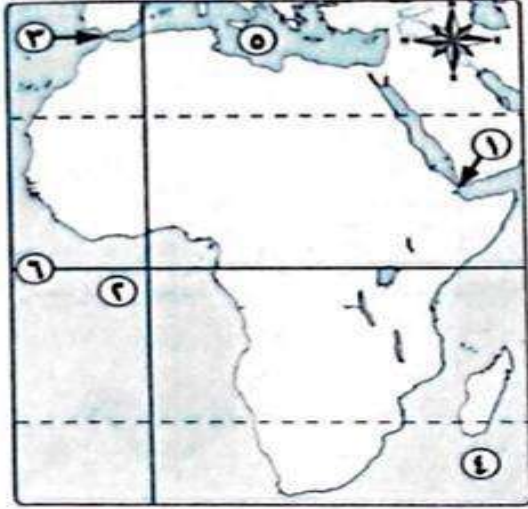
- أسهم الجغرافيون العرب من خلال رحلاتهم في الكشف عن أجزاء عديدة من القارة، مثل:
 - **ابن بطوطة**: الذى قام برحلات مهمة في شمال وغرب إفريقيا. ةاستطاع أن يخترق الصحراء الكبرى من الشمال إلى الجنوب حتى وصل إلى مالي.
 - **المسعودي**: الذى كان من أوائل الرحالة العرب الذين زاروا إفريقيا وكتبوا عنها.
- وقد وصلت القوافل العربية إلى السودان وبلاد الحبشة وجزر القمر، وغيرها.
- تعددت الممالك الإسلامية في إفريقيا بدءاً من السواحل الشرقية للقارة وامتدت إلى هضبة البحيرات الاستوائية.
- كما تكونت بعض الممالك الإسلامية في غرب إفريقيا.

٣. دور الأوروبيين في اكتشاف قارة إفريقيا:



- في القرن الخامس عشر: (في عهد الأمير هنري الملاح)
 - بدأ البرتغاليون محاولاتهم لاكتشاف إفريقيا وقد:
 - استفادوا مما كتبه العرب عن إفريقيا في رحلاتهم الاستكشافية.
 - حاولوا الوصول إلى الهند عن طريق الدوران حول إفريقيا.
 - وقد أسس البرتغاليون الموانئ والمراكز التجارية على طول طريق رأس الرجاء الصالح **بم تفسر؟** لتأمين الملاحة والتجارة.
 - في نهاية القرن الثامن عشر وخلال القرن التاسع عشر: كان للأوروبيين دور بارز في اكتشاف منابع نهر النيل.
- وقد توالى الكشوف لإفريقيا من الإنجليز والفرنسيين والهولنديين وبدأت الدول الاستعمارية تتجه إلى تقسيم إفريقيا ونهب خيراتها ما النتائج؟ مما أدى إلى جعل إفريقيا تعاني من الفقر رغم ما تملكه من ثروات طبيعية متعددة.

أسئلة : الكتاب المدرسى



س١: (أ) لاحظ خريطة إفريقيا ثم اكتب مدلول

الأرقام الموقعة على الخريطة:

- (١) مضيق.....
 (٢) المحيط.....
 (٣) مضيق.....
 (٤) المحيط.....
 (٥) البحر.....
 (٦) دائرة.....

(ب) إذا أردت أن تسافر في رحلة لإحدى الدول الإفريقية، فأى الدول تختارها؟ ولماذا؟

(ج) لون على خريطة إفريقيا السابقة شبه جزيرة سيناء، وشرح الأهمية الحضارية والاستراتيجية لموقعها بالنسبة لمصر وإفريقيا.

س٢: (أ) اختر ١٠ دول إفريقية ورتبها تنازلياً من حيث المساحة.

(ب) اجمع صوراً لأعلام الدول الإفريقية، التي اخترتها وصمم ألبوماً ورقياً أو رقمياً لهذه الأعلام ومدلول الرموز والألوان في كل علم التزم بالتوثيق الدقيق للمعلومات لمراعاة حقوق الملكية الفكرية.

س٣: أجندة ٢٠٦٣ إفريقيا التي نريدها (نص إثنائي)

في عام ٢٠١٢ وبمناسبة مرور خمسين عاماً على تأسيس الاتحاد الإفريقي (منظمة الوحدة الإفريقية سابقاً) ، أطلقت قمة الاتحاد الرؤية الإفريقية التي تسعى لتحقيقها تحت عنوان أجندة ٢٠٦٣: «إفريقيا التي نريدها» وهي وثيقة تتضمن خططا عشرية لبناء قارة متكاملة ومزدهرة يسودها السلام ويمسك مواطنوها بزمام قيادتها.

(١) ما المقصود بأجندة ٢٠٦٣؟

(ب) استعن بالكود (QR Code) من الكتاب المدرسي والذي يتضمن أجندة ٢٠٦٣ وتعاون مع زميلك فيتلخيص أهداف قارة إفريقيا وتطلعاتها التي تتضمنها أجندة ٢٠٦٣.

(ج) ما مقترحاتك لتطوير الرؤية التي تتضمنها أجندة ٢٠٦٣؟

س٤: (نماذج من جهود المستكشفين الأوروبيين) (نص إثنائي)

كان المستكشف (بارتولوميو دياس) أول أوروبي أبحر حول الطرف الجنوبي من إفريقيا الذي يُسمى برأس الرجاء الصالح ، ثم استطاع المستكشف البرتغالي (فاسكودى جاما) أن يبحر من أوروبا إلى الهند عن طريق رأس الرجاء الصالح، كما وصل الرحالة الأوروبى (جون سيبيك) إلى بحيرة فيكتوريا وهو أول من أطلق عليها منبع النيل.

تعاون مع زميلك واستعن بشبكة المعلومات الدولية (الإنترنت) واختر أحد الرحالة الأوروبيين الذين ساهموا في كشف قارة إفريقيا ولخص أهم إنجازاته، موضحاً كيف استفاد من كتابات العرب عن إفريقيا في رحلته الاستكشافية . (مراعياً حقوق الملكية الفكرية من حيث الدقة العلمية وتوثيق المعلومات).

س٥: فكر وأجب:

(أ) اشرح الأهمية الاستراتيجية لموقع قارة إفريقيا.

(ب) بم تفسر: تقسيم إفريقيا لعدد كبير من الدول؟

- (ج) ما النتائج التي ترتبت على اهتمام محمد على باكتشاف منابع النيل.
 (د) وضح العلاقة بين الموقع الفلكي الإفريقي والمحاصيل الزراعية بها.
 (هـ) قارن بين دور العرب والأوروبيين في الكشوف الجغرافية لقارة إفريقيا.

س٦: فكر و صوب : صوب الكلمات التي تحتها خط في العبارات التالية:

- (١) يقع في النصف الشمالي للكرة الأرضية نحو ربع مساحة قارة إفريقيا.
 (٢) أكبر دول قارة إفريقيا من حيث المساحة هي السودان.
 (٣) تعد أكبر قارات العالم من حيث المساحة قارة أوروبا.
 (٤) يفصل قارة إفريقيا عن قارة آسيا البحر المتوسط.

1 قارة إفريقيا (الموقع والكشوف الجغرافية)

السؤال الأول: أكمل العبارات الآتية بما يناسبها من كلمات:

- (١) تعد قارة إفريقيا ثانياً قارات العالم من حيث المساحة بعد قارة
 (٢) تطل قارة إفريقيا على بحارها من
 (٣) يقع نحو من مساحة القارة الإفريقية في نصف الكرة الأرضية الشمالي.
 (٤) يفصل المحيط الأطلسي قارة إفريقيا عن قارتي
 (٥) يمر بقارة إفريقيا ثلاث دوائر عرض رئيسية هي دائرة الاستواء و
 (٦) يفصل قارة إفريقيا عن قارة آسيا
 (٧) تشرف قارة إفريقيا على ممرات مائية مهمة مثل مضيق ومضيق
 (٨) نشأت على أرض قارة إفريقيا أقدم الحضارات في العالم مثل حضارة في السودان.
 (٩) امتد التأثير الحضاري المصري في إفريقيا إلى أعالي منابع
 (١٠) امتدت الممالك الإسلامية في إفريقيا حتى وصلت إلى هضبة

السؤال الثاني: ما المقصود بـ...؟ الموقع الفلكي / الدول الحبيسة / الحضارة

السؤال الثالث: اكتب كلمة (صواب) أمام العبارة الصحيحة، وكلمة (خطأ) أمام العبارة غير الصحيحة.

- أ. تقع قارة إفريقيا في وسط قارات العالم. ()
 ب. تتمتع قارة إفريقيا بأهمية استراتيجية كبيرة عبر العصور. ()
 ت. يعد الحفاظ على أمن سيناء ضرورة للحفاظ على الأمن القومي المصري. ()
 ث. يقع نحو ثلث مساحة القارة الإفريقية في النصف الشمالي من الكرة الأرضية. ()
 ج. تعرضت مصر وقارة إفريقيا للعديد من الحملات الاستعمارية. ()
 ح. تنقسم قارة إفريقيا إلى دول متساوية في المساحة. ()
 خ. وصل المصريون القدماء إلى السودان والقرن الإفريقي. ()
 د. تعمل مصر على تدعيم علاقتها مع دول وشعوب القارة الإفريقية. ()
 ذ. بدأت رحلة الدوران حول قارة إفريقيا في العهد الفرعوني من البحر الأحمر وانتهت إلى مضيق باب المنذب. ()

السؤال الرابع : اكتب ما تشير إليه العبارات الآتية:

- ١) الدول التي تطل على مسطحات مائية. (.....)
- ٢) بحري فصل قارة إفريقيا عن قارة أوروبا. (.....)
- ٣) دول حرصت على تقسيم دول إفريقيا لدول مختلفة في المساحة. (.....)
- ٤) دولة إفريقية تم انتخابها لرئاسة الاتحاد الإفريقي لعام ٢٠١٩م. (.....)
- ٥) طريق اكتشفه البرتغاليون للدوران حول إفريقيا. (.....)
- ٦) كان لهم دور في اكتشاف منابع النيل في نهاية القرن الـ ١٨م وخلال القرن الـ ١٩م. (.....)

السؤال الثاني: (أ) أكمل العبارات الآتية بما يناسبها من كلمات:

- ١) بدأ البرتغاليون محاولاتهم لاكتشاف إفريقيا في القرن الـ ١٥ خلال عهد.....
- ٢) يفصل قارة إفريقيا عن قارة آسيا.....و.....
- ٣) قامت حضارة..... في بلاد السودان
- ٤) يمر بالقارة الإفريقية دوائر عرض رئيسية وهى دائرة الاستواء.....و.....

(ب) ما النتائج المترتبة على...؟

- ١/ الموقع الجغرافي لإفريقيا
- ٢/ الاستعمار الأوربي للقارة الإفريقية

(ج) دلل على صحة هذه العبارة: استفاد الأوروبيون من رحلات العرب لاكتشاف قارة إفريقيا

2 قارة إفريقيا (الموقع والكشوف الجغرافية)

السؤال الأول: اختر الإجابة الصحيحة مما بين الأقواس:

- ١/ يفصل قارة إفريقيا عن قارة أوروبا.....
- ٢/ تقرب قارة إفريقيا من قارة أوروبا عند.....
- ٣/ مضيق جبل طارق - مضيق باب المندب - مضيق هرمز - قناة السويس (ربح - خمس - سدس - نصف)
- ٤/ يمر بقارة إفريقيا نحو..... دوائر عرض رئيسية (ثلاث - أربع - خمس - ست)
- ٥/ يحد قارة إفريقيا من جهة الغرب المحيط.....
- ٦/ دول إفريقيا تقع في الركن الشمالي الشرقي هي..... (الهادي - الهندي - القطبي - الأطلنطي)
- ٧/ نشأت على أرض إفريقيا حضارات قديمة مثل..... في تونس. (مصر - ليبيا - الجزائر - تونس)
- ٨/ انتقلت الحضارات من قارة آسيا إلى قارة إفريقيا عبر..... (كوش - أكسوم - قرطاج - فينيقيا)
- ٩/ بدأت رحلة الدوران حول قارة إفريقيا في عهد الملك نخاو الثاني ابتداءً من..... (الصحراء الغربية - الصحراء الشرقية - شبه جزيرة سيناء - نهر النيل)
- ١٠/ انتهت رحلات محمد على باشا الاستكشافية في إفريقيا باكتشاف..... (البحر الأحمر - البحر المتوسط - المحيط الهندي - المحيط الهادي)
- ١١/ (النيل الأبيض - النيل الأزرق - البحر الميت - البحر الأسود)

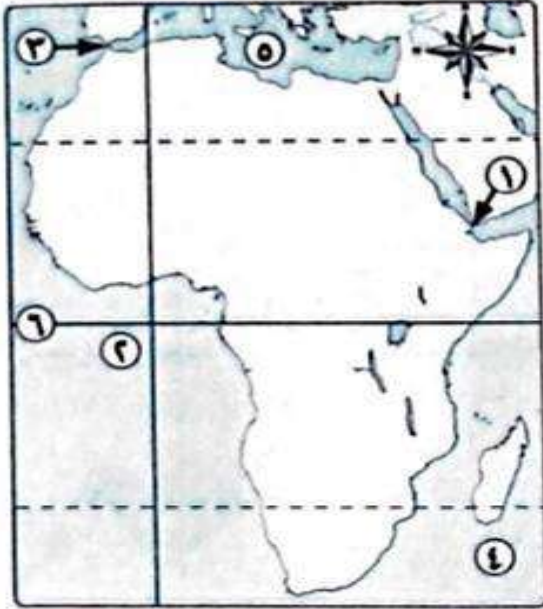
السؤال الثاني: صوب ما تحته خط في العبارات التالية: تعد مصر جزءاً من قارة أوروبا.

- أ. تعد مصر جزءاً من قارة أوروبا.
- ب. تعد إفريقيا ثالث قارات العالم من حيث المساحة.
- ت. يقع نحو ربع مساحة قارة إفريقيا في النصف الشمالي للكرة الأرضية.
- ث. أكبر دول قارة إفريقيا من حيث المساحة هي السودان.
- ج. قام الرحالة «خر خوف» بأربع رحلات نحو غرب إفريقيا.
- ح. تقترب قارة إفريقيا من قارة آسيا عند مضيق موزمبيق.
- خ. قامت على أرض قارة إفريقيا حضارة كوش في مصر.
- د. امتد التأثير الحضاري المصري إلى دول جنوب إفريقيا.
- ذ. استمرت رحلة الدوران حول إفريقيا حوالي أربع سنوات.
- ر. تعددت الممالك الإسلامية على السواحل الغربية لقارة إفريقيا.
- ز. استفاد البرتغاليون من الفينيقيين في محاولاتهم لاكتشاف قارة إفريقيا.

السؤال الثالث : من هو ...؟

- (١) ملك مصري قديم أرسل رحلة للدوران حول قارة إفريقيا. (.....)
- (٢) حاكم مصري في العصر الحديث كان له دور في اكتشاف منابع النيل عام ١٨٣٩ م. (.....)
- (٣) رحالة عربي قام برحلات مهمة في شمال وغرب إفريقيا حتى وصل إلى مالي (.....)
- (٤) أوائل الرحالة العرب الذين زاروا إفريقيا وكتبوا عنها. (.....)
- (٥) حاكم مصري وصل حكمه إلى جنوب دائرة الاستواء. (.....)
- (٦) رحالة مصري قام بأربع رحلات نحو الجنوب في عصر الدولة المصرية القديمة (.....)

السؤال الرابع : أمامك خريطة صماء



لإفريقيا، اكتب ما تشير إليه الأرقام بها:

١. مضيق.....
٢. المحيط.....
٣. مضيق.....
٤. المحيط.....
٥. البحر.....
٦. دائرة.....
٧. قناة.....
٨. البحر.....
٩. دولة.....

السؤال الخامس: ما النتائج المترتبة على...؟

- ١ الموقع الجغرافي لقارة إفريقيا
- ٢ إرسال محمد على باشا رحلات لاكتشاف منابع النيل عام ١٨٣٩ م
- ٣ انتخاب مصر لرئاسة الاتحاد الإفريقي عام ٢٠١٩ م
- ٤ تنوع المناخ في قارة إفريقيا

أكد فهمك



السؤال الأول: اختر الإجابة الصحيحة من بين (ا -

ب - ج - د):

١. أقصى اتساع لدولة مصر في القارة الإفريقية كان في عهد حاكمها.....

(أ) سعيد باشا (ب) محمد على باشا

(ج) الخديوي إسماعيل (د) إبراهيم باشا

٢. كان نهر النيل عاملاً مشتركاً لظهور حضارتى.....

(أ) مصر القديمة وقرطاج (ب) كوش ومالى

(ج) أكسوم وقرطاج (د) كوش وأكسوم

٣. بالاستعانة بالخريطة المقابلة أجب عما يلي: الدول العربية التي تشرف على مضائق القارة الإفريقية.....و.....

(أ) مصر وموريتانيا (ب) جيبوتي والمغرب

(ج) الصومال وتونس (د) الجزائر وليبيا

٤. استطاعت الحضارة الإسلامية أن تتوسع وتنتشر في القارة الإفريقية عن طريق.....

(أ) مضيق جبل طارق

(ب) مضيق باب المندب

(ج) شبه جزيرة سيناء

(د) قناة السويس

السؤال الثاني: ما العلاقة بين ...؟

(١) الموقع الجغرافي لقارة إفريقيا وأهميتها الاقتصادية

(٢) الدول الاستعمارية وتقسيم قارة إفريقيا

(٣) العرب والبرتغاليين في الكشوف الجغرافية لقارة إفريقيا

(٤) الأمن القومي لسيناء وأمن القارة الإفريقية

السؤال الثالث (قام على أرض قارة إفريقيا العديد من الحضارات القديمة مثل الحضارة المصرية القديمة

وحضارة كوش في السودان وحضارة أكسوم في إريتريا وإثيوبيا). في ضوء العبارة السابقة

استنتج العامل المشترك في ظهور هذه الحضارات.

السؤال الرابع : ما مقترحاتك لتعميق العلاقات المصرية بالقارة الإفريقية؟

السؤال الخامس : كانت الحضارة المصرية القديمة لها الريادة في اكتشاف القارة الإفريقية...

دل على صحة العبارة.

السؤال السادس : اكتب كلمة (صواب) أمام العبارة الصحيحة وكلمة (خطأ) أمام

العبارة غير الصحيحة مع التصويب:

() عدد دوائر العرض التي تمر بالقارة الإفريقية في نصف الكرة الشمالي أقل منها في نصف الكرة الجنوبي.

السؤال السابع: ما رأيك في العبارة التالية...؟

- شبه جزيرة سيناء لها دور إيجابي ودور سلبي للقارة الإفريقية.

2 مظاهر سطح قارة إفريقيا

تأمل واكتشف

• وهب الله سبحانه وتعالى قارة إفريقيا مظاهر سطح متنوعة غنية بمواردها وثرواتها الطبيعية.

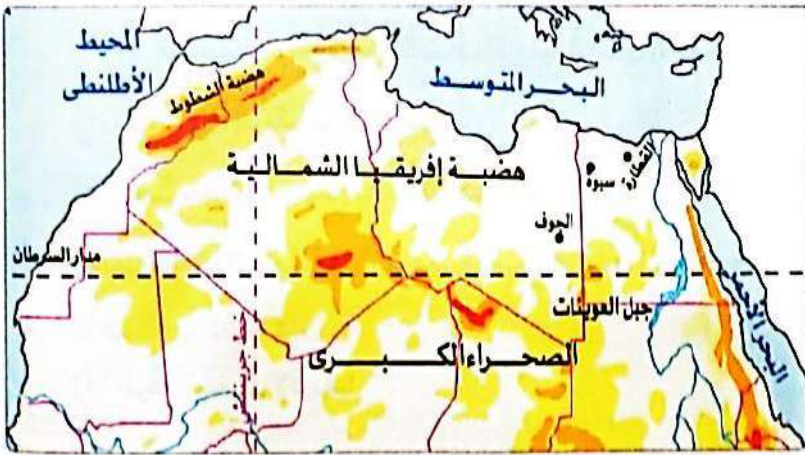
تعلم وشارك

• تتنوع مظاهر سطح قارة إفريقيا **دلل...؟** حيث تضم القارة مجموعة من الهضاب والجبال والمنخفضات.

أغلب سطح قارة إفريقيا يتكون من هضاب واسعة ، منها:

أولاً: الهضاب :

١/ هضبة شمال إفريقيا



خريطة هضبة شمال إفريقيا

موقعها:

• تمتد من: ساحل البحر المتوسط شمالاً حتى وسط إفريقيا جنوباً وجبال البحر الأحمر شرقاً حتى المحيط الأطلسي غرباً.

وصفها:

• هضبة عظيمة الاتساع وقليلة الارتفاع، وتندحر تدريجياً نحو الشمال حتى تلتقى بسواحل البحر المتوسط.

الظواهر الجغرافية المنتشرة بها :

- جبل العوينات على الحدود بين مصر وليبيا والسودان.
- المنخفضات مثل: منخفض القطارة في مصر.
- العديد من الواحات مثل: واحة سيوة في مصر، واحة الجوف في ليبيا.
- الصحراء الكبرى التي تعد أكبر صحارى العالم.

٢/ هضبة الحبشة (الهضبة الإثيوبية)



موقعها:

➤ شرق قارة إفريقيا.

وصفها:

- تعد أعلى هضاب القارة.
- تمتاز بخصوبة تربتها **بم تفسر**...؟ بسبب الطفوح البركانية مما ساعد على قيام حرفة الزراعة بها ونشأة الحضارات القديمة في إثيوبيا.

ما المقصود بالطفوح البركانية ؟ يقصد بها الصخور المنصهرة التي تندفع من باطن الأرض إلى سطحها وتساهم في تكون

بعض الظواهر التضاريسية مثل الجبال والهضاب.

➤ تعد هضبة الحبشة المنبع الموسمي لنهر النيل **بم تفسر**...؟ بسبب أمطارها الصيفية.

٣/ هضبة البحيرات الاستوائية



موقعها :

تقع في وسط القارة وتمر بها دائرة الاستواء.

وصفها :

- تنحدر من الجنوب إلى الشمال.
- تعلوها القمم الجبلية البركانية.
- تعد المنبع الدائم لنهر النيل ؛ **بم تفسر...** ؟ لأن أمطارها تسقط طوال العام.
- تكثر بها البحيرات العذبة مثل بحيرة فيكتوريا.

٤/ الهضبة الجنوبية

موقعها :

تقع جنوب القارة.

وصفها :

- تنحدر بشدة نحو السواحل الشرقية.
- يوجد في الجزء الشرقى منها الأخدود الإفريقي العظيم.

أكد فهمك

الأخدود هو: عبارة عن انكسارين متوازيين تهبط الأرض بينهما.

ما المقصود بالأخدود الإفريقي العظيم؟ مجموعة انكسارات طولية تمتد شرق قارة إفريقيا وتتجه بشكل عام من الجنوب إلى الشمال.

• يمتد في شرق القارة بطول ٥٦٠٠ كم تقريبا.

• يبعد البحر الأحمر وخليج عدن وخليج العقبة أجزاء منه.

س؟ سؤال (١) أكمل العبارات الآتية بما

يناسبها من كلمات:

- أ. تتنوع مظاهر السطح فوق هضبة شمال إفريقيا مثل جبل ومنخفض.....
- ب. تمثل هضبة..... المنابع الموسمية لنهر النيل بإفريقيا.
- ت. تقطع دائرة الاستواء وسط إفريقيا عند هضبة.....

(ب) بم تفسر:

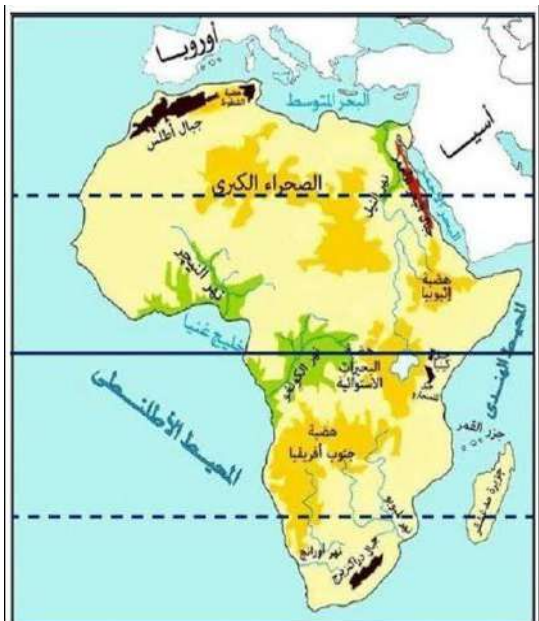
(١) تعد هضبة البحيرات الاستوائية المنبع

الدائم لمياه نهر النيل

(٢) خصوبة التربة بهضبة الحبشة



أحد أجزاء الأخدود الإفريقي العظيم



ثانياً الجبال

تضم قارة إفريقيا مجموعة متنوعة من الجبال، ومنها:

١. الجبال الالتوائية

مثل:

أ/ جبال الكاب (تقع جنوب القارة)

ب/ جبال أطلس :

موقعها : تقع شمال غرب القارة في ثلاث دول تونس والجزائر والمغرب.

الامتداد: تمتد في سلسلتين متوازيتين على طول الساحل الشمالي الغربي للقارة

(من جنوب المغرب حتى تونس) وتحصران بينهما هضبة الشطوط في

الجزائر. ويُعد جبل توبقال بالمغرب أعلى قمة جبلية في السلسلة.

٢. الجبال الانكسارية

مثل:

جبال البحر الأحمر

موقعها: شرق القارة.

الامتداد: تمتد في مصر والسودان وإريتريا على ساحل البحر الأحمر وتعد جزءاً من الأخدود الإفريقي العظيم. ويُعد جبل شايب البنات في

مصر أعلى قمة جبلية في السلسلة.

٣. الجبال البركانية

مثل

١/ جبل كينيا وجبل كلمنجارو

• يقعان في وسط القارة ويُعد جبل كلمنجارو أعلى قمة جبلية في إفريقيا، ما النتائج أدى؟ ذلك لتكون الجليد فوق قمته رغم

وقوعه بالمنطقة الاستوائية الحارة.

٢/ جبال دراكنزبرج في جنوب القارة

ما المقصود بالجبال البركانية؟ الجبال التي تكونت نتيجة الثورات البركانية

الأهمية الاقتصادية لجبال قارة إفريقيا

• تساهم المناطق الجبلية في قارتنا الإفريقية في دعم العديد من الأنشطة الاقتصادية **دلل**...؟ حيث يظهر ذلك في:١/ **السياحة** : لأنها تتميز بمناظر طبيعية خلابة تجذب السياح الذين ارسون العديد من الأنشطة بالمناطق الجبلية.٢/ **التعدين والصناعة** : لأنها غنية بالثروات المعدنية المتنوعة كالحديد والذهب والفضة والنحاس والفوسفات التي تدخل في صناعات عديدة.

تمتلك قارة إفريقيا سهولًا متنوعة، ومنها:

ثالثاً : السهول

١/ السهول الفيضية:

- يجرى بقارة إفريقيا العديد من الأنهار، مثل: نهر النيل / نهر النيجر/ نهر الكونغو. وقد ساعدت تلك الأنهار على تكوين السهول الفيضية الخصبة الصالحة للزراعة مثل: سهول وأدى النيل: تمتد في مصر والسودان، وتتميز بخصوبة تربتها التي تكونت من الطمي المنقول من هضبة الحبشة.

٢. السهول الساحلية

- يختلف اتساع السهول الساحلية في القارة من منطقة لأخرى بحسب اقتراب أو ابتعاد المرتفعات من الساحل، وتتمثل السهول الساحلية في:

السهول	موقعها	خصائصها
سهول البحر المتوسط	شمال القارة	- تتسع في شمال مصر وتتميز بوجود النباتات الطبيعية والمحاصيل الزراعية التي تعتمد على الأمطار الشتوية. - تضيق في بلاد المغرب العربي بم تفسر؟ بسبب اقتراب جبال أطلس من الساحل.
سهول البحر الأحمر	شرق القارة في مصر والسودان وإريتريا	- سهول ساحلية ضيقة بم تفسر؟ بسبب اقتراب جبال البحر الأحمر من الساحل. - غنية بالثروات المعدنية ومصادر الطاقة.
سهول المحيط الهندي	شرق القارة	- تختلف من حيث الاتساع دلل حيث: تتميز السهول في تنزانيا باتساعها، أما في كينيا فهي عبارة عن شريط ضيق ينحصر بين الساحل وهضبة البحيرات الاستوائية.
سهول المحيط الاطلنطي	غرب القارة	سهول واسعة غنية بحقولها الزراعية.

تضم القارة عددا من الجزر، مثل:

رابعاً : الجزر

١/ جزيرة مدغشقر:

- أكبر جزر القارة تقع في المحيط الهندي. يفصلها عن الساحل الشرقي للقارة مضيق موزمبيق.

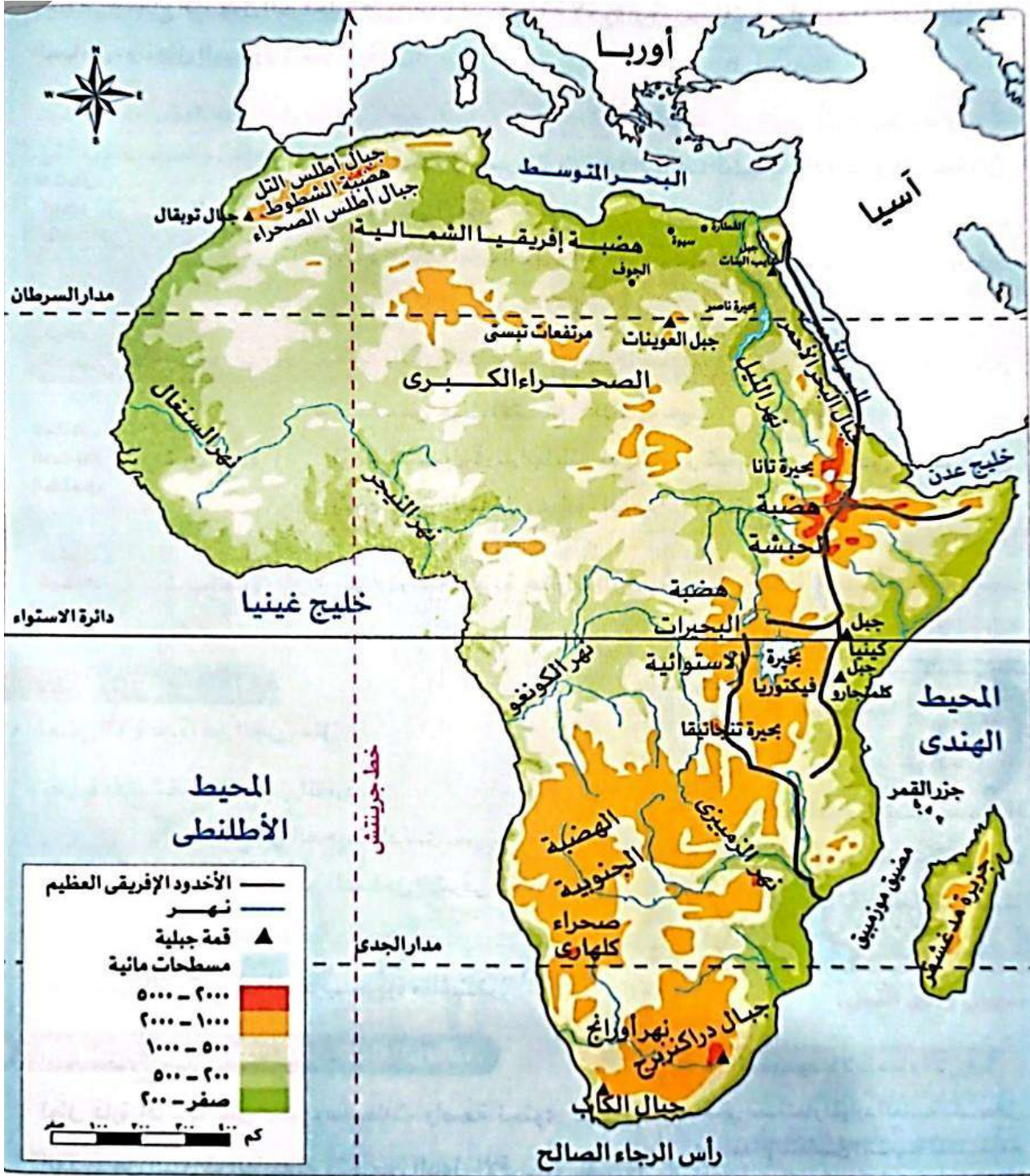
٢ / جزر القمر:

- التي تقع شمال غرب جزيرة مدغشقر.



الاقتصاد الأزرق ومستقبل قارة إفريقيا

- تطل قارة إفريقيا على بحار ومحيطات واسعة تحتوي على العديد من الثروات الطبيعية وتحرص الدول الإفريقية على استثمارها بشكل مستدام بما يحقق أهداف الاقتصاد الأزرق.
- ما المقصود بالاقتصاد الأزرق؟** يعنى استثمار الموارد المائية بشكل مستدام لتحقيق التنمية المستدامة والقضاء على الفقر وتحقيق الاكتفاء الذاتي من الغذاء، مع المحافظة على النظام البيئي.



أسئلة : الكتاب المدرسى



س١: أمامك خريطة لقارة إفريقيا وزع عليها المظاهر التضاريسية التالية باستخدام الأرقام:

- ١ - جبال البحر الأحمر
- ٢ - بحيرة فيكتوريا.
- ٣- سهول وأدى النيل.
- ٤ - هضبة إثيوبيا.
- ٥- جبل كلمنجارو.
- ٦ - جزيرة مدغشقر

س٣: اختر واشرح: اختر اثنين من المظاهر التضاريسية في قارة إفريقيا، ووضح تأثيرها على الزراعة والصناعة بالقارة.

٣. لاحظ وأجب: لاحظ الصورة التي أمامك ، ثم أجب:

- (أ) بالرجوع إلى خرائط الدرس حدد في أي الدول يوجد المظهر التضاريسي الموضح بالصورة.
- (ب) ما سبب تكون ذلك المظهر التضاريسي؟
- (ج) وضح سبب تكون الجليد فوقه رغم وقوعه في المنطقة الاستوائية.
- (د) استنتج العلاقة بين هذا المظهر التضاريسي والنشاط السياحي



س٤:(الاقتصاد الأزرق ومستقبل التنمية في قارة إفريقيا) (نص إرشادي)

تمتلك القارة الإفريقية مسطحات مائية واسعة تتميز بتنوع الكائنات البحرية وغناها بمصادر الطاقة والثروات المعدنية ، فضلاً عن أهميتها الاقتصادية في مجال السياحة والنقل البحري، والصناعات البحرية؛ لذلك تسعى دول القارة لاستثمار تلك الموارد البحرية بشكل مستدام للحفاظ على الحياة تحت سطح الماء تحقيقاً لمبادئ الاقتصاد الأزرق، مما يساهم في تحقيق أهداف التنمية المستدامة ٢٠٢٠، والقضاء على عديد من مشكلات القارة كالبطالة والفقر والجوع ، لذلك نص الهدف السادس من أجندة ٢٠٢٢ على : (الاقتصاد الأزرق / المحيطي من أجل تسريع النمو الاقتصادي) في ضوء الفقرة السابقة أجب عن الأسئلة التالية

- (أ) وضح دور الاقتصاد الأزرق في حل بعض مشكلات قارة إفريقيا.
- (ب) من أهداف التنمية المستدامة لعام ٢٠٣٠، الهدف رقم ١٤، والذي ينص على الحفاظ على المحيطات والبحار والموارد البحرية واستخدامها بشكل مستدام لتحقيق التنمية المستدامة)، استنتج العلاقة بين هذا الهدف والاقتصاد الأزرق.
- (ج) باستخدام شبكة المعلومات الدولية (الإنترنت) ابحث عن جهود بعض الدول الإفريقية لتنفيذ مشروعات الاقتصاد الأزرق، ثم لخص ما توصلت إليه بأسلوبك (مراعياً دقة المعلومات وتوثيقها الحماية حقوق الملكية الفكرية).

س٥: ابحث وحدد: استخدم برنامج (Google Earth) وحدد في أي دولة تقع الظواهر التضاريسية التالية ، ثم ابحث عن سبب

تكونها: (هضبة الشطوط - جبال دراكنز برج - جبل شايب البنات - هضبة الجلف الكبير - جبل كينيا - جزيرة مدغشقر)

س٦: ارسم وخلص: ارسم خريطة مفاهيم تخلص من خلالها مظاهر سطح قارة إفريقيا.

٧. فكر وأجب:

- (أ) اشرح الأهمية الاقتصادية لكل من (سهول وأدى النيل - جبال البحر الأحمر - سهول البحر المتوسط).
 (ب) قارن بين: جبال البحر الأحمر وجبال أطلس من حيث الموقع، وسبب التكوين.
 (ج) توقع ما الذي يحدث إذا كانت هضبة البحيرات الاستوائية تنحدر نحو الجنوب.
 (د) ما العلاقة بين: هضبة الحبشة والتربة في مصر؟
 (هـ) بم تفسر: ضيق سهول البحر الأحمر في مصر والسودان؟
 (و) استبعد المظهر التضاريسى الذى لا ينتمى للمجموعة مع ذكر السبب: (كينيا - كلمنجارو - أطلس - دراكنزبرج).

٨. فكر وأكمل:

-أكمل العبارات التالية بكلمات مناسبة:

- (أ) تسقط الأمطار على هضبة الحبشة في فصل
 (ب) جبال تمتد في مصر وتعد جزءاً من الأخدود الإفريقي العظيم هي جبال.....
 (ج) أكبر الجزر الإفريقية وتقع في شرق إفريقيا.

1 مظاهر سطح قارة إفريقيا

السؤال الأول: أكمل العبارات الآتية بما يناسبها من كلمات.

- يقع جبل على الحدود بين مصر وليبيا والسودان.
 تقع هضبة الحبشة في الجانب من قارة إفريقيا.
 نتيجة الثورات البركانية أصبحت أرض هضبة الحبشة صالحة لحرفة
 تكثر البحيرات العذبة في هضبة البحيرات الاستوائية مثل بحيرة
 يعتبر جبل بالمغرب أعلى قمة جبلية في سلسلة الجبال الالتوائية.
 من الجبال البركانية في وسط إفريقيا و.....
 يعتبر جبل بمصر أعلى قمة جبلية في سلسلة الجبال الانكسارية.
 تساهم المنطقة الجبلية في قارة إفريقيا في العديد من الأنشطة الاقتصادية مثل و.....
 تكونت السهول الفيضية في وأدى النيل بمصر والسودان من الطمي المنقول من هضبة
 الاقتصاد الأزرق يعنى استثمار الموارد المائية بشكل مستدام لتحقيق
 تتسم سهول البحر الأحمر بالضيق نتيجة اقتراب من الساحل.
 تضم قارة إفريقيا عدداً من الجزر أكبرها جزيرة.....

السؤال الثاني: صوب ما تحته خط في العبارات التالية:

١. تتميز هضبة شمال إفريقيا بالمنخفضات كمنخفض عين صالح بمصر.
٢. تعتبر هضبة الحبشة المنبع الدائم لنهر النيل.
٣. تعد الهضبة الاستوائية هي المنبع الموسمي لنهر النيل.
٤. الطفوح البركانية في هضبة الحبشة سبب قيام الحضارات القديمة في تونس.
٥. البحيرات الاستوائية تعلوها القمم الجبلية الجلدية.
٦. من الجبال الالتوائية بقارة إفريقيا جبال أطلس التي تمتد في سلسلتين متقاطعتين على طول الساحل.
٧. هناك أهمية اقتصادية لجبال قارة إفريقيا لتوفيرها مصادر الطاقة اللازمة للصناعة.
٨. تمتد سهول كينيا بين الساحل الشرقي لإفريقيا وهضبة شمال إفريقيا.

السؤال الثالث : اكتب المفهوم المناسب للعبارات التالية:

- ١/ جبال تكونت نتيجة الثورات البركانية (.....)
- ٢/ استثمار الموارد المائية بشكل مستدام لتحقيق التنمية المستدامة والقضاء على الفقر وتحقيق الاكتفاء الذاتي (.....)
- ٣/ هضبة عظيمة الاتساع وقليلة الارتفاع وتنحدر تدريجيا نحو الشمال حتى تلتقي بسواحل البحر المتوسط. (.....)



السؤال الرابع : (أ) أمامك خريطة صماء لتضاريس قارة إفريقيا، اكتب ما تدل عليه الأرقام الموقعة عليها:

١. مضيق
٢. هضبة.
٣. نهر.....
٤. نهر.....
٥. جبال التوائية
٦. من أهم جزر قارة إفريقيا.....

(ب) بم تفسر ...؟

١. تعد هضبة الحبشة المنيع الموسمي لنهر النيل
٢. الأهمية الاقتصادية للمناطق الجبلية

السؤال الخامس : اختر الإجابة الصحيحة مما بين الأقواس:

١/ يحد هضبة شمال إفريقيا من الغرب المحيط.....

(الأطلنطي - الهندي - الهادي - القطبي)

٢/ أعلى جبال البحر الأحمر جبل.....

(العوينات - شايب البنات - الكاب - توبقال)

٣/ تتشابه كل من سهول البحر المتوسط والمحيط الأطلنطي في.....

(ارتفاع حرارتها - خصوبة تربتها - تطرفها المناخي - أمطارها الغزيرة)

٤/ تقع جبال توبقال بدولتي.....

(تونس - المغرب - الجزائر - ليبيا)

(ب) ما النتائج المترتبة على...؟

١. سقوط الأمطار طوال العام على البحيرات الاستوائية
٢. تأثر سطح قارة إفريقيا بالحركات الانكسارية

2 مظاهر سطح قارة إفريقيا

السؤال الأول: بم تفسر...؟

- (١) تتميز هضبة الحبشة بخصوبة تربتها
- (٢) تعد هضبة الحبشة المنبع الموسمي لنهر النيل
- (٣) تعتبر هضبة البحيرات الاستوائية المنبع الدائم لنهر النيل
- (٤) تكون الجليد فوق قمة جبل كلمنجارو
- (٥) تتميز سهول وادى النيل بخصوبة تربتها
- (٦) تضيق سهول البحر المتوسط في بلاد المغرب العربي
- (٧) تكون الأخدود الإفريقي العظيم

السؤال الثاني : ما النتائج المترتبة على...؟

- ١ حدوث طفوح بركانية بهضبة الحبشة
- ٢ امتداد العديد من الأنهار بقارة إفريقيا
- ٣ اقتراب جبال أطلس من ساحل البحر المتوسط
- ٤ حدوث الثورانان البركانية في وسط قارة إفريقيا.
- ٥ تمتع جبال القارة الإفريقية بالمناظر الطبيعية الخلابة

السؤال الثالث : قارن بين:

١. سهول البحر المتوسط وسهول البحر الأحمر من حيث الموقع والخصائص لكل منهما.

وجه المقارنة	سهولة البحر المتوسط	سهول البحر الأحمر
الموقع
الخصائص

٢. سهول المحيط الهندي وسهول المحيط الأطلسي من حيث الموقع والخصائص لكل منهما.

وجه المقارنة	سهولة المحيط الهندي	سهول المحيط الأطلسي
الموقع
الخصائص

السؤال الرابع : ماذا يحدث إذا لم...؟

- ١ تتساقط الأمطار على هضبة البحيرات الاستوائية بشكل دائم
- ٢ تقترب جبال أطلس من البحر المتوسط
- ٣ يتم نقل الطمي من هضبة الحبشة (الإثيوبية) إلى مصر والسودان

السؤال الخامس: دلل على صحة العبارات الآتية:

- ١ تنوع مظاهر السطح في هضبة شمال إفريقيا
- ٢ تضم قارة إفريقيا مجموعة متنوعة من الجبال
- ٣ للمناطق الجبلية بإفريقيا دور مهم في دعم السياحة
- ٤ ساهم المناطق الجبلية بإفريقيا في النشاط الصناعي

أكد فهمك

السؤال الأول : اكتب كلمة (صواب أمام العبارة الصحيحة، وكلمة (خطأ) أمام العبارة غير الصحيحة مع التصويب

- ٦) تتميز هضبة شمال إفريقيا بفقر في مظاهر سطحها. ()
- ٧) تقع أكبر صحاري العالم في الناحية الجنوبية لقارة إفريقيا. ()
- ٨) أصبحت هضبة الحبشة الإثيوبية صالحة للزراعة بسبب الطفوح البركانية. ()
- ٩) تعد جبال الكاب أعلى قمة جبلية في سلسلة جبال أطلس. ()
- ١٠) يقع جبل شايب البنات في قارة إفريقيا ناحية الغرب. ()
- ١١) اتجاه حركة المياه من الجنوب إلى الشمال جعل سهول وأدى النيل بمصر أرضاً صالحة للزراعة. ()
- ١٢) يعتبر الاقتصاد الأزرق الداعم الأساسى لتحقيق الاكتفاء الذاتى من الغذاء بإفريقيا. ()
- ١٣) تعد جبال أطلس السبب الرئيسى في ضيق سهول البحر المتوسط في بلاد المغرب العربى. ()
- ١٤) ارتفاع جبل كلمنجارو هو السبب الرئيسى في جعل قمته منخفضة الحرارة. ()

السؤال الثانى : اختر الإجابة الصحيحة مما بين الأقواس:

١/ ساعدت الطفوح البركانية في هضبة الحبشة على قيام حرفاً ()

(التجارة- الزراعة- الصناعة- الرعى)

٢/ من خلال دراستك لجبال البحر الأحمر الانكسارية أعلى قمة جبلية لتلك السلسلة هي..... ()

(جبل سانت كاترين- جبل شايب البنات- جبل المقطم- جبل علبت)

٣/ أى من الدول التالية لا تمتد فيها جبال البحر الأحمر؟(مصر- السودان- إريتريا- ليبيا)

٤/ تتأثر خصوبة تربة وأدى النيل بمصر بالطمي المنقول من ناحية..... ()

(الجنوب- الشمال- الشرق- الغرب)

٥/ أى من سهول إفريقيا الساحلية تتميز بحقولها الزراعية الغنية؟ سهول..... ()

(البحر الأحمر- البحر العربى- وادى النيل- المحيط الأطلنطى)

٦/ تقع دولة..... شمال جزيرة مدغشقر. ()

(جزر القمر- جزر كناريا- جزر موريشيوس- جزر الرأس الأخضر)

٧/ تتميز سهول دولة..... المطلّة على المحيط الهندي باتساعها ()

(الصومال- مصر- إريتريا- تنزانيا)

(سيوة- القطارة- الجوف- عين صالح)

٨/ تقع واحة..... في ليبيا ()

٩/ يفصل مضيق جزيرة مدغشقر عن الساحل الشرقى للمقارة. ()

(جبل طارق- موزمبيق- باب المندب- هرمز)

١٠/ من أمثلة الجبال البركانية التي توجد في جنوب القارة الإفريقية..... ()

(البحر الأحمر- شايب البنات- كلمنجارو- دراكنزبرج)

السؤال الثالث : اختر الإجابة الصحيحة من بين (ا - ب - ج - د):

١. يرجع سبب ارتفاع منسوب مياه نهر النيل بمصر في فصل الصيف إلى سقوط الأمطار على هضبة.....
 (أ) شمال إفريقيا
 (ب) الحبشة
 (ج) البحيرات الاستوائية
 (د) الشطوط
٢. أي من هضاب إفريقيا يشغل أغلب مساحة جناح الوطن العربي الإفريقي؟.....
 (أ) هضبة شمال إفريقيا
 (ب) هضبة البحيرات الاستوائية
 (ج) هضبة الحبشة
 (د) الهضبة الجنوبية
٣. تأثرت هضبة البحيرات الاستوائية بموقعها الفلكي، وظهر هذا التأثير في.....
 (أ) تطرف المناخ
 (ب) الأمطار الغزيرة
 (ج) المناخ الجاف
 (د) البرودة الشديدة
٤. تتشابه هضبة الحبشة وهضبة البحيرات الاستوائية في التأثير.....
 (أ) التكوينات البركانية
 (ب) التكوينات الجليدية
 (ج) الأمطار الموسمية
 (د) الأمطار الدائمة
٥. إذا انحدرت هضبة البحيرات الاستوائية والحبشة إلى الشرق فسيكون مصب نهر النيل في.....
 (أ) البحر المتوسط
 (ب) المحيط الأطلنطي
 (ج) البحر الأحمر
 (د) المحيط الهندي
٦. إذا كنت تبحث عن جبال بركانية، فإلى أين تكون وجهتك في قارة إفريقيا؟.....
 (أ) الشمال
 (ب) الغرب
 (ج) الوسط
 (د) الجنوب
٧. أي من الظواهر التضاريسية الآتية يقطعها مدار الجدى في قارة إفريقيا؟.....
 (أ) الهضبة الوسطى
 (ب) الهضبة الجنوبية
 (ج) جبال دراكنزبرج
 (د) جبال كينيا
٨. إذا أردت أن تقيم مصنعا للصناعات التعدينية في قارة إفريقيا فأى الأماكن التالية ستختار؟.....
 (أ) شرق القارة
 (ب) وسط القارة
 (ج) شمال القارة
 (د) غرب القارة
٩. إذا كنت تبحث عن الجبال التي تشكلت من خلال انكسارات أرضية بقارة إفريقيا، فستجدها في.....
 (أ) الغرب
 (ب) الشرق
 (ج) الجنوب
 (د) الشمال
١٠. ما هو الأثر المتوقع للاقتصاد الأزرق على التنمية المستدامة في إفريقيا؟.....
 (أ) زيادة الواردات الغذائية
 (ب) تدمير النظام البيئي
 (ج) تقليل الواردات الغذائية
 (د) تقليل الموارد الطبيعية

السؤال الرابع : ما العلاقة بين ...؟

- (١) هضبة الحبشة ونهر النيل
 (٢) هضبة شمال إفريقيا وتنوع مظاهر السطح
 (٣) هضبة البحيرات الاستوائية والمياه العذبة
 (٤) التكوينات البركانية والنشاط الزراعي في شرق إفريقيا
 (٥) الاقتصاد الأزرق والموارد المائية في إفريقيا

نهر النيل والحضارات القديمة في إفريقيا

3

أولاً : منابع نهر النيل

- بملاحظة خريطة حوض النيل نستنتج أن: نهر النيل نهر دولي بم تفسر؟ لامتداد مجراه وروافده داخل أراضي إحدى عشرة دولة هي: مصر. إثيوبيا. تنزانيا.. الكونغو الديمقراطية. السودان - جنوب السودان. إريتريا- رواندا. بروندي.. أوغندا. كينيا.
 - تشغل مساحة حوض نهر النيل نحو ١٠٪ من مساحة قارة إفريقيا.
 - ما المقصود بحوض النهر؟ هى المساحة التي يجرى بها النهر وروافده.
- أكد فهمك**
- النهر الدولي:** النهر الذى يجرى مع روافده وفروعه في منطقة تخضع لسلطة دولتين أو أكثر.
- النهر المحلى:** النهر الذى يجرى من منبعه إلى مصبه في منطقة تخضع لسلطة دولة واحدة.

تجمع الأندوجو

- قترحت مصر على دول حوض النيل إنشاء تجمع إقليمي لدول الحوض ، وقد تم إنشاؤه عام ١٩٨٣م باسم (الأندوجو). ويهدف تجمع الأندوجو إلى:
- ١) التشاور والتنسيق ودعم التعاون بين دول الحوض.
- ٢) الحفاظ على المصالح المشتركة بينها.
- ما المقصود بالأندوجو؟ تعنى الإخاء باللغة السواحلية.
- أشار جمال حمدان إلى أن نهر النيل ثنائى المنبع ، مما أدى إلى استدامته ووصله إلى مصر، وتنقسم منابع نهر النيل إلى :

١ / منابع استوائية (دائمة)

- تقع في هضبة البحيرات الاستوائية .
 - تعد المنبع الدائم لنهر النيل بم تفسر؟ لأن أمطارها غزيرة دائمة، فتندفق مياهها طوال العام.
 - بالرغم من ذلك فإنه لا يصل منها سوى كميات قليلة إلى مصر بم تفسر؟ بسبب المستنقعات وزيادة البخر.
 - تتضمن مجموعة من البحيرات، أهمها:
- بحيرة فيكتوريا** ثاني أكبر البحيرات الطبيعية العذبة في العالم التي يصب فيها **نهر كاجيرا** من جهة الغرب الذي يعد المنبع الحقيقي لنهر النيل، ومن أهم مصادر مياه بحيرة فيكتوريا.

٢ / منابع إثيوبيا (موسمية)

- تقع في هضبة الحبشة.
- تعد منبعاً موسميًا لنهر النيل بما تفسر؟ لأن أمطارها موسمية غزيرة تسقط صيفاً وتتضمن مجموعة من الروافد، مثل:

- ❖ **نهر السوبات** الذي يلتقي ببحر الجبل ويمده بمياهه فيسترد النيل قوته.
- ❖ **النيل الأزرق ونهر عطبرة** وكلهما يمد النيل بمياهه ويساعد على الجريان اتجاه الشمال حتى المصب (البحر المتوسط).

ثانياً : دور مصر في تحقيق التنمية المستدامة لمالية

أكد فهمك

ما المقصود بالاقتصاد الأخضر؟ الاقتصاد الصديق للبيئة الذي يستهدف تحقيق نمو اقتصادي مستدام مع الحفاظ على البيئة وتحقيق العدالة الاجتماعية والحد من الفقر والبطالة

تسعى مصر منذ القدم إلى تنمية واستثمار الموارد المائية لنهر النيل بشكل مستدام، يحافظ على البيئة ويراعى حقوق الأجيال القادمة : تحقيقاً لمبادئ الاقتصاد الأخضر، ومن الجهود التي قامت بها مصر في دول حوض النيل ما قامت به في :

السودان:

- ✓ إنشاء خزان «سنار» على النيل الأزرق.
- ✓ دفع تكاليف إنشاء خزان جبل الأولياء لتوليد الطاقة
- ✓ العدالة الاجتماعية والحد من الفقر والبطالة الكهربائية.
- أوغندا** : إنشاء سد (أوين).
- كينيا** : حفر عشرات الآبار.
- تنزانيا** : إنشاء مركز للبحوث المائية.
- تطهير بحيرة فيكتوريا وكيوجا من الحشائش والنباتات.

سؤال

(أ) أمامك خريطة صماء لمناخ نهر النيل، اكتب

مدلول الأرقام التي عليها:

- 1- بحيرة.....
- 2- دولة أقامت بها مصر خزان جبل الأولياء.....
- 3- نهر.....
- 4- نهر.....
- 5- بحيرة.....
- 6- دولة حضرت بها مصر آباراً.....

(ب) اكتب كلمة (صواب) أمام العبارة الصحيحة، وكلمة (خطأ) أمام العبارة غير الصحيحة:

1. أقامت مصر سد أوين لصالح دولة أوغندا ()
 2. بعد نهر السوبات من المنابع الدائمة لنهر النيل ()
- (ج) **دلل على صحة العبارة** : لمصر دور تنموى كبير في دول حوض النيل
- (د) **قارن بين المنابع الموسمية والمنابع الاستوائية لنهر النيل**. من حيث الموقع وخصائص كل منهما

ثالثا : الاتفاقيات الدولية والإقليمية للمياه الدولية

❖ تهتم الدول المشتركة في نهر واحد بوضع اتفاقيات تنظم عمليات استخدام مياه النهر ومنها:

اتفاقيات دولية

- وضعتها الأمم المتحدة، مثل: اتفاقية قانون تنظيم استخدام المجاري المياه المائية في الأغراض غير الملاحية. وتهدف إلى:
 1. تنظيم استخدام مياه الأنهار وتنميتها وإدارتها وحمايتها.
 2. العمل على تحقيق الانتفاع الأمثل والمستدام بها للأجيال الحالية والمقبلة.

اتفاقيات إقليمية

- وضعتها مصر ودول حوض النيل لتنظيم وإدارة المياه مثل:
 - اتفاقية ١٩٢٩م:** نصت على التزام دول حوض النيل بعدم القيام بأى مشروعات على نهر النيل بغير اتفاق مسبق مع مصر.
 - اتفاقية ٢٠١٥م:** اتفقت مصر وإثيوبيا والسودان على عدة مبادئ منها التعاون والتنمية، وعدم التسبب في أي ضرر، والاستخدام المنصف والمناسب لمياه نهر النيل.

رابعا : الحضارات القديمة في إفريقيا

- وهب الله سبحانه وتعالى قارتنا الإفريقية موقعا متميزا ، كما منحها ثروات طبيعية متعددة من مياه عذبة ونباتات طبيعية وثروة حيوانية ومعادن ومصادر طاقة. وقد استطاع سكانها استثمار تلك الثروات الطبيعية في إنشاء حضارات عريقة منذ آلاف السنين خاصة على نهر النيل الذي ساعد في استقرار السكان على ضفافه، وكان هناك تواصل بين هذه الحضارات منذ القدم.
- كان لكل حضارة من حضارات إفريقيا تراث ثقافي يميزها عن غيرها، يتمثل في الفنون والحرف التراثية والعادات والتقاليد والملابس والأكلات الشعبية.. وغيرها.



خريطة توزيع الحضارات القديمة بقارة إفريقيا

١- الحضارة المصرية القديمة



- ❖ أقام المصريون القدماء حضارة عريقة (على ضفاف النيل؛ حيث استقر المصري القديم، وعرف حرفة الزراعة، واستأنس الحيوانات، وأنشأ القرى ثم المدن والأقاليم، واستطاع توحيد البلاد وتكوين الأسرات الحاكمة.
- ❖ شهدت مصر العديد من مراحل النهضة والتقدم في شتى المجالات فاهتم المصريون القدماء بـ:
 - التعليم والفنون.
 - العمارة والآداب والعلوم.

- إقامة العديد من المشروعات الاقتصادية.

- ❖ حرص المصريون القدماء على توطيد العلاقات التجارية مع الحضارات المجاورة لهم كحضارة كوش وبلاد بونت.
- ❖ كان للحضارة المصرية القديمة تأثير على بعض الحضارات الإفريقية في المجالات المختلفة.
- ❖ كما ترك المصريون القدماء تراثاً حضارياً يدل على قيام حضارة عظيمة في شمال شرق إفريقيا

٢- حضارة كوش

- أقام الكوشيون دولة عظيمة امتدت في شمال السودان حول نهر النيل، وكانت في بدايتها متمركزة في نبتة ثم انتقلت إلى مروى.
- كانت مملكة كوش مركزاً للتجارة، وأقامت علاقات تجارية مع مصر شمالاً، ومملكة أكسوم شرقاً.
- اشتهرت بتجارة العاج والبخور والحديد والذهب، إلى جانب حرفتي الزراعة والتعدين.
- برعوا في الرسم والنحت والعمارة.



تأثر الكوشيون بمظاهر الحضارة المصرية القديمة **دلل**...؟ حيث ظهر ذلك في:

١. بناء الأهرامات مثل أهرامات مروى (أعلنتها اليونسكو موقعاً للتراث العالمي في عام ٢٠١١م)
٢. بناء المعابد ونحت التماثيل.
٣. عبدوا بعض المعبودات المصرية القديمة، مثل: رع وآمون رع وأوزوريس وإيزيس.

٣- حضارة أكسوم

- ❖ ظهرت في شرق إفريقيا في إريتريا وإثيوبيا (حاليا). كان للنشاط التجارى دور بارز في نشأة هذه الحضارة **دلل**...؟ حيث:
 - أ- كانت بمثابة مركز تجارى قوى وملتقى للعديد من الطرق التجارية.
 - ب- كان أبرز صادراتها وأغلاها قيمة الذهب والعاج والعمود والتوابل.
 - ت- كما اهتمت بالزراعة وتربية الحيوانات، واشتهرت أكسوم أيضاً بصناعة الفخار وزخرفته، وكذلك صناعة الزجاج.

٤- حضارة قرطاج

- ظهرت على الساحل الشمالي لإفريقيا؛ تونس (حاليا)، وهى تختلف عن الحضارات السابقة (حضارات وادى النيل) **دلل**...؟ حيث لم ترتبط بنهر النيل وإنما قامت على التجارة.
- يرجع الفضل إلى الفينيقيين في تأسيس مدينة قرطاج على البحر المتوسط بم تفسر؟ لتأمين رحلاتهم التجارية من فينيقيا إلى إسبانيا.
- مع مرور الزمن قويت مدينة قرطاج واستقلت عن فينيقيا وكونت مملكة مستقلة قوية حكمت معظم ساحل شمال إفريقيا وبعض جزر البحر المتوسط بم تفسر؟ وذلك بسبب موقعها الاستراتيجي في منتصف طريق التجارة بين مدن شرق وغرب البحر المتوسط.

أسئلة : الكتاب المدرسى



١- طبق وتعلم

(أ) لاحظ وأجب: (تحليل الخرائط) لاحظ خريطة حوض النيل، واكتب مدلول الأرقام الموقعة عليها:

- ١- بحيرة
- ٢- دولة قامت فيها حضارة كوش هي
- ٣- النيل
- ٤- خزان

(ب) اشرح أهمية نهر النيل ودوره في قيام بعض الحضارات القديمة في إفريقيا.

٢- اقرأ وحل

(اتفاقية قانون استخدام المجارى المائية الدولية في الأفاض غير الملاحية) (نص إسرائي)

- وضعت الأمم المتحدة اتفاقية قانون استخدام المجارى المائية الدولية في الأفاض غير الملاحية، وتؤكد أهمية التعاون الدولى وحسن الجوان ومن أهم المواد التي جاءت بها المادة ٧ : الالتزام بعدم التسبب في ضرر لأى دولة من دول المجرى المائي، والمادة ٨ : الالتزام العام بالتعاون على أساس المساواة في السيادة والسلامة الإقليمية والفائدة المتبادلة، والمادة ١٢ : الإخطار المسبق بالتدابير المزمع اتخاذها والتي يمكن أن يكون لها أثر ضار على دولة من دول المجرى والمادة ٢١ : منع تلوث المجرى المائي وتخفيض نسب التلوث والعمل على مكافحته.

شارك زميلك واستخدم الكود (QR Code) من الكتاب المدرسى، وقرأ بعض ما جاء بالاتفاقية، ثم حدد:

- (أ) أحد البنود التي تود التأكيد عليها بين دول حوض النيل.
- (ب) إحدى المواد يمكن تفعيلها في الوضع الراهن لدول حوض النيل.
- (ج) أي المواد يمكن الاحتياج إليها بالمستقبل؟

٣- لاحظ وابحث

(كهف الوحوش وكهف الطاسيلي) (نص إسرائي)

كان لمصر علاقات مع إفريقيا منذ عصور ما قبل التاريخ. ويشير إلى ذلك تشابه الرسوم الموجودة في الكهوف والتي تعبر عن مظاهر حياة الإنسان، مثل كهف الوحوش في الصحراء الغربية بمصر، وكهف الطاسيلي بالجزائر.



كهوف طاسيلي بالجزائر



كهف الوحوش في الصحراء الغربية بمصر

- (أ) لاحظ الصورتين وحدد أوجه التشابه بينهما.
 - (ب) تعاون مع أحد زملائك واجمع معلومات عن كهف الوحوش وكهوف طاسيلي، ثم لخصها واعرضها على زملائك بالفصل.
- كهف الوحوش في الصحراء الغربية بمصر كهوف طاسيلي بالجزائر

٤- احسب وأجب

قد يعتقد البعض أن تسرب المياه من الصنبور يعد مشكلة بسيطة؛ غير أن حجم الضرر الناتج عنها يمكن أن يزداد بمرور الوقت بشكل يفوق التخيل.

(أ) احسب ما نفقده إذا استمرت قطرات المياه في التسرب لمدة عام طبقاً لكل حالة مما يلي :

في حالة تسرب قطرة واحدة كل ٤ ثوانٍ: نفقد قرابة ٥ لترات مياه في اليوم.	نفقد لتر ماء في العام الواحد.
في حالة تسرب قطرة واحدة كل ثانيتين: نفقد قرابة ٩ لترات مياه في اليوم.	نفقد..... لتر ماء في العام الواحد.
في حالة تسرب قطرة واحدة كل ثانية: نفقد قرابة ١٨ لتراً في اليوم.	نفقد..... لتر ماء في العام الواحد.

- (ب) بافتراض وجود صنبور في منزلك تتساقط منه قطرة مياه واحدة كل دقيقة ، احسب كم حجم المياه المهذرة إذا لم يتم إصلاحه لمدة عام.
 (ج) ما مقترحاتك لتقليل الفاقد من المياه بمنزلنا ؟
 (د) بالتعاون مع زملائك «نظم أسبوع الوعى المائي في المدرسة» للتوعية بسلوكيات الحفاظ على المياه.

٥- فكر وأجب:

- (أ) بم تفسر : يُعد نهر النيل نهراً دولياً ؟
 (ب) ما العلاقة بين الفينيقيين وحضارة قرطاج ؟
 (ج) ماذا يحدث إذا اقتصر منابع نهر النيل على هضبة البحيرات الاستوائية ؟
 (د) دلل على تأثير الكوشيين بمظاهر الحضارة المصرية القديمة.

٦- فكر وحدد:

-اكتب كلمة (صواب) أمام العبارة الصحيحة، وكلمة (خطأ) أمام العبارة غير الصحيحة، مع تصويب الخطأ

- () (أ) ظهرت حضارة أكسوم في منطقة إريتريا وإثيوبيا حالياً.
 () (ب) يمثل حوض نهر النيل المساحة التي يجرى بها النهر وروافده.
 () (ج) تقع المنابع الاستوائية لنهر النيل في هضبة الحبشة.
 () (د) كان لنهر النيل دور مهم في قيام حضارة قرطاج.

٧- فكر وقارن : قارن بين الحضارات القديمة التي ظهرت في إفريقيا من حيث نشأتها وأهم ما يميزها.

1 نهر النيل والحضارات القديمة في إفريقيا

السؤال الأول: أكمل العبارات الآتية بما يناسبها من كلمات:

- ١) تنقسم منابع نهر النيل إلى منابع و منابع
- ٢) يعد نهر النيل نهراً
- ٣) يطلق على المساحة التي يجرى بها النهر وروافده
- ٤) يعد نهر المنبع الحقيقي لنهر النيل.
- ٥) تقع المنابع الموسمية لنهر النيل في هضبة
- ٦) قامت حضارة كوش في
- ٧) كان من أشهر صادرات حضارة أكسوم معدن
- ٨) قامت مصر بإنشاء خزان على النيل الأزرق.
- ٩) من الحضارات التي قامت في إفريقيا و

السؤال الثاني: اكتب المفهوم الجغرافي المناسب للعبارات الآتية:

- ١/ أحد منابع نهر النيل وتتسم بقلّة مياهها مقارنةً بالمنابع الإثيوبية. (.....)
- ٢/ حضارة إفريقية أثرت في تاريخ القارة ولكنها لم ترتبط بنهر النيل. (.....)
- ٣/ اتفاقية نصت على التزام حوض النيل بعدم القيام بأي مشروعات على نهر النيل بغير اتفاق مسبق مع مصر (.....)
- ٤/ تجمع إقليمي لدول حوض النيل، أنشئ عام ١٩٨٣م ويهدف إلى التشاور والتنسيق والتعاون بين دول الحوض (.....)
- ٥/ المساحة التي يجرى فيها النهر وروافده. (.....)

السؤال الثالث: ما المقصود بالمصطلح التالي...؟ الاقتصاد الأخضر

السؤال الرابع: اختر الإجابة الصحيحة مما بين الأقواس:

١/ تقع منابع النيل الاستوائية في إفريقيا.

(شمال - جنوب - وسط - غرب)

٢/ قامت حضارة في تونس حالياً.

(كوش - قرطاج - أكسوم - النوبة)

٣/ الهدف الرئيسي من اتفاقية قانون تنظيم استخدام المجاري المائية في الأغراض غير الملاحية»

(تنظيم الملاحة البحرية - حماية حقوق الصيد - الانتفاع الأمثل للمياه - تطوير السياحة النهرية)

٤/ من المشروعات التي قامت مصر بإنشائها في أوغندا لتحقيق التنمية المستدامة لمائية نهر النيل مشروع إنشاء

(خزان سنار - خزان أسوان - سد جبل الأولياء - سد أوين)

٥/ يعتبر نهر منبعاً موسمياً لنهر النيل.

(كاجيرا - عطبرة - الزمبيزي - النيجر)

السؤال الخامس: اكتب كلمة (صواب) أمام العبارة الصحيحة، وكلمة (خطأ) أمام العبارة

غير الصحيحة، مع تصويب الخطأ.

- أ- تتسم المنابع الدائمة لنهر النيل بالفيضانات وزيادة البخر بسبب موقعها الفلكي ()
- ب- ترجع فكرة إنشاء تجمع الأندوجو لدول حوض النيل إلى إحدى الدول الواقعة على البحر المتوسط جنوب قارة إفريقيا ()
- ت- تنحدر مياه نهر النيل من شمال إفريقيا إلى جنوبها حتى المصب في البحر المتوسط ()
- ث- قامت مصر بإنشاء مركز للبحوث المائية في تنزانيا تحقيقاً لمفهوم الاقتصاد الأخضر ()

- ج- أخذ الكوشيون من الحضارة المصرية القديمة بعض المعبودات مثل رع وأمون رع ()
 ح- تعد هضبة الحبشة المنبع الموسمى لنهر النيل ()
 خ- أقام الفينيقيون مدينة قرطاج في إفريقيا من أجل تأمين تجارتهم إلى أوروبا ()
 د- هناك علاقة بين استقرار حياة المصرى القديم ونهر النيل ()
 ذ- سيطرت حضارة أكسوم بحكم موقعها الجغرافى على منابع النيل الموسمية ()
 ر- عقدت اتفاقية ٢٠١٥م بين مصر واثيوبيا والسودان لإدارة وتنمية مياه نهر النيل والاستخدام المنصف لها ()

1 نهر النيل والحضارات القديمة في إفريقيا

السؤال الأول: استخراج المختلف مع ذكر السبب:

١/ (تنزانيا - كينيا - السودان - مالي)

٢/ (نهر السوبات - النيل الأزرق - نهر عطبرة - نهر كاجيرا)

السؤال الثاني : أمامك خريطة لدول حوض نهر

النيل، اكتب مدلول الأرقام الموضحة عليها:



- ١) بحيرة
 ٢) البحر
 ٣) نهر
 ٤) نهر
 ٥) خزان
 ٦) بحيرة
 ٧) نهر

السؤال الثالث: أمامك خريطة صماء لحوض نهر النيل،

تأملها جيداً ثم أجب:

يشير رقم إلى المنبع الذي يبدأ منه نهر النيل.

يشير رقم إلى آخر نقطة ينتهي عندها نهر النيل.

يشير رقم إلى الرافد الذى يلتقى ببحر الجبل ويمد النيل بقوته.

يشير رقم إلى آخر روافد نهر النيل.



السؤال الرابع : بم تفسر...؟

- أ- يعد نهر النيل نهرًا دوليًا.
- ب- قلة مياه المنابع الاستوائية لنهر النيل طوال العام.
- ت- عقد اتفاقية قانون تنظيم استخدام المجاري المائية في الأغراض غير الملاحية.
- ث- تأسيس الفينيقيين مدينة قرطاج على البحر المتوسط
- ج- عقد كل من مصر وإثيوبيا والسودان اتفاقية ٢٠١٥

السؤال الخامس: دلل جغرافيا على صحة العبارات الآتية:

- ١) لمصر دور في تحقيق التنمية المستدامة لمائية حوض النيل
- ٢) تأثرت حضارة كوش بالحضارة المصرية القديمة من الناحية الفنية والمعمارية
- ٣) حضارة أكسوم حضارة تجارية من الدرجة الأولى
- ٤) تأثرت حضارة كوش بالحضارة المصرية القديمة من الناحية الدينية
- ٥) اختلفت حضارة قرطاج عن حضارات وادى النيل
- ٦) أسهم الموقع الجغرافى لحضارة كوش في تميزها بالعالمية من خلال نشاطها التجارى

السؤال السادس: ما النتائج المترتبة على...؟

- ١) ارتفاع معدلات البخر في البحيرات الاستوائية
- ٢) إنشاء مصر خزان جبل الأولياء في السودان
- ٣) الموقع الاستراتيجى لقرطاج بين مدن شرق وغرب البحر المتوسط .
- ٤) ثنائية المنبع لنهر النيل

السؤال السابع: قارن بين:

— حضارة أكسوم وحضارة قرطاج من حيث الموقع والملاح العامة.

مهارات التفكير

السؤال الأول: اختر الإجابة الصحيحة من بين (أ - ب - ج - د)

- ١/ يجرى نهر السوبات في دولتي

 - (أ) إثيوبيا وجنوب السودان
 - (ج) أوغندا وإثيوبيا

- ٢/ تسهم إثيوبيا في مياه نهر النيل من خلال

 - (أ) نهر النيجر
 - (ج) النيل الأزرق

- أحد أهداف الاقتصاد الأخضر الذى تسعى مصر لتحقيقه.....

 - (أ) الحد من الجرائم
 - (ج) تحقيق العدالة الاجتماعية

- ٤ العامل الذى يؤثر على استدامة مياه نهر النيل بالنظر إلى الاعتماد على المنابع الاستوائية.....

 - (أ) التطرف المناخي وزيادة البخر
 - (ج) تغير المناخ وانخفاض الأمطار

- ٥- بالنظر إلى دور مصر في تأسيس تجمع الأندوجو، ما هو الأثر المحتمل لذلك على سياستها المائية؟.....

 - (أ) تعزيز استقلالها في الموارد المائية
 - (ج) تقليل الاعتماد على المياه من دول أخرى

٦- ما هو العنصر الذى لم يكن جزءاً من تأثير الحضارة المصرية على حضارة كوش؟.....
 (أ) التجارة (ب) العمارة (ج) الدين (د) الكتابة

٧- تتميز حضارة قرطاج عن الحضارة المصرية القديمة ب.....
 (أ) ارتباطها بنهر النيل (ب) نشأتها كمدينة تجارية
 (ب) تركيزها على الزراعة (د) تفوقها الثقافي

السؤال الثاني : ما العلاقة بين ...؟

- ١ تجمع الأندوجو ودول حوض النيل
- ٢ جهود مصر في كينيا والسودان، وتحقيق التنمية المستدامة لحوض النيل
- ٣ حضارة كوش والحضارة المصرية القديمة

السؤال الثالث: ما رأيك في...؟

- ١ التعاون بين دول حوض النيل في إطار تجمع (الأندوجو
- ٢ دور مصر في دعم التنمية المستدامة في دول حوض النيل من خلال مشروعات المياه

السؤال الرابع: ماذا يحدث إذا...؟

- ١ لم تبادر مصر ببناء سدود في دول حوض النيل
- ٢ حدثت نزاعات بين أطراف أعضاء تجمع الأندوجو

السؤال الخامس: (أ) أمامك خريطة حوض

النيل، اكتب مدلول الأرقام الموقعة عليها:

- بحر
 بحيرة
 النيل
 نهر



(ب) **بم تفسر؟** يعد نهر النيل نهراً دولياً اهتمام مصر بالاقتصاد الأخضر

(ج) **وضح:** الجهود التي قامت بها مصر في دول حوض النيل لتحقيق التنمية المستدامة.

السؤال السادس: (أ) اختر الإجابة الصحيحة مما بين الأقواس:

١. قامت في بلاد تونس حالياً حضارة قديمة عرفت باسم..... (أكسوم- كوش- بونت- قرطاج).
٢. أي من التالي يعتبر منبعاً موسمياً لنهر النيل؟ نهر..... (كاجيرا- عطبرة- الزامبيزي- النيجر).

(ب) **دلل على صحة العبارة التالية:**

- ١ كان للحضارة المصرية القديمة أثرها الكبير على حضارة كوش
- ٢ حضارة قرطاج هي نتاج الفينيقيين

(ج) **وضح أهم** مبادئ اتفاقية ٢٠١٥م لإدارة وتنمية مياه نهر النيل.

التدريب (١) : الكتاب المدرسى على الوحدة الـ ١

السؤال الأول: اكتب ما يشير إليه مدلول الأرقام التالية على الخريطة:



- ١- جبال
- ٢- هضبة
- ٣- بحيرة
- ٤- جزيرة
- ٥- النيل
- ٦- مدار
- ٧- نهر
- ٨- حضارة
- ٩- جبال
- ١٠- جزر

السؤال الثاني: اكتب كلمة (صواب) أمام العبارة الصحيحة، وكلمة (خطأ) أمام العبارة

غير الصحيحة، مع التصويب:

- ١- قامت مصر بإنشاء خزان جبل الأولياء في أوغندا لتوليد الكهرباء. ()
- ٢- تقترب قارة إفريقيا من قارة أوروبا عند مضيق موزمبيق. ()
- ٣- يسترد النيل قوته بعد التقاء نهر السوبات ببحر الجبل. ()
- ٤- ظهرت حضارة أكسوم في غرب إفريقيا. ()
- ٥- تعد هضبة الحبشة أكثر هضاب قارة إفريقيا ارتفاعاً. ()
- ٦- يكثر وجود المنخفضات فوق هضبة شمال إفريقيا. ()

السؤال الثالث : اختر الإجابة الصحيحة مما بين الأقواس :

١.نشأت حضارة قرطاج في(حاليا).

(السودان - تونس - مصر - إثيوبيا)

٢.يمثل أعلى قمة جبلية في سلسلة جبال أطلس جبل

(العوينات - شايب البنات - توبقال - كينيا)

٣.يعد من أهم مصادر مياه بحيرة فيكتوريا نهر.....

(كاجيرا - السوبات - عطبرة - بحر الجبل)

٤.يطلق على دول حوض النيل اسم الأندوجو ويعنى

(المحبة - الصدق - الإخاء - العهد)

السؤال الرابع: بم تفسر...؟

1. اهتمام أوروبا بالكشوف الجغرافية لقارة إفريقيا
2. أهمية النيل الأزرق لمصر
3. الأهمية الاقتصادية لجبل كلمنجارو

السؤال الخامس: دلل على كل عبارة مما يلى:

1. الأهمية الحضارية لموقع قارة إفريقيا
2. دور مصر في تنمية مائية حوض النيل
3. الأهمية الاقتصادية للسهول الفيضية بقارة إفريقيا

السؤال السادس: ما النتائج المترتبة على ما يلى....؟

1. عدم وجود جبال على سواحل البحر المتوسط في مصر
2. سقوط أمطار غزيرة دائمة على هضبة البحيرات الاستوائية
3. الموقع الجغرافي لقارة إفريقيا

السؤال السابع: ما العلاقة بين كل من ...؟

- 1- مصر وتجمع الأندوجو
- 2- هضبة الحبشة وقيام الزراعة في مصر

التدريب (٢) : الكتاب المدرسى على الوحدة ال ١

السؤال الأول: أكمل العبارات الآتية بكلمات مناسبة:

1. تقع قارة إفريقيا جنوب البحر.....
2. تقترب قارة إفريقيا من قارة آسيا عند مضيق.....
3. تقع واحدة سيوة في دولة.....
4. أكبر دول قارة إفريقيا مساحتها هي دولة.....
5. تنحدر هضبة البحيرات الاستوائية تجاه.....
6. تسقط الأمطار طوال العام على هضبة.....
7. تقع أعلى قمة جبلية في سلسلة جبال البحر الأحمر.....
8. انتهت جهود الحملات الاستكشافية التي أرسلها محمد على لإفريقيا بالوصول إلى.....

السؤال الثاني: صوب ما تحته خط:

1. يعد جبل توبقال أعلى قمة جبلية في جبال البحر الأحمر.
2. يقع جبل أطلس وسط قارة إفريقيا.
3. امتد حكم الخديوي إسماعيل حتى جنوب مدار الجدى.
4. تقع واحدة الجوف بدولة الجزائر.
5. يجرى نهر النيجر في شرق إفريقيا.
6. تعد جزر القمر أكبر جزر قارة إفريقيا.
7. اكتشف البريطانيون طريق رأس الرجاء الصالح بجنوب إفريقيا.

السؤال الثالث: اكتب ما تشير إليه كل عبارة من العبارات التالية:

- أ. مجموعة انكسارات طولية تمتد شرق قارة إفريقيا (.....)
- ب. حضارة إفريقية قديمة امتدت في شمال السودان (.....)
- تد. الجبال التي تكونت نتيجة الثورات البركانية (.....)
- ث. إحدى جزر إفريقيا تقع شمال غرب جزيرة مدغشقر. (.....)
- ج. مدينة بدأت فيها حضارة كوش قبل الانتقال إلى مروى. (.....)
- ح. سهول كونتها الأنهار عن طريق ترسيب المواد العالقة بمياهه (.....)
- خ. استثمار الموارد المائية بشكل يحقق التنمية المستدامة والاكتفاء الذاتي ويقضى على الفقر (.....)
- د. إحدى دول حوض النيل وساهمت مصر في حفر عشرات الآبار بأراضيها. (.....)

السؤال الرابع: اختر الإجابة الصحيحة ما بين الأقواس:

١. أحد الممرات المائية الإفريقية وتشرف عليه دولة واحدة
(مضيق باب المندب - مضيق هرمز - مضيق جبل طارق - قناة السويس)
٢. تولت دولة..... رئاسة الاتحاد الإفريقي عام ٢٠١٩م. (كينيا - الجزائر - تنزانيا - مصر)
٣. أي من الجبال الآتية يمتد في مصر وليبيا والسودان؟
(توبقال - العوينات - علبت - كينيا)
٤. أكبر دول إفريقيا مساحتها هي
(الجزائر - تونس - موريتانيا - جيبوتي)
٥. تمتد في أقصى جنوب شرق قارة إفريقيا جبال
(أطلس - كينيا - كلمنجارو - دراكنز)
٦. أحد المسطحات المائية الذي يعد جزءاً من الأخدود الإفريقي العظيم.....
(خليج العقبة - البحر المتوسط - خليج عمان - المحيط الأطلسي)
٧. تقطع دائرة الاستواء في إفريقيا هضبة
(البحيرات الاستوائية - الحبشة - شمال إفريقيا - الهضبة الجنوبية)
٨. يقع نحو..... من مساحة إفريقيا في النصف الشمالي للكرة الأرضية.
(الثلثين - الربع - النصف - الثلث)
٩. أرسل الملك.....بعثة للدوران حول إفريقيا.
(تحتمس الثالث - نخاو الثاني - أسامتك الأول - سقن رع)
١٠. تنحصر بين سلسلتي جبال أطلس هضبة
(الصحراء الكبرى - الحبشة - البحيرات الاستوائية - الشطوط)
١١. من روافد المنابع الموسمية لنهر النيل.
(نهر كاجيرا - نهر السوبات - بحيرة فيكتوريا - بحيرة ألبرت)
١٢. إحدى الحضارات الإفريقية القديمة التي قامت على سواحل البحر المتوسط.....
(أكسوم - قرطاج - كوش - بابل)

١٣. امتدت حضارة أكسوم الإفريقية في دولتي

(مصر والسودان - تونس والمغرب - إريتريا وإثيوبيا - إثيوبيا والسودان)

١٤. تقترب قارة إفريقيا من قارة أوروبا عند مضيق

(هرمز - موزمبيق - باب المندب - جبل طارق)

السؤال الخامس: اكتب كلمة (صواب) أمام العبارة الصحيحة، وكلمة (خطأ) أمام العبارة غير الصحيحة، مع التصويب.

- () ١ قام الرحالة «حر - خوف» بثلاث رحلات نحو الجنوب واكتشف أجزاء من قارة إفريقيا.
- () ٢ تتسم سهول البحر الأحمر بالضيق بسبب اقتراب الجبال.
- () ٣ جميع الدول العربية الإفريقية تمتلك سواحل على مسطحات مائية.
- () ٤ تعد جبال الكاب من الجبال الالتوائية بجنوب إفريقيا.
- () ٥ تعد هضبة البحيرات الاستوائية المنبع الموسمي لنهر النيل.
- () ٦ تنحدر هضبة شمال إفريقيا تدريجياً جهة الجنوب.
- () ٧ تعد حضارة أكسوم من الحضارات الإفريقية القديمة التي قامت في تونس.
- () ٨ يفصل جزيرة مدغشقر عن الساحل الشرقي لقارة إفريقيا مضيق موزمبيق.
- () ٩ يعد جبل كلمنجارو أعلى قمة جبلية في سلسلة جبال أطلس.
- () ١٠ أعلنت هيئة اليونسكو أهرامات مروى بإريتريا أحد مواقع التراث العالمي.
- () ١١ نصت اتفاقية حوض النيل عام ٢٠١٥م على الاستخدام المنصف والمناسب لمياه النيل.
- () ١٢ ساهمت الطفوح البركانية في ارتفاع خصوبة التربة بهضبة الصحراء الكبرى.

التدريب (٣) : الكتاب المدرسي على الوحدة الـ ١

السؤال الأول بم تفسر ...؟

- ١ الأهمية الاستراتيجية لموقع قارة إفريقيا
- ٢ الأهمية الحضارية لقارة إفريقيا
- ٣ تنوع النباتات والحيوانات والمحاصيل الزراعية في قارة إفريقيا
- ٤ اهتمام أوروبا بالكشوف الجغرافية بقارة إفريقيا
- ٥ أهمية النيل الأزرق لمصر
- ٦ أسس البرتغاليون الموانئ والمراكز التجارية على طريق رأس الرجاء الصالح
- ٧ زيادة دور مصر الريادي في قارة إفريقيا عام ٢٠١٩م
- ٨ تتميز هضبة الحبشة بخصوبة تربتها
- ٩ تعتبر هضبة البحيرات الاستوائية المنبع الدائم لنهر النيل
- ١٠ تكون الجليد فوق قمة جبل كلمنجارو
- ١١ الأهمية الاقتصادية لجبل كلمنجارو

- ١٢) تتميز سهول وادى النيل بخصوبة تربتها
- ١٣) تضيق سهول البحر المتوسط في بلاد المغرب العربي
- ١٤) قلت مياه المنابع الاستوائية لنهر النيل طوال العام
- ١٥) أهمية اتفاقية قانون تنظيم استخدام المجارى المائية في الأغراض غير الملاحية
- ١٦) عقد كل من مصر وإثيوبيا والسودان اتفاقية ٢٠١٥م

السؤال الثاني : ما النتائج المترتبة على...؟

- ذ- الموقع الفلكي والجغرافي لقارة إفريقيا
- ر- انتخاب مصر لرئاسة الاتحاد الإفريقى عام ٢٠١٩م
- ز- تنوع المناخ في قارة إفريقيا
- س- إرسال محمد على باشا رحلات لاكتشاف منابع النيل عام ١٨٣٩م
- ش- حدوث طفوح بركانية بهضبة الحبشة
- ص- ارتفاع الحرارة وسقوط الأمطار الدائمة في حوض الكونغو
- ض- امتداد جبال الأطلس في سلسلتين متوازيتين
- ط- حدوث الثورانات البركانية في وسط قارة إفريقيا
- ظ- مساهمة المناطق الجبلية في قارة إفريقيا في دعم الأنشطة الاقتصادية
- ع- الموقع الاستراتيجى لقرطاج بين مدن شرق وغرب البحر المتوسط

السؤال الثالث: دلل على صحة العبارات الآتية:

١. الموقع قارة إفريقيا أهمية استراتيجية واقتصادية كبرى
٢. كان للعرب دور كبير في حركة الكشوف الجغرافية بقارة إفريقيا
٣. تتنوع مظاهر السطح على هضبة شمال إفريقيا
٤. لجبال قارة إفريقيا أهمية اقتصادية كبرى
٥. تختلف أجزاء سهول المحيط الهندي في الاتساع

السؤال الرابع: قارن بين:

١. سهول البحر المتوسط وسهول البحر الأحمر
٢. المنابع الموسمية والمنابع الاستوائية لنهر النيل
٣. اتفاقية ١٩٢٩م واتفاقية ٢٠١٥م من حيث الأطراف والنصوص
٤. إسهامات مصر في الكشوف الجغرافية في قارة إفريقيا في العصر القديم والعصر الحديث
٥. جبال أطلس وجبال البحر الأحمر وجبال كلمنجارو، من حيث الموقع ونوع الجبل
٦. حضارة قرطاجنة والحضارة المصرية القديمة، من حيث الموقع والأنشطة الاقتصادية السائدة

السؤال الخامس: ما العلاقة بين...؟

١. الظروف المناخية في شرق ووسط إفريقيا ومائية نهر النيل في مصر
٢. هضبة الحبشة والتربة في مصر
٣. نهر النيل وقيام الحضارات في قارة إفريقيا

السؤال السادس: أجب عما يأتي:

(أ) أمامك خريطة صماء لقارة إفريقيا ، اكتب مدلول الأرقام التي عليها:



١. البحر.....
٢. البحر.....
٣. المحيط.....
٤. المحيط.....
٥. جبال.....
٦. جبال.....
٧. هضبة.....
٨. جبال.....
٩. جزيرة.....
١٠. سهول.....
١١. سهول.....
١٢. نهر.....
١٣. نهر.....



(ب) أمامك خريطة لحوض نهر النيل ، اكتب مدلول الأرقام التي عليها:

١. نهر.....
٢. نهر.....
٣. بحيرة.....
٤. بحيرة.....
٥. بحيرة.....
٦. نهر.....
٧. دولة أقامت بها مصر العديد من الآبار.....
٨. دولة أقامت لصالحها مصر سد أوين.....

السؤال السابع: إلى أي الأقسام التضاريسية تنتمي الظواهرات الجغرافية الآتية...؟

- | | | | |
|---------------|-------------|----------------|-----------|
| ١. حوض النيجر | ٢. فيكتوريا | ٣. كلمنجارو | ٤. مدغشقر |
| ٥. توبقال | ٦. الشطوط | ٧. شايب البنات | ٨. كاجيرا |