

مادة

الدراسات الاجتماعية

الصف السادس الابتدائي

6

اختيارك
الأول في
مصر



شركة التأسيس السليم



مذكرتي
Mozkrty.com

بنك الأسئلة

إعداد
نخبة من كبار الأساتذة
المتخصصين



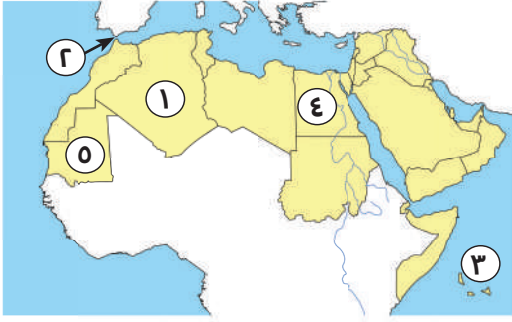
ذاكر معنا



النموذج الأول

السؤال الأول:

(أ) أمامك خريطة صماء، اكتب ما تدل عليه الأرقام:



(١) دولة يوجد بها آثار تيمجاد

(٢) يشير السهم إلى مضيق

(٣) يشير رقم (٣) إلى المحيط

(٤) أولى الدول إنتاجًا للحبوب الغذائية

(٥) أولى الدول إنتاجًا للحديد

(ب) ما النتائج المترتبة على: تعرض الصومال لأكبر موجة جفاف في العالم؟



السؤال الثاني:

(أ) ضع علامة (✓) أمام العبارة الصحيحة وعلامة (X) أمام العبارة غير الصحيحة:

- () (١) حرص النبي (ﷺ) بعد الهجرة على المؤاخاة بين المهاجرين واليهود.
- () (٢) يتسم المناخ مدينة الإسكندرية بسمات إقليم البحر المتوسط.
- () (٣) تعد زيارة عين ماعين في الأردن سياحة دينية.
- () (٤) تسهم التجارة في تعزيز العلاقات بين الدول.

(ب) أجب عما يلي:

(١) دلل: أظهر أبو بكر الصديق (رضي الله عنه) قدرة فائقة في إدارة شئون الدولة.



(٢) ما العلاقة بين: الزراعة والبطالة في الوطن العربي؟



السؤال الثالث:

(أ) اختر الإجابة الصحيحة مما بين القوسين:

- (١) تم جمع القرآن الكريم على يد الصحابي
(خالد بن الوليد - زيد بن ثابت - أسامة بن زيد - عثمان بن عفان)
- (٢) أكبر هضاب الوطن العربي مساحة هضبة
(بادية الشام - حضرموت - إفريقيا الشمالية - الجلف الكبير)
- (٣) يتعرض الوطن العربي لسقوط أمطار
(شتوية - استوائية - موسمية - إعصارية)

(ب) أجب عما يأتي:

(١) بم تفسر: تتركز تربية الجاموس في مصر؟

.....

(٢) ما المقصود: بالصناعة الخضراء؟

.....

السؤال الرابع:

(أ) صوب الكلمات التي تحتها خط:

- (١) خالف الرماة أوامر الرسول (ﷺ) في غزوة بدر. (.....)
- (٢) نقل علي بن أبي طالب (رضي الله عنه) مقر الخلافة من المدينة إلى الطائف. (.....)

(ب) أجب عن الأسئلة الآتية:

(١) حدد اثنين من: أهم المواقع السياحية الدينية في الوطن العربي.

.....

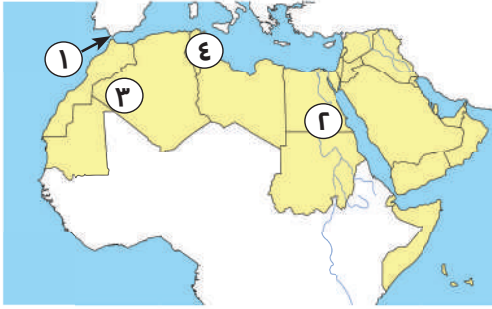
.....

(٢) اذكر نتيجة ترتبت على: التشابه الكبير بين السلع والخدمات التي تنتجها الدول العربية.

.....

النموذج الثاني

السؤال الأول:



(أ) أمامك خريطة صماء، اكتب ما تدل عليه الأرقام:

(١) يشير رقم (١) إلى المضيق

(٢) يشير رقم (٢) إلى جبال

(٣) يشير رقم (٣) إلى واحة

(٤) يشير رقم (٤) إلى دولة يوجد بها سياحة ثقافية

(وضح ذلك)

(ب) توجد عدة خصائص تشترك فيها الدول العربية.

⊞

السؤال الثاني:

(أ) اختر الإجابة الصحيحة مما بين القوسين:

(١) يقلل إنشاء المدن الذكية من انبعاث

(مصادر الطاقة - المعادن - الغازات الدفيئة - المحاصيل الزراعية)

(٢) تزوج الرسول (ﷺ) من ابنة أبي بكر الصديق (رضي الله عنه) وهي السيدة

(خديجة - زينب - عائشة - رقية)

(٣) تتميز واحة سيوة في مصر بزراعة أنواع جيدة من

(الأشجار - النخيل - الأزهار - الأوراق)

(ب) أجب عما يلي:

(١) ما النتائج المترتبة على: نشر الرسول (ﷺ) الدعوة بين الوفود التي وفدت إلى مكة في موسم الحج؟

⊞

⊞

(٢) بم تفسر: إصدار الرسول (ﷺ) لوثيقة «صحيفة المدينة»؟

⊞

⊞

السؤال الثالث:

(أ) ضع علامة (✓) أمام العبارة الصحيحة وعلامة (X) أمام العبارة غير الصحيحة:

- () (١) قدم الرسول (ﷺ) مثلاً عظيماً في التسامح يوم فتح مكة.
- () (٢) أدنى نقطة في سطح الوطن العربي في بحر قزوين.
- () (٣) تتركز زراعة البن بالوطن العربي في السعودية.

(ب) أجب عما يلي:

(١) حدد اثنين: من أهم أعمال «علي بن أبي طالب (رضي الله عنه)».

⊞

(٢) ما العلاقة بين: التعرية الهوائية و بحر الرمال العظيم؟

⊞

السؤال الرابع:

(أ) أكمل العبارات التالية مستخدماً الكلمات التالية:

(الصيف - بيت - المسجد - الشتاء - ثقافية - الإنترنت - رياضية - الذرة - الدعاية - قصب السكر)

(١) أول عمل قام به الرسول (ﷺ) في المدينة بناء

(٢) يتميز الإقليم المداري بسقوط الأمطار في فصل

(٣) التجارة الإلكترونية هي تبادل السلع والخدمات باستخدام

(٤) أحد محاصيل الحبوب الغذائية

(ب) بم تفسر: تكون الثلوج فوق قمم جبال لبنان؟

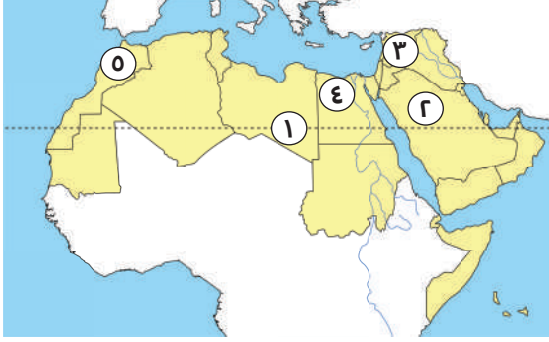
⊞



النموذج الثالث

السؤال الأول:

(أ) أمامك خريطة صماء، اكتب ما تدل عليه الأرقام:



(١) يشير رقم (١) إلى المدار

(٢) يشير رقم (٢) إلى دولة

(٣) يشير رقم (٣) لإقليم مناخي هو

(٤) يشير رقم (٤) إلى الدولة عربية هي

(٥) يشير رقم (٥) إلى الدولة هي الأولى في تربية الدواجن هي

(ب) ما النتائج المترتبة على: الوجود الفلكي للوطن العربي؟



السؤال الثاني:

(أ) اختر الإجابة الصحيحة مما بين القوسين:

(١) أعلى نقطة في الوطن العربي توجد في دولة

(تونس - ليبيا - الجزائر - المغرب)

(٢) يتسم فصل الصيف في الوطن العربي بـ

(سقوط الأمطار - الرياح الباردة - الجفاف - السيول)

(٣) ينتمي الجزء الجنوبي الغربي من دولة اليمن إلى الإقليم مناخي

(الصحراوي الحار - المداري - الاستوائي - البحر المتوسط)

(ب) بم تفسر:

(١) بدأ الرسول (ﷺ) بالدعوة إلى الإسلام سرًا؟



(٢) اعتبر النبي (ﷺ) صلح الحديبية فتحًا مبيّنًا؟



السؤال الثالث:

(أ) إلى من تنسب الأعمال التاريخية الآتية؟

- (١) محاربة المرتدين وجمع القرآن الكريم. (.....)
- (٢) إنشاء بعض الدواوين مثل ديوان بيت المال. (.....)
- (٣) أشار على الرسول (ﷺ) بحفر خندق حول المدينة. (.....)

(ب) اجب عما يلي:

(١) ما النتائج المترتبة على: إنشاء أول أسطول بحري في الإسلام؟

-
- (٢) حدد في أي البلاد العربية توجد الظواهر التضاريسية الآتية: (عين صالح - وادي الدواسر).
-

السؤال الرابع:

(أ) أكمل العبارات التالية مستخدماً الكلمات التالية:

(العلاجية - أحد - الخندق - ليبيا - الصومال - لبنان)

- (١) تحول نصر المسلمين إلى هزيمة في غزوة
- (٢) يمتد بحر الرمال العظيم بين مصر و
- (٣) أكبر الدول العربية في تربية الإبل
- (٤) تقع محمية أرز الشوف في دولة
- (٥) زيارة عيون موسى بمصر من أشكال السياحة

(ب) اجب عما يلي:

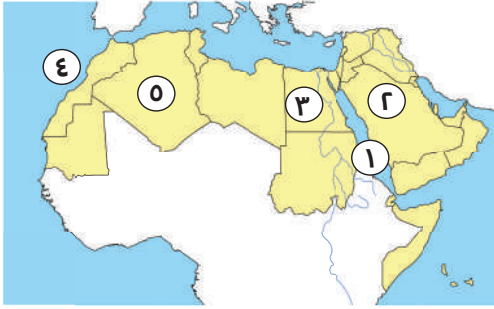
(١) دلل جغرافياً: تتعدد العوامل المؤثرة في مناخ الوطن العربي.

-
- (٢) بم تفسر: أهمية التجارة في الدولة الإسلامية؟
-

النموذج الرابع

السؤال الأول:

(أ) أمامك خريطة صماء، اكتب ما تدل عليه الأرقام:



(١) البحر

(٢) أولى الدول العربية في إنتاج البترول

(٣) أولى الدول العربية إنتاجًا للحبوب الغذائية

(٤) المحيط

(٥) أكبر الدول العربية من حيث المساحة

(ب) بم تفسر: زيادة معدل استهلاك المياه العذبة في الوطن العربي.

⊖

⊖

السؤال الثاني:

(أ) ضع علامة (✓) أمام العبارة الصحيحة وعلامة (X) أمام العبارة غير الصحيحة:

- () (١) ولد النبي (ﷺ) في عام الفيل.
- () (٢) يتمتع وطننا العربي بكافة مقومات السياحة.
- () (٣) تؤثر المسطحات المائية على مناخ الوطن العربي.
- () (٤) تكفي اللحوم الحمراء حاجة سكان الوطن العربي.

(ب) أجب عما يلي:

(١) أثبت صحة العبارة: اتسم عمر بن الخطاب (رضي الله عنه) بالرحمة رغم شدته.

⊖

(٢) دلل: تواجه الزراعة في الوطن العربي عدة مشكلات.

⊖

السؤال الثالث:

(أ) اكتب ما تشير إليه العبارات الآتية:

- (١) نقص كمية الأمطار في بعض السنوات. (.....)
- (٢) صناعة تتمثل في استخراج المعادن ومصادر الطاقة. (.....)
- (٣) إقليم مُناخي تنمو فيه حشائش الإستبس وتربى عليه الماعز. (.....)

(ب) اجب عما يلي:

(١) ما النتائج المترتبة على: طول سواحل دولة المغرب؟

.....

(٢) وضح: أهمية معدن الحديد.

.....

السؤال الرابع:

(أ) صف المقومات الطبيعية والمقومات البشرية لقيام الزراعة (مستخدمًا الجدول الآتي):

(الأيدي العاملة - موارد المياه العذبة - رأس المال - التربة الخصبة).

المقومات البشرية	المقومات الطبيعية
.....
.....

(ب) كيف تقوم الدول العربية بتحقيق السياحة المستدامة؟

.....

.....

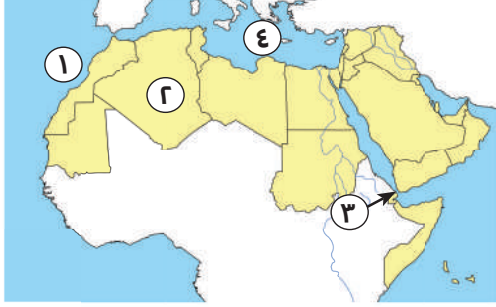
.....



النموذج الخامس

السؤال الأول:

(أ) أمامك خريطة صماء، اكتب ما تدل عليه الأرقام:



- (١) يشير رقم (١) على الخريطة إلى المحيط
- (٢) يشير رقم (٢) على الخريطة إلى دول
- (٣) يشير رقم (٣) على الخريطة إلى مضيق
- (٤) يشير رقم (٤) على الخريطة إلى البحر

(ب) اذكر اثنين: من أهم مواقع السياحة الثقافية.

C

السؤال الثاني:

(أ) ضع علامة (✓) أمام العبارة الصحيحة وعلامة (X) أمام العبارة غير الصحيحة:

- () (١) يقع بحر العرب والصحراء الكبرى جنوب الوطن العربي.
- () (٢) نزل جبريل (عليه السلام) برسالة الإسلام أثناء تعبد الرسول (ﷺ) في غار حراء.
- () (٣) يسود المناخ المعتدل المناطق الجنوبية في الوطن العربي.
- () (٤) أكبر الدول العربية إنتاجًا للبتروول هي السعودية.

(ب) قارن بين: (الإقليم الصحراوي والبحر المتوسط) من حيث الخصائص المناخية.

وجه المقارنة	الإقليم الصحراوي	إقليم البحر المتوسط
.....
.....
.....
.....
.....

السؤال الثالث:

(أ) اختر الإجابة الصحيحة مما بين القوسين:

- (١) اتجه جيش أسامة بن زيد (رضي الله عنهما) إلى لقتال الروم في بلاد
(الشام - فارس - مصر - المغرب)
- (٢) مُناخ مدينة الإسكندرية معتدل أكثر من مناخ مدينة الرياض بسبب تأثير
(دائرة الاستواء - اتجاه المرتفعات - خط جرينتش - المسطحات المائية)
- (٣) يوجد مقر المنظمة العربية للتنمية الزراعية بدولة
(مصر - الجزائر - السودان - السعودية)

(ب) أجب عما يلي:

- (١) حدد اثنين من صفات عُمر بن الخطاب.



- (٢) دلل على صحة العبارة: تنوع المحاصيل الزراعية في الوطن العربي.



السؤال الرابع:

(أ) أكمل العبارات التالية مستخدمًا الكلمات التالية:

- (١) نزل الوحي على الرسول (ﷺ) عندما كان يتعبد في غار
(٢) الكثبان الرملية هي تجمعات رملية تكونت بفعل
(٣) تنمو في الإقليم المداري حشائش تسمى حشائش
(٤) تتعرض كثير من الدول العربية لخطر الجفاف بسبب نقص

(ب) أجب عما يلي:

- (١) بم تفسر: أهمية الثروة السمكية في الوطن العربي؟



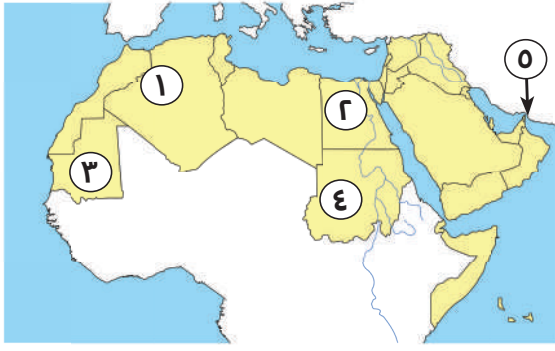
- (٢) وضح: أهمية معدن الذهب.



النموذج السادس

السؤال الأول:

(أ) أمامك خريطة صماء، كتب ما تدل عليه الأرقام:



(١) صوب: نشأت الجبال رقم (١)

نتيجة لحركات انكسارية

(٢) اختر: الدولة رقم (٢) هي الأولى في تربية.

(الخيول - الماعز - الجاموس - الإبل)

(٣) يشير رقم (٣) إلى إقليم مناخي هو

(٤) يشير رقم (٤) إلى أولى الدول في إنتاج معدن

(٥) اكتب (✓) أو (X): يشير رقم (٥) إلى مضيق باب المندب ()

(ب) بم تفسر: الأهمية الدينية لموقع الوطن العربي؟

C

C

السؤال الثاني:

(أ) اختر الإجابة الصحيحة مما بين القوسين:

(١) أشجار الأرز تنمو في إقليم مناخ

(البحر المتوسط - الاستوائي - المداري - الصحراوي الحار)

(٢) أكثر الدول العربية التي تعرضت لخطر الجفاف

(الجزائر - الصومال - البحرين - المغرب)

(٣) استشهد عمر بن الخطاب (رضي الله عنه) بعدما طعن على يد

(مسيلمة الكذاب - عبد الله بن سبأ - أبو لؤلؤة المجوسي - زيد بن ثابت)

(ب) أجب عما يلي:

(١) ما النتائج المترتبة على: أذى قريش للمسلمين في بداية الدعوة؟

C

(٢) دلل على صحة العبارة: خطط الرسول (ﷺ) للهجرة بشكل جديد.



السؤال الثالث:

(أ) أكمل العبارات التالية مستخدمًا الكلمات التالية:

- (١) تقع أصغر الدول العربية مساحة في قارة
- (٢) أول عمل قام به الرسول (ﷺ) في المدينة هو
- (٣) يسود معظم أجزاء الوطن العربي المناخ
- (٤) أكثر الدول العربية التي تعرضت لخطر الجفاف هي

(ب) أجب عما يلي:

(١) اذكر نتيجة واحدة ل: محاربة المرتدين.



(٢) دلل: الهضاب أكثر أشكال سطح الأرض انتشارًا بالوطن العربي.



السؤال الرابع:

(أ) ضع علامة (✓) أمام العبارة الصحيحة وعلامة (X) أمام العبارة غير الصحيحة:

- (١) تعمل مصر على التوسع في الصناعة الخضراء. ()
- (٢) تتشابه درجات الحرارة في دول الوطن العربي. ()
- (٣) تبذل الدول العربية جهودًا لتحقيق السياحة المستدامة. ()

(ب) أجب عما يلي:

(١) ما العلاقة بين: المناخ وحركة الطيران؟



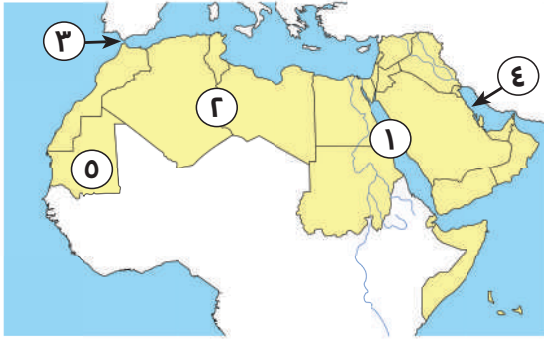
(٢) بم تفسر: يعد الوطن العربي مطمئنًا لكثير من الدول عبر العصور.



النموذج السابع

السؤال الأول:

(أ) أمامك خريطة صماء، اكتب ما تدل عليه الأرقام:



(١) البحر

(٢) هضبة

(٣) مضيق

(٤) أولى الدول العربية إنتاجًا للحديد

(ب) ما العلاقة بين: السكان وندرة المياه العذبة.



السؤال الثاني:

(أ) اختر الإجابة الصحيحة مما بين القوسين:

(١) إحدى الدول العربية الإفريقية التي تطل على البحر الأحمر

(تونس - اليمن - السعودية - السودان)

(٢) أطلق على الرسول (ﷺ) قبل الإسلام لقب

(الصادق الأمين - الرحيم - المتواضع - أول خبيب)

(٣) كانت هجرة المسلمين الأولى إلى

(المدينة - الحبشة - مكة - الطائف)

(ب) أجب عما يأتي:

(١) ما النتائج المترتبة على: تنوع المناخ في الوطن العربي بالنسبة لنشاط الزراعة؟



(٢) دلل على صحة العبارة: تعاني الثروة الحيوانية في الوطن العربي من مشكلات عديدة.



السؤال الثالث:

(أ) أكمل العبارات التالية مستخدماً الكلمات التالية:

(الأبقار - الهضاب - القبلي - تحويلية - الدواجن - المحيط الأطلنطي)

(١) تنقسم الصناعات إلى صناعات استخراجية وصناعات

(٢) تعد المغرب أولى الدول العربية في إنتاج الأسماك: لأنها تطل على

(٣) أكثر مظاهر السطح انتشاراً في الوطن العربي هي

(٤) تعد السودان أولى الدول العربية في تربية

(٥) نظام الحكم السائد في شبه الجزيرة العربية قبل الإسلام كان هو النظام

(ب) اكتب اثنين: من المقومات الطبيعية التي ساعدت على قيام الزراعة في الوطن العربي.

.....

.....

السؤال الرابع:

(أ) اكتب ما تشير إليه العبارات الآتية:

(١) تبادل السلع والخدمات باستخدام شبكة المعلومات. (.....)

(٢) تناقص قدرة الأراضي الزراعية على الإنتاج. (.....)

(٣) غزوة تحول فيها نصر المسلمين إلى هزيمة. (.....)

(ب) أجب عما يأتي:

(١) ما نتيجة: وجود عيون المياه الكبريتية في مصر والأردن؟

.....

(٢) حدد هدفين ل: المنظمة العربية والبشرية في قطاع الزراعة والثروة السمكية والأغذية.

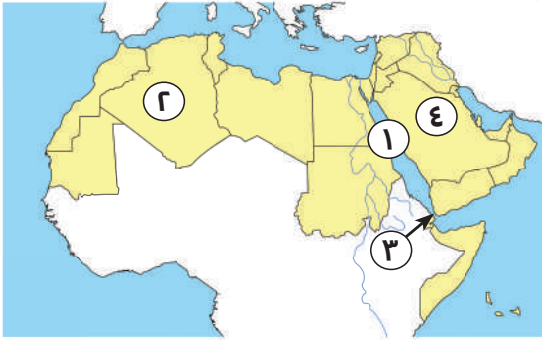
.....

.....

النموذج الثامن

السؤال الأول:

(أ) أمامك خريطة صماء، اكتب ما تدل عليه الأرقام:



- (١) البحر
- (٢) أكبر الدول العربية مساحة
- (٣) مضيق
- (٤) أولى الدول العربية إنتاجًا للبتروول

(ب) **دل على صحة العبارة:** يشرف الوطن العربي على العديد من المسطحات المائية الهامة.

.....

السؤال الثاني:

(أ) اكتب ما تشير إليه العبارات الآتية:

- (١) أشار على الرسول (ﷺ) بحفر الخندق حول المدينة عام ٥ هـ. (.....)
- (٢) استكمل الفتوحات الإسلامية التي بدأت في عهد الخليفة أبي بكر الصديق. (.....)
- (٣) تعرضت الدولة الإسلامية في عهده لخطر المرتدين. (.....)

(ب) **أجب عما يأتي:**

(١) بم تفسر: شهرة مكة تجاريًا.

.....

(٢) ما النتائج المترتبة على: عفو النبي عن أهل مكة؟

.....



السؤال الثالث:

(أ) اختر الإجابة الصحيحة مما بين القوسين:

- (١) تتركز زراعة البن في الوطن العربي في إحدى دول الجناح
(الآسيوي - الإفريقي - الأوروبي - الأمريكي)
- (٢) تتسم بالضعف بسبب التشابه بين السلع والخدمات وعدم تنوع الصادرات
"توضح الجملة التجارة".....
(العالمية - البينية العربية - الإلكترونية - الخارجية)
- (٣) تقوم الدول العربية بتنمية صناعة السياحة وجذب السياحة العالمية من خلال منظمة.....
(التجارة العربية - السياحة العربية - الصناعة العربية - الزراعة العربية)

(ب) أجب عما يلي:

(١) اذكر سبب: نشأة الجبال الانكسارية.

.....

(٢) دلل على صحة العبارة: تتعرض المحميات الطبيعية للعديد من التهديدات البشرية.

.....

السؤال الرابع:

(أ) من يكون ..؟

- (١) أنشأ الدواوين ووضع التقويم الهجري. (.....)
- (٢) أول من أسلم من الرجال وصحب النبي (ﷺ) في هجرته إلى المدينة. (.....)

(ب) أجب عما يلي:

(١) حدد هدفين لـ المنظمة العربية للسياحة.

.....

.....

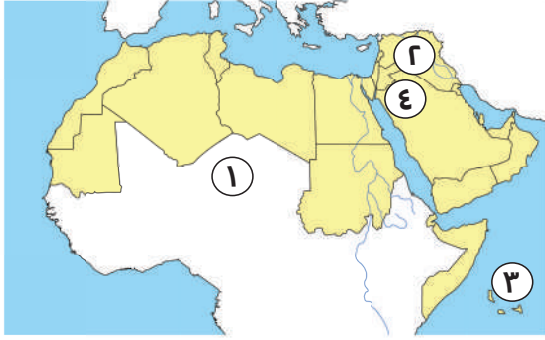
(٢) فسر العبارة الآتية: قام عثمان بن عفان بالعديد من الفتوحات الإسلامية.

.....

النموذج التاسع

السؤال الأول:

(أ) أمامك خريطة صماء، اكتب ما تدل عليه الأرقام:



- (١) يشير رقم (١) إلى الصحراء
- (٢) يشير رقم (٢) إلى دولة منتجة للعنب
- (٣) يشير رقم (٣) إلى المحيط
- (٤) يشير رقم (٤) إلى هضبة

(ب) بم تفسر؟ أهمية حشائش الإستبس بالنسبة للثروة الحيوانية.



السؤال الثاني:

(أ) اختر الإجابة الصحيحة مما بين القوسين:

- (١) عفا الرسول (ﷺ) عن أهل مكة بعد
(أحد - بدر - فتح مكة - صلح الحديبية)
- (٢) تم تعيين شرطة لحراسة بيت المال في عهد الخليفة
(عثمان بن عفان - علي بن أبي طالب - أبي بكر الصديق - عمر بن الخطاب)
- (٣) توجد واحة عين صالح في
(السعودية - مصر - المغرب - الجزائر)

(ب) أجب عما يأتي:

(١) ما العلاقة بين: المشكلات البيئية والحياة النباتية والحيوانية؟



(٢) فسر السبب: هجرة عمر بن الخطاب إلى المدينة علانية دون خوف.



السؤال الثالث:

(أ) أكمل العبارات بما يناسبها من الكلمات الآتية:

(موريتانيا - البحث العلمي - رواسب الأنهار - البحر المتوسط - الإسلام - حار)

- (١) تكونت السهول الفيضية نتيجة
- (٢) تنمو أشجار الأرز في إقليم مناخ
- (٣) أولى الدول العربية في إنتاج الحديد
- (٤) الدول العربية تبذل جهودًا لتنمية التعدين والصناعة مثل الاهتمام بالتعليم و
- (٥) أسهمت التجارة في الدولة الإسلامية في نشر

(ب) أجب عما يلي:

دل على صحة العبارة: تعمل الدول العربية على تطوير نظم الزراعة.



السؤال الرابع:

(أ) ضع علامة (✓) أمام العبارة الصحيحة وعلامة (X) أمام العبارة غير الصحيحة:

- (١) أمر عثمان بن عفان (رضي الله عنه) بإنشاء أول أسطول بحري في الإسلام. ()
- (٢) تساعد الزراعة في توفير فرص العمل لسكان الوطن العربي. ()
- (٣) مصر هي أولى الدول العربية إنتاجًا للأسماك من المصايد السمكية. ()

(ب) أجب عما يلي:

(١) ما العلاقة بين خام الفوسفات والزراعة في الوطن العربي؟



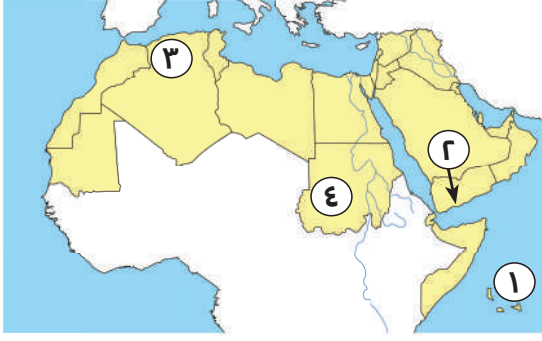
(٢) ما المقصود بـ: السياحة الرياضية؟



النموذج العاشر

السؤال الأول:

(أ) أمامك خريطة صماء، اكتب ما تدل عليه الأرقام:



(١) مسطح مائي

(٢) دولة آسيوية

(٣) من الجبال الالتوائية

(٤) إقليم مناخي

(ب) **دل على صحة العبارة:** قامت على أرض الوطن العربي أقدم الحضارات في العالم.

⊞

السؤال الثاني:

(أ) انسب كل عمل من هذه الأعمال إلى صاحبه:

(إنشاء الدواوين - تنظيم الشرطة - أشار بحفر الخندق - محاربة المرتدين)

سلمان الفارسي (رضي الله عنه)	علي بن أبي طالب (رضي الله عنه)	عمر بن الخطاب (رضي الله عنه)	أبو بكر الصديق (رضي الله عنه)
.....

(ب) **أجب عما يلي:**

(١) بم تفسر: رفضت قريش الدعوة الإسلامية؟

⊞

(٢) ما النتائج المترتبة على: إشارة سلمان الفارسي (رضي الله عنه) بحفر خندق حول المدينة؟

⊞

السؤال الثالث:

(أ) اختر الإجابة الصحيحة مما بين القوسين:

- (١) أول من بايع أبا بكر الصديق (رضي الله عنه) بالخلافة هو
(علي بن أبي طالب - عمر بن الخطاب - عثمان بن عفان - زيد بن ثابت)
- (٢) تعد المغرب أولى الدول العربية في إنتاج الأسماك لأنها تطل على
(البحر الأحمر - البحر المتوسط - المحيط الأطلنطي - المحيط الهندي)
- (٣) دولة عربية تحتل المركز الأول في إنتاج الذهب هي
(مصر - السودان - السعودية - المغرب)

(ب) أجب عما يأتي:

- (١) حدد اثنين من: أهم أعمال عمر بن الخطاب.



- (٢) ما النتائج المترتبة على: حدوث حركات التوائية وانكسارية في باطن الأرض؟



السؤال الرابع:

(أ) ضع علامة (✓) أمام العبارة الصحيحة وعلامة (X) أمام العبارة غير الصحيحة:

- (١) الأزهر الشريف في مصر من المراكز الدينية المهمة في الوطن العربي. ()
- (٢) أنشأ الخليفة عمر بن الخطاب (رضي الله عنه) ديوان الجند. ()
- (٣) تسقط الأمطار صيفاً على الأطراف الشمالية للوطن العربي. ()

(ب) أجب عما يلي:

- (١) فسر: يختلف مناخ المناطق المرتفعة عن مناخ الأدوية والسهول.



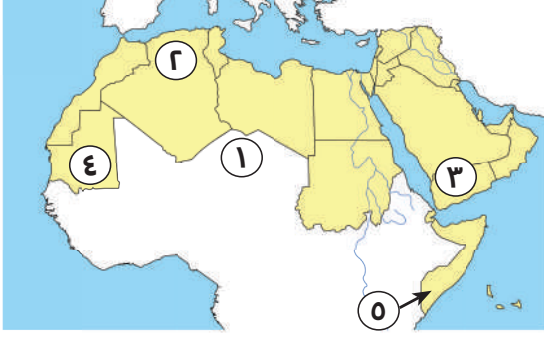
- (٢) اذكر أشهر المحميات الطبيعية في الوطن العربي.



النموذج الحادي عشر

السؤال الأول:

(أ) أمامك خريطة صماء، اكتب ما تدل عليه الأرقام:



(١) الصحراء

(٢) جبال

(٣) هضبة

(٤) إقليم مناخي

(ب) ما النتائج المترتبة على: سقوط الأمطار الشتوية في إقليم البحر المتوسط؟

.....

.....

السؤال الثاني:

(أ) اكتب ما تشير إليه العبارات الآتية:

(١) غزوة تحول فيها نصر المسلمين إلى هزيمة. (.....)

(٢) رفضوا دفع الزكاة وادعى بعضهم النبوة. (.....)

(٣) الحركات الباطنية التي أدت إلى تكون جبال أطلس. (.....)

(ب) بم تفسر:

(١) أهمية وسائل النقل بالنسبة للزراعة؟

.....

.....

(٢) الثروة الحيوانية في الوطن العربي.

.....

.....

.....

السؤال الثالث:

(أ) اختر الإجابة الصحيحة مما بين القوسين:

- (١) انتهى عصر الخلفاء الراشدين بنهاية حكم الخليفة
(عمر بن الخطاب - عثمان بن عفان - علي بن أبي طالب - أبي بكر الصديق)
- (٢) من الأدوية الجافة بالوطن العربي وادي
(دجلة - الفرات - النيل - الدواسر)
- (٣) يحل فصل الشتاء عندما تتعامد الشمس على
(مدار السرطان - مدار الجدي - دائرة الاستواء - خط جرينتش)

(ب) أجب عما يأتي:

(١) ما العلاقة بن: الطاقة النظيفة والمشكلات البيئية؟

.....

(٢) اذكر اثنين من: صفات أبي بكر الصديق (رضي الله عنه).

.....

.....

السؤال الرابع:

(أ) اكتب ما تشير إليه العبارات الآتية:

- (١) الدولة التي أطلقت مبادرة زراعة ٤٥٠ مليون شجرة. (.....)
- (٢) يتم من خلالها تحويل المواد الخام لتصبح منتجات صالحة الاستخدام. (.....)
- (٣) جبال نشأت نتيجة لحركات باطنية تعرضت لها الأرض. (.....)

(ب) أجب عما يلي:

حدد اثنين من: مقومات السياحة للوطن العربي.

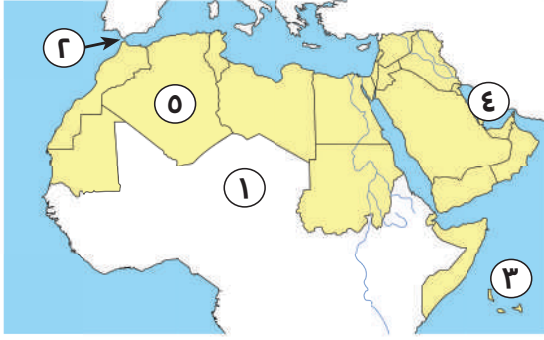
.....

.....

النموذج الثاني عشر

السؤال الأول:

(أ) أمامك خريطة صماء، اكتب ما تدل عليه الأرقام:



(١) يشير رقم (١) إلى الصحراء

(٢) يشير رقم (٢) إلى مضيق

(٣) يشير رقم (٣) إلى المحيط

(٤) يشير رقم (٤) إلى الخليج

(٥) يشير رقم (٥) إلى أكبر الدول العربية مساحة

(ب) **فسر سبب:** سقوط الأمطار صيفاً على جنوب غرب اليمن.



السؤال الثاني:

(أ) اختر الإجابة الصحيحة مما بين القوسين:

(١) زيارة أضخم المراكز التجارية في الإمارات يعد سياحة

(بيئية - ترفيهية - تسوقية - رياضية)

(٢) الصادرات والواردات بين الدول العربية وباقي دول العالم هي التجارة

(البينية - الدولية - الإلكترونية - الداخلية)

(٣) أحد مصادر الطاقة المتجددة في الوطن العربي

(البترول - الفحم - طاقة الرياح - الغاز الطبيعي)

(ب) **أجب عما يأتي:**

(١) ما العلاقة بين: المسطحات المائية والمناخ؟



(٢) بم بتفسر: أهمية الأودية الجافة؟



السؤال الثالث:

(أ) ضع علامة (✓) أمام العبارة الصحيحة وعلامة (X) أمام العبارة غير الصحيحة:

- (١) تشغل دول الجناح الإفريقي مساحة أكبر من الجناح الآسيوي. ()
- (٢) ساد النظام الملكي شبه الجزيرة العربية قبل ظهور الإسلام. ()
- (٣) تم نقل مقر الخلافة الإسلامية إلى البصرة في عهد علي بن أبي طالب (رضي الله عنه) ()
- (٤) تقع هضبة بادية الشام في الجناح الآسيوي. ()
- (٥) يتسم مناخ الإسكندرية بسمات إقليم البحر المتوسط. ()

(ب) أجب عما يلي:

(١) ما النتائج المترتبة على: رفض البعض دفع الزكاة بعد وفاة الرسول (ﷺ)؟

⊖

(٢) اكتب دليلاً على: وقوف أهل يثرب بجانب سيدنا محمد (ﷺ).

⊖

السؤال الرابع:

(أ) أكمل العبارات التالية مستخدماً الكلمات التالية:

- (١) نظام الحكم السائد في شبه الجزيرة العربية قبل الإسلام هو النظام (٢)
- (٢) تعد سهول نهري دجلة والفرات من السهول (٣)
- (٣) يسود معظم الوطن إقليمي المناخ الصحراوي (٤)
- (٤) تنمو بالإقليم المداري في الوطن العربي حشائش

(ب) أجب عما يلي:

(١) فسر سبب: هجرة المسلمين إلى الحبشة.

⊖

(٢) دلل: الوطن العربي أهمية اقتصادية كبيرة.

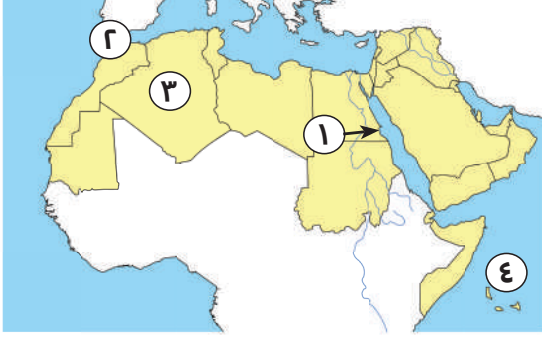
⊖

⊖

النموذج الثالث عشر

السؤال الأول:

(أ) أمامك خريطة صماء، اكتب ما تدل عليه الأرقام:



(١) يشير رقم إلى أكبر الدول العربية مساحة.

(٢) مضيق

(٣) يشير الرقم (١) إلى جبال

(٤) المحيط

(ب) **دل على صحة العبارة:** تبذل الدول العربية جهود كبيرة في مجال التجارة.

⊖

⊖

السؤال الثاني:

(أ) **اختر الإجابة الصحيحة مما بين القوسين:**

(١) تطل دولتا السعودية ومصر على البحر

(الأحمر - الأسود - المتوسط - العرب)

(٢) إحدى مراحل الدعوة الإسلامية واستمرت ثلاث سنوات

(الدعوة الجهرية - الدعوة السرية - عالمية الدعوة - البناء)

(٣) كان مقرًا للحكم والعبادة في المدينة

(دار الندوة - المسجد - دار الأرقام - دار أبي بكر الصديق)

(ب) **أجب عما يأتي:**

(١) فسر: تعد السياحة من أهم الأنشطة الاقتصادية في الوطن العربي؟

⊖

(٢) دل: يمتلك الوطن العربي ثروات معدنية متنوعة.

⊖

السؤال الثالث:

(أ) ضع علامة (✓) أمام العبارة الصحيحة وعلامة (X) أمام العبارة غير الصحيحة:

- (١) اتبع المسلمون نظام التوريث في اختيار الخلفاء الراشدين (رضي الله عنهم). ()
- (٢) بدأ التقويم الهجري بهجرة المسلمين إلى الحبشة. ()
- (٣) تشمل المحاصيل السكرية قصب السكر والبنجر. ()

(ب) أجب عما يلي:

(١) وضح اثنين: من جهود الدول العربية لتنمية الثروة السمكية.



(٢) بم تفسر: قيام الزراعة في الواحات.



السؤال الرابع:

(أ) أكمل العبارات التالية مستخدماً الكلمات التالية:

- (١) غزوة تحول فيها نصر المسلمين إلى هزيمة هي غزوة
- (٢) تمتد سلاسل جبال الحجاز في الجناح العربي
- (٣) استخراج المعادن ومصدر الطاقة يعرف بالصناعات
- (٤) نقل علي بن أبي طالب (رضي الله عنه) مقر الخلافة الإسلامية إلى
- (٥) الصادرات والواردات بين الدول العربية والعالم تعرف بالتجارة

(ب) أجب عما يلي:

(١) دلل: تختلف الصورة النباتية في الإقليم الصحراوي عند باقي أقاليم الوطن العربي.



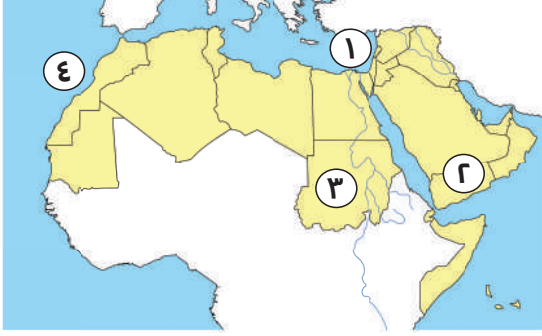
(٢) وضح: كيف يمكن تنشيط التسويق السياحي المشترك من خلال المنظمة العربية للسياحة؟



النموذج الرابع عشر

السؤال الأول:

(أ) أمامك خريطة صماء، اكتب ما تدل عليه الأرقام:



(١) البحر.....

(٢) أولى الدول في إنتاج البن.....

(٣) من الدول المنتجة للذهب.....

(٤) المحيط.....

(ب) اذكر السبب: اختار المسلمون أبا بكر الصديق كخليفة بعد وفاة الرسول (ﷺ)؟

⊞

السؤال الثاني:

(أ) أكمل العبارات التالية:

(١) يحل فصل الشتاء على الوطن العربي عندما تتعامد الشمس على مدار.....

(٢) زيارة عين ما عين بالأردن تعد سياحة.....

(٣) تعتمد الزراعة في الأجزاء الشمالية من الوطن العربي على مياه.....

(٤) أكبر الدول العربية في تربية الأغنام والماعز هي.....

(٥) يتميز الإقليم المداري بسقوط الأمطار في فصل.....

(ب) أجب عما يلي:

(١) بم تفسر: الأهمية الثقافية والحضارية للوطن العربي؟

⊞

(٢) دلل: تنوع أساليب قريش ضد الدعوة إلى الإسلام.

⊞

⊞

السؤال الثالث:

(أ) اختر الإجابة الصحيحة مما بين القوسين:

- (١) المشكلة البيئية التي ترتبط بمشكلة الرعي الجائر
(تملح التربة - التصحر - ندرة المياه العذبة - نقص الغذاء)
- (٢) الدولة العربية التي تقع في الجناح الإفريقي هي
(العراق - قطر - الجزائر - السعودية)
- (٣) تتأثر الزراعة سلبيًا في الوطن العربي بسبب
(التغير المناخي - تحلية مياه البحر - تدريب الأيدي العاملة - زيادة الأمطار)

(ب) ما المقصود بكل من:

- (١) الصناعة الخضراء
- (٢) الإقليم المناخي

السؤال الرابع:

(أ) ضع علامة (✓) أمام العبارة الصحيحة وعلامة (X) أمام العبارة غير الصحيحة:

- () (١) عمل الرسول (ﷺ) بحرفتي الرعي والتجارة.
- () (٢) يحدث التصحر بسبب الأمطار والسيول.
- () (٣) تتركز زراعة البن في الأردن.
- () (٤) أولى الدول العربية إنتاجًا للفوسفات هي دولة المغرب.

(ب) أجب عما يلي:

(١) دلل جغرافيًا على: هضبة إفريقيا الشمالية من أكبر الظواهر التضاريسية مساحة.

.....

.....

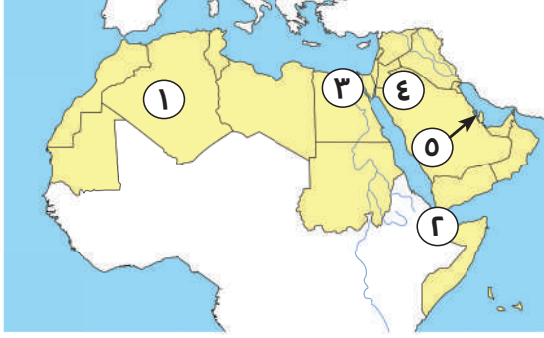
(٢) فسر: اعتبر النبي (ﷺ) صلح الحديبية فتحًا للمسلمين.

.....

النموذج الخامس عشر

السؤال الأول:

(أ) أمامك خريطة صماء، اكتب ما تدل عليه الأرقام:



(١) دولة

(٢) مضيق

(٣) إقليم مناخي

(٤) هضبة

(٥) أولى الدول المنتجة للغاز

(ب) **دل على صحة العبارة:** رفض قريش فكرة هجرة الرسول (ﷺ) وأصحابه إلى يثرب.

⊞

السؤال الثاني:

(أ) اختر الإجابة الصحيحة مما بين القوسين:

- (١) تم إنشاء أسطول بحري لتأمين مصر والشام من هجمات
(قريش - الروم - الصليبيين - العرب)
- (٢) يحل فصل الصيف على الوطن العربي عندما تتعامد الشمس على
(مدار السرطان - دائرة الاستواء - مدار الجدي - خط جرينتش)
- (٣) تعد السعودية أولى الدول العربية إنتاجًا لـ
(البتروال - الغاز الطبيعي - الألومنيوم - الفوسفات)

(ب) **أجب عما يلي:**

(١) اكتب تفسيرًا واحدًا: ضعف تأثير المسطحات المائية بشكل عام.

⊞

(٢) ما العلاقة بين: الأمن الغذائي والثروة الحيوانية؟

⊞

السؤال الثالث:

(أ) ضع علامة (✓) أمام العبارة الصحيحة وعلامة (X) أمام العبارة غير الصحيحة:

- (١) ساعد تنوع مظاهر السطح على تنوع الأنشطة الاقتصادية. ()
- (٢) تسقط الأمطار بغزارة على منحدرات الجبال المواجهة للرياح الجافة. ()
- (٣) تنمو حشائش السافانا في الإقليم المداري بالوطن العربي. ()
- (٤) كانت أول هجرة في الإسلام إلى الطائف. ()

(ب) أجب عما يلي:

(١) كان لعمر بن الخطاب (رضي الله عنه) دور هام في جمع القرآن الكريم (أثبت صحة العبارة).



(٢) ما النتائج المترتبة على: وجود العديد من الأماكن المقدسة في الوطن العربي؟



السؤال الرابع:

(أ) اكتب ما تشير إليه العبارتان الآتيتان:

- (١) الصادرات والواردات من السلع والخدمات بين الدول العربية. (.....)
- (٢) تناقص قدرة الأراضي الزراعية على الإنتاج. (.....)

(ب) أجب عما يلي:

(١) ما العلاقة بين: الدعوة السرية ونشر الإسلام.



(٢) اذكر نتيجة واحدة ترتبت على: غنى الوطن العربي بالمواد الخام ومصادر الطاقة.



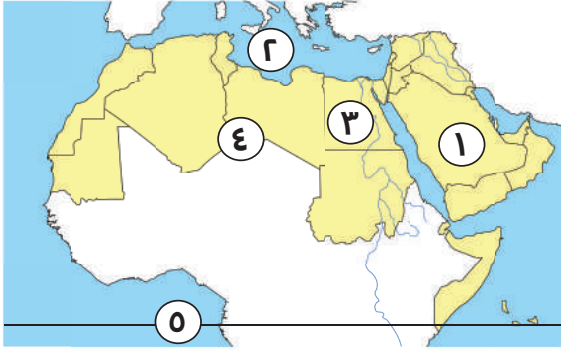


ذاكر معنا



النموذج السادس عشر

السؤال الأول:



(أ) أمامك خريطة صماء لمصر، لاحظها ثم أجب:

- (١) يشير رقم (١) إلى دولة
- (٢) يشير رقم (٢) إلى البحر
- (٣) يشير رقم (٣) إلى أولى الدول في تربية
الجاموس بالوطن العربي
- (٤) يشير رقم (٤) إلى هضبة
- (٥) يشير رقم (٥) إلى دائرة عرض رئيسية وهي

(ب) أجب عما يلي:

(١) ما المقصود بـ: التجارة الإلكترونية؟

(٢) اتسم عمر بن الخطاب بالرحمة رغم شدته. أثبت صحة العبارة.

السؤال الثاني:

(أ) ضع علامة (✓) أمام العبارة الصحيحة وعلامة (X) أمام العبارة غير الصحيحة:

- () (١) وُلد النبي (ﷺ) يتيمًا.
- () (٢) حرص الرسول (ﷺ) على المؤاخاة بين المهاجرين واليهود.
- () (٣) أولى الدول العربية إنتاجًا للأسمت السعودية.
- () (٤) زيارة العيون الكبرى تعتبر سياحة ترفيهية.
- () (٥) اتسم التجار المسلمون بالأخلاق الحميدة.
- () (٦) اختار الرسول (ﷺ) أبا بكر الصديق (رضى الله عنه) ليكون خليفة
للمسلمين بعد وفاته.

(ب) ما العلاقة بين؟

(١) المسطحات المائية والمناخ.

(٢) المشكلات البيئية والحياة النباتية والحيوانية.



السؤال الثالث:

(أ) أكمل العبارات التالية باستخدام الكلمات المناسبة:

- (١) أحد العوامل المؤثرة في مناخ الوطن العربي
 - (٢) يقع شمال الوطن العربي إقليم مناخ
 - (٣) أحد المقومات الطبيعية لقيام الزراعة بالوطن العربي
 - (٤) توفر الثروة الحيوانية بالوطن العربي
 - (٥) استخراج المعادن ومصادر الطاقة من باطن الأرض من الصناعات
- (ب) ما النتائج المترتبة على؟ مخالفة الرماة لأوامر الرسول (ﷺ) في غزوة أحد.

⊖

السؤال الرابع:

(أ) اختر الإجابة الصحيحة مما بين القوسين:

- (١) إحدى مراحل الدعوة الإسلامية التي استمرت ثلاث سنوات هي الدعوة
(السرية - الجهرية - الفتح - البناء)
- (٢) أكبر هضاب الوطن العربي مساحة هضبة
(الجلف الكبير - بادية الشام - إفريقيا الشمالية - حضر موت)
- (٣) تقع محمية أرز الشوف في دولة
(الأردن - لبنان - مصر - السعودية)
- (٤) محصول يصنف ضمن محاصيل الحبوب الغذائية
(الذرة - العنب - الكتان - الموز الشرقي)

(ب) أجب عما يلي:

- (١) بم تفسر؟ هزيمة المسلمين في غزوة أحد.

⊖

- (٢) دلل على صحة العبارة: حرص علي بن أبي طالب على تطبيق العدالة.

⊖

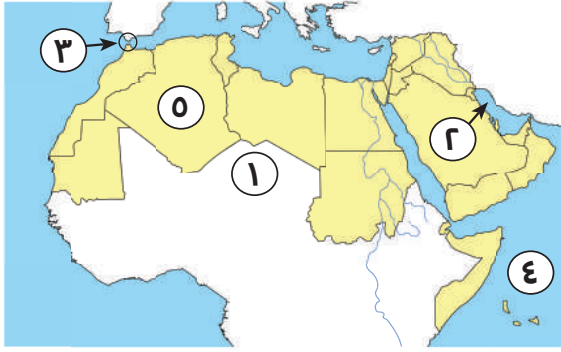


ذاكر معنا



النموذج السابع عشر

السؤال الأول:



(أ) أمامك خريطة صماء لمصر، لاحظها ثم أجب:

- (١) يشير رقم (١) إلى الصحراء
- (٢) يشير رقم (٢) إلى الخليج
- (٣) يشير رقم (٣) إلى مضيق
- (٤) يشير رقم (٤) إلى المحيط
- (٥) يشير رقم (٥) إلى أكبر الدول العربية مساحة

(ب) دلل على صحة العبارة:

(١) تتعرض المحميات الطبيعية إلى العديد من المخاطر.



(٢) تعاني الدول العربية من مشكلات التصحر.



السؤال الثاني:

(أ) ضع علامة (✓) أمام العبارة الصحيحة وعلامة (X) أمام العبارة غير الصحيحة:

- (١) تنتشر نباتات الصبار والنخيل في الإقليم الصحراوي الحار بالوطن العربي. ()
- (٢) تساعد الصناعة الخضراء على خفض التأثير السلبي للصناعة على البيئة والصحة. ()
- (٣) أمر الرسول (ﷺ) أصحابه بالهجرة إلى يثرب، لأن ملكها النجاشي كان عادلاً. ()
- (٤) يتميز الوطن العربي بانتظام سقوط الأمطار بكميات كبيرة. ()
- (٥) استجابت وفود من أهل يثرب في موسم الحج لدعوة الرسول (ﷺ). ()

(ب) ما النتائج المترتبة على؟

(١) وجود الواحات في صحاري الوطن العربي.



(٢) سرية الدعوة الإسلامية في بدايتها.



السؤال الثالث:

(أ) اختر الإجابة الصحيحة مما بين القوسين:

- (١) ظاهرة طبيعية تحد الوطن العربي من الشرق
(جبال طوروس - المحيط الأطلنطي - جبال كردستان - الصحراء الكبرى)
- (٢) نقل علي بن أبي طالب (رضى الله عنه) مقر الخلافة من المدينة إلى
(القدس - الكوفة - مكة - دمشق)
- (٣) أكثر أشكال السطح انتشارًا في الوطن العربي
(الجبال - الهضاب - السهول - التلال)
- (٤) مناخ مدينة الإسكندرية معتدل أكثر من مدينة الرياض بسبب تأثير
(المسطحات المائية - اتجاه المرتفعات - مدار الجدي - خط جرينتش)

(ب) أجب عما يلي:

- (١) ماذا يحدث إذا؟ لم تهتم الدول العربية بتنمية الثروة الحيوانية والسمكية.
.....
- (٢) ما المقصود بـ: التجارة الخارجية؟
.....

السؤال الرابع:

(أ) اكتب ما تشير إليه العبارات التالية:

- (١) أهل مكة الذين هاجروا إلى يثرب بأمر الرسول. (.....)
- (٢) صناعة يتم فيها تحويل المواد الخام إلى منتجات صالحة للاستخدام. (.....)
- (٣) سياحة تعتمد على زيارة الأماكن المقدسة مثل: المساجد والكنائس والأديرة. (.....)
- (٤) نقص كمية الأمطار في بعض السنوات بما لا يسمح بقيام الزراعة أو نمو الحشائش. (.....)

(ب) ما العلاقة بين: المواد الخام و الصناعة؟





ذاكر معنا



النموذج الثامن عشر

السؤال الأول:



(أ) أمامك خريطة صماء لمصر، لاحظها ثم أجب:

١. جبال انكسارية
٢. المحيط
٣. الصحراء
٤. مضيق

(ب) اكتب تفسيرًا واحدًا لـ:

(١) تركز تربية الجاموس في مصر.

.....

(٢) الأهمية الاقتصادية لموقع الوطن العربي.

.....

.....

السؤال الثاني:

(أ) ضع علامة (✓) أمام العبارة الصحيحة وعلامة (X) أمام العبارة غير الصحيحة:

- () (١) اجتمع زعماء قريش في دار الأرقم وتأمروا على قتل الرسول (ﷺ).
- () (٢) تم تنظيم الشرطة في عهد عثمان بن عفان (رضي الله عنه).
- () (٣) ساعد تنوع مظاهر السطح بالوطن العربي على تنوع الأنشطة الاقتصادية.
- () (٤) تسقط الأمطار بغزارة على منحدرات الجبال المواجهة للرياح الجافة.

(ب) دلي على صحة العبارة:

(١) تنتشر السياحة العلاجية في مصر والأردن.

.....

(٢) كان لأبي بكر الصديق الكثير من الأعمال البارزة في التاريخ الإسلامي.

.....



السؤال الثالث:

(أ) اختر الإجابة الصحيحة مما بين القوسين:

- (١) كانت هجرة المسلمين الأوائل إلى مدينة
(الحبشة - يثرب - الطائف - حنين)
- (٢) تم تعيين شرطة لحراسة بيت المال في عهد الخليفة
(عثمان بن عفان - عمر بن الخطاب - أبي بكر الصديق - علي بن أبي طالب)
- (٣) تسقط أمطار موسمية صيفية على دولة
(لبنان - سوريا - اليمن - تونس)
- (٤) تقع محمية ضانا في دولة
(سوريا - لبنان - فلسطين - الأردن)

(ب) ما النتائج المترتبة على؟

- (١) غزوة بدر. Ⓒ
- (٢) طول سواحل دولة المغرب. Ⓒ

السؤال الرابع:

(أ) اكتب ما تشير إليه كل عبارة من العبارات التالية:

- (١) غزوة تحول فيها نصر المسلمين إلى هزيمة. (.....)
- (٢) قبائل رفضت دفع الزكاة وادعى بعضها النبوة. (.....)
- (٣) الدولة التي أطلقت مبادرة زراعة ٤٥٠ مليون شجرة. (.....)
- (٤) صناعة تعتمد على الاستثمار الأمثل للموارد المتجددة. (.....)

(ب) قارن بين: الحديد والذهب من حيث أولى الدول العربية إنتاجاً لكل منهما.

..... Ⓒ

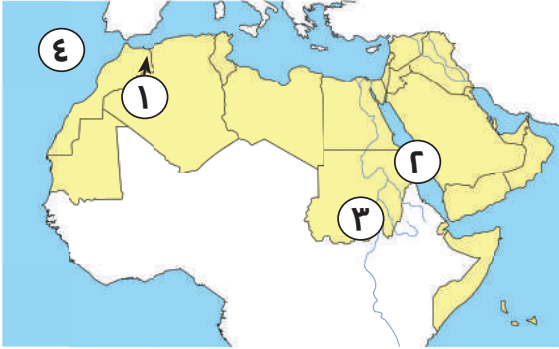


ذاكر معنا



النموذج التاسع عشر

السؤال الأول:



(أ) أمامك خريطة صماء لمصر، لاحظها ثم أجب:

(١) جبال

(٢) البحر

(٣) إقليم المناخ

(٤) المحيط

(ب) اكتب تفسراً واحداً:

(١) السياحة من أهم الأنشطة الاقتصادية في الوطن العربي.

.....

(٢) الشهرة التي اكتسبتها واحات سيوة والعين وليوا.

.....

السؤال الثاني:

(أ) ضع علامة (✓) أمام العبارة الصحيحة وعلامة (X) أمام العبارة غير الصحيحة:

(١) أصغر الدول العربية مساحة هي دولة الجزائر. ()

(٢) تعد المغرب الأولى عربياً في إنتاج الأسماك من المزارع السمكية. ()

(٣) يقل تأثير المسطحات المائية على مناخ الوطن العربي. ()

(٤) تسقط أمطار موسمية صيفاً على جنوب موريتانيا. ()

(ب) أحب عما يلي:

(١) ما العلاقة بين السهول الفيضية والتربة الخصبة؟

.....

(٢) اذكر صفتين من صفات أبي بكر الصديق.

.....



السؤال الثالث:

(أ) صوب ما تحته خط في العبارات التالية:

- (١) يقترب الوطن العربي من قارة آسيا. (.....)
- (٢) مبادرة زراعة ١٠٠ مليون شجرة مثمرة أطلقتها دولة عمان. (.....)
- (٣) تكونت جبال الحجاز نتيجة الحركات الالتوائية. (.....)
- (٤) يحد الوطن العربي من الجنوب المحيط الأطلسي. (.....)

(ب) دلل على صحة العبارة:

(١) تبذل الدول العربية جهودًا لتحقيق السياحة المستدامة.



(٢) يتوسع الوطن العربي في إنتاج الطاقة المتجددة.



السؤال الرابع:

(أ) اختر الإجابة الصحيحة مما بين القوسين:

- (١) أرسل عدة جيوش المحاربة المرتدين عن الإسلام الخليفة
(أبو بكر الصديق - عمر بن الخطاب - عثمان بن عفان - علي بن أبي طالب)
- (٢) أحد الجبال الالتوائية في الجناح الغربي الأسيوي هي جبال
(الحجاز - أطلس - كردستان - عسير)
- (٣) أي من الدول التالية يقع شمالها في إقليم البحر المتوسط؟
(الكويت - اليمن - الإمارات - مصر)
- (٤) أسلم الزبير بن العوام على يد
(أبي بكر الصديق - عمر بن الخطاب - عثمان بن عفان - علي بن أبي طالب)

(ب) ما النتائج المترتبة على؟ المشكلات البيئية في الوطن العربي.



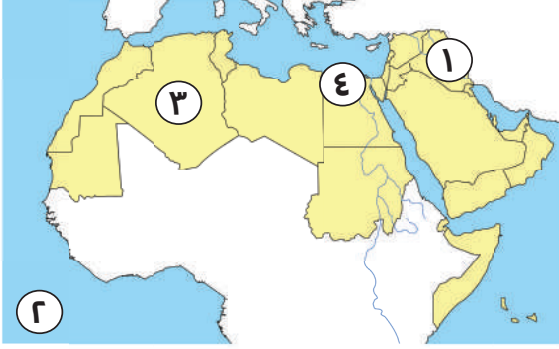


ذاكر معنا



النموذج العشرون

السؤال الأول:



(أ) أمامك خريطة صماء لمصر، لاحظها ثم أجب:

(١) دولة

(٢) المحيط

(٣) واحة

(٤) إقليم مناخي

(ب) دلل على صحة العبارة:

(١) يمتلك الوطن العربي ثروات معدنية متنوعة.

.....

(٢) يتمتع وطننا العربي بكافة مقومات السياحة.

.....

.....

السؤال الثاني:

(أ) أكمل العبارات التالية بما يناسبها من كلمات:

(١) أصغر الدول العربية من حيث المساحة هي

(٢) تم فتح مصر وبلاد العراق في عهد الخليفة

(٣) مصر أكبر الدول العربية في إنتاج الأسماك من

(٤) إحدى مناطق السياحة الثقافية مدينة بابل في

(ب) بم تفسر؟

(١) إصدار الرسول (ﷺ) وثيقة صحيفة المدينة.

.....

(٢) قيام الخليفة علي بن أبي طالب بتنظيم الشرطة.

.....



السؤال الثالث:

(أ) أكمل العبارات التالية بما يناسبها من كلمات:

- (١) أهل يثرب الذين نصرُوا الرسول (ﷺ) في دعوته. (.....)
- (٢) تناقص قدرة الأرض الزراعية على الإنتاج. (.....)
- (٣) دولة عربية تقع في المحيط الهندي. (.....)
- (٤) جبال نشأت نتيجة لحركات باطنية تعرضت لها الأرض. (.....)
- (٥) منطقة جغرافية من سطح الأرض تتسم بخصائص مناخية تميزها عن غيرها. (.....)

(ب) أحب عما يلي:

(١) ماذا يحدث إذا؟ لم تقم الدول العربية بإقامة المحميات الطبيعية.



(٢) اذكر مراحل الدعوة الإسلامية.



السؤال الرابع:

(أ) ضع علامة (✓) أمام العبارة الصحيحة وعلامة (X) أمام العبارة غير الصحيحة:

- (١) رأس المال في الزراعة مهم لشراء البذور والأسمدة. ()
- (٢) تمر دائرة الاستواء في شمال الوطن العربي. ()
- (٣) أولى الدول العربية إنتاجًا للفوسفات هي دولة المغرب. ()
- (٤) هاجر المسلمون إلى الحبشة؛ لأن بها ملكًا عادلًا. ()
- (٥) هزم المسلمون في غزوة أحد بسبب قلة عددهم. ()

(ب) اكتب دليلًا واحدًا على: تسامح النبي (ﷺ) مع أهل مكة.

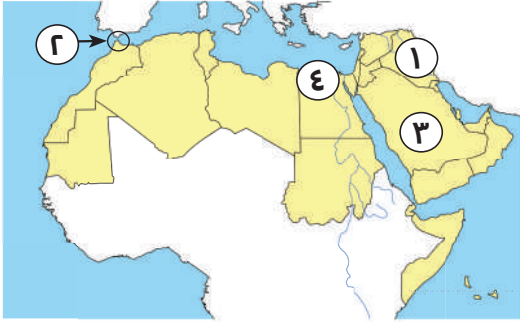




ذاكر معنا

النموذج الحادي والعشرون

السؤال الأول:



(أ) أمامك خريطة صماء لمصر، لاحظها ثم أجب:

(١) جبال

(٢) مضيق

(٣) أولى الدول العربية إنتاجًا للبتروال

(٤) دولة تنتشر فيها السياحة العلاجية حيث عين ماعين هي

(ب) ما العلاقة بين؟

(١) الزراعة ومعالجة مياه الصرف الصحي.

⊖

(٢) الصناعة الخضراء والبيئة.

⊖

السؤال الثاني:

(أ) ضع علامة (✓) أمام العبارة الصحيحة وعلامة (X) أمام العبارة غير الصحيحة:

(١) كان نظام الحكم السائد في شبه الجزيرة العربية هو النظام القبلي. ()

(٢) تكونت الأودية الجافة بفعل التعرية المائية وتستخدم كطرق للمواصلات. ()

(٣) يسود المناخ الحار معظم أجزاء الوطن العربي. ()

(٤) وضع علي بن أبي طالب (رضى الله عنه) التقويم الهجري الذي يبدأ من ()

هجرة الرسول (ﷺ).

(ب) بم تفسر؟

(١) لعبت التجارة دورًا مهمًا في الدولة الإسلامية.

⊖

(٢) بداية الدعوة للإسلام سرًا .

⊖



السؤال الثالث:

(أ) اختر الإجابة الصحيحة مما بين القوسين:

- (١) يسود المناخ الحار في معظم أجزاء الوطن العربي بينما يسود المناخ المعتدل في الأجزاء.....
(الشرقية - الغربية - الشمالية - الجنوبية)
- (٢) ينتمي الجزء الجنوبي الغربي من دولة اليمن إلى إقليم المناخ.....
(المداري - الصحراوي الحار - الاستوائي - البحر المتوسط)
- (٣) مشكلة بيئية تحدث بسبب التوسع المستمر في الزراعة.....
(تملح التربة - التصحر - الجفاف - ندرة المياه العذبة)
- (٤) تتركز زراعة البن في دولة.....
(السودان - اليمن - العراق - فلسطين)
- (ب) بم تفسر؟ هجرة عمر بن الخطاب إلى المدينة علانية دون خوف. Ⓒ

السؤال الرابع:

(أ) صوب ما تحته خط في العبارات التالية:

- (١) تنمو حشائش الإستبس التي تربي عليها الماعز والأغنام في الإقليم الصحراوي الحار.
(.....)
- (٢) نقص كمية الأمطار في بعض السنوات بما لا يسمح بالزراعة أو نمو الحشائش هو التصحّر.
(.....)
- (٣) نشاط اقتصادي بالوطن العربي يسهم بنحو ثلث دخله القومي هو الزراعة. (.....)
- (٤) تُعد زيارة المواقع الأثرية والتراثية مثل الأقصر في مصر، ضمن السياحة الدينية.
(.....)

(ب) دلل على صحة العبارة:

(١) يشرف الوطن العربي على العديد من المسطحات المائية.



(٢) تتعدد العوامل المؤثرة في مناخ الوطن العربي.

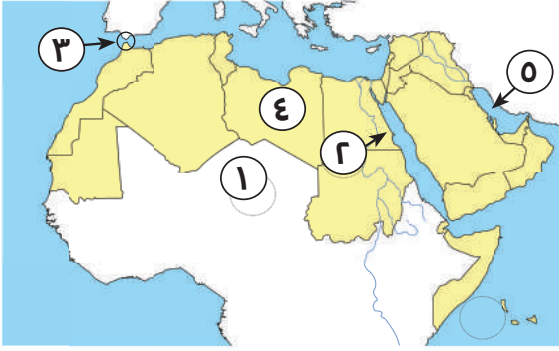




ذاكر معنا

النموذج الثاني والعشرون

السؤال الأول:



(أ) أمامك خريطة صماء لمصر، لاحظها ثم أجب:

- (١) الصحراء
- (٢) جبال
- (٣) مضيق
- (٤) دولة
- (٥) الخليج

(ب) بم تفسر؟

(١) حرص الرسول (ﷺ) على المؤاخاة بين المهاجرين والأنصار.

(٢) اختيار أبي بكر الصديق (رضي الله عنه) خليفة للمسلمين بعد وفاة الرسول (ﷺ).

السؤال الثاني:

(أ) اختر الإجابة الصحيحة مما بين القوسين:

- (١) رحلة أهل مكة في فصل الشتاء كانت إلى
(اليمن - الشام - يثرب - مصر)
- (٢) توجد جبال البحر الأحمر في دولتي
(موريتانيا والمغرب - مصر والسودان - الجزائر والمغرب - ليبيا وتونس)
- (٣) حشائش الإستبس تنمو ضمن إقليم مناخ
(الصحراوي - المداري - الموسمي - البحر المتوسط)
- (٤) ولد عمر بن الخطاب بعد ثلاثة عشر سنة من عام
(الحزن - الفيل - الزرافة - الفرح)
- (ب) **دلل على صحة العبارة:** تعاني الدول العربية من مشكلة التصحر.

السؤال الثالث:

(أ) ضع علامة (✓) أمام العبارة الصحيحة وعلامة (X) أمام العبارة غير الصحيحة:

- (١) تحتل مصر المركز الأول في إنتاج التمور. ()
- (٢) أدنى نقطة في الوطن العربي والعالم هي البحر الميت في الأردن. ()
- (٣) أسس الخليفة عثمان بن عفان (رضي الله عنه) الشرطة لحراسة بيت المال. ()
- (٤) تسهم التجارة في تعزيز العلاقات بين الدول. ()
- (٥) تؤثر التغيرات المناخية بالإيجاب على الثروة السمكية. ()

(ب) اكتب ما تشير إليه العبارات التالية:

- (١) تناقص قدرة الأراضي الزراعية على الإنتاج. (.....)
- (٢) سهول كونتها الأنهار عن طريق ترسب المواد العالقة بمياهها. (.....)

السؤال الرابع:

(أ) أكمل العبارات التالية بما يناسبها من كلمات:

- (١) يسود معظم أجزاء الوطن العربي إقليم المناخ.....
- (٢) تحتل موريتانيا المرتبة الأولى في إنتاج..... عربياً.
- (٣) أول مدينة تم اختيارها عاصمة للسياحة العربية.....
- (٤) جهز الرسول (ﷺ) قبل وفاته جيشاً بقيادة أسامة بن زيد (رضي الله عنه) لإرساله إلى.....
- (٥) كان نظام الحكم السائد في شبه الجزيرة العربية قبل الإسلام النظام.....

(ب) ما النتائج المترتبة على؟

- (١) ضيق مساحة المسطحات المائية في الوطن العربي.

.....

- (٢) مخالفة الرماة أمر الرسول (ﷺ) في غزوة أحد سنة ٣ هـ.

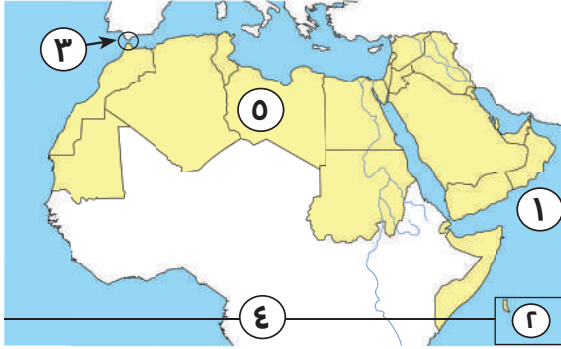
.....



ذاكر معنا

النموذج الثالث والعشرون

السؤال الأول:



(أ) أمامك خريطة صماء لمصر، لاحظها ثم أجب:

(١) بحر

(٢) دولة

(٣) مضيق

(٤) دائرة

(٥) إقليم المناخ

(ب) بم تفسر؟

(١) يقل تأثير المسطحات المائية على مناخ الوطن العربي.

.....

(٢) أهمية الأودية الجافة في الوطن العربي.

.....

السؤال الثاني:

(أ) ضع علامة (✓) أمام العبارة الصحيحة وعلامة (X) أمام العبارة غير الصحيحة:

(١) ساد نظام الحكم الملكي في شبه الجزيرة العربية قبل ظهور الإسلام. ()

(٢) قام الخليفة علي بن أبي طالب (رضى الله عنه) بنقل مقر الخلافة إلى الكوفة. ()

(٣) يسعى الوطن العربي إلى زيادة منصات التجارة الإلكترونية. ()

(٤) تطور الفنادق والقرى السياحية يساعد على جذب السياح. ()

(ب) أحب عما يلي:

(١) قارن بين: الحديد والفوسفات من حيث أولى الدول العربية إنتاجًا لكل منهما.

.....

(٢) ما المقصود بـ: التجارة البينية العربية؟

.....



السؤال الثالث:

(أ) أكمل العبارات التالية بما يناسبها من كلمات:

- (١) تم إنشاء الدواوين في عهد الخليفة
- (٢) تقع محمية ضانا في دولة
- (٣) أولى الدول العربية في صناعة الحديد والصلب هي
- (٤) أول مدينة تم اختيارها عاصمة للسياحة العربية

(ب) دلل على صحة العبارة:

(١) تعدد المشكلات البيئية في الوطن العربي.



(٢) أهمية الثروة الحيوانية بالنسبة للوطن العربي.



السؤال الرابع:

(أ) اختر الإجابة الصحيحة مما بين القوسين:

- (١) أشار على سيدنا محمد (ﷺ) بحفر خندق حول المدينة الصحابي
(سلمان الحلبي - سلمان المغربي - سلمان الفارسي - سلمان علي)
- (٢) تم الفتح الإسلامي لمصر في عهد الخليفة
(أبي بكر الصديق - عمر بن الخطاب - عثمان بن عفان - علي بن أبي طالب)
- (٣) تمتد هضبة إفريقيا الشمالية من البحر الأحمر حتى المحيط
(الهندي - الهادي - الأطلنطي - القطبي)
- (٤) تناقص قدرة الأراضي الزراعية على الإنتاج. تشير هذه العبارة إلى مصطلح
(التصحّر - الجفاف - ندرة المياه - التلوث)
- (٥) دولة تقوم فيها الزراعة على مياه الأنهار.
(ليبيا - قطر - السودان - الكويت)

(ب) ماذا نستفيد من شخصية عمر بن الخطاب؟

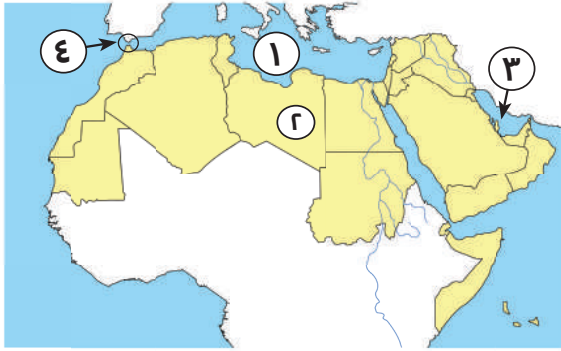




ذاكر معنا

النموذج الرابع والعشرون

السؤال الأول:



(أ) أمامك خريطة صماء لمصر، لاحظها ثم أجب:

- (١) البحر
- (٢) دولة
- (٣) الخليج
- (٤) مضيق

(ب) دلي على صحة العبارة:

(١) كان لعمر بن الخطاب الكثير من الأعمال البارزة في التاريخ الإسلامي.

.....

(٢) قامت على أرض الوطن العربي أقدم الحضارات بالعالم.

.....

السؤال الثاني:

(أ) اختر الإجابة الصحيحة مما بين القوسين:

- (١) يحد الوطن العربي من الجنوب
- (البحر المتوسط - المحيط الهندي - البحر الأحمر - جبال زاغروس)
- (٢) اليمن أولى الدول العربية في زراعة
- (البن - القمح - الأرز - البنجر)
- (٣) نزلت رسالة الإسلام على الرسول (ﷺ) في غار
- (حراء - ثور - حضرة - الشق)

(ب) اكتب المصطلح الجغرافي الدال على العبارات التالية:

- (١) تناقص قدرة الأراضي الزراعية على الإنتاج. (.....)
- (٢) الصادرات والواردات بين دول الوطن العربي وباقي دول العالم. (.....)

السؤال الثالث:

(أ) ضع علامة (✓) أمام العبارة الصحيحة وعلامة (X) أمام العبارة غير الصحيحة:

- (١) يقع الوطن العربي في موقع جغرافي متميز. ()
- (٢) كانت حرفة الزراعة الحرفة السائدة في شبه الجزيرة العربية قبل الإسلام. ()
- (٣) ظهر نظام الخلافة عند المسلمين بعد وفاة الرسول (ﷺ). ()
- (٤) تقع الدول العربية في إقليم مناخي واحد. ()
- (٥) تهتم دول الوطن العربي باستخدام مصادر الطاقة النظيفة. ()

(ب) ما النتائج المترتبة على؟

- (١) محاربة المرتدين. Ⓒ
- (٢) فتح بلاد الشام والعراق. Ⓒ

السؤال الرابع:

(أ) أكمل العبارات التالية بما يناسبها من بنك الكلمات :

(شرم الشيخ - سلمان الفارسي - الصناعة - قريش - حواجز جمركية - الخرطوم)

- (١) أشهر قبائل العرب قبل الإسلام قبيلة
- (٢) أشار على النبي (ﷺ) بحفر خندق حول المدينة
- (٣) الزراعة توفر المواد الخام اللازمة ل
- (٤) تأسست المنظمة العربية للتنمية الزراعية عام ١٩٧٢م في
- (٥) أحد أسباب ضعف التجارة البينية العربية وجود

(ب) بم تفسر؟

(١) نقل الخليفة علي بن أبي طالب مقر الخلافة من المدينة إلى الكوفة.

Ⓒ

(٢) أهمية بناء المسجد في تأسيس الدولة الإسلامية.

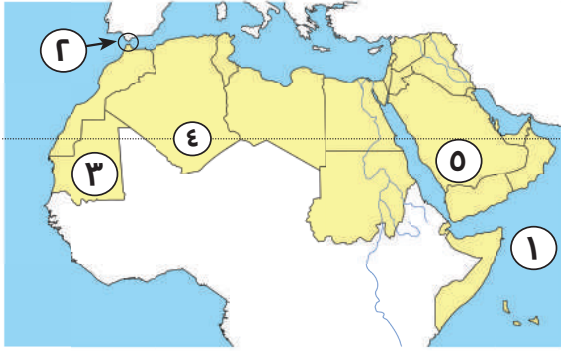
Ⓒ



ذاكر معنا

النموذج الخامس والعشرون

السؤال الأول:



(أ) أمامك خريطة صماء لمصر، لاحظها ثم أجب:

- (١) المحيط
- (٢) مضيق
- (٣) إقليم مناخي
- (٤) دائرة عرض
- (٥) أولى الدول العربية إنتاجًا للبتروول

(ب) دلي على صحة العبارة:

(١) تعددت أسس بناء الدولة الإسلامية في المدينة.

(٢) تعاني الثروة الحيوانية في الوطن العربي من مشكلات عديدة.

السؤال الثاني:

(أ) أكمل العبارات التالية بما يناسبها من كلمات:

(١) دولة عربية تقع في المحيط الهندي هي

(٢) ازدهرت التجارة بين شبه الجزيرة العربية وبلاد الشام خلال فصل

(٣) توجد سهول نهري دجلة والفرات بدولة

(٤) إحدى مناطق السياحة الثقافية مدينة القيروان بدولة

(ب) بم تفسر؟

(١) أهمية المحميات الطبيعية.

(٢) تركب تربية الجاموس في مصر مبتكرة.

السؤال الثالث:

(أ) ضع علامة (✓) أمام العبارة الصحيحة وعلامة (X) أمام العبارة غير الصحيحة:

- (١) تشغل الدول العربية بالجنح الآسيوي مساحة أكبر من دول الجنح الإفريقي. ()
- (٢) تهب على الوطن العربي رياح باردة من أوروبا في فصل الشتاء. ()
- (٣) تعرضت دولة الصومال لأكبر موجة جفاف تسببت في نقص الغذاء. ()
- (٤) زيارة آثار مدينة تدمر بالعراق تعد سياحة ثقافية. ()

(ب) أجب عما يلي:

(١) ما النتائج المترتبة على؟ الرعي الجائر للحيوانات في الوطن العربي.

⊖

(٢) دلل على صحة العبارة: تختلف الصور النباتية في الإقليم الصحراوي بالوطن العربي.

⊖

السؤال الرابع:

(أ) اختر الإجابة الصحيحة مما بين القوسين:

- (١) يحد الوطن العربي من الغرب المحيط
(الهادي - الهندي - الأطلنطي - القطبي)
- (٢) من الصفات الحسنة عند العرب قبل الإسلام
(وأد البنات - الوفاء بالعهد - الأخذ بالثأر - شرب الخمر)
- (٣) تعد من الجبال الالتوائية في الوطن العربي جبال
(عسير - البحر الأحمر - عمان - الحجاز)
- (٤) تسقط أمطار موسمية صيفية على أجزاء من دولة
(لبنان - سوريا - تونس - الصومال)

(ب) لمن تنسب الأعمال التاريخية التالية؟

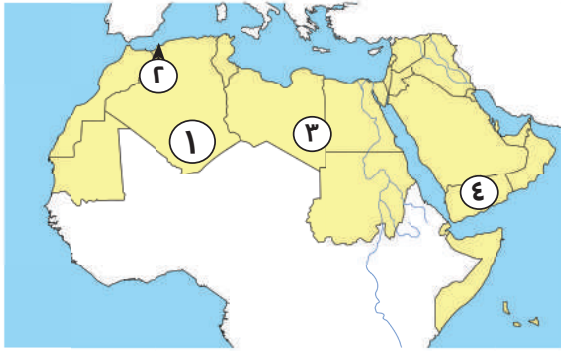
- (١) أشار على الرسول (ﷺ) بحفر خندق حول المدينة. ()
- (٢) الخليفة الذي وضع التقويم الهجري. ()
- (٣) نقل مقر الخلافة من المدينة إلى الكوفة. ()



ذاكر معنا

النموذج السادس والعشرون

السؤال الأول:



(أ) أمامك خريطة صماء لمصر، لاحظها ثم أجب:

- (١) دولة
 (٢) جبال
 (٣) إقليم مناخي
 (٤) دولة يتركز بها زراعة البن

(ب) بم تفسر؟

(١) أهمية التجارة حديثاً.

(٢) إرسال جيش أسامة بن زيد (رضي الله عنه) إلى الشام.

السؤال الثاني:

(أ) ضع علامة (✓) أمام العبارة الصحيحة وعلامة (X) أمام العبارة غير الصحيحة:

- (١) نقل الخليفة علي بن أبي طالب (رضي الله عنه) مقر الخلافة إلى الكوفة. ()
 (٢) المنظمة المسؤولة عن الأغذية والزراعة هي اليونسكو. ()
 (٣) يُعد النشاط السياحي من أهم الأنشطة الاقتصادية بالوطن العربي. ()
 (٤) تسهم الصناعة بنحو نصف الدخل القومي للوطن العربي. ()
 (٥) محمية ضانا بالأردن من أشهر المحميات الطبيعية بالوطن العربي. ()

(ب) **دلل على صحة العبارة:** يتمتع الوطن العربي بمكانة دينية عظيمة.

السؤال الثالث:

(أ) اختر الإجابة الصحيحة مما بين القوسين:

- (١) ثاني الغزوات التي خاضها المسلمون ضد قريش هي غزوة
(الخندق - خيبر - أحد - بدر)
- (٢) أي مما يلي من أعمال الخليفة أبي بكر الصديق (رضي الله عنه)?
(إنشاء ديوان الجند - تنظيم الشرطة - محاربة المرتدين - وضع التقويم الهجري)
- (٣) أكثر الدول العربية التي تعرضت لخطر الجفاف دولة
(المغرب - الصومال - العراق - البحرين)
- (٤) أولى الدول العربية إنتاجًا للبتروك
(مصر - السودان - ليبيا - السعودية)

(ب) ما النتائج المترتبة على؟

- (١) حدوث الحركات الانكسارية في الوطن العربي.

C

- (٢) التشابه الكبير بين السلع والخدمات التي تنتجها دول الوطن العربي.

C

السؤال الرابع:

(أ) أكمل العبارات التالية بما يناسبها من كلمات:

- (١) أصغر الدول العربية من حيث المساحة هي دولة
- (٢) الزراعة توفر المواد الخام اللازمة ل.....
- (٣) هضبة حزموت توجد في الجناح للوطن العربي.
- (٤) توجد كنيسة القيامة في دولة
- (٥) تنقسم الصناعة إلى استخراجية و

(ب) لمن تنسب الأعمال التاريخية التالية؟

- (١) أرسل عدة جيوش لمحاربة المرتدين. (.....)
- (٢) أمر بإنشاء أول أسطول بحري في الإسلام. (.....)
- (٣) أمر بنقل مقر الخلافة الإسلامية من المدينة إلى الكوفة. (.....)

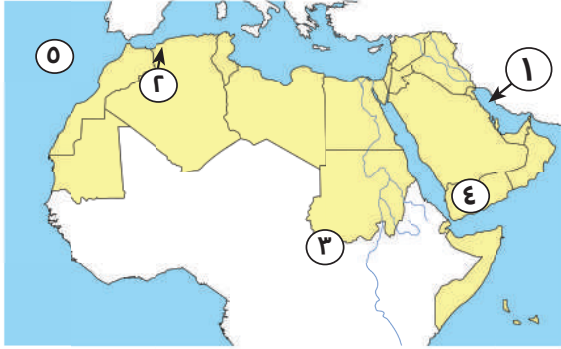




ذاكر معنا

النموذج السابع والعشرون

السؤال الأول:



(أ) أمامك خريطة صماء لمصر، لاحظها ثم أجب:

- (١) الخليج
- (٢) جبال
- (٣) إقليم مناخي
- (٤) دولة تتركز بها زراعة البن
- (٥) المحيط

(ب) بم تفسر؟

(١) توجيه أبي بكر الصديق طاقة الدولة الإسلامية لفتح بلاد الشام والعراق.

.....

(٢) تتعرض الزراعة في وطننا العربي للكثير من المشكلات.

.....

السؤال الثاني:

(أ) أكمل العبارات التالية بما يناسبها من كلمات:

- (١) نظام الحكم السائد في شبه الجزيرة العربية قبل الإسلام هو النظام (١)
- (٢) خصص يوماً للنظر في مظالم الناس هو الخليفة
- (٣) أول حرفة عمل بها الرسول (ﷺ) وهو في بيت عمه هي
- (٤) تساهم الثروة السمكية في وطننا العربي في سد العجز من

(ب) ما العلاقة بين؟

(١) التغيير المناخي والثروة السمكية.

.....

(٢) الهيدروجين الأخضر والصناعة.

.....

السؤال الثالث:

(أ) ضع علامة (✓) أمام العبارة الصحيحة وعلامة (X) أمام العبارة غير الصحيحة:

- () (١) يحد الوطن العربي من جهة الشرق جبال أطلس.
 () (٢) ظهر نظام الخلافة عند المسلمين بعد وفاة الرسول (ﷺ).
 () (٣) يتركز بعض السكان في هضاب الجناح الإفريقي للوطن العربي.
 () (٤) تعد السعودية أولى الدول العربية في تربية الإبل.

(ب) أجب عما يلي:

(١) ما المقصود بـ: الجفاف؟



(٢) دلل على صحة العبارة التالية: أنفق أبو بكر الصديق الكثير من ماله في سبيل خدمة الإسلام.



السؤال الرابع:

(أ) اختر الإجابة الصحيحة مما بين القوسين:

- (١) الغزوة التي تحول فيها نصر المسلمين إلى هزيمة هي
 (بدر - الخندق - أحد - تبوك)
- (٢) آخر الخلفاء الراشدين (رضي الله عنهم) هو الخليفة
 (أبو بكر الصديق - عمر بن الخطاب - عثمان بن عفان - علي بن أبي طالب)
- (٣) من أمثلة الجبال الانكسارية في الوطن العربي جبال
 (كردستان - زاغروس - عمان - عسير)
- (٤) يوحد الصبار في إقليم
 (البحر المتوسط - الاستوائي - الصحراوي - المداري)

(ب) ما النتائج المترتبة على؟ ظهور الإسلام في شبه الجزيرة العربية.

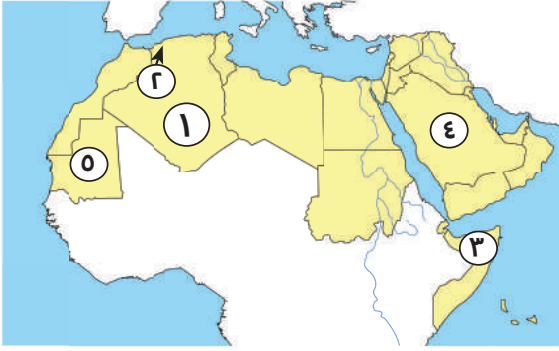




ذاكر معنا

النموذج الثامن والعشرون

السؤال الأول:



(أ) أمامك خريطة صماء لمصر، لاحظها ثم أجب:

- (١) أكبر الدول العربية مساحة
- (٢) جبال
- (٣) أكثر الدول العربية تعرضاً للجفاف
- (٤) أولى الدول العربية إنتاجاً للبتروول
- (٥) أولى الدول العربية إنتاجاً للحديد

(ب) بم تفسر؟

(١) يعد الوطن العربي مطمناً لكثير من الدول عبر العصور.

.....

(٢) تكون الثلوج فوق قمم جبال لبنان.

.....

السؤال الثاني:

(أ) ضع علامة (✓) أمام العبارة الصحيحة وعلامة (X) أمام العبارة غير الصحيحة:

- (١) نزل الوحي على الرسول (ﷺ) وهو في سن العشرين. ()
- (٢) تنمو حشائش السافانا في إقليم البحر المتوسط بالوطن العربي. ()
- (٣) التوسع المستمر في الزراعة يؤدي إلى ندرة المياه العذبة. ()
- (٤) أدت الحواجز الجمركية بين الدول العربية إلى ضعف التجارة البينية. ()

(ب) ما النتائج المترتبة على:

(١) مخالفة الرماة لأوامر الرسول (ﷺ) في غزوة أحد.

.....

(٢) سقوط أمطار شمال الوطن العربي.

.....



السؤال الثالث:

(أ) اختر الإجابة الصحيحة مما بين القوسين:

- (١) محاصيل الحبوب الغذائية
(القطن - التين - الكتان - الذرة)
- (٢) تعد الصومال أولى الدول العربية في تربية
(الأبقار - الجاموس - الدواجن - الإبل)
- (٣) يستخدم في صناعة المبيدات الحشرية
(الحديد - الفوسفات - المنجنيز - الفحم)
- (٤) يعد حضور السياح كأس العالم لكرة القدم بقطر ٢٠٢٢ م سياحة
(ثقافية - ترفيهية - رياضية - بيئية)

(ب) ما العلاقة بين؟

- (١) خام الفوسفات والزراعة في الوطن العربي.
.....
- (٢) حروب المرتدين وجمع القرآن الكريم.
.....

السؤال الرابع:

(أ) من يكون؟

- (١) أول من أسلم من الرجال.
(.....)
- (٢) أشار على النبي (ﷺ) بحفر خندق حول المدينة.
(.....)
- (٣) جمع القرآن الكريم في مصحف واحد.
(.....)
- (٤) أمر المسلمين الأوائل بالهجرة إلى الحبشة.
(.....)

(ب) ماذا يحدث إذا لم؟ تسقط الأمطار على إقليم البحر المتوسط شتاءً.

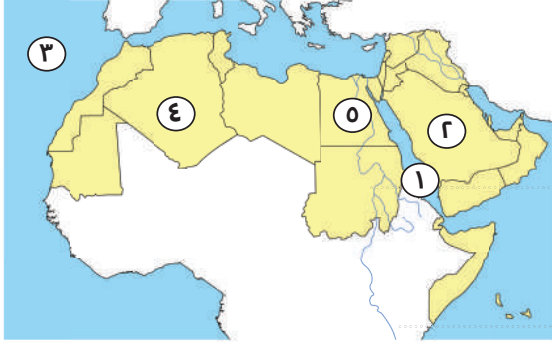
.....



ذاكر معنا

النموذج التاسع والعشرون

السؤال الأول:



(أ) أمامك خريطة صماء لمصر، لاحظها ثم أجب:

- (١) البحر
- (٢) أولى الدول العربية في إنتاج البترول
- (٣) المحيط
- (٤) أكبر الدول العربية من حيث المساحة
- (٥) أولى الدول العربية إنتاجاً للحبوب الغذائية

(ب) بم تفسر؟

(١) كانت الدعوة إلى الإسلام في بدايتها سرية؟

-
- (٢) للتجارة الإلكترونية أهمية كبيرة.
-

السؤال الثاني:

(أ) ضع علامة (✓) أمام العبارة الصحيحة وعلامة (X) أمام العبارة غير الصحيحة:

- (١) ولد النبي (ﷺ) في مكة وكان يتيمًا. ()
- (٢) يتمتع وطننا العربي بكافة مقومات السياحة. ()
- (٣) يقل تأثير المسطحات المائية على مناخ الوطن العربي بشكل عام. ()
- (٤) تكفي اللحوم الحمراء حاجة سكان الوطن العربي. ()

(ب) ما النتائج المترتبة على؟

(١) انخفاض درجة الحرارة على قمم الجبال.

-
- (٢) وجود عيون المياه الكبريتية في مصر.
-

السؤال الثالث:

(أ) أكمل العبارات التالية بما يناسبها من كلمات:



- (١) تحول نصر المسلمين إلى هزيمة في غزوة
- (٢) يمتد بحر الرمال العظيم بين مصر و
- (٣) أولى الدول العربية في تربية الإبل
- (٤) تقع محمية أرز الشوف في دولة
- (٥) زيارة عيون موسى بمصر من أشكال السياحة

(ب) ماذا يحدث إذا لم؟

(١) يخالف الرماة أمر الرسول (ﷺ) في غزوة أحد ٣ هـ.

C

(٢) يقض أبي بكر الصديق على المرتدين.

C

السؤال الرابع:

(أ) اختر الإجابة الصحيحة مما بين القوسين :

- (١) أي مما يلي يعد من أعمال الخليفة عمر بن الخطاب
- (وضع التقويم الهجري - تعيين صاحب الشرطة - نقل مقر الخلافة - أنشأ الأسطول البحري)
- (٢) يسود معظم جنوب الوطن العربي المناخ
- (المعتدل - البارد - الحار - الموسمي)
- (٣) أشهر المراكز التجارية قديمًا
- (الإسكندرية - القاهرة - مطروح - العلمين)
- (٤) انطلقت مبادرة زراعة ٤٥٠ مليون شجرة في دولة
- (السعودية - مصر - الإمارات - عمان)

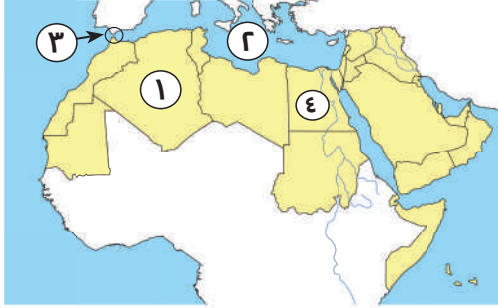
(ب) دلل على صحة العبارة: قدم النبي (ﷺ) مثلًا في التسامح والعفو أثناء فتح مكة.

C



النموذج الثلاثون

السؤال الأول:



(أ) أمامك خريطة صماء لمصر، لاحظها ثم أجب:

- (١) أكبر الدول العربية مساحة هي دولة
- (٢) البحر
- (٣) مضيق
- (٤) أولى الدول العربية إنتاجًا للحبوب الغذائية هي

(ب) بم تفسر؟

(١) أهمية وسائل النقل في الزراعة.

(٢) أهمية معدن الحديد.

السؤال الثاني:

(أ) اختر الإجابة الصحيحة مما بين القوسين:

- (١) تبادل السلع والخدمات باستخدام الإنترنت يسمى
- (مقايضة - تجارة إلكترونية - تجارة خارجية - تجارة بينية)
- (٢) أولى الدول العربية في تربية الدواجن هي
- (السعودية - مصر - المغرب - تونس)
- (٣) تمر جنوب الوطن العربي دائرة
- (القطب الشمالي - الجدي - الاستواء - السرطان)
- (٤) دولة عربية تحتل المرتبة الأولى في إنتاج الحديد
- (اليمن - ليبيا - موريتانيا - مصر)

(ب) أحب عما يلي:

(١) ما المقصود بـ التصحر.

(٢) كان لعمر بن الخطاب دور هام في جمع القرآن الكريم - اثبت صحة العبارة.

السؤال الأول:

(أ) أكمل العبارات التالية بما يناسبها من كلمات:

- (١) زيارة المواقع الأثرية والتراثية في الأقصر هي
- (٢) منظمة الأغذية والزراعة للأمم المتحدة تسمى
- (٣) الصناعة الخضراء تعتمد على الاستثمار الأمثل للموارد
- (٤) فتح المسلمون بلاد العراق والشام ومصر في عهد الخليفة
- (ب) ما العلاقة بين: الزراعة والصناعة الزراعية.

السؤال الثاني:

(أ) ضع علامة (✓) أمام العبارة الصحيحة وعلامة (X) أمام العبارة غير الصحيحة:

- (١) بدأت مرحلة نشر الدعوة الإسلامية عالمياً بعد صلح الحديبية. ()
- (٢) رأس المال من المقومات الطبيعية لقيام الزراعة في الوطن العربي. ()
- (٣) يُعد جبل سانت كاترين بمصر أعلى نقطة في الوطن العربي. ()

(ب) اكتب المصطلح الجغرافي الذي تشير إليه العبارات التالية:

- (١) منطقة جغرافية من سطح الأرض تتسم بخصائص مناخية تميزها عن غيرها.
(.....)
- (٢) نقص كمية الأمطار في بعض السنوات بما لا يسمح بالزراعة أو نمو الحشائش.
(.....)
- (٣) تناقص قدرة الأراضي الزراعية على الإنتاج.
(.....)
- (٤) سياحة تتمثل في زيارة الأماكن المقدسة.
(.....)



مادة

الدراسات الاجتماعية

الصف السادس الابتدائي

6

اختيارك
الأول في
مصر



شركة التأسيس السليم



مذكرتي
Mozkrty.com

بنك الأسئلة

إعداد
نخبة من كبار الأساتذة
المتخصصين



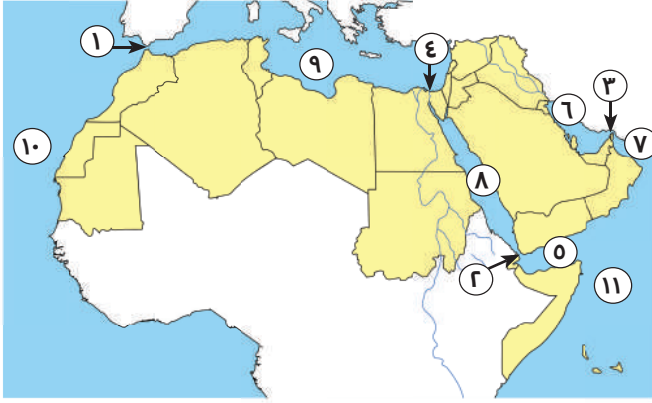
ذاكر معنا

بنك أسئلة

لاحظ الخرائط الآتية، ثم أجب:

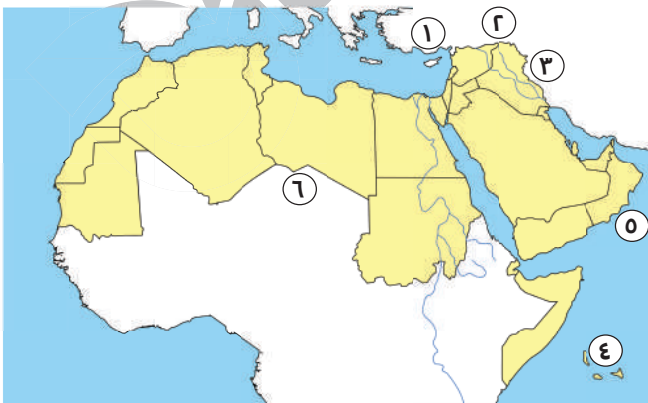
١

(أ) أمامك خريطة صماء للوطن العربي، أجب من خلالها عما يأتي:



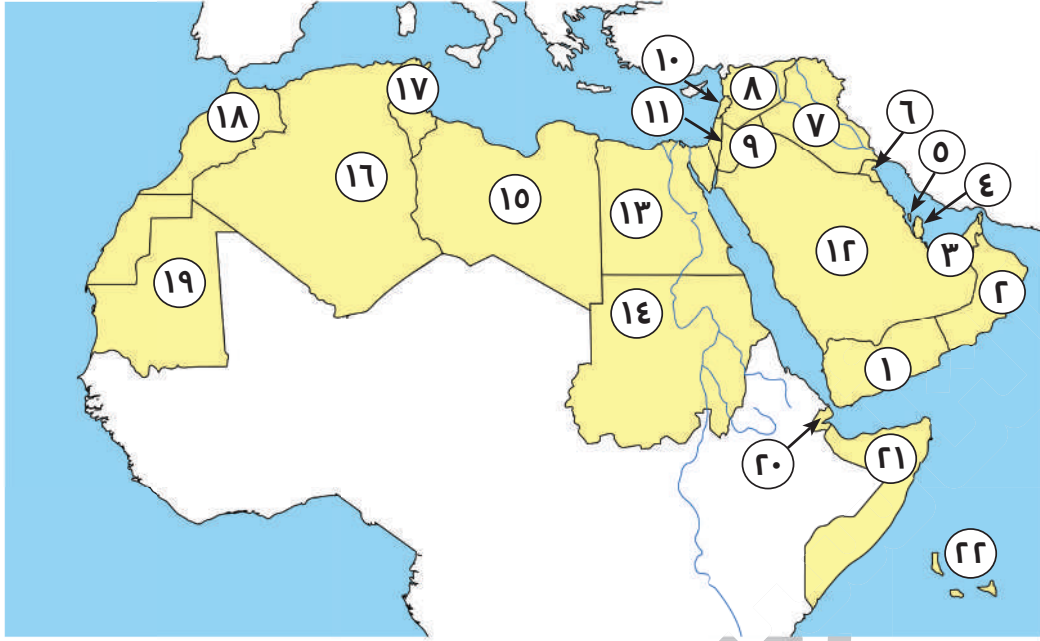
- (١) يشير رقم (١) إلى مضيق
- (٢) يشير رقم (٢) إلى مضيق
- (٣) يشير رقم (٣) إلى مضيق
- (٤) يشير رقم (٤) إلى
- (٥) يشير رقم (٥) إلى خليج
- (٦) يشير رقم (٦) إلى الخليج
- (٧) يشير رقم (٧) إلى خليج
- (٨) يشير رقم (٨) إلى
- (٩) يشير رقم (٩) إلى
- (١٠) يشير رقم (١٠) إلى
- (١١) يشير رقم (١١) إلى

(ب) أمامك خريطة صماء للوطن العربي، أجب من خلالها عما يأتي:

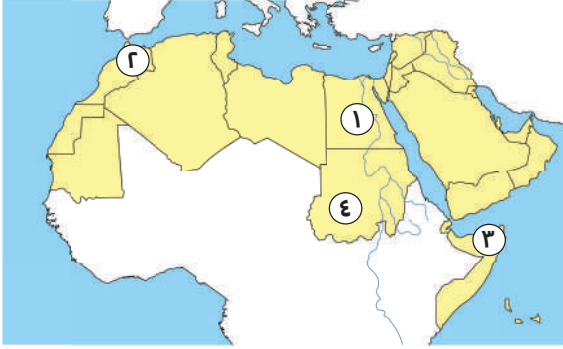


- (١) يشير رقم (١) إلى جبال
- (٢) يشير رقم (٢) إلى جبال
- (٣) يشير رقم (٣) إلى جبال
- (٤) يشير رقم (٤) إلى
- (٥) يشير رقم (٥) إلى
- (٦) يشير رقم (٦) إلى

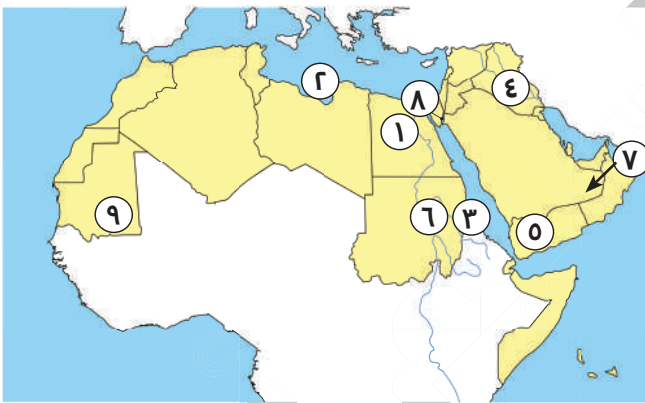
(ج) أهامك خريطة صماء للوطن العربي، ادرسها جيداً وأكمل الجدول التالي:



دول الجناح العربي الإفريقي	دول الجناح العربي الآسيوي
..... (١٣)	(١) اليمن
السودان (١٤) (٢)
ليبيا (١٥)	(٣) الإمارات
..... (١٦)	(٤) قطر
..... (١٧) (٥)
المغرب (١٨)	(٦) الكويت
موريتانيا (١٩) (٧)
جيبوتي (٢٠)	(٨) سوريا
..... (٢١) (٩)
..... (٢٢) (١٠)
	(١١) فلسطين
 (١٢)

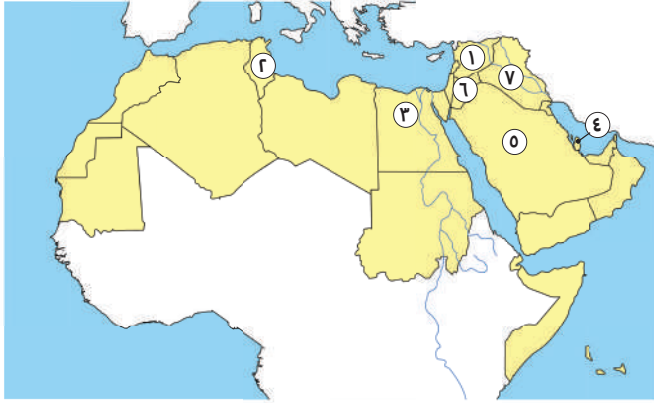
(د) أمامك خريطة صماء للوطن العربي، أجب عما يلي:

- (١) أولى الدول العربية في تربية
 • أو أولى الدول العربية تربية للجاموس
 (٢) أولى الدول العربية في إنتاج الأسماك من
 (٣) أولى الدول العربية في تربية
 • أو أولى الدول في تربية الإبل
 (٤) أولى الدول العربية في تربية الأبقار

(هـ) أمامك خريطة صماء للوطن العربي، أجب عما يلي:

- (١) أولى الدول العربية إنتاجًا للمحاصيل السكرية والحبوب الغذائية
 • أو دولة تنتج التمر
 • أو أول دولة الإنتاج الحبوب الغذائية
 • أو دولة بها واحة سيوة
 (٢) البحر
 (٣) البحر
 (٤) دولة تعتمد على مياه الأنهار في الزراعة
 • أو دولة بها نهرا دجلة والفرات
 (٥) تحتل الدولة رقم (٥) المركز الأول في زراعة
 (٦) دولة تتركز بها زراعة الكتان والقطن
 (٧) دولة يتم فيها زراعة الواحات اعتمادًا على المياه الجوفية
 (٨) دولة يزرع بها العنب
 (٩) تعتمد الزراعة في المنطقة رقم (٩) على مياه

**(و) أمامك خريطة صماء للوطن العربي،
أجب عما يلي:**



(١) دولة بها مدينة تدمر

(٢) دولة بها سياحة ثقافية

● أو دولة فيها مدينة القيروان

(٣) دولة بها سياحة ترفيهية

● دولة بها سياحة ثقافية

● أو دولة عربية بها أول عاصمة للسياحة العربية

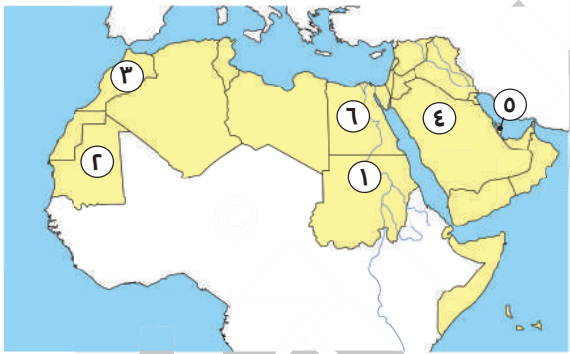
دولة بها عاصمة السياحة العربية عام ٢٠٢٣م

دولة تنتشر بها السياحة الدينية

(٤) دولة بها عين ماعين

(٥) دولة بها مدينة بابل

**(ز) أمامك خريطة صماء للوطن العربي،
أجب عما يلي:**



(١) أولى الدول العربية في إنتاج معدن الذهب

أولى الدول العربية إنتاجًا للحديد

(٢) أولى الدول العربية إنتاجًا للفوسفات

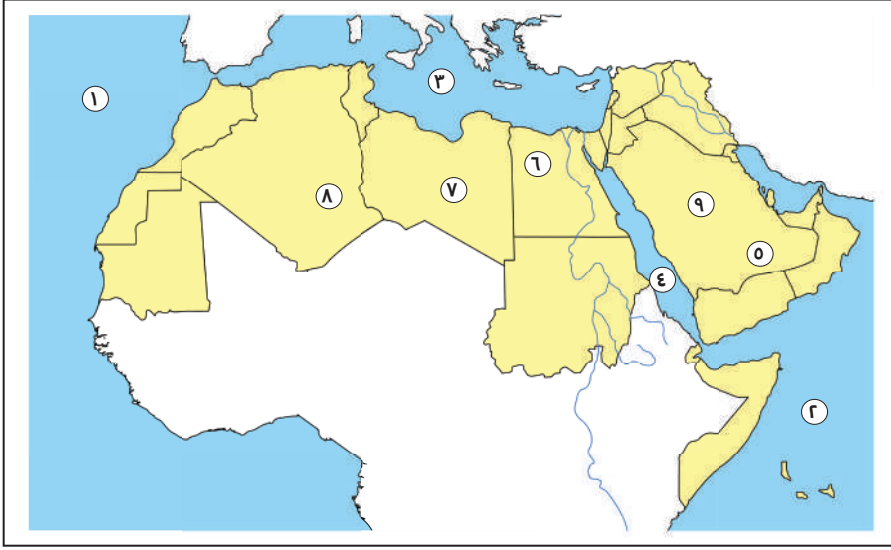
(٣) أولى الدول العربية إنتاجًا للبتروك

● أولى الدول العربية صناعة للأسمنت

(٤) أولى الدول العربية إنتاجًا للغاز الطبيعي

أولى الدول العربية إنتاجًا للحديد والصلب

(ح) لاحظ خريطة الوطن العربي التي أمامك ثم اكتب مدلول الأرقام عليها:



(١) المحيط الأطلسي.

(٢) المحيط الهندي.

(٣) البحر المتوسط.

(٤) البحر الأحمر.

(٥) وادي جاف الدواسر.

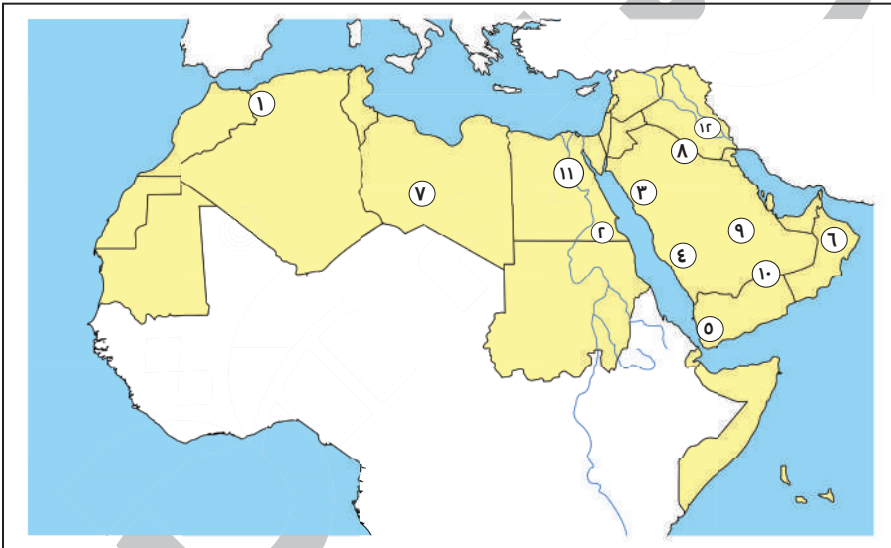
(٦) واحة سيوة.

(٧) واحة الكفرة.

(٨) واحة عين صالح.

(٩) صواب أم خطأ يشير رقم (٩) إلى هضبة حضرموت (خطأ).

(ط) لاحظ خريطة الوطن العربي التي أمامك ثم أجب:



(١) جبال

(٢) جبال

(٣) جبال

(٤) جبال

(٥) مرتفعات

(٦) جبال

(٧) هضبة

(٨) هضبة

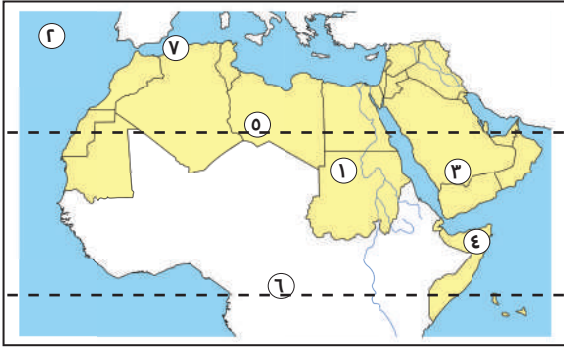
(٩) هضبة

(١٠) هضبة

(١١) نهر أو سهول

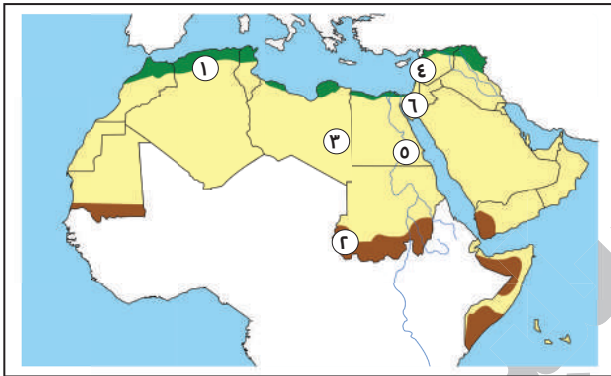
(١٢) نهرا

(ك) لاحظ خريطة الوطن العربي التي أمامك ثم اكتب مدلول الأرقام عليها:



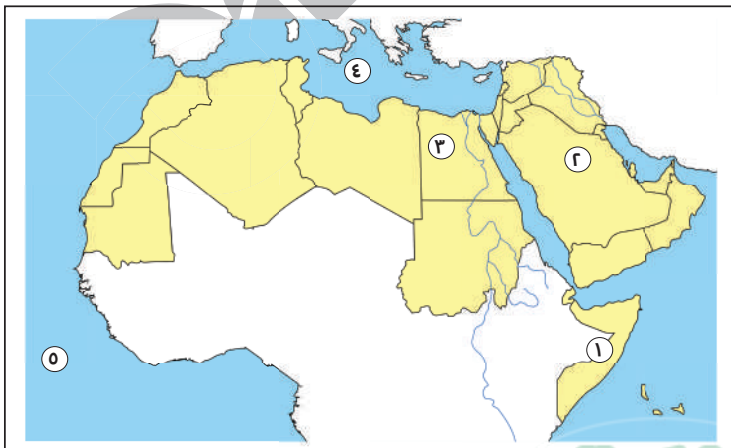
- (١) صواب أم خطأ يشير رقم (١) لمدينة ساحلية (خطاً)
 (٢) المحيط
 (٣) تسقط على المرتفعات رقم (٣) أمطار
 (٤) دولة تسقط عليها أمطار موسمية هي
 (٥) مدار
 (٦) دائرة
 (٧) صواب أم خطأ يشير رقم (٧) لإحدى المدن الداخلية ()

(ل) لاحظ خريطة الوطن العربي التي أمامك ثم اكتب مدلول الأرقام عليها:



- (١) إقليم
 (٢) إقليم
 (٣) إقليم
 (٤) دولة تقع عليها محمية أرز الشوف
 (٥) إحدى المحميات الطبيعية المصرية
 (٦) دولة تقع عليها محمية ضانا

(ن) لاحظ خريطة الوطن العربي التي أمامك ثم اكتب مدلول الأرقام عليها:



- (١) الدولة التي تعرضت لأكبر موجة جفاف تمثل رقم
 (٢) دولة أعلنت بناء مدينة نيوم الخضراء
 تمثل رقم
 (٣) أطلقت مبادرة لزراعة ١٠٠ مليون شجرة
 ثمرة في الدولة رقم
 البحر
 (٤) المحيط

أكمل العبارات الآتية بما يناسبها:

- (٣) تقع مصر بين مجموعة من الدول العربية يطلق عليها
- (٤) تجمع بين الدول العربية مجموعة من العوامل المشتركة هي ،
- (٥) يقع الوطن العربي وسط ثلاث قارات هم و و
- (٦) تمتد أراضي الوطن العربي عبر قارتي و
- (٧) كل أراضي الوطن العربي في نفس النطاق عدا دولة
- (٨) تقع دولة جزر القمر في المحيط
- (٩) يحد الوطن العربي من جهة الشمال و
- (١٠) يحد الوطن العربي من جهة الجنوب و و
- (١١) يحد الوطن العربي من جهة الشرق ، ، ،
- يحد الوطن العربي من جهة الغرب
- (١٢) تبلغ مساحة الوطن العربي
- (١٣) يضم الوطن العربي دولة.
- (١٤) عدد دول الجناح الآسيوي والإفريقي
- (١٥) يمثل الجناح الآسيوي من مساحة الوطن العربي.
- (١٦) يشغل الجناح الأفريقي من مساحة الوطن العربي.
- (١٧) أكبر دولة عربية من حيث المساحة وأصغرها
- (١٨) يتحكم الوطن العربي في مضائق هامة هي و و
- يتحكم الوطن العربي في ممرات مائية هامة مثل
- (١٩) يشرف الوطن العربي على مسطحات مائية هي و و

- (٢٠) كان الوطن العربي مهذاً لكثير من الديانات السماوية مثل و و
- (٢١) يضم الوطن العربي أماكن دينية مقدسة مثل و و
- (٢٢) من الحضارات التي قامت على أرض الوطن العربي و و
- (٢٣) يطل الوطن العربي على المحيط و والمحيط و
- (٢٤) كان نظام الحكم السائد في شبه الجزيرة العربية هو النظام و
- (٢٥) أشهر القبائل العربية قبيلة و
- (٢٦) عرف عن العرب و وحبهم و
- (٢٧) كانت الحرفة السائدة في شبه الجزيرة العربية هي و
- (٢٨) من أشهر الرحلات التجارية عند العرب رحلة الصيف إلى و والشتاء إلى
- (٢٩) أشهر الصناعات الخفيفة عند العرب و و و
- (٣٠) اشتهر العرب ببعض الصفات الحسنة مثل و و
- (٣١) عرف عن العرب بعض العادات السيئة مثل،
- (٣٢) اختفت العادات السيئة مع ظهور وانتشرت الأخلاق الحميدة.
- (٣٣) سمي العام الذي ولد فيه الرسول بعام
- (٣٤) ولد الرسول (ﷺ) في مدينة
- (٣٥) اشتهر الرسول (ﷺ) بالصدق والأمانة لذلك لقب بـ
- (٣٦) عمل الرسول (ﷺ) بحرفة وهو في بيت عمه.
- (٣٧) عمل الرسول بحرفتي
- (٣٨) نزل سيدنا جبريل (عليه السلام) بالوحي على سيدنا محمد (ﷺ) في سن
- (٣٩) كان الرسول (ﷺ) يخلو بنفسه في ليفكر ويتأمل في الكون.
- (٤٠) نزل الوحي على الرسول (ﷺ) في إحدى ليالي شهر
- (٤١) كانت أول كلمة يتلقاها الرسول (ﷺ) من الوحي هي كلمة

- (٤٢) المرحلة الأولى والثانية من الدعوة الإسلامية كانت في
- (٤٣) مرحلة بناء الدولة الإسلامية وعالمية الدعوة كانت بعد هجرة الرسول (ﷺ) إلى
- (٤٤) استمرت الدعوة الإسلامية لمدة
- (٤٥) أول من أسلم من النساء ومن الرجال ومن الصبيان
- (٤٦) رفضت قبيلة دعوة الرسول (ﷺ).
- (٤٧) أول هجرة للمسلمين كانت إلى دون الرسول (ﷺ).
- (٤٨) هجرة الرسول (ﷺ) والمسلمين معًا كانت إلى
- (٤٩) قامت حضارة بلاد العراق في الجناح العربي
- (٥٠) اجتمع زعماء قريش في وتآمروا على قتل الرسول (ﷺ).
- (٥١) هاجر الرسول (ﷺ) في سرية تامة مع صديقه
- (٥٢) أطلق الرسول (ﷺ) على يثرب اسم بعد الهجرة إليها.
- (٥٣) أول عمل قام به الرسول (ﷺ) بعد الهجرة إلى المدينة هو
- (٥٤) قام الرسول (ﷺ) بـ بين المهاجرين والأنصار.
- (٥٥) وضع الرسول (ﷺ) لتنظيم العلاقة بين المسلمين والطوائف الأخرى بالمدينة.
- (٥٦) قام الرسول (ﷺ) بـ لحماية الدين الإسلامي والدفاع عن النفس ضد المشركين.
- (٥٧) تحول نصر المسلمين إلى هزيمة في غزوة
- (٥٨) أشار على النبي بحفر خندق حول المدينة.
- (٥٩) انتصر المسلمين على قريش وحلفائها دون قتال في غزوة
- (٦٠) بدأت عالمية الدعوة الإسلامية بعد صلح
- (٦١) منعت قريش المسلمين من دخول مكة لـ
- (٦٢) تم عقد والاتفاق فيه على هدنة بين قريش والمسلمين.
- (٦٣) اعتدت قريش على قبيلة حليفة الرسول (ﷺ).
- (٦٤) دعا الرسول (ﷺ) أهل يثرب إلى الإسلام في موسم

- (٦٥) هاجر الرسول (ﷺ) إلى يثرب وأخي بين و
- (٦٦) عندما اشتد إيذاء قريش للرسول (ﷺ) أمر أصحابه بالهجرة إلى
- (٦٧) تأثر المسلمون بالفكر العسكري الفارسي في غزوة
- (٦٨) وقع الاختيار على خليفة للمسلمين بعد وفاة الرسول (ﷺ).
- (٦٩) أرسل أبو بكر (رضي الله عنه) جيش الذي جهزه الرسول (ﷺ) قبل وفاته إلى الشام.
- (٧٠) حارب أبو بكر الصديق (رضي الله عنه) حتى عادوا إلى الإسلام مرة أخرى.
- (٧١) أمر الخليفة أبو بكر (رضي الله عنه) بجمع القرآن الكريم.
- (٧٢) قبل وفاة أبي بكر الصديق (رضي الله عنه) أوصى (رضي الله عنه) بتوليته الخلافة من بعده.
- (٧٣) وضع عمر بن الخطاب (رضي الله عنه) الذي يبدأ بهجرة الرسول (ﷺ) إلى المدينة.
- (٧٤) فُتحت في عهد عمر بن الخطاب (رضي الله عنه) و و
- (٧٥) أنشأ الخليفة عمر بن الخطاب (رضي الله عنه) عدة دواوين مثل و
- (٧٦) تم كتابة القرآن الكريم في مصحف واحد في عهد الخليفة
- (٧٧) أمر بإنشاء أول أسطول بحري في الإسلام.
- (٧٨) قام بنقل مقر الخلافة من الكوفة إلى العراق.
- (٧٩) قام الخليفة علي بن أبي طالب (رضي الله عنه) بتنظيم لحراسة بيت المال.
- (٨٠) انتهى عصر الخلفاء الراشدين بنهاية حكم
- (٨١) خصص يوماً للنظر في مظالم الناس الخليفة
- (٨٢) ظهر المرتدون ورفضوا دفع الزكاة في عهد الخليفة
- (٨٣) استشهد الكثير من حفظة القرآن الكريم في حروب

- (٨٤) تكونت السهول الفيضية بسبب
- (٨٥) الأجزاء الشمالية من الوطن العربي يسودها المناخ
- (٨٦) يسود المناخ المعتدل الأجزاء من الوطن العربي.
- (٨٧) تمر دائرة جنوب الوطن العربي.
- (٨٨) المناطق البعيدة عن المسطحات المائية هي المناطق
- (٨٩) يسود معظم أجزاء الوطن العربي صيفًا مناخ
- (٩٠) تسقط الأمطار على مرتفعات عسير في فصل
- (٩١) الرياح الباردة تهب على الوطن العربي من أوروبا
- (٩٢) يتسم فصل الصيف في الوطن العربي بالجفاف فيما عدا مرتفعات حيث تسقط أمطار موسمية.
- (٩٣) تنتشر في إقليم البحر المتوسط أشجار و
- (٩٤) تتعرض الحياة البرية في مصر لعدة مخاطر بسبب و
- (٩٥) يحدث الجفاف بسبب نقص كمية في بعض السنوات.
- (٩٦) يسود الوطن العربي أقاليم مناخية كبرى.
- (٩٧) يسود معظم مساحة الوطن العربي إقليم المناخ
- (٩٨) يقع الإقليم المداري في الوطن العربي.
- (٩٩) تعيش الزرافات والأسود في حشائش
- (١٠٠) تسقط أمطار الإقليم المناخي المداري في فصل 📖
- (١٠١) تربي الماعز والأغنام على حشائش الإستبس في إقليم مناخ
- (١٠٢) تنتشر في إقليم نباتات مثل أشجار الأرز والزيتون والصنوبر.
- (١٠٣) يسود المناخ المعتدل في الوطن العربي بالأجزاء
- (١٠٤) تنمو حشائش السافانا في إقليم مناخ
- (١٠٥) الإقليم الصحراوي يتميز بمناخ معتدل نهارًا في فصل
- (١٠٦) تنتشر في إقليم البحر المتوسط أشجار

- (١٠٧) يتميز إقليم البحر المتوسط بسقوط الأمطار في فصل
- (١٠٨) ينتمي شمال العراق إلى إقليم مناخ
- (١٠٩) تقع بلاد المغرب ومصر وليبيا ضمن إقليم
- (١١٠) تقع محمية أرز الشوف بدولة
- (١١١) تقع محمية ضانا في الوطن العربي بدولة
- (١١٢) من أشهر المحميات الطبيعية في دولة لبنان محمية
- (١١٣) تناقص قدرة الأراضي الزراعية على الإنتاج، تشير هذه العبارة إلى مصطلح
- (١١٤) تناقص مخزون المياه الجوفية أدى إلى حدوث
- (١١٥) تناقص كمية الأمطار بما لا يسمح بالزراعة ونمو الحشائش يسمى
- (١١٦) أكثر الدول العربية التي تعرضت لخطر الجفاف دولة
- (١١٧) الإفراط في استخدام الأسمدة الكيماوية من أسباب مشكلة
- (١١٨) يتعرض الوطن العربي إلى مشكلة التصحر بسبب التوسع
- (١١٩) يمكن حدوث التصحر بسبب استخدام طرق الري
- (١٢٠) يمكن حل المشكلات البيئية عن طريق زيادة
- (١٢١) يقلل إنشاء المدن الذكية من انبعاث
- (١٢٢) انطلقت مبادرة زراعة ٤٥٠ مليون شجرة في دولة
- (١٢٣) أطلقت المملكة السعودية مبادرة لزيادة المساحات الخضراء عن طريق مدينة
- (١٢٤) أتقن عمر بن الخطاب العديد من الرياضات مثل و
- (١٢٥) من الذين أسلموا على يد أبي بكر الصديق و
- (١٢٦) اشتغل عمر بن الخطاب
- (١٢٧) أطلق الرسول (ﷺ) على أبي بكر لقب
- (١٢٨) ولد أبو بكر الصديق رضي الله عنه في مدينة
- (١٢٩) استشهد عمر بن الخطاب على يد

- (١٣٠) أعلى نقطة في وطننا العربي هي جبل توبقال دولة ا
- (١٣١) أدنى نقطة في الوطن العربي هي
- (١٣٢) أدنى نقطة في الوطن العربي والعالم البحر الميت تقع في الجناح العربي ا
- (١٣٣) يوجد في وطننا العربي نوعان من الجبال، هما جبال وجبال
- (١٣٤) تقع جبال أطلس بالوطن العربي في الجناح
- (١٣٥) من أمثلة الجبال الالتوائية بالوطن العربي جبال
- (١٣٦) تعد جبال الحجاز وعسير في الوطن العربي من الجبال
- (١٣٧) أكثر مظاهر السطح انتشارًا بالوطن العربي
- (١٣٨) يحد هضبة إفريقيا الشمالية من جهة الشمال البحر
- (١٣٩) من هضاب الجناح الآسيوي هضبة
- (١٤٠) تقع هضبة نجد في الجناح العربي
- (١٤١) من هضاب الجناح الآسيوي هضبة وهضبة وهضبة
- (١٤٢) تقوم الزراعة بواحة عين صالح اعتمادًا على
- (١٤٣) يقع وادي الدواسر في دولة
- (١٤٤) من أمثلة الأودية الجافة بالسعودية وادي
- (١٤٥) تعد سهول نهري دجلة والفرات من السهول
- (١٤٦) الصادرات بين دول الوطن العربي وباقي دول العالم تسمى
- (١٤٧) يستورد الوطن العربي المنتجات الصناعية و
- (١٤٨) تسهم التجارة في الوطن العربي في توفير
- (١٤٩) من المراكز التجارية العربية قديمًا
- (١٥٠) من أسباب ضعف التجارة البينية العربية التشابه بين و
- (١٥١) التبادل التجاري عن طريق الإنترنت يعد تجارة
- (١٥٢) الصادرات والواردات من السلع والخدمات بين الدول العربية تسمى

- (١٥٣) ترتبط تربية الجاموس في مصر بالبيئة
- (١٥٤) تناقص أعداد الحيوانات بالوطن العربي بسبب
- (١٥٥) تعد دولة السودان أولى الدول العربية في تربية كل من الأبقار والأغنام و و
توفر الثروة الحيوانية للصناعة المواد الخام مثل و و
- (١٥٦) أكبر الدول العربية في تربية الأغنام هي
- (١٥٧) تعد أولى الدول العربية في تربية الجاموس دولة
- (١٥٨) الصومال هي أكبر الدول العربية في تربية
- (١٥٩) تسهم الدواجن في سد العجز من
- (١٦٠) ارتفاع درجة حرارة المسطحات المائية يؤثر بالسلب على الثروة
- (١٦١) أولى الدول العربية في تربية الدواجن هي
- (١٦٢) تعد المغرب أولى الدول العربية في إنتاج الأسماك من
- (١٦٣) تهتم الدول العربية بتربية الدواجن مثل و
- (١٦٤) تساهم الثروة السمكية في وطننا العربي في سد العجز من
- (١٦٥) دولة تحتل المرتبة الثانية بالوطن العربي إنتاجًا للذهب
- (١٦٦) أولى الدول العربية إنتاجًا للبتروول هي
- (١٦٧) أولى الدول العربية في صناعة الصلب
- (١٦٨) أولى الدول العربية في إنتاج الذهب
- (١٦٩) تعد موريتانيا أولى الدول العربية إنتاجًا لمعدن
- (١٧٠) يستخدم خام الفوسفات في صناعة الأسمدة
- (١٧١) تنقسم الصناعة إلى صناعة و
- (١٧٢) معدن يدخل في علاج بعض الأمراض وصناعة الحلي
- (١٧٣) استخراج المعادن ومصادر الطاقة من الصناعات
- (١٧٤) صناعة يتم من خلالها تحويل المواد الخام إلى منتجات؛ يقصد بذلك الصناعة

- (١٧٥) المواد الخام من المقومات اللازمة لقيام
- (١٧٦) ينتج الوطن العربي ربع إنتاج العالم من
- (١٧٧) تشتهر مدينة القيروان بتونس بالسياحة
- (١٧٨) زيارة آثار مدينة بابل تُعد سياحة
- (١٧٩) حضور السياح لكأس العالم لكرة القدم يُعد سياحة
- (١٨٠) زيارة شواطئ لبنان ومصر والمغرب تُعد سياحة
- (١٨١) زيارة عيون موسى تُعد سياحة
- (١٨٢) زيارة عين ماعين بالأردن تُعد سياحة
- (١٨٣) قيامك برحلة إلى المناطق الصحراوية تعتبر سياحة
- (١٨٤) دولة عربية يوجد على أرضها المسجد الأقصى
- (١٨٥) تقع مدينة بابل في دولة
- (١٨٦) من مواقع السياحة في الوطن العربي في سوريا.
- (١٨٧) من الأماكن المقدسة في الوطن العربي و في مصر.
- (١٨٨) من القطاعات ذات الصلة بالسياحة في الوطن العربي
- (١٨٩) من الأماكن المقدسة في الوطن العربي بالسعودية.
- (١٩٠) تنتشر أضخم المراكز التجارية في و بالوطن العربي.
- (١٩١) ساعدت التجارة في عصر الدولة الإسلامية على نشر
- (١٩٢) شراء مصر لبعض السلع من دولة السعودية يُعد تجارة
- (١٩٣) تستحوذ كل من السعودية والإمارات وعمان على نحو ٩٠% من صادرات دولة
- يستورد الوطن العربي بعض السلع الغذائية منها القمح و
- (١٩٤) أشهر المراكز التجارية الإسلامية قديمًا البصرة والإسكندرية و
- (١٩٥) ظهرت التجارة الإلكترونية نتيجة

- (١٩٦) لتنمية التجارة البينية العربية تقوم الدول بإنشاء و إقامة
- (١٩٧) تأسست المنظمة العربية عام ١٩٧٢م.
- (١٩٨) يوجد مقر المنظمة العربية للسياحة في مدينة بالسعودية.
- (١٩٩) من أهداف المنظمة العربية للتنمية الزراعية دعم
- (٢٠٠) يوجد مقر المنظمة العربية للتنمية الزراعية في مدينة بالسودان.



ضع علامة (✓) أمام العبارة الصحيحة وعلامة (X) أمام العبارة غير الصحيحة:

- () (٤) تمتد أراضي الوطن العربي في قارتي (آسيا وإفريقيا).
- () (٥) تقع دولة جزر القمر في المحيط الهندي.
- () (٦) تنتشر الخلجان في الجانب الشرقي من الوطن العربي.
- () (٧) يطل الوطن العربي على المحيط الهندي فقط.
- () (٨) يفصل بين الجناح الإفريقي والجناح الآسيوي البحر الأحمر.
- () (٩) تقع جزر مدغشقر ضمن نطاق الدول العربية.
- () (١٠) يمر بالوطن العربي مدار السرطان ودائرة الاستواء.
- () (١١) يمر بالوطن العربي خط الطول الرئيسي.
- () (١٢) تبلغ مساحة الوطن العربي ١٣ مليون كم^٢.
- () (١٣) يتساوى الجناح العربي الإفريقي والآسيوي في المساحة وعدد الدول.
- () (١٤) أكبر الدول العربية من حيث المساحة هي الجزائر وتقع في الجناح الإفريقي.
- () (١٥) أصغر الدول العربية من حيث المساحة هي البحرين وتقع في الجناح الآسيوي.
- () (١٦) يحد الوطن العربي من جهة الشمال البحر المتوسط وجبال زاغروس.
- () (١٧) قامت على أرض الوطن العربي عدة حضارات منها حضارة بلاد العراق القديم.
- () (١٨) يتحكم الوطن العربي في أهم الطرق التجارية العالمية.
- () (١٩) تشرف دولة السودان على مضيق باب المندب.
- () (٢٠) جيبوتي من دول الجناح الإفريقي.
- () (٢١) الجزائر وموريتانيا من دول الجناح الآسيوي.
- () (٢٢) توجد كنيسة القيامة في دولة الأردن.
- () (٢٣) كان النظام السائد في شبه الجزيرة العربية هو النظام القبلي.
- () (٢٤) أشهر القبائل العربية هي قبيلة قريش في مكة.
- () (٢٥) كانت الحرفة السائدة في شبه الجزيرة العربية هي رعي الأغنام.
- () (٢٦) نجح أبرهة الحبشي في هدم الكعبة.

- (٢٧) كان الرسول (ﷺ) يخلو بنفسه في غار حراء للتأمل في قدرة الله.
- (٢٨) تزوج الرسول (ﷺ) السيدة خديجة.
- (٢٩) أول عمل قام به الرسول (ﷺ) كان التجارة وهو في بيت عمه.
- (٣٠) عمل الرسول (ﷺ) برعي الأغنام حتى لا يكون عبئاً على عمه.
- (٣١) نزل الوحي على سيدنا محمد (ﷺ) في غار حراء في إحدى ليالي شهر شعبان.
- (٣٢) تغيرت حياة شبه الجزيرة العربية للأفضل بعد دعوة الرسول (ﷺ) إلى الإسلام.
- (٣٣) حاول أبرهة الحبشي هدم الكعبة في نفس عام ولادة الرسول (ﷺ).
- (٣٤) كان الرسول (ﷺ) يتأمل في الكون وقدرة الله وهو في غار حراء.
- (٣٥) كانت مرحلة بناء الدولة وصد أذى المشركين في مكة.
- (٣٦) بدأت الدعوة إلى الإسلام سرّاً في المدينة.
- (٣٧) أول من أسلم من الرجال مع الرسول (ﷺ) صديقه أبو بكر الصديق (رضي الله عنه).
- (٣٨) حاربت قريش دعوة الرسول (ﷺ) منذ لحظتها الأولى.
- (٣٩) عرضت قريش المال والسلطة على الرسول (ﷺ) لكي يستمر في الدعوة إلى الإسلام.
- (٤٠) حاصرت قريش المسلمين وقاطعتهم.
- (٤١) واجه الرسول (ﷺ) رفض قريش للدين الإسلامي بالحكمة والأساليب السلمية.
- (٤٢) حث الرسول (ﷺ) المسلمين على الصبر وتحمل أذى المشركين لهم.
- (٤٣) أول هجرة للمسلمين كانت إلى المدينة.
- (٤٤) هاجر المسلمون إلى الحبشة دون الرسول (ﷺ) بسبب أذى المشركين في مكة.
- (٤٥) لجأ الرسول (ﷺ) إلى نشر دعوته بين القبائل العربية في موسم الحج.
- (٤٦) استجاب وفد من أهل يثرب إلى الرسول (ﷺ) ودخلوا في الإسلام.
- (٤٧) فكر الرسول (ﷺ) في الهجرة إلى يثرب بسبب تزايد أذى المشركين.
- (٤٨) كانت مكة تقوم برحلة واحدة إلى اليمن في الشتاء.
- (٤٩) نزل جبريل (عليه السلام) برسالة الإسلام على الرسول (ﷺ) في سن الأربعين.
- (٥٠) مرت الدعوة الإسلامية بأربع مراحل وكانت أول مرحلتين في مكة.
- (٥١) أول من أسلم من الرجال هو عمر بن الخطاب (رضي الله عنه).

- () (٥٢) عمل الرسول (ﷺ) بحرفة الزراعة وتعلم منها الرحمة والرأفة.
- () (٥٣) استمرت المرحلة الأولى من الدعوة السرية خمس سنوات.
- () (٥٤) اجتمع زعماء قريش في دار الندوة وتأمروا على قتل الرسول (ﷺ).
- () (٥٥) أدركت قريش خطورة تجمع المسلمين فحاولت منع الرسول (ﷺ) من الهجرة.
- () (٥٦) هاجر الرسول (ﷺ) ليلاً وفي سرية تامة مع صديقه أبي بكر الصديق (رضي الله عنه).
- () (٥٧) اختار الرسول (ﷺ) طريقاً غير معروف حتى وصل إلى يثرب.
- () (٥٨) أطلق الرسول (ﷺ) على يثرب اسم (المدينة).
- () (٥٩) كان المسجد في المدينة مركزاً للعبادة فقط.
- () (٦٠) عمل الرسول (ﷺ) على المؤاخاة بين المهاجرين والأنصار.
- () (٦١) وضع الرسول (ﷺ) صحيفة المدينة لتنظيم علاقة المسلمين بالطوائف الأخرى.
- () (٦٢) انتصر المسلمون في جميع الغزوات ما عدا غزوة (أحد).
- () (٦٣) خالف الرماة أوامر النبي (ﷺ) وتركوا أماكنهم على جبل أحد.
- () (٦٤) أشار أبو بكر الصديق (رضي الله عنه) على النبي (ﷺ) بحفر خندق حول المدينة.
- () (٦٥) بدأت عالمية الدعوة الإسلامية بعد فتح الرسول (ﷺ) لمكة.
- () (٦٦) صلح الحديبية كان هدنة بين المسلمين وقريش.
- () (٦٧) فتح الرسول (ﷺ) مكة بسبب اعتداء قريش على قبيلة خزاعة.
- () (٦٨) قدم الرسول (ﷺ) مثلاً عظيماً في التسامح حيث عفا عن أهل مكة.
- () (٦٩) تزايد عدد المسلمين بعد فتح الرسول (ﷺ) لمكة.
- () (٧٠) خرج الرسول (ﷺ) لأدائه فريضة الحج في العام العاشر من الهجرة.
- () (٧١) توفي الرسول (ﷺ) في العام التالي لأداء فريضة الحج.
- () (٧٢) كان أول خليفة للمسلمين بعد وفاة الرسول (ﷺ) أبو بكر الصديق (رضي الله عنه).
- () (٧٣) جعل الرسول (ﷺ) عمر بن الخطاب (رضي الله عنه) إماماً للمسلمين في أثناء مرضه.
- () (٧٤) شارك أبو بكر الصديق (رضي الله عنه) الرسول (ﷺ) في جميع الغزوات.
- () (٧٥) قام الرسول (ﷺ) بالغزوات لحماية الدين الإسلامي والدفاع عن النفس ضد المشركين.

- () (٧٦) أرسل أبو بكر الصديق (رضي الله عنه) جيش أسامة بن زيد (رضي الله عنهما) الذي جهزه الرسول.
- () (٧٧) جهز الرسول (ﷺ) جيش أسامة بن زيد (رضي الله عنهما) قبل وفاته لمحاربة الفرس.
- () (٧٨) ادعى مسيلمة الكذاب النبوة بعد وفاة الرسول (ﷺ).
- () (٧٩) أمر الخليفة أبو بكر الصديق (رضي الله عنه) أسامة بن زيد (رضي الله عنهما) بجمع القرآن الكريم.
- () (٨٠) أوصى أبو بكر الصديق (رضي الله عنه) لعثمان بن عفان (رضي الله عنه) بالخلافة من بعده.
- () (٨١) وضع عمر بن الخطاب (رضي الله عنه) التقويم الهجري الذي يبدأ بهجرة الرسول (ﷺ) من مكة إلى المدينة.
- () (٨٢) فتح عمر بن الخطاب (رضي الله عنه) كلاً من مصر والشام والعراق وبلاد فارس.
- () (٨٣) أنشأ عمر بن الخطاب (رضي الله عنه) عددًا من الدواوين مثل ديوان بيت الجند وبيت المال.
- () (٨٤) أمر عثمان بن عفان (رضي الله عنه) بكتابة القرآن في مصحف واحد.
- () (٨٥) أول أسطول بحري في الإسلام أنشئ في عهد عمر بن الخطاب (رضي الله عنه).
- () (٨٦) نقل أبو بكر الصديق (رضي الله عنه) مقر الخلافة إلى الكوفة في العراق.
- () (٨٧) قام علي بن أبي طالب (رضي الله عنه) بتنظيم الشرطة.
- () (٨٨) عين علي بن أبي طالب (رضي الله عنه) شرطة لحراسة بيت المال.
- () (٨٩) كان علي بن أبي طالب (رضي الله عنه) حريصًا على تطبيق العدل.
- () (٩٠) خصص عثمان بن عفان (رضي الله عنه) يومًا للنظر في مظالم الناس.
- () (٩١) انتهى عصر الخلفاء الراشدين بوفاة علي بن أبي طالب (رضي الله عنه).
- () (٩٢) تم اختيار عمر بن الخطاب (رضي الله عنه) خليفة للمسلمين بناءً على رأي فردي.
- () (٩٣) كانت فترة خلافة عمر بن الخطاب (رضي الله عنه) أطول فترات الخلافة في عصر الخلفاء الراشدين.

- () (٩٤) تُعد مصر أكبر الدول العربية المنتجة لمحصول القمح.
- () (٩٥) يتمتع وطننا العربي بالعديد من المقومات التي ساعدت على قيام الزراعة.
- () (٩٦) يتركز إنتاج الكتان في الوطن العربي بدولتي السودان ومصر.
- () (٩٧) تحتل مصر المركز الأول في إنتاج الحبوب الغذائية.
- () (٩٨) تُعد واحة سيوة في ليبيا موقعًا للتراث الزراعي العالمي.
- () (٩٩) تساعد الزراعة في زيادة البطالة لسكان الوطن العربي.
- () (١٠٠) المنظمة المسؤولة عن الأغذية والزراعة هي اليونسكو.
- () (١٠١) تشتهر واحتا (العين - ليوا) في الإمارات بزراعة أنواع مميزة من النخيل.
- () (١٠٢) تكثر زراعة النخيل بواحة العين في المملكة العربية السعودية.
- () (١٠٣) تتنوع مصادر المياه العذبة في الوطن العربي.
- () (١٠٤) يمتلك الوطن العربي المقومات الطبيعية والبشرية اللازمة للزراعة.
- () (١٠٥) تعمل الدول العربية على استصلاح الأراضي الصحراوية.
- () (١٠٦) يدخل خام الفوسفات في صناعة المبيدات والأسمدة.
- () (١٠٧) تعاني الزراعة في الوطن العربي من مشكلة زحف الرمال.
- () (١٠٨) من المشكلات التي تواجه الزراعة بالوطن العربي ندرة المياه العذبة.
- () (١٠٩) غاز الهيدروجين الأخضر أحد مصادر الطاقة غير المتجددة. ©
- () (١١٠) الصناعة التحويلية تعني تحويل المنتجات إلى مواد خام.
- () (١١١) تُعد الطاقة الكهربائية من مصادر الطاقة المتجددة.
- () (١١٢) تكرير البترول من الصناعات التحويلية.
- () (١١٣) يعاني الوطن العربي من بُعد مناطق الإنتاج عن مناطق الاستهلاك.
- () (١١٤) استيراد الآلات والمعادن من الخارج يُعد مشكلة الصناعة بالوطن العربي.
- () (١١٥) تحتل السودان المركز الأول عربياً في إنتاج الذهب.
- () (١١٦) يخلو الوطن العربي من المشكلات في مجالي التعدين والصناعة.

- () (١١٧) تعد الطاقة الشمسية وطاقة الرياح أحد مصادر الطاقة المتجددة.
- () (١١٨) تحتل مصر المرتبة الأولى عربياً في إنتاج الحديد.
- () (١١٩) يفتقر الوطن العربي للمقومات اللازمة للصناعة.
- () (١٢٠) تتميز مصر بكثرة المزارع السمكية بها.
- () (١٢١) تتميز المراعي في وطننا العربي بأنها غنية.
- () (١٢٢) توفر الثروة الحيوانية الخامات اللازمة للصناعة.
- () (١٢٣) تعد مصر أولى الدول العربية في تربية الإبل.
- () (١٢٤) تتنوع الثروة الحيوانية في وطننا العربي.
- () (١٢٥) يعاني الوطن العربي من فقر المراعي.
- () (١٢٦) تعد مصر أولى الدول العربية في تربية الجاموس.
- () (١٢٧) إنتاج اللحوم الحمراء يكفي حاجة السكان في الوطن العربي.
- () (١٢٨) نقص الأكسجين في المسطحات المائية يؤثر على الثروة الحيوانية.
- () (١٢٩) تساهم الثروة السمكية والدواجن في سد العجز من البروتين الحيواني.
- () (١٣٠) المغرب أولى الدول إنتاجاً للأسماك من المزارع السمكية.
- () (١٣١) اليمن أولى الدول العربية في إنتاج الأسماك من المصايد السمكية.
- () (١٣٢) تعد المغرب أولى الدول العربية في إنتاج الأسماك من المصايد.
- () (١٣٣) تنتشر تربية الجاموس في المناطق الصحراوية بمصر.
- () (١٣٤) يقل إنتاج الأسماك في دولة المغرب.
- () (١٣٥) يتميز الوطن العربي بوفرة الأعلاف اللازمة لتربية الحيوانات.
- () (١٣٦) تستخدم بعض الحيوانات في وطننا العربي في أعمال الحقل والنقل.
- () (١٣٧) يتمتع الوطن العربي بكافة مقومات السياحة.
- () (١٣٨) تنتشر سياحة التسوق في دولة الكويت.
- () (١٣٩) تشتهر مدينة القيروان بتونس بانتشار السياحة الدينية.
- () (١٤٠) زيارتك لآثار مدينة تدمر يعد سياحة ثقافية.
- () (١٤١) يتميز الوطن العربي بوجود كوادر بشرية مؤهلة للنشاط السياحي.

- () (١٤٢) توجد السياحة العلاجية في الوطن العربي في دولتي العراق واليمن.
- () (١٤٣) يُعد النشاط السياحي من أهم الأنشطة الاقتصادية في الوطن العربي.
- () (١٤٤) المناخ المعتدل يُعد من المقومات البشرية للسياحة في الوطن العربي.
- () (١٤٥) تعمل الدول العربية على تطوير البنية التحتية لقطاع السياحة.
- () (١٤٦) يعاني الوطن العربي من قلة جودة شبكة المواصلات.
- () (١٤٧) تسهم التجارة في تعزيز العلاقات بين الدول.
- () (١٤٨) تعد مدينة الإسمايلية من المراكز التجارية بالدولة الإسلامية.
- () (١٤٩) التجارة البينية تكون بين الدول العربية ودول العالم المختلف.
- () (١٥٠) يسعى الوطن العربي إلى زيادة منصات التجارة الإلكترونية.
- () (١٥١) تتشابه المنتجات التي تنتجها الدول العربية.
- () (١٥٢) بدأ انتشار التجارة في شبه الجزيرة العربية بعد ظهور الإسلام.
- () (١٥٣) من مساوئ التجارة العربية أنتشار البطالة.
- () (١٥٤) تسعى الدول العربية للنهوض بالتجارة البينية العربية
- () (١٥٥) تساعد التجارة الإلكترونية في خفض الازدحام المروري والتلوث.
- () (١٥٦) تسهم التجارة في توفير النقد الأجنبي.
- () (١٥٧) تسعى الدول العربية إلى تنوع صادراتها وتنميتها.
- () (١٥٨) تُعد الأدوية من صادرات الوطن العربي.
- () (١٥٩) اشتهر التجار المسلمون بحسن الخلق.
- () (١٦٠) يعد تبادل السلع والمنتجات بين مصر والصين تجارة بينية.
- () (١٦١) ضمت اتفاقية أغادير التجارية دولة الصومال.
- () (١٦٢) التبادل التجاري بين الدول العربية ضعيف.
- () (١٦٣) يصدر الوطن العربي للعالم الوقود والمعادن.
- () (١٦٤) أدت الحواجز الجمركية بين الدول العربية إلى ضعف التجارة البينية.
- () (١٦٥) التشابه بين السلع والخدمات التي تنتجها الدول العربية أدى إلى ضعف التجارة بينهما.

- () (١٦٦) توجد التربة الخصبة في الوطن العربي على جانبي الأنهار.
- () (١٦٧) تتميز سهول البحر المتوسط بمطارها الصيفية.
- () (١٦٨) يتميز وطننا العربي بتنوع مظاهر السطح.
- () (١٦٩) تنوع مظاهر السطح في الوطن العربي ساعد على تنوع الأنشطة الاقتصادية.
- () (١٧٠) يتركز بعض السكان في هضاب الجناح الإفريقي.
- () (١٧١) تقع سلاسل جبال الحجاز وعسير في شبه جزيرة سيناء.
- () (١٧٢) يوجد اختلاف في درجات الحرارة والأمطار في دول الوطن العربي.
- () (١٧٣) يمر مدار السرطان شمال الوطن العربي.
- () (١٧٤) ترتفع درجة الحرارة في الوطن العربي كلما اتجهنا جنوبًا.
- () (١٧٥) يتعرض الوطن العربي لرياح حارة من جنوب آسيا صيفًا.
- () (١٧٦) تتميز الأجزاء الشمالية من الوطن العربي بمناخها المعتدل.
- () (١٧٧) تؤثر المسطحات المائية على مناخ المناطق الداخلية بالوطن العربي.
- () (١٧٨) يؤثر الموقع الفلكي للوطن العربي على مناخه.
- () (١٧٩) يقل تأثير المسطحات المائية على مناخ الوطن العربي لاتساع مساحتها.
- () (١٨٠) تعرف المناطق البعيدة عن تأثير البحر بالمناطق القارية.
- () (١٨١) تتميز المناطق الساحلية للوطن العربي بمناخ معتدل.
- () (١٨٢) يسود المناخ الحار معظم أجزاء الوطن العربي.
- () (١٨٣) ترتفع درجات الحرارة في المناطق الجنوبية للوطن العربي.
- () (١٨٤) يحل فصل الشتاء في الوطن العربي عندما تتعامد الشمس على مدار الجدي.
- () (١٨٥) تعتدل درجات الحرارة في المناطق الداخلية بالوطن العربي صيفًا.
- () (١٨٦) تسقط الأمطار الغزيرة على منحدرات السهول المواجهة للرياح المحملة ببخار الماء.
- () (١٨٧) قد يؤدي سوء الأحوال الجوية إلى إلغاء رحلات الطيران.
- () (١٨٨) يسود الوطن العربي ثلاثة أقاليم مناخية كبرى.

- () (١٨٩) تنمو حشائش الإستبس في مناخ إقليم البحر المتوسط.
- () (١٩٠) تقع مدينة الإسكندرية ضمن مناخ الإقليم المداري.
- () (١٩١) يتميز إقليم البحر المتوسط بصيف حار جاف وشتاء دافئ ممطر.
- () (١٩٢) ينتمي الجزء الجنوبي الغربي من دولة اليمن للإقليم الصحراوي الحار.
- () (١٩٣) الإقليم الصحراوي الحار يشغل معظم الوطن العربي.
- () (١٩٤) تعيش الحيوانات مثل الزراف والأسود على حشائش الإستبس.
- () (١٩٥) تربي الأغنام والماعز في المناخ المداري.
- () (١٩٦) تنمو حشائش السافانا في إقليم البحر المتوسط.
- () (١٩٧) تنتشر حشائش الإستبس في الإقليم الصحراوي.
- () (١٩٨) تنتشر النباتات التي لها القدرة على تحمل الجفاف في الإقليم المداري.
- () (١٩٩) الشتاء في الوطن العربي ممطر خاصة في المناطق المطلة على البحر المتوسط.
- () (٢٠٠) تتشابه درجات الحرارة بين دول الوطن العربي.
- () (٢٠١) المسطحات المائية تعمل على تلطيف درجة الحرارة.
- () (٢٠٢) تتأثر كمية الأمطار المتساقطة باتجاه المرتفعات.
- () (٢٠٣) تعرف المناطق البعيدة عن تأثير البحر بالمناطق القارية.
- () (٢٠٤) يوجد اختلاف في درجات الحرارة والأمطار في الوطن العربي.
- () (٢٠٥) المناطق الداخلية من الوطن العربي أكثر اعتدالاً من المناطق الساحلية.
- () (٢٠٦) يكثُر السكان في الوطن العربي على سواحل البحر الأحمر.
- () (٢٠٧) يتسم الإقليم الصحراوي بدرجة حرارة تصل إلى ما دون الصفر المئوي في بعض المناطق.
- () (٢٠٨) تنتشر في الإقليم المداري نباتات مثل الزيتون والصنوبر.
- () (٢٠٩) تزداد كمية الأمطار المتساقطة على الأجزاء الداخلية من المرتفعات.
- () (٢١٠) استخدام مصادر الطاقة النظيفة يساهم في حل المشكلات البيئية.
- () (٢١١) الجفاف هو نقص كمية الأمطار لفترات قصيرة.

- () (٢١٢) الجفاف هو نقص كمية الأمطار في بعض السنوات بما لا يسمح بالزراعة أو نمو الحشائش.
- () (٢١٣) استخدام الأسمدة الكيميائية والمبيدات الحشرية يقلل من مشكلة التصحر.
- () (٢١٤) المشكلات البيئية في الوطن العربي تهدد صحة و حياة المواطن العربي.
- () (٢١٥) تعرضت دولة المغرب لأكبر موجة جفاف سببت نقصًا غذائيًا.
- () (٢١٦) اتجهت الدول العربية لإنشاء المدن الذكية بهدف تقليل انبعاثات الغازات الدفيئة.
- () (٢١٧) يؤدي الرعي الجائر لحدوث مشكلة الجفاف.
- () (٢١٨) تساهم إزالة الغابات في حل مشكلة التصحر.
- () (٢١٩) تفعيل القوانين لتجريم القطع العشوائي للأشجار يساهم في حل المشكلات البيئية.
- () (٢٢٠) أطلقت مصر مبادرة ١٠٠ مليون شجرة مثمرة.
- () (٢٢١) تناقص مخزون المياه الجوفية يؤدي إلى حدوث التصحر.
- () (٢٢٢) يعاني الوطن العربي من مشكلة نقص المياه المالحة.
- () (٢٢٣) عثمان بن عفان هو الذي بدأ حركات الفتوحات الإسلامية.
- () (٢٢٤) كان عمر بن الخطاب من أثرياء مكة.
- () (٢٢٥) كان عمر بن الخطاب أول من بايع أبا بكر الصديق بالخلافة.
- () (٢٢٦) عمر بن الخطاب هو أول من أسلم من الرجال.
- () (٢٢٧) توفي أبو بكر الصديق وعمره ٦٣ عامًا.
- () (٢٢٨) يتميز الإقليم الصحراوي بصيف حار ممطر وشتاء معتدل.
- () (٢٢٩) يتميز الوطن العربي بسقوط كميات كبيرة من الأمطار تسمح بزراعات واسعة.
- () (٢٣٠) يقع الوطن العربي في إقليم مناخي واحد.

اختر الإجابة الصحيحة مما بين القوسين:

- (٢) كل الدول العربية في نفس النطاق ما عدا دولة
(الصومال - جيبوتي - جزر القمر - موريتانيا)
- (٣) تقع دولة جزر القمر في
(المحيط الهندي - المحيط الأطلنطي - المحيط الهادي - الخليج العربي)
- (٤) كل مما يلي من البحار الهامة التي يطل عليها الوطن العربي ما عدا
(البحر الأحمر - بحر العرب - البحر الأسود - البحر المتوسط)
- (٥) تقع جبال شمال الوطن العربي.
(جبال زاغروس - جبال طوروس - جبال الحجاز - جبال عسير)
- (٦) يقع جنوب الوطن العربي.
(البحر المتوسط - بحر العرب - البحر الأحمر - البحر الأسود)
- (٧) أكبر الدول العربية من حيث المساحة هي دولة (تونس - مصر - الجزائر - ليبيا)
- (٨) يصل مضيق بين البحر المتوسط والمحيط الأطلنطي.
(باب المندب - جبل طارق - قناة السويس - هرمز)
- (٨) توجد النسبة الأكبر من مساحة الوطن العربي في قارة
(آسيا - أوروبا - إفريقيا - أمريكا الشمالية)
- (٩) يتحكم الوطن العربي في ممرات. (ثلاثة - أربعة - خمسة - ستة)
- (١٠) تطل كل من مصر والسعودية على البحر (الأحمر - المتوسط - الأسود - العرب)
- (١١) السودان من الدول العربية الإفريقية التي تطل على
(البحر المتوسط - البحر الأحمر - خليج عمان - خليج عدن)
- (١٢) أصغر الدول العربية من حيث المساحة (المغرب - الجزائر - البحرين - مصر)
- (١٣) تطل دولتا جيبوتي واليمن على مضيق (هرمز - باب المندب - جبل طارق - قناة السويس)
- (١٤) كانت قبيلة من أشهر القبائل العربية في مكة. (ثقيف - موازن - قريش - بني ساعدة)
- (١٥) أول عمل قام به الرسول (ﷺ) كان
(الزراعة - الصناعة - رعي الأغنام - التجارة)
- (١٦) كان النظام السائد في شبه الجزيرة العربية هو النظام
(الملكي - القبلي - شبه ملكي - الديمقراطي)

- (١٧) نزل الوحي على النبي (ﷺ) وهو في سن
- (الثلاثين - الأربعين - الخمسين - الستين)
- (١٨) نزل سيدنا جبريل (عليه السلام) برسالة الإسلام على سيدنا محمد (ﷺ) في إحدى ليالي شهر
(رجب - شعبان - رمضان - محرم)
- (١٩) استمرت مرحلة الدعوة السرية لمدة سنوات. (سبع - تسع - ثلاث - خمس)
- (٢٠) أول هجرة للمسلمين كانت إلى
- (المدينة - الطائف - الحبشة - اليمن)
- (٢١) رحلة أهل مكة في فصل الشتاء كنت إلى (اليمن - الشام - يثرب - الحبشة)
- (٢٢) إحدى الحرف السائدة في شبه الجزيرة العربية قبل الإسلام
- (الزراعة - السياحة - الصناعة - الرعي)
- (٢٣) ثاني هجرة للمسلمين مع الرسول (ﷺ) كانت إلى
- (الحبشة - الطائف - يثرب - اليمن)
- (٢٤) كان تجار مكة يتجهون في فصل الصيف إلى (الشام - الحبشة - اليمن - الهند)
- (٢٥) اجتمع زعماء قريش في وتأمروا على قتله.
- (دار الندوة - دار الأرقم بن أبي الأرقم - دار أبي لهب - دار بني ساعدة)
- (٢٦) هاجر الرسول (ﷺ) ليلاً مع صديقه إلى يثرب.
- (أبي بكر الصديق - عمر بن الخطاب - علي بن أبي طالب - عثمان بن عفان)
- (٢٧) كان مقرّاً للحكم وإدارة شؤون الدولة الداخلية والخارجية.
- (المسجد - بيت الرسول - دار الأرقم - دار الندوة)
- (٢٨) خالف الرماة أوامر النبي (ﷺ) وتركوا مواقعهم في غزوة
- (بدر - أحد - الخندق - فتح مكة)
- (٢٩) كان فتح مكة بسبب اعتداء قريش على قبيلة (بكر - خزاعة - ثقيف - هوازن)
- (٣٠) أعطى الرسول (ﷺ) الأمان لأهل رغم إيذائهم له ولأصحابه.
- (المدينة - الطائف - مكة - الحبشة)
- (٣١) أشار على الرسول (ﷺ) بحفر الخندق حول المدينة.
- (أبو بكر الصديق - عثمان بن عفان - سلمان الفارسي - عمر بن الخطاب)
- (٣٢) سميت الوثيقة التي وضعها النبي (ﷺ) لتنظيم العلاقة بين المسلمين واليهود باسم
(وثيقة الإسلام - وثيقة المؤاخاة - صحيفة المدينة - صحيفة مكة)

- (٣٣) أي مما يلي كان سببًا في نجاح خطة هجرة الرسول (ﷺ) إلى المدينة؟
(التحالف مع قريش - السرية التامة - محاربة قبائل اليهود - بناء المسجد)
- (٣٤) قال الرسول (ﷺ) عبارة «اذهبوا فأنتم الطلقاء» خلال
(غزوة بدر - غزوة أحد - فتح مكة - صلح الحديبية)
- انتصر المسلمون رغم قلة عددهم في غزوة
(بدر - أحد - الخندق - تبوك)
- (٣٥) منعت قريش الرسول (ﷺ) وأصحابه من دخول لأداء العمرة.
(الطائف - مكة - المدينة - حنين)
- (٣٦) جعل الرسول (ﷺ) إمامًا للمسلمين في أثناء مرضه.
(عمر بن الخطاب - أبا بكر الصديق - عثمان بن عفان - علي بن أبي طالب)
- (٣٧) أرسل أبو بكر الصديق (رضي الله عنه) جيش أسامة بن زيد (رضي الله عنهما) لمحاربة
(الفرس - الروم - قريش - اليهود)
- (٣٨) ظهر المرتدون عن الدين الإسلامي في عهد الخليفة
(أبي بكر الصديق - عمر بن الخطاب - عثمان بن عفان - علي بن أبي طالب)
- (٣٩) قام الخليفة عمر بن الخطاب (رضي الله عنه) بـ
(محاربة المرتدين - جمع القرآن الكريم - وضع التقويم الهجري - نقل مقر الخلافة)
- (٤٠) أمر الخليفة بجمع القرآن الكريم في مصحف واحد.
(عمر بن الخطاب - عثمان بن عفان - علي بن أبي طالب - أبو بكر)
- (٤١) قام الخليفة بتنظيم الشرطة.
(عثمان بن عفان - علي بن أبي طالب - أبو بكر الصديق - عمر بن الخطاب)
- (٤٢) خصص الخليفة يومًا للنظر في مظالم الناس.
(عثمان بن عفان - أبو بكر الصديق - علي بن أبي طالب - عمر بن الخطاب)
- (٤٣) وصلت الفتوحات الإسلامية في عهد الخليفة عمر بن الخطاب (رضي الله عنه) إلى
(اليمن وعمان - مصر وليبيا - مصر والشام - اليمن ومصر)
- (٤٤) نقل الخليفة علي بن أبي طالب (رضي الله عنه) مقر الخلافة إلى
(القدس - الكوفة - مكة - المدينة)
- (٤٥) تم إنشاء أول أسطول بحري إسلامي لتأمين سواحل من هجمات الروم.
(مصر والعراق - مصر والشام - مصر والسودان - اليمن والصومال)

- (٤٦) تقوم الزراعة في جنوب موريتانيا اعتمادًا على مياه.....
(الأمطار - الأنهار - الآبار - العيون)
- (٤٧) تقوم الزراعة في اليمن اعتمادًا على..... (نهر النيل - المياه الجوفية - الأمطار - البحار)
- (٤٨) تقوم الزراعة في الوطن العربي اعتمادًا على المياه الجوفية في المناطق.....
(الشمالية - الصحراوية - الفيضية - الجبلية)
- (٤٩) تقوم الزراعة في واحات الإمارات اعتمادًا على.....
(مياه الأمطار - المياه الجوفية - الأنهار - البحار)
- (٥٠) تعتمد الزراعة في الصحاري العربية على مياه.....
(البحار - المحيطات - الأنهار - الآبار والعيون)
- (٥١) تعتمد الزراعة في الأجزاء الشمالية من الوطن العربي على مياه.....
(الأنهار - التحلية - الأمطار - الجوفية)
- (٥٢) أي مما يلي يعد من المقومات البشرية لقيام الزراعة؟.....
(المياه العذبة - التربة الخصبة - الأيدي العاملة - تنوع المناخ)
- (٥٣) أولى الدول العربية إنتاجًا للتمور..... (المغرب - السعودية - الجزائر - مصر)
- (٥٤) تنتشر زراعة الزيتون في دولة..... (اليمن - قطر - فلسطين - الصومال)
- (٥٥) دولة تقوم فيها الزراعة اعتمادًا على مياه الأنهار..... (ليبيا - قطر - السودان - الكويت)
- (٥٦) يتركز إنتاج محاصيل الألياف في الوطن العربي في دولة..... (السعودية - المغرب - ليبيا - مصر)
- (٥٧) اليمن أولى الدول العربية في زراعة..... (البن - القمح - الأرز - البنجر)
- (٥٨) تتركز زراعة البن في دولة..... (السودان - اليمن - العراق - فلسطين)
- (٥٩) دولة تقوم فيها الزراعة اعتمادًا على مياه الأنهار..... (السودان - ليبيا - قطر - الكويت)
- (٦٠) يزرع بالوطن العربي المحاصيل السكرية ومنها..... (القطن - الأرز - القصب - الزيتون)

- (٦١) محصول يصنف من محاصيل الحبوب الغذائية (الذرة - العنب - الكتان - الموز الشرقي)
- (٦٢) أحد المقومات الطبيعية للزراعة (رأس المال - النقل - التربة الخصبة - السوق)
- أحد محاصيل الحبوب الغذائية (القطن - التين - الكتان - الذرة)
- (٦٣) أحد المقومات الطبيعية للزراعة (رأس المال - السوق - تنوع المناخ - شبكات النقل)
- (٦٤) تشتهر واحة سيوه بزراعة (القمح - قصب السكر - النخيل - القطن)
- (٦٥) أحد مواقع التراث الزراعي العالمي في مصر هو واحة
(الغرافرة - سيوة - العين - الكفرة)
- (٦٦) أي مما يلي يُعد إحدى مشكلات الزراعة في الوطن العربي؟
(تذبذب كمية المطر - انتشار الأسواق - وفرة وسائل النقل - تنوع المناخ)
- (٦٧) تُعد مصر أولى الدول العربية في تربية الجاموس بسبب توافر
(المراعي الطبيعية - المناخ الحار - البيئة الفيضية - البيئة الساحلية)
- (٦٨) أولى الدول العربية في تربية الماعز هي (الصومال - المغرب - السودان - السعودية)
- (٦٩) أي من المواد الخام التالية توفرها الثروة الحيوانية للصناعة؟
(القطن - الجلود - الفوسفات - البترول)
- (٧٠) تُعد الصومال أولى الدول العربية في تربية
(الأبقار - الجاموس - الدواجن - الإبل)
- (٧١) أولى الدول العربية في تربية الأبقار هي دولة
(مصر - الجزائر - السودان - المغرب)
- (٧٢) إحدى المشكلات التي تؤثر على الثروة السمكية والحيوانية
(التصحر - التغير المناخي - الجفاف - فقر المراعي)
- (٧٣) أولى الدول العربية في إنتاج الأسماك من المصايد السمكية
(السودان - مصر - المغرب - الجزائر)
- (٧٤) إحدى المشكلات التي تؤثر على الثروة السمكية والحيوانية
(التصحر - التغير المناخي - الجفاف - فقر المراعي)

- (٧٥) أولى الدول العربية في تربية الدواجن هي دولة
- (السعودية - الجزائر - المغرب - مصر)
- (٧٦) تعد المغرب أولى الدول العربية في إنتاج الأسماك لأنها تطل على المحيط
- (الهادي - الهندي - الأطلنطي - القطبي)
- (٧٧) يأتي معظم إنتاج الأسماك في مصر من
- (نهر النيل - المزارع السمكية - البحار - المحيطات)
- (٧٨) تُعد المغرب أولى الدول العربية في تربية (الجاموس - الأغنام - الإبل - الدواجن)
- (٧٩) كل هذه المشكلات تواجه الثروة الحيوانية في الوطن العربي ما عدا
- (قلة الأمطار - تطوير المراعي الطبيعية - انتشار الجفاف - التصحر)
- (٨٠) تقتصر تربية على البيئة الزراعية الفيضية.
- (الأبقار - الأغنام - الإبل - الجاموس)
- (٨١) يدخل الحديد في صناعة
- (أسلاك التليفون - المبيدات الحشرية - مواد الطلاء - الكباري والمنشآت)
- (٨٢) أحد المقومات البشرية لقيام الصناعة بالوطن العربي
- (الموقع المتميز - المعادن - السوق - المواد الخام)
- (٨٣) أولى الدول العربية في إنتاج الأسمنت والبتروول هي
- (٨٤) (السعودية - الإمارات - مصر - الأردن)
- (٨٥) أولى الدول العربية إنتاجًا للبتروول (مصر - السودان - ليبيا - السعودية)
- (٨٦) تحتل دولة قطر المرتبة الأولى عربيًا في إنتاج
- (البتروول - الغاز الطبيعي - خام الفوسفات - الذهب)
- (٨٧) أحد المقومات الطبيعية لقيام الصناعة
- (الأيدي العاملة - مصادر الطاقة - رأس المال - وسائل النقل)
- (٨٨) صناعة تحويلية توجد بالوطن العربي
- (إنتاج المنجنيز - استخراج البتروول - البتروكيمياويات - تعدين الحديد)

- (٨٩) يستخدم في صناعة المبيدات الحشرية
- (الحديد - المنجنيز - الفحم - الفوسفات)
- (٩٠) دولة عربية تحتل المرتبة الأولى في إنتاج الحديد
- (اليمن - ليبيا - موريتانيا - مصر)
- (٩١) تحتل مصر المركز الثاني عربياً في إنتاج معدن
- (الألومنيوم - الذهب - الحديد - الفوسفات)
- (٩٢) ينتج الوطن العربي من البترول أكثر من
- (الإنتاج العالمي.
نصف - ثلث - ربع - عشر)
- (٩٣) تعد مصر الدولة الأولى عربياً في صناعة
- (الحديد والصلب - البلاستيك - السيارات - الطائرات)
- (٩٤) دولة عربية تحتل المركز الأول في إنتاج الذهب هي
- (مصر - السودان - السعودية - المغرب)
- (٩٥) أحد مصادر الطاقة المتجددة في الوطن العربي
- (البترول - طاقة الرياح - الفحم - الغاز الطبيعي)
- (٩٦) من المقومات الطبيعية للصناعة
- (رأس المال - الأسواق - المواد الخام - وسائل النقل)
- (٩٧) تحتل المغرب المركز الأول عربياً في إنتاج
- (الحديد - الغاز الطبيعي - البترول - الفوسفات)
- (٩٨) من الصناعات الاستراتيجية لصناعة
- (استخراج البترول - السيارات - الحديد والصلب - جميع ما سبق)
- (٩٩) تقوم السياحة
- (على زيارة المناطق الصحراوية.
الدينية - المؤتمرات - البيئية - الثقافية)
- (١٠٠) زيارة المسجد الأقصى في فلسطين سياحة
- (ترفيهية - ثقافية - دينية - علاجية)
- (١٠١) الاستمتاع بالرحلات النيلية في أسوان يعد سياحة
- (ثقافية - بيئية - علاجية - ترفيهية)

- (١٠٢) حضور كأس الأمم الإفريقية لكرة اليد يعد سياحة... (علاجية - ترفيهية - ثقافية - رياضية)
- (١٠٣) زيارة الأماكن المقدسة تعد سياحة..... (ثقافية - ترفيهية - دينية - علاجية)
- (١٠٤) يحتفل الوطن العربي في ٢٥ فبراير من كل عام بيوم..... العربية.
- (التجارة - السياحة - الزراعة - الصناعة)
- (١٠٥) زيارة المواقع والمناطق التراثية يعد سياحة.....
- (ثقافية - تسويقية - رياضية - علاجية)
- (١٠٦) تستطيع زيارة مسار العائلة المقدسة في..... (مصر - تونس - المغرب - الأردن)
- (١٠٧) تعتمد سياحة التسوق على زيارة أضخم المراكز التجارية وأحدثها كما في دولة.....
- (اليمن - العراق - الإمارات - ليبيا)
- (١٠٨) يقوم السياح بزيارة المواقع الأثرية في القيروان بدولة.....
- (مصر - العراق - سوريا - تونس)
- (١٠٩) أي مما يلي يُعد من أماكن السياحة الدينية في فلسطين؟.....
- (دير سانت كاترين - كنيسة القيامة - المسجد الحرام - الجامع الأزهر الشريف)
- (١١٠) تقع مدينة تدمر في..... (المغرب - سوريا - الكويت - قطر)
- (١١١) أول عاصمة عربية للسياحة هي مدينة..... (صنعاء - بيروت - الإسكندرية - الخرطوم)
- (١١٢) تم اختيارها كعاصمة للسياحة العربية عام ٢٠٢٣م مدينة.....
- (دبي - الإسكندرية - الدوحة - بغداد)
- (١١٣) إذا أردت الاستشفاء في المياه الكبريتية في مصر عليك التوجه إلى.....
- (واحة الكفرة - واحة سيوة - عين ماعين - واحة عين صالح)
- (١١٤) يهدف السياح إلى زيارة بعض الأماكن للعلاج والاستشفاء مثل زيارة.....
- في دولة الأردن. (واحة سيوة - عيون موسى - عين ماعين - بحيرة عسل)

- (١١٥) تقوم السياحة البيئية على زيارة المناطق
- (الزراعية - الساحلية - الصحراوية - النهرية)
- (١١٦) زيارة الشواطئ في لبنان تعد سياحة (دينية - علاجية - ثقافية - ترفيهية)
- (١١٧) إحدى صادرات الوطن العربي (القمح - الزيوت - السيارات - المعادن)
- (١١٨) يستورد الوطن العربي (الخضروات - الأدوية - الطائرات - الوقود)
- (١١٩) التجارة الخارجية هي تبادل السلع والمنتجات بين مصر
- (السعودية - الجزائر - البحرين - فرنسا)
- (١٢٠) التجارة الإلكترونية هي تبادل السلع والخدمات عن طريق
- (السيارات - الطائرات - السفن - الإنترنت)
- (١٢١) تبادل السلع والخدمات باستخدام الإنترنت يسمى
- (مقايضة - تجارة إلكترونية - تجارة خارجية - تجارة بينية)
- (١٢٢) أشهر المراكز التجارية قديماً (الإسكندرية - القاهرة - مطروح - العلمين)
- (١٢٣) تصدر البحرين معظم منتجاتها لثلاث دول منها (الأردن - سوريا - العراق - عمان)
- (١٢٤) أحد أسباب ضعف التجارة البينية العربية
- (تقليص الحواجز الجمركية - زيادة المنصات الإلكترونية - التشابه بين المنتجات - إنشاء المنظمات التجارية)
- (١٢٥) تصدر الدول العربية منتجات متنوعة منها
- (الوقود والمعادن - الطائرات والسيارات - الوقود والسيارات - الطائرات والإلكترونيات)
- (١٢٦) توفر التجارة العربية العملات (المعدنية - الأجنبية - المحلية - الإقليمية)
- (١٢٧) ساعدت في نشر الإسلام قديماً حرفة (الزراعة - الصناعة - التجارة - الإقليمية)
- (١٢٨) تتمثل أعلى نسبة صادرات عربية من (الوقود - الإلكترونيات - السيارات - المياه)

- (١٢٩) من أمثلة الجبال الانكسارية في الوطن العربي جبال.....
(کردستان - زاجروس - عمان - عسير)
- (١٣٠) تسببت الحركات الباطنية الالتوائية في نشأة جبال.....
(الحجاز - البحر الأحمر - أطلس - مرتفعات اليمن)
- (١٣١) تعد من الجبال الالتوائية في الوطن العربي جبال.....
(عسير - البحر الأحمر - عمان - الحجاز)
- (١٣٢) توجد جبال البحر الأحمر في دولتي.....
(موريتانيا والمغرب - مصر والسودان - الجزائر والمغرب - ليبيا وتونس)
- (١٣٣) توجد في دولتي مصر والسودان جبال.....
(کردستان - زاجروس - الحجاز - البحر الأحمر)
- (١٣٤) أحد الجبال الالتوائية في الجناح العربي الآسيوي جبال.....
(الحجاز - أطلس - كردستان - عسير)
- (١٣٥) أكثر أشكال السطح انتشارًا في الوطن العربي.....
(الجبال - الهضاب - السهول - التلال)
- (١٣٦) أكبر هضاب الوطن العربي مساحة هضبة.....
(الجلف الكبير - بادية الشام - إفريقيا الشمالية - حزموت)
- (١٣٧) إحدى هضاب الجناح العربي الآسيوي هضبة.....
(مارميكا - إفريقيا الشمالية - المعازة - بادية الشام)
- (١٣٨) تمتد هضبة إفريقيا الشمالية من البحر الأحمر حتى المحيط.....
(الهندي - الهادي - الأطلنطي - القطبي)
- (١٣٩) هضبة حزموت من هضاب الجناح.....
(الإفريقي - الآسيوي - الأوروبي - الأمريكي)
- (١٤٠) إحدى الظواهر التي تكونت بفعل التعرية المائية.....
(الجبال - الأودية الجافة - الهضاب - الكثبان الرملية)

- (١٤١) إحدى آثار التعرية الهوائية في الوطن العربي هي
- (السهول الفيضية - السهول الساحلية - الكثبان الرملية - الأودية الجافة)
- (١٤٢) يمتد بحر الرمال العظيم بين دولتي مصر و
- (السودان - ليبيا - الجزائر - السعودية)
- (١٤٣) توجد واحة عين صالح في
- (السودان - ليبيا - الجزائر - مصر)
- (١٤٤) من أمثلة الأودية الجافة بالوطن العربي وادي
- (دجلة - الفرات - النيل - الدواسر)
- (١٤٥) يعيش بعض السكان اعتمادًا على المياه الجوفية في واحة سيوة بدولة
- (مصر - السودان - ليبيا - العراق)
- (١٤٦) تسقط الأمطار في فصل الشتاء على سهول
- (البحر المتوسط - البحر الأحمر - الخليج العربي - بحر العرب)
- (١٤٧) توجد سهول نهر النيل في
- (مصر والعراق - مصر والسودان - مصر وليبيا - مصر وتونس)
- (١٤٨) توجد سهول دجلة والفرات في دولة
- (مصر - السودان - ليبيا - العراق)
- (١٤٩) هضبة حزموت من هضاب الجناح
- (الإفريقي - الآسيوي - الأمريكي - الأوروبي)
- (١٥٠) تعد من الجبال الانكسارية في الوطن العربي جبال
- (زاجروس - أطلس - عمان - البحر الأحمر)
- (١٥١) أدنى نقطة في الوطن العربي هي
- (البحر المتوسط - البحر الميت - بحر قزوين - البحر الأحمر)
- (١٥٢) تمر دائرة عرض الاستواء في
- (الوطن العربي).
- (شمال - جنوب - شرق - غرب)
- (١٥٣) تمر جنوب الوطن العربي دائرة
- (القطب الشمالي - الجدي - الاستواء - السرطان)

- (١٥٤) ١ يسود معظم جنوب الوطن العربي المناخ
(المعتدل - البارد - الحار - الموسمي)
- (١٥٥) المناطق القريبة من المسطحات المائية يكون مناخها
(شديد الحرارة والجفاف - أكثر اعتدالًا ومطرًا - أقل اعتدالًا ومطرًا - شديد البرودة والجفاف)
- (١٥٦) تهب الرياح الحارة على الوطن العربي من جنوب قارة
(إفريقيا - أوروبا - آسيا - أمريكا)
- (١٥٧) تهب على الوطن العربي شتاء رياح شديدة البرودة قادمة من
(قارة إفريقيا - المحيط الهندي - قارة أوروبا - المحيط الهادي)
- (١٥٨) يسود المناخ الحار معظم أجزاء الوطن العربي بينما يسود المعتدل في الأجزاء
(الشرقية - الغربية - الشمالية - الجنوبية)
- (١٥٩) ١ مناخ مدينة الإسكندرية معتدل أكثر من مدينة الرياض بسبب تأثير
(اتجاه المرتفعات - المسطحات المائية - مدار الجدي - خط جرينتش)
- (١٦٠) تسقط أمطار موسمية صيفية على دولة
(لبنان - سوريا - اليمن - تونس)
- (١٦١) ١ تسقط أمطار موسمية صيفية على أجزاء من دولة
(لبنان - سوريا - تونس - الصومال)
- (١٦٢) تسقط الأمطار الموسمية صيفًا على
(جبال الحجاز - مرتفعات اليمن - جبال أطلس - جبال زاغروس)
- (١٦٣) ١ يحل فصل الشتاء على مصر عندما تتعامد أشعة الشمس على
(مدار الجدي - دائرة الاستواء - مدار السرطان - خط جرينتش)
- (١٦٤) مناخ الوطن العربي شديد الحرارة في فصل الصيف بسبب تعامد الشمس على
(مدار السرطان - مدار الجدي - دائرة الاستواء - خط جرينتش)
- (١٦٥) ١ تتعامد الشمس على مدار السرطان مما أدى إلى
(برودة الجو - اعتدال درجات الحرارة - سقوط الأمطار بغزارة - ارتفاع درجات الحرارة)

- (١٦٦) يتسم فصل الصيف في الوطن العربي بـ.....
(سقوط الأمطار - الرياح الباردة - الجفاف - السيول)
- (١٦٧) يتعرض جنوب الوطن العربي لسقوط أمطار.....
(شتوية - استوائية - موسمية - إعصارية)
- (١٦٨) تسقط الأمطار في الوطن العربي شتاء على سهول.....
(البحر الأحمر - البحر المتوسط - الخليج العربي - خليج عدن)
- (١٦٩) أي من العوامل الآتية لا يؤثر في مناخ الوطن العربي.....
(الموقع الفلكي - المسطحات المائية - المرتفعات - السهول)
- (١٧٠) يمتد إقليم البحر المتوسط في الجناح الآسيوي للوطن العربي في دولتي.....
(قطر والبحرين - اليمن وعمان - فلسطين ولبنان - العراق والأردن)
- (١٧١) يمتد الإقليم المداري في..... في الوطن العربي. (شمال - جنوب - شرق - غرب)
- (١٧٢) نبات طبيعي ينمو في الإقليم المداري بالوطن العربي.....
(حشائش السافانا - أشجار الصنوبر - حشائش الإستبس - أشجار الأرز)
- (١٧٣) تنتشر النباتات التي لها القدرة على تحمل الجفاف في الإقليم.....
(الصحراوي الحار - المداري - الموسمي - البحر المتوسط)
- (١٧٤) تنمو أشجار الأرز في إقليم مناخ.....
(البحر المتوسط - الاستوائي - الصحراوي الحار - المداري)
- (١٧٥) تسقط أمطار الإقليم المداري في فصل.....
(الشتاء - الصيف - الخريف - الربيع)
- (١٧٦) تعيش الزرافات والأسود في الإقليم المناخي.....
(المداري - الصحراوي الحار - المعتدل - الموسمي)
- (١٧٧) يتميز إقليم البحر المتوسط في الوطن العربي بسقوط الأمطار في فصل.....
(الصيف - الشتاء - الربيع - الخريف)
- (١٧٨) يوجد الصبار في إقليم.....
(البحر المتوسط - الاستوائي - الصحراوي - المداري)
- (١٧٩) حشائش الإستبس تنمو ضمن إقليم المناخ.....
(الصحراوي - المداري - الموسمي - البحر المتوسط)

- (١٨٠) ينتمي الجزء الجنوبي الغربي من دولة اليمن إلى إقليم المناخ.....
(المداري - الصحراوي الحار - الاستوائي - البحر المتوسط)
- (١٨١) أي من الدول التالية يقع شمالها في إقليم البحر المتوسط؟.....
(الكويت - اليمن - الإمارات - مصر)
- (١٨٢) تقع محمية ضانا في دولة.....
(سوريا - لبنان - فلسطين - الأردن)
- (١٨٣) تقع محمية أرز الشوف في دولة.....
(الأردن - لبنان - مصر - السعودية)
- (١٨٤) محمية جبل علبة من محميات الوطن العربي التي تقع في دولة.....
(لبنان - الأردن - السودان - مصر)
- (١٨٥) تناقص قدرة الأراضي الزراعية على الإنتاج، تشير هذه العبارة إلى مصطلح.....
(التصحّر - الجفاف - ندرة المياه - التلوث)
- (١٨٦) أكثر الدول العربية التي تعرضت لخطر الجفاف في دولة.....
(المغرب - الصومال - العراق - البحرين)
- (١٨٧) يعاني نحو..... مساحة الوطن العربي من مشكلة التصحر.
(ثلث - ثلثي - ربع - نصف)
- (١٨٨) يعاني نحو ثلثي الوطن العربي من مشكلة.....
(الجفاف - ندرة المياه المعدنية - التصحر - قلة المراعي الطبيعية)
- (١٨٩) أيًا من التالي يعد أحد أسباب حدوث التصحر؟.....
(غزارة الأمطار - الرعي الجائر - زراعة النباتات - استصلاح الأراضي)
- (١٩٠) مشكلة بيئية تحدث بسبب التوسع المستمر في الزراعة.....
(تملح التربة - التصحر - الجفاف - ندرة المياه العذبة)
- (١٩١) مبادرة زراعة ١٠٠ مليون شجرة مثمرة أطلقتها دولة.....
(اليمن - سوريا - لبنان - مصر)
- (١٩٢) تم الإعلان عن إنشاء مدينة نيوم الخضراء بدولة.....
(المغرب - مصر - السعودية - الجزائر)
- (١٩٣) سيدنا أبو بكر الصديق رضي الله عنه كان اسمه.....
(عبد الله بن عثمان - عبد الله بن عمر - عبد الله بن عبد المطلب - عبد الله بن الزبير)

(١٩٤) أشار على أبي بكر بجمع القرآن الكريم.

(عثمان بن عفان - عبد الله بن عمر - عمر بن الخطاب - أبو عبيدة بن الجراح)

(١٩٥) قام عمر بن الخطاب بإنشاء

(الدواوين - الأسطول - الجيش - المكتبات)

(١٩٦) أول من أسلم من الرجال هو

(بلال بن رباح - عثمان بن عفان - أبو بكر الصديق - طلحة بن عبيد الله)

(١٩٧) من بعد اختراق خصوصية العميل وسرقة البيانات في التجارة الإلكترونية من

(إيجابياتها - سلبياتها - أهمياتها - أسبابها)

(١٩٨) تتسم بالضعف بسبب التشابه بين السلع والخدمات وعدم تنوع الصادرات

توضح الجملة التجارة (العالمية - البينية العربية - الإلكترونية - الخارجية)



اكتب ما تشير إليه العبارة:

- (١) أحد المقومات البشرية تستخدم في نقل المنتجات الزراعية إلى مناطق الاستهلاك.
(.....)
- (٢) أحد المقومات البشرية اللازمة لإقامة المشروعات الزراعية وشراء الآلات الزراعية.
(.....)
- (٣) معدن ينتج منه الوطن العربي ٣٪ من جملة الإنتاج العالمي ويدخل في صناعة الحلي.
(.....)
- (٤) سياحة يتم فيها زيارة المحميات الطبيعية والمناطق الصحراوية في الوطن العربي.
(.....)
- (٥) الصادرات والواردات بين دول الوطن العربي وباقي دول العالم.
(.....)
- (٦) توجد حول مجاري الأنهار وهي من المقومات الطبيعية لقيام الزراعة.
(.....)
- (٧) واحة مصرية تُعد موقعًا للتراث الزراعي العالمي.
(.....)
- (٨) معدن يستخدم في الصناعات الثقيلة والمنشآت والكباري.
(.....)
- (٩) صناعة تعتمد على الاستثمار الأمثل للموارد المتجددة.
(.....)
- (١٠) معدن ينتج الوطن العربي ربع الإنتاج العالمي منه.
(.....)
- (١١) يطلق عليها الطاقة النظيفة.
(.....)
- (١٢) مجموعة من المقومات تساعد على قيام الصناعة منها المواد الخام.
(.....)
- (١٣) سياحة تشمل زيارة المواقع الأثرية والتراثية.
(.....)
- (١٤) سياحة تتمثل في زيارة الأماكن المقدسة.
(.....)
- (١٥) سياحة تتمثل في زيارة الشواطئ والرحلات النيلية.
(.....)
- (١٦) سياحة تتمثل في زيارة بعض الأماكن بهدف الاستشفاء والعلاج.
(.....)
- (١٧) سياحة يتم فيها زيارة العيون الكبريتية.
(.....)
- (١٨) تبادل السلع والخدمات باستخدام شبكة المعلومات الدولية.
(.....)

(١٩) سياحة يتم فيها زيارة المحميات الطبيعية والمناطق الصحراوية في الوطن العربي.

(.....)

(٢٠) الصادرات والواردات بين دول الوطن العربي وباقي دول العالم.

(.....)

(٢١) الصادرات والواردات من سلع وخدمات بين الدول العربية.

(.....)

(٢٢) جبال نشأت نتيجة حدوث التواء في القشرة الأرضية.

(٢٣) جبال نشأت نتيجة لحركات باطنية تعرضت لها الأرض.

(٢٤) كثبان رملية تكونت بفعل التعرية الهوائية وتمتد بين مصر وليبيا.

(٢٥) سهول كونتها الأنهار نتيجة ترسب المواد العالقة بمياهها.

(٢٦) منطقة جغرافية ذات خصائص مناخية تميزها عن غيرها.

(٢٧) إقليم مناخي تنمو فيه حشائش الإستبس وتربى عليه الماعز.

(٢٨) إقليم مناخي يقع على الأطراف الشمالية للوطن العربي.

(٢٩) إقليم مناخي يتميز بشتاء معتدل جاف وصيف حار ممطر.

(٣٠) إقليم يقع في جنوب الوطن العربي.

(٣١) إقليم مناخي يشغل معظم مساحة الوطن العربي.

(٣٢) نقص كمية الأمطار في بعض السنوات بما لا يسمح بالزراعة أو نمو الحشائش.

(٣٣) مشكلة بيئية تحدث نتيجة لزيادة استهلاك المياه.

(٣٤) تناقص قدرة الأراضي الزراعية على الإنتاج.

(٣٥) مجموعة من الدول العربية التي يجمعها تاريخ ولغة وثقافة مشتركة.

(٣٦) الموقع بالنسبة لليابس والماء.

(٣٧) نظام يتكون من قبائل متفرقة لكل قبيلة شيخ يحكمها.

(٣٨) مكان كان يتعبد فيه الرسول (ﷺ) ويتأمل في قدرة الله.

(٣٩) نظام الحكم في شبه الجزيرة العربية قبل الإسلام.

- (.....) (٤٠) نزل على الرسول (ﷺ) برسالة الإسلام.
- (.....) (٤١) الذين هاجروا من مكة إلى المدينة.
- (.....) (٤٢) سكان المدينة الذين نصروا الرسول (ﷺ) في دعوته.
- (.....) (٤٣) أشار على النبي (ﷺ) بحفر خندق حول المدينة.
- (.....) (٤٤) هم الذين رفضوا دفع الزكاة، وادعى بعضهم النبوة.
- (.....) (٤٥) مقر الخلافة في أثناء حكم علي بن أبي طالب (رضي الله عنه).
- (.....) (٤٦) نظام أنشئ في عهد علي بن أبي طالب (رضي الله عنه) للحفاظ على الأمن العام.
- (.....)
- (.....) (٤٧) مكان أمر الرسول (ﷺ) أصحابه بالهجرة إليه لوجود حاكم عادل فيه.
- (.....) (٤٨) وثيقة وضعها الرسول (ﷺ) لتنظيم العلاقة بين المسلمين واليهود.
- (.....) (٤٩) نظام أنشأه الخليفة عمر بن الخطاب (رضي الله عنه) لإدارة بيت المال والجند.

(١) لموقع الوطن العربي أهمية اقتصادية كبيرة؟

.....

.....

طمع الكثير من الدول للسيطرة على ثروات الوطن العربي على مر العصور؟

.....

.....

الأهمية الدينية لموقع وطننا العربي؟

.....

.....

(٢) قيام أبي بكر الصديق (رضي الله عنه) بمحاربة المرتدين؟

.....

.....

(٣) أمر أبو بكر الصديق (رضي الله عنه) زيدًا بن ثابت (رضي الله عنهما) بجمع القرآن الكريم؟

.....

.....

(٤) أرسل أبو بكر الصديق (رضي الله عنه) الجيوش الإسلامية خارج شبه الجزيرة العربية؟

.....

.....

(٥) أمر عثمان بن عفان (رضي الله عنه) بكتابة القرآن الكريم في مصحف واحد؟

.....

.....

(٦) إنشاء عثمان بن عفان (رضي الله عنه) لأول أسطول بحري في الإسلام؟

.....

.....

(٧) قيام عثمان بن عفان (رضي الله عنه) بالعديد من الفتوحات الإسلامية؟

.....

.....

(٨) نقل علي بن أبي طالب (رضي الله عنه) مقر الخلافة في المدينة إلى الكوفة في العراق؟

.....

.....

(٩) قام علي بن أبي طالب (رضي الله عنه) بتنظيم الشرطة؟

.....

.....

(١٠) يتمتع الوطن العربي بأهمية حضارية وثقافية كبيرة؟

(١١) تحكم الوطن العربي في أهم طرق التجارة العالمية؟

(١٢) اختفاء العادات السيئة عند العرب؟

(١٣) سمي عام ولادة الرسول (ﷺ) بعام الفيل؟

(١٤) عمل الرسول (ﷺ) بحرفة رعي الأغنام وهو في بيت عمه؟

(١٥) كان الرسول (ﷺ) يخلو بنفسه في غار حراء؟

(١٦) بدأت الدعوة إلى الإسلام سرّاً؟

(١٧) حاربت قريش دعوة الرسول (ﷺ)؟

(١٨) أمر الرسول (ﷺ) المسلمين بالهجرة إلى الحبشة؟

(١٩) فكر الرسول (ﷺ) في الهجرة إلى المدينة؟

(٢٠) شهرة مكة تجارياً؟

(٢١) مؤامرة قريش ضد الرسول (ﷺ)؟

(٢٢) فشلت قريش في منع الرسول (ﷺ) من الهجرة؟

نجح الرسول (ﷺ) في الهجرة من مكة إلى يثرب؟

(٢٣) قام الرسول (ﷺ) ببناء المسجد في المدينة؟

(٢٤) عمل الرسول (ﷺ) على المؤاخاة بين المهاجرين والأنصار؟

(٢٥) وضع الرسول (ﷺ) صحيفة المدينة؟

(٢٦) قيام الرسول (ﷺ) بالغزوات؟

(٢٧) تحول نصر المسلمين إلى هزيمة في غزوة أحد؟

(٢٨) قيام صلح الحديبية؟

(٢٩) قيام الرسول (ﷺ) بفتح مكة؟

(٣٠) بدأ الناس يأتون أفواجا إلى الرسول (ﷺ) بعد فتح مكة؟

(٣١) فشل جيش المشركين في دخول المدينة خلال غزوة الخندق؟

(٣٢) اعتبر النبي (ﷺ) صلح الحديبية فتحًا للمسلمين؟

(٣٣) وقع الاختيار على أبي بكر الصديق (رضي الله عنه) ليكون أول خليفة للمسلمين؟

(٣٤) قام أبو بكر الصديق (رضي الله عنه) بإرسال جيش أسامة بن زيد (رضي الله عنهما)

الذي جهزه الرسول (ﷺ) إلى الشام؟

ما النتائج المترتبة على:

(١) تمتع الوطن العربي بالموقع الجغرافي متميز؟

.....

(٢) إشراف الوطن العربي على ممرات مائة هامة؟

.....

(٣) قيام الحضارات القديمة على أرض الوطن العربي؟

.....

(٤) انتشار الإسلام في شبه الجزيرة العربية؟

.....

(٥) لجأ الرسول (ﷺ) إلى نشر دعوته بين القبائل العربية التي تفد إلى مكة في موسم الحج؟

.....

(٦) جهر الرسول (ﷺ) بالدعوة الإسلامية في مكة؟

.....

.....

.....

.....

(٧) وجود حاكم عادل في الحبشة؟

أيذاء قريش للمسلمين في بداية الدعوة؟

.....

(٨) مؤامرة قريش ضد الرسول (ﷺ)؟

.....

(٩) فتح الرسول (ﷺ) لمكة؟

.....

.....

(١٠) مخالفة الرماة أوامر الرسول (ﷺ) في غزوة أحد؟

.....

(١١) هجرة الرسول (ﷺ) من مكة إلى المدينة؟

(١٢) مؤاخاة الرسول (ﷺ) للمهاجرين والأنصار؟

(١٣) صلح الحديبية بين قريش والمسلمين؟

(١٤) عفو الرسول (ﷺ) عن أهل مكة؟

(١٥) إشارة سلمان الفارسي (رضي الله عنه) بحفر خندق حول المدينة؟

(١٦) نقض قريش عهدها مع الرسول (ﷺ)؟

نقض قريش لصلح الحديبية؟

اعتداء قبيلة قريش على قبيلة خزاعة؟

(١٧) محاربة أبي بكر الصديق (رضي الله عنه) للمرتدين؟

(١٨) استشهاد عدد كبير من حفظة القرآن الكريم في حرب المرتدين؟

(١٩) رفض البعض دفع الزكاة بعد وفاة الرسول (ﷺ)؟

(٢٠) اتساع أرجاء الدولة الإسلامية في عهد الخليفة علي بن أبي طالب (رضي الله عنه)؟

(٢١) إنشاء أول أسطول بحري في الإسلام؟

دل على صحة العبارات الآتية:

٨

(١) أغلب مساحة وطننا العربي تقع في الجناح الإفريقي.
اتساع وطننا العربي في قارة إفريقيا عن قارة آسيا.

(٢) يتحكم الوطن العربي في مسطحات وممرات مائة هامة.

(٣) ساد النظام القبلي في شبه الجزيرة العربية.

(٤) كانت لمكة شهرة تجارية واسعة.

(٥) تعددت عادات وصفات العرب قبل ظهور الإسلام.

(٦) تحمل الرسول (ﷺ) المسؤولية منذ صغره.

(٧) تعددت مراحل الدعوة إلى الإسلام.

(٨) تنوعت أساليب قريش في صد الدعوة إلى الإسلام.
حاربت قريش دعوة الرسول (ﷺ).

(٩) واجه الرسول (ﷺ) أذى المشركين بالأساليب السلمية والحكمة.

(١٠) تأمرت قريش على الرسول (ﷺ).

(١١) تعددت أدوار المسجد في الإسلام.

(١٢) كان للمؤاخاة بين المهاجرين والأنصار دور واضح في بناء الدولة الإسلامية.

(١٣) حاول الرسول (ﷺ) تنظيم علاقة المسلمين بمن حولهم في المدينة.

(١٤) كان صلح الحديبية فتحًا عظيمًا بالنسبة للمسلمين.

(١٥) تعتبر هجرة الرسول (ﷺ) إلى يثرب نقطة تحول في التاريخ الإسلامي.

(١٦) اهتم علي بن أبي طالب (رضي الله عنه) بتأمين بيت المال.

(١٧) سبقت صحيفة المدينة جمعيات حقوق الإنسان في العصر الحديث كنموذج للتعايش مع الآخر.
نجاح الرسول (ﷺ) في تنظيم العلاقات بين أهل المدينة.

..... ▲

..... ▲

..... ▲

..... ▲

(١٨) عدم طاعة الرسول (ﷺ) من أسباب الهزيمة.

..... ▲

..... ▲

(١٩) أظهر أبو بكر الصديق (رضي الله عنه) قدرة فائقة على إدارة شئون البلاد.

..... ▲

..... ▲

(٢٠) حرص علي بن أبي طالب (رضي الله عنه) على تطبيق العدل.

..... ▲

(٢١) تعددت الفتوحات الإسلامية في عهد الخليفة عمر بن الخطاب (رضي الله عنه).

..... ▲



(١) ما العلاقة بين الوطن العربي والعالم القديم؟



(٢) ما العلاقة بين سرية الدعوة وقريش؟



(٣) ما العلاقة بين إيذاء قريش للمسلمين والهجرة إلى يثرب؟



(٤) ما العلاقة بين عدالة النجاشي وهجرة المسلمين الأولى إلى الحبشة؟



(٥) ما العلاقة بين موقف قريش من الدعوة الإسلامية وهجرة المسلمين إلى الحبشة؟



(٦) ما العلاقة بين قبيلة خزاعة وفتح مكة؟



(٧) ما العلاقة بين مرحلة عالمية الدعوة وصلاح الحديبية؟



(٨) ما العلاقة بين مفاوضات النبي (ﷺ) مع قريش وانتشار الإسلام؟



(٩) ما العلاقة بين وفاة كل من الرسول (ﷺ) وعلي بن أبي طالب (رضي الله عنه) وعصر

الخلفاء الراشدين؟



(١٠) ما العلاقة بين تنظيم الشرطة وبيت المال؟



(١١) ما العلاقة بين الأسطول البحري وتأمين حدود الدولة الإسلامية؟



(١٢) اكتب تفسيرًا لقيام الزراعة في مصر والسودان.

(١٣) اكتب تفسيرًا لقيام الزراعة في الواحات.

(١٤) وضح سبب وجود زراعة في جنوب موريتانيا.

اكتب تفسيرًا لقيام الزراعة في الأجزاء الشمالية للوطن العربي.

(١٥) ما النتائج المترتبة على: سقوط أمطار شمال الوطن العربي؟

(١٦) اكتب تفسيرًا لأهمية رأس المال للنشاط الزراعي.

(١٧) اكتب تفسيرًا لأهمية وسائل النقل في الزراعة.

(١٨) اكتب تفسيرًا لأهمية الزراعة في الوطن العربي.

(١٩) دلل: تواجه الزراعة في الوطن العربي العديد من المشكلات.

اكتب تفسيرًا ل: تتعرض الزراعة في وطننا العربي لكثير من المشكلات.

(٢٠) دلل: قامت الكثير من الدول العربية بجهود عديدة لمواجهة المشكلات الزراعية.

(٢١) اكتب تفسيرًا للشهرة التي اكتسبتها واحات سيوة والعين وليوا.

(٢٢) ما النتائج المترتبة على: تنوع المناخ في الوطن العربي؟

(٢٣) بم تفسر: تنوع المحاصيل الزراعية في الوطن العربي؟

(٢٤) اكتب تفسيرًا لتركز تربية الجاموس في مصر.

بم تفسر؟ تعد مصر أولى الدول العربية في تربية الجاموس.

(٢٥) فسر: أهمية الثروة الحيوانية بالنسبة للوطن العربي.

(٢٦) دلل على صحة العبارة: تعاني الثروة الحيوانية في الوطن العربي من مشكلات عديدة.

(٢٧) ما العلاقة بين: التغيرات المناخية والثروة الحيوانية؟

(٢٨) وضح / حدد جهود الدول العربية لتنمية الثروة الحيوانية.

(٢٩) اكتب ثلاثة من أنواع الدواجن التي تربي في الوطن العربي.

(٣٠) اكتب تفسيرًا لاهتمام الدول العربية بتربية الدواجن.

(٣١) اكتب تفسيرًا: لأهمية الثروة السمكية بالوطن العربي.

(٣٢) اكتب تفسيرًا تعد المغرب أولى الدول العربية في إنتاج الأسماك.
دل: امتلاك المغرب سواحل طويلة بالنسبة لثروة السمكية.

(٣٣) ما النتائج المترتبة على: طول سواحل دولة المغرب؟

(٣٤) ما العلاقة بين: التغير المناخي والثروة السمكية؟

(٣٥) ما النتائج المترتبة على: ارتفاع درجة حرارة المسطحات المائية في الوطن العربي؟

(٣٦) حدد: جهود دول ووطننا العربي لتنمية الثروة السمكية.

(٣٧) ماذا كان سيحدث إذا لم تهتم الدول العربية بتنمية الثروة الحيوانية والسمكية؟

(٣٨) ما المقصود بالصناعة الاستخراجية؟



(٣٩) ما المقصود بالصناعة التحويلية؟



(٤٠) ما المقصود بالصناعة الخضراء؟



(٤١) دلل على صحة العبارة: يمتلك الوطن العربي ثروات معدنية متنوعة.



(٤٢) اكتب تفسيرًا لأهمية معدن الحديد.



(٤٣) ما العلاقة بين: خام الفوسفات والزراعة في الوطن العربي؟

اكتب تفسيرًا لأهمية الاقتصادية للفوسفات.



(٤٤) حدد المختلف فيما يلي: (الذهب - الحديد - البترول - الفوسفات).



(٤٥) اكتب تفسيرًا لأهمية الصناعة في الوطن العربي.



(٤٦) وضح المشكلات التي تواجه التعدين والصناعة في الوطن العربي.



(٤٧) ددل على صحة العبارة: تبذل الدول العربية جهودًا لتنمية مجالي التعدين والصناعة.

.....

.....

.....

(٤٨) اكتب تفسيرًا لـ : تعد مصر وقطر من نماذج الدول العربية الرائدة في التنمية الصناعية.

.....

.....

.....

(٤٩) اكتب تفسيرًا لـ : اتجهت الدول العربية إلى الصناعات الخضراء.

.....

.....

.....

(٥٠) ددل على صحة العبارة: يتمتع الوطن العربي بكافة مقومات السياحة.

.....

.....

.....

(٥١) اكتب تفسيرًا لـ : تعددت مزارات السياحة الدينية في وطننا العربي.

.....

.....

.....

(٥٢) ما النتائج المترتبة على: وجود العديد من الأماكن المقدسة في وطننا العربي؟

.....

.....

.....

(٥٣) اكتب تفسيرًا لـ : ازدهار السياحة الثقافية في الوطن العربي.

.....

.....

.....

(٥٤) اكتب تفسيرًا لـ : تنتشر سياحة التسوق في بعض الدول العربية.

.....

.....

.....

(٥٥) اكتب تفسيرًا لـ : وجود السياحة الترفيهية في مصر ولبنان والمغرب.

(٥٦) ما النتائج المترتبة على: وجود عيون المياه الكبريتية في مصر؟

(٥٧) دلل على صحة العبارة: تنتشر السياحة العلاجية في مصر والأردن .

(٥٨) اكتب تفسيرًا لـ : السياحة من أهم الأنشطة الاقتصادية في الوطن العربي.

(٥٩) دلل على صحة العبارة: تبذل الدول العربية جهودًا لتحقيق السياحة المستدامة.

(٦٠) بم تفسر؟ أهمية دعم السياحة المستدامة في المنطقة العربية.

(٦١) ما النتائج المترتبة على: وجود المحميات الطبيعية والمناطق الصحراوية في الوطن العربي؟

(٦٢) ما المقصود بـ: التجارة البينية العربية؟

(٦٣) ما المقصود بـ: التجارة الدولية / الخارجية؟

(٦٤) ما المقصود بـ: التجارة الإلكترونية؟

٦٥) ما النتائج المترتبة على حدوث الحركات الالتوائية بالوطن العربي؟

٦٦) اكتب تفسيرًا لـ: تكوين جبال أطلس وجبال كردستان.

• بم تفسر نشأة الجبال الانكسارية؟

٦٧) اكتب تفسيرًا لـ: نشأة جبال البحر الأحمر.

٦٨) دلل على صحة العبارة: الهضاب أكثر أشكال السطح انتشارًا بالوطن العربي.

• دلل على صحة العبارة: هضبة شمال إفريقيا من أكبر الظاهرات التضاريسية مساحة.

• اكتب تفسيرًا لـ: أهمية الواحات الموجودة بالوطن العربي.

٦٩) اكتب تفسيرًا لـ: تكون بحر الرمال العظيم في مصر وليبيا.

• اكتب تفسيرًا لـ: تكون الكثبان الرملية في وطننا العربي.

٧٠) قارن بين: الإقليم المداري وإقليم البحر المتوسط من حيث الخصائص.

٧١) دلل على صحة العبارة: أنفق أبو بكر الكثير من ماله في سبيل خدمة الإسلام.

٧٢) ما أهم القيم التي تمسك بها أبو بكر الصديق في حياته؟

٧٣) دلل على صحة العبارة: كان لعمر بن الخطاب الكثير من الأعمال البارزة في التاريخ الإسلامي.

(٧٤) ما العلاقة بين التعرية الهوائية و بحر الرمال العظيم؟



(٧٥) اكتب تفسيرًا لـ: نشأة وتكوين الأودية الجافة.



(٧٦) دلل على صحة العبارة: التعرية المائية أدت إلى تكوين العديد من أشكال السطح

بالوطن العربي.



(٧٧) اكتب تفسيرًا لـ: تكوين السهول الفيضية في الوطن العربي.

● بم تفسر خصوبة السهول الفيضية.

● ما العلاقة بين السهول الفيضية والتربة الخصبة؟



(٧٨) ما النتائج المترتبة على ترسيب المواد العالقة بمياه الأنهار؟



(٧٩) قارن بين سهول البحر المتوسط وسهول البحر الأحمر من حيث ما يميز كلًّا منهما.



(٨٠) دلل على صحة العبارة: السهول الساحلية بالوطن العربي متنوعة الموارد والاستخدامات.



(٨١) بم تفسر تنوع الأنشطة الاقتصادية في الوطن العربي؟



(٨٢) ما العلاقة بين التضاريس والأنشطة الاقتصادية؟



(٨٣) اكتب تفسيرًا ل: تباين درجات الحرارة بين دول الوطن العربي.

- دلل على صحة العبارة: تعدد العوامل المؤثرة في مناخ الوطن العربي.

(٨٤) ما النتائج المترتبة على: الموقع الفلكي للوطن العربي؟

- ما النتائج المترتبة على: مرور دائرة الاستواء بجنوب الوطن العربي؟

اكتب تفسيرًا ل: تعرض الوطن العربي لرياح حارة من جنوب آسيا صيفًا.

(٨٥) ما النتائج المترتبة على: اقتراب الوطن العربي من قارة أوروبا بالنسبة للمناخ؟

(٨٦) اكتب تفسيرًا ل: أهمية المسطحات المائية في الوطن العربي.

- ما العلاقة بين المسطحات المائية والمناخ؟

(٨٧) بم تفسر يقل تأثير المسطحات المائية على مناخ الوطن العربي؟

(٨٨) ما النتائج المترتبة على ضيق مساحة المسطحات المائية في الوطن العربي؟


(٨٩) اكتب تفسيرًا ل: يختلف مناخ المناطق المرتفعة عن مناخ الأودية والسهول.

- اكتب تفسيرًا ل: انخفاض درجة الحرارة في المناطق المرتفعة بالوطن العربي.

(٩٠) بم تفسر تكون الثلوج فوق جبال لبنان؟


(٩١) ما النتائج المترتبة على انخفاض درجة الحرارة على قمم الجبال؟

(٩٢) ما النتائج المترتبة على تعامد الشمس على مدار الجدي في فصل الشتاء بالوطن العربي؟

(٩٣)  قارن بين: مناخ الوطن العربي صيفًا وشتاءً من حيث الأمطار.

(٩٤) اكتب تفسيرًا لـ: ارتفاع درجة الحرارة صيفًا على جنوب الوطن العربي.

(٩٥)  ما العلاقة بين المناخ وحركة الطيران؟

(٩٦)  ما المقصود بالإقليم المناخي؟

(٩٧)  اكتب تفسيرًا لـ: تنوع الأقاليم المناخية في وطننا العربي.

(٩٨)  دلل على صحة العبارة: تنوع الأقاليم المناخية في الوطن العربي.

(٩٩) ما العلاقة بين إقليم المناخ الصحراوي الحار ونبات الصبار.

- بم تفسر انتشار نبات الصبار بالإقليم الصحراوي؟
- دلل على صحة العبارة: تختلف الصور النباتية في الإقليم الصحراوي بالوطن العربي.

(١٠٠) دلل على صحة العبارة: تختلف الصور النباتية في الإقليم الصحراوي بالوطن العربي.

(١٠١) اكتب تفسيرًا ل: سقوط الأمطار صيفًا على جنوب غرب اليمن.

(١٠٢) اكتب تفسيرًا ل: أهمية حشائش الإستبس بالنسبة للثروة الحيوانية.

(١٠٣) حدد اثنين من الحيوانات التي تعيش في الإقليم الصحراوي الحار.

(١٠٤) ما النتائج المترتبة على سقوط الأمطار على إقليم البحر المتوسط شتاء؟

(١٠٥) ماذا يحدث إذا لم تسقط الأمطار على إقليم البحر المتوسط شتاء.

(١٠٦) ما النتائج المترتبة على: يشغل الإقليم الصحراوي الحار معظم مساحة الوطن العربي؟

(١٠٧) قارن بين الإقليم المداري والإقليم الصحراوي الحار من حيث الخصائص.

(١٠٨) ما النتائج المترتبة على تنوع الأقاليم المناخية في الوطن العربي؟

(١٠٩) دلل على صحة العبارة: اهتمام دول الوطن العربي بالحفاظ على النبات الطبيعي

والحيوانات البرية.

(١١٠) ماذا يحدث إذا لم: تقم الدول العربية بإقامة المحميات الطبيعية.

(١١١) اكتب تفسيرًا ل: إنشاء دول الوطن العربي المحميات الطبيعية.

• بم تفسر أهمية المحميات الطبيعية؟

.....

.....

(١١٢) اكتب واحدة من مشكلات التي تواجه المحميات الطبيعية.

•  دلل على صحة العبارة: تتعرض المحميات الطبيعية إلى العديد من المخاطر.

.....

(١١٣)  اكتب دليلًا واحدًا على تعدد المشكلات البيئية في الوطن العربي.

ما النتائج المترتبة على المشكلات البيئية في الوطن العربي.

.....

(١١٤) ما المقصود بالجفاف؟

•  اكتب تفسيرًا ل: تعرض بعض الدول العربية لمشكلة الجفاف.

.....

(١١٥)  اكتب نتيجة واحدة ترتبت على تعرض الصومال لأكبر موجة جفاف بالوطن العربي.

.....

(١١٦)  اكتب تفسيرًا ل: تعاني معظم الدول العربية من ندرة المياه العذبة.

.....

(١١٧)  ما العلاقة بين السكان وندرة المياه العذبة.

.....

(١١٨) ما النتائج المترتبة على: تزايد استهلاك المياه في الوطن العربي.

.....

(١١٩)  ما النتائج المترتبة على النمو السكاني المتزايد في الوطن العربي.

.....

(١٢٠) اكتب تفسيرًا لـ: تزايد استهلاك المياه في الوطن العربي.

(١) ما المقصود بالتصحر؟

(١٢١) ما النتائج المترتبة على مشكلة التصحر في وطننا العربي؟

•  دلل على صحة العبارة: تعاني الدول العربية من مشكلة التصحر.

(١٢٢)  اكتب تفسيرًا لـ: تعرض مساحات واسعة من الوطن العربي لخطر التصحر.

• اكتب تفسيرًا لـ: تناقص قدرة الأراضي الزراعية على الإنتاج في الوطن العربي.

(١٢٣)  ما النتائج المترتبة على الرعي الجائر للحيوانات في الوطن العربي؟

(١٢٤) ما النتائج المترتبة على زحف الكثبان الرملية وتناقص المياه الجوفية في وطننا العربي؟

(١٢٥)  ما النتائج المترتبة على المشكلات البيئية في الوطن العربي.

•  اكتب دليلًا واحدًا على المشكلات البيئية تمثل خطورة على الوطن العربي.

(١٢٦) بم تفسر تدمير الحياة النباتية والحيوانية في كثير من مناطق الوطن العربي؟

•  ما العلاقة بين المشكلات البيئية والحياة النباتية والحيوانية؟

(١٢٧) ما العلاقة بين الطاقة النظيفة والمشكلات البيئية؟

(١٢٨) اكتب تفسيرًا ل: اتجاه الدول العربية لإنشاء المدن الذكية.

(١٢٩) ما النتائج المترتبة على زيادة المساحات الخضراء في الدول العربية.

(١٣٠) اكتب دليل واحد على أهم المبادرات التي أطلقتها الدول العربية لزيادة المساحات الخضراء في الوطن العربي.



صوب ما تحته خط:

١٠

- (١) تُعد مصر أولى الدول العربية في إنتاج الأسماك من المصايد. (.....)
- (٢) تعتمد صناعة الأسمدة على خام الألومنيوم. (.....)
- (٣) تُعد الصناعات الغذائية إحدى الصناعات الاستخراجية. (.....)
- (٤) أولى الدول العربية إنتاجًا للأسمت هي دولة لبنان. (.....)
- (٥) تحتل السودان المرتبة الأولى عربيًا في إنتاج الفوسفات. (.....)
- (٦) السعودية تحتل المركز الأول في إنتاج الفوسفات على مستوى العالم. (.....)
- (٧) تأثرت البيئة إيجابيًا بالصناعة. (.....)
- (٨) تأتي دولة قطر في المرتبة الأولى عربيًا في إنتاج البترو. (.....)
- (٩) تعمل المنظمة العربية للسياحة على تبادل المنتجات الزراعية بين الدول العربية. (.....)
- (١٠) يوجد مقر المنظمة العربية للسياحة بمدينة جدة في مصر. (.....)
- (١١) أولى الدول العربية في إنتاج قصب السكر هي السودان. (.....)
- (١٢) يُعد محصول البنجر من الحبوب الغذائية. (.....)
- (١٣) يعد السوق والأيدي العاملة من مقومات قيام الزراعة الطبيعية. (.....)
- (١٤) تشجع الدول العربية على استخدام الأسمدة الكيماوية. (.....)
- (١٥) تتركز زراعة القطن في دولتي المغرب وسوريا. (.....)
- (١٦) يربي الجاموس في الوطن العربي لوجود البيئة الصحراوية. (.....)
- (١٧) تساهم الأبقار والأغنام في توفير البروتين النباتي. (.....)

١١ انسب كلاً مما يلي إلى الخليفة الذي قام به:

- (١) وضع التقويم الهجري. (.....)
- (٢) أرسل عدة جيوش لمحاربة المرتدين عن الإسلام. (.....)
- (٣) أمر بإنشاء أول أسطول بحري في الإسلام. (.....)
- (٤) اهتم بتنظيم الشرطة وعين رئيساً لها أطلق عليه صاحب الشرطة. (.....)
- (٥) جمع القرآن الكريم لأول مرة في مصحف واحد. (.....)

١٢ من هو:

- (١) تولى رعاية الرسول (ﷺ) وعمره ٨ سنوات. (.....)
- (٢) لقب بالصادق الأمين. (.....)
- (٣) نزل بالوحي على الرسول (ﷺ) في غار حراء. (.....)
- (٤) صاحب الرسول (ﷺ) في رحلة الهجرة. (.....)
- (٥) أشار على الرسول (ﷺ) بحفر خندق حول المدينة. (.....)

١٣ اذكر نوع السياحة التي ينتمي إليها كل مكان من الأماكن التالية:

- (١) عين ماعين (٢) كنيسة القيامة (٣) الصحاري (٤) الأهرامات (٥) مركز تجاري بالإمارات (٦) شاطئ الإسكندرية (٧) بطولة كأس العالم للأمم الإفريقية لكرة اليد (٨) بطول العالم للإسكندرية

١٤ اذكر أولى الدول في تربية وإنتاج كل من:

- (١) الخيول. (.....) (٢) الأبقار والأغنام. (.....) (٣) الجاموس. (.....)
- (٤) الدواجن. (.....) (٥) أسماك المزارع السمكية. (.....) (٦) الإبل (.....)
- (٧) الأسماك من المصايد. (.....)

١٥ حدد العنصر المختلف مع ذكر السبب:

١٥

- (١) (الذرة - الأرز - القمح - الزيتون) ⚡
- (٢) (المياه الجوفية - مياه الأمطار - رأس المال - التربة الخصبة) ⚡
- (٣) (وسائل نقل - تنوع المناخ - الأيدي العاملة - السوق) ⚡

١٦ صف ما يلي:

١٦

(أ) حسب نوع المحاصيل (الزيتون، الذرة، القمح، الموالح، الموز،
الكتان، الأرز، التين، العنب):

محاصيل حبوب غذائية	محاصيل متنوعة	محاصيل الألياف
.....

١٧ انسب الظاهرات الجغرافية التالية إلى الدولة التي تقع فيها:

١٧

واحة عين صالح	واحة سيوة	وادي الدواسر	واحة الكفرة	نهري دجلة والفرات
.....

١٨ صف الجبال التالية إلى جبال التوائية وجبال انكسارية:

١٨

(جبال عمان - جبال الحجاز - جبال زاغروس - جبال عسير - جبال البحر الأحمر - جبال أطلس)

جبال التوائية	جبال انكسارية
.....

حسب مصدر المياه المستخدم في الزراعة
(دلتا النيل، جنوب موريتانيا، واحة سيوة، العراق، اليمن، واحة ليوا):

مياه الآبار والعيون	مياه الأنهار	مياه الامطار
.....

صنف الأماكن السياحية التالية إلى الدولة التي تنتمي إليها في
الجدول التالي:

الدولة التي ينتمي إليها	المكان السياحي
.....	١- المسجد الأقصى
.....	٢- دير سانت كاترين
.....	٣- المسجد الحرام
.....	٤- عين ماعين

الوحدة الأولى:

(أ) اختر الإجابة الصحيحة من بين القوسين:

- (١) الدولة العربية التي تطل على بحر ومحيط معًا
(مصر - العراق - المغرب - البحرين)
- (٢) منعت قريش الرسول (ﷺ) من أداء فريضة العمرة وذلك قبل
(غزوة بدر - غزوة أحد - غزوة الخندق - صلح الحديبية)
- (٣) الوطن العربي بالكامل يقع في شرق المحيط
(الهادي - الهندي - القطبي - الأطلنطي)
- (٤) أقصى امتداد ليابس الوطن العربي غربًا ينتهي مع سواحل
(السودان - موريتانيا - المغرب - الجزائر)
- (٥) إذا قمت برحلة من ميناء الإسكندرية إلى دولة موريتانيا ستقوم بعبور كمر مائي.
(مضيق جبل طارق - مضيق باب المندب - مضيق هرمز - قناة السويس)
- (٦) يقترب اليباس العربي من اليباس الأوربي عند مضيق
(باب المندب - جبل طارق - هرمز - قناة السويس)
- (٧) العامل المشترك بين آخر تجهيزات الرسول (ﷺ) وأول غزوات أبي بكر الصديق (رضي الله عنه) هو
(الفرس - الروم - جمع القرآن - قتال المرتدين)
- (٨) استفاد المسلمون بالخبرة الفارسية في المجال العسكري وظهر ذلك في غزوة
(تبوك - الخندق - بدر - أحد)
- (٩) اختلف علي بن أبي طالب (رضي الله عنه) عن الخلفاء الذين سبقوه في
(نظام الحكم - مقر الحكم - صفاته الحميدة - النظام الإداري)
- (١٠) النظام القبلي في شبه الجزيرة العربية يعتبر دليلاً على
(تفرقهم - انقسامهم - تحالفهم - اختلافهم)

(ب) أثبت بالأدلة:

سار الخليفة أبو بكر الصديق (رضي الله عنه) على نهج الرسول (ﷺ).

.....

.....

الوحدة الثانية:

(ب) اختر الإجابة الصحيحة مما بين القوسين:

- (١) تستخدم كطرق للمواصلات في الصحراء تنطبق العبارة على.....
(السهول الفيضية - السهول الساحلية - الأودية الجافة - الجبال الانكسارية)
- (٢) كل العوامل الآتية تؤثر في مناخ الوطن العربي ما عدا.....
(الموقع الفلكي - القرب أو البعد عن المسطحات المائية - مظاهر السطح - التكديس السكاني)

(ج) أجب عما يلي:

- (١) ماذا يحدث إذا: امتدت دائرة الاستواء في الأجزاء الشمالية من الوطن العربي؟
.....
- (٢) بم تفسر اختلاف الخصائص المناخية بين المدن العربية مثل الإسكندرية والكويت؟
.....
- (٣) ما العلاقة بين التصحر والغابات؟
.....
- (٤) ما أوجه التشابه والاختلاف بين جبال أطلس وجبال عمان؟
.....
.....
- (٥) ما العلاقة بين قارتي آسيا وأوروبا على مناخ الوطن العربي؟
.....
.....

(٦) ما العلاقة بين الأغنام والماعز وإقليم البحر المتوسط؟

.....

(٧) ما العلاقة بين المناطق المرتفعة وسقوط الأمطار؟

.....

(٨) ما العلاقة بين القوانين والمحميات الطبيعية في الوطن العربي؟

.....

(الوحدة الثالثة)

(أ) اختر الإجابة الصحيحة مما بين الأقواس:

(١) تحتفل الدول العربية يوم ٢٧ سبتمبر بيوم العربي.

(السياحة - الزراعة - الصناعة - التجارة)

(ب) أجب عما يلي:

(١) ماذا يحدث إذا: كان المناخ في الوطن العربي على وتيرة واحدة في الزراعة؟

.....

(٢) ما النتائج المرتبة على: وجود أماكن مقدسة في الوطن العربي.

.....

رحلة تعليمية متكاملة



١٤

حدد صور المياه العذبة المستخدمة في زراعة المناطق الآتية:

(١) مصر. (.....)

(٢) العراق. (.....)

(٣) واحة العين بالإمارات (.....)

(٤) جنوب موريتانيا. (.....)

١٥

اكتب المنظمة العربية التي من أهدافها ما يلي:

(١) النهوض بمستوى معيشة العاملين في قطاع الزراعة. (.....)

(٢) التسويق السياحي العربي المشترك. (.....)

(٣) تبادل المنتجات الزراعية بين البلاد العربية. (.....)

(٤) تنفيذ برامج لمواجهة أزمات الغذاء. (.....)

(٥) توافر الكوادر الفنية المؤهلة واستثمار التراث الثقافي. (.....)



الدراسات الاجتماعية



الإجابات النموذجية



ذاكر معنا



اختيارك
الأول في
مصر

إعداد
نخبة من كبار الأساتذة
المتخصصين

شركة التأسيس السليم





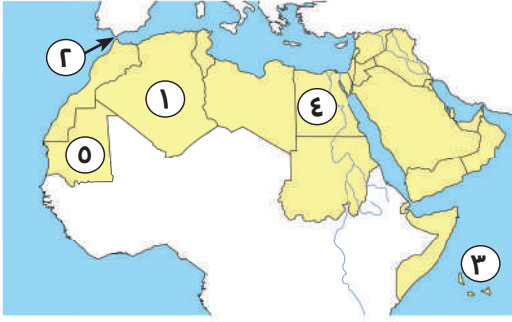
ذاكر معنا



النموذج الأول

السؤال الأول:

(أ) أمامك خريطة صماء، اكتب ما تدل عليه الأرقام:



- (١) دولة يوجد بها آثار تيمجاد الجزائر.
- (٢) يشير السهم إلى مضيق جبل طارق.
- (٣) يشير رقم (٣) إلى المحيط الهندي.
- (٤) أولى الدول إنتاجًا للحبوب الغذائية مصر.
- (٥) أولى الدول إنتاجًا للحديد موريتانيا.

(ب) ما النتائج المترتبة على: تعرض الصومال لأكبر موجة جفاف في العالم؟

ج أدى ذلك إلى: نقص الغذاء وحدوث مجاعة لأكثر من مليون شخص.

السؤال الثاني:

(أ) ضع علامة (✓) أمام العبارة الصحيحة وعلامة (X) أمام العبارة غير الصحيحة:

- (١) حرص النبي (ﷺ) بعد الهجرة على المؤاخاة بين المهاجرين واليهود. (X)
- (٢) يتسم المناخ مدينة الإسكندرية بسمات إقليم البحر المتوسط. (✓)
- (٣) تعد زيارة عين ماعين في الأردن سياحة دينية. (X)
- (٤) تسهم التجارة في تعزيز العلاقات بين الدول. (✓)

(ب) أجب عما يلي:

(١) دلل: أظهر أبو بكر الصديق (رضي الله عنه) قدرة فائقة في إدارة شئون الدولة.

ج حيث أنه تعرضت الدولة الإسلامية إلى خطر كبير بسبب ظهور المرتدين، فأعاد إلى الدولة وحدتها وأمنها.

(٢) ما العلاقة بين: الزراعة والبطالة في الوطن العربي؟

ج يوفر نشاط الزراعة فرص عمل للسكان حيث بلغت نسبة العاملين في نشاط الزراعة حوالي ١٥ % من إجمالي القوة العاملة.



السؤال الثالث:

(أ) اختر الإجابة الصحيحة مما بين القوسين:

- (١) تم جمع القرآن الكريم على يد الصحابي
(خالد بن الوليد - زيد بن ثابت - أسامة بن زيد - عثمان بن عفان)
- (٢) أكبر هضاب الوطن العربي مساحة هضبة
(بادية الشام - حضرموت - إفريقيا الشمالية - الجلف الكبير)
- (٣) يتعرض الوطن العربي لسقوط أمطار
(شتوية - استوائية - موسمية - إعصارية)

(ب) أجب عما يأتي:

- (١) بم تفسر: تتركز تربية الجاموس في مصر؟
Ⓒ لوجود البيئة الزراعية الفيضية المناسبة لتربيته.
- (٢) ما المقصود: بالصناعة الخضراء؟
Ⓒ هي الصناعات التي تعتمد على الاستثمار الأمثل للموارد المتجددة والحد من المخلفات لتقليل التأثير السلبي للصناعة على البيئة.

السؤال الرابع:

(أ) صوب الكلمات التي تحتها خط:

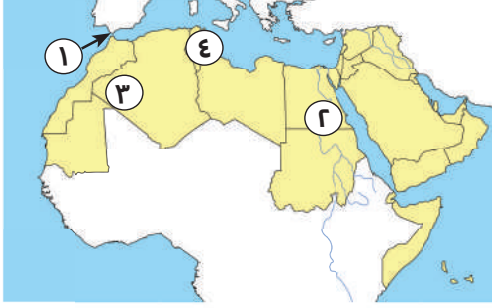
- (١) خالف الرماة أوامر الرسول (ﷺ) في غزوة بدر .
(٢) نقل علي بن أبي طالب (رضي الله عنه) مقر الخلافة من المدينة إلى الطائف. (الكوفة)

(ب) أجب عن الأسئلة الآتية:

- (١) حدد اثنين من: أهم المواقع السياحية الدينية في الوطن العربي.
Ⓒ المسجد الأقصى وكنيسة القيامة في فلسطين.
Ⓒ المسجد الحرام في السعودية.
- (٢) اذكر نتيجة ترتبت على: التشابه الكبير بين السلع والخدمات التي تنتجها الدول العربية.
Ⓒ أدى إلى ضعف التجارة البينية العربية.

النموذج الثاني

السؤال الأول:



(أ) أمامك خريطة صماء، اكتب ما تدل عليه الأرقام:

(١) يشير رقم (١) إلى المضيق جبل طارق.

(٢) يشير رقم (٢) إلى جبال البحر الأحمر.

(٣) يشير رقم (٣) إلى واحة عين صالح.

(٤) يشير رقم (٤) إلى دولة يوجد بها سياحة ثقافية تونس.

(ب) توجد عدة خصائص تشترك فيها الدول العربية.

يشترك الوطن العربي في عدة خصائص هي: التاريخ - اللغة - الثقافة المشتركة.

السؤال الثاني:

(أ) اختر الإجابة الصحيحة مما بين القوسين:

(١) يقلل إنشاء المدن الذكية من انبعاثات

(مصادر الطاقة - المعادن - الغازات الدفيئة - المحاصيل الزراعية)

(٢) تزوج الرسول (ﷺ) من ابنة أبي بكر الصديق (رضي الله عنه) وهي السيدة

(خديجة - زينب - عائشة - رقية)

(٣) تتميز واحة سيوة في مصر بزراعة أنواع جيدة من

(الأشجار - النخيل - الأزهار - الأوراق)

(ب) أجب عما يلي:

(١) ما النتائج المترتبة على: نشر الرسول (ﷺ) الدعوة بين الوفود التي وفدت إلى مكة في موسم الحج؟

استجاب له وفد من أهل يثرب ودخلوا في الإسلام.

فكر الرسول (ﷺ) في الهجرة إلى المدينة.

(٢) بم تفسر: إصدار الرسول (ﷺ) لوثيقة «صحيفة المدينة»؟

لتنظيم شئون المسلمين فيما بينهم.

لتنظيم علاقة المسلمين بالطوائف الأخرى خاصة «اليهود».

السؤال الثالث:

(أ) ضع علامة (✓) أمام العبارة الصحيحة وعلامة (X) أمام العبارة غير الصحيحة:

- (✓) (١) قدم الرسول (ﷺ) مثلاً عظيماً في التسامح يوم فتح مكة.
 (X) (٢) أدنى نقطة في سطح الوطن العربي في بحر قزوين.
 (X) (٣) تتركز زراعة البن بالوطن العربي في السعودية.

(ب) أجب عما يلي:

(١) حدد اثنين: من أهم أعمال «علي بن أبي طالب (رضي الله عنه)».

⊖ نقل مقر الخلافة إلى الكوفة في العراق.

⊖ قام بتنظيم الشرطة.

(٢) ما العلاقة بين: التعرية الهوائية و بحر الرمال العظيم؟

⊖ نتج عن عمليات التعرية الهوائية نشأة بحر الرمال العظيم.

السؤال الرابع:

(أ) أكمل العبارات التالية مستخدماً الكلمات التالية:

(الصيف - بيت - المسجد - الشتاء - ثقافية - الإنترنت - رياضية - الذرة - الدعاية - قصب السكر)

(١) أول عمل قام به الرسول (ﷺ) في المدينة بناء المسجد.

(٢) يتميز الإقليم المداري بسقوط الأمطار في فصل الصيف.

(٣) التجارة الإلكترونية هي تبادل السلع والخدمات باستخدام الإنترنت.

(٤) أحد محاصيل الحبوب الغذائية القمح.

(ب) بم تفسر: تكون الثلوج فوق قمم جبال لبنان؟

⊖ لإننا كلما ارتفعنا ١٥٠ متراً، تنخفض درجات الحرارة درجة مئوية واحدة وبالتالي

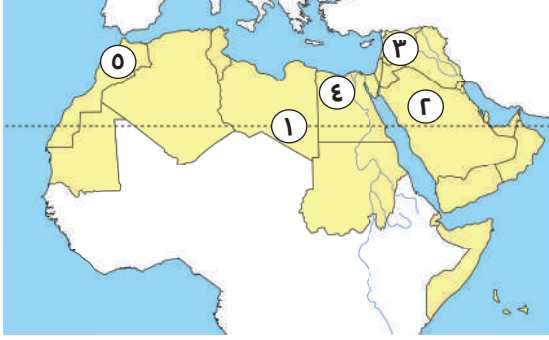
تتكون الثلوج فوق القمم الجبلية مثل: جبل لبنان.



النموذج الثالث

السؤال الأول:

(أ) أمامك خريطة صماء، اكتب ما تدل عليه الأرقام:



(١) يشير رقم (١) إلى المدار السرطان.

(٢) يشير رقم (٢) إلى دولة السعودية.

(٣) يشير رقم (٣) لإقليم مناخي هو البحر المتوسط.

(٤) يشير رقم (٤) إلى الدولة عربية هي مصر.

(٥) يشير رقم (٥) إلى الدولة هي الأولى في تربية الدواجن هي المغرب.

(ب) ما النتائج المترتبة على: الوجود الفلكي للوطن العربي؟

أصبح وطننا العربي مطمئنًا لكثير من الدول للسيطرة على ثرواته على مر العصور.

السؤال الثاني:

(أ) اختر الإجابة الصحيحة مما بين القوسين:

(١) أعلى نقطة في الوطن العربي توجد في دولة

(تونس - ليبيا - الجزائر - المغرب)

(٢) يتسم فصل الصيف في الوطن العربي بـ

(سقوط الأمطار - الرياح الباردة - الجفاف - السيول)

(٣) ينتمي الجزء الجنوبي الغربي من دولة اليمن إلى الإقليم مناخي

(الصحراوي الحار - المداري - الاستوائي - البحر المتوسط)

(ب) بم تفسر:

(١) بدأ الرسول (ﷺ) بالدعوة إلى الإسلام سرًا؟

لتجنب أذى قريش.

(٢) اعتبر النبي (ﷺ) صلح الحديبية فتحًا مبيّنًا؟

لأن الرسول (ﷺ) بسبب الصلح استطاع نشر الدعوة خارج شبه الجزيرة العربية.

السؤال الثالث:

(أ) إلى من تنسب الأعمال التاريخية الآتية؟

- (١) محاربة المرتدين وجمع القرآن الكريم. (أبو بكر الصديق)
 (٢) إنشاء بعض الدواوين مثل ديوان بيت المال. (عمر بن الخطاب)
 (٣) أشار على الرسول (ﷺ) بحفر خندق حول المدينة. (سلمان الفارسي)

(ب) اجب عما يلي:

- (١) ما النتائج المترتبة على: إنشاء أول أسطول بحري في الإسلام؟
 لتأمين سواحل مصر والشام من هجمات الروم.
 (٢) حدد في أي البلاد العربية توجد الظواهر التضاريسية الآتية: (عين صالح - وادي الدواسر).
 (أ) واحة عين صالح «الجزائر». (ب) وادي الدواسر «السعودية».

السؤال الرابع:

(أ) أكمل العبارات التالية مستخدماً الكلمات التالية:

- (العلاجية - أحد - الخندق - ليبيا - الصومال - لبنان)
 (١) تحول نصر المسلمين إلى هزيمة في غزوة أحد.
 (٢) يمتد بحر الرمال العظيم بين مصر وليبيا.
 (٣) أكبر الدول العربية في تربية الإبل الصومال.
 (٤) تقع محمية أرز الشوف في دولة لبنان.
 (٥) زيارة عيون موسى بمصر من أشكال السياحة العلاجية.

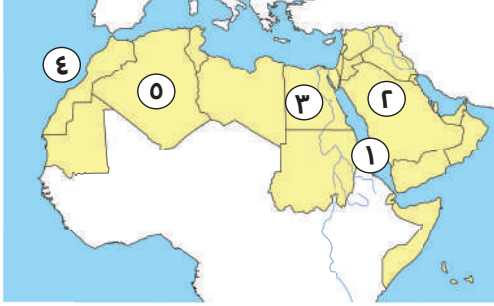
(ب) اجب عما يلي:

- (١) دلل جغرافياً: تتعدد العوامل المؤثرة في مناخ الوطن العربي.
 الموقع الفلكي - القرب أو البعد عن المسطحات المائية - مظاهر السطح.
 (٢) بم تفسر: أهمية التجارة في الدولة الإسلامية؟
 أسهمت في بناء الدولة الإسلامية.
 ساهمت على نشر الإسلام؛ لأن التجار المسلمين اتصفوا بالأخلاق الحميدة.

النموذج الرابع

السؤال الأول:

(أ) أمامك خريطة صماء، اكتب ما تدل عليه الأرقام:



- (١) البحر الأحمر .
- (٢) أولى الدول العربية في إنتاج البترول السعودية.
- (٣) أولى الدول العربية إنتاجًا للحبوب الغذائية مصر.
- (٤) المحيط الأطلسي.
- (٥) أكبر الدول العربية من حيث المساحة الجزائر .

(ب) بم تفسر: زيادة معدل استهلاك المياه العذبة في الوطن العربي.

- Ⓐ النمو السكاني المتزايد.
- Ⓑ التوسع في نشاط الزراعة.

السؤال الثاني:

(أ) ضع علامة (✓) أمام العبارة الصحيحة وعلامة (X) أمام العبارة غير الصحيحة:

- (١) ولد النبي (ﷺ) في عام الفيل. (✓)
- (٢) يتمتع وطننا العربي بكافة مقومات السياحة. (✓)
- (٣) تؤثر المسطحات المائية على مناخ الوطن العربي. (✓)
- (٤) تكفي اللحوم الحمراء حاجة سكان الوطن العربي. (X)

(ب) أجب عما يلي:

- (١) أثبت صحة العبارة: اتسم عمر بن الخطاب (رضي الله عنه) بالرحمة رغم شدته.
Ⓐ حيث إنه عندما جاء إليه رجل يهودي كبير في السن يسأله الحاجة ورفع الجزية، أعطاه ما يكفي ورفع عنه الجزية هو ومن مثله.
- (٢) دلل: تواجه الزراعة في الوطن العربي عدة مشكلات.
Ⓐ ندرة المياه العذبة - تذبذب كمية الأمطار - التصحر - زحف الرمال - الجفاف.

السؤال الثالث:

(أ) اكتب ما تشير إليه العبارات الآتية:

- (١) نقص كمية الأمطار في بعض السنوات. (الجفاف)
- (٢) صناعة تتمثل في استخراج المعادن ومصادر الطاقة. (الصناعة الاستخراجية)
- (٣) إقليم مُناخي تنمو فيه حشائش الإستبس وتربى عليه الماعز. (إقليم البحر المتوسط)

(ب) اجب عما يلي:

- (١) ما النتائج المترتبة على: طول سواحل دولة المغرب؟
- ⊖ أصبحت أولى دول الوطن العربي في إنتاج الأسماك.
- (٢) وضح: أهمية معدن الحديد.
- ⊖ يُستخدم في الكثير من الصناعات الثقيلة والمنشآت والكباري.

السؤال الرابع:

(أ) صف المقومات الطبيعية والمقومات البشرية لقيام الزراعة (مستخدمًا الجدول الآتي):

(الأيدي العاملة - موارد المياه العذبة - رأس المال - التربة الخصبة).

المقومات البشرية	المقومات الطبيعية
رأس المال	موارد المياه العذبة
الأيدي العاملة	التربة الخصبة

(ب) كيف تقوم الدول العربية بتحقيق السياحة المستدامة؟

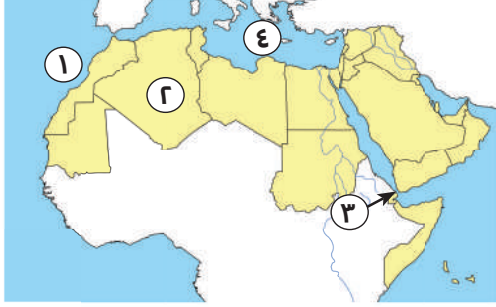
- ⊖ (١) تطوير البنية التحتية لقطاع السياحة.
- (٢) تأهيل العاملين في السياحة.
- (٣) رفع جودة الخدمات السياحية للمستوى العالمي.



النموذج الخامس

السؤال الأول:

(أ) أمامك خريطة صماء، اكتب ما تدل عليه الأرقام:



(١) يشير رقم (١) على الخريطة إلى المحيط الأطلسي.

(٢) يشير رقم (٢) على الخريطة إلى دول الجزائر.

(٣) يشير رقم (٣) على الخريطة إلى مضيق باب المندب.

(٤) يشير رقم (٤) على الخريطة إلى البحر المتوسط.

(ب) اذكر اثنين: من أهم مواقع السياحة الثقافية.

ج - مدينة تدمر في سوريا. - مدينة الأقصر في مصر.

السؤال الثاني:

(أ) ضع علامة (✓) أمام العبارة الصحيحة وعلامة (X) أمام العبارة غير الصحيحة:

- (١) يقع بحر العرب والصحراء الكبرى جنوب الوطن العربي. (✓)
- (٢) نزل جبريل (عليه السلام) برسالة الإسلام أثناء تعبد الرسول (ﷺ) في غار حراء. (✓)
- (٣) يسود المناخ المعتدل المناطق الجنوبية في الوطن العربي. (X)
- (٤) أكبر الدول العربية إنتاجًا للبتروول هي السعودية. (✓)

(ب) قارن بين: (الإقليم الصحراوي والبحر المتوسط) من حيث الخصائص المناخية.

إقليم البحر المتوسط	الإقليم الصحراوي	وجه المقارنة
الصيف: حار وجاف. الشتاء: دافئ وممطر.	الصيف: شديد الحرارة قد تصل إلى ٥٠ درجة مئوية. الشتاء: معتدل نهارًا، شديد البرودة ليلاً، نادر المطر ويمكن أن يسقط على هيئة سيول.	الخصائص المناخية

السؤال الثالث:

(أ) اختر الإجابة الصحيحة مما بين القوسين:

- (٩) اتجه جيش أسامة بن زيد (رضي الله عنهما) إلى لقتال الروم في بلاد
(الشام - فارس - مصر - المغرب)
- (١٠) مُناخ مدينة الإسكندرية معتدل أكثر من مناخ مدينة الرياض بسبب تأثير
(دائرة الاستواء - اتجاه المرتفعات - خط جرينتش - المسطحات المائية)
- (١١) يوجد مقر المنظمة العربية للتنمية الزراعية بدولة
(مصر - الجزائر - السودان - السعودية)

(ب) أجب عما يلي:

- (١) حدد اثنين من صفات عُمر بن الخطاب.
⊕ (١) اتسم بالبلاغة والفصاحة. (٢) عرف عنه الحكمة والشدة في الحق.
(٢) دلل على صحة العبارة: تنوع المحاصيل الزراعية في الوطن العربي.
⊕ يشتهر الوطن العربي بزراعة:
(١) الحبوب الغذائية. (٢) المحاصيل السكرية. (٣) محاصيل الألياف. (٤) التمور.

السؤال الرابع:

(أ) أكمل العبارات التالية مستخدمًا الكلمات التالية:

- (١) نزل الوحي على الرسول (ﷺ) عندما كان يتعبد في غار حراء.
(٢) الكثبان الرملية هي تجمعات رملية تكونت بفعل التعرية الهوائية.
(٣) تنمو في الإقليم المداري حشائش تسمى حشائش السافانا.
(٤) تتعرض كثير من الدول العربية لخطر الجفاف بسبب نقص كمية الأمطار.

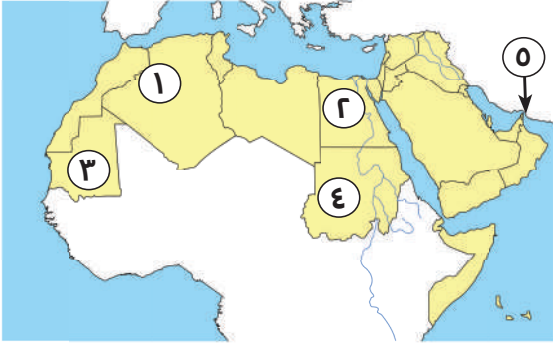
(ب) أجب عما يلي:

- (١) بم تفسر: أهمية الثروة السمكية في الوطن العربي؟
⊕ تسهم في سد العجز من البروتين الحيواني.
(٢) وضح: أهمية معدن الذهب.
⊕ يستخدم في صناعة الحلي.
⊕ تستخدم ذراته في علاج بعض الأمراض.

النموذج السادس

السؤال الأول:

(أ) أمامك خريطة صماء، كتب ما تدل عليه الأرقام:



(١) صوب: نشأت الجبال رقم (١)

نتيجة لحركات انكسارية إتوائية.

(٢) اختر: الدولة رقم (٢) هي الأولى في تربية.

(الخيول - الماعز - الجاموس - الإبل)(٣) يشير رقم (٣) إلى إقليم مناخي هو المداري.(٤) يشير رقم (٤) إلى أولى الدول في إنتاج معدن الذهب.

(٥) اكتب (✓) أو (X): يشير رقم (٥) إلى مضيق باب المندب (X)

(ب) **بم تفسر:** الأهمية الدينية لموقع الوطن العربي؟

⊖ موطن الديانات السماوية «اليهودية - المسيحية - الإسلامية».

⊖ يضم أماكن مقدسة مثل: الكعبة المشرفة في السعودية - كنيسة القيامة في فلسطين- الأزهر الشريف.

السؤال الثاني:

(أ) اختر الإجابة الصحيحة مما بين القوسين:

(١) أشجار الأرز تنمو في إقليم مناخ

(البحر المتوسط - الاستوائي - المداري - الصحراوي الحار)

(٢) أكثر الدول العربية التي تعرضت لخطر الجفاف

(الجزائر - الصومال - البحرين - المغرب)

(٣) استشهد عمر بن الخطاب (رضي الله عنه) بعدما طعن على يد

(مسيلمة الكذاب - عبد الله بن سبأ - أبو لؤلؤة المجوسي - زيد بن ثابت)(ب) **أجب عما يلي:**

(١) ما النتائج المترتبة على: أذى قريش للمسلمين في بداية الدعوة؟

⊖ أمر الرسول (ﷺ) أصحابه بالهجرة إلى الحبشة.

- (٢) دلل على صحة العبارة: خطط الرسول (ﷺ) للهجرة بشكل جديد.
- Ⓒ حيث إنه: اختار طرقاً غير معروفة حتى وصل إلى يثرب.
- Ⓒ السرية التامة حيث إنه هاجر ليلاً مع صديقه أبي بكر الصديق (رضي الله عنه).

السؤال الثالث:

(أ) أكمل العبارات التالية مستخدماً الكلمات التالية:

- (١) تقع أصغر الدول العربية مساحة في قارة آسيا.
- (٢) أول عمل قام به الرسول (ﷺ) في المدينة هو بناء المسجد.
- (٣) يسود معظم أجزاء الوطن العربي المناخ الصحراوي الحار.
- (٤) أكثر الدول العربية التي تعرضت لخطر الجفاف هي الصومال.

(ب) أجب عما يلي:

- (١) اذكر نتيجة واحدة ل: محاربة المرتدين.
- Ⓒ استشهاد عدد كبير من حفظة القرآن الكريم في حروب الردة.
- (٢) دلل: الهضاب أكثر أشكال سطح الأرض انتشاراً بالوطن العربي.
- Ⓒ حيث إنه يوجد الكثير من الهضاب في الوطن العربي مثل : هضبة إفريقيا الشمالية - هضبة بادية الشام - هضبة نجد - هضبة حضر موت.

السؤال الرابع:

(أ) ضع علامة (✓) أمام العبارة الصحيحة وعلامة (X) أمام العبارة غير الصحيحة:

- (١) تعمل مصر على التوسع في الصناعة الخضراء. (✓)
- (٢) تتشابه درجات الحرارة في دول الوطن العربي. (X)
- (٣) تبذل الدول العربية جهوداً لتحقيق السياحة المستدامة. (✓)

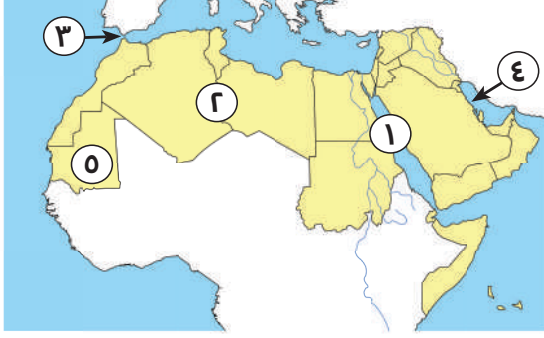
(ب) أجب عما يلي:

- (١) ما العلاقة بين: المناخ وحركة الطيران؟
- Ⓒ يؤدي سوء الأحوال الجوية أحياناً إلى تأجيل أو إلغاء الرحلات الجوية.
- (٢) بم تفسر: يعد الوطن العربي مطمئناً لكثير من الدول عبر العصور.
- Ⓒ بسبب تمتع الوطن العربي بموقع جغرافي مميز.

النموذج السابع

السؤال الأول:

(أ) أمامك خريطة صماء، اكتب ما تدل عليه الأرقام:



(١) البحر الأحمر .

(٢) هضبة إفريقيا الشمالية.

(٣) مضيق جبل طارق.

(٤) أولى الدول العربية إنتاجًا للحديد موريتانيا.

(ب) ما العلاقة بين: السكان وندرة المياه العذبة.

بسبب تزايد عدد السكان زاد الضغط على استهلاك المياه العذبة وبالتالي تحدث مشكلة ندرة المياه العذبة.

السؤال الثاني:

(أ) اختر الإجابة الصحيحة مما بين القوسين:

(١) إحدى الدول العربية الإفريقية التي تطل على البحر الأحمر

(تونس - اليمن - السعودية - السودان)

(٢) أطلق على الرسول (ﷺ) قبل الإسلام لقب

(الصادق الأمين - الرحيم - المتواضع - أول خطيب)

(٣) كانت هجرة المسلمين الأولى إلى

(المدينة - الحبشة - مكة - الطائف)

(ب) أجب عما يأتي:

(١) ما النتائج المترتبة على: تنوع المناخ في الوطن العربي بالنسبة لنشاط الزراعة؟

ب أدى إلى تنوع المحاصيل الزراعية.

(٢) دلل على صحة العبارة: تعاني الثروة الحيوانية في الوطن العربي من مشكلات عديدة.

ب حيث تعاني من: (١) فقر المراعي في الوطن العربي.

(٢) الرعي الجائر للحيوانات.

(٣) اتباع أساليب الرعي التقليدية.

السؤال الثالث:

(أ) أكمل العبارات التالية مستخدماً الكلمات التالية:

(الأبقار - الهضاب - القبلي - تحويلية - الدواجن - المحيط الأطلنطي)

- (١) تنقسم الصناعات إلى صناعات استخراجية وصناعات تحويلية.
 - (٢) تعد المغرب أولى الدول العربية في إنتاج الأسماك: لأنها تطل على المحيط الأطلنطي.
 - (٣) أكثر مظاهر السطح انتشاراً في الوطن العربي هي الهضاب.
 - (٤) تعد السودان أولى الدول العربية في تربية الأبقار.
 - (٥) نظام الحكم السائد في شبه الجزيرة العربية قبل الإسلام كان هو النظام القبلي.
- (ب) اكتب اثنين: من المقومات الطبيعية التي ساعدت على قيام الزراعة في الوطن العربي.
- Ⓒ (١) المناخ المعتدل.
 - (٢) موارد المياه والتربة الخصبة.

السؤال الرابع:

(أ) اكتب ما تشير إليه العبارات الآتية:

- (١) تبادل السلع والخدمات باستخدام شبكة المعلومات. (التجارة الإلكترونية)
- (٢) تناقص قدرة الأراضي الزراعية على الإنتاج. (التصحّر)
- (٣) غزوة تحول فيها نصر المسلمين إلى هزيمة. (أحد)

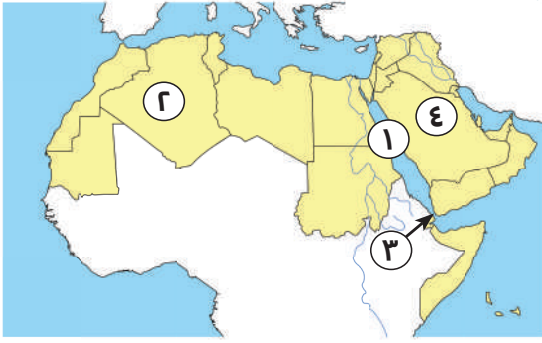
(ب) أجب عما يأتي:

- (١) ما نتيجة: وجود عيون المياه الكبريتية في مصر والأردن؟
- Ⓒ أصبحت كل من مصر والأردن من مواقع السياحة العلاجية في الوطن العربي.
- (٢) حدد هدفين لـ: المنظمة العربية والبشرية في قطاع الزراعة والثروة السمكية والأغذية.
- Ⓒ تنمية الموارد الطبيعية والبشرية في قطاع الزراعة والثروة السمكية والأغذية.
- Ⓒ دعم إقامة المشاريع والصناعات الزراعية والسمكية.

النموذج الثامن

السؤال الأول:

(أ) أمامك خريطة صماء، اكتب ما تدل عليه الأرقام:



(١) البحر الأحمر.

(٢) أكبر الدول العربية مساحة الجزائر.

(٣) مضيق باب المندب.

(٤) أولى الدول العربية إنتاجًا للبتروال السعودية.

(ب) **دل على صحة العبارة:** يشرف الوطن العربي على العديد من المسطحات المائية الهامة.

حيث إنه يشرف على: «البحر الأحمر - البحر المتوسط - الخليج العربي».

السؤال الثاني:

(أ) اكتب ما تشير إليه العبارات الآتية:

(١) أشار على الرسول (ﷺ) بحفر الخندق حول المدينة عام ٥ هـ. (سلمان الفارسي)

(٢) استكمل الفتوحات الإسلامية التي بدأت في عهد الخليفة أبي بكر الصديق. (عمر بن الخطاب)

(٣) تعرضت الدولة الإسلامية في عهده لخطر المرتدين. (أبو بكر الصديق)

(ب) **أجب عما يأتي:**

(١) بم تفسر: شهرة مكة تجاريًا.

بسبب قيامها برحلات تجارية مثل: رحلة الشتاء إلى اليمن ورحلة الصيف إلى بلاد الشام.

(٢) ما النتائج المترتبة على: عفو النبي عن أهل مكة؟

دخول الكثير من أهل مكة في الإسلام أفواجًا.



السؤال الثالث:

(أ) اختر الإجابة الصحيحة مما بين القوسين:

- (١) تتركز زراعة البن في الوطن العربي في إحدى دول الجناح
(الآسيوي - الإفريقي - الأوروبي - الأمريكي)
- (٢) تتسم بالضعف بسبب التشابه بين السلع والخدمات وعدم تنوع الصادرات
"توضح الجملة التجارة".....
(العالمية - البيئية العربية - الإلكترونية - الخارجية)
- (٣) تقوم الدول العربية بتنمية صناعة السياحة وجذب السياحة العالمية من خلال منظمة.....
(التجارة العربية - السياحة العربية - الصناعة العربية - الزراعة العربية)

(ب) أجب عما يلي:

- (١) اذكر سبب: نشأة الجبال الانكسارية.
⊕ نشأت نتيجة لحدوث انكسار في القشرة الأرضية.
(٢) دلل على صحة العبارة: تتعرض المحميات الطبيعية للعديد من التهديدات البشرية.
⊕ حيث إنها تعرضت لـ: الرعي الجائر - الصيد الجائر - التلوث البيئي.

السؤال الرابع:

(أ) من يكون ..؟

- (١) أنشأ الدواوين ووضع التقويم الهجري. (عمر بن الخطاب)
(٢) أول من أسلم من الرجال وصحب النبي (ﷺ) في هجرته إلى المدينة. (أبو بكر الصديق)

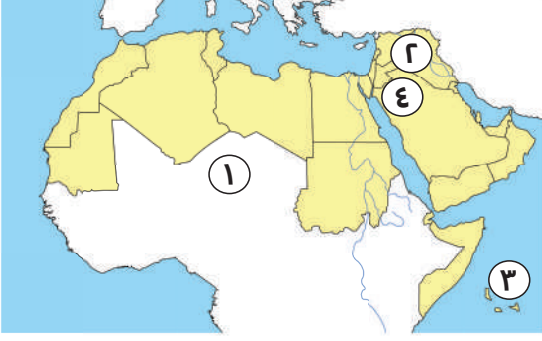
(ب) أجب عما يلي:

- (١) حدد هدفين لـ المنظمة العربية للسياحة.
⊕ تنمية صناعة السياحة في الدول العربية وجذب السياحة العالمية والعربية البيئية.
⊕ تنشيط البحث العلمي وتشجيعه ونشره للمساهمة في تطوير السياحة.
(٢) فسر العبارة الآتية: قام عثمان بن عفان بالعديد من الفتوحات الإسلامية.
⊕ لتأمين حدود الدولة الإسلامية.

النموذج التاسع

السؤال الأول:

(أ) أمامك خريطة صماء، اكتب ما تدل عليه الأرقام:



(١) يشير رقم (١) إلى الصحراء الكبرى.

(٢) يشير رقم (٢) إلى دولة منتجة للعبء العراق.

(٣) يشير رقم (٣) إلى المحيط الهندي.

(٤) يشير رقم (٤) إلى هضبة بادية الشام.

(ب) بم تفسر؟ أهمية حشائش الإستبس بالنسبة للثروة الحيوانية.

تصلح لتربية الأغنام والماعز عليها.

السؤال الثاني:

(أ) اختر الإجابة الصحيحة مما بين القوسين:

(١) عفا الرسول (ﷺ) عن أهل مكة بعد

(أحد - بدر - فتح مكة - صلح الحديبية)

(٢) تم تعيين شرطة لحراسة بيت المال في عهد الخليفة

(عثمان بن عفان - علي بن أبي طالب - أبي بكر الصديق - عمر بن الخطاب)

(٣) توجد واحة عين صالح في

(السعودية - مصر - المغرب - الجزائر)

(ب) أجب عما يأتي:

(١) ما العلاقة بين: المشكلات البيئية والحياة النباتية والحيوانية؟

المشكلات البيئية تدمر الحياة النباتية والحيوانية في كثير من المناطق العربية.

(٢) فسر السبب: هجرة عمر بن الخطاب إلى المدينة علانية دون خوف.

لأنه كان يتسم بالشجاعة فلم يقدر أحد من أهل مكة على منعه من الهجرة.

السؤال الثالث:

(أ) أكمل العبارات بما يناسبها من الكلمات الآتية:

(موريتانيا - البحث العلمي - رواسب الأنهار - البحر المتوسط - الإسلام - حار)

- (١) تكونت السهول الفيضية نتيجة رواسب الأنهار.
- (٢) تنمو أشجار الأرز في إقليم مناخ البحر المتوسط.
- (٣) أولى الدول العربية في إنتاج الحديد موريتانيا.
- (٤) الدول العربية تبذل جهودًا لتنمية التعدين والصناعة مثل الاهتمام بالتعليم والبحث العلمي.
- (٥) أسهمت التجارة في الدولة الإسلامية في نشر الإسلام.

(ب) أجب عما يلي:

دل على صحة العبارة: تعمل الدول العربية على تطوير نظم الزراعة.

- Ⓒ حيث قامت الدول العربية بـ: (١) إنشاء السدود والخزانات وتحتية مياه البحر.
- (٢) استصلاح الأراضي الصحراوية. (٣) استخدام الأسمدة العضوية.

السؤال الرابع:

(أ) ضع علامة (✓) أمام العبارة الصحيحة وعلامة (X) أمام العبارة غير الصحيحة:

- (١) أمر عثمان بن عفان (رضي الله عنه) بإنشاء أول أسطول بحري في الإسلام. (✓)
- (٢) تساعد الزراعة في توفير فرص العمل لسكان الوطن العربي. (✓)
- (٣) مصر هي أولى الدول العربية إنتاجًا للأسماك من المصايد السمكية. (✓)

(ب) أجب عما يلي:

(١) ما العلاقة بين خام الفوسفات والزراعة في الوطن العربي؟

Ⓒ يستخدم خام الفوسفات في صناعة الأسمدة والتي تستخدم في تسميد الأراضي الزراعية.

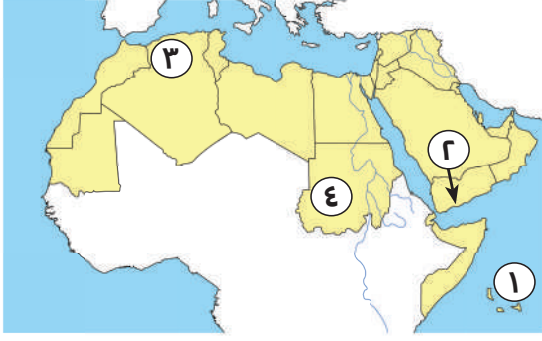
(٢) ما المقصود بـ: السياحة الرياضية؟

Ⓒ تتمثل في حضور المسابقات الرياضية المختلفة.

النموذج العاشر

السؤال الأول:

(أ) أمامك خريطة صماء، اكتب ما تدل عليه الأرقام:



(١) مسطح مائي المحيط الهندي.

(٢) دولة آسيوية اليمن.

(٣) من الجبال الالبتوائية أطلس.

(٤) إقليم مناخي المداري.

(ب) **دل على صحة العبارة:** قامت على أرض الوطن العربي أقدم الحضارات في العالم.

ج حيث إنه قامت على أرضه: حضارة بلاد العراق - الحضارة المصرية القديمة.

السؤال الثاني:

(أ) انسب كل عمل من هذه الأعمال إلى صاحبه:

(إنشاء الدواوين - تنظيم الشرطة - أشار بحفر الخندق - محاربة المرتدين)

أبو بكر الصديق (رضي الله عنه)	عمر بن الخطاب (رضي الله عنه)	علي بن أبي طالب (رضي الله عنه)	سلمان الفارسي (رضي الله عنه)
محاربة المرتدين	إنشاء الدواوين	تنظيم الشرطة	أشار بحفر خندق

(ب) **أجب عما يلي:**

(١) بم تفسر: رفضت قريش الدعوة الإسلامية؟

ج **خوفاً على مكانتها بين القبائل.**

(٢) ما النتائج المترتبة على: إشارة سلمان الفارسي (رضي الله عنه) بحفر خندق حول المدينة؟

ج **لم تستطع قريش دخول المدينة وانتصر المسلمون في غزوة الخندق.**

السؤال الثالث:

(أ) اختر الإجابة الصحيحة مما بين القوسين:

- (١) أول من بايع أبا بكر الصديق (رضي الله عنه) بالخلافة هو
(علي بن أبي طالب - عمر بن الخطاب - عثمان بن عفان - زيد بن ثابت)
- (٢) تعد المغرب أولى الدول العربية في إنتاج الأسماك لأنها تطل على
(البحر الأحمر - البحر المتوسط - المحيط الأطلنطي - المحيط الهندي)
- (٣) دولة عربية تحتل المركز الأول في إنتاج الذهب هي
(مصر - السودان - السعودية - المغرب)

(ب) أجب عما يأتي:

- (١) حدد اثنين من: أهم أعمال عمر بن الخطاب.
- Ⓒ (١) وضع التقويم الهجري. (٢) قام بإنشاء الدواوين.
- (٢) ما النتائج المترتبة على: حدوث حركات التوائية وانكسارية في باطن الأرض؟
- Ⓒ تؤدي إلى تكون السلاسل الجبلية المرتفعة.

السؤال الرابع:

(أ) ضع علامة (✓) أمام العبارة الصحيحة وعلامة (X) أمام العبارة غير الصحيحة:

- (١) الأزهر الشريف في مصر من المراكز الدينية المهمة في الوطن العربي. (✓)
- (٢) أنشأ الخليفة عمر بن الخطاب (رضي الله عنه) ديوان الجند. (✓)
- (٣) تسقط الأمطار صيفاً على الأطراف الشمالية للوطن العربي. (X)

(ب) أجب عما يلي:

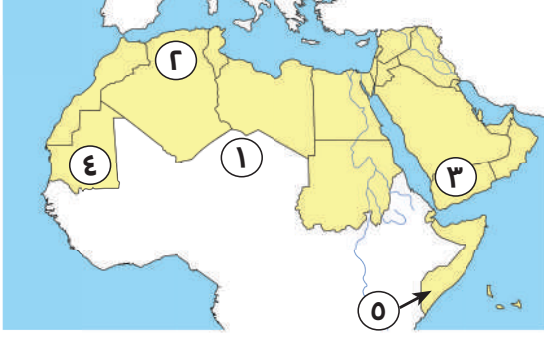
- (١) فسر: يختلف مناخ المناطق المرتفعة عن مناخ الأدوية والسهول.
- Ⓒ بسبب تأثير مظاهر السطح، حيث تنخفض درجات الحرارة (درجة مئوية واحدة) كلما ارتفعنا ١٥٠ مترًا عن سطح البحر.
- (٢) اذكر أشهر المحميات الطبيعية في الوطن العربي.

- Ⓒ محمية أرز الشوف في لبنان - محمية ضانا في الأردن - محمية جبل علبة في مصر.

النموذج الحادي عشر

السؤال الأول:

(أ) أمامك خريطة صماء، اكتب ما تدل عليه الأرقام:



(١) الصحراء الكبرى.

(٢) جبال أطلس.

(٣) هضبة حضر موت.

(٤) إقليم مناخي المداري.

(ب) ما النتائج المترتبة على: سقوط الأمطار الشتوية في إقليم البحر المتوسط؟

☞ نمو أشجار الأرز والزيتون والسنوبر.

☞ نمو حشائش الإستبس التي تربي عليها الأغنام والماعز.

السؤال الثاني:

(أ) اكتب ما تشير إليه العبارات الآتية:

(أحد)

(١) غزوة تحول فيها نصر المسلمين إلى هزيمة.

(المرتدين)

(٢) رفضوا دفع الزكاة وادعى بعضهم النبوة.

(الحركات الالتوائية)

(٣) الحركات الباطنية التي أدت إلى تكون جبال أطلس.

(ب) بم تفسر:

(١) أهمية وسائل النقل بالنسبة للزراعة؟

☞ لازمة لنقل ما تحتاج إليه الزراعة من مواد مختلفة.

☞ المنتجات الزراعية إلى مناطق الاستهلاك.

(٢) الثروة الحيوانية في الوطن العربي.

☞ توفير البروتين الحيواني لسكان الوطن العربي.

☞ توفير المادة الخام الحيوانية اللازمة للصناعة.

☞ نستخدم بعض الحيوانات في أعمال الحقل والنقل.

السؤال الثالث:

(أ) اختر الإجابة الصحيحة مما بين القوسين:

- (١) انتهى عصر الخلفاء الراشدين بنهاية حكم الخليفة
(عمر بن الخطاب - عثمان بن عفان - علي بن أبي طالب - أبي بكر الصديق)
- (٢) من الأدوية الجافة بالوطن العربي وادي
(دجلة - الفرات - النيل - الدواسة)
- (٣) يحل فصل الشتاء عندما تتعامد الشمس على
(مدار السرطان - مدار الجدي - دائرة الاستواء - خط جرينتش)

(ب) أجب عما يأتي:

- (١) ما العلاقة بين: الطاقة النظيفة والمشكلات البيئية؟
Ⓒ استخدام الطاقة النظيفة أحد أساليب الدول العربية لمواجهة المشكلات البيئية.
- (٢) اذكر اثنين من: صفات أبي بكر الصديق (رضي الله عنه).
Ⓒ (١) اشتهر بحسن الخلق.
(٢) يتسم بالإحسان في معاملة الآخرين.

السؤال الرابع:

(أ) اكتب ما تشير إليه العبارات الآتية:

- (١) الدولة التي أطلقت مبادرة زراعة ٤٥٠ مليون شجرة. (السعودية)
- (٢) يتم من خلالها تحويل المواد الخام لتصبح منتجات صالحة الاستخدام. (الصناعة)
- (٣) جبال نشأت نتيجة لحركات باطنية تعرضت لها الأرض. (الحركات الالتوائية)

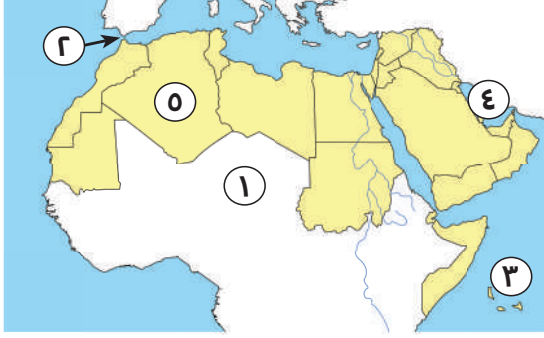
(ب) أجب عما يلي:

- حدد اثنين من: مقومات السياحة للوطن العربي.
Ⓒ تنوع المناطق السياحية والتراثية.
Ⓒ تطور الفنادق والقرى السياحية.

النموذج الثاني عشر

السؤال الأول:

(أ) أمامك خريطة صماء، اكتب ما تدل عليه الأرقام:



(١) يشير رقم (١) إلى الصحراء الكبرى.

(٢) يشير رقم (٢) إلى مضيق جبل طارق.

(٣) يشير رقم (٣) إلى المحيط الهندي.

(٤) يشير رقم (٤) إلى الخليج العربي.

(٥) يشير رقم (٥) إلى أكبر الدول العربية مساحة الجزائر.

(ب) فسر سبب: سقوط الأمطار صيفاً على جنوب غرب اليمن.

ج لأنها تقع ضمن نطاق الإقليم الموسمي والذي تسقط منه أمطار في فصل الصيف.

السؤال الثاني:

(أ) اختر الإجابة الصحيحة مما بين القوسين:

(١) زيارة أضخم المراكز التجارية في الإمارات يعد سياحة

(بيئية - ترفيهية - تسوقية - رياضية)

(٢) الصادرات والواردات بين الدول العربية وباقي دول العالم هي التجارة

(البينية - الدولية - الإلكترونية - الداخلية)

(٣) أحد مصادر الطاقة المتجددة في الوطن العربي

(البترول - الفحم - طاقة الرياح - الغاز الطبيعي)

(ب) أجب عما يأتي:

(١) ما العلاقة بين: المسطحات المائية والمناخ؟

ج تؤثر المسطحات المائية في مناخ المناطق القريبة منها حيث إنها تعمل على

تلطيف درجات الحرارة.

(٢) بم بتفسر: أهمية الأودية الجافة؟

ج (١) تستخدم كطريق للمواصلات. (٢) نحصل منها على المياه الجوفية.

السؤال الثالث:

(أ) ضع علامة (✓) أمام العبارة الصحيحة وعلامة (X) أمام العبارة غير الصحيحة:

- (1) تشغل دول الجناح الإفريقي مساحة أكبر من الجناح الآسيوي. (✓)
- (2) ساد النظام الملكي شبه الجزيرة العربية قبل ظهور الإسلام. (X)
- (3) تم نقل مقر الخلافة الإسلامية إلى البصرة في عهد علي بن أبي طالب (رضي الله عنه) (X)
- (4) تقع هضبة بادية الشام في الجناح الآسيوي. (✓)
- (5) يتسم مناخ الإسكندرية بسمات إقليم البحر المتوسط. (✓)

(ب) أجب عما يلي:

(1) ما النتائج المترتبة على: رفض البعض دفع الزكاة بعد وفاة الرسول (ﷺ)؟

✎ أرسل أبو بكر الصديق (رضي الله عنه) عدة جيوش لمحاربتهم حتى عادوا إلى الإسلام مرة أخرى.

(2) اكتب دليلاً على: وقوف أهل يثرب بجانب سيدنا محمد (ﷺ).

✎ آمنوا به وبايعوه على حمايته ونصرته فلما عادوا إلى يثرب بدؤوا في دعوة الناس.

السؤال الرابع:

(أ) أكمل العبارات التالية مستخدماً الكلمات التالية:

- (1) نظام الحكم السائد في شبه الجزيرة العربية قبل الإسلام هو النظام القبلي.
- (2) تعد سهول نهري دجلة والفرات من السهول الفيضية.
- (3) يسود معظم الوطن إقليمي المناخ الصحراوي الحار.
- (4) تنمو بالإقليم المداري في الوطن العربي حشائش السافانا.

(ب) أجب عما يلي:

(1) فسر سبب: هجرة المسلمين إلى الحبشة.

✎ بسبب إيذاء الرسول (ﷺ) والمسلمين من قبل قريش.

(2) دلل: الوطن العربي أهمية اقتصادية كبيرة.

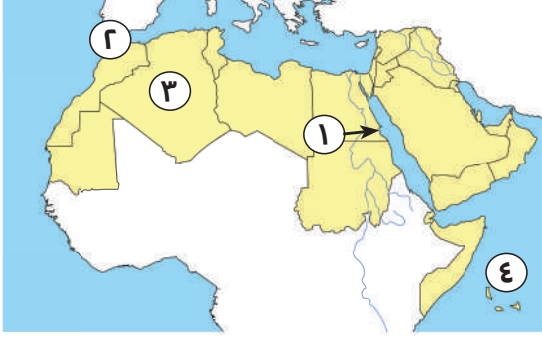
✎ يشرف على مسطحات مائية مهمة مثل: «البحر الأحمر - البحر المتوسط - الخليج العربي».

✎ يتحكم في ممرات مائية مثل: «مضيق هرمز - مضيق باب المندب - مضيق جبل طارق - قناة السويس».

النموذج الثالث عشر

السؤال الأول:

(أ) أمامك خريطة صماء، اكتب ما تدل عليه الأرقام:



(١) يشير رقم ٣ إلى أكبر الدول العربية مساحة.

(٢) مضيق جبل طارق.

(٣) يشير الرقم (١) إلى جبال البحر الأحمر

(٤) المحيط الهندي.

(ب) **دل على صحة العبارة:** تبذل الدول العربية جهود كبيرة في مجال التجارة.

ج يتم ذلك من خلال: (١) تنوع الصادرات وتنميتها خاصة الغير النفطية.

(٢) تقليص الجمارك بين الدول العربية.

(٣) إقامة المعارض الدائمة أو السنوية للدعاية للمنتجات العربية.

السؤال الثاني:

(أ) اختر الإجابة الصحيحة مما بين القوسين:

(١) تطل دولتا السعودية ومصر على البحر

(الأحمر - الأسود - المتوسط - العرب)

(٢) إحدى مراحل الدعوة الإسلامية واستمرت ثلاث سنوات

(الدعوة الجهرية - الدعوة السرية - عالمية الدعوة - البناء)

(٣) كان مقرًا للحكم والعبادة في المدينة

(دار الندوة - المسجد - دار الأرقام - دار أبي بكر الصديق)(ب) **أجب عما يأتي:**

(١) فسر: تعد السياحة من أهم الأنشطة الاقتصادية في الوطن العربي؟

ج لأنه: (١) يساعد على التبادل الثقافي. (٢) يوفر العملات الأجنبية.

(٣) يوفر فرص عمل في السياحة والقطاعات ذات الصلة.

(٢) دلل: يمتلك الوطن العربي ثروات معدنية متنوعة.

ج حيث أنه يمتلك: (الحديد - الذهب - خام الفوسفات).

السؤال الثالث:

(أ) ضع علامة (✓) أمام العبارة الصحيحة وعلامة (X) أمام العبارة غير الصحيحة:

- (١) اتبع المسلمون نظام التوريث في اختيار الخلفاء الراشدين (رضي الله عنهم). (X)
- (٢) بدأ التقويم الهجري بهجرة المسلمين إلى الحبشة. (X)
- (٣) تشمل المحاصيل السكرية قصب السكر والبنجر. (✓)

(ب) أجب عما يلي:

(١) وضح اثنين: من جهود الدول العربية لتنمية الثروة السمكية.

Ⓒ (١) التوسع في مشروعات الاستزراع السمكي. (٢) تفعيل القوانين الخاصة بالصيد.

(٢) بم تفسر: قيام الزراعة في الواحات.

Ⓒ بسبب وجود مياه الآبار والعيون.

السؤال الرابع:

(أ) أكمل العبارات التالية مستخدماً الكلمات التالية:

- (١) غزوة تحول فيها نصر المسلمين إلى هزيمة هي غزوة أحد.
- (٢) تمتد سلاسل جبال الحجاز في الجناح العربي الآسيوي.
- (٣) استخراج المعادن ومصدر الطاقة يعرف بالصناعات التحويلية.
- (٤) نقل علي بن أبي طالب (رضي الله عنه) مقر الخلافة الإسلامية إلى الكوفة.
- (٥) الصادرات والواردات بين الدول العربية والعالم تعرف بالتجارة العالمية.

(ب) أجب عما يلي:

(١) دلل: تختلف الصورة النباتية في الإقليم الصحراوي عند باقي أقاليم الوطن العربي.

Ⓒ حيث إنه تنمو فيه نباتات لها القدرة على تحمل الجفاف مثل: الصبار.

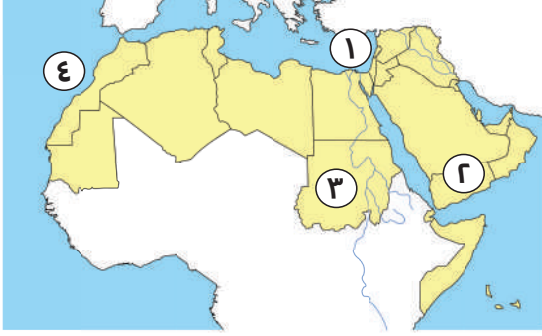
(٢) وضح: كيف يمكن تنشيط التسويق السياحي المشترك من خلال المنظمة العربية للسياحة؟

Ⓒ من خلال حضور المعارض والمؤتمرات العربية والدولية والمشاركة في تنظيمها.

النموذج الرابع عشر

السؤال الأول:

(أ) أمامك خريطة صماء، اكتب ما تدل عليه الأرقام:



(١) البحر المتوسط.

(٢) أولى الدول في إنتاج البن اليمن.

(٣) من الدول المنتجة للذهب السودان.

(٤) المحيط الأطلنطي.

(ب) اذكر السبب: اختار المسلمون أبا بكر الصديق كخليفة بعد وفاة الرسول (ﷺ)؟

ج - لأنه أول من أسلم من الرجال. - شارك الرسول (ﷺ) في جميع غزواته.

السؤال الثاني:

(أ) أكمل العبارات التالية:

(١) يحل فصل الشتاء على الوطن العربي عندما تتعامد الشمس على مدار الجدي.

(٢) زيارة عين ما عين بالأردن تعد سياحة علاجية.

(٣) تعتمد الزراعة في الأجزاء الشمالية من الوطن العربي على مياه الأمطار.

(٤) أكبر الدول العربية في تربية الأغنام والماعز هي السودان.

(٥) يتميز الإقليم المداري بسقوط الأمطار في فصل الصيف.

(ب) أجب عما يلي:

(١) بم تفسر: الأهمية الثقافية والحضارية للوطن العربي؟

ج لأنه قامت على أرضه أقدم الحضارات مثل: « الحضارة المصرية القديمة - حضارة بلاد العراق».

(٢) دلل: تنوع أساليب قريش ضد الدعوة إلى الإسلام.

ج حيث قاموا بـ:

(١) إيذاء الرسول (ﷺ) والمسلمين. (٢) قاموا بمقاطعة وحصار المسلمين.

(٣) لجأت للتفاوض مع الرسول (ﷺ) وعرضوا عليه المال والسلطة مقابل ترك الدين.

السؤال الثالث:

(أ) اختر الإجابة الصحيحة مما بين القوسين:

- (١) المشكلة البيئية التي ترتبط بمشكلة الرعي الجائر
(تملح التربة - التصحّر - ندرة المياه العذبة - نقص الغذاء)
- (٢) الدولة العربية التي تقع في الجناح الإفريقي هي
(العراق - قطر - الجزائر - السعودية)
- (٣) تتأثر الزراعة سلبيًا في الوطن العربي بسبب
(التغير المناخي - تحلية مياه البحر - تدريب الأيدي العاملة - زيادة الأمطار)

(ب) ما المقصود بكل من:

- (١) الصناعة الخضراء هي الصناعة التي تعتمد على الاستثمار الأمثل للموارد المتجددة.
- (٢) الإقليم المناخي منطقة جغرافية من سطح الأرض تتسم مناخية تميزها.

السؤال الرابع:

(أ) ضع علامة (✓) أمام العبارة الصحيحة وعلامة (X) أمام العبارة غير الصحيحة:

- (١) عمل الرسول (ﷺ) بحرفتي الرعي والتجارة. (✓)
- (٢) يحدث التصحر بسبب الأمطار والسيول. (X)
- (٣) تتركز زراعة البن في الأردن. (X)
- (٤) أولى الدول العربية إنتاجًا للفوسفات هي دولة المغرب. (✓)

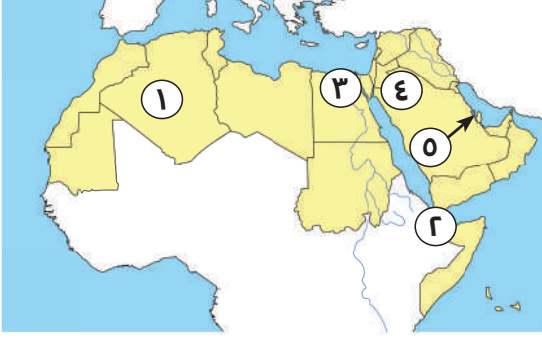
(ب) أجب عما يلي:

- (١) دلل جغرافيًا على: هضبة إفريقيا الشمالية من أكبر الظواهر التضاريسية مساحة.
⊖ حيث أنها تمتد من البحر المتوسط شمالًا، حتى الصحراء الكبرى جنوبًا.
من البحر الأحمر شرقًا، حتى المحيط الأطلنطي غربًا.
- (٢) فسر: اعتبر النبي (ﷺ) صلح الحديبية فتحًا للمسلمين.
⊖ لأن هذا الاتفاق مكن الرسول (ﷺ) من نشر دعوته خارج الجزيرة العربية.

النموذج الخامس عشر

السؤال الأول:

(أ) أمامك خريطة صماء، اكتب ما تدل عليه الأرقام:



(1) دولة الجزائر.

(2) مضيق باب المندب.

(3) إقليم مناخي البحر المتوسط.

(4) هضبة بادية الشام.

(5) أولى الدول المنتجة للغاز قطر.

(ب) **دل على صحة العبارة:** رفض قريش فكرة هجرة الرسول (ﷺ) وأصحابه إلى يثرب. حيث أنها أدركت خطورة تجمع المسلمين في يثرب فاجتمع زعماء قريش في (دار الندوة) وتأمروا على قتل الرسول (ﷺ).

السؤال الثاني:

(أ) اختر الإجابة الصحيحة مما بين القوسين:

(1) تم إنشاء أسطول بحري لتأمين مصر والشام من هجمات

(قريش - الروم - الصليبيين - العرب)

(2) يحل فصل الصيف على الوطن العربي عندما تتعامد الشمس على

(مدار السرطان - دائرة الاستواء - مدار الجدي - خط جرينتش)

(3) تعد السعودية أولى الدول العربية إنتاجًا ل

(البترول - الغاز الطبيعي - الألومنيوم - الفوسفات)

(ب) **أجب عما يلي:**

(1) اكتب تفسيرًا واحدًا: ضعف تأثير المسطحات المائية بشكل عام.

ضيق مساحتها وعدم توغل تأثيرها إلى الداخل ووجود الصحاري والمرتفعات
مثل: جبال البحر الأحمر.

(2) ما العلاقة بين: الأمن الغذائي والثروة الحيوانية؟

الثروة الحيوانية وجودها يوفر الأمن الغذائي.

السؤال الثالث:

(أ) ضع علامة (✓) أمام العبارة الصحيحة وعلامة (X) أمام العبارة غير الصحيحة:

- (1) ساعد تنوع مظاهر السطح على تنوع الأنشطة الاقتصادية. (✓)
- (2) تسقط الأمطار بغزارة على منحدرات الجبال المواجهة للرياح الجافة. (X)
- (3) تنمو حشائش السافانا في الإقليم المداري بالوطن العربي. (✓)
- (4) كانت أول هجرة في الإسلام إلى الطائف. (X)

(ب) أجب عما يلي:

(1) كان لعمر بن الخطاب (رضي الله عنه) دور هام في جمع القرآن الكريم (أثبت صحة العبارة).

⊕ حيث إنه أشار على أبي بكر الصديق بجمع القرآن الكريم بعد استشهاد كثير من

الصحابة في حرب المرتدين.

(2) ما النتائج المترتبة على: وجود العديد من الأماكن المقدسة في الوطن العربي؟

⊕ أصبح الوطن العربي مقصدًا للسياحة الدينية.

السؤال الرابع:

(أ) اكتب ما تشير إليه العبارتان الآتيتان:

- (1) الصادرات والواردات من السلع والخدمات بين الدول العربية. (التجارة البينية)
- (2) تناقص قدرة الأراضي الزراعية على الإنتاج. (التصحّر)

(ب) أجب عما يلي:

(1) ما العلاقة بين: الدعوة السرية ونشر الإسلام.

⊕ بدأ الرسول (ﷺ) بالدعوة السرية لنشر الإسلام خوفًا على المسلمين من إيذاء

قريش لهم.

(2) اذكر نتيجة واحدة ترتبت على: غنى الوطن العربي بالمواد الخام ومصادر الطاقة.

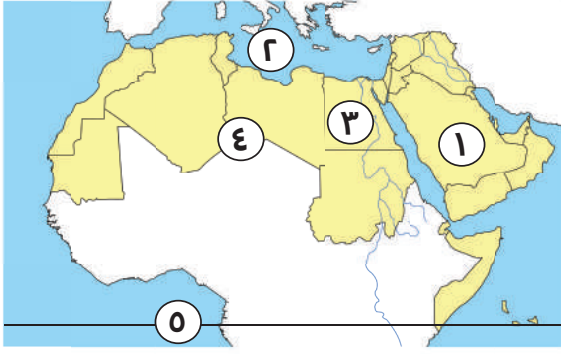
⊕ أدى ذلك إلى قيام نشاط الصناعة.



ذاكر معنا

النموذج السادس عشر

السؤال الأول:



(أ) أمامك خريطة صماء لمصر، لاحظها ثم أجب:

- (١) يشير رقم (١) إلى دولة السعودية.
- (٢) يشير رقم (٢) إلى البحر المتوسط.
- (٣) يشير رقم (٣) إلى أولى الدول في تربية الجاموس بالوطن العربي مصر.
- (٤) يشير رقم (٤) إلى هضبة إفريقيا الشمالية.
- (٥) يشير رقم (٥) إلى دائرة عرض رئيسية وهي دائرة الاستواء.

(ب) أجب عما يلي:

- (١) ما المقصود بـ: التجارة الإلكترونية؟
- ⊖ تبادل السلع والخدمات باستخدام شبكة المعلومات الدولية (الإنترنت).
- (٢) اتسم عمر بن الخطاب بالرحمة رغم شدته. أثبت صحة العبارة.
- ⊖ فقد رفع الجزية عن يهودي كبير في السن جاء يسأله وأعطاه من بيت المال.

السؤال الثاني:

(أ) ضع علامة (✓) أمام العبارة الصحيحة وعلامة (X) أمام العبارة غير الصحيحة:

- (١) وُلد النبي (ﷺ) يتيمًا. (✓)
- (٢) حرص الرسول (ﷺ) على المؤاخاة بين المهاجرين واليهود. (X)
- (٣) أولى الدول العربية إنتاجًا للأسمت السعودية. (✓)
- (٤) زيارة العيون الكبرى تعتبر سياحة ترفيهية. (X)
- (٥) اتسم التجار المسلمون بالأخلاق الحميدة. (✓)
- (٦) اختار الرسول (ﷺ) أبا بكر الصديق (رضى الله عنه) ليكون خليفة للمسلمين بعد وفاته. (X)

(ب) ما العلاقة بين؟

- (١) المسطحات المائية والمناخ.
- ⊖ المسطحات المائية تلطف درجة الحرارة وتزيد من فرصة سقوط الأمطار.
- (٢) المشكلات البيئية والحياة النباتية والحيوانية.
- ⊖ المشكلات البيئية تؤدي إلى تدمير الحياة النباتية والحيوانية بالوطن العربي.



السؤال الثالث:

(أ) أكمل العبارات التالية باستخدام الكلمات المناسبة:

- (١) أحد العوامل المؤثرة في مناخ الوطن العربي الموقع الفلكي.
 - (٢) يقع شمال الوطن العربي إقليم مناخ البحر المتوسط.
 - (٣) أحد المقومات الطبيعية لقيام الزراعة بالوطن العربي وجود الأنهار.
 - (٤) توفر الثروة الحيوانية بالوطن العربي المواد الخام.
 - (٥) استخراج المعادن ومصادر الطاقة من باطن الأرض من الصناعات الاستخراجية.
- (ب) ما النتائج المترتبة على؟ مخالفة الرماة لأوامر الرسول (ﷺ) في غزوة أحد.
- تحول نصر المسلمين إلى هزيمة.

السؤال الرابع:

(أ) اختر الإجابة الصحيحة مما بين القوسين:

- (١) إحدى مراحل الدعوة الإسلامية التي استمرت ثلاث سنوات هي الدعوة
(السرية - الجهرية - الفتح - البناء)
- (٢) أكبر هضاب الوطن العربي مساحة هضبة
(الجلف الكبير - بادية الشام - إفريقيا الشمالية - حضر موت)
- (٣) تقع محمية أرز الشوف في دولة
(الأردن - لبنان - مصر - السعودية)
- (٤) محصول يصنف ضمن محاصيل الحبوب الغذائية
(الذرة - العنب - الكتان - الموز الشرقي)

(ب) أجب عما يلي:

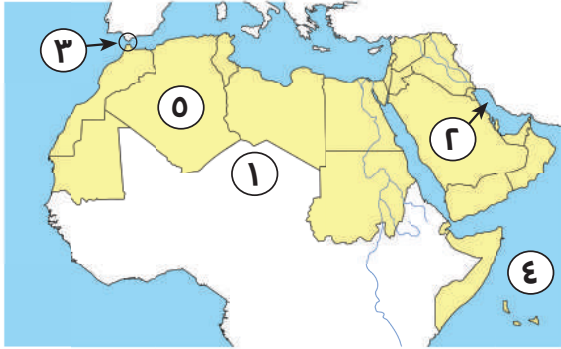
- (١) بم تفسر؟ هزيمة المسلمين في غزوة أحد.
- بسبب مخالفة الرماة لأوامر الرسول (ﷺ) وترك مواقعهم ونزولهم لجمع الغنائم.
- (٢) دلل على صحة العبارة: حرص علي بن أبي طالب على تطبيق العدالة.
- حيث خصص يومًا للنظر في مظالم الناس.



ذاكر معنا

النموذج السابع عشر

السؤال الأول:



(أ) أمامك خريطة صماء لمصر، لاحظها ثم أجب:

- (١) يشير رقم (١) إلى الصحراء الكبرى.
- (٢) يشير رقم (٢) إلى الخليج العربي.
- (٣) يشير رقم (٣) إلى مضيق جبل طارق.
- (٤) يشير رقم (٤) إلى المحيط الهندي.
- (٥) يشير رقم (٥) إلى أكبر الدول العربية مساحة الجزائر.

(ب) دلل على صحة العبارة:

- (١) تتعرض المحميات الطبيعية إلى العديد من المخاطر.
- Ⓒ تتعرض المحميات إلى تهديدات بشرية منها الرعي الجائر والصيد الجائر والتلوث البيئي.
- (٢) تعاني الدول العربية من مشكلات التصحر.
- Ⓒ حيث يعاني ثلثا مساحة الوطن العربي من التصحر.

السؤال الثاني:

(أ) ضع علامة (✓) أمام العبارة الصحيحة وعلامة (X) أمام العبارة غير الصحيحة:

- (١) تنتشر نباتات الصبار والنخيل في الإقليم الصحراوي الحار بالوطن العربي. (✓)
- (٢) تساعد الصناعة الخضراء على خفض التأثير السلبي للصناعة على البيئة والصحة. (✓)
- (٣) أمر الرسول (ﷺ) أصحابه بالهجرة إلى يثرب، لأن ملكها النجاشي كان عادلاً. (X)
- (٤) يتميز الوطن العربي بانتظام سقوط الأمطار بكميات كبيرة. (X)
- (٥) استجابت وفود من أهل يثرب في موسم الحج لدعوة الرسول (ﷺ). (✓)

(ب) ما النتائج المترتبة على؟

- (١) وجود الواحات في صحاري الوطن العربي.
- Ⓒ يعيش فيها السكان لقيام الزراعة.
- (٢) سرية الدعوة الإسلامية في بدايتها.
- Ⓒ تجنب أذى قريش ودعوة الرسول (ﷺ) أصحابه والمقرئين منه للإسلام، مثل زوجته السيدة خديجة وصديقه أبي بكر الصديق وابن عمه علي بن أبي طالب.



السؤال الثالث:

(أ) اختر الإجابة الصحيحة مما بين القوسين:

- (١) ظاهرة طبيعية تحد الوطن العربي من الشرق
(جبال طوروس - المحيط الأطلسي - جبال كردستان - الصحراء الكبرى)
- (٢) نقل علي بن أبي طالب (رضى الله عنه) مقر الخلافة من المدينة إلى
(القدس - الكوفة - مكة - دمشق)
- (٣) أكثر أشكال السطح انتشارًا في الوطن العربي
(الجبال - الهضاب - السهول - التلال)
- (٤) مناخ مدينة الإسكندرية معتدل أكثر من مدينة الرياض بسبب تأثير
(المسطحات المائية - اتجاه المرتفعات - مدار الجدي - خط جرينتش)

(ب) أجب عما يلي:

- (١) ماذا يحدث إذا؟ لم تهتم الدول العربية بتنمية الثروة الحيوانية والسمكية.
⊖ لن يحدث اكتفاء لسكان الوطن العربي من البروتين الحيواني والأسماك.
- (٢) ما المقصود بـ: التجارة الخارجية؟
⊖ الصادرات والواردات بين الدول العربية وباقي دول العالم.

السؤال الرابع:

(أ) اكتب ما تشير إليه العبارات التالية:

- (١) أهل مكة الذين هاجروا إلى يثرب بأمر الرسول. (المهاجرون)
- (٢) صناعة يتم فيها تحويل المواد الخام إلى منتجات صالحة للاستخدام. (صناعة تحويلية)
- (٣) سياحة تعتمد على زيارة الأماكن المقدسة مثل: المساجد والكنائس والأديرة. (سياحة دينية)
- (٤) نقص كمية الأمطار في بعض السنوات بما لا يسمح بقيام الزراعة أو نمو الحشائش. (الجفاف)

(ب) ما العلاقة بين: المواد الخام و الصناعة؟

⊖ تعد المواد الخام والصناعة أحد المقومات الطبيعية اللازمة لقيام الصناعة.



ذاكر معنا



النموذج الثامن عشر

السؤال الأول:



(أ) أمامك خريطة صماء لمصر، لاحظها ثم أجب:

١. جبال انكسارية جبال البحر الأحمر.
٢. المحيط الهندي.
٣. الصحراء الكبرى.
٤. مضيق جبل طارق.

(ب) اكتب تفسيرًا واحدًا لـ:

(١) تركز تربية الجاموس في مصر.

⊕ لوجود البيئة الزراعية الفيضية المناسبة لتربية الجاموس.

(٢) الأهمية الاقتصادية لموقع الوطن العربي.

⊕ لأنه يشرف على مسطحات مائية مهمة (البحر الأحمر - البحر المتوسط - الخليج العربي) بالإضافة إلى تحكمه في ممرات مائية مهمة وهي (مضيق هرمز - مضيق باب

المنذب - مضيق جبل طارق - قناة السويس).

السؤال الثاني:

(أ) ضع علامة (✓) أمام العبارة الصحيحة وعلامة (X) أمام العبارة غير الصحيحة:

- (١) اجتمع زعماء قريش في دار الأرقم وتأمروا على قتل الرسول (ﷺ). (X)
- (٢) تم تنظيم الشرطة في عهد عثمان بن عفان (رضي الله عنه). (X)
- (٣) ساعد تنوع مظاهر السطح بالوطن العربي على تنوع الأنشطة الاقتصادية. (✓)
- (٤) تسقط الأمطار بغزارة على منحدرات الجبال المواجهة للرياح الجافة. (X)

(ب) دلل على صحة العبارة:

(١) تنتشر السياحة العلاجية في مصر والأردن.

⊕ بسبب توافر العيون الكبريتية في سيوة وعيون موسى في مصر وعين ماعين في الأردن.

(٢) كان لأبي بكر الصديق الكثير من الأعمال البارزة في التاريخ الإسلامي.

⊕ مثل محاربة المرتدين وجمع القرآن الكريم للمرة الأولى.



السؤال الثالث:

(أ) اختر الإجابة الصحيحة مما بين القوسين:

- (١) كانت هجرة المسلمين الأوائل إلى مدينة
(الحبشة - يثرب - الطائف - حنين)
- (٢) تم تعيين شرطة لحراسة بيت المال في عهد الخليفة
(عثمان بن عفان - عمر بن الخطاب - أبي بكر الصديق - علي بن أبي طالب)
- (٣) تسقط أمطار موسمية صيفية على دولة
(لبنان - سوريا - اليمن - تونس)
- (٤) تقع محمية ضانا في دولة
(سوريا - لبنان - فلسطين - الأردن)

(ب) ما النتائج المترتبة على؟

- (١) غزوة بدر. انتصر فيها المسلمون رغم قلة عددهم.
- (٢) طول سواحل دولة المغرب. أصبحت المغرب أولى الدول العربية في إنتاج الأسماك من المصايد السمكية.

السؤال الرابع:

(أ) اكتب ما تشير إليه كل عبارة من العبارات التالية:

- (١) غزوة تحول فيها نصر المسلمين إلى هزيمة. (أحد)
- (٢) قبائل رفضت دفع الزكاة وادعى بعضها النبوة. (المرتدون)
- (٣) الدولة التي أطلقت مبادرة زراعة ٤٥٠ مليون شجرة. (السعودية)
- (٤) صناعة تعتمد على الاستثمار الأمثل للموارد المتجددة. (الصناعة الخضراء)

(ب) قارن بين: الحديد والذهب من حيث أولى الدول العربية إنتاجاً لكل منهما.

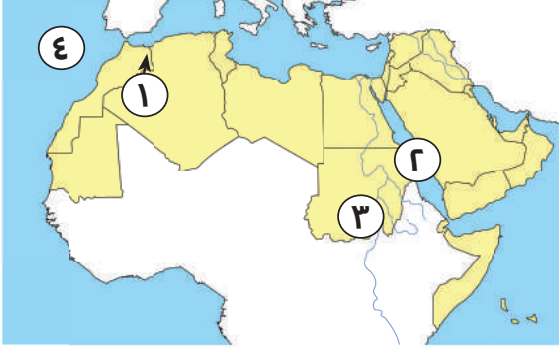
 الذهب دولة السودان أما الحديد دولة موريتانيا.



ذاكر معنا

النموذج التاسع عشر

السؤال الأول:



(أ) أمامك خريطة صماء لمصر، لاحظها ثم أجب:

- (١) جبال أطلس.
- (٢) البحر الأحمر.
- (٣) إقليم المناخ المداري.
- (٤) المحيط الأطلسي.

(ب) اكتب تفسراً واحداً:

- (١) السياحة من أهم الأنشطة الاقتصادية في الوطن العربي.
- ☞ لأنها تساعد على التبادل الثقافي وتوفير العملات الأجنبية وفرص عمل في السياحة والقطاعات ذات الصلة.
- (٢) الشهرة التي اكتسبتها واحات سيوة والعين وليوا.
- ☞ حيث تشتهر تلك الواحات بزراعة أنواع مميزة من النخيل ووجود مناظر طبيعية خلابة.

السؤال الثاني:

(أ) ضع علامة (✓) أمام العبارة الصحيحة وعلامة (X) أمام العبارة غير الصحيحة:

- (١) أصغر الدول العربية مساحة هي دولة الجزائر. (X)
- (٢) تعد المغرب الأولى عربياً في إنتاج الأسماك من المزارع السمكية. (X)
- (٣) يقل تأثير المسطحات المائية على مناخ الوطن العربي. (✓)
- (٤) تسقط أمطار موسمية صيفاً على جنوب موريتانيا. (✓)

(ب) أحب عما يلي:

- (١) ما العلاقة بين السهول الفيضية والتربة الخصبة؟
- ☞ السهول الفيضية كونتها الأنهار عن طريق ترسب المواد العالقة بالمياه فكونت تربة تعد من أخصب أنواع الأراضي.
- (٢) اذكر صفتين من صفات أبي بكر الصديق.
- ☞ الحكمة والقدرة على مواجهة المواقف الصعبة.



السؤال الثالث:

(أ) صوب ما تحته خط في العبارات التالية:

- (١) يقترب الوطن العربي من قارة أسيا. (أوروبا)
 (٢) مبادرة زراعة ١٠٠ مليون شجرة مثمرة أطلقتها دولة عمان. (مصر)
 (٣) تكونت جبال الحجاز نتيجة الحركات الالتوائية. (الانكسارية)
 (٤) يحد الوطن العربي من الجنوب المحيط الأطلنطي. (الهندي)

(ب) دلل على صحة العبارة:

- (١) تبذل الدول العربية جهودًا لتحقيق السياحة المستدامة.
 حيث تقوم الدول العربية بتطوير البنية التحتية لقطاع السياحة، ورفع جودة الخدمات السياحية للمستوى العالمي، وتأهيل العاملين في السياحة وتكثيف الحملات الإعلامية للترويج للسياحة العربية.
 (٢) يتوسع الوطن العربي في إنتاج الطاقة المتجددة.
 مثل الطاقة الكهرومائية والطاقة الشمسية وطاقة الرياح والنيتروجين الأخضر.

السؤال الرابع:

(أ) اختر الإجابة الصحيحة مما بين القوسين:

- (١) أرسل عدة جيوش المحاربة المرتدين عن الإسلام الخليفة
 (أبو بكر الصديق - عمر بن الخطاب - عثمان بن عفان - علي بن أبي طالب)
 (٢) أحد الجبال الالتوائية في الجناح الغربي الأسيوي هي جبال
 (الحجاز - أطلس - كرديستان - عسير)
 (٣) أي من الدول التالية يقع شمالها في إقليم البحر المتوسط؟
 (الكويت - اليمن - الإمارات - مصر)
 (٤) أسلم الزبير بن العوام على يد
 (أبي بكر الصديق - عمر بن الخطاب - عثمان بن عفان - علي بن أبي طالب)

(ب) ما النتائج المترتبة على؟ المشكلات البيئية في الوطن العربي.

- تهديد صحة المواطن العربي وحياته. - إعاقة تنفيذ الخطط التنموية بالدول العربية. - تدمير الحياه النباتية والحيوانية.

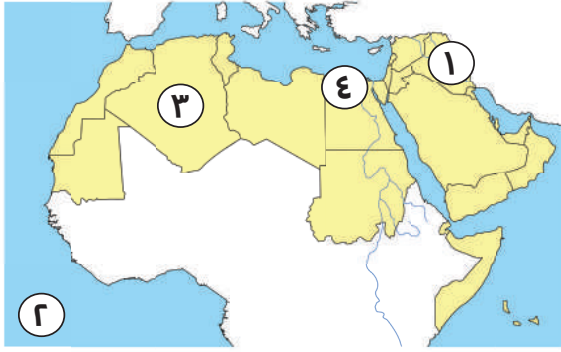


ذاكر معنا



النموذج العشرون

السؤال الأول:



(أ) أمامك خريطة صماء لمصر، لاحظها ثم أجب:

- (١) دولة العراق
- (٢) المحيط الأطلسي.
- (٣) واحة عين صالح.
- (٤) إقليم مناخي البحر المتوسط.

(ب) دلل على صحة العبارة:

- (١) يمتلك الوطن العربي ثروات معدنية متنوعة.
- Ⓒ مثل الذهب والحديد وخام الفوسفات.
- (٢) يتمتع وطننا العربي بكافة مقومات السياحة.
- Ⓒ لوجود الموقع الجغرافي الفريد وتنوع المناطق السياحية والتراثية، ومناخه المعتدل شتاءً، وتوافر شبكة مواصلات جوية وبرية وبحرية متميزة، وتطور الفنادق والقرى السياحية.

السؤال الثاني:

(أ) أكمل العبارات التالية بما يناسبها من كلمات:

- أصغر الدول العربية من حيث المساحة هي البحرين.
- (١) تم فتح مصر وبلاد العراق في عهد الخليفة عمر بن الخطاب.
- (٢) مصر أكبر الدول العربية في إنتاج الأسماك من المزارع السمكية.
- (٣) إحدى مناطق السياحة الثقافية مدينة بابل في العراق.

(ب) بم تفسر؟

- (١) إصدار الرسول (ﷺ) وثيقة صحيفة المدينة.
- Ⓒ لتنظيم شؤون المسلمين وتنظيم علاقتهم بالطوائف الأخرى في المدينة خاصة اليهود وتحديد مالهم من حقوق وما عليهم من واجبات تجاه الدولة.
- (٢) قيام الخليفة علي بن أبي طالب بتنظيم الشرطة.
- Ⓒ للحفاظ على أمن وسلامة المواطنين.



السؤال الثالث:

(أ) أكمل العبارات التالية بما يناسبها من كلمات:

- (١) أهل يثرب الذين نصرّوا الرسول (ﷺ) في دعوته. (الأنصار)
- (٢) تناقص قدرة الأرض الزراعية على الإنتاج. (التصحّر)
- (٣) دولة عربية تقع في المحيط الهندي. (جزر القمر)
- (٤) جبال نشأت نتيجة لحركات باطنية تعرضت لها الأرض. (جبال التوائية)
- (٥) منطقة جغرافية من سطح الأرض تتسم بخصائص مناخية تميزها عن غيرها. (إقليم مناخي)

(ب) أحبّ عما يلي:

- (١) ماذا يحدث إذا؟ لم تقم الدول العربية بإقامة المحميات الطبيعية.
- ☞ لن يتم الحفاظ على الحياة البرية، وتعرض أنواع عديدة للانقراض.
- (٢) اذكر مراحل الدعوة الإسلامية.
- ☞ مرحلة الدعوة السرية، مرحلة الدعوة الجهرية، مرحلة بناء الدولة وصد الأذى، مرحلة الفتح والدعوة العالمية للإسلام.

السؤال الرابع:

(أ) ضع علامة (✓) أمام العبارة الصحيحة وعلامة (X) أمام العبارة غير الصحيحة:

- (١) رأس المال في الزراعة مهم لشراء البذور والأسمدة. (✓)
- (٢) تمر دائرة الاستواء في شمال الوطن العربي. (X)
- (٣) أولى الدول العربية إنتاجًا للفوسفات هي دولة المغرب. (✓)
- (٤) هاجر المسلمون إلى الحبشة؛ لأن بها ملكًا عادلًا. (✓)
- (٥) هزم المسلمون في غزوة أحد بسبب قلة عددهم. (X)

(ب) اكتب دليلًا واحدًا على: تسامح النبي (ﷺ) مع أهل مكة.

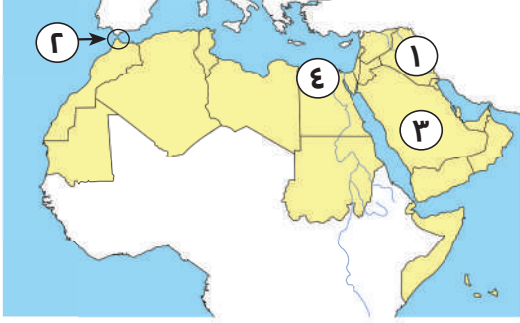
☞ عفا عن أهل مكة وقال لهم اذهبوا فأنتم الطلقاء.



ذاكر معنا

النموذج الحادي والعشرون

السؤال الأول:



(أ) أمامك خريطة صماء لمصر، لاحظها ثم أجب:

(١) جبال زاغروس.

(٢) مضيق جبل طارق.

(٣) أولى الدول العربية إنتاجًا للبتروال السعودية.

(٤) دولة تنتشر فيها السياحة العلاجية حيث عين ماعين هي الأردن.

(ب) ما العلاقة بين؟

(١) الزراعة ومعالجة مياه الصرف الصحي.

Ⓒ تعمل الدولة على معالجة مياه الصرف الصحي لتنمية الزراعة.

(٢) الصناعة الخضراء والبيئة.

Ⓒ الصناعة الخضراء تقلل من التأثير السلبي للصناعة على الصحة والبيئة.

السؤال الثاني:

(أ) ضع علامة (✓) أمام العبارة الصحيحة وعلامة (X) أمام العبارة غير الصحيحة:

(١) كان نظام الحكم السائد في شبه الجزيرة العربية هو النظام القبلي. (✓)

(٢) تكونت الأودية الجافة بفعل التعرية المائية وتستخدم كطرق للمواصلات. (✓)

(٣) يسود المناخ الحار معظم أجزاء الوطن العربي. (✓)

(٤) وضع علي بن أبي طالب (رضى الله عنه) التقويم الهجري الذي يبدأ من هجرة الرسول (ﷺ). (X)

(ب) بم تفسر؟

(١) لعبت التجارة دورًا مهمًا في الدولة الإسلامية.

Ⓒ أسهمت التجارة في بناء الدولة الإسلامية، وساعدت في نشر الإسلام بأخلاق

التجار الحميدة.

Ⓒ لتجنب أذى قريش.

(٢) بداية الدعوة للإسلام سرًا.



السؤال الثالث:

(أ) اختر الإجابة الصحيحة مما بين القوسين:

- (١) يسود المناخ الحار في معظم أجزاء الوطن العربي بينما يسود المناخ المعتدل في الأجزاء.....
(الشرقية - الغربية - الشمالية - الجنوبية)
- (٢) ينتمي الجزء الجنوبي الغربي من دولة اليمن إلى إقليم المناخ.....
(المداري - الصحراوي الحار - الاستوائي - البحر المتوسط)
- (٣) مشكلة بيئية تحدث بسبب التوسع المستمر في الزراعة.....
(تملح التربة - التصحر - الجفاف - ندرة المياه العذبة)
- (٤) تتركز زراعة البن في دولة.....
(السودان - اليمن - العراق - فلسطين)
- (ب) بم تفسر؟ هجرة عمر بن الخطاب إلى المدينة علانية دون خوف. ☞ **حيث كان شجاعاً.**

السؤال الرابع:

(أ) صوب ما تحته خط في العبارات التالية:

- (١) تنمو حشائش الإستبس التي تربي عليها الماعز والأغنام في الإقليم الصحراوي الحار.
(إقليم البحر المتوسط)
- (٢) نقص كمية الأمطار في بعض السنوات بما لا يسمح بالزراعة أو نمو الحشائش هو التصحر.
(الجفاف)
- (٣) نشاط اقتصادي بالوطن العربي يسهم بنحو ثلث دخله القومي هو الزراعة.
(الصناعة)
- (٤) تُعد زيارة المواقع الأثرية والتراثية مثل الأقصر في مصر، ضمن السياحة الدينية.
(الثقافية)

(ب) دلل على صحة العبارة:

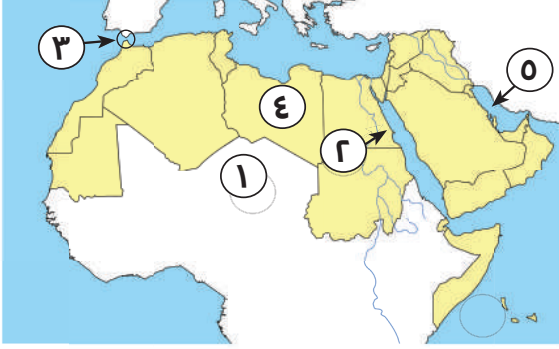
- (١) يشرف الوطن العربي على العديد من المسطحات المائية.
☞ مثل البحر الأحمر - البحر المتوسط - الخليج العربي.
- (٢) تتعدد العوامل المؤثرة في مناخ الوطن العربي.
☞ يتأثر مناخ الوطن العربي بعدة عوامل، منها الموقع الفلكي القريب والبعد عن المسطحات المائية ومظاهر السطح.



ذاكر معنا

النموذج الثاني والعشرون

السؤال الأول:



(أ) أمامك خريطة صماء لمصر، لاحظها ثم أجب:

- (١) الصحراء الكبرى.
- (٢) جبال البحر الأحمر.
- (٣) مضيق جبل طارق.
- (٤) دولة ليبيا.
- (٥) الخليج العربي.

(ب) بم تفسر؟

- (١) حرص الرسول (ﷺ) على المؤاخاة بين المهاجرين والأنصار.
- ج إقامة مجتمع متماسك تسوده المحبة والتعاون والإيثار.
- (٢) اختيار أبي بكر الصديق (رضي الله عنه) خليفة للمسلمين بعد وفاة الرسول (ﷺ).
- ج لأنه أول من أسلم من الرجال وشارك الرسول (ﷺ) في جميع غزواته وجعله الرسول (ﷺ) إمامًا للمسلمين في الصلاة أثناء مرضه.

السؤال الثاني:

(أ) اختر الإجابة الصحيحة مما بين القوسين:

- (١) رحلة أهل مكة في فصل الشتاء كانت إلى
(اليمن - الشام - يثرب - مصر)
- (٢) توجد جبال البحر الأحمر في دولتي
(موريتانيا والمغرب - مصر والسودان - الجزائر والمغرب - ليبيا وتونس)
- (٣) حشائش الإستبس تنمو ضمن إقليم مناخ
(الصحراوي - المداري - الموسمي - البحر المتوسط)
- (٤) ولد عمر بن الخطاب بعد ثلاثة عشر سنة من عام
(الحزن - الفيل - الزرافة - الفرج)

(ب) **دلل على صحة العبارة:** تعاني الدول العربية من مشكلة التصحر.

ج حيث إن ثلثي مساحة الوطن العربي تعاني من التصحر وتناقص قدرة الأراضي على الإنتاج.



السؤال الثالث:

(أ) ضع علامة (✓) أمام العبارة الصحيحة وعلامة (X) أمام العبارة غير الصحيحة:

- (1) تحتل مصر المركز الأول في إنتاج التمور. (✓)
- (2) أدنى نقطة في الوطن العربي والعالم هي البحر الميت في الأردن. (✓)
- (3) أسس الخليفة عثمان بن عفان (رضي الله عنه) الشرطة لحراسة بيت المال. (X)
- (4) تسهم التجارة في تعزيز العلاقات بين الدول. (✓)
- (5) تؤثر التغيرات المناخية بالإيجاب على الثروة السمكية. (X)

(ب) اكتب ما تشير إليه العبارات التالية:

- (1) تناقص قدرة الأراضي الزراعية على الإنتاج. (التصحّر)
- (2) سهول كونتها الأنهار عن طريق ترسب المواد العالقة بمياهها. (السهول الفيضية)

السؤال الرابع:

(أ) أكمل العبارات التالية بما يناسبها من كلمات:

- (1) يسود معظم أجزاء الوطن العربي إقليم المناخ الصحراوي الحار.
- (2) تحتل موريتانيا المرتبة الأولى في إنتاج الحديد عربياً.
- (3) أول مدينة تم اختيارها عاصمة للسياحة العربية الإسكندرية.
- (4) جهز الرسول (ﷺ) قبل وفاته جيشاً بقيادة أسامة بن زيد (رضي الله عنه) لإرساله إلى الشام.
- (5) كان نظام الحكم السائد في شبه الجزيرة العربية قبل الإسلام النظام القبلي.

(ب) ما النتائج المترتبة على؟

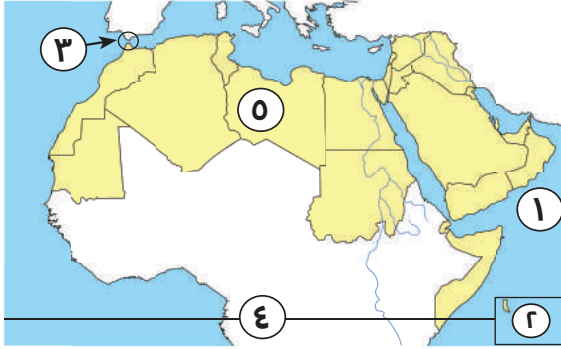
- (1) ضيق مساحة المسطحات المائية في الوطن العربي.
- ⊖ يقل تأثيرها على مناخ الوطن العربي بشكل عام.
- (2) مخالفة الرماة أمر الرسول (ﷺ) في غزوة أحد سنة 3 هـ.
- ⊖ تحول نصر المسلمين إلى هزيمة.



ذاكر معنا

النموذج الثالث والعشرون

السؤال الأول:



(أ) أمامك خريطة صماء لمصر، لاحظها ثم أجب:

- (١) بحر العرب.
- (٢) دولة جزر القمر.
- (٣) مضيق جبل طارق.
- (٤) دائرة الاستواء.
- (٥) إقليم المناخ الصحراوي الحار.

(ب) بم تفسر؟

- (١) يقل تأثير المسطحات المائية على مناخ الوطن العربي.
- ⊖ بسبب ضيق مساحتها وعدم توغل تأثيرها إلى الداخل لوجود الصحاري والمرتفعات القريبة من السواحل مثل جبال البحر الأحمر.
- (٢) أهمية الأودية الجافة في الوطن العربي.
- ⊖ تستخدم كطرق للمواصلات أو للحصول على المياه الجافة.

السؤال الثاني:

(أ) ضع علامة (✓) أمام العبارة الصحيحة وعلامة (X) أمام العبارة غير الصحيحة:

- (١) ساد نظام الحكم الملكي في شبه الجزيرة العربية قبل ظهور الإسلام. (X)
- (٢) قام الخليفة علي بن أبي طالب (رضى الله عنه) بنقل مقر الخلافة إلى الكوفة. (✓)
- (٣) يسعى الوطن العربي إلى زيادة منصات التجارة الإلكترونية. (✓)
- (٤) تطور الفنادق والقرى السياحية يساعد على جذب السياح. (✓)

(ب) أحب عما يلي:

- (١) قارن بين: الحديد والفسفات من حيث أولى الدول العربية إنتاجًا لكل منهما.
- ⊖ الحديد دولة موريتانيا أما الفوسفات فدولة المغرب.
- (٢) ما المقصود بـ: التجارة البينية العربية؟
- ⊖ الصادرات والواردات من السلع والخدمات بين الدول العربية.



السؤال الثالث:

(أ) أكمل العبارات التالية بما يناسبها من كلمات:

- (١) تم إنشاء الدواوين في عهد الخليفة **عمر بن الخطاب** (رضي الله عنه).
- (٢) تقع محمية ضانا في دولة **الأردن**.
- (٣) أولى الدول العربية في صناعة الحديد والصلب هي **مصر**.
- (٤) أول مدينة تم اختيارها عاصمة للسياحة العربية الإسكندرية.

(ب) دلل على صحة العبارة:

- (١) تعدد المشكلات البيئية في الوطن العربي.
- ⊖ يعاني الوطن العربي من الجفاف وندرة المياه العذبة والتصحر وغيرها من المشكلات.
- (٢) أهمية الثروة الحيوانية بالنسبة للوطن العربي.
- ⊖ توفر الثروة الحيوانية البروتين الحيواني والمواد الخام الحيوانية اللازمة للصناعة كالجلود والألبان واللحوم وتستخدم بعض الحيوانات في الريف في أعمال الحقل كالنقل.

السؤال الرابع:

(أ) اختر الإجابة الصحيحة مما بين القوسين:

- (١) أشار على سيدنا محمد (ﷺ) بحفر خندق حول المدينة الصحابي
(سلمان الحلبي - سلمان المغربي - سلمان الفارسي - سلمان علي)
- (٢) تم الفتح الإسلامي لمصر في عهد الخليفة
(أبي بكر الصديق - عمر بن الخطاب - عثمان بن عفان - علي بن أبي طالب)
- (٣) تمتد هضبة إفريقيا الشمالية من البحر الأحمر حتى المحيط
(الهندي - الهادي - الأطلسي - القطبي)
- (٤) تناقص قدرة الأراضي الزراعية على الإنتاج. تشير هذه العبارة إلى مصطلح
(التصحر - الجفاف - ندرة المياه - التلوث)
- (٥) دولة تقوم فيها الزراعة على مياه الأنهار.
(ليبيا - قطر - السودان - الكويت)

(ب) ماذا نستفيد من شخصية عمر بن الخطاب؟

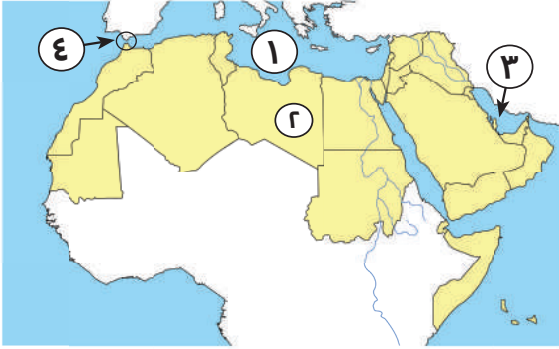
⊖ الشجاعة والرحمة والحكمة.



ذاكر معنا

النموذج الرابع والعشرون

السؤال الأول:



(أ) أمامك خريطة صماء لمصر، لاحظها ثم أجب:

(١) البحر المتوسط.

(٢) دولة ليبيا.

(٣) الخليج العربي.

(٤) مضيق جبل طارق.

(ب) دلل على صحة العبارة:

(١) كان لعمر بن الخطاب الكثير من الأعمال البارزة في التاريخ الإسلامي.

⊖ إنشاء الدواوين، وأشار على أبي بكر الصديق بجمع القرآن الكريم.

(٢) قامت على أرض الوطن العربي أقدم الحضارات بالعالم.

⊖ حيث قامت أقدم الحضارات في العالم على أرضه مثل (الحضارة المصرية القديمة وحضارة بلاد العراق القديم).

السؤال الثاني:

(أ) اختر الإجابة الصحيحة مما بين القوسين:

(١) يحد الوطن العربي من الجنوب

(البحر المتوسط - المحيط الهندي - البحر الأحمر - جبال زاغروس)

(٢) اليمن أولى الدول العربية في زراعة

(البن - القمح - الأرز - البنجر)

(٣) نزلت رسالة الإسلام على الرسول (ﷺ) في غار

(حراء - ثور - حضرة - الشق)

(ب) اكتب المصطلح الجغرافي الدال على العبارات التالية:

(١) تناقص قدرة الأراضي الزراعية على الإنتاج. (التصحّر)

(٢) الصادرات والواردات بين دول الوطن العربي وباقي دول العالم. (التجارة الخارجية)

السؤال الثالث:

(أ) ضع علامة (✓) أمام العبارة الصحيحة وعلامة (X) أمام العبارة غير الصحيحة:

- (1) يقع الوطن العربي في موقع جغرافي متميز. (✓)
- (2) كانت حرفة الزراعة الحرفة السائدة في شبه الجزيرة العربية قبل الإسلام. (X)
- (3) ظهر نظام الخلافة عند المسلمين بعد وفاة الرسول (ﷺ). (✓)
- (4) تقع الدول العربية في إقليم مناخي واحد. (X)
- (5) تهتم دول الوطن العربي باستخدام مصادر الطاقة النظيفة. (✓)

(ب) ما النتائج المترتبة على؟

- (1) محاربة المرتدين. Ⓒ انتصرت عليهم الجيوش الإسلامية وعادوا إلى الإسلام.
- (2) فتح بلاد الشام والعراق. Ⓒ اتساع الدولة الإسلامية.

السؤال الرابع:

(أ) أكمل العبارات التالية بما يناسبها من بنك الكلمات :

- (شرم الشيخ - سلمان الفارسي - الصناعة - قريش - حواجز جمركية - الخرطوم)
- (1) أشهر قبائل العرب قبل الإسلام قبيلة **قريش**.
 - (2) أشار على النبي (ﷺ) بحفر خندق حول المدينة **سلمان الفارسي**.
 - (3) الزراعة توفر المواد الخام اللازمة لـ **الصناعة**.
 - (4) تأسست المنظمة العربية للتنمية الزراعية عام ١٩٧٢م في **الخرطوم**.
 - (5) أحد أسباب ضعف التجارة البينية العربية وجود **حواجز جمركية**.

(ب) بم تفسر؟

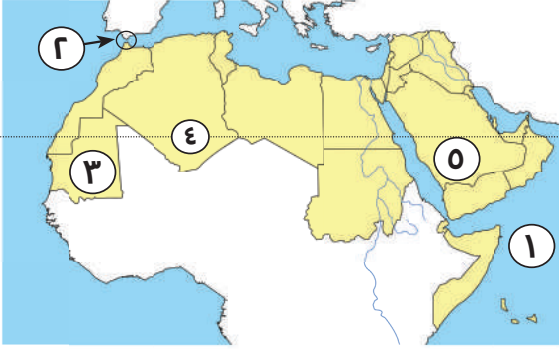
- (1) نقل الخليفة علي بن أبي طالب مقر الخلافة من المدينة إلى الكوفة. Ⓒ **يسهل الانتقال بين أرجاء الدولة الإسلامية خاصة بعد اتساعها**.
- (2) أهمية بناء المسجد في تأسيس الدولة الإسلامية. Ⓒ **ليكون مقرًا للحكم وإدارة الشؤون الداخلية والخارجية للدولة ومركزًا للعبادة وتعليم أصول الدين**.



ذاكر معنا

النموذج الخامس والعشرون

السؤال الأول:



(أ) أمامك خريطة صماء لمصر، لاحظها ثم أجب:

- (١) المحيط الهندي.
- (٢) مضيق جبل طارق.
- (٣) إقليم مناخي المداري.
- (٤) دائرة عرض مدار السرطان.
- (٥) أولى الدول العربية إنتاجًا للبترو ل السعودية.

(ب) دلل على صحة العبارة:

- (١) تعددت أسس بناء الدولة الإسلامية في المدينة.
- ⊖ بناء المسجد - المؤاخاة بين الأنصار والمهاجرين - صحيفة المدينة.
- (٢) تعاني الثروة الحيوانية في الوطن العربي من مشكلات عديدة.
- ⊖ التغيرات المناخية، وفقر المراعي، والرعي الجائر للحيوانات، واتباع أساليب الرعي التقليدية وقلة الأعلاف.

السؤال الثاني:

(أ) أكمل العبارات التالية بما يناسبها من كلمات:

- (١) دولة عربية تقع في المحيط الهندي هي **جزر القمر**.
- (٢) ازدهرت التجارة بين شبه الجزيرة العربية وبلاد الشام خلال فصل **الصيف**.
- (٣) توجد سهول نهري دجلة والفرات بدولة **العراق**.
- (٤) إحدى مناطق السياحة الثقافية مدينة القيروان بدولة **تونس**.

(ب) بم تفسر؟

- (١) أهمية المحميات الطبيعية.
- ⊖ للحفاظ على الحياة البرية، وتنشيط السياحة، وتحقيق التوازن البيئي، والحد من التلوث؛ تحقيقًا للتنمية المستدامة.
- (٢) تركيز تربية الجاموس في مصر مبتكرة.
- ⊖ لوجود البيئة الزراعية الفيضية المناسبة للتربية.



السؤال الثالث:

(أ) ضع علامة (✓) أمام العبارة الصحيحة وعلامة (X) أمام العبارة غير الصحيحة:

- (1) تشغل الدول العربية بالجنح الآسيوي مساحة أكبر من دول الجنح الإفريقي. (X)
- (2) تهب على الوطن العربي رياح باردة من أوروبا في فصل الشتاء. (✓)
- (3) تعرضت دولة الصومال لأكبر موجة جفاف تسببت في نقص الغذاء. (✓)
- (4) زيارة آثار مدينة تدمر بالعراق تعد سياحة ثقافية. (X)

(ب) أجب عما يلي:

(1) ما النتائج المترتبة على؟ الرعي الجائر للحيوانات في الوطن العربي.

حدوث مشكلة التصحر.

(2) دلل على صحة العبارة: تختلف الصور النباتية في الإقليم الصحراوي بالوطن العربي.

تنتشر في الإقليم الصحراوي الحار النباتات التي لديها القدرة على تحمل

الجفاف والحرارة مثل الصبار.

السؤال الرابع:

(أ) اختر الإجابة الصحيحة مما بين القوسين:

- (1) يحد الوطن العربي من الغرب المحيط
(الهادي - الهندي - الأطلسي - القطبي)
- (2) من الصفات الحسنة عند العرب قبل الإسلام
(وَأد البنات - الوفاء بالعهد - الأخذ بالثأر - شرب الخمر)
- (3) تعد من الجبال الالتوائية في الوطن العربي جبال
(عسير - البحر الأحمر - عمان - الحجاز)
- (4) تسقط أمطار موسمية صيفية على أجزاء من دولة
(لبنان - سوريا - تونس - الصومال)

(ب) لمن تنسب الأعمال التاريخية التالية؟

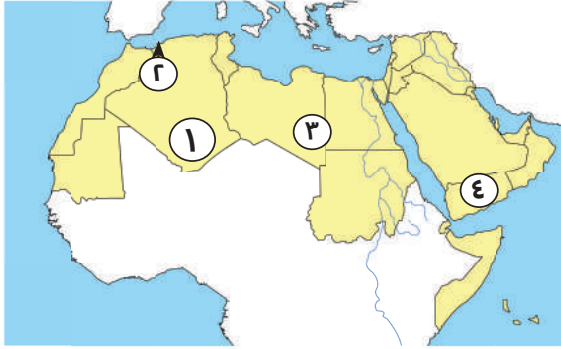
- (1) أشار على الرسول (ﷺ) بحفر خندق حول المدينة. (سلمان الفارسي)
- (2) الخليفة الذي وضع التقويم الهجري. (عمر بن الخطاب)
- (3) نقل مقر الخلافة من المدينة إلى الكوفة. (علي بن أبي طالب)



ذاكر معنا

النموذج السادس والعشرون

السؤال الأول:



(أ) أمامك خريطة صماء لمصر، لاحظها ثم أجب:

- (١) دولة الجزائر.
- (٢) جبال أطلس.
- (٣) إقليم مناخي الصحراوي الحار.
- (٤) دولة يتركز بها زراعة البن اليمن.

(ب) بم تفسر؟

(١) أهمية التجارة حديثاً.

⊖ تعزيز العلاقات بين الدول، تلبية احتياجات السكان من السلع والخدمات، توفر النقل الأجنبي، وتوفير فرص عمل.

(٢) إرسال جيش أسامة بن زيد (رضي الله عنه) إلى الشام.

⊖ لمحاربة الروم وتأمين حدود الدولة الإسلامية.

السؤال الثاني:

(أ) ضع علامة (✓) أمام العبارة الصحيحة وعلامة (X) أمام العبارة غير الصحيحة:

- (١) نقل الخليفة علي بن أبي طالب (رضي الله عنه) مقر الخلافة إلى الكوفة. (✓)
- (٢) المنظمة المسؤولة عن الأغذية والزراعة هي اليونسكو. (X)
- (٣) يُعد النشاط السياحي من أهم الأنشطة الاقتصادية بالوطن العربي. (✓)
- (٤) تسهم الصناعة بنحو نصف الدخل القومي للوطن العربي. (X)
- (٥) محمية ضانا بالأردن من أشهر المحميات الطبيعية بالوطن العربي. (✓)

(ب) **دليل على صحة العبارة:** يتمتع الوطن العربي بمكانة دينية عظيمة.

⊖ فهو موطن الديانات السماوية (اليهودية - المسيحية - الإسلامية) ويضم أماكن

مقدسة ذات أهمية دينية مثل: الكعبة في مكة المكرمة، وكنيسة القيامة في

فلسطين، والأزهر الشريف في مصر.

السؤال الثالث:

(أ) اختر الإجابة الصحيحة مما بين القوسين:

- (١) ثاني الغزوات التي خاضها المسلمون ضد قريش هي غزوة.....
(الخنديق - خيبر - أحد - بدر)
- (٢) أي مما يلي من أعمال الخليفة أبي بكر الصديق (رضي الله عنه)?
(إنشاء ديوان الجند - تنظيم الشرطة - محاربة المرتدين - وضع التقويم الهجري)
- (٣) أكثر الدول العربية التي تعرضت لخطر الجفاف دولة.....
(المغرب - الصومال - العراق - البحرين)
- (٤) أولى الدول العربية إنتاجًا للبترول.....
(مصر - السودان - ليبيا - السعودية)

(ب) ما النتائج المترتبة على؟

- (١) حدوث الحركات الانكسارية في الوطن العربي.
Ⓒ نشأة الجبال الانكسارية مثل جبال البحر الأحمر، والحجاز، وعسير، ومرتفعات اليمن.
- (٢) التشابه الكبير بين السلع والخدمات التي تنتجها دول الوطن العربي.
Ⓒ ضعف التجارة البينية بين الدول العربية.

السؤال الرابع:

(أ) أكمل العبارات التالية بما يناسبها من كلمات:

- (١) أصغر الدول العربية من حيث المساحة هي دولة البحرين.
- (٢) الزراعة توفر المواد الخام اللازمة لـ الصناعة.
- (٣) هضبة حزموت توجد في الجناح الآسيوي للوطن العربي.
- (٤) توجد كنيسة القيامة في دولة فلسطين.
- (٥) تنقسم الصناعة إلى استخراجية و تحويلية.

(ب) لمن تنسب الأعمال التاريخية التالية؟

- (١) أرسل عدة جيوش لمحاربة المرتدين.
(٢) أمر بإنشاء أول أسطول بحري في الإسلام.
(٣) أمر بنقل مقر الخلافة الإسلامية من المدينة إلى الكوفة.
- (أبو بكر الصديق)
(عثمان بن عفان)
(علي بن أبي طالب)

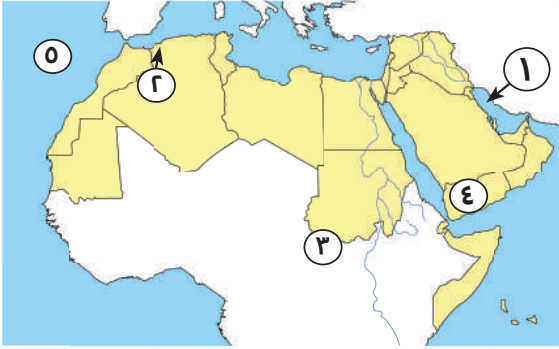




ذاكر معنا

النموذج السابع والعشرون

السؤال الأول:



(أ) أمامك خريطة صماء لمصر، لاحظها ثم أجب:

- (١) الخليج العربي.
- (٢) جبال أطلس.
- (٣) إقليم مناخي المداري.
- (٤) دولة تتركز بها زراعة البن اليمن.
- (٥) المحيط الأطلسي.

(ب) بم تفسر؟

- (١) توجيه أبي بكر الصديق طاقة الدولة الإسلامية لفتح بلاد الشام والعراق.
- ⊖ لنشر الدين الإسلامي وحماية الدولة.
- (٢) تتعرض الزراعة في وطننا العربي للكثير من المشكلات.
- ⊖ بسبب ندرة المياه العذبة وتذبذب كمية الأمطار والتصحر وزحف الرمال والجفاف.

السؤال الثاني:

(أ) أكمل العبارات التالية بما يناسبها من كلمات:

- (١) نظام الحكم السائد في شبه الجزيرة العربية قبل الإسلام هو النظام القبلي.
- (٢) خصص يوماً للنظر في مظالم الناس هو الخليفة علي بن أبي طالب (رضي الله عنه).
- (٣) أول حرفة عمل بها الرسول (ﷺ) وهو في بيت عمه هي رعي الأغنام.
- (٤) تساهم الثروة السمكية في وطننا العربي في سد العجز من البروتين الحيواني والتنمية الزراعية.

(ب) ما العلاقة بين؟

- (١) التغيير المناخي والثروة السمكية.
- ⊖ تؤثر التغييرات المناخية على الثروة السمكية حيث تتسبب في ارتفاع درجات الحرارة للمسطحات المائية ونقص الأكسجين فيها وبالتالي موت كثير من الكائنات البحرية.
- (٢) الهيدروجين الأخضر والصناعة.
- ⊖ الهيدروجين الأخضر من مصادر الطاقة المتجددة التي لا تلوث الصناعة.



السؤال الثالث:

(أ) ضع علامة (✓) أمام العبارة الصحيحة وعلامة (X) أمام العبارة غير الصحيحة:

- (1) يحد الوطن العربي من جهة الشرق جبال أطلس. (X)
- (2) ظهر نظام الخلافة عند المسلمين بعد وفاة الرسول (ﷺ). (✓)
- (3) يتركز بعض السكان في هضاب الجناح الإفريقي للوطن العربي. (✓)
- (4) تعد السعودية أولى الدول العربية في تربية الإبل. (X)

(ب) أجب عما يلي:

(1) ما المقصود بـ: الجفاف؟

⊖ هو نقص في كمية الأمطار بما لا يسمح بالزراعة أو نمو الحشائش.

(2) دلل على صحة العبارة التالية: أنفق أبو بكر الصديق الكثير من ماله في سبيل خدمة الإسلام.

⊖ فقد اهتم برعاية الفقراء والمرضى.

السؤال الرابع:

(أ) اختر الإجابة الصحيحة مما بين القوسين:

- (1) الغزوة التي تحول فيها نصر المسلمين إلى هزيمة هي
(بدر - الخندق - أحد - تبوك)
- (2) آخر الخلفاء الراشدين (رضي الله عنهم) هو الخليفة
(أبو بكر الصديق - عمر بن الخطاب - عثمان بن عفان - علي بن أبي طالب)
- (3) من أمثلة الجبال الانكسارية في الوطن العربي جبال
(کردستان - زاغروس - عمان - عسير)
- (4) يوحد الصبار في إقليم
(البحر المتوسط - الاستوائي - الصحراوي - المداري)

(ب) ما النتائج المترتبة على؟ ظهور الإسلام في شبه الجزيرة العربية.

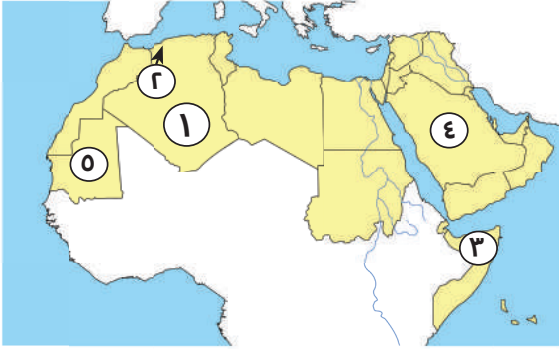
⊖ أدى إلى تغير حياة سكان شبه الجزيرة العربية للأفضل.



ذاكر معنا

النموذج الثامن والعشرون

السؤال الأول:



(أ) أمامك خريطة صماء لمصر، لاحظها ثم أجب:

- (١) أكبر الدول العربية مساحة الجزائر.
- (٢) جبال أطلس.
- (٣) أكثر الدول العربية تعرضًا للجفاف الصومال.
- (٤) أولى الدول العربية إنتاجًا للبتروال السعودية.
- (٥) أولى الدول العربية إنتاجًا للحديد موريتانيا.

(ب) بم تفسر؟

- (١) يعد الوطن العربي مطمئنًا لكثير من الدول عبر العصور.
- ⊖ بسبب موقعه الجغرافي المتميز.
- (٢) تكون الثلوج فوق قمم جبال لبنان.
- ⊖ بسبب انخفاض درجة الحرارة على قمم الجبال.

السؤال الثاني:

(أ) ضع علامة (✓) أمام العبارة الصحيحة وعلامة (X) أمام العبارة غير الصحيحة:

- (١) نزل الوحي على الرسول (ﷺ) وهو في سن العشرين. (X)
- (٢) تنمو حشائش السافانا في إقليم البحر المتوسط بالوطن العربي. (X)
- (٣) التوسع المستمر في الزراعة يؤدي إلى ندرة المياه العذبة. (✓)
- (٤) أدت الحواجز الجمركية بين الدول العربية إلى ضعف التجارة البينية. (✓)

(ب) ما النتائج المترتبة على:

- (١) مخالفة الرماة لأوامر الرسول (ﷺ) في غزوة أحد.
- ⊖ تحول نصر المسلمين هزيمة في غزوة أحد.
- (٢) سقوط أمطار شمال الوطن العربي.
- ⊖ أدى إلى قيام الزراعة في الأجزاء الشمالية في وطننا العربي.



السؤال الثالث:

(أ) اختر الإجابة الصحيحة مما بين القوسين:

- (١) محاصيل الحبوب الغذائية
(القطن - التين - الكتان - الذرة)
- (٢) تعد الصومال أولى الدول العربية في تربية
(الأبقار - الجاموس - الدواجن - الإبل)
- (٣) يستخدم في صناعة المبيدات الحشرية
(الحديد - الفوسفات - المنجنيز - الفحم)
- (٤) يعد حضور السياح كأس العالم لكرة القدم بقطر ٢٠٢٢ م سياحة
(ثقافية - ترفيهية - رياضية - بيئية)

(ب) ما العلاقة بين؟

- (١) خام الفوسفات والزراعة في الوطن العربي.
Ⓒ يستخدم خام الفوسفات في صناعة الأسمدة والمبيدات.
(٢) حروب المرتدين وجمع القرآن الكريم.
Ⓒ بسبب استشهاد عدد كبير من حفظة القرآن الكريم في حروب المرتدين تم جمع القرآن الكريم.

السؤال الرابع:

(أ) من يكون؟

- (١) أول من أسلم من الرجال.
(أبو بكر الصديق)
(٢) أشار على النبي (ﷺ) بحفر خندق حول المدينة.
(سلمان الفارسي)
(٣) جمع القرآن الكريم في مصحف واحد.
(عثمان بن عفان)
(٤) أمر المسلمين الأوائل بالهجرة إلى الحبشة.
(الرسول (ﷺ))

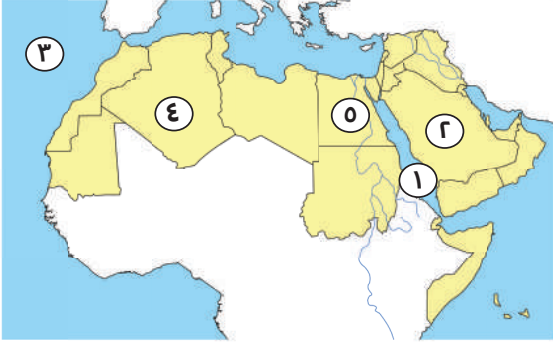
(ب) ماذا يحدث إذا لم؟ تسقط الأمطار على إقليم البحر المتوسط شتاءً.

Ⓒ لن تنمو أشجار الأرز والزيتون والسنوبر.



النموذج التاسع والعشرون

السؤال الأول:



(أ) أمامك خريطة صماء لمصر، لاحظها ثم أجب:

- (١) البحر الأحمر .
- (٢) أولى الدول العربية في إنتاج البترول السعودية.
- (٣) المحيط الأطلسي.
- (٤) أكبر الدول العربية من حيث المساحة الجزائر .
- (٥) أولى الدول العربية إنتاجا للحبوب الغذائية مصر .

(ب) بم تفسر؟

- (١) كانت الدعوة إلى الإسلام في بدايتها سرية؟
- Ⓒ لتجنب أذى قريش .
- (٢) للتجارة الإلكترونية أهمية كبيرة .
- Ⓒ تتيح للعملاء شراء المنتجات التي يريدونها من المنزل وفي أي وقت بكل سهولة ومن أسواق ومتاجر متعددة .

السؤال الثاني:

(أ) ضع علامة (✓) أمام العبارة الصحيحة وعلامة (X) أمام العبارة غير الصحيحة:

- (١) ولد النبي (ﷺ) في مكة وكان يتيماً . (✓)
- (٢) يتمتع وطننا العربي بكافة مقومات السياحة . (✓)
- (٣) يقل تأثير المسطحات المائية على مناخ الوطن العربي بشكل عام . (✓)
- (٤) تكفي اللحوم الحمراء حاجة سكان الوطن العربي . (X)

(ب) ما النتائج المترتبة على؟

- (١) انخفاض درجة الحرارة على قمم الجبال .
- Ⓒ تكون الثلوج فوق قمم الجبال مثل جبال لبنان .
- (٢) وجود عيون المياه الكبريتية في مصر .
- Ⓒ وجود سياحة علاجية .

السؤال الثالث:

(أ) أكمل العبارات التالية بما يناسبها من كلمات:

- (١) تحول نصر المسلمين إلى هزيمة في غزوة أحد.
- (٢) يمتد بحر الرمال العظيم بين مصر و **ليبيا**.
- (٣) أولى الدول العربية في تربية الإبل **الصومال**.
- (٤) تقع محمية أرز الشوف في دولة **لبنان**.
- (٥) زيارة عيون موسى بمصر من أشكال السياحة **العلاجية**.

(ب) ماذا يحدث إذا لم؟

- (١) يخالف الرماة أمر الرسول (ﷺ) في غزوة أحد ٣ هـ.
- ⊖ لم يتحول نصر المسلمين إلى هزيمة.
- (٢) يقض أبي بكر الصديق على المرتدين.
- ⊖ انقسام الدولة الإسلامية.

السؤال الرابع:

(أ) اختر الإجابة الصحيحة مما بين القوسين :

- (١) أي مما يلي يعد من أعمال الخليفة عمر بن الخطاب
(وضع **التقويم الهجري** - تعيين صاحب الشرطة - نقل مقر الخلافة - أنشأ الأسطول البحري)
- (٢) يسود معظم جنوب الوطن العربي المناخ
(المعتدل - البارد - **الحار** - الموسمي)
- (٣) أشهر المراكز التجارية قديمًا
(**الإسكندرية** - القاهرة - مطروح - العلمين)
- (٤) انطلقت مبادرة زراعة ٤٥٠ مليون شجرة في دولة
(**السعودية** - مصر - الإمارات - عمان)

(ب) دلل على صحة العبارة: قدم النبي (ﷺ) مثلًا في التسامح والعفو أثناء فتح مكة.

⊖ حيث عفا عن أهلها وقال لهم اذهبوا فأنتم الطلقاء.

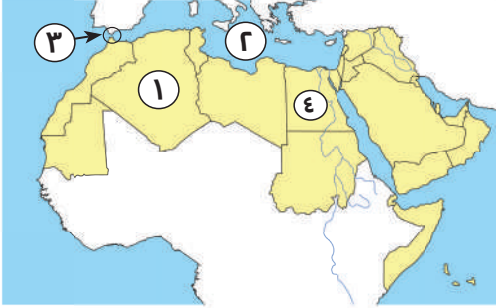


ذاكر معنا



النموذج الثلاثون

السؤال الأول:



(أ) أمامك خريطة صماء لمصر، لاحظها ثم أجب:

- (١) أكبر الدول العربية مساحة هي دولة الجزائر.
- (٢) البحر المتوسط.
- (٣) مضيق جبل طارق.
- (٤) أولى الدول العربية إنتاجًا للحبوب الغذائية هي مصر.

(ب) بم تفسر؟

- (١) أهمية وسائل النقل في الزراعة.
- ⊖ لنقل ما تحتاجه الزراعة من مواد مختلفة ونقل المنتجات الزراعية إلى مناطق الاستهلاك.
- (٢) أهمية معدن الحديد.
- ⊖ يستخدم في كثير من الصناعات الثقيلة والمنشآت والكباري.

السؤال الثاني:

(أ) اختر الإجابة الصحيحة مما بين القوسين:

- (١) تبادل السلع والخدمات باستخدام الإنترنت يسمى
(مقايضة - تجارة إلكترونية - تجارة خارجية - تجارة بينية)
- (٢) أولى الدول العربية في تربية الدواجن هي
(السعودية - مصر - المغرب - تونس)
- (٣) تمر جنوب الوطن العربي دائرة
(القطب الشمالي - الجدي - الاستواء - السرطان)
- (٤) دولة عربية تحتل المرتبة الأولى في إنتاج الحديد
(اليمن - ليبيا - موريتانيا - مصر)

(ب) أحب عما يلي:

- (١) ما المقصود بـ التصحر. ⊖ تناقص قدرة الأراضي الزراعية على الإنتاج.
- (٢) كان لعمر بن الخطاب دور هام في جمع القرآن الكريم - اثبت صحة العبارة.
- ⊖ فقد أشار على أبي بكر الصديق بجمع القرآن الكريم.



السؤال الثالث:

(أ) أكمل العبارات التالية بما يناسبها من كلمات:

- (١) زيارة المواقع الأثرية والتراثية في الأقصر هي **سياحة ثقافية**.
 - (٢) منظمة الأغذية والزراعة للأمم المتحدة تسمى **الفاو**.
 - (٣) الصناعة الخضراء تعتمد على الاستثمار الأمثل للموارد **المتجددة**.
 - (٤) فتح المسلمون بلاد العراق والشام ومصر في عهد الخليفة **عمر بن الخطاب**.
- (ب) ما العلاقة بين: الزراعة والصناعة الزراعية.
- ج توفر الزراعة المواد الخام اللازمة للصناعة.

السؤال الرابع:

(أ) ضع علامة (✓) أمام العبارة الصحيحة وعلامة (X) أمام العبارة غير الصحيحة:

- (١) بدأت مرحلة نشر الدعوة الإسلامية عالمياً بعد صلح الحديبية. (✓)
- (٢) رأس المال من المقومات الطبيعية لقيام الزراعة في الوطن العربي. (X)
- (٣) يُعد جبل سانت كاترين بمصر أعلى نقطة في الوطن العربي. (X)

(ب) اكتب المصطلح الجغرافي الذي تشير إليه العبارات التالية:

- (١) منطقة جغرافية من سطح الأرض تتسم بخصائص مناخية تميزها عن غيرها. (الإقليم المناخي)
- (٢) نقص كمية الأمطار في بعض السنوات بما لا يسمح بالزراعة أو نمو الحشائش. (الكفاف)
- (٣) تناقص قدرة الأراضي الزراعية على الإنتاج. (التصحّر)
- (٤) سياحة تتمثل في زيارة الأماكن المقدسة. (السياحة الدينية)





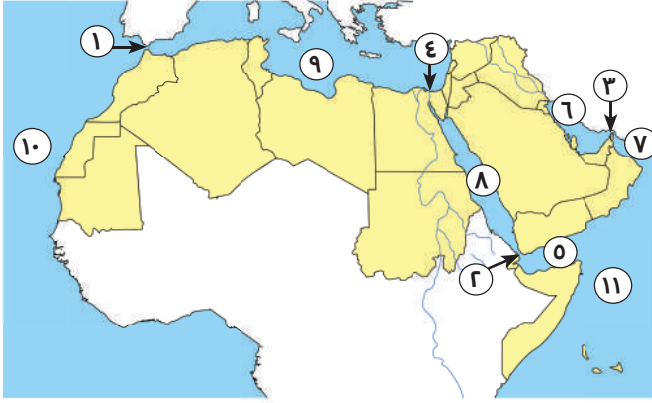
ذاكر معنا

بنك أسئلة

١

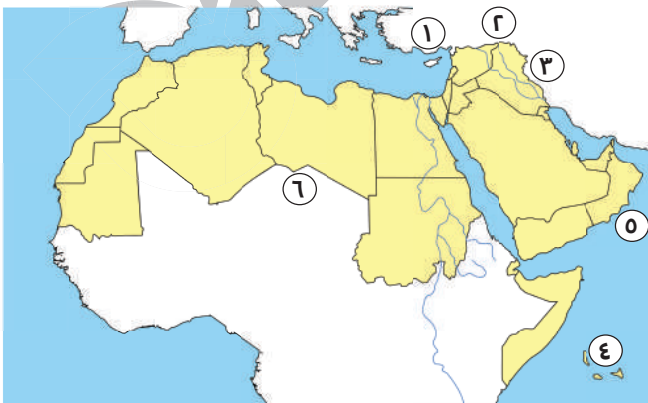
لاحظ الخرائط الآتية، ثم أجب:

(أ) أمامك خريطة صماء للوطن العربي، أجب من خلالها عما يأتي:



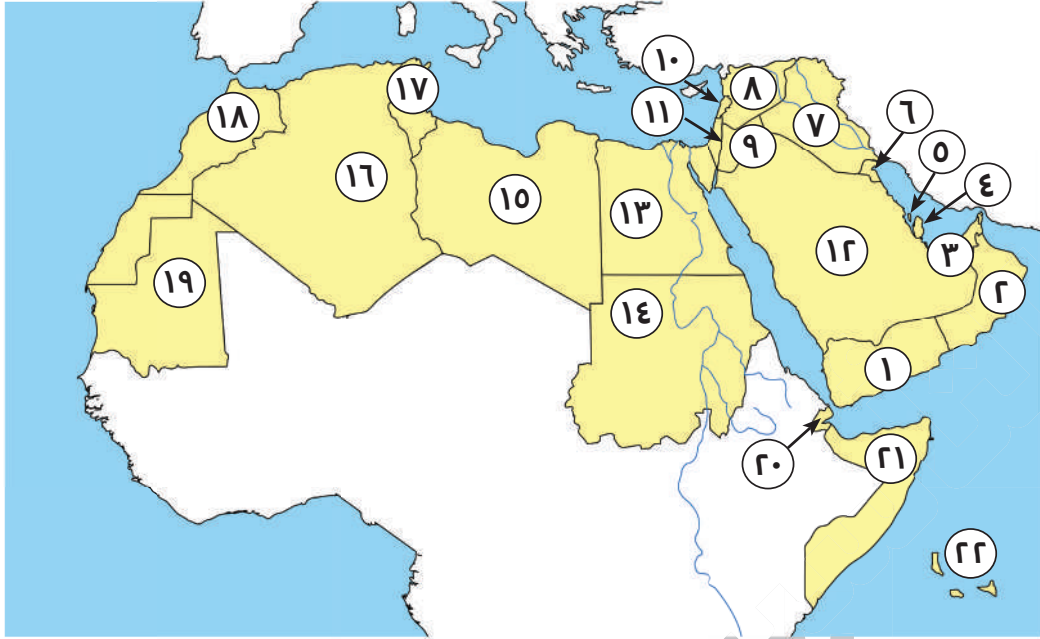
- (١) يشير رقم (١) إلى مضيق جبل طارق.
- (٢) يشير رقم (٢) إلى مضيق باب المندب.
- (٣) يشير رقم (٣) إلى مضيق هرمز.
- (٤) يشير رقم (٤) إلى قناة السويس.
- (٥) يشير رقم (٥) إلى خليج عدن.
- (٦) يشير رقم (٦) إلى الخليج العربي.
- (٧) يشير رقم (٧) إلى خليج عمان.
- (٨) يشير رقم (٨) إلى البحر الأحمر.
- (٩) يشير رقم (٩) إلى البحر المتوسط.
- (١٠) يشير رقم (١٠) إلى المحيط الأطلنطي.
- (١١) يشير رقم (١١) إلى المحيط الهندي.

(ب) أمامك خريطة صماء للوطن العربي، أجب من خلالها عما يأتي:



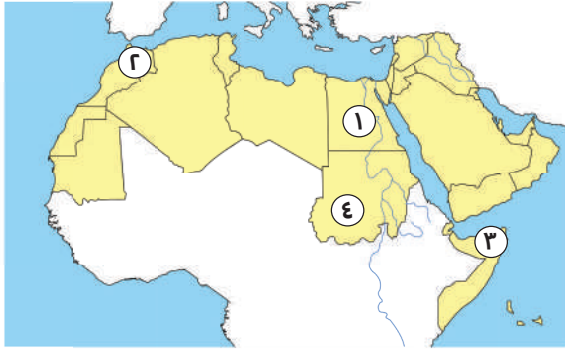
- (١) يشير رقم (١) إلى جبال طوروس.
- (٢) يشير رقم (٢) إلى جبال كردستان.
- (٣) يشير رقم (٣) إلى جبال زاغروس.
- (٤) يشير رقم (٤) إلى جزر القمر.
- (٥) يشير رقم (٥) إلى بحر العرب.
- (٦) يشير رقم (٦) إلى الصحراء الكبرى.

(ج) أهامك خريطة صماء للوطن العربي، ادرسها جيداً وأكمل الجدول التالي:



دول الجناح العربي الإفريقي	دول الجناح العربي الآسيوي
(١٣) مصر	(١) اليمن
(١٤) السودان	(٢) عمان
(١٥) ليبيا	(٣) الإمارات
(١٦) الجزائر	(٤) قطر
(١٧) تونس	(٥) البحرين
(١٨) المغرب	(٦) الكويت
(١٩) موريتانيا	(٧) العراق
(٢٠) جيبوتي	(٨) سوريا
(٢١) الصومال	(٩) الأردن
(٢٢) جزر القمر	(١٠) لبنان
	(١١) فلسطين
	(١٢) السعودية

(د) أمامك خريطة صماء للوطن العربي، أجب عما يلي:



(١) أولى الدول العربية في تربية الجاموس.

• أو أولى الدول العربية تربية للجاموس **مصر**.

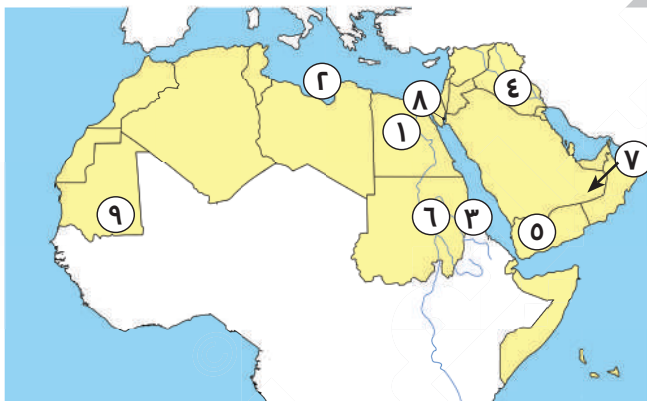
(٢) أولى الدول العربية في إنتاج الأسماك من **المصايد**.

(٣) أولى الدول العربية في تربية **الإبل**.

• أو أولى الدول في تربية الإبل **الصومال**.

(٤) أولى الدول العربية في تربية الأبقار **السودان**.

(هـ) أمامك خريطة صماء للوطن العربي، أجب عما يلي:



(١) أولى الدول العربية إنتاجًا للمحاصيل السكرية والحبوب الغذائية

مصر.

• أو دولة تنتج التمور **مصر**.

• أو أول دولة الإنتاج الحبوب الغذائية **مصر**.

• أو دولة بها واحة سيوة **مصر**.

(٢) **البحر المتوسط**.

(٣) **البحر الأحمر**.

(٤) دولة تعتمد على مياه الأنهار في الزراعة **العراق**.

* أو دولة بها نهرا دجلة والفرات **العراق**.

(٥) تحتل الدولة رقم (٥) المركز الأول في زراعة **البن**.

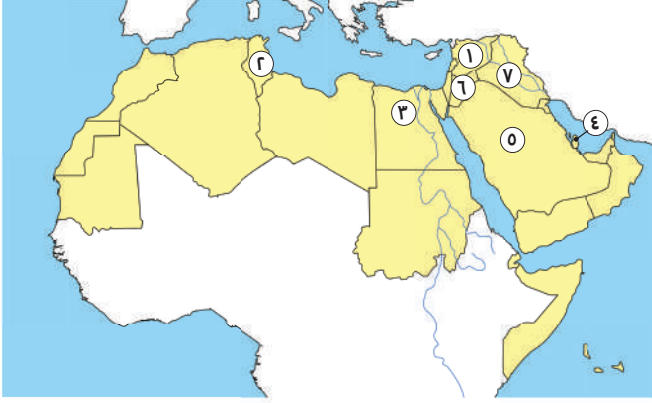
(٦) دولة تتركز بها زراعة الكتان والقطن **السودان**.

(٧) دولة يتم فيها زراعة الواحات اعتمادًا على المياه الجوفية **الإمارات**.

(٨) دولة يزرع بها العنب **فلسطين**.

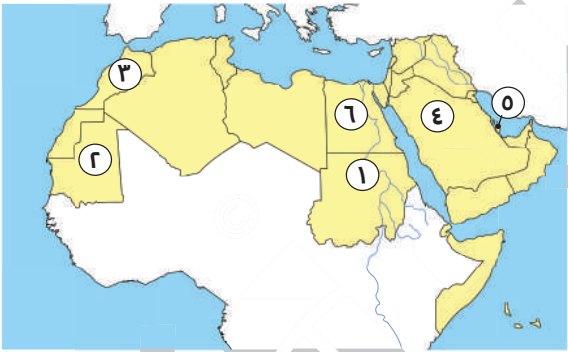
(٩) تعتمد الزراعة في المنطقة رقم (٩) على مياه **الأمطار**.

(و) أمامك خريطة صماء للوطن العربي، أجب عما يلي:



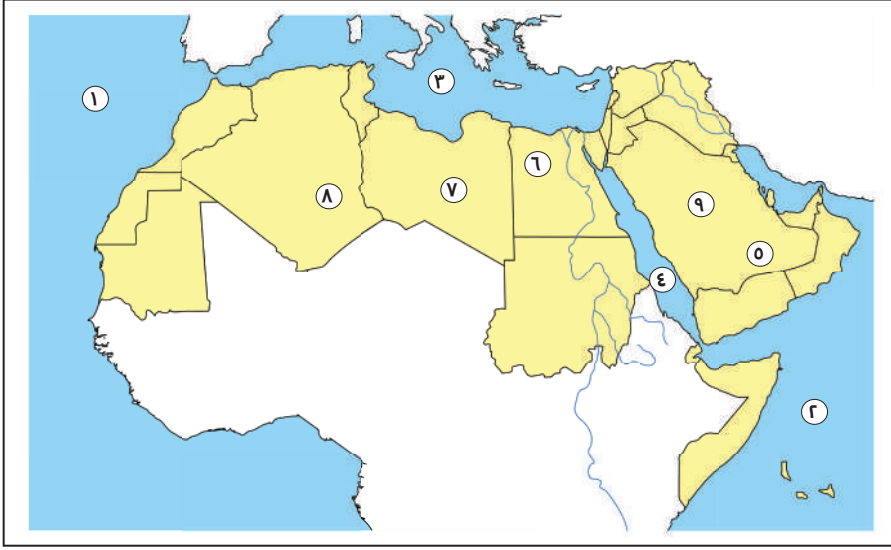
- (١) دولة بها مدينة تدمر **سوريا**.
- (٢) دولة بها سياحة ثقافية **تونس**.
● أو دولة فيها مدينة القيروان **تونس**.
- (٣) دولة بها سياحة ترفيهية **مصر**.
● دولة بها سياحة ثقافية **مصر**.
● أو دولة عربية بها أول عاصمة للسياحة العربية **مصر**.
- (٤) دولة بها عاصمة السياحة العربية عام ٢٠٢٣م **قطر**.
- (٥) دولة تنتشر بها السياحة الدينية **السعودية**.
- (٦) دولة بها عين ماعين **الأردن**.
- (٧) دولة بها مدينة بابل **العراق**.

(ز) أمامك خريطة صماء للوطن العربي، أجب عما يلي:



- (١) أولى الدول العربية في إنتاج معدن الذهب **السودان**.
- (٢) أولى الدول العربية إنتاجاً للحديد **موريتانيا**.
- (٣) أولى الدول العربية إنتاجاً للفوسفات **المغرب**.
- (٤) أولى الدول العربية إنتاجاً للبتروال **السعودية**.
● أولى الدول العربية صناعة للأسمت **السعودية**.
- (٥) أولى الدول العربية إنتاجاً للغاز الطبيعي **قطر**.
- (٦) أولى الدول العربية إنتاجاً للحديد والصلب **مصر**.

(ح) لاحظ خريطة الوطن العربي التي أمامك ثم اكتب مدلول الأرقام عليها:



(١) المحيط الأطلسي.

(٢) المحيط الهندي.

(٣) البحر المتوسط.

(٤) البحر الأحمر.

(٥) وادي جاف الدواسر.

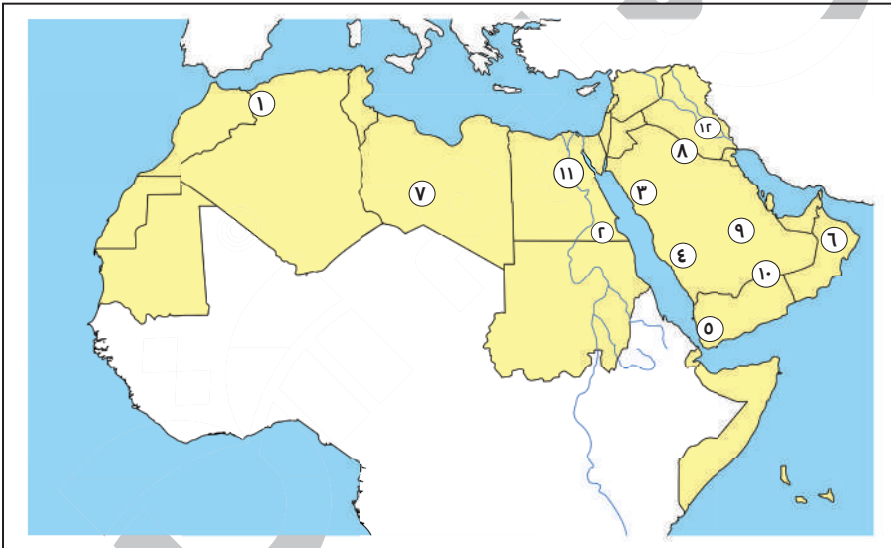
(٦) واحة سيوة.

(٧) واحة الكفرة.

(٨) واحة عين صالح.

(٩) صواب أم خطأ يشير رقم (٩) إلى هضبة حضر موت (خطأ).

(ط) لاحظ خريطة الوطن العربي التي أمامك ثم أجب:



(١) جبال أطلس.

(٢) جبال البحر الأحمر.

(٣) جبال الحجاز.

(٤) جبال عسير.

(٥) مرتفعات اليمن.

(٦) جبال عمان.

(٧) هضبة إفريقيا الشمالية.

(٨) هضبة بادية الشام.

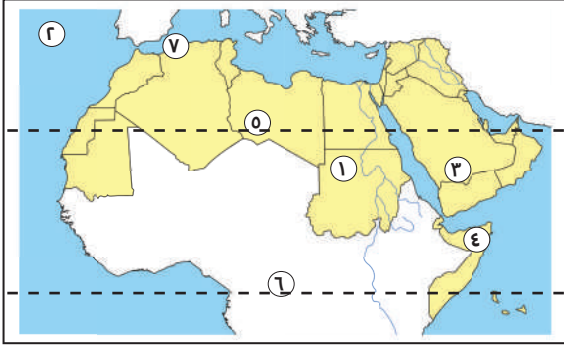
(٩) هضبة نجد.

(١٠) هضبة حضر موت.

(١١) نهر النيل أو سهول فيضية.

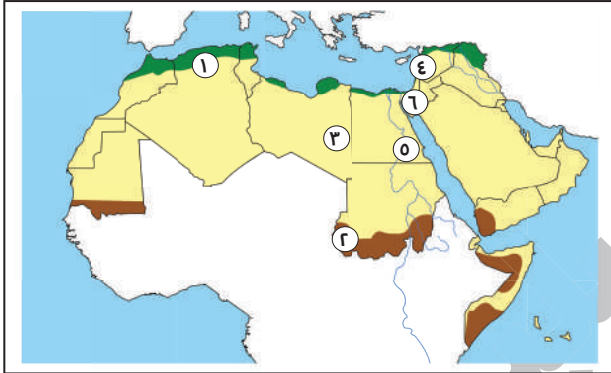
(١٢) نهرا دجلة والفرات.

(ك) لاحظ خريطة الوطن العربي التي أمامك ثم اكتب مدلول الأرقام عليها:



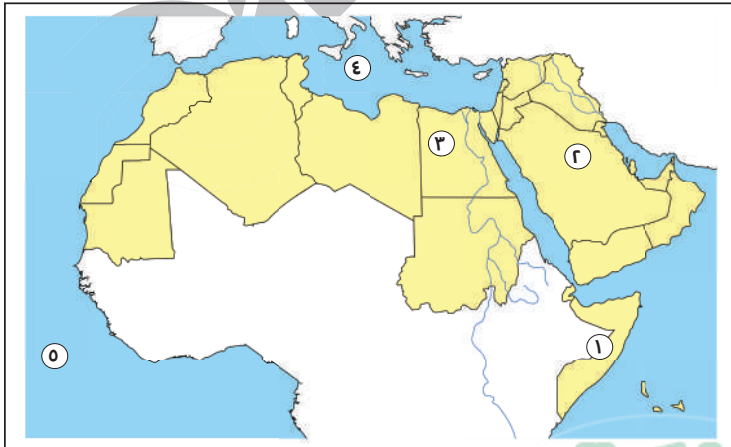
- (١) صواب أم خطأ يشير رقم (١) لمدينة ساحلية (خطاً).
 (٢) المحيط الأطلسي.
 (٣) تسقط على المرتفعات رقم (٣) أمطار موسمية.
 (٤) دولة تسقط عليها أمطار موسمية هي الصومال.
 (٥) مدار السرطان.
 (٦) دائرة الاستواء.
 (٧) صواب أم خطأ يشير رقم (٧) لإحدى المدن الداخلية (خطاً).

(ل) لاحظ خريطة الوطن العربي التي أمامك ثم اكتب مدلول الأرقام عليها:



- (١) إقليم البحر المتوسط.
 (٢) إقليم المداري.
 (٣) إقليم الصحراوي الحار.
 (٤) دولة تقع عليها محمية أرز الشوف لبنان.
 (٥) إحدى المحميات الطبيعية المصرية جبل علبة.
 (٦) دولة تقع عليها محمية ضانا الأردن.

(ن) لاحظ خريطة الوطن العربي التي أمامك ثم اكتب مدلول الأرقام عليها:



- (١) الدولة التي تعرضت لأكبر موجة جفاف تمثل رقم ١
 (٢) دولة أعلنت بناء مدينة نيوم الخضراء تمثل رقم ٢
 (٣) أطلقت مبادرة لزراعة ١٠٠ مليون شجرة
 مثمرة في الدولة رقم ٣
 (٤) البحر المتوسط.
 (٥) المحيط الأطلسي.

أكمل العبارات الآتية بما يناسبها:

- (١) تقع مصر بين مجموعة من الدول العربية يطلق عليها **الوطن العربي**.
- (٢) تجمع بين الدول العربية مجموعة من العوامل المشتركة هي **الدين الإسلامي ، تاريخ مشترك ، اللغة العربية ، الثقافة المشتركة**.
- (٣) يقع الوطن العربي وسط ثلاث قارات هم **آسيا وإفريقيا وأوروبا**.
- (٤) تمتد أراضي الوطن العربي عبر قارتي **آسيا وإفريقيا**.
- (٥) كل أراضي الوطن العربي في نفس النطاق عدا دولة **جزر القمر**.
- (٦) تقع دولة **جزر القمر** في **المحيط الهندي**.
- (٧) يحد الوطن العربي من جهة الشمال **البحر المتوسط و جبال طوروس**.
- (٨) يحد الوطن العربي من جهة الجنوب **المحيط الهندي و بحر العرب والصحراء الكبرى**.
- (٩) يحد الوطن العربي من جهة الشرق **خليج عمان ، الخليج العربي ، جبال زاغروس ، جبال كردستان**.
- (١٠) يحد الوطن العربي من جهة الغرب **المحيط الأطلنطي**.
- (١١) تبلغ مساحة الوطن العربي **١٣ مليون كم^٢**.
- (١٢) يضم الوطن العربي **٢٢** دولة.
- (١٣) عدد دول الجناح الآسيوي **١٢ دولة** والإفريقي **١٠ دول**.
- (١٤) يمثل الجناح الآسيوي **٢٨ %** من مساحة الوطن العربي.
- (١٥) يشغل الجناح الأفريقي **٧٢ %** من مساحة الوطن العربي.
- (١٦) أكبر دولة عربية من حيث المساحة **الجزائر** وأصغرها **البحرين**.
- (١٧) يتحكم الوطن العربي في مضائق هامة هي **مضيق هرمز ومضيق باب المندب ومضيق جبل طارق**.
- (١٨) يتحكم الوطن العربي في ممرات مائية هامة مثل **قناة السويس**.
- (١٩) يشرف الوطن العربي على مسطحات مائية هي **البحر الأحمر والبحر المتوسط والخليج العربي**.

- (٢٠) كان الوطن العربي مهذاً لكثير من الديانات السماوية مثل الإسلامية والمسيحية واليهودية.
- (٢١) يضم الوطن العربي أماكن دينية مقدسة مثل الكعبة الشريفة وكنيسة القيامة والأزهر الشريف.
- (٢٢) من الحضارات التي قامت على أرض الوطن العربي الحضارة المصرية القديمة وحضارة بلاد العراق القديم.
- (٢٣) يطل الوطن العربي على المحيط الأطلنطي والمحيط الهندي.
- (٢٤) كان نظام الحكم السائد في شبه الجزيرة العربية هو النظام القبلي.
- (٢٥) أشهر القبائل العربية قبيلة قريش.
- (٢٦) عرف عن العرب البلاغة وحبهم للشعر.
- (٢٧) كانت الحرفة السائدة في شبه الجزيرة العربية هي رعي الأغنام.
- (٢٨) من أشهر الرحلات التجارية عند العرب رحلة الصيف إلى الشام والشتاء إلى اليمن.
- (٢٩) أشهر الصناعات الخفيفة عند العرب السيوف والرماح والأواني الفخارية.
- (٣٠) اشتهر العرب ببعض الصفات الحسنة مثل الشجاعة والكرم والوفاء بالعهد.
- (٣١) عرف عن العرب بعض العادات السيئة مثل وأد البنات، الأخذ بالثأر.
- (٣٢) اختفت العادات السيئة مع ظهور الإسلام وانتشرت الأخلاق الحميدة.
- (٣٣) سمي العام الذي ولد فيه الرسول بعام الفيل.
- (٣٤) ولد الرسول (ﷺ) في مدينة مكة.
- (٣٥) اشتهر الرسول (ﷺ) بالصدق والأمانة لذلك لقب بـ الصادق الأمين.
- (٣٦) عمل الرسول (ﷺ) بحرفة رعي الأغنام وهو في بيت عمه.
- (٣٧) عمل الرسول بحرفتي رعي الأغنام والتجارة.
- (٣٨) نزل سيدنا جبريل (عليه السلام) بالوحي على سيدنا محمد (ﷺ) في سن الأربعين.
- (٣٩) كان الرسول (ﷺ) يخلو بنفسه في غار حراء ليفكر ويتأمل في الكون.
- (٤٠) نزل الوحي على الرسول (ﷺ) في إحدى ليالي شهر رمضان.
- (٤١) كانت أول كلمة يتلقاها الرسول (ﷺ) من الوحي هي كلمة (اقرأ).

- (٤٢) المرحلة الأولى والثانية من الدعوة الإسلامية كانت في مكة المكرمة.
- (٤٣) مرحلة بناء الدولة الإسلامية وعالمية الدعوة كانت بعد هجرة الرسول (ﷺ) إلى المدينة.
- (٤٤) استمرت الدعوة الإسلامية لمدة ثلاث سنوات.
- (٤٥) أول من أسلم من النساء السيدة خديجة ومن الرجال أبو بكر الصديق (رضي الله عنه) ومن الصبيان علي بن أبي طالب (رضي الله عنه).
- (٤٦) رفضت قبيلة قريش دعوة الرسول (ﷺ).
- (٤٧) أول هجرة للمسلمين كانت إلى الحبشة دون الرسول (ﷺ).
- (٤٨) هجرة الرسول (ﷺ) والمسلمين معًا كانت إلى المدينة.
- (٤٩) قامت حضارة بلاد العراق في الجناح العربي الآسيوي.
- (٥٠) اجتمع زعماء قريش في دار الندوة وتأمروا على قتل الرسول (ﷺ).
- (٥١) هاجر الرسول (ﷺ) في سرية تامة مع صديقه أبي بكر الصديق (رضي الله عنه).
- (٥٢) أطلق الرسول (ﷺ) على يثرب اسم المدينة بعد الهجرة إليها.
- (٥٣) أول عمل قام به الرسول (ﷺ) بعد الهجرة إلى المدينة هو بناء المسجد.
- (٥٤) قام الرسول (ﷺ) بـ المؤاخاة بين المهاجرين والأنصار.
- (٥٥) وضع الرسول (ﷺ) صحيفة المدينة لتنظيم العلاقة بين المسلمين والطوائف الأخرى بالمدينة.
- (٥٦) قام الرسول (ﷺ) بـ الغزوات لحماية الدين الإسلامي والدفاع عن النفس ضد المشركين.
- (٥٧) تحول نصر المسلمين إلى هزيمة في غزوة أحد.
- (٥٨) أشار سلمان الفارسي (رضي الله عنه) على النبي بحفر خندق حول المدينة.
- (٥٩) انتصر المسلمين على قريش وحلفائها دون قتال في غزوة الخندق.
- (٦٠) بدأت عالمية الدعوة الإسلامية بعد صلح الحديبية.
- (٦١) منعت قريش المسلمين من دخول مكة لـ أداء العمرة.
- (٦٢) تم عقد صلح الحديبية والاتفاق فيه على هدنة بين قريش والمسلمين.
- (٦٣) اعتدت قريش على قبيلة خزاعة حليفة الرسول (ﷺ).
- (٦٤) دعا الرسول (ﷺ) أهل يثرب إلى الإسلام في موسم الحج.

- (٦٥) هاجر الرسول (ﷺ) إلى يثرب وأخي بين المهاجرين والأنصار.
- (٦٦) عندما اشتد إيداء قريش للرسول (ﷺ) أمر أصحابه بالهجرة إلى يثرب.
- (٦٧) تأثر المسلمون بالفكر العسكري الفارسي في غزوة الخندق.
- (٦٨) وقع الاختيار على **أبي بكر الصديق (رضي الله عنه)** كخليفة للمسلمين بعد وفاة الرسول (ﷺ).
- (٦٩) أرسل أبو بكر (رضي الله عنه) جيش **أسامة بن زيد (رضي الله عنهما)** الذي جهزه الرسول (ﷺ) قبل وفاته إلى الشام.
- (٧٠) حارب أبو بكر الصديق (رضي الله عنه) **المرتدين** حتى عادوا إلى الإسلام مرة أخرى.
- (٧١) أمر الخليفة أبو بكر (رضي الله عنه) **زيد بن ثابت (رضي الله عنه)** بجمع القرآن الكريم.
- (٧٢) قبل وفاة أبي بكر الصديق (رضي الله عنه) أوصى **عمر بن الخطاب (رضي الله عنه)** بتوليته الخلافة من بعده.
- (٧٣) وضع عمر بن الخطاب (رضي الله عنه) **التقويم الهجري** الذي يبدأ بهجرة الرسول (ﷺ) إلى المدينة.
- (٧٤) فُتحت في عهد عمر بن الخطاب (رضي الله عنه) **بلاد العراق وبلاد فارس والشام ومصر**.
- (٧٥) أنشأ الخليفة عمر بن الخطاب (رضي الله عنه) عدة دواوين مثل **ديوان الجند وديوان بيت المال**.
- (٧٦) تم كتابة القرآن الكريم في مصحف واحد في عهد الخليفة **عثمان بن عفان (رضي الله عنه)**.
- (٧٧) أمر **عثمان بن عفان (رضي الله عنه)** بإنشاء أول أسطول بحري في الإسلام.
- (٧٨) قام **علي بن أبي طالب (رضي الله عنه)** بنقل مقر الخلافة من الكوفة إلى العراق.
- (٧٩) قام الخليفة علي بن أبي طالب (رضي الله عنه) بتنظيم **الشرطة** لحراسة بيت المال.
- (٨٠) انتهى عصر الخلفاء الراشدين بنهاية حكم **علي بن أبي طالب (رضي الله عنه)**.
- (٨١) خصص يوماً للنظر في مظالم الناس الخليفة **علي بن أبي طالب (رضي الله عنه)**.
- (٨٢) ظهر المرتدون ورفضوا دفع الزكاة في عهد الخليفة **أبي بكر الصديق (رضي الله عنه)**.
- (٨٣) استشهد الكثير من حفظة القرآن الكريم في حروب **المرتدين**.

- (٨٤) تكونت السهول الفيضية بسبب **رواسب الأنهار**.
- (٨٥) الأجزاء الشمالية من الوطن العربي يسودها المناخ **المعتدل**.
- (٨٦) يسود المناخ المعتدل الأجزاء **الشمالية** من الوطن العربي.
- (٨٧) تمر دائرة **الاستواء** جنوب الوطن العربي.
- (٨٨) المناطق البعيدة عن المسطحات المائية هي المناطق **الداخلية (القارية)**.
- (٨٩) يسود معظم أجزاء الوطن العربي صيفًا مناخ **حار**.
- (٩٠) تسقط الأمطار على مرتفعات عسير في فصل **الصيف**.
- (٩١) الرياح الباردة تهب على الوطن العربي من أوروبا و**آسيا**.
- (٩٢) يتسم فصل الصيف في الوطن العربي بالجفاف فيما عدا مرتفعات **اليمن، عسير** حيث تسقط أمطار موسمية.
- (٩٣) تنتشر في إقليم البحر المتوسط أشجار **الأرز** و**الزيتون**.
- (٩٤) تتعرض الحياة البرية في مصر لعدة مخاطر بسبب **الرعي الجائر** و**الصيد الجائر**.
- (٩٥) يحدث الجفاف بسبب نقص كمية **الأمطار** في بعض السنوات.
- (٩٦) يسود الوطن العربي **ثلاثة** أقاليم مناخية كبرى.
- (٩٧) يسود معظم مساحة الوطن العربي إقليم المناخ **الصحراوي الحار**.
- (٩٨) يقع الإقليم المداري في **جنوب** الوطن العربي.
- (٩٩) تعيش الزرافات والأسود في حشائش **السافانا**.
- (١٠٠) تسقط أمطار الإقليم المناخي المداري في فصل **الصيف**.
- (١٠١) تربي الماعز والأغنام على حشائش الإستبس في إقليم مناخ **البحر المتوسط**.
- (١٠٢) تنتشر في إقليم **البحر المتوسط** نباتات مثل أشجار الأرز والزيتون والصنوبر.
- (١٠٣) يسود المناخ المعتدل في الوطن العربي بالأجزاء **الشمالية**.
- (١٠٤) تنمو حشائش السافانا في إقليم مناخ **المداري**.
- (١٠٥) الإقليم الصحراوي يتميز بمناخ معتدل نهارًا في فصل **الشتاء**.
- (١٠٦) تنتشر في إقليم البحر المتوسط أشجار **الأرز** و**الزيتون** و**الصنوبر**.

- (١٠٧) يتميز إقليم البحر المتوسط بسقوط الأمطار في فصل الشتاء.
- (١٠٨) ينتمي شمال العراق إلى إقليم مناخ البحر المتوسط.
- (١٠٩) تقع بلاد المغرب ومصر وليبيا ضمن إقليم البحر المتوسط.
- (١١٠) تقع محمية أرز الشوف بدولة لبنان.
- (١١١) تقع محمية ضانا في الوطن العربي بدولة الأردن.
- (١١٢) من أشهر المحميات الطبيعية في دولة لبنان محمية أرز الشوف.
- (١١٣) تناقص قدرة الأراضي الزراعية على الإنتاج، تشير هذه العبارة إلى مصطلح التصحر.
- (١١٤) تناقص مخزون المياه الجوفية أدى إلى حدوث التصحر.
- (١١٥) تناقص كمية الأمطار بما لا يسمح بالزراعة ونمو الحشائش يسمى الجفاف.
- (١١٦) أكثر الدول العربية التي تعرضت لخطر الجفاف دولة الصومال.
- (١١٧) الإفراط في استخدام الأسمدة الكيماوية من أسباب مشكلة التصحر.
- (١١٨) يتعرض الوطن العربي إلى مشكلة التصحر بسبب التوسع العمراني.
- (١١٩) يمكن حدوث التصحر بسبب استخدام طرق الري التقليدية.
- (١٢٠) يمكن حل المشكلات البيئية عن طريق زيادة المساحات الخضراء.
- (١٢١) يقلل إنشاء المدن الذكية من انبعاث الغازات الدفيئة.
- (١٢٢) انطلقت مبادرة زراعة ٤٥٠ مليون شجرة في دولة السعودية.
- (١٢٣) أطلقت المملكة السعودية مبادرة لزيادة المساحات الخضراء عن طريق مدينة نيوم الخضراء.
- (١٢٤) أتقن عمر بن الخطاب العديد من الرياضات مثل المصارعة وركوب الخيل.
- (١٢٥) من الذين أسلموا على يد أبي بكر الصديق عثمان بن عفان والزبير بن العوام.
- (١٢٦) اشتغل عمر بن الخطاب بالتجارة.
- (١٢٧) أطلق الرسول (ﷺ) على أبي بكر لقب الصديق.
- (١٢٨) ولد أبو بكر الصديق رضي الله عنه في مدينة مكة.
- (١٢٩) استشهد عمر بن الخطاب على يد لؤلؤة المجوسي.

- (١٣٠) أعلى نقطة في وطننا العربي هي جبل توبقال دولة المغرب.
- (١٣١) أدنى نقطة في الوطن العربي هي **البحر الميت**.
- (١٣٢) أدنى نقطة في الوطن العربي والعالم البحر الميت تقع في الجناح العربي **الآسيوي**.
- (١٣٣) يوجد في وطننا العربي نوعان من الجبال، هما **جبال التوائية** و**جبال انكسارية**.
- (١٣٤) تقع جبال أطلس بالوطن العربي في الجناح **الإفريقي**.
- (١٣٥) من أمثلة الجبال الالتوائية بالوطن العربي **جبال أطلس وكرديستان و زاجروس**.
- (١٣٦) تعد جبال الحجاز وعسير في الوطن العربي من الجبال **الانكسارية**.
- (١٣٧) أكثر مظاهر السطح انتشارًا بالوطن العربي **الهضاب**.
- (١٣٨) يحد هضبة إفريقيا الشمالية من جهة الشمال البحر **المتوسط**.
- (١٣٩) من هضاب الجناح الآسيوي هضبة **نجد**.
- (١٤٠) تقع هضبة نجد في الجناح العربي **الآسيوي**.
- (١٤١) من هضاب الجناح الآسيوي العربي هضبة **نجد** وهضبة **حضر موت** وهضبة **بادية الشام**.
- (١٤٢) تقوم الزراعة بواحة عين صالح اعتمادًا على **المياه الجوفية**.
- (١٤٣) يقع وادي الدواسر في دولة **السعودية**.
- (١٤٤) من أمثلة الأودية الجافة بالسعودية وادي **الدواسر**.
- (١٤٥) تعد سهول نهري دجلة والفرات من السهول **الفيضية**.
- (١٤٦) الصادرات بين دول الوطن العربي وباقي دول العالم تسمى **تجارة خارجية**.
- (١٤٧) يستورد الوطن العربي المنتجات الصناعية و**بعض السلع الغذائية**.
- (١٤٨) تسهم التجارة في الوطن العربي في توفير **النقد الأجنبي**.
- (١٤٩) من المراكز التجارية العربية قديمًا **البصرة وجدة، صنعاء والإسكندرية**.
- (١٥٠) من أسباب ضعف التجارة البينية العربية التشابه بين **السلع والخدمات**.
- (١٥١) التبادل التجاري عن طريق الإنترنت يعد **تجارة إلكترونية**.
- (١٥٢) الصادرات والواردات من السلع والخدمات بين الدول العربية تسمى **التجارة البينية العربية**.

- (١٥٣) ترتبط تربية الجاموس في مصر بالبيئة **الفيضية**.
- (١٥٤) تناقص أعداد الحيوانات بالوطن العربي بسبب **التغيرات المناخية**.
- (١٥٥) تعد دولة السودان أولى الدول العربية في تربية كل من الأبقار والأغنام و**الماعز** و**الخيول**.
- (١٥٦) توفر الثروة الحيوانية للصناعة المواد الخام مثل **الجلود** و**الألبان** و**اللحوم**.
- (١٥٧) أكبر الدول العربية في تربية الأغنام هي **السودان**.
- (١٥٨) تعد أولى الدول العربية في تربية الجاموس دولة **مصر**.
- (١٥٩) الصومال هي أكبر الدول العربية في تربية **الإبل**.
- (١٦٠) تسهم الدواجن في سد العجز من **اللحوم الحمراء**.
- (١٦١) ارتفاع درجة حرارة المسطحات المائية يؤثر بالسلب على الثروة **السمكية**.
- (١٦٢) أولى الدول العربية في تربية الدواجن هي **المغرب**.
- (١٦٣) تعد المغرب أولى الدول العربية في إنتاج الأسماك من **المصايد البحرية**.
- (١٦٤) تهتم الدول العربية بتربية الدواجن مثل **الدجاج** و**البط** و**الإوز** و**الحمام**.
- (١٦٥) تساهم الثروة السمكية في وطننا العربي في سد العجز من **البروتين الحيواني**.
- (١٦٦) دولة تحتل المرتبة الثانية بالوطن العربي إنتاجًا للذهب **مصر**.
- (١٦٧) أولى الدول العربية إنتاجًا للبترول هي **السعودية**.
- (١٦٨) أولى الدول العربية في صناعة الصلب **مصر**.
- (١٦٩) أولى الدول العربية في إنتاج الذهب **السودان**.
- (١٧٠) تعد موريتانيا أولى الدول العربية إنتاجًا لمعدن **الحديد**.
- (١٧١) يستخدم خام الفوسفات في صناعة الأسمدة و**المبيدات الحشرية**.
- (١٧٢) تنقسم الصناعة إلى صناعة **استخراجية** و**تحويلية**.
- (١٧٣) معدن يدخل في علاج بعض الأمراض وصناعة **الجلي الذهب**.
- (١٧٤) استخراج المعادن ومصادر الطاقة من الصناعات **الاستخراجية**.
- (١٧٥) صناعة يتم من خلالها تحويل المواد الخام إلى منتجات؛ يقصد بذلك الصناعة **التحويلية**.

- (١٧٦) المواد الخام من المقومات اللازمة لقيام **الصناعة**.
- (١٧٧) ينتج الوطن العربي ربع إنتاج العالم من **البترو**ل.
- (١٧٨) تشتهر مدينة القيروان بتونس بالسياحة **الثقافية**.
- (١٧٩) زيارة آثار مدينة بابل تُعد سياحة **ثقافية**.
- (١٨٠) حضور السياح لكأس العالم لكرة القدم يُعد سياحة **رياضية**.
- (١٨١) زيارة شواطئ لبنان ومصر والمغرب تُعد سياحة **ترفيهية**.
- (١٨٢) زيارة عيون موسى تُعد سياحة **علاجية**.
- (١٨٣) زيارة عين ماعين بالأردن تُعد سياحة **ثقافية**.
- (١٨٤) قيامك برحلة إلى المناطق الصحراوية تُعتبر سياحة **بيئية**.
- (١٨٥) دولة عربية يوجد على أرضها المسجد الأقصى **فلسطين**.
- (١٨٦) تقع مدينة بابل في دولة **العراق**.
- (١٨٧) من مواقع السياحة في الوطن العربي **تدمر** في سوريا.
- (١٨٨) من الأماكن المقدسة في الوطن العربي **دير سانت كاترين** ومسار العائلة **المقدسة** في مصر.
- (١٨٩) من القطاعات ذات الصلة بالسياحة في الوطن العربي **شركات الطيران، الفنادق، المطاعم، المتاجر**.
- (١٩٠) من الأماكن المقدسة في الوطن العربي **الكعبة المشرفة** بالسعودية.
- (١٩١) تنتشر أضخم المراكز التجارية في **الإمارات** و**الكويت** و**البحرين** بالوطن العربي.
- (١٩٢) ساعدت التجارة في عصر الدولة الإسلامية على نشر **الإسلام**.
- (١٩٣) شراء مصر لبعض السلع من دولة السعودية يُعد تجارة **بيئية**.
- (١٩٤) تستحوذ كل من السعودية والإمارات وعمان على نحو ٩٠٪ من صادرات دولة **البحرين**.
- (١٩٥) يستورد الوطن العربي بعض السلع الغذائية منها القمح و**الزيوت**.
- (١٩٦) أشهر المراكز التجارية الإسلامية قديمًا البصرة والإسكندرية و**جدة** و**صنعاء**.
- (١٩٧) ظهرت التجارة الإلكترونية نتيجة **التطور التكنولوجي**.

(١٩٨) لتنمية التجارة البينية العربية تقوم الدول بإنشاء العديد من التجمعات العربية وإقامة المعارض الدائمة أو السنوية.

(١٩٩) تأسست المنظمة العربية للتنمية الزراعية عام ١٩٧٢م.

(٢٠٠) يوجد مقر المنظمة العربية للسياحة في مدينة جدة بالسعودية.

(٢٠١) من أهداف المنظمة العربية للتنمية الزراعية دعم إقامة المشاريع والصناعات

الزراعية والسمكية.

(٢٠٢) يوجد مقر المنظمة العربية للتنمية الزراعية في مدينة الخرطوم بالسودان.

ضع علامة (✓) أمام العبارة الصحيحة وعلامة (X) أمام العبارة غير الصحيحة:

- (١) تمتد أراضي الوطن العربي في قارتي (آسيا وإفريقيا). (✓)
- (٢) تقع دولة جزر القمر في المحيط الهندي. (✓)
- (٣) تنتشر الخليجان في الجانب الشرقي من الوطن العربي. (✓)
- (٤) يطل الوطن العربي على المحيط الهندي فقط. (X)
- (٥) يفصل بين الجناح الإفريقي والجناح الآسيوي البحر الأحمر. (✓)
- (٦) تقع جزر مدغشقر ضمن نطاق الدول العربية. (X)
- (٧) يمر بالوطن العربي مدار السرطان ودائرة الاستواء. (✓)
- (٨) يمر بالوطن العربي خط الطول الرئيسي. (✓)
- (٩) تبلغ مساحة الوطن العربي ١٣ مليون كم^٢. (✓)
- (١٠) يتساوى الجناح العربي الإفريقي والآسيوي في المساحة وعدد الدول. (X)
- (١١) أكبر الدول العربية من حيث المساحة هي الجزائر وتقع في الجناح الإفريقي. (✓)
- (١٢) أصغر الدول العربية من حيث المساحة هي البحرين وتقع في الجناح الآسيوي. (✓)
- (١٣) يحد الوطن العربي من جهة الشمال البحر المتوسط وجبال زاغروس. (X)
- (١٤) قامت على أرض الوطن العربي عدة حضارات منها حضارة بلاد العراق القديم. (✓)
- (١٥) يتحكم الوطن العربي في أهم الطرق التجارية العالمية. (✓)
- (١٦) تشرف دولة السودان على مضيق باب المندب. (X)
- (١٧) جيبوتي من دول الجناح الإفريقي. (✓)
- (١٨) الجزائر وموريتانيا من دول الجناح الآسيوي. (X)
- (١٩) توجد كنيسة القيامة في دولة الأردن. (X)
- (٢٠) كان النظام السائد في شبه الجزيرة العربية هو النظام القبلي. (✓)
- (٢١) أشهر القبائل العربية هي قبيلة قريش في مكة. (✓)
- (٢٢) كانت الحرفة السائدة في شبه الجزيرة العربية هي رعي الأغنام. (✓)
- (٢٣) نجح أبرهة الحبشي في هدم الكعبة. (X)

- (٢٤) (✓) كان الرسول (ﷺ) يخلو بنفسه في غار حراء للتأمل في قدرة الله.
- (٢٥) (✓) تزوج الرسول (ﷺ) السيدة خديجة.
- (٢٦) (X) أول عمل قام به الرسول (ﷺ) كان التجارة وهو في بيت عمه.
- (٢٧) (✓) عمل الرسول (ﷺ) برعي الأغنام حتى لا يكون عبئاً على عمه.
- (٢٨) (X) نزل الوحي على سيدنا محمد (ﷺ) في غار حراء في إحدى ليالي شهر شعبان.
- (٢٩) (✓) تغيرت حياة شبه الجزيرة العربية للأفضل بعد دعوة الرسول (ﷺ) إلى الإسلام.
- (٣٠) (✓) حاول أبرهة الحبشي هدم الكعبة في نفس عام ولادة الرسول (ﷺ).
- (٣١) (✓) كان الرسول (ﷺ) يتأمل في الكون وقدرة الله وهو في غار حراء.
- (٣٢) (X) كانت مرحلة بناء الدولة وصد أذى المشركين في مكة.
- (٣٣) (X) بدأت الدعوة إلى الإسلام سرّاً في المدينة.
- (٣٤) (✓) أول من أسلم من الرجال مع الرسول (ﷺ) صديقه أبو بكر الصديق (رضي الله عنه).
- (٣٥) (✓) حاربت قريش دعوة الرسول (ﷺ) منذ لحظتها الأولى.
- (٣٦) (X) عرضت قريش المال والسلطة على الرسول (ﷺ) لكي يستمر في الدعوة إلى الإسلام.
- (٣٧) (✓) حاصرت قريش المسلمين وقاطعتهم.
- (٣٨) (✓) واجه الرسول (ﷺ) رفض قريش للدين الإسلامي بالحكمة والأساليب السلمية.
- (٣٩) (✓) حث الرسول (ﷺ) المسلمين على الصبر وتحمل أذى المشركين لهم.
- (٤٠) (X) أول هجرة للمسلمين كانت إلى المدينة.
- (٤١) (✓) هاجر المسلمون إلى الحبشة دون الرسول (ﷺ) بسبب أذى المشركين في مكة.
- (٤٢) (✓) لجأ الرسول (ﷺ) إلى نشر دعوته بين القبائل العربية في موسم الحج.
- (٤٣) (✓) استجاب وفد من أهل يثرب إلى الرسول (ﷺ) ودخلوا في الإسلام.
- (٤٤) (✓) فكر الرسول (ﷺ) في الهجرة إلى يثرب بسبب تزايد أذى المشركين.
- (٤٥) (X) كانت مكة تقوم برحلة واحدة إلى اليمن في الشتاء.
- (٤٦) (✓) نزل جبريل (عليه السلام) برسالة الإسلام على الرسول (ﷺ) في سن الأربعين.
- (٤٧) (✓) مرت الدعوة الإسلامية بأربع مراحل وكانت أول مرحلتين في مكة.
- (٤٨) (X) أول من أسلم من الرجال هو عمر بن الخطاب (رضي الله عنه).

- (X) (٤٩) عمل الرسول (ﷺ) بحرفة الزراعة وتعلم منها الرحمة والرأفة.
- (X) (٥٠) استمرت المرحلة الأولى من الدعوة السرية خمس سنوات.
- (✓) (٥١) اجتمع زعماء قريش في دار الندوة وتأمروا على قتل الرسول (ﷺ).
- (✓) (٥٢) أدركت قريش خطورة تجمع المسلمين فحاولت منع الرسول (ﷺ) من الهجرة.
- (✓) (٥٣) هاجر الرسول (ﷺ) ليلاً وفي سرية تامة مع صديقه أبي بكر الصديق (رضي الله عنه).
- (✓) (٥٤) اختار الرسول (ﷺ) طريقاً غير معروف حتى وصل إلى يثرب.
- (✓) (٥٥) أطلق الرسول (ﷺ) على يثرب اسم (المدينة).
- (X) (٥٦) كان المسجد في المدينة مركزاً للعبادة فقط.
- (✓) (٥٧) عمل الرسول (ﷺ) على المؤاخاة بين المهاجرين والأنصار.
- (✓) (٥٨) وضع الرسول (ﷺ) صحيفة المدينة لتنظيم علاقة المسلمين بالطوائف الأخرى.
- (✓) (٥٩) انتصر المسلمون في جميع الغزوات ما عدا غزوة (أحد).
- (✓) (٦٠) خالف الرماة أوامر النبي (ﷺ) وتركوا أماكنهم على جبل أحد.
- (X) (٦١) أشار أبو بكر الصديق (رضي الله عنه) على النبي (ﷺ) بحفر خندق حول المدينة.
- (X) (٦٢) بدأت عالمية الدعوة الإسلامية بعد فتح الرسول (ﷺ) لمكة.
- (✓) (٦٣) صلح الحديبية كان هدنة بين المسلمين وقريش.
- (✓) (٦٤) فتح الرسول (ﷺ) مكة بسبب اعتداء قريش على قبيلة خزاعة.
- (✓) (٦٥) قدم الرسول (ﷺ) مثلاً عظيماً في التسامح حيث عفا عن أهل مكة.
- (✓) (٦٦) تزايد عدد المسلمين بعد فتح الرسول (ﷺ) لمكة.
- (✓) (٦٧) خرج الرسول (ﷺ) لأدائه فريضة الحج في العام العاشر من الهجرة.
- (✓) (٦٨) توفي الرسول (ﷺ) في العام التالي لأداء فريضة الحج.
- (✓) (٦٩) كان أول خليفة للمسلمين بعد وفاة الرسول (ﷺ) أبو بكر الصديق (رضي الله عنه).
- (X) (٧٠) جعل الرسول (ﷺ) عمر بن الخطاب (رضي الله عنه) إماماً للمسلمين في أثناء مرضه.
- (✓) (٧١) شارك أبو بكر الصديق (رضي الله عنه) الرسول (ﷺ) في جميع الغزوات.
- (✓) (٧٢) قام الرسول (ﷺ) بالغزوات لحماية الدين الإسلامي والدفاع عن النفس ضد المشركين.

- (✓) (٧٣) أرسل أبو بكر الصديق (رضي الله عنه) جيش أسامة بن زيد (رضي الله عنهما) الذي جهزه الرسول.
- (X) (٧٤) جهز الرسول (ﷺ) جيش أسامة بن زيد (رضي الله عنهما) قبل وفاته لمحاربة الفرس.
- (✓) (٧٥) ادعى مسيلمة الكذاب النبوة بعد وفاة الرسول (ﷺ).
- (X) (٧٦) أمر الخليفة أبو بكر الصديق (رضي الله عنه) أسامة بن زيد (رضي الله عنهما) بجمع القرآن الكريم.
- (X) (٧٧) أوصى أبو بكر الصديق (رضي الله عنه) لعثمان بن عفان (رضي الله عنه) بالخلافة من بعده.
- (✓) (٧٨) وضع عمر بن الخطاب (رضي الله عنه) التقويم الهجري الذي يبدأ بهجرة الرسول (ﷺ) من مكة إلى المدينة.
- (✓) (٧٩) فتح عمر بن الخطاب (رضي الله عنه) كلاً من مصر والشام والعراق وبلاد فارس.
- (✓) (٨٠) أنشأ عمر بن الخطاب (رضي الله عنه) عددًا من الدواوين مثل ديوان بيت الجند وبيت المال.
- (✓) (٨١) أمر عثمان بن عفان (رضي الله عنه) بكتابة القرآن في مصحف واحد.
- (X) (٨٢) أول أسطول بحري في الإسلام أنشئ في عهد عمر بن الخطاب (رضي الله عنه).
- (X) (٨٣) نقل أبو بكر الصديق (رضي الله عنه) مقر الخلافة إلى الكوفة في العراق.
- (✓) (٨٤) قام علي بن أبي طالب (رضي الله عنه) بتنظيم الشرطة.
- (✓) (٨٥) عين علي بن أبي طالب (رضي الله عنه) شرطة لحراسة بيت المال.
- (✓) (٨٦) كان علي بن أبي طالب (رضي الله عنه) حريصًا على تطبيق العدل.
- (X) (٨٧) خصص عثمان بن عفان (رضي الله عنه) يومًا للنظر في مظالم الناس.
- (✓) (٨٨) انتهى عصر الخلفاء الراشدين بوفاة علي بن أبي طالب (رضي الله عنه).
- (X) (٨٩) تم اختيار عمر بن الخطاب (رضي الله عنه) خليفة للمسلمين بناءً على رأي فردي.
- (X) (٩٠) كانت فترة خلافة عمر بن الخطاب (رضي الله عنه) أطول فترات الخلافة في عصر الخلفاء الراشدين.

- (✓) (٩١) تُعد مصر أكبر الدول العربية المنتجة لمحصول القمح.
- (✓) (٩٢) يتمتع وطننا العربي بالعديد من المقومات التي ساعدت على قيام الزراعة.
- (✓) (٩٣) يتركز إنتاج الكتان في الوطن العربي بدولتي السودان ومصر.
- (✓) (٩٤) تحتل مصر المركز الأول في إنتاج الحبوب الغذائية.
- (✗) (٩٥) تُعد واحة سيوة في ليبيا موقعًا للتراث الزراعي العالمي.
- (✗) (٩٦) تساعد الزراعة في زيادة البطالة لسكان الوطن العربي.
- (✗) (٩٧) المنظمة المسؤولة عن الأغذية والزراعة هي اليونسكو.
- (✓) (٩٨) تشتهر واحتا (العين - ليوا) في الإمارات بزراعة أنواع مميزة من النخيل.
- (✗) (٩٩) تكثر زراعة النخيل بواحة العين في المملكة العربية السعودية.
- (✓) (١٠٠) تتنوع مصادر المياه العذبة في الوطن العربي.
- (✓) (١٠١) يمتلك الوطن العربي المقومات الطبيعية والبشرية اللازمة للزراعة.
- (✓) (١٠٢) تعمل الدول العربية على استصلاح الأراضي الصحراوية.
- (✓) (١٠٣) يدخل خام الفوسفات في صناعة المبيدات والأسمدة.
- (✓) (١٠٤) تعاني الزراعة في الوطن العربي من مشكلة زحف الرمال.
- (✓) (١٠٥) من المشكلات التي تواجه الزراعة بالوطن العربي ندرة المياه العذبة.
- (✗) (١٠٦) غاز الهيدروجين الأخضر أحد مصادر الطاقة غير المتجددة.
- (✗) (١٠٧) الصناعة التحويلية تعني تحويل المنتجات إلى مواد خام.
- (✓) (١٠٨) تُعد الطاقة الكهربائية من مصادر الطاقة المتجددة.
- (✓) (١٠٩) تكرير البترول من الصناعات التحويلية.
- (✗) (١١٠) يعاني الوطن العربي من بُعد مناطق الإنتاج عن مناطق الاستهلاك.
- (✓) (١١١) استيراد الآلات والمعادن من الخارج يُعد مشكلة الصناعة بالوطن العربي.
- (✓) (١١٢) تحتل السودان المركز الأول عربيًا في إنتاج الذهب.
- (✗) (١١٣) يخلو الوطن العربي من المشكلات في مجالي التعدين والصناعة.

- (✓) (١١٤) تعد الطاقة الشمسية وطاقة الرياح أحد مصادر الطاقة المتجددة.
- (X) (١١٥) تحتل مصر المرتبة الأولى عربياً في إنتاج الحديد.
- (X) (١١٦) يفتقر الوطن العربي للمقومات اللازمة للصناعة.
- (✓) (١١٧) تتميز مصر بكثرة المزارع السمكية بها.
- (X) (١١٨) تتميز المراعي في وطننا العربي بأنها غنية.
- (✓) (١١٩) توفر الثروة الحيوانية الخامات اللازمة للصناعة.
- (X) (١٢٠) تعد مصر أولى الدول العربية في تربية الإبل.
- (✓) (١٢١) تتنوع الثروة الحيوانية في وطننا العربي.
- (✓) (١٢٢) يعاني الوطن العربي من فقر المراعي.
- (✓) (١٢٣) تعد مصر أولى الدول العربية في تربية الجاموس.
- (X) (١٢٤) إنتاج اللحوم الحمراء يكفي حاجة السكان في الوطن العربي.
- (X) (١٢٥) نقص الأكسجين في المسطحات المائية يؤثر على الثروة الحيوانية.
- (✓) (١٢٦) تساهم الثروة السمكية والدواجن في سد العجز من البروتين الحيواني.
- (X) (١٢٧) المغرب أولى الدول إنتاجاً للأسماك من المزارع السمكية.
- (X) (١٢٨) اليمن أولى الدول العربية في إنتاج الأسماك من المصايد السمكية.
- (✓) (١٢٩) تعد المغرب أولى الدول العربية في إنتاج الأسماك من المصايد.
- (X) (١٣٠) تنتشر تربية الجاموس في المناطق الصحراوية بمصر.
- (X) (١٣١) يقل إنتاج الأسماك في دولة المغرب.
- (X) (١٣٢) يتميز الوطن العربي بوفرة الأعلاف اللازمة لتربية الحيوانات.
- (✓) (١٣٣) تستخدم بعض الحيوانات في وطننا العربي في أعمال الحقل والنقل.
- (✓) (١٣٤) يتمتع الوطن العربي بكافة مقومات السياحة.
- (✓) (١٣٥) تنتشر سياحة التسوق في دولة الكويت.
- (X) (١٣٦) تشتهر مدينة القيروان بتونس بانتشار السياحة الدينية.
- (✓) (١٣٧) زيارتك لآثار مدينة تدمر يعد سياحة ثقافية.
- (✓) (١٣٨) يتميز الوطن العربي بوجود كوادر بشرية مؤهلة للنشاط السياحي.

- (X) (١٣٩) توجد السياحة العلاجية في الوطن العربي في دولتي العراق واليمن.
- (✓) (١٤٠) يُعد النشاط السياحي من أهم الأنشطة الاقتصادية في الوطن العربي.
- (✓) (١٤١) المناخ المعتدل يُعد من المقومات البشرية للسياحة في الوطن العربي.
- (✓) (١٤٢) تعمل الدول العربية على تطوير البنية التحتية لقطاع السياحة.
- (X) (١٤٣) يعاني الوطن العربي من قلة جودة شبكة المواصلات.
- (✓) (١٤٤) تسهم التجارة في تعزيز العلاقات بين الدول.
- (X) (١٤٥) تعد مدينة الإسماعيلية من المراكز التجارية بالدولة الإسلامية.
- (X) (١٤٦) التجارة البينية تكون بين الدول العربية ودول العالم المختلف.
- (✓) (١٤٧) يسعى الوطن العربي إلى زيادة منصات التجارة الإلكترونية.
- (✓) (١٤٨) تتشابه المنتجات التي تنتجها الدول العربية.
- (X) (١٤٩) بدأ انتشار التجارة في شبه الجزيرة العربية بعد ظهور الإسلام.
- (X) (١٥٠) من مساوئ التجارة العربية أنتشار البطالة.
- (✓) (١٥١) تسعى الدول العربية للنهوض بالتجارة البينية العربية.
- (✓) (١٥٢) تساعد التجارة الإلكترونية في خفض الازدحام المروري والتلوث.
- (✓) (١٥٣) تسهم التجارة في توفير النقد الأجنبي.
- (✓) (١٥٤) تسعى الدول العربية إلى تنوع صادراتها وتنميتها.
- (X) (١٥٥) تُعد الأدوية من صادرات الوطن العربي.
- (✓) (١٥٦) اشتهر التجار المسلمون بحسن الخلق.
- (X) (١٥٧) يعد تبادل السلع والمنتجات بين مصر والصين تجارة بينية.
- (✓) (١٥٨) ضمت اتفاقية أغادير التجارية دولة الصومال.
- (✓) (١٥٩) التبادل التجاري بين الدول العربية ضعيف.
- (✓) (١٦٠) يصدر الوطن العربي للعالم الوقود والمعادن.
- (✓) (١٦١) أدت الحواجز الجمركية بين الدول العربية إلى ضعف التجارة البينية.
- (✓) (١٦٢) التشابه بين السلع والخدمات التي تنتجها الدول العربية أدى إلى ضعف التجارة بينهما.

- (✓) (١٦٣) توجد التربة الخصبة في الوطن العربي على جانبي الأنهار.
- (X) (١٦٤) تتميز سهول البحر المتوسط بمطارها الصيفية.
- (✓) (١٦٥) يتميز وطننا العربي بتنوع مظاهر السطح.
- (✓) (١٦٦) تنوع مظاهر السطح في الوطن العربي ساعد على تنوع الأنشطة الاقتصادية.
- (✓) (١٦٧) يتركز بعض السكان في هضاب الجناح الإفريقي.
- (X) (١٦٨) تقع سلاسل جبال الحجاز وعسير في شبه جزيرة سيناء.
- (✓) (١٦٩) يوجد اختلاف في درجات الحرارة والأمطار في دول الوطن العربي.
- (X) (١٧٠) يمر مدار السرطان شمال الوطن العربي.
- (✓) (١٧١) ترتفع درجة الحرارة في الوطن العربي كلما اتجهنا جنوبًا.
- (✓) (١٧٢) يتعرض الوطن العربي لرياح حارة من جنوب آسيا صيفًا.
- (✓) (١٧٣) تتميز الأجزاء الشمالية من الوطن العربي بمناخها المعتدل.
- (X) (١٧٤) تؤثر المسطحات المائية على مناخ المناطق الداخلية بالوطن العربي.
- (✓) (١٧٥) يؤثر الموقع الفلكي للوطن العربي على مناخه.
- (X) (١٧٦) يقل تأثير المسطحات المائية على مناخ الوطن العربي لاتساع مساحتها.
- (✓) (١٧٧) تعرف المناطق البعيدة عن تأثير البحر بالمناطق القارية.
- (✓) (١٧٨) تتميز المناطق الساحلية للوطن العربي بمناخ معتدل.
- (✓) (١٧٩) يسود المناخ الحار معظم أجزاء الوطن العربي.
- (✓) (١٨٠) ترتفع درجات الحرارة في المناطق الجنوبية للوطن العربي.
- (✓) (١٨١) يحل فصل الشتاء في الوطن العربي عندما تتعامد الشمس على مدار الجدي.
- (X) (١٨٢) تعتدل درجات الحرارة في المناطق الداخلية بالوطن العربي صيفًا.
- (✓) (١٨٣) تسقط الأمطار الغزيرة على منحدرات السهول المواجهة للرياح المحملة ببخار الماء.
- (✓) (١٨٤) قد يؤدي سوء الأحوال الجوية إلى إلغاء رحلات الطيران.
- (✓) (١٨٥) يسود الوطن العربي ثلاثة أقاليم مناخية كبرى.

- (✓) (١٨٦) تنمو حشائش الإستبس في مناخ إقليم البحر المتوسط.
- (X) (١٨٧) تقع مدينة الإسكندرية ضمن مناخ الإقليم المداري.
- (✓) (١٨٨) يتميز إقليم البحر المتوسط بصيف حار جاف وشتاء دافئ ممطر.
- (X) (١٨٩) ينتمي الجزء الجنوبي الغربي من دولة اليمن للإقليم الصحراوي الحار.
- (✓) (١٩٠) الإقليم الصحراوي الحار يشغل معظم الوطن العربي.
- (X) (١٩١) تعيش الحيوانات مثل الزراف والأسود على حشائش الإستبس.
- (X) (١٩٢) تربي الأغنام والماعز في المناخ المداري.
- (X) (١٩٣) تنمو حشائش السافانا في إقليم البحر المتوسط.
- (X) (١٩٤) تنتشر حشائش الإستبس في الإقليم الصحراوي.
- (X) (١٩٥) تنتشر النباتات التي لها القدرة على تحمل الجفاف في الإقليم المداري.
- (✓) (١٩٦) الشتاء في الوطن العربي ممطر خاصة في المناطق المطلة على البحر المتوسط.
- (X) (١٩٧) تتشابه درجات الحرارة بين دول الوطن العربي.
- (✓) (١٩٨) المسطحات المائية تعمل على تلطيف درجة الحرارة.
- (✓) (١٩٩) تتأثر كمية الأمطار المتساقطة باتجاه المرتفعات.
- (✓) (٢٠٠) تعرف المناطق البعيدة عن تأثير البحر بالمناطق القارية.
- (✓) (٢٠١) يوجد اختلاف في درجات الحرارة والأمطار في الوطن العربي.
- (X) (٢٠٢) المناطق الداخلية من الوطن العربي أكثر اعتدالاً من المناطق الساحلية.
- (✓) (٢٠٣) يكثُر السكان في الوطن العربي على سواحل البحر الأحمر.
- (✓) (٢٠٤) يتسم الإقليم الصحراوي بدرجة حرارة تصل إلى ما دون الصفر المئوي في بعض المناطق.
- (X) (٢٠٥) تنتشر في الإقليم المداري نباتات مثل الزيتون والصنوبر.
- (X) (٢٠٦) تزداد كمية الأمطار المتساقطة على الأجزاء الداخلية من المرتفعات.
- (✓) (٢٠٧) استخدام مصادر الطاقة النظيفة يساهم في حل المشكلات البيئية.
- (✓) (٢٠٨) الجفاف هو نقص كمية الأمطار لفترات قصيرة.

- (٢٠٩) (✓) الجفاف هو نقص كمية الأمطار في بعض السنوات بما لا يسمح بالزراعة أو نمو الحشائش.
- (٢١٠) (X) استخدام الأسمدة الكيميائية والمبيدات الحشرية يقلل من مشكلة التصحر.
- (٢١١) (✓) المشكلات البيئية في الوطن العربي تهدد صحة و حياة المواطن العربي.
- (٢١٢) (X) تعرضت دولة المغرب لأكبر موجة جفاف سببت نقصًا غذائيًا.
- (٢١٣) (✓) اتجهت الدول العربية لإنشاء المدن الذكية بهدف تقليل انبعاثات الغازات الدفيئة.
- (٢١٤) (X) يؤدي الرعي الجائر لحدوث مشكلة الجفاف.
- (٢١٥) (X) تساهم إزالة الغابات في حل مشكلة التصحر.
- (٢١٦) (✓) تفعيل القوانين لتجريم القطع العشوائي للأشجار يساهم في حل المشكلات البيئية.
- (٢١٧) (✓) أطلقت مصر مبادرة ١٠٠ مليون شجرة مثمرة.
- (٢١٨) (✓) تناقص مخزون المياه الجوفية يؤدي إلى حدوث التصحر.
- (٢١٩) (X) يعاني الوطن العربي من مشكلة نقص المياه المالحة.
- (٢٢٠) (X) عثمان بن عفان هو الذي بدأ حركات الفتوحات الإسلامية.
- (٢٢١) (✓) كان عمر بن الخطاب من أثرياء مكة.
- (٢٢٢) (✓) كان عمر بن الخطاب أول من بايع أبا بكر الصديق بالخلافة.
- (٢٢٣) (X) عمر بن الخطاب هو أول من أسلم من الرجال.
- (٢٢٤) (✓) توفي أبو بكر الصديق وعمره ٦٣ عامًا.
- (٢٢٥) (X) يتميز الإقليم الصحراوي بصيف حار ممطر وشتاء معتدل.
- (٢٢٦) (X) يتميز الوطن العربي بسقوط كميات كبيرة من الأمطار تسمح بزراعات واسعة.
- (٢٢٧) (X) يقع الوطن العربي في إقليم مناخي واحد.

اختر الإجابة الصحيحة مما بين القوسين:

- (١) كل الدول العربية في نفس النطاق ما عدا دولة
(الصومال - جيبوتي - جزر القمر - موريتانيا)
- (٢) تقع دولة جزر القمر في
(المحيط الهندي - المحيط الأطلنطي - المحيط الهادي - الخليج العربي)
- (٣) كل مما يلي من البحار الهامة التي يطل عليها الوطن العربي ما عدا
(البحر الأحمر - بحر العرب - البحر الأسود - البحر المتوسط)
- (٤) تقع جبال شمال الوطن العربي.
(جبال زاغروس - جبال طوروس - جبال الحجاز - جبال عسير)
- (٥) يقع جنوب الوطن العربي.
(البحر المتوسط - بحر العرب - البحر الأحمر - البحر الأسود)
- (٦) أكبر الدول العربية من حيث المساحة هي دولة (تونس - مصر - الجزائر - ليبيا)
- (٧) يصل مضيق بين البحر المتوسط والمحيط الأطلنطي.
(باب المنذب - جبل طارق - قناة السويس - هرمز)
- (٨) توجد النسبة الأكبر من مساحة الوطن العربي في قارة
(آسيا - أوروبا - إفريقيا - أمريكا الشمالية)
- (٩) يتحكم الوطن العربي في ممرات. (ثلاثة - أربعة - خمسة - ستة)
- (١٠) تطل كل من مصر والسعودية على البحر (الأحمر - المتوسط - الأسود - العرب)
- (١١) السودان من الدول العربية الإفريقية التي تطل على
(البحر المتوسط - البحر الأحمر - خليج عمان - خليج عدن)
- (١٢) أصغر الدول العربية من حيث المساحة (المغرب - الجزائر - البحرين - مصر)
- (١٣) تطل دولتا جيبوتي واليمن على مضيق (هرمز - باب المنذب - جبل طارق - قناة السويس)
- (١٤) كانت قبيلة من أشهر القبائل العربية في مكة. (ثقيف - موازن - قريش - بني ساعدة)
- (١٥) أول عمل قام به الرسول (ﷺ) كان
(الزراعة - الصناعة - رعي الأغنام - التجارة)
- (١٦) كان النظام السائد في شبه الجزيرة العربية هو النظام
(الملكي - القبلي - شبه ملكي - الديمقراطي)

- (١٧) نزل الوحي على النبي (ﷺ) وهو في سن
- (الثلاثين - الأربعين - الخمسين - الستين)
- (١٨) نزل سيدنا جبريل (عليه السلام) برسالة الإسلام على سيدنا محمد (ﷺ) في إحدى ليالي شهر
(رجب - شعبان - رمضان - محرم)
- (١٩) استمرت مرحلة الدعوة السرية لمدة سنوات. (سبع - تسع - ثلاث - خمس)
- (٢٠) أول هجرة للمسلمين كانت إلى
- (المدينة - الطائف - الحبشة - اليمن)
- (٢١) رحلة أهل مكة في فصل الشتاء كنت إلى (اليمن - الشام - يثرب - الحبشة)
- (٢٢) إحدى الحرف السائدة في شبه الجزيرة العربية قبل الإسلام
- (الزراعة - السياحة - الصناعة - الرعي)
- (٢٣) ثاني هجرة للمسلمين مع الرسول (ﷺ) كانت إلى
- (الحبشة - الطائف - يثرب - اليمن)
- (٢٤) كان تجار مكة يتجهون في فصل الصيف إلى (الشام - الحبشة - اليمن - الهند)
- (٢٥) اجتمع زعماء قريش في وتأمروا على قتله.
- (دار الندوة - دار الأرقم بن أبي الأرقم - دار أبي لهب - دار بني ساعدة)
- (٢٦) هاجر الرسول (ﷺ) ليلاً مع صديقه إلى يثرب.
- (أبي بكر الصديق - عمر بن الخطاب - علي بن أبي طالب - عثمان بن عفان)
- (٢٧) كان مقرًا للحكم وإدارة شؤون الدولة الداخلية والخارجية.
- (المسجد - بيت الرسول - دار الأرقم - دار الندوة)
- (٢٨) خالف الرماة أوامر النبي (ﷺ) وتركوا مواقعهم في غزوة
- (بدر - أحد - الخندق - فتح مكة)
- (٢٩) كان فتح مكة بسبب اعتداء قريش على قبيلة (بكر - خزاعة - ثقيف - هوازن)
- (٣٠) أعطى الرسول (ﷺ) الأمان لأهل رغم إيذائهم له ولأصحابه.
- (المدينة - الطائف - مكة - الحبشة)
- (٣١) أشار على الرسول (ﷺ) بحفر الخندق حول المدينة.
- (أبو بكر الصديق - عثمان بن عفان - سلمان الفارسي - عمر بن الخطاب)
- (٣٢) سميت الوثيقة التي وضعها النبي (ﷺ) لتنظيم العلاقة بين المسلمين واليهود باسم
(وثيقة الإسلام - وثيقة المواخاة - صحيفة المدينة - صحيفة مكة)

- (٣٣) أي مما يلي كان سببًا في نجاح خطة هجرة الرسول (ﷺ) إلى المدينة؟
(التحالف مع قريش - **السرية التامة** - محاربة قبائل اليهود - بناء المسجد)
- (٣٤) قال الرسول (ﷺ) عبارة «اذهبوا فأنتم الطلقاء» خلال
(غزوة بدر - غزوة أحد - **فتح مكة** - صلح الحديبية)
- انتصر المسلمون رغم قلة عددهم في غزوة
(بدر - **أحد** - الخندق - تبوك)
- (٣٥) منعت قريش الرسول (ﷺ) وأصحابه من دخول لأداء العمرة.
(الطائف - **مكة** - المدينة - حنين)
- (٣٦) جعل الرسول (ﷺ) إمامًا للمسلمين في أثناء مرضه.
(عمر بن الخطاب - **أبا بكر الصديق** - عثمان بن عفان - علي بن أبي طالب)
- (٣٧) أرسل أبو بكر الصديق (رضي الله عنه) جيش أسامة بن زيد (رضي الله عنهما) لمحاربة
(الفرس - **الروم** - قريش - اليهود)
- (٣٨) ظهر المرتدون عن الدين الإسلامي في عهد الخليفة
(**أبي بكر الصديق** - عمر بن الخطاب - عثمان بن عفان - علي بن أبي طالب)
- (٣٩) قام الخليفة عمر بن الخطاب (رضي الله عنه) بـ
(محاربة المرتدين - جمع القرآن الكريم - **وضع التقويم الهجري** - نقل مقر الخلافة)
- (٤٠) أمر الخليفة بجمع القرآن الكريم في مصحف واحد.
(عمر بن الخطاب - **عثمان بن عفان** - علي بن أبي طالب - أبو بكر)
- (٤١) قام الخليفة بتنظيم الشرطة.
(عثمان بن عفان - **علي بن أبي طالب** - أبو بكر الصديق - عمر بن الخطاب)
- (٤٢) خصص الخليفة يومًا للنظر في مظالم الناس.
(عثمان بن عفان - أبو بكر الصديق - **علي بن أبي طالب** - عمر بن الخطاب)
- (٤٣) وصلت الفتوحات الإسلامية في عهد الخليفة عمر بن الخطاب (رضي الله عنه) إلى
(اليمن وعمان - مصر وليبيا - **مصر والشام** - اليمن ومصر)
- (٤٤) نقل الخليفة علي بن أبي طالب (رضي الله عنه) مقر الخلافة إلى
(القدس - **الكوفة** - مكة - المدينة)
- (٤٥) تم إنشاء أول أسطول بحري إسلامي لتأمين سواحل من هجمات الروم.
(مصر والعراق - **مصر والشام** - مصر والسودان - اليمن والصومال)

- (٤٦) تقوم الزراعة في جنوب موريتانيا اعتمادًا على مياه
- (الأمطار - الأنهار - الآبار - العيون)
- (٤٧) تقوم الزراعة في اليمن اعتمادًا على (نهر النيل - المياه الجوفية - الأمطار - البحار)
- (٤٨) تقوم الزراعة في الوطن العربي اعتمادًا على المياه الجوفية في المناطق
- (الشمالية - الصحراوية - الفيضية - الجبلية)
- (٤٩) تقوم الزراعة في واحات الإمارات اعتمادًا على
- (مياه الأمطار - المياه الجوفية - الأنهار - البحار)
- (٥٠) تعتمد الزراعة في الصحاري العربية على مياه
- (البحار - المحيطات - الأنهار - الآبار والعيون)
- (٥١) تعتمد الزراعة في الأجزاء الشمالية من الوطن العربي على مياه
- (الأنهار - التحلية - الأمطار - الجوفية)
- (٥٢) أي مما يلي يعد من المقومات البشرية لقيام الزراعة؟
- (المياه العذبة - التربة الخصبة - الأيدي العاملة - تنوع المناخ)
- (٥٣) أولى الدول العربية إنتاجًا للتمور (المغرب - السعودية - الجزائر - مصر)
- (٥٤) تنتشر زراعة الزيتون في دولة (اليمن - قطر - فلسطين - الصومال)
- (٥٥) دولة تقوم فيها الزراعة اعتمادًا على مياه الأنهار (ليبيا - قطر - السودان - الكويت)
- (٥٦) يتركز إنتاج محاصيل الألياف في الوطن العربي في دولة (السعودية - المغرب - ليبيا - مصر)
- (٥٧) اليمن أولى الدول العربية في زراعة (البن - القمح - الأرز - البنجر)
- (٥٨) تتركز زراعة البن في دولة (السودان - اليمن - العراق - فلسطين)
- (٥٩) دولة تقوم فيها الزراعة اعتمادًا على مياه الأنهار (السودان - ليبيا - قطر - الكويت)
- (٦٠) يزرع بالوطن العربي المحاصيل السكرية ومنها (القطن - الأرز - القصب - الزيتون)

- (٦١) محصول يصنف من محاصيل الحبوب الغذائية (الذرة - العنب - الكتان - الموز الشرقي)
- (٦٢) أحد المقومات الطبيعية للزراعة (رأس المال - النقل - التربة الخصبة - السوق)
- أحد محاصيل الحبوب الغذائية (القطن - التين - الكتان - الذرة)
- (٦٣) أحد المقومات الطبيعية للزراعة (رأس المال - السوق - تنوع المناخ - شبكات النقل)
- (٦٤) تشتهر واحة سيوه بزراعة (القمح - قصب السكر - النخيل - القطن)
- (٦٥) أحد مواقع التراث الزراعي العالمي في مصر هو واحة
(الغرافرة - سيوة - العين - الكفرة)
- (٦٦) أي مما يلي يُعد إحدى مشكلات الزراعة في الوطن العربي؟
(تذبذب كمية المطر - انتشار الأسواق - وفرة وسائل النقل - تنوع المناخ)
- (٦٧) تُعد مصر أولى الدول العربية في تربية الجاموس بسبب توافر
(المراعي الطبيعية - المناخ الحار - البيئة الفيضية - البيئة الساحلية)
- (٦٨) أولى الدول العربية في تربية الماعز هي (الصومال - المغرب - السودان - السعودية)
- (٦٩) أي من المواد الخام التالية توفرها الثروة الحيوانية للصناعة؟
(القطن - الجلود - الفوسفات - البترول)
- (٧٠) تُعد الصومال أولى الدول العربية في تربية
(الأبقار - الجاموس - الدواجن - الإبل)
- (٧١) أولى الدول العربية في تربية الأبقار هي دولة
(مصر - الجزائر - السودان - المغرب)
- (٧٢) إحدى المشكلات التي تؤثر على الثروة السمكية والحيوانية
(التصحّر - التغير المناخي - الجفاف - فقر المراعي)
- (٧٣) أولى الدول العربية في إنتاج الأسماك من المصايد السمكية
(السودان - مصر - المغرب - الجزائر)
- (٧٤) إحدى المشكلات التي تؤثر على الثروة السمكية والحيوانية
(التصحّر - التغير المناخي - الجفاف - فقر المراعي)

- (٧٥) أولى الدول العربية في تربية الدواجن هي دولة
- (السعودية - الجزائر - المغرب - مصر)
- (٧٦) تعد المغرب أولى الدول العربية في إنتاج الأسماك لأنها تطل على المحيط
- (الهادي - الهندي - الأطلسي - القطبي)
- (٧٧) يأتي معظم إنتاج الأسماك في مصر من
- (نهر النيل - المزارع السمكية - البحار - المحيطات)
- (٧٨) تُعد المغرب أولى الدول العربية في تربية (الجاموس - الأغنام - الإبل - الدواجن)
- (٧٩) كل هذه المشكلات تواجه الثروة الحيوانية في الوطن العربي ما عدا
- (قلة الأمطار - تطوير المراعي الطبيعية - أنتشار الجفاف - التصحر)
- (٨٠) تقتصر تربية على البيئة الزراعية الفيضية.
- (الأبقار - الأغنام - الإبل - الجاموس)
- (٨١) يدخل الحديد في صناعة
- (أسلاك التليفون - المبيدات الحشرية - مواد الطلاء - الكباري والمنشآت)
- (٨٢) أحد المقومات البشرية لقيام الصناعة بالوطن العربي
- (الموقع المتميز - المعادن - السوق - المواد الخام)
- (٨٣) أولى الدول العربية في إنتاج الأسمنت والبتروول هي
- (٨٤) (السعودية - الإمارات - مصر - الأردن)
- (٨٥) أولى الدول العربية إنتاجًا للبتروول (مصر - السودان - ليبيا - السعودية)
- (٨٦) تحتل دولة قطر المرتبة الأولى عربيًا في إنتاج
- (البتروول - الغاز الطبيعي - خام الفوسفات - الذهب)
- (٨٧) أحد المقومات الطبيعة لقيام الصناعة
- (الأيدي العاملة - مصادر الطاقة - رأس المال - وسائل النقل)
- (٨٨) صناعة تحويلية توجد بالوطن العربي
- (إنتاج المنجنيز - استخراج البتروول - البتروكيمياويات - تعدين الحديد)

- (٨٩) يستخدم في صناعة المبيدات الحشرية
- (الحديد - المنجنيز - الفحم - الفوسفات)
- (٩٠) دولة عربية تحتل المرتبة الأولى في إنتاج الحديد
- (اليمن - ليبيا - موريتانيا - مصر)
- (٩١) تحتل مصر المركز الثاني عربياً في إنتاج معدن
- (الألومنيوم - الذهب - الحديد - الفوسفات)
- (٩٢) ينتج الوطن العربي من البترول أكثر من الإنتاج العالمي.
- (نصف - ثلث - ربع - عشر)
- (٩٣) تعد مصر الدولة الأولى عربياً في صناعة
- (الحديد والصلب - البلاستيك - السيارات - الطائرات)
- (٩٤) دولة عربية تحتل المركز الأول في إنتاج الذهب هي
- (مصر - السودان - السعودية - المغرب)
- (٩٥) أحد مصادر الطاقة المتجددة في الوطن العربي
- (البترول - طاقة الرياح - الفحم - الغاز الطبيعي)
- (٩٦) من المقومات الطبيعية للصناعة
- (رأس المال - الأسواق - المواد الخام - وسائل النقل)
- (٩٧) تحتل المغرب المركز الأول عربياً في إنتاج
- (الحديد - الغاز الطبيعي - البترول - الفوسفات)
- (٩٨) من الصناعات الاستراتيجية لصناعة
- (استخراج البترول - السيارات - الحديد والصلب - جميع ما سبق)
- (٩٩) تقوم السياحة على زيارة المناطق الصحراوية.
- (الدينية - المؤتمرات - البيئية - الثقافية)
- (١٠٠) زيارة المسجد الأقصى في فلسطين سياحة (ترفيهية - ثقافية - دينية - علاجية)
- (١٠١) الاستمتاع بالرحلات النيلية في أسوان يعد سياحة (ثقافية - بيئية - علاجية - ترفيهية)

- (١٠٢) حضور كأس الأمم الإفريقية لكرة اليد يعد سياحة... (علاجية - ترفيهية - ثقافية - رياضية)
- (١٠٣) زيارة الأماكن المقدسة تعد سياحة..... (ثقافية - ترفيهية - دينية - علاجية)
- (١٠٤) يحتفل الوطن العربي في ٢٥ فبراير من كل عام بيوم..... العربية.
- (التجارة - السياحة - الزراعة - الصناعة)
- (١٠٥) زيارة المواقع والمناطق التراثية يعد سياحة.....
- (ثقافية - تسويقية - رياضية - علاجية)
- (١٠٦) تستطيع زيارة مسار العائلة المقدسة في..... (مصر - تونس - المغرب - الأردن)
- (١٠٧) تعتمد سياحة التسوق على زيارة أضخم المراكز التجارية وأحدثها كما في دولة.....
- (اليمن - العراق - الإمارات - ليبيا)
- (١٠٨) يقوم السياح بزيارة المواقع الأثرية في القيروان بدولة.....
- (مصر - العراق - سوريا - تونس)
- (١٠٩) أي مما يلي يُعد من أماكن السياحة الدينية في فلسطين؟.....
- (دير سانت كاترين - كنيسة القيامة - المسجد الحرام - الجامع الأزهر الشريف)
- (١١٠) تقع مدينة تدمر في..... (المغرب - سوريا - الكويت - قطر)
- (١١١) أول عاصمة عربية للسياحة هي مدينة..... (صنعاء - بيروت - الإسكندرية - الخرطوم)
- (١١٢) تم اختيارها كعاصمة للسياحة العربية عام ٢٠٢٣م مدينة.....
- (دبي - الإسكندرية - الدوحة - بغداد)
- (١١٣) إذا أردت الاستشفاء في المياه الكبريتية في مصر عليك التوجه إلى.....
- (واحة الكفرة - واحة سيوة - عين ماعين - واحة عين صالح)
- (١١٤) يهدف السياح إلى زيارة بعض الأماكن للعلاج والاستشفاء مثل زيارة.....
- في دولة الأردن. (واحة سيوة - عيون موسى - عين ماعين - بحيرة عسل)

- (١١٥) تقوم السياحة البيئية على زيارة المناطق
- (الزراعية - الساحلية - الصحراوية - النهرية)
- (١١٦) زيارة الشواطئ في لبنان تعد سياحة (دينية - علاجية - ثقافية - ترفيهية)
- (١١٧) إحدى صادرات الوطن العربي (القمح - الزيوت - السيارات - المعادن)
- (١١٨) يستورد الوطن العربي (الخضروات - الأدوية - الطائرات - الوقود)
- (١١٩) التجارة الخارجية هي تبادل السلع والمنتجات بين مصر
- (السعودية - الجزائر - البحرين - فرنسا)
- (١٢٠) التجارة الإلكترونية هي تبادل السلع والخدمات عن طريق
- (السيارات - الطائرات - السفن - الإنترنت)
- (١٢١) تبادل السلع والخدمات باستخدام الإنترنت يسمى
- (مقايضة - تجارة إلكترونية - تجارة خارجية - تجارة بينية)
- (١٢٢) أشهر المراكز التجارية قديماً (الإسكندرية - القاهرة - مطروح - العلمين)
- (١٢٣) تصدر البحرين معظم منتجاتها لثلاث دول منها (الأردن - سوريا - العراق - عمان)
- (١٢٤) أحد أسباب ضعف التجارة البينية العربية
- (تقليص الحواجز الجمركية - زيادة المنصات الإلكترونية - التشابه بين المنتجات - إنشاء المنظمات التجارية)
- (١٢٥) تصدر الدول العربية منتجات متنوعة منها
- (الوقود و المعادن - الطائرات والسيارات - الوقود والسيارات - الطائرات والإلكترونيات)
- (١٢٦) توفر التجارة العربية العملات (المعدنية - الأجنبية - المحلية - الإقليمية)
- (١٢٧) ساعدت في نشر الإسلام قديماً حرفة (الزراعة - الصناعة - التجارة - الإقليمية)
- (١٢٨) تتمثل أعلى نسبة صادرات عربية من (الوقود - الإلكترونيات - السيارات - المياه)

(١٢٩) من أمثلة الجبال الانكسارية في الوطن العربي جبال

(کردستان - زاجروس - عمان - عسير)

(١٣٠) تسببت الحركات الباطنية الالتوائية في نشأة جبال

(الحجاز - البحر الأحمر - أطلس - مرتفعات اليمن)

(١٣١) تعد من الجبال الالتوائية في الوطن العربي جبال

(عسير - البحر الأحمر - عمان - الحجاز)

(١٣٢) توجد جبال البحر الأحمر في دولتي

(موريتانيا والمغرب - مصر والسودان - الجزائر والمغرب - ليبيا وتونس)

(١٣٣) توجد في دولتي مصر والسودان جبال

(کردستان - زاجروس - الحجاز - البحر الأحمر)

(١٣٤) أحد الجبال الالتوائية في الجناح العربي الآسيوي جبال

(الحجاز - أطلس - کردستان - عسير)

(١٣٥) أكثر أشكال السطح انتشارًا في الوطن العربي

(الجبال - الهضاب - السهول - التلال)

(١٣٦) أكبر هضاب الوطن العربي مساحة هضبة

(الجلف الكبير - بادية الشام - إفريقيا الشمالية - حزموت)

(١٣٧) إحدى هضاب الجناح العربي الآسيوي هضبة

(مارميكا - إفريقيا الشمالية - المعازة - بادية الشام)

(١٣٨) تمتد هضبة إفريقيا الشمالية من البحر الأحمر حتى المحيط

(الهندي - الهادي - الأطلسي - القطبي)

(١٣٩) هضبة حزموت من هضاب الجناح

(الإفريقي - الآسيوي - الأوروبي - الأمريكي)

(١٤٠) إحدى الظواهر التي تكونت بفعل التعرية المائية

(الجبال - الأودية الجافة - الهضاب - الكثبان الرملية)

- (١٤١) إحدى آثار التعرية الهوائية في الوطن العربي هي
- (السهول الفيضية - السهول الساحلية - **الكثبان الرملية** - الأودية الجافة)
- (١٤٢) يمتد بحر الرمال العظيم بين دولتي مصر و
- (السودان - **ليبيا** - الجزائر - السعودية)
- (١٤٣) توجد واحة عين صالح في
- (السودان - ليبيا - **الجزائر** - مصر)
- (١٤٤) من أمثلة الأودية الجافة بالوطن العربي وادي
- (دجلة - الفرات - النيل - **الدواسر**)
- (١٤٥) يعيش بعض السكان اعتمادًا على المياه الجوفية في واحة سيوة بدولة
- (**مصر** - السودان - ليبيا - العراق)
- (١٤٦) تسقط الأمطار في فصل الشتاء على سهول
- (**البحر المتوسط** - البحر الأحمر - الخليج العربي - بحر العرب)
- (١٤٧) توجد سهول نهر النيل في
- (مصر والعراق - **مصر والسودان** - مصر وليبيا - مصر وتونس)
- (١٤٨) توجد سهول دجلة والفرات في دولة
- (مصر - السودان - ليبيا - **العراق**)
- (١٤٩) هضبة حزموت من هضاب الجناح
- (الإفريقي - **الآسيوي** - الأمريكي - الأوروبي)
- (١٥٠) تعد من الجبال الانكسارية في الوطن العربي جبال
- (زاجروس - أطلس - عمان - **البحر الأحمر**)
- (١٥١) أدنى نقطة في الوطن العربي هي
- (البحر المتوسط - **البحر الميت** - بحر قزوين - البحر الأحمر)
- (١٥٢) تمر دائرة عرض الاستواء في
- (الوطن العربي).
- (شمال - **جنوب** - شرق - غرب)
- (١٥٣) تمر جنوب الوطن العربي دائرة
- (القطب الشمالي - الجدي - **الاستواء** - السرطان)

(١٥٤) يسود معظم جنوب الوطن العربي المناخ

(المعتدل - البارد - الحار - الموسمي)

(١٥٥) المناطق القريبة من المسطحات المائية يكون مناخها

(شديد الحرارة والجفاف - أكثر اعتدالًا ومطرًا - أقل اعتدالًا ومطرًا - شديد البرودة والجفاف)

(١٥٦) تهب الرياح الحارة على الوطن العربي من جنوب قارة

(إفريقيا - أوروبا - آسيا - أمريكا)

(١٥٧) تهب على الوطن العربي شتاء رياح شديدة البرودة قادمة من

(قارة إفريقيا - المحيط الهندي - قارة أوروبا - المحيط الهادي)

(١٥٨) يسود المناخ الحار معظم أجزاء الوطن العربي بينما يسود المعتدل في الأجزاء

(الشرقية - الغربية - الشمالية - الجنوبية)

(١٥٩) مناخ مدينة الإسكندرية معتدل أكثر من مدينة الرياض بسبب تأثير

(اتجاه المرتفعات - المسطحات المائية - مدار الجدي - خط جرينتش)

(١٦٠) تسقط أمطار موسمية صيفية على دولة

(لبنان - سوريا - اليمن - تونس)

(١٦١) تسقط أمطار موسمية صيفية على أجزاء من دولة

(لبنان - سوريا - تونس - الصومال)

(١٦٢) تسقط الأمطار الموسمية صيفًا على

(جبال الحجاز - مرتفعات اليمن - جبال أطلس - جبال زاغروس)

(١٦٣) يحل فصل الشتاء على مصر عندما تتعامد أشعة الشمس على

(مدار الجدي - دائرة الاستواء - مدار السرطان - خط جرينتش)

(١٦٤) مناخ الوطن العربي شديد الحرارة في فصل الصيف بسبب تعامد الشمس على

(مدار السرطان - مدار الجدي - دائرة الاستواء - خط جرينتش)

(١٦٥) تتعامد الشمس على مدار السرطان مما أدى إلى

(برودة الجو - اعتدال درجات الحرارة - سقوط الأمطار بغزارة - ارتفاع درجات الحرارة)

- (١٦٦) يتسم فصل الصيف في الوطن العربي بـ.....
(سقوط الأمطار - الرياح الباردة - الجفاف - السيول)
- (١٦٧) يتعرض جنوب الوطن العربي لسقوط أمطار.....
(شتوية - استوائية - موسمية - إعصارية)
- (١٦٨) تسقط الأمطار في الوطن العربي شتاء على سهول.....
(البحر الأحمر - البحر المتوسط - الخليج العربي - خليج عدن)
- (١٦٩) أي من العوامل الآتية لا يؤثر في مناخ الوطن العربي.....
(الموقع الفلكي - المسطحات المائية - المرتفعات - السهول)
- (١٧٠) يمتد إقليم البحر المتوسط في الجناح الآسيوي للوطن العربي في دولتي.....
(قطر والبحرين - اليمن وعمان - فلسطين ولبنان - العراق والأردن)
- (١٧١) يمتد الإقليم المداري في..... في الوطن العربي. (شمال - جنوب - شرق - غرب)
- (١٧٢) نبات طبيعي ينمو في الإقليم المداري بالوطن العربي.....
(حشائش السافانا - أشجار الصنوبر - حشائش الإستبس - أشجار الأرز)
- (١٧٣) تنتشر النباتات التي لها القدرة على تحمل الجفاف في الإقليم.....
(الصحراوي الحار - المداري - الموسمي - البحر المتوسط)
- (١٧٤) تنمو أشجار الأرز في إقليم مناخ.....
(البحر المتوسط - الاستوائي - الصحراوي الحار - المداري)
- (١٧٥) تسقط أمطار الإقليم المداري في فصل.....
(الشتاء - الصيف - الخريف - الربيع)
- (١٧٦) تعيش الزرافات والأسود في الإقليم المناخي.....
(المداري - الصحراوي الحار - المعتدل - الموسمي)
- (١٧٧) يتميز إقليم البحر المتوسط في الوطن العربي بسقوط الأمطار في فصل.....
(الصيف - الشتاء - الربيع - الخريف)
- (١٧٨) يوجد الصبار في إقليم.....
(البحر المتوسط - الاستوائي - الصحراوي - المداري)
- (١٧٩) حشائش الإستبس تنمو ضمن إقليم المناخ.....
(الصحراوي - المداري - الموسمي - البحر المتوسط)

- (١٨٠) ينتمي الجزء الجنوبي الغربي من دولة اليمن إلى إقليم المناخ.....
(المداري - الصحراوي الحار - الاستوائي - البحر المتوسط)
- (١٨١) أي من الدول التالية يقع شمالها في إقليم البحر المتوسط؟.....
(مصر - الكويت - اليمن - الإمارات - مصر)
- (١٨٢) تقع محمية ضانا في دولة.....
(سوريا - لبنان - فلسطين - الأردن)
- (١٨٣) تقع محمية أرز الشوف في دولة.....
(الأردن - لبنان - مصر - السعودية)
- (١٨٤) محمية جبل علبة من محميات الوطن العربي التي تقع في دولة.....
(لبنان - الأردن - السودان - مصر)
- (١٨٥) تناقص قدرة الأراضي الزراعية على الإنتاج، تشير هذه العبارة إلى مصطلح.....
(التصحّر - الجفاف - ندرة المياه - التلوث)
- (١٨٦) أكثر الدول العربية التي تعرضت لخطر الجفاف في دولة.....
(المغرب - الصومال - العراق - البحرين)
- (١٨٧) يعاني نحو..... مساحة الوطن العربي من مشكلة التصحر.
(ثلث - ثلثي - ربع - نصف)
- (١٨٨) يعاني نحو ثلثي الوطن العربي من مشكلة.....
(الجفاف - ندرة المياه المعدنية - التصحّر - قلة المراعي الطبيعية)
- (١٨٩) أيًا من التالي يعد أحد أسباب حدوث التصحر؟.....
(غزارة الأمطار - الرعي الجائر - زراعة النباتات - استصلاح الأراضي)
- (١٩٠) مشكلة بيئية تحدث بسبب التوسع المستمر في الزراعة.....
(تملح التربة - التصحر - الجفاف - ندرة المياه العذبة)
- (١٩١) مبادرة زراعة ١٠٠ مليون شجرة مثمرة أطلقتها دولة.....
(اليمن - سوريا - لبنان - مصر)
- (١٩٢) تم الإعلان عن إنشاء مدينة نيوم الخضراء بدولة.....
(المغرب - مصر - السعودية - الجزائر)
- (١٩٣) سيدنا أبو بكر الصديق رضي الله عنه كان اسمه.....
(عبد الله بن عثمان - عبد الله بن عمر - عبد الله بن عبد المطلب - عبد الله بن الزبير)

(١٩٤) أشار على أبي بكر بجمع القرآن الكريم.

(عثمان بن عفان - عبد الله بن عمر - عمر بن الخطاب - أبو عبيدة بن الجراح)

(١٩٥) قام عمر بن الخطاب بإنشاء

(الدواوين - الأسطول - الجيش - المكتبات)

(١٩٦) أول من أسلم من الرجال هو

(بلال بن رباح - عثمان بن عفان - أبو بكر الصديق - طلحة بن عبيد الله)

(١٩٧) من بعد اختراق خصوصية العميل وسرقة البيانات في التجارة الإلكترونية من

(إيجابياتها - سلبياتها - أهمياتها - أسبابها)

(١٩٨) تتسم بالضعف بسبب التشابه بين السلع والخدمات وعدم تنوع الصادرات

توضح الجملة التجارة (العالمية - البيئية العربية - الإلكترونية - الخارجية)



اكتب ما تشير إليه العبارة:

- (١) أحد المقومات البشرية تستخدم في نقل المنتجات الزراعية إلى مناطق الاستهلاك.
(وسائل النقل)
- (٢) أحد المقومات البشرية اللازمة لإقامة المشروعات الزراعية وشراء الآلات الزراعية.
(رأس المال)
- (٣) معدن ينتج منه الوطن العربي ٣٪ من جملة الإنتاج العالمي ويدخل في صناعة الحلي.
(الذهب)
- (٤) سياحة يتم فيها زيارة المحميات الطبيعية والمناطق الصحراوية في الوطن العربي.
(السياحة البيئية)
- (٥) الصادرات والواردات بين دول الوطن العربي وباقي دول العالم.
(التجارة الدولية الخارجية)
- (٦) توجد حول مجاري الأنهار وهي من المقومات الطبيعية لقيام الزراعة. (التربة الخصبة)
- (٧) واحة مصرية تُعد موقعًا للتراث الزراعي العالمي. (سيوة)
- (٨) معدن يستخدم في الصناعات الثقيلة والمنشآت والكباري. (الحديد)
- (٩) صناعة تعتمد على الاستثمار الأمثل للموارد المتجددة. (الصناعة الخضراء)
- (١٠) معدن ينتج الوطن العربي ربع الإنتاج العالمي منه. (البترو)
- (١١) يطلق عليها الطاقة النظيفة. (مصادر الطاقة المتجددة)
- (١٢) مجموعة من المقومات تساعد على قيام الصناعة منها المواد الخام. (مقومات طبيعية)
- (١٣) سياحة تشمل زيارة المواقع الأثرية والتراثية. (السياحة الثقافية)
- (١٤) سياحة تتمثل في زيارة الأماكن المقدسة. (السياحة الدينية)
- (١٥) سياحة تتمثل في زيارة الشواطئ والرحلات النيلية. (سياحة ترفيهية)
- (١٦) سياحة تتمثل في زيارة بعض الأماكن بهدف الاستشفاء والعلاج. (سياحة علاجية)
- (١٧) سياحة يتم فيها زيارة العيون الكبريتية. (سياحة علاجية)
- (١٨) تبادل السلع والخدمات باستخدام شبكة المعلومات الدولية. (التجارة الإلكترونية)

- (١٩) سياحة يتم فيها زيارة المحميات الطبيعية والمناطق الصحراوية في الوطن العربي.
(السياحة البيئية)
- (٢٠) الصادرات والواردات بين دول الوطن العربي وباقي دول العالم.
(التجارة الدولية الخارجية)
- (٢١) الصادرات والواردات من سلع وخدمات بين الدول العربية.
(التجارة البينية العربية)
- (٢٢) جبال نشأت نتيجة حدوث التواء في القشرة الأرضية. (الجبال الالتوائية)
- (٢٣) جبال نشأت نتيجة لحركات باطنية تعرضت لها الأرض. (الجبال الالتوائية)
- (٢٤) كئبان رملية تكونت بفعل التعرية الهوائية وتمتد بين مصر وليبيا. (بحر الرمال العظيم)
- (٢٥) سهول كونتها الأنهار نتيجة ترسب المواد العالقة بمياهها. (السهول الفيضية)
- (٢٦) منطقة جغرافية ذات خصائص مناخية تميزها عن غيرها. (الإقليم المناخي)
- (٢٧) إقليم مناخي تنمو فيه حشائش الإستبس وتربى عليه الماعز. (البحر المتوسط)
- (٢٨) إقليم مناخي يقع على الأطراف الشمالية للوطن العربي. (إقليم البحر المتوسط)
- (٢٩) إقليم مناخي يتميز بشتاء معتدل جاف وصيف حار ممطر. (الإقليم المداري)
- (٣٠) إقليم يقع في جنوب الوطن العربي. (الإقليم المداري)
- (٣١) إقليم مناخي يشغل معظم مساحة الوطن العربي. (الصحراوي الحار)
- (٣٢) نقص كمية الأمطار في بعض السنوات بما لا يسمح بالزراعة أو نمو الحشائش (الجفاف)
- (٣٣) مشكلة بيئية تحدث نتيجة لزيادة استهلاك المياه. (ندرة المياه العذبة)
- (٣٤) تناقص قدرة الأراضي الزراعية على الإنتاج. (التصحّر)
- (٣٥) مجموعة من الدول العربية التي يجمعها تاريخ ولغة وثقافة مشتركة. (الوطن العربي)
- (٣٦) الموقع بالنسبة لليابس والماء. (الموقع الجغرافي)
- (٣٧) نظام يتكون من قبائل متفرقة لكل قبيلة شيخ يحكمها. (النظام القبلي)
- (٣٨) مكان كان يتعبد فيه الرسول (ﷺ) ويتأمل في قدرة الله. (غار حراء)
- (٣٩) نظام الحكم في شبه الجزيرة العربية قبل الإسلام. (النظام القبلي)

- (٤٠) نزل على الرسول (ﷺ) برسالة الإسلام.
- (٤١) الذين هاجروا من مكة إلى المدينة.
- (٤٢) سكان المدينة الذين نصرُوا الرسول (ﷺ) في دعوته.
- (٤٣) أشار على النبي (ﷺ) بحفر خندق حول المدينة.
- (٤٤) هم الذين رفضوا دفع الزكاة، وادعى بعضهم النبوة.
- (٤٥) مقر الخلافة في أثناء حكم علي بن أبي طالب (رضي الله عنه).
- (٤٦) نظام أنشئ في عهد علي بن أبي طالب (رضي الله عنه) للحفاظ على الأمن العام.
- (نظام الشرطة)
- (٤٧) مكان أمر الرسول (ﷺ) أصحابه بالهجرة إليه لوجود حاكم عادل فيه.
- (الحبشة)
- (٤٨) وثيقة وضعها الرسول (ﷺ) لتنظيم العلاقة بين المسلمين واليهود.
- (صحيفة المدينة)
- (٤٩) نظام أنشأه الخليفة عمر بن الخطاب (رضي الله عنه) لإدارة بيت المال والجنود.
- (الدواوين)

- (١) لموقع الوطن العربي أهمية اقتصادية كبيرة؟
- ◀ يشرف على مسطحات مائية مهمة مثل: البحر الأحمر - البحر المتوسط - الخليج العربي.
- ◀ يتحكم في ممرات مائية هامة وهي (مضيق جبل طارق - باب المندب - مضيق هرمز - قناة السويس)
- (٢) طمع الكثير من الدول للسيطرة على ثروات الوطن العربي على مر العصور؟
- ◀ بسبب تمتع الوطن العربي بموقع جغرافي مميز.
- (٣) الأهمية الدينية لموقع وطننا العربي؟
- ◀ موطن الديانات السماوية (اليهودية - المسيحية - الإسلام).
- ◀ يضم أماكن مقدسة ذات أهمية كبيرة مثل: (الكعبة المشرفة في السعودية، كنيسة القيامة في فلسطين، الأزهر الشريف في مصر).
- (٤) قيام أبي بكر الصديق (رضي الله عنه) بمحاربة المرتدين؟
- ◀ لأنهم امتنعوا عن دفع الزكاة.
- ◀ ادعى بعضهم النبوة أمثال (مسيلمة الكذاب).
- (٥) أمر أبو بكر الصديق (رضي الله عنه) زيداً بن ثابت (رضي الله عنهما) بجمع القرآن الكريم؟
- ◀ بسبب استشهاد عدد كبير من حفظة القرآن في حروب المرتدين.
- (٦) أرسل أبو بكر الصديق (رضي الله عنه) الجيوش الإسلامية خارج شبه الجزيرة العربية؟
- ◀ لنشر الإسلام.
- ◀ لتأمين حدود الدولة الإسلامية.
- (٧) أمر عثمان بن عفان (رضي الله عنه) بكتابة القرآن الكريم في مصحف واحد؟
- ◀ حتى تتوحد قراءة القرآن.
- (٨) إنشاء عثمان بن عفان (رضي الله عنه) لأول أسطول بحري في الإسلام؟
- ◀ لتأمين سواحل مصر والشام من هجمات الروم.
- (٩) قيام عثمان بن عفان (رضي الله عنه) بالعديد من الفتوحات الإسلامية؟
- ◀ لتأمين حدود الدولة الإسلامية.
- (١٠) نقل علي بن أبي طالب (رضي الله عنه) مقر الخلافة في المدينة إلى الكوفة في العراق؟
- ◀ ليسهل الانتقال بين أرجاء الدولة الإسلامية خاصة بعد اتساعها.
- (١١) قام علي بن أبي طالب (رضي الله عنه) بتنظيم الشرطة؟
- ◀ للحفاظ على أمن وسلامة المواطنين.
- ◀ ولحراسة بيت المال.

- (١٢) يتمتع الوطن العربي بأهمية حضارية وثقافية كبيرة؟
- ◀ قامت على أرضه أقدم الحضارات مثل: حضارة بلاد العراق - حضارة مصر القديمة.
- (١٣) تحكم الوطن العربي في أهم طرق التجارة العالمية؟
- ◀ لأنه يشرف على ممرات مائية هامة هي (مضيق جبل طارق - مضيق باب المندب - مضيق هرمز - قناة السويس).
- (١٤) اختفاء العادات السيئة عند العرب؟
- ◀ بسبب بدء الرسول (ﷺ) في الدعوة إلى الدين الإسلامي وقيمه وتعاليمه السمحة.
- (١٥) سمي عام ولادة الرسول (ﷺ) بعام الفيل؟
- ◀ لأنه العام الذي حاول فيه أبرهة الحبشي هدم الكعبة بجيش كبير لكن الله حفظها.
- (١٦) عمل الرسول (ﷺ) بحرفة رعي الأغنام وهو في بيت عمه؟
- ◀ لأنه لم يرغب أن يكون عبداً على عمه.
- (١٧) كان الرسول (ﷺ) يخلو بنفسه في غار حراء؟
- ◀ ليفكر ويتأمل في الكون وقدرة الله سبحانه وتعالى.
- (١٨) بدأت الدعوة إلى الإسلام سرّاً؟
- ◀ لتجنب أذى قريش للرسول (ﷺ) والمسلمين.
- (١٩) حاربت قريش دعوة الرسول (ﷺ)؟
- ◀ خوفاً على مكانتها بين القبائل.
- (٢٠) أمر الرسول (ﷺ) المسلمين بالهجرة إلى الحبشة؟
- ◀ لأن فيها ملكاً عادلاً يلقب بالنجاشي.
- ◀ لشدة أذى قريش للمشركين.
- (٢١) فكر الرسول (ﷺ) في الهجرة إلى المدينة؟
- ◀ بسبب تزايد أذى قريش للمسلمين.
- (٢٢) شهرة مكة تجارياً؟
- ◀ بسبب قيامها برحلات تجارية، رحلة الشتاء إلى اليمن ورحلة الصيف إلى الشام.
- (٢٣) مؤامرة قريش ضد الرسول (ﷺ)؟
- ◀ لأنها أدركت خطورة تجمع المسلمين على مصالحها، فحاولت منع الرسول (ﷺ) من الهجرة.

(٢٤) فشلت قريش في منع الرسول (ﷺ) من الهجرة؟

نجح الرسول (ﷺ) في الهجرة من مكة إلى يثرب؟

◀ بسبب التخطيط للهجرة بشكل جيد.

◀ السرية التامة حيث هاجر ليلاً مع صديقه أبي بكر (رضي الله عنه).

◀ اختار الرسول (ﷺ) طرقاً غير معروفة حتى وصلا إلى يثرب.

(٢٥) قام الرسول (ﷺ) ببناء المسجد في المدينة؟

◀ لأنه مقر للحكم وإدارة شؤون الدولة الداخلية والخارجية.

◀ مركز للعبادة وتعليم أصول الدين.

(٢٦) عمل الرسول (ﷺ) على المؤاخاة بين المهاجرين والأنصار؟

◀ لإقامة مجتمع متماسك تسوده المحبة والتعاون والإيثار.

(٢٧) وضع الرسول (ﷺ) صحيفة المدينة؟

◀ لتنظيم شؤون المسلمين فيما بينهم.

◀ تنظيم علاقة المسلمين بالطوائف الأخرى الموجودة في المدينة خاصة اليهود.

(٢٨) قيام الرسول (ﷺ) بالغزوات؟

◀ لحماية الدين الإسلامي.

◀ الدفاع عن النفس ضد المشركين.

(٢٩) تحول نصر المسلمين إلى هزيمة في غزوة أحد؟

◀ بسبب مخالفة الرماة أوامر النبي (ﷺ) وترك مواقعهم فوق جبل أحد لجمع الغنائم.

(٣٠) قيام صلح الحديبية؟

◀ بسبب منع قريش الرسول (ﷺ) وبعض الصحابة من دخول مكة لأداء فريضة العمرة.

(٣١) قيام الرسول (ﷺ) بفتح مكة؟

◀ بسبب نقض قريش الهدنة واعتدائها على قبيلة بني خزاعة حليفة المسلمين.

(٣٢) بدأ الناس يأتون أفواجا إلى الرسول (ﷺ) بعد فتح مكة؟

◀ لأن الرسول (ﷺ) قدم مثالا عظيما في التسامح وعفا عن أهل مكة وأعطاهم

الأمان رغم إيذائهم له ولأصحابه.

(٣٣) فشل جيش المشركين في دخول المدينة خلال غزوة الخندق؟

◀ بسبب حفر المسلمين لخندق حول المدينة منعهم من دخولها.

- (٣٤) اعتبر النبي (ﷺ) صلح الحديبية فتحًا للمسلمين؟
- ◀ لأن هذا الاتفاق مكن الرسول (ﷺ) من نشر دعوته خارج الجزيرة العربية.
 - (٣٥) وقع الاختيار على أبي بكر الصديق (رضي الله عنه) ليكون أول خليفة للمسلمين؟
 - ◀ لأنه أول من أسلم من الرجال.
 - ◀ شارك الرسول (ﷺ) في جميع غزواته.
 - ◀ جعله الرسول (ﷺ) إمامًا للمسلمين في الصلاة في أثناء مرضه.
 - (٣٦) قام أبو بكر الصديق (رضي الله عنه) بإرسال جيش أسامة بن زيد (رضي الله عنهما) الذي جهزه الرسول (ﷺ) إلى الشام؟
 - ◀ لمحاربة الروم.
 - ◀ تأمين حدود الدولة الإسلامية.

ما النتائج المترتبة على:

- (١) تمتع الوطن العربي بالموقع الجغرافي متميز؟
- ◀ أصبح وطننا العربي مطعمًا لكثير من الدول للسيطرة على ثرواته على مر العصور.
- (٢) إشراف الوطن العربي على ممرات مائة هامة؟
- ◀ أدى إلى تحكمه في أهم طرق التجارة العالمية على مر العصور.
- (٣) قيام الحضارات القديمة على أرض الوطن العربي؟
- ◀ جعل للوطن العربي أهمية حضارية وثقافية كبيرة على مر العصور.
- (٤) انتشار الإسلام في شبه الجزيرة العربية؟
- ◀ اختفت العادات السيئة في شبه الجزيرة العربية وانتشرت بينهم القيم والأخلاق الحميدة وتغيرت حياة سكان شبه الجزيرة العربية إلى الأفضل.
- (٥) لجأ الرسول (ﷺ) إلى نشر دعوته بين القبائل العربية التي تفد إلى مكة في موسم الحج؟
- ◀ استجابت له وفود من أهل (يثرب) ودخلوا في الإسلام.
- ◀ فكر الرسول (ﷺ) في الهجرة إلى (يثرب) بسبب تزايد أذى قريش للمسلمين.
- (٦) جهر الرسول (ﷺ) بالدعوة الإسلامية في مكة؟
- ◀ حاربت قريش دعوة الرسول (ﷺ).
- ◀ قامت بإيذاء الرسول (ﷺ) والمسلمين.
- ◀ لجأت إلى التفاوض مع الرسول (ﷺ) وعرضوا عليه المال والسلطة مقابل ترك الدين.
- ◀ قاموا بمقاطعة وحصار المسلمين.
- (٧) وجود حاكم عادل في الحبشة؟
- ◀ إيذاء قريش للمسلمين في بداية الدعوة؟
- ◀ أمر الرسول (ﷺ) أصحابه بالهجرة إلى الحبشة.
- (٨) مؤامرة قريش ضد الرسول (ﷺ)؟
- ◀ فشلت قريش في قتل الرسول (ﷺ) ونجح الرسول (ﷺ) في الهجرة إلى يثرب.
- (٩) فتح الرسول (ﷺ) لمكة؟
- ◀ حطم الرسول (ﷺ) الأصنام حول الكعبة وطاف بها.
- ◀ عفا الرسول (ﷺ) عن أهل مكة ودخل العديد منهم في دين الله أفواجًا.

- (١٠) هجرة الرسول (ﷺ) من مكة إلى المدينة؟
 ◀ وضع النبي أسس بناء دولة إسلامية موحدة قائمة على النظام والعدل.
- (١١) مؤاخاة الرسول (ﷺ) للمهاجرين والأنصار؟
 ◀ انتشرت المحبة والأخوة والتعاون والإيثار بين المسلمين.
- (١٢) صلح الحديبية بين قريش والمسلمين؟
 ◀ مكن هذا الصلح الرسول (ﷺ) من نشر دعوته خارج شبه الجزيرة العربية.
- (١٣) عفو الرسول (ﷺ) عن أهل مكة؟
 ◀ دخل كثير من أهل مكة في الإسلام.
- (١٤) إشارة سلمان الفارسي (رضي الله عنه) بحفر خندق حول المدينة؟
 ◀ جعل هذا الخندق من المستحيل على جيش قريش الدخول إلى المدينة، وانتصر المسلمون على المشركين في الغزوة دون قتال.
- (١٥) نقض قريش عهدها مع الرسول (ﷺ)؟
 نقض قريش لصلح الحديبية؟
 اعتداء قبيلة قريش على قبيلة خزاعة؟
 ◀ خرج الرسول (ﷺ) بجيش كبير لفتح مكة.
- (١٦) محاربة أبي بكر الصديق (رضي الله عنه) للمرتدين؟
 ◀ استشهاد عدد كبير من حفظة القرآن الكريم في حرب المرتدين.
- (١٧) استشهاد عدد كبير من حفظة القرآن الكريم في حرب المرتدين؟
 ◀ أمر الخليفة أبو بكر الصديق (رضي الله عنه) زيدًا بن ثابت (رضي الله عنهما) بجمع القرآن الكريم.
- (١٨) رفض البعض دفع الزكاة بعد وفاة الرسول (ﷺ)؟
 ◀ أرسل أبو بكر الصديق (رضي الله عنه) عدة جيوش لمحاربة المرتدين حتى عادوا إلى الإسلام مرة أخرى.
- (١٩) اتساع أرجاء الدولة الإسلامية في عهد الخليفة علي بن أبي طالب (رضي الله عنه)؟
 ◀ قرر علي بن أبي طالب (رضي الله عنه) نقل الخلافة من المدينة إلى الكوفة حتى يسهل عليه الانتقال بين أرجاء الدولة الإسلامية.
- (٢٠) إنشاء أول أسطول بحري في الإسلام؟
 ◀ تأمين سواحل مصر والشام من هجمات الروم.
- (٢١) مخالفة الرماة أوامر الرسول (ﷺ) في غزوة أحد؟
 ◀ تحول نصر المسلمين إلى هزيمة.

دل على صحة العبارات الآتية:

٨

- (١) أغلب مساحة وطننا العربي تقع في الجناح الإفريقي.
اتساع وطننا العربي في قارة إفريقيا عن قارة آسيا.
- ◀ حيث أن مساحة الوطن العربي تشغل ٧٢ % من قارة إفريقيا، بينما تشغل ٢٨ % فقط من قارة آسيا.
- (٢) يتحكم الوطن العربي في مسطحات وممرات مائة هامة.
◀ يتحكم الوطن العربي في مسطحات مائة مثل: (البحر الأحمر - البحر المتوسط - الخليج العربي).
◀ يتحكم في ممرات مائة هامة وهي: (مضيق هرمز - مضيق باب المندب - مضيق جبل طارق - قناة السويس).
- (٣) ساد النظام القبلي في شبه الجزيرة العربية.
◀ حيث إنه كان لكل قبيلة شيخ يحكمها.
◀ كانت قبيلة قريش من أشهر القبائل العربية.
(٤) كانت لمكة شهرة تجارية واسعة.
- ◀ حيث إنها كانت تقوم برحلتين تجاريتين رحلة الشتاء إلى اليمن، ورحلة الصيف إلى الشام.
(٥) تعددت عادات وصفات العرب قبل ظهور الإسلام.
◀ حيث إنه كان هناك بعض العادات الحسنة مثل: (الشجاعة - الكرم - الوفاء بالعهد) وعادات سيئة مثل: (وأد البنات - الأخذ بالثأر - شرب الخمر).
- (٦) تحمل الرسول (ﷺ) المسؤولية منذ صغره.
◀ حيث إنه خرج للعمل برعي الأغنام حتى لا يكون عبئاً على عمه.
(٧) تعددت مراحل الدعوة إلى الإسلام.
◀ مرت الدعوة الإسلامية بأربع مراحل:
- (مرحلة الدعوة السرية، مرحلة الدعوة الجهرية) بمكة.
 - (مرحلة بناء الدولة وصد أذى المشركين، ومرحلة الفتح وعالمية الدعوة) بالمدينة.

- (٨) تنوعت أساليب قريش في صد الدعوة إلى الإسلام.
حاربت قريش دعوة الرسول (ﷺ).
- ◀ قامت بإيذاء الرسول (ﷺ) والمسلمين.
- ◀ عرضت على الرسول (ﷺ) المال والسلطة مقابل ترك هذا الدين.
- ◀ قاموا بمقاطعة وحصار المسلمين.
- (٩) واجه الرسول (ﷺ) أذى المشركين بالأساليب السلمية والحكمة.
- ◀ حيث حث الرسول (ﷺ) المسلمين على الصبر والتحمل وأمر أصحابه بالهجرة إلى الحبشة تجنبًا لأذى قريش.
- (١٠) تأمرت قريش على الرسول (ﷺ).
- ◀ اجتمع زعماء قريش في دار الندوة وتآمروا على قتله.
- (١١) تعددت أدوار المسجد في الإسلام.
- ◀ كان المسجد مقرًا للحكم وإدارة شؤون الدولة الداخلية والخارجية.
- ◀ مركزًا للعبادة وتعليم أصول الدين.
- (١٢) كان للمؤاخاة بين المهاجرين والأنصار دور واضح في بناء الدولة الإسلامية.
- ◀ حيث إنها كانت سببًا في بناء مجتمع متماسك يسوده المحبة والتعاون والإيثار.
- (١٣) حاول الرسول (ﷺ) تنظيم علاقة المسلمين بمن حولهم في المدينة.
- ◀ وضع الرسول (ﷺ) صحيفة المدينة لتنظيم علاقة المسلمين بالطوائف الأخرى وخاصة اليهود.
- (١٤) كان صلح الحديبية فتحًا عظيمًا بالنسبة للمسلمين.
- ◀ مكن هذا الاتفاق الرسول (ﷺ) من نشر دعوته خارج الجزيرة العربية، فبدأ في إرسال الرسائل إلى الملوك والحكام يدعوهم إلى الإسلام.
- (١٥) تعتبر هجرة الرسول (ﷺ) إلى يثرب نقطة تحول في التاريخ الإسلامي.
- ◀ حيث وضع الرسول (ﷺ) أسسًا لبناء دولة موحدة قائمة على العدل والنظام فقام بـ (بناء المسجد - المؤاخاة - صحيفة المدينة).
- (١٦) اهتم علي بن أبي طالب (رضي الله عنه) بتأمين بيت المال.
- ◀ قام بتنظيم الشرطة لحراسة بيت المال.

- (١٧) سبقت صحيفة المدينة جمعيات حقوق الإنسان في العصر الحديث كنموذج للتعايش مع الآخر.
 نجح الرسول (ﷺ) في تنظيم العلاقات بين أهل المدينة.
 ◀ وضع الرسول (ﷺ) وثيقة عرفت باسم (صحيفة المدينة).
 • لتنظيم شئون المسلمين فيما بينهم.
 • لتنظيم علاقاتهم بالطوائف الأخرى الموجودة خاصة اليهود.
 ◀ تحديد ما ليهم من حقوق وما عليهم من واجبات تجاه الدولة.
 (١٨) عدم طاعة الرسول (ﷺ) من أسباب الهزيمة.
 ◀ حيث إن تحول النصر إلى هزيمة في غزوة أحد كان بسبب مخالفة الرماة أوامر الرسول (ﷺ) وترك مواقعهم فوق جبل أحد ونزولهم لجمع الغنائم.
 (١٩) أظهر أبو بكر الصديق (رضي الله عنه) قدرة فائقة على إدارة شئون البلاد.
 ◀ حيث أنه حارب المرتدين وأعاد وحدة الدولة الإسلامية.
 ◀ استكمل حركة الفتوحات الإسلامية التي بدأها الرسول (ﷺ)، وقام بتأمين حدود الدولة الإسلامية.
 (٢٠) حرص علي بن أبي طالب (رضي الله عنه) على تطبيق العدل.
 ◀ حيث إنه خصص يوماً للنظر في مظالم الناس.
 (٢١) تعددت الفتوحات الإسلامية في عهد الخليفة عمر بن الخطاب (رضي الله عنه).
 ◀ قام عمر بن الخطاب (رضي الله عنه) بفتح كل من: بلاد العراق وفارس والشام ومصر.



- (١) ما العلاقة بين الوطن العربي والعالم القديم؟
◀ يعتبر الوطن العربي جزءاً من قارات العالم القديم فتمتد أراضي الوطن العربي في قارتي (آسيا - إفريقيا).
- (٢) ما العلاقة بين سرية الدعوة وقريش؟
◀ بدأت الدعوة إلى الإسلام سرّاً تجنباً لأذى قريش.
- (٣) ما العلاقة بين إيذاء قريش للمسلمين والهجرة إلى يثرب؟
◀ قرر الرسول (ﷺ) والمسلمون الهجرة إلى يثرب بسبب شدة إيذاء قريش للمسلمين.
- (٤) ما العلاقة بين عدالة النجاشي وهجرة المسلمين الأولى إلى الحبشة؟
◀ أمر الرسول (ﷺ) المسلمين بالهجرة إلى الحبشة لأن بها ملكاً عادلاً يلقب بالنجاشي.
- (٥) ما العلاقة بين موقف قريش من الدعوة الإسلامية وهجرة المسلمين إلى الحبشة؟
◀ رفضت قريش دعوة الرسول (ﷺ) وقاموا بإيذاء الرسول (ﷺ) والمسلمين فأمر الرسول (ﷺ) المسلمين بالهجرة إلى الحبشة.
- (٦) ما العلاقة بين قبيلة خزاعة وفتح مكة؟
◀ نقضت قريش عهدها مع الرسول (ﷺ) واعتدت على قبيلة خزاعة فقرر الرسول فتح مكة.
- (٧) ما العلاقة بين مرحلة عالمية الدعوة وصلاح الحديبية؟
◀ مكن صلح الحديبية الرسول (ﷺ) من نشر دعوة الإسلام عالمياً.
- (٨) ما العلاقة بين مفاوضات النبي (ﷺ) مع قريش وانتشار الإسلام؟
◀ انتهت مفاوضات النبي (ﷺ) مع قريش بصلح الحديبية الذي مكنه من نشر الإسلام عالمياً.
- (٩) ما العلاقة بين وفاة كل من الرسول (ﷺ) وعلي بن أبي طالب (رضي الله عنه) وعصر الخلفاء الراشدين؟
◀ بوفاة الرسول (ﷺ) بدأ عصر الخلفاء الراشدين وانتهى بوفاة علي بن أبي طالب (رضي الله عنه).
- (١٠) ما العلاقة بين تنظيم الشرطة وبيت المال؟
◀ قام علي بن أبي طالب (رضي الله عنه) بتنظيم الشرطة لحراسة بيت المال.
- (١١) ما العلاقة بين الأسطول البحري وتأمين حدود الدولة الإسلامية؟
◀ قام عثمان بن عفان (رضي الله عنه) بإنشاء أول أسطول بحري لتأمين سواحل مصر والشام من هجمات الروم.

(١٢) اكتب تفسيرًا لقيام الزراعة في مصر والسودان.

Ⓒ بسبب وجود موارد المياه العذبة المتمثلة في الأنهار ووجود التربة الخصبة.

(١٣) اكتب تفسيرًا لقيام الزراعة في الواحات.

Ⓒ بسبب وفره المياه الجوفية العذبة (الآبار والعيون).

(١٤) وضح سبب وجود زراعة في جنوب موريتانيا.

اكتب تفسيرًا لقيام الزراعة في الأجزاء الشمالية للوطن العربي.

Ⓒ بسبب وجود مياه الأمطار.

(١٥) ما النتائج المترتبة على: سقوط أمطار شمال الوطن العربي؟

Ⓒ أدى إلى قيام الزراعة في الأجزاء الشمالية في وطننا العربي.

(١٦) اكتب تفسيرًا لأهمية رأس المال للنشاط الزراعي.

Ⓒ يستخدم في إقامة المشروعات الزراعية وشراء الآلات الزراعية والبذور والأسمدة.

(١٧) اكتب تفسيرًا لأهمية وسائل النقل في الزراعة.

Ⓒ لنقل ما تحتاجه الزراعة من مواد مختلفة ونقل المنتجات الزراعية إلى مناطق الاستهلاك.

(١٨) اكتب تفسيرًا لأهمية الزراعة في الوطن العربي.

Ⓒ توفر المنتجات الغذائية للسكان وكذلك للحيوانات وتوفر فرص العمل لسكان وطننا

العربي وتوفر المواد الخام اللازمة للصناعة ومصدر دخل قومي لبعض الدول العربية.

(١٩) دلل: تواجه الزراعة في الوطن العربي العديد من المشكلات.

اكتب تفسيرًا ل: تتعرض الزراعة في وطننا العربي لكثير من المشكلات.

Ⓒ بسبب ندره المياه العذبة وتذبذب كمية الأمطار والتصحر وزحف الرمال والجفاف.

(٢٠) دلل: قامت الكثير من الدول العربية بجهود عديدة لمواجهة المشكلات الزراعية.

Ⓒ إنشاء السدود والخزانات وتحلية مياه البحر ومعالجة مياه الصرف الصحي

واستصلاح الأراضي الزراعية.

(٢١) اکتت تفسيرًا للشهرة التي اكتسبتها واحات سيوة والعين وليوا.

⊖ حيث تشتهر تلك الواحات بزراعة أنواع مميزة من النخيل ووجود مناظر طبيعية خلابة.

(٢٢) ما النتائج المترتبة على: تنوع المناخ في الوطن العربي؟

⊖ أدى إلى تنوع المحاصيل الزراعية في الوطن العربي.

(٢٣) بم تفسر: تنوع المحاصيل الزراعية في الوطن العربي؟

⊖ بسبب تنوع المناخ في الوطن العربي.

(٢٤) اكتب تفسيرًا لتركز تربية الجاموس في مصر.

بم تفسر؟ تعد مصر أولى الدول العربية في تربية الجاموس.

⊖ لوجود البيئة الزراعية الفيضية المناسبة للتربية.

(٢٥) فسر: أهمية الثروة الحيوانية بالنسبة للوطن العربي.

⊖ توفر الثروة الحيوانية البروتين الحيواني والمواد الخام الحيوانية اللازمة للصناعة

كالجلود والألبان واللحوم وتستخدم بعض الحيوانات في الريف في أعمال الحقل كالنقل.

(٢٦) دلل على صحة العبارة: تعاني الثروة الحيوانية في الوطن العربي من مشكلات عديدة.

⊖ التغيرات المناخية وفقر المراعي والرعي الجائر للحيوانات واتباع أساليب الرعي

التقليدية وقلة الأعلاف.

(٢٧) ما العلاقة بين: التغيرات المناخية والثروة الحيوانية؟

⊖ تؤثر التغيرات المناخية وما يصاحبها من قلة الأمطار وانتشار الجفاف والتصحر

تأثيرًا سلبيًا على أعداد الحيوانات.

(٢٨) وضح / حدد جهود الدول العربية لتنمية الثروة الحيوانية.

⊖ تطوير المراعي الطبيعية والاعتماد على الأساليب الحديثة في تربية

الحيوانات وتوفير الرعاية البيطرية والأعلاف وزيادة أعداد الحيوانات ذات

الإنتاجية المرتفعة من اللحوم والألبان.

(٢٩) اكتب ثلاثة من أنواع الدواجن التي تربي في الوطن العربي.

ج ١- الدجاج. ٢- البط. ٣- الإوز. ٤- الحمام.

(٣٠) اكتب تفسيرًا لاهتمام الدول العربية بتربية الدواجن.

ج لسد العجز من اللحوم الحمراء.

(٣١) اكتب تفسيرًا: لأهمية الثروة السمكية بالوطن العربي.

ج لسد العجز من البروتين الحيواني.

(٣٢) اكتب تفسيرًا تعد المغرب أولى الدول العربية في إنتاج الأسماك.

دل: امتلاك المغرب سواحل طويلة بالنسبة لثروة السمكية.

ج نظرًا لطول سواحلها على البحر المتوسط والمحيط الأطلسي.

(٣٣) ما النتائج المترتبة على: طول سواحل دولة المغرب؟

ج أصبحت المغرب أولى الدول العربية في إنتاج الأسماك من المصايد السمكية.

(٣٤) ما العلاقة بين: التغير المناخي والثروة السمكية؟

ج تؤثر التغيرات المناخية على الثروة السمكية والذي ينتج عنه ارتفاع درجات

الحرارة للمسطحات المائية ونقص الأكسجين فيها وبالتالي موت كثير من

الكائنات البحرية.

(٣٥) ما النتائج المترتبة على: ارتفاع درجة حرارة المسطحات المائية في الوطن العربي؟

ج موت كثير من أنواع الكائنات البحرية.

(٣٦) حدد: جهود دول وطننا العربي لتنمية الثروة السمكية.

ج توفير وسائل ومعدات الصيد الحديثة وتدريب الصيادين على استخدامها

وتفعيل القوانين الخاصة بالصيد والتوسع في مشروعات الاستزراع السمكي.

(٣٧) ماذا كان سيحدث إذا لم تهتم الدول العربية بتنمية الثروة الحيوانية والسمكية؟

ج لن يحدث اكتفاء لسكان الوطن العربي من البروتين الحيواني والأسماك.

(٣٨) ما المقصود بالصناعة الاستخراجية؟

Ⓒ هي استخراج المعادن ومصادر الطاقة.

(٣٩) ما المقصود بالصناعة التحويلية؟

Ⓒ هي تحويل الموا الخام لتصبح منتجات صالحة للاستخدام.

(٤٠) ما المقصود بالصناعة الخضراء؟

Ⓒ هي التي تعتمد على الاستثمار الأمثل للموارد المتجددة والحد من المخلفات

وإعادة التدوير لتقليل من التأثير السلبي للصناعة.

(٤١) دلل على صحة العبارة: يمتلك الوطن العربي ثروات معدنية متنوعة.

Ⓒ حيث يوجد به الذهب وخام الفوسفات والحديد.

(٤٢) اكتب تفسيرًا لأهمية معدن الحديد.

Ⓒ يستخدم في الكثير من الصناعات الثقيلة والمنشآت والكباري.

(٤٣) ما العلاقة بين: خام الفوسفات والزراعة في الوطن العربي؟

اكتب تفسيرًا لأهمية الاقتصادية للفوسفات.

Ⓒ يستخدم خام الفوسفات في صناعة الأسمدة والمبيدات.

(٤٤) حدد المختلف فيما يلي: (الذهب - الحديد - البترول - الفوسفات).

Ⓒ البترول لأنه من مصادر الطاقة وليس من المعادن.

(٤٥) اكتب تفسيرًا لأهمية الصناعة في الوطن العربي.

Ⓒ تسهم بنحو ثلث الدخل القومي للوطن العربي وتوفير فرص عمل حيث يعمل بها

٢٢% من إجمالي القوة العاملة في الوطن العربي.

(٤٦) وضح المشكلات التي تواجه التعدين والصناعة في الوطن العربي.

Ⓒ استيراد الآلات والمعدات من الخارج، بعد مناطق الإنتاج عن مناطق الاستهلاك،

والاعتماد على الصناعات الاستخراجية، نفاذ بعض مصادر الطاقة غير المتجددة

بالوطن العربي كالبترول بالمستقبل.

(٤٧) ددل على صحة العبارة: تبذل الدول العربية جهودًا لتنمية مجالي التعدين والصناعة.

Ⓒ حيث تسهم بالتعليم والبحث العلمي في مجالي التعدين والصناعة وتحديث البنية التحتية زيادة الاعتماد على مصادر الطاقة النظيفة، وإنشاء معدن ومناطق صناعية ذكية، واستخدام التكنولوجيا الحديثة.

(٤٨) اكتب تفسيرًا لـ: تعد مصر وقطر من نماذج الدول العربية الرائدة في التنمية الصناعية.

Ⓒ لأنها تعمل على التوسع في الصناعة الخضراء.

(٤٩) اكتب تفسيرًا لـ: اتجهت الدول العربية إلى الصناعات الخضراء.

Ⓒ للتقليل من التأثير السلبي للصناعة على الصحة والبيئة.

(٥٠) ددل على صحة العبارة: يتمتع الوطن العربي بكافة مقومات السياحة.

Ⓒ لوجود الموقع الجغرافي الفريد وتنوع المناطق السياحية والتراثية ومناخه المعتدل شتاءً، توافر شبكة مواصلات جوية وبرية وبحرية متميزة وتطور الفنادق والقرى السياحية.

(٥١) اكتب تفسيرًا لـ: تعددت مزارات السياحة الدينية في وطننا العربي.

Ⓒ بسبب وجود المسجد الحرام في السعودية والمسجد الأقصى وكنيسة القيامة في

فلسطين ودير سانت كاترين ومسار العائلة المقدسة في مصر. Ⓒ

(٥٢) ما النتائج المترتبة على: وجود العديد من الأماكن المقدسة في وطننا العربي؟

Ⓒ وجود السياحة الدينية.

(٥٣) اكتب تفسيرًا لـ: ازدهار السياحة الثقافية في الوطن العربي.

Ⓒ بسبب وجود المواقع الأثرية والتراثية مثل الأقصر في مصر وبابل في العراق وتدمر في سوريا والقيروان في تونس.

(٥٤) اكتب تفسيرًا لـ: تنتشر سياحة التسوق في بعض الدول العربية.

Ⓒ حيث تنتشر أضخم المراكز التجارية وأحدثها كما في الإمارات والكويت والبحرين.

(٥٥) اكتب تفسيرًا لـ: وجود السياحة الترفيهية في مصر ولبنان والمغرب.

⊖ بسبب قيام السياح بزيارة الشاطئ.

(٥٦) ما النتائج المترتبة على: وجود عيون المياه الكبريتية في مصر؟

⊖ وجود سياحة علاجية.

(٥٧) دلل على صحة العبارة: تنتشر السياحة العلاجية في مصر والأردن .

⊖ بسبب توافر العيون الكبريتية في سيوة وعيون موسى في مصر وعين ماعين في الأردن.

(٥٨) اكتب تفسيرًا لـ: السياحة من أهم الأنشطة الاقتصادية في الوطن العربي.

⊖ لأنها تساعد على التبادل الثقافي وتوفر العملات الأجنبية وفرص عمل في السياحة

والقطاعات ذات الصلة.

(٥٩) دلل على صحة العبارة: تبذل الدول العربية جهودًا لتحقيق السياحة المستدامة.

⊖ حيث تقوم الدول العربية بتطوير البنية التحتية لقطاع السياحة ورفع جودة

الخدمات السياحية للمستوى العالمي، وتأهيل العاملين في السياحة وتكثيف

الحملات الإعلانية للترويج للسياحة العربية.

(٦٠) بم تفسر؟ أهمية دعم السياحة المستدامة في المنطقة العربية.

⊖ لتقليل التأثير السلبي للنشاط السياحي على البيئة.

(٦١) ما النتائج المترتبة على: وجود المحميات الطبيعية والمناطق الصحراوية في الوطن العربي؟

⊖ قيام السياحة البيئية في الوطن العربي.

(٦٢) ما المقصود بـ: التجارة البينية العربية؟

⊖ الصادرات والواردات من السلع والخدمات بين الدولة العربية.

(٦٣) ما المقصود بـ: التجارة الدولية / الخارجية؟

⊖ الصادرات والواردات بين الدول العربية وباقي دول العالم.

(٦٤) ما المقصود بـ: التجارة الإلكترونية؟

⊖ تبادل السلع والخدمات باستخدام شبكة المعلومات الدولية (الإنترنت).

٦٥) ما النتائج المترتبة على حدوث الحركات الالتوائية بالوطن العربي؟

◀ نشأة الجبال الالتوائية مثل: عمان وأطلس وزاجروس.

٦٦) اكتب تفسيرًا لـ: تكوين جبال أطلس وجبال كردستان.

• بم تفسر نشأة الجبال الانكسارية؟

◀ بسبب حركات التوائية باطنية تعرضت لها الأرض.

٦٧) اكتب تفسيرًا لـ: نشأة جبال البحر الأحمر.

◀ بسبب حدوث انكسار في قشرة الأرض.

٦٨) دلل على صحة العبارة: الهضاب أكثر أشكال السطح انتشارًا بالوطن العربي.

• دلل على صحة العبارة: هضبة شمال إفريقيا من أكبر الظواهر التضاريسية مساحة.

◀ حيث هضبة إفريقيا الشمالية تمتد من جبال البحر الأحمر شرقًا إلى المحيط

الأطلنطي غربًا والبحر المتوسط شمالًا إلى وسط إفريقيا جنوبيًا.

٦٩) اكتب تفسيرًا لـ: أهمية الواحات الموجودة بالوطن العربي.

◀ تقوم فيها الزراعة اعتمادًا على المياه الجوفية ويعيش فيها بعض السكان.

٧٠) اكتب تفسيرًا لـ: تكون بحر الرمال العظيم في مصر وليبيا.

• اكتب تفسيرًا لـ: تكون الكثبان الرملية في وطننا العربي.

◀ بسبب التعرية الهوائية.

٧١) قارن بين: الإقليم المداري وإقليم البحر المتوسط من حيث الخصائص.

◀ الإقليم المداري: حار ممطر صيفًا ومعتدل جاف شتاءً.

◀ إقليم البحر المتوسط: حار جاف صيفًا ودافئ ممطر شتاءً.

٧٢) دلل على صحة العبارة: أنفق أبو بكر الكثير من ماله في سبيل خدمة الإسلام.

◀ حيث إنه أولى اهتمامًا بالغًا برعاية الفقراء والمرضى.

٧٣) ما أهم القيم التي تمسك بها أبو بكر الصديق في حياته؟

◀ حسن الخلق، الإحسان في معاملة الآخرين، الامتناع عن شرب الخمر.

٧٤) دلل على صحة العبارة: كان لعمر بن الخطاب الكثير من الأعمال البارزة في التاريخ الإسلامي.

◀ إنشاء الدواوين في الدولة الإسلامية.

◀ أشار على أبي بكر الصديق بجمع القرآن الكريم للمرة الأولى.

(٧٥) ما العلاقة بين التعرية الهوائية و بحر الرمال العظيم؟

◀ التعرية الهوائية كونت بحر الرمال العظيم.

(٧٦) اكتب تفسيرًا لـ: نشأة وتكوين الأودية الجافة.

◀ بسبب التعرية المائية.

(٧٧) دلل على صحة العبارة: التعرية المائية أدت إلى تكوين العديد من أشكال السطح

بالوطن العربي.

◀ حيث أدت لتكوين الأودية الجافة.

(٧٨) اكتب تفسيرًا لـ: تكوين السهول الفيضية في الوطن العربي.

• بم تفسر خصوبة السهول الفيضية.

• ما العلاقة بين السهول الفيضية والتربة الخصبة؟

◀ السهول الفيضية كونتها الأنهار عن طريق ترسب المواد العالقة بالمياه فكونت

تربة تعد من أخصب أنواع الأراضي.

(٧٩) ما النتائج المترتبة على ترسيب المواد العالقة بمياه الأنهار؟

◀ تكوين تربة فيضية تعد من أخصب أنواع الأراضي.

(٨٠) قارن بين سهول البحر المتوسط وسهول البحر الأحمر من حيث ما يميز كلًا منهما.

◀ سهول البحر المتوسط تتميز بأمتارها الشتوية وكثرة السكان وسهولة الانتقال

على طول امتدادها.

◀ سهول البحر الأحمر تتميز بأنها غنية بمصادر الطاقة والثروات المعدنية.

(٨١) دلل على صحة العبارة: السهول الساحلية بالوطن العربي متنوعة الموارد والاستخدامات.

◀ سهول البحر الأحمر والخليج العربي غنية بالثروات المعدنية ومصادر الطاقة.

(٨٢) بم تفسر تنوع الأنشطة الاقتصادية في الوطن العربي؟

◀ بسبب تنوع مظاهر سطح الوطن العربي.

(٨٣) ما العلاقة بين التضاريس والأنشطة الاقتصادية؟

◀ تنوع التضاريس ومظاهر السطح في الوطن العربي أدى إلى تنوع الأنشطة الاقتصادية.

(٨٤) اكتب تفسيرًا لـ: تباين درجات الحرارة بين دول الوطن العربي.

•  دلل على صحة العبارة: تعدد العوامل المؤثرة في مناخ الوطن العربي.

◀ لتأثر مناخ الوطن العربي بعدة عوامل منها: الموقع الفلكي القريب والبعد عن المسطحات المائية ومظاهر السطح.

(٨٥) ما النتائج المترتبة على: الموقع الفلكي للوطن العربي؟

• ما النتائج المترتبة على: مرور دائرة الاستواء بجنوب الوطن العربي؟

◀ أدى ذلك إلى ارتفاع درجات الحرارة في المناطق الجنوبية من الوطن العربي وانخفاض درجة الحرارة كلما اتجهنا شمالاً.

(٨٦) اكتب تفسيرًا لـ: تعرض الوطن العربي لرياح حارة من جنوب آسيا صيفًا.

◀ بسبب امتداد الوطن العربي في قارتي إفريقيا وآسيا واقترابه من أوروبا.

(٨٧) ما النتائج المترتبة على: اقتراب الوطن العربي من قارة أوروبا بالنسبة للمناخ؟

◀ هبوب رياح شديدة البرودة من أوروبا شتاءً.

(٨٨) اكتب تفسيرًا لـ: أهمية المسطحات المائية في الوطن العربي.

• ما العلاقة بين المسطحات المائية والمناخ؟

◀ المسطحات المائية تلطف درجة الحرارة وتزيد من فرصة سقوط الأمطار.

(٨٩) بم تفسر يقل تأثير المسطحات المائية على مناخ الوطن العربي؟

◀ بسبب ضيق مساحتها وعدم توغل تأثيرها إلى الداخل لوجود الصحاري والمرتفعات القريبة من السواحل مثل جبال البحر الأحمر.

(٩٠) ما النتائج المترتبة على ضيق مساحة المسطحات المائية في الوطن العربي؟

◀ يقل تأثيرها على مناخ الوطن العربي بشكل عام.

(٩١) اكتب تفسيرًا لـ: يختلف مناخ المناطق المرتفعة عن مناخ الأودية والسهول.

• اكتب تفسيرًا لـ: انخفاض درجة الحرارة في المناطق المرتفعة بالوطن العربي.

◀ لأنه كلما ارتفعنا ١٥٠ مترًا فوق سطح البحر تنخفض درجة الحرارة درجة مئوية واحدة.

(٩٢)  بم تفسر تكون الثلوج فوق جبال لبنان؟

◀ بسبب انخفاض درجة الحرارة على قمم الجبال.

(٩٣) ما النتائج المترتبة على انخفاض درجة الحرارة على قمم الجبال؟

◀ تكون الثلوج فوق قمم الجبال مثل جبال لبنان.

(٩٤) ما النتائج المترتبة على تعامد الشمس على مدار الجدي في فصل الشتاء بالوطن العربي؟

◀ يؤدي إلى حدوث الشتاء في الوطن العربي واعتدال درجة الحرارة على معظم أنحاء الوطن العربي ولكنها تكون أشد برودة على بعض الأجزاء الشمالية والمناطق الجبلية ويتسم الشتاء بأنه ممطر خاصة في المناطق المطلة على البحر المتوسط.

(٩٥) قارن بين: مناخ الوطن العربي صيفًا وشتاءً من حيث الأمطار.

◀ المطر شتاءً: يتسم الشتاء بأنه ممطر خاصة في المناطق المطلة على البحر المتوسط.

◀ المطر صيفًا: يتسم الصيف بالجفاف باستثناء سقوط أمطار موسمية على

مرتفعات اليمن وعسير ومعظم أنحاء الصومال وجنوب موريتانيا.

(٩٦) اكتب تفسيرًا ل: ارتفاع درجة الحرارة صيفًا على جنوب الوطن العربي.

◀ بسبب مرور دائرة الاستواء جنوب الوطن العربي.

(٩٧) ما العلاقة بين المناخ وحركة الطيران؟

◀ يؤدي سوء الأحوال الجوية أحيانًا إلى تأجيل أو إلغاء الرحلات الجوية.

(٩٨) ما المقصود بالإقليم المناخي؟

◀ منطقة جغرافية من سطح الأرض تتسم بخصائص مناخية تميزها عن غيرها.

(٩٩) اكتب تفسيرًا ل: تنوع الأقاليم المناخية في وطننا العربي.

◀ بسبب مساحة الوطن العربي الكبيرة.

(١٠٠) دلل على صحة العبارة: تنوع الأقاليم المناخية في الوطن العربي.

◀ لوجود ثلاثة أقاليم مناخية هي إقليم البحر المتوسط والمداري والصحراوي.

(١٠١) ما العلاقة بين إقليم المناخ الصحراوي الحار ونبات الصبار.

• بم تفسر انتشار نبات الصبار بالإقليم الصحراوي؟

• دلل على صحة العبارة: تختلف الصور النباتية في الإقليم الصحراوي بالوطن العربي.

◀ ينتشر في الإقليم الصحراوي الحار النباتات التي لها القدرة على تحمل الجفاف

والحرارة مثل الصبار.

(١٠٢) دلل على صحة العبارة: تختلف الصور النباتية في الإقليم الصحراوي بالوطن العربي.
◀ **ينتشر في الإقليم الصحراوي الحار النباتات التي لها القدرة على تحمل الجفاف والحرارة مثل الصبار.**

(١٠٣) اكتب تفسيرًا لـ: سقوط الأمطار صيفًا على جنوب غرب اليمن.
◀ **لأنها في نطاق الإقليم المداري الذي يتميز بشتاء معتدل جاف وصيف حار ممطر.**

(١٠٤) اكتب تفسيرًا لـ: أهمية حشائش الإستبس بالنسبة للثروة الحيوانية.
◀ **يربى عليها الماعز والأغنام.**

(١٠٥) حدد اثنين من الحيوانات التي تعيش في الإقليم الصحراوي الحار.
◀ **ثعلب الصحراء والزواحف.**

(١٠٦) ما النتائج المترتبة على سقوط الأمطار على إقليم البحر المتوسط شتاء؟
◀ **نمو أشجار الأرز والزيتون والسنوبر.**

(١٠٧) ماذا يحدث إذا لم تسقط الأمطار على إقليم البحر المتوسط شتاء.
◀ **لن تنمو أشجار الأرز والزيتون والسنوبر.**

(١٠٨) ما النتائج المترتبة على: يشغل الإقليم الصحراوي الحار معظم مساحة الوطن العربي؟
◀ **ساد المناخ الحار الوطن العربي.**

(١٠٩) قارن بين الإقليم المداري والإقليم الصحراوي الحار من حيث الخصائص.
◀ **المداري: حار ممطر صيفًا، معتدل جاف شتاءً.**

◀ **الصحراوي: حار صيفًا خاصة في النهار، بارد شتاء خاصة في الليل.**

(١١٠) ما النتائج المترتبة على تنوع الأقاليم المناخية في الوطن العربي؟
◀ **أدى إلى تنوع النباتات الطبيعية والحيوانات البرية.**

(١١١) دلل على صحة العبارة: اهتمام دول الوطن العربي بالحفاظ على النبات الطبيعي والحيوانات البرية.

◀ **إنشاء المحميات الطبيعية.**

(١١٢) ماذا يحدث إذا لم: تقم الدول العربية بإقامة المحميات الطبيعية.

◀ **لن يتم الحفاظ على الحياة البرية وتعرض أنواع عديدة للانقراض.**

(١١٣) اكتب تفسيرًا ل: إنشاء دول الوطن العربي المحميات الطبيعية.

• بم تفسر أهمية المحميات الطبيعية؟

◀ الحفاظ على الحياة البرية وتنشيط السياحة وتحقيق التوازن البيئي والحد من التلوث تحقيقًا للتنمية المستدامة.

(١١٤) اكتب واحدة من مشكلات التي تواجه المحميات الطبيعية.

• 📖 دلل على صحة العبارة: تتعرض المحميات الطبيعية إلى العديد من المخاطر.

◀ تتعرض المحميات إلى تهديدات بشرية منها: الرعي الجائر والصيد الجائر والتلوث البيئي.

(١١٥) 📖 اكتب دليلًا واحدًا على تعدد المشكلات البيئية في الوطن العربي.

ما النتائج المترتبة على المشكلات البيئية في الوطن العربي.

◀ يعاني الوطن العربي من الجفاف وندرة المياه العذبة والتصحر وغيرها من المشكلات. (١١٦) ما المقصود بالجفاف؟

• 📖 اكتب تفسيرًا ل: تعرض بعض الدول العربية لمشكلة الجفاف.

◀ بسبب نقص كمية الأمطار في بعض السنوات بما لا يسمح بالزراعة أو نمو الحشائش.

(١١٧) 📖 اكتب نتيجة واحدة ترتبت على تعرض الصومال لأكبر موجة جفاف بالوطن العربي.

◀ أدت إلى نقص الغذاء وحدوث مجاعة لأكثر من مليون شخص.

(١١٨) 📖 اكتب تفسيرًا ل: تعاني معظم الدول العربية من ندرة المياه العذبة.

◀ بسبب تزايد معدل استهلاك المياه.

(١١٩) 📖 ما العلاقة بين السكان وندرة المياه العذبة.

◀ زيادة السكان تزيد من استهلاك المياه مما يؤدي إلى ندرة المياه العذبة.

(١٢٠) ما النتائج المترتبة على: تزايد استهلاك المياه في الوطن العربي.

◀ معاناة معظم الدول العربية من ندرة المياه العذبة.

(١٢١) 📖 ما النتائج المترتبة على النمو السكاني المتزايد في الوطن العربي.

◀ تزايد مشكلة ندرة المياه نتيجة تزايد معدلات استهلاك المياه.

(١٢٢) اكتب تفسيرًا ل: تزايد استهلاك المياه في الوطن العربي.

◀ بسبب النمو السكاني المتزايد والتوسع المستمر في الزراعة.

(٢) ما المقصود بالتصحر؟

◀ تناقص قدرة الأراضي الزراعية على الإنتاج.

(١٢٣) ما النتائج المترتبة على مشكلة التصحر في وطننا العربي؟

•  دليل على صحة العبارة: تعاني الدول العربية من مشكلة التصحر.

◀ حيث إن ثلثي مساحة الوطن العربي تعاني من التصحر وتناقص قدرة الأراضي على الإنتاج.

(١٢٤)  اكتب تفسيرًا ل: تعرض مساحات واسعة من الوطن العربي لخطر التصحر.

• اكتب تفسيرًا ل: تناقص قدرة الأراضي الزراعية على الإنتاج في الوطن العربي.

◀ بسبب الرعي الجائر للحيوانات، وإزالة الغابات وزحف الكثبان الرملية والتوسع العمراني.

(١٢٥)  ما النتائج المترتبة على الرعي الجائر للحيوانات في الوطن العربي؟

◀ حدوث مشكلة التصحر.

(١٢٦) ما النتائج المترتبة على زحف الكثبان الرملية وتناقص المياه الجوفية في وطننا العربي؟

◀ حدوث مشكلة التصحر.

(١٢٧)  ما النتائج المترتبة على المشكلات البيئية في الوطن العربي.

•  اكتب دليلًا واحدًا على المشكلات البيئية تمثل خطورة على الوطن العربي.

◀ تهديد صحة المواطن العربي وحياته.

◀ إعاقة تنفيذ الخطط التنموية بالدول العربية.

◀ تدمير الحياة النباتية والحيوانية.

(١٢٨) بم تفسر تدمير الحياة النباتية والحيوانية في كثير من مناطق الوطن العربي؟

•  ما العلاقة بين المشكلات البيئية والحياة النباتية والحيوانية؟

◀ المشكلات البيئية تؤدي إلى تدمير الحياة النباتية والحيوانية بالوطن العربي.

(١٢٩) ما العلاقة بين الطاقة النظيفة والمشكلات البيئية؟

◀ الطاقة النظيفة تعمل على تقليل المشكلات البيئية.

(١٣٠) اكتب تفسيرًا ل: اتجاه الدول العربية لإنشاء المدن الذكية.

◀ لتقليل انبعاثات الغازات الدفيئة.

(١٣١) ما النتائج المترتبة على زيادة المساحات الخضراء في الدول العربية.

◀ حل المشكلات البيئية التي تعاني منها الدول العربية.

(١٣٢) اكتب دليل واحد على أهم المبادرات التي أطلقتها الدول العربية لزيادة المساحات الخضراء في الوطن العربي.

◀ أطلقت مصر مبادرة زراعة ١٠٠ مليون شجرة.

◀ أطلقت السعودية مبادرة زراعة ٤٥٠ مليون شجرة وإنشاء مدينة نيوم الخضراء.

صوب ما تحته خط:

١٠

- (١) تُعد مصر أولى الدول العربية في إنتاج الأسماك من المصايد. (المغرب)
- (٢) تعتمد صناعة الأسمدة على خام الألومنيوم. (الفوسفات)
- (٣) تُعد الصناعات الغذائية إحدى الصناعات الاستخراجية. (التحويلية)
- (٤) أولى الدول العربية إنتاجًا للأسمت هي دولة لبنان. (السعودية)
- (٥) تحتل السودان المرتبة الأولى عربيًا في إنتاج الفوسفات. (الذهب)
- (٦) السعودية تحتل المركز الأول في إنتاج الفوسفات على مستوى العالم. (البتروول)
- (٧) تأثرت البيئة إيجابيًا بالصناعة. (سلبياً)
- (٨) تأتي دولة قطر في المرتبة الأولى عربيًا في إنتاج البتروول. (الغاز الطبيعي)
- (٩) تعمل المنظمة العربية للسياحة على تبادل المنتجات الزراعية بين الدول العربية. (المنظمة العربية للتنمية الزراعية)
- (١٠) يوجد مقر المنظمة العربية للسياحة بمدينة جدة في مصر. (السعودية)
- (١١) أولى الدول العربية في إنتاج قصب السكر هي السودان. (مصر)
- (١٢) يُعد محصول البنجر من الحبوب الغذائية. (المحاصيل السكرية)
- (١٣) يعد السوق والأيدي العاملة من مقومات قيام الزراعة الطبيعية. (البشرية)
- (١٤) تشجع الدول العربية على استخدام الأسمدة الكيماوية. (العضوية)
- (١٥) تتركز زراعة القطن في دولتي المغرب وسوريا. (مصر والسودان)
- (١٦) يربي الجاموس في الوطن العربي لوجود البيئة الصحراوية. (الزراعية الفيضية)
- (١٧) تساهم الأبقار والأغنام في توفير البروتين النباتي. (الحيواني)
- (١٨) يأتي معظم إنتاج مصر من الأسماك من المصايد السمكية. (المزارع)

١١ انسب كلاً مما يلي إلى الخليفة الذي قام به:

- (١) وضع التقويم الهجري. (عمر بن الخطاب)
- (٢) أرسل عدة جيوش لمحاربة المرتدين عن الإسلام. (أبو بكر الصديق)
- (٣) أمر بإنشاء أول أسطول بحري في الإسلام. (عثمان بن عفان)
- (٤) اهتم بتنظيم الشرطة وعين رئيساً لها أطلق عليه صاحب الشرطة. (علي بن أبي طالب)
- (٥) جمع القرآن الكريم لأول مرة في مصحف واحد. (عثمان بن عفان)

١٢ من هو:

- (١) تولى رعاية الرسول (ﷺ) وعمره ٨ سنوات. (أبو طالب)
- (٢) لقب بالصادق الأمين. (الرسول (ﷺ))
- (٣) نزل بالوحي على الرسول (ﷺ) في غار حراء. (سيدنا جبريل)
- (٤) صاحب الرسول (ﷺ) في رحلة الهجرة. (أبو بكر الصديق)
- (٥) أشار على الرسول (ﷺ) بحفر خندق حول المدينة. (سلمان الفارسي)

١٣ اذكر نوع السياحة التي ينتمي إليها كل مكان من الأماكن التالية:

- (١) عين ماعين **سياحة علاجية**.
- (٢) كنيسة القيامة **سياحة دينية**.
- (٣) الصحاري **سياحة بيئية**.
- (٤) الأهرامات **سياحة ثقافية**.
- (٥) مركز تجاري بالإمارات **سياحة التسوق**.
- (٦) شاطئ الإسكندرية **سياحة ترفيهية**.
- (٧) بطولة كأس العالم للأمم الإفريقية لكرة اليد **سياحة رياضية**.

١٤ اذكر أولى الدول في تربية وإنتاج كل من:

- (١) الخيول. (السودان)
- (٢) الأبقار والأغنام. (السودان)
- (٣) الجاموس. (مصر)
- (٤) الدواجن. (المغرب)
- (٥) أسماك المزارع السمكية. (مصر)
- (٦) الإبل. (الصومال)
- (٧) الأسماك من المصايد. (المغرب)

١٥ حدد العنصر المختلف مع ذكر السبب:

- (١) (الذرة - الأرز - القمح - الزيتون) لأنه ليس من محاصيل الحبوب الغذائية.
 (٢) (المياه الجوفية - مياه الأمطار - رأس المال - التربة الخصبة) لأنه من العوامل البشرية.
 (٣) (وسائل نقل - تنوع المناخ - الأيدي العاملة - السوق) لأنه من العوامل الطبيعية.

١٦ صف ما يلي:

(أ) حسب نوع المحاصيل (الزيتون، الذرة، القمح، الموالح، الموز، الكتان، الأرز، التين، العنب):

محاصيل حبوب غذائية	محاصيل متنوعة	محاصيل الألياف
الذرة، القمح، الأرز	التين، الموز، العنب، الموالح، الزيتون	القطن، الكتان

١٧ انسب الظاهرات الجغرافية التالية إلى الدولة التي تقع فيها:

واحة عين صالح	واحة سيوة	وادي الدواسر	واحة الكفرة	نهري دجلة والفرات
الجزائر	مصر	السعودية	ليبيا	العراق

١٨ صف الجبال التالية إلى جبال التوائية وجبال انكسارية:

(جبال عمان - جبال الحجاز - جبال زاغروس - جبال عسير - جبال البحر الأحمر - جبال أطلس)

جبال التوائية	جبال انكسارية
جبال عمان - جبال زاغروس - جبال أطلس	جبال الحجاز - جبال عسير - جبال البحر الأحمر

حسب مصدر المياه المستخدم في الزراعة
(دلتا النيل، جنوب موريتانيا، واحة سيوة، العراق، اليمن، واحة ليوا):

مياه الآبار والعيون	مياه الأنهار	مياه الامطار
واحة ليوا، واحة السيوه	دلتا النيل، العراق	جنوب موريتانيا، اليمن

صنف الأماكن السياحية التالية إلى الدولة التي تنتمي إليها في
الجدول التالي:

الدولة التي ينتمي إليها	المكان السياحي
فلسطين	١- المسجد الأقصى
مصر	٢- دير سانت كاترين
السعودية	٣- المسجد الحرام
الأردن	٤- عين ماعين

الوحدة الأولى:

(أ) اختر الإجابة الصحيحة من بين القوسين:

- (١) الدولة العربية التي تطل على بحر ومحيط معًا
(مصر - العراق - المغرب - البحرين)
- (٢) منعت قريش الرسول (ﷺ) من أداء فريضة العمرة وذلك قبل
(غزوة بدر - غزوة أحد - غزوة الخندق - صلح الحديبية)
- (٣) الوطن العربي بالكامل يقع في شرق المحيط
(الهادي - الهندي - القطبي - الأطلسي)
- (٤) أقصى امتداد ليابس الوطن العربي غربًا ينتهي مع سواحل
(السودان - موريتانيا - المغرب - الجزائر)
- (٥) إذا قمت برحلة من ميناء الإسكندرية إلى دولة موريتانيا ستقوم بعبور كمر مائي.
(مضيق جبل طارق - مضيق باب المندب - مضيق هرمز - قناة السويس)
- (٦) يقترب اليباس العربي من اليباس الأوربي عند مضيق
(باب المندب - جبل طارق - هرمز - قناة السويس)
- (٧) العامل المشترك بين آخر تجهيزات الرسول (ﷺ) وأول غزوات أبي بكر الصديق (رضي الله عنه) هو
(الفرس - الروم - جمع القرآن - قتال المرتدين)
- (٨) استفاد المسلمون بالخبرة الفارسية في المجال العسكري وظهر ذلك في غزوة
(تبوك - الخندق - بدر - أحد)
- (٩) اختلف علي بن أبي طالب (رضي الله عنه) عن الخلفاء الذين سبقوه في
(نظام الحكم - مقر الحكم - صفاته الحميدة - النظام الإداري)
- (١٠) النظام القبلي في شبه الجزيرة العربية يعتبر دليلاً على
(تفرقهم - انقسامهم - تحالفهم - اختلافهم)

(ب) أثبت بالأدلة: سار الخليفة أبو بكر الصديق (رضي الله عنه) على نهج الرسول (ﷺ).
حيث إنه قام بإرسال جيش أسامة بن زيد (رضي الله عنهما) الذي جهزه الرسول (ﷺ)
قبل وفاته إلى الشام لمحاربة الروم وتأمين حدود الدولة الإسلامية.

الوحدة الثانية:

(ب) اختر الإجابة الصحيحة مما بين القوسين:

- (١) تستخدم كطرق للمواصلات في الصحراء تنطبق العبارة على.....
(السهول الفيضية - السهول الساحلية - الأودية الجافة - الجبال الانكسارية)
- (٢) كل العوامل الآتية تؤثر في مناخ الوطن العربي ما عدا.....
(الموقع الفلكي - القرب أو البعد عن المسطحات المائية - مظاهر السطح - التكديس السكاني)

(ج) أجب عما يلي:

- (١) ماذا يحدث إذا: امتدت دائرة الاستواء في الأجزاء الشمالية من الوطن العربي؟
◀ سوف ترتفع درجات الحرارة في المناطق الشمالية للوطن العربي.
- (٢) بم تفسر اختلاف الخصائص المناخية بين المدن العربية مثل الإسكندرية والكويت؟
◀ بسبب وقوع كل منهما في إقليم مناخي مختلف.
- (٣) ما العلاقة بين التصحر والغابات؟
◀ إزالة الغابات يؤدي إلى حدوث التصحر.
- (٤) ما أوجه التشابه والاختلاف بين جبال أطلس وجبال عمان؟
◀ التشابه أنهم جبال التوائية.
- ◀ الاختلاف أن جبال أطلس تقع في الجناح الإفريقي وجبال عمان تقع في الجناح الآسيوي.
- (٥) ما العلاقة بين قارتي آسيا وأوروبا على مناخ الوطن العربي؟
◀ يتعرض الوطن العربي إلى هبوب رياح شديدة البرودة من أوروبا وآسيا شتاءً
ورياح حارة من جنوب آسيا صيفاً.

- (٦) ما العلاقة بين الأغنام والماعز وإقليم البحر المتوسط؟
 ◀ الأغنام والماعز تربي على حشائش الإستبس التي تقع بإقليم البحر المتوسط.
 (٧) ما العلاقة بين المناطق المرتفعة وسقوط الأمطار؟
 ◀ تسقط الأمطار بغزارة على منحدرات الجبال المواجهة للرياح المحملة ببخار الماء بينما تقل أو تنعدم على الجهات الداخلية للمرتفعات.
 (٨) ما العلاقة بين القوانين والمحميات الطبيعية في الوطن العربي؟
 ◀ اتخذت معظم الدول العربية إجراءات مثل: تفعيل القوانين والتوعية بأهمية المحميات الطبيعية.

(الوحدة الثالثة)

(أ) اختر الإجابة الصحيحة مما بين الأقواس:

- (١) تحتفل الدول العربية يوم ٢٧ سبتمبر بيوم العربي.
 (السياحة - الزراعة - الصناعة - التجارة)

(ب) أجب عما يلي:

- (١) ماذا يحدث إذا: كان المناخ في الوطن العربي على وتيرة واحدة في الزراعة؟
 Ⓒ لن تتنوع المحاصيل الزراعية في الوطن العربي.
 (٢) ما النتائج المرتبة على: وجود أماكن مقدسة في الوطن العربي.
 Ⓒ جذب السياح إلى الوطن العربي.

رحلة تعليمية متكاملة



١٤

حدد صور المياه العذبة المستخدمة في زراعة المناطق الآتية:

- (١) مصر. (نهر النيل) (٢) العراق. (نهر الفرات والجدلة)
(٣) واحة العين بالإمارات (المياه الجوفية) (٤) جنوب موريتانيا. (الأمطار)

١٥

اكتب المنظمة العربية التي من أهدافها ما يلي:

- (١) النهوض بمستوى معيشة العاملين في قطاع الزراعة. (المنظمة العربية للتنمية الزراعية)
(٢) التسويق السياحي العربي المشترك. (المنظمة العربية للسياحة)
(٣) تبادل المنتجات الزراعية بين البلاد العربية. (المنظمة العربية للتنمية الزراعية)
(٤) تنفيذ برامج لمواجهة أزمات الغذاء. (المنظمة العربية للتنمية الزراعية)
(٥) توافر الكوادر الفنية المؤهلة واستثمار التراث الثقافي. (المنظمة العربية للسياحة)

