

قطر الندي

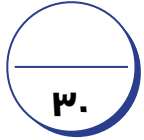
(اختبارات نصف العام) 2024 / 2023



5

الصف الخامس الابتدائي
الفصل الدراسي الأول

الدراسات الاجتماعية



النموذج الأول (نصف العام)



مجاب عنه

السؤال الأول : (أ) اكتب كلمة (صح) أمام العبارة الصحيحة وكلمة (خطأ) أمام العبارة غير الصحيحة:

- ١- تنقسم الموارد إلى نوعين موارد حرة وموارد نادرة. ()
 - ٢- كلما زاد عدد السكان عن الموارد المتاحة تحدث مشكلة اقتصادية. ()
 - ٣- تعد دائرة الاستواء هي دائرة العرض الرئيسية ودرجتها صفر. ()
 - ٤- يستخرج البترول والغاز الطبيعي من قاع البحار والمحيطات. ()
- (ب) قارن بين: البيع والشراء من حيث المفهوم.

السؤال الثاني : (أ) أكمل العبارات الآتية بكلمات مناسبة:

- ١- أصدر البنك النقود الورقية لأول مرة عام ١٨٩٩م.
- ٢- تتمثل التجارة الخارجية في و
- ٣- يعد الميزان التجارى هو الفرق بين و

(ب) ما النتائج المترتبة على ؟

- ١- وجود المياه الجوفية في الواحات.
- ٢- توسع الدولة في إنشاء المحميات الطبيعية.

السؤال الثالث : (أ) اختر الإجابة الصحيحة مما بين القوسين:

- ١- تعمل الدولة على تنمية الثروة الحيوانية عن طريق
(تحسين السلالات - تقليل الاستيراد - إنشاء مجتمعات الإنتاج الحيوانى - كل ما سبق)
- ٢- تستخدم بعض مشتقات في صناعة الألياف الصناعية والبلاستيك.
(الفحم - البترول - الغاز الطبيعي - الطاقة الشمسية)
- ٣- تسهم بنحو ١١٪ من الدخل القومي. (الزراعة - الصناعة - التجارة - السياحة)
- ٤- تتعامد الشمس في شهر أغسطس على
(مدار السرطان - دائرة الاستواء - مدار الجدى - الدائرة القطبية الشمالية)

(ب) أجب عن الأسئلة التالية :

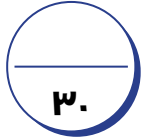
- ١- دلل على صحة العبارة التالية: اهتمام الدولة بمحطات تحلية مياه البحر.
- ٢- اذكر أهمية إنشاء البنك المركزى المصرى.

السؤال الرابع : (أ) دلل على صحة العبارات الآتية :

- ١- اهتمام المصريين القدماء بضبط مياه الرى.
- ٢- اهتمام الدولة بالثروة الحيوانية والسمكية.

(ب) قارن بين : معدن النحاس ومعدن المنجنيز من حيث الأهمية وأماكن الاستخراج.

وجه المقارنة	معدن النحاس	معدن المنجنيز
الأهمية
أماكن الاستخراج



النموذج الثالث (نصف العام)



مجاب عنه

السؤال الأول : (أ) ضع خطأ تحت الكلمة الصحيحة مما بين القوسين :



- ١- يمر مدار السرطان في مصر. (شمال - جنوب - شرق - غرب)
 - ٢- تقع المناطق الشمالية لمصر ضمن الإقليم (الصحراوي الحار - البارد - المعتدل - الاستوائي)
 - ٣- يستخرج المنجنيز من بسينا. (السباعية - أم بجمة - الواحات البحرية - أبوظرطور)
 - ٤- إحدى مصائد المياه العذبة في مصر (بحيرة البرلس - بحيرة المنزلة - بحيرة قارون - بحيرة ناصر)
- (ب) أجب عن الأسئلة التالية :

- ١- ما الأهمية الاقتصادية للفوسفات ؟
- ٢- ما أهمية نبات البردي ؟

السؤال الثاني : (أ) أكمل العبارات الآتية بكلمات مناسبة :

- ١- يعد خط هو خط الطول الرئيسي ودرجته صفر.
- ٢- كانت مدينة أول عاصمة لمصر الموحدة عام ٤٢٤٢ ق.م.
- ٣- من أمثلة الموارد الحرة و
- ٤- من عناصر الإنتاج الطبيعية و
- ٥- تعد من النباتات الصحراوية التي تتحمل الجفاف.

(ب) اذكر سبباً واحداً لكل من :

- ١- أهمية الجيش في مصر القديمة .
- ٢- عدم استقرار الإنسان المصري فوق الهضاب

السؤال الثالث : (أ) اكتب كلمة (صح) أمام العبارة الصحيحة وكلمة (خطأ) أمام العبارة غير الصحيحة :

- ١- ساعد موقع مصر على سهولة اتصالها بدول العالم. ()
- ٢- تصغر دوائر العرض كلما ابتعدنا شمالاً وجنوباً عن دائرة الاستواء. ()
- ٣- كان شعار مملكة الشمال هو زهرة اللوتس. ()
- ٤- تنقسم مصادر الطاقة في مصر إلى مصادر طاقة متجددة وغير متجددة. ()

(ب) اذكر: جهود الدولة في مجال التعدين .

السؤال الرابع : (أ) أجب عن الأسئلة الآتية :

- ١- اذكر نتيجة واحدة لأهمية وجود الثروات المعدنية والصخور في مصر القديمة .
 - ٢- اشرح العوامل التي تؤثر في مناخ مصر .
- (ب) ما مقترحاتك ؟ لترشيد استهلاك المياه ؟

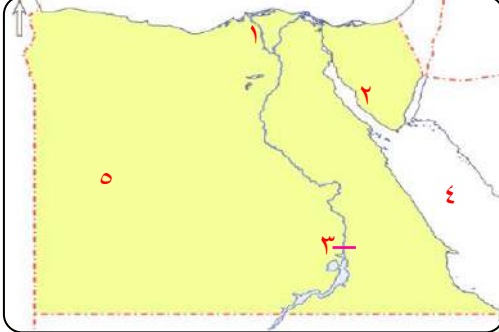


النموذج الثالث (نصف العام)



مجاب عنه

السؤال الأول : (أ) أمامك خريطة صماء لمصر . اكتب مدلول الأرقام التالية :



- ١- فرع
- ٢- منطقة لاستخراج البترول
- ٣- محطة توليد الكهرباء
- ٤- البحر
- ٥- الصحراء

(ب) قارن بين : محطة جبل الزيت ومحطة بنبان من حيث الموقع والأهمية .

السؤال الثاني : (أ) أكمل العبارات الآتية بكلمات مناسبة :

- ١- تعد القرية الفرعونية
- ٢- من الموارد النادرة في مصر
- ٣- تنوعت أدوات المصري القديم في الزراعة ومنها
- ٤- تعتمد الزراعة في الساحل الشمالي على مياه
- ٥- أنشأت الدولة مشروع الفيروز في محافظة

(ب) اذكر جهود الدولة لتنمية كل من : (يكتفى بنقطتين لكل سؤال)

- ١- الثروة الحيوانية
- ٢- الثروة السمكية

السؤال الثالث : (أ) صَعِّحْ خَطًّا تحت الإجابة الصحيحة فيما بين القوسين :

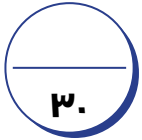
- ١- سكن المصري القديم فوق الهضاب في (أكواخ - كهوف - معابد - مساكن من الطوب اللبن)
 - ٢- أى من الموارد الآتية يوجد بوفرة وبكميات غير محدودة ؟ (مصادر الطاقة - الأرض الزراعية - مياه البحر - المياه العذبة)
 - ٣- يندرج وجود الحيوانات البرية في الدلتا مثل (الثعالب - الجمال - الغزلان - اليربوع)
 - ٤- يستخدم معدن (المنجنيز - الفوسفات - الحديد - الذهب) في صناعة الطوب الحرارى .
- (ب) ما رأيك في : إنجازات الملك تحتمس الثالث ؟ مع ذكر السبب .

السؤال الرابع : (أ) اكتب ما تشير إليه العبارات الآتية :

- ١- نباتات تكمل دورة حياتها خلال سنة واحدة أو موسم زراعة واحد . ()
- ٢- أقل مصادر الطاقة غير المتجددة تلويثاً للبيئة . ()

(ب) بم تفسر ؟

- ١- أهمية التكنولوجيا في البحث والتنقيب عن المعادن .
- ٢- الأهمية الاقتصادية للبترول .
- ٣- اهتمام الدولة بتطوير الزراعة في مصر .

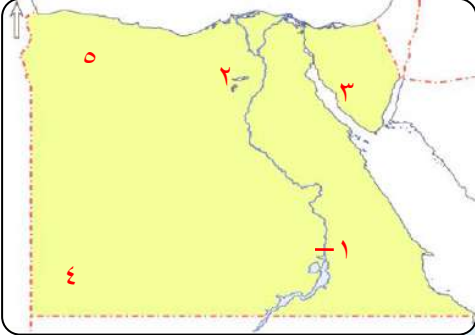


النموذج الرابع (نصف العام)



مجاب عنه

السؤال الأول : (أ) أمامك خريطة صماء لمصر . اكتب مدلول الأرقام التالية :



- ١- السد
- ٢- منخفض
- ٣- خليج
- ٤- جبل
- ٥- هضبة

(ب) ما المقصود بكلٍ من ؟

- ١- ري الحياض
- ٢- الجفاف

السؤال الثاني : (أ) أكمل العبارات الآتية بكلمات مناسبة :

- ١- من وسائل الري الحديثة في مصر الري بـ و
- ٢- قسم المصريون القدماء السنة الزراعية إلى فصول
- ٣- من أهم صادرات مصر حالياً و
- ٤- من العوامل الطبيعية التي أثرت في تغير المناخ
- ٥- من الموارد النادرة في مصر و

(ب) اذكر سبباً واحداً لكل من :

- ١- تسمية عصر الدولة الوسطى بعصر الرخاء الاقتصادي
- ٢- الميزان التجاري المصرى في حالة عجز حالياً

السؤال الثالث : (أ) اكتب كلمة (صح) أمام العبارة الصحيحة وكلمة (خطأ) أمام العبارة غير الصحيحة :

- ١- عند تغير المناخ يرتفع منسوب مياه البحر مما يسبب تآكل الشواطئ. ()
- ٢- الأواني الزجاجية من صادرات مصر قديماً إلى دول العالم. ()
- ٣- استخدم المصري القديم مقاييس النيل لرفع المياه للأراضي الزراعية. ()

(ب) دلل على صحة العبارة الآتية :

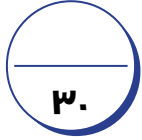
- يعتبر نهر النيل من أهم الموارد المائية في مصر

السؤال الرابع : (أ) ما العلاقة بين ؟

- ١- الصناعة والبيئة
- ٢- موارد المياه والزراعة
- ٣- السد العالي ومصادر الطاقة

(ب) قارن بين : موارد المياه العذبة و موارد المياه المالحة من حيث أماكن وجودها في مصر.

وجه المقارنة	المياه العذبة	المياه المالحة
أماكن وجودها

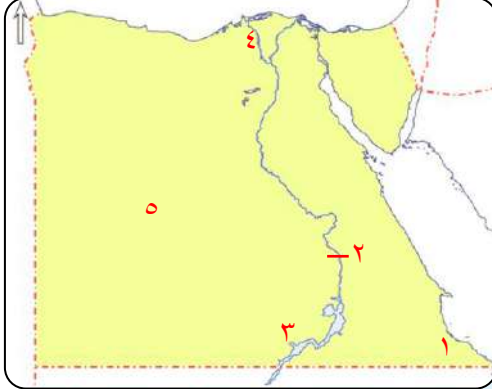


النموذج الخامس (نصف العام)



مجاب عنه

السؤال الأول : (أ) أمامك خريطة صماء لمصر وضح ما تدل عليه الأرقام :



- ١- محمية جبل
- ٢- قناطر
- ٣- بحيرة
- ٤- فرع
- ٥- الصحراء

(ب) ما المقصود بكلٍ من ؟

- ١- الميزان التجاري
- ٢- الواردات

السؤال الثاني : (أ) أكمل العبارات الآتية بكلمات مناسبة :

- ١- الموقع الفلكي هو موقع الدولة بالنسبة ل..... و
- ٢- من العوامل البشرية لقيام الحضارة المصرية
- ٣- عندما تتعامد الشمس على مدار السرطان في شهر أغسطس يكون في مصر فصل
- ٤- من أنظمة الري الحديثة في مصر الري ب..... والري ب.....
- ٥- توجد مدينة الدواء في الخانكة بمحافظة

(ب) ما النتائج المترتبة على ؟

- ١- حلول الجفاف فوق الهضاب قديماً
- ٢- سطوع شمس مصر طوال العام

السؤال الثالث : (أ) اكتب كلمة (صح) أمام العبارة الصحيحة وكلمة (خطأ) أمام العبارة غير الصحيحة :

- ١- من عناصر الإنتاج اللازمة لنجاح الأنشطة الاقتصادية الموارد الطبيعية والأيدي العاملة. ()
- ٢- من العوامل التي تؤثر على تكلفة المنتج بُعد المسافة عن مكان الإنتاج. ()
- ٣- استخدم المصري القديم مقياس النيل لتحديد قيمة الضرائب. ()
- ٤- تحتل مصر المركز الأول إفريقياً في إنتاج الأسماك من المزارع السمكية. ()
- ٥- تسعى الدولة إلى تحقيق الاكتفاء الذاتي من منتجات الثروة السمكية. ()

(ب) وضح : دور الدولة في تنمية طاقة الرياح

السؤال الرابع : (أ) بم تفسر ؟

- ١- أهمية الثروة الحيوانية والسمكية
- ٢- اهتمام الدولة بإنشاء المحميات الطبيعية
- ٣- أهمية دراسة خطوط الطول ودوائر العرض

(ب) ١- اذكر : أمثلة لصناعات قديمة برع فيها المصريون القدماء.

٢- اشرح باختصار : مراحل تطور النقود من النقود السلعية إلى النقود الورقية.

الإجابات النموذجية

إجابة النموذج الأول (نصف العام)

السؤال الأول : (أ) اكتب كلمة (صح) أمام العبارة الصحيحة وكلمة (خطأ) أمام العبارة غير الصحيحة:

١- صح . ٢- صح . ٣- صح .

٤- صح .

(ب) قارن بين :

البيع : هو إعطاء السلع والخدمات مقابل الحصول على عملة تستخدمها الدولة.

الشراء : هو أخذ السلع والخدمات مقابل عملة تستخدمها الدولة.

السؤال الثاني : (أ) أكمل العبارات الآتية بكلمات مناسبة:

١- الأهلي . ٢- الصادرات والواردات . ٣- الواردات - الصادرات .

(ب) ما النتائج المترتبة على ؟

١- ساعد ذلك على قيام حرفة الزراعة في الواحات واستقرار سكان البدو بها.

٢- أدى إلى : الحفاظ على الكائنات الحية من طيور ونباتات وحيوانات خوفاً عليها من الانقراض .

السؤال الثالث : (أ) اختر الإجابة الصحيحة مما بين القوسين :

١- كل ما سبق . ٢- البترول . ٣- الزراعة .

٤- مدار السرطان .

(ب) أجب عن الأسئلة التالية :

١- تنفيذ الدولة العديد من محطات تحلية المياه في بعض المحافظات ، مثل : الإسماعيلية والسويس ،

بالإضافة إلى محطة العين السخنة التي تعد من أكبر محطات تحلية المياه في العالم .

٢- لأنه المسئول عن إصدار النقود الورقية المصرية والمسئول عن الإشراف على جميع البنوك ومصحة

البريد .

السؤال الرابع : (أ) دلل على صحة العبارات الآتية :

١- حيث قاموا بالاستفادة من مياه نهر النيل عن طريق (ري الحياض - إقامة السدود - شق الترع - أدوات الري).

٢- وضعت الدولة استراتيجية لتنمية الثروة السمكية والحيوانية ، منها :

تحسين سلالات الأبقار والجاموس المحلية - رفع مستوى معيشة صغار المربين والمزارعين -

تحقيق الاكتفاء الذاتي - تنفيذ مشروعات ، مثل :

(الفيروز في بورسعيد وبركة غليون في كفر الشيخ للاستزراع السمكي).

(مشروع مجمع الإنتاج الحيواني والألبان المتكامل في الفيوم والمنوفية).

(ب) قارن بين :

وجه المقارنة	معدن النحاس	معدن المنجنيز
الأهمية	يستخدم في صناعة أسلاك الكهرباء والسبائك ومقابض الأبواب.	يستخدم في صناعة الصلب والدهانات.
أماكن الاستخراج	محافظة البحر الأحمر في الصحراء الشرقية.	أم بجمة في سيناء.



إجابة النموذج الثاني (نصف العام)

السؤال الأول : (أ) ضع خطًا تحت الكلمة الصحيحة مما بين القوسين :

- ١- جنوب .
٢- المعتدل .
٣- أم بجمة .
٤- بحيرة ناصر .

(ب) أجب عن الأسئلة التالية :

- ١- **لأنه** : يستخدم في صناعة الأسمدة الكيماوية والمبيدات الحشرية والطوب الحراري .
٢- **لأنه** : كان يستخدم في صناعة الورق والسلال والحبال والقوارب الصغيرة .

السؤال الثاني : (أ) أكمل العبارات الآتية بكلمات مناسبة :

- ١- جرينتش .
٢- أون .
٣- الهواء - مياه البحر .
٤- المياه - التربة - المعادن .
٥- الصبار .

(ب) اذكر سببًا واحدًا لكل من :

- ١- حماية البلاد والدفاع عنها ضد أي اعتداء .
٢- بسبب جفاف الهضاب وكان المصري القديم دائم التنقل والترحال من أجل جمع الثمار وصيد الحيوانات .

السؤال الثالث : (أ) اكتب كلمة (صح) أمام العبارة الصحيحة وكلمة (خطأ) أمام العبارة غير الصحيحة :

- ١- صح .
٢- صح .
٣- خطأ .
٤- صح .

(ب) اذكر :

- البحث عن بدائل للمعادن - تقليل تصدير الخامات المعدنية - استخدام التقنيات الحديثة في البحث والتنقيب عن المعادن .

السؤال الرابع : (أ) أجب عن الأسئلة الآتية :

- ١- **أدى إلى** : تنوع الصناعات في مصر القديمة ، **مثل** : صناعة الحلى وبناء الأهرامات والمعابد ونحت التماثيل .
٢- القرب أو البعد عن المسطحات المائية - مظاهر السطح - الموقع الفلكي لمصر .

(ب) ما مقترحاتك ؟

- ١- التقليل من وقت الاستحمام.
- ٢- تجنب استمرار فتح المياه أثناء تنظيف الأسنان أو غسل الخضار.
- ٣- عدم رش المياه لتلطيف الجو خارج المنازل.
- ٤- استخدام كمية مياه أقل عند غسل الملابس أو السيارات.



إجابة النموذج الثالث (نصف العام)

السؤال الأول : (أ) أمامك خريطة صماء لمصر . اكتب مدلول الأرقام التالية :

- ١- رشيد .
٢- خليج السويس .
٣- السد العالى .
٤- الأحمر .
٥- الغربية .

(ب) قارن بين :

وجه المقارنة	محطة جبل الزيت	محطة بنبان
الموقع	محافظة البحر الأحمر .	محافظة أسوان .
الأهمية	توليد الكهرباء من الرياح ، فهي أكبر محطة توليد الكهرباء من الرياح في الشرق الأوسط وشمال إفريقيا وتنتج نحو ($\frac{1}{3}$) إنتاج الكهرباء المولدة من الرياح في مصر .	أكبر مشروع لتوليد الطاقة الكهربائية من الشمس في العالم .

السؤال الثاني : (أ) أكمل العبارات الآتية بكلمات مناسبة:

- ١- متحفًا .
٢- المياه العذبة ومصادر الطاقة .
٣- الفأس والمحراث .
٤- الأمطار .
٥- بورسعيد .

(ب) اذكر جهود الدولة لتنمية كل من :

- ١- جهود الدولة لتنمية الثروة الحيوانية :
تحسين سلالات الأبقار والجاموس المحلية - رفع مستوى معيشة صغار المربين والمزارعين .
٢- جهود الدولة لتنمية الثروة السمكية :
تنفيذ مشروع الفيروز في بورسعيد - مشروع بركة غليون في محافظة كفر الشيخ للاستزراع السمكي .

السؤال الثالث : (أ) ضَعْ خطًا تحت الإجابة الصحيحة فيما بين القوسين :

- ١- الكهوف .
٢- مياه البحر .
٣- الثعالب .
٤- الفوسفات .

(ب) ما رأيك في ؟

- إنجازات عظيمة حيث استطاع الملك تحتمس الثالث حماية البلاد وتكوين أول امبراطورية في التاريخ.

السؤال الرابع : (أ) اكتب ما تشير إليه العبارات الآتية:

١- النباتات الحولية. ٢- الغاز الطبيعي.

(ب) بم تفسر؟

١- تساعد على سهولة البحث والتنقيب عن المعادن باستخدام صور الأقمار الصناعية والصور الجوية

وتكنولوجيا المسح ثلاثي الأبعاد وكذلك الوصول للأماكن الصعبة عن طريق الروبوتات.

٢- يشتق منه البنزين والسولار ويستخدمان في توليد الكهرباء ، بالإضافة إلى صناعة الألياف الصناعية

والبلاستيك.

٣- لأنها تساعد على زيادة المساحة المزروعة وتحقيق الأمن الغذائي للمواطنين ولذلك قامت الدولة

بالعديد من المشروعات الجديدة في مجال استصلاح الأراضي ، مثل : مشروع الدلتا الجديدة ومشروع

شرق العوينات ومشروع الفرافرة في الصحراء الغربية.



إجابة النموذج الرابع (نصف العام)

السؤال الأول : (أ) أمامك خريطة صماء لمصر . اكتب مدلول الأرقام التالية :

- ١- العالي . ٢- الفيوم . ٣- السويس .
٤- العوينات . ٥- مارماريكا .

(ب) ما المقصود بكلٍ من ؟

١- ري الحياض : يقصد به زراعة الأرض مرة واحدة في السنة عن طريق حفر أحواض لتخزين المياه وقت الفيضان ثم تستخدم لري الأراضي الزراعية .

٢- الجفاف : هو ندرة الأمطار في موسم معين مما يضر بالأنشطة الاقتصادية مثل الزراعة .

السؤال الثاني : (أ) أكمل العبارات الآتية بكلمات مناسبة :

- ١- الري بالرش والري بالتنقيط . ٢- ثلاثة .
٣- الحديد والفوسفات . ٤- الانفجارات البركانية . ٥- المياه العذبة ومصادر الطاقة .

(ب) اذكر سبباً واحداً لكل من :

١- لاهتمام ملوك هذا العصر بالمشروعات الاقتصادية في الزراعة والصناعة والتجارة .

٢- لأن واردات مصر أكثر من صادراتها .

السؤال الثالث : (أ) اكتب كلمة (صح) أمام العبارة الصحيحة وكلمة (خطأ) أمام العبارة غير الصحيحة :

- ١- صح . ٢- صح . ٣- خطأ .

(ب) دلل على صحة العبارة الآتية :

- حيث أن نهر النيل هو المورد الأساسي للمياه العذبة في مصر .

السؤال الرابع : (أ) ما العلاقة بين ؟

١- حيث تؤثر الصناعة سلبيًا على البيئة عن طريق تلوث الهواء .

٢- حيث يجب توافر المياه العذبة لقيام حرفة الزراعة .

٣- حيث يتم توليد الكهرباء المائية وهي أحد مصادر الطاقة المتجددة في مصر من خلال السد العالي .

(ب) قارن بين:

وجه المقارنة	المياه العذبة	المياه المالحة
أماكن وجودها	- نهر النيل وفرعيه دمياط ورشيد. - بحيرة ناصر - مياه الأمطار. - المياه الجوفية العذبة.	- البحر الأحمر - البحر المتوسط. - خليجي السويس والعقبة. - البحيرات المالحة شمال مصر. - المياه الجوفية المالحة.



إجابة النموذج الخامس (نصف العام)

السؤال الأول : (أ) أمامك خريطة صماء لمصر وضح ما تدل عليه الأرقام :

- ١- عليبة .
٢- إسنا .
٣- ناصر .
٤- رشيد .
٥- الغربية .

(ب) ما المقصود بكلٍ من ؟

- ١- **الميزان التجاري :** هو الفرق بين واردات الدولة وصادراتها .
٢- **الواردات :** هي المنتجات التي تشتريها الدولة من الدول الأخرى .

السؤال الثاني : (أ) أكمل العبارات الآتية بكلمات مناسبة :

- ١- خطوط الطول ودوائر العرض .
٢- الوحدة والجيش .
٣- الصيف .
٤- الري بالرش والري بالتنقيط .
٥- القليوبية .

(ب) ما النتائج المترتبة على ؟

- ١- **أدى إلى :** نزول الإنسان المصري إلى وادي النيل فعرف الزراعة والاستقرار .
٢- أصبحت مصر من أهم الدول التي يتوافر بها الطاقة الشمسية لاستخدامها في توليد الكهرباء وتسخين المياه .

السؤال الثالث: (أ) اكتب كلمة (صح) أمام العبارة الصحيحة وكلمة (خطأ) أمام العبارة غير الصحيحة:

- ١- صح .
٢- صح .
٣- صح .
٤- صح .
٥- صح .

(ب) وضح :

- قامت الدولة بإنشاء محطة **جبل الزيت** في البحر الأحمر لتوليد الطاقة من الرياح وتنتج نحو $(\frac{1}{4})$ إنتاج الكهرباء المولدة من الرياح في مصر .

السؤال الرابع : (أ) بم تفسر؟

- ١- لأنها : ١- تعد مصدر للدخل القومي - توفر فرص عمل للشباب .
- ٢- توفير احتياجات السكان من الغذاء خاصة من البروتين الحيواني .
- ٣- تقوم عليها العديد من الصناعات ، مثل : الصناعات الجلدية والألبان والأسماك .
- ٤- للحفاظ على الكائنات الحية ، مثل : الحيوانات والنباتات والطيور النادرة خوفاً عليها من الانقراض .
- ٣- تفيد في تحديد الأماكن والمواقع على سطح الأرض بدقة .

(ب) ١- اذكر:

- صناعة الأواني الحجرية والتماثيل - الأواني الفخارية - الزجاج - الورق - الملابس من الكتان وجلود الحيوانات - الحلى وأدوات الزينة من المعادن .
- ٢- اشرح باختصار:
- كانت تستخدم السلع كعملات مختلفة (المقايضة) ثم استخدم الإنسان المعادن بدلاً من السلع ثم استخدم النقود الورقية بدلاً من المعادن لسهولة حملها .

