



مراجعة عامة على الفصل الدراسي الأول





مراجعة عامة الاختبار الأول



السؤال الأول اكتب كلمة (صواب) أمام العبارة الصحيحة وكلمة (خطأ) أمام العبارة غير الصحيحة

١ - نشر الفنون و إنشاء دور السينما من الخدمات التي تقدمها الدولة في مجال التعليم

٢ - تحيط البحار بمصر من جهة الجنوب والغرب

٣ - المشكلات البيئية ظهرت بسبب حسن استخدامنا للموارد .

٤ - تمر السفن في الاتجاهين بقناة السويس بعد حفر قناة السويس الجديدة

٥ - تلون الجبال والهضاب على الخريطة باللون البني .

مراجعة عامة الاختبار الأول

السؤال الأول اكتب كلمة (صواب) أمام العبارة الصحيحة وكلمة (خطأ) أمام العبارة غير الصحيحة

١ - نشر الفنون و إنشاء دور السينما من الخدمات التي تقدمها الدولة في مجال التعليم (خطأ)

٢ - تحيط البحار بمصر من جهة الجنوب والغرب (خطأ)

٣ - المشكلات البيئية ظهرت بسبب حسن استخدامنا للموارد . (خطأ)

٤ - تمر السفن في الاتجاهين بقناة السويس بعد حفر قناة السويس الجديدة (صواب)

٥ - تلون الجبال والهضاب على الخريطة باللون البني . (صواب)

مراجعة عامة الاختبار الأول

السؤال الثاني ضع خطأ تحت الإجابة الصحيحة فيما بين القوسين

- ١ - تحيط المياه بسيناء من
(جهة واحدة - جهتان - ثلاث جهات - أربع جهات)
- ٢ - أفريقيا مساحة واسعة من اليابس تضم عددا من الدول داخلها لذا فهي
(دولة - محافظة - قارة - جزيرة)
- ٣ - " لم تكن الإعاقة مانعاً لحصوله على لقب عميد الأدب العربي " العبارة تنطبق على
(سيد درويش - جمال حمدان - طه حسين - طلعت حرب)
- ٤ - يحتوي شعار محافظة القاهرة على الذي يُعبّر عن تاريخها
(الجامع الازهر - جامع عمرو بن العاص - جامعة القاهرة - قلعة صلاح الدين الايوبي)
- ٥ - " وصف حالة الجو من حيث الحرارة والرياح والامطار لفترة قصيرة " هذه العبارة تنطبق على
(الحرارة - الأقمار الصناعية - الطقس - المناخ)



مراجعة عامة الاختبار الأول

السؤال الثاني ضع خطأ تحت الإجابة الصحيحة فيما بين القوسين

- ١ - تحيط المياه بسيناء من
(جهة واحدة - جهتان - ثلاث جهات - أربع جهات)
- ٢ - أفريقيا مساحة واسعة من اليابس تضم عددا من الدول داخلها لذا فهي
(دولة - محافظة - قارة - جزيرة)
- ٣ - " لم تكن الإعاقة مانعاً لحصوله على لقب عميد الأدب العربي " العبارة تنطبق على
(سيد درويش - جمال حمدان - طه حسين - طلعت حرب)
- ٤ - يحتوي شعار محافظة القاهرة على الذي يُعبّر عن تاريخها
(الجامع الأزهر - جامع عمرو بن العاص - جامعة القاهرة - قلعة صلاح الدين الايوبي)
- ٥ - " وصف حالة الجو من حيث الحرارة والرياح والامطار لفترة قصيرة " هذه العبارة تنطبق على
(الحرارة - الأقمار الصناعية - الطقس - المناخ)



مراجعة عامة الاختبار الأول



السؤال الثالث

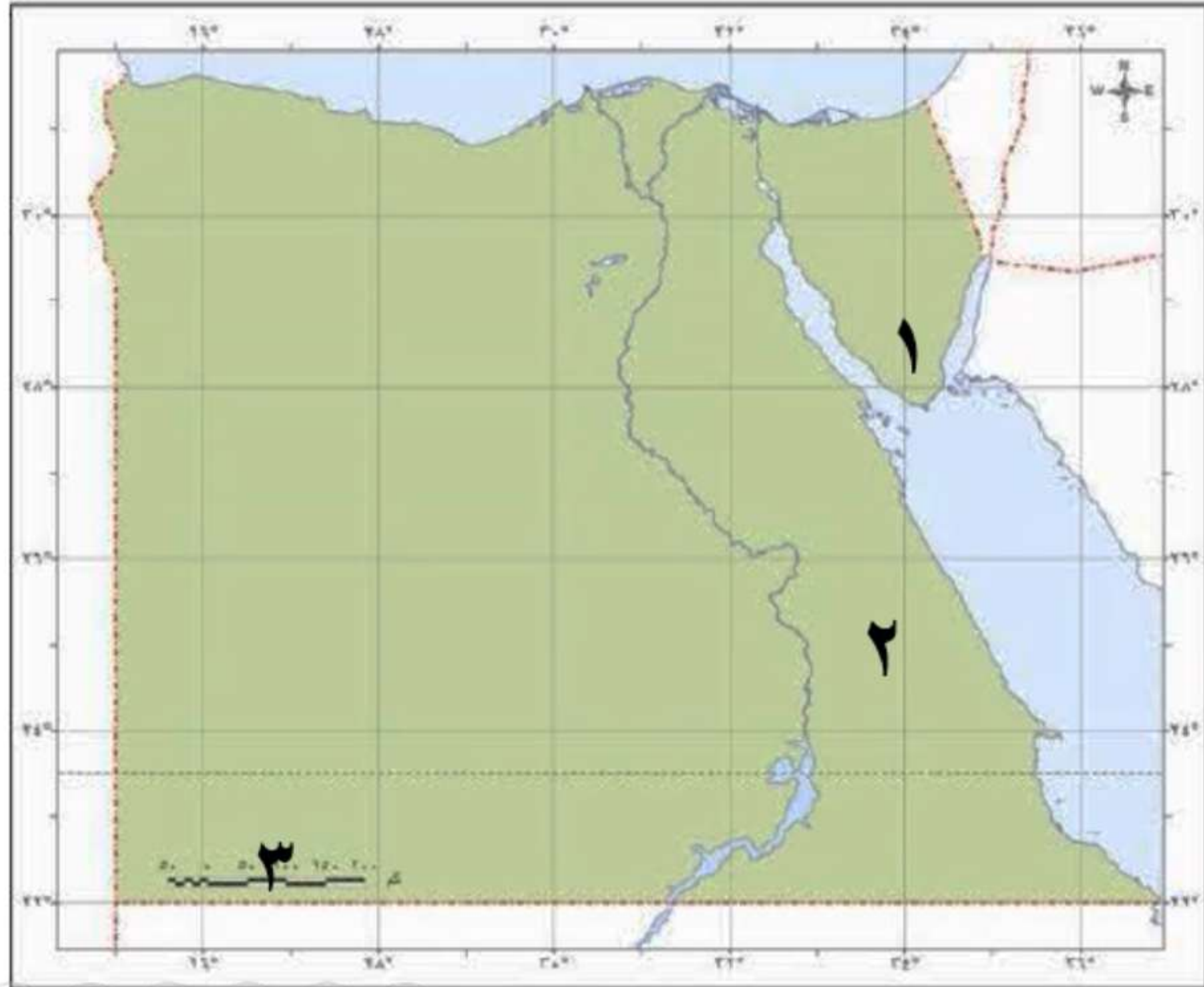
أ (أمامك خريطة صماء لمصر ، أكتب مدلول الأرقام
الموضحة عليها

١ - جبل في جنوب سيناء

٢ - من مناطق البيئة الصحراوية في مصر

٣ - أحد عناصر الخريطة ويستخدم لتحديد المسافات

على الخريطة هو



مراجعة عامة الاختبار الأول



السؤال الثالث

أ) أمامك خريطة صماء لمصر ، أكتب مدلول الأرقام
الموضحة عليها

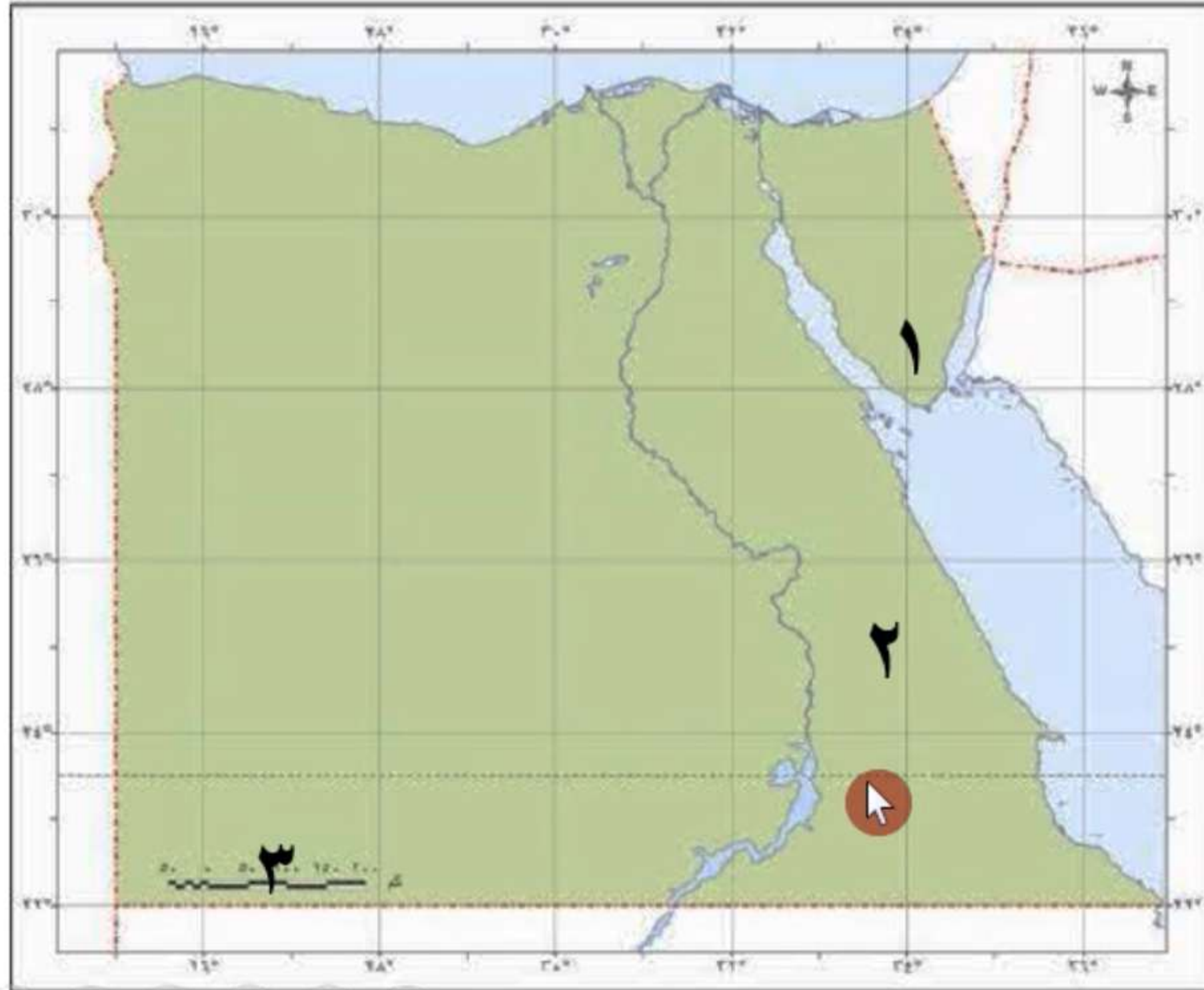
١ - جبل سانت. كاترين .. في جنوب سيناء

٢ - من مناطق البيئة الصحراوية في مصر

..... الصحراء الشرقية

٣ - أحد عناصر الخريطة ويستخدم لتحديد المسافات

على الخريطة هو مقياس الرسم



مراجعة عامة الاختبار الأول



تابع السؤال الثالث

ب (اذكر سببا واحداً

١- يفضل بعض المؤرخين استخدام المصادر الأولية .



٢ - تلوث الهواء في مصر .

مراجعة عامة الاختبار الأول



تابع السؤال الثالث

ب (اذكر سببا واحداً

١- يفضل بعض المؤرخين استخدام المصادر الأولية .

لأنها تكون أكثر دقة ومعاصرة للأحداث

٢ - تلوث الهواء في مصر .

بسبب دخان المصانع والسيارات - حرق قش الأرز في البيئة الزراعية



مراجعة عامة الاختبار الثاني

السؤال الأول اكتب كلمة (صواب) أمام العبارة الصحيحة وكلمة (خطأ) أمام العبارة غير الصحيحة

- ١ - إذا كانت مصر في نطاق المناخ الاستوائي فإن الامطار ستكون طوال العام
- ٢ - تعتمد الحياة في البيئة الصحراوية على مياه نهر النيل
- ٣ - يجب علينا تحرى دقة المعلومات قبل نشرها .
- ٤ - محافظة أسوان تقع جنوب مصر لذلك فهي من محافظات الوجه البحري
- ٥ - من الممكن أن يحقق ذوي الاحتياجات الخاصة مراكز مرموقة في المجتمع .

مراجعة عامة الاختبار الثاني



السؤال الأول اكتب كلمة (صواب) أمام العبارة الصحيحة وكلمة (خطأ) أمام العبارة غير الصحيحة

١ - إذا كانت مصر في نطاق المناخ الاستوائي فإن الامطار ستكون طوال العام (صواب)

٢ - تعتمد الحياة في البيئة الصحراوية على مياه نهر النيل (خطأ)

٣ - يجب علينا تحرى دقة المعلومات قبل نشرها . (صواب)

٤ - محافظة أسوان تقع جنوب مصر لذلك فهي من محافظات الوجه البحري (خطأ)

٥ - من الممكن أن يحقق ذوي الاحتياجات الخاصة مراكز مرموقة في المجتمع . (صواب)

مراجعة عامة الاختبار الثاني

السؤال الثاني ضع خطأ تحت الإجابة الصحيحة فيما بين القوسين

- ١ - تقع أرض شدوان بكاملها داخل البحر الأحمر فهي بذلك تعد (هضبة - جزيرة - شبه جزيرة - منخفض)
- ٢ - عتد تعرض الطفل في مصر للعنف فإن عليه الاتصال ب
(المدرسة - وزارة الصحة - الإسعاف - خط نجدة الطفل)
- ٣ - حدد أيًا من الموارد التالية يستمر في الوجود رغم كثرة استخدامنا له
(البترول - الغاز الطبيعي - التربة - الفحم)
- ٤ - إذا أردت زيارة أكبر محافظات مصر مساحة فإن عليك التوجه إلى محافظة
(دمياط - المنوفية - الوادي الجديد - الغربية)
- ٥ - عند كتابة بحث عن أهمية موقع مصر الجغرافي يمكن أنستعين بأحد مؤلفات
(سيد درويش - جمال حمدان - طه حسين - محمد يونس)

مراجعة عامة الاختبار الثاني

السؤال الثاني ضع خطأ تحت الإجابة الصحيحة فيما بين القوسين

- ١ - تقع أرض شدوان بكاملها داخل البحر الأحمر فهي بذلك تعد (هضبة - جزيرة - شبه جزيرة - منخفض)
- ٢ - عتد تعرض الطفل في مصر للعنف فإن عليه الاتصال ب
(المدرسة - وزارة الصحة - الإسعاف - خط نجدة الطفل)
- ٣ - حدد أيًا من الموارد التالية يستمر في الوجود رغم كثرة استخدامنا له
(البترول - الغاز الطبيعي - التربة - الفحم)
- ٤ - إذا أردت زيارة أكبر محافظات مصر مساحة فإن عليك التوجه إلى محافظة
(دمياط - المنوفية - الوادي الجديد - الغربية)
- ٥ - عند كتابة بحث عن أهمية موقع مصر الجغرافي يمكن أنستعين بأحد مؤلفات
(سيد درويش - جمال حمدان - طه حسين - محمد يونس)

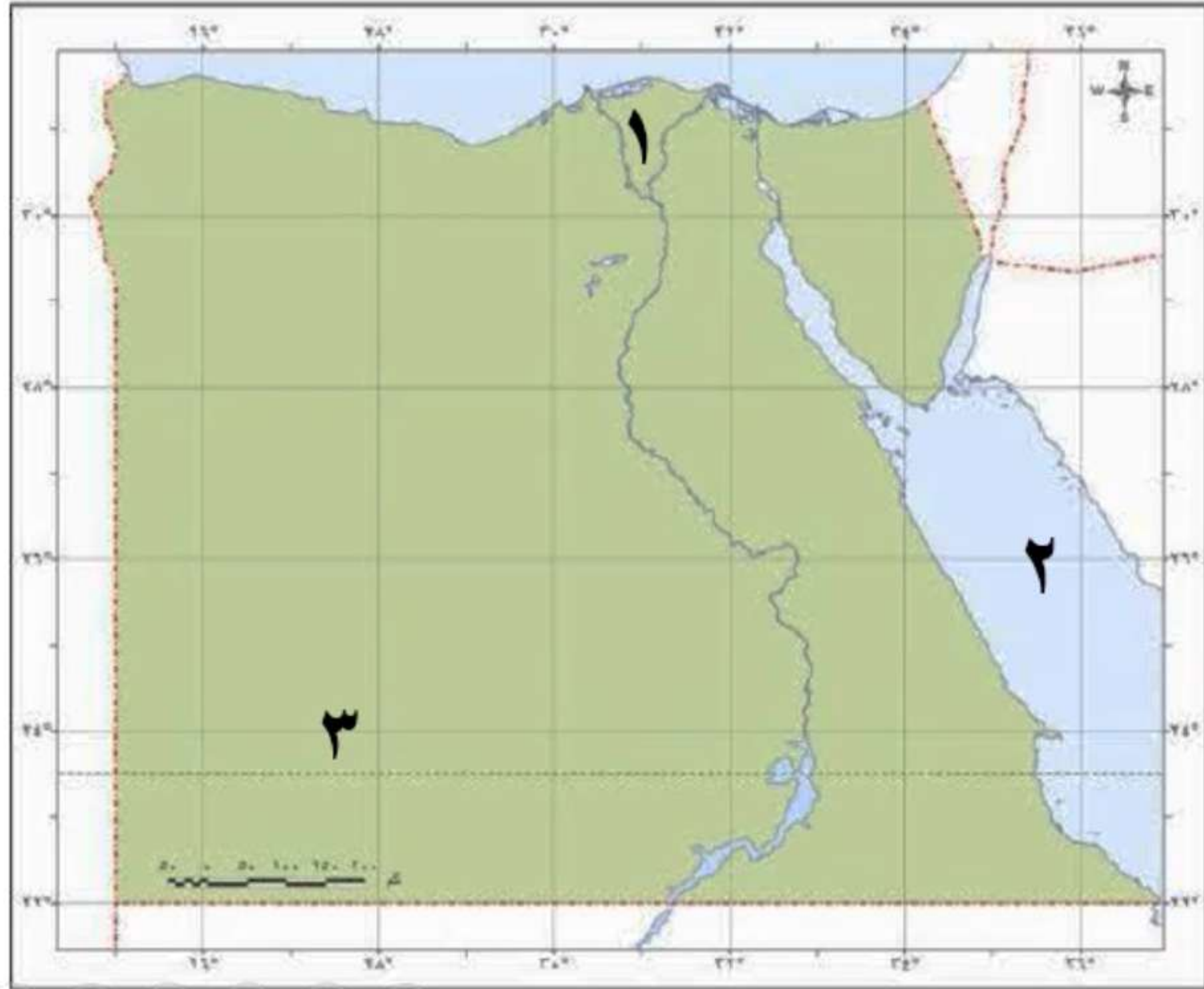
مراجعة عامة الاختبار الأول



السؤال الثالث

أ) أمامك خريطة صماء لمصر ، أكتب مدلول الأرقام
الموضحة عليها

- ١ - من أهم المناطق الزراعية في مصر
- ٢ - من محافظات الحدود الصحراوية في مصر وهي
الأكبر مساحة
- ٣ - أحد المسطحات المائية المالحة ويوجد في شرق
مصر



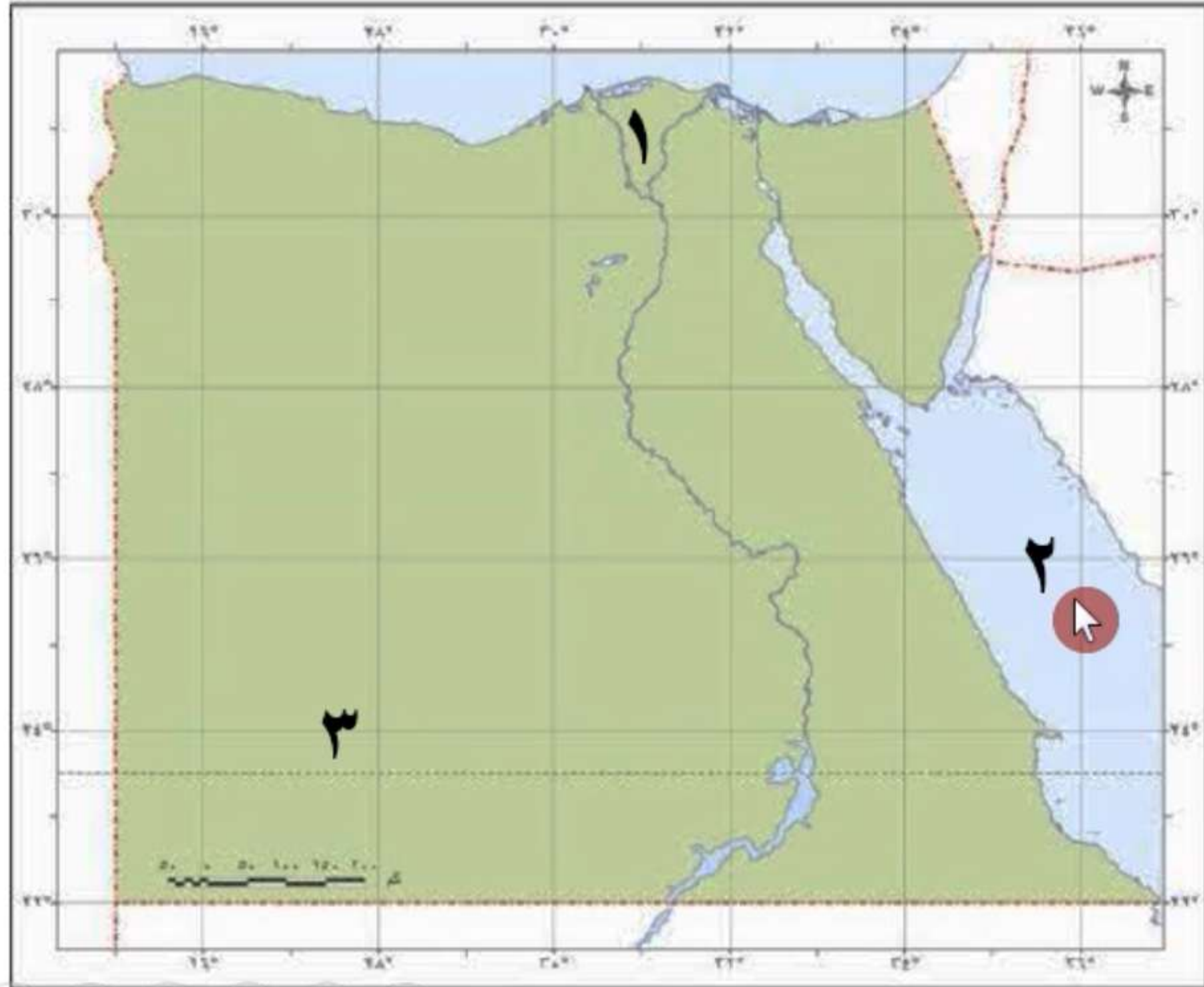
مراجعة عامة الاختبار الأول



السؤال الثالث

أ) أمامك خريطة صماء لمصر ، أكتب مدلول الأرقام
الموضحة عليها

- ١ - من أهم المناطق الزراعية في مصر **الدلتا**.....
- ٢ - من محافظات الحدود الصحراوية في مصر وهي
الأكبر مساحة ... **الوادي الجديد**
- ٣ - أحد المسطحات المائية المالحة ويوجد في شرق
مصر **البحر الأحمر**.....



مراجعة عامة الاختبار الثاني



تابع السؤال الثالث

ب (أجب بما هو مطلوب بين الاقواس



١- اتساع مساحة مصر .

(اذكر نتيجة واحدة)

٢ - الخريطة والجيش .

(اذكر العلاقة بينهما)

مراجعة عامة الاختبار الثاني



تابع السؤال الثالث

ب (أجب بما هو مطلوب بين الاقواس

١- اتساع مساحة مصر . (اذكر نتيجة واحدة)

أدى إلى تنوع البيئات المصرية وتنوع مظاهر السطح

٢ - الخريطة والجيش . (اذكر العلاقة بينهما)

يستخدم الجيش الخرائط لتحديد المواقع الحربية

مراجعة عامة الاختبار الثالث

السؤال الأول اكتب كلمة (صواب) أمام العبارة الصحيحة وكلمة (خطأ) أمام العبارة غير الصحيحة

١ - لتحديد الاتجاهات على الخريطة نستخدم خطوط الطول ودوائر العرض

٢ - رفع علم مصر عالياً وعدم لمسها للأرض

٣ - بحر الرمال العظيم يوجد في غرب مصر

٤ - " دائما ما تكون الحرارة مرتفعة في أسوان طوال العام " العبارة تصف الطقس

٥ - رعاية شئون العمال من جهود الدولة للحفاظ على الصناعات التراثية

مراجعة عامة الاختبار الثالث

السؤال الأول اكتب كلمة (صواب) أمام العبارة الصحيحة وكلمة (خطأ) أمام العبارة غير الصحيحة

١ - لتحديد الاتجاهات على الخريطة نستخدم خطوط الطول ودوائر العرض (خطأ)

٢ - رفع علم مصر عالياً وعدم لمسها للأرض (صواب)

٣ - بحر الرمال العظيم يوجد في غرب مصر (صواب)

٤ - " دائما ما تكون الحرارة مرتفعة في أسوان طوال العام " العبارة تصف الطقس (خطأ)

٥ - رعاية شئون العمال من جهود الدولة للحفاظ على الصناعات التراثية (صواب)



مراجعة عامة الاختبار الثالث

السؤال الثاني ضع خطأ تحت الإجابة الصحيحة فيما بين القوسين

- ١ - يلون جنوب غرب مصر باللون البنّي بسبب وجود (المرتفعات - السهول - المنخفضات - البحار)
- ٢ - كل ما يلي من واجبات الطفل في مصر عدا

(الرعاية الصحية - أداء الواجبات المدرسية - المحافظة على البيئة - مساعدة أفراد الأسرة)



٣ - الأداة التي أمامك تستخدم في تحديد اتجاه الرياح وتسمى

(ميزان الحرارة - مقياس المطر - جوب الرياح - دوارة الرياح)

٤ - يبلغ عدد سكان مصر ٩٤ مليون نسمة عام ٢٠١٧ م (تعبر هذه العبارة عن)

(رأى - خيال - حقيقة - وجهة نظر)

٥ - " مساحة شاسعة من الماء المالح ذات أعماق كبيرة " هذه العبارة تنطبق على

(نهر النيل - البحر الأحمر - المحيط الهندي - بحيرة ناصر)

مراجعة عامة الاختبار الثالث

السؤال الثاني ضع خطأ تحت الإجابة الصحيحة فيما بين القوسين

- ١ - يلون جنوب غرب مصر باللون البني بسبب وجود (المرتفعات - السهول - المنخفضات - البحار)
- ٢ - كل ما يلي من واجبات الطفل في مصر عدا

(الرعاية الصحية - أداء الواجبات المدرسية - المحافظة على البيئة - مساعدة أفراد الأسرة)



٣ - الأداة التي أمامك تستخدم في تحديد اتجاه الرياح وتسمى

(ميزان الحرارة - مقياس المطر - جورب الرياح - دوارة الرياح)

٤ - يبلغ عدد سكان مصر ٩٤ مليون نسمة عام ٢٠١٧ م (تعبر هذه العبارة عن)

(رأى - خيال - حقيقة - وجهة نظر)

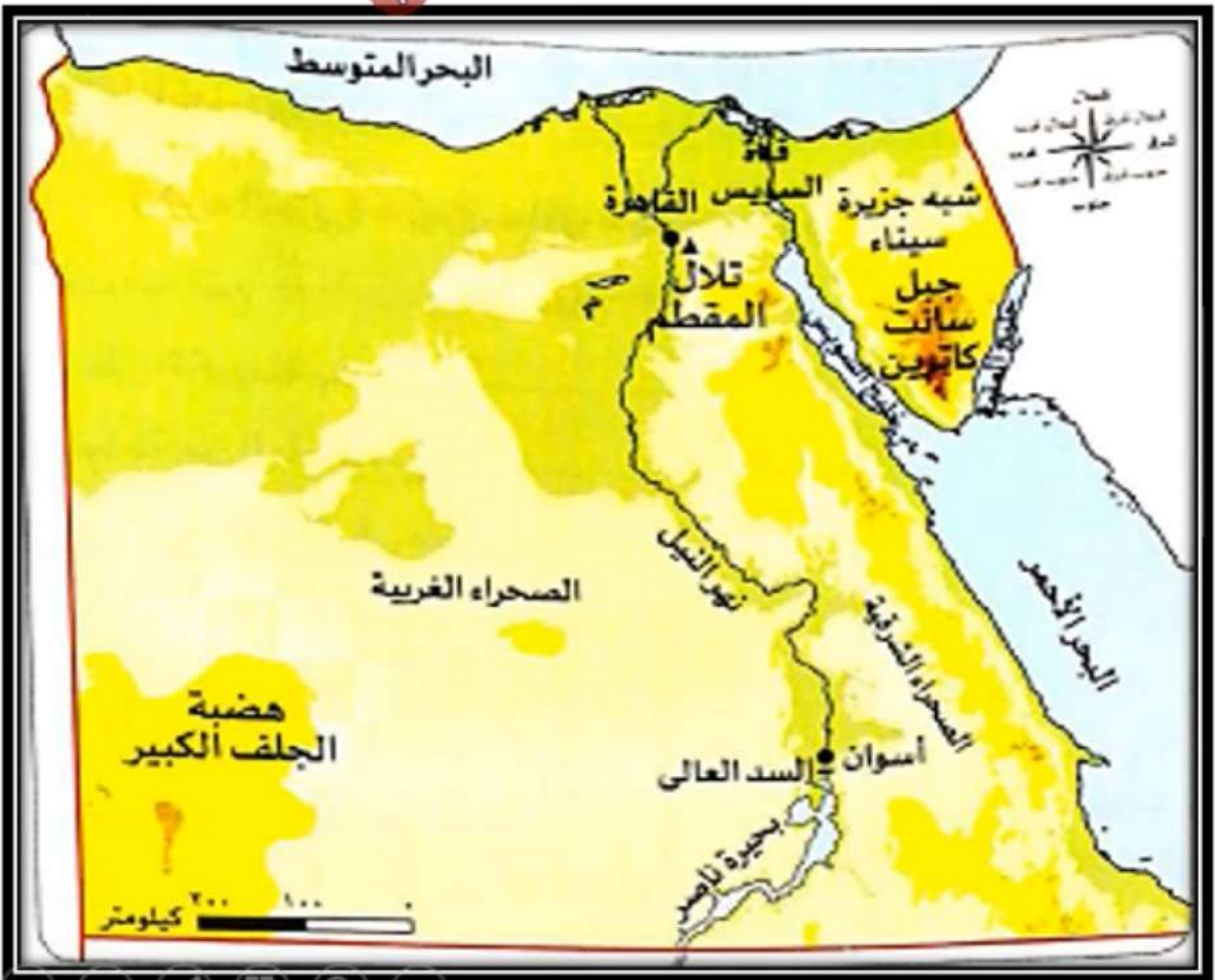
٥ - " مساحة شاسعة من الماء المالح ذات أعماق كبيرة " هذه العبارة تنطبق على

(نهر النيل - البحر الأحمر - المحيط الهندي - بحيرة ناصر)

مراجعة عامة الاختبار الثالث



السؤال الثالث - أ) لاحظ الخريطة ثم اختر الإجابة الصحيحة مما بين القوسين



١ - من خلال الخريطة نجد أن جبل سانت كاترين يقع في
..... مصر

(شمال - غرب - شمال شرق - جنوب شرق)

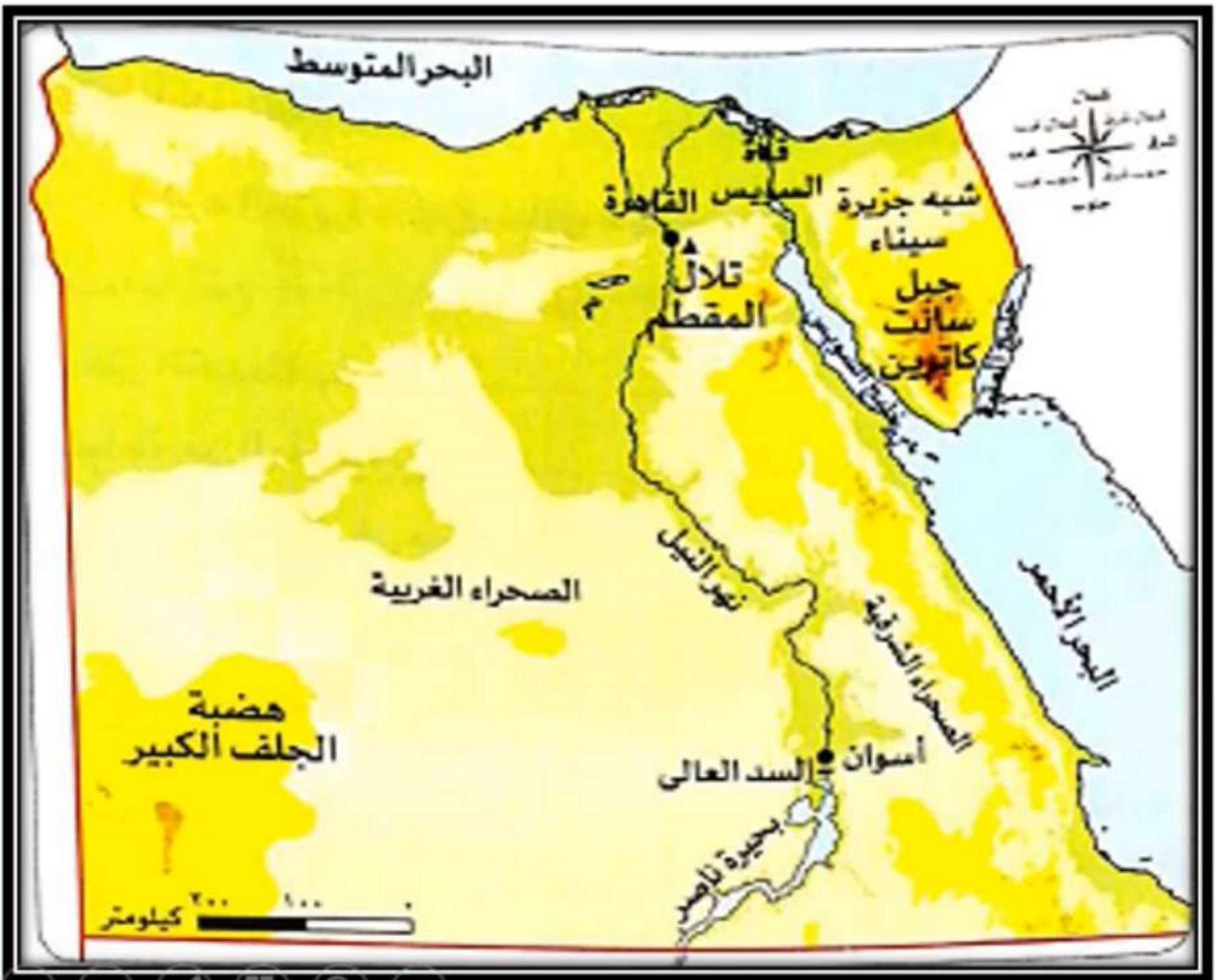
٢ - تعد بحيرة أكبر بحيرة صناعية عذبة في العالم
(البرلس - ناصر - قارون - المنزلة)

٣ - مسطح مائي يحد مصر شمالاً هو البحر
(الأحمر - المتوسط - الميت - الأسود)

مراجعة عامة الاختبار الثالث



السؤال الثالث - أ) لاحظ الخريطة ثم اختر الإجابة الصحيحة مما بين القوسين



١ - من خلال الخريطة نجد أن جبل سانت كاترين يقع في
..... مصر

(شمال - غرب - شمال شرق - جنوب شرق)

٢ - تعد بحيرة أكبر بحيرة صناعية عذبة في العالم
(البرلس - ناصر - قارون - المنزلة)

٣ - مسطح مائي يحد مصر شمالاً هو البحر
(الأحمر - المتوسط - الميت - الأسود)

مراجعة عامة الاختبار الثالث



تابع السؤال الثالث

ب (أجب بما هو مطلوب

١- وضح أهمية الحرف التراثية في دعم الاقتصاد المصري .

توفير فرص عمل للشباب - تدعم السياحة المستدامة حيث يُقبل السياح على شراء هذه المنتجات

٢ - " سيد دروش ملحن مصري له أغاني وألحان عظيمة وبقية حتى الآن " دلل

على صحة العبارة .

لحن أغنية " بلادي بلادي " التي أصبحت النشيد الوطني المصري



الأستاذ / عماد عيد أحمد

مع تمنياتنا بالتوفيق
الإدارة العامة للتعليم الإلكتروني

