



# المراجعة النهائية

الفصل الدراسي الأول



الصف  
الخامس  
الابتدائي

# 5

الدراسات  
الاجتماعية

## أكمل العبارات الآتية بكلمات مناسبة:

- ١ الموقع ..... هو موقع المكان بالنسبة لليابس والماء.
- ٢ تطل مصر من جهة ..... على البحر المتوسط، بينما تطل من جهة الشرق على البحر .....
- ٣ الموقع ..... هو الموقع بالنسبة لخطوط الطول ودوائر العرض.
- ٤ يمر مدار ..... في جنوب مصر.
- ٥ تقع معظم الأراضي المصرية ضمن الإقليم ..... ما عدا الأطراف (الأراضي) الشمالية ضمن إقليم .....
- ٦ كان المصري القديم دائم ..... و ..... فوق الهضاب.
- ٧ نزل المصري القديم إلى وادي النيل بسبب حدوث .....
- ٨ سكن المصري القديم فوق الهضاب في ..... بينما بنى بيوتًا من ..... بعد نُزوله إلى وادي النيل.
- ٩ تُعد مدينة ..... أول عاصمة موحدة لمصر عام ٤٢٤٢ ق م
- ١٠ قام الملك ..... حاكم مدينة طيبة بتوحيد البلاد عام ٣٢٠٠ ق.م
- ١١ كان شعار مملكة الشمال هو ..... وكان لون تاج مملكة الجنوب هو .....
- ١٢ ينبع نهر النيل من بحيرة فيكتوريا في وسط ..... ، ويصب في .....
- ١٣ من فروع الدلتا حاليًا فرع ..... ، وفرع .....
- ١٤ يقع منخفض الفيوم في ..... القاهرة.
- ١٥ يقع جبل ..... جنوب الصحراء الغربية.
- ١٦ يمتد بحر الرمال العظيم في الصحراء ..... على الحدود المصرية مع دولة .....
- ١٧ تمتد سلسلة جبال البحر الأحمر في الصحراء ..... وأعلى القمم الجبلية بها قمة جبل .....
- ١٨ يتميز وسط سيناء بوجود الهضاب أهمها هضبة .....
- ١٩ تُعد ..... أهم الممرات الملاحية في العالم.
- ٢٠ أطول أنهار العالم نهر ..... ويمر في عدة دول إفريقية.
- ٢١ تقع الأطراف الشمالية من مصر ضمن إقليم .....
- ٢٢ يتميز الإقليم الصحراوي بارتفاع الحرارة في فصل ..... وخاصة بالنهار.
- ٢٣ يحدث فصل الصيف في مصر عندما تتعامد الشمس على .....
- ٢٤ تهب على مصر رياح الخماسين في فصل .....
- ٢٥ تؤثر رياح ..... سلبيًا على الإنسان و المحاصيل الزراعية.
- ٢٦ ترتفع درجة الحرارة في أسوان صيفًا لقربها من مدار .....
- ٢٧ النبات الذي ينمو دون تدخل الإنسان في زراعته يُسمَّى .....
- ٢٨ قام المصريون القدماء بتسجيل الصفات الطبية على ..... ، مثل: بردية هيرست و بردية .....
- ٢٩ من أمثلة النباتات الصحراوية .....
- ٣٠ تُستخدم بعض النباتات الطبيعية في صناعة ..... و .....
- ٣١ فصل الشتاء في مصر تتخلله فترات شديدة ..... وأمطار غزيرة قد تصل إلى .....
- ٣٢ الإفراط في استخدام ..... و ..... في الزراعة يؤدي إلى تغيرات مناخية.
- ٣٣ من العوامل الطبيعية التي تؤدي للتغير المناخي .....

- ٣٤ التغيير المناخي يؤثر سلبيًا على الإنتاج الزراعي حيث يؤدي إلى انكماش مساحة ..... وتدهور
- ٣٥ تواجه مصر تأثيرات التغيير المناخي بعدة إجراءات منها ..... و
- ٣٦ يُعدّ المحيط الأطلنطي من مصادر المياه .....
- ٣٧ نهر النيل من مصادر المياه .....
- ٣٨ من البحيرات المالحة في مصر ..... و
- ٣٩ توجد مياه جوفية في ..... بالصحراء الغربية.
- ٤٠ تعتمد الزراعة في الساحل الشمالي لمصر على مياه .....
- ٤١ صنع المصري القديم أدواته من حجر الصوّان كما أنه حاول نحته ببساطة في العصر .....
- ٤٢ صنع الإنسان المصري القديم أدوات الزراعة في العصر .....
- ٤٣ يُستخرج الذهب من منجم ..... بالصحراء الشرقية.
- ٤٤ يُستخدم معدن ..... في صناعة قضبان السكك الحديدية.
- ٤٥ يوجد منجم ..... في سيناء لاستخراج المنجنيز.
- ٤٦ يُستخرج ..... من محافظة البحر الأحمر بالصحراء الشرقية ويُستخدم في صناعة أسلاك الكهرباء.
- ٤٧ يُستخدم ..... في صناعة الأسمدة.
- ٤٨ يُستخرج الحديد من ..... بالصحراء الغربية.
- ٤٩ اكتشف المصري القديم النار في العصر الحجري ..... واستخدمها في .....
- ٥٠ تمتلك مصر مصادر طاقة غير متجدّدة، مثل: ..... ومصادر طاقته متجدّدة، مثل:
- ٥١ يُستخرج الفحم من منجم جبل ..... شمال .....
- ٥٢ أكثر مصادر الطاقة غير المتجدد توليًّا للبيئة هو .....
- ٥٣ يُستخرج من البترول العديد من المشتقات، مثل: ..... و .....
- ٥٤ من مصادر الطاقة المتجددة الطاقة ..... والطاقة .....
- ٥٥ محطة جبل ..... أكبر محطة لتوليد الكهرباء من الرياح في الشرق الأوسط.
- ..... وشمال إفريقيا وتقع في محافظة .....
- ٥٦ البيع هو ..... مقابل عملة تستخدمها الدولة.
- ٥٧ ظهرت النقود ..... قبل النقود المعدنية.
- ٥٨ المسئول عن إصدار النقود الورقية في أي دولة هو البنك .....
- ٥٩ صدر مرسوم عام ١٩١٤ بجعل النقود ..... هي العملة الرسمية لمصر.
- ٦٠ قام المصريون القدماء بشق ..... لتوصيل المياه إلى المناطق البعيدة.
- ٦١ من أمثلة السدود التي أقامها المصريون القدماء سد ..... بالقرب من .....
- ٦٢ تصل مياه النيل إلى منخفض الفيوم عن طريق ترعة .....
- ٦٣ بُنيت القناطر الخيرية على رأس .....
- ٦٤ من أنظمة الري الحديثة ..... و .....
- ٦٥ تحتل مصر المركز ..... في إفريقيا في إنتاج الأسماك من المزارع السمكية
- ٦٦ عرف المصري القديم حرفة الزراعة بعد نزوله إلى ..... في العصر الحجري

- ٦٧ اهتم المصري القديم بتربية الحيوانات للاستفادة من ..... و .....
- ٦٨ من مصائد المياه المالحة في مصر ..... و .....
- ٦٩ من مصائد المياه العذبة في مصر ..... و .....
- ٧٠ تُعد محافظة ..... أكبر محافظات مصر من حيث أعداد الحيوانات.
- ٧١ استخدم المصري القديم طمي النيل في صناعة .....
- ٧٢ استخدم المصري القديم الرمال البيضاء في صناعة .....
- ٧٣ كانت الملابس عند قدماء المصريين تصنع من .....
- ٧٤ أرسلت الملكة حتشبسوت بعثات تجارية إلى بلاد .....
- ٧٥ يوجد معبد الملكة ..... في الأقصر.
- ٧٦ البلاد التي أقامت معها مصر علاقات تجارية بلاد ..... وبلاد (الصومال حاليًا) و .....
- ٧٧ تمتلك مصر العديد من المطارات الدولية أشهرها مطار ..... الدولي ومطار ..... ومطار .....
- ٧٨ من أهم صادرات مصر حاليًا ..... و ..... و .....

## ٢ اختر الإجابة الصحيحة مما بين القوسين:

- ١ تطل مصر على البحر المتوسط من جهة .....
- ٢ تقع مصر شمال شرق قارة .....
- ٣ يقسم خط جرينتش الكرة الأرضية إلى نصفين هما .....
- ٤ تفيدنا ..... في معرفة أحوال المناخ من حيث الحرارة والرياح والأمطار.
- ( خطوط الطول - دوائر العرض - خط جرينتش - البوصلة )
- ٥ كانت عاصمة مملكة الشمال مدينة .....
- ٦ كل هذه العوامل من العوامل البشرية لقيام الحضارة ما عدا .....
- ( الوحده - الجيش - نهر النيل - كفاح المصريين )
- ٧ كان لون تاج مملكة الجنوب هو .....
- ٨ كان شعار مملكة الشمال هو .....
- ( زهرة اللوتس - قرص الشمس - البقرة - نبات البردي )
- ٩ كان معبود مملكة الجنوب هو .....
- ( الصقر - ثعبان الكوبرا - حتحور - أنثى النسر )
- ١٠ تبدو الدلتا على شكل .....
- ( مربع - مستطيل - مثلث - دائرة )
- ١١ ينبع نهر النيل من بحيرة ..... وسط إفريقيا.
- ( السد العالي - إثيوبيا - المنزلة - فيكتوريا )
- ١٢ تقع هضبة ..... في شمال الصحراء الغربية
- ( العبابدة - مارمريكا - التية - الجلف الكبير )
- ١٣ يقع جبل ..... في جنوب غرب الصحراء الغربية.
- ( العوينات - شايب البنات - سانت كاترين - موسى )
- ١٤ أعلى القمم الجبلية في سلسلة جبال البحر الأحمر قمة جبل .....
- ( العوينات - شايب البنات - سانت كاترين - موسى )
- ١٥ من هضاب الصحراء الشرقية هضبة .....
- ( المعازة - الجلف الكبير - مارمريكا - التيه )
- ١٦ يقع وادي العلاقي في .....
- ( شبه جزيرة سيناء - الصحراء الغربية - الصحراء الشرقية - الدلتا )
- ١٧ أعلى جبال مصر و يقع جنوب شبه جزيرة سيناء جبل .....
- ( سانت كاترين - العوينات - شايب البنات - غلبة )

- ١٨ من العوامل المؤثرة في مناخ مصر .....
- ( الموقع الفلكي - القرب أو البعد عن المسطحات المائية - مظاهر السطح - كل ما سبق )
- ١٩ في الشتاء قد تقترب الحرارة من درجة صفر في محافظة .....
- ( أسوان - بورسعيد - القاهرة - المنيا )
- ٢٠ تتكون الثلوج على قمم الجبال وخاصةً في فصل .....
- ( الشتاء - الربيع - الصيف - الخريف )
- ٢١ تقع معظم الأراضي المصرية ضمن الإقليم الصحراوي ما عدا الأجزاء .....
- ( الجنوبية - الغربية - الشرقية - الشمالية )
- ٢٢ تقع معظم الأراضي المصرية ضمن الإقليم الصحراوي الحار نتيجة .....
- ( موقعها الفلكي - مظاهر السطح - القرب أو البعد عن المسطحات المائية - كل ما سبق )
- ٢٣ تسقط الأمطار في مصر في .....
- ( فصل الصيف - طوال العام - فصل الشتاء - فصل الربيع )
- ٢٤ يكون فصل الصيف في نصف الكرة الشمالي حينما تتعامد الشمس على .....
- ( دائرة الاستواء - مدار الجدي - مدار السرطان - الدائرة القطبية الشمالية )
- ٢٥ يُطلق على تنوع الحياة النباتية والحيوانية على كوكب الأرض التنوع .....
- ( الجيولوجي - البيولوجي - المورفولوجي - المناخي )
- ٢٦ تنمو في الوادي والدلتا ومنخفض الفيوم نباتات مائية، مثل: .....
- ( التوت - الكافور - الجميز - البوص )
- ٢٧ النباتات الصحراوية تتحمل الحرارة والجفاف، مثل .....
- ( الصبار - التين الشوكي - النخيل - كل ما سبق )
- ٢٨ تتساقط الثلوج على قمة جبل .....
- ( في شبه جزيرة سيناء شتاءً. )
- ( العوينات - شايب البنات - سانت كاترين - غلبة )
- ٢٩ «التحولات في الظروف المناخية، مثل: درجة الحرارة والأمطار» تُشير إلى .....
- ( السيول - الجفاف - الفيضان - التغير المناخي )
- ٣٠ يرجع التغير المناخي بشكل رئيسي إلى .....
- ( حرق الوقود الحفري - إزالة الغابات - الأنشطة الصناعية - كل ما سبق )
- ٣١ من العوامل الطبيعية التي تؤدي للتغير المناخي .....
- ( الانفجارات البركانية - استخدام المبيدات - الأسمدة الكيماوية - صناعة الحديد والأسمت )
- ٣٢ قد يُصاب الإنسان بمرض الملاريا نتيجة .....
- ( الزلازل - الأمطار - الفيضان - التغير المناخي )
- ٣٣ من أمثلة المياه العذبة في العالم .....
- ( البحر الأحمر - المحيط الهندي - البحر المتوسط - نهر النيل )
- ٣٤ يصب نهر النيل في .....
- ( بحيرة البردويل - خليج العقبة - البحر المتوسط - خليج السويس )
- ٣٥ تعتمد الحياة في الواحات على .....
- ( الأمطار - المياه الجوفية - البحر الأحمر - نهر النيل )
- ٣٦ تقوم الزراعة في الساحل .....
- ( لمصر على مياه الأمطار الشتوية. )
- ( الجنوبي - الشمالي - الشرقي - الجنوبي الشرقي )
- ٣٧ يُستخدم معدن .....
- ( في صناعة الحلي. الحديد - الذهب - النحاس - المنجنيز )
- ٣٨ يُستخدم .....
- ( في صناعة الطوب الحراري. النحاس - الذهب - الفوسفات - الرصاص )
- ٣٩ اكتشف المصري القديم .....
- ( في العصر الحجري القديم. النار - الزراعة - المعادن - البترول )
- ٤٠ من مصادر الطاقة غير المتجددة .....
- ( طاقة الرياح - الطاقة الكهرومائية - الطاقة الشمسية - الفحم )
- ٤١ يُستخرج .....
- ( من جبل المغارة شمال سيناء. البترول - الغاز الطبيعي - الفحم - الحديد )
- ٤٢ أكبر محطة لتوليد الكهرباء من الرياح في الشرق الأوسط محطة .....
- ( جبل سانت كاترين - جبل الزيت - جبل علبه - جبل العوينات )

- ٤٣ تُعدّ ..... من أغنى دول العالم بالطاقة الشمسية. (النرويج - السويد - روسيا - مصر)
- ٤٤ تبادل السلع والخدمات بدون استخدام النقود تُسمّى ..... (البنوك - البيع - الشراء - المقايضة)
- ٤٥ عندما ظهرت مشكلات العملات المعدنية أودعتها الناس في ..... (المخازن - الأسواق - البنوك - الجبال)
- ٤٦ بدأ البنك ..... في إصدار النقود الورقية في مصر عام ١٨٩٩م (المركزي - الأهلي المصري - بنك مصر - اليوناني)
- ٤٧ صدر قانون عام ١٩٦٠م بإنشاء ..... وتم منحه إصدار العملة الورقية المصرية (البنك المركزي المصري - البنك الأهلي المصري - بنك مصر - بنك الإسكندرية)
- ٤٨ قام المصريون القدماء بتنظيم مواعيد الزراعة وقسموا السنة الزراعية إلى ..... فصول. (خمسة - أربعة - ثلاثة - ستة)
- ٤٩ بُني سد اللاهون في عهد الملك ..... (أمنمحات الثالث - أمنمحات الثاني - مينا - رمسيس الثاني)
- ٥٠ أنشأ المصريون القدماء ..... لتحديد ارتفاع مياه النيل وتحديد الضرائب. (المقاييس - القناطر - السدود - الترع)
- ٥١ أنشئ السد العالي في عهد الرئيس ..... (حسني مبارك - جمال عبد الناصر - أنور السادات - محمد نجيب)
- ٥٢ عرف المصري القديم الزراعة والاستقرار في العصر ..... (الحجري القديم - الحجري الحديث - العتيق - المتأخر)
- ٥٣ استخدم المصري القديم العديد من الأدوات لصيد الأسماك، مثل: ..... (الرماح - السيوف - الدروع - المنجل)
- ٥٤ أكبر المحافظات من حيث عدد الحيوانات محافظة ..... (الجيزة - البحيرة - المنوفية - القليوبية)
- ٥٥ يأتي ٨٠% من إنتاج الأسماك في مصر من ..... (البحر الأحمر - البحر المتوسط - المزارع السمكية - بحيرة قارون)
- ٥٦ تحتل مصر المركز ..... إفريقيًا في إنتاج الأسماك من المزارع السمكية. (الأول - الثاني - الخامس - السادس)
- ٥٧ تحتل المركز الأول في إنتاج الأسماك في مصر محافظة ..... (الإسكندرية - أسوان - البحر الأحمر - كفر الشيخ)
- ٥٨ يوجد مشروع الفيروز للاستزراع السمكي في ..... (الإسماعيلية - بورسعيد - السويس - العريش)
- ٥٩ يعد مشروع بركة غليون من مشروعات الاستزراع السمكي في ..... (بورسعيد - البحيرة - كفر الشيخ - أسوان)
- ٦٠ اعتمدت الصناعات الزجاجية على ..... (الطمي - الرمال البيضاء - الأخشاب - الصخور)
- ٦١ صنع المصري القديم ملابس من ..... (الحرير - القطن - الكتان - الجوت)
- ٦٢ كان المصري القديم يصنع الورق من ..... (نبات اللوتس - نبات البردي - نبات القمح - نبات الذرة)
- ٦٣ أرسلت الملكة حتشبسوت بعثة تجارية إلى بلاد ..... الصومال حاليًا وقد وصفت هذه الرحلة على معبدها. (فينيقيا - بونت - روما - اليونان)
- ٦٤ كل هذه المنتجات تصدرها مصر إلى الخارج ما عدا ..... (الفوسفات - الحديد - الفواكه - السيارات)
- ٦٥ ربط طريق ..... بين مصر وحضارات الصين والهند والعراق القديمة. (رأس الرجاء الصالح - التوابل - الحرير - الدائري)
- ٦٦ تُعدّ ..... أهم طريق ملاحى في العالم وأحد المصادر الرئيسية للعملة الأجنبية في مصر. (نهر النيل - قناة السويس - خليج العقبة - سيناء)

### ٣ اكتب كلمة "صح" أمام العبارة الصحيحة، وكلمة "خطأ" أمام العبارة الخاطئة:

- ١ الموقع الفلكي هو موقع المكان بالنسبة لخطوط الطول ودوائر العرض. (.....)
- ٢ خطوط الطول ودوائر العرض هي خطوط حقيقية توجد على الطبيعة. (.....)
- ٣ تطل مصر من جهة الشرق على البحر المتوسط. (.....)
- ٤ دائرة الاستواء هي دائرة العرض الرئيسية ودرجتها صفر. (.....)
- ٥ عاش المصري القديم فوق الهضاب حياة استقرار. (.....)
- ٦ كانت عاصمة مملكة الجنوب هي مدينة بوتو. (.....)
- ٧ بنى المصري القديم بيوتاً من الطوب اللبن بعد نزوله إلى وادي النيل. (.....)
- ٨ كان شعار مملكة الجنوب نبات البردي. (.....)
- ٩ أصغر الوحدات التضاريسية في مصر هي شبه جزيرة سيناء. (.....)
- ١٠ تمثل الصحراء الغربية ثلثي مساحة مصر. (.....)
- ١١ يُعد جبل شايب البنات من القمم الجبلية في الصحراء الغربية. (.....)
- ١٢ الصحراء الشرقية غنية بالمعادن، مثل: الذهب والنحاس. (.....)
- ١٣ تمتد سلسلة جبال البحر الأحمر في شرق مصر. (.....)
- ١٤ تعتدل درجة الحرارة في المناطق المطلة على البحر المتوسط طوال العام. (.....)
- ١٥ تتراكم الثلوج فوق جبل سانت كاترين في فصل الشتاء. (.....)
- ١٦ يتميز إقليم البحر المتوسط باعتدال الحرارة وندرة الأمطار. (.....)
- ١٧ تتلف المحاصيل الزراعية بسبب رياح الخماسين في فصل الشتاء. (.....)
- ١٨ تمتلك مصر ثروة نباتية وحيوانية ذات قيمة اقتصادية عالية. (.....)
- ١٩ استخدم المصريون القدماء النباتات الطبيعية في الطب والعلاج وصناعة العطور. (.....)
- ٢٠ ترجع بردية هيرست وبردية إيبيرس إلى عصر الملك أمنحتب الأول أحد ملوك الدولة القديمة. (.....)
- ٢١ استخدم المصريون القدماء اللوز والياسمين والزعفران في العلاج وصناعة العطور. (.....)
- ٢٢ تندر الحيوانات البرية بالقرب من الوادي والدلتا. (.....)
- ٢٣ الانفجارات البركانية من العوامل البشرية التي تؤدي لتغير المناخ. (.....)
- ٢٤ تؤثر التغيرات المناخية سلبيًا على صحة الإنسان والإنتاج الزراعي. (.....)
- ٢٥ تتعرض أنواع كثيرة من النباتات الطبيعية والكائنات الحية للانقراض بسبب التغير المناخي. (.....)
- ٢٦ تزيد نسبة المياه العذبة عن المياه المالحة على سطح الأرض. (.....)
- ٢٧ الأنهار والأمطار من موارد المياه العذبة. (.....)
- ٢٨ خزّان الحجر الرملي النوبي يحتوي على كمية كبيرة من المياه. (.....)
- ٢٩ يُستخدم معدن الفوسفات في صناعة الأسمدة الكيماوية. (.....)
- ٣٠ يُستخرج المنجنيز من منجم السكري بالصحراء الشرقية. (.....)
- ٣١ استخدم المصري القديم النار في التدفئة وطهي الطعام. (.....)
- ٣٢ اكتشف المصري القديم النار في العصر الحجري الحديث. (.....)
- ٣٣ من مصادر الطاقة غير المتجددة في مصر البترول والغاز الطبيعي. (.....)

- ٣٤ يُستخرج البترول من حقول بريّة وبحريّة في خليج السويس. (.....)
- ٣٥ يُستخرج من الغاز الطبيعي مشتقات، مثل: البنزين والسولار. (.....)
- ٣٦ الفحم أقل مصادر الطاقة غير المتجددة تلويثًا للبيئة. (.....)
- ٣٧ يُستخدم الفحم في صناعة الألياف الصناعية والبلاستيك. (.....)
- ٣٨ ظهرت النقود السلعة قبل نظام المقايضة. (.....)
- ٣٩ المقايضة هي تبادل السلع والخدمات بدون استخدام النقود. (.....)
- ٤٠ اختراع النقود أدى لتسهيل عملية البيع والشراء. (.....)
- ٤١ ظهرت النقود الورقية بعد النقود المعدنية. (.....)
- ٤٢ البنك الأهلي المصري أول من أصدر النقود الورقية في مصر وكانت قابلة للتحويل إلى ذهب. (.....)
- ٤٣ البنك المركزي هو المسئول عن إصدار العملة الورقية المصرية حاليًا. (.....)
- ٤٤ أقام المصريون القدماء سد اللاهون بالقرب من الأقصر. (.....)
- ٤٥ ترعة بحر يوسف توصل مياه نهر النيل إلى منخفض القطارة. (.....)
- ٤٦ من أنظمة الري الحديثة الري بالرش والري بالتنقيط. (.....)
- ٤٧ من الأدوات التي استخدمها المصري القديم لحصاد المحصول المنجل. (.....)
- ٤٨ عرف المصري القديم حرفة الزراعة قبل نزوله إلى وادي النيل. (.....)
- ٤٩ تتصدر الأغنام المركز الأول من حيث أعداد رؤوس الحيوانات في مصر. (.....)
- ٥٠ أكبر محافظات مصر من حيث أعداد الحيوانات محافظة البحيرة. (.....)
- ٥١ أكثر إنتاج مصر من الأسماك يأتي من البحيرات. (.....)
- ٥٢ من الصناعات التي تعتمد على نبات البردي صناعة الزجاج. (.....)
- ٥٣ استخدم المصري القديم طمي النيل في صناعة الأواني الفخارية. (.....)
- ٥٤ صنع المصري القديم ملابس من الكتان. (.....)
- ٥٥ صنع قدماء المصريين من الأخشاب المراكب والسفن. (.....)
- ٥٦ استفادت مصر من موقعها الجغرافي المتميز في إقامة علاقات تجارية مع جيرانها. (.....)
- ٥٧ ساهم طريق التوابل في إدخال الخزف الصيني والحديد لمصر. (.....)
- ٥٨ كانت التوابل تُنقل من آسيا إلى فرنسا عبر مدينة القاهرة. (.....)

#### ٤ اكتب ما تشير إليه العبارات التالية:

- ١ القارة التي تقع مصر في شمالها الشرقي. (.....)
- ٢ موقع المكان بالنسبة لخطوط الطول ودوائر العرض. (.....)
- ٣ موقع المكان بالنسبة لليابس والماء. (.....)
- ٤ خط الطول الرئيسي، يقسم الأرض إلى نصفين شرقي وغربي. (.....)
- ٥ دائرة عرض رئيسية، تمر في جنوب مصر. (.....)
- ٦ إقليم مناخي تقع فيه معظم الأراضي المصرية. (.....)
- ٧ حاكم مدينة طيبة الذي نجح في توحيد البلاد عام ٣٢٠٠ ق.م. (.....)
- ٨ عاصمة مملكة الشمال. (.....)

- ٩ شعار مملكة الجنوب.
- ١٠ تبدو على شكل مثلث، تكونت من رواسب فيضية عند مصب النهر.
- ١١ تبدو على شكل مستطيل، و تعتبر أكبر الوحدات التضاريسية في مصر.
- ١٢ مجارٍ مائية كانت تملؤها المياه، ثم جفت.
- ١٣ أعلى قمة جبلية في سلسلة جبال البحر الأحمر.
- ١٤ فصل يبدأ في مصر حينما تتعامد الشمس على مدار الجدي.
- ١٥ فصل تهب فيه رياح الخماسين على مصر.
- ١٦ إقليم مناخي تقع فيه معظم الأراضي المصرية.
- ١٧ تنوع الحياة النباتية والحيوانية على كوكب الأرض.
- ١٨ أحد ملوك الدولة الحديثة وكنبت في عصره بردية هيرست وبردية إبيرس.
- ١٩ النبات الذي ينمو تلقائيًا دون تدخل الإنسان في الزراعة.
- ٢٠ تتمثل في البحار والمحيطات والبحيرات المالحة وتُغطّي ٩٦,٥% من مساحة سطح الأرض.
- ٢١ تقوم عليها الزراعة في الساحل الشمالي.
- ٢٢ أكبر الخزانات الجوفية في مصر بالصحراء الغربية.
- ٢٣ المعدن الذي يُستخدم في صناعة الأسمدة الكيماوية والمبيدات الحشرية.
- ٢٤ معدن يتم استخراجها من منجم أم بجمة في سيناء.
- ٢٥ فصل الهيدروجين من الماء بهدف إنتاج طاقة نظيفة
- ٢٦ اكتشفها المصري القديم في العصر الحجري القديم واستخدمها في التدفئة وطهي الطعام
- ٢٧ مصدر طاقة غير متجدد ويُستخرج من جبل المغارة شمال سيناء
- ٢٨ تبادل السلع والخدمات بدون استخدام النقود
- ٢٩ أخذ السلع والخدمات مقابل عملة تستخدمها الدولة
- ٣٠ إعطاء السلع والخدمات مقابل عملة تستخدمها الدولة
- ٣١ أقيم في عهده سد اللاهون بالقرب من الفيوم.
- ٣٢ يتصل بنهر النيل عن طريق ترعة بحر يوسف.
- ٣٣ قناطر أقيمت على رأس الدلتا.
- ٣٤ الحرفة التي عرفها المصري القديم بعد نزوله إلى الوادي.
- ٣٥ محافظة تأتي في المركز الأول في أعداد الحيوانات في مصر.
- ٣٦ أكبر المحافظات إنتاجًا للثروة السمكية في مصر.
- ٣٧ تحتل المركز الأول إفريقياً في إنتاج الأسمك من المزارع السمكية.
- ٣٨ المادة الخام التي استخدمها المصري القديم في صنائه الورق.
- ٣٩ المادة الخام المستخدمة في صناعة الزجاج عند القدماء المصريين.
- ٤٠ محافظة مصرية بها مدينة الجلود بالروبيكي.
- ٤١ معبد سجلت على جدرانها حثشبسوت بعثتها التجارية لبلاد بونت.
- ٤٢ الفرق بين قيمة الصادرات والواردات.
- ٤٣ مدينة مصرية كانت تُنقل من خلالها التوابل قديمًا من آسيا إلى فرنسا.

## ٥ بم تفسر ...؟

- ١ أهمية موقع مصر الجغرافي.
- ٢ أهمية خطوط الطول.
- ٣ أهمية دوائر العرض.
- ٤ نزول المصري القديم إلى وادي النيل.
- ٥ لنهر النيل دور كبير في الحضارة المصرية القديمة.
- ٦ أهمية وجود جيش قوي.
- ٧ استقرار المصري القديم بعد نزوله إلى وادي النيل.
- ٨ وقوع معظم الأراضي المصرية في الإقليم الصحراوي الحار.
- ٩ ارتفاع درجات الحرارة في أسوان صيفًا.
- ١٠ اعتدال درجة الحرارة في المناطق المطلة على البحر الأحمر والبحر المتوسط.
- ١١ النباتات الطبيعية لها أهمية عند المصريين القدماء.
- ١٢ تنوع النباتات الطبيعية في مصر.
- ١٣ أهمية النباتات الطبيعية في مصر.
- ١٤ الصحاري المصرية فقيرة في النباتات الطبيعية.
- ١٥ حدوث التغير المناخي في مصر.
- ١٦ تتعرض شواطئ مصر الشمالية للتآكل وغرق أجزاء من سواحلها.
- ١٧ لنهر النيل أهمية اقتصادية كبيرة.
- ١٨ قيام الزراعة في الساحل الشمالي لمصر.
- ١٩ أهمية خزان الحجر الرملي النوبي.
- ٢٠ أهمية التعدين كنشاط اقتصادي.
- ٢١ أهمية معدن الذهب.
- ٢٢ تتعدد أهمية معدن الحديد.
- ٢٣ الأهمية الاقتصادية للفوسفات.
- ٢٤ أهمية معدن النحاس.
- ٢٥ الهيدروجين الأخضر مستقبل الطاقة في مصر.
- ٢٦ أهمية اكتشاف النار عند المصري القديم.
- ٢٧ البترول من أهم مصادر الطاقة في مصر.
- ٢٨ أهمية البنك المركزي المصري.
- ٢٩ ظهور النقود الورقية.
- ٣٠ ظهور النقود المعدنية.
- ٣١ أهمية سد اللاهون.
- ٣٢ أهمية السد العالي.
- ٣٣ أهمية الثروة الحيوانية والسمكية في مصر.
- ٣٤ أهمية الرمال البيضاء عند القدماء المصريين.
- ٣٥ أهمية نبات البردي عند القدماء المصريين.
- ٣٦ الميزان التجاري لمصر في حالة عجز.
- ٣٧ تسمية طريق التوابل بهذا الاسم.

## ٦ ما النتائج المترتبة على ...؟

- ١ موقع مصر الفلكي.
- ٢ حدوث الجفاف فوق الهضاب.
- ٣ موقع مصر الجغرافي المتميز.
- ٤ قيام الملك مينا بتوحيد البلاد عام ٣٢٠٠ ق.م.
- ٥ نزول المصري القديم إلى وادي النيل.
- ٦ الموقع الفلكي لمصر.
- ٧ الارتفاع الشاهق لجبل سانت كاترين.
- ٨ توافر النباتات الطبيعية في مصر الفرعونية.
- ٩ تنوع المناخ والبيئات المصرية.
- ١٠ اكتشاف المصري القديم للنار.
- ١١ سطوع الشمس على أرض مصر طوال العام.
- ١٢ ظهور عيوب المُقايسة.
- ١٣ ظهور عيوب النقود المعدنية.
- ١٤ وجود ترعة بحر يوسف.
- ١٥ إنشاء سد اللاهون.
- ١٦ نزول المصري القديم من فوق الهضاب.
- ١٧ وجود نبات البردي عند قدماء المصريين.
- ١٨ توافر الرمال البيضاء في الصحاري المصرية.
- ١٩ زيادة واردات مصر عن صادراتها.

## ٧ ما العلاقة بين ...؟

- ١ موقع مصر الجغرافي ودول العالم.
- ٢ خطوط الطول وفروق التوقيت بين دول العالم.
- ٣ نهر النيل وقيام الحضارة المصرية القديمة.
- ٤ حدوث الجفاف واستقرار المصري القديم.
- ٥ مدار السرطان وارتفاع الحرارة جنوب مصر.
- ٦ المصريون القدماء والنباتات الطبيعية.
- ٧ الزراعة في الساحل الشمالي والمطر.
- ٨ الحياة في الواحات والمياه الجوفية.
- ٩ صناعة التماثيل والمعادن في مصر القديمة.
- ١٠ الملابس والكتان عند قدماء المصريين.
- ١١ قناة السويس والعملات الأجنبية.

٨ **قارن بين:**

- ١ الموقع الفلكي والموقع الجغرافي.
- ٢ دوائر العرض وخطوط الطول.
- ٣ مملكة الشمال ومملكة الجنوب.
- ٤ أهمية المياه العذبة وأهمية المياه المالحة.

٩ **صوّب ما تحته خط:**

- ١ سكن المصري القديم **الكهوف** بعد نزوله إلى وادي النيل.
- ٢ كان لون تاج مملكة الشمال هو اللون **الأبيض**.
- ٣ كانت عاصمة الوحدة الأولى لمصر عام ٤٢٤٢ ق.م مدينة **طيبة**.
- ٤ نجح الملك **خوفو** في توحيد البلاد عام ٣٢٠٠ ق.م.
- ٥ تنقسم مظاهر السطح في مصر إلى **ثلاث** وحدات تضاريسية.
- ٦ الوادي والدلتا و منخفض الفيوم **أكبر** الوحدات التضاريسية في مصر.
- ٧ يتصل منخفض الفيوم بنهر النيل عن طريق ترعة **الإسماعيلية**.
- ٨ تمتد **هضبة الجلف الكبير** شمال الصحراء الغربية.
- ٩ يبدأ فصل الصيف في مصر عندما تتعامد الشمس على **دائرة الاستواء**.
- ١٠ تنشط رياح الخماسين في مصر في فصل **الخريف**.
- ١١ تسقط الأمطار في فصل الشتاء في **الإقليم الصحراوي الحار**.
- ١٢ يطول النهار ويقصر الليل في فصل **الشتاء** بمصر.
- ١٣ من الحيوانات التي تتحمل الجوع والعطش **الأبقار**.
- ١٤ تنمو أشجار **الكافور** في الساحل الشمالي نتيجة سقوط الأمطار الشتوية.
- ١٥ إزالة الغابات من العوامل **الطبيعية** للتغير المناخي.
- ١٦ استضافت **الغردقة** مؤتمر الأمم المتحدة للتغير المناخي في نوفمبر عام ٢٠٢٢م.
- ١٧ تُصاب الشعاب المرجانية بالضعف والموت بسبب التغير المناخي مما يؤثر سلبيًا على **الزراعة** في مصر.
- ١٨ يؤثر التغير المناخي على صحة **الحيوانات** فقد تُصاب بمرض الملاريا.
- ١٩ تعتمد الحياة في الواحات المصريّة على **مياه الأمطار**.
- ٢٠ من البحيرات الشمالية المالحة في مصر **بحيرة ناصر**.
- ٢١ لنهر النيل فرعان هما دمياط و**بورسعيد**.
- ٢٢ يُستخرج **معدن الحديد** من منجم السكري بالصحراء الشرقية.
- ٢٣ يُستخدم **النحاس** في صناعة المبيدات الحشرية.
- ٢٤ اكتشف المصري القديم النار في العصر الحجري القديم واستخدمها في **تسيير المراكب الشراعية**.
- ٢٥ من مصادر الطاقة غير المتجددة **طاقة الرياح**.
- ٢٦ يُستخرج **البترو**ل من جبل المغارة شمال سيناء.

- ٢٧ يُستخرج البترول من حقول برية وبحرية في منطقة خليج العقبة.
- ٢٨ مبادلة سلعة بسلعة أخرى تُسمى بالنقود.
- ٢٩ إعطاء السلع والخدمات مقابل عملة تستخدمها الدولة تُسمى ال شراء.
- ٣٠ استخدمت المكسيك القمح كعملة في عمليتي البيع والشراء.
- ٣١ يوجد مشروع الدلتا الجديدة جنوب الصحراء الغربية.
- ٣٢ تكونت بحيرة المنزلة بعد بناء السد العالي.
- ٣٣ اصطاد المصري القديم الحيوانات فوق الهضاب لأكل لحومها، مثل: الأسود.
- ٣٤ عرف المصري القديم الزراعة بعد نزوله إلى الوادي في العصر الحجري القديم.
- ٣٥ تأتي الماعز في المركز الأول في عدد رؤوس الحيوانات في مصر.
- ٣٦ السودان تحتل المركز الأول إفريقياً في إنتاج الأسماك من المزارع السمكية.
- ٣٧ اعتمدت الصناعات اليدوية على الآلات الحديثة.
- ٣٨ الميزان السياسي هو الفرق بين قيمة الصادرات والواردات.
- ٣٩ من أشهر الموانئ المصرية ميناء أسوان وميناء دمياط.
- ٤٠ استفاد المصريون من المناخ في إقامة علاقات تجارية مع جيرانهم.

## ١٠ اذكر سببًا واحدًا لكل من:

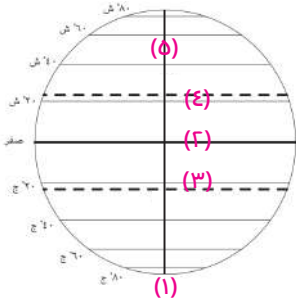
- ١ تميّز منخفض الفيوم بأرضه الخصبة رغم وقوعه في الصحراء الغربية.
- ٢ أهمية الأودية الجافة.
- ٣ تركز السكان في بعض مناطق الصحراء الغربية.

## ١١ اذكر نتيجة واحدة لكل من:

- ١ وجود الآبار الجوفية للمياه العذبة في الصحراء الغربية.
- ٢ وجود المياه الجوفية في الواحات المصرية.
- ٣ وجود نهر النيل في مصر.
- ٤ سقوط أمطار شتوية على الساحل الشمالي لمصر.

## ١٢ دلل على صحة العبارات الآتية:

- ١ التعرية الهوائية والمائية لها دور كبير في تشكيل سطح الصحراء الغربية.
- ٢ تعددت الصناعات عند قدماء المصريين.
- ٣ استخدم القدماء المصريين المواد الخام من نهر النيل في بعض الصناعات.
- ٤ لقناة السويس أهمية كبيرة.
- ٥ تتعدد جهود الدولة لتطوير الموانئ المصرية.

١٣ **لاحظ الشكل الذي أمامك، ثم أجب عن التالي:**

- ١ رقم (١) يُشير إلى القطب .....  
 ٢ رقم ..... يُشير إلى دائرة الاستواء.  
 ٣ الدائرة التي درجتها **٢٣,٥** جنوبًا تمثل رقم .....  
 ٤ مدار السرطان يمثل رقم .....  
 ٥ رقم (٥) يمثل خط .....

١٤ **أكمل الجدول الآتي:**

مملكة الجنوب	مملكة الشمال	
.....	بوتو	العاصمة
أبيض	.....	لون التاج
.....	ثعبان الكوبرا	المعبود
.....	.....	الشعار

١٥ **حدد أي العوامل التالية طبيعية وأيها بشرية بالنسبة للحضارة المصرية القديمة:**

- ١ جيش قوي. ( ..... )  
 ٢ نهر النيل. ( ..... )  
 ٣ موقع جغرافي. ( ..... )  
 ٤ حكومة مركزية ( ..... )  
 ٥ المناخ. ( ..... )  
 ٦ كفاح المصريين. ( ..... )  
 ٧ تنوع الثروات المعدنية والصخور. ( ..... )

١٦ **صنف الظواهر الجغرافية الآتية حسب القسم الذي تنتمي له:**

( فرع دمياط وفرع رشيد - جبل موسى - وادي العلاقي - هضبة الجلف الكبير - هضبة المعازة -  
 جبل شايب البنات - هضبة التيه - واحة سيوة - نهر النيل )

الوادي والدلتا ومنخفض الفيوم	الصحراء الغربية	الصحراء الشرقية	شبه جزيرة سيناء
.....	.....	.....	.....

## ١٧ نسب المدن الآتية للإقليم المناخي الذي تنتمي إليه:

العريش - السلوم - أسوان - أسيوط

الإقليم الصحراوي الحار	إقليم البحر المتوسط

## ١٨ حدد المدينة التي لا تنتمي إلى المجموعة:

١ مرسى مطروح - سوهاج - دمياط - السلوم

٢ قنا - بني سويف - سيوة - بورسعيد

٣ الفيوم - العريش - العلقين - السلوم

## ١٩ صنف النباتات الطبيعية الآتية حسب المناطق التي تنمو بها:

٣ التين والزيتون

٢ النخيل والصابر

١ الجميز

٥ نبات الحلفا

٤ الكافور

## ٢٠ وضح تأثير التغير المناخي على كل من:

١ الإنسان.

٢ السياحة في مصر.

## ٢١ رتب تطور ظهور النقود في العالم من القديم إلى الحديث :

النقود الورقية - النقود السلعية - المُقايضة - النقود المعدنية

## ٢٢ حدد الصناعة التي تستخدم المواد الخام:

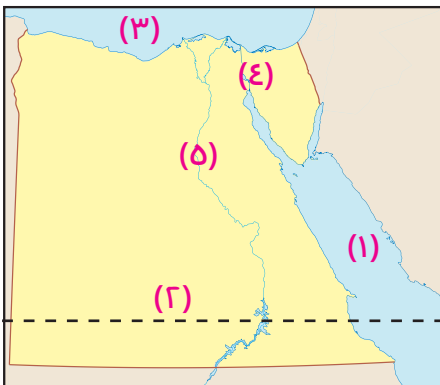
١ طمي النيل

٢ الرمال البيضاء

٣ الذهب والفضة

## ٢٣ أمامك خريطة صماء لمصر, وضح ما تدل عليه الأرقام:

أ



١ البحر

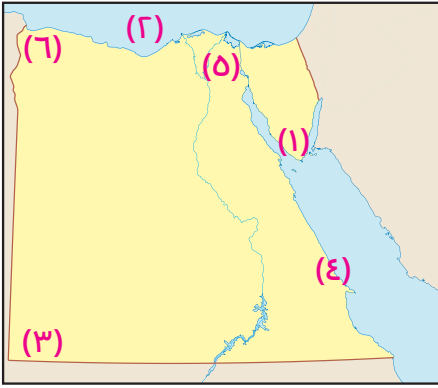
٢ مدار

٣ البحر

٤ قناة

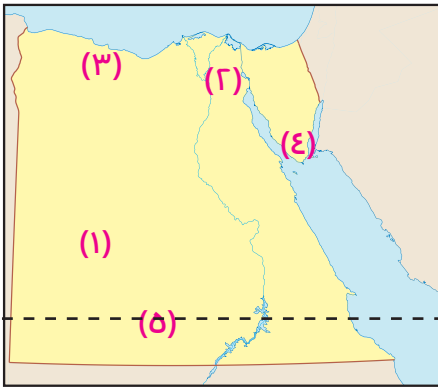
٥ نهر

ب



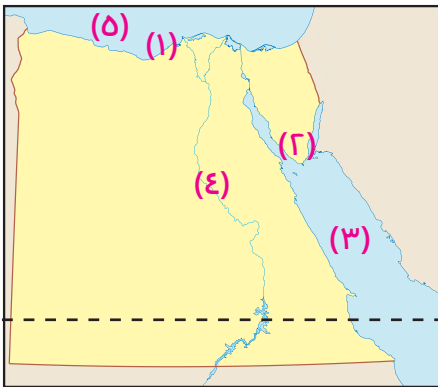
- ١ فرع دمياط يدل عليه الرقم .....
- ٢ جبل العوينات يدل عليه الرقم .....
- ٣ هضبة مارمريكا يدل عليها الرقم .....
- ٤ البحر المتوسط يدل عليه الرقم .....
- ٥ سلسلة جبال البحر الأحمر يدل عليها الرقم .....
- ٦ جبل سانت كاترين يدل عليه الرقم .....

ب



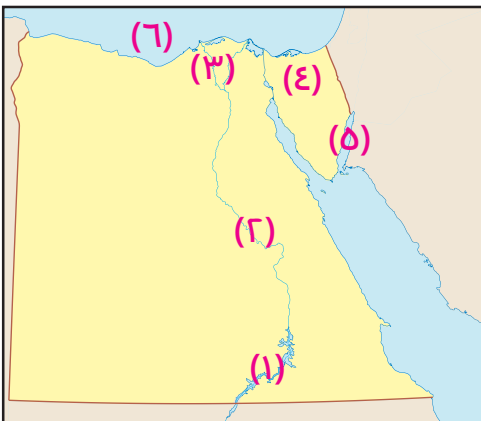
- ١ إقليم البحر المتوسط يدل عليه الرقم .....
- ٢ مدار السرطان يدل عليه الرقم .....
- ٣ الإقليم الصحراوي يدل عليه الرقم .....
- ٤ جبل سانت كاترين يدل عليه الرقم .....
- ٥ نهر النيل يدل عليه الرقم .....

د

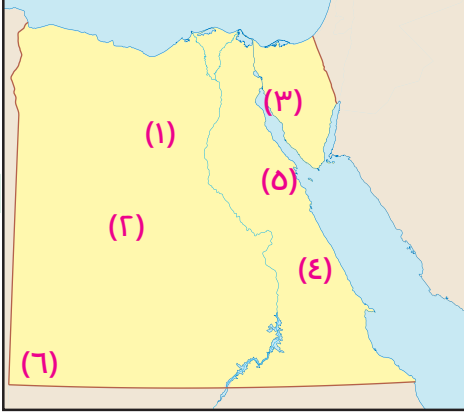


- ١ مدينة .....
- ٢ مدينة استضافت مؤتمر الأمم المتحدة للتغير المناخي .....
- ٣ البحر .....
- ٤ نهر .....
- ٥ البحر .....

هـ



- ١ بحيرة .....
- ٢ نهر .....
- ٣ فرع .....
- ٤ بحيرة .....
- ٥ خليج .....
- ٦ البحر .....



9

- ١ منجم الحديد .....
- ٢ منجم الفوسفات .....
- ٣ منجم المنجنيز .....
- ٤ منجم الذهب .....
- ٥ الصحراء .....
- ٦ جبل .....

## الإجابات النموذجية

### ١ أكمل العبارات الآتية بكلمات مناسبة:

١ الجغرافي	٢ الشمال - الأحمر
٣ الفلكي	٤ السرطان
٥ الصحراوي - البحر المتوسط	٦ التنقل والترحال
٧ الجفاف فوق الهضاب	٨ كهوف - الطوب اللبن
٩ أون هليوبوليس	١٠ مينا
١١ نبات البردي - أبيض	١٢ إفريقيا - البحر المتوسط
١٣ دمياط - رشيد	١٤ جنوب غرب
١٥ العوينات	١٦ الغربية - ليبيا
١٧ الشرقية - جبل شايب البنات	١٨ التيه
١٩ قناة السويس	٢٠ النيل
٢١ البحر المتوسط	٢٢ الصيف
٢٣ مدار السرطان	٢٤ الربيع
٢٥ الخماسين	٢٧ النبات الطبيعي
٢٦ السرطان	٢٩ الصبار
٢٨ البرديات - إيبرس	٣١ البرودة - السيول
٣٠ الأدوية - العطور	
٣٢ المبيدات - الأسمدة الزراعية	
٣٣ الانفجارات البركانية	
٣٤ الأراضي الزراعية - التربة	
٣٥ استخدام وسائل النقل المستدام - مصادر طاقة نظيفة	
٣٦ مالحه	٣٧ العذبة
٣٨ المنزلة والبرس	٣٩ الواحات
٤٠ الأمطار	٤١ العصر الحجري القديم
٤٢ العصر الحجري الحديث	٤٣ السكري
٤٤ الحديد	٤٥ أم بجمه
٤٦ النحاس	٤٧ الفوسفات
٤٨ الواحات البحرية	٤٩ القديم - التدفئة وطهي الطعام
٥٠ البترول - طاقة الرياح	٥١ المغارة - سيناء
٥٢ الفحم	٥٣ البنزين - السولار
٥٤ الشمسية - الرياح	٥٥ الزيت - البحر الأحمر
٥٦ إعطاء السلع والخدمات	٥٧ السلعية
٥٨ المركزي	٥٩ الورقية
٦٠ الترع	٦١ اللاهون - الفيوم
٦٢ بحر يوسف	٦٣ الدلتا
٦٤ الري بالرش - التنقيط	٦٥ الأول
٦٦ وادي النيل - الحديث	٦٧ لحومها وجلودها
٦٨ البحر الأحمر - البحر المتوسط	٦٩ نهر النيل - بحيرة ناصر
٧٠ البحيرة	٧١ الأواني الفخارية
٧٢ الزجاج	٧٣ الكتان
٧٤ بونت (الصومال حالياً)	٧٥ حتشبسوت
٧٦ فينيقيا - بونت - اليونان	٧٧ القاهرة - شرم الشيخ - الأقصر
٧٨ الحديد والفوسفات والغاز الطبيعي	

### ٣ اكتب كلمة صح أو خطأ:

١ صح	٢ خطأ	٣ خطأ	٤ صح	٥ خطأ	٦ خطأ	٧ صح
٨ خطأ	٩ خطأ	١٠ صح	١١ خطأ	١٢ صح	١٣ صح	١٤ صح
١٥ صح	١٦ خطأ	١٧ خطأ	١٨ خطأ	١٩ صح	٢٠ صح	٢١ صح
٢٢ صح	٢٣ خطأ	٢٤ صح	٢٥ صح	٢٦ خطأ	٢٧ صح	٢٨ صح
٢٩ صح	٣٠ خطأ	٣١ صح	٣٢ خطأ	٣٣ صح	٣٤ صح	٣٥ خطأ
٣٦ خطأ	٣٧ خطأ	٣٨ خطأ	٣٩ صح	٤٠ صح	٤١ صح	٤٢ صح
٤٣ صح	٤٤ صح	٤٥ خطأ	٤٦ خطأ	٤٧ صح	٤٨ صح	٤٩ خطأ
٥٠ صح	٥١ خطأ	٥٢ خطأ	٥٣ صح	٥٤ صح	٥٥ صح	٥٦ صح
٥٧ خطأ	٥٨ خطأ					

### ٤ اكتب ما تشير إليه كل عبارة:

١ إفريقيا	٢ الموقع الفلكي	٣ الموقع الجغرافي
٤ جرينتش	٥ مدار السرطان	٦ الإقليم الصحراوي الحار
٧ مينا	٨ بوتو	٩ زهرة اللوتس
١٠ الدلتا	١١ الصحراء الغربية	١٢ الأودية الجافة
١٣ شايب البنات	١٤ الشتاء	١٥ الربيع
١٦ الإقليم الصحراوي	١٧ التنوع البيولوجي	١٨ أمتحتب الأول
١٩ النبات الطبيعي	٢٠ المياه المالحة	٢١ الأمطار الشتوية
٢٢ خزان الحجر الرملي النوبي	٢٣ الفوسفات	
٢٤ المنجنيز	٢٥ الهيدروجين الأخضر	٢٦ النار
٢٧ الفحم	٢٨ المقايضة	٢٩ الشراء
٣٠ البيع	٣١ أمتحتب الثالث	٣٢ منخض الفيوم
٣٣ القناطر الخيرية	٣٤ الزراعة	٣٥ البحيرة
٣٦ كفر الشيخ	٣٧ مصر	٣٨ نبات البردي
٣٩ الرمال البيضاء	٤٠ القاهرة	٤١ معبد حتشبسوت بالأقصر
٤٢ الميزان التجاري	٤٣ الاسكندرية	

### ٥ بم تفسر ...؟

١ لأنها تقع في قلب قارات العالم القديم وتطل على البحر الأحمر (شرقاً) والبحر المتوسط (غرباً) إلى جانب وجود قناة السويس.

### ٢ اختر الإجابة الصحيحة مما بين القوسين:

١ الشمال	٢ إفريقيا	٣ شرقي وغربي
٤ دوائر العرض	٥ بوتو	٦ نهر النيل
٧ الأبيض	٨ نبات البردي	٩ أنثى النسر
١٠ مثلث	١١ فيكتوريا	١٢ مارمريكا
١٣ العوينات	١٤ شايب البنات	١٥ المعازة
١٦ الصحراء الشرقية	١٧ سانت كاترين	١٨ كل ما سبق

- ٨ استخدموها في الطب والعلاج  
٩ تنوع النباتات الطبيعية في مصر  
١٠ استخدمها في التدفئة وطهي الطعام  
١١ أصبحت من أغنى دول العالم في الطاقة الشمسية  
١٢ أدى إلى ظهور النقود السلعية  
١٣ أدى إلى ظهور النقود الورقية  
١٤ وصول مياه نهر النيل إلى منخفض الفيوم في الصحراء الغربية  
١٥ تخزين مياه الفيضان واستخدامها وقت الجفاف  
١٦ عرفوا حرفة الزراعة وعاشوا حياة الاستقرار  
١٧ استفاد منه في صناعة الحبال والحصير والورق  
١٨ استفاد منها في صناعة الزجاج  
١٩ أصبح الميزان التجاري لمصر في حالة عجز

## ٧ ما العلاقة بين ...؟

- ١ موقع مصر المتميز سهل اتصالها بدول العالم تجارياً وحضارياً  
٢ تساعد خطوط الطول في معرفة الزمن وفروق التوقيت بين الأماكن على سطح الأرض  
٣ ساعد نهر النيل على الاستقرار ومعرفة الزراعة وقيام الحضارة  
٤ عندما حدث الجفاف نزل المصري القديم إلى وادي النيل فعرّف الزراعة والاستقرار  
٥ مرور مدار السرطان في جنوب مصر أدى إلى ارتفاع درجة الحرارة  
في مصر صيفاً خاصة في الجنوب لتعامد الشمس عليه صيفاً  
٦ استخدم المصريون القدماء النبات الطبيعي في العلاج والطب  
٧ سقوط الأمطار الشتوية على السواحل الشمالية أدى إلى قيام الزراعة  
٨ وجود المياه الجوفية أدى إلى وجود حياة في الواحات وقيام الزراعة  
٩ صنع المصري القديم التماثيل من المعادن.  
١٠ صنع المصري القديم ملابس من الكتان.  
١١ تشكل قناة السويس أحد المصادر الرئيسية للعملة الأجنبية لمصر

## ٨ قارن بين:

الموقع الجغرافي	الموقع الفلكي
موقع المكان بالنسبة لليابس والماء ودوائر العرض	موقع المكان بالنسبة لخطوط الطول

خطوط الطول	دوائر العرض
أنصاف دوائر رأسية تصل بين القطبين الشمالي والجنوبي	دوائر أفقية ترسم حول الكرة الأرضية غير متساوية في الحجم

مملكة الشمال	مملكة الجنوب
العاصمة	نخب
لون التاج	أبيض
المعبود	أنثى النسر
الشعار	زهرة اللوتس

المياه العذبة	المياه المالحة
قيام الزراعة - والصناعة الأعمال المنزلية صيد الأسماك	استخراج البترول والغاز الطبيعي استخراج الأملاح صيد الأسماك - تحلية مياه البحر تستخدم في التجارة

## ٩ صوب ما تحته خط:

- ١ بيوت صغيرة  
٢ الأحمر  
٣ أون هليوبوليس  
٤ مينا  
٥ أربع  
٦ أصغر  
٧ بحر يوسف  
٨ مارمريكا  
٩ السرطان  
١٠ الربيع  
١١ إقليم البحر المتوسط

- ٢ تحديد موقع المكان على الخريطة - تحديد فرق التوقيت بين جهات العالم  
٣ تحديد موقع أي مكان على الخريطة - دراسة احوال المناخ.  
٤ بسبب انتشار الجفاف فوق الهضاب  
٥ ساعد على استقرار المصري القديم ومعرفته للزراعة  
٦ ليحمي البلاد  
٧ لأنه عرف الزراعة  
٨ بسبب موقع مصر الفلكي  
٩ لتعامد الشمس على مدار السرطان الذي يمر بالقرب من أسوان  
١٠ لأن نسيم البحر يلطف من درجات الحرارة  
١١ لأنهم استخدموها في الطب والعلاج  
١٢ بسبب تنوع المناخ - تنوع البيئات - توافر المياه  
١٣ تستخدم في صناعة الأدوية والطور ومستحضرات التجميل وغذاء للحيوانات البرية - رعي الحيوانات - مزارات سياحية  
١٤ بسبب ندرة الأمطار  
١٥ بسبب الأنشطة البشرية مثل حرق القود الأحفوري وإزالة الغابات والنشاط الصناعي  
١٦ بسبب ارتفاع منسوب مياه البحر  
١٧ يستخدم في الزراعة وصيد الأسماك والصناعة والتجارة والسياحة والأغراض المنزلية  
١٨ بسبب وفرة الأمطار الشتوية  
١٩ يحتوى على كمية كبيرة من المياه الجوفية  
٢٠ لأنه يساهم في الدخل القومي ويوفر فرص العمل  
٢١ يستخدم في صناعة الحلي  
٢٢ يستخدم في الصناعة الآلات والسيارات وقضبان السكك الحديدية  
٢٣ يستخدم في صناعة المبيدات والأسمدة الكيماوية والطوب الحراري  
٢٤ يستخدم في صناعة الأسلاك الكهربائية والسبائك ومقابض الأبواب  
٢٥ لأنه يوفر الكهرباء النظيفة - خفض نسبة الاحتباس الحراري - حماية التنوع البيولوجي  
- الحفاظ على البيئة  
٢٦ لأنه استخدمها في التدفئة وطهي الطعام  
٢٧ يستخرج منه مشتقات مثل البنزين والبولار ويدخل في صناعة الألياف الصناعية والپلاستيك من مشتقاته  
٢٨ يقوم بإصدار النقود الورقية المصرية  
٢٩ بسبب عيوب النقود المعدنية  
٣٠ بسبب ظهور عيوب النقود السلعية  
٣١ لتخزين مياه الفيضان واستخدامها وقت الجفاف  
٣٢ الحماية من الفيضان والجفاف - زيادة الرقعة الزراعية - توليد طاقة كهربائية - زيادة الثروة السمكية  
٣٣ توفير احتياجات السكان من الغذاء - توفير فرص عمل - مصدر للدخل القومي  
٣٤ لأنهم استخدموها في صناعة الزجاج.  
٣٥ صناعة الحبال والحصير والورق.  
٣٦ لأن واردات مصر أكثر من صادراتها  
٣٧ لأنه كان ينقل التوابل من آسيا إلى فرنسا وباقي الدول الأوروبية

## ٦ ما النتائج المترتبة على ...؟

- ١ وقوع معظم الأراضي المصرية في الإقليم الصحراوي الحار ما عدا الأطراف الشمالية في إقليم البحر المتوسط (المعتدل)  
٢ نزل الإنسان المصري إلى وادي النيل وعرف الزراعة  
٣ ساعد على تواصل مصر مع الدول المجاورة وتقدم التجارة  
٤ بدأ تأسيس الأسرة الأولى وبناء مدينة من نفر واتخذها عاصمة للبلاد  
٥ عرف الزراعة والاستقرار  
٦ وقوع معظم أراضيها بالإقليم الصحراوي الحار ما عدا الأطراف الشمالية تقع ضمن إقليم البحر المتوسط  
٧ تكون الثلوج على قمة الجبل شتاءً

- ١٩ صنف:**
- ١ الوادي والدلتا ٢ الصحاري ٣ الساحل الشمالي  
٤ الوادي و الدلتا ٥ الوادي والدلتا

- ٢٠ وضع تأثير:**
- ١ يؤثر على صحة الإنسان ويؤدي الى انتشار الأمراض مثل الملاريا  
٢ تقل السياحة نتيجة موت الشعاب المرجانية

- ٢١ رتب:**
- المقايضة - النقود السلعية - النقود المعدنية - النقود الورقية - النقود الإلكترونية

- ٢٢ حدد نوع الصناعة:**

- ١ طمي النيل ← الأواني الفخارية  
٢ الرمال البيضاء ← صناعة الزجاج  
٣ الذهب والفضة ← الحلي - الأواني المعدنية - التماثيل

- ٢٣ الخريطة:**

- أ**
- ١ الأحمر ٢ السرطان ٣ المتوسط  
٤ السويس ٥ النيل
- ب** يجب عنها الطالب

- ج**
- ١ الرقم (٣) ٢ الرقم (٥) ٣ الرقم (١)  
٤ الرقم (٤) ٥ الرقم (٢)

- د**
- ١ الإسكندرية ٢ شرم الشيخ ٣ البحر الأحمر  
٤ النيل ٥ المتوسط

- هـ**
- ١ ناصر ٢ النيل ٣ رشيد ٤ البردويل ٥ العقبة ٦ المتوسط

- و**
- ١ الواحات البحرية ٢ أبو طرطور ٣ أم بجمة  
٤ مناجم السكري ٥ الشرقية ٦ العوينات

- ١٢ الصيف ١٣ الجمل ١٤ التين والزيتون  
١٥ البشرية ١٦ شرم الشيخ ١٧ السياحة  
١٨ الانسان ١٩ المياه الجوفية ٢٠ المنزلة  
٢١ رشيد ٢٢ الذهب ٢٣ الفوسفات  
٢٤ طهي الطعام و التدفئة ٢٥ البنترول ٢٦ الفحم  
٢٧ السويس ٢٨ المقايضة ٢٩ البيع  
٣٠ جوز الهند ٣١ مشروع شرق العوينات  
٣٢ ناصر ٣٣ الغزلان ٣٤ الحديث  
٣٥ الأبقار ٣٦ مصر ٣٧ العمل البدوي  
٣٨ التجاري ٣٩ الإسكندرية ٤٠ الموقع المتميز

- ١٠ اذكر سببًا واحدًا:**

- ١ بسبب وجود ترعة بحر يوسف التي تنقل مياه نهر النيل إلى منخفض الفيوم  
٢ تستخدم في إنشاء الطرق واستخدامها كمجارٍ مائية عند السيول  
٣ بسبب وجود المياه الجوفية وانتشار الزراعة والتعدين

- ١١ اذكر نتيجة واحدة:**

- ١ أصبحت بعض منخفضات الصحراء الغربية مأهولة بالسكان.  
٢ قيام الزراعة وتركز السكان  
٣ قيام الزراعة وصيد الأسماك وقيام الحضارة المصرية القديمة  
٤ قيام الزراعة

- ١٢ دلل على صحة العبارة:**

- ١ وجود المنخفضات مثل منخفض القطارة والبحرية والفرافرة  
٢ صناعات فخارية - معدنية - خشبية - صناعة الورق والزجاج  
٣ صنعوا الأواني الفخارية من طمي النيل.  
٤ أهم طريق ملاحى عالمي - أحد المصادر الرئيسية للعملة الأجنبية  
٥ قامت الدولة بزيادة عدد الأرصفة وزيادة عدد السفن

- ١٣ لاحظ الشكل:**

- ١ الجنوبي ٢ ٣ مدر الجدي ٤ ٤ ٥ جرينتش

- ١٤ أكمل الجدول:**

اجب بنفسك

- ١٥ حدد العوامل:**

- ١ البشرية ٢ الطبيعية ٣ الطبيعية  
٤ البشرية ٥ الطبيعية ٦ البشرية  
٧ الطبيعية

- ١٦ صنف:**

الوادي والدلتا ومنخفض القطارة	الصحراء الغربية	الصحراء الشرقية	شبه جزيرة سيناء
فرع دمياط ورشيد	هضبة الجلف الكبير	وادي العلاقي	جبل موسى
نهر النيل	واحة سيوة	هضبة المعازة جبل شايب البنات	هضبة التيه

- ١٧ انسب المدن:**

إقليم البحر المتوسط	الصحراوي الحار
العريش - السلوم	أسوان - أسيوط

- ١٨ حدد المدينة:**

- ١ سوهاج ٢ بور سعيد ٣ الفيوم