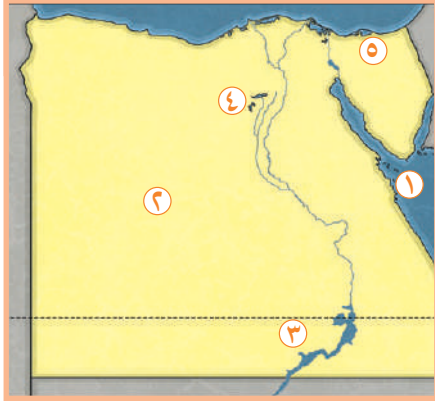


الدراسات الاجتماعية الصف الخامس الابتدائي

مراجعة الفصل الدراسي الأول

اسم الطالب: _____





اختبار ١ السؤال الأول: أمامك خريطة لمصر، اكتب ما تدل عليه الأرقام:

- ١- البحر
- ٢- منطقة لاستخراج الفوسفات
- ٣- بحيرة
- ٤- منخفض
- ٥- منطقة لاستخراج الفحم

(ب) أجب عما يلي:

١- ما العلاقة بين نهر النيل واستقرار المصري القديم؟

٢- أكتب مقترحاتك لزيادة ترشيد استهلاك المياه العذبة؟

السؤال الثاني: (أ) اختر الإجابة الصحيحة مما بين القوسين:

١- سكن المصري القديم قبل نزوله لوادي النيل في

(البيوت - الكهوف - الفيلا - الشاليه)

٢- المحطة تنتج نحو نصف إنتاج الكهرباء المولدة من الرياح في مصر هي

(الزعفران - الكريمات - بنبان - جبل الزيت)

٣- أقام المصريون القدماء مشروعات الري لتنظيم مياه النيل مثل

(سد اللاهون - السد العالي - خزان أسوان - قناطر إسنا)

٤- صنع المصري القديم الورق من نبات

(الياسمين - اللوتس - البردي - القمح)

(ب) صنف ما يلي إلى عوامل طبيعية وعوامل بشرية لقيام الحضارة المصرية: (الجيش - نهر النيل - الوحدة - المناخ)

العوامل البشرية	العوامل الطبيعية



السؤال الثالث: أ) اكتب كلمة (صواب) أمام العبارة الصحيحة وكلمة (خطأ) أمام العبارة غير الصحيحة

١- تتساوى درجة الحرارة بين مدينتي الأقصر والإسكندرية في مصر.

٢- رسم المصريون القدماء الخرائط للإشارة إلى مواقع المناجم.

٣- الإعتماد على مصادر الطاقة المتجددة يقلل من خطر التغير المناخي.

٤- محطة مياه العين السخنة تعد أكبر محطة تحلية مياه في العالم.

٥- عرف الإنسان نظام المقايضة بعد استخدامه النقود.

٦- الميزان التجاري المصري في حالة عجز.

ب) بم تفسر:

١- قيام الزراعة في الساحل الشمالي لمصر؟

٢- أهمية النشاط الصناعي لمصر؟

السؤال الرابع: أ) أكمل العبارات التالية بما يناسبها من كلمات:

١- الفرق بين كل خط طول وآخر _____ دقائق.

٢- تُعد _____ من الموارد النادرة.

٣- صنع المصري القديم في العصر الحجري القديم أدواته من _____

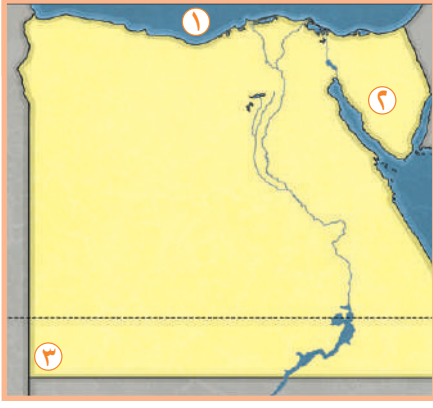
٤- تقع الأراضي الشمالية لمصر ضمن الإقليم المناخي _____

ب) قارن بين مملكتي الشمال والجنوب من حيث: (العاصمة - لون التاج - الشعار - المعبود)

وجه المقارنة	مملكة الشمال	مملكة الجنوب
العاصمة		
لون التاج		
الشعار		
المعبود		



اختبار ٢ السؤال الأول: أمامك خريطة لمصر، اكتب ما تدل عليه الأرقام:



- ١- البحر _____
٢- منطقة لاستخراج المنجنيز _____
٣- جبل _____

(ب) بم تفسر:

١- لمعدن النحاس أهمية كبيرة في الصناعة في الوقت الحاضر؟

- _____
- ٢- أهمية دوائر العرض في حياتنا اليومية؟
- _____

السؤال الثاني: (أ) اكمل العبارات التالية بكلمات مناسبة:

- ١- اكتشف المصري القديم النار في العصر _____
٢- قسم المصري القديم السنة الزراعية إلى _____ فصول.
٣- يدخل جليد القطبين ضمن موارد المياه _____
٤- تبادل سلعة بسلعة أخرى يسمى _____

(ب) اذكر اسم المحافظة التي تشتهر بما يلي :

- ١- محافظة بها مدينة الجلود بالروبيكي.

- ٢- أكبر محافظة مصرية في إنتاج الأسماك.

- ٣- الأولى في امتلاك الثروة الحيوانية.

- ٤- محافظة بها جبل سانت كاترين أعلى جبال مصر.



السؤال الثالث: أ) اكتب كلمة (صواب) أمام العبارة الصحيحة وكلمة (خطأ) أمام العبارة غير الصحيحة:

١- يمر في جنوب مصر دائرة عرض السرطان.

٢- تساعدنا دوائر العرض في تحديد فرق التوقيت بين دول العالم المختلفة.

٣- ساعدت صور الأقمار الصناعية على زيادة تكلفة عملية التعدين.

٤- مصر من أغنى دول العالم بالطاقة الشمسية لسطوع الشمس طوال العام.

ب) من يكون؟

١- الملك الذي أقام الوحدة بين مملكتي الشمال والجنوب عام ٣٢٠٠ ق.م.

٢- تم في عهده إنشاء سد اللاهون.

٣- ملكة أرسلت بعثات تجارية لبلاد بونت.

٤- الملك الذي انتصر في معركة مجدو.

السؤال الرابع: أ) اختر الإجابة الصحيحة مما بين القوسين:

١- من العوامل البشرية للتغيرات المناخية

(الانفجارات البركانية - الإشعاع الشمسي - إزالة الغابات - تآكل الشواطئ)

٢- يعتمد سكان واحة سيوة في الزراعة على المياه

(المالحة - الأمطار - السيول - الجوفية)

٣- استخرج المصري القديم النحاس من

(الصحراء الشرقية - الصحراء الغربية - شبه جزيرة سيناء - البحر الأحمر)

ب) أجب عما يلي:

١- حدد الهدف من إنشاء المحميات الطبيعية؟

٢- فسر: أهمية الأودية الجافة؟

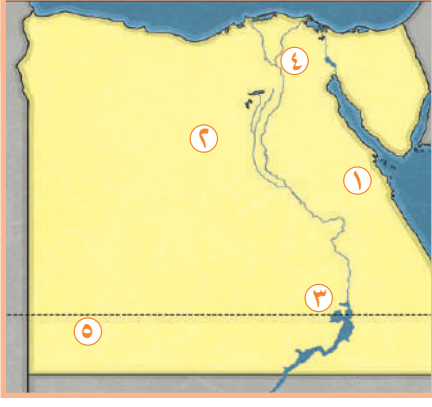


twinkl

visit [twinkl.com.eg](https://www.twinkl.com.eg)



اختبار ٣ السؤال الأول: أمامك خريطة لمصر، اكتب ما تدل عليه الأرقام:



- ١- منطقة لاستخراج النحاس
- ٢- منطقة يُستخرج منها الحديد
- ٣- محطة لتوليد الطاقة الكهربائية
- ٤- القناطر
- ٥- مشروع للإنتاج الزراعي

(ب) اكتب دليلاً واحداً على صحة العبارات التالية:

١- التغير المناخي من صنع الإنسان.

٢- ازدهرت التجارة في عهد الملكة حتشبسوت.

السؤال الثاني: (أ) اكمل العبارات التالية بكلمات مناسبة:

١- انتشرت عند المصري القديم في العصر الحجري الحديث حرفة

٢- تم الاختراع لتسهيل عملية البيع والشراء

٣- أكثر مصادر الطاقة الغير متجددة تلويثاً للبيئة هي

٤- من أكبر المحطات المنتجة للكهرباء من الطاقة الشمسية هي

(ب) رتب العصور التاريخية التالية من القديم الى الحديث:

١- عصر الدولة الوسطى.

٢- العصر العتيق.

٣- عصر الدولة الحديثة.

٤- عصر الدولة القديمة.



السؤال الثالث: أ) اختر الإجابة الصحيحة مما بين القوسين:

١- خط الطول الرئيسي هو خط

(الاستواء - جرينتش - السرطان - الجدي)

٢- القرية التي تم اختيارها لتنفيذ أكبر مشروع للطاقة الشمسية هي قرية

(بنبان - الزعفران - الكريمات - جبل الزيت)

٣- أكبر محطات تحلية مياه البحر في العالم محطة

(الإسكندرية - أبو طرطور - مرسى مطروح - العين السخنة)

٤- من العوامل البشرية لقيام الحضارة المصرية

(المناخ - المعادن - الجيش - نهر النيل)

ب) صوب ما تحته خط :

١- يعد البحر الأحمر من مصادر المياه العذبة في العالم.

٢- صناعة السجاد اليدوي من الصناعات الحديثة.

٣- تتميز المناطق البعيدة عن البحر باعتدال درجة الحرارة.

٤- أرسلت الملكة حتشبسوت رحلات تجارية إلى بلاد فينقيا.

السؤال الرابع: أ) اكتب كلمة (صواب) أمام العبارة الصحيحة وكلمة (خطأ) أمام العبارة غير الصحيحة:

١- كانت الأدوات في العصر الحجري الحديث تتميز بالبساطة وكبر حجمها.

٢- البحر المتوسط من موارد المياه النادرة.

٣- استمرار فتح المياه عند غسيل الأسنان من طرق ترشيد الاستهلاك.

٤- توجد محمية الزرانيق في شمال سيناء.

٤- تفيد دوائر العرض في حساب الوقت بين مدينتين.

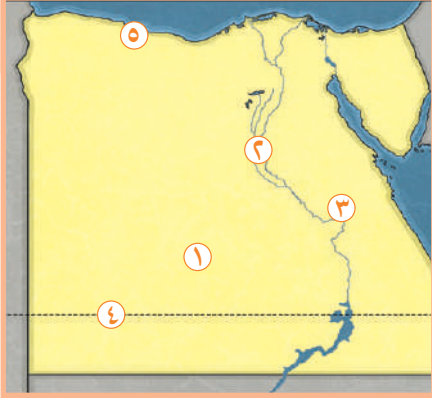
ب) بم تفسر:

١- الأهمية الاقتصادية لمعدن الفوسفات؟

٢- خصوبة منخفض الفيوم رغم وقوعه في الصحراء الغربية؟



اختبار ٤ السؤال الأول: أمامك خريطة لمصر، اكتب ما تدل عليه الأرقام:



- ١- منجم لاستخراج الفوسفات
- ٢- نهر
- ٣- محطة لتوليد طاقة الرياح
- ٤- دائرة عرض
- ٥- صواب أم خطأ: يشير رقم (٥) إلى منطقة تعتمد على مياه الأمطار في الزراعة.

ب) أجب عما يلي:

١- ما العلاقة بين: الصناعة والبيئة؟

٢- اكتب نتيجة واحدة: وجود نهر النيل في مصر.

السؤال الثاني: أ) اختر الإجابة الصحيحة مما بين القوسين:

- ١- توجد أكبر محطة لتحلية مياه البحر في العالم في (العين السخنة - مطروح - الإسكندرية - شرم الشيخ)
- ٢- تكنولوجيا تستخدم في أخذ عينات من المناجم للتأكد من جودتها (المسح ثلاثي الأبعاد - الحفر الآلي - الروبوتات - الأقمار الصناعية)
- ٣- الكتل الصخرية التي لها القدرة على تخزين المياه في باطن الأرض هي (خزان السطح - القارورة - الهضاب - الخزان الجوفي)
- ٤- أكثر مصادر الطاقة غير المتجددة تلويثاً للبيئة (البترو - الفحم - الغاز الطبيعي - الطاقة الشمسية)

ب) اكتب اسم المعدن المستخدم في صناعة المواد الاتية:

- ١- يُصنع منه الأسلاك الكهربائية والسبائك.
- ٢- يدخل في صناعة الصلب ومواد الطلاء.
- ٣- يُصنع منه الآلات والسيارات والسكك الحديدية.
- ٤- يُصنع منه الأسمدة الزراعية والمبيدات الحشرية.



السؤال الثالث: أ) اكتب كلمة (صواب) أمام العبارة الصحيحة وكلمة (خطأ) أمام العبارة غير الصحيحة:

١- كانت أول عاصمة لمصر الموحدة عام ٤٢٤٢ ق.م هي مدينة القاهرة.

٢- الصحاري المصرية غنية بالنباتات الطبيعية.

٣- المصريون القدماء أول من استفادوا من الطاقة الشمسية في التدفئة.

٤- أنشأ المصري القديم مقياسًا على النيل لتحديد الضرائب.

٥- تحتل مصر المركز الأول أفريقيًا في إنتاج الأسماك.

ب) بم تفسر:

١- أهمية المياه المالحة للإنسان؟

٢- بناء المصريون القدماء مقياسًا للنيل؟

السؤال الرابع: أ) صوب ما تحته خط:

١- تتعامد الشمس على مدار السرطان يوم ٢١ يونيو فيكون فصل الشتاء في مصر

٢- ينمو نبات الصبار في الدلتا.

٣- بنى الملك مينا عاصمته وسماها أثيت تاوي.

٤- التجارة التي تتم بين الدول تسمى تجارة داخلية.

ب) صنف ما يلي إلى عوامل طبيعية وعوامل بشرية لقيام الحضارة المصرية :

(البترو - طاقة الرياح - الطاقة الشمسية - الفحم - الطاقة الكهرومائية - الغاز الطبيعي)

المصادر المتجددة	المصادر الغير متجددة
_____	_____
_____	_____
_____	_____
_____	_____



twinkl

visit [twinkl.com.eg](https://www.twinkl.com.eg)



اختبار ٥ السؤال الأول: أمامك خريطة لمصر، اكتب ما تدل عليه الأرقام:



١- وادي جاف

٢- نهر

٣- محطة لتوليد طاقة الرياح

٤- هضبة

٥- قناطر

(ب) بم تفسر:

١- إنشاء المحميات الطبيعية في مصر؟

٢- حدوث ظاهرة فصول السنة الأربعة؟

السؤال الثاني: (أ) اكتب ما تدل عليه العبارات التالية:

١- خطوط ترسم من القطب الشمالي إلى القطب الجنوبي.

٢- أودية كانت تملؤها مياه الأمطار قديماً ثم جفت.

٣- أكبر الوحدات التضاريسية تبلغ نحو ثلثي مساحة مصر.

٤- النبات الذي ينمو تلقائياً دون تدخل الإنسان.

(ب) أجب عما يلي:

١- اكتب نتيجة واحدة ترتبت على: حلول الجفاف فوق الهضاب قديماً؟

٢- ماذا يحدث إذا: زادت الواردات عن الصادرات في الدولة؟



السؤال الثالث: أ) اكتب كلمة (صواب) أمام العبارة الصحيحة وكلمة (خطأ) أمام العبارة غير الصحيحة:

١- تتعامد الشمس على مدار الجدي يوم ٢١ مارس.

٢- تعد بحيرة البرلس من البحيرات العذبة في مصر.

٣- صاحب تغير المناخ في العالم تدهور التنوع البيولوجي.

٤- قام المصري القديم بتربية الحيوانات عندما كان يعيش فوق الهضاب.

٥- صنع المصري القديم من نبات البردي الورق والقوارب.

ب) اكتب الكلمات التالية في مكانها المناسب: (المصنع - الفخار - قليلة - الورش - كبيرة - الأجهزة الكهربائية)

المصادر المتجددة	المصادر الغير متجددة	
		المكان الذي تتم فيه
		كمية الإنتاج
		أمثلة

السؤال الرابع: أ) اختر الإجابة الصحيحة مما بين الأقواس:

١- يساهم النشاط _____ بثلاث الدخل القومي.

(الزراعي - الصناعي - التجاري - السياحي)

٢- توجد مدينة الجلود بالروبيكي في محافظة

(السويس - القاهرة - الاسكندرية - قنا)

٣- الفرق بين الصادرات والواردات يعرف باسم

(الدخل القومي - الموازنة العامة - الميزان التجاري - الناتج القومي)

٤- يوجد مشروع الفيروز في محافظة

(القاهرة - بورسعيد - المنوفية - السويس)

ب) أجب عما يلي:

١- حدد أوجه التشابه والاختلاف بين السد العالي وسد اللاهون.

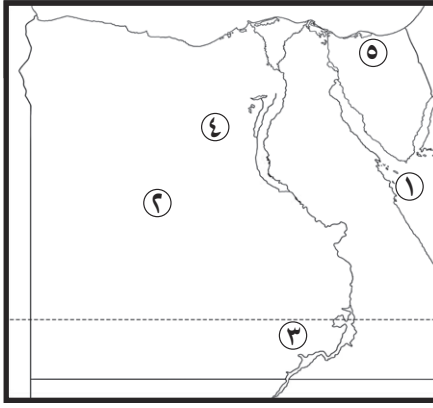
٢- اذكر نتيجة واحدة: زيادة استخدام الإنسان للمصادر الغير متجددة؟



twinkl

visit [twinkl.com.eg](https://www.twinkl.com.eg)





اختبار 1 السؤال الأول: أمامك خريطة لمصر، اكتب ما تدل عليه الأرقام:

- ١- البحر الأحمر
٢- منطقة لاستخراج الفوسفات أبو طرطور
٣- بحيرة ناصر
٤- منخفض الفيوم
٥- منطقة لاستخراج الفحم جبل المغارة

(ب) أجب عما يلي:

- ١- ما العلاقة بين نهر النيل واستقرار المصري القديم؟
ساعد نهر النيل على استقرار المصري القديم وتعلمه الزراعة
٢- أكتب مقترحاتك لزيادة ترشيد استهلاك المياه العذبة؟
استخدام طرق الري الحديثة - غلق صنوبر المياه عند غسل الأسنان

السؤال الثاني: (أ) اختر الإجابة الصحيحة مما بين القوسين:

- ١- سكن المصري القديم قبل نزوله لوادي النيل في
(البيوت - الكهوف - الفيلا - الشاليه)
٢- المحطة تنتج نحو نصف إنتاج الكهرباء المولدة من الرياح في مصر هي
(الزعفران - الكريمات - بنبان - جبل الزيت)
٣- أقام المصريون القدماء مشروعات الري لتنظيم مياه النيل مثل
(سد اللاهون - السد العالي - خزان أسوان - قناطر إسنا)
٤- صنع المصري القديم الورق من نبات
(الياسمين - اللوتس - البردي - القمح)
ب) صنف ما يلي إلى عوامل طبيعية وعوامل بشرية لقيام الحضارة المصرية: (الجيش - نهر النيل - الوحدة - المناخ)

العوامل الطبيعية	العوامل البشرية
• نهر النيل • المناخ	• الجيش • الوحدة



السؤال الثالث: أ) اكتب كلمة (صواب) أمام العبارة الصحيحة وكلمة (خطأ) أمام العبارة غير الصحيحة:

١- تتساوى درجة الحرارة بين مدينتي الأقصر والإسكندرية في مصر.

خطأ

٢- رسم المصريون القدماء الخرائط للإشارة إلى مواقع المناجم.

صواب

٣- الإعتماد على مصادر الطاقة المتجددة يقلل من خطر التغير المناخي.

صواب

٤- محطة مياه العين السخنة تعد أكبر محطة تحلية مياه في العالم.

صواب

٥- عرف الإنسان نظام المقايضة بعد استخدامه النقود.

خطأ

٦- الميزان التجاري المصري في حالة عجز.

صواب

ب) بم تفسر:

١- قيام الزراعة في الساحل الشمالي لمصر؟

اعتمادًا على مياه الأمطار

٢- أهمية النشاط الصناعي لمصر؟

يوفر فرص عمل للشباب - زيادة الدخل القومي - تقديم المنتجات التي يحتاجها المواطنين

السؤال الرابع: أ) أكمل العبارات التالية بما يناسبها من كلمات:

١- الفرق بين كل خط طول وآخر _____ أربع _____ دقائق.

٢- تُعد _____ المياه العذبة _____ من الموارد النادرة.

٣- صنع المصري القديم في العصر الحجري القديم أدواته من _____ حجر الصوان

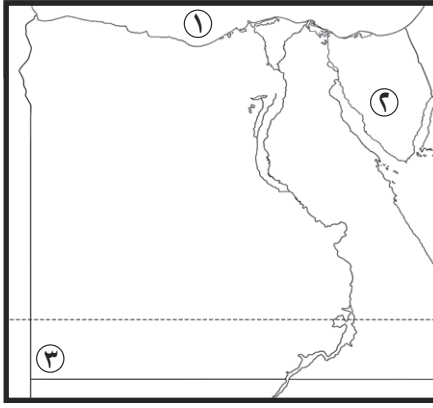
٤- تقع الأراضي الشمالية لمصر ضمن الإقليم المناخي _____ البحر المتوسط

ب) قارن بين مملكتي الشمال والجنوب من حيث: (العاصمة - لون التاج - الشعار - المعبود)

وجه المقارنة	مملكة الشمال	مملكة الجنوب
العاصمة	بوتو	نخب
لون التاج	احمر	ابيض
الشعار	نبات البردي	زهرة اللوتس
المعبود	ثعبان الكوبرا	انثى النسر



اختبار ٢ السؤال الأول: أمامك خريطة لمصر، اكتب ما تدل عليه الأرقام:



- ١- البحر المتوسط
٢- منطقة لاستخراج المنجنيز أم مجمة
٣- جبل العوينات

(ب) بم تفسر:

١- لمعدن النحاس أهمية كبيرة في الصناعة في الوقت الحاضر؟

يصنع منه أسلاك الكهرباء والانترنت ومقابس الأبواب

٢- أهمية دوائر العرض في حياتنا اليومية؟

تحديد مواقع الأماكن شمالا وجنوبا - تقسيم سطح الأرض إلى أقليم مناخية

السؤال الثاني: (أ) اكمل العبارات التالية بكلمات مناسبة:

- ١- اكتشف المصري القديم النار في العصر الحجري القديم
٢- قسم المصري القديم السنة الزراعية إلى ثلاث فصول.
٣- يدخل جليد القطبين ضمن موارد المياه العذبة
٤- تبادل سلعة بسلعة أخرى يسمى مقايضة

(ب) اذكر اسم المحافظة التي تشتهر بما يلي :

- ١- محافظة بها مدينة الجلود بالروبيكي. القاهرة
٢- أكبر محافظة مصرية في إنتاج الأسماك. كفر الشيخ
٣- الأولى في امتلاك الثروة الحيوانية. البحيرة
٤- محافظة بها جبل سانت كاترين أعلى جبال مصر. جنوب سيناء



السؤال الثالث: أ) اكتب كلمة (صواب) أمام العبارة الصحيحة وكلمة (خطأ) أمام العبارة غير الصحيحة:

صواب

١- يمر في جنوب مصر دائرة عرض السرطان.

خطأ

٢- تساعدنا دوائر العرض في تحديد فرق التوقيت بين دول العالم المختلفة.

خطأ

٣- ساعدت صور الأقمار الصناعية على زيادة تكلفة عملية التعدين.

صواب

٤- مصر من أغنى دول العالم بالطاقة الشمسية لسطوع الشمس طوال العام.

ب) من يكون؟

مينا

١- الملك الذي أقام الوحدة بين مملكتي الشمال والجنوب عام ٣٢٠٠ ق.م.

امنمحات الثالث

٢- تم في عهده إنشاء سد اللاهون.

حتشبسوت

٣- ملكة أرسلت بعثات تجارية لبلاد بونت.

تحتمس الثالث

٤- الملك الذي انتصر في معركة مجدو.

السؤال الرابع: أ) اختر الإجابة الصحيحة مما بين القوسين:

١- من العوامل البشرية للتغيرات المناخية

(الانفجارات البركانية - الإشعاع الشمسي - إزالة الغابات - تآكل الشواطئ)

٢- يعتمد سكان واحة سيوة في الزراعة على المياه

(المالحة - الأمطار - السيول - الجوفية)

٣- استخرج المصري القديم النحاس من

(الصحراء الشرقية - الصحراء الغربية - شبه جزيرة سيناء - البحر الأحمر)

ب) أجب عما يلي:

١- حدد الهدف من إنشاء المحميات الطبيعية؟

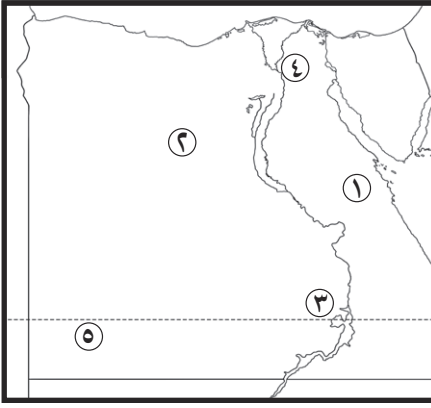
لحماية النباتات الطبيعية والحيوانات والطيور البرية والأسماك من الانقراض

٢- فسر: أهمية الأودية الجافة؟

تستخدم كطرق للمواصلات - مصدر للمياه الجوفية



اختبار ٣ السؤال الأول: أمامك خريطة لمصر، اكتب ما تدل عليه الأرقام:



- ١- منطقة لاستخراج النحاس _____ محافظة البحر الأحمر
- ٢- منطقة يُستخرج منها الحديد _____ الواحات البحرية
- ٣- محطة لتوليد الطاقة الكهرومائية _____ السد العالي
- ٤- القناطر _____ الخيرية
- ٥- مشروع للإنتاج الزراعي _____ شرق العوينات

(ب) اكتب دليلاً واحداً على صحة العبارات التالية:

١- التغير المناخي من صنع الإنسان.

بسبب إزالة الغابات - حرق الوقود الأحفوري - استخدام المبيدات الحشرية

٢- ازدهرت التجارة في عهد الملكة حتشبسوت.

حيث أرسلت رحلة تجارية إلى بلاد بونت

السؤال الثاني: (أ) اكمل العبارات التالية بكلمات مناسبة:

- ١- انتشرت عند المصري القديم في العصر الحجري الحديث حرفة _____ الزراعة
- ٢- تم الاختراع _____ النقود _____ لتسهيل عملية البيع والشراء
- ٣- أكثر مصادر الطاقة الغير متجددة تلويناً للبيئة هي _____ الفحم
- ٤- من أكبر المحطات المنتجة للكهرباء من الطاقة الشمسية هي _____ بنبان

(ب) رتب العصور التاريخية التالية من القديم الى الحديث:

١- عصر الدولة الوسطى.

٣

٢- العصر العتيق.

١

٣- عصر الدولة الحديثة.

٤

٤- عصر الدولة القديمة.

٢



السؤال الثالث: أ) اختر الإجابة الصحيحة مما بين القوسين:

١- خط الطول الرئيسي هو خط

(الاستواء - جرينتش - السرطان - الجدي)

٢- القرية التي تم اختيارها لتنفيذ أكبر مشروع للطاقة الشمسية هي قرية

(بنبان - الزعفران - الكريمات - جبل الزيت)

٣- أكبر محطات تحلية مياه البحر في العالم محطة

(الإسكندرية - أبو طرطور - مرسى مطروح - العين السخنة)

٤- من العوامل البشرية لقيام الحضارة المصرية

(المناخ - المعادن - الجيش - نهر النيل)

ب) صوب ما تحته خط :

١- يعد البحر الأحمر من مصادر المياه العذبة في العالم.

نهر النيل

٢- صناعة السجاد اليدوي من الصناعات الحديثة.

اليديوية

٣- تتميز المناطق البعيدة عن البحر باعتدال درجة الحرارة.

القرية

٤- أرسلت الملكة حتشبسوت رحلات تجارية إلى بلاد فينيقيا.

بونت

السؤال الرابع: أ) اكتب كلمة (صواب) أمام العبارة الصحيحة وكلمة (خطأ) أمام العبارة غير الصحيحة:

١- كانت الأدوات في العصر الحجري الحديث تتميز بالبساطة وكبر حجمها.

خطأ

٢- البحر المتوسط من موارد المياه النادرة.

خطأ

٣- استمرار فتح المياه عند غسيل الأسنان من طرق ترشيد الاستهلاك.

صواب

٤- توجد محمية الزرانيق في شمال سيناء.

صواب

٤- تفيد دوائر العرض في حساب الوقت بين مدينتين.

خطأ

ب) بم تفسر:

١- الأهمية الاقتصادية لمعدن الفوسفات؟

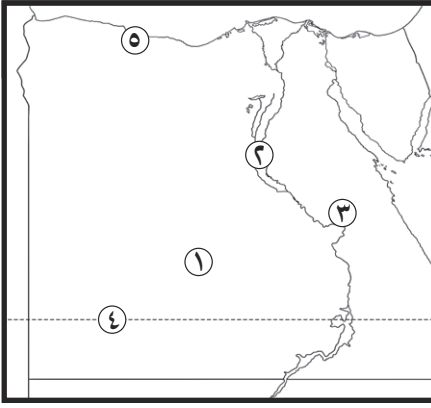
يصنع منه الأسمدة الزراعية والمبيدات الحشرية و الطوب الحراري

٢- خصوبة منخفض الفيوم رغم وقوعه في الصحراء الغربية؟

لأن المياه تصل إليه عن طريق ترعة بحريوسف



اختبار ٤ السؤال الأول: أمامك خريطة لمصر، اكتب ما تدل عليه الأرقام:



- ١- منجم لاستخراج الفوسفات _____ أبو طرطور
 ٢- نهر _____ النيل
 ٣- محطة لتوليد طاقة الرياح _____ جبل الزيت
 ٤- دائرة عرض _____ السرطان
 ٥- صواب أم خطأ: يشير رقم (٥) _____
 إلى منطقة تعتمد على مياه الأمطار في الزراعة. _____ صواب

(ب) أجب عما يلي:

١- ما العلاقة بين: الصناعة والبيئة؟

تؤثر الصناعة سلبياً حيث تلوث البيئة

٢- اكتب نتيجة واحدة: وجود نهر النيل في مصر.

قيام الزراعة وقيام الحضارة المصرية القديمة

السؤال الثاني: (أ) اختر الإجابة الصحيحة مما بين القوسين:

١- توجد أكبر محطة لتحلية مياه البحر في العالم في

(العين السخنة - مطروح - الإسكندرية - شرم الشيخ)

٢- تكنولوجيا تستخدم في أخذ عينات من المناجم للتأكد من جودتها

(المسح ثلاثي الأبعاد - الحفر الآلي - الروبوتات - الأقمار الصناعية)

٣- الكتل الصخرية التي لها القدرة على تخزين المياه في باطن الأرض هي

(خزان السطح - القارورة - الهضاب - الخزان الجوفي)

٤- أكثر مصادر الطاقة غير المتجددة تلويثاً للبيئة

(البتروال - الفحم - الغاز الطبيعي - الطاقة الشمسية)

(ب) اكتب اسم المعدن المستخدم في صناعة المواد الاتية:

١- يُصنع منه الأسلاك الكهربائية والسبائك.

_____ النحاس

٢- يدخل في صناعة الصلب ومواد الطلاء.

_____ المنجنيز

٣- يُصنع منه الآلات والسيارات والسكك الحديدية.

_____ الحديد

٤- يُصنع منه الأسمدة الزراعية والمبيدات الحشرية.

_____ الفوسفات



السؤال الثالث: أ) اكتب كلمة (صواب) أمام العبارة الصحيحة وكلمة (خطأ) أمام العبارة غير الصحيحة:

١- كانت أول عاصمة لمصر الموحدة عام ٤٢٤٢ ق.م هي مدينة القاهرة.

خطأ

٢- الصحاري المصرية غنية بالنباتات الطبيعية.

خطأ

٣- المصريون القدماء أول من استفادوا من الطاقة الشمسية في التدفئة.

صواب

٤- أنشأ المصري القديم مقياسًا على النيل لتحديد الضرائب.

صواب

٥- تحتل مصر المركز الأول أفريقيًا في إنتاج الأسماك.

صواب

ب) بم تفسر:

١- أهمية المياه المالحة للإنسان؟

يستخرج منها مصادر الطاقة وملح الطعام - صيد الأسماك - النقل البحري

٢- بناء المصريون القدماء مقياسًا للنيل؟

لتحديد الضرائب

السؤال الرابع: أ) صوب ما تحته خط:

١- تتعامد الشمس على مدار السرطان يوم ٢١ يونيو فيكون فصل الشتاء في مصر

الصيف

٢- ينمو نبات الصبار في الدلتا.

الصحاري

٣- بنى الملك مينا عاصمته وسمها أثيت تاوي.

منف

٤- التجارة التي تتم بين الدول تسمى تجارة داخلية.

خارجية

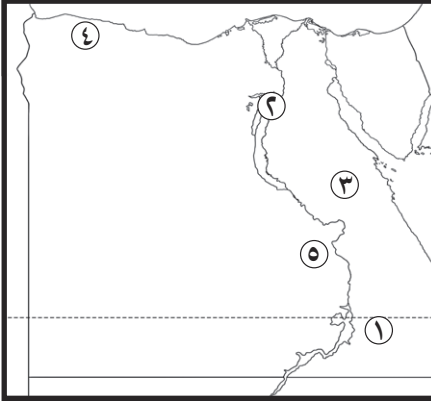
ب) صنف ما يلي إلى عوامل طبيعية وعوامل بشرية لقيام الحضارة المصرية :

(البترو - طاقة الرياح - الطاقة الشمسية - الفحم - الطاقة الكهرومائية - الغاز الطبيعي)

المصادر المتجددة	المصادر الغير متجددة
طاقة الرياح	البترو
الطاقة الشمسية	الغاز الطبيعي
الطاقة الكهرومائية	الفحم



اختبار ٥ السؤال الأول: أمامك خريطة لمصر، اكتب ما تدل عليه الأرقام:



- ١- وادي جاف _____ العلاقي
 ٢- نهر _____ النيل
 ٣- محطة لتوليد طاقة الرياح _____ جبل الزيت
 ٤- هضبة _____ مارمريكا
 ٥- قناطر _____ اسنا

(ب) بم تفسر:

١- إنشاء المحميات الطبيعية في مصر؟

لحماية النباتات الطبيعية والحيوانات والطيور البرية والأسماك من الانقراض

٢- حدوث ظاهرة فصول السنة الأربعة؟

بسبب دوران الأرض حول الشمس

السؤال الثاني: (أ) اكتب ما تدل عليه العبارات التالية:

١- خطوط ترسم من القطب الشمالي إلى القطب الجنوبي. _____ خطوط الطول

٢- أودية كانت تملؤها مياه الأمطار قديمًا ثم جفت. _____ الأودية الجافة

٣- أكبر الوحدات التضاريسية تبلغ نحو ثلثي مساحة مصر. _____ الصحراء الغربية

٤- النبات الذي ينمو تلقائيًا دون تدخل الإنسان. _____ النبات الطبيعي

(ب) أجب عما يلي:

١- اكتب نتيجة واحدة ترتبت على: حلول الجفاف فوق الهضاب قديمًا؟

نزول المصري القديم إلى وادي النيل

٢- ماذا يحدث إذا: زادت الواردات عن الصادرات في الدولة؟

حدث عجز في الميزان التجاري



السؤال الثالث: أ) اكتب كلمة (صواب) أمام العبارة الصحيحة وكلمة (خطأ) أمام العبارة غير الصحيحة:

خطأ

١- تتعامد الشمس على مدار الجدي يوم ٢١ مارس.

خطأ

٢- تعد بحيرة البرلس من البحيرات العذبة في مصر.

صواب

٣- صاحب تغير المناخ في العالم تدهور التنوع البيولوجي.

خطأ

٤- قام المصري القديم بتربية الحيوانات عندما كان يعيش فوق الهضاب.

صواب

٥- صنع المصري القديم من نبات البردي الورق والقوارب.

ب) اكتب الكلمات التالية في مكانها المناسب: (المصنع - الفخار - قليلة - الورش - كبيرة - الأجهزة الكهربائية)

المصادر المتجددة	المصادر الغير متجددة	
المصنع	الورش	المكان الذي تتم فيه
كبيرة	قليلة	كمية الإنتاج
الأجهزة الكهربائية	الفخار	أمثلة

السؤال الرابع: أ) اختر الإجابة الصحيحة مما بين الأقواس:

١- يساهم النشاط _____ بثالث الدخل القومي.

(الزراعي - الصناعي - التجاري - السياحي)

٢- توجد مدينة الجلود بالروبيكي في محافظة

(السويس - القاهرة - الاسكندرية - قنا)

٣- الفرق بين الصادرات والواردات يعرف باسم

(الدخل القومي - الموازنة العامة - الميزان التجاري - الناتج القومي)

٤- يوجد مشروع الفيروز في محافظة

(القاهرة - بورسعيد - المنوفية - السويس)

ب) أجب عما يلي:

١- حدد أوجه التشابه والاختلاف بين السد العالي وسد اللاهون.

التشابه: كلاهما من مشروعات الري. - الاختلاف: سد اللاهون من مشروعات الري قديماً، أما السد العالي من مشروعات الري الحديث

٢- اذكر نتيجة واحدة: زيادة استخدام الإنسان للمصادر الغير متجددة؟

زيادة تلوث البيئة



twinkl

visit [twinkl.com](https://www.twinkl.com).eg

