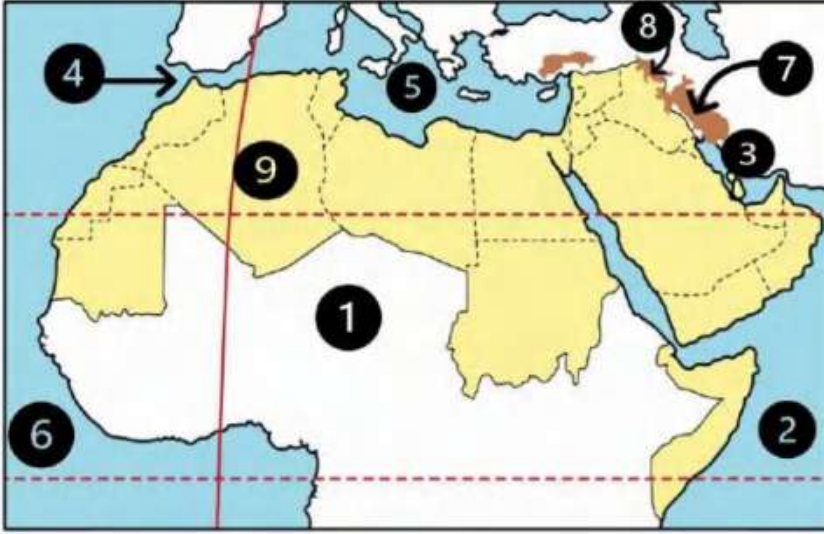


الدرس (١) الموقع الجغرافي لوطننا العربي

السؤال الأول لاحظ الخريطة ثم أجب



- ① يشير رقم (١) للصحراء
- ② يشير رقم (٢) للمحيط
- ③ يشير رقم (٣) للخليج
- ④ يشير رقم (٤) لمضيق
- ⑤ يشير رقم (٥) البحر
- ⑥ يشير رقم (٦) للمحيط
- ⑦ جبل
- ⑧ جبل
- ⑨ دولة

السؤال الثاني أكمل العبارات التالية بكلمات مناسبة

- ① يقع الوطن العربي وسط قارات العالم
- ② تمتد أراضي الوطن العربي في قارتي و
- ③ يحد الوطن العربي من الشمال البحر وجبال
- ④ يحد الوطن العربي من الشرق خليج والخليج
- ⑤ يحد الوطن العربي من الشرق جبال وجبال
- ⑥ توجد النسبة الأكبر من مساحة الوطن العربي في قارة
- ⑦ أكبر الدول العربية من حيث المساحة دولة
- ⑧ تقع أكبر الدولة العربية مساحة في قارة
- ⑨ أصغر الدول العربية من حيث المساحة دولة
- ⑩ تقع أصغر الدولة العربية مساحة في قارة
- ⑪ يطل الوطن العربي على المحيط والمحيط
- ⑫ يطل الوطن العربي من ناحية الغرب على
- ⑬ تقع كنيسة القيامة في دولة
- ⑭ البحر الذي يفصل بين جناحي الوطن العربي الإفريقي والآسيوي هو
- ⑮ وطننا الحبيب مصر يقع في الجناح
- ⑯ دولة سوريا تعد من دول الجناح

السؤال الثالث / اكتب كلمة (صواب) أمام العبارة الصحيحة وكلمة (خطأ) أمام العبارة غير الصحيحة

- ① يتمتع الوطن العربي بموقع جغرافي متميز ()
- ② يمتد الوطن العربي وسط قارات العالم الجديد ()
- ③ يمتد الوطن العربي في قارتي آسيا وإفريقيا ()
- ④ يقع بحر العرب والصحراء الكبرى جنوب الوطن العربي ()
- ⑤ يحد الوطن العربي من جهة الشرق جبال طوروس ()
- ⑥ يطل الوطن العربي من جهة الشمال على المحيط الأطلنطي ()
- ⑦ تقع دولة جزر القمر في المحيط الهندي ()
- ⑧ دول الجناح العربي الآسيوي أكثر عددا من دول الجناح العربي الإفريقي ()
- ⑨ تشغل دول الجناح الآسيوي مساحة أكبر من دول الجناح الإفريقي ()
- ⑩ تشترك دول الوطن العربي في التاريخ واللغة والثقافة ()
- ⑪ أكبر الدول العربية مساحة هي السودان ()
- ⑫ الصومال من دول الجناح الإفريقي ()
- ⑬ يشرف وطننا العربي على ثلاثة محيطات مهمة ()
- ⑭ يصل مضيق جبل طارق بين البحر المتوسط والمحيط الأطلنطي ()
- ⑮ الوطن العربي يعد موطناً للديانات السماوية ()
- ⑯ الأزهر الشريف في مصر من المراكز الدينية المهمة في الوطن العربي ()
- ⑰ قامت على أرض الوطن العربي العديد من الحضارات مثل الحضارة المصرية القديمة. ()

السؤال الرابع / اختر الاجابة الصحيحة مما بين القوسين

① توجد الكعبة المشرفة في دولة

(سوريا - السعودية - الصومال - ليبيا)

② إذا أردت السفر لأكبر دول الوطن العربي فسوف تتجه إلى

(المغرب - مصر - البحرين - الجزائر)

- ③ إذا أردت السفر لأصغر دولة الوطن العربي مساحة فسوف تتجه إلى.....
(المغرب - مصر - البحرين - الجزائر)
- ④ توجد النسبة الأكبر من مساحة الوطن العربي في قارة.....
(آسيا - إفريقيا - أوروبا - أستراليا)
- ⑤ يقع البحر المتوسط بالنسبة للوطن العربي جهة.....
(الشمال - الجنوب - الشرق - الغرب)
- ⑥ جبال تحدد الوطن العربي من جهة الشمال.....
(زاجروس - كردستان - أطلس - طوروس)
- ⑦ يحد الوطن العربي من الغرب المحيط.....
(الهندي - الأطلنطي - الهادي - القطبي)
- ⑧ يحد الوطن العربي من جهة الجنوب.....
(الصحراء الكبرى - جبال طوروس - المحيط الهادي - الخليج العربي)
- ⑨ يشغل مساحة الوطن العربي ١٣ مليون كيلو متر مربع ويضم عدد..... دولة
(٢٢ - ٢٣ - ٢٤ - ٢٥)
- ⑩ يوجد بالوطن العربي أماكن مقدسة مثل الجامع الأزهر الذي يوجد في دولة.....
(مصر - فلسطين - السعودية - الجزائر)
- ⑪ تطل دولتا السعودية ومصر على البحر.....
(الأحمر - المتوسط - الميت - الأسود)
- ⑫ تقع دولة جزر القمر في.....
(المحيط الهادي - المحيط الأطلنطي - البحر المتوسط - المحيط الهندي)

السؤال الخامس / أجب عما يأتي؟

- ① بم تفسر // الأهمية الاقتصادية لموقع الوطن العربي؟
- ② بم تفسر // تحكم الوطن العربي في أهم طرق التجارة العالمية؟

.....

.....

- ③ بم تفسر // للوطن العربي مكانة دينية عظيمة

.....

④ بم تفسر // للوطن العربي أهمية حضارية كبيرة؟

⑤ بم تفسر // وجود تراث ثقافي مشترك بين دول الوطن العربي؟

⑥ ما النتائج المترتبة على // الموقع الجغرافي للوطن العربي؟

⑦ ما النتائج المترتبة على // تحكم الوطن العربي في أهم طرق التجارة العالمية؟

⑧ دلل على صحة العبارة التالية // يشرف الوطن العربي على العديد من المسطحات المائية

⑨ دلل على صحة العبارة التالية // قامت العديد من الحضارات على أرض الوطن العربي

⑩ حدد اثنين // من المضايق التي يطل عليها الوطن العربي

⑪ حدد // بعض الخصائص التي تشترك فيها الدول العربية

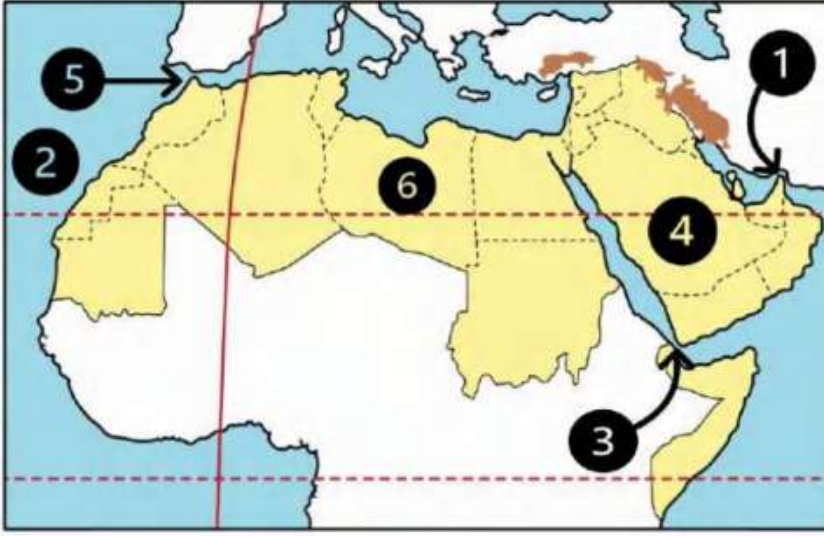
⑫ **صنف الدولة الآتية داخل الجدول**

(مصر - الصومال - السعودية - الأردن - الجزائر - الإمارات - جزر القمر - اليمن - جيبوتي - عمان - سوريا)

دول الجناح الآسيوي	دول الجناح الإفريقي

الدرس (2) قصة ظهور الإسلام

السؤال الأول / لاحظ الخريطة ثم أجب



- ① مضيق
- ② المحيط
- ③ مضيق
- ④ دولة
- ⑤ مضيق
- ⑥ دولة

السؤال الثاني / أكمل العبارات التالية بكلمات مناسبة

- ① نظام الحكم السائد في شبه الجزيرة العربية قبل ظهور الإسلام
- ② أشهر قبائل العرب قبل الإسلام قبيلة
- ③ قام أهل مكة برحلة الصيف إلى ورحلة الشتاء إلى
- ④ ولد الرسول (ﷺ) في شهر
- ⑤ ولد النبي (ﷺ) عام ٥٧٠ م في مدينة
- ⑥ عمل الرسول (ﷺ) وهو في بيت عمه بحرفة
- ⑦ عمل الرسول (ﷺ) بحرفتي الرعي و
- ⑧ لقب الرسول (ﷺ) ب
- ⑨ الغار الذي كان يتعبد فيه الرسول (ﷺ) هو غار
- ⑩ نزلت رسالة الإسلام على النبي (ﷺ) هو في سن
- ⑪ بدأ الرسول (ﷺ) في دعوة المقربين منه وكان منهم صديقة
- ⑫ ظلت الدعوة إلى الإسلام سرية لمدة
- ⑬ هاجر المسلمون أول مرة إلى
- ⑭ كانت المرحلة الثانية من نشر الدعوة الإسلامية مرحلة الدعوة
- ⑮ بدأت المرحلتين الأولى والثانية من الدعوة إلى الإسلام في مدينة

السؤال الثالث اكتب كلمة (صواب) أمام العبارة الصحيحة وكلمة (خطأ) أمام العبارة غير الصحيحة

- ① ساد النظام الملكي في شبه الجزيرة العربية قبل الإسلام ()
- ② كانت مكة تقوم برحلة واحدة في الشتاء إلى اليمن فقط ()
- ③ كانت حرفة الزراعة هي الحرفة السائدة في شبه الجزيرة العربية ()
- ④ ولد سيدنا محمد (ﷺ) في يثرب ()
- ⑤ ولد النبي (ﷺ) في عام الفيل ()
- ⑥ الشجاعة والكرم من صفات العرب الحسنة ()
- ⑦ وأد البنات وشرب الخمر من الصفات الحسنة عند العرب قبل الإسلام ()
- ⑧ تزوج الرسول (ﷺ) من السيدة خديجة بنت خويلد ()
- ⑨ نزل جبريل برسالة الإسلام على الرسول (ﷺ) في سن الثلاثين ()
- ⑩ رحبت قريش بدعوة الرسول (ﷺ) إلى الإسلام ()
- ⑪ كانت الدعوة الإسلامية سريه لفترة تجنباً لأذى قريش ()
- ⑫ كان علي بن أبي طالب من أوائل الذين استجابوا لدعوة الرسول (ﷺ) ()
- ⑬ استمرت المرحلة الأولى من الدعوة أربع سنوات ()
- ⑭ واجه الرسول (ﷺ) أذى قريش بالأساليب السلمية ()
- ⑮ كانت هجرة المسلمين الأولى إلى يثرب ()
- ⑯ قام الرسول (ﷺ) بدعوة القبائل العربية للإسلام خلال موسم الحج ()
- ⑰ استجاب لدعوة الرسول (ﷺ) وفود من يثرب . ()

السؤال الرابع اختر الاجابة الصحيحة مما بين القوسين

- ① كانت الحرفة السائدة في شبه الجزيرة العربية قبل الإسلام هي
(التجارة - الصناعة - الزراعة - الرعي)
- ② ساد في شبه الجزيرة العربية قبل الإسلام النظام
(الجمهوري - القبلي - الملكي - الحزبي)
- ③ ولد الرسول (ﷺ) في مدينة
(يثرب - الطائف - مكة - ثقيف)

- ④ ولد الرسول (ﷺ) بمكة في الثاني عشر من شهر
(رجب - ربيع الأول - رمضان - شوال)
- ⑤ رحلة أهل مكة في فصل الشتاء كانت إلى
- (اليمن - اشام - يثرب - مصر)
- ⑥ كان تجار مكة يتجهون في فصل الصيف إلى
- (الشام - الحبشة - اليمن - الهند)
- ⑦ من الصفات الحسنة عند العرب قبل الإسلام
- (وأد البنات - شرب الخمر - الوفاء بالعهد - الأخذ بالثأر)
- ⑧ انتقل الرسول (ﷺ) للعيش في بيت عمه وهو في سن
- (السابعة - الثامنة - التاسعة - العاشرة)
- ⑨ عمل الرسول (ﷺ) بحرفة عندما كان في بيت عمه أبي طالب
(الرعى - التجارة - الزراعة - الصناعة)
- ⑩ نزل جبريل (ﷺ) على الرسول في غار حراء في إحدى ليالي شهر
- (رجب - شعبان - رمضان - شوال)
- ⑪ بدأت قريش في مواجهتها للرسول (ﷺ) بـ
- (الحصار - إيذاء المسلمين - القتال - التفاوض)
- ⑫ كانت الهجرة الأولى للمسلمين إلى
- (الحبشة - يثرب - الطائف - حنين)
- ⑬ لجأ الرسول (ﷺ) إلى نشر دعوته في موسم الحج واستجابت وفود أهل
- (الطائف - مكة - يثرب - الحبشة)
- ⑭ كانت هجرة المسلمين الثانية إلى مدينة
- (الحبشة - يثرب - الطائف - حنين)

السؤال الخامس / أجب عما يأتي؟

- ① بم تفسر // كان النظام القبلي هو النظام السائد في شبه الجزيرة العربية قبل الإسلام؟
- ② بم تفسر // شهرة مكلة تجاريا؟
- ③ بم تفسر // سمى العام الذي ولد فيه الرسول (ﷺ) بعام الفيل
- ④ بم تفسر // بدأ الرسول (ﷺ) بالدعوة إلى الإسلام سرا؟
- ⑤ بم تفسر // رفض قريش للدعوة الإسلامية؟
- ⑥ بم تفسر // هجرة المسلمين إلى الحبشة؟
- ⑦ ما النتائج المترتبة على // انتشار الإسلام في شبه الجزيرة العربية؟
- ⑧ ما النتائج المترتبة على // قيام الرسول (ﷺ) بدعوة القبائل العربية للإسلام في موسم الحج؟
- ⑨ دلل على صحة العبارة التالية // تعددت أساليب قريش في محاربة الدعوة الإسلامية
- ⑩ قارن بين // الصفات الحسنة والعادات السيئة للعرب قبل الإسلام

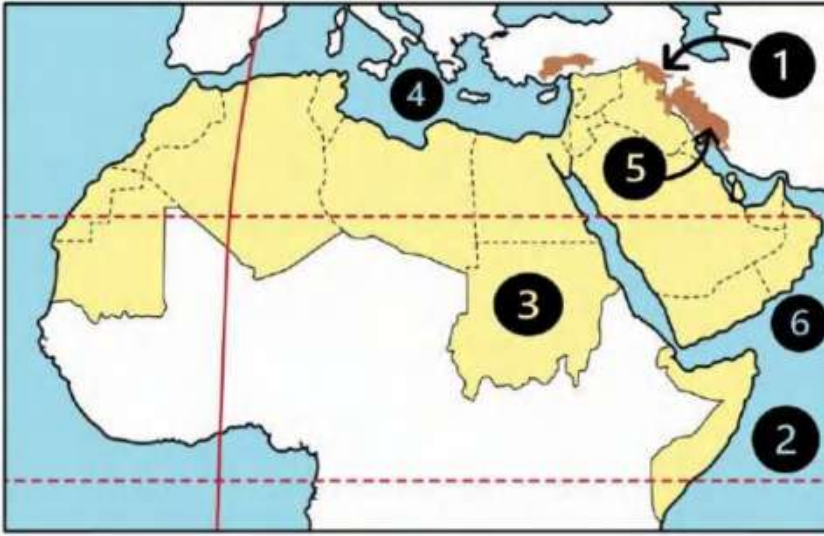
العادات السيئة	الصفات الحسنة

⑪ من يكون ؟

- عم الرسول (ﷺ) وقام برعايته بعد وفاة جده عبدالمطلب
- زوجة الرسول (ﷺ) في بداية نزول الوحي
- نزل على الرسول (ﷺ) برسالة الإسلام
- صديق الرسول (ﷺ) وأول من أسلم من الرجال
- ملك الحبشة الذي هاجر إليه المسلمون في بداية الدعوة

الدرس (3) هجرة الرسول (ﷺ) وتأسيس الدولة الإسلامية

السؤال الأول لاحظ الخريطة ثم أجب



- ① جبال
- ② المحيط
- ③ دولة
- ④ البحر
- ⑤ جبال
- ⑥ بحر

السؤال الثاني أكمل العبارات التالية بكلمات مناسبة

- ① دعا الرسول (ﷺ) أهل يثرب إلى الإسلام في موسم
- ② الصحابي الذي رافق الرسول (ﷺ) في الهجرة هو
- ③ أهل يثرب الذين بايعوا النبي (ﷺ) على نصرته وحمايته فهاجر إليهم هم
- ④ الذين هاجروا من مكة إلى المدينة يطق عليهم اسم
- ⑤ أول عمل قام به الرسول (ﷺ) في المدينة بناء
- ⑥ خاضها الرسول (ﷺ) وأصحابه لحماية الدين الإسلامي والدفاع عن انفسهم
- ⑦ انتصر المسلمون على قريش عام ٢ هـ في غزوة
- ⑧ خالف الرماة أوامر الرسول (ﷺ) في غزوة
- ⑨ أشار على النبي (ﷺ) بحفر خندق حول المدينة
- ⑩ حاصرت قريش وحلفائها المدينة أثناء غزوة
- ⑪ نص صلح الحديبية على هدنة بين قريش والمسلمين لمدة
- ⑫ تحولت دعوة الإسلام إلى مرحلة العالمية بعد صلح
- ⑬ اعتداء قريش على قبيلة خزاعة كان سبب في فتح

السؤال الثالث اكتب كلمة (صواب) أمام العبارة الصحيحة وكلمة (خطأ) أمام العبارة غير الصحيحة

- ① أمر الرسول (ﷺ) أصحابه بالهجرة إلى الطائف ()
- ② رحبت قريش بهجرة المسلمين إلى يثرب ()
- ③ اجتمع زعماء قريش في دار الأرقم بن أبي الأرقم وتأمروا على قتل الرسول (ﷺ) . ()
- ④ التخطيط الجيد أدى إلى نجاح هجرة الرسول (ﷺ) من مكة ليثرب ()
- ⑤ هاجر النبي (ﷺ) من مكة إلى المدينة مع صديقة أبي بكر الصديق ()
- ⑥ اقتصر دور المسجد في الإسلام على العبادة فقط ()
- ⑦ وضع الرسول (ﷺ) صحيفة المدينة لتنظيم العلاقة بين سكان المدينة ()
- ⑧ وضع الرسول (ﷺ) بعد الهجرة إلى المدينة مبادئ التعايش مع الآخر ()
- ⑨ نصت صحيفة المدينة على حرية العقيدة لغير المسلمين ()
- ⑩ استقبل أهل يثرب الرسول (ﷺ) والمهاجرين بالترحاب ()
- ⑪ هُزم المسلمون في غزوة أحد بسبب قلة عددهم ()
- ⑫ نتعلم من غزوة أحد ضرورة الالتزام بأوامر القائد أثناء الحرب ()
- ⑬ نجحت قريش وحلفائها في الانتصار على المسلمين في غزوة الخندق ٥هـ ()
- ⑭ قدم الرسول (ﷺ) مثلاً عظيماً في التسامح يوم فتح مكة ()
- ⑮ يعد من آداب الحرب في الإسلام عدم قتل النساء والأطفال والشيوخ ()
- ⑯ أطلق الرسول (ﷺ) على يثرب اسم ((المدينة)) ()
- ⑰ حرص النبي (ﷺ) على حماية الناس وممتلكاتهم أثناء الحرب ()
- ⑱ جهز النبي (ﷺ) جيشاً وخرج سرا لفتح مكة في العام العاشر من الهجرة ()
- ⑲ عقد المسلمون صلح الحديبية مع قريش في عام ٥ هـ ()
- ⑳ خرج الرسول (ﷺ) لأداء فريضة الحج في العام العاشر من الهجرة ()
- ㉑ توفي الرسول (ﷺ) عام ١١ هـ ()

السؤال الرابع اختر الاجابة الصحيحة مما بين القوسين

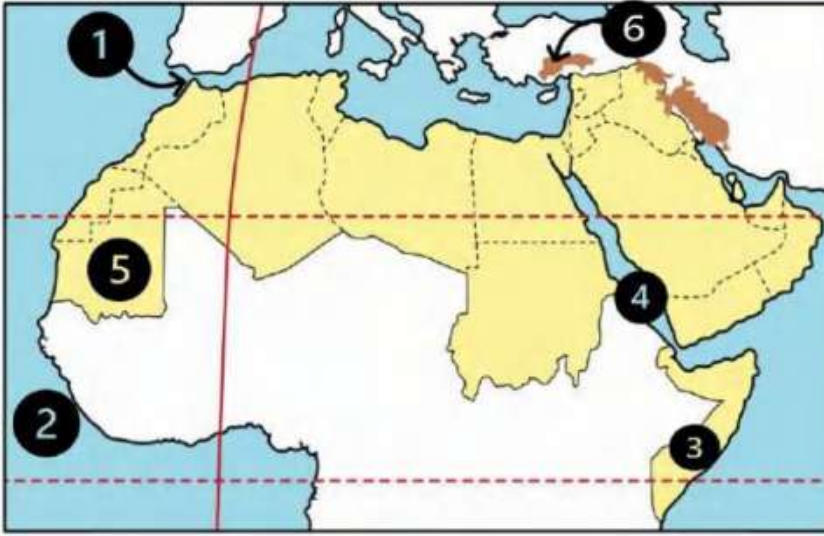
- ① أول أركان بناء الدولة الإسلامية في المدينة هو
(بناء المسجد - وضع صحيفة المدينة - مواجهة المعتدين - المؤاخاة بين المسلمين)
- ② أولى غزوات المسلمين ضد قريش هي غزوة
(الخندق - حنين - خيبر - بدر)
- ③ انتصر المسلمون رغم قلة عددهم على قريش في غزوة
(أحد - خيبر - مؤته - بدر)
- ④ تحول نصر المسلمين إلى هزيمة في غزوة
(بدر - أحد - الخندق - تبوك)
- ⑤ الصحابي الذي أشار على النبي (ﷺ) بحفر خندق حول المدينة هو
(سلمان الفارسي - أبو بكر الصديق - عمر بن الخطاب - علي بن أبي طالب)
- ⑥ غزوة انتصر فيها المسلمون على قريش دون قتال
(بدر - أحد - الخندق - تبوك)
- ⑦ منعت قريش الرسول (ﷺ) وأصحابه في العام السادس الهجري من دخول
(يثرب - الطائف - مكة - حنين)
- ⑧ منعت قريش الرسول (ﷺ) من أداء فريضة العمرة وذلك قبل
(غزوة بدر - غزوة أحد - غزوة الخندق - صلح الحديبية)
- ⑨ اتفق النبي (ﷺ) مع قريش في صلح الحديبية على إيقاف الحرب لمدة سنوات
(سبع - ثماني - تسع - عشر)
- ⑩ ترتب على صلح الحديبية
(ضعف قوة المسلمين - زيادة قوة اليهود - نشر الإسلام عالميا - رفض قريش للدعوة)
- ⑪ عفا الرسول (ﷺ) عن المشركين بعد
(فتح مكة - غزوة الخندق - غزوة بدر - صلح الحديبية)

السؤال الخامس / أجب عما يأتي؟

- ① بم تفسر // أمر الرسول (ﷺ) أصحابه بالهجرة إلى يثرب؟
- ② بم تفسر // دبرت قريش مؤامرة لمنع هجرة الرسول (ﷺ)؟
- ③ بم تفسر // نجاح خطة الرسول (ﷺ) إلى يثرب؟
- ④ بم تفسر // أهمية بناء المسجد في الدولة الإسلامية؟
- ⑤ بم تفسر // مؤاخاة الرسول (ﷺ) بين المهاجرين والأنصار؟
- ⑥ بم تفسر // أهمية صحيفة المدينة؟
- ⑦ بم تفسر // هزيمة المسلمين في غزوة أحد؟
- ⑧ بم تفسر // أهمية صلح الحديبية للمسلمين؟
- ⑨ بم تفسر // خرج الرسول (ﷺ) بجيش كبير لفتح مكة ٨ هـ؟
- ⑩ ما النتائج المترتبة على // مبايعة وفود أهل يثرب للرسول (ﷺ) في موسم الحج؟
- ⑪ ما النتائج المترتبة على // مخالفة الرماة أوامر الرسول (ﷺ) في غزوة أحد؟
- ⑫ من قائل العبارة // ((اذهبوا فأنتم الطلقاء)) ومتى؟ وتدل على ماذا؟
- ⑬ اكتب اثنين من // آداب الحرب في الإسلام التي أوصى بها الرسول (ﷺ)
- ⑭ أذكر // عوامل نجاح هجرة الرسول (ﷺ) من مكة إلى المدينة؟

الدرس (4) لمحات من حياة الخلفاء الراشدين

السؤال الأول لاحظ الخريطة ثم أجب



- ① مضيق
- ② المحيط
- ③ دولة
- ④ البحر
- ⑤ دولة
- ⑥ جبال

السؤال الثاني أكمل العبارات التالية بكلمات مناسبة

- ① أرسل أبو بكر الصديق (رضي الله عنه) جيشاً لمحاربة الروم في بداية خلافته بقيادة
- ② أرسل الخليفة أبو بكر الصديق (رضي الله عنه) جيش أسامة بن زيد للشام الذي جهزه
- ③ المرتدون هم القبائل التي رفضت دفع
- ④ استشهد كثير من حفظة القرآن الكريم في حروب
- ⑤ أوصى أبو بكر الصديق (رضي الله عنه) بالخلافة من بعده للصحابي
- ⑥ تولى خلافة المسلمين بعد أبي بكر الصديق (رضي الله عنه) الخليفة
- ⑦ يبدأ التقويم الهجري من هجرة الرسول (صلى الله عليه وسلم) من مكة إلى
- ⑧ تم فتح مصر وبلاد العراق في عهد الخليفة
- ⑨ أنشأ عمر بن الخطاب (رضي الله عنه) الدواوين ومنها ديوان بيت المال وديوان
- ⑩ تولى خلافة المسلمين بعد استشهاد عمر بن الخطاب (رضي الله عنه) الخليفة
- ⑪ اشترك عثمان بن عفان في تجهيز الجيش الذي أرسله الرسول (صلى الله عليه وسلم) لغزوة
- ⑫ خصص يوماً للنظر في مظالم الناس الخليفة
- ⑬ انتهى عصر الخلفاء الراشدين باستشهاد

السؤال الثالث اكتب كلمة (صواب) أمام العبارة الصحيحة وكلمة (خطأ) أمام العبارة غير الصحيحة

- 1) اتبع المسلمون نظام التوريث في اختيار الخلفاء الراشدين ()
- 2) ظهر نظام الخلافة عند المسلمين بعد وفاة الرسول (ﷺ) ()
- 3) جعل الرسول (ﷺ) أثناء مرضه عمر بن الخطاب إماماً للمسلمين في الصلاة ()
- 4) شارك أبو بكر الصديق (رضي الله عنه) في جميع غزوات الرسول (ﷺ) ()
- 5) أول عمل قام به أبو بكر الصديق (رضي الله عنه) بعد توليه الخلافة هو جمع القرآن الكريم ()
- 6) أمر أبو بكر الصديق (رضي الله عنه) زيد بن ثابت بجمع القرآن الكريم ()
- 7) نجحت الجيوش الإسلامية في عهد أبي بكر الصديق (رضي الله عنه) في محاربة المرتدين ()
- 8) المرتدين هم قبائل رفضت دفع الزكاة ومنهم من ادعى النبوة ()
- 9) كان إرسال الجيوش خارج شبه الجزيرة العربية بهدف تأمين حدود الدولة الإسلامية ()
- 10) تم اختيار عمر بن الخطاب (رضي الله عنه) كخليفة للمسلمين بناء على رأى فردي ()
- 11) أنشأ الخليفة عمر بن الخطاب (رضي الله عنه) ديوان الجند ()
- 12) بدأ التقويم الهجري بهجرة المسلمين إلى الحبشة ()
- 13) استكمل عمر بن الخطاب (رضي الله عنه) الفتوحات الإسلامية التي بدأت في عهد أبو بكر الصديق ()
- 14) أمر عثمان بن عفان (رضي الله عنه) بإنشاء أول أسطول بحري في الإسلام ()
- 15) قام عثمان بن عفان بتوسيع مسجد النبي (ﷺ) واشترى بئر رومة للمسلمين ()
- 16) أراد عثمان بن عفان (رضي الله عنه) توحيد قراءة القرآن الكريم ()
- 17) قام الخليفة علي بن أبي طالب (رضي الله عنه) بنقل مقر الخلافة إلى الكوفة ()
- 18) تم تنظيم الشرطة في عهد الخليفة عثمان بن عفان (رضي الله عنه) ()
- 19) عين الخليفة عثمان بن عفان (رضي الله عنه) شرطة لحراسة بيت المال ()

السؤال الرابع اختر الاجابة الصحيحة مما بين القوسين

- 1 أول من أسلم من الرجال هو
(أبو بكر الصديق - عمر بن الخطاب - عثمان بن عفان - علي بن أبي طالب)

- 2 أول الخلفاء الراشدين هو الخليفة
- (أبو بكر الصديق - عمر بن الخطاب - عثمان بن عفان - علي بن أبي طالب)
- 3 ارتدت بعض القبائل عن الإسلام في عهد الخليفة
- (أبو بكر الصديق - عمر بن الخطاب - عثمان بن عفان - علي بن أبي طالب)
- 4 أول من أرسل الجيوش الإسلامية خارج شبه الجزيرة العربية لنشر الإسلام هو
- (أبو بكر الصديق - عمر بن الخطاب - عثمان بن عفان - علي بن أبي طالب)
- 5 أي مما يلي يعد من أعمال الخليفة أبي بكر الصديق (رضي الله عنه)
- (إنشاء الدواوين - محاربة المرتدين - تعيين صاحب الشرطة - إنشاء أسطول بحري)
- 6 جمع القرآن الكريم في عهد الخليفة أبي بكر الصديق على يد الصحابي
- (عمرو بن العاص - خالد بن الوليد - زيد بن ثابت - أسامة بن زيد)
- 7 أوصى أبو بكر الصديق (رضي الله عنه) بالخلافة من بعده إلى
- (معاوية بن أبي سفيان - عمر بن الخطاب - عثمان بن عفان - علي بن أبي طالب)
- 8 تم إنشاء الدواوين في عهد الخليفة
- (أبو بكر الصديق - عمر بن الخطاب - عثمان بن عفان - علي بن أبي طالب)
- 9 تم فتح مصر في عهد الخليفة
- (أبو بكر الصديق - عمر بن الخطاب - عثمان بن عفان - علي بن أبي طالب)
- 10 أول الخلفاء الراشدين الذي بدأ الفتوحات الإسلامية في قارة إفريقيا هو
- (أبو بكر الصديق - عمر بن الخطاب - عثمان بن عفان - علي بن أبي طالب)
- 11 بنى مسجد عمرو بن العاص في مصر في عهد الخليفة
- (أبو بكر الصديق - عمر بن الخطاب - عثمان بن عفان - علي بن أبي طالب)
- 12 اشترك عثمان بن عفان (رضي الله عنه) في العديد من الغزوات ما عدا غزوة
- (بدر - أحد - الخندق - تبوك)

- 13 أمر الخليفة عثمان بن عفان (رضي الله عنه) بـ
(إنشاء الدواوين - وضع التقويم الهجري - كتابة القرآن في مصحف واحد - محاربة المرتدين)
- 14 أنشئ أول أسطول بحري إسلامي في عهد الخليفة
(أبو بكر الصديق - عمر بن الخطاب - عثمان بن عفان - علي بن أبي طالب)
- 15 تم نشاء أول أسطول بحري لتأمين سواحل مصر والشام من هجمات
(الروم - قريش - المغول - الفرس)
- 16 نقل الخليفة علي بن أبي طالب (رضي الله عنه) مقر الخلافة إلى
(القدس - الكوفة - مكة - المدينة)
- 17 قام الخليفة علي بن أبي طالب (رضي الله عنه) بنقل مقر الخلافة من المدينة إلى
(اليمن - مصر - الشام - العراق)
- 18 آخر الخلفاء الراشدين هو الخليفة
(عمر بن الخطاب - علي بن أبي طالب - أبو بكر الصديق - عثمان بن عفان)
- 19 الخليفة الذي أمر بتعيين شرطة لحراسة بيت المال هو
(أبو بكر الصديق - عمر بن الخطاب - عثمان بن عفان - علي بن أبي طالب)

السؤال الخامس أجب عما يأتي؟

- ① بم تفسر // اختيار أبي بكر الصديق (رضي الله عنه) أول خليفة للمسلمين؟
.....
- ② بم تفسر // إرسال جيش أسامة بن زيد إلى الشام؟
.....
- ③ بم تفسر // إرسال الجيوش الإسلامية خارج شبه الجزيرة العربية؟
.....
- ④ بم تفسر // اشترك عثمان بن عفان (رضي الله عنه) في جميع الغزوات ما عدا غزوة بدر؟
.....
- ⑤ بم تفسر // قيام الخليفة عثمان بن عفان (رضي الله عنه) بكتابة القرآن في مصحف واحد؟
.....
- ⑥ بم تفسر // إنشاء الخليفة عثمان بن عفان (رضي الله عنه) أسطولا بحريا إسلاميا؟
.....

7) بم تفسر // قيام علي بن أبي طالب بنقل مقر الخلافة من المدينة إلى الكوفة بالعراق ؟

8) بم تفسر // قيام علي بن أبي طالب (رضي الله عنه) بتنظيم الشرطة ؟

9) ما النتائج المترتبة على // ارتداد بعض القبائل عن الإسلام بعد وفاة الرسول (صلى الله عليه وسلم)؟

10) ما النتائج المترتبة على // استشهاد عدد كبير من حفظة القرآن الكريم في حرب المرتدين ؟

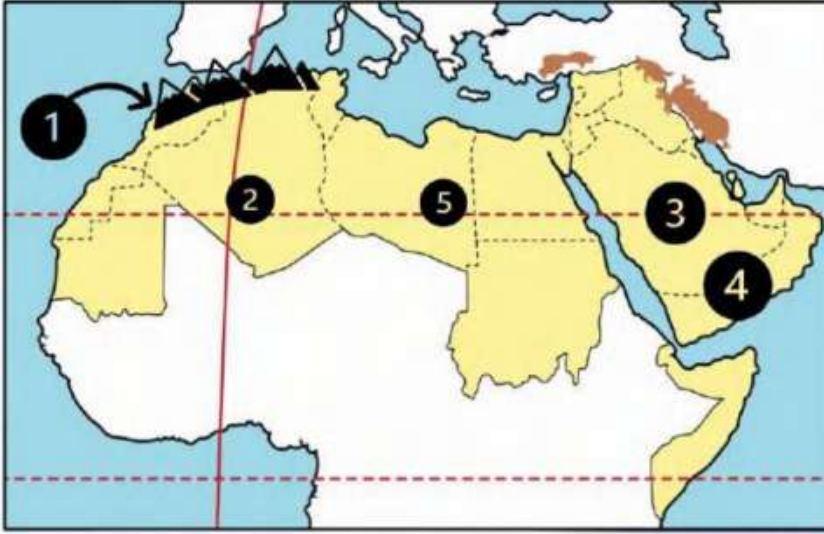
11) ما النتائج المترتبة على // اتساع أرجاء الدولة الإسلامية في عهد الخليفة علي بن أبي طالب ؟

مستتر اعطاني زكي شحتو

الدرس (1) مظاهر سطح وطننا العربي

الوحدة
الثانية

السؤال الأول / لاحظ الخريطة ثم أجب



- ① جبال
- ② واحة
- ③ هضبة
- ④ هضبة
- ⑤ واحة

السؤال الثاني / أكمل العبارات التالية بكلمات مناسبة

- ① أعلى قمة جبلية في الوطن العربي هي قمة جبل
- ② أدنى نقطة في الوطن العربي هي في الأردن
- ③ يوجد في وطننا العربي نوعان من جبال وجبال
- ④ تقع واحة عين صالح في دولة
- ⑤ يقع وادي الجريير في دولة
- ⑥ تكونت جبال أطلس نتيجة الحركات
- ⑦ مرتفعات اليمن تكونت نتيجة
- ⑧ تقع هضبة حضر موت في الجناح
- ⑨ يصعب إقامة مواني على ساحل البحر الأحمر لوجود
- ⑩ أكبر الظواهر التضاريسية مساحة في الوطن العربي هي
- ⑪ أكثر مظاهر السطح انتشارا في الوطن العربي هي
- ⑫ تعتبر جبال عسير من أمثلة الجبال
- ⑬ يمتد بحر الرمال العظيم بين مصر و

- 14) تكونت السهول الفيضية نتيجة
- 15) تكونت الأودية الجافة في الوطن العربي نتيجة
- 16) تقع سهول دجلة والفرات في قارة
- 17) تعد سهول دجلة والفرات من السهول
- 18) تكونت التجمعات الرملية بفعل
- 19) تقوم الزراعة بواحة صالح اعتمادا على
- 20) تتميز السهول الساحلية المطلة على البحر المتوسط بأماطارها في فصل

السؤال الثالث / اكتب كلمة (صواب) أمام العبارة الصحيحة وكلمة (خطأ) أمام العبارة غير الصحيحة

- 1) توجد جبال أطلس في الجناح الآسيوي للوطن العربي ()
- 2) بحر الرمال العظيم يقع بين دولتي مصر والسودان ()
- 3) تقع سلاسل جبال الحجاز وعسير في شبه جزيرة سيناء ()
- 4) تقع جبال الحجاز في الجناح الإفريقي من الوطن العربي ()
- 5) هضبة حضر موت إحدى هضاب الجناح الآسيوي ()
- 6) تقع هضبة بادية الشام في وسط شبه الجزيرة العربية ()
- 7) تكونت جبال أطلس نتيجة انكسار في القشرة الأرضية ()
- 8) جبال عُمان أحد أنواع الجبال الالتوائية في الوطن العربي ()
- 9) تستخرج الثروات المعدنية ومصادر الطاقة من سهول البحر الأحمر ()
- 10) أدنى نقطة في سطح الوطن العربي هي بحر قزوين ()
- 11) تتميز سهول المحيط الأطلنطي بقلّة السكان وسهولة التنقل ()
- 12) تتميز سهول البحر المتوسط بأنها كثيرة السكان ()
- 13) تقوم الزراعة في الواحات اعتمادا على المياه الجوفية ()
- 14) ساعد تنوع مظاهر السطح على تنوع الأنشطة الاقتصادية ()

السؤال الرابع اختر الاجابة الصحيحة مما بين القوسين

- ① تقع بحيرة عسل في دولة
(الصومال - السودان - جيبوتي - مصر)
- ② يقصد السياح واحة سيوة في دولة للعلاج
(الصومال - مصر - السودان - جيبوتي)
- ③ من الأودية التي تكونت بفعل التعرية المائية وادي الجريير في
(مصر - ليبيا - تونس - السعودية)
- ④ أكثر أشكال السطح انتشارا في الوطن العربي هي
(الجبال - الهضاب - السهول الفيضية - السهول الساحلية)
- ⑤ تعوق الشعاب المرجانية إقامة الموانئ على ساحل في الوطن العربي
(البحر المتوسط - الخليج العربي - البحر الأحمر - المحيط الأطلنطي)
- ⑥ توجد في دولتي مصر والسودان جبال
(كردستان - زاجروس - عسير - البحر الأحمر)
- ⑦ تمتد هضبة إفريقيا الشمالية من جبال البحر الأحمر إلى المحيط
(الهادي - الهندي - الأطلنطي - القطبي)
- ⑧ أحد الجبال الالتوائية في الوطن العربي هي جبال
(الشام - الحجاز - أطلس - عسير)
- ⑨ جبال نشأت نتيجة انكسار في القشرة الأرضية
(كردستان - زاجروس - عمان - عسير)
- ⑩ إحدي هضاب الجناح العربي الآسيوي
(الشطوط - الصحراء الكبرى - المعازة - بادية الشام)
- ⑪ (تكونت نتيجة ترسب المواد العالقة في مياه الأنهار) تشير هذه العبارة إلى
(السهول الساحلية - الجبال - الهضاب - السهول الفيضية)

- 12) السهول الساحلية التي تتميز بتساقط الأمطار في فصل الشتاء هي سهول
(البحر المتوسط - البحر الأحمر - الخليج العربي - بحر العرب)
- 13) (تستخدم كطريق للمواصلات في الصحاري) تنطبق العبارة على
(السهول الفيضية - السهول الساحلية - الأودية الجافة - الجبال الإنكسارية)
- 14) تعتمد الزراعة في الواحات على
(المياه الجوفية - البحار - الأنهار - الأمطار الشتوية)
- 15) السهول التي تتميز بتربتها الفقيرة أو الملحية تقع على
(البحر المتوسط - المحيط الأطلسي - نهر النيل - الخليج العربي)

السؤال الخامس / أجب عما يأتي؟

1) بم تفسر // نشأة جبال البحر الأحمر ؟

2) بم تفسر // نشأة جبال أطلس ؟

3) بم تفسر // أهمية الأودية الجافة؟

4) بم تفسر // قلة الموانئ على البحر الأحمر؟

5) بم تفسر // يعيش بعض السكان في الواحات ؟

6) بم تفسر // تكون السهول الفيضية في الوطن العربي ؟

7) ما النتائج المترتبة على // تنوع مظاهر سطح الوطن العربي ؟

8) ما النتائج المترتبة على // وجود الشعاب المرجانية على ساحل البحر الأحمر ؟

9) حدد أوجه التشابه والاختلاف بين // جبال البحر الأحمر وجبال أطلس

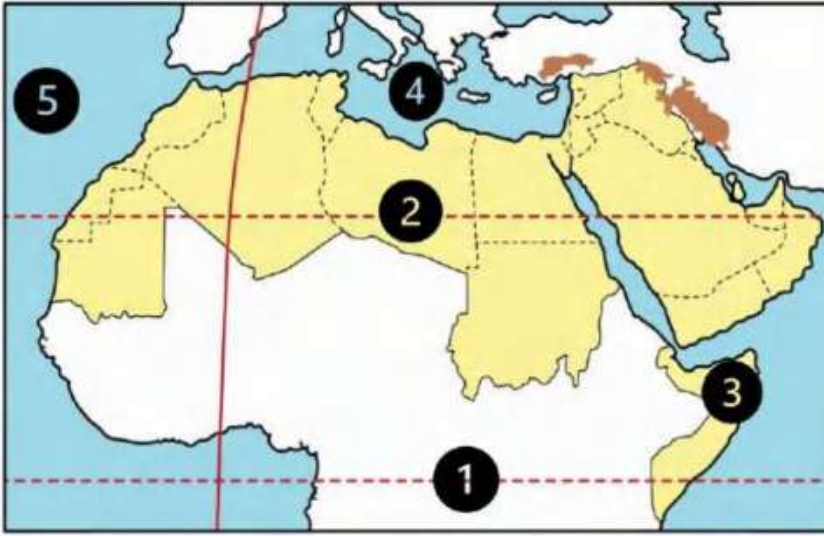
جبال البحر الأحمر	جبال أطلس	
		التشابه
		الاختلاف

الوحدة الثانية

الدرس (2) العوامل المؤثرة في مناخ وطننا العربي

السؤال الأول

لاحظ الخريطة ثم أجب



① دائرة

② مدار

③ دولة تسقط عليها

أمطار موسمية

④ البحر

⑤ المحيط

السؤال الثاني

أكمل العبارات التالية بكلمات مناسبة

① يسود المناخ معظم أجزاء الوطن العربي

② يسود المناخ المعتدل الأجزاء من الوطن العربي

③ تسقط الأمطار بغزارة على منحدرات الجبال المواجهة للرياح لأنها محملة بـ

④ الرياح الباردة تهب على الوطن العربي من أوروبا و

⑤ يهب على الوطن العربي صيفا رياح حارة قادمة من جنوب

⑥ تمر دائرة الاستواء الوطن العربي

⑦ الأمطار التي تسقط صيفا على معظم أنحاء الصومال تسمى

⑧ حركة مياه البحار والمحيطات تسمى

السؤال الثالث

اكتب كلمة (صواب) أمام العبارة الصحيحة وكلمة (خطأ) أمام العبارة غير الصحيحة

① يؤثر الموقع الفلكي للوطن العربي على مناخه ()

② تمر دائرة الاستواء في شمال الوطن العربي ()

③ ترتفع درجات الحرارة كلما اتجهنا جنوب الوطن العربي ()

④ المناطق الداخلية من الوطن العربي تكون أكثر اعتدالا من المناطق الساحلية ()

⑤ تؤثر المسطحات المائية على مناخ الوطن العربي ()

- ⑥ تؤثر المسطحات المائية على المدى الحراري اليومي والسنوي ()
- ⑦ تسقط الأمطار على مرتفعات اليمن شتاء ()
- ⑧ تسقط الأمطار صيفا على الأطراف الشمالية للوطن العربي ()
- ⑨ يتعرض الوطن العربي إلى رياح حارة صيفا قادمة من أوروبا ()
- ⑩ يؤدي سوء الأحوال المناخية إلى تأجيل أو إلغاء الرحلات الجوية ()
- ⑪ لا يتم مراعاة الظروف المناخية عند اختيار المواقع لبناء المطارات ()

السؤال الرابع اختر الإجابة الصحيحة مما بين القوسين

- ① يمر بأراضي الوطن العربي جنوبا
(الدائرة القطبية الشمالية - مدار السرطان - دائرة الاستواء - خط جرينتش)
- ② يقل سقوط الأمطار في الوطن العربي على
(الجبال - السهول - الأودية - الصحراء)
- ③ المناطق القريبة من المسطحات المائية يكون مناخها
(شديد الحرارة والجفاف - أكثر اعتدالا ومطرا - أقل اعتدالا ومطرا - شديد البرودة والجفاف)
- ④ يتميز مناخ الوطن العربي بالحرارة الشديدة في فصل
(الشتاء - الربيع - الصيف - الخريف)
- ⑤ تهب على الوطن العربي شتاء رياح شديدة البرودة قادمة من
(قارة إفريقيا - المحيط الهندي - قارة أوروبا - المحيط الهادي)
- ⑥ مناخ مدينة الإسكندرية معتدل أكثر من مناخ مدينة الرياض بسبب تأثير
(اتجاه المرتفعات - المسطحات المائية - التيارات البحرية - خط جرينتش)
- ⑦ الارتفاع لمسافة ١٥٠ متر فوق مستوى سطح البحر يؤدي إلى انخفاض درجة الحرارة بقدر
(درجة واحدة - درجتين - ثلاث درجات - أربع درجات)
- ⑧ تسقط أمطار موسمية صيفية على دولة
(لبنان - سوريا - اليمن - تونس)

- ⑨ يحل فصل الشتاء على الوطن العربي عندما تتعامد الشمس على
(مدار السرطان - مدار الجدي - الدائرة القطبية - دائرة الاستواء)
- ⑩ يحل فصل الصيف على الوطن العربي عندما تتعامد الشمس على
(مدار السرطان - مدار الجدي - الدائرة القطبية - دائرة الاستواء)

السؤال الخامس / أجب عما يأتي؟

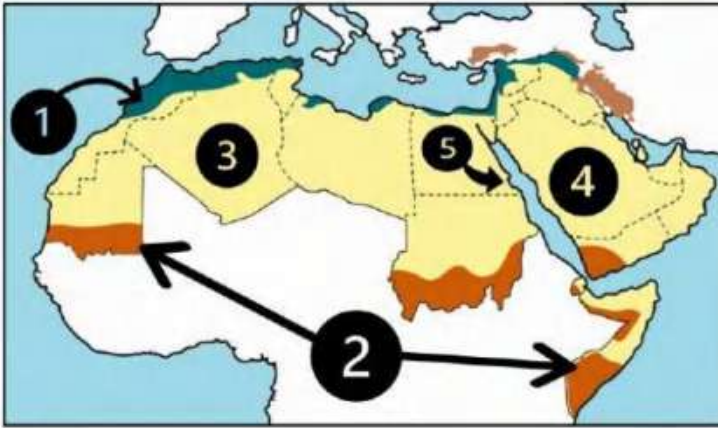
- ① ما النتائج المترتبة على // الموقع الفلكي للوطن العربي ؟
.....
- ② بم تفسر // ارتفاع درجة الحرارة في المناطق الجنوبية للوطن العربي ؟
.....
- ③ بم تفسر // انخفاض درجة الحرارة في الأجزاء الشمالية من الوطن العربي ؟
.....
- ④ بم تفسر // المناطق الساحلية أكثر اعتدالا من المناطق الداخلية (القارية) بالوطن العربي؟
.....
- ⑤ بم تفسر // انخفاض درجة الحرارة شتاء في المناطق الداخلية (القارية) ؟
.....
- ⑥ بم تفسر // ارتفاع درجة الحرارة صيفا في المناطق الداخلية (القارية) ؟
.....
- ⑦ بم تفسر // مناخ مدينة الإسكندرية أكثر اعتدالا من مناخ مدينة الرياض ؟
.....
- ⑧ بم تفسر // يقل تأثير المسطحات المائية في الوطن العربي ؟
.....
- ⑨ بم تفسر // انخفاض درجة الحرارة في المناطق المرتفعة بالوطن العربي؟
.....
- ⑩ دلل // يؤثر المناخ على الأنشطة البشرية مثل الطيران
.....

الوحدة الثانية

الدرس (3) الأقاليم المناخية والنباتية في وطننا العربي

السؤال الأول

لاحظ الخريطة ثم أجب



- ① إقليم مناخ
- ② إقليم المناخ
- ③ إقليم المناخ
- ④ دولة
- ⑤ إحدى المحميات المصرية

السؤال الثاني

أكمل العبارات التالية بكلمات مناسبة

- ① يسود الوطن العربي أقاليم مناخية
- ② يتميز إقليم البحر المتوسط بتساقط الأمطار في فصل
- ③ تربي الأغنام والماعز في إقليم مناخ
- ④ يسود معظم الوطن العربي إقليم المناخ
- ⑤ ينتشر في إقليم البحر المتوسط أشجار و.....
- ⑥ تنمو بالإقليم المداري في الوطن العربي حشائش
- ⑦ تسقط الأمطار صيفا في الإقليم المناخي
- ⑧ ينمو نبات الصبار في الإقليم
- ⑨ تقع محمية ضانا في دولة
- ⑩ تقع محمية أرز الشوف بدولة

السؤال الثالث

اكتب كلمة (صواب) أمام العبارة الصحيحة وكلمة (خطأ) أمام العبارة غير الصحيحة

- ① تعيش الأسود في إقليم مناخ البحر المتوسط ()
- ② تقع محمية ضانا في الكويت ()
- ③ تنوع الأقاليم المناخية في الوطن العربي أدى إلى تنوع النبات الطبيعي ()
- ④ تربي الماعز والأغنام في الإقليم المداري ()

- ⑤ يشغل معظم مساحة الوطن العربي الإقليم الصحراوي ()
- ⑥ تنمو حشائش السافانا في إقليم البحر المتوسط ()
- ⑦ تنمو حشائش السافانا في الإقليم المداري بالوطن العربي ()
- ⑧ يقل المدي الحراري في معظم الصحاري الكبرى بالوطن العربي ()
- ⑨ تساعد المحميات الطبيعية في الحفاظ على الحياة البرية بالوطن العربي ()
- ⑩ يحتفل العالم يوم ٣ مارس من كل عام باليوم العالمي للحياة البرية ()

السؤال الرابع اختر الإجابة الصحيحة مما بين القوسين

- ① تسقط أمطار إقليم البحر المتوسط في فصل
(الشتاء - الخريف - الربيع - الصيف)
- ② تسقط أمطار الإقليم المداري في فصل
(الشتاء - الخريف - الربيع - الصيف)
- ③ يمتد الإقليم المداري في الوطن العربي
(شمال - جنوب - شرق - غرب)
- ④ يمتد إقليم البحر المتوسط في الوطن العربي
(شمال - جنوب - شرق - غرب)
- ⑤ محمية جبل علبه من أشهر المحميات في الوطن العربي والتي تقع بدولة
(الصومال - مصر - السودان - جيبوتي)
- ⑥ إحدى الدول العربية التي تقع أجزاءها الشمالية في إقليم مناخ البحر المتوسط
(موريتانيا - ليبيا - السودان - اليمن)
- ⑦ حشائش الإستبس تنمو في إقليم مناخي
(البحر المتوسط - الصحراوي - المداري - الموسمي)
- ⑧ تنمو أشجار الأرز في إقليم مناخ
(الاستوائي - الصحراوي الحار - البحر المتوسط - المداري)

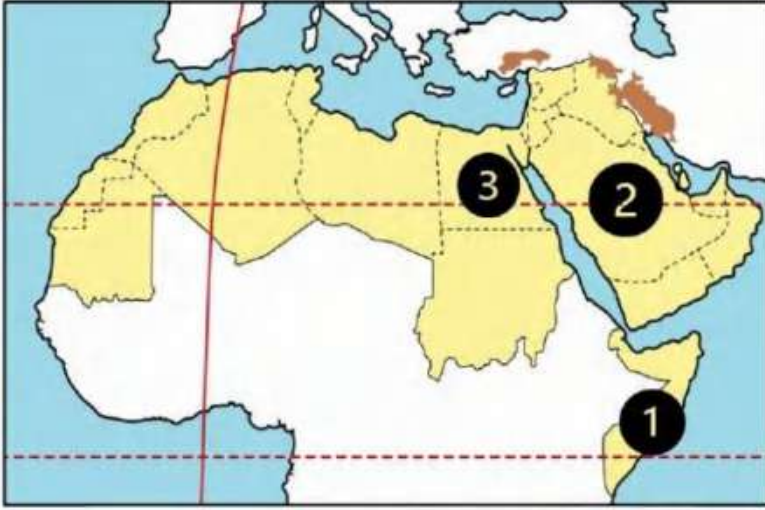
- 9) تنتشر النباتات التي لها قدرة على تحمل الجفاف في الإقليم المناخي
(المداري - الصحراوي الحار - المتوسط - الموسمي)
- 10) تقع دولة فلسطين ولبنان ضمن الإقليم المناخي
(الاستوائي - الصحراوي الحار - البحر المتوسط - المداري)
- 11) دولة عربية تقع بالكامل داخل الإقليم الصحراوي الحار هي
(الجزائر - الكويت - السودان - لبنان)
- 12) يعيش الزراف والأسود بالإقليم
(الصحراوي - البحر المتوسط - المداري - الموسمي)
- 13) إقليم مناخي يشمل النطاق الساحلي من الصومال وتندر به الأمطار هو الإقليم
(المداري - الصحراوي - البحر المتوسط - الموسمي)
- 14) يتسم مناخ الجزء الجنوبي الغربي من شبه الجزيرة العربية بأنه
(شتاء بارد ممطر - صيف حار جاف - شتاء معتدل جاف - ممطر طوال العام)

السؤال الخامس / أجب عما يأتي؟

- 1) بم تفسر // تنوع الأقاليم المناخية في وطننا العربي ؟
.....
- 2) بم تفسر // أهمية حشائش الإستبس بالنسبة للثروة الحيوانية ؟
.....
- 3) بم تفسر // إنشاء الدول العربية المحميات الطبيعية ؟
.....
- 4) بم تفسر // الأهمية الاقتصادية للمحميات الطبيعية ؟
.....
- 5) بم تفسر // سقوط الأمطار صيفا على جنوب غرب شبه الجزيرة العربية ؟
.....
- 6) ما النتائج المترتبة على // تنوع الأقاليم المناخية للوطن العربي؟
.....

الوحدة الثانية الدرس (4) المشكلات البيئية في وطننا العربي

السؤال الأول لاحظ الخريطة ثم أجب



- ① دولة تعرضت لأكبر موجة جفاف
- ② دولة أعلنت بناء مدينة نيوم الخضراء
- ③ دولة أطلقت مبادرة لزراعة ١٠٠ مليون شجرة مثمرة هي

السؤال الثاني أكمل العبارات التالية بكلمات مناسبة

- ① عقد مؤتمر المناخ للأمم المتحدة عام ٢٠٢٢ في دولة بمدينة
- ② ظهرت مشكلات بيئية نتيجة التغير المناخي وهي و..... و.....
- ③ إنشاء المدن الذكية بالوطن العربي يقلل من انبعاث
- ④ انطلقت مبادرة زراعة ٤٥٠ مليون شجرة في دولة
- ⑤ تزداد معدلات استهلاك المياه العذبة بالوطن العربي بسبب النمو المتزايد في أعداد
- ⑥ تؤدي المشكلات البيئية في الوطن العربي إلى تدمير
- ⑦ أعلن عن إنشاء مدينة نيوم الخضراء عام ٢٠٢٢ في دولة

السؤال الثالث اكتب كلمة (صواب) أمام العبارة الصحيحة وكلمة (خطأ) أمام العبارة غير الصحيحة

- ① التغير المناخي من المشكلات البيئية في وطننا العربي ()
- ② الجفاف هو نقص كمية المطر ليومين ()
- ③ يؤثر التغير المناخي على درجة الحرارة وكمية المطر ()
- ④ تعرضت دولة المغرب لأكبر موجة جفاف سببت نقصاً في الغذاء ()
- ⑤ التوسع المستمر في الزراعة يؤدي إلى ندرة المياه العذبة ()
- ⑥ المشكلات البيئية في الوطن العربي تهدد صحة وحياة المواطنين ()

- ⑦ يحدث التصحر في الوطن العربي بسبب استخدام طرق الري الحديثة ()
- ⑧ أنشئت المدن الذكية بهدف تقليل انبعاثات الغازات الدفيئة ()
- ⑨ تهتم الدول العربية باستخدام مصادر الطاقة النظيفة ()
- ⑩ تعاني معظم الدول العربية من ندرة المياه المالحة ()
- ⑪ تحتفل الدول العربية باليوم العربي للبيئة في ١٤ أكتوبر من كل عام ()

السؤال الرابع اختر الاجابة الصحيحة مما بين القوسين

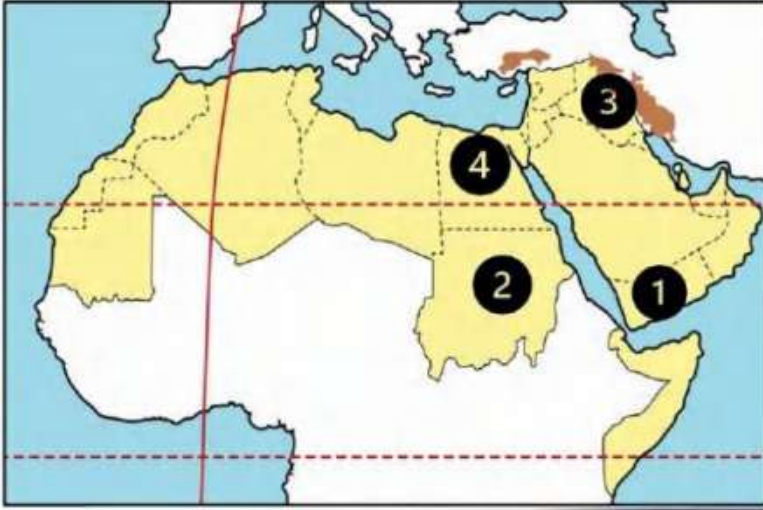
- ① دولة تعاني من أكبر موجة جفاف في وطننا العربي هي
(الصومال - السودان - جيبوتي - مصر)
- ② يعاني نحو مساحة الوطن العربي من مشكلة التصحر
(ثلث - ثلثي - ربع - نصف)
- ③ أعلن عن إنشاء مدينة نيوم الخضراء بدولة
(مصر - ليبيا - تونس - السعودية)
- ④ إحدى الدول العربية التي أطلقت مبادرة لزيادة المساحات الخضراء
(اليمن - سوريا - لبنان - مصر)
- ⑤ تدهور الأرض وتناقص قدرتها على الإنتاج تشير هذه العبارة لتعريف
(الجفاف - الفيضان - التصحر - السيول)
- ⑥ يحدث التصحر بسبب
(زيادة مساحات الغابات - كثرة الأمطار والسيول - زحف الكثبان الرملية - إنشاء المدن الذكية)
- ⑦ مشروع صناعة الأخشاب من مخلفات النخيل يوجد في مصر بمحافظة
(البحر الأحمر - الوادي الجديد - شمال سيناء - جنوب سيناء)
- ⑧ جائزة عاصمة المدن العربية لعام ٢٠٢٢م حصلت عليها مدينة
(رأس محمد - رأس غارب - الخارجة - الداخلة)

السؤال الخامس / أجب عما يأتي؟

- 1 بم تفسر // مشاركة الدول العربية في مؤتمر المناخ للأمم المتحدة ٢٠٢٢ م ؟
.....
- 2 بم تفسر // زيادة معدل استهلاك المياه العذبة في الوطن العربي ؟
.....
- 3 بم تفسر // حدوث مشكلة التصحر ؟
.....
- 4 بم تفسر // إنشاء المدن الذكية ؟
.....
- 5 ما النتائج المترتبة على // تعرض الصومال لأكبر موجة جفاف بالوطن العربي ؟
.....
- 6 ما النتائج المترتبة على // الرعي الجائر للحيوانات في الوطن العربي ؟
.....
- 7 ما النتائج المترتبة على // زحف الكثبان الرملية وتناقص المياه الجوفية في وطننا العربي ؟
.....
- 8 ما النتائج المترتبة على // وجود العديد من المشكلات البيئية في الوطن العربي ؟
.....

مذكرتي
شحتو

الدرس (1) الزراعة في وطننا العربي

الوحدة
الثالثةالسؤال الأول
لاحظ الخريطة ثم أجب

- ① دولة تتركز بها زراعة البن
- ② دولة تتركز بها زراعة القطن والكتان
- ③ دولة منتجة للموايح هي
- ④ أولى الدول العربية المنتجة لمحاصيل الحبوب الغذائية

السؤال الثاني
أكمل العبارات التالية بكلمات مناسبة

- 1 تنقسم مقومات الزراعة إلى مقومات طبيعية ومقومات
- 2 الزراعة توفر المواد الخام اللازمة لـ
- 3 تحتل مصر المركز في إنتاج التمور في الوطن العربي
- 4 تقوم الزراعة في الأجزاء الشمالية من الوطن العربي على
- 5 تتعرض الزراعة في الوطن العربي لمشكلة تذبذب كمية
- 6 تتركز زراعة البن في
- 7 تنوع المناخ في الوطن العربي أدى إلى تنوع
- 8 القمح والأرز من محاصيل
- 9 القطن والكتان من محاصيل
- 10 يتركز إنتاج القطن والكتان في دولتي و
- 11 إحدى مناطق التراث العالمي للزراعة في مصر وهي واحة
- 12 تشتهر واحة العين وواحة سيوة وواحة ليو بزراعة أنواع مميزة من

السؤال الثالث
اكتب كلمة (صواب) أمام العبارة الصحيحة وكلمة (خطأ) أمام العبارة غير الصحيحة

- ① تتنوع مصادر المياه العذبة في الوطن العربي ()
- ② المنظمة المسؤولة عن الأغذية والزراعة هي اليونسكو ()

- ③ منظمة اليونسكو هي المسؤولة عن إعلان مناطق التراث العالمي للزراعة ()
- ④ قصب السكر من محاصيل الحبوب الغذائية ()
- ⑤ توجد التربة الخصبة على جانبي الأنهار ()
- ⑥ يحصل سكان الواحات على المياه العذبة من الأنهار ()
- ⑦ تساعد الزراعة في توفير فرص عمل لسكان الوطن العربي ()
- ⑧ وسائل النقل من العوامل الطبيعية لقيام الزراعة ()
- ⑨ رأس المال مهم لشراء البذور والأسمدة ()
- ⑩ يتزايد الطلب على المنتجات الزراعية العربية في الأسواق العالمية والمحلية ()
- ⑪ قامت الدول العربية باستحداث أنواع جديدة من البذور للتكيف مع تغير المناخ ()

السؤال الرابع اختر الاجابة الصحيحة مما بين القوسين

- ① أولى الدولة العربية في انتاج التمور
(مصر - العراق - السعودية - البحرين)
- ② واحة مصرية تم تصنيفها كأحد مواقع التراث الزراعي العالمي هي
(الخارجة - الداخلة - سيوة - الغرافرة)
- ③ دولة تقوم فيها الزراعة على مياه الأنهار
(ليبيا - قطر - الكويت - السودان)
- ④ تعتمد الزراعة في الأجزاء الشمالية من الوطن العربي على مياه
(الأنهار - التحلية - الأمطار - الجوفية)
- ⑤ تقوم الزراعة في الوطن العربي على المياه الجوفية في المناطق
(الشمالية - الصحراوية - الفيضية - الجبلية)
- ⑥ من المقومات الطبيعية لقيام الزراعة
(الأيدي العاملة - وسائل النقل - السوق - المناخ)
- ⑦ أي مما يلي يعد من المقومات البشرية لقيام الزراعة
(المياه العذبة - الأيدي العاملة - التربة الخصبة - تنوع المناخ)

- ⑧ يتركز إنتاج الألياف في الوطن العربي في دولة
(السعودية - المغرب - ليبيا - مصر)
- ⑨ أحد محاصيل الحبوب الغذائية
(العنب - البن - الزيتون - الذرة)
- ⑩ دولة منتجة للموايح
(اليمن - قطر - فلسطين - الصومال)
- ⑪ تحتفل الدول العربية يوم ٢٧ سبتمبر بيوم العربي
(السياحة - الزراعة - الصناعة - التجارة)

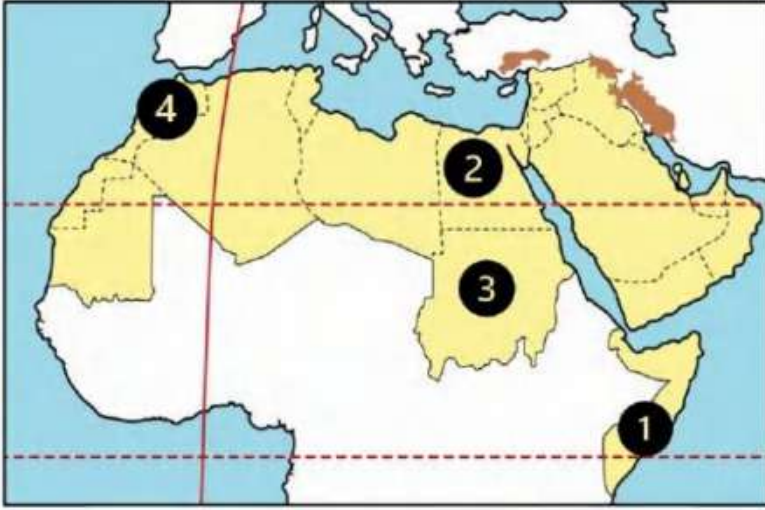
السؤال الخامس / أجب عما يأتي؟

- ① بم تفسر // أهمية الزراعة في الوطن العربي ؟
.....
.....
- ② بم تفسر // قيام الزراعة في الواحات ؟
.....
- ③ بم تفسر // قيام الزراعة في الأجزاء الشمالية للوطن العربي ؟
.....
- ④ بم تفسر // تنوع المحاصيل الزراعية في الوطن العربي ؟
.....
- ⑤ بم تفسر // أهمية رأس المال للنشاط الزراعي ؟
.....
- ⑥ بم تفسر // أهمية وسائل النقل في الزراعة ؟
.....
- ⑦ بم تفسر // اتجاه بعض الدول العربية لاستخدام نظام الري بالرش ؟
.....
- ⑧ ما النتائج المترتبة على // تنوع المناخ بالوطن العربي ؟
.....

الوحدة
الثالثة

الدرس (2) الثروة الحيوانية والسمكية في وطننا العربي

السؤال الأول / لاحظ الخريطة ثم أجب



- ① أولى الدول في تربية الإبل
- ② أولى الدول في تربية الجاموس
- ③ أولى الدول في تربية الأبقار
- ④ أولى الدول في صيد الأسماك من
المصايد

السؤال الثاني / أكمل العبارات التالية بكلمات مناسبة

- ① أولى الدول العربية في تربية الجاموس
- ② أولى الدول العربية في تربية الأبل
- ③ أكبر الدول العربية في تربية الأغنام
- ④ توفر لنا الأبقار والجاموس البروتين
- ⑤ تساهم الثروة السمكية في وطننا العربي في سد العجز من
- ⑥ تستخدم بعض الحيوانات بالريف في النقل وأعمال
- ⑦ مصر أكبر الدول العربية في إنتاج الأسماك من
- ⑧ تنمي الدول العربية الثروة السمكية عن طريق التوسع في مشروعات
- ⑨ تعتمد دولة المغرب في إنتاج الأسماك على البحر و المحيط

السؤال الثالث / اكتب كلمة (صواب) أمام العبارة الصحيحة وكلمة (خطأ) أمام العبارة غير الصحيحة

- ① تتنوع الثروة الحيوانية في وطننا العربي ()
- ② تنتشر تربية الجاموس في المناطق الصحراوية بمصر ()
- ③ تستخدم بعض الحيوانات في وطننا العربي في أعمال الحقل والنقل ()
- ④ تكفي اللحوم الحمراء حاجة السكان في الوطن العربي ()

- ⑤ يؤدي التغير المناخي إلى تناقص أعداد الحيوانات بالوطن العربي ()
- ⑥ ترتبط الصناعة في وطننا العربي بالثروة الحيوانية ()
- ⑦ تساهم الثروة السمكية في سد العجز من البروتين الحيواني ()
- ⑧ تهتم الدول العربية بتربية الدواجن لسد العجز من اللحوم الحمراء ()
- ⑨ الصيد الجائر من المشكلات التي تواجه الثروة السمكية في الوطن العربي ()
- ⑩ أنشأت الدولة مزعة للإنتاج الحيواني غرب الإسكندرية ()
- ⑪ تقوم الدول العربية بتدريب الصيادين على أساليب الصيد الحديثة ()

السؤال الرابع اختر الاجابة الصحيحة مما بين القوسين

- ① المغرب أولى الدول العربية في تربية
(الجاموس - الأغنام - الإبل - الدواجن)
- ② تشغل المراعي الطبيعية في الوطن العربي نحو مساحته
(ربع - خمس - ثلث - ثمن)
- ③ أولى الدول العربية في تربية الماعز هي
(الصومال - المغرب - السودان - السعودية)
- ④ أولى الدول العربية في تربية الأبقار هي
(الصومال - المغرب - السودان - السعودية)
- ⑤ أكبر الدول العربية إنتاجاً للأسماك من المزارع السمكية
(المغرب - مصر - الجزائر - موريتانيا)
- ⑥ تعد مصر أولى الدول العربية في تربية الجاموس بسبب توافر
(المراعي الطبيعية - المناخ الحار - السهول الفيضية - السهول الساحلية)
- ⑦ أقامت مصر مشروع المليون رأس ماشية في محافظة
(القاهرة - الشرقية - الغربية - البحيرة)
- ⑧ أي من المواد الخام التالية توفرها الثروة الحيوانية
(القطن - الجلود - الفوسفات - البترول)

السؤال الخامس / أجب عما يأتي؟

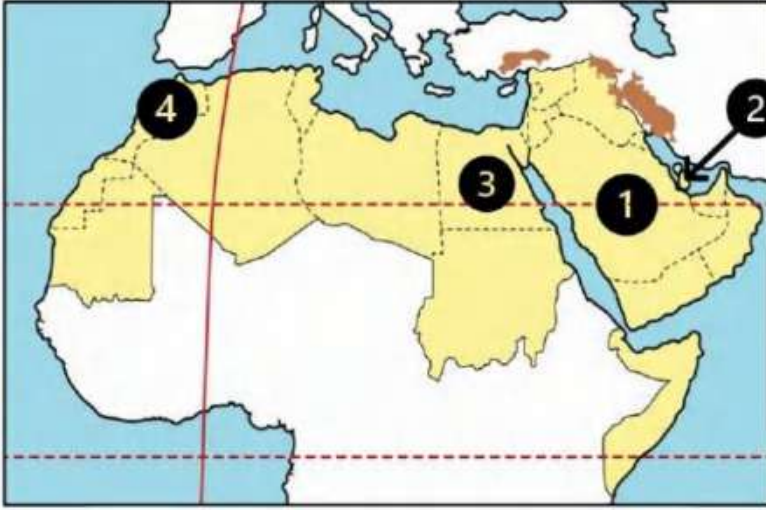
- ① بم تفسر // أهمية الثروة الحيوانية في وطننا العربي ؟
.....
.....
- ② بم تفسر // تركيز تربية الجاموس في مصر؟
.....
.....
- ③ بم تفسر // تهتم الدول العربية بتربية الدواجن ؟
.....
.....
- ④ بم تفسر // اهتمام الدول العربية بالثروة السمكية ؟
.....
.....
- ⑤ بم تفسر // تعد المغرب أولى الدول العربية إنتاجا للأسماك من المصايد ؟
.....
.....
- ⑥ ما العلاقة بين // التغيرات المناخية والثروة الحيوانية ؟
.....
.....
- ⑦ ما العلاقة بين // التغيرات المناخية والثروة السمكية ؟
.....
.....
- ⑧ أذكر اثنين من // المشكلات التي تواجه الثروة السمكية في وطننا العربي ؟
.....
.....
- ⑨ أذكر اثنين من // المشكلات التي تواجه الثروة الحيوانية في وطننا العربي ؟
.....
.....

شحتو

الدرس (3) التعدين والصناعة في وطننا العربي

الوحدة
الثالثة

السؤال الأول / لاحظ الخريطة ثم أجب



- ① أولى الدول في المنتجة للبتروول
- ② أولى الدول المنتجة للغاز الطبيعي
- ③ أولى الدول في صناعة الحديد والصلب
- ④ أولى الدول العربية المنتجة للفوسفات

السؤال الثاني / أكمل العبارات التالية بكلمات مناسبة

- ① نشاط اقتصادي يسهم بثالث الدخل القومي للوطن العربي
- ② قطر تعد الدول الأولى عربيا في إنتاج
- ③ أكبر الدول العربية انتاجا للأسمنت هي
- ④ أولى الدول العربية في إنتاج الذهب
- ⑤ المواد الخام من المقومات اللازمة لقيام
- ⑥ معدن تستخدم ذراته في علاج بعض الأمراض
- ⑦ تنقسم الصناعة إلى صناعة استخراجية و
- ⑧ (تحويل المواد الخام إلى منتجات صالحة للاستخدام) تشير هذه العبارة إلى الصناعة
- ⑨ يدخل الحديد في الصناعات الثقيلة والمنشآت و

السؤال الثالث / اكتب كلمة (صواب) أمام العبارة الصحيحة وكلمة (خطأ) أمام العبارة غير الصحيحة

- ① يفتقر الوطن العربي للمقومات اللازمة للصناعة ()
- ② تعد السودان ثاني الدول العربية إنتاجا للذهب ()
- ③ تحتل مصر المرتبة الأولى في إنتاج الحديد ()
- ④ يستخدم خام الفوسفات في صناعة الأسمدة والمبيدات ()

- () 5 تسهم الصناعة بنحو نصف الدخل القومي للوطن العربي
- () 6 تعد الطاقة الشمسية وطاقة الرياح والبترو من مصادر الطاقة النظيفة
- () 7 اتجهت الدول العربية إلى إنشاء المدن الصناعية الذكية
- () 8 غاز الهيدروجين الأخضر من مصادر الطاقة المتجددة
- () 9 تعمل مصر على التوسع في الصناعة الخضراء
- () 10 تكرير البترول يعد من الصناعات التحويلية
- () 11 يعتمد الوطن العربي على الصناعات التحويلية
- () 12 تحتفل بعض الدول بعيد العمال في الأول من مايو كل عام

السؤال الرابع اختر الاجابة الصحيحة مما بين القوسين

- 1 ينتج الوطن العربي حوالي ربع الإنتاج العالمي من
(الهيدروجين الأخضر - الفحم - الغاز الطبيعي - البترول)
- 2 تصنع المبيدات والأسمدة من
(الفضة - الفوسفات - الحديد - النحاس)
- 3 دولة عربية تحتل المرتبة الأولى في إنتاج الحديد
(الصومال - المغرب - السودان - موريتانيا)
- 4 ينتج الوطن العربي من البترول أكثر من الإنتاج العالمي
(نصف - ثلث - ربع - عشر)
- 5 يدخل الحديد في صناعة
(أسلاك التليفون - المبيدات الحشرية - مواد الطلاء - الكباري والمنشآت)
- 6 إحدى المقومات الطبيعية لقيام الصناعة
(الأيدي العاملة - مصادر الطاقة - شبكات النقل - رأس المال)
- 7 مصر تعد الدولة الأولى عربيا في صناعة
(الحديد والصلب - البلاستيك - السيارات - الطائرات)
- 8 تحتل مصر المركز الثاني عربيا في إنتاج معدن
(الألومنيوم - الذهب - الحديد - الفوسفات)

السؤال الخامس / أجب عما يأتي؟

① بم تفسر // أهمية الصناعة في الوطن العربي؟

② بم تفسر // الأهمية الاقتصادية للذهب؟

③ بم تفسر // الأهمية الاقتصادية لخام الفوسفات؟

④ بم تفسر // الأهمية الاقتصادية للحديد؟

⑤ بم تفسر // اتجهت الدول العربية إلي الصناعة الخضراء؟

⑥ أذكر اثنين من // المقومات التي تعتمد عليها الصناعة؟

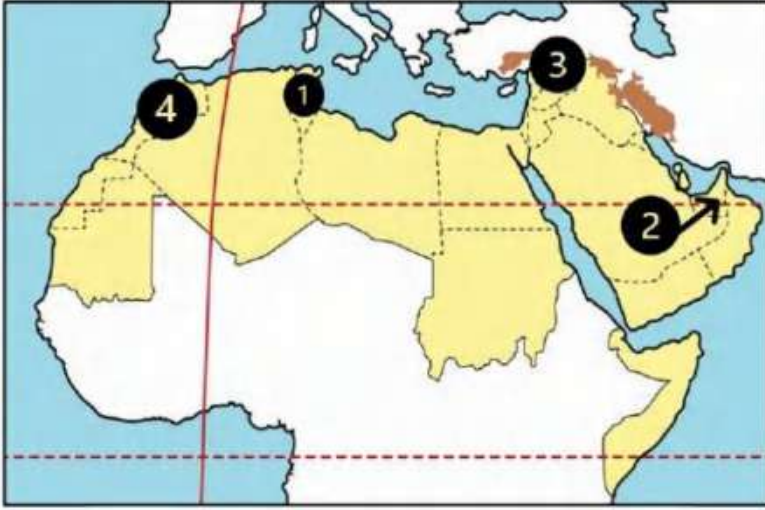
⑦ أذكر اثنين من // المشكلات التي يعاني منها الوطن العربي في مجالي التعدين والصناعة؟

مذكرتي
شحتو

الدرس (4) السياحة في وطننا العربي

الوحدة
الثالثة

السؤال الأول / لاحظ الخريطة ثم أجب



- ① دولة بها سياحة ثقافية هي
- ② دولة تشتهر بسياحة التسوق
- ③ دولة تقع بها آثار مدينة تدمر
- ④ دولة عربية بها سياحة ترفيهية هي

السؤال الثاني / أكمل العبارات التالية بكلمات مناسبة

- ① يقع الوطن العربي وسط قارات العالم
- ② يتمتع الوطن العربي بمناخ معتدل في فصل
- ③ زيارة عيون موسى بمصر أحد أشكال السياحة
- ④ إحدى مناطق السياحة الثقافية مدينة بابل في
- ⑤ أول عاصمة للسياحة العربية هي مدينة
- ⑥ من مواقع السياحة الثقافية في الوطن العربي في سوريا
- ⑦ تقع عين معين في دولة
- ⑧ حضور كأس العالم لكرة القدم في قطر ٢٠٢٢ يعد سياحة
- ⑨ قيامك برحلة نيلية في أسوان تعتبر سياحة

السؤال الثالث / اكتب كلمة (صواب) أمام العبارة الصحيحة وكلمة (خطأ) أمام العبارة غير الصحيحة

- ① يتمتع الوطن العربي بكافة مقومات السياحة ()
- ② تنوع المناطق السياحية والتراثية من مقومات السياحة في الوطن العربي ()
- ③ يعاني الوطن العربي من قلة جودة شبكة النقل والمواصلات ()
- ④ زيارتك لآثار مدينة تدمر بسوريا من السياحة الثقافية ()

- () 5 الذهاب لمعرض القاهرة الدولي للكتاب يعد سياحة ترفيهية
- () 6 تسهم السياحة في زيادة نسبة البطالة في الوطن العربي
- () 7 زيارة المراكز التجارية في دبي تعد سياحة تسوق
- () 8 تبذل الدول العربية جهوداً لتحقيق السياحة المستدامة
- () 9 تتضمن السياحة البيئية زيارة بعض الأماكن للعلاج والاستشفاء
- () 10 زيارة المسجد الحرام تعد سياحة دينية
- () 11 زيارة دير سانت كاترين في فلسطين تعد سياحة دينية
- () 12 زيارتك لشواطئ المغرب تعد من السياحة الترفيهية

السؤال الرابع / اختر الاجابة الصحيحة مما بين القوسين

- 1 زيارة الشواطئ في مصر ولبنان تعد سياحة
- (ثقافية - ترفيهية - بيئية - دينية)
- 2 مدينة مصرية تم اختيارها أول عاصمة للسياحة العربية
- (الإسكندرية - شرم الشيخ - الغردقة - مرسى مطروح)
- 3 من أمثلة السياحة الرياضية حضور كأس العالم لكرة القدم ٢٠٢٢ في دولة
- (مصر - تونس - قطر - موريتانيا)
- 4 أحد أماكن السياحة الدينية في فلسطين
- (دير سانت كاترين - كنيسة القيامة - الكعبة المشرفة - الجامع الأزهر الشريف)
- 5 يقوم السائح بزيارة المواقع الأثرية في القيروان بدولة
- (مصر - العراق - سوريا - تونس)
- 6 تقوم السياحة البيئية على زيارة المناطق
- (الزراعية - الساحلية - الصحراوية - النهرية)
- 7 دولة عربية توجد بها المدينة البيئية الأولى في العالم هي
- (العراق - الكويت - المغرب - الإمارات)
- 8 حصلت دولة الأردن عام ٢٠٢٠ في مجال تحقيق السياحة المستدامة المركز
- (الأولى - الثانية - الثالثة - الرابعة)

- ⑨ زيارة مصر لمشاهدة كأس الأمم الأفريقية لكرة اليد تعد سياحة.....
(علاجية - ترفيهية - ثقافية - رياضية)
- ⑩ يهدف السائح إلى زيارة بعض الأماكن للعلاج والاستشفاء مثل زيارة..... في دولة الأردن
(عيون موسى - عين ماعين - واحة سيوة - بحيرة عسل)
- ⑪ تستطيع زيارة مسار العائلة المقدسة في.....
(مصر - تونس - المغرب - الأردن)

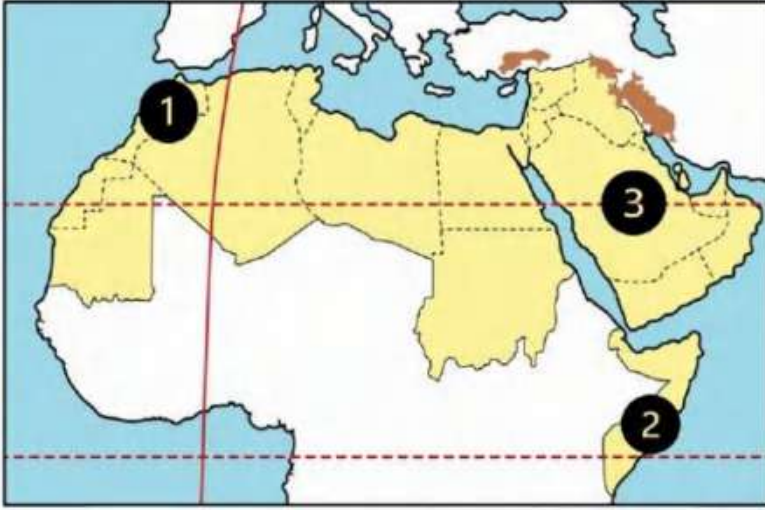
السؤال الخامس / أجب عما يأتي؟

- ① بم تفسر // الأهمية الاقتصادية للسياحة في الوطن العربي ؟
.....
- ② بم تفسر // تحرض الدول العربية على دعم السياحة المستدامة ؟
.....
- ③ بم تفسر // تعد مدينة (مصدر) بدولة الإمارات المدينة البيئية الأولى في العالم ؟
.....
- ④ بم تفسر // قيام السياحة العلاجية في مصر ؟
.....
- ⑤ بم تفسر // تتعد مزارات السياحة الدينية في وطننا العربي ؟
.....
- ⑥ بم تفسر // ازدهار السياحة في الوطن العربي ؟
.....
- ⑦ ما النتائج المترتبة على // وجود عيون المياح الكبرى في الوطن العربي ؟
.....
- ⑧ ما النتائج المترتبة على // وجود المحميات الطبيعية والمناطق الصحراوية في الوطن العربي
.....

الدرس (5) التجارة في وطننا العربي

الوحدة
الثالثة

السؤال الأول / لاحظ الخريطة ثم أجب



- ① دولة مشتركة في اتفاقية اغاير واتحاد دول المغرب العربي
- ② دولة غير منضمة إلى أي اتحاد تجاري
- ③ دولة منضمة لمجلس التعاون لدول الخليج العربي

السؤال الثاني / أكمل العبارات التالية بكلمات مناسبة

- ① الميزان التجاري هو الفرق بين قيمة و
- ② ساهمت التجارة في عصر الدولة الإسلامية على نشر الإسلام و
- ③ تنقسم التجارة العربية إلى نوعين تجارة و تجارة
- ④ اتسم التجار المسلمون بـ
- ⑤ من أسباب ضعف التجارة البينية العربية التشابه بين و
- ⑥ الصادرات والواردات بين الدول العربية يقصد بها التجارة
- ⑦ تستحوذ كل من الإمارات والسعودية وعمان على ٩٠٪ صادرات دولة
- ⑧ أولي صادرات الوطن العربي
- ⑨ ظهرت التجارة الإلكترونية نتيجة

السؤال الثالث / اكتب كلمة (صواب) أمام العبارة الصحيحة وكلمة (خطأ) أمام العبارة غير الصحيحة

- ① بدأت التجارة في شبه الجزيرة العربية بعد ظهور الإسلام ()
- ② اتسم التجار المسلمون بالأخلاق الحميدة ()
- ③ من المراكز التجارية الإسلامية قديماً القاهرة ()
- ④ التجارة بين مصر والأردن تعد تجارة خارجية ()

- () ⑤ تسهم التجارة في تعزيز العلاقات بين الدول
- () ⑥ إذا زادت الصادرات عن الواردات يكون الميزان التجاري في حالة عجز
- () ⑦ يسعى الوطن العربي إلى زيادة منصات التجارة الإلكترونية
- () ⑧ من أسباب ضعف التجارة البينية العربية وجود حواجز جمركية

السؤال الرابع اختر الاجابة الصحيحة مما بين القوسين

- ① أولى صادرات الوطن العربي
(المنتجات الصناعية - الوقود والمعادن - السلع الزراعية - المعدات الطبية)
- ② ثاني واردات الوطن العربي
(المعدات الثقيلة - المنتجات الصناعية - المنتجات اليدوية - السلع الزراعية)
- ③ توفر التجارة العربية العملات
(العربية - الأجنبية - المحلية - الإقليمية)
- ④ تسهم التجارة في تحسين
(الميزان التجاري - السلع الأجنبية - الخدمات المحلية - الصناعة العربية)
- ⑤ تبادل السلع والخدمات باستخدام الإنترنت يسمى
(مقايضة - تجارة إلكترونية - تجارة خارجية - تجارة بينية)
- ⑥ ثالث صادرات الوطن العربي
(المنتجات الصناعية - السلع الزراعية - الوقود - المعادن)
- ⑦ أي من الدول التالية تشترك في منطقة التجارة الحرة العربية
(جيبوتي - الصومال - السودان - موريتانيا)
- ⑧ يعد اختراق خصوصية العميل وسرقة البيانات في التجارة الإلكترونية من
(إيجابياتها - سلبياتها - أهميتها - أسبابها)
- ⑨ يوجد مقر المنظمة العربية للسياحة في دولة
(الإمارات - سلطنة عمان - المملكة العربية السعودية - جزر القمر)
- ⑩ أي من الدول الآتية يوجد بها مقر المنظمة العربية للتنمية الزراعية
(مصر - ليبيا - الجزائر - السودان)

السؤال الخامس / أجب عما يأتي؟

① بم تفسر // أهمية التجارة في الوطن العربي ؟

② بم تفسر // أهمية التجارة في الدولة الإسلامية ؟

③ بم تفسر // ظهور التجارة الإلكترونية ؟

④ بم تفسر // أهمية التجارة الإلكترونية ؟

⑤ بم تفسر // ضعف التجارة البينية العربية ؟

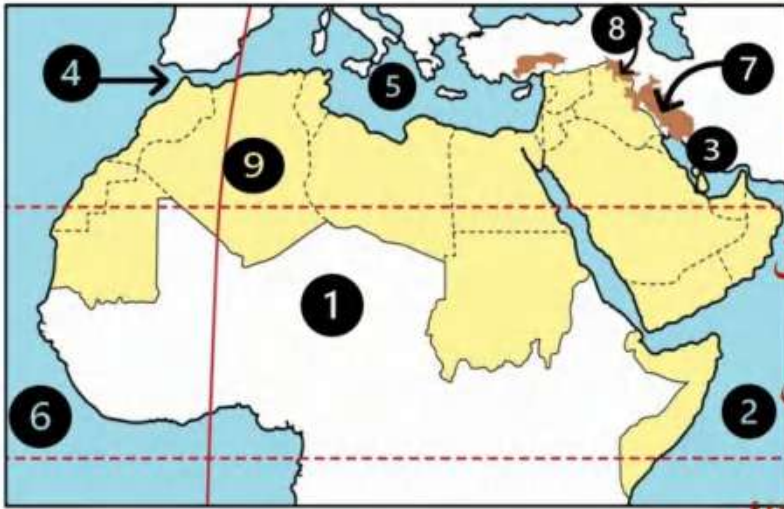
⑥ ما النتائج المترتبة على // التشابه الكبير بين السلع والخدمات التي تنتجها الدول العربية ؟

⑦ ما النتائج المترتبة على // وجود حواجز جمركية بين الدول العربية ؟

مذكرتي شحتو

الدرس (١) الموقع الجغرافي لوطننا العربي

السؤال الأول لاحظ الخريطة ثم أجب



- ① يشير رقم (١) للصحراء الكبرى...
- ② يشير رقم (٢) للمحيط الهندي..
- ③ يشير رقم (٣) للخليج العربي..
- ④ يشير رقم (٤) لمضيق جبل طارق
- ⑤ يشير رقم (٥) البحر المتوسط
- ⑥ يشير رقم (٦) للمحيط الأطلسي..
- ⑦ جبل زاغروس
- ⑧ جبل كردستان ⑨ دولة الجزائر

السؤال الثاني أكمل العبارات التالية بكلمات مناسبة

- ① يقع الوطن العربي وسط قارات العالم القديم.....
- ② تمتد أراضي الوطن العربي في قارتي آسيا و إفريقيا.....
- ③ يحد الوطن العربي من الشمال البحر المتوسط..... وجبال طوروس
- ④ يحد الوطن العربي من الشرق خليج عمان..... والخليج العربي
- ⑤ يحد الوطن العربي من الشرق جبال زاغروس وجبال كردستان.....
- ⑥ توجد النسبة الأكبر من مساحة الوطن العربي في قارة إفريقيا.....
- ⑦ أكبر الدول العربية من حيث المساحة دولة الجزائر.....
- ⑧ تقع أكبر الدولة العربية مساحة في قارة إفريقيا.....
- ⑨ أصغر الدول العربية من حيث المساحة دولة البحرين.....
- ⑩ تقع أصغر الدولة العربية مساحة في قارة آسيا.....
- ⑪ يطل الوطن العربي على المحيط الهندي..والمحيط الأطلسي
- ⑫ يطل الوطن العربي من ناحية الغرب على المحيط الأطلسي
- ⑬ تقع كنيسة القيامة في دولة فلسطين..
- ⑭ البحر الذي يفصل بين جناحي الوطن العربي الإفريقي والآسيوي هو البحر الأحمر
- ⑮ وطننا الحبيب مصر يقع في الجناح الإفريقي..
- ⑯ دولة سوريا تعد من دول الجناح الآسيوي

السؤال الثالث اكتب كلمة (صواب) أمام العبارة الصحيحة وكلمة (خطأ) أمام العبارة غير الصحيحة

- ① يتمتع الوطن العربي بموقع جغرافي متميز (✓)
- ② يمتد الوطن العربي وسط قارات العالم الجديد (✗)
- ③ يمتد الوطن العربي في قارتي آسيا وإفريقيا (✓)
- ④ يقع بحر العرب والصحراء الكبرى جنوب الوطن العربي (✓)
- ⑤ يحد الوطن العربي من جهة الشرق جبال طوروس (✗)
- ⑥ يطل الوطن العربي من جهة الشمال على المحيط الأطلسي (✗)
- ⑦ تقع دولة جزر القمر في المحيط الهندي (✓)
- ⑧ دول الجناح العربي الآسيوي أكثر عدداً من دول الجناح العربي الإفريقي (✓)
- ⑨ تشغل دول الجناح الآسيوي مساحة أكبر من دول الجناح الإفريقي (✗)
- ⑩ تشترك دول الوطن العربي في التاريخ واللغة والثقافة (✓)
- ⑪ أكبر الدول العربية مساحة هي السودان (✗)
- ⑫ الصومال من دول الجناح الإفريقي (✓)
- ⑬ يشرف وطننا العربي على ثلاثة محيطات مهمة (✗)
- ⑭ يصل مضيق جبل طارق بين البحر المتوسط والمحيط الأطلسي (✓)
- ⑮ الوطن العربي يعد موطناً للديانات السماوية (✓)
- ⑯ الأزهر الشريف في مصر من المراكز الدينية المهمة في الوطن العربي (✓)
- ⑰ قامت على أرض الوطن العربي العديد من الحضارات مثل الحضارة المصرية القديمة. (✓)

السؤال الرابع اختر الاجابة الصحيحة مما بين القوسين

- ① توجد الكعبة المشرفة في دولة
(سوريا - السعودية - الصومال - ليبيا)
- ② إذا أردت السفر لأكبر دول الوطن العربي فسوف تتجه إلى
(المغرب - مصر - البحرين - الجزائر)

- ③ إذا أردت السفر لأصغر دولة الوطن العربي فسوف تتجه إلى.....
(المغرب - مصر - **لبحرين** - الجزائر)
- ④ توجد النسبة الأكبر من مساحة الوطن العربي في قارة.....
(آسيا - **إفريقيا** - أوروبا - أستراليا)
- ⑤ يقع البحر المتوسط بالنسبة للوطن العربي جهة.....
(**الشمال** - الجنوب - الشرق - الغرب)
- ⑥ جبال تحدها الوطن العربي من جهة الشمال.....
(زاجروس - كردستان - **أطلس** - طوروس)
- ⑦ يحدها الوطن العربي من الغرب المحيط.....
(الهندي - **الأطلنطي** - الهادي - القطبي)
- ⑧ يحدها الوطن العربي من جهة الجنوب.....
(**الصحراء الكبرى** - جبال طوروس - المحيط الهادي - الخليج العربي)
- ⑨ يشغل مساحة الوطن العربي ١٣ مليون كيلو متر مربع ويضم عدد..... دولة
(٢٢ - ٢٣ - ٢٤ - ٢٥)
- ⑩ يوجد بالوطن العربي أماكن مقدسة مثل الجامع الأزهر الذي يوجد في دولة.....
(مصر - **فلسطين** - السعودية - الجزائر)
- ⑪ تطل دولتا السعودية ومصر على البحر.....
(**الأحمر** - المتوسط - الميت - الأسود)
- ⑫ تقع دولة جزر القمر في.....
(**المحيط الهادي** - المحيط الأطلنطي - البحر المتوسط - المحيط الهندي)

السؤال الخامس / أجب عما يأتي؟

- ① بم تفسر // الأهمية الاقتصادية لموقع الوطن العربي؟
- ② بم تفسر // تحكم الوطن العربي في أهم طرق التجارة العالمية؟
لأنه يشرف على مسطحات مائية مهمة مثل (البحر الأحمر والبحر المتوسط والخليج العربي) ويتحكم في أهم الممرات البحرية مثل (مضيق جبل طارق - مضيق باب المندب - هرمز - قناة السويس)
- ③ بم تفسر // للوطن العربي مكانة دينية عظيمة

لأنه موطن الديانات السماوية (اليهودية والمسيحية والإسلامية) ويضم الأماكن المقدسة...
(الكعبة في السعودية - كنيسة القيامة في فلسطين - الأزهر الشريف في مصر)

④ بم تفسر // للوطن العربي أهمية حضارية كبيرة؟

لأنه قامت على أرضه أقدم الحضارات في العالم

الحضارة المصرية القديمة - حضرات بلاد العراق القديم

⑤ بم تفسر // وجود تراث ثقافي مشترك بين دول الوطن العربي؟

بسبب تواصل الشعوب العربية تجارياً و حضارياً

⑥ ما النتائج المترتبة على // الموقع الجغرافي للوطن العربي؟

أدى إلى تحكم الوطن العربي في أهم طرق التجارة العالمية. وطمع الكثير من الدول في السيطرة على ثرواته على مر العصور

⑦ ما النتائج المترتبة على // تحكم الوطن العربي في أهم طرق التجارة العالمية؟

أدى إلى طمع الكثير من الدول في السيطرة على ثرواته على مر العصور

⑧ دد على صحة العبارة التالية // يشرف الوطن العربي على العديد من المسطحات المائية

يشرف على البحر الأحمر و البحر المتوسط و الخليج العربي

⑨ دد على صحة العبارة التالية // قامت العديد من الحضارات على أرض الوطن العربي

الحضارة المصرية القديمة // حضارة بلاد العراق القديم

⑩ حدد اثنين // من المضائق التي يطل عليها الوطن العربي

مضيق جبل طارق // مضيق باب المندب // مضيق هرمز // قناة السويس

⑪ حدد // بعض الخصائص التي تشترك فيها الدول العربية

تاريخ ولغة وثقافة مشتركة

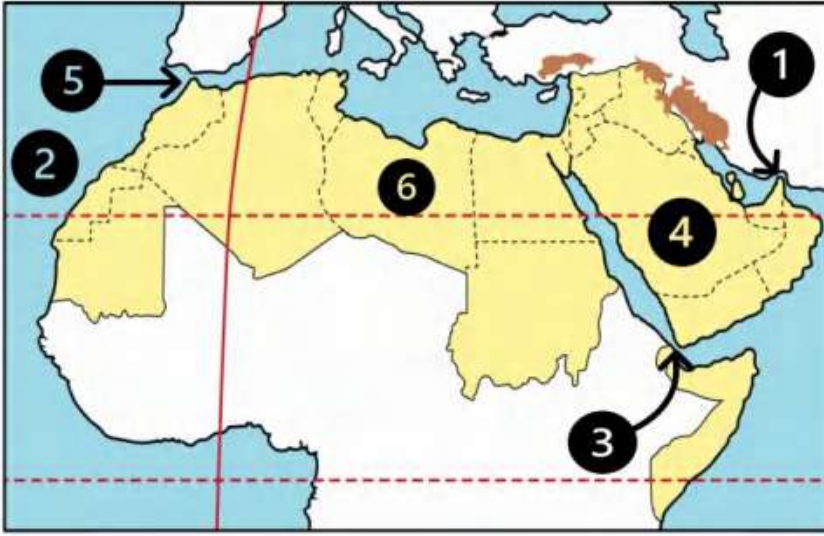
⑫ صف الدولة الآتية داخل الجدول

(مصر - الصومال - السعودية - الأردن - الجزائر - الإمارات - جزر القمر - اليمن - جيبوتي - عمان - سوريا)

دول الجناح الآسيوي	دول الجناح الإفريقي
السعودية الأردن الإمارات اليمن عمان سوريا	مصر الصومال الجزائر جزر القمر جيبوتي

الدرس (2) قصة ظهور الإسلام

السؤال الأول لاحظ الخريطة ثم أجب



① مضيق هيرمز

② المحيط ..الأطلنطي

③ مضيق باب المنذب

④ دولة السعودية

⑤ مضيق جبل طارق

⑥ دولة ليبيا

السؤال الثاني أكمل العبارات التالية بكلمات مناسبة

- ① نظام الحكم السائد في شبه الجزيرة العربية قبل ظهور الإسلام القبلي
- ② أشهر قبائل العرب قبل الإسلام قبيلة قريش
- ③ قام أهل مكة برحلة الصيف إلى الشام ورحلة الشتاء إلى اليمن
- ④ ولد الرسول (ﷺ) في شهر ربيع الأول
- ⑤ ولد النبي (ﷺ) عام ٥٧٠ م في مدينة مكة
- ⑥ عمل الرسول (ﷺ) وهو في بيت عمه بحرفة الرعي
- ⑦ عمل الرسول (ﷺ) بحرفتي الرعي و التجارة
- ⑧ لقب الرسول (ﷺ) بالصادق الأمين
- ⑨ الغار الذي كان يتعبد فيه الرسول (ﷺ) هو غار حراء
- ⑩ نزلت رسالة الإسلام على النبي (ﷺ) هو في سن الأربعين
- ⑪ بدأ الرسول (ﷺ) في دعوة المقربين منه وكان منهم صديقة أبي بكر الصديق
- ⑫ ظلت الدعوة إلى الإسلام سرية لمدة ثلاث سنوات
- ⑬ هاجر المسلمون أول مرة إلى الحبشة
- ⑭ كانت المرحلة الثانية من نشر الدعوة الإسلامية مرحلة الدعوة الجهرية
- ⑮ بدأت المرحلتين الأولى والثانية من الدعوة إلى الإسلام في مدينة مكة

السؤال الثالث اكتب كلمة (صواب) أمام العبارة الصحيحة وكلمة (خطأ) أمام العبارة غير الصحيحة

- ① ساد النظام الملكي في شبه الجزيرة العربية قبل الإسلام (X)
- ② كانت مكة تقوم برحلة واحدة في الشتاء إلى اليمن فقط (X)
- ③ كانت حرفة الزراعة هي الحرفة السائدة في شبه الجزيرة العربية (X)
- ④ ولد سيدنا محمد (ﷺ) في يثرب (X)
- ⑤ ولد النبي (ﷺ) في عام الفيل (✓)
- ⑥ الشجاعة والكرم من صفات العرب الحسنة (✓)
- ⑦ وأد البنات وشرب الخمر من الصفات الحسنة عند العرب قبل الإسلام (X)
- ⑧ تزوج الرسول (ﷺ) من السيدة خديجة بنت خويلد (✓)
- ⑨ نزل جبريل برسالة الإسلام على الرسول (ﷺ) في سن الثلاثين (X)
- ⑩ رحبت قريش بدعوة الرسول (ﷺ) إلى الإسلام (X)
- ⑪ كانت الدعوة الإسلامية سريه لفترة تجنباً لأذى قريش (✓)
- ⑫ كان على بن أبي طالب من أوائل الذين استجابوا لدعوة الرسول (ﷺ) (✓)
- ⑬ استمرت المرحلة الأولى من الدعوة أربع سنوات (X)
- ⑭ واجه الرسول (ﷺ) أذى قريش بالأساليب السلمية (✓)
- ⑮ كانت هجرة المسلمين الأولى إلى يثرب (X)
- ⑯ قام الرسول (ﷺ) بدعوة القبائل العربية للإسلام خلال موسم الحج (✓)
- ⑰ استجاب لدعوة الرسول (ﷺ) وفود من يثرب . (✓)

السؤال الرابع اختر الاجابة الصحيحة مما بين القوسين

- ① كانت الحرفة السائدة في شبه الجزيرة العربية قبل الإسلام هي
(التجارة - الصناعة - الزراعة - الرعي)
- ② ساد في شبه الجزيرة العربية قبل الإسلام النظام
(الجمهوري - القبلي - الملكي - الحزبي)
- ③ ولد الرسول (ﷺ) في مدينة
(يثرب - الطائف - مكة - ثقيف)

④ ولد الرسول (ﷺ) بمكة في الثاني عشر من شهر

(رجب - ربيع الأول - رمضان - شوال)

⑤ رحلة أهل مكة في فصل الشتاء كانت إلى

(اليمن - الشام - يثرب - مصر)

⑥ كان تجار مكة يتجهون في فصل الصيف إلى

(الشام - الحبشة - اليمن - الهند)

⑦ من الصفات الحسنة عند العرب قبل الإسلام

(وأد البنات - شرب الخمر - الوفاء بالعهد - الأخذ بالتأثر)

⑧ انتقل الرسول (ﷺ) للعيش في بيت عمه وهو في سن

(السابعة - الثامنة - التاسعة - العاشرة)

⑨ عمل الرسول (ﷺ) بحرفة

(الرعى - التجارة - الزراعة - الصناعة)

⑩ نزل جبريل (ﷺ) على الرسول في غار حراء في إحدى ليالي شهر

(رجب - شعبان - رمضان - شوال)

⑪ بدأت قريش في مواجهتها للرسول (ﷺ) بـ

(الحصار - إيذاء المسلمين - القتال - التفاوض)

⑫ كانت الهجرة الأولى للمسلمين إلى

(الحبشة - يثرب - الطائف - حنين)

⑬ لجأ الرسول (ﷺ) إلى نشر دعوته في موسم الحج واستجابت وفود أهل

(الطائف - مكة - يثرب - الحبشة)

⑭ كانت هجرة المسلمين الثانية إلى مدينة

(الحبشة - يثرب - الطائف - حنين)

السؤال الخامس أجب عما يأتي؟

① بم تفسر // كان النظام القبلي هو النظام السائد في شبه الجزيرة العربية قبل الإسلام؟
لأنها كانت عبارة عن قبائل متفرقة ولكل قبيلة شيخ يحكمها

② بم تفسر // شهرة مكة تجارياً؟
لأنها قامت برحلتين رحلة الشتاء إلى اليمن ورحلة الصيف إلى الشام

③ بم تفسر // سمى العام الذي ولد فيه الرسول (ﷺ) بعام الفيل لأن في هذا العام حاول أبرهة الحبشي هدم الكعبة بجيش كبير لكن الله حفظها

④ بم تفسر // بدأ الرسول (ﷺ) بالدعوة إلى الإسلام سرا؟
ليتجنب أذى قريش

⑤ بم تفسر // رفض قريش للدعوة الإسلامية؟

خوفاً على مكانتهم بين القبائل
⑥ بم تفسر // هجرة المسلمين إلى الحبشة؟

بسبب إذاء قريش للمسلمين ولأن بها ملكاً عادلاً يسمى النجاشي

⑦ ما النتائج المترتبة على // انتشار الإسلام في شبه الجزيرة العربية؟

تغيرت حياة سكان شبه الجزيرة العربية للأفضل

⑧ ما النتائج المترتبة على // قيام الرسول (ﷺ) بدعوة القبائل العربية للإسلام في موسم الحج؟

استجابت له وفود من أهل يثرب ودخلوا في الإسلام

⑨ دلل على صحة العبارة التالية // تعددت أساليب قريش في محاربة الدعوة الإسلامية

حيث قاموا (1) بإيذاء الرسول والمسلمين (2) التفاوض وعرضوا على الرسول المال والسلطة (3) لقاطعة وحصار المسلمين

⑩ قارن بين // الصفات الحسنة والعادات السيئة للعرب قبل الإسلام

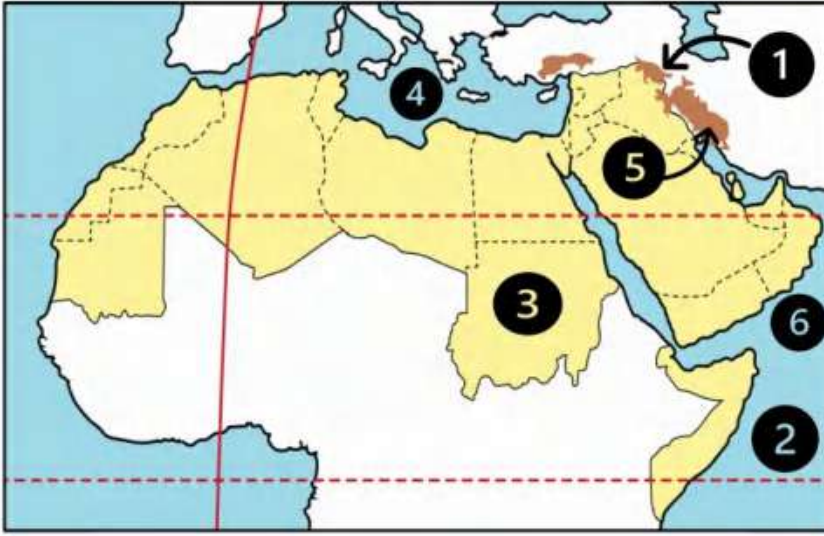
الصفات الحسنة	العادات السيئة
الشجاعة والكرم والوفاء بالعهد	وأد البنات شرب الخمر الأخذ بالثأر

⑪ من يكون؟

- عم الرسول (ﷺ) وقام برعايته بعد وفاة جده عبدالمطلب
 - زوجة الرسول (ﷺ) في بداية نزول الوحي
 - نزل على الرسول (ﷺ) برسالة الإسلام
 - صديق الرسول (ﷺ) وأول من أسلم من الرجال
 - ملك الحبشة الذي هاجر إليه المسلمون في بداية الدعوة
- عمه أبو طالب
خديجة بنت خويلد
جبريل (عليه السلام)
أبو بكر الصديق
النجاشي

الدرس (3) هجرة الرسول (ﷺ) وتأسيس الدولة الإسلامية

السؤال الأول لاحظ الخريطة ثم أجب



- ① جبال **كردستان**
- ② المحيط **الهندي**
- ③ دولة. **السودان**
- ④ البحر **المتوسط**
- ⑤ جبال **زاغروس**
- ⑥ بحر **العرب**

السؤال الثاني أكمل العبارات التالية بكلمات مناسبة

- ① دعا الرسول (ﷺ) أهل يثرب إلى الإسلام في موسم **الحج**
- ② الصحابي الذي رافق الرسول (ﷺ) في الهجرة هو **أبو بكر الصديق**
- ③ أهل يثرب الذين بايعوا النبي (ﷺ) على نصرته وحمايته فهاجر إليهم هم **الأنصار**
- ④ الذين هاجروا من مكة إلى المدينة يطق عليهم اسم **المهاجرين**
- ⑤ أول عمل قام به الرسول (ﷺ) في المدينة بناء **المسجد**
- ⑥ خاضها الرسول (ﷺ) وأصحابه لحماية الدين الإسلامي والدفاع عن أنفسهم **الغزوات**
- ⑦ انتصر المسلمون على قريش عام ٢ هـ في غزوة **بدر**
- ⑧ خالف الرماة أوامر الرسول (ﷺ) في غزوة **أحد**
- ⑨ أشار **سلمان الفارسي** على النبي (ﷺ) بحفر خندق حول المدينة
- ⑩ حاصرت قريش وحلفائها المدينة أثناء غزوة **الخندق**
- ⑪ نص صلح الحديبية على هدنة بين قريش والمسلمين لمدة **عشر سنين**
- ⑫ تحولت دعوة الإسلام إلى مرحلة العالمية بعد صلح **الحديبية**
- ⑬ اعتداء قريش على قبيلة خزاعة كان سبب في فتح **مكة**

السؤال الثالث اكتب كلمة (صواب) أمام العبارة الصحيحة وكلمة (خطأ) أمام العبارة غير الصحيحة

- ① أمر الرسول (ﷺ) أصحابه بالهجرة إلى الطائف (X)
- ② رحبت قريش بهجرة المسلمين إلى يثرب (X)
- ③ اجتمع زعماء قريش في دار الأرقم بن أبي الأرقم وتأمروا على قتل الرسول (ﷺ) (X)
- ④ التخطيط الجيد أدى إلى نجاح هجرة الرسول (ﷺ) من مكة ليثرب (✓)
- ⑤ هاجر النبي (ﷺ) من مكة إلى المدينة مع صديقة أبي بكر الصديق (✓)
- ⑥ اقتصر دور المسجد في الإسلام على العبادة فقط (X)
- ⑦ وضع الرسول (ﷺ) صحيفة المدينة لتنظيم العلاقة بين سكان المدينة (✓)
- ⑧ وضع الرسول (ﷺ) بعد الهجرة إلى المدينة مبادئ التعايش مع الآخر (✓)
- ⑨ نصت صحيفة المدينة على حرية العقيدة لغير المسلمين (✓)
- ⑩ استقبل أهل يثرب الرسول (ﷺ) والمهاجرين بالترحاب (✓)
- ⑪ هُزم المسلمون في غزوة أحد بسبب قلة عددهم (X)
- ⑫ نتعلم من غزوة أحد ضرورة الالتزام بأوامر القائد أثناء الحرب (✓)
- ⑬ نجحت قريش وحلفائها في الانتصار على المسلمين في غزوة الخندق ٥هـ (X)
- ⑭ قدم الرسول (ﷺ) مثلاً عظيماً في التسامح يوم فتح مكة (✓)
- ⑮ يعد من آداب الحرب في الإسلام عدم قتل النساء والأطفال والشيوخ (✓)
- ⑯ أطلق الرسول (ﷺ) على يثرب اسم ((المدينة)) (✓)
- ⑰ حرص النبي (ﷺ) على حماية الناس وممتلكاتهم أثناء الحرب (✓)
- ⑱ جهز النبي (ﷺ) جيشاً وخرج سرا لفتح مكة في العام العاشر من الهجرة (X)
- ⑲ عقد المسلمون صلح الحديبية مع قريش في عام ٥ هـ (X)
- ⑳ خرج الرسول (ﷺ) لأداء فريضة الحج في العام العاشر من الهجرة (✓)
- ㉑ توفي الرسول (ﷺ) عام ١١ هـ (✓)

السؤال الرابع اختر الاجابة الصحيحة مما بين القوسين

- ① أول أركان بناء الدولة الإسلامية في المدينة هو
(بناء المسجد - وضع صحيفة المدينة - مواجهة المعتدين - المؤاخاة بين المسلمين)
- ② أولى غزوات المسلمين ضد قريش هي غزوة
(الخندق - حنين - خيبر - بدر)
- ③ انتصر المسلمون رغم قلة عددهم على قريش في غزوة
(أحد - خيبر - مؤته - بدر)
- ④ تحول نصر المسلمين إلى هزيمة في غزوة
(بدر - أحد - الخندق - تبوك)
- ⑤ الصحابي الذي أشار على النبي (ﷺ) بحفر خندق حول المدينة هو
(سلمان الفارسي - أبو بكر الصديق - عمر بن الخطاب - علي بن أبي طالب)
- ⑥ غزوة انتصر فيها المسلمون على قريش دون قتال
(بدر - أحد - الخندق - تبوك)
- ⑦ منعت قريش الرسول (ﷺ) وأصحابه في العام السادس الهجري من دخول
(يثرب - الطائف - مكة - حنين)
- ⑧ منعت قريش الرسول (ﷺ) من أداء فريضة العمرة وذلك قبل
(غزوة بدر - غزوة أحد - غزوة الخندق - صلح الحديبية)
- ⑨ اتفق النبي (ﷺ) مع قريش في صلح الحديبية على إيقاف الحرب لمدة سنوات
(سبع - ثماني - تسع - عشر)
- ⑩ ترتب على صلح الحديبية
(ضعف قوة المسلمين - زيادة قوة اليهود - نشر الإسلام عالمياً - رفض قريش للدعوة)
- ⑪ عفا الرسول (ﷺ) عن المشركين بعد
(فتح مكة - غزوة الخندق - غزوة بدر - صلح الحديبية)

السؤال الخامس / أجب عما يأتي؟

- ① بم تفسر // أمر الرسول (ﷺ) أصحابه بالهجرة إلى يثرب ؟
بسبب شدة إيذاء قريش للرسول والمسلمين
- ② بم تفسر // دبرت قريش مؤامرة لمنع هجرة الرسول (ﷺ)؟
خوفا من تجمع المسلمين في يثرب على مصالحهم
- ③ بم تفسر // نجاح خطة الرسول (ﷺ) إلى يثرب؟
بسبب التخطيط الجيد / والسرية التامة / وسلك طريقا غير معروف إلى يثرب
- ④ بم تفسر // أهمية بناء المسجد في الدولة الإسلامية؟
مقر للحكم / والعبادة / وتعليم الدين
- ⑤ بم تفسر // مؤاخاة الرسول (ﷺ) بين المهاجرين والأنصار؟
لإقامة مجتمع متماسك يسوده الحب والتعاون
- ⑥ بم تفسر // أهمية صحيفة المدينة؟
لتنظيم شئون المسلمين / وتنظيم علاقتهم بالآخرين خاصة اليهود / وتحديد الحقوق والواجبات
- ⑦ بم تفسر // هزيمة المسلمين في غزوة أحد؟
بسبب مخالفة الرماة أوامر الرسول ونزولهم من فوق الجبل لجمع الغنائم
- ⑧ بم تفسر // أهمية صلح الحديبية للمسلمين؟
لأن الرسول بدأ في إرسال الرسائل إلى الملوك والحكام يدعوهم إلى الإسلام
- ⑨ بم تفسر // خرج الرسول (ﷺ) بجيش كبير لفتح مكة ٨ هـ ؟
لأن قريش نقضت الهدنة واعتدت على قبيلة خزاعة حليفة الرسول
- ⑩ ما النتائج المترتبة على // مبايعة وفود أهل يثرب للرسول (ﷺ) في موسم الحج؟
أمر الرسول أصحابه بالهجرة إلى يثرب
- ⑪ ما النتائج المترتبة على // مخالفة الرماة أوامر الرسول (ﷺ) في غزوة أحد ؟
تحول نصر المسلمين إلى هزيمة
- ⑫ من قائل العبارة // ((اذهبوا فأنتم الطلقاء)) ومتى ؟ وتدل على ماذا؟
الرسول / في فتح مكة / سماحة الرسول مع أهل مكة
- ⑬ اكتب اثنين من // آداب الحرب في الإسلام التي أوصى بها الرسول (ﷺ)

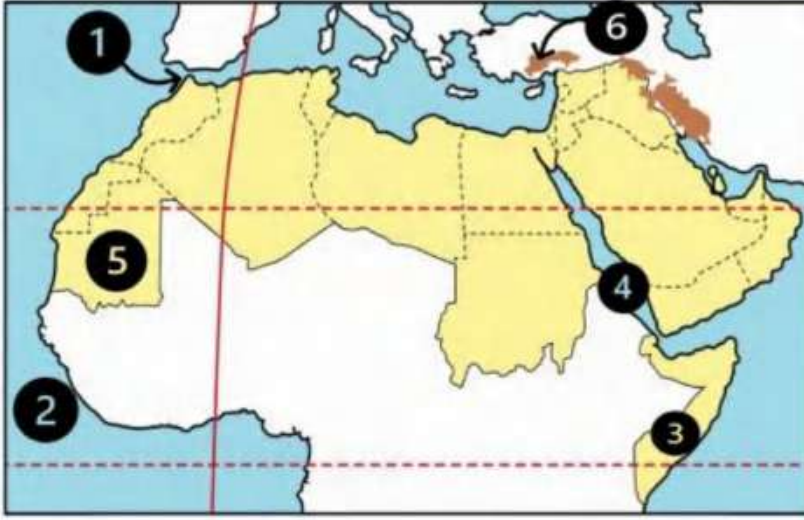
لا تقطعوا شجرة - لا تهدموا بيتنا
لا تقتلوا امرأة ولا صبيا ولا وليدا ولا شيخا كبيرا ولا مريضا

- ⑭ أذكر // عوامل نجاح هجرة الرسول (ﷺ) من مكة إلى المدينة ؟

التخطيط الجيد - السرية التامة
وسلك طريقا غير معروف إلى يثرب

الدرس (4) لمحات من حياة الخلفاء الراشدين

السؤال الأول لاحظ الخريطة ثم أجب



- ① مضيق جبل طارق
- ② المحيط الأطلنطي
- ③ دولة... الصومال
- ④ البحر... الأحمر
- ⑤ دولة... موريتانيا
- ⑥ جبال... طوروس

السؤال الثاني أكمل العبارات التالية بكلمات مناسبة

- ① أرسل أبو بكر الصديق (رضي الله عنه) جيشاً لمحاربة الروم في بداية خلافته بقيادة... أسامة بن زيد
- ② أرسل الخليفة أبو بكر الصديق (رضي الله عنه) جيش أسامة بن زيد للشام الذي جهزه... الرسول (صلى الله عليه وسلم)
- ③ المرتدون هم القبائل التي رفضت دفع... الزكاة.....
- ④ استشهد كثير من حفظة القرآن الكريم في حروب... المرتدين.....
- ⑤ أوصى أبو بكر الصديق (رضي الله عنه) بالخلافة من بعده للصحابي... عمر بن الخطاب
- ⑥ تولى خلافة المسلمين بعد أبي بكر الصديق (رضي الله عنه) الخليفة... عمر بن الخطاب
- ⑦ يبدأ التقويم الهجري من هجرة الرسول (صلى الله عليه وسلم) من مكة إلى... المدينة.....
- ⑧ تم فتح مصر وبلاد العراق في عهد الخليفة... عمر بن الخطاب
- ⑨ أنشأ عمر بن الخطاب (رضي الله عنه) الدواوين ومنها ديوان بيت المال وديوان... الجند.....
- ⑩ تولى خلافة المسلمين بعد استشهاد عمر بن الخطاب (رضي الله عنه) الخليفة... عثمان بن عفان
- ⑪ اشترك عثمان بن عفان في تجهيز الجيش الذي أرسله الرسول (صلى الله عليه وسلم) لغزوة... تبوك.....
- ⑫ خصص يوماً للنظر في مظالم الناس الخليفة... علي بن أبي طالب
- ⑬ انتهى عصر الخلفاء الراشدين باستشهاد... علي بن أبي طالب

السؤال الثالث / اكتب كلمة (صواب) أمام العبارة الصحيحة وكلمة (خطأ) أمام العبارة غير الصحيحة

- ① اتبع المسلمون نظام التوريث في اختيار الخلفاء الراشدين (X)
- ② ظهر نظام الخلافة عند المسلمين بعد وفاة الرسول (ﷺ) (✓)
- ③ جعل الرسول (ﷺ) أثناء مرضه عمر بن الخطاب إماماً للمسلمين في الصلاة (X)
- ④ شارك أبو بكر الصديق (رضي الله عنه) في جميع غزوات الرسول (ﷺ) (✓)
- ⑤ أول عمل قام به أبو بكر الصديق (رضي الله عنه) بعد توليه الخلافة هو جمع القرآن الكريم (X)
- ⑥ أمر أبو بكر الصديق (رضي الله عنه) زيد بن ثابت بجمع القرآن الكريم (✓)
- ⑦ نجحت الجيوش الإسلامية في عهد أبي بكر الصديق (رضي الله عنه) في محاربة المرتدين (✓)
- ⑧ المرتدين هم قبائل رفضت دفع الزكاة ومنهم من ادعى النبوة (✓)
- ⑨ كان إرسال الجيوش خارج شبه الجزيرة العربية بهدف تأمين حدود الدولة الإسلامية (✓)
- ⑩ تم اختيار عمر بن الخطاب (رضي الله عنه) كخليفة للمسلمين بناء على رأى فردي (X)
- ⑪ أنشأ الخليفة عمر بن الخطاب (رضي الله عنه) ديوان الجند (✓)
- ⑫ بدأ التقويم الهجري بهجرة المسلمين إلى الحبشة (X)
- ⑬ استكمل عمر بن الخطاب (رضي الله عنه) الفتوحات الإسلامية التي بدأت في عهد أبو بكر الصديق (✓)
- ⑭ أمر عثمان بن عفان (رضي الله عنه) بإنشاء أول أسطول بحري في الإسلام (✓)
- ⑮ قام عثمان بن عفان بتوسيع مسجد النبي (ﷺ) واشترى بئر رومة للمسلمين (✓)
- ⑯ أراد عثمان بن عفان (رضي الله عنه) توحيد قراءة القرآن الكريم (✓)
- ⑰ قام الخليفة علي بن أبي طالب (رضي الله عنه) بنقل مقر الخلافة إلى الكوفة (✓)
- ⑱ تم تنظيم الشرطة في عهد الخليفة عثمان بن عفان (رضي الله عنه) (X)
- ⑲ عين الخليفة عثمان بن عفان (رضي الله عنه) شرطة لحراسة بيت المال (X)

السؤال الرابع / اختر الاجابة الصحيحة مما بين القوسين

- ① أول من أسلم من الرجال هو
(أبو بكر الصديق - عمر بن الخطاب - عثمان بن عفان - علي بن أبي طالب)

- ② أول الخلفاء الراشدين هو الخليفة
(أبو بكر الصديق - عمر بن الخطاب - عثمان بن عفان - علي بن أبي طالب)
- ③ ارتدت بعض القبائل عن الإسلام في عهد الخليفة
(أبو بكر الصديق - عمر بن الخطاب - عثمان بن عفان - علي بن أبي طالب)
- ④ أول من أرسل الجيوش الإسلامية خارج شبه الجزيرة العربية لنشر الإسلام هو
(أبو بكر الصديق - عمر بن الخطاب - عثمان بن عفان - علي بن أبي طالب)
- ⑤ أي مما يلي يعد من أعمال الخليفة أبي بكر الصديق (رضي الله عنه)
(إنشاء الدواوين - محاربة المرتدين - تعيين صاحب الشرطة - إنشاء أسطول بحري)
- ⑥ جمع القرآن الكريم في عهد الخليفة أبي بكر الصديق على يد الصحابي
(عمرو بن العاص - خالد بن الوليد - زيد بن ثابت - أسامة بن زيد)
- ⑦ أوصى أبو بكر الصديق (رضي الله عنه) بالخلافة من بعده إلى
(معاوية بن أبي سفيان - عمر بن الخطاب - عثمان بن عفان - علي بن أبي طالب)
- ⑧ تم إنشاء الدواوين في عهد الخليفة
(أبو بكر الصديق - عمر بن الخطاب - عثمان بن عفان - علي بن أبي طالب)
- ⑨ تم فتح مصر في عهد الخليفة
(أبو بكر الصديق - عمر بن الخطاب - عثمان بن عفان - علي بن أبي طالب)
- ⑩ أول الخلفاء الراشدين الذي بدأ الفتوحات الإسلامية في قارة إفريقيا هو
(أبو بكر الصديق - عمر بن الخطاب - عثمان بن عفان - علي بن أبي طالب)
- ⑪ بنى مسجد عمرو بن العاص في مصر في عهد الخليفة
(أبو بكر الصديق - عمر بن الخطاب - عثمان بن عفان - علي بن أبي طالب)
- ⑫ اشترك عثمان بن عفان (رضي الله عنه) في العديد من الغزوات ما عدا غزوة
(بدر - أحد - الخندق - تبوك)

- 13) أمر الخليفة عثمان بن عفان (رضي الله عنه) بـ
(إنشاء الدواوين - وضع التقويم الهجري - كتابة القرآن في مصحف واحد - محاربة المرتدين)
- 14) أنشئ أول أسطول بحري إسلامي في عهد الخليفة
(أبو بكر الصديق - عمر بن الخطاب - عثمان بن عفان - علي بن أبي طالب)
- 15) تم نشاء أول أسطول بحري لتأمين سواحل مصر والشام من هجمات
(الروم - قريش - المغول - الفرس)
- 16) نقل الخليفة علي بن أبي طالب (رضي الله عنه) مقر الخلافة إلى
(القدس - الكوفة - مكة - المدينة)
- 17) قام الخليفة علي بن أبي طالب (رضي الله عنه) بنقل مقر الخلافة من المدينة إلى
(اليمن - مصر - الشام - العراق)
- 18) آخر الخلفاء الراشدين هو الخليفة
(عمر بن الخطاب - علي بن أبي طالب - أبو بكر الصديق - عثمان بن عفان)
- 19) الخليفة الذي أمر بتعيين شرطة لحراسة بيت المال هو
(أبو بكر الصديق - عمر بن الخطاب - عثمان بن عفان - علي بن أبي طالب)

السؤال الخامس / أجب عما يأتي؟

- 1) بم تفسر // اختيار أبي بكر الصديق (رضي الله عنه) أول خليفة للمسلمين ؟ لأنه أول من أسلم من الرجال شارك مع الرسول في جميع الغزوات / جعله الرسول إماما للمسلمين في الصلاة أثناء مرضه
- 2) بم تفسر // إرسال جيش أسامة بن زيد إلى الشام ؟ لمحاربة الروم / وتأمين حدود الدولة الإسلامية
- 3) بم تفسر // إرسال الجيوش الإسلامية خارج شبه الجزيرة العربية ؟ لنشر الإسلام / وتأمين حدود الدولة الإسلامية
- 4) بم تفسر // اشترك عثمان بن عفان (رضي الله عنه) في جميع الغزوات ما عدا غزوة بدر؟ بسبب مرض زوجته رقية ابنة الرسول (صلى الله عليه وسلم)
- 5) بم تفسر // قيام الخليفة عثمان بن عفان (رضي الله عنه) بكتابة القرآن في مصحف واحد ؟ لتوحيد قراءة القرآن
- 6) بم تفسر // إنشاء الخليفة عثمان بن عفان (رضي الله عنه) أسطولا بحريا إسلاميا ؟ لتأمين سواحل مصر والشام من هجمات الروم

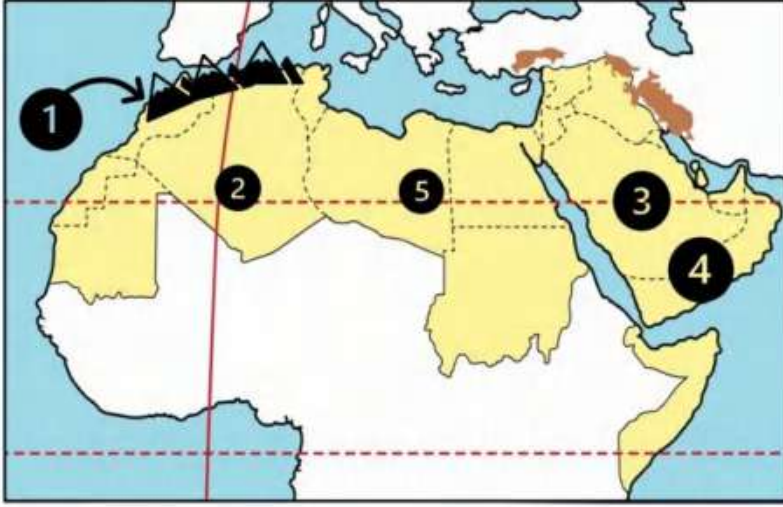
- ⑦ بم تفسر // قيام علي بن أبي طالب بنقل مقر الخلافة من المدينة إلى الكوفة بالعراق ؟
ليتنقل بسهولة في الدولة الإسلامية خاصة بعد اتساعها
- ⑧ بم تفسر // قيام علي بن أبي طالب (رضي الله عنه) بتنظيم الشرطة ؟
لحفاظ على أمن وسلامة المواطنين
- ⑨ ما النتائج المترتبة على // ارتداد بعض القبائل عن الإسلام بعد وفاة الرسول (صلى الله عليه وسلم) ؟
أرسل الخليفة أبو بكر الصديق عدة جيوش لمحاربة المرتدين حتى عادوا إلى الإسلام مرة أخرى
- ⑩ ما النتائج المترتبة على // استشهاد عدد كبير من حفظة القرآن الكريم في حرب المرتدين ؟
أمر الخليفة أبو بكر الصديق زيد بن ثابت بجمع القرآن الكريم
- ⑪ ما النتائج المترتبة على // اتساع أرجاء الدولة الإسلامية في عهد الخليفة علي بن أبي طالب ؟
قام الخليفة علي بن أبي طالب بنقل مقر الخلافة من المدينة إلى الكوفة بالعراق

مستتر اعطا زكي شحتو

الوحدة الثانية

الدرس (1) مظاهر سطح وطننا العربي

السؤال الأول / لاحظ الخريطة ثم أجب



① جبال ...أطلس...

② واحة عين صالح.

③ هضبة ...نجد...

④ هضبة ...حضر موت

⑤ واحة ...الكفرة...

السؤال الثاني / أكمل العبارات التالية بكلمات مناسبة

- ① أعلى قمة جبلية في الوطن العربي هي قمة جبل**توبقال**.....
- ② أدنى نقطة في الوطن العربي هي **البحر الميت** في الأردن
- ③ يوجد في وطننا العربي نوعان من جبال **التوائية** وجبال **انكسارية**
- ④ تقع واحة عين صالح في دولة**الجزائر**.....
- ⑤ يقع وادي الجرير في دولة **السعودية**
- ⑥ تكونت جبال أطلس نتيجة الحركات **الباطنية(الإلتوائية)**
- ⑦ مرتفعات اليمن تكونت نتيجة **الحركات الإنكسارية**
- ⑧ تقع هضبة حضر موت في الجناح**الآسيوي**.....
- ⑨ يصعب إقامة مواني على ساحل البحر الأحمر لوجود **الشعاب المرجانية**
- ⑩ أكبر الظواهر التضاريسية مساحة في الوطن العربي هي **هضبة إفريقيا الشمالية**
- ⑪ أكثر مظاهر السطح انتشارا في الوطن العربي هي **الهضاب**.....
- ⑫ تعتبر جبال عسير من أمثلة الجبال **الإنكسارية**.....
- ⑬ يمتد بحر الرمال العظيم بين مصر و**ليبيا**.....

- 14 تكونت السهول الفيضية نتيجة **رواسب الأنهار**
- 15 تكونت الأودية الجافة في الوطن العربي نتيجة **التعرية المائية**
- 16 تقع سهول دجلة والفرات في قارة **آسيا**.....
- 17 تعد سهول دجلة والفرات من السهول **الفيضية**.....
- 18 تكونت التجمعات الرملية بفعل **التعرية الهوائية**
- 19 تقوم الزراعة بواحة صالح اعتماداً على **المياه الجوفية**
- 20 تتميز السهول الساحلية المطلة على البحر المتوسط بمطارها في فصل **الشتاء**....

السؤال الثالث / اكتب كلمة (صواب) أمام العبارة الصحيحة وكلمة (خطأ) أمام العبارة غير الصحيحة

- 1 توجد جبال أطلس في الجناح الآسيوي للوطن العربي (X)
- 2 بحر الرمال العظيم يقع بين دولتي مصر والسودان (X)
- 3 تقع سلاسل جبال الحجاز وعسير في شبه جزيرة سيناء (X)
- 4 تقع جبال الحجاز في الجناح الإفريقي من الوطن العربي (X)
- 5 هضبة حضر موت إحدى هضاب الجناح الآسيوي (✓)
- 6 تقع هضبة بادية الشام في وسط شبه الجزيرة العربية (X)
- 7 تكونت جبال أطلس نتيجة انكسار في القشرة الأرضية (X)
- 8 جبال عُمان أحد أنواع الجبال الالتوائية في الوطن العربي (✓)
- 9 تستخرج الثروات المعدنية ومصادر الطاقة من سهول البحر الأحمر (✓)
- 10 أدنى نقطة في سطح الوطن العربي هي بحر قزوين (X)
- 11 تتميز سهول المحيط الأطلنطي بقلّة السكان وسهولة التنقل (X)
- 12 تتميز سهول البحر المتوسط بأنها كثيرة السكان (✓)
- 13 تقوم الزراعة في الواحات اعتماداً على المياه الجوفية (✓)
- 14 ساعد تنوع مظاهر السطح على تنوع الأنشطة الاقتصادية (✓)

السؤال الرابع اختر الاجابة الصحيحة مما بين القوسين

- ① تقع بحيرة عسل في دولة
- (الصومال - السودان - **جيبوتي** - مصر)
- ② يقصد السياح واحة سيوة في دولة للعلاج
- (الصومال - **مصر** - السودان - جيبوتي)
- ③ من الأودية التي تكونت بفعل التعرية المائية وادي الجدير في
- (مصر - ليبيا - تونس - **السعودية**)
- ④ أكثر أشكال السطح انتشارا في الوطن العربي هي
- (الجبال - **الهضاب** - السهول الفيضية - السهول الساحلية)
- ⑤ تعوق الشعاب المرجانية إقامة الموانئ على ساحل في الوطن العربي
- (البحر المتوسط - الخليج العربي - **البحر الأحمر** - المحيط الأطلسي)
- ⑥ توجد في دولتي مصر والسودان جبال
- (كردستان - زاجروس - عسير - **البحر الأحمر**)
- ⑦ تمتد هضبة إفريقيا الشمالية من جبال البحر الأحمر إلى المحيط
- (الهادي - الهندي - **الأطلسي** - القطبي)
- ⑧ أحد الجبال الالتوائية في الوطن العربي هي جبال
- (الشام - الحجاز - **أطلس** - عسير)
- ⑨ جبال نشأت نتيجة انكسار في القشرة الأرضية
- (كردستان - زاجروس - عمان - **عسير**)
- ⑩ إحدي هضاب الجناح العربي الآسيوي
- (الشطوط - الصحراء الكبرى - المعازة - **بادية الشام**)
- ⑪ (تكونت نتيجة ترسب المواد العالقة في مياه الأنهار) تشير هذه العبارة إلى
- (السهول الساحلية - الجبال - الهضاب - **السهول الفيضية**)

- 12) السهول الساحلية التي تتميز بتساقط الأمطار في فصل الشتاء هي سهول
(البحر المتوسط - البحر الأحمر - الخليج العربي - بحر العرب)
- 13) (تستخدم كطريق للمواصلات في الصحاري) تنطبق العبارة على
(السهول الفيضية - السهول الساحلية - الأودية الجافة - الجبال الإنكسارية)
- 14) تعتمد الزراعة في الواحات على
(المياه الجوفية - البحار - الأنهار - الأمطار الشتوية)
- 15) السهول التي تتميز بتربته الفقيرة أو الملحية تقع على
(البحر المتوسط - المحيط الأطلنطي - نهر النيل - الخليج العربي)

السؤال الخامس / أجب عما يأتي؟

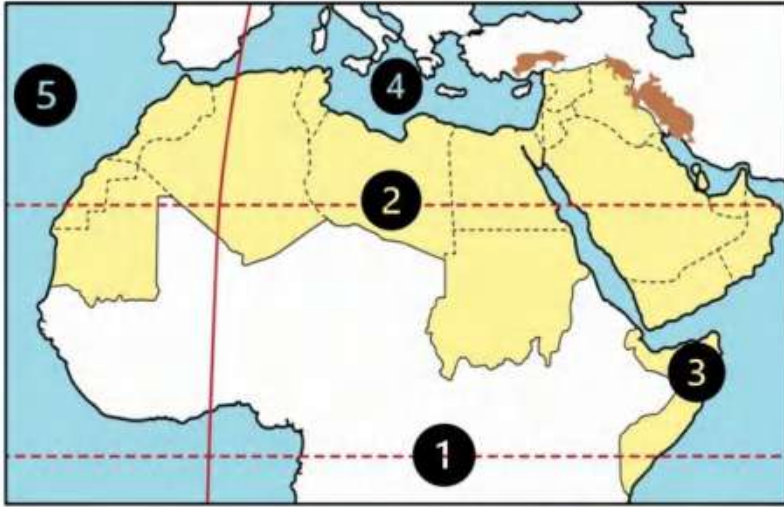
- 1) بم تفسر // نشأة جبال البحر الأحمر ؟
..... **نتيجة حدوث انكسار في القشرة الأرضية (الحركات الإنكسارية)**
- 2) بم تفسر // نشأة جبال أطلس ؟
..... **نتيجة الحركات الباطنية للأرض (الحركات الالتوائية)**
- 3) بم تفسر // أهمية الأودية الجافة؟
..... **تستخدم كطرق للمواصلات - والحصول على المياه الجوفية**
- 4) بم تفسر // قلة الموانئ على البحر الأحمر؟
..... **بسبب وجود الشعاب المرجانية**
- 5) بم تفسر // يعيش بعض السكان في الواحات ؟
..... **بسبب قيام الزراعة بها اعتمادا على المياه الجوفية**
- 6) بم تفسر // تكون السهول الفيضية في الوطن العربي ؟
..... **كونتها الأنهار عن طريق ترسب المواد العالقة بمياهها**
- 7) ما النتائج المترتبة على // تنوع مظاهر سطح الوطن العربي ؟
..... **أدى إلى تنوع الأنشطة الاقتصادية**
- 8) ما النتائج المترتبة على // وجود الشعاب المرجانية على ساحل البحر الأحمر ؟
..... **أدى إلى صعوبة إنشاء الموانئ على البحر الأحمر**
- 9) حدد أوجه التشابه والاختلاف بين // جبال البحر الأحمر وجبال أطلس

جبال البحر الأحمر	جبال أطلس	
يقعان في الجناح الإفريقي		التشابه
جبال انكسارية	جبال التوائية	الاختلاف

الوحدة الثانية

الدرس (2) العوامل المؤثرة في مناخ وطننا العربي

السؤال الأول لاحظ الخريطة ثم أجب



- ① دائرة.....الاستواء
- ② مدار...السيرطان
- ③ دولة تسقط عليها
أمطار موسمية...الصومال
- ④ البحر...المتوسط
- ⑤ المحيط...الأطلسي

السؤال الثاني أكمل العبارات التالية بكلمات مناسبة

- ① يسود المناخ.....الحار..... معظم أجزاء الوطن العربي
- ② يسود المناخ المعتدل الأجزاء...الشمالية... من الوطن العربي
- ③ تسقط الأمطار بغزارة على منحدرات الجبال المواجهة للرياح لأنها محملة ببخار الماء...
- ④ الرياح الباردة تهب على الوطن العربي من أوروبا و...آسيا.....
- ⑤ يهب على الوطن العربي صيفا رياح حارة قادمة من جنوب...آسيا.....
- ⑥ تمر دائرة الاستواء...جنوب... الوطن العربي
- ⑦ الأمطار التي تسقط صيفا على معظم أنحاء الصومال تسمى...أمطار موسمية
- ⑧ حركة مياه البحار والمحيطات تسمى...التيارات البحرية

السؤال الثالث اكتب كلمة (صواب) أمام العبارة الصحيحة وكلمة (خطأ) أمام العبارة غير الصحيحة

- ① يؤثر الموقع الفلكي للوطن العربي على مناخه (✓)
- ② تمر دائرة الاستواء في شمال الوطن العربي (✗)
- ③ ترتفع درجات الحرارة كلما اتجهنا جنوب الوطن العربي (✓)
- ④ المناطق الداخلية من الوطن العربي تكون أكثر اعتدالا من المناطق الساحلية (✗)
- ⑤ تؤثر المسطحات المائية على مناخ الوطن العربي (✓)

- ⑥ تؤثر المسطحات المائية على المدى الحراري اليومي والسنوي (✓)
- ⑦ تسقط الأمطار على مرتفعات اليمن شتاء (✗)
- ⑧ تسقط الأمطار صيفا على الأطراف الشمالية للوطن العربي (✗)
- ⑨ يتعرض الوطن العربي إلى رياح حارة صيفا قادمة من أوروبا (✗)
- ⑩ يؤدي سوء الأحوال المناخية إلى تأجيل أو إلغاء الرحلات الجوية (✓)
- ⑪ لا يتم مراعاة الظروف المناخية عند اختيار المواقع لبناء المطارات (✗)

السؤال الرابع اختر الاجابة الصحيحة مما بين القوسين

- ① يمر بأراضي الوطن العربي جنوبا
(الدائرة القطبية الشمالية - مدار السرطان - دائرة الاستواء - خط جرينتش)
- ② يقل سقوط الأمطار في الوطن العربي على
(الجبال - السهول - الأودية - الصحراء)
- ③ المناطق القريبة من المسطحات المائية يكون مناخها
(شديد الحرارة والجفاف - أكثر اعتدالا ومطرا - اقل اعتدالا ومطرا - شديد البرودة والجفاف)
- ④ يتميز مناخ الوطن العربي بالحرارة الشديدة في فصل
(الشتاء - الربيع - الصيف - الخريف)
- ⑤ تهب على الوطن العربي شتاء رياح شديدة البرودة قادمة من
(قارة إفريقيا - المحيط الهندي - قارة أوروبا - المحيط الهادي)
- ⑥ مناخ مدينة الإسكندرية معتدل أكثر من مناخ مدينة الرياض بسبب تأثير
(اتجاه المرتفعات - المسطحات المائية - التيارات البحرية - خط جرينتش)
- ⑦ الارتفاع لمسافة ١٥٠ متر فوق مستوى سطح البحر يؤدي إلى انخفاض درجة الحرارة بقدر
(درجة واحدة - درجتين - ثلاث درجات - أربع درجات)
- ⑧ تسقط أمطار موسمية صيفية على دولة
(لبنان - سوريا - اليمن - تونس)

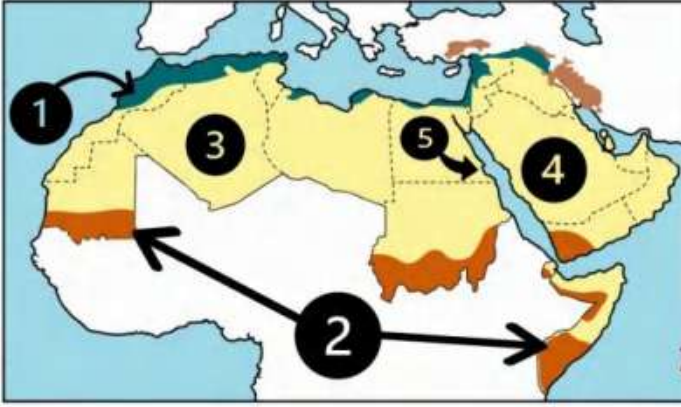
- ⑨ يحل فصل الشتاء على الوطن العربي عندما تتعامد الشمس على
(مدار السرطان - مدار الجدي - الدائرة القطبية - دائرة الاستواء)
- ⑩ يحل فصل الصيف على الوطن العربي عندما تتعامد الشمس على
(مدار السرطان - مدار الجدي - الدائرة القطبية - دائرة الاستواء)

السؤال الخامس / أجب عما يأتي؟

- ① ما النتائج المترتبة على // الموقع الفلكي للوطن العربي ؟
أصبح المناخ الحار يسود في معظم الوطن العربي والمناخ المعتدل يسود في الأجزاء الشمالية
- ② بم تفسر // ارتفاع درجة الحرارة في المناطق الجنوبية للوطن العربي ؟
بسبب مرور دائرة الاستواء جنوب الوطن العربي
- ③ بم تفسر // انخفاض درجة الحرارة في الأجزاء الشمالية من الوطن العربي ؟
بسبب بعدها عن دائرة الاستواء وقربها من المسطحات المائية
- ④ بم تفسر // المناطق الساحلية أكثر اعتدالا من المناطق الداخلية (القارية) بالوطن العربي؟
لأن المسطحات المائية تلتف من درجة الحرارة // وتقلل المدى الحراري اليومي والسنوي وتزيد من فرص سقوط الأمطار
- ⑤ بم تفسر // انخفاض درجة الحرارة شتاء في المناطق الداخلية (القارية) ؟
بسبب هبوب رياح شديدة البرودة من أوروبا وآسيا شتاء
- ⑥ بم تفسر // ارتفاع درجة الحرارة صيفا في المناطق الداخلية (القارية) ؟
بسبب هبوب رياح حارة من جنوب آسيا صيفا
- ⑦ بم تفسر // مناخ مدينة الإسكندرية أكثر اعتدالا من مناخ مدينة الرياض ؟
لأن الإسكندرية مدينة ساحلية قريبة من المسطحات المائية الرياض مدينة داخلية
- ⑧ بم تفسر // يقل تأثير المسطحات المائية في الوطن العربي ؟
بسبب ضيق مساحة المسطحات المائية وعدم توغل تأثيرها إلى الداخل لوجود الصحاري والمرتفعات
- ⑨ بم تفسر // انخفاض درجة الحرارة في المناطق المرتفعة بالوطن العربي؟
لأنه كلما ارتفعنا 150 متر فوق مستوى سطح البحر تنخفض درجة الحرارة درجة واحدة
- ⑩ دلل // يؤثر المناخ على الأنشطة البشرية مثل الطيران
يؤدي سوء الأحوال الجوية إلى تأجيل أو إلغاء الرحلات الجوية

الوحدة الثانية الدرس (3) الأقاليم المناخية والنباتية في وطننا العربي

السؤال الأول لاحظ الخريطة ثم أجب



- ① إقليم مناخ البحر المتوسط
- ② إقليم المناخ ...المداري...
- ③ إقليم المناخ الصحراوي الحار
- ④ دولة ...السعودية
- ⑤ إحدى المحميات المصرية جبل عبلية

السؤال الثاني أكمل العبارات التالية بكلمات مناسبة

- ① يسود الوطن العربي ...ثلاثة... أقاليم مناخية
- ② يتميز إقليم البحر المتوسط بتساقط الأمطار في فصل ...الشتاء...
- ③ تربي الأغنام والماعز في إقليم مناخ البحر المتوسط
- ④ يسود معظم الوطن العربي إقليم المناخ الصحراوي الحار
- ⑤ ينتشر في إقليم البحر المتوسط أشجار ...الأرز... و...الزيتون... والصنوبر
- ⑥ تنمو بالإقليم المداري في الوطن العربي حشائش ...السافانا
- ⑦ تسقط الأمطار صيفا في الإقليم المناخي ...المداري.
- ⑧ ينمو نبات الصبار في الإقليم الصحراوي الحار
- ⑨ تقع محمية ضانا في دولة ...الأردن...
- ⑩ تقع محمية أرز الشوف بدولة ...لبنان...

السؤال الثالث اكتب كلمة (صواب) أمام العبارة الصحيحة وكلمة (خطأ) أمام العبارة غير الصحيحة

- ① تعيش الأسود في إقليم مناخ البحر المتوسط (X)
- ② تقع محمية ضانا في الكويت (X)
- ③ تنوع الأقاليم المناخية في الوطن العربي أدى إلى تنوع النبات الطبيعي (✓)
- ④ تربي الماعز والأغنام في الإقليم المداري (X)

- ⑤ يشغل معظم مساحة الوطن العربي الإقليم الصحراوي (✓)
- ⑥ تنمو حشائش السافانا في إقليم البحر المتوسط (✗)
- ⑦ تنمو حشائش السافانا في الإقليم المداري بالوطن العربي (✓)
- ⑧ يقل المدي الحراري في معظم الصحاري الكبرى بالوطن العربي (✗)
- ⑨ تساعد المحميات الطبيعية في الحفاظ على الحياة البرية بالوطن العربي (✓)
- ⑩ يحتفل العالم يوم ٣ مارس من كل عام باليوم العالمي للحياة البرية (✓)

السؤال الرابع اختر الاجابة الصحيحة مما بين القوسين

- ① تسقط أمطار إقليم البحر المتوسط في فصل
(الشتاء - الخريف - الربيع - الصيف)
- ② تسقط أمطار الإقليم المداري في فصل
(الشتاء - الخريف - الربيع - الصيف)
- ③ يمتد الإقليم المداري في الوطن العربي
(شمال - جنوب - شرق - غرب)
- ④ يمتد إقليم البحر المتوسط في الوطن العربي
(شمال - جنوب - شرق - غرب)
- ⑤ محمية جبل علبة من أشهر المحميات في الوطن العربي والتي تقع بدولة
(الصومال - مصر - السودان - جيبوتي)
- ⑥ إحدى الدول العربية التي تقع أجزاءها الشمالية في إقليم مناخ البحر المتوسط
(موريتانيا - ليبيا - السودان - اليمن)
- ⑦ حشائش الإستبس تنمو في إقليم مناخي
(البحر المتوسط - الصحراوي - المداري - الموسمي)
- ⑧ تنمو أشجار الأرز في إقليم مناخ
(الاستوائي - الصحراوي الحار - البحر المتوسط - المداري)

- ⑨ تنتشر النباتات التي لها قدرة على تحمل الجفاف في الإقليم المناخي
(المداري - الصحراوي الحار - المتوسط - الموسمي)
- ⑩ تقع دولة فلسطين ولبنان ضمن الإقليم المناخي
(الاستوائي - الصحراوي الحار - البحر المتوسط - المداري)
- ⑪ دولة عربية تقع بالكامل داخل الإقليم الصحراوي الحار هي
(الجزائر - الكويت - السودان - لبنان)
- ⑫ يعيش الزراف والأسود بالإقليم
(الصحراوي - البحر المتوسط - المداري - الموسمي)
- ⑬ إقليم مناخي يشمل النطاق الساحلي من الصومال وتندر به الأمطار هو الإقليم
(المداري - الصحراوي - البحر المتوسط - الموسمي)
- ⑭ يتسم مناخ الجزء الجنوبي الغربي من شبه الجزيرة العربية بأنه
(شتاء بارد ممطر - صيف حار جاف - شتاء معتدل جاف - ممطر طوال العام)

السؤال الخامس / أجب عما يأتي؟

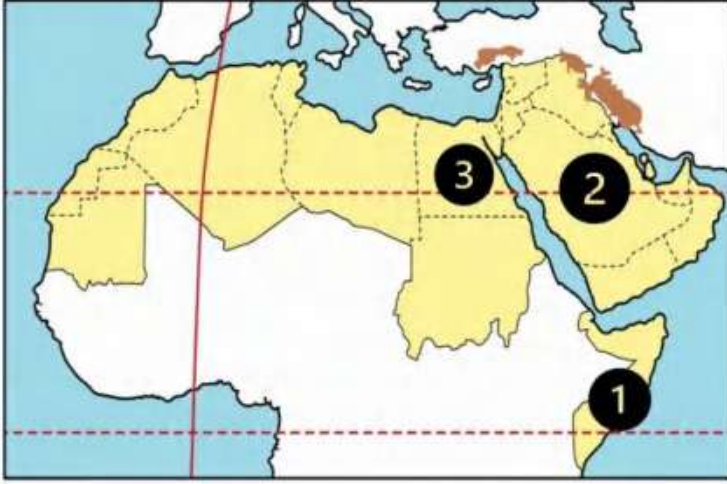
- ① بم تفسر // تنوع الأقاليم المناخية في وطننا العربي ؟
بسبب مساحة الوطن العربي التي تزيد عن 13 مليون كم² // وامتداده في 40 دائرة عرض
- ② بم تفسر // أهمية حشائش الإستبس بالنسبة للثروة الحيوانية ؟
تربي عليها الأغنام والماعز
- ③ بم تفسر // إنشاء الدول العربية المحميات الطبيعية ؟
بسبب تعرض النباتات الطبيعية والحيوانات البرية للمخاطر مثل تدهور النباتات وانقراض بعض الحيوانات
- ④ بم تفسر // الأهمية الاقتصادية للمحميات الطبيعية ؟
الحفاظ على الحياة البرية // تنشيط السياحة وجذب السياح // تحقيق التوازن البيئي
- ⑤ بم تفسر // سقوط الأمطار صيفا على جنوب غرب شبه الجزيرة العربية؛ لحد من التلوث
لأنها تقع في الإقليم المداري الممطر صيفا
- ⑥ ما النتائج المترتبة على // تنوع الأقاليم المناخية للوطن العربي؟
أدى إلى تنوع النباتات الطبيعية والحيوانات البرية

الوحدة الثانية

الدرس (4) المشكلات البيئية في وطننا العربي

السؤال الأول

لاحظ الخريطة ثم أجب



- ① دولة تعرضت لأكبر موجة جفاف **البيومال**
- ② دولة أعلنت بناء مدينة نيوم الخضراء **السعودية**
- ③ دولة أطلقت مبادرة لزراعة ١٠٠ مليون شجرة مثمرة هي **مصر**.....

السؤال الثاني

أكمل العبارات التالية بكلمات مناسبة

- ① عقد مؤتمر المناخ للأمم المتحدة عام ٢٠٢٢ في دولة **مصر**..... بمدينة **شرم الشيخ**
- ② ظهرت مشكلات بيئية نتيجة التغير المناخي وهي **الجفاف** و **التصحّر** و **ندرة المياه العذبة**
- ③ إنشاء المدن الذكية بالوطن العربي يقلل من انبعاث **الغازات الدفيئة**
- ④ انطلقت مبادرة زراعة ٤٥٠ مليون شجرة في دولة **السعودية**
- ⑤ تزداد معدلات استهلاك المياه العذبة بالوطن العربي بسبب النمو المتزايد في أعداد **السكان**
- ⑥ تؤدي المشكلات البيئية في الوطن العربي إلى تدمير **الحياة النباتية والحيوانية**
- ⑦ أعلن عن إنشاء مدينة نيوم الخضراء عام ٢٠٢٢ في دولة **السعودية**.....

السؤال الثالث

اكتب كلمة (صواب) أمام العبارة الصحيحة وكلمة (خطأ) أمام العبارة غير الصحيحة

- ① التغير المناخي من المشكلات البيئية في وطننا العربي (✓)
- ② الجفاف هو نقص كمية المطر ليومين (✗)
- ③ يؤثر التغير المناخي على درجة الحرارة وكمية المطر (✓)
- ④ تعرضت دولة المغرب لأكبر موجة جفاف سببت نقصاً في الغذاء (✗)
- ⑤ التوسع المستمر في الزراعة يؤدي إلى ندرة المياه العذبة (✓)
- ⑥ المشكلات البيئية في الوطن العربي تهدد صحة وحياة المواطنين (✓)

- (X) 7 يحدث التصحر في الوطن العربي بسبب استخدام طرق الري الحديثة
- (✓) 8 أنشئت المدن الذكية بهدف تقليل انبعاثات الغازات الدفيئة
- (✓) 9 تهتم الدول العربية باستخدام مصادر الطاقة النظيفة
- (X) 10 تعاني معظم الدول العربية من ندرة المياه المالحة
- (✓) 11 تحتفل الدول العربية باليوم العربي للبيئة في ١٤ أكتوبر من كل عام

السؤال الرابع اختر الاجابة الصحيحة مما بين القوسين

- 1 دولة تعاني من أكبر موجة جفاف في وطننا العربي هي
(الصومال - السودان - جيبوتي - مصر)
- 2 يعاني نحو مساحة الوطن العربي من مشكلة التصحر
(ثلث - ثلثي - ربع - نصف)
- 3 أعلن عن إنشاء مدينة نيوم الخضراء بدولة
(مصر - ليبيا - تونس - السعودية)
- 4 إحدى الدول العربية التي أطلقت مبادرة لزيادة المساحات الخضراء
(اليمن - سوريا - لبنان - مصر)
- 5 تدهور الأرض وتناقص قدرتها على الإنتاج تشير هذه العبارة لتعريف
(الجفاف - الفيضان - التصحر - السيول)
- 6 يحدث التصحر بسبب
(زيادة مساحات الغابات - كثرة الأمطار والسيول - زحف الكثبان الرملية - إنشاء المدن الذكية)
- 7 مشروع صناعة الأخشاب من مخلفات النخيل يوجد في مصر بمحافظة
(البحر الأحمر - الوادي الجديد - شمال سيناء - جنوب سيناء)
- 8 جائزة عاصمة المدن العربية لعام ٢٠٢٢م حصلت عليها مدينة
(رأس محمد - رأس غارب - الخارجة - الداخلة)

السؤال الخامس / أجب عما يأتي؟

① بم تفسر // مشاركة الدول العربية في مؤتمر المناخ للأمم المتحدة ٢٠٢٢ م ؟

لناقشة قضية التغير المناخي

② بم تفسر // زيادة معدل استهلاك المياه العذبة في الوطن العربي ؟

بسبب نمو أعداد السكان // والتوسع المستمر في الزراعة

③ بم تفسر // حدوث مشكلة التصحر ؟

استخدام الري التقليدي / التوسع العمراني / زحف الكثبان الرملية / الرعي الجائر / إزالة الغابات

④ بم تفسر // إنشاء المدن الذكية ؟

لتقليل انبعاثات الغازات الدفيئة

⑤ ما النتائج المترتبة على // تعرض الصومال لأكبر موجة جفاف بالوطن العربي ؟

نقص الغذاء و حدوث مجاعة لأكثر من مليون شخص

⑥ ما النتائج المترتبة على // الرعي الجائر للحيوانات في الوطن العربي ؟

أدى إلى حدوث التصحر

⑦ ما النتائج المترتبة على // زحف الكثبان الرملية وتناقص المياه الجوفية في وطننا العربي ؟

أدى إلى حدوث التصحر

⑧ ما النتائج المترتبة على // وجود العديد من المشكلات البيئية في الوطن العربي ؟

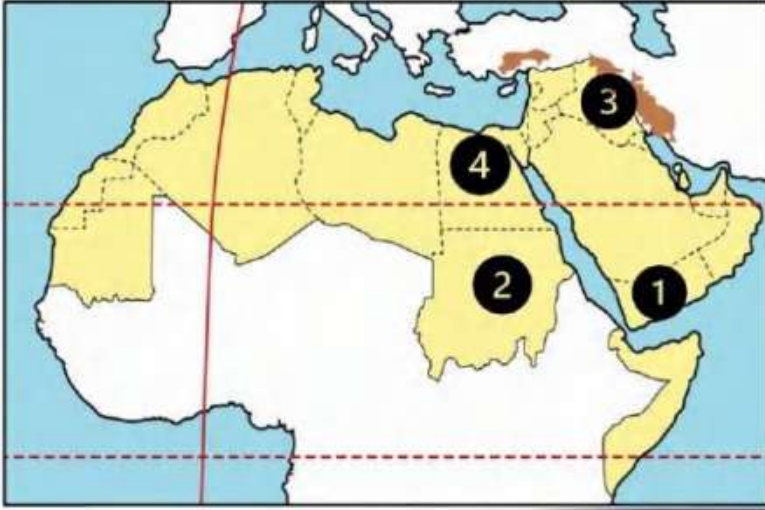
تهديد صحة المواطن وحياته // إعاقة خطط التنمية

تدمير الحياة النباتية والحيوانية

الدرس (1) الزراعة فى وطننا العربى

الوحدة
الثالثة

السؤال الأول لاحظ الخريطة ثم أجب



- ① دولة تتركز بها زراعة البن ... **اليمن** ...
- ② دولة تتركز بها زراعة القطن والكتان **السودان** ...
- ③ دولة منتجة للموايح هى **العراق** ...
- ④ أولى الدول العربية المنتجة لمحاصيل الحبوب الغذائية ... **مصر** ...

السؤال الثانى أكمل العبارات التالية بكلمات مناسبة

- 1 تنقسم مقومات الزراعة إلى مقومات طبيعية ومقومات **بشرية** ...
- 2 الزراعة توفر المواد الخام اللازمة لـ **الصناعة** ...
- 3 تحتل مصر المركز **الأول** ... فى إنتاج التمور فى الوطن العربى
- 4 تقوم الزراعة فى الأجزاء الشمالية من الوطن العربى على **مياه الأمطار**
- 5 تتعرض الزراعة فى الوطن العربى لمشكلة تذبذب كمية **الأمطار** ...
- 6 تتركز زراعة البن فى **اليمن** ...
- 7 تنوع المناخ فى الوطن العربى أدى إلى تنوع **المحاصيل الزراعية**
- 8 القمح والأرز من محاصيل **الحبوب الغذائية**
- 9 القطن والكتان من محاصيل **الألياف** ...
- 10 يتركز إنتاج القطن والكتان فى دولتي **السودان** و **مصر** ...
- 11 إحدى مناطق التراث العالمى للزراعة فى مصر وهى واحة **سيوة** ...
- 12 تشتهر واحة العين وواحة سيوة وواحة ليوا بزراعة أنواع مميزة من **النخيل**

السؤال الثالث اكتب كلمة (صواب) أمام العبارة الصحيحة وكلمة (خطأ) أمام العبارة غير الصحيحة

- ① تنوع مصادر المياه العذبة فى الوطن العربى (✓)
- ② المنظمة المسؤولة عن الأغذية والزراعة هى اليونسكو (✗)

- (X) ③ منظمة اليونسكو هي المسئولة عن إعلان مناطق التراث العالمي للزراعة
- (X) ④ قصب السكر من محاصيل الحبوب الغذائية
- (✓) ⑤ توجد التربة الخصبة على جانبي الأنهار
- (X) ⑥ يحصل سكان الواحات على المياه العذبة من الأنهار
- (✓) ⑦ تساعد الزراعة في توفير فرص عمل لسكان الوطن العربي
- (X) ⑧ وسائل النقل من العوامل الطبيعية لقيام الزراعة
- (✓) ⑨ رأس المال مهم لشراء البذور والأسمدة
- (✓) ⑩ يتزايد الطلب على المنتجات الزراعية العربية في الأسواق العالمية والمحلية
- (✓) ⑪ قامت الدول العربية باستحداث أنواع جديدة من البذور للتكيف مع تغير المناخ

السؤال الرابع اختر الاجابة الصحيحة مما بين القوسين

- ① أولى الدولة العربية في انتاج التمور
(مصر - العراق - السعودية - البحرين)
- ② واحة مصرية تم تصنيفها كأحد مواقع التراث الزراعي العالمي هي
(الخارجة - الداخلة - سيوة - الغرافرة)
- ③ دولة تقوم فيها الزراعة على مياه الأنهار
(ليبيا - قطر - الكويت - السودان)
- ④ تعتمد الزراعة في الأجزاء الشمالية من الوطن العربي على مياه
(الأنهار - التحلية - الأمطار - الجوفية)
- ⑤ تقوم الزراعة في الوطن العربي على المياه الجوفية في المناطق
(الشمالية - الصحراوية - الفيضية - الجبلية)
- ⑥ من المقومات الطبيعية لقيام الزراعة
(الأيدي العاملة - وسائل النقل - السوق - المناخ)
- ⑦ أي مما يلي يعد من المقومات البشرية لقيام الزراعة
(المياه العذبة - الأيدي العاملة - التربة الخصبة - تنوع المناخ)

⑧ يتركز إنتاج الألياف في الوطن العربي في دولة

(السعودية - المغرب - ليبيا - مصر)

⑨ أحد محاصيل الحبوب الغذائية

(العنب - البن - الزيتون - الذرة)

⑩ دولة منتجة للموايح

(اليمن - قطر - فلسطين - الصومال)

⑪ تحتفل الدول العربية يوم ٢٧ سبتمبر بيوم

(السياحة - الزراعة - الصناعة - التجارة)

السؤال الخامس / أجب عما يأتي؟

① بم تفسر // أهمية الزراعة في الوطن العربي ؟

توفر المنتجات الغذائية للسكان والحيوانات... توفر فرص عمل للسكان
توفر المواد الخام اللازمة للصناعة... مصدر للدخل القومي

② بم تفسر // قيام الزراعة في الواحات ؟

بسبب وجود المياه الجوفية

③ بم تفسر // قيام الزراعة في الأجزاء الشمالية للوطن العربي ؟

بسبب سقوط الأمطار

④ بم تفسر // تنوع المحاصيل الزراعية في الوطن العربي ؟

بسبب تنوع المناخ

⑤ بم تفسر // أهمية رأس المال للنشاط الزراعي ؟

يستخدم في شراء الآلات الزراعية والبذور والأسمدة وإقامة المشروعات الزراعية

⑥ بم تفسر // أهمية وسائل النقل في الزراعة ؟

تستخدم في نقل المواد التي تحتاجها الزراعة والمنتجات الزراعية إلى مناطق الاستهلاك

⑦ بم تفسر // اتجاه بعض الدول العربية لاستخدام نظام الري بالرش ؟

لتوفير المياه العذبة

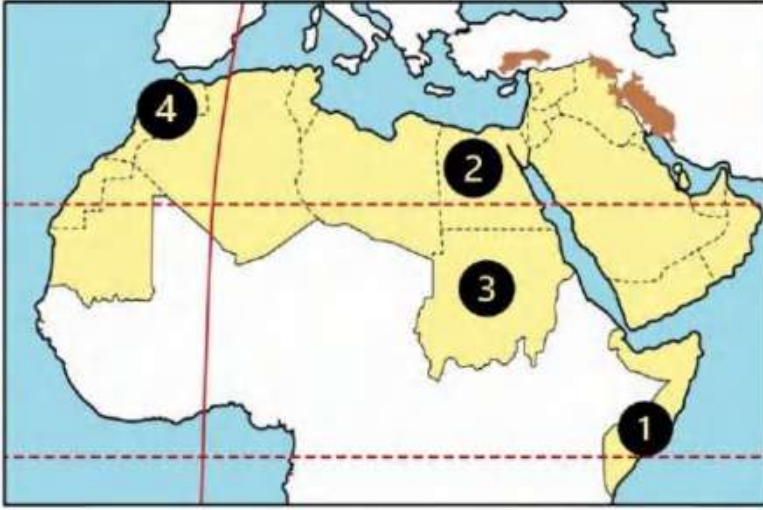
⑧ ما النتائج المترتبة على // تنوع المناخ بالوطن العربي ؟

أدى إلى تنوع المحاصيل الزراعية

الوحدة
الثالثة

الدرس (2) الثروة الحيوانية والسمكية فى وطننا العربى

السؤال الأول لاحظ الخريطة ثم أجب



① أولى الدول في تربية الإبل... **الصومال**

② أولى الدول في تربية الجاموس **مصر**...

③ أولى الدول في تربية الأبقار... **السودان**

④ أولى الدول في صيد الأسماك من

المصايد... **المغرب**...

السؤال الثانى أكمل العبارات التالية بكلمات مناسبة

① أولى الدول العربية في تربية الجاموس **مصر**.....

② أولى الدول العربية في تربية الأبل **الصومال**

③ أكبر الدول العربية في تربية الأغنام **السودان**.....

④ توفر لنا الأبقار والجاموس البروتين **الحيوانى**

⑤ تساهم الثروة السمكية في وطننا العربي في سد العجز من **البروتين الحيوانى**

⑥ تستخدم بعض الحيوانات بالريف في النقل وأعمال **الحقل**.....

⑦ مصر أكبر الدول العربية في إنتاج الأسماك من **المزارع السمكية**

⑧ تنمى الدول العربية الثروة السمكية عن طريق التوسع في مشروعات **الاستزراع السمكى**

⑨ تعتمد دولة المغرب في إنتاج الأسماك على البحر **المتوسط**..... و المحيط **الأطلسي**

السؤال الثالث اكتب كلمة (صواب) أمام العبارة الصحيحة وكلمة (خطأ) أمام العبارة غير الصحيحة

① تنوع الثروة الحيوانية في وطننا العربي (✓)

② تنتشر تربية الجاموس فى المناطق الصحراوية بمصر (✗)

③ تستخدم بعض الحيوانات في وطننا العربي في أعمال الحقل والنقل (✓)

④ تكفي اللحوم الحمراء حاجة السكان في الوطن العربي (✗)

- ⑤ يؤدي التغير المناخي إلى تناقص أعداد الحيوانات بالوطن العربي (✓)
- ⑥ ترتبط الصناعة في وطننا العربي بالثروة الحيوانية (✓)
- ⑦ تساهم الثروة السمكية في سد العجز من البروتين الحيواني (✓)
- ⑧ تهتم الدول العربية بتربية الدواجن لسد العجز من اللحوم الحمراء (✓)
- ⑨ الصيد الجائر من المشكلات التي تواجه الثروة السمكية في الوطن العربي (✓)
- ⑩ أنشأت الدولة مزعة للإنتاج الحيواني غرب الإسكندرية (✗)
- ⑪ تقوم الدول العربية بتدريب الصيادين على أساليب الصيد الحديثة (✓)

السؤال الرابع اختر الاجابة الصحيحة مما بين القوسين

- ① المغرب أولى الدول العربية في تربية
(الجاموس - الأغنام - الإبل - الدواجن)
- ② تشغل المراعي الطبيعية في الوطن العربي نحو مساحته
(ربع - خمس - ثلث - ثمن)
- ③ أولى الدول العربية في تربية الماعز هي
(الصومال - المغرب - السودان - السعودية)
- ④ أولى الدول العربية في تربية الأبقار هي
(الصومال - المغرب - السودان - السعودية)
- ⑤ أكبر الدول العربية إنتاجاً للأسماك من المزارع السمكية
(المغرب - مصر - الجزائر - موريتانيا)
- ⑥ تعد مصر أولى الدول العربية في تربية الجاموس بسبب توافر
(المراعي الطبيعية - المناخ الحار - السهول الفيضية - السهول الساحلية)
- ⑦ أقامت مصر مشروع المليون رأس ماشية في محافظة
(القاهرة - الشرقية - الغربية - البحيرة)
- ⑧ أي من المواد الخام التالية توفرها الثروة الحيوانية
(القطن - الجلود - الفوسفات - البترول)

السؤال الخامس / أجب عما يأتي؟

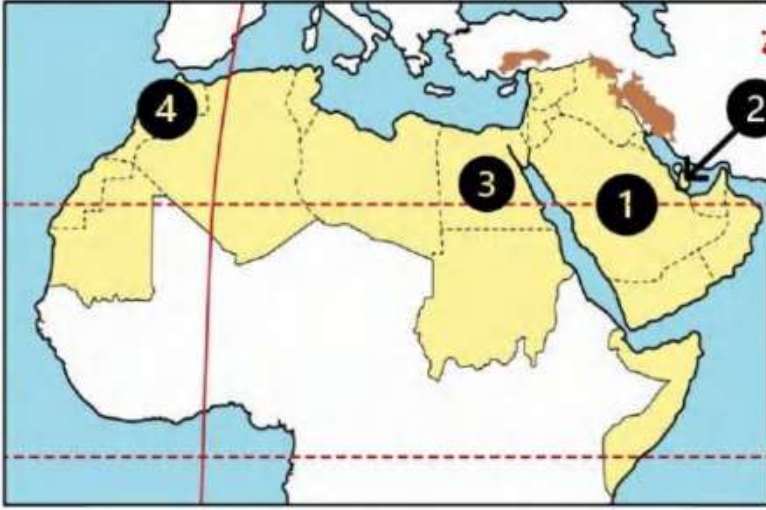
- ① بم تفسر // أهمية الثروة الحيوانية في وطننا العربي ؟
توفر البروتين الحيواني ... توفر المواد الخام اللازمة للصناعة تستخدم بعض الحيوانات
في أعمال الحقل والنقل
- ② بم تفسر // تركز تربية الجاموس في مصر؟
بسبب وجود البيئة الزراعية الفيضية المناسبة لتربية الجاموس
- ③ بم تفسر // تهتم الدول العربية بتربية الدواجن ؟
لسد العجز من اللحوم الحمراء
- ④ بم تفسر // اهتمام الدول العربية بالثروة السمكية ؟
لسد العجز من البروتين الحيواني
- ⑤ بم تفسر // تعد المغرب أولى الدول العربية إنتاجاً للأسماك من المصايد ؟
بسبب طول سواحلها على البحر المتوسط والمحيط الأطلنطي
- ⑥ ما العلاقة بين // التغيرات المناخية والثروة الحيوانية ؟
يصاحب التغير المناخي قلة الأمطار وانتشار الجفاف والتصحر وبالتالي موت عدد كبير
من الحيوانات
- ⑦ ما العلاقة بين // التغيرات المناخية والثروة السمكية ؟
التغير المناخي يؤدي إلى ارتفاع درجة حرارة المسطحات المائية ونقص الأكسجين وبالتالي موت عدد كبير من
الأسماك
- ⑧ أذكر اثنين من // المشكلات التي تواجه الثروة السمكية في وطننا العربي ؟
التغير المناخي / تلوث المياه
استخدام وسائل صيد بدائية / الصيد الجائر
- ⑨ أذكر اثنين من // المشكلات التي تواجه الثروة الحيوانية في وطننا العربي ؟
التغير المناخي / فقر المزارعي
قلة الأعلاف / الرعي الجائر

شحتو

الدرس (3) التعدين والصناعة في وطننا العربي

الوحدة
الثالثة

السؤال الأول / لاحظ الخريطة ثم أجب



① أولى الدول في المنتجة للبتروال**السعودية**

② أولى الدول المنتجة

للغاز الطبيعي ... **قطر**

③ أولى الدول في صناعة

الحديد والصلب **مصر**

④ أولى الدول العربية المنتجة

للفوسفات **المغرب** ..

السؤال الثاني / أكمل العبارات التالية بكلمات مناسبة

① نشاط اقتصادي يسهم بثالث الدخل القومي للوطن العربي **الصناعة**

② قطر تعد الدول الأولى عربيا في إنتاج **الغاز الطبيعي**

③ أكبر الدول العربية انتاجا للأسمنت هي **السعودية**

④ أولى الدول العربية في إنتاج الذهب **السودان**

⑤ المواد الخام من المقومات اللازمة لقيام **الصناعة**

⑥ معدن تستخدم ذراته في علاج بعض الأمراض **الذهب**

⑦ تنقسم الصناعة إلى صناعة استخراجية و **تحويلية**.

⑧ (تحويل المواد الخام إلى منتجات صالحة للاستخدام) تشير هذه العبارة إلى الصناعة **التحويلية**

⑨ يدخل الحديد في الصناعات الثقيلة والمنشآت و **الكباري**.

السؤال الثالث / اكتب كلمة (صواب) أمام العبارة الصحيحة وكلمة (خطأ) أمام العبارة غير الصحيحة

① يفتقر الوطن العربي للمقومات اللازمة للصناعة (X)

② تعد السودان ثاني الدول العربية إنتاجا للذهب (X)

③ تحتل مصر المرتبة الأولى في إنتاج الحديد (X)

④ يستخدم خام الفوسفات في صناعة الأسمدة والمبيدات (✓)

- (X) ⑤ تسهم الصناعة بنحو نصف الدخل القومي للوطن العربي
- (X) ⑥ تعد الطاقة الشمسية وطاقة الرياح والبتروك من مصادر الطاقة النظيفة
- (✓) ⑦ اتجهت الدول العربية إلى إنشاء المدن الصناعية الذكية
- (✓) ⑧ غاز الهيدروجين الأخضر من مصادر الطاقة المتجددة
- (✓) ⑨ تعمل مصر على التوسع في الصناعة الخضراء
- (✓) ⑩ تكرير البترول يعد من الصناعات التحويلية
- (X) ⑪ يعتمد الوطن العربي على الصناعات التحويلية
- (✓) ⑫ تحتفل بعض الدول بعيد العمال في الأول من مايو كل عام

السؤال الرابع اختر الاجابة الصحيحة مما بين القوسين

- ① ينتج الوطن العربي حوالي ربع الإنتاج العالمي من
(الهيدروجين الأخضر - الفحم - الغاز الطبيعي - البترول)
- ② تصنع المبيدات والأسمدة من
(الفضة - الفوسفات - الحديد - النحاس)
- ③ دولة عربية تحتل المرتبة الأولى في إنتاج الحديد
(الصومال - المغرب - السودان - موريتانيا)
- ④ ينتج الوطن العربي من البترول أكثر من الإنتاج العالمي
(نصف - ثلث - ربع - عشر)
- ⑤ يدخل الحديد في صناعة
(أسلاك التليفون - المبيدات الحشرية - مواد الطلاء - الكباري والمنشآت)
- ⑥ إحدى المقومات الطبيعية لقيام الصناعة
(الأيدي العاملة - مصادر الطاقة - شبكات النقل - رأس المال)
- ⑦ مصر تعد الدولة الأولى عربيا في صناعة
(الحديد والصلب - البلاستيك - السيارات - الطائرات)
- ⑧ تحتل مصر المركز الثاني عربيا في إنتاج معدن
(الألومنيوم - الذهب - الحديد - الفوسفات)

السؤال الخامس / أجب عما يأتي؟

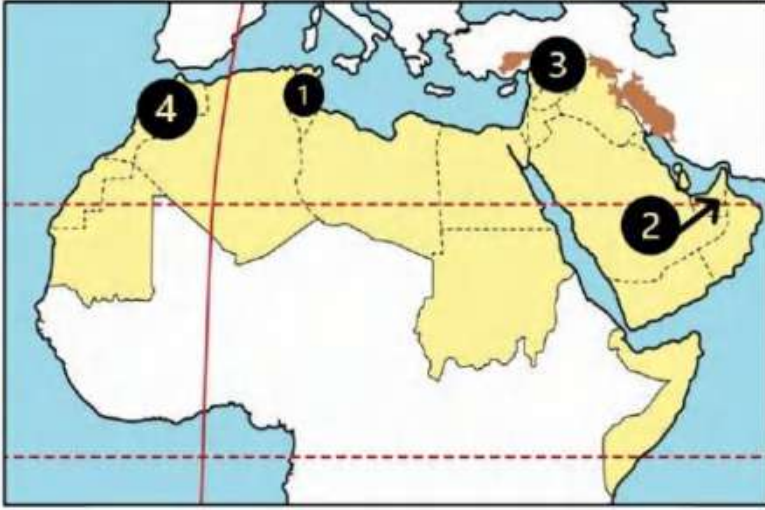
- ① بم تفسر // أهمية الصناعة في الوطن العربي؟
توفر فرص عمل... وتساهم بثالث الدخل القومي للوطن العربي
- ② بم تفسر // الأهمية الاقتصادية للذهب؟
يدخل في صناعة الحلبي ويستخدم في علاج بعض الأمراض
- ③ بم تفسر // الأهمية الاقتصادية لخام الفوسفات؟
يدخل في صناعة الأسمدة والمبيدات
- ④ بم تفسر // الأهمية الاقتصادية للحديد؟
يدخل في الصناعات الثقيلة والمنشآت والكباري
- ⑤ بم تفسر // اتجهت الدول العربية إلي الصناعة الخضراء؟
لتقليل التأثير السلبي للصناعة على الصحة والبيئة
- ⑥ أذكر اثنين من // المقومات التي تعتمد عليها الصناعة؟
المواد الخام / مصادر الطاقة
الأيدي العاملة / رأس المال / وسائل النقل والمواصلات / السوق
- ⑦ أذكر اثنين من // المشكلات التي يعاني منها الوطن العربي في مجالي التعدين والصناعة؟
استيراد الآلات والمعدات من الخارج
الاعتماد على الصناعات الاستخراجية
بعد مناطق الإنتاج عن مناطق الاستهلاك

شحتو

الدرس (4) السياحة في وطننا العربي

الوحدة
الثالثة

السؤال الأول / لاحظ الخريطة ثم أجب



- ① دولة بها سياحة ثقافية هي ... **تونس**...
- ② دولة تشتهر بسياحة التسوق .. **الإمارات**..
- ③ دولة تقع بها آثار مدينة تدمر ... **سوريا**...
- ④ دولة عربية بها سياحة ترفيهية هي ... **المغرب**...

السؤال الثاني / أكمل العبارات التالية بكلمات مناسبة

- ① يقع الوطن العربي وسط قارات العالم **القديم**...
- ② يتمتع الوطن العربي بمناخ معتدل في فصل **الشتاء**..
- ③ زيارة عيون موسى بمصر أحد أشكال السياحة .. **العلاجية**..
- ④ إحدى مناطق السياحة الثقافية مدينة بابل في **العراق**...
- ⑤ أول عاصمة للسياحة العربية هي مدينة **الإسكندرية**
- ⑥ من مواقع السياحة الثقافية في الوطن العربي **تدمر**..... في سوريا
- ⑦ تقع عين معين في دولة .. **الأردن**.....
- ⑧ حضور كأس العالم لكرة القدم في قطر ٢٠٢٢ يعد سياحة **رياضية**..
- ⑨ قيامك برحلة نيلية في أسوان تعتبر سياحة **ترفيهية**..

السؤال الثالث / اكتب كلمة (صواب) أمام العبارة الصحيحة وكلمة (خطأ) أمام العبارة غير الصحيحة

- ① يتمتع الوطن العربي بكافة مقومات السياحة (✓)
- ② تنوع المناطق السياحية والتراثية من مقومات السياحة في الوطن العربي (✓)
- ③ يعاني الوطن العربي من قلة جودة شبكة النقل والمواصلات (✗)
- ④ زيارتك لآثار مدينة تدمر بسوريا من السياحة الثقافية (✓)

- (X) ⑤ الذهاب لمعرض القاهرة الدولي للكتاب يعد سياحة ترفيهية
- (X) ⑥ تسهم السياحة في زيادة نسبة البطالة في الوطن العربي
- (✓) ⑦ زيارة المراكز التجارية في دبي تعد سياحة تسوق
- (✓) ⑧ تبذل الدول العربية جهودا لتحقيق السياحة المستدامة
- (X) ⑨ تتضمن السياحة البيئية زيارة بعض الأماكن للعلاج والاستشفاء
- (✓) ⑩ زيارة المسجد الحرام تعد سياحة دينية
- (X) ⑪ زيارة دير سانت كاترين في فلسطين تعد سياحة دينية
- (✓) ⑫ زيارتك لشواطئ المغرب تعد من السياحة الترفيهية

السؤال الرابع / اختر الاجابة الصحيحة مما بين القوسين

- ① زيارة الشواطئ في مصر ولبنان تعد سياحة
(ثقافية - ترفيهية - بيئية - دينية)
- ② مدينة مصرية تم اختيارها أول عاصمة للسياحة العربية
(الإسكندرية - شرم الشيخ - الغردقة - مرسى مطروح)
- ③ من أمثلة السياحة الرياضية حضور كأس العالم لكرة القدم ٢٠٢٢ في دولة
(مصر - تونس - قطر - موريتانيا)
- ④ أحد أماكن السياحة الدينية في فلسطين
(دير سانت كاترين - كنيسة القيامة - الكعبة المشرفة - الجامع الأزهر الشريف)
- ⑤ يقوم السائح بزيارة المواقع الأثرية في القيروان بدولة
(مصر - العراق - سوريا - تونس)
- ⑥ تقوم السياحة البيئية على زيارة المناطق
(الزراعية - الساحلية - الصحراوية - النهرية)
- ⑦ دولة عربية توجد بها المدينة البيئية الأولى في العالم هي
(العراق - الكويت - المغرب - الإمارات)
- ⑧ حصلت دولة الأردن عام ٢٠٢٠ في مجال تحقيق السياحة المستدامة المركز
(الأولى - الثانية - الثالثة - الرابعة)

- 9 زيارة مصر لمشاهدة كأس الأمم الأفريقية لكرة اليد تعد سياحة
- (علاجية - ترفيهية - ثقافية - رياضية)
- 10 يهدف السائح إلى زيارة بعض الأماكن للعلاج والاستشفاء مثل زيارة في دولة الأردن
- (عيون موسى - عين ماعين - واحة سيوة - بحيرة عسل)
- 11 تستطيع زيارة مسار العائلة المقدسة في
- (مصر - تونس - المغرب - الأردن)

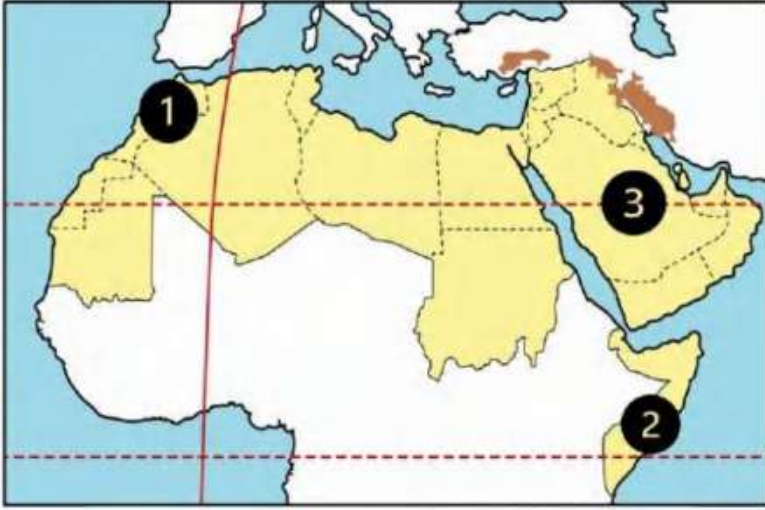
السؤال الخامس / أجب عما يأتي؟

- 1 بم تفسر // الأهمية الاقتصادية للسياحة في الوطن العربي ؟
..... توفر فرص عمل // توفر العملات الأجنبية // تساعد على التبادل الثقافي
- 2 بم تفسر // تحرض الدول العربية على دعم السياحة المستدامة ؟
..... لتقليل التأثير السلبي للسياحة على البيئة
- 3 بم تفسر // تعد مدينة (مصدر) بدولة الإمارات المدينة البيئية الأولى في العالم ؟
لأنها تنتج 100% طاقة متجددة وتستخدم مياه الصرف الصحي بعد تدويرها لري
- 4 بم تفسر // قيام السياحة العلاجية في مصر ؟
بسبب وجود العيون الكبريتية في سيوة وعيون موسى
- 5 بم تفسر // تتعد مزارات السياحة الدينية في وطننا العربي ؟
بسبب وجود الأماكن المقدسة مثل المسجد الحرام بالسعودية والمسجد الأقصى وكنيسة القيامة في فلسطين
- 6 بم تفسر // ازدهار السياحة في الوطن العربي ؟
بسبب توافر مقومات السياحة مثل الموقع الجغرافي الفريد والمناخ المعتدل شتاء
- 7 ما النتائج المترتبة على // وجود عيون المياه الكبريتية في الوطن العربي ؟
أدى إلى قيام السياحة العلاجية في الوطن العربي
- 8 ما النتائج المترتبة على // وجود المحميات الطبيعية والمناطق الصحراوية في الوطن العربي
أدى إلى قيام السياحة البيئية في الوطن العربي

الدرس (5) التجارة في وطننا العربي

الوحدة
الثالثة

السؤال الأول / لاحظ الخريطة ثم أجب



- ① دولة مشتركة في اتفاقية اغادير واتحاد دول المغرب العربي... **المغرب**...
- ② دولة غير منضمة إلى أي اتحاد تجاري. **الصومال**.
- ③ دولة منضمة لمجلس التعاون لدول الخليج العربي. **السعودية**.

السؤال الثاني / أكمل العبارات التالية بكلمات مناسبة

- ① الميزان التجاري هو الفرق بين قيمة **الصادرات**... و... **الواردات**.
- ② ساهمت التجارة في عصر الدولة الإسلامية على نشر الإسلام و.. **بناء الدولة الإسلامية**
- ③ تنقسم التجارة العربية إلى نوعين تجارة **بيئية عربية** و تجارة **دولية أو خارجية**
- ④ اتسم التجار المسلمون بـ **الأخلاق الحميدة**
- ⑤ من أسباب ضعف التجارة البيئية العربية التشابه بين... **السلع**... و... **الخدمات**
- ⑥ الصادرات والواردات بين الدول العربية يقصد بها التجارة **البيئية العربية**
- ⑦ تستحوذ كل من الإمارات والسعودية وعمان على ٩٠٪ صادرات دولة... **البحرين**...
- ⑧ أولي صادرات الوطن العربي... **الوقود والمعادن**
- ⑨ ظهرت التجارة الإلكترونية نتيجة... **التطور التكنولوجي**

السؤال الثالث / اكتب كلمة (صواب) أمام العبارة الصحيحة وكلمة (خطأ) أمام العبارة غير الصحيحة

- ① بدأت التجارة في شبه الجزيرة العربية بعد ظهور الإسلام (X)
- ② اتسم التجار المسلمون بالأخلاق الحميدة (✓)
- ③ من المراكز التجارية الإسلامية قديماً القاهرة (X)
- ④ التجارة بين مصر والأردن تعد تجارة خارجية (X)

- (✓) ⑤ تسهم التجارة في تعزيز العلاقات بين الدول
- (✗) ⑥ إذا زادت الصادرات عن الواردات يكون الميزان التجاري في حالة عجز
- (✓) ⑦ يسعى الوطن العربي إلى زيادة منصات التجارة الإلكترونية
- (✓) ⑧ من أسباب ضعف التجارة البينية العربية وجود حواجز جمركية

السؤال الرابع اختر الاجابة الصحيحة مما بين القوسين

- ① أولى صادرات الوطن العربي
(المنتجات الصناعية - الوقود والمعادن - السلع الزراعية - المعدات الطبية)
- ② ثاني واردات الوطن العربي
(المعدات الثقيلة - المنتجات الصناعية - المنتجات اليدوية - السلع الزراعية)
- ③ توفر التجارة العربية العملات
(العربية - الأجنبية - المحلية - الإقليمية)
- ④ تسهم التجارة في تحسين
(الميزان التجاري - السلع الأجنبية - الخدمات المحلية - الصناعة العربية)
- ⑤ تبادل السلع والخدمات باستخدام الإنترنت يسمى
(مقايضة - تجارة إلكترونية - تجارة خارجية - تجارة بينية)
- ⑥ ثالث صادرات الوطن العربي
(المنتجات الصناعية - السلع الزراعية - الوقود - المعادن)
- ⑦ أي من الدول التالية تشترك في منطقة التجارة الحرة العربية
(جيبوتي - الصومال - السودان - موريتانيا)
- ⑧ يعد اختراق خصوصية العميل وسرقة البيانات في التجارة الإلكترونية من
(إيجابياتها - سلبياتها - أهميتها - أسبابها)
- ⑨ يوجد مقر المنظمة العربية للسياحة في دولة
(الإمارات - سلطنة عمان - المملكة العربية السعودية - جزر القمر)
- ⑩ أي من الدول الآتية يوجد بها مقر المنظمة العربية للتنمية الزراعية
(مصر - ليبيا - الجزائر - السودان)

السؤال الخامس / أجب عما يأتي؟

- ① بم تفسر // أهمية التجارة في الوطن العربي ؟
توفر فرص عمل // توفر العملات الأجنبية // تعزيز العلاقات بين الدول // ضبط الميزان التجاري
- ② بم تفسر // أهمية التجارة في الدولة الإسلامية ؟
ساعدت على نشر الإسلام وبناء الدولة الإسلامية
- ③ بم تفسر // ظهور التجارة الإلكترونية ؟
نتيجة التطور التكنولوجي
- ④ بم تفسر // أهمية التجارة الإلكترونية ؟
خفض أسعار السلع والخدمات // الشراء على نطاق أوسع للشركات والأفراد
- ⑤ بم تفسر // ضعف التجارة البينية العربية ؟
بسبب التشابه الكبير بين السلع والخدمات
عدم تنوع الصادرات العربية // وجود حواجز جمركية // ضعف التكنولوجيا
- ⑥ ما النتائج المترتبة على // التشابه الكبير بين السلع والخدمات التي تنتجها الدول العربية ؟
أدى إلى ضعف التجارة البينية العربية
- ⑦ ما النتائج المترتبة على // وجود حواجز جمركية بين الدول العربية ؟
أدى إلى ضعف التجارة البينية العربية

مذكرتي
شحتو