

# السلطان هجرس

في الدراسات الاجتماعية

مستر / محمد هجرس

01505403493

مستر / محمد فتحي

01021811121





ما المقصود ب.....؟

|  |                     |
|--|---------------------|
| مجموعة من الأفراد ينتمون إلى أصل واحد  | قبيلة               |
| الذين هاجروا من مكة إلى المدينة.   | المهاجرون           |
| سكان المدينة الذين نصرُوا الرسول ﷺ ودعوته.   | الأنصار             |
| هم الذين رفضوا دفع الزكاة، وادعى البعض منهم النبوة مثل مسيلمة الكذاب.  | المرتدون            |
| جبال نشأت نتيجة لحركات باطنية تعرضت لها الأرض، مثل: جبال أطلس - جبال كردستان و زاغروس وعمان.   | الجبال الالتوائية   |
| جبال نشأت نتيجة لحدوث انكسار في القشرة الأرضية، مثل: جبال البحر الأحمر - سلاسل جبال الحجاز وعسير ومرتفعات اليمن.                                   | الجبال الانكسارية   |
| منطقة جغرافية من سطح الأرض تتسم بخصائص مناخية تميزها عن غيرها.   | الإقليم المناخي     |
| نقص كمية الأمطار في بعض السنوات بما لا يسمح بالزراعة أو نمو الحشائش.   | الجفاف              |
| تناقص قدرة الأراضي الزراعية على الإنتاج.   | التصحّر             |
| هي الصناعة التي تتمثل في استخراج المعادن ومصادر الطاقة.  | صناعات استخراجية    |
| صناعة يتم من خلالها تحويل المواد الخام لتصبح منتجات صالحة للاستخدام.   | صناعات تحويلية      |
| هي الصناعة التي تعتمد على الاستثمار الأمثل للموارد المتجددة، والحد من المخلفات وإعادة التدوير للتقليل من التأثير السلبي للصناعة على الصحة والبيئة. | الصناعة الخضراء     |
| تبادل السلع والخدمات باستخدام شبكة المعلومات الدولية (الإنترنت)  | التجارة الإلكترونية |
| الصادرات والواردات من السلع والخدمات بين الدول العربية.  | تجارة بينية عربية   |

|   |                             |
|---|-----------------------------|
| سياحة تشمل زيارة المواقع الأثرية والتراثية.                               | السياحة الثقافية            |
| سياحة تتمثل في زيارة الشواطئ والرحلات النيلية.                            | السياحة الترفيهية           |
| سياحة تتمثل في زيارة الأماكن المقدسة.                                     | السياحة الدينية             |
| سياحة تتمثل في زيارة بعض الأماكن بهدف الاستشفاء والعلاج.                  | السياحة العلاجية            |
| سياحة تتمثل في حضور المؤتمرات والمعارض الدولية.                           | سياحة المؤتمرات<br>والمعارض |
| سياحة تتضمن سياحة السفارى وزيارة المحميات الطبيعية<br>والمناطق الصحراوية. | السياحة البيئية             |
| سياحة تتمثل في حضور المسابقات الرياضية المختلفة.                          | السياحة الرياضية            |

بم تفسر.....؟

### الأهمية الاقتصادية لموقع الوطن العربي

يشرف على مسطحات مائية مهمة مثل : البحر الأحمر والبحر المتوسط والخليج العربي -  
يتحكم في ممرات بحرية مهمة وهي (مضيق هرمز، ومضيق باب المندب ، ومضيق  
جبل طارق بالإضافة لقناة السويس ) - تحكمه في أهم الطرق التجارية العالمية.

### تحكم الوطن العربي في أهم طرق التجارة العالمية

بسبب إشرافه على مسطحات مائية مهمة مثل : البحر الأحمر والبحر المتوسط  
والخليج العربي - تحكمه في ممرات بحرية مهمة وهي (مضيق هرمز، ومضيق  
باب المندب، ومضيق جبل طارق، بالإضافة لقناة السويس).

### لوطننا العربي أهمية دينية كبرى

لأنه موطن الديانات السماوية (الإسلامية ، اليهودية، المسيحية ) - يضم أماكن  
مقدسة ذات أهمية دينية كبرى، مثل: الكعبة المشرفة في السعودية - كنيسة  
القيامة في فلسطين - الأزهر الشريف في مصر.

الموقع الوطن العربي أهمية حضارية

لأنه قامت أقدم الحضارات في العالم على أرضه، مثل الحضارة المصرية القديمة وحضارة بلاد العراق القديمة.

ساد النظام القبلي في شبه الجزيرة العربية قبل الإسلام

لأنها كانت عبارة عن قبائل متفرقة وكان لكل قبيلة شيخ يحكمها.

شهرة مكة تجارياً

بسبب تنظيم رحلات التجارة حيث رحلة الشتاء إلى اليمن ورحلة الصيف إلى الشام.

سمى العام الذي ولد فيه الرسول ﷺ بعام الفيل.

لأنه العام الذي حاول فيه أبرهة الحبشي هدم الكعبة بجيش كبير لكن الله حفظها.

عمل الرسول ﷺ عندما كان في بيت عمه في رعى الأغنام

لأنه لم يرغب أن يكون عبئاً على عمه .

كان الرسول ﷺ يخلو بنفسه في غار حراء

ليفكر ويتأمل في الكون وقدرة الله سبحانه وتعالى.

بدء الرسول ﷺ بالدعوة إلى الإسلام سرا

لتجنب أذى قريش .

رفض قريش لدعوة الإسلام

خوفاً على مكانتها بين القبائل.

هجرة المسلمين إلى الحبشة

لأن فيها ملكاً عادلاً يلقب بالنجاشي

أمر الرسول ﷺ أصحابه بالهجرة إلى يثرب  
بسبب إيذاء قريش للمسلمين.

اجتماع قريش في دار الندوة.

لمحاولة منع النبي ﷺ من الهجرة.

نجاح خطة هجرة الرسول ﷺ إلى يثرب  
بسبب التخطيط الجيد والسرية التامة.

اهتمام الرسول ﷺ بكتابة صحيفة المدينة.

لتنظيم شئون المسلمين فيما بينهم وتنظيم علاقاتهم بالطوائف الأخرى  
الموجودة في المدينة خاصة اليهود وتحديد ما لهم من حقوق وما عليهم من  
واجبات تجاه الدولة.

عمل الرسول ﷺ على المؤاخاة بين المهاجرين والأنصار  
الإقامة مجتمع متماسك تسوده المحبة والتعاون والإيثار.

قام الرسول ﷺ بعدة غزوات

من أجل: - حماية الدين الإسلامي . - الدفاع عن النفس ضد المشركين.

تحول نصر المسلمين إلى هزيمة في غزوة أحد

بسبب مخالفة الرماة أوامر النبي ﷺ وترك مواقعهم فوق الجبل ونزولهم لجمع  
الغنائم.

اختيار أبي بكر الصديق أول خليفة للمسلمين .

لأنه أول من آمن من الرجال - شارك الرسول ﷺ في جميع غزواته - جعله  
الرسول ﷺ إماما للمسلمين في الصلاة أثناء مرضه.

إرسال أبي بكر الصديق جيش أسامة بن زيد إلى الشام

لمحاربة الروم وتأمين حدود الدولة الإسلامية.

إرسال أبي بكر الصديق الجيوش الإسلامية خارج شبه الجزيرة العربية

لنشر الإسلام وتأمين حدود الدولة الإسلامية.

أمر الخليفة أبو بكر الصديق زيد بن ثابت بجمع القرآن.

بسبب استشهاد عدد كبير من حفظة القرآن في حروب المرتدين.

أمر الخليفة عثمان بن عفان بكتابة القرآن في مصحف واحد وتوزيعه على البلاد

لتتوحد قراءة القرآن.

قيام الخليفة عثمان بن عفان بالعديد من الفتوحات الإسلامية

لتأمين حدود الدولة الإسلامية.

إنشاء الخليفة عثمان بن عفان أسطولا بحريا إسلاميا

لتأمين سواحل مصر والشام من هجمات الروم.

قيام الخليفة علي بن أبي طالب بتنظيم الشرطة

لحفاظ على أمن وسلامة المواطنين.

نقل الخليفة علي بن أبي طالب المقر الخلافة إلى الكوفة في العراق.

ليسهل عليه الانتقال بين أرجاء الدولة الإسلامية خاصة بعد اتساعها.

قيام الزراعة في الواحات

بسبب وجود المياه الجوفية.

أهمية الأودية الجافة في الوطن العربي

تستخدم كطرق للمواصلات أو للحصول على المياه الجوفية.

تكون السهول الفيضية في الوطن العربي.

بسبب ترسب المواد العالقة بالمياه التي كونتها الأنهار.

نشأة الأودية الجافة في الوطن العربي

بسبب التعرية المائية.

تباين درجات الحرارة بين دول الوطن العربي

بسبب الموقع الفلكي للوطن العربي - القرب أو البعد عن المسطحات المائية -  
مظاهر السطح .

ارتفاع درجة الحرارة بالمناطق الجنوبية للوطن العربي

بسبب مرور دائرة الاستواء بجنوب الوطن العربي.

انخفاض درجات الحرارة في الأجزاء الشمالية من الوطن العربي

بسبب القرب من المسطحات المائية والابتعاد عن دائرة الاستواء كلما اتجهنا  
شمالاً.

أهمية المسطحات المائية في الوطن العربي

تجعل المناطق القريبة منها أكثر اعتدالا في درجة الحرارة من المناطق الداخلية  
كما أنها تلطف درجة الحرارة - وتزيد من فرص سقوط الأمطار.

قيام دول الوطن العربي بإنشاء المحميات الطبيعية.

بسبب تعرض الحياة البرية لمخاطر، بسبب تدهور النباتات الطبيعية وانقراض  
أنواع عديدة من الحيوانات البرية.

يقبل تأثير المسطحات المائية في الوطن العربي

بسبب ضيق مساحتها - عدم توغل تأثيرها إلى الداخل لوجود صحار.

أهمية المحميات الطبيعية

تساعد في الحفاظ على الحياة البرية - تنشيط السياحة - تساعد في تحقيق التوازن البيئي والحد من التلوث تحقيقا للتنمية المستدامة.

الأهمية الاقتصادية للمحميات الطبيعية

تساعد على تنشيط السياحة.

تعانى معظم الدول العربية من ندرة المياه العذبة

بسبب تزايد معدلات استهلاك المياه

تزايد معدلات استهلاك المياه في الوطن العربي

بسبب النمو السكاني المتزايد - التوسع المستمر في الزراعة.

حدوث التصحر في الوطن العربي.

بسبب : استخدام طرق الري التقليدية - الإفراط في استخدام الأسمدة الكيماوية والمبيدات الحشرية - زحف الكثبان الرملية - تناقص مخزون المياه الجوفية - التوسع العمراني - الرعي الجائر للحيوانات وإزالة الغابات.

إنشاء المدن الذكية في دول وطننا العربي

لمواجهة المشكلات البيئية وتقليل انبعاثات الغازات الدفينة.

قيام الزراعة في الأجزاء الشمالية للوطن العربي.

بسبب سقوط الأمطار.

أهمية التربة الخصبة بالوطن العربي  
ساعدت على قيام الزراعة.

تعد مصر أولى الدول العربية في تربية الجاموس.  
لوجود البيئة الزراعية الفيضية المناسبة لتربيته.

أهمية الزراعة في الوطن العربي.

توفر المنتجات الغذائية للسكان وكذلك للحيوانات - توفر فرص عمل لسكان  
وطنا العربي - توفر المواد الخام الزراعية اللازمة للصناعة - مصدر للدخل القومي  
لبعض الدول العربية.

تتعرض الزراعة في الوطن العربي للعديد من المشكلات.

حيث تواجه الزراعة مشكلة ندرة المياه العذبة - تذبذب كمية الأمطار - التصحر -  
زحف الرمال - الجفاف.

لجأت بعض الدول العربية لإنشاء السدود والخزانات وتحلية مياه البحر.

لحل المشكلات التي تواجه الزراعة وتحقيق التنمية الزراعية.

أهمية الثروة الحيوانية في الوطن العربي.

توفر البروتين الحيواني - المواد الخام الحيوانية اللازمة للصناعة - تستخدم بعض  
الحيوانات في الريف بأعمال الحقل والنقل.

تهتم الدول العربية بتربية الدواجن

لسد العجز من اللحوم الحمراء.

تعد المغرب أولى الدول العربية في إنتاج الأسماك.

نظرا لطول سواحلها المغرب على البحر المتوسط والمحيط الأطلسي.

أهمية الثروة السمكية في الوطن العربي

تسهم في سد العجز من البروتين الحيواني.

الأهمية الاقتصادية لمعدن الذهب

يستخدم في صناعة الحلى - تستخدم ذرات الذهب في علاج بعض الأمراض.

الأهمية الاقتصادية لمعدن الحديد.

يستخدم في كثير من الصناعات الثقيلة والمنشآت والكبارى.

الأهمية الاقتصادية لخام الفوسفات

يستخدم في صناعة الأسمدة والمبيدات.

تعد الصناعة من أهم الأنشطة الاقتصادية للوطن العربي.

لأنها : تسهم بثالث دخله القومي - توفر فرص عمل حيث يعمل فيها نحو 22% من حجم القوة العاملة في الوطن العربي.

الأهمية الاقتصادية للسياحة في الوطن العربي.

تساعد على التبادل الثقافي - توفر العملات الأجنبية - توفر فرص عمل في السياحة والقطاعات ذات الصلة ، مثل : شركات الطيران.

قيام السياحة العلاجية في مصر.

لزيرة بعض الأماكن بهدف الاستشفاء والعلاج مثل : العيون الكبريتية في سيوة وعيون موسى .

أهمية التجارة حديثا

تسهم التجارة في تعزيز العلاقات بين الدول - تلبية احتياجات السكان من السلع والخدمات - توفير العملات الأجنبية - توفير فرص عمل للسكان.

إنشاء العديد من التجمعات العربية

النهوض بالتجارة البيئية العربية.

ظهور التجارة الإلكترونية

بسبب التطور التكنولوجي.

ما النتائج المترتبة علي

وجود المحميات الطبيعية والمناطق الصحراوية في الوطن العربي

انتشار السياحة البيئية.

التقدم التكنولوجي بالنسبة للتجارة

ظهور التجارة الإلكترونية.

التعرية الهوائية بالنسبة للوطن العربي

نشأة الكثبان الرملية.

مرور دائرة الاستواء بجنوب الوطن العربي

أدى إلى ارتفاع الحرارة بالمناطق الجنوبية من الوطن العربي.

الموقع الفلكي للوطن العربي

أدى إلى ارتفاع الحرارة بالمناطق الجنوبية من الوطن العربي - انخفاض الحرارة كلما اتجهنا شمالاً.

تعامد الشمس على مدار السرطان صيفا في الوطن العربي.

ارتفاع درجات الحرارة بشكل عام في أرجاء وطننا العربي - الجفاف فيما عدا مرتفعات اليمن ومرتفعات عسير وأجزاء من الصومال وجنوب موريتانيا.

تعتمد الشمس على مدار الجدى شتاء في الوطن العربي

أدى إلى أن تكون الحرارة معتدلة في معظم أجزاء الوطن العربي عدا بعض الأجزاء الشمالية والمناطق الجبلية التي تكون أشد برودة والشتاء ممطر خاصة في المناطق المطلة على البحر المتوسط.

ضيق المسطحات المائية في الوطن العربي

أدى إلى قلة تأثير المسطحات المائية بشكل عام في الوطن العربي.

تنوع الأقاليم المناخية للوطن العربي

أدى إلى تنوع النباتات الطبيعية والحيوانات البرية.

تعرض الصومال لأكبر موجة جفاف في الوطن العربي.

نقص الغذاء وحدوث مجاعة لأكثر من مليون شخص.

النمو السكاني المتزايد في وطننا العربي.

أدى إلى تزايد معدلات استهلاك المياه وحدوث مشكلة ندرة المياه العذبة.

زحف الكثبان الرملية وتناقص المياه الجوفية في وطننا العربي.

حدوث مشكلة التصحر.

تنوع المناخ بالوطن العربي

تنوع المحاصيل الزراعية.

توسع الدول العربية في الصناعة الخضراء

الاستثمار الأمثل للموارد المتجددة والحد من المخلفات.

وجود عيون المياه الكبريتية فى سيوة وعيون موسى

انتشار السياحة العلاجية.

تركز التبادل العربي مع دول الجوار

ضعف التجارة البينية العربية.

دليل علي صحة العبارات الآتية

أغلب مساحة الوطن العربي تقع في الجناح الإفريقي.

يضم الجناح الإفريقي عدد 10 دول من دول الوطن العربي وتمثل 72% من مساحة الوطن العربي.

ساد النظام القبلي في شبه الجزيرة العربية قبل ظهور الإسلام.

لأنها كانت عبارة عن قبائل متفرقة ولكل قبيلة شيخ يحكمها.

واجه الرسول ﷺ قريشا بالأساليب السلمية والحكمة

حيث حث الرسول ﷺ المسلمين على الصبر والتحمل وأمر أصحابه بالهجرة إلى الحبشة.

تعددت أدوار المسجد في الإسلام

كان المسجد : مقرا للحكم وإدارة شئون الدولة الداخلية والخارجية ومركزا للعبادة وتعليم أصول الدين.

قدم الرسول ﷺ مثلا عظيما في التسامح

حيث عفا عن أهل مكة وأعطاهم الأمان رغم إيذائهم له ولأصحابه وقال لهم : «اذهبوا فأنتم الطلقاء».



اختر الإجابة الصحيحة مما يلي

- 1 أحد المقومات الطبيعية للزراعة بالوطن العربي ....  
(الأيدي العاملة - رأس المال - التربة الخصبة - وسائل النقل)
- 2 تنتشر زراعة الزيتون في دولة .....
- 3 تتوافر كل مصادر المياه العذبة المستخدمة في الزراعة في دولة .....
- 4 تتركز زراعة البن داخل الوطن العربي في دولة .....
- 5 أي من المحاصيل الآتية تعد من الحبوب الغذائية ؟ .....
- 6 يتركز إنتاج محاصيل الألياف في دولة .....
- 7 أولى الدول العربية في تربية الدواجن .....
- 8 ترتبط تربية الجاموس في الوطن العربي بالبيئة .....
- 9 أولى الدول العربية المنتجة للغاز الطبيعي هي .....
- 10 (تبادل السلع والمنتجات عن طريق الإنترنت) تسمى .....
- 11 أي مما يلي من الصناعات الاستخراجية بالوطن العربي ؟ .....
- 12 يصل مضيق جبل طارق بين البحر المتوسط والمحيط .....
- 13 يبلغ عدد الممرات المائية التي يتحكم فيها الوطن العربي .....
- 14 كانت هجرة المسلمين الثانية إلى مدينة .....
- 15 آخر الخلفاء الراشدين هو الخليفة .....
- 16 أرسل أبو بكر الصديق جيش أسامة بن زيد إلى .....
- 17 غزوة انتصر فيها المسلمون على قريش دون قتال .....
- 18 يعاني نحو ..... مساحة الوطن العربي من مشكلة التصحر.
- 19 إقليم مناخي يقع جنوب الوطن العربي .....
- 20 دائرة عرض تمر جنوب الوطن العربي .....



اختر الإجابة الصحيحة مما يلي

- 21 ينتج الوطن العربي من البترول أكثر من ..... الإنتاج العالمي. (نصف - ثلث - ربع - عشر)
- 22 أي مما يلي بعد من معوقات التجارة البيئية؟..... (تنوع الإنتاج - تنوع الصادرات - تطور التكنولوجيا - تشابه الإنتاج)
- 23 أحد أشكال التجارة البينية العربية هو تصدير الموالح من مصر إلى..... (الولايات المتحدة الأمريكية - فرنسا - بريطانيا - الإمارات العربية المتحدة)
- 24 تعتمد الزراعة في الأجزاء الشمالية من الوطن العربي على مياه ..... (الأنهار - التحلية - الأمطار - الجوفية)
- 25 الدولة العربية التي تقع في الجناح الإفريقي هي ..... (العراق - قطر - الجزائر - السعودية)
- 26 من الجبال الالتوائية في الوطن العربي جبال ..... (أطلس - عسير - اليمن - البحر الأحمر)
- 27 تكون بحر الرمال العظيم بسبب ..... (الحركات البركانية - التعرية الهوائية - الحركات الالتوائية - التعرية المائية)
- 28 عفا الرسول (ﷺ) عن أهل مكة بعد ..... (غزوة بدر - فتح مكة - فتح المدينة - صلح الحديبية)
- 29 المشكلة البيئية التي ترتبط بمشكلة الرعي الجائر هي ..... (تملح التربة - التصحر - ندرة المياه العذبة - نقص الغذاء)
- 30 أصغر دول الوطن العربي مساحة ..... (البحرين - تونس - جيبوتي - فلسطين)
- 31 تتأثر الزراعة سلبا في الوطن العربي بسبب ..... (التغير المناخي - تحلية مياه البحر - تدريب الأيدي العاملة - زيادة كمية الأمطار)
- 32 يأتي معظم إنتاج مصر من الأسماك من ..... (البحار - الأنهار - المحيطات - المزارع السمكية)
- 33 لتجنب أذى قريش بدأ الرسول (ﷺ) بالدعوة ..... (العلنية - الجهرية - السرية - العالمية)
- 34 واحة تعد من مناطق التراث العالمي للزراعة ..... (الغرافرة - الكفرة - العين - الداخلة)
- 35 من أعمال الخليفة أبي بكر الصديق ..... (محاربة المرتدين - تنظيم الشرطة - إنشاء ديوان الجند - إنشاء ديوان بيت المال)
- 36 تم إنشاء أسطول بحري لتأمين مصر والشام من هجمات ..... (قريش - الروم - الصليبيين - العرب)
- 37 يحل فصل الشتاء على الوطن العربي عندما تتعامد الشمس على ..... (مدار الجدى - دائرة الاستواء - مدار السرطان - خط جرينتش)
- 37 تعد السعودية أولى الدول العربية إنتاجا ل ..... (البترول - الغاز الطبيعي - الألومنيوم - الفوسفات)
- 39 من أسباب ضعف التجارة البيئية العربية..... (رفع الحواجز الجمركية - التشابه الكبير بين المنتجات العربية - زيادة منصات التجارة الإلكترونية - إنشاء منظمة التجارة الحرة)
- 40 مصر أولى الدول العربية في ..... (استخراج الغاز الطبيعي - صناعة الأسمنت - استخراج الذهب - صناعة الحديد والصلب)



ضع علامة ✓ أمام العبارة الصحيحة ، وعلامة ✗ أمام العبارة غير الصحيحة

- 1 اتجهت بعض الدول العربية لاستصلاح الأراضي الصحراوية
- 2 واحة سيوة من مناطق التراث العالمي الزراعي.
- 3 تعتمد الزراعة في الواحات بالوطن العربي بشكل أساسي على الأمطار الشتوية.
- 4 أدى تنوع مناخ الوطن العربي إلى تنوع المحاصيل الزراعية.
- 5 توجد التربة الفيضية الخصبة على جانبي الأنهار.
- 6 الأيدي العاملة من العوامل الطبيعية لقيام الزراعة.
- 7 يتزايد الطلب على المنتجات الزراعية العربية في الأسواق العالمية.
- 8 تشمل المحاصيل السكرية قصب السكر والأرز.
- 9 تعد السعودية أولى الدول العربية إنتاجاً للتمور.
- 10 تعد الزراعة مصدراً للدخل القومي.
- 11 يكفي إنتاج اللحوم الحمراء سكان الوطن العربي.
- 12 تتنوع مصادر الثروة السمكية بالوطن العربي.
- 13 موريتانيا هي أولى الدول العربية إنتاجاً للذهب.
- 14 يدخل الحديد في الصناعات الثقيلة والمنشآت والكباري.
- 15 دولة الإمارات هي أولى الدول العربية إنتاجاً للفوسفات.
- 16 تستخدم ذرات الذهب لعلاج بعض الأمراض.
- 17 مصر أكبر الدول المنتجة للأسمك من المصايد السمكية الطبيعية.
- 18 زيارة عيون موسى تعد سياحة رياضية.
- 19 ساعدت التجارة على نشر الإسلام.
- 20 كانت جدة أحد أهم المراكز التجارية في عصر الدولة الإسلامية.
- 21 ساد النظام الملكي في شبه الجزيرة العربية قبل الإسلام .
- 22 عمل الرسول (ﷺ) بحرفة الزراعة.
- 23 رفضت قريش الدعوة إلى الإسلام.
- 24 اتفقت قريش على قتل الرسول (ﷺ) ومنعه من الهجرة.
- 25 ظهر نظام الخلافة عند المسلمين بعد وفاة الرسول (ﷺ) .
- 26 عين الخليفة عثمان بن عفان للشرطة لحراسة بيت المال.
- 27 خصص الخليفة علي بن أبي طالب يوماً للنظر في مظالم الناس.
- 28 تزداد كمية الأمطار المتساقطة على المناطق الداخلية للمرتفعات.
- 29 يشغل معظم مساحة الوطن العربي الإقليم الصحراوي.
- 30 يحدث الجفاف نتيجة نقص كمية الأمطار المتساقطة.
- 31 القمح والقطن من المحاصيل السكرية بالوطن العربي.
- 32 تعد دولة مصر أولى الدول العربية في تربية الأبقار.
- 33 واحة العين توجد بدولة السعودية.
- 34 كان لمخالفة المشاة أوامر النبي أثره في هزيمة الجيش في غزوة أحد (ﷺ).
- 35 حرص النبي بعد الهجرة إلى المدينة على المؤاخاة بين المهاجرين واليهود.
- 36 تشرف دولة الإمارات على مضيق هرمز.
- 37 زيادة المساحات الخضراء تسهم في حل مشكلة التغير المناخي.



## اكمل العبارات الآتية

- 1 توجد واحة العين في دولة .....
- 2 تقوم الزراعة على المياه الجوفية في الصحاري العربية داخل .....
- 3 أولى الدول العربية إنتاجا للحبوب الغذائية هي .....
- 4 تتركز زراعة محاصيل الألياف داخل الوطن العربي في دولتي مصر و .....
- 5 تعاني الزراعة في الوطن العربي من مشكلة تذبذب .....
- 6 تعمل الدول العربية على حل المشكلات الزراعية بعدة طرق منها تحلية مياه .....
- 7 تشجع الدول العربية المزارعين على استخدام الأسمدة .....
- 8 أنشأت مصر مزرعة لتربية سلالات عالية الإنتاج من الجاموس غرب محافظة .....
- 9 مصر هي أولى الدول العربية في تربية .....
- 10 أكثر الدول العربية في تربية الإبل هي .....
- 11 توفر الحيوانات المواد الخام اللازمة للصناعة كالألبان واللحوم و .....
- 12 تهتم الدول العربية بتربية الدواجن لسد العجز من .....
- 13 تواجه الثروة السمكية في الوطن العربي مشكلة تلوث .....
- 14 أولى الدول العربية إنتاجا للحديد هي .....
- 15 استخراج المعادن ومصادر الطاقة تعرف بالصناعات .....
- 16 زيارتك لآثار مدينة بابل العراقية هي سياحة .....
- 17 عُقدت بطولة كأس العالم لكرة القدم لعام ٢٠٢٢ م في دولة .....
- 18 هناك نوعان من التجارة في الوطن العربي هما التجارة الخارجية والتجارة .....
- 19 أولى صادرات الوطن العربي الخارجية الوقود و .....
- 20 التجارة التي ظهرت نتيجة التطور التكنولوجي هي .....
- 21 قامت الدولة الإسلامية على عدة أسس منها .....
- 22 أشار على النبي ﷺ بحفر الخندق الصحابي .....
- 23 يؤدي وجود الشعاب المرجانية في البحر الأحمر إلى إعاقة قيام .....
- 24 يحد الوطن العربي من جهة الشمال البحر .....
- 25 تعد الكثبان الرملية من التجمعات الرملية التي تكونت بفعل .....
- 26 تسعى الدول العربية إلى تقليل انبعاثات الغازات الدفيئة من خلال .....
- 27 نزل الوحي على رسول الله ﷺ عندما كان يتعبد في غار .....
- 28 من أعمال الخليفة أبي بكر الصديق .....
- 29 أنشأ الخليفة عمر بن الخطاب بعض الدواوين مثل ديوان .....
- 30 كان النجاشي ملكا عادلا ، لذلك أمر الرسول ﷺ أصحابه بالهجرة إلى .....
- 31 يحل فصل الصيف على الوطن العربي عندما تتعامد الشمس على .....
- 32 يسود معظم الوطن العربي إقليم المناخ .....
- 33 يعد استخراج المعادن ومصادر الطاقة كالبترول من الصناعات .....
- 34 تعد زيارة عين (ماعين) في الأردن من السياحة .....
- 35 أكبر الدول العربية من حيث المساحة دولة .....
- 36 توجد النسبة الكبرى من مساحة الوطن العربي في قارة .....
- 37 يحد الوطن العربي من جهة الشرق خليج .....



بم تفسر.....؟

- 1 الأهمية الاقتصادية لموقع الوطن العربي
- 2 رفض قريش الدعوة للإسلام.
- 3 تنوع النباتات الطبيعية والحيوانات البرية في الوطن العربي.
- 4 أهمية الأودية الجافة في الوطن العربي.
- 5 أهمية المحميات الطبيعية في الوطن العربي.
- 6 أهمية حشائش الإستبس في الوطن العربي.
- 7 اتجهت معظم الدول العربية لاستخدام مصادر طاقة نظيفة وإنشاء مدن ذكية.
- 8 الأهمية الاقتصادية للسياحة في الوطن العربي.
- 9 قيام الزراعة في الأجزاء الشمالية للوطن العربي.
- 10 ضعف التجارة بين الدول العربية.
- 11 الأهمية الحضارية والثقافية للوطن العربي.
- 12 تكون جبال البحر الأحمر.
- 13 حرص النبي (ﷺ) على المؤاخاة بين المهاجرين والأنصار.
- 14 بناء النبي (ﷺ) المسجد في المدينة.
- 15 تتعرض كثير من الدول العربية لخطر الجفاف.
- 16 أهمية الثروة الحيوانية لوطننا العربي.
- 17 محاربة قريش للدعوة الإسلامية.
- 18 نقل مقر الخلافة إلى الكوفة في عهد علي بن أبي طالب.
- 19 كانت الدعوة إلى الإسلام في بدايتها دعوة سرية.
- 20 إصرار الخليفة أبي بكر الصديق على محاربة المرتدين .
- 21 تنوع المحاصيل الزراعية في الوطن العربي.
- 22 ضرورة توافر رأس المال لقيام الزراعة في الوطن العربي.
- 23 انتشار تربية الجاموس في مصر.
- 24 خطورة التغيرات المناخية على الثروة الحيوانية.
- 25 أهمية خام الفوسفات.
- 26 أهمية معدن الذهب.
- 27 تعد الصناعة من أهم الأنشطة الاقتصادية في الوطن العربي.
- 28 ضعف التجارة البينية في الوطن العربي.
- 29 أهمية التجارة للدول العربية.
- 30 أهمية إنشاء المنظمة العربية للتنمية الزراعية.
- 31 تكليف زيد بن ثابت بجمع القرآن الكريم.
- 32 ضعف تأثير المسطحات المائية في الوطن العربي بشكل عام.
- 33 ارتفاع الحرارة بشكل عام في الوطن العربي صيفا.
- 34 تكون الثلوج على مرتفعات لبنان .
- 35 اجتماع زعماء قريش في دار الندوة أثناء الدعوة للإسلام.
- 36 قيام الزراعة في الوطن العربي



## ما النتائج المترتبة على.....؟

- 1 امتداد الوطن العربي بين قارتي إفريقيا وآسيا واقتراه من أوروبا .
- 2 صلح الحديبية عام ٦ هـ .
- 3 استشهاد عدد كبير من حفظة القرآن الكريم في حرب المرتدين.
- 4 تنوع المناخ في الوطن العربي.
- 5 تحكم الوطن العربي في ممرات بحرية مهمة.
- 6 وجود الواحات في الصحارى العربية.
- 7 عدا قريش للدعوة الإسلامية.
- 8 عقد صلح الحديبية بين المسلمين وقريش .
- 9 المشكلات البيئية التي يعاني منها الوطن العربي.
- 10 ارتداد بعض القبائل العربية عن الإسلام في عهد الخليفة أبي بكر الصديق .
- 11 ظهور الإسلام في شبه الجزيرة العربية .
- 12 سرية الدعوة الإسلامية في بدايتها .
- 13 إنشاء أول أسطول بحري في الإسلام.
- 14 اهتمام الخليفة على بن أبي طالب بتنظيم الشرطة .
- 15 تعامد الشمس على مدار السرطان في الوطن العربي.
- 16 زراعة أنواع مميزة من النخيل في واحة سيوة.
- 17 تتعدد بالوطن العربي أماكن السياحة العلاجية.
- 18 تعدد مناطق السياحة الثقافية في الوطن العربي.
- 19 تأثير التغير المناخي على الثروة السمكية.
- 20 طول سواحل دول المغرب
- 21 توافر البيئة الزراعية الفيضية في مصر.
- 22 غنى الوطن العربي بالمواد الخام ومصادر الطاقة.
- 23 وجود مناطق استشفاء من الكثير من الأمراض في الوطن العربي.
- 24 التشابه الكبير بين السلع والخدمات التي تنتجها الدول العربية.
- 25 تحكم الوطن العربي في أهم طرق التجارة العالمية.
- 26 الموقع الجغرافي للوطن العربي.
- 27 يشرف الوطن العربي على العديد من المسطحات المائية.
- 28 تعرض الصومال لأكبر موجة جفاف.
- 29 تنوع مظاهر سطح الوطن العربي.
- 30 وجود حواجز جمركية بين الدول العربية .
- 31 تعامد الشمس على مدار الجدى بالنسبة للوطن العربي.

دل على صحة العبارات الآتية:

- 1 تسامح النبي (ﷺ) مع أهل مكة.
- 2 تنوع مصادر الحصول على الأسماك في الوطن العربي.
- 3 محاربة قريش للدعوة الإسلامية بكافة الطرق.
- 4 اهتمام الدول العربية بالتنمية الزراعية.
- 5 اهتمام الخليفة على بن أبي طالب بأمن وسلامة المواطنين .
- 6 يؤثر المناخ على الأنشطة البشرية مثل الطيران.
- 7 سيادة النظام القبلي في شبه الجزيرة العربية.
- 8 للدول العربية جهود في دعم التجارة الإلكترونية.
- 9 تعدد أنواع السياحة العربية.
- 10 تنوع مصادر المياه العذبة في الوطن العربي.
- 11 تواجه الزراعة بالوطن العربي عددا من المشكلات.
- 12 تتنوع مصائد الأسماك في الوطن العربي.
- 13 تسعى الدول العربية لدعم التجارة الإلكترونية.
- 14 تتعدد مقومات السياحة في الوطن العربي.
- 15 تتنوع جهود الدول العربية للنهوض بالتجارة البينية.
- 16 تواجه التجارة الإلكترونية عددا من المشكلات.
- 17 قامت على أرض الوطن العربي العديد من الحضارات القديمة.
- 18 يطل الوطن العربي على العديد من المسطحات المائية.
- 19 تعددت أسس بناء الدولة الإسلامية في المدينة.

قارن بين

- 1 قيام الزراعة بالوطن العربي، من حيث  
المقومات الطبيعية  المقومات البشرية 
- 2 الثروة الحيوانية - الثروة السمكية، من حيث  
أهم المشكلات التي تواجهها. 
- 3 السياحة الدينية - السياحة الترفيهية، من حيث  
التعريف مع ذكر مثال لكل منهما. 
- 4 التجارة الدولية - التجارة البينية في الوطن العربي، من حيث  
التعريف 
- 5 مدينة الإسكندرية بمصر - مدينة الرياض بالسعودية، من حيث  
الأحوال المناخية لكل منهما. 
- 6 الذهب والفوسفات، من حيث  
أولى الدول المنتجة  صناعات يدخل فيها 



## صوب ما تحته خط

- 1 كان نظام الحكم السائد في شبه الجزيرة العربية النظام الملكي.
- 2 نزلت رسالة الإسلام على الرسول ﷺ في غار ثور.
- 3 استمرت الدعوة الجهرية إلى الإسلام ثلاث سنوات.
- 4 ولد الرسول ﷺ في يثرب.
- 5 درجات الحرارة وكمية الأمطار تتشابه بين دول الوطن العربي.
- 6 المسطحات المائية يزداد تأثيرها في الوطن العربي.
- 7 يوجد بالوطن العربي خمسة أقاليم مناخية كبرى .

## اكتب ما تشير إليه العبارات الآتية:



- 1 زوجة الرسول ﷺ أثناء بداية نزول الوحي.
- 2 نظام أنشأه الخليفة عمر بن الخطاب الله الإدارة بيت المال والجند.
- 3 نظام أنشئ في عهد الخليفة على بن أبي طالب بهدف الحفاظ على أمن وسلامة المواطنين.
- 4 وثيقة وضعها الرسول ﷺ لتنظيم شئون المسلمين في المدينة.
- 5 أولى غزوات المسلمين ضد قريش.
- 6 إقليم مناخي يمتد من الخليج العربي شرقاً حتى ساحل موريتانيا غرباً.
- 8 مورد مائي يوجد بالصحراء وتقوم عليه الزراعة.
- 9 غزوة خالف فيها الرماة أوامر النبي (ﷺ).
- 10 الخليفة الذي حارب المرتدين.
- 11 أعلى قمة جبلية في الوطن العربي.
- 12 مدار تتعامد عليه الشمس ليصبح الوطن العربي في فصل الشتاء.
- 13 إقليم مناخي تنمو به حشائش الإستبس وترعى فيه الأغنام والماعز.
- 14 دولة عربية تعاني من أكبر موجة جفاف وتسببت في حدوث المجاعات بها.
- 15 تبادل السلع والخدمات باستخدام شبكة المعلومات.
- 16 تناقص قدرة الأراضي الزراعية على الإنتاج.
- 17 غزوة تحول فيها نصر المسلمين إلى هزيمة.
- 18 تقويم بدأ من هجرة الرسول من مكة إلى المدينة.
- 19 الصادرات والواردات من السلع والخدمات بين الدول العربية.

## ما المقصود بكل مما يلي؟



- 1 الصناعة التحويلية.
- 2 التجارة الإلكترونية.

## ما العلاقة بين كل من؟

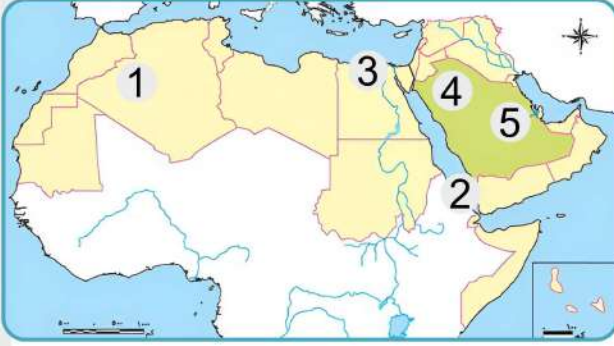


- 1 الدعوة السرية ونشر الإسلام.
- 2 الأمن الغذائي والثروة الحيوانية.
- 3 التغير المناخي والثروة الحيوانية.
- 4 المسطحات المائية والمناخ.
- 5 المواد الخام والصناعة.

# الاختبارات النهائية



## الاختبار الاول



أمامك خريطة للوطن العربي وضح ما تشير إليه الأرقام التي عليها

- 1 دولة .....
- 2 مضيق .....
- 3 إقليم مناخي .....
- 4 هضبة .....
- 5 أولى الدول المنتجة للغاز .....

## قارن بين

1 الذهب والفوسفات، من حيث

صناعات يدخل فيها

1 أولى الدول المنتجة

## اذكر اثنين من

1 من جهود الدول العربية لتنمية الثروة الحيوانية

## ما العلاقة بين ...؟

1 التغيرات المناخية والثروة السمكية.

## بم تفسر.....؟

1 نجاح خطة هجرة الرسول ﷺ إلى يثرب.

## اختر الإجابة الصحيحة مما يلي

- 1 توجد النسبة الكبرى من مساحة الوطن العربي في قارة .....
- (آسيا - إفريقيا - أوربا - أستراليا)
- 2 تعد من الجبال الالتوائية في الوطن العربي جبال .....
- ( عسير - البحر الأحمر - عمان - الحجاز )
- 3 دائرة عرض تمر جنوب الوطن العربي .....
- (جرينتش - السرطان - الاستواء - الجدى)
- 4 تتنوع المحاصيل الزراعية في الوطن العربي نتيجة تنوع .....
- (التربة - الأيدي العاملة - الأسواق - المناخ)
- 5 يهدف السياح إلى زيارة بعض الأماكن للعلاج والاستشفاء مثل زيارة..... في الأردن
- (عيون موسى - عين ماعين - بحيرة عسل - عيون حلوان)
- 6 تساعد التجارة الإلكترونية على .....
- (زيادة التلوث - ارتفاع الأسعار - تقليل الازدحام - إهدار الوقت)

ضع علامة ✓ أمام العبارة الصحيحة ، وعلامة ✗ أمام العبارة غير الصحيحة

- 1 كانت حرفة الزراعة إحدى الحرف السائدة في شبه الجزيرة العربية.
- 2 انتهى عصر الخلفاء الراشدين بنهاية حكم الخليفة على بن أبي طالب .
- 3 تنخفض درجات الحرارة جنوب الوطن العربي.
- 4 تقوم الزراعة في الأجزاء الجنوبية بالوطن العربي اعتمادًا على الأمطار.
- 5 يتوسع الوطن العربي في إنتاج الطاقة المتجددة مثل الهيدروجين الأخضر.


أكمل الجمل الآتية باستخدام بنك الكلمات

(المداري - الحديبية - الأزهر الشريف - المغرب - القود)

- 1 يضم الوطن العربي أماكن مقدسة مثل.....
- 2 تم نشر دعوة الإسلام خارج الجزيرة العربية بعد صلح.....
- 3 أعلى نقطة في وطننا العربي توجد في دولة.....
- 4 يعيش الزراف والأسود بالإقليم.....
- 5 من الصادرات العربية للعالم..... و.....

ما النتائج المترتبة على

- 1 الموقع الجغرافي المتميز لدول الوطن العربي؟

.....

.....

ما الفرق بين

- 1 الجبال الالتوائية والجبال الانكسارية؟

.....

.....

دل على صحة العبارة الآتية

- 1 تعددت أسس بناء الدولة الإسلامية في المدينة. (يكتفى باثنين)

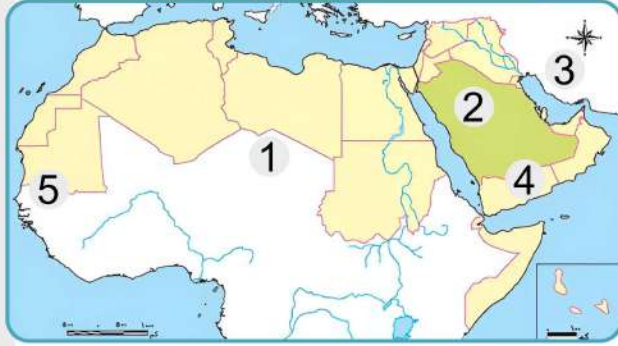
.....

.....

اكتب ما تشير إليه العبارات التالية

- 1 تبادل السلع والخدمات باستخدام شبكة المعلومات الدولية (الإنترنت)
- 2 نظام الحكم السائد في شبه الجزيرة العربية قبل الإسلام.
- 3 دولة عربية تعرضت لأكبر موجة جفاف.
- 4 محصول زراعي تتركز زراعته في اليمن.
- 5 محافظة مصرية يوجد بها مشروع كبير لتربية الجاموس.

## الاختبار الثاني



أمامك خريطة للوطن العربي وضح ما تشير إليه الأرقام التي عليها

- 1 الصحراء .....
- 2 دولة عربية بالجناح .....
- 3 جبال .....
- 4 هضبة .....
- 5 إقليم المناخ .....

بم تفسر.....؟

1 الأهمية الاقتصادية للموقع الجغرافي لوطننا العربي؟

.....

.....

دل على صحة أو خطأ العبارة

1 استطاع الرسول (ﷺ) نشر الدعوة الإسلامية دون صعوبات.

.....

.....

اكتب اثنين من

1 من المقومات الطبيعية التي ساعدت على قيام الزراعة في الوطن العربي.

.....

.....

اختر الإجابة الصحيحة مما يلي

- 1 (تبادل السلع والخدمات باستخدام الإنترنت) تشير العبارة إلى .....  
(التجارة الخارجية - التجارة البينية - الميزان التجاري - التجارة الإلكترونية)
- 2 دولة تصنف الأولى عربيا في تربية الجاموس هي .....  
(السودان - مصر - العراق - البحرين)
- 3 تحتل السودان المرتبة الأولى عربيا في إنتاج معدن .....  
(الفوسفات - الحديد - الذهب - الألومنيوم)
- 4 إذا أردت الاستشفاء بالمياه الكبريتية في الأردن فعليك التوجه إلى .....  
(عيون موسى - واحة سيوة - عين ماعين - الوادي الجديد)
- 5 يحد الوطن العربي من جهة الغرب المحيط .....  
(الهندي - القطبي الجنوبي - الأطلنطي - القطبي الشمالي)

اكتب سبباً واحداً لكل من

1 تعد الصناعة من أهم الأنشطة الاقتصادية في الوطن العربي.

2 اهتمام الدول العربية بإنشاء المحميات الطبيعية.

3 لاختيار أبي بكر الصديق الله خليفة للمسلمين بعد وفاة الرسول ﷺ

ضع علامة ✓ أمام العبارة الصحيحة ، وعلامة ✗ أمام العبارة غير الصحيحة

- 1 أمر الرسول (ﷺ) أصحابه بالهجرة إلى يثرب.
- 2 أنشأ أبو بكر الصديق ديوان الجند.
- 3 ساعدت التعرية المائية على تكوين الأودية الجافة بالصحاري.
- 4 تعمل التيارات البحرية الدفيئة على رفع درجات الحرارة.
- 5 تسقط الأمطار صيفا على إقليم المناخ الصحراوي الحار بالوطن العربي.
- 6 تسعى الدول العربية لمواجهة مشكلة التغير المناخي.

اكتب جملة واحدة توضح فيها أهمية المقومات التالية للنشاط الزراعي

- 1 رأس المال.
- 2 تنوع المناخ.

اكتب ما تشير إليه العبارات التالية

- 1 غزوة خالف فيها الرماة أوامر النبي (ﷺ).
- 2 الخليفة الذي حارب المرتدين.
- 3 أعلى قمة جبلية في الوطن العربي.
- 4 مدار تتعامد عليه الشمس ليصبح الوطن العربي في فصل الشتاء.
- 5 إقليم مناخي تنمو به حشائش الإستبس وترعى فيه الأغنام والماعز.
- 6 دولة عربية تعاني من أكبر موجة جفاف وتسببت في حدوث المجاعات بها.
- 7 تقويم بدأ من هجرة الرسول من مكة إلى المدينة.

اكتب دليلا واحدا على صحة العبارة التالية

- 1 تعاني الثروة الحيوانية في الوطن العربي من مشكلات عديدة.

أكمل العبارات الآتية من بنك الكلمات

( الأبقار - الهضاب - القبلي - تحويلية - الدواجن - المحيط الاطلنطي )

- 1 تنقسم الصناعات إلى صناعات استخراجية وصناعات .....
- 2 تعد المغرب أولى الدول العربية في إنتاج الأسماك لأنها تطل على .....
- 3 أكثر مظاهر السطح انتشارًا في الوطن العربي هي .....
- 4 تعد السودان أولى الدول العربية في تربية .....
- 5 نظام الحكم السائد في شبه الجزيرة العربية قبل الإسلام كان هو النظام .....

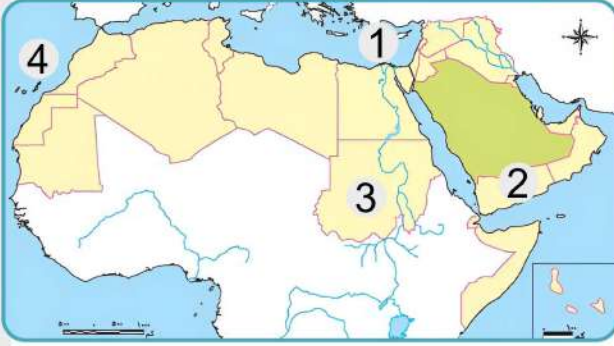
اكتب النتيجة المترتبة على

- 1 تنوع مظاهر سطح الوطن العربي.

أجب عما يلي

- 1 ما هي الحرفة السائدة عند العرب في شبه الجزيرة العربية قبل الإسلام؟
- 2 قدم مقترحا واحداً لتنمية الثروة السمكية في الوطن العربي.

## الاختبار الثالث



أمامك خريطة للوطن العربي وضح ما تشير إليه الأرقام التي عليها

- 1 البحر
- 2 أولى الدول في إنتاج البن
- 3 من الدول المنتجة للذهب
- 4 المحيط

بم تفسر.....؟

1 حرص النبي ﷺ على المؤاخاة بين المهاجرين والأنصار.

2 اختيار المسلمين لأبي بكر الصديق كأول الخلفاء الراشدين؟

صوب ما تحته خط

- 1 جبال البحر الأحمر من الجبال الالتوائية.
- 2 تقع محمية جبل علبة في إريتريا.
- 3 من مقومات الزراعة الطبيعية الأيدي العاملة.
- 4 استخراج المعادن ومصادر الطاقة صناعة تحويلية.

اختر الإجابة الصحيحة مما يلي

1 أصغر الدول العربية مساحة .....

(قطر - فلسطين - سوريا - البحرين)

2 من أشهر رحلات العرب التجارية رحلة الشتاء إلى.....

(اليمن - الشام - مكة - يثرب)

3 يقع في الأطراف الجنوبية للوطن العربي إقليم .....

(البحر المتوسط - المدارى - الصحراوى - الموسمى)

4 أعلنت السعودية عن إنشاء مدينة ..... الخضراء.

(نيوم - جدة - الرياض - مصدر)

5 يدخل معدن ..... في الصناعات الثقيلة والمنشآت والكبرى.

(الذهب - المنجنيز - الحديد - الفوسفات)

ما النتائج المترتبة على ... ؟

1 اهتمام الخليفة على بن أبي طالب بتنظيم الشرطة.

2 اشتداد إيذاء قريش للرسول ﷺ وأصحابه في مكة.

ما المقصود ب.....؟

1 الإقليم المناخي؟

ضع علامة ✓ أمام العبارة الصحيحة ، وعلامة ✗ أمام العبارة غير الصحيحة

- 1 يقع الوطن العربي وسط قارات العالم الجديد.
- 2 من العادات الحسنة للعرب قبل الإسلام الشجاعة.
- 3 يعتبر الخليفة عمر بن الخطاب الخليفة الثاني.
- 4 تتميز المناطق الساحلية بارتفاع الحرارة صيفا
- 5 من محاصيل الحبوب الغذائية قصب السكر.
- 6 فقر المراعي من المشكلات التي تواجه الثروة الحيوانية.

أكمل العبارات الآتية بما يناسبها من كلمات

(الموقع الفلكي - الهوائية - السمكية - عثمان بن عفان )

- 1 تتكون التجمعات الرملية بفعل التعرية .....
- 2 من العوامل المؤثرة في المناخ .....
- 3 تم إنشاء أول أسطول بحري في عهد.....
- 4 تساهم الثروة ..... في سد العجز من البروتين الحيواني.

اكتب المصطلح الذي تشير إليه كل عبارة مما يأتي

- 1 تناقص قدرة الأراضي الزراعية على الإنتاج.
- 2 زيارة الأماكن المقدسة مثل المسجد الحرام في السعودية.
- 3 الصادرات والواردات من السلع والخدمات بين الدول العربية ودول العالم.

أكمل العبارات الآتية بكلمات مناسبة

- 1 تعد زيارة محمية أرز الشوف في لبنان من السياحة .....
- 2 خرج الرسول (ﷺ) في العام العاشر من الهجرة الأداء فريضة .....
- 3 أولى الدول العربية في تربية الجاموس هي .....
- 4 السهول الفيضية في الوطن العربي كونتها .....
- 5 اتفق الرسول (ﷺ) في صلح الحديبية على هدنة مع قبيلة .....

حدد اثنين من

- 1 جهود الدول العربية لتنمية الثروة الحيوانية.

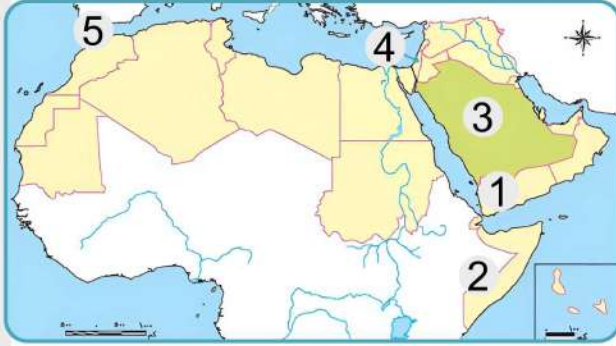
ما العلاقة بين

- 1 زحف الكثبان الرملية - المشكلات البيئية في الوطن العربي؟

اكتب سبباً واحداً

- 1 لمحاربة قريش الدعوة الإسلامية .

## الاختبار الرابع



- أمامك خريطة للوطن العربي وضح ما تشير إليه الأرقام التي عليها
- 1 دولة تتركز بها زراعة .....
  - 2 **صوب:** الدولة رقم (2) هي الأولى في تربية الأبقار.
  - 3 أولى الدول العربية في صناعة الأسمت وهي
  - 4 لدولة عربية تنتشر بها السياحة الدينية وهي
  - 5 مضيق .....

## اختر الإجابة الصحيحة مما يلي

- 1 تأمر زعماء قريش على قتل الرسول (ﷺ) أثناء اجتماعهم في دار .....
- (الأرقم - الندوة - أبي سفيان - الحكمة)
- 2 ولد رسول الله (ﷺ) في اليوم الثاني عشر من شهر .....
- (صفر - محرم - ربيع الأول - ربيع الثاني)
- 3 الخليفة الذي أمر بكتابة القرآن الكريم في مصحف واحد وهو .....
- (أبو بكر الصديق - عمر بن الخطاب - عثمان بن عفان - علي بن أبي طالب)
- 4 أي من الدول التالية تقع في الجناح الآسيوي للوطن العربي ؟ .....
- (قطر - الجزائر - السودان - ليبيا)
- 5 تسببت الحركات الالتوائية في تكون جبال .....
- (الحجاز - عسير - الشام - كردستان)

## بم تفسر ...؟

- 1 زيادة معدل استهلاك المياه العذبة بالوطن العربي.
- 2 أهمية الزراعة في الوطن العربي .
- 3 تتعرض بعض أراضي الوطن العربي لخطر التصحر.

## من يكون ...؟

- 1 أنشأ الدواوين ووضع التقويم الهجري.
- 2 أول من أسلم من الرجال وصحب النبي (ﷺ) في هجرته للمدينة.

## دل على صحة العبارة

- 1 قامت على أرض الوطن العربي العديد من الحضارات القديمة.

## ما رأيك في

- 1 اهتمام الوطن العربي بإنشاء المحميات الطبيعية؟

ضع علامة ✓ أمام العبارة الصحيحة ، وعلامة ✗ أمام العبارة غير الصحيحة

- 1 (المؤاخاة بين المهاجرين والأنصار) من أسس بناء الدولة الإسلامية
- 2 بدأ التقويم الهجري بهجرة الرسول (ﷺ) إلى الحبشة.
- 3 تعتمد الزراعة بالواحات في الصحاري العربية على المياه الجوفية
- 4 تعد المغرب أولى الدول العربية إنتاجاً لمعدن الحديد.
- 5 التيارات البحرية الباردة تؤدي إلى ارتفاع درجة الحرارة على الساحل.
- 6 يشغل إقليم مناخ البحر المتوسط معظم مساحة الوطن العربي.

أكمل العبارات الآتية بكلمات مناسبة

- 1 تشتهر واحة العين بالإمارات بزراعة.....
- 2 عُرف عن العرب قديماً البلاغة وحب .....
- 3 أكبر الدول العربية في تربية الأبقار والخيول هي .....
- 4 أدنى نقطة في العالم هي البحر .....
- 5 زيارتك لآثار مدينة الأقصر بمصر تعد سياحة .....

(ظهرت التجارة الإلكترونية نتيجة التطور التكنولوجي):

- 1 في ضوء العبارة السابقة، ما النتائج المترتبة على وجود التجارة الإلكترونية ؟

أكمل العبارات بما يناسبها من الكلمات الآتية

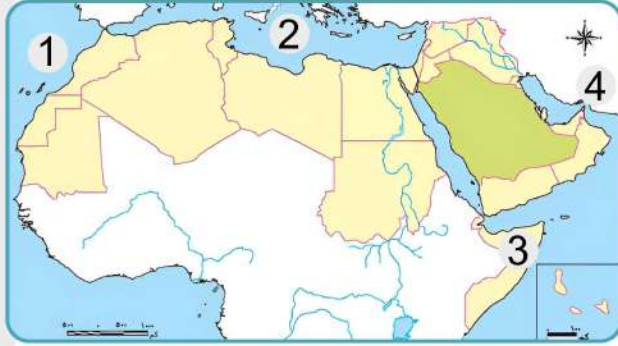
( موريتانيا - البحث العلمي - رواسب الأنهار - البحر المتوسط - الإسلام - حار )

- 1 تكونت السهول الفيضية نتيجة.....
- 2 تنمو أشجار الأرز في إقليم مناخ.....
- 3 أولى الدول العربية في إنتاج الحديد.....
- 4 الدول العربية تبذل جهوداً لتنمية التعدين والصناعة مثل الاهتمام بالتعليم و.....
- 5 أسهمت التجارة في الدولة الإسلامية في نشر .....

اكتب ما تشير إليه العبارات الآتية

- 1 تبادل السلع والخدمات باستخدام شبكة المعلومات.
- 2 تناقص قدرة الأراضي الزراعية على الإنتاج.
- 3 غزوة تحول فيها نصر المسلمين إلى هزيمة.

## الاختبار الخامس



أمامك خريطة للوطن العربي وضح ما تشير إليه الأرقام التي عليها

- 1 المحيط .....
- 2 البحر .....
- 3 دولة تعرضت للجفاف .....
- 4 مضيق .....

بم تفسر.....؟

- 1 تكون الثلوج على مرتفعات لبنان .
- 2 اجتماع زعماء قريش في دار الندوة أثناء الدعوة للإسلام.
- 3 قيام الزراعة في الوطن العربي .
- 4 كانت الدعوة إلى الإسلام في بدايتها سرية

اختر الإجابة الصحيحة مما يلي

- 1 ظاهرة طبيعية تحد الوطن العربي من ناحية الشرق.....  
(المحيط الأطلنطي - البحر المتوسط - جبال كردستان - الصحراء الكبرى)
- 2 أرسله أبو بكر للشام لقتال الروم في أول خلافته.....  
(أسامة بن زيد - سلمان الفارسي - عمرو بن العاص - خالد بن الوليد)
- 3 تسقط الأمطار الموسمية صيفاً على .....  
(جبال الحجاز - مرتفعات اليمن - جبال أطلس - جبال زاغروس)
- 4 أحد المقومات البشرية لقيام الزراعة في الوطن العربي .....  
(المياه العذبة - وسائل النقل - تنوع المناخ - التربة الخصبة)
- 5 زيارتك لشواطئ لبنان تعد سياحة .....  
(ترفيهية - علاجية - ثقافية - دينية)

ما العلاقة بين ...؟

- 1 الروم والأسطول البحري الإسلامي.
- 2 المياه الجوفية والواحات.

ما النتائج المترتبة على ... ؟

- 1 غزوة بدر 2 هـ .
- 2 وجود الواحات في الصحاري العربية.

ضع علامة ✓ أمام العبارة الصحيحة ، وعلامة ✗ أمام العبارة غير الصحيحة

- 1 اتبع المسلمون نظام التوريث في اختيار الخلفاء الراشدين .
- 2 بدأ التقويم الهجري بهجرة المسلمين إلى الحبشة.
- 3 تشمل المحاصيل السكرية قصب السكر والبنجر.
- 4 واحة العين المصرية اختيرت ضمن مناطق التراث الزراعي العالمي.
- 5 تدخل ذرات الذهب في علاج بعض الأمراض.

اذكر نتيجة واحدة ترتبت على كل مما يأتي

- 1 اقتراب الصحارى والمرتفعات من السواحل.
- 2 غزوة الخندق عام (5) هجرية.
- 3 تنوع المناخ في الوطن العربي.

أكمل مكان النقط بكلمات مناسبة

- 1 غزوة تحول فيها نصر المسلمين إلى هزيمة ، هي غزوة .....
- 2 تمتد سلاسل جبال الحجاز في الجناح العربي.....
- 3 استخراج المعادن ومصادر الطاقة يعرف بالصناعات .....
- 4 نقل على بن أبي طالب مقر الخلافة الإسلامية إلى .....
- 5 الصادرات والواردات بين الدول العربية والعالم تعرف بالتجارة .....

أجب عما يأتي

- 1 حدد اثنين من جهود الدول العربية للنهوض بالصناعة.

اكتب ما تشير إليه العبارات الآتية

- 1 نقص كمية الأمطار في بعض السنوات.
- 2 صناعة تتمثل في استخراج المعادن ومصادر الطاقة.

أكمل العبارات بما يناسبها من الكلمات الآتية

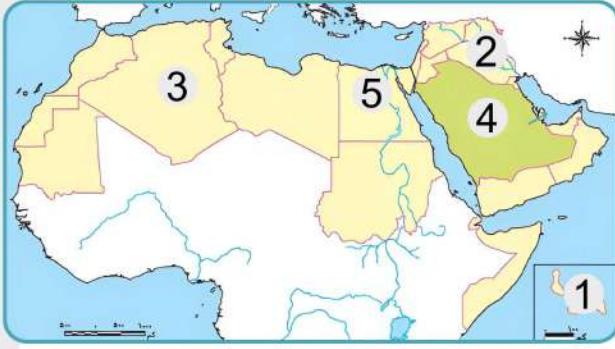
( العلاجية - أحد - الخندق - ليبيا - الصومال - لبنان )

- 1 تحول نصر المسلمين إلى هزيمة في غزوة .....
- 2 يمتد بحر الرمال العظيم بين مصر و .....
- 3 أكبر الدول العربية في تربية الإبل.....
- 4 تقع محمية أرز الشوف في دولة .....
- 5 زيارة عيون موسى بمصر من أشكال السياحة .....

## الاختبار السادس



أمامك خريطة للوطن العربي وضح ما تشير إليه الأرقام التي عليها



- 1 دولة .....
- 2 دولة تعتمد على مياه الأنهار في الزراعة وهي
- 3 **صواب أم خطأ:** يشير رقم (3) لأولى الدول العربية في تربية الدواجن.....
- 4 أولى الدول العربية إنتاجا للبتروول وهي.....
- 5 إدولة عربية بها سياحة علاجية وثقافية وهي

اختر الإجابة الصحيحة مما يلي

- 1 كانت الحرفة السائدة عند العرب قديما حرفة .....  
(الصناعة - التجارة - الزراعة - الرعي)
- 2 انتصر المسلمون رغم قلة عددهم على قريش في غزوة .....  
( بدر - أحد - حنين - تبوك )
- 3 تمتد أراضي الوطن العربي بين قارتي .....  
(آسيا وأوروبا - أوروبا وإفريقيا - آسيا وإفريقيا - أستراليا وآسيا)
- 4 المنظمة التي أعلنت واحة سيوة ضمن مواقع التراث العالمي الزراعي هي منظمة ..  
(اليونسكو - الفاو - اليونيسيف - الأوبك)
- 5 هضبة تقع جنوب شبه الجزيرة العربية .....  
(نجد - بادية الشام - حزموت - إفريقيا الشمالية)
- 6 إحدى دول الوطن العربي في الجناح الإفريقي .....  
(البحرين - المغرب - الكويت - اليمن)

صوب ما تحته خط

- 1 أشهر القبائل العربية بمكة قديما قبيلة **الأويس**.
- 2 سكان المدينة الذين نصرروا الرسول (ﷺ) هم **المهاجرون**.
- 3 الخليفة الذي وضع التقويم الهجري هو **علي بن أبي طالب**.
- 4 إذا قمت بشراء جهاز كمبيوتر من الإنترنت فإن ذلك يعد أحد أشكال **التجارة الخارجية**.
- 5 يحد الوطن العربي من الجنوب المحيط **الأطلسي**.
- 6 تكونت جبال الحجاز بسبب **الحركات الالتوائية**.

(تسم التجارة البينية في الوطن العربي بالضعف) **في ضوء العبارة أجب**

- 1 اكتب سببًا واحدًا لضعف التجارة البينية بين الدول العربية.

- 2 قدم مقترحا لمواجهة العقبات التي تواجه التجارة البينية.

ضع علامة ✓ أمام العبارة الصحيحة ، وعلامة ✗ أمام العبارة غير الصحيحة


- 1 يتميز إقليم المناخ المداري بصيف حار ممطر وشتاء معتدل جاف.
- 2 أعلنت الإمارات عن إنشاء مدينة نيوم الخضراء عام 2022م.
- 3 تقوم الزراعة على الأمطار في الأجزاء الشمالية للوطن العربي.
- 4 تعد السودان أولى الدول العربية تربية للأغنام والماعز.
- 5 يمكننا استخدام معدن الحديد لصناعة الأسمدة والمبيدات.

وضح

- 1 لماذا ينمو الصبار في الإقليم المناخي الصحراوي الحار.

أكمل العبارات بما يناسبها من الكلمات الآتية

( الصيف - بيت - المسجد - الشتاء - ثقافية - الإنترنت - رياضية - الذرة - الدعاية -  
قصب السكر )

- 1 أول عمل قام به الرسول في المدينة بناء .....
- 2 يتميز الإقليم المداري بسقوط الأمطار في فصل .....
- 3 حضور مباريات كأس العالم لكرة القدم سياحة .....
- 4 التجارة الإلكترونية هي تبادل السلع والخدمات باستخدام .....
- 5 أحد محاصيل الحبوب الغذائية .....

بم تفسر ...؟

- 1 تحول نصر المسلمين إلى هزيمة في غزوة أحد.
- 2 حدوث التصحر في الوطن العربي.
- 3 إرسال أبي بكر الصديق الجيوش الإسلامية خارج شبه الجزيرة العربية.

إلى من تسب الأعمال التاريخية الآتية ؟

- 1 محاربة المرتدين وجمع القرآن الكريم.
- 2 إنشاء بعض الدواوين مثل ديوان بيت المال.

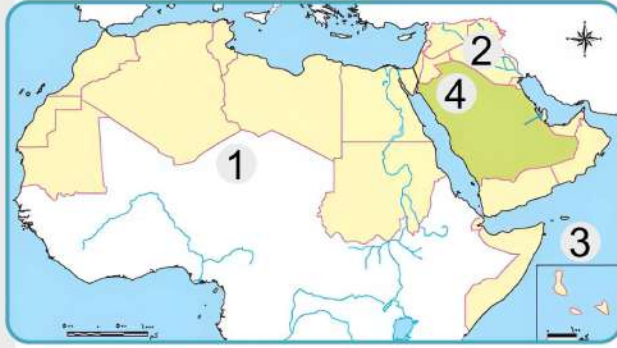
ما النتائج المترتبة على ...؟

- 1 تعرض الصومال لأكبر موجة جفاف.

عدد

- 1 مقومات السياحة في الوطن العربي

## الاختبار السابع



أمامك خريطة للوطن العربي وضح ما تشير إليه الأرقام التي عليها

- 1 ..... الصحراء
- 2 ..... دولة منتجة للعنب
- 3 ..... المحيط
- 4 ..... هضبة

بم تفسر.....؟

- 1 أهمية رأس المال للزراعة في الوطن العربي.
- 2 تعاني معظم الدول العربية من ندرة المياه العذبة.
- 3 محاربة قريش للدعوة الإسلامية
- 4 إنشاء أول أسطول بحري في الإسلام في عهد الخليفة عثمان بن عفان

أكمل العبارة الآتية بما يناسبها من بنك الكلمات:

( المائية - الشام - السافانا - الثقيلة - الهوائية - الإستبس - الخفيفة - مصر )

- 1 تربي الأغنام والماعز في إقليم البحر المتوسط على حشائش .....
- 2 يستخدم معدن الحديد في الصناعات .....
- 3 جهز الرسول ﷺ قبل وفاته جيشاً بقيادة أسامة بن زيد إلى .....
- 4 تكونت الكثبان الرملية في الوطن العربي نتيجة التعرية .....

اختر الإجابة الصحيحة مما يلي:

- 1 يمتد الإقليم المداري في..... الوطن العربي.  
(شمال - جنوب - شرق - غرب )
- 2 تعد الصومال أولى الدول العربية في تربية .....
- 3 أولى غزوات الرسول ضد قريش هي غزوة .....
- 4 توفر التجارة العربية العملات .....
- 5 يندر سقوط الأمطار في الوطن العربي على .....
- (المعدنية - المحلية - الأجنبية - الإقليمية )  
(الجبال - السهول - الأودية - الصحراء )

وضح العلاقة بين:

- 1 حرب المرتدين وجمع القرآن الكريم.

ضع علامة ✓ أمام العبارة الصحيحة ، وعلامة ✗ أمام العبارة غير الصحيحة

- 1 أشهر القبائل العربية قبيلة قريش.
- 2 تنخفض درجات الحرارة جنوب الوطن العربي.
- 3 إنتاج اللحوم الحمراء يكفي حاجة استهلاك السكان في الوطن العربي.
- 4 جعل الرسول ﷺ أثناء مرضه عمر بن الخطاب إماماً للمسلمين في الصلاة.
- 5 تعاني الدول العربية من مشكلات تؤثر على البيئة.

ما مصداقية العبارة الآتية ...؟

- 1 يتمتع وطننا العربي بكافة مقومات السياحة.

أكمل الجمل الآتية بما يناسبها من كلمات مما بين القوسين:

( استخراجية - مصادر الطاقة - ثور - السافانا - حراء - كمية الأمطار - الإستبس -  
التعرية الهوائية )

- 1 نزل الوحي على رسول الله ﷺ عندما كان يتعبد في غار .....
- 2 الكتبان الرملية تجمعات رملية تكونت بفعل .....
- 3 تنمو في الإقليم المداري حشائش تسمى حشائش .....
- 4 تتعرض كثير من الدول العربية لخطر الجفاف بسبب نقص .....
- 5 تنقسم الصناعة الى صناعات تحويلية وصناعات .....

ماذا يحدث إذا ...؟

- 1 توسعت الدول في الصناعة الخضراء

دل على صحة العبارة الآتية:

- 1 النشاط السياحي من الأنشطة الاقتصادية المهمة في الوطن العربي.

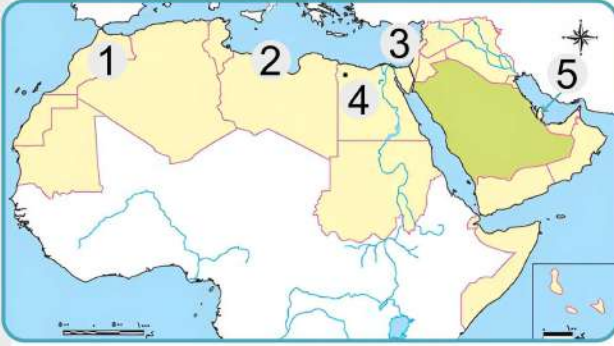
ما العلاقة بين:

- 1 المواد الخام والصناعة ؟

ما الأثر الناتج عن ...؟

- 1 صلح الحديبية 6هـ .
- 2 تعامد الشمس على مدار السرطان صيفا بالوطن العربي.

## الاختبار الثامن



أمامك خريطة للوطن العربي وضح ما تشير إليه الأرقام التي عليها

- 1 جبال .....
- 2 **اختر:** يشير رقم (2) لسهول  
(فيضية - جليدية - صحراوية - ساحلية)
- 3 إقليم مناخ .....
- 4 أحد مواقع التراث العالمي الزراعي بمصر
- 5 خليج .....

بم تفسر.....؟

- 1 تعد الصناعة من أهم الأنشطة الاقتصادية في الوطن العربي.

أكمل العبارات التالية بكلمات مناسبة:

- 1 تنتشر تربية الإبل في دولة .....
- 2 تعيش الزواحف والثعالب بإقليم المناخ .....
- 3 أحد مصادر الطاقة المتجددة غاز .....
- 4 السهول الفيضية في وطننا العربي كونتها .....
- 5 أكبر الدول العربية في تربية الدواجن .....
- 6 يدخل الحديد في الصناعات .....

اختر الإجابة الصحيحة مما يلي

- 1 تقع محمية أرز الشوف في دولة .....
- (مصر - لبنان - السودان - الأردن)
- 2 أولى الدول العربية إنتاجا للغاز الطبيعي .....
- (العراق - السعودية - قطر - مصر)
- 3 زيارة شواطئ لبنان تصنف ضمن السياحة .....
- (الثقافية - البيئية - العلاجية - الترفيهية)
- 4 أحد المراكز التجارية في الدولة الإسلامية مدينة .....
- (الإسكندرية - الغردقة - مصدر - الخرطوم)
- 5 أحد الأماكن المقدسة في فلسطين .....
- (الكعبة المشرفة - كنيسة القيامة - الأزهر الشريف - الكنيسة المعلقة)

قارن بين:

- 1 مدينة الإسكندرية بمصر - مدينة الرياض بالسعودية، من حيث

الأحوال المناخية

ضع علامة ✓ أمام العبارة الصحيحة ، وعلامة ✗ أمام العبارة غير الصحيحة

- 1 كانت الدعوة الإسلامية سرية في بدايتها.
- 2 قام الرسول ﷺ بأداء مناسك الحج قبل صلح الحديبية.
- 3 تعددت الدواوين في عهد الخليفة عمر بن الخطاب.
- 4 تعتمد الزراعة بشكل أساسي على المياه الجوفية في دولة السودان.
- 5 تعمل المسطحات المائية على زيادة المدى الحراري اليومي والسنوي للسواحل.
- 6 قام الرسول ﷺ ببناء المسجد ليكون مقرا للحكم ومركزا للعبادة.

صوب الكلمات التي تحتها خط:

- 1 خالف الرماة أوامر الرسول، في غزوة بدر.
- 2 نقل على بن أبي طالب - مقر الخلافة من المدينة إلى الطائف.

أكمل العبارات الآتية بكلمة مناسبة:

- 1 يمتد بحر الرمال العظيم بين مصر و .....
- 2 نظام الحكم السائد في شبه الجزيرة العربية قبل الإسلام هو النظام .....
- 3 يسود معظم أنحاء الوطن العربي المناخ .....
- 4 آخر الخلفاء الراشدين هو الخليفة .....

اقرأ العبارة الآتية ثم أجب:

(خرج الرسول ﷺ بجيش كبير لفتح مكة عام ٨ هـ ففتحها، وطاف بالكعبة، وحطم الأصنام التي كانت حولها)

في ضوء هذه العبارة وضح:

- 1 سمى أهل من الذين هاجروا إلى المدينة بأمر من الرسول ﷺ ب .....
- 2 دلل على صحة هذه العبارة : قدم النبي ﷺ مثلا عظيما في التسامح والعفو.

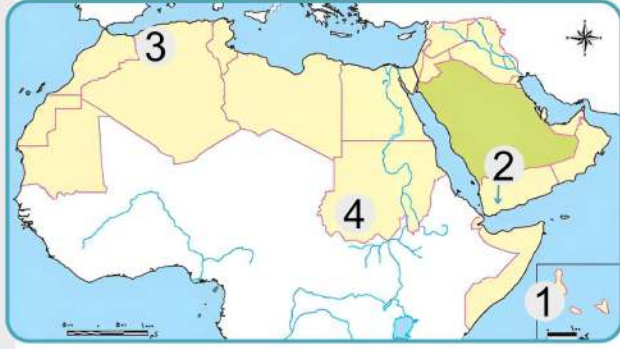
اذكر سببا واحدا لـ:

- 1 الأهمية الاقتصادية الموقع الوطن العربي.

ما النتائج المترتبة على ... ؟

- 1 مشكلة الجفاف في الوطن العربي؟ مع ذكر مثال.
- 2 التشابه الكبير بين السلع والخدمات التي تنتجها الدول العربية
- 3 استشهاد عدد كبير من حفظة القرآن الكريم في حرب المرتدين

## الاختبار التاسع



أمامك خريطة للوطن العربي وضح ما تشير إليه الأرقام التي عليها

- 1 مسطح مائي .....
- 2 دولة آسيوية .....
- 3 من الجبال الالتوائية .....
- 4 إقليم مناخي .....

بم تفسر.....؟

- 1 أهمية الأودية الجافة في الوطن العربي
- 2 تنوع الأقاليم المناخية في الوطن العربي .

أكمل العبارات الآتية بكلمات مناسبة:

- 1 تقع دولة مصر في الجناح.....
- 2 ظهرت التجارة الإلكترونية نتيجة.....
- 3 أحد أسس بناء الدولة وكان مقرا للحكم.....

اكتب ما تشير إليه العبارات الآتية:

- 1 أشار على الرسول بحفر الخندق حول المدينة عام ٥ هـ .
- 2 استكمل الفتوحات الإسلامية التي بدأت في عهد الخليفة أبي بكر الصديق.
- 3 تعرضت الدولة الإسلامية في عهده لخطر المرتدين.

ما المقصود بكل مصطلح مما يأتي ... ؟

- 1 الصناعة الخضراء
- 2 الإقليم المناخي

ما النتائج المترتبة على ... ؟

- 1 وجود عيون المياه الكبريتية في الوطن العربي.
- 2 تحكم الوطن العربي في ممرات بحرية مهمة.

ما العلاقة بين ...؟

- 1 اتجاه المرتفعات والمطر.

دل

- 1 تنوع مشكلات الثروة الحيوانية في وطننا العربي.

ضع علامة ✓ أمام العبارة الصحيحة ، وعلامة ✗ أمام العبارة غير الصحيحة



- 1 عمل الرسول بحرفتي الرعي والتجارة.
- 2 يحدث التصحر بسبب كثرة الأمطار والسيول.
- 3 تتركز زراعة البن في الأردن.
- 4 أولى الدول العربية إنتاجا للفوسفات هي دولة المغرب.
- 5 أمر الخليفة عثمان بن عفان بكتابة القرآن في مصحف واحد.
- 6 يقل إنتاج الأسماك في دولة المغرب.
- 7 تعد الطاقة الشمسية وطاقة الرياح والطاقة الكهرومائية من مصادر الطاقة النظيفة.
- 8 يعاني الوطن العربي من فقر المراعي.


اختر الإجابة الصحيحة مما يلي



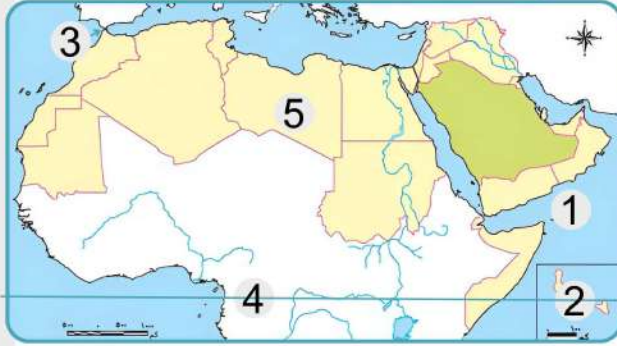
- 1 يدخل الحديد في صناعة .....  
(أسلاك التليفون - المبيدات الحشرية - مواد الطلاء - الكباري والمنشآت )
- 2 تحول نصر المسلمين إلى هزيمة في غزوة .....  
( بدر - أحد - الخندق - تبوك )
- 3 أعلن عن إنشاء مدينة نيوم الخضراء في دولة .....  
(المغرب - مصر - السعودية - العراق)
- 4 تم فتح مصر في عهد الخليفة .....  
(عثمان بن عفان - علي بن أبي طالب - عمر بن الخطاب - أبي بكر الصديق)
- 5 أولى الدول العربية إنتاجا للتمور دولة .....  
(المغرب - مصر - السعودية - الجزائر)
- 6 من أهم أعمال الخليفة أبي بكر الصديق .....  
(تنظيم الشرطة - إنشاء ديوان الجند - محاربة المرتدين - إنشاء ديوان بيت المال )
- 7 يحل فصل الشتاء على الوطن العربي عندما تتعامد الشمس على .....  
(مدار الجدى - دائرة الاستواء - خط جرينتش - مدار السرطان)
- 8 من الجبال الالتوائية في الوطن العربي جبال .....  
( عسير - البحر الأحمر - أطلس - اليمن )
- 9 أحد المقومات الطبيعية للزراعة في وطننا العربي .....  
( رأس المال - السوق - التربة - الأيدي العاملة )
- 10 يأتي معظم إنتاج مصر من الأسماك من .....  
(البحار - الأنهار - المحيطات - المزارع السمكية )

لمن تسبب الأعمال التاريخية الآتية ؟



- 1 أرسل جيوشا لمحاربة المرتدين.
- 2 نقل مقر الخلافة إلى الكوفة في العراق.

## الاختبار العاشر



أممك خريطة للوطن العربي وضح ما تشير إليه الأرقام التي عليها

- 1 بحر .....
- 2 دولة .....
- 3 مضيق .....
- 4 دائرة .....
- 5 إقليم المناخ .....

اكتب الشخصية التاريخية التي تدل عليها كل عبارة مما يلي:

- 1 حاول هدم الكعبة لكن الله حفظها منه.
- 2 أول من أسلم من الرجال.
- 3 ثاني الخلفاء الراشدين ووضع التقويم الهجري
- 4 تزوجها الرسول (ﷺ) قبل نزول الرسالة.
- 5 الخليفة الذي قام بتنظيم الشرطة.
- 6 الصحابي الذي أشار على الرسول (ﷺ) بحفر خندق حول المدينة.

اختر الإجابة الصحيحة مما يلي:

- 1 تحتل المرتبة الثانية في صادرات الوطن العربي للعالم .....
- (السلع والوقود - السلع الزراعية - المنتجات الصناعية - الطاقة الكهربائية)
- 2 نقص كمية الأمطار بما يمنع الزراعة ونمو الحشائش يُعرف ب.....
- (التصحّر - الجفاف - تلوث المياه - ندرة المياه)
- 3 تقع واحة (ليوا) في دولة .....
- (مصر - قطر - الجزائر - الإمارات)
- 4 تحتل موريتانيا المرتبة الأولى عربيا في إنتاج معدن .....
- (الذهب - الألومنيوم - الحديد - النحاس)
- 5 يتميز الوطن العربي بتوفر المقومات الطبيعية لنشاط السياحة ومنها.....
- (اعتدال المناخ شتاء - توفر المواصلات - توفر المناطق الأثرية - تطور الفنادق)
- 6 الدولة العربية التي تقع في الجناح الإفريقي هي .....
- (العراق - قطر - الجزائر - السعودية)
- 7 تحتل دولة .....
- (موريتانيا - السعودية - مصر - قطر)
- 8 من الجبال الالتوائية في الوطن العربي جبال.....
- (أطلس - عسير - اليمن - البحر الأحمر)
- 9 زيارة المواقع الأثرية والتراثية تعتبر سياحة .....
- (ثقافية - ترفيهية - دينية - شواطئ)

ضع علامة ✓ أمام العبارة الصحيحة ، وعلامة ✗ أمام العبارة غير الصحيحة

- 1 عاش العرب قبل الإسلام في قبائل متفرقة يحكم كلا منها شيخ.
- 2 أحسن أهل يثرب استقبال الرسول ﷺ وأصحابه.
- 3 يعتمد سكان الواحات على مياه الأمطار في الزراعة.
- 4 يقل تأثير المسطحات المائية على المناخ في الوطن العربي لضيق مساحتها.
- 5 يمتد إقليم مناخ البحر المتوسط شمال الوطن العربي.
- 6 يمنع الوطن العربي تصدير المنتجات الصناعية والسلع الزراعية للعالم الخارجي.
- 7 ينتشر نبات الصبار في الإقليم الصحراوي.
- 8 تساعد التجارة الإلكترونية على تقليل الازدحام المروري والتلوث.
- 9 يمتد بحر الرمال العظيم بين مصر والسودان.

ما العلاقة بين

- 1 إقليم المناخ الصحراوي الحار ونبات الصبار ؟

أكمل العبارات الآتية بكلمات مناسبة

- 1 أشار الصحابي ..... على النبي ﷺ بحفر الخندق.
- 2 يحل فصل الصيف على الوطن العربي عندما تتعامد الشمس على .....
- 3 بعد استخراج المعادن ومصادر الطاقة كالبتترول من الصناعات .....

اكتب المفهوم الدال على العبارتين الآتيتين

- 1 تناقص قدرة الأراضي الزراعية على الإنتاج.
- 2 أهل مكة الذين هاجروا من مكة إلى المدينة.

وضح

- 1 أهمية صحيفة المدينة.

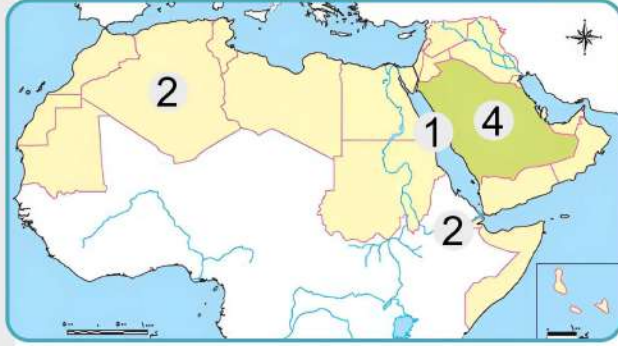
بم تفسر

- 1 مصر هي الأولى عربيا في تربية الجاموس ؟
- 2 تكون جبال البحر الأحمر.

ما النتائج المترتبة على

- 1 تحكم الوطن العربي في أهم الطرق التجارية العالمية؟
- 2 تحكم الوطن العربي في ممرات بحرية مهمة.

## الاختبار الحادي عشر



أممك خريطة للوطن العربي وضح ما تشير إليه الأرقام التي عليها

- 1 البحر .....
- 2 أكبر الدول العربية مساحة .....
- 3 مضيق .....
- 4 أولى الدول العربية إنتاجا للبتترول .....

أكمل العبارات الآتية من بنك الكلمات:

( السودان - الأمطار - السرطان - علاجية - الصيف - الجدى )

- 1 يحل فصل الشتاء على الوطن العربي عندما تتعامد الشمس على مدار .....
- 2 زيارة عين ماعين بالأردن تعد سياحة .....
- 3 تعتمد الزراعة في الأجزاء الشمالية من الوطن العربي على مياه .....
- 4 أكبر الدول العربية في تربية الأغنام والماعز هي .....
- 5 يتميز الإقليم المداري بسقوط الأمطار في فصل .....

اختر الإجابة الصحيحة مما يلي:

- 1 تبادل السلع والخدمات باستخدام الإنترنت يسمى .....
- (مقايضة - تجارة الكترونية - تجارة خارجية - تجارة بينية)
- 2 أولى الدول العربية في إنتاج الأسماك من المزارع السمكية .....
- (لبنان - الجزائر - مصر - موريتانيا)
- 3 أحد المقومات البشرية لقيام الزراعة في الوطن العربي .....
- (وسائل النقل - المياه العذبة - تنوع المناخ - التربة الخصبة)
- 4 تم إنشاء أول أسطول بحري لتأمين مصر والشام من هجمات .....
- (قريش - الصليبيين - الروم - العرب)
- 5 أكثر الدول العربية التي تعرضت لخطر الجفاف دولة .....
- (اليمن - البحرين - العراق - الصومال)
- 6 أولى الدول العربية إنتاجا للفوسفات .....
- (المغرب - تونس - مصر - قطر)
- 7 قام بنقل الخلافة من المدينة إلى الكوفة .....
- (على بن أبي طالب - عمر بن الخطاب - عثمان بن عفان - أبو بكر الصديق)
- 8 تنمو حشائش الإستبس في الوطن العربي في .....
- (إقليم البحر المتوسط - الإقليم القطبي - الإقليم المداري - الإقليم الصحراوي الجاف)
- 9 الدولة العربية الأولى إنتاجا لمعدن الذهب .....
- (مصر - الجزائر - السعودية - السودان)
- 10 توفر الثروة الحيوانية المواد الخام للصناعة مثل .....
- (القطن - القشور - البترول - الجلود)

- ضع علامة  أمام العبارة الصحيحة ، وعلامة  أمام العبارة غير الصحيحة
- 1 تشغل دول الجناح الإفريقي مساحة أكبر من الجناح الآسيوي.
  - 2 ساد نظام الحكم الملكي شبه الجزيرة العربية قبل ظهور الإسلام
  - 3 تم نقل مقر الخلافة الإسلامية إلى البصرة في عهد علي بن أبي طالب.
  - 4 تقع هضبة بادية الشام في الجناح الآسيوي.
  - 5 يتسم مناخ الإسكندرية بسمات إقليم البحر المتوسط.
  - 6 قدم الرسول ﷺ مثلاً عظيماً في التسامح يوم فتح مكة
  - 7 أدنى نقطة في سطح الوطن العربي في بحر قزوين.
  - 8 تتركز زراعة البن بالوطن العربي في السعودية.
  - 9 تتميز مصر بكثرة المزارع السمكية.

ما المقصود بـ ...؟

- 1 بالصناعات التحويلية .

حدد نتيجة واحده ترتبت على:

- 1 حدوث الحركات الانكسارية.
- 2 مخالفة الرماة أوامر الرسول ﷺ في غزوة أحد ٣هـ.




ما العلاقة بين كل من ...؟

- 1 الدعوة السرية ونشر الإسلام .

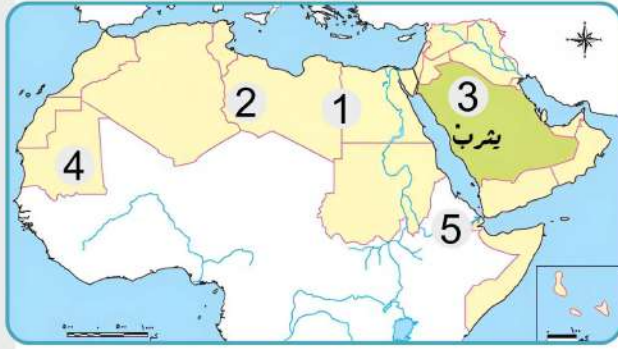
اكتب تفسيراً واحداً:

- 1 أهمية السياحة في الوطن العربي.
- 1 الأهمية الحضارية والثقافية للوطن العربي.
- 2 حرص النبي ﷺ على المؤاخاة بين المهاجرين والأنصار.
- 3 بناء النبي ﷺ للمسجد في المدينة.

قارن بين

- 1 قيام الزراعة بالوطن العربي، من حيث المقومات الطبيعية  المقومات البشرية 
- 2 الثروة الحيوانية - الثروة السمكية، من حيث أهم المشكلات التي تواجهها. 

## الاختبار الثاني عشر



أمامك خريطة للوطن العربي وضح ما تشير إليه الأرقام التي عليها

1 ظاهرة .....

2 هضبة .....

3 صواب أم خطأ

يشير رقم (3) لمكان هاجر إليه الرسول (ﷺ)

4 دولة عربية .....

5 صوب: يشير رقم (5) لمضيق **جبل طارق**.

اختر الإجابة الصحيحة مما يلي

1 الخليفة الذي نقل مقر الخلافة من المدينة إلى الكوفة هو .....

(أبو بكر الصديق - عمر بن الخطاب - عثمان بن عفان - علي بن أبي طالب)

2 يدخل الفوسفات في صناعة .....

(الحلي - الطائرات - الأسمدة والمبيدات - الحديد والصلب)

3 أحد المقومات البشرية لنشاط السياحة بالوطن العربي هو .....

(توفر المواصلات - الموقع الجغرافي الفريد - المناخ المعتدل شتاء - الطبيعة الخلابة)

4 أكبر الدول العربية مساحة دولة .....

(الجزائر - اليمن - العراق - فلسطين)

5 معظم صادرات البحرين البينية توجه إلى السعودية والإمارات و .....

(مصر - عمان - اليمن - العراق)

6 أشهر القبائل العربية في مكة .....

(الأوس - قريش - الخزرج - هوازن)

7 من أكثر الدول العربية إنتاجا للبن .....

(الصومال - المغرب - اليمن - السودان)

8 يعيش الزراف والأسود في الإقليم .....

(البحر المتوسط - الصحراوي - الحار المداري - الاستوائي)

9 إحدى الظاهرات التي تكونت بفعل التعرية المائية .....

(الجبال - الهضاب - الأودية الجافة - التجمعات الرملية)

اكتب اثنين من

1 أهم المشكلات التي تواجه الثروة الحيوانية بالوطن العربي.

.....

.....

قارن بين

1 الصفات الحسنة والعادات السيئة لدى العرب قديما.

.....

.....

ضع علامة ✓ أمام العبارة الصحيحة ، وعلامة ✗ أمام العبارة غير الصحيحة

- 1 بدأ رسول الله (ﷺ) بالدعوة سرا إلى الإسلام في المدينة.
- 2 اختار المسلمون عمر بن الخطاب خليفة لهم بعد وفاة الرسول ﷺ.
- 3 تكونت جبال أطلس بفعل الحركات الالتوائية.
- 4 يسود إقليم المناخ الصحراوي الحار الأطراف الشمالية للوطن العربي.
- 5 تقع دولة الجزائر في الجناح الآسيوي للوطن العربي.
- 6 زحف الكثبان الرملية من أسباب مشكلة التصحر.
- 7 ولد النبي ﷺ في عام الفيل.
- 8 يتمتع وطننا العربي بكافة مقومات السياحة.
- 9 تؤثر المسطحات المائية على مناخ الوطن العربي.
- 10 تكفي اللحوم الحمراء حاجة سكان الوطن العربي.

فسر

- 1 اجتماع زعماء قريش في دار الندوة.
- 2 تتعرض كثير من الدول العربية لخطر الجفاف.
- 3 أهمية الثروة الحيوانية لوطننا العربي.

ماذا يحدث إذا

- 1 توسع الوطن العربي في مشروعات الاستزراع السمكي؟

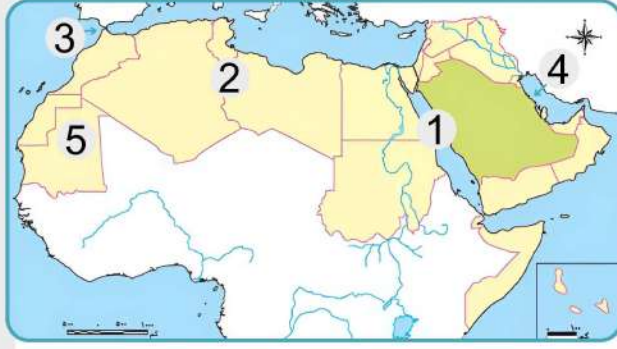
صوب ما تحته خط

- 1 أعلى القمم الجبلية بالوطن العربي جبل طوروس.
- 2 يقترب الوطن العربي من قارة آسيا.
- 3 تقع سواحل سوريا ضمن إقليم المناخ الصحراوي الحار.
- 4 زراعة 100 مليون شجرة مثمرة هي مبادرة لحماية البيئة أطلقتها عمان.
- 5 تتركز زراعة البن داخل الوطن العربي في دولة الكويت.
- 6 أولى الدول العربية إنتاجا لخام الفوسفات دولة البحرين.

ما النتائج المترتبة على؟

- 1 تعدد مناطق السياحة الثقافية في الوطن العربي.
- 2 تأثير التغير المناخي على الثروة السمكية.
- 3 طول سواحل دول المغرب.

## الاختبار الثالث عشر



أمامك خريطة للوطن العربي وضح ما تشير إليه الأرقام التي عليها

- 1 البحر
- 2 هضبة
- 3 مضيق
- 4 الخليج
- 5 أولى الدول العربية إنتاجاً للحديد

اختر الإجابة الصحيحة مما يلي

- 1 تم إنشاء أول أسطول بحري لتأمين سواحل مصر والشام ضد هجمات .....  
(المغول - الروم - الفرس - قريش)
- 2 أحد مواقع التراث الزراعي العالمي في مصر هي واحة.....  
(سيوة - الفرافرة - العين - الكفرة)
- 3 تقوم الزراعة في اليمن على مياه.....  
(الأنهار - الآبار والعيون - الأمطار - البحار)
- 4 تصنع الأسمدة والمبيدات الحشرية من.....  
(الفضة - الفوسفات - الحديد - النحاس)
- 5 زيارة المسجد الأقصى في فلسطين سياحة.....  
(ترفيهية - ثقافية - دينية - علاجية)
- 6 يوجد مقر المنظمة العربية للسياحة في دولة.....  
(الكويت - السعودية - قطر - الجزائر)
- 7 تتزايد معدلات استهلاك المياه العذبة في الوطن العربي بسبب.....  
(زيادة أعداد السكان - تناقص المخزون الجوفي - الرعي الجائر - إزالة الغابات)
- 8 مناخ مدينة الإسكندرية أكثر اعتدالاً من مناخ مدينة الرياض بسبب.....  
(اتجاه المرتفعات - المسطحات المائية - التيارات البحرية - خطوط الطول)
- 9 كان سكان شبه الجزيرة العربية يقومون برحلة الشتاء إلى بلاد.....  
(اليمن - فارس - عمان - الشام)
- 10 نبات طبيعي ينمو في إقليم المناخ المداري هو.....  
(حشائش السافانا - نبات الصبار - حشائش الإستيس - أشجار الأرز)
- 11 معظم صادرات البحرين من المنتجات تصدر لثلاث دول منها.....  
(الأردن - سوريا - العراق - عمان)

اكتب ما تشير إليه العبارتان الآتيتان

- 1 الصادرات والواردات من السلع والخدمات بين الدول العربية.
- 2 تناقص قدرة الأراضي الزراعية على الإنتاج.

ضع علامة ✓ أمام العبارة الصحيحة ، وعلامة ✗ أمام العبارة غير الصحيحة

- 1 الأزهر الشريف في مصر من المراكز الدينية المهمة في الوطن العربي.
- 2 أنشأ الخليفة عمر بن الخطاب ديوان الجند.
- 3 تسقط الأمطار صيفاً على الأطراف الشمالية للوطن العربي.
- 4 أنشئت المدن الذكية بهدف تقليل انبعاثات الغازات الدفينة.
- 5 المناخ المعتدل يعد من المقومات البشرية للسياحة في الوطن العربي.
- 6 يكفى إنتاج اللحوم الحمراء سكان الوطن العربي.

اكتب دليلاً واحداً على صحة العبارتين الآتيتين

- 1 تسامح النبي ﷺ مع أهل مكة.
- 2 تتعدد موارد المياه العذبة في الوطن العربي.

اكتب سبباً واحداً لكل مما يأتي

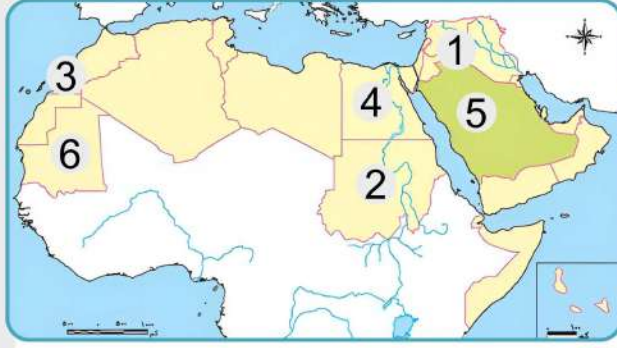
- 1 هجرة المسلمين الأولى إلى الحبشة.
- 2 أهمية الصناعة في الوطن العربي.

اكتب نتيجة واحدة تربت على

- 1 تحكم وطننا العربي في الممرات المائية.
- 2 تنوع مظاهر السطح في الوطن العربي.

أكمل العبارات التالية بالكلمات المناسبة

- 1 نظام الحكم السائد في شبه الجزيرة العربية قبل الإسلام هو النظام.....
- 2 تعد سهول نهري دجلة والفرات من السهول.....
- 3 يسود معظم الوطن العربي إقليم المناخ الصحراوي.....
- 4 تنمو بالإقليم المداري في الوطن العربي حشائش.....
- 5 أولى الدول العربية في صناعة الحديد والصلب هي.....
- 6 زيارة عيون موسى بمصر أحد أشكال السياحة.....



## الاختبار الرابع عشر



أمامك خريطة للوطن العربي وضح ما تشير إليه الأرقام التي عليها



- 1 هضبة .....
- 2 اختر: أولى الدول العربية في تربية .  
(الجاموس - الإبل - الأبقار - الدواجن)
- 3 **صوب:** يشير رقم (3) إلى أولى الدول إنتاجاً لحام **الذهب**.
- 4 أولى الدول العربية إنتاجاً للأسمت رقم .....
- 5 أولى الدول العربية إنتاجاً للحديد رقم .....

## أكمل العبارات التالية بما يناسبها من كلمات

- 1 انتهى عصر الخلفاء الراشدين باستشهاد .....
- 2 سمي أهل يثرب الذين بايعوا الرسول (ﷺ) على نصرته وحمايته ب .....
- 3 أطلق على الرسول (ﷺ) لقب .....
- 4 تهب على الوطن العربي صيفا رياح حارة قادمة من .....
- 5 السهول الفيضية هي ظاهرة تضاريسية كونتها .....
- 6 الواحة المصرية التي اختيرت ضمن مناطق التراث الزراعي العالمي هي .....
- 7 أول مدينة تم اختيارها عاصمة للسياحة العربية عام ٢٠١٠ مدينة .....
- 8 أولى الدول العربية في تربية الإبل هي .....
- 9 الصادرات والواردات بين الدول العربية وبقية دول العالم تعرف بالتجارة .....

## اختر الإجابة الصحيحة مما يلي

- 1 عُرف عن العرب حبهم للبلاغة و .....
- (الغناء - النحت - الشعر - الرسم)
- 2 انتصر المسلمون في غزوة الخندق بفضل مشورة .....
- (أبي بكر الصديق - سلمان الفارسي - عمر بن الخطاب - حمزة بن عبد المطلب)
- 3 أنشأ المسلمون أول أسطول بحري في الإسلام لصد هجمات .....
- (الروم - قريش - المغول - الفرس)
- 4 تقع سهول دجلة والفرات في قارة .....
- (إفريقيا - آسيا - أستراليا - أوروبا)
- 5 تسقط أمطار غزيرة صيفاً على دولة .....
- (مصر - العراق - لبنان - اليمن)
- 6 يعاني نحو ثلثي الوطن العربي من خطر .....
- (التصحّر - الجفاف - ندرة المياه - التلوّث)

ضع علامة  أمام العبارة الصحيحة ، وعلامة  أمام العبارة غير الصحيحة


1 زيارة عين ماعين بالأردن سياحة علاجية.

2 السعودية هي أولى الدول العربية إنتاجا للغاز الطبيعي.

3 يؤدي التغير المناخي إلى تناقص أعداد الحيوانات بالوطن العربي.

4 استخدام أساليب الري الحديثة في الزراعة يؤدي لحدوث التصحر.

5 تقع محمية أرز الشوف في مصر.

6 تعمل المنظمة العربية للتنمية الزراعية على تعزيز الأمن الغذائي بدول الوطن العربي.

اقترح



1 طريقة للحفاظ على المحميات الطبيعية بالوطن العربي.

.....

.....

عدد اثنين من



1 فوائد التجارة الإلكترونية

.....

.....

فسر



1 تكون الثلوج على مرتفعات لبنان.

2 محاربة قريش للدعوة الإسلامية.

3 نقل مقر الخلافة إلى الكوفة في عهد علي بن أبي طالب.

دل



1 يطل الوطن العربي على العديد من المسطحات المائية.

.....

.....

ما النتائج المترتبة على؟



1 زراعة أنواع مميزة من النخيل في واحة سيوة.

2 وجود الأنهار بالوطن العربي.

3 تتعدد بالوطن العربي أماكن السياحة العلاجية.

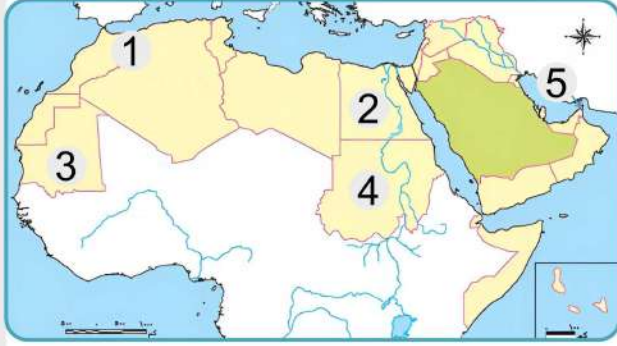
ما العلاقة بين كل من؟



1 التغير المناخي والثروة الحيوانية.

2 المسطحات المائية والمناخ.

## الاختبار الخامس عشر



أمامك خريطة للوطن العربي وضح ما تشير إليه الأرقام التي عليها

- 1 **صوب:** نشأت الجبال رقم (1) نتيجة لحركات **انكسارية**.....
- 2 اختر : الدولة رقم (2) هي الأولى في تربية (الخيول - الماعز - الجاموس - الإبل)
- 3 إقليم مناخي .....
- 4 أولى الدول في إنتاج معدن .....
- 5 **اكتب (صواب ) أو (خطأ):** يشير رقم (5) إلى مضيق باب المندب .....

أكمل العبارات التالية بكلمات مناسبة:

- 1 تقع أصغر الدول العربية مساحة في قارة.....
- 2 أول عمل قام به الرسول في المدينة هو.....
- 3 يسود معظم أجزاء الوطن العربي المناخ.....
- 4 أكثر الدول العربية التي تعرضت لخطر الجفاف هي.....
- 5 تتركز زراعة البن في دولة .....
- 6 يدخل خام الفوسفات في صناعة .....
- 7 أنشأت مصر مزرعة لتربية سلالات من الجاموس ذات الإنتاجية العالية في غرب محافظة .....
- 8 يستخدم في الصناعات الثقيلة معدن .....
- 9 أولى الدول العربية في إنتاج الأسماك من المصايد هي .....

اختر الإجابة الصحيحة مما يلي:

- 1 تسقط أمطار موسمية صيفية على دولة .....
- 2 زحف الرمال من أسباب .....
- 3 ( سوريا - مصر - اليمن - قطر )
- 4 من المقومات البشرية لقيام الزراعة.....
- 5 (التصحّر - خصوبة التربة - الجفاف - نقص المياه)
- 6 (المياه العذبة - التربة الخصبة - المناخ المتنوع - الأيدي العاملة )
- 7 أولى الدول العربية في صناعة الأسمنت .....
- 8 (مصر - السعودية - قطر - المغرب)
- 9 السياحة المعتمدة على زيارة المناطق الأثرية.....
- 10 (ترفيهية - علاجية - ثقافية - بيئية)
- 11 واحة مصرية تم تصنيفها كأحد مواقع التراث الزراعي العالمي هي.....
- 12 (الخارجة - الداخلة - سيوة - الفرافرة)

ضع علامة ✓ أمام العبارة الصحيحة ، وعلامة ✗ أمام العبارة غير الصحيحة

- 1 أمر عثمان بن عفان الله بإنشاء أول أسطول بحري في الإسلام.
- 2 تساعد الزراعة في توفير فرص العمل لسكان الوطن العربي.
- 3 مصر هي أولى الدول العربية إنتاجاً للأسماك من المصايد السمكية.
- 4 من أشهر المحميات الطبيعية بالجناح الإفريقي محمية ضانا .
- 5 تقع هضبة نجد بالجناح العربي الآسيوي.

اكتب نتيجة واحدة لكل مما يأتي

- 1 وجود حواجز جمركية بين الدول العربية .
- 2 تعامد الشمس على مدار الجدى بالنسبة للوطن العربي.

انسب كل عمل من هذه الأعمال إلى صاحبه

**(إنشاء الدواوين - تنظيم الشرطة - أشار بحفر الخندق - محاربة المرتدين )**

- 1 أبو بكر الصديق .....
- 2 عمر بن الخطاب .....
- 3 على بن أبي طالب .....
- 4 سلمان الفارسي .....

اكتب تفسيراً ( سبباً ) لكل من

- 1 أمر الرسول ﷺ أصحابه بالهجرة إلى الحبشة.
- 2 أهمية الأودية الجافة بالوطن العربي.
- 3 كانت الدعوة إلى الإسلام في بدايتها دعوة سرية.
- 4 إصرار الخليفة أبي بكر الصديق على محاربة المرتدين.

أعط مثالا لكل مما يأتي

- 1 بعض أماكن السياحة العلاجية
- 2 جهود بعض الدول العربية لزيادة المساحات الخضراء.

ما العلاقة بين كل من؟

- 1 الدعوة السرية ونشر الإسلام.
- 2 الأمن الغذائي والثروة الحيوانية.