

السلطان هجرس

في الدراسات الاجتماعية

مستر / محمد هجرس

01505403493

مستر / محمد فتحي

01021811121





ما المقصود ب.....؟

خطوط الطول	أنصاف دوائر رأسية تصل بين القطبين الشمالي والجنوبي.
دوائر العرض	أنصاف دوائر أفقية ترسم حول الكرة الأرضية، غير متساوية الطول، أكبرها دائرة الاستواء.
موقع فلكي	الموقع بالنسبة لخطوط الطول ودوائر العرض.
موقع جغرافي	موقع المكان بالنسبة إلى اليابسة والماء.
العصر العتيق	بدأ بتوحيد البلاد على يد الملك مينا، وتميز بالاستقرار.
القرية الفرعونية	متحف مفتوح يعرض مختلف ملامح الحضارة المصرية القديمة.
أودية جافة	مجار كانت تملؤها المياه قديما ، ثم جفت.
حركات انكسارية	حركات أصابت الصخور الصلبة : فأدى ذلك إلى ارتفاع بعضها، وانخفاض البعض الآخر .
رياح الخماسين	رياح تهب على مصر فى فصل الربيع تكون محملة بالرمال والأتربة.
تنوع بيولوجي	تنوع الحياة النباتية والحيوانية على كوكب الأرض، وتنوع البيئات التي تعيش فيها.
الإقليم المناخي	مساحة من الأرض تتميز بخصائص مناخية محددة.
رياح الخماسين	رياح محملة بالرمال والأتربة تهب في فصل الربيع.
النباتات الطبيعية	هي النباتات التي تنمو تلقائيا دون تدخل الإنسان في زراعتها.
المحميات الطبيعية	هي مساحات من الأرض أو المياه تتميز بما تضمه من نباتات أو حيوانات أو أسماك أو ظاهرات طبيعية ذات قيمة ثقافية أو علمية أو سياحية أو جمالية.
الترعة	قناة مائية يتم حفرها ؛ لتوصيل المياه من نهر النيل إلى المناطق البعيدة عنه.

الاختلافات والتحويلات في الأحوال المناخية ، مثل : درجة الحرارة والأمطار عن المعتاد.	التغير المناخي
كل الوسائل التي يمكن أن تشبع حاجات الإنسان وتنقسم إلى : موارد نادرة، وموارد حرة .	الموارد
موارد لا تكفي إشباع حاجات السكان.	موارد نادرة
تكفي حاجات السكان منها.	موارد حرة
عبارة عن كتلة صخرية قادرة على تخزين المياه.	الخزان الجوفي
عملية استخراج المعادن من باطن الأرض أو بالقرب من سطح الأرض.	التعدين
المصادر التي تنفذ باستخدامنا المستمر لها ، مثل : الفحم - الغاز الطبيعي - البترول.	مصادر الطاقة غير المتجددة
المصادر التي لا تنفذ رغم استخدامنا المستمر لها، مثل: الطاقة الكهرومائية - الطاقة الشمسية - طاقة الرياح.	مصادر الطاقة المتجددة
تبادل السلع والخدمات بدون استخدام النقود.	مقايضة
إعطاء السلع والخدمات مقابل الحصول على عملة تستخدمها الدولة.	البيع
أخذ السلع والخدمات مقابل عملة تستخدمها الدولة.	الشراء
نوع من أنواع الوقود العالمي ينتج من فصل الهيدروجين عن الماء.	الهيدروجين الأخضر
بناء هندسي أقيم لتخزين مياه الفيضان، واستخدامها وقت الجفاف.	السد
حاجز مائي، أنشئ بغرض رفع منسوب المياه لتوزيعها في الترع المتفرعة أمامها.	القناطر
تحويل المواد الخام الزراعية والحيوانية والمعدنية إلى سلع ومنتجات لسد احتياجاتنا.	الصناعة

السلطان

هجرس

بم تفسر.....؟

أهمية خطوط الطول

تحديد الزمن ومعرفة فروق التوقيت بين الأماكن على سطح الأرض وتحديد الموقع شرقا وغربا.

أهمية دوائر العرض

تحديد مواقع الأماكن شمالا وجنوبا - معرفة أحوال المناخ من حيث الحرارة والرياح.

أهمية نهر النيل بالنسبة للحضارة المصرية القديمة

ساعد على قيام الزراعة واستقرار المصرى القديم.

تنقل المصرى القديم من مكان لآخر فوق الهضاب

من أجل جمع الثمار وصيد الحيوانات.

أهمية وجود جيش قوى في عصر المصريين القدماء.

قام بحماية البلاد والحفاظ على الوحدة بين المصريين.

سمى عصر الدولة القديمة بعصر بناء الأهرامات

نسبة إلى ما شيده الملوك من أهرامات ضخمة.

أهمية قناة السويس لمصر

تعد أهم طريق ملاحى في العالم - تشكل أحد المصادر الرئيسية للعملة الأجنبية لمصر.

سعى الدولة لتشجيع المواطنين على شراء المنتجات المصرية

لتقليل الاستيراد ليصبح الميزان التجارى في حالة فائض.

سمى عصر الدولة الوسطى بعصر الرخاء الاقتصادي

بسبب اهتمام الملوك بإقامة العديد من المشروعات في مختلف المجالات.

سمى عصر الدولة الحديثة بعصر المجد الحربي

بسبب اهتمام الملوك بالتوسع خارج حدود مصر، وخاضوا العديد من المعارك التي انتصروا فيها على أعدائهم.

تكون المنخفضات في الصحراء الغربية

بسبب التعرية الهوائية والمائية.

خصوبة تربة منخفض الفيوم رغم وقوعه بالصحراء الغربية

لأنه يروى بمياه نهر النيل عن طريق ترعة بحر يوسف.

أهمية الأودية الجافة

تستخدم حاليا كمجار مائية عند حدوث السيول - كما تستثمر في إنشاء الطرق.

تعاقب فصول السنة الأربعة

بسبب أن كوكب الأرض يدور حول الشمس مرة كل 365 يوما وربع يوم.

ترتفع درجة الحرارة في الأجزاء الجنوبية من مصر في شهر يوليو

بسبب تعامد أشعة الشمس على مدار السرطان في النصف الشمالي للكرة الأرضية : حيث تقع مصر.

تنوع النباتات الطبيعية في مصر

بسبب تنوع المناخ بين الصيف والشتاء - مدى توافر موارد المياه - تنوع البيئات المصرية.

إنشاء الدولة المحميات الطبيعية

لحماية الحياة البرية في مصر.

ارتفاع درجة حرارة سطح الأرض

بسبب زيادة انبعاثات الغازات الدفينة، مثل غاز ثاني أكسيد الكربون والأوزون،
وتصاعدها في الهواء.

تعد مصادر الطاقة من الموارد النادرة.

لأنها موارد لا تكفي إشباع حاجات السكان وندرتها تسبب مشكلة.

تعد الأرض الزراعية موردا نادرا

لأنها موارد لا تكفي إشباع حاجات السكان.

أهمية المياه العذبة

تستخدم في المنازل والهيئات المختلفة - الزراعة لرى المحاصيل - صيد
الأسماك- نقل البضائع- صناعة النسيج - صباغة الأقمشة - في مجال السياحة).

أهمية المياه المالحة

تستخدم في صيد الأسماك - استخراج الأملاح مثل ملح الطعام - وسيلة مهمة
لنقل البحرى - استخراج البترول والغاز الطبيعي من قاع البحار والمحيطات).

احتفال العالم في يوم 22 مارس من كل عام باليوم العالمي للمياه

للتوعية بأهمية المياه العذبة، والدعوة إلى الإدارة المستدامة لموارد المياه العذبة.

ضرورة ترشيد استهلاك المياه العذبة

لأن المياه العذبة في مصر محدودة.

الأهمية الاقتصادية لمعدن الذهب

يستخدم في صناعة الحلي.

الأهمية الاقتصادية لمعدن المنجنيز.

يدخل في صناعة الصلب والدهانات.

الأهمية الاقتصادية لمعدن الحديد.

يستخدم في صناعة الآلات - قضبان السكك الحديدية - حديد التسليح.

الأهمية الاقتصادية لمعدن الفوسفات.

يستخدم في صناعة الأسمدة الكيماوية - المبيدات الحشرية - الطوب الحراري.

الأهمية الاقتصادية لمعدن النحاس

يستخدم في صناعة أسلاك الكهرباء - السبائك - مقابض الأبواب.

أهمية النشاط التعديني

يوفر فرص عمل للمواطنين - يساهم في زيادة الدخل القومي

للغاز الطبيعي أهمية كبيرة.

يستخدم في الأغراض المنزلية - توليد الكهرباء - وقودا لبعض وسائل النقل.

أهمية البترول الاقتصادية

مشتقات البترول المتعددة مثل : البنزين والبولار، يستخدمان في توليد الطاقة - بعض المشتقات تدخل في صناعة الألياف الصناعية وصناعة البلاستيك.

الأهمية الاقتصادية للفحم

يستخدم في صناعة الصلب وبعض الأدوية.

اتجاه مصر لفصل الهيدروجين من الماء

لتوفير الكهرباء النظيفة بدون انبعاث الكربون الملوث للهواء.

ظهور النقود الورقية

بسبب صعوبة نظام المقايضة : ولتحديد قيمة الأشياء وتبادلها بين الناس.

صعوبة استخدام نظام المقايضة

لأنه يجب أن يكون الشخص الذي لديه سلعة ما بحاجة إلى سلعة أخرى - عدم قابلية تخزين بعض السلع كالفاكهة.

إنشاء بنك مركزي لكل دولة

ليكون مسئولاً عن إصدار النقود الورقية في هذه الدولة.

الإدارة من عناصر الإنتاج الهامة

لأنه يتم فيها استثمار عناصر الإنتاج والإشراف عليها، واتخاذ قرارات تضمن نجاح عملية الإنتاج وتطورها.

إنشاء المصريين القدماء المقاييس على النيل

لتحديد منسوب مياه النيل وتحديد قيمة الضرائب على أساسها.

استخدام المصريين القدماء الشادوف والطنبور

لرى الأراضي المرتفعة عن النهر.

اهتمام المصريين القدماء بالطب البيطري

لتوفير وسائل العلاج للحيوانات وحمايتها من الأمراض.

أهمية الصناعة لمصر.

أساس التنمية الاقتصادية في مصر - توفر الكثير من فرص العمل للمواطنين.

أهمية الثروة الحيوانية والسمكية للاقتصاد المصري

توفير فرص العمل ومصدر للدخل القومي - تساعد في توفير احتياجات السكان من الغذاء وبخاصة البروتين الحيواني - تقوم عليها العديد من الصناعات مثل (الصناعات الجلدية ومنتجات الألبان والأسماك المحفوظة).

أهمية نبات البردي عند المصريين القدماء.

استخدم في صناعة العديد من المنتجات مثل : المراكب الصغيرة والسلال والحبال والحصر - صناعة الورق.

قيام الدولة بتطوير وتنمية صناعة الغزل والنسيج

للمساهمة في تقوية الاقتصاد الوطني - تلبية احتياجات السوق المحلية - زيادة الصادرات.

ما النتائج المترتبة علي

رسم خطوط الطول على الكرة الأرضية

تحديد الزمن ومعرفة فروق التوقيت بين الأماكن على سطح الأرض وتحديد الموقع شرقا وغربا.

رسم دوائر العرض على الكرة الأرضية

تحديد مواقع الأماكن شمال وجنوب دائرة الاستواء.

قيام الملك مينا بتوحيد البلاد عام 3200 ق.م

بنى مدينة (من - نفر) لتكون عاصمة للبلاد - أسس أول أسرة حاكمة في مصر - ليس التاج المزدوج المملكتي الشمال والجنوب.

نزول المصري القديم من الهضبة إلى الوادي

استقر المصري القديم وعرف الزراعة وتربية الحيوانات وبنى بيوتا صغيرة من الطوب اللبن.

تنوع الثروات المعدنية والصخور عند المصري القديم.

استخدمت في صناعة الأدوات والحلى وبناء الأهرامات والمعابد ونحت التماثيل.

حفر قناة السويس

حدوث توسع عمراني على جانبيها، فاتسع العمران في محافظات السويس والإسماعيلية وبورسعيد.

هبوب رياح الخماسين على مصر في فصل الربيع

تأتى محملة بالرمال والأتربة، وتتسبب في إصابة الإنسان ببعض الأمراض، مثل: أمراض الجهاز التنفسي، وكذلك تلف المحاصيل الزراعية.

دوران الأرض حول الشمس مرة كل ٣٦٥ يوما وربع يوم.

أدى إلى تعاقب فصول السنة الأربعة.

إنشاء المحميات الطبيعية في مصر

ترتب عليه حماية النباتات الطبيعية والحيوانات والطيور البرية والأسماك من خطر الانقراض.

انكماش مساحة الأرض الزراعية

أدى إلى تدهور التربة : مما يؤثر سلبا على الإنتاج الزراعي.

صادرات مصر أقل من وارداتها.

أدى إلى أن الميزان التجاري في حالة عجز.

شراء المواطنين المنتجات المصرية وتقليل الاستيراد

أدى إلى أن الميزان التجاري في حالة فائض.

ارتفاع منسوب مياه البحر

يتسبب في تآكل شواطئ مصر الشمالية وغرق أجزاء من السواحل المصرية.

الإفراط في استخدام المبيدات والأسمدة الكيماوية في الزراعة

يؤدي إلى حدوث التغير المناخي.

وجود المياه الجوفية في الواحات

أصبحت الواحات مأهولة بالسكان نظرا لانتشار الزراعة.

ارتفاع معدل النمو السكاني أسرع من معدل زيادة الموارد

أدى ذلك إلى ظهور المشكلات الاقتصادية.

سقوط الأمطار على السواحل الشمالية لمصر

قيام الزراعة في الساحل الشمالي لمصر.

اكتشاف المصري القديم النار.

استخدمها المصري القديم في التدفئة وطهي الطعام.

استخدام المصري القديم طاقة الرياح

تسيير المراكب الشراعية.

استغلال المصريين القدماء الطاقة الشمسية في حياتهم اليومية

تدفئة منازلهم بطرق مختلفة.

ظهور النقود في حياتنا

أدى إلى تسهيل عمليتي البيع والشراء.

إنشاء بنك مركزي لكل دولة.

إصدار النقود الورقية لكل دولة تختلف عن باقي الدول.

اعتماد المصريين القدماء على رى الحياض

كانت الأرض تزرع مرة واحدة في السنة.

قيام الدولة بالعديد من مشروعات استصلاح الأراضي

ترتب على ذلك زيادة المساحة المزروعة وتحقيق الأمن الغذائي للمواطن.

إنشاء مشروع بركة غليون بمحافظة كفر الشيخ

ترتب على ذلك زيادة إنتاج الثروة السمكية.

اهتمام الدولة بالثروة السمكية

تقوم بتنفيذ العديد من المشروعات التنموية لزيادة إنتاج الثروة السمكية مثل : مشروع الفيروز في بورسعيد - مشروع بركة غليون في محافظة كفر الشيخ.

اكتشاف المصريين القدماء المعادن

أدى إلى ظهور الصناعات المعدنية مثل الحلي.

ظهور الآلات الحديثة بالنسبة للصناعة

ترتب على ذلك تطور الصناعات من صناعات قديمة إلى صناعات حديثة ، وزيادة كمية الإنتاج، وتنوع المنتجات الصناعية، وأصبحت أكثر دقة وجودة.

اهتمام الدولة بتطوير صناعة الغزل والنسيج

ترتب على ذلك إنشاء مصانع جديدة في كفر الدوار ودمياط، وتطوير المصانع الموجودة.



اختر الإجابة الصحيحة مما بين القوسين:

- 1 يمر مدار في جنوب مصر.
(الجدى - الاستواء - القطب الشمالي - السرطان)
- 2 أي مما يلي درجته 23.5؟.....
(السرطان والجدى - السرطان والاستواء - الجدى والاستواء - الاستواء وجرينتش)
- 3 أحد العوامل البشرية التي ساعدت على قيام الحضارة المصرية القديمة.....
(نهر النيل - الجيش القوى - الموقع الجغرافي - مناخ مصر)
- 4 تصل مياه نهر النيل إلى منخفض الفيوم عن طريق ترعة.....
(الإسماعيلية - الإبراهيمية - المريوطية - بحر يوسف)
- 5 تتساقط الثلوج على الجبال العالية مثل جبل سانت كاثرين في فصل.....
(الصيف - الخريف - الشتاء - الربيع)
- 6 تتعامد الشمس في فصل الصيف على
(مدار السرطان - مدار الجدى - دائرة الاستواء - الدائرة القطبية)
- 7 أي من المحميات المصرية الآتية تعد المحطة الأولى لرحلة الطيور المهاجرة من أوروبا وآسيا؟
(الزرانيق - رأس محمد - أشتوم الجميل - نبق)
- 8 يؤثر التغير المناخي على صحة الإنسان وظهور مرض
(الملاريا - البلهارسيا - الدفتيريا - الطاعون)
- 9 الموقع بالنسبة لخطوط الطول ودوائر العرض يسمى الموقع.....
(الجغرافي - الفلكي - الطبيعي - الاستراتيجي)
- 10 أحد العوامل البشرية التي ساعدت على قيام الحضارة المصرية القديمة.....
(نهر النيل - الموقع الجغرافي - المناخ المعتدل - إقامة حكومة مركزية)
- 11 تقع مدينة ضمن إقليم البحر المتوسط.
(مرسى مطروح - الأقصر - قنا - أسيوط)
- 12 تكونت جبال البحر الأحمر في الصحراء الشرقية نتيجة
(الحركات الانكسارية - البراكين - التعرية الجليدية - التعرية الهوائية والمائية)
- 13 كبرى المحطات إنتاجا للكهرباء من طاقة الرياح محطة.....
(جبل الزيت - بنبان - قناطر إسنا - الكريمات)
- 14 من الموارد النادرة
(الهواء - الشمس - مياه البحر - مصادر الطاقة)
- 15 تعد محطة من أكبر محطات تحلية مياه البحر في العالم.
(بنبان - العين السخنة - الكريمات - الزعفرانة)
- 16 من موارد المياه المالحة فى مصر.....
(نهر النيل - بحيرة ناصر - الأمطار - بحيرة المنزلة)
- 17 معدن استخدم قديما وحديثا في صناعة الحلى
(الحديد - الفوسفات - الذهب - المنجنيز)
- 18 من الموارد التي لا تكفى لإشباع حاجة السكان
(المياه المالحة - المياه العذبة - أشعة الشمس - الأراضي الصحراوية)
- 19 أي من الموارد الآتية يوجد بوفرة وبكميات غير محدودة؟.....
(مياه البحر - مصادر الطاقة - الأرض الزراعية - المياه العذبة)
- 20 يعتمد سكان واحة سيوة على المياه في الزراعة.
(المالحة - الجوفية - الأمطار - السيول)



اختر الإجابة الصحيحة مما بين القوسين:

- 21 محطة العين السخنة أنشئت بغرض.....المياه.
(تنقية - تحلية - رفع - ضخ)
- 22 اكتشف المصري القديم النحاس في العصر.....
(الحجري القديم - الحجري الحديث - المعادن - ما قبل الأسرات)
- 23 تعد محطة جبل الزيت بمحافظة البحر الأحمر واحدة من أكبر محطات توليد الكهرباء من
(الشمس - الرياح - المياه - البترول)
- 24 استوحى المصريون القدماء العملة الذهبية من العملة.....
(اليونانية - الفارسية - البابلية - الأشورية)
- 25 يوجد في مصر عدد من البحيرات المالحة على ساحلها الشمالي مثل.....
(بحيرة البردويل - بحيرة قارون - بحيرة ناصر - بحيرة التمساح)
- 26 أي من الموارد التالية يتسم بندرة وجوده ؟
(مياه البحر - البترول - أشعة الشمس - الرياح)
- 27 عند إصدار ورقة نقود جديدة، يقوم الخبراء بوضع علامة..... داخل الورقة النقدية.
(إرشادية - علمية - تجارية - مائية)
- 28 تحتل محافظة..... المركز الأول في الإنتاج السمكي في مصر.
(الفيوم - كفر الشيخ - المنوفية - دمياط)
- 29 يأتي معظم إنتاج الأسماك في مصر من
(المياه المالحة - مزارع الأسماك - المياه العذبة - بحيرة قارون)
- 30 أكبر المحافظات المصرية من حيث تربية الحيوانات محافظة.....
(قنا - الأقصر - البحيرة - الغربية)
- 31 تحتل مصر المركز في إنتاج الأسماك على مستوى العالم.
(الثالث - الرابع - الخامس - السادس)
- 32 لضمان نجاح عملية الإنتاج وتطويرها نحتاج إلى.....
(الترفيه - الإدارة - الفردية - السلبية)
- 33 استخدمها المصريون القدماء لرى الأراضي الزراعية المرتفعة عن نهر النيل.....
(الترعة - القنطرة - الشادوف - السد)
- 34 المنظمة التي تعمل على ضرورة تحسين صحة الحيوانات.....
(اليونسكو - الفاو - الأوبك - اليونيسف)
- 35 أحد العوامل الطبيعية التي تؤثر سلبا على الإنتاج الحيواني في مصر.....
(قلة الخبرات - إجهاد الحيوانات - التغيرات المناخية - قلة الرعاية الطبية)
- 36 القرية الوحيدة في العالم المتخصصة في زراعة نبات البردي قرية
(بنبان - فراموص - البتانون - الروضة)
- 37 عندما تكون الصادرات أقل من الواردات فإن الميزان التجاري يكون في حالة
(عجز - فائض - زيادة - تعادل)
- 37 من أنظمة الري الحديثة الري
(بالرش - بالحياض - الدائم - بالفيضان)
- 39 يأتي معظم إنتاج الأسماك في مصر من
(المياه المالحة - مزارع الأسماك - المياه العذبة - بحيرة قارون)
- 40 أول مواسم الزراعة عند المصريين القدماء هو موسم
(البذر - الحصاد - الجفاف - الفيضان)
- 41 أهم الصادرات المصرية حديثا
(الخضراوات - الآلات - السيارات - القطارات)



ضع علامة ✓ أمام العبارة الصحيحة ، وعلامة ✗ أمام العبارة غير الصحيحة

- 1 تعد القرية الفرعونية متحفا مفتوحا في الجزيرة.
- 2 يتميز الجزء الأوسط من شبه جزيرة سيناء بانتشار الهضاب.
- 3 تمثل الدلتا الجزء الأصغر من مساحة الأراضي الزراعية في مصر.
- 4 تقع محافظتا أسيوط وقنا في الإقليم الصحراوي الحار.
- 5 توجد هضبة العباددة والجلف الكبير في شبه جزيرة سيناء.
- 6 يندر وجود الحيوانات البرية في الوادي والدلتا ومنخفض الفيوم.
- 7 يؤدي تغير المناخ إلى تهديد التنوع البيولوجي.
- 8 عانت مصر في عصر الدولة القديمة من التفكك والاحتلال.
- 9 تؤدي إزالة الغابات إلى التغير المناخي.
- 10 تتعادم أشعة الشمس على مدار السرطان فيحدث فصل الربيع في مصر.
- 11 تعد المياه العذبة من الموارد النادرة.
- 12 يدخل الفوسفات في صناعة أسلاك الكهرباء.
- 13 تعد مصر من الدول الغنية بمواردها المعدنية.
- 14 أحد أهم موارد المياه العذبة في مصر نهر النيل بفرعيه دمياط ورشيد.
- 15 البنك المركزي هو الجهة المسؤولة عن إصدار النقود الورقية بالدولة.
- 16 يتم توليد الطاقة الشمسية من محطة كهرباء خزان أسوان.
- 17 استخدم المصريون نظام المقايضة في عصر الدولة القديمة.
- 18 تقع محطة جبل الزيت في محافظة مطروح.
- 19 يستخرج خام الفوسفات من الصحراء الغربية.
- 20 صنع المصري القديم المحارث اليدوية من الخشب والبرونز.
- 21 أصدر البنك الأهلي المصري أول جنيه ورقي في مصر.
- 22 تسهم الثروة الحيوانية في توفير غذاء بروتيني مهم للإنسان.
- 23 تعد بركة غليون أحد أهم مشروعات الدولة لزيادة أعداد الأغنام.
- 24 برع المصريون القدماء في استثمار الموارد الطبيعية في الصناعة.
- 25 استخدم المصريون القدماء طمي النيل في صناعة الزجاج.
- 26 تعتمد صناعة الخيامية على العمل اليدوي بالورش الصغيرة.
- 27 ساهم التطور التكنولوجي في زيادة الإنتاج الصناعي.
- 28 تخصصت مدينة الروبيكي بالقاهرة في صناعة الجلود.
- 29 يُعد الخزف والحديد أهم الصادرات المصرية إلى الصين قديما.
- 30 استخدم المصري القديم الحجر والمعادن في صناعة التماثيل.
- 31 يمر مدار الجدى في جنوب مصر
- 32 تأتي الآلات الصناعية والسيارات على قائمة الصادرات المصرية.
- 33 تسمح الدولة بالصيد البرى والبحرى في مناطق المحميات الطبيعية.
- 34 صاحب تغير المناخ في العالم تدهور التنوع البيولوجي
- 35 رسم المصريون القدماء الخرائط للإشارة إلى مواقع المناجم.
- 36 الاعتماد على مصادر الطاقة المتجددة يقلل من خطر التغير المناخي
- 37 أنشأ المصري القديم المقاييس على النيل لتحديد قيمة الضرائب.



- ضع علامة ✓ أمام العبارة الصحيحة ، وعلامة ✗ أمام العبارة غير الصحيحة
- 38 قام المصري القديم بتربية الحيوانات حينما كان يعيش فوق الهضبة.
 - 39 تحتل مصر المركز الأول في إفريقيا في إنتاج الأسماك.
 - 40 تعد بحيرة البرلس من البحيرات العذبة في مصر.
 - 41 تقع مصر شمال شرق إفريقيا، وهي ملتقى قارات العالم القديم.
 - 42 لم يعرف المصري القديم الزراعة وتربية الحيوان فوق الهضاب .
 - 43 خط الطول الرئيسي هو خط جرينتش.
 - 44 يتميز منخفض الفيوم بوصول مياه نهر النيل إليه عن طريق ترعة الإسماعيلية.
 - 45 الكافور من النباتات المائية التي تنمو في مصر.
 - 46 يقع مدار الجدى في نصف الكرة الجنوبي.
 - 47 اهتم ملوك الدولة الوسطى بخوض العديد من المعارك الحربية.
 - 48 تأثرت محافظة بورسعيد إيجابيا بحفر قناة السويس.
 - 49 تقع معظم أراضي الدولة المصرية ضمن إقليم البحر المتوسط.
 - 50 لكوكب الأرض دورتان : دورة يومية حول محورها ، وأخرى سنوية حول الشمس.
 - 51 بدأ البنك الأهلي فى إصدار النقود الورقية لأول مرة عام 1899م.
 - 52 ظهرت النقود الورقية نتيجة صعوبة حمل النقود المعدنية.
 - 53 ساعدت المقايضة على تسهيل عمليتي البيع والشراء.
 - 54 ظهرت البنوك قبل معرفة النقود الورقية.
 - 55 استخدم الناس قديما المقايضة لتبادل السلع والخدمات بدون استخدام النقود.
 - 56 استخدم الإغريق سلعة القمح كعملة في عمليتي البيع والشراء.
 - 57 الموارد الحرة تكفى حاجات السكان.
 - 58 تعمل محطة العين السخنة على تحلية مياه البحر.
 - 59 يستخرج معدن الحديد في مصر من الصحراء الغربية.
 - 60 يستخرج البترول من حقول برية فقط.
 - 61 من العوامل التي تؤثر على تكلفة المنتج بعد المسافة عن مكان الإنتاج.



أكمل العبارات الآتية

- 1 يعرف خط الطول الرئيسي بخط.....
- 2 سكن المصري القديم قبل نزوله لوادي النيل في.....
- 3 ينحدر سطح الصحراء الغربية من جهة..... إلى جهة
- 4 من روافد نهر النيل في منطقة إثيوبيا و
- 5 توجد محمية جبل علبة في محافظة.....
- 6 يحدث التغير المناخي نتيجة الأنشطة البشرية مثل حرق
- 7 يقع جبل جنوب غرب مصر.
- 8 يمر في جنوب مصر مدار
- 9 تتساقط الثلوج على الجبال العالية مثل جبل سانت كاترين في فصل.....
- 10 تعتبر خطوط الطول ودوائر العرض خطوطا
- 11 معظم الأراضي المصرية تقع ضمن الإقليم.....
- 12 تهب رياح الخماسين في مصر خلال فصل
- 13 الأراضي الزراعية من الموارد.....
- 14 الموارد الموجودة بكميات غير محدودة هي الموارد.....
- 15 استخدم المصريون القدماء معدني الذهب والفضة في صناعة
- 16 يستخرج الفحم من منجم بشمال سيناء.
- 17 من محطات توليد الكهرباء المائية في مصر محطة
- 18 تم اختراع لتحديد قيمة الأشياء.
- 19 يدخل جليد القطب الشمالي والجنوبي ضمن موارد المياه.....
- 20 واحدة من أكبر محطات توليد الكهرباء من الرياح توجد في محافظة
- 21 قبل ظهور النقود كان الناس يتعاملون بنظام
- 22 يستخدم المصريون حاليا أنظمة حديثة للري مثل
- 23 من أشهر القناطر الموجودة في مصر وتقع عند رأس الدلتا
- 24 يتركز الإنتاج السمكي في مصر في محافظة كفر الشيخ والذي يأتي معظمه من
- 25 عرف المصري القديم صناعة الحلى بعد اكتشاف
- 26 مدينة صناعية متخصصة في صناعة الجلود
- 27 مصر الأولى في إفريقيا في إنتاج.....
- 28 قام الملك أمنمحات الثالث ببناء.....
- 29 تسعى الدولة لاستصلاح أراضي جنوب الصحراء الغربية من خلال مشروع
- 30 برع المصريون القدماء في صناعة الزجاج من
- 31 يُعد خط جرينتش هو خط الطول الرئيسي ودرجته
- 32 حل الجفاف فوق الهضاب فنزل المصري القديم إلى.....
- 33 اتحدت أقاليم الوجه القبلي وكونت مملكة
- 34 توحدت مصر للمرة الثانية على يد حاكم مدينة
- 35 نجح الملك مينا في توحيد البلاد وبذلك بدأ العصر.....
- 36 تعمل ترعة بحر يوسف على توصيل مياه نهر النيل إلى.....
- 37 المياه الجوفية العذبة أحد المظاهر المميزة للصحراء.....



اكمل العبارات الآتية

- 38 نتج عن الحركات الانكسارية بالصحراء الشرقية تكوين
- 39 تُعد مدينة الإسكندرية إحدى المدن التي تقع في إقليم
- 40 يؤدي الارتفاع عن سطح البحر إلى انخفاض درجة
- 41 أنشأت الدولة العديد من المحميات الطبيعية للحفاظ على التنوع
- 42 ترجع بردية هيرست إلى عصر الملك
- 43 تقع هضبة مارمريكا في الصحراء الغربية من جهة الشمال
- 44 الإقليم المناخي المعتدل الذي يظهر شمال مصر هو إقليم
- 45 الموارد هي كل ما يشبع حاجات الإنسان وتنقسم إلى موارد
- 46 تعد بحيرة المنزلة من بحيرات المياه
- 47 نص مرسوم عام ١٩١٤م على منع تحويل الجنيه الورقي إلى
- 48 الكتلة الصخرية القادرة على تخزين المياه تسمى
- 49 يأتي نصف إنتاج الكهرباء المولدة من الرياح في مصر من محطة
- 50 بنى المصري القديم بركا للمياه وبطنها باللون
- 51 استخدم النحاس قديما في صناعة النقود
- 52 اكتشف المصري القديم النار في العصر
- 53 استخدم الإغريق الأبقار باعتبارها نقودًا
- 54 يُستخرج الحديد من الواحات البحرية في الصحراء
- 55 يستخرج خام الفوسفات من منطقة أبو طرطور في الصحراء
- 56 يعد البنزين والسولار من مشتقات
- 57 أنشأ الملك أمنمحات الثالث في الفيوم سد
- 58 استخدم المصري القديم الفأس في
- 59 أنشأ المصري القديم المقاييس على نهر النيل لتحديد قيمة
- 60 استخدام أنظمة الري الحديثة يساعد في توفير استهلاك

ما العلاقة بين كل من؟



- 1 الصحراء الغربية ومصادر الطاقة.
- 2 الأودية الجافة والطرق.
- 3 التغيرات المناخية والشواطئ المصرية.
- 4 سعر المنتج وكمية المنتج.
- 5 العملة الذهبية في مصر واليونان.
- 6 البنك الأهلي المصري والنقود الورقية.
- 7 زيادة عدد السكان والموارد.
- 8 حجر الصوان وحرفة الصيد عند المصريين القدماء.
- 9 مصادر الطاقة ووسائل النقل.
- 10 تطور العلم والصناعة .
- 11 النشاط الصناعي والبيئة.

بم تفسر.....؟



- 1 اختلاف تضاريس سطح مصر.
- 2 إنشاء الدولة للمحميات الطبيعية.
- 3 اهتمام المصريين القدماء بالنباتات الطبيعية.
- 4 حدوث التغيرات المناخية.
- 5 تسمية عصر الدولة الوسطى بعصر الرخاء الاقتصادي.
- 6 نمو نبات الحلفا وأشجار الكافور على شواطئ الترع.
- 7 يعد منخفض الفيوم جزءا من الأراضي الزراعية رغم وقوعه في الصحراء الغربية .
- 8 أهمية رسم العلماء لخطوط الطول.
- 9 يصاب بعض الأفراد بأمراض الصدر في مصر في فصل الربيع.
- 10 اعتدال الحرارة بالمناطق القريبة من البحار.
- 11 سطوع الشمس على أرض مصر طوال العام.
- 12 يعد الحديد من المعادن المهمة للصناعة المصرية .
- 13 تعمل الدولة على زيادة عدد محطات الطاقة المتجددة.
- 14 أهمية خام الفوسفات في مصر.
- 15 يصعب التعامل حاليا بنظام المقايضة.
- 16 أهمية مصادر الطاقة.
- 17 تشجع مصر حاليا استخدام الهيدروجين الأخضر.
- 18 الأهمية الاقتصادية للنشاط التعدين في مصر.
- 19 اختراع الناس للنقود الورقية.
- 20 يعد الفحم من أهم مصادر الطاقة .
- 21 اهتمام الدولة بإقامة مشروع شرق العوينات.
- 22 بناء القناطر على مجرى النيل.
- 23 حفر المصريون القدماء أحواضا في الأرض الزراعية.
- 24 أهمية الثروة الحيوانية والسمكية في مصر.
- 25 قيام المصريين القدماء بتربية الحمير.
- 26 إنشاء الدولة مجمعات صناعية صديقة للبيئة.
- 27 أهمية طريق الحرير التجاري لمصر.
- 28 ضرورة شراء المنتجات المصرية وتقليل الاستيراد.
- 29 أهمية دوائر العرض في حياتنا اليومية .
- 30 تكون الجليد فوق قمة جبل كاترين.
- 31 حظر صيد الحيوانات والطيور البرية من المحميات.
- 32 شق المصريين القدماء ترعة بحر يوسف .
- 33 قيام الحضارة المصرية القديمة .
- 34 خصوبة منخفض الفيوم رغم وقوعه في الصحراء الغربية.
- 35 زيادة الانبعاثات الدفينة المؤدية إلى التغير المناخي.
- 36 ظهور النقود المعدنية.

بم تفسر.....؟

- 37 المناطق القريبة من البحر المتوسط حرارتها معتدلة.
- 38 تعاقب فصول السنة الأربعة .
- 39 سمى عصر الدولة الحديثة بعصر المجد الحربي.
- 40 أهمية الأودية الجافة.
- 41 ترتفع درجة الحرارة في الأجزاء الجنوبية من مصر في شهر يوليو.
- 42 تأكل الشواطئ الشمالية لمصر.
- 43 تسمية عصر الدولة القديمة بعصر بناء الأهرام.
- 44 تعد مصادر الطاقة من الموارد النادرة.
- 45 أهمية ضبط النمو السكاني.
- 46 الأهمية الاقتصادية لمعدن الحديد.
- 47 الأهمية الاقتصادية لمعدن المنجنيز في مصر.
- 48 أهمية البترول الاقتصادية.
- 49 إنشاء بنك مركزي لكل دولة.
- 50 أهمية رأس المال كأحد عناصر الإنتاج.
- 51 أهمية الصناعة.
- 52 أهمية السد العالي بالنسبة لمصر.
- 53 إنشاء المصريين القدماء المقاييس على النيل.
- 54 اهتمام المصريين القدماء بتربية الطيور.
- 55 تسعى الدولة لتشجيع المواطنين على شراء المنتجات المصرية.

اكتب ما تشير إليه العبارات الآتية:

- 1 هو موقع المكان بالنسبة لخطوط الطول ودوائر العرض.
- 2 الاختلافات والتحويلات في الأحوال المناخية.
- 3 مصادر الطاقة التي تنفذ بالاستخدام.
- 4 الوحدة الأساسية للعملة في مصر.
- 5 السلعة التي اتخذها المصريون القدماء في إتمام عمليتي البيع والشراء.
- 6 عدد الأشخاص الذين يريدون شراء المنتج.
- 8 معدن يستخدم في صناعة الأسمدة الكيماوية والمبيدات الحشرية
- 9 تبادل سلعة بسلعة أخرى.
- 10 تحويل المواد الخام إلى سلع ومنتجات لسد احتياجات الإنسان.
- 11 مشروع تم تنفيذه الزيادة الثروة السمكية في بورسعيد.
- 12 دولة تحتل المركز الأول في إفريقيا للإنتاج السمكي.
- 13 صناعة تتم في المنازل والورش الصغيرة.
- 14 طريق تجاري اشتهر نتيجة ازدهار تجارة التوابل بين إفريقيا وأوروبا.
- 15 تحويل المواد الخام الزراعية والحيوانية والمعدنية إلى سلع ومنتجات.
- 16 سد تم تشييده بالقرب من الفيوم في عهد الملك أمنمحات الثالث .
- 17 أهم طريق ملاحى في مصر و العالم، ويشكل أحد المصادر الرئيسية للعملة الأجنبية لمصر.



ما النتائج المترتبة على.....؟

- 1 قيام الملك مينا بتوحيد البلاد عام ٣٢٠٠ ق.م.
- 2 التعرية المائية والهوائية بالصحراء الغربية.
- 3 دوران كوكب الأرض حول الشمس كل ٣٦٥ يوما وربع اليوم.
- 4 هبوب رياح الخماسين على مصر في فصل الربيع.
- 5 ارتفاع منسوب مياه البحر.
- 6 زيادة الواردات بالنسبة للميزان التجاري المصري.
- 7 إنشاء بنك مركزي في كل دولة .
- 8 استخدام المصري القديم طاقة الرياح.
- 9 ظهور النقود في حياتنا.
- 10 اكتشاف المصري القديم النار.
- 11 اعتماد المصريين القدماء على ري الحياض.
- 12 قيام الدولة بالعديد من مشروعات استصلاح الأراضي.
- 13 إنشاء مشروع بركة غليون بمحافظة كفر الشيخ.
- 14 اهتمام الدولة بتطوير صناعة الغزل والنسيج.
- 15 صادرات مصر أقل من وارداتها.
- 16 إنشاء السدود قديماً وحديثاً على مجرى نهر النيل.
- 17 اهتمام العلماء برسم خطوط الطول ودوائر العرض على الخرائط .
- 18 تعامد الشمس على دائرة الاستواء مرتين في العام .
- 19 وقوع واحة سيوة في قلب الصحراء الغربية.
- 20 استخدام الوسائل التكنولوجية الحديثة في البحث والتنقيب عن المعادن.
- 21 وجود نهر النيل في مصر.
- 22 معرفة المصري القديم الزراعة.
- 23 تنوع الثروات المعدنية والصخور في مصر قديماً.
- 24 افتتاح قناة السويس للملاحة.
- 25 فشل محاولة الوحدة الأولى عام ٤٢٤٢ ق.م .
- 26 الحركات الانكسارية في الصحراء الشرقية بمصر.
- 27 ارتفاع أجزاء من أراضي جنوب سيناء عن مستوى سطح البحر.
- 28 اهتمام المصريين القدماء بتحديد قيمة الضرائب
- 29 التطور العلمي والتكنولوجي المستخدم في الصناعة.
- 30 حفر المصريين القدماء لترعة بحريوسف.

دلل على صحة العبارات الآتية:

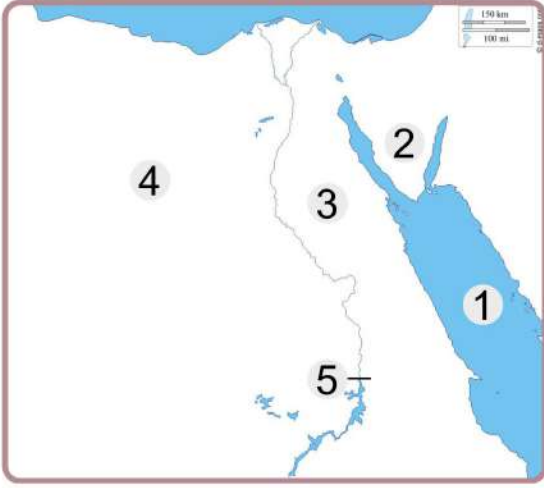


- 1 استفاد المصريون القدماء من موقع مصر المتميز.
- 2 براعة المصريين القدماء في الطب البيطري.
- 3 إنشاء مصر العديد من المدن الصناعية المتخصصة.
- 4 تتعرض النباتات الطبيعية والحيوانات البرية لأخطار متعددة في مصر.
- 5 سجل المصريون القدماء تعاملاتهم التجارية قبل اختراع النقود.
- 6 تعدد استخدامات المياه المالحة في مصر.
- 7 تنوع الصناعات التي تعتمد على معدن الحديد.
- 8 استخدمت أنواع مختلفة من النقود السلعية قديما.
- 9 اهتمام مصر بتنمية الثروة الحيوانية والسمكية.
- 10 التغير المناخى من صنع الإنسان.
- 11 أهمية المياه المالحة .
- 12 ازدهار التجارة الخارجية في عهد الملكة حتشبسوت.
- 13 تعد الجهة الجنوبية من شبه جزيرة سيناء الأكثر ارتفاعا.
- 14 أسهم نهر النيل في قيام الحضارة المصرية القديمة.
- 15 معرفة المصريين القدماء لخصائص النباتات الطبيعية واستخداماتها.
- 16 اهتمام الحكومة المصرية بمواجهة أزمة التغير المناخي.
- 17 استفاد المصريون من أشعة الشمس في تدفئة المياه.
- 18 تؤثر عدة عوامل في سعر السلع.
- 19 التكنولوجيا الحديثة لها دور هام في عملية التعدين.
- 20 تعتمد الدولة على استخدام مصادر الطاقة المتجددة في الصناعة.
- 21 التغيرات المناخية لها تأثير على الإنتاج الحيواني والسمكي في مصر.

الاختبارات النهائية



الاختبار الاول



أمامك خريطة للوطن العربي وضح ما تشير إليه الأرقام التي عليها

- 1 البحر
- 2 جبل جنوب سيناء
- 3 الصحراء
- 4 منطقة لاستخراج الحديد
- 5 السد

وضح سببا واحدا لـ

- 1 أهمية الزراعة في مصر.

اختر الإجابة الصحيحة مما يلي:

- 1 يوجد في الصحراء الشرقية جبل
- (العوينات - شايب البنات - سانت كاترين - موسى)
- 2 تتعامد الشمس على دائرة الاستواء في فصلي بمصر.
- (الصيف والشتاء - الشتاء والربيع - الربيع والخريف - الشتاء والخريف)
- 3 يستخرج من منطقة أم بجمة في سيناء معدن
- (الفوسفات - الذهب - الحديد - المنجنيز)
- 4 إحدى البحيرات العذبة بحيرة
- (البردويل - البرلس - ناصر - المنزلة)
- 5 أنشأت الدولة في الروبيكي مدينة متخصصة في صناعة
- (الأدوية - الجلود - الأواني - المنسوجات)
- 6 تقوم مصر حاليا بتصدير
- (الآلات - السيارات - الحبوب - الفوسفات)
- 7 أحد الأسباب البشرية للتغيرات المناخية.....
- (الزلازل - الفيضانات - إزالة الغابات - البراكين)
- 8 يتم توليد الكهرباء من الشمس في محطة كهرباء.....
- (إسنا - قرية بنبان - الزعفرانة - جبل الزيت)
- 9 ينمو نباتا الحلفا والكافور في.....
- (الوادي والدلتا - سيناء - الصحراء - الساحل الشمالي)

ما النتائج المترتبة على

- 1 تنوع المناخ في مصر؟
- 2 وجود المياه الجوفية بالواحات.
- 3 تعامد الشمس على مدار السرطان.

ضع علامة ✓ أمام العبارة الصحيحة ، وعلامة ✗ أمام العبارة غير الصحيحة

- 1 يقسم خط جرينتش الكرة الأرضية إلى نصفين شمالي وجنوبي.
- 2 تعد مدينة أون هليوبوليس أول عاصمة لمصر الوحدة.
- 3 يعد الهواء والمياه المالحة من الموارد الحرة.
- 4 تعد الطاقة الشمسية من مصادر الطاقة غير المتجددة.
- 5 قسم المصري القديم السنة الزراعية إلى ثلاثة فصول.
- 6 أحد مشاريع الاستزراع السمكي بمصر مشروع بركة غليون.
- 7 تبدو الدلتا على شكل مستطيل.
- 8 تسمح الدولة بالصيد البري والبحري في مناطق المحميات الطبيعية.
- 9 يستخدم معدن الفوسفات في الأسمدة الزراعية والطوب الحراري.

اكتب مقترحا واحدا لـ:

- 1 التقليل من آثار التغير المناخي.

ما المقصود بـ ...؟

- 1 الميزان التجاري .

أكمل العبارات التالية باستخدام الكلمات المناسبة:

(المغارة - نهر النيل - أمنمحات الثالث - الخماسين - تحتمس الثالث - مينا)

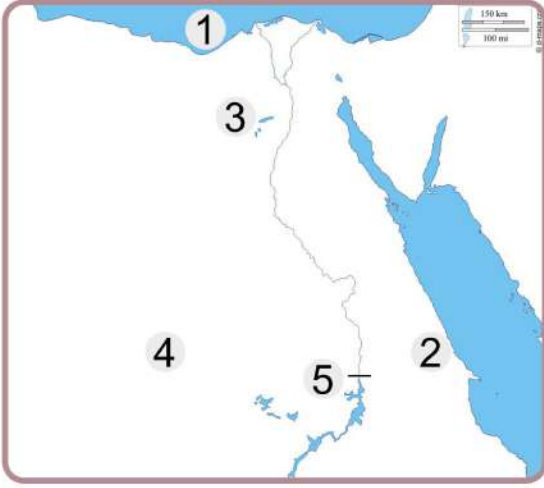
- 1 تهب على مصر في فصل الربيع رياح.....
- 2 الملك الذي قام بتوحيد البلاد سنة 3200 ق من هو.....
- 3 المصدر الرئيسي للمياه العذبة في مصر هو.....
- 4 يستخرج الفحم من منجم جبل شمال سيناء.
- 5 تم إنشاء سد اللاهون في عهد الملك

اكتب تفسيرا واحدا يدل على

- 1 أهمية المياه المالحة.

- 2 نشأة سلاسل جبال البحر الأحمر.

الاختبار الثاني



أمامك خريطة للوطن العربي وضح ما تشير إليه الأرقام التي عليها

- 1 البحر
- 2 سلاسل جبال
- 3 بحيرة مالحة
- 4 منطقة استخراج الفوسفات
- 5 السد

اكتب تفسيراً واحداً للعبارة الآتية

- 1 أهمية الزراعة.

اختر الإجابة الصحيحة مما يلي

- 1 أحد النباتات المائية في مصر
- (الصبار - الزيتون - البوص - النخيل)
- 2 أنشأ الملك قلعة « من - نفر » لتكون عاصمة لمصر.
- (سنوسرت الثالث - مينا - تحتمس الثالث - خفرع)
- 3 صنع المصري القديم أدواته من حجر
- (الصوان - الجرانيت - الفيروز - الألماس)
- 4 يتم توليد الكهرباء من الطاقة الشمسية من محطة
- (الزعفرانة - جبل الزيت - بنبان - السد العالي)
- 5 النقود السلعية عند المصريين القدماء كانت
- (جوز الهند - القمح - الأبقار - الفضة)
- 6 أقام الملك سد اللاهون.
- (مينا - أمنمحات الثالث - تحتمس الثالث - زوسر)
- 7 النقود السلعية عند الإغريق كانت
- (جوز الهند - الأبقار - المعادن المختلفة - القمح)
- 8 أكبر محافظات مصر إنتاجاً للأسماك محافظة
- (بورسعيد - دمياط - الإسكندرية - كفر الشيخ)
- 9 تحويل المواد الخام المختلفة إلى سلع ومنتجات يسمى
- (الزراعة - الصناعة - السياحة - التجارة)

ما المقصود بـ.....؟

- 1 الموقع الجغرافي

ضع علامة ✓ أمام العبارة الصحيحة ، وعلامة ✗ أمام العبارة غير الصحيحة

- 1 تقع معظم مساحة مصر ضمن الإقليم الصحراوي الحار.
- 2 تسمح الدولة بالصيد في مناطق المحميات الطبيعية.
- 3 حرق الوقود الأحفوري من العوامل الطبيعية للتغيرات المناخية.
- 4 يستخدم الفوسفات في صناعة الأسمدة الكيماوية.
- 5 البيع هو إعطاء السلع والخدمات مقابل عملة تستخدمها الدولة.

دلل.....؟

- 1 تعدد موارد المياه المالحة في مصر.

أكمل العبارات التالية بما يناسبها من الكلمات

- 1 حكم الملك مينا مملكة
- 2 ارتبطت مصر بحضارات الصين والهند والعراق قديما عن طريق
- 3 تم تشييد سد اللاهون بالقرب من الفيوم في عهد الملك
- 4 أقل مصادر الطاقة غير المتجددة تلويثا للبيئة هو
- 5 الفرق بين قيمة الواردات وقيمة الصادرات يسمى
- 6 صنع المصري القديم الورق والحبال من نبات

ما النتائج المترتبة على...؟

- 1 هبوب رياح الخماسين على مصر.

أكمل العبارات الآتية بما يناسبها من بنك الكلمات

(الفحم - الجيش القوي - إفريقيا - إسبانيا - العين السخنة - الفأس)

- 1 تقع مصر في شمال شرق قارة
- 2 من العوامل البشرية لقيام الحضارة المصرية القديمة
- 3 من أكبر محطات تحلية المياه المالحة في العالم محطة
- 4 يعتبر من أكثر مصادر الطاقة غير المتجددة تلويثا للبيئة
- 5 استخدم المصريون القدماء لتقليب التربة
- 6 أقامت مصر حديثا علاقات تجارية مع

اذكر جهود الدولة لتنمية الصناعة

الاختبار الثالث



أمامك خريطة للوطن العربي وضح ما تشير إليه الأرقام التي عليها

- 1 البحر
- 2 الصحراء
- 3 السد
- 4 منطقة لاستخراج الحديد
- 5 منطقة لاستخراج المنجنيز

دل على صحة العبارة

- 1 تتعدد العوامل المؤثرة في مناخ مصر.

اختر الإجابة الصحيحة مما يلي:

- 1 أول أسرة حاكمة في مصر تأسست على يد الملك
(أمنحتب الأول - سنوسرت الثالث - أحمس - مينا)
- 2 أحد مصادر الطاقة غير المتجددة
(الغاز الطبيعي - الطاقة الشمسية - طاقة الرياح - الطاقة الكهرومائية)
- 3 تأتي أكبر نسبة من الإنتاج السمكي في مصر من
(نهر النيل - البحر الأحمر - البحر المتوسط - المزارع السمكية)
- 4 تحويل المواد الخام إلى سلع ومنتجات يسمى
(الزراعة - التجارة - السياحة - الصناعة)
- 5 أطلق على عصر الدولة القديمة اسم
(عصر بناء الأهرام - العصر المتأخر - عصر الرخاء الاقتصادي - العصر العتيق)
- 6 الأراضي الشمالية لمصر تقع ضمن إقليم
(البحر المتوسط - المداري - الاستوائي - الصحراوي الحار)
- 7 دائرة عرض رئيسية تمر في جنوب مصر
(دائرة الاستواء - مدار السرطان - مدار الجدي - خط جرينتش)
- 8 عاصمة مصر أثناء الوحدة الأولى كانت مدينة
(أون - منف - بوتو - نخب)
- 9 أحد الأودية الجافة في شبه جزيرة سيناء وادي
(العلاقي - قنا - العريش - دجلة)

ما المقصود بـ

- 1 الأودية الجافة

ضع علامة ✓ أمام العبارة الصحيحة ، وعلامة ✗ أمام العبارة غير الصحيحة

- 1 منخفض القطار من المنخفضات المأهولة بالسكان.
- 2 الطنبور آلة رفع المياه للأراضي الزراعية.
- 3 أنشئ سد اللاهون قديماً لحماية أراضي الفيوم من الفيضان
- 4 تعد محطة جبل الزيت إحدى أكبر محطات توليد الكهرباء من الرياح.
- 5 ترتفع الحرارة في الجبال وتنخفض في الوديان
- 6 أنشأت الدولة مدينة الجلود في الخانكة.

اكتب سبباً واحداً

- 1 أهمية الزراعة بالنسبة للاقتصاد المصري.
- 2 كان المصري القديم دائم التنقل فوق الهضاب .

ما العلاقة بين ؟

- 1 منخفض الفيوم - ترعة بحر يوسف.
- 2 الزجاج - الرمال البيضاء عند المصريين القدماء.

أكمل العبارات الآتية بما يناسبها من بنك الكلمات

(دوائر العرض - الأمطار الشتوية - المتوسط - السكري - بنبان - البنك المركزي المصري - الأحمر)

- 1 تنمو أشجار التين والزيتون على الساحل الشمالي لمصر نتيجة سقوط.....
- 2 يستخرج الذهب من مناجم
- 3 أكبر مشروع لتوليد الطاقة الكهربائية من الشمس يوجد في قرية
- 4 نستطيع تحديد مواقع الأماكن بدقة باستخدام خطوط الطول و
- 5 البنك المسئول عن إصدار النقود الورقية في مصر حالياً
- 6 يصب نهر النيل في البحر

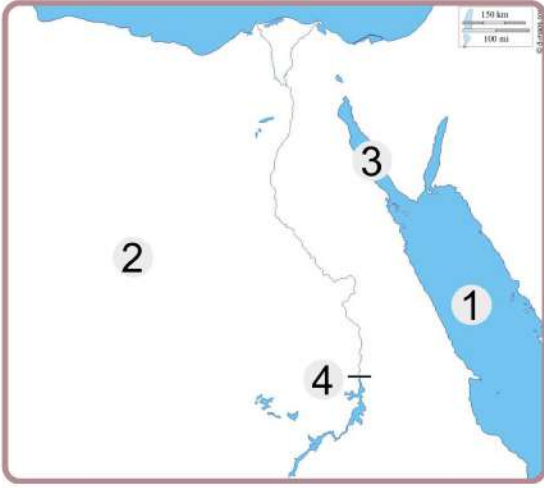
ما النتائج المترتبة على...؟

- 1 هبوب رياح الخماسين.
- 2 تعامد الشمس على مدار السرطان بالنسبة لمصر.
- 3 اختراع النقود.

قارن بين

- 1 الصناعات اليدوية - الصناعات الحديثة.

الاختبار الرابع



أمامك خريطة للوطن العربي وضح ما تشير إليه الأرقام التي عليها

- 1 البحر
- 2 منطقة لإنتاج الحديد
- 3 خليج
- 4 السد

دل على صحة العبارة

- 1 أهمية المياه العذبة.

اختر الإجابة الصحيحة مما يلي

- 1 يتشابه خط جرينتش ودائرة الاستواء في.....
(الشكل - الحجم - الدرجة « صفر » - الطول)
- 2 تعامد الشمس على مدار السرطان يكون في فصل في نصف الكرة الشمالي.
(الشتاء - الصيف - الخريف - الربيع)
- 3 يستخدم معدن في صناعة الحلي.
(الحديد - الذهب - المنجنيز - الفوسفات)
- 4 أكبر محافظة في تربية الحيوانات هي
(كفر الشيخ - بورسعيد - المنوفية - البحيرة)
- 5 تعد من أكبر محطات تحلية المياه محطة
(الزعفرانة - بنبان - العين السخنة - جبل الزيت)
- 6 النقود السلعية عند المكسيك كانت
(الأبقار - القمح - المعادن الثمينة - جوز الهند)
- 7 أقامت الدولة مشروع الفيروز للاستزراع السمكي بمحافظة
(ألقاهرة - القليوبية - الجيزة - بورسعيد)

صوب ما تحته خط

- 1 حرق الوقود من العوامل الطبيعية للتغيرات المناخية.

بم تفسر...؟

- 1 أهمية الغاز الطبيعي .
- 2 أهمية الزراعة بالنسبة لمصر .
- 3 الأهمية الاقتصادية لخام الفوسفات.
- 4 حدوث التغيرات المناخية.

ضع علامة ✓ أمام العبارة الصحيحة ، وعلامة ✗ أمام العبارة غير الصحيحة

- 1 تقع مصر في شمال شرق قارة آسيا.
- 2 أصغر الوحدات التضاريسية في مصر الوادي والدلتا ومنخفض الفيوم.
- 3 الاعتماد على مصادر الطاقة المتجددة يقلل من خطر التغير المناخي.
- 4 كانت لمصر علاقات تجارية قديما مع حضارة الصين.
- 5 تهب رياح الخماسين على مصر في فصل الربيع.
- 6 تعد المحميات الطبيعية مزارات سياحية مهمة.
- 7 يقع مشروع الفرافرة للتنمية الزراعية بالصحراء الشرقية.
- 8 بدأت تربية النحل في مصر خلال العصر الحديث.

اكتب ما تشير إليه كل عبارة

- 1 مساحة من الأرض أو المياه تتميز بوجود نباتات أو حيوانات ذات قيمة ثقافية.
- 2 هي الموارد الموجودة بكميات غير محدودة وتفى بحاجات السكان.
- 3 تحويل المواد الخام الزراعية والحيوانية والمعدنية إلى سلع ومنتجات.
- 4 محافظة مصرية تعد الأولى في الإنتاج السمكي في مصر.

أكمل العبارات الآتية بما يناسبها من بنك الكلمات
(الروبيكي - الشراء - الطوب اللبن)

- 1 بنى المصرى القديم مسكنه من.....
- 2 أخذ السلع والخدمات مقابل الحصول على عملة يسمى
- 3 قامت الدولة بإنشاء مدينة..... التصنيع الجلود في محافظة القاهرة.

اكتب نتيجة واحدة فقط لـ

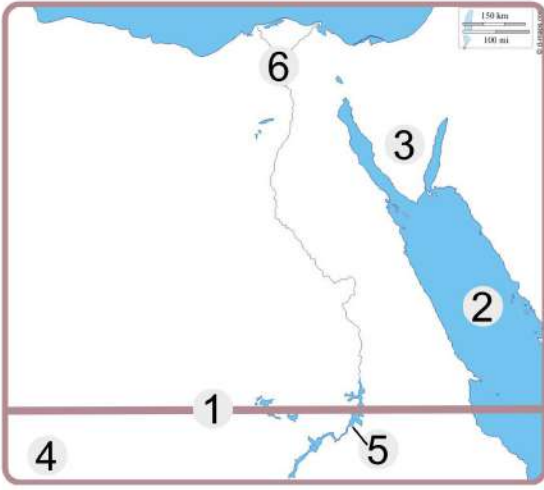
- 1 الحركات الانكسارية بالصحراء الشرقية.

- 2 وجود المياه الجوفية في الواحات.

اكتب اثنين من

- 1 العوامل الطبيعية التي ساعدت في قيام الحضارة المصرية القديمة.

الاختبار الخامس



أمامك خريطة للوطن العربي وضح ما تشير إليه الأرقام التي عليها

- 1 دائرة عرض رئيسية
- 2 البحر
- 3 منطقة لاستخراج المنجنيز
- 4 جبل
- 5 بحيرة
- 6 القناطر

اكتب تفسيراً واحداً لـ

- 1 أهمية موقع مصر الجغرافي.

اختر الإجابة الصحيحة مما يلي:

- 1 الموقع بالنسبة لخطوط الطول ودوائر العرض يسمى الموقع
(الجغرافي - الفلكي - الاستراتيجي - الطبيعي)
- 2 سكن المصري القديمة قبل نزوله إلى وادي النيل في
(المدن - القرى - الكهوف - الأقاليم)
- 3 يصنع الزجاج من الرمال البيضاء التي تنتشر بمصر في
(الصحاري - الوادي - الدلتا - البحار)
- 4 يأتي نحو 80% من إنتاج الأسماك في مصر من
(نهر النيل - البحر الأحمر - البحر المتوسط - المزارع السمكية)
- 5 المحطة التي تنتج نحو نصف إنتاج الكهرباء المولدة من الرياح في مصر هي
(الزعفرانة - السد العالي - جبل الزيت - بنبان)
- 6 ترجع بردية هيرست الطبية إلى عصر الملك
(ميناء - خوفو - أمنحتب الأول - أمنمحات الثالث)
- 7 تفيد دوائر العرض في معرفة
(الوقت - المناخ - التضاريس - اليوم)
- 8 عاش المصري القديم في بداية حياته فوق
(الجبال - التلال - الهضاب - السهول)
- 9 أحد الأنشطة الصناعية التي تسبب تغيير المناخ
(الملابس - البطاريات - الأحذية - الأسمت)

ما رأيك في

- 1 جهود الدولة في إنشاء مشاريع تنمية لزيادة الإنتاج الحيواني.

ضع علامة ✓ أمام العبارة الصحيحة ، وعلامة ✗ أمام العبارة غير الصحيحة

- 1 تسمح الدولة بالصيد البري والبحري في مناطق المحميات الطبيعية.
- 2 أنشأ المصري القديم المقاييس على النيل لتحديد قيمة الضرائب.
- 3 تعد بحيرة البرلس من البحيرات العذبة في مصر.
- 4 ساعد مناخ مصر على تنوع المحاصيل والحفاظ على الآثار.
- 5 كانت مملكة الشمال تضم أقاليم الوجه القبلي.
- 6 إصدار النقود الورقية المصرية من اختصاص البنك المركزي.
- 7 الصحارى المصرية غنية في نباتاتها الطبيعية.
- 8 انتصر الملك تحتمس الثالث على أمير قادش في معركة مجدو .

ما النتائج المترتبة على ؟

- 1 دوران الأرض حول الشمس.
- 2 اتصال نهر النيل بمنخفض الفيوم.

اكتب ما تشير إليه كل عبارة من العبارات التالية

- 1 مسمى أطلق على عصر الدولة الوسطى في مصر القديمة.
- 2 أكثر مصادر الطاقة غير المتجددة تلويثا للبيئة.
- 3 الفرق بين قيمة واردات الدولة وصادراتها.
- 4 كانت مجاري تملؤها المياه قديما ثم جفت.
- 5 قام بتشديد هرمين: أحدهما في دهشور بالجيزة والآخر في هواره بالفيوم.
- 6 صاحب قرار تأميم الشركة العالمية لقناة السويس البحرية شركة مساهمة مصرية

أكمل العبارات الآتية من بنك الكلمات

(الفيضان - الصحراء الغربية - الجدى - أمنمحات الثالث - السرطان - الأجهزة الكهربائية)

- 1 شيد سد اللاهون في عهد الملك
- 2 أول مواسم الزراعة عند المصريين القدماء موسم
- 3 دائرة العرض التي تقع جنوب مصر
- 4 أكبر الوحدات التضاريسية في مصر
- 5 صناعة ظهرت في مصر نتيجة التطور التكنولوجي

أجب عما يلي

- 1 ما العلاقة بين الصناعة والبيئة ؟

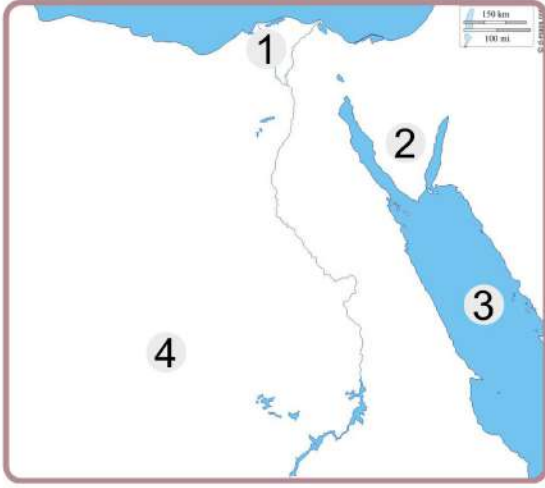
.....

.....

- 1 اكتب واحدة من فوائد المياه المالحة.

.....

.....



الاختبار السادس



أمامك خريطة للوطن العربي وضح ما تشير إليه الأرقام التي عليها

- 1 بحيرة
- 2 شبه جزيرة
- 3 البحر
- 4 يستخرج الفوسفات من منطقة

اختر الإجابة الصحيحة مما يلي:

- 1 واحدة من أكبر المشروعات لتوليد الطاقة الكهربائية من الشمس
(قرية بنبان - خزان أسوان - جبل الزيت - السد العالي)
- 2 من نماذج الموارد النادرة
(الهواء - المياه المالحة - أشعة الشمس - المياه العذبة)
- 3 أحد العوامل البشرية التي ساعدت على قيام الحضارة المصرية القديمة
(الجيش - المناخ - نهر النيل - الموقع الجغرافي)
- 4 تعد مصر الأولى إفريقيا في إنتاج
(الأبقار - الأسماك - الألبان - الأغنام)
- 5 كلما زاد الدخل زادت قدرة الدولة على
(استهلاك الموارد - توفير الخدمات - ترشيد الاستهلاك - زيادة الادخار)
- 6 برع المصري القديم في صناعة الزجاج من
(الرمال السوداء - الرمال البيضاء - طمي النيل - ورق البردي)
- 7 منتج كانت مصر تصدره قديما والآن تستورده، هو
(المعادن - الآلات - البلاستيك - الحبوب)

صنف مصادر الطاقة التالية إلى متجددة وغير متجددة

- 1 (الرياح - الغاز الطبيعي - الشمس - الفحم)

صوب ما تحته خط

- 1 تعد دائرة السرطان هي دائرة العرض الرئيسية.
- 2 يستخدم المصريون حاليا أنظمة حديثة للرى مثل رى الحياض.
- 3 استخدم المصريون العملة الفضية مثل العملة اليونانية قديما.

اذكر سببا واحدا لأهمية كل ما يلي

- 1 خطوط الطول.

- 1 معدن الذهب.

ضع علامة (✓) أمام العبارة الصحيحة ، وعلامة (✗) أمام العبارة غير الصحيحة

- 1 تقع مصر في شمال شرق قارة أوروبا.
- 2 توجد محمية جبل علبة في محافظة البحر الأحمر.
- 3 ساعد مناخ مصر على تنوع المحاصيل الزراعية والحفاظ على الآثار.
- 4 أنشأت الدولة مدينة الجلود في الروبيكي في محافظة الإسكندرية.
- 5 تعد المياه المالحة وأشعة الشمس من الموارد النادرة.
- 6 الهيدروجين الأخضر هو فصل الهيدروجين من الماء.
- 7 ظهرت النقود الورقية نتيجة صعوبة حمل النقود المعدنية.

بم تفسر...؟

- 1 تكون الثلوج فوق قمة جبل سانت كاترين.
- 2 أهمية النباتات الطبيعية في مصر.

لمن تنسب الأعمال الآتية...؟

- 1 أنشأ السد العالي والعديد من المصانع المصرية.
- 2 مؤسس أول أسرة حاكمة في تاريخ مصر.
- 3 شيد هرم دهشور بالجيزة المعروف بالهرم الأسود .

في ضوء العبارة الآتية أجب

(تؤثر التغيرات المناخية على الشعاب المرجانية فتصاب بالضعف مما يؤثر سلبا على السياحة)

- 1 ما العلاقة بين التغيرات المناخية والسياحة ؟
- 2 ما رأيك في الإفراط في استخدام المبيدات والأسمدة الكيماوية في الزراعة ؟

أكمل العبارات التالية بما يناسبها مما بين القوسين

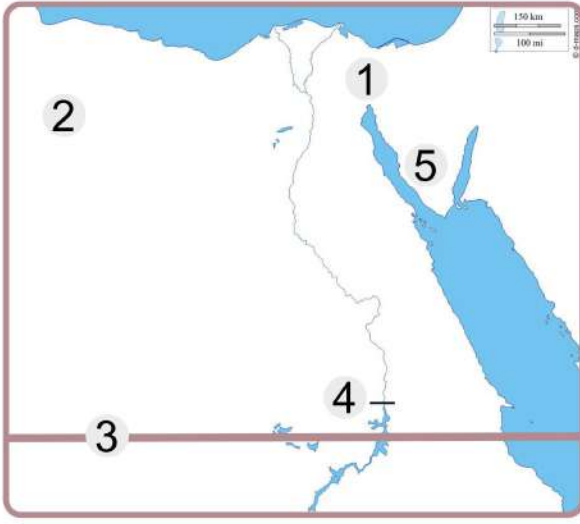
(الشمس - شرق العوينات - القاهرة الدولي - المنجنيز - البنك المركزي -
الأراضي الزراعية - الروبيكي)

- 1 يستخدم في صناعة الصلب والدهانات معدن
- 2 البنك المسئول عن إصدار النقود الورقية هو
- 3 أنشئت مدينة الجلود في
- 4 تمتلك مصر العديد من المطارات الدولية وأشهرها مطار
- 5 أحد الموارد النادرة التي لا تكفي إشباع حاجات الإنسان هي

اكتب المصطلح الذي تدل عليه كل عبارة مما يأتي

- 1 كانت مجارى تملؤها المياه قديما ثم جفت.
- 2 تبادل السلع والخدمات بدون استخدام نقود.

الاختبار السابع



أمامك خريطة للوطن العربي وضح ما تشير إليه الأرقام التي عليها

- 1 ممر ملاحي عالمي
- 2 منخفض
- 3 مدار
- 4 السد
- 5 منطقة استخراج المنجنيز

اختر الإجابة الصحيحة مما يلي:

- 1 تتعامد الشمس في شهر يوليو على
(دائرة الاستواء - مدار الجدي - خط جرينتش - مدار السرطان)
- 2 تم إنشاء سد اللاهون في عهد الملك.....
(أمنحتب الأول - أحمس - رمسيس الثاني - أمنمحات الثالث)
- 3 يقع في شبه جزيرة سيناء جبل
(موسى - العوينات - شايب البنات - علبة)
- 4 أحد مصادر الطاقة غير المتجددة.....
(الشمس - الرياح - البترول - المياه)
- 5 اتخذ الإغريق من نقودا سلعية.
(القمح - الأرز - الأبقار - جوز الهند)
- 6 تتكون الثلوج على قمة جبل سانت كاترين في فصل
(الصيف - الخريف - الربيع - الشتاء)
- 7 برع المصري القديم في صنع الزجاج من
(الرمال السوداء - الرمال البيضاء - طمي النيل - ورق البردي)
- 8 استخدم المصري القديم حجر في صناعة أدواته.
(الرخام - العاج - الصوان - المرمر)
- 9 تعتمد الزراعة في الساحل الشمالي لمصر على مياه
(الآبار - الأمطار الشتوية - نهر النيل - بحيرة ناصر)

ما العلاقة بين

- 1 الصناعة والبيئة.

دل على صحة العبارة

- 1 تهتم مصر بمشروعات التنمية الزراعية.

ضع علامة ✓ أمام العبارة الصحيحة ، وعلامة ✗ أمام العبارة غير الصحيحة

- 1 اختراع النقود سهل عمليتي البيع والشراء.
- 2 كانت مدينة طيبة أول عاصمة لمصر الموحدة عام 4242 ق.م.
- 3 محافظة البحيرة تعد الأولى في تربية الثروة الحيوانية في مصر.
- 4 قيمة الواردات المصرية أكبر من قيمة صادراتها حالياً.
- 5 تستخدم خطوط الطول في تحديد المناخ على سطح الأرض.
- 6 كان الناس قديماً قبل اختراع النقود يتعاملون بنظام المقايضة.
- 7 يعد ملح الطعام من أهم الأملاح المستخرجة من المياه المالحة.
- 8 لقب الملك مينا بعدة ألقاب منها ملك الأرضين وصاحب التاجين.

بم تفسر ؟

- 1 أهمية الجيش القوي في قيام الحضارة المصرية القديمة.
- 2 حظر صيد الحيوانات والطيور البرية من المحميات.

صوب ما تحته خط

- 1 استطاع تكوين أقدم إمبراطورية في التاريخ الملك أمنحتب الأول.
- 2 يدخل في صناعة أسلاك الكهرباء معدن الحديد.
- 3 أحد العوامل الطبيعية التي تؤدي لتغير المناخ إزالة الغابات.
- 4 يعد مشروع الفيروز من أهم المشروعات إنتاجاً للدواجن.

حدد

- 1 استخدامات المياه المالحة في مصر

ما النتائج المترتبة على ... ؟

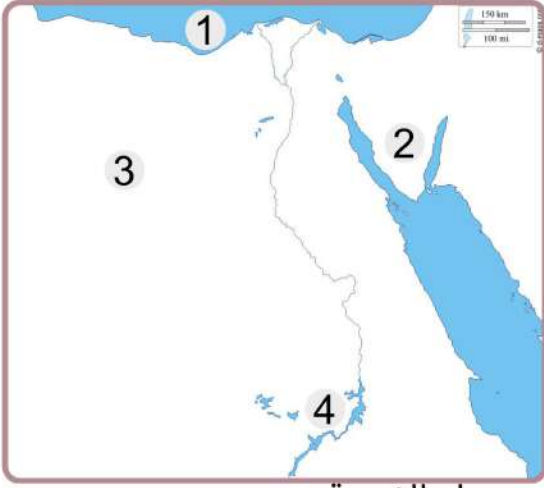
- 1 التغيرات المناخية التي تحدث في العالم

ماذا يحدث إذا ... ؟

- 1 لم يوجد نهر النيل في مصر.

أجب عما يلي

- 1 ما العلاقة بين الصناعة والبيئة ؟
- 2 اكتب واحدة من فوائد المياه المالحة.



الاختبار الثامن



أمامك خريطة للوطن العربي وضح ما تشير إليه الأرقام التي عليها

- 1 البحر
- 2 أعلى قمة جبلية في مصر
- 3 منخفض
- 4 بحيرة

اذكر السبب لما يلي

- 1 خصوبة أراضي منخفض الفيوم برغم وقوعه في الصحراء الغربية.

اختر الإجابة الصحيحة مما يلي:

- 1 عندما تتعامد الشمس على مدار الجدى يحل على مصر فصل
(الخريف - الشتاء - الربيع - الصيف)
- 2 قامت أول إمبراطورية في التاريخ في عهد الملك
(رمسيس الثاني - رمسيس الثالث - تحتمس الثالث - تحتمس الثاني)
- 3 من الموارد الحرة.....
(المياه العذبة - الأرض الزراعية - مصادر الطاقة - المياه المالحة)
- 4 أقل مصادر الطاقة غير المتجددة تلوينا
(البتترول - الفحم - الغاز الطبيعي - الشمس)
- 5 الملك مينا قبل الوحدة كان حاكما لمدينة
(منف - بوتو - أون - طيبة)
- 6 أطلق عصر بناء الأهرام على عصر.....
(العتيق - الدولة القديمة - الدولة الوسطى - الدولة الحديثة)

ما النتائج المترتبة على...؟

- 1 صعوبة نظام المقايضة في تبادل السلع والخدمات.

بم تفسر...؟

- 1 أهمية المياه المالحة في مصر.
- 2 أنشأ الملك مينا جيشا قويا.
- 3 اعتدال الحرارة في المحافظات المطلة على البحر المتوسط.

ما العلاقة بين

- 1 الصناعة والبيئة.

ضع علامة (✓) أمام العبارة الصحيحة ، وعلامة (✗) أمام العبارة غير الصحيحة

- 1 تقع معظم الأراضي المصرية ضمن المناخ المداري.
- 2 تعد مصر فقيرة في الموارد المعدنية .
- 3 مصر من أغنى دول العالم في الطاقة الشمسية.
- 4 تهب رياح الخماسين في فصل الخريف.
- 5 توجد محمية جبل علبة في محافظة البحر الأحمر.
- 6 تطورت أنظمة الري حاليا ومنها الري بالرش.

اكتب ما تشير إليه العبارتان الآتيتان

- 1 تنوع الحياة النباتية والحيوانية على كوكب الأرض.
- 2 الاختلافات والتحولت في الأحوال المناخية.

من هو.....؟

- 1 أسس أول أسرة حاكمة في مصر.
- 2 أصدر قرارا بتأميم شركة قناة السويس.

ضع الكلمة المناسبة في مكانها الصحيح

(جريتتش - الذهب - الجدى - تحتمس - الميزان التجاري - مينا)

- 1 يستخدم في الزينة وصناعة بعض الأدوية.
- 2 خط طول رئيسي يقسم الأرض لنصفين شرقي و غربي هو
- 3 استطاع الملك تكوين أقدم إمبراطورية في التاريخ.
- 4 عندما يأتي فصل الشتاء في مصر تتعامد الشمس على مدار
- 5 لبس الملك التاج المزدوج المملكة الشمال والجنوب.
- 6 هو الفرق بين قيمة واردات الدولة وصادراتها.

صوب ما تحته خط

- 1 أقامت الدولة مشروع الفرافرة في الصحراء الشرقية .
- 2 تحتل محافظة كفر الشيخ المركز الأول في الإنتاج الحيواني.

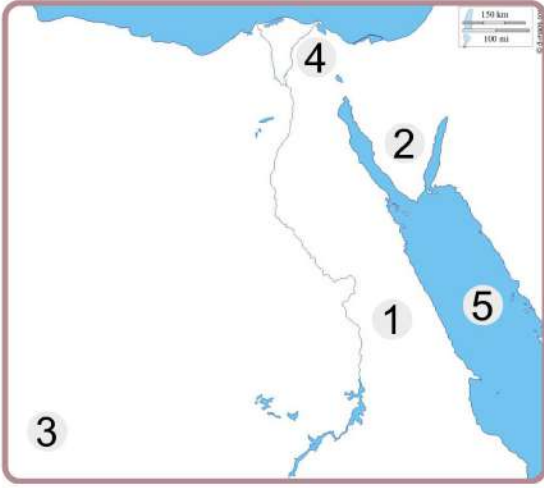
ما المقصود بـ _____

- 1 المحميات الطبيعية.

دل على صحة العبارة:

- 1 يُعد الملك تحتمس الثالث من أعظم القادة العسكريين.

الاختبار التاسع



أمامك خريطة للوطن العربي وضح ما تشير إليه الأرقام التي عليها

- 1 الصحراء
- 2 محمية طبيعية
- 3 هضبة
- 4 أحد فرعي النيل
- 5 البحر

اختر الإجابة الصحيحة مما يلي:

- 1 استورد المصري القديم الحرير والخزف من
(فينيقيا - بونت - الصين - النوبة)
- 2 الموقع بالنسبة الخطوط الطول ودوائر العرض يسمى الموقع
(الجغرافي - الفلكي - الاستراتيجي - البحري)
- 3 تكونت دلتا النيل نتيجة
(التعرية المائية - الحركات الانكسارية - التعرية الهوائية - الانفجارات البركانية)
- 4 معدن يستخدم في صناعة الأسمدة الكيماوية والمبيدات الحشرية
(الفوسفات - النحاس - المنجنيز - الحديد)
- 5 استخدم المصريون القدماء لتدفئة منازلهم.
(الرياح - الفحم - الشمس - البترول)
- 6 تبادل سلعة بسلعة أخرى يسمى
(البيع - الشراء - المقايضة - الإدخار)

من يكونون...؟

- 1 تم في عهده تشييد سد اللاهون.
- 2 أعلن قرارا بتأميم الشركة العالمية لقناة السويس.

اذكر سبباً لـ

- 1 تعاقب فصول السنة الأربعة بانتظام.

دل على صحة العبارة

- 1 يُعد جنوب شبه جزيرة سيناء أكثر أجزائها ارتفاعاً.

ضع علامة ✓ أمام العبارة الصحيحة ، وعلامة ✗ أمام العبارة غير الصحيحة

- 1 تعد قناة السويس أهم طريق ملاحى فى العالم.
- 2 تم اختيار قرية بنبان لتنفيذ أكبر مشروع لتوليد الطاقة الكهرومائية .
- 3 انضم الرئيس الراحل جمال عبد الناصر إلى تنظيم الضباط الأحرار.
- 4 بنى المصري القديم بيوتا صغيرة من الأحجار.
- 5 قام المصريون القدماء بتربية النحل.
- 6 تلعب السياحة دورا مهما فى الاقتصاد المصري.
- 7 تعد بحيرة البرلس من البحيرات العذبة فى مصر.

ما النتائج المترتبة على ؟

- 1 تنوع المناخ فى مصر.
- 2 دوران الأرض حول الشمس مرة كل 365 يوما وربع يوم .

اكتب ما تشير إليه كل عبارة من العبارات التالية

- 1 إقليم مناخى يضم معظم الأراضي المصرية.
- 2 أكثر مصادر الطاقة غير المتجددة التى ينتج عنها تلوث للبيئة.
- 3 حركات أصابت الصخور الصلبة ونتج عنها تكون جبال البحر الأحمر.
- 4 موارد لا تكفى إشباع حاجات السكان وندرته تسبب مشكلة.

أكمل مكان النقاط بالكلمة المناسبة مما بين القوسين

(الأحمر - نهر النيل - الصحراوي - السويس - بحر يوسف - الهضاب - المتوسط)

- 1 زادت أهمية موقع مصر الجغرافى بعد حفر قناة
- 2 قناة السويس تربط البحر..... بالبحر
- 3 تقع معظم الأراضي المصرية ضمن الإقليم.....
- 4 المصري القديم عاش فى البداية على
- 5 يتصل منخفض الفيوم بنهر النيل عن طريق ترعة

ما العلاقة بين ؟

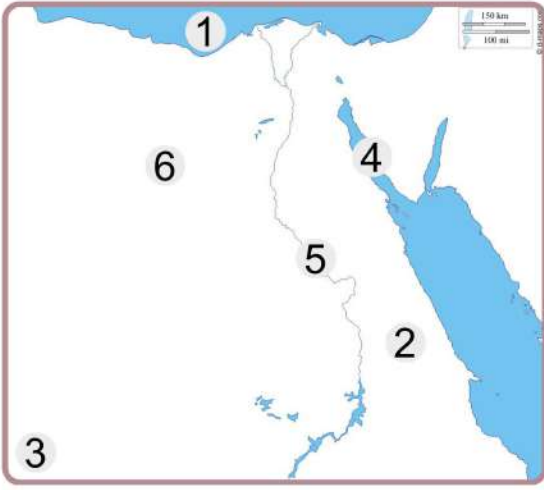
- 1 التغيرات المناخية والشواطئ المصرية.

- 2 النشاط الزراعى والاقتصاد المصري.

اكتب تفسيرا واحدا لـ

- 1 أهمية نهر النيل عند المصري القديم.

الاختبار العاشر



أمامك خريطة للوطن العربي وضح ما تشير إليه الأرقام التي عليها

- 1 البحر
- 2 الصحراء
- 3 جبل
- 4 خليج
- 5 نهر
- 6 منطقة استخراج الحديد

اختر الإجابة الصحيحة مما يلي:

- 1 أحد العوامل الطبيعية لقيام الحضارة المصرية القديمة
(نهر النيل - الجيش القوي - الوحدة - الشعب المصري)
- 2 يستخرج من منطقة السكري
(الذهب - الفضة - المنجنيز - النحاس)
- 3 تقع معظم مساحة مصر في الإقليم
(القطبي - المداري - الصحراوي - الموسمي)
- 4 يوجد مشروع الفيروز السمكي في محافظة
(بورسعيد - كفر الشيخ - المنوفية - دمياط)
- 5 صنع المصري القديم ملابسه من
(الكتان - القطن - الصوف - الحرير)
- 6 عصر المجد الحربي هو عصر الدولة
(القديمة - الحديثة - الوسطى - المتأخر)
- 7 من مصادر المياه العذبة في مصر
(بحيرة البرلس - البحر المتوسط - نهر النيل - بحيرة إدكو)

بم تفسر ...؟

- 1 أهمية المياه المالحة.

اكتب ما تشير إليه العبارة الآتية

- 1 معدن يستخدم في صناعة الأسمدة والمبيدات .

ما النتائج المترتبة على؟

- 1 زيادة صادرات مصر على وارداتها.

ضع علامة ✓ أمام العبارة الصحيحة ، وعلامة ✗ أمام العبارة غير الصحيحة

- 1 توجد محمية جبل علة في محافظة شمال سيناء.
- 2 يوجد مشروع شرق العوينات في شمال مصر.
- 3 البنك الأهلي المصرى هو المسئول عن إصدار النقود في مصر.
- 4 الأسلاك الكهربائية ومقايض الأبواب تصنع من النحاس .
- 5 مصر هي الدولة الأولى في تربية الأبقار.
- 6 تتنوع الحياه النباتية والحيوانية على كوكب الأرض.
- 7 تقع دائرة الجدى جنوب مصر.

أكمل العبارات الآتية بكلمات مناسبة

- 1 تساعد دوائر العرض على معرفة.....
- 2 استبدال سلعة بسعة أخرى يسمى
- 3 يتم توليد الكهرباء من الرياح عن طريق محطة
- 4 استخدم المصريون العديد من القناطر مثل
- 5 عاصمة مملكة الجنوب مدينة
- 6 من فصول السنة الزراعية عند المصرى القديم.....

أكمل العبارات التالية من بنك الكلمات

(التوابل - الميزان التجارى - جنوب سيناء - الصناعة - القمح - الجيزة)

- 1 اتخذ المصريون القدماء سلعة كعملة في إتمام عمليتي البيع والشراء.
- 2 تحويل المواد الخام المختلفة إلى سلع ومنتجات لسد احتياجاتنا يسمى.....
- 3 كانت مصر مركزا للتجارة الدولية قديما عبر طريقين هما طريق الحرير و طريق
- 4 تقع محمية نبق في محافظة.....
- 5 الفرق بين قيمة واردات الدولة وصادراتها يسمى.....

اكتب نتيجة واحدة

- 1 هبوب رياح الخماسين على مصر في فصل الربيع.

دل على صحة العبارة التالية

- 1 منخفض الفيوم متميز عن باقي منخفضات الصحراء الغربية.

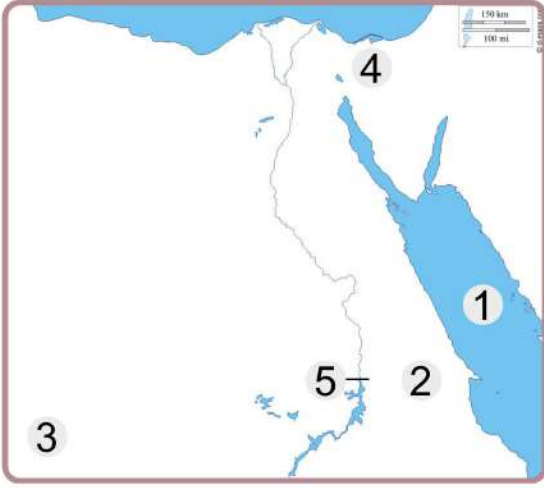
ما العلاقة بين ...؟

- 1 مصادر الطاقة المتجددة والبيئة.

الاختبار الحادي عشر



أمامك خريطة للوطن العربي وضح ما تشير إليه الأرقام التي عليها



- 1 البحر
- 2 الصحراء
- 3 هضبة
- 4 قناة
- 5 السد

قارن بين

1 الوحدة الأولى والوحدة الثانية في مصر القديمة، من حيث:

العاصمة منفذ تلك الوحدة

اختر الإجابة الصحيحة مما يلي:

- 1 تساعد خطوط الطول في تحديد
- 2 أحد أهم العوامل البشرية لقيام الحضارة المصرية القديم
- 3 تعد مدينة أسوان في مصر ضمن الإقليم
- 4 أي من مصادر الطاقة التالية يستخدم في صناعة الصلب؟
- 5 إلى أي محافظة ينتمي مشروع الفيروز لزيادة إنتاج الثروة السمكية؟
- 6 من النباتات المائية في وادي النيل والدلتا ومنخفض الفيوم
- 7 أحد العوامل البشرية التي ساعدت على قيام الحضارة المصرية القديمة
- 8 تعد محطة من أكبر محطات تحلية مياه البحر في العالم.

بم تفسر....؟

1 الأهمية الاقتصادية للطاقة في مصر.

دل على صحة العبارة

1 تعدد استخدامات المياه المالحة.

ضع علامة ✓ أمام العبارة الصحيحة ، وعلامة ✗ أمام العبارة غير الصحيحة

- 1 يقع مدار الجدي في نصف الكرة الجنوبي.
- 2 العصر العتيق بدأ بتوحيد البلاد على يد الملك مينا.
- 3 تعد المحميات الطبيعية مزارات سياحية.
- 4 الموارد الحرة تسبب مشكلة للسكان.
- 5 مصادر الطاقة غير المتجددة صديقة للبيئة.
- 6 إحدى مصادر المياه المالحة في مصر بحيرة البردويل.
- 7 يمر مدار السرطان شمال مصر.
- 8 التغير المناخي يؤثر سلبا على السياحة.
- 9 خط الطول الرئيسي هو خط جرينتش.

أكمل العبارات الآتية بكلمات مناسبة

- 1 تقع مصر بقارة إفريقيا في الركن
- 2 يصب نهر النيل في
- 3 مصدر المياه العذبة في الواحات المصرية هي المياه
- 4 استطاع المصري القديم صناعة الأسلحة باستخدام معدن البرونز و
- 5 تبادل السلع والخدمات بدون استخدام النقود يعرف بنظام
- 6 استخدم المصريون القدماء الرمال البيضاء في صناعة

ما النتائج المترتبة على

- 1 الإفراط في استخدام المبيدات والأسمدة الكيماوية في الزراعة.

أكمل العبارات التالية من بنك الكلمات

(الورق - المقايضة - الوقود الأحفوري - البحر الأحمر - الميزان التجاري - الإسكندرية)

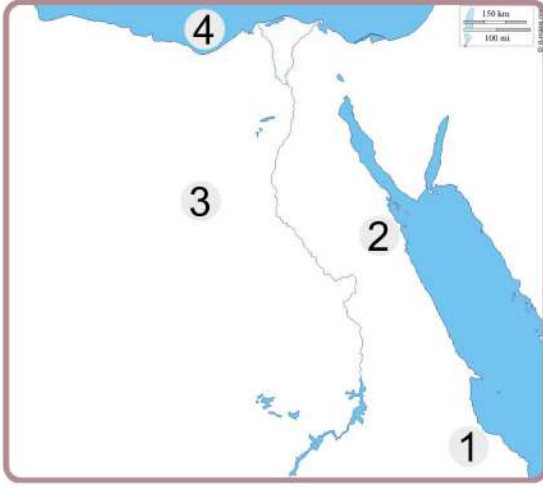
- 1 الفرق بين قيمة واردات الدولة وصادراتها يسمى
- 2 استخدم المصري القديم نبات البردي في صناعة
- 3 يحدث التغير المناخي نتيجة الأنشطة البشرية ومنها حرق
- 4 تبادل سلعة بسلعة أخرى يسمى
- 5 تقع محمية جبل علبة في محافظة

اكتب اثنين من

- 1 الأدوات التي استخدمها المصري القديم في الزراعة.

اذكر أهمية اقتصادية واحدة لـ

- 1 خام الفوسفات.



الاختبار الثاني عشر



- أمامك خريطة للوطن العربي وضح ما تشير إليه الأرقام التي عليها
- 1 **صوب** : يشير رقم (1) إلى محمية **رأس محمد**
 - 2 محطة لتوليد الكهرباء من الرياح
 - 3 منطقة لاستخراج معدن
 - 4 اختر : يشير رقم (4) إلى البحر المتوسط ، ،

اختر الإجابة الصحيحة مما يلي:

- 1 يتشابه خط جرينتش ودائرة الاستواء في
 - 2 النقود السلعية عند الإغريق كانت.....
 - 3 أفضل شهور السنة لزيارة مدينة الأقصر.....
 - 4 أنشأت الدولة مدينة متخصصة في الخانكة الصناعة.....
 - 5 تحتل محافظة..... المركز الأول في الإنتاج السمكي في مصر.
 - 6 أقل مصادر الطاقة غير المتجددة تلويثا للبيئة هو
 - 7 تبادل سلعة بسلة أخرى يسمى
- (الشكل - الحجم - الدرجة - الطول)
(القمح - الإبل - الأبقار - جوز الهند)
(يونيو - يوليو - أغسطس - ديسمبر)
(الزجاج - الجلود - الدواء - الملابس)
(القاهرة - كفر الشيخ - الفيوم - الوادي الجديد)
(البترول - الفحم - الغاز الطبيعي - الشمس)
(البيع - المقايضة - الشراء - الادخار)

اكتب نتيجة واحدة ترتبت على

- 1 إنشاء بركة غليون بمحافظة كفر الشيخ.
- 2 هبوب رياح الخماسين على مصر في فصل الربيع.

ما المقصود بـ؟

- 1 التغير المناخي.

بم تفسر؟

- 1 اتجاه العالم إلى الهيدروجين الأخضر.

- ضع علامة ✓ أمام العبارة الصحيحة ، وعلامة ✗ أمام العبارة غير الصحيحة
- 1 استقبلت مصر تجارة التوابل عن طريق مدينة القاهرة.
 - 2 تهب رياح الخماسين على مصر في فصل الربيع .
 - 3 تحتل محافظة كفر الشيخ المركز الأول في تربية الحيوانات بمصر.
 - 4 عاش المصري القديم في البداية فوق الهضاب وسكن الكهوف.
 - 5 أنشأت الدولة مدينة الروبيكي لصناعة الدواء.
 - 6 تصدرت الأبقار المركز الأول من حيث عدد رعوس الحيوانات في مصر.
 - 7 تعتبر الأراضي الزراعية من الموارد الحرة.

من يكون؟

- 1 رئيس مصرى راحل وأعلن تأميم الشركة العالمية لقناة السويس
- 2 أحد ملوك الأسرة الثامنة عشرة، ومن أشهر معاركه معركة مجدو.

أكمل العبارات الآتية بكلمات مناسبة

- 1 تكونت أصغر الوحدات التضاريسية في مصر نتيجة
- 2 استخدم المصري القديم الرمال البيضاء في صناعة
- 3 دائرة العرض الرئيسية هي
- 4 أول فصول السنة الزراعية في مصر القديمة هو

حدد المختلف فيما يأتي

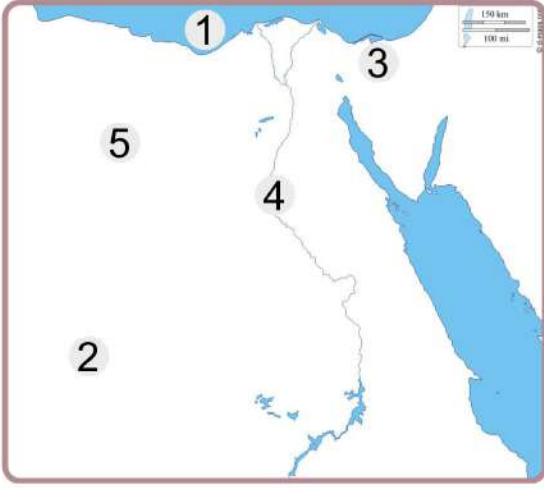
- 1 (البردويل - ناصر - البرلس - مربوط)

صوب ما تحته خط

- 1 موقع المكان بالنسبة لليابس والماء يسمى بالموقع الفلكي.
- 2 البنك المسئول عن إصدار النقود الورقية في مصر هو البنك الأهلي.

اكتب ما تشير إليه العبارات الآتية:

- 1 تحويل المواد الخام الزراعية والحيوانية والمعدنية إلى سلع ومنتجات.
- 2 عبارة عن رواسب فيضية تكونت عند مصب نهر النيل على شكل مثلث.
- 3 رياح تهب على مصر في الربيع وتسبب أضراراً للإنسان والزراعة.
- 4 يعد من مصادر الطاقة غير المتجددة وأقلها تلويثاً للبيئة.



الاختبار الثالث عشر



أمامك خريطة للوطن العربي وضح ما تشير إليه الأرقام التي عليها

- 1 البحر
- 2 الصحراء
- 3 بحيرة
- 4 قناطر
- 5 منطقة لاستخراج الحديد

اختر الإجابة الصحيحة مما يلي:

- 1 كان الملك مينا حاكمًا لمدينة قبل تحقيق الوحدة.
(نخب - بوتو - أون - طيبة)
- 2 أحد نماذج الموارد الحرة
(الهواء - المياه العذبة - البترول - الغاز الطبيعي)
- 3 استطاع المصريون القدماء توصيل المياه للمناطق البعيدة عن نهر النيل عن طريق شق
(البحار - الترغ - الهضاب - الأنهار)
- 4 إحدى أكبر محطات إنتاج الكهرباء من الطاقة الشمسية محطة
(قناطر إسنا - بنبان - الزعفرانة - جبل الزيت)
- 5 أرسلت الملكة حتشبسوت بعثات تجارية إلى بلاد.....
(العراق - بونت - الصين - الهند)
- 6 إحدى النباتات المائية في وادي النيل والدلتا ومنخفض الفيوم.....
(الكافور - اللوز - البوص - الجميز)

بم تفسر ...؟

- 1 أهمية خطوط الطول.

ما أوجه التشابه والاختلاف بين كل من

- 1 السد العالي وسد اللاهون.

صنف الكلمات التالية إلى مياه عذبة ومياه مالحة

- 1 (بحيرة مريوط - نهر النيل - بحيرة ناصر - البحر الأحمر)

وضح

- 1 جهود الدولة لتنمية الثروة السمكية.



- ضع علامة ✓ أمام العبارة الصحيحة ، وعلامة ✗ أمام العبارة غير الصحيحة
- 1 عاش المصري القديم فوق الهضاب وسكن الكهوف قبل أن يستقر بالوادي.
 - 2 تكونت جبال البحر الأحمر في الصحراء الشرقية نتيجة الحركات الانكسارية.
 - 3 تفضل الأسر المصرية زيارة أسوان في فصل الصيف.
 - 4 ترجع بردية إبيرس وهيرست إلى عهد الملك سنوسرت الثالث.
 - 5 تعد الأنشطة الصناعية من العوامل البشرية لحدوث التغير المناخي.
 - 6 لعب نهر النيل دورا مهما في قيام الحضارة المصرية القديمة.
 - 7 تبدو الصحراء الغربية على شكل مثلث.
 - 8 استخدم المصري القديم النار في الطهي والتدفئة.

اكتب ما تشير إليه كل عبارة من العبارات التالية

- 1 مدينة كان الملك مينا قبل تحقيقه للوحدة حاكما لها.
- 2 ملكة قامت بإرسال بعثات تجارية إلى بلاد بونت.
- 3 أكبر محافظات مصر للإنتاج الحيواني من الأبقار.
- 4 أخذ السلع والخدمات مقابل عملة تستخدمها الدولة.

أكمل العبارات الآتية بكلمات مناسبة

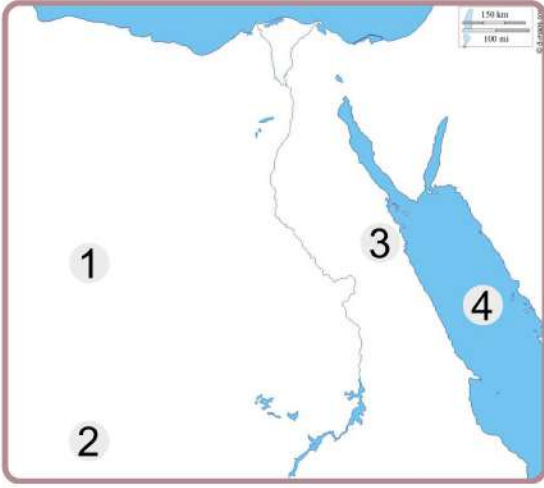
- 1 تبادل سلعة بسلعة أخرى دون استخدام النقود يسمى
- 2 استخدم المصري القديم..... في تسيير المراكب الشراعية.
- 3 يستخدم في صناعة الطوب الحراري خام
- 4 تعتدل درجات الحرارة في فصل.....
- 5 صنع المصري القديم الحبال والورق من
- 6 موقع المكان بالنسبة لخطوط الطول ودوائر العرض هو.....

أكمل العبارات التالية بما يناسبها من الكلمات الآتية

(التغير المناخي - الطاقة الكهرومائية - العين السخنة - الجفاف - كفر الشيخ - الفحم)

- 1 نزل المصري القديم إلى وادي النيل بسبب حلول.....
- 2 الاختلافات والتحويلات في أحوال المناخ تسمى
- 3 واحدة من أكبر محطات تحلية مياه البحر في العالم هي محطة.....
- 4 تعد من مصادر الطاقة المتجددة وصديقة للبيئة
- 5 أكبر المحافظات إنتاجا للأسماك محافظة

الاختبار الرابع عشر



أمامك خريطة للوطن العربي وضح ما تشير إليه الأرقام التي عليها

- 1 منطقة تنتشر بها مناجم الحديد
- 2 من مشروعات التنمية الزراعية
- 3 محطة لتوليد الكهرباء من الرياح
- 4 أحد مصائد المياه المالحة

اختر الإجابة الصحيحة مما يلي:

- 1 عاش المصري القديم في بداية حياته فوق
(الجبال - الهضاب - التلال - السهول)
- 2 من الأخطار التي تتعرض لها الحيوانات البرية في مصر
(السيول - ردم الآبار - الصيد الجائر - زحف الرمال)
- 3 تقع معظم مساحة مصر ضمن الإقليم
(الاستوائي - المداري - الموسمي - الصحراوي)
- 4 عامل بشري ساعد على قيام الحضارة المصرية القديمة
(المناخ المعتدل - الموقع الجغرافي - إقامة حكومة مركزية - وجود نهر النيل)
- 5 تكونت جبال البحر الأحمر نتيجة
(التعرية المائية - التعرية الهوائية - الحركات الانكسارية - الحركات الالتوائية)
- 6 اكتشف المصري القديم النحاس في العصر
(الحجري القديم - الحجري الحديث - المعادن - الجليدي)
- 7 تنمو أشجار التين في الساحل الشمالي في
(سيناء - الصحراء الشرقية - الصحراء الغربية - ساحل البحر المتوسط)
- 8 مؤسس أول أسرة حاكمة هو الملك
(مينا - أمنمحات الثالث - أحمس - سنوسرت الثالث)
- 9 يساعد الموقع الجغرافي في تحديد موقع المكان بالنسبة إلى
(دائرة الاستواء - خط جرينتش - اليابس والماء - مدار الجدى)

ما العلاقة بين

- 1 الصناعة والبيئة.

ما الأثر السلبي الناتج عن ضعف وموت الشعاب المرجانية ؟

أيد بالأدلة التاريخية صحة العبارتين التاليتين

- 1 اهتمام الحكومة المصرية بمواجهة أزمة التغير المناخي.
- 2 يعد منخفض الفيوم مميذا عن باقي منخفضات مصر.

ضع علامة ✓ أمام العبارة الصحيحة ، وعلامة ✗ أمام العبارة غير الصحيحة

- 1 يمر مدار الجدي في جنوب مصر.
- 2 استخدم المصريون القدماء الري بالرش.
- 3 يعد الغاز الطبيعي أكبر مصادر الطاقة تلويثا للبيئة.
- 4 انشأت الدولة مدينة الخانكة لصناعة الدواء.
- 5 الأودية الجافة مجار كانت تملؤها المياه قديما ولكنها جفت.
- 6 تسمح الدولة بالصيد البري في مناطق المحميات الطبيعية.
- 7 استخدم المصريون حديثا ري الفيض في الأراضي الزراعية.

من يكون...؟

- 1 أقام أقدم إمبراطورية في التاريخ.
- 2 أعلن قرارا بتأميم الشركة العالمية لقناة السويس.
- 3 أنشأ سد اللاهون قديما لحماية أراضي الفيوم من الفيضان.

أكمل العبارات الآتية بكلمات مناسبة

- 1 تولى الملك أمنمحات الثالث الحكم بعد وفاة
- 2 تولى الرئيس جمال عبد الناصر الحكم خلفا لـ
- 3 خرج الملك مينا من مدينة

ما النتائج المترتبة على.....؟

- 1 إنشاء السدود قديما وحديثا على نهر النيل.
- 2 التعرية المائية والهوائية بالصحراء الغربية.

أكمل العبارات التالية من بنك الكلمات

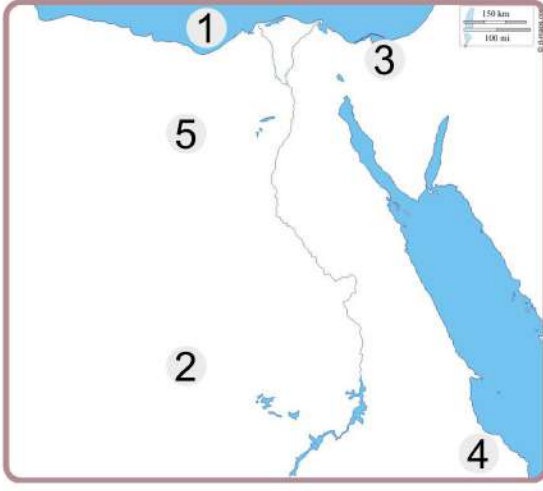
(الشمس - الهضاب - الحديد - القطار - النحاس)

- 1 عاش المصري القديم في البداية فوق
- 2 أحد أكبر المنخفضات في مصر منخفض
- 3 تصنع أسلاك الكهرباء من معدن
- 4 تدور الأرض مرة كل ٣٦٥ يوما وربع حول

ما المقصود بكل من ...؟

- 1 الموقع الجغرافي.

- 2 الميزان التجاري.



الاختبار الخامس عشر



أمامك خريطة للوطن العربي وضح ما تشير إليه الأرقام التي عليها

- 1 البحر
- 2 الصحراء
- 3 بحيرة
- 4 محمية
- 5 منطقة لاستخراج الحديد

اختر الإجابة الصحيحة مما يلي:

- 1 تفيد دوائر العرض في معرفة.....
- 2 عاش المصري القديم في بداية حياته فوق
- (الوقت - المناخ - التضاريس - اليوم)
- 3 أحد الأنشطة الصناعية التي تسبب التغير المناخي صناعة
- (اللباس - البطاريات - الأحذية - الأسمت)
- 4 حرك المصري القديم المراكب الشراعية باستخدام طاقة.....
- (الشمس - الرياح - البترول - الغاز)
- 5 برع المصري القديم في صناعة الزجاج من
- (الرمال السوداء - الرمال البيضاء - طمي النيل - ورق البردي)
- 6 منتج كانت مصر تصدره قديما والآن تستورده هو
- (المعدن - الآلات - البلاستيك - الحبوب)
- 7 أحد العوامل البشرية لقيام الحضارة المصرية القديمة
- (الموقع الجغرافي - الجيش - نهر النيل - المناخ)
- 8 تصل مياه النيل إلى منخفض الفيوم من خلال ترعة
- (الإسماعيلية - الإبراهيمية - بحر يوسف - السلام)
- 9 يدخل الفحم في صناعة
- (الأثاث - الأدوية - السيارات - الحلي)

اكتب اثنين من

- 1 العوامل الطبيعية التي ساعدت في قيام الحضارة المصرية القديمة.

.....

اكتب ما تدل عليه العبارات التالية

- 1 تحويل المواد الخام الزراعية والحيوانية والمعدنية إلى سلع ومنتجات.

.....

- 2 محافظة مصرية تعد الأولى في الإنتاج السمكي في مصر.

.....

ضع علامة ✓ أمام العبارة الصحيحة ، وعلامة ✗ أمام العبارة غير الصحيحة

- 1 عاش المصري القديم فوق الهضاب وسكن الكهوف قبل أن يستقر بالوادي.
- 2 تكونت جبال البحر الأحمر في الصحراء الشرقية نتيجة الحركات الانكسارية.
- 3 تفضل الأسر المصرية زيارة أسوان في فصل الصيف.
- 4 ترجع بردية إبيرس وهيرست إلى عهد الملك سنوسرت الثالث.
- 5 تعد الأنشطة الصناعية من العوامل البشرية لحدوث التغير المناخي.
- 6 يحل فصل الشتاء في مصر عندما تتعامد الشمس على مدار السرطان.
- 7 يساعد الهيدروجين الأخضر على تقليل انبعاث الكربون الملوث للهواء.
- 8 تعد مياه البحار والمحيطات من الموارد النادرة.

اذكر اثنين لكل من

- 1 المطارات الدولية التي تمتلكها مصر.
- 2 الصناعات التي توجد في مصر حاليا.

اكتب سببا واحدا لـ:

- 1 اهتمام الدولة قديما وحديثا بالثروة الحيوانية.
- 2 تشييد الملك أمنمحات الثالث سد اللاهون.

اكتب نتيجة واحدة ترتبت على كل من

- 1 الحركات الانكسارية بالصحراء الشرقية.
- 2 وجود المياه الجوفية في الواحات.

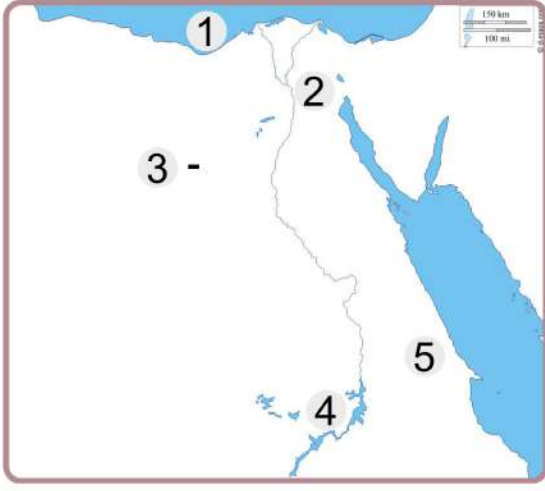
صوب ما تحته خط

- 1 تم إنشاء مشروع الفيروز في محافظة كفر الشيخ للاستزراع السمكي.
- 2 تقع مصر في شمال شرق قارة آسيا.

أكمل العبارات التالية بما يناسبها من الكلمات

(المغارة - الفيضان - الانفجارات البركانية - جمال عبد الناصر - الجغرافي - محمد أنور السادات)

- 1 أحد العوامل الطبيعية للتغيرات المناخية
- 2 موقع المكان بالنسبة لليابس والماء هو الموقع
- 3 يستخرج الفحم من منجم جبل شمال سيناء.
- 4 أول فصول السنة الزراعية عند المصريين القدماء هو فصل
- 5 تم بناء السد العالي في عهد الرئيس



الاختبار السادس عشر



أمامك خريطة للوطن العربي وضح ما تشير إليه الأرقام التي عليها

- 1 البحر
- 2 فرع
- 3 منطقة لاستخراج الحديد
- 4 بحيرة
- 5 الصحراء

اختر الإجابة الصحيحة مما يلي:

1 يتشابه خط جرينتش ودائرة الاستواء في

(الشكل - الحجم - الدرجة «صفر» - الطول)

2 قسم المصريون السنة الزراعية إلى فصول .

(ثلاثة - أربعة - خمسة - ستة)

3 بدأ في عهد الرئيس جمال عبد الناصر بناء مشروع

(سد اللاهون - السد العالي - خزان أسوان - نهر النيل)

4 تزيد حدة التغير المناخي من توقع غرق الأجزاء الشمالية لعدة محافظات منها

(أسوان - الإسكندرية - قنا - سوهاج)

5 المناطق الصحراوية فقيرة في نباتاتها الطبيعية بسبب

(زيادة الزراعة - اعتدال المناخ - زيادة العمران - ندرة المياه)

6 إذا قامت الدولة بإزالة الغابات فهي بذلك تساعد على

(زيادة الطاقة - تقليل مساحات الزراعة - حدوث التغير المناخي - مواجهة التغير المناخي)

7 كانت العملة السلعية عند المصريين القدماء هي

(الأبقار - القمح - جوز الهند - الذرة)

8 أكبر محافظات مصر في تربية الحيوانات هي

(البحيرة - المنوفية - الدقهلية - الشرقية)

9 تتركز معظم الأراضي الزراعية في

(وادي النيل - سيناء - منخفض الفيوم - دلتا النيل)

اكتب ما تشير إليه العبارتان الآتيتان

1 تنوع الحياة النباتية والحيوانية على كوكب الأرض.

2 الاختلافات والتحولت في الأحوال المناخية.

بم تفسر؟

1 اهتم المصريون القدماء بإقامة السدود.

ضع علامة ✓ أمام العبارة الصحيحة ، وعلامة ✗ أمام العبارة غير الصحيحة

- 1 يحل فصل الشتاء في مصر عندما تتعامد الشمس على مدار السرطان.
- 2 يساعد الهيدروجين الأخضر على تقليل انبعاث الكربون الملوث للهواء.
- 3 تعد مياه البحار والمحيطات من الموارد النادرة.
- 4 يمكنك المقايضة مع شخص لديه نفس السلعة التي معك .
- 5 ساعد نهر النيل على نشأة وازدهار الحضارة المصرية القديمة.
- 6 تهب رياح الخماسين على مصر خلال شهور فصل الشتاء.
- 7 تكونت أقدم إمبراطورية في التاريخ على يد الملك رمسيس الثاني.
- 8 تعد بحيرة البرلس أحد مصادر المياه العذبة في مصر.

اذكر مثالين لكل من

- 1 المطارات الدولية التي تمتلكها مصر.
- 2 الصناعات التي توجد في مصر.

ما النتائج المترتبة على ؟

- 1 وقوع واحة سيوة في الصحراء الغربية.
- 2 ارتفاع واردات مصر عن صادراتها.
- 3 زيادة واردات مصر على صادراتها.
- 4 تعامد الشمس على دائرة الاستواء مرتين في العام.

أكمل العبارات التالية بما يناسبها من الكلمات
(الشمس - الهضاب - الحديد - القطار - النحاس)

- 1 عاش المصري القديم في البداية فوق
- 2 يعتبر منخفض..... غير مأهول بالسكان.
- 3 تصنع أسلاك الكهرباء من معدن.....
- 4 تدور الأرض مرة كل 365 يوما اليوم وربع حول

بم تفسر

- 1 خصوبة منخفض الفيوم رغم وقوعه بالصحراء الغربية.
- 2 زيادة الانبعاثات المؤدية إلى التغير المناخي.

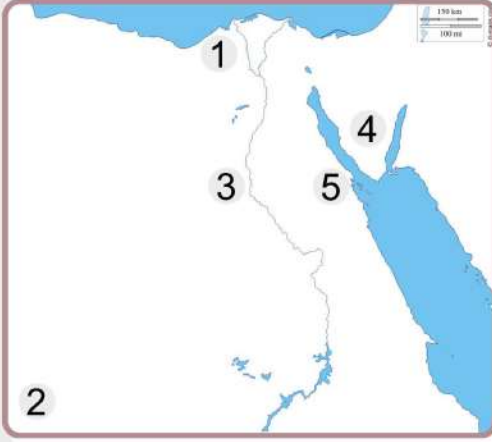
صوب ما تحته خط

- 1 تم إنشاء مشروع الفيروز في محافظة كفر الشيخ للاستزراع السمكي.
- 2 تقع مصر في شمال شرق قارة آسيا.

الاختبار السابع عشر



أمامك خريطة للوطن العربي وضح ما تشير إليه الأرقام التي عليها



- 1 مشروع زراعي.....
- 2 صواب أم خطأ: يشير الرقم (2) إلى هضبة مارمريكا.
- 3 أحد موارد المياه العذبة في مصر
- 4 منطقة لاستخراج المنجنيز
- 5 أكبر محطة لتوليد الكهرباء من الرياح

اختر الإجابة الصحيحة مما يلي:

- 1 يمر مدار السرطان في مصر من جهة
- (الشمال - الجنوب - الشرق - الغرب)
- 2 الاختلافات والتحولت في الأحوال المناخية عن المعتاد تعرف باسم
- (السياحة البيئية - الشعاب المرجانية - التغيرات المناخية - الأقاليم المناخية)
- 3 أكثر مصادر الطاقة تلويثا للبيئة
- (الفحم - البترول - الرياح - الغاز الطبيعي)
- 4 البنك المسئول عن إصدار النقود الورقية في مصر هو
- (بنك القاهرة - البنك الأهلي - بنك مصر - البنك المركزي)
- 5 أكبر محافظات مصر في تربية الحيوانات هي محافظة
- (المنوفية - البحيرة - كفر الشيخ - القليوبية)
- 6 عملية تحويل المواد الخام إلى سلع ومنتجات لسد الاحتياجات تعرف ب
- (التجارة - الصناعة - الزراعة - التعدين)
- 7 تهب رياح الخماسين في فصل
- (الصيف - الشتاء - الربيع - الخريف)
- 8 يمكن استخراج ملح الطعام من
- (فرع دمياط - البحر الأحمر - نهر النيل - بحيرة ناصر)
- 9 يستخدم المنجنيز في صناعة
- (الصلب - الأسمدة - الطوب الحراري - المبيد الحشري)

بم تفسر...؟

- 1 أهمية دوائر العرض في حياتنا اليومية.
- 2 تنوع النباتات الطبيعية في مصر.

ما العلاقة بين

- 1 الصناعة والبيئة.

ضع علامة ✓ أمام العبارة الصحيحة ، وعلامة ✗ أمام العبارة غير الصحيحة

- 1 من العوامل البشرية لقيام الحضارة المصرية القديمة الجيش القوي.
- 2 ترجع برديتا هيرست وإيرس إلى عصر الملك أمنحتب الأول.
- 3 الموارد النادرة موجودة بكميات غير محدودة وتفي بحاجة السكان ولا تسبب مشكلة .
- 4 من أكبر مشروعات توليد الطاقة الشمسية في مصر بتيان بأسوان.
- 5 تم إنشاء مشروع الاستزراع السمكي (بركة غليون) بمحافظة الجيزة.
- 6 أنشأ المصري القديم المقاييس على النيل لتحديد قيمة الضرائب.
- 7 تهتم الدولة بتنمية الثروة الحيوانية وتقليل الاستيراد.

صوب ما تحته خط

- 1 تعد بحيرة البرلس من البحيرات العذبة في مصر.
- 2 يمر مدار السرطان بأراضي مصر الشمالية.
- 3 انتصر الملك ميناء على أمير قادش وسيطر على بلاد الشام.
- 4 كان القدماء المصريون يتعاملون بدون استخدام النقود عن طريق الشراء.

أكمل العبارات الآتية بما يناسبها من كلمات

(الخشب - حرق الوقود الحفري - البحر المتوسط - النقود السلعية - مدار السرطان -
النحاس - المقايضة - مدار الجدى)

- 1 تتعامد الشمس في شهر أغسطس على
- 2 من العوامل التي تؤدي إلى تغيير المناخ إزالة الغابات و.....
- 3 يستخدم معدن في صناعة أسلاك الكهرباء ومقابض الأبواب.
- 4 مبادلة سلعة بسلعة أخرى في مصر قديما تعرف بعملية
- 5 تقع الأراضي الشمالية لمصر ضمن الإقليم.....
- 6 صنع المصري القديم المراكب والسفن والكراسي والصناديق من

اكتب ما تشير إليه هاتان العبارتان

- 1 الفرق بين قيمة واردات الدولة وصادراتها.
- 2 تنوع الحياة النباتية والحيوانية على كوكب الأرض.

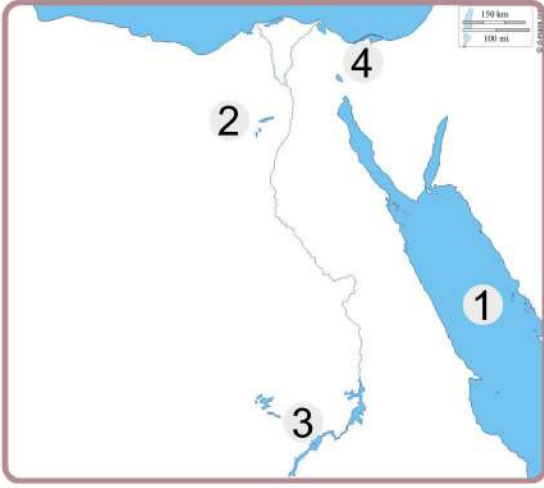
دل على صحة العبارات التالية

- 1 اهتمام مصر بتنمية الثروة الحيوانية والسمكية.
- 2 ازدهار التجارة في عهد الملكة حتشبسوت.

أجب عما يأتي

- 1 اكتب دليلا على صحة هذه العبارة ازدهار التجارة الخارجية في عهد الملكة حتشبسوت.
- 2 ما العلاقة بين الارتفاع ودرجة الحرارة ؟

الاختبار الثامن عشر



أمامك خريطة للوطن العربي وضح ما تشير إليه الأرقام التي عليها

- 1 البحر
- 2 منخفض
- 3 بحيرة
- 4 ممر ملاحي مهم

اختر الإجابة الصحيحة مما يلي:

1 يمر مدار السرطان في مصر.

2 مؤسس أول أسرة حاكمة بمصر هو الملك

3 إعطاء السلع والخدمات مقابل العملة يسمى

4 (مقايضة - عرضا - بيعًا - شراء)

4 أحد العوامل البشرية لقيام الحضارة المصرية

(نهر النيل - الوحدة - الموقع المتميز - المناخ)

حدد اثنين من

1 أعمال الرئيس جمال عبد الناصر.

.....

بم تفسر...؟

1 حدوث فصول السنة الأربعة.

.....

اكتب دليلا على صحة العبارة الآتية

1 للمياه المالحة أهمية كبيرة .

.....

اذكر نتيجة واحدة ترتبت على

1 توافر خام الفوسفات في مصر .

.....

صوب الكلمات التي تحتها خط

1 تم توحيد البلاد عام 3200 ق.م على يد الملك خوفو.

2 تم استخدام الرمال البيضاء قديما في صناعة الخزف.

3 بلاد بونت قديما تسمى حاليا العراق.

ضع علامة ✓ أمام العبارة الصحيحة ، وعلامة ✗ أمام العبارة غير الصحيحة

- 1 تقع معظم الأراضي المصرية في إقليم مناخ البحر المتوسط.
- 2 قسم المصري القديم السنة الزراعية إلى ثلاثة فصول.
- 3 ظهرت النقود الورقية قبل المعدنية.
- 4 محطة العين السخنة من أكبر محافظات تحلية مياه البحر.
- 5 أقامت الدولة المحميات الطبيعية للحفاظ على النباتات الطبيعية والطيور البرية من الانقراض.
- 6 نسيم البحر يلطف من درجات الحرارة.
- 7 تنتشر الأودية الجافة في الصحراء الغربية.

أكمل العبارات التالية

- 1 تقع محمية الصحراء البيضاء في الصحراء
- 2 أكبر المحافظات إنتاجاً للأسماك بمصر محافظة
- 3 تم اختيار قرية بنبان لتنفيذ أكبر مشروع لتوليد الكهرباء من
- 4 أحد جبال الصحراء الغربية ويقع جنوب غرب مصر

أكمل العبارات الآتية مستخدماً الكلمات التي بين القوسين

(المنجل - كفر الشيخ - العريش - جبل الزيت - الشرقية - الدقهلية - الشمالية - العلاقي - بنيان)

- 1 من أشهر الأودية الجافة داخل الصحراء الشرقية وادي
- 2 يؤدي ارتفاع منسوب مياه البحر المتوسط إلى تآكل الشواطئ
- 3 أكبر محطات إنتاج الكهرباء من الطاقة الشمسية محطة
- 4 استخدم المصريون القدماء الحصاد المحصول أداة عرفت باسم
- 5 أولى محافظات مصر إنتاجاً للأسماك محافظة

بم تفسر؟

- 1 تكون الجليد فوق قمة جبل سانت كاترين.
- 2 اهتمام العلماء برسم خطوط الطول ودوائر العرض على الخرائط.

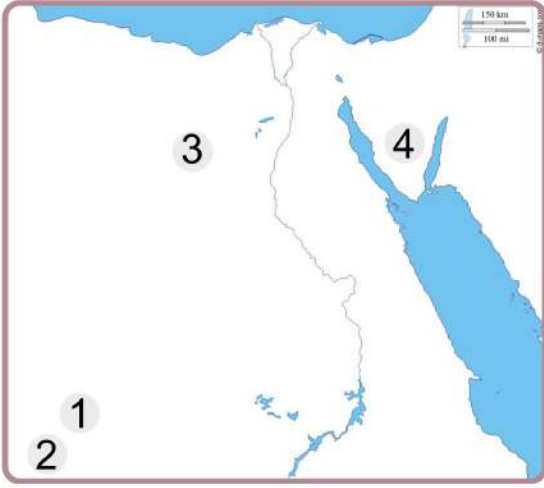
ما المقصود بـ _____

1 التغير المناخي.

ماذا كان سيحدث إذا

1 لم ينزل المصري القديم إلى وادي النيل.

الاختبار التاسع عشر



أمامك خريطة للوطن العربي وضح ما تشير إليه الأرقام التي عليها

- 1 هضبة
- 2 جبل
- 3 منطقة استخراج الحديد
- 4 منطقة استخراج المنجنيز

اختر الإجابة الصحيحة مما يلي:

- 1 تمر بأرض مصر دائرة.....
- (الاستواء - مدار السرطان - القطب الشمالي - مدار الجدي)
- 2 تعد من أكبر محطات توليد الكهرباء من الرياح محطة
- (جبل الزيت - بنبان - قنا - إسنا)
- 3 أنشأت الدولة مدينة الروبيكي لصناعة
- (الدواء - الجلود - المنسوجات - الأحذية)
- 4 أنشأت مصر مشروع الفيروز للاستزراع السمكي في
- (بورسعيد - السويس - كفر الشيخ - الإسكندرية)
- 5 تعتمد الزراعة بالساحل الشمالي لمصر على مياه
- (نهر النيل - الأمطار - الآبار والعيون - البحيرات)
- 6 النقود السلعية عند الإغريق كانت
- (القمح - جوز الهند - الأبقار - المعادن النفيسة)

صوب ما تحته خط

- 1 الموقع الفلكي هو موقع المكان بالنسبة لليابس والماء.
- 2 الانفجار البركاني من العوامل البشرية للتغير المناخي.
- 3 تتعامد الشمس على مدار السرطان في فصل الشتاء.
- 4 تقع هضبة الجلف الكبير في الصحراء الشرقية.

بم تفسر ... ؟

- 1 أهمية المياه المالحة في مصر.
- 2 الأهمية الاقتصادية لمعدن الذهب.
- 3 أهمية المياه العذبة.

قارن بين خطوط الطول ودوائر العرض من حيث الأهمية

.....
.....

ما النتائج المترتبة على ... ؟

- 1 الموقع الفلكي لمصر.
- 2 إنشاء السدود قديمًا وحديثًا على مجرى نهر النيل.

ضع علامة (✓) أمام العبارة الصحيحة ، وعلامة (✗) أمام العبارة غير الصحيحة

- 1 تهب رياح الخماسين المحملة بالرمال والأتربة في فصل الربيع.
- 2 تكونت جبال البحر الأحمر نتيجة الحركات الانكسارية.
- 3 تقع مصر شمال شرق قارة آسيا.
- 4 تقوم مصر بتحسين سلالات الحيوانات لزيادة الإنتاج.

اكتب ما تشير إليه العبارات الآتية

- 1 معدن يستخرج من الصحراء الشرقية ويستخدم في صناعة أسلاك الكهرباء.
- 2 قرية بمحافظة أسوان تم اختيارها لتنفيذ أكبر مشروع لتوليد الطاقة.
- 3 عبارة عن رواسب فيضية تكونت عند مصب نهر النيل وتبدو على شكل مثلث.
- 4 منطقة تضم نباتات أو حيوانات أو ظواهر طبيعية ذات قيمة عالية ويحظر فيها الصيد.

أكمل العبارات التالية بما يناسبها من الكلمات
(الصيف - الفوسفات - الشتاء - النيل - الهضاب)

- 1 عاش المصري القديم في البداية فوق
- 2 أهم موارد المياه العذبة في مصر نهر
- 3 عندما تتعامد الشمس على مدار الجدي يحل في مصر فصل
- 4 المعدن الذي يدخل في صناعة الطوب الحراري

دل على صحة العبارات التالية

- 1 يعتبر عصر الدولة الوسطى بمصر عصر الرخاء الاقتصادي.
- 2 يتميز منخفض الفيوم عن باقي المنخفضات في الصحراء الغربية.

أجب عن الأسئلة التالية

- 1 اكتب تفسيراً واحداً ل: أهمية الزراعة في مصر.

.....

.....

- 2 اكتب دليلاً على مساهمة الرئيس الراحل جمال عبد الناصر في تطوير النشاط الزراعي في مصر.

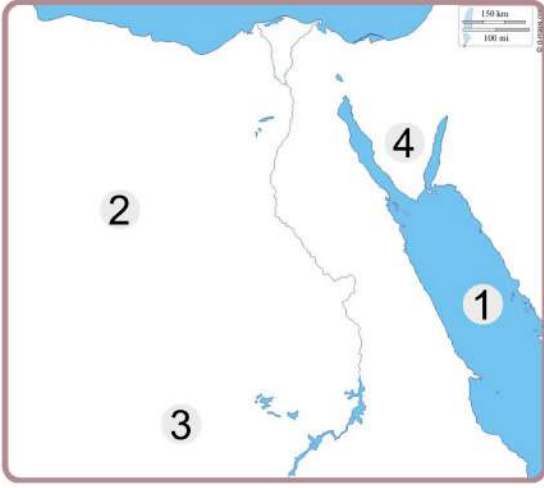
.....

.....

اذكر عملاً واحداً لكل من

- 1 الملك مينا
- 2 جمال عبد الناصر.
- 3 تحتمس الثالث.

الاختبار العشريون



أمامك خريطة للوطن العربي وضح ما تشير إليه الأرقام التي عليها

- 1 البحر
- 2 الصحراء
- 3 مشروع زراعي
- 4 جبل

بم تفسر...؟

- 1 أهمية خطوط الطول
- 2 أهمية وجود جيش وحكومة موحدة في مصر القديمة.
- 3 اعتدال المناخ في المناطق القريبة من البحر المتوسط.
- 4 تعاقب فصول السنة الأربعة.

اختر الإجابة الصحيحة مما يلي:

- 1 تقوم الزراعة على مياه الأمطار في.....
(الوادي - الدلتا - الساحل الشمالي - الواحات البحرية)
- 2 معدن استخدم قديمًا وحديثًا في صناعة الحلي.....
(الحديد - الفوسفات - الذهب - المنجنيز)
- 3 يتشابه خط جرينتش ودائرة الاستواء في.....
(الشكل - الحجم - الدرجة "صفر" - الطول)
- 4 أقامت الدولة مدينة الدواء في الخانكة في محافظة.....
(الفيوم - أسيوط - القليوبية - المنيا)
- 5 كتلة صخرية قادرة على تخزين المياه هي.....
(ترعة بحر يوسف - القناطر الخيرية - السد العالي - خزان الحجر الرملي النوبي)
- 6 اهتم الملوك بإقامة العديد من المشروعات الاقتصادية في عصر الدولة.....
(القديمة - الوسطى - الحديثة - العصر العتيق)

اكتب المصطلح الجغرافي

- 1 أكثر مصادر الطاقة غير المتجددة تلويثًا للبيئة.
- 2 قرية تعرض لمخلف ملامح الحضارة المصرية القديمة.

أكمل العبارات التالية بكلمات مناسبة

- 1 القمح من المحاصيل..... يحتاج الى حرارة معتدلة.
- 2 هي الموارد التي لا تكفى إشباع حاجات السكان.
- 3 الملك هو مؤسس أول أسرة حاكمة في تاريخ مصر القديمة.

ضع علامة أمام العبارة الصحيحة ، وعلامة أمام العبارة غير الصحيحة

- 1 أكبر مصايد الإنتاج السمكي في مصر المصايد الطبيعية.
- 2 الملك الذي وحد مملكة الشمال والجنوب هو الملك تحتمس الثالث.
- 3 الموارد الموجودة بكميات أكثر من الحاجة إليها تسمى موارد حرة.
- 4 يُعد الغاز الطبيعي أقل مصادر الطاقة غير المتجددة تلويثا للبيئة.

اكتب ما تشير إليه العبارات التالية

- 1 تبادل السلع والخدمات بدون استخدام النقود.
- 2 مجار كانت تملؤها المياه قديما ثم جفت.
- 3 تحويل المادة الخام الزراعية والحيوانية إلى سلع ومنتجات لسد احتياجات السكان
- 4 موقع المكان بالنسبة لخطوط الطول ودوائر العرض.

أكمل الجمل التالية من بنك الكلمات

(البتترول - الإنتاج القومي - الشمس - التجارة)

- 1 إجمالي السلع والخدمات التي تنتجها الدولة في عام معين.
- 2 من مصادر الطاقة غير المتجددة.
- 3 من مصادر الطاقة المتجددة.

ما النتائج المترتبة على ... ؟

- 1 هبوب رياح الخماسين على مصر في فصل الربيع
- 2 أهمية الثروة السمكية في مصر.

دل على صحة وأهمية العبارة الآتية

- 1 السد العالي سد مائي على نهر النيل.

ما مقترحاتك لمواجهة تأثيرات التغير المناخي ؟

اكتب تفسيرا واحداً لـ

- 1 خصوبة منخفض الفيوم رغم وقوعه في الصحراء الغربية.
- 2 لتكون الثلوج فوق قمة جبل سانت كاترين.