

السلطان هجرس

في الدراسات الاجتماعية

مستر / محمد هجرس

01505403493

مستر / محمد فتحي

01021811121





ما المقصود ب.....؟

الخريطة	رسم توضيحي لسطح الأرض أو جزء منه باستخدام مجموعة من الرموز والألوان ومقياس رسم محدد.
مقياس الرسم	هو النسبة بين المسافة على الخريطة وما يقابلها على الطبيعة.
الصور الجوية	هي صور يتم التقاطها من الجو باستخدام الطائرات، وتعطينا صورة حقيقية لسطح الأرض ومعالمها.
الصور الفضائية (صور الأقمار الصناعية)	هي صور يتم التقاطها باستخدام الأقمار الصناعية، وتتميز بأنها تغطي مساحات أكبر ومواقع أكثر من الصور الجوية.
المصادر الأولية	هو كل ما تم نقشه أو تدوينه، سواء من قبل أشخاص عاصروا الحدث أو شاركوا فيه، ويرتبط بزمن وقوع الحدث مثل المخاطبات، والوثائق الرسمية، والنقوش على القطع الأثرية أو المعابد والبرديات، وكتابات المؤرخين، والصور، والأفلام التسجيلية، والمقالات التي عاصرت الحدث.
المصادر الثانوية	هو كل ما تم تدوينه بعد مرور زمن طويل من وقوع الحدث، وغالبا ما يستند إلى المصادر الأولية، ومن المصادر الثانوية: الموسوعات، والأبحاث، والكتب والمقالات التي كتبت بعد وقوع الحدث بفترة طويلة.
الحقيقة	هي معلومات أو أحداث تم إثبات صحتها والتأكد من دقتها، سواء من خلال البحث أو التجريب.
الرأي	تعبير عما يشعر به أو يفكر فيه شخص ما تجاه موضوع معين، وقد يكون صحيحا أو خطأ.
قارات	مساحات واسعة من اليابس تضم عددا من الدول.
محيطات	مساحات واسعة من الماء المالح ذات أعماق كبيرة.
العلم	رمز يتخذه كل بلد ليعبر عن تاريخه وتراثه، ولكل جزء فيه معنى خاص به.

هي مساحة واسعة من الأرض مرتفعة، مستوية أو شبه مستوية السطح، مثل: هضبة الجلف الكبير في الصحراء الغربية.	الهضبة
هو مساحة من الأرض مستوية قليلة الارتفاع وتتكون من رواسب الأنهار، مثل: الأراضي على جانبي نهر النيل	السهل الفيضي
هو مساحة من الأرض مستوية تمتد على طول ساحل البحر، مثل: سواحل البحرين الأحمر والمتوسط.	السهل الساحلي
أرض منخفضة عن مستوى سطح البحر، مثل : منخفض القطارة.	المنخفض
أراض تحيط بها المياه من جميع الجهات، مثل: جزيرة شدوان في البحر الأحمر.	الجزيرة
مساحة من اليابس تحيط بها المياه من ثلاث جهات مثل: شبه جزيرة سيناء.	شبه الجزيرة
مساحة من المياه المالحة أقل من المحيط، مثل: البحر الأحمر والبحر المتوسط.	البحر
مجرى مائي عذب، مثل: نهر النيل.	النهر
مساحة صغيرة من المياه يحيط بها اليابس من جميع الجهات، قد تكون عذبة ، مثل : بحيرة ناصر، أو مالحة، مثل : بحيرة البرلس.	البحيرة
حالة الجو من حيث الحرارة والرياح والأمطار لفترة زمنية قصيرة.	الطقس
حالة الجو من حيث الحرارة والرياح والأمطار خلال فترة زمنية طويلة.	المناخ
تجمعات كبيرة من الرمال، مثل: بحر الرمال العظيم.	الكثبان الرملية
هي الموارد التي لا تنفذ رغم استخدامها المستمر لها، مثل: المياه - التربة - الهواء.	موارد متجددة

موارد غير متجددة	هي الموارد التي تنفذ باستخدامنا لها، مثل: الموارد المعدنية - مصادر الطاقة الحفورية.
الطاقة الحفورية	هي الطاقة التي تستخرجها من باطن الأرض، مثل: البترول، الفحم، الغاز الطبيعي.
الحياة المستدامة	هي أسلوب حياة يهدف إلى التعامل بشكل مسئول مع موارد بيئتنا وترشيد استهلاكنا لها ، وبالتالي تقليل النفايات.
الحرف اليدوية التراثية	هي الصناعات المعتمدة على الأيدي العاملة، وقد عرفتها مصر منذ القدم.
السياحة المستدامة	هي السياحة التي تلبى احتياجات السياح ومجتمعات البلد المضيف للسياح دون الإضرار بالبيئة.
قائمة التراث العالمي	هي معالم تقوم لجنة التراث العالمي في اليونسكو بترشيحها ليتم وضعها في برنامج مواقع التراث الدولية مثل المدن الأثرية.
البنك	مؤسسة تقدم خدمات مالية للأفراد والشركات، مثل: حفظ وتحويل الأموال ومنح القروض.
الحاجات	الأشياء التي يجب أن تحصل عليها لتعيش.
الرغبات	الأشياء التي سيكون من الجيد الحصول عليها، ولكنك تستطيع العيش بدونها.
الاستهلاك	يعنى إنفاق النقود الشراء الحاجات والرغبات.
السلع	تعنى كل ما يتم إنتاجه ونقوم بشرائه، مثل: المنتجات الغذائية والأجهزة الكهربائية.
الخدمات	هي أي عمل أو نشاط تقوم به الدولة لتلبية حاجات أو رغبات المواطنين، مثل: المدارس والمستشفيات.
مبادرة حياة كريمة	تهدف إلى توفير المرافق والخدمات الصحية والتعليمية والأنشطة الرياضية والثقافية.

المحافظة	هي مساحة من الأرض تضم مجموعة من المراكز أو الأحياء، ولكل محافظة حدود إدارية تفصلها عن المحافظات المجاورة.
محافظات الحدود الصحراوية	هي التي تشترك في حدودها مع دول أخرى مجاورة لمصر، وهي خمس محافظات: الوادي الجديد ومطروح، والبحر الأحمر، وشمال سيناء، وجنوب سيناء.
شعار المحافظة	راية تتخذها المحافظة رمزاً لها : لتعبر عن نشاط سكانها أو جزء من تاريخها.
الجبل	هو أرض شديدة الارتفاع ولها قمة وجوانبها شديدة الانحدار، مثل: جبل سانت كاترين.
التل	هو أرض مرتفعة قليلا ولها قمة يقل ارتفاعها عن ١٠٠ متر، مثل : تلال المقطم في محافظة القاهرة.
حملة ١٠ مليون صحة	تهدف للكشف المبكر عن الإصابة ببعض الأمراض، مثل: مرض الالتهاب الكبدي الوبائي.

بم تفسر.....؟

أهمية رسم وردة البوصلة

لتحديد الاتجاهات الأصلية والاتجاهات الفرعية، والمساعدة في تحديد موقع معين على الخريطة.

أهمية وجود الخريطة للفلاح

لتحديد ملكية الأرض الزراعية.

أهمية الخريطة بالنسبة للجيش

لتحديد المواقع الحربية.

أهمية وجود مفتاح الخريطة

لتوضيح معنى الألوان والرموز الموجودة على الخريطة.

أهمية الخريطة في حياتنا

تستخدم للتعرف على الأماكن المختلفة وتحديد مواقعها.

وجود اختلاف بين الحقيقة والرأى

لأن الحقيقة تتميز بالدقة والموضوعية، والرأى ناتج عن تفكير شخص تجاه موضوع معين.

إنشاء قناة جديدة موازية لقناة السويس

لتسيير السفن في الاتجاهين، وتقليل زمن عبور السفن واستيعاب أكبر السفن حجما وحمولة.

أهمية الاعتماد على المصادر الأولية والثانوية لدراسة حدث تاريخي

للتأكد من صحة المعلومات الواردة.

وجود اختلافات بين الحقائق والآراء

الحقائق تتسم بالدقة والموضوعية، أما الرأى فهو شعور و فكر شخص تجاه موضوع معين.

أهمية موقع مصر الجغرافي بالنسبة للعالم

ساعدتها على تسهيل الاتصال بجيرانها تجاريا وحضاريا.

أهمية وجود نهر النيل للمصريين

ساعد على قيام الحضارة المصرية القديمة وازدهار الاقتصاد المصرى

تعد قناة السويس أهم ممر ملاحى عالمي

وفرت الوقت والمال والجهد وتقليل مدة الإبحار بين آسيا وأوروبا.

اختيار القاهرة كعاصمة لمصر لفترات طويلة

بسبب موقعها المتميز، فهي نقطة التقاء الوجه البحرى بالوجه القبلي.

تقوم مصر حاليا بإنشاء عاصمة إدارية جديدة

لتخفيف الضغط السكاني.

لكل دولة علم خاص بها

ليعبر عن تاريخها وتراثها.

احترام علم بلدنا مصر واجب وطنى

لأنه رمز للدولة.

وجود اللون الأحمر بالعلم المصرى

ليعبر عن مرحلة النضال ودماء الشهداء من أجل الحرية.

وجود اللون الأبيض بالعلم المصرى

ليعبر عن السلام.

وجود اللون الأسود بالعلم المصرى

ليعبر عن الظلم الذي تعرضت له مصر في فترات الاستعمار.

وجود النسر بالعلم المصرى

ليرمز إلى قوة مصر وعراقة حضارتها.

رفع العلم في جميع أرجاء الدولة

لأن العلم رمز للدولة.

احتفال محافظة القاهرة بعيدها القومي فى السادس من يوليو كل عام

لأنه اليوم الذي يوافق وضع القائد جوهر الصقلي حجر الأساس لبناء مدينة القاهرة عام ٩٦٩م.

تتخذ كل محافظة شعارا خاصا بها

ليعبر عن نشاط سكانها أو جزء من تاريخها.

أهمية معرفتك لأحوال الطقس اليومية

تساعد في معرفة الملابس الواجب ارتداؤها، ويوجد العديد من الأنشطة الاقتصادية التي تستفيد من معرفة الطقس مثل الزراعة والصناعة.

للأقمار الصناعية أهمية بالنسبة للطقس

لأنها تستخدم في جمع بيانات دقيقة عن عناصر الطقس.

أهمية معرفة حالة الطقس اليومية

لكي يتخذ الإنسان بعض قراراته اليومية مثل ارتداء ملابس مناسبة.

ضيق الشريط الساحلي للبحر الأحمر فى مصر

لاقتراب جبال البحر الأحمر من الساحل.

تنوع البيئات والموارد الطبيعية في مصر

بسبب موقعها الجغرافي الفريد ومظاهر سطحها المتعددة ومساحتها الكبيرة.

للرمال البيضاء أهمية اقتصادية

لأنها تدخل في صناعات الزجاج والخلايا الشمسية.

أهمية الرمال البيضاء والسوداء للاقتصاد المصري

تستخدم الرمال البيضاء في العديد من الصناعات مثل صناعة الخلايا الشمسية والزجاج، والرمال السوداء تدخل في صناعات متعددة مثل صناعة الخزف.

وجود زراعة في الصحراء الغربية

بسبب وجود مياه جوفية عذبة في الواحات بالصحراء الغربية.

أسباب تلوث الهواء في مصر

بسبب أدخنة المصانع وعوادم السيارات وحرق قش الأرز.

أسباب تلوث التربة في مصر

بسبب إسراف المزارعين في استخدام الأسمدة الكيماوية واستخدام المبيدات الحشرية وتجريف التربة.

أسباب تلوث المياه في مصر

بسبب إلقاء مياه الصرف الصحي والزراعي الملوثة بالأسمدة الكيماوية واستخدام المبيدات الحشرية - إلقاء نفايات المصانع.

تعمل الدولة على استخدام وسائل ري حديثة

لتقليل فقدان الكثير من المياه.

اتجهت مصر لاستخدام موارد الطاقة المتجددة

لأنها طاقة نظيفة لا تتسبب في تلوث البيئة.

الموارد الطبيعية كالمياه والتربة والهواء لا تنفذ

لأنها موارد متجددة لا تنفذ رغم استخدامها المستمر لها.

تعد التربة موردا طبيعيا مهما

لزراعة المحاصيل الزراعية التي تعتمد عليها في الغذاء والصناعة.

التوعية بضرورة تقليل استخدام السيارات الخاصة

لخفض نسبة العوادم.

ضرورة الاعتماد على الشمس والرياح في توليد الكهرباء

لأنها طاقة نظيفة لا تسبب تلوثا للبيئة.

أهمية صناعة الجلود بالنسبة للاقتصاد المصري

تساهم تلك الصناعة في ازدهار الاقتصاد المصري.

قيام الدولة بطرح مبادرة حياة كريمة

للتخفيف عن المواطنين الأكثر احتياجا وذلك بتوفير المرافق والخدمات والأنشطة.

تبذل الدولة جهودا لذوى الاحتياجات الخاصة

لإيمان الدولة بأحقيتهم في الرعاية التي تساعد على أن يكون لهم دور في المجتمع.

إصدار اتفاقية حقوق الطفل عام ١٩٨٩ م

لأن لكل طفل الحق في المشاركة والرعاية والحماية.

تأسيس أول بنك وطني (بنك مصر) في التاريخ

الاستثمار مدخرات الشعب المصري في دعم مئات المشروعات.

للحرف التراثية أهمية في دعم الاقتصاد المصري

توفر فرص عمل للشباب - تساعد في حماية البيئة - تدعم السياحة المستدامة.

ما النتائج المترتبة علي

موقع مصر الجغرافي

أصبحت مركزا تجاريا ومعبرا للتجارة الدولية بين الشرق والغرب وتسهيل اتصالها بجيرانها حضاريا وتجاريا.

مرور نهر النيل بأرض مصر

أدى إلى قيام الحضارة المصرية وازدهار الاقتصاد المصري.

حفر قناة السويس في مصر

تقليل مدة الإبحار بين قارتي آسيا وأوروبا وتوفير الوقت والجهد.

إنشاء قناة السويس الجديدة عام ٢٠١٥ م

تقليل زمن مرور السفينة من ٢٠ ساعة إلى ١١ ساعة فقط - استيعاب أكبر السفن حجما وحمولة - السماح بمرور السفن في الاتجاهين.

وجود السهول الفيضية على جانبي نهر النيل

أدى إلى قيام حرفة الزراعة.

الخدمات الإلكترونية التي تقدمها الدولة

أدى إلى توفير الوقت والجهد والمال على المواطنين.

مساحة مصر وتنوع مظاهر السطح

أدى إلى تنوع البيئات والموارد الطبيعية فيها.

وجود مياه جوفية في الصحراء الغربية

قيام حرفة الزراعة فيها.

حرق قش الأرز

تلوث الهواء.

إلقاء نفايات المصانع في المياه

تعرض المياه للتلوث.

استهلاك الموارد غير المتجددة

تعريضها للنفاذ.

سوء استخدامنا للموارد الطبيعية المختلفة

ظهور العديد من المشكلات التي تضر بها وتهدد صحة الإنسان وحياة الكائنات الحية على سطح الأرض.

تأسيس طلعت حرب لبنك مصر ومؤسساته الاقتصادية

ازدهار الاقتصاد المصري.

جهود الدولة لتحقيق التنمية المستدامة

أطلقت مبادرة «اتحضر للأخضر».

المبادرات التي تقوم بها الدولة

تحسين معيشة المواطنين.

أهم المبادرات في الدولة

مبادرة اتحضر للأخضر

لحث المواطنين على: المشاركة في الحفاظ على البيئة - ترشيد استهلاك الغذاء والطاقة - التوعية بأهمية التشجير.

حملة 100 مليون صحة

للكشف المبكر عن الإصابة ببعض الأمراض مثل مرض الالتهاب الكبدي الوبائي

مبادرة حياة كريمة

للتخفيف عن المواطنين الأكثر احتياجا بتوفير الخدمات والمرافق والأنشطة.

الخدمات الإلكترونية

توفر الوقت والجهد والمال للمواطنين.

التطوير العمراني

إقامة المدن الجديدة - إنشاء الطرق والكباري - تطوير العشوائيات.



اختر الإجابة الصحيحة مما يلي

- 1 تساعد في تحديد الاتجاهات الأصلية والاتجاهات الفرعية على الخريطة هي.....
(مقياس الرسم - وردة البوصلة - خطوط الطول - دوائر العرض)
- 2 تلتقط الصور الجوية بواسطة.....
(القطارات - السيارات - الطائرات - الدراجات)
- 3 البرديات المصرية تعد من المصادر.....
(الثانوية - الأولية - البيانية - الطبيعية)
- 4 عاصمة جمهورية مصر العربية هي محافظة.....
(دمياط - البحيرة - مطروح - القاهرة)
- 5 مساحة من اليابس تحيط بها المياه من ثلاث جهات.....
(الجزيرة - شبه الجزيرة - الهضبة - الجبل)
- 6 يقاس المطر باستخدام.....
(دوارة الرياح - الأنيومتر - مقياس المطر - الترمومتر)
- 7 الطاقة الكهربائية هي طاقة مولدة من.....
(الرياح - الأنهار - الشمس - البترول)
- 8 أسس بنك مصر الاقتصادي المصري.....
(طلعت حرب - سيد درويش - جمال حمدان - طه حسين)
- 9 كل ما يقوم الإنسان بإنتاجه أو شرائه يطلق عليه.....
(الخدمات - السلع - المعادن - المصانع)
- 10 عنصر يساعدنا في فهم رموز وألوان الخريطة.....
(مفتاح الخريطة - مقياس الرسم - عنوان الخريطة - وردة البوصلة)
- 11 أي من التالي يعد مصدرا ثانويا؟
(الموسوعات - القطع الأثرية - الوثائق الرسمية - البرديات)
- 12 العنصر الذي يساعد في تحديد الاتجاهات على الخريطة هو.....
(مقياس الرسم - وردة البوصلة - مفتاح الخريطة - عنوان الخريطة)
- 13 المعلومات التي تم التأكد من صحتها تعد.....
(معتقدات - آراء - حقائق - نظريات)
- 14 يساعدنا عنوان الخريطة في معرفة.....
(مدلول الألوان - موضوع الخريطة - المسافة الحقيقية - رموز الخريطة)
- 15 يدور طريق رأس الرجاء الصالح حول قارة.....
(أوروبا - آسيا - أستراليا - إفريقيا)
- 16 طريق مائي استخدمه المصريون القدماء للتجارة بين شمال مصر وجنوبها.....
(قناة السويس - نهر النيل - رأس الرجاء الصالح - البحر المتوسط)
- 17 أحد مظاهر السطح في الصحراء الشرقية.....
(جبل العوينات - هضبة الجلف الكبير - منخفض القطارة - جبال البحر الأحمر)
- 18 تنتشر الرمال لسوداء على ساحل.....
(البحر الأحمر - البحر المتوسط - خليج العقبة - خليج السويس)
- 19 أحد الموارد الطبيعية غير المتجددة.....
(الهواء - التربة - النحاس - المياه)
- 20 تتعرض التربة لمشكلات عديدة منها.....
(استخدام الدراجات - حفر الآبار - تجريف الأرض الزراعية - استخدام السماد العضوي)
- 21 تشييد مشروع محور روض الفرج بعد من جهود مبادرة.....
(100 مليون صحة - حياة كريمة - التطوير العمراني - الحضر للأخضر)

- 22 أحد الجهود الدولية لحماية حقوق الأطفال.....
(دستور 2014 م - خط نجدة الطفل - اتفاقية حقوق الطفل - قانون الطفل المصري
- 23 تتركز في منطقة الأزهر بالقاهرة حرفة.....
(الزجاج - الفخار - الخيامية - النسيج)
- 24 تعد قرية الحرائية مقصدا للسياح لتمييزها بصناعة.....
(النسيج - الفخار - الخيامية - الزجاج)
- 25 خط نجدة الطفل الذي وفرته الدولة يعبر عن حقوق الطفل في.....
(الترفيه - الرعاية الصحية - المسكن اللائق - الحماية)
- 26 أطلق عليه لقب عميد الأدب العربي هو.....
(سيد درويش - جمال حمدان - طلعت حرب - طه حسين)
- 27 الأشياء اللازم الحصول عليها المواصلة الحياة هي
(الاستثمار - الحاجات - الرغبات - الاستهلاك)
- 28 تساعد الحرف التراثية على دعم الاقتصاد المصري من خلال توفير.....
(فرص العمل - الرعاية الاجتماعية - منح دراسية - رعاية صحية)
- 29 حماية المواطنين وتوفير الاستقرار لهم بعد من الخدمات
(التعليمية - الترفيهية - الصحية - الأمنية)
- 30 إنفاق النقود الشراء الحاجات والرغبات بعد.....
(ادخار - استهلاك - استثمار - إنتاج)
- 31 المادة الخام الرئيسية المستخدمة في صناعة الفخار هي.....
(الطين - الكتان - الصوف الأخشاب)
- 32 يعتمد الادخار على تقليل الاستهلاك في.....
(الحاجات - الرغبات الأساسية - الاستثمار)
- 33 تأسس أول بنك وطني في مصر بفضل جهود.....
(طه حسين - طلعت حرب - سيد درويش - جمال حمدان)
- 34 أحد أبرز المنتجات التي تقدمها الصناعات التراثية في مصر.....
(السلال - السيارات - الطائرات الهواتف)



ضع علامة ✓ أمام العبارة الصحيحة ، وعلامة ✗ أمام العبارة غير الصحيحة

- 1 يظهر مدلول الألوان والرموز الموجودة على الخريطة في شبكة خطوط الطول ودوائر العرض.
- 2 إذا أردت رسم خريطة تفصيلية لجزء من مصر فإنك تعتمد على الصورة الجوية.
- 3 تتميز الحقيقة بالدقة والموضوعية.
- 4 ساعدت قناة السويس الجديدة على مرور السفن في الاتجاهين في نفس الوقت.
- 5 نظرا لاتساع مساحة مصر تم تقسيمها إلى ولايات.
- 6 تعد محافظة أسيوط من محافظات الوجه القبلي.
- 7 البحيرة مساحة صغيرة من اليابس تحيط بها المياه من جميع الجهات.
- 8 معرفة أحوال طقس محافظتك تساعدك في تحديد نوع الملابس الواجب ارتداؤها.
- 9 تنتشر الكثبان الرملية في الصحراء الغربية.
- 10 أهمل الدستور المصري حقوق الطفل المصري.
- 11 شبكة خطوط الطول ودوائر العرض من العناصر الأساسية للخريطة.
- 12 يتسم الرأي بالدقة والموضوعية.
- 13 تعد المقالة التي كتبت في الجرائد عن كيفية بناء الأهرامات من المصادر الأولية.
- 14 تقع مصر في إحدى قارات العالم الجديد.
- 15 المحيطات هي مساحة واسعة من الماء العذب.
- 16 تعد أستراليا من قارات العالم الجديد.
- 17 مدينة الإسكندرية أجمل المدن المصرية « تشير هذه العبارة إلى رأي صاحبها.
- 18 تقع مصر شمال شرق قارة آسيا.
- 19 يحد مصر من الشرق البحر المتوسط.
- 20 استخدم نهر النيل قديما في التجارة بين شمال مصر وجنوبها.
- 21 أدى حفر قناة السويس الجديدة إلى عبور السفن في الاتجاهين.
- 22 تعد محافظة الجيزة أكبر محافظات مصر من حيث المساحة.
- 23 تتميز محافظة القاهرة بتركز معظم الوزارات بها.
- 24 تقترب الجبال من ساحل البحر المتوسط.
- 25 تقع بحيرة ناصر خلف السد العالي.
- 26 يعد نهر النيل أطول أنهار العالم.
- 27 توجد البيئة الساحلية في جنوب وغرب مصر.
- 28 تنتشر الشعاب المرجانية والأسماك الملونة في مناطق عديدة على ساحل البحر الأحمر.
- 29 تنفذ الموارد الطبيعية المتجددة بكثرة استخدامنا لها.
- 30 تحتاج مصادر الطاقة الحفرية إلى وقت قصير حتى تتشكل.
- 31 تعد التربة موردا طبيعياً مهما لزراعة المحاصيل الزراعية.
- 32 استخدام السيارات بدلا من الدراجات يساهم في تقليل تلوث الهواء.
- 33 تحت الدولة المواطنين على زيادة استهلاك الغذاء من خلال مبادرة اتحضر للأخضر.
- 34 تحرير الاقتصاد المصري من التبعية الأجنبية كانت أحد أهداف تأسيس بنك مصر.
- 35 عين الدكتور طه حسين وزيراً للمعارف.
- 36 تأسست العديد من الشركات المصرية العملاقة بمساعدة بنك مصر.
- 37 تهتم الدولة بمراقبة الأنشطة الاقتصادية المؤثرة على البيئة.

- ضع علامة ✓ أمام العبارة الصحيحة ، وعلامة ✗ أمام العبارة غير الصحيحة
- 38 يحق للطفل المشاركة في اتخاذ القرارات المؤثرة في حياته.
- 39 يشرف بنك مصر على جميع المؤسسات المصرفية في مصر حاليا.
- 40 تهدف مبادرة حياة كريمة لتوفير الخدمات الصحية والتعليمية لغير القادرين.
- 41 يمنح بنك مصر القروض للمستثمرين.
- 42 تعتمد صناعة الخيامية على الآلات الحديثة.
- 43 لقب الدكتور طه حسين بعميد الأدب العربي.
- 44 تعد صناعة المشغولات الذهبية والنحاسية والتطريز من الحرف التراثية.
- 45 يقصد العديد من السياح قرية الحرائية لتمييزها بصناعة الزجاج.
- 46 انتشرت الحرف والصناعات التراثية في مصر حديثا.
- 47 إذا أردت شراء منتجات الخيامية عليك التوجه لقرية جراح.

بم تفسر.....؟

- 1 أهمية الخريطة في حياتنا؟
- 2 تعد قناة السويس أهم ممر ملاحى عالمي؟
- 3 إنشاء الدولة للعاصمة الإدارية الجديدة؟
- 4 أهمية معرفتك لأحوال الطقس اليومية؟
- 5 تنوع البيئات الطبيعية في مصر؟
- 6 ضرورة الاعتماد على الشمس والرياح في توليد الكهرباء؟
- 7 تلوث الهواء؟
- 8 أهمية الحرف التراثية للاقتصاد المصري؟
- 9 إطلاق حملة 100 مليون صحة؟
- 10 إصدار اتفاقية حقوق الطفل عام ١٩٨٩م؟
- 11 الشهرة العالمية لقرية الحرائية بالجيزة؟
- 12 أهمية الحرف التراثية اليدوية؟
- 13 قيام الدولة بإصدار قانون الطفل المصري؟
- 14 أهمية الادخار للاقتصاد المصري؟
- 15 تعد مكاتب البريد المصري من أهم المؤسسات المصرفية؟
- 16 قيام الاقتصادي طلعت حرب بإنشاء بنك مصر؟
- 17 يعد الدكتور طه حسين أحد النماذج المصرية المشرفة؟
- 18 أهمية المصادر الأولية؟
- 19 أهمية الخريطة للجيش؟
- 20 إنشاء الدولة للعاصمة الإدارية الجديدة؟
- 21 وجود اللون الأحمر في علم مصر؟
- 22 حفر قناة سيزوستريس قديما؟
- 23 ضرورة الاعتماد على الحقائق عند اتخاذ القرارات؟
- 24 تقسيم مصر إلى عدة محافظات؟



بم تفسر.....؟

- 25 وجود الشمس في شعار محافظة القاهرة ؟
- 26 أهمية الخريطة للتلميذ ؟
- 27 اختلاف الألوان على خريطة مستويات ارتفاع سطح مصر ؟
- 28 أهمية دراسة الطقس ؟
- 29 تتعرض الموارد الطبيعية لعدد من المشكلات ؟
- 30 تعمل الدولة على استخدام وسائل ري حديثة ؟
- 31 تعاني التربة من عدة مشكلات ؟

اكتب ما تشير إليه العبارات الآتية:



- 1 رسم لسطح الأرض باستخدام الرموز والألوان.
- 2 توضح الاتجاهات الأصلية والاتجاهات الفرعية وتساعدنا على تحديد موقع الخريطة.
- 3 مساحات واسعة من اليابس تضم عددا من الدول.
- 4 مساحات واسعة من المياه المالحة ذات أعماق كبيرة.
- 5 مساحة من الأرض تضم مجموعة من المراكز أو الأحياء.
- 6 رمز يتخذ كل بلد ليعبر عن تاريخه وتراثه، ولكل جزء فيه معنى خاص به
- 7 راية تتخذها المحافظة رمزاً لها، لتعبر عن نشاط سكانها أو جزء من تاريخها.
- 8 أرض شديدة الارتفاع ولها قمة وجوانب شديدة الانحدار
- 9 وصف حالة الجوفي فترة زمنية طويلة.
- 10 بحيرة صناعية مصرية تعد من أكبر البحيرات في العالم.
- 11 بناء يخزن مياه النيل لرى المناطق الزراعية على مدار العام.
- 12 مؤسسة تقدم خدمات مالية للأفراد والشركات ، مثل : حفظ وتحويل الأموال ومنح القروض.
- 13 الموارد التي تنفذ باستخدامنا لها.
- 14 راية تتخذها الدولة لتعبر عن تاريخها وثقافتها.
- 15 مصادر طاقة تستخرج من باطن الأرض منها البترول والفحم والغاز الطبيعي.
- 16 خريطة توضح ارتفاع كل منطقة بلون محدد.
- 17 وصف حالة الجو في فترة زمنية قصيرة.
- 18 تجمعات كبيرة من الرمال أبرزها بحر الرمال العظيم.
- 19 مدلول الرموز والألوان على الخريطة.
- 20 مساحة شاسعة من اليابس تضم مجموعة من الدول بداخلها.
- 21 أسلوب حياة يهدف إلى التعامل بشكل مسئول مع موارد بيئتنا وترشيد استهلاكنا وبالتالي تقليل النفايات



أكمل العبارات الآتية

- 1 تختلف الصور الفضائية عن الصور الجوية في أنها تلتقط عن طريق
- 2 إذا أردت حساب المسافة من البحر المتوسط والحدود الجنوبية لمصر تستخدم.....
- 3 قناة كانت تربط بين البحر الأحمر والبحر المتوسط عن طريق نهر النيل.....
- 4 تعد الموسوعات والأبحاث من المصادر
- 5 تقع مصر في الركن من قارة إفريقيا.
- 6 يلون جبل سانت كاترين على الخريطة باللون
- 7 معظم الأراضي المصرية يسودها المناخ
- 8 ينتشر في شبه جزيرة سيناء معدن.....
- 9 تنتشر الشعاب المرجانية في مصر على ساحل البحر.....
- 10 أول بنك وطني في تاريخ مصر هو بنك
- 11 تنتشر صناعة الزجاج بمحافظة الدقهلية في قرية
- 12 تعرف الأشياء التي يجب أن تحصل عليها لتعيش ب.....
- 13 البنك المسئول عن إصدار النقود في مصر هو.....
- 14 حرفة تراثية تعتمد على الطين هي
- 15 حماية الحدود الدولية لمصر من مهام رجال
- 16 وفرت الدولة خط 16000 وهو خاص بنجدة
- 17 تقوم الدولة بتوفير العديد من الخدمات الإلكترونية عن طريق شبكة
- 18 أول بنك وطني في مصر هو.....
- 19 تساعد وردة البوصلة في تحديد الاتجاهات الأصلية و.....
- 20 صورة التقطت أثناء حفر قناة السويس الجديدة تعد مصدرا.....
- 21 الملك الذي أمر بحفر قناة سيزوستريس هو.....
- 22 تسمى المصادر التي تسجل الأحداث بعد زمن طويل من وقوعها ب.....
- 23 تقع مصر في قارة إفريقيا في الركن
- 24 تحيط البحار بمصر من اتجاه الشمال و.....
- 25 وصل المصريون القدماء إلى وسط إفريقيا عبر
- 26 يبلغ عدد قارات العالم
- 27 قارات العالم القديم هي آسيا وإفريقيا و
- 28 مساحة من الأرض تضم مجموعة من المراكز أو الأحياء تسمى ب.....
- 29 يدل اللون الأبيض في علم مصر على.....
- 30 النشيد الوطني الحالي لمصر من تأليف الشاعر.....
- 31 يطلق على شبه جزيرة سيناء اسم.....
- 32 تعد المنخفضات أحد مظاهر السطح التي تميز الصحراء
- 33 تلون الأراضي المنخفضة على خريطة مستويات ارتفاع سطح مصر باللون
- 34 الطقس هو وصف حالة الجو في فترة زمنية
- 35 مناخ مصر معتدل وممطر في فصل
- 36 يستخدم الأنيومتر في قياس.....
- 37 أكبر البيئات المصرية من حيث المساحة هي البيئة



صوب ما تحته خط

- 1 يستخدم السائح الخريطة في تحديد ملكية الأراضي الزراعية.
- 2 فيلم تسجيلي عن عملية بناء قناة السويس الجديدة، بعد ذلك مصدرا ثانويا.
- 3 تربط قناة السويس بين البحر الأحمر ونهر النيل.
- 4 عدد محافظات الحدود في مصر أربع محافظات.
- 5 مرحلة النضال ودماء الشهداء يعبر عنها اللون الأبيض في العلم المصري.
- 6 النهر هو مجرى مائي مالح.
- 7 مناخ مصر معتدل وممطر في الصيف.
- 8 تولد محطة الزعفرانة الكهرباء من الشمس.
- 9 صناعة الفخار يتم إنتاجها في شارع الخيامية بالأزهر.
- 10 يقوم البنك الأهلي بإصدار النقود الورقية.
- 11 راية تتخذها المحافظة للتعبير عن نشاط سكانها هي العلم.
- 12 العنصر المسئول عن قياس المسافات على الخريطة هو وردة البوصلة.
- 13 النسر الموجود في علم مصر مأخوذ عن القائد عمرو بن العاص.
- 14 يمكن رسم خرائط أكثر دقة وتفصيلا باستخدام الصور الفضائية.
- 15 محافظة سوهاج من محافظات الوجه البحري.
- 16 تربط قناة السويس بين البحر المتوسط ونهر النيل.
- 17 تحيط المياه بشبه جزيرة سيناء من جميع الجهات.
- 18 تلون هضبة الجلف الكبير على خريطة التضاريس باللون الأزرق.
- 19 يسود المناخ الحار الممطر طوال العام دول وسط قارة أوروبا.
- 20 يتم تحديد سرعة الرياح باستخدام الترمومتر.
- 21 تولد الكهرباء من الرياح في محطة الكريمات.
- 22 ينتشر معدنا الذهب والنحاس في الصحراء الغربية.
- 23 نهر النيل أهم مورد للمياه العذبة في البيئة الصحراوية.
- 24 تنتشر الشعاب المرجانية على ساحل البحر المتوسط.
- 25 تدخل الرمال السوداء في صناعة الفخار.
- 26 يوجد بحر الرمال العظيم في الصحراء الشرقية.
- 27 يتم الإشراف على جميع البنوك في مصر من البنك الأهلي الوطني.
- 28 إحدى أقدم الصناعات الحرفية التراثية في مصر صناعة السيارات.
- 29 تشتهر قرية الحرانية بالجيزة بحرفة الخيامية.
- 30 توفير بيئة سليمة تساعد على نمو الطفل وتطوره هو مفهوم الحماية.
- 31 اهتمام الدولة بإنشاء أقسام الشرطة يعد من الخدمات الثقافية.

ما النتائج المترتبة على.....؟

- 1 حفر قناة السويس الجديدة ؟
- 2 تقديم الخدمات الالكترونية للمواطنين ؟
- 3 تأسيس محمد طلعت حرب لبنك مصر ؟
- 4 قيام رجال الجيش والشرطة بمهامهم في الدولة ؟
- 5 إنشاء البنك المركزي في مصر ؟
- 6 حرق قش الأرز ؟
- 7 اقتراب الجبال من ساحل البحر الأحمر ؟
- 8 استخدام الأقمار الصناعية في جمع معلومات عن الطقس ؟
- 9 سوء استخدام مصادر الطاقة الحفرية ؟
- 10 تأسيس محمد طلعت حرب لبنك مصر ؟
- 11 قيام رجال الجيش والشرطة بمهامهم في الدولة ؟

ما المقصود ب.....؟

- 1 مقياس الرسم .
- 2 المصادر الاولية .
- 3 الطقس .
- 4 المنخفض .
- 5 الموارد المتجددة .
- 6 الحرف اليدوية التراثية .
- 7 الحاجات .

ماذا يحدث اذا لم؟

- 1 يقيم الطفل بأداء واجباته.
- 2 يقر الدكتور طه حسين بمجانية التعليم خلال توليه منصب وزير المعارف.
- 3 تهتم الدولة بمبادرة التطوير العمراني .

دل على صحة العبارات الآتية

- 1 يتنوع المناخ باختلاف المواقع.
- 2 تتميز البيئة الصحراوية بتعدد مواردها.
- 3 تقوم الدولة بالعديد من الجهود لحل مشكلة الطاقة.
- 4 تمر صناعة الفخار بالعديد من المراحل .
- 5 اهتمام الدولة بحقوق ذوى الاحتياجات الخاصة
- 6 تشتهر صناعة النسيج والسجاد اليدوى بمصر على المستوى العالمى .

ما العلاقة بين كلا مما يلي



- 1 مصادر الطاقة المتجددة - توليد الكهرباء
- 2 الحياة المستدامة - الامم المتحدة
- 3 الواحات - الزراعة
- 4 الموقع الجغرافي - البيئات فى مصر
- 5 الحرف التراثية - السياحة المستدامة
- 6 الاستهلاك - الاقتصاد
- 7 الحرف التراثية - حماية البيئة
- 8 مقياس الرسم - الخريطة

قارن بين كل مما يلي من حيث التعريف مع ذكر مثال



الصور الفضائية



الصور الجوية



الرأى



الحقيقة



المصادر الثانوية



المصادر الاولية



العلم



الشعار



* الصحراء الشرقية والصحراء الغربية من حيث

أحد المظاهر الطبيعية



الموقع



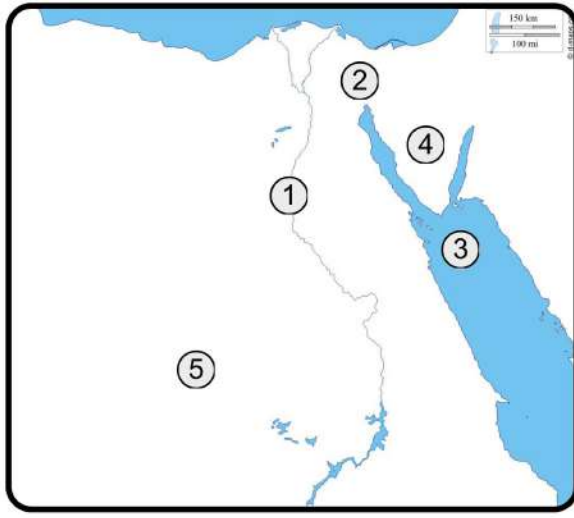
الاختبارات النهائية



الاختبار الاول



أمامك خريطة صماء لمصر وضح ما تدل عليه الارقام



- 1 نهر.....
- 2 قناة.....
- 3 البحر.....
- 4 شبه جزيرة.....
- 5 الصحراء.....

بم تفسر.....؟

- 1 وجود الزراعة فى الصحراء الغربية ؟
- 2 اختيار القاهرة عاصمة لمصر ؟
- 3 انشاء بنك مصر ؟

اختر الإجابة الصحيحة مما يلي

- 1 يحد مصر من جهة الشمال.....
(البحر الأحمر - البحر المتوسط - نهر النيل - خليج السويس)
- 2 يتم قياس درجة الحرارة بواسطة.....
(الترمومتر - دوارة الرياح - مقياس المطر- الأنيموميتر)
- 3 التحاق الطفل بالمدرسة يُعد حقا من حقوقه في.....
(الصحة - السكن - الأمن - التعليم)
- 4 بناء المستشفيات يعد من الخدمات.....
(التعليمية - الصحية - الأمنية - الثقافية)
- 5 الحرفة السائدة في البيئة الزراعية هي.....
(الصناعة - التجارة - الزراعة - الرعي)
- 6 إذا أردت زيارة معظم الوزارات فعليك التوجه إلى محافظة.....
(جنوب سيناء - المنيا - الوادى الجديد - القاهرة)

حدد اثنين من

- 1 السلوكيات المعبرة عن احترامك لعلم مصر

صوب ما تحته خط

- 1 تعد لوحة نارمر من المصادر الثانويه .
- 2 أرض شديدة الارتفاع ولها قمه هى الهضاب .

ما النتائج المترتبة على

- 1 حفر قناة السويس ؟

- 2 سوء استخدام الموارد الطبيعية ؟



ضع علامة ✓ أمام العبارة الصحيحة ، وعلامة ✗ أمام العبارة غير الصحيحة

- 1 لمعرفة درجات الحرارة اليومية فإننا نستخدم الترمومتر.
- 2 تستخدم الأقمار الصناعية في التقاط الصور الجوية.
- 3 تمر السفن في الاتجاهين بقناة السويس بعد حفر قناة السويس الجديدة.
- 4 يحد مصر من جهة الجنوب دوله ليبيا .
- 5 يساعد مفتاح الخريطة على معرفة الالوان والرموز .

أختر الاجابه الصحيحه من بين القواس

(الرياح- الاصلية- الزراعية - سيناء - أستراليا-افريقيا-الامطار-الهواء)

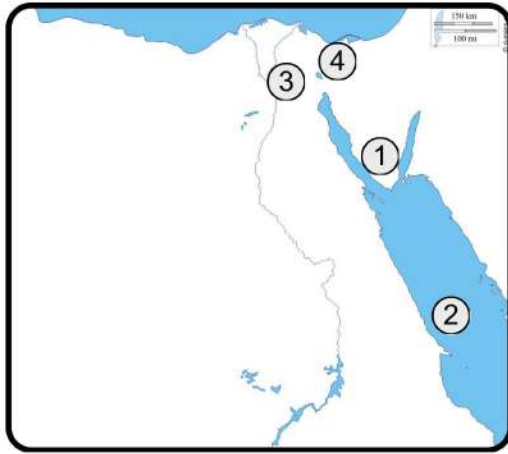
- 1 من قارات العالم القديم
- 2 ينتشر معدن المنجنيزفى
- 3 دخان المصانع من أسباب تلوث
- 4 يستخدم جهاز الأنيمومتر فى قياس سرعة
- 5 اتجاه الشمال من الاتجاهات
- 6 يعد وادى النيل من جزءا من البيئه

هجرس
السلطان

الاختبار الثاني



أمامك خريطة صماء لمصر وضع ما تدل عليه الأرقام



- 1 جبل
- 2 البحر.....
- 3 محافظة تنتشر فيها صناعة الخيامية.....
- 4 قناة.....

اختر الإجابة الصحيحة مما يلي

1 يدل اللون في علم مصر على السلام

(الأبيض-الأسود-الأحمر-الأصفر)

2 تحتفل القاهرة بعيدها القومي في السادس من يوليو وهو ذكرى
(جلاء الإنجليز - بناء جامع الأزهر - حفر قناة السويس - بناء مدينة القاهرة)3 تحيط المياه بأرض سيناء من ثلاث جهات لذلك فهي
(جزيرة - منخفض - شبه جزيرة - بحيرة)4 مدينة شرم الشيخ أجمل المدن المصرية « تعبر هذه العبارة عن.....
(رأى - خيال - حقيقة - واقع)5 تستخدم الرمال البيضاء في صناعة.....
(الخيام-الزجاج-الفخار-الطوب)

أكتب نتيجة واحدة تربت على

- 1 حرق قش الأرز؟
- 2 حفر قناة السويس الجديدة؟
- 3 وجود المياه الجوفية فى الواحات؟
- 4 انشاء البنك المركزى المصرى؟

أكتب سبباً واحداً لكل مما يأتى
1 أهمية معرفتك لأحوال الطقس يومياً؟

2 أهمية الحرف التراثية فى الاقتصاد المصرى؟

بم تفسر.....؟

1 أهمية الخريطة للجيش؟

2 إنشاء العاصمة الادارية الجديدة؟

ضع علامة ✓ أمام العبارة الصحيحة ، وعلامة ✗ أمام العبارة غير الصحيحة

- 1 تستخدم الأقمار الصناعية في النقاط الصور الجوية.
- 2 ساعد نهر النيل قديما على زيادة التجارة بين مصر ودول وسط إفريقيا.
- 3 توفر الخدمات الإلكترونية المزيد من الوقت والجهد والمال.
- 4 المناخ هو وصف حاله الجو لفترة زمنية طويلة.
- 5 من مشروعات تطوير محافظة الاسكندرية حى الأسمرات.
- 6 تقوم الزراعة فى البيئة الصحراوية على مياه نهر النيل.

صوب ماتحته خط

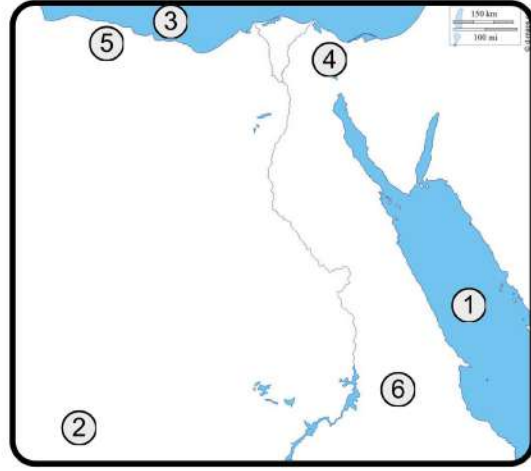
- 1 تربط قناة السويس بين البحر الأحمر ونهر النيل.
- 2 دخان المصانع من اسباب تلوث التربة.

اكتب ما تشير إليه العبارات التالية:

- 1 أول بنك وطنى فى مصر؟
- 2 النسبة بين المسافة على الخريطة وما يقابلها على الطبيعة؟
- 3 أى عمل او نشاط تقوم به الدولة لتلبية حاجات او رغبات المواطنين؟
- 4 رايه تتخذها المحافظة رمزا لها لتعبر عن نشاط سكانها او جزء من تاريخها؟
- 5 كاتب ومفكر ولد 1889 ولفب بعميد الأدب العربى؟

أكمل العبارات الآتية باستخدام الكلمات المناسبة
(ادارية-الغربية-الخيامية-الظلم-القوة-الترمومتر-الجوية)

- 1 يتم التقاط الصور.....بواسطة الطائرات.
- 2 يدل النسر فى علم مصر على
- 3 يستخرج الحديد من الصحراء.....
- 4 تتركز صناعة فى منطقة الأزهر بالقاهرة.
- 5 لكل محافظة حدود.....
- 6 لقياس درجة الحرارة نستخدم.....



الاختبار الثالث



أمامك خريطة صماء لمصر وضع ما تدل عليه الأرقام

- 1 البحر
- 2 هضبة
- 3 البحر
- 4 قناة
- 5 يشير رقم (5) إلى البيئه
- 6 الصحراء

بم تفسر.....؟

- 1 أهمية وردة البوصلة؟
- 2 قيام الزراعة في بعض الأجزاء بالصحراء الغربية؟
- 1 انشاء البنك المركزي ؟
- 2 حفر قناة السويس الجديدة ؟

اختر الإجابة الصحيحة مما يلي

- 1 أصغر محافظات مصر من حيث المساحة هي
- (القاهرة - الفيوم - دمياط - قنا)
- 2 تقاس سرعة الرياح بواسطة
- (الأنيمومتر - مقياس المطر - دوارة الرياح - جوب الرياح)
- 3 قام بتلحين النشيد الوطني بلادي بلادي
- (محمد يونس القاضي - جمال حمدان - سيد درويش - طه حسين)
- 4 توجد مصرفي قارة
- (آسيا - أوروبا - أمريكا - إفريقيا)
- 5 تستخدم الرمال البيضاء في صناعة
- (الحرف - الزجاج - السيارات - الفخار)

دل على صحة العبارة التالية

- 1 تقوم الدولة بجهود عديدة لتطوير محافظة القاهرة (يكتفى بنقطتين)

.....

ما المقصود بـ

- 1 الحدود الادارية؟

.....

ضع علامة ✓ أمام العبارة الصحيحة ، وعلامة ✗ أمام العبارة غير الصحيحة

- 1 يدل اللون الأسود فى علم مصر على الظلم.
- 2 بحيرة ناصر من البحيرات المالحة.
- 3 القطع الاثرية والبرديات من المصادر الأولية.
- 4 لكل طفل الحق فى الرعاية والتعليم والصحة.
- 5 اتجاه الشمال من الاتجاهات الأصلية.
- 6 قارات العالم الجديد هى أمريكا الشمالية وأستراليا وأوروبا.

أكمل العبارات الآتية بما يناسبها من كلمات

(البنى - 27 - المتوسط - الهواء - الأزرق - ناصر - التعليمية)

- 1 تلون البحار والأنهار على الخريطة باللون.....
- 2 تصل قناة السويس بين البحرين الأحمر و.....
- 3 يؤدى حرق قش الأرز إلى تلوث.....
- 4 المدارس والجامعات من الخدمات.....
- 5 عدد محافظات مصر.....محافظه.
- 6 تعد من أكبر البحيرات الصناعية بحيرة.....

اكتب المصطلح الذي تشير إليه كل عبارة مما يأتي

- 1 الصور التي يتم التقاطها باستخدام الطائرات
- 2 النسبة بين المسافة على الخريطة وما يقابلها على الطبيعة.

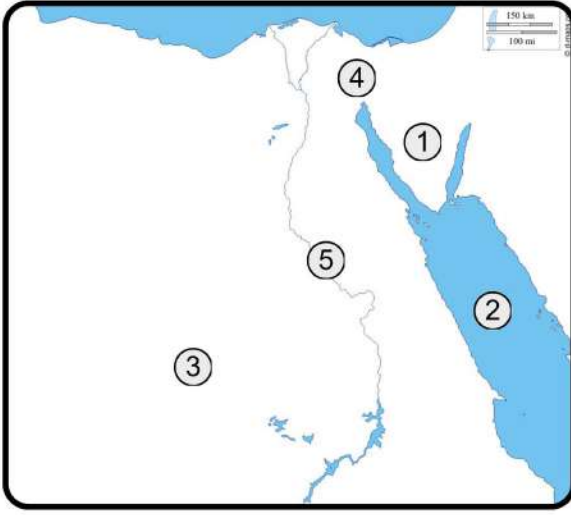
أكمل العبارات الآتية بكلمات مناسبة

- 1 تلون المرتفعات على الخريطة باللون.....
- 2 استخدام وسائل الري القديمة أدى إلىالمياه
- 3 حُفرت قناة سيزوستريس في عهد الملك
- 4 إنشاء المدارس والجامعات يعد إحدى الخدمات.....
- 5 إتفاقية حقوق الطفل التي أصدرتها الأمم المتحدة عام 1989م تعد من الجهود

الاختبار الرابع



أمامك خريطة صماء لمصر وضع ما تدل عليه الأرقام



- 1 شبه جزيرة.....
- 2 مصدر للمياه المالحة.....
- 3 البيئة.....
- 4 قناة.....
- 5 مصدر للمياه العذبة.....

أكتب نتيجة واحدة ترتبت على

- 1 حرق قش الأرز؟
- 2 وجود مياه جوفية في بعض المناطق الصحراوية؟

اختر الإجابة الصحيحة مما يلي

- 1 نهر النيل وقناة السويس يتشابهان في الأهمية.....
(الزراعية - التجارية - الصناعية - العلمية)
- 2 الكتب والموسوعات تعد من المصادر.....
(الأولية - الثانوية - الاقتصادية - التجارية)
- 3 إفريقيا هي مساحة واسعة من اليابس وهي بذلك تعد.....
(محافظة - ولاية - قارة - محيطا)
- 4 يتميز سطح البيئة الزراعية بأنه.....
(متعرج-رملي-صخري-مستو)
- 5 الحرفة التي يوجد شارع باسمها في القاهرة.....
(النسيج-الخيامية-الزجاج-الفخار)
- 6 الحدائق تعد من الخدمات.....
(الترفيهية-البيئية-الصحية-التعليمية)

بم تفسر...؟

- 1 أهمية الرمال البيضاء؟
- 2 يجب احترام علم الدولة؟
- 3 أهمية الخريطة للسائح؟
- 4 اختيار القاهرة عاصمة لمصر لفترات طويلة؟

صوب ماتحته خط

- 1 أرض مرتفعة قليلا ولها قمة هي الجبل.
- 2 زادت أهمية موقع مصر الجغرافي حديثا بعد حفر قناة سيزوستريس.
- 3 يطلق على حاله الجو في مدة زمنية طويلة من حيث الحرارة والرياح والأمطار الطقس.
- 4 رسم توضيحي لسطح الأرض أو جزء منه ، يسمى ذلك صورة.
- 5 أرض شديدة الارتفاع ولها قمة، هي الهضبة.

ضع علامة ✓ أمام العبارة الصحيحة ، وعلامة ✗ أمام العبارة غير الصحيحة

- 1 المياه من الموارد المتجددة.
- 2 ألف سيد درويش النشيد الوطني لمصر.
- 3 جزيرة شدوان يحيط بها الماء من جميع الجهات.
- 4 دوارة الرياح تستخدم في تحديد اتجاه الرياح .
- 5 قلت أهمية موقع مصر بعد حفر قناة السويس.
- 6 يستخدم قبطان السفينة الخريطة في تحديد موقعه في البحر.

أكمل العبارات بما يناسبها من الكلمات الآتية

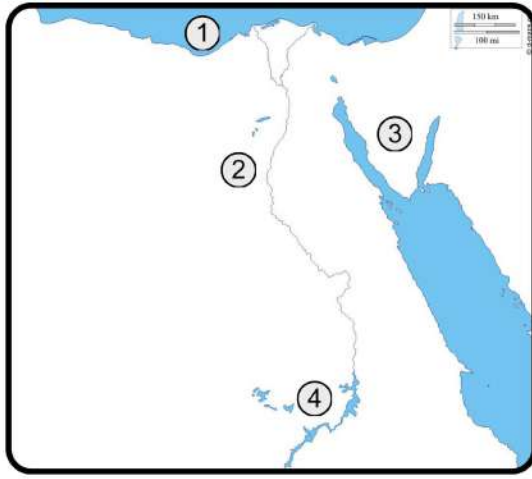
(تعليمية-الزجاج-تاريخها-الترموتر-وردة البوصلة-الأولية)

- 1 يتم توضيح الاتجاهات الأصلية والفرعية باستخدام.....
- 2 المخاطبات الرسمية والنقوش على الجدران من المصادر.....
- 3 شعار المحافظة يعبر عن نشاط سكانها أو جزء من
- 4 تستخدملقياس درجة الحرارة
- 5 يصنع من الرمال البيضاء..... والخلايا الشمسية.
- 6 تقدم المدارس والجامعات خدمات.....

اكتب ما تشير إليه العبارات الآتية

- 1 لون في علم مصر يعبر عن الظلم؟
- 2 صور يتم التقاطها بواسطة الطائرات؟
- 3 أرض تحيط بها المياه من جميع الجهات ؟
- 4 رسم توضيحي لسطح الأرض أو جزء منه؟

الاختبار الخامس



أمامك خريطة صماء لمصر وضح ما تدل عليه الأرقام

- 1 البحر
- 2 نهر
- 3 شبه جزيرة
- 4 بحيرة

أكتب ما تشير إليه العبارات التالية

- 1 مجرى مائى عذب؟
- 2 مساحات واسعة من اليابس تضم عددا من الدول؟
- 3 انفاق النقود لشراء الحاجات والرغبات؟

اختر الإجابة الصحيحة مما يلي

- 1 تقع مصرفى الركن.....من قارة إفريقيا.
(الشمال الغربي - الشمال الشرقي - الجنوب الغربي - الجنوب الشرقي)
- 2 يتوسط العلم المصرى
- (هلال - نجمة - نسر - نجمتان)
- 3 توجد تلال جبل المقطم فى محافظة.....
- (الجيزة - القليوبية - الغربية - القاهرة)
- 4 المتحف المصرى الكبير يعد من الخدمات.....
- (الثقافية-الصحية-التعليمية-الأمنية)
- 5 أسس محمد طلعت حرب باشا بنك.....
- (الاهلى-الاسكندرية-مصر-الزراعى)

حدد اثنين من

- 1 السلوكيات المعبرة عن احترامك لعلم مصر؟
- وضح:اي من العبارات (حقيقية) وأيها (رأى)
- 1 جبل سانت كاترين أعلى قمة جبلية فى مصر؟
- 2 مدينة شرم الشيخ من أجمل مدن العالم؟
- 3 بنى الهرم الاكبر فى عهد الملك خوفو؟

لمن تنسب الاعمال التالية

- 1 أسس بنك مصر وأسهم فى تطوير الاقتصاد المصرى .
- 2 كتب العديد من المؤلفات منها كتاب الأيام الذى نُشر فى 1929م.
- 3 من أكثر أعماله شهرة تلحين النشيد الوطنى المصرى .
- 4 ألف كتابه الرائع (شخصية مصر) الذى نشر فى 1980م.

ضع علامة أمام العبارة الصحيحة ، وعلامة أمام العبارة غير الصحيحة

- 1 محافظة الاقصر من محافظات الوجه البحرى.
- 2 اللون الازرق بخريطة مصر يدل على المرتفعات.
- 3 أكد الدستور المصرى على حقوق ذوى الاحتياجات الخاصة
- 4 مصادر الطاقة الحفرية هى مصادر طاقة متجددة.
- 5 يعيش الانسان اذا لم يحصل على الرغبات لكنه لا يستطيع العيش بدون الحاجات.
- 6 صناعة الفخار من أقدم الصناعات اليدوية وتنتشر فى منطقة الازهر فى القاهرة.

اكتب المصطلح الجغرافى

- 1 وصف حاله الجو لفترة زمنية طويلة؟
- 2 هى تجمعات كبيرة من الرمال مثل بحر الرمال العظيم؟

صوب ماتحته خط

- 1 يتكون علم مصر من أربعة ألوان.
- 2 محطة الزعفرانة تولد الكهرباء من الشمس.
- 3 حرق قش الأرز يؤدي إلى تلوث التربة.
- 4 المصادر الثانوية تتميز بأنها معاصرة للحدث.
- 5 تنتشر الشعاب المرجانية فى سواحل البحر المتوسط.
- 6 تستخدم الأقمار الصناعية فى النقاط الصور الجوية.

اذكر سببا واحدا لكل مما يأتى

- 1 أهمية الخريطة للجيش؟

.....

.....

- 2 قيام الدولة بانشاء العاصمة الادارية الجديدة؟

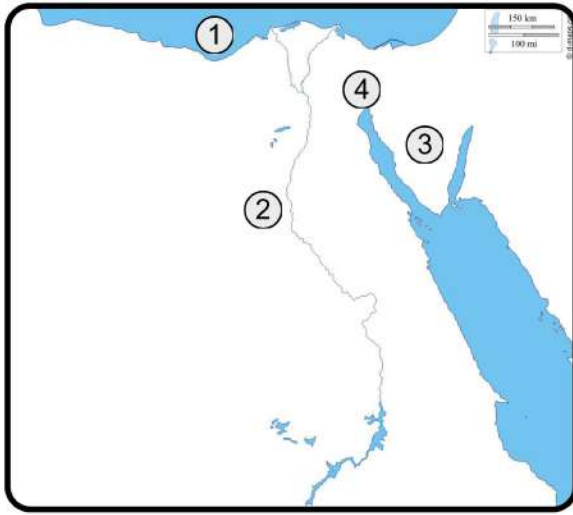
.....

.....

الاختبار السادس



أمامك خريطة صماء لمصر وضع ما تدل عليه الأرقام



- 1 البحر
- 2 نهر.....
- 3 شبه جزيرة.....
- 4 قناة.....

بم تفسر؟

1 أهمية الخريطة للفلاح؟

2 أهميه الخريطة للتلميذ؟

من يكون.....؟

1 لقب بـ ابو الاقتصاد المصرى ؟

اختر الإجابة الصحيحة مما يلي

1 تقع مصر فى الركن الشمالى الشرقى من قارة.....

(افريقيا-اوروبا-اسيا-استراليا)

2 من الموارد الطبيعية غير المتجددة.....

(الهواء-الماء-الفحم-الشمس)

3 تشتهر قرية الحرائية بصناعة.....

(الزجاج-الفخار-السجاد اليدوى-الجلود)

4 من الخدمات الإلكترونية.....

(استخراج جواز السفر - بناء المدارس - نشر الفنون - توفير الأدوية)

5 من الحرف المدرجة على قائمة التراث العالمى.....

(الزجاج - الفخار - السجاد اليدوي - الخيامية)

6 أطلقت الدولة المصرية مبادرة لحماية البيئة هي

(اتحضر للأخضر - اتحضر للمستقبل - التنمية الاقتصادية - الحياة المستدامة)

ما المقصود بـ

1 القارة؟

ما النتائج المترتبة على

1 القاء مياه الصرف الصحى ونفايات المصانع فى النهر والبحر؟

ضع علامة ✓ أمام العبارة الصحيحة ، وعلامة ✗ أمام العبارة غير الصحيحة

- 1 يعبر شعار محافظتى على نشاط السكان.
- 2 يسود الاقليم الصحراوى معظم سطح مصر.
- 3 تحرص الدوله على تمنع الاطفال بحقوقهم.
- 4 تعتمد الزراعة فى الصحراء الغربية على المياه الجوفية.
- 5 توجد جزيرة شدوان فى البحر المتوسط.
- 6 توجد الكنيسة المعلقة بمحافظة القاهرة.
- 7 اللون الاحمر فى علم مصر يعبر عن السلام.

أكمل العبارات بما يناسبها من الكلمات الآتية

(البترول - الصحية - الثقافية - الرياح - سنوسرت الثالث - الطقس)

- 1 توفر الدولة المستشفيات وهي من الخدمات.....
- 2 من مصادر الطاقة غير المتجددة
- 3 دراسة حالة الجو لمدة أسبوع يعرف ب.....
- 4 تم حفر قناة سيزوستريس فى عهد الملك.....

ضع دائرة حول الكلمة التي لا تنتمي إلى المجموعة مع التفسير

- 1 الجبل - الهضبة - البحر - التل.
- 2 المنوفية - مطروح - الشرقية - الإسكندرية

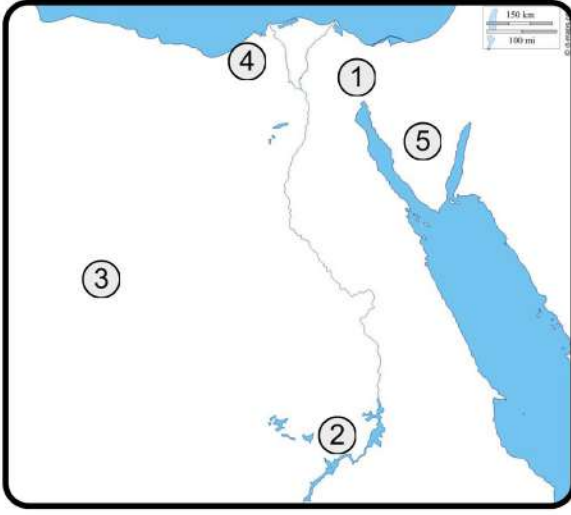
أكمل العبارات بما يناسبها من الكلمات الآتية

- 1 تلتقط الصور الجوية بواسطة.....
- 2 تعد محافظة الأقصر من محافظات الوجه
- 3 أطول أنهار العالم يقع فى البيئة
- 4 يسبب حرق قش الأرز تلوث.....

الاختبار السابع



أمامك خريطة صماء لمصر وضع ما تدل عليه الأرقام



- 1 قناة
- 2 بحيرة
- 3 الصحراء
- 4 محافظة
- 5 شبه جزيرة

اكتب نتيجة واحدة

- 1 لانشاء طلعت حرب بنك مصر؟
- 2 حفر قناة السويس؟

اكتب تفسيراً واحداً لـ.....؟

- 1 وجود اللون الأبيض في العلم؟
- 2 احتفال محافظة القاهرة بعيدها القومي في السادس من يوليو كل عام؟
- 3 تلوين منطقة جنوب غرب مصر باللون البنّي؟

اختر الإجابة الصحيحة مما يلي

- 1 تدخل الرمال السوداء في صناعة.....
- (الزجاج-السيارات-الخزف-البلاستيك)
- 2 المورد الطبيعي الممتد الذي لا ينفذ باستخدام الانسان هو.....
- (الحديد-الشمس-البتترول-الفحم)
- 3 قرية الحرائية مقصد الكثير من السياح لتمييزها بصناعة.....
- (النسيج-الزجاج-الفخار-الخيامية)
- 4 تقع مصر شمال شرق قارة.....
- (استراليا-أوروبا-افريقيا-أمريكا الجنوبية)
- 5 أحد ألوان علم مصر ويدل على ماتعرضت له البلاد من ظلم هو.....
- (الذهبي-الأحمر-الأسود-الأبيض)

ما العلاقة بين

- 1 الخريطة والمواقع الحربية؟

.....

.....

- 2 نهر النيل والبيئة الزراعية؟

.....

.....

ضع علامة ✓ أمام العبارة الصحيحة ، وعلامة ✗ أمام العبارة غير الصحيحة

- 1 تقع مصر فى شمال شرق قارة اسيا.
- 2 تقدم خدمة البنوك خدمات مالية متنوعة.
- 3 تستخدم الاقمار الصناعية فى التقاط الصور الجوية.
- 4 محافظة الأقصر من محافظات الوجه القبلى.
- 5 تنتشر الكثبان الرملية فى البيئة الزراعية.

أكتب سبباً واحداً

1 تعرض الهواء فى المدن الكبرى للتلوث ؟

2 للبنوك أهمية كبيرة للاقتصاد ؟

صوب ماتحته خط

- 1 المحيط الهادي مساحة واسعة من المياه قليلة العمق.
- 2 مفتاح الخريطة يوضح الاتجاهات الأصلية والاتجاهات الفرعية.
- 3 يسود معظم الأراضى المصرية المناخ المدارى.
- 4 ألف سيد درويش كتاب شخصية مصر.
- 5 المادة 80 من الدستور المصرى تم وضعها لرعاية المرأة.
- 6 حملة 100 مليون صحة تهدف إلى تخفيف خدمات بيئية.

اكتب ماتشير اليه اليه العبارات التالية

- 1 النسبة بين المسافة على الخريطة وما يقابلها على الطبيعة.
- 2 مساحة من الأرض تضم مجموعة من المراكز والأحياء.
- 3 الموارد التي لا تنفذ رغم استخدامنا المستمر لها.
- 4 مساحات وأسعة من الماء المالح ذات أعماق كبيرة.

كيف يحافظ الفرد على ؟

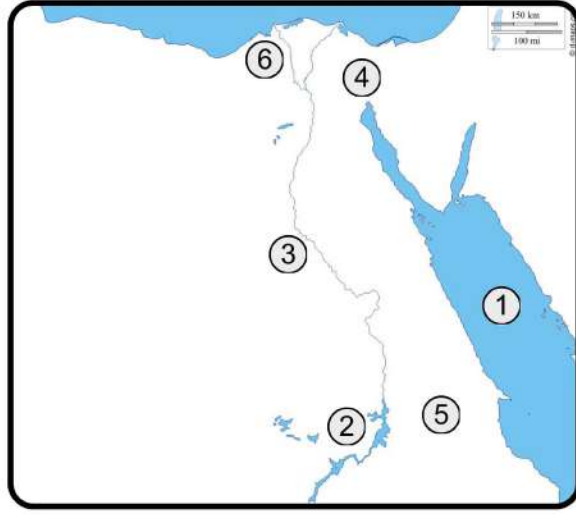
1 الكهرباء.....

2 المياه.....

قارن بين كلا من

1 السهل الفيضى والسهل الساحلى.

الاختبار الثامن



أمامك خريطة صماء لمصر وضع ما تدل عليه الأرقام

- 1 البحر
- 2 بحيرة
- 3 نهر
- 4 قناة
- 5 الصحراء
- 6 منطقة زراعية

بم تفسر.....؟

- 1 أهميه الخريطة في حياتنا ؟
- 2 أهميه الرمال البيضاء للاقتصاد المصري؟

أكمل العبارات التالية بكلمات مناسبة:

(الدقهلية - السد العالي - السجاد اليدوي - الشمال الشرقي - دوارة الرياح -
الجامع الأزهر - الغربية - شبه جزيرة سيناء)

- 1 يخزن المياه لرى المناطق الزراعية على مدار العام.....
- 2 من الحرف التراثية المنتشرة حرفة.....
- 3 تقع هضبة الجلف الكبير بمصر في الصحراء.....
- 4 يقاس اتجاه الرياح بجهاز.....
- 5 تشير الشمس في شعار محافظة القاهرة إلى.....
- 6 تنتشر صناعة الزجاج في مصر بمحافظة.....
- 7 تنتشر مناجم المنجنيز في.....

اختر الإجابة الصحيحة مما يلي

- 1 من أكبر البحيرات الصناعية في العالم بحيرة
(قارون - المنزلة - ناصر - البرلس)
- 2 عندما يتعرض الطفل في مصر للعنف فإن عليه الاتصال ب.....
(خط تجدة الطفل - وزارة الصحة - الإسعاف - المدرسة)
- 3 من أهم مدن ساحل البحر المتوسط مدينة.....
(السويس - أسوان - الإسكندرية - الغردقة)
- 4 ألف كتاب شخصية مصر.....
(فاروق الباز-جمال حمدان-طلعت حرب-سعد زغلول)
- 5 كل ما ثبت صحته والتأكد منه.....
(رأى-حقيقة-حديث-مشاعر)

ضع علامة ✓ أمام العبارة الصحيحة ، وعلامة ✗ أمام العبارة غير الصحيحة

- 1 يونس القاضي لحن نشيد بلادي بلادي.
- 2 شعار محافظتي يعبر عن نشاط سكانها.
- 3 المقالات من المصادر الأولية.
- 4 اصدار العملات المصرية الورقية من مهام البريد المصري.
- 5 تصل قناة السويس البحر الأحمر بالبحر المتوسط.
- 6 تقع مصر فى الركن الشمالى الشرقى لقارة افريقيا.

صوب الكلمات التي تحتها خط

- 1 التعليم كالماء والهواء مقوله الكاتب يجيب حقى.
- 2 محافظة الدقهلية احدى محافظات الوجه القبلى.
- 3 صناعة الزجاج توجد فى قرية الحرانية.

حدد نوع الاداة المستخدمة فى

- 1 تحديد ملكية الاراضى الزراعية.
- 2 قياس سرعة الرياح.

ما نتيجة اطلاق حملة 100 مليون صحة؟

.....

.....

ما المقصود بكل من

- 1 المصدر الاولي.....
- 2 المناخ.....

ما الخدمات التي تقدمها الحكومة للمواطن؟

.....

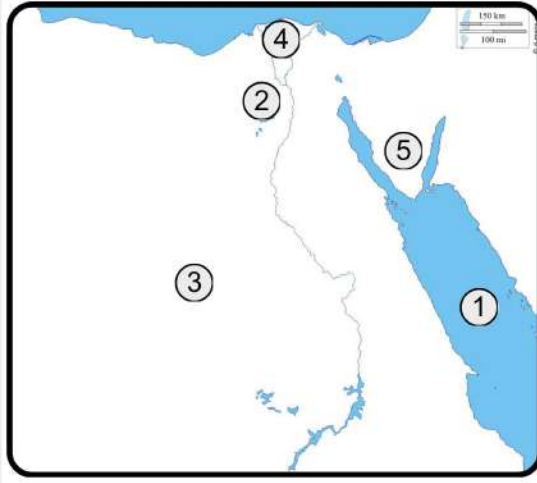
.....

ما العلاقة بين

- 1 موقع مصر بعد حفر قناة السويس الجديدة وازدهار الاقتصاد المصرى ؟

.....

.....



الاختبار التاسع



أمامك خريطة صماء لمصر وضع ما تدل عليه الأرقام

- 1 مسطح مائي
- 2 محافظة
- 3 الصحراء
- 4 بيئة
- 5 أرض تحيط بها المياه من ثلاث جهات

بم تفسر.....؟

- 1 أهمية الحدود الاداريه؟
- 4 أهمية خط نجدة الطفل 1600

أكمل العبارات الآتية بكلمات مناسبة:

- 1 تحدى الدكتور طه حسين اعاقته.....
- 2 تتوسط مصر قارات العالم
- 3 تعد محافظة البحر الاحمر من محافظات
- 4 لقب الدكتور طه حسين بعميد
- 5 أول بنك وطنى مصرى هو

أكتب سببا واحدا لكلا من

- 1 أهميه الخريطة بالنسبة للجيش؟
- 2 أهميه الحرف التراثية ؟

ما المقصود بكل مصطلح مما يأتى ... ؟

- 1 الحاجات
- 2 الجبل

ما النتائج المترتبة على ... ؟

- 1 وجود المياه الجوفية بالصحراء الغربية؟

2 انشاء معرض تراثنا ؟

أجب عن الاسئلة التاليه ؟

- 1 كيف نحترم علم مصر ؟

2 ماذا نقترح لترشيد استهلاك الكهرباء؟

ضع علامة ✓ أمام العبارة الصحيحة ، وعلامة ✗ أمام العبارة غير الصحيحة

- 1 زادت أهمية موقع مصر بعد حفر قناة السويس.
- 2 لكل طفل الحق فى الرعاية والتعليم والصحة.
- 3 تنتشر مكاتب البريد فى جميع انحاء العالم.
- 4 تستخدم الأقمار الصناعية فى التقاط الصور الجوية.
- 5 جبل عليه ارض مرتفعة يقل ارتفاعها عن 1000م.
- 6 من الخدمات التعليمية انشاء المدارس.
- 7 مياه الصرف الصحى والزراعى تسبب تلوث المياه.

اختر الإجابة الصحيحة مما يلي

- 1 إذا أردت أن تحدد موقعك بدقة فإنك تحتاج لاستخدام.....
(خريطة - صورة جوية - صورة فضائية - صورة فوتوغرافية)
- 2 ملحن النشيد الوطني لمصر هو.....
(طه حسين - سيد درويش - محمد عبد الوهاب - محمد يونس القاضي)
- 3 صناعة تنتشر فى العديد من الأماكن منها محافظة الدقهلية هي.....
(صناعة النسيج - الخيامية - السجاد اليدوى - الزجاج)
- 4 يحد البحر المتوسط مصر من جهة.....
(الجنوب - الغرب - الشمال - الشرق)
- 5 البرديات المصرية تعد من المصادر.....
(الثانوية - الأولية - البيانية - الطبيعية)
- 6 السد العالي يوجد في محافظة.....
(سوهاج - قنا - الأقصر - أسوان)
- 7 قام طلعت حرب بتأسيس بنك.....
(القاهرة - مصر - الإسكندرية - الكويت)

صوب ما تحته خط

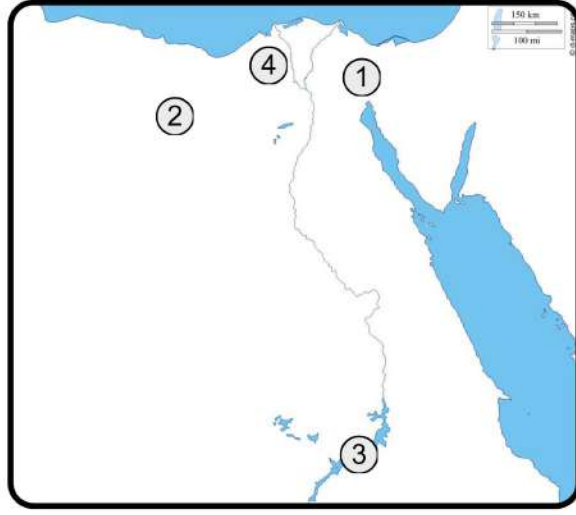
- 1 كلما زاد الادخار قل الاستثمار.
- 2 تقاس كمية المطر بالترمومتر.

ما العلاقة بين

- 1 الوان العلم المصرى وتاريخ مصر؟

ماذا يحدث اذا.....؟

- 1 أصبحت مصر ضمن دول وسط افريقيا؟



الاختبار العاشر



أمامك خريطة صماء لمصر وضع ما تدل عليه الأرقام

- 1 شريان التجارة العالمي.....
- 2 من محافظات الحدود.....
- 3 بحيرة صناعية عذبة.....
- 4 منطقة زراعية.....

اذكر نتيجة واحدة لما يلي

- 1 افتتاح قناة السويس الجديدة للملاحة البحرية؟
- 2 وجود السهول الفيضية الخصبة على جانبي نهر النيل؟

اختر الإجابة الصحيحة مما يلي

- 1 الدولة التي تحد مصر من الجنوب هي
(السودان-فلسطين-ليبيا-العراق)
- 2 ضمان ان يلتحق الطفل بالتعليم تعنى حقه فى
(الصحة -الرعايه- الحماية -المشاركة)
- 3 الأشياء التى يجب ان تحصل عليها لتعيش تعنى.....
(الاستهلاك-الحاجات-الرغبات-الحقائق)
- 4 يمكننا معرفة الاتجاهات الأصلية على الخريطة من خلال.....
(مفتاح الخريطة - مقياس الرسم - وردة البوصلة - عنوان الخريطة)
- 5 اختيار محافظة القاهرة عاصمة للبلاد يرجع إلى.....
(اتساع مساحتها - كثرة موانئها - موقعها المميز - ازدهارها زراعيًا)
- 6 الكثبان الرملية تنتشر فى البيئة.....
(الزراعية - الصناعية - الصحراوية - الساحلية)
- 7 منطقة تنتشر بها مناجم النحاس والذهب.....
(الصحراء الغربية - الصحراء الشرقية - شبه جزيرة سيناء - وادى النيل)
- 8 يقوم البنك بإعطاء الأموال للمستثمرين على شكل.....
(خدمات - قروض - ودائع - سلع)
- 9 الإسراف فى استخدام الأسمدة الكيماوية والزراعية يؤدى إلى تلوث
(البحار - التربة - الهواء - المحيطات)

ما العلاقة بين.....؟

- 1 دستور مصر ٢٠١٤ م - ذوى الاحتياجات الخاصة.

ضع علامة ✓ أمام العبارة الصحيحة ، وعلامة ✗ أمام العبارة غير الصحيحة



- 1 كان طلعت حرب في بداية حياته كاتباً بارعاً.
- 2 شارك سيد درويش في الاحتفال بثورة ١٩١٩م.
- 3 محطة الزعفرانة أنشئت لتوليد الكهرباء من طاقة الرياح.
- 4 تعد الموسوعات والأبحاث من المصادر الأولية .
- 5 الصور الجوية تغطي مساحات أكبر من الأماكن والمواقع أكثر من الصور الفضائية
- 6 تقع مصر في الركن الشمالي الشرقي لقارة أمريكا الشمالية.
- 7 الكتب والمقالات والموسوعات من المصادر الثانوية.
- 8 ترشيد استهلاك مواردنا الطبيعية مسؤولية الفرد.
- 9 أنشأت الدولة محطة الزعفرانة لتوليد الكهرباء من الرياح.

اختر من بنك الكلمات ما يناسب الجمل الآتية



(الاستهلاك - طه حسين - حقائق - الرغبات - الجبل - رأى - جمال حمدان)

- 1 المعلومات التي تم التأكد من صحتها هي
- 2 أرض شديدة الارتفاع ولها قمة وجوانبها منحدره.....
- 3 إنفاق النقود لشراء الحاجات والرغبات هو.....
- 4 كاتب لقب بعميد الأدب العربي هو.....

اكتب ما تشير إليه العبارات الآتية



- 1 مساحة كبيرة من اليابس تضم عددا من الدول ؟

.....

- 2 مبادرة للدولة المصرية تهدف الى التخفيف عن المواطنين بتوفير الاحتياجات وكافة الخدمات؟

.....

حدد نوع الخدمة التي يقدمها كل مما يلي

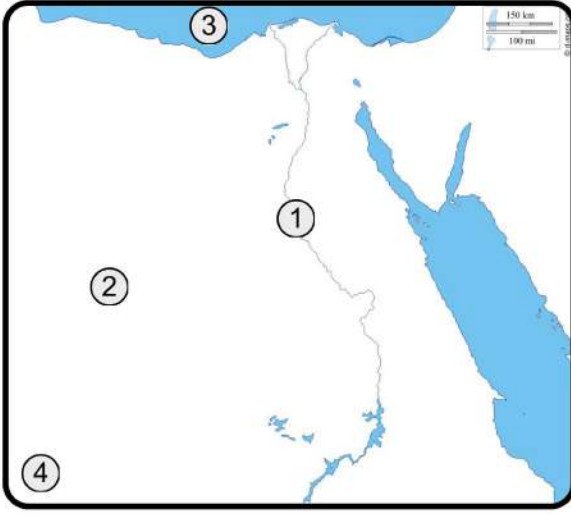


- 1 الطبيب.....
- 2 المعلم.....
- 3 ضابط الشرطة.....
- 4 دار السينما.....

الاختبار الحادي عشر



أمامك خريطة صماء لمصر وضع ما تدل عليه الأرقام



- 1 مورد مياه عذب.....
- 2 بيئة.....
- 3 البحر.....
- 4 جبل.....

بم تفسر.....؟

- 1 أهمية الخريطة للجيش؟
- 2 وجود اللون الأبيض في علم مصر؟

اختر الإجابة الصحيحة مما يلي:

- 1 الكتب والموسوعات من المصادر.....

(الأولية -التعليمية-الفرعية-الثانوية)

- 2 محافظة أسوان من محافظات الوجه.....

(البحري-القبلي-الحدود-المدن الساحلية)

- 3 يستخدم..... في معرفة سرعة الرياح

(جورب الرياح-الأنيمومتر-ميزان الحرارة-الترمومتر)

- 4 حصل..... على لقب عميد الأدب العربي

(جمال حمدان-طه حسين-سيد درويش-طلعت حرب)

- 5 يتكون شعار محافظة القاهرة من الشمس و.....

(القلعة-باب زويلة-الجامع الأزهر-جامع الحسين)

- 6 الحقائق هي تم التأكد من صحتها.

(معلومات-اراء-وجهات نظر-مناقشات)

اكتب ما تشير إليه كل عبارة من العبارات التالية

- 1 جزء من اليابس يحيط به المياه من جميع الجهات.

- 2 حرفة تراثية مدرجة على قائمة التراث العالمي لليونسكو.

دل على صحة العبارة

- 1 تنوع مظاهر السطح في مصر.

- 2 تتعرض التربة لأخطار متعددة في مصر.

ضع علامة ✓ أمام العبارة الصحيحة ، وعلامة ✗ أمام العبارة غير الصحيحة

- 1 تحتفل جميع محافظات مصر بعيد قومي واحد
- 2 يعد الحديد والمنجنيز من الموارد المتجددة.
- 3 تعد محافظة سوهاج من محافظات الوجه القبلي.
- 4 يتكون علم مصر من ثلاثة ألوان متشابهة.
- 5 تقوم الزراعة في الصحراء الغربية على المياه الجوفية .
- 6 ساعد نهر النيل قديما على التجارة بين مصر ودول وسط إفريقيا.
- 7 يستخدم مقياس الرسم في تحديد الاتجاهات على الخريطة.

ما العلاقة بين كلا من؟

- 1 الرمال البيضاء والصناعة؟
- 2 اهتمام الدولة بحقوق الطفل ؟

حدد اثنين من

- 1 حقوق الطفل المصري .

ما النتائج المترتبة على

- 1 انشاء البنك المركزي المصري؟
- 2 حفر قناة السويس الجديدة ؟
- 3 انشاء العاصمة الادارية الجديدة؟

أكمل بكلمات مناسبة العبارات التالية

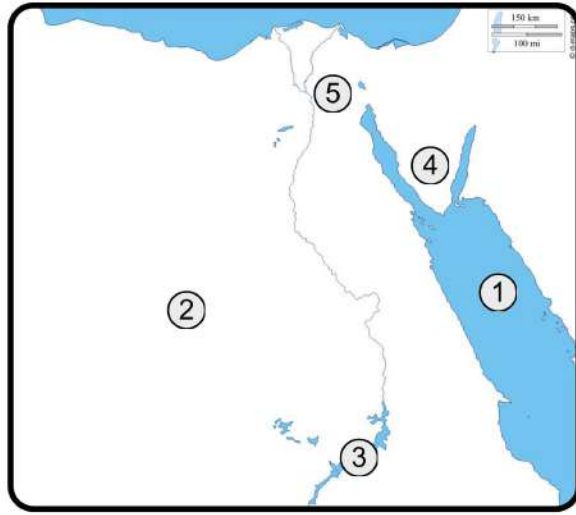
- 1 زادت أهمية موقع مصر بعد حفر.....
- 2 تحتفل محافظة.....بعيدها القومي في 6 يوليو من كل عام.
- 3 استخراج شهادات الميلاد من الخدمات.....
- 4 من الحرف المدرجة على قائمة التراث العالمي صناعة.....
- 5 تحيط المياه بالجزيرة من جهات.

اكتب سببا واحدا لكل من

- 1 أهمية الخريطة في حياة السائح .

- 2 أهمية مبادرة حياة كريمة التي أطلقتها الدولة المصرية.

الاختبار الثاني عشر



أمامك خريطة صماء لمصر وضع ما تدل عليه الأرقام

- 1 البحر.....
- 2 الصحراء.....
- 3 بحيرة.....
- 4 جبل.....
- 5 عاصمة مصر.....

أجب عن الأسئلة التالية

1 كيف تحترم علم مصر؟

2 ماذا تقترح لترشيد استهلاك المياه؟

اختر الإجابة الصحيحة مما يلي

1 السد العالي يوجد في محافظة

(سوهاج - قنا - الأقصر - أسوان)

2 البرديات المصرية تعد من المصادر.....

(الثانوية - الأولية - البيانية - الطبيعية)

3 آسيا مساحة شاسعة من اليابسة تضم عدة دول ، فهي بذلك.....

(محافظة -دوله -قارة -جزيرة)

4 قام طلعت حرب بتأسيس بنك

(القاهرة - مصر - إسكندرية - الكويت)

5 محطة الزعفرانة هي لتوليد الطاقة الكهربائية من.....

(الشمس -البتترول -الرياح -المياه)

6 لمعرفة مدلول الألوان والرموز الموجودة على الخريطة، فإننا ننظر إلى.....

(عنوان الخريطة - مقياس الرسم - مفتاح الخريطة - وردة البوصلة)

7 الكتب والموسوعات من المصادر.....

(أولية - البيانية - الطبيعية - الثانوية)

8 تستخدم الأقمار الصناعية لالتقاط الصور.....

(الجوية - الفوتوغرافية - الفضائية - المرسومة)

بم تفسر.....؟

1 أهمية الخريطة بالنسبة للسائح؟

2 انشاء الدولة للعاصمة الادارية الجديدة ؟

- ضع علامة أمام العبارة الصحيحة ، وعلامة أمام العبارة غير الصحيحة
- 1 تزيين الشوارع وتجميلها يعد أحد مظاهر الاحتفال بالعيد القومي للمحافظة.
 - 2 يرمز اللون الأبيض في علم مصر إلى السلام.
 - 3 تربط قناة السويس بين البحر الأحمر والبحر الميت.
 - 4 الحدود الإدارية هي خطوط تفصل بين المحافظات وبعضها.
 - 5 يستخدم الترمومتر لقياس سرعة الرياح.
 - 6 تنتشر مكاتب البريد في جميع أنحاء مصر.
 - 7 لا توفر الخدمات الإلكترونية المزيد من الوقت والجهد.
 - 8 لكل طفل الحق في الرعاية والتعليم والصحة.
 - 9 تنتشر الشعاب المرجانية على ساحل البحر المتوسط.
 - 10 زادت أهمية موقع مصر بعد حفر قناة السويس.

صوب ما تحته خط

- 1 تقاس كمية المطر بالترمومتر.
- 2 كلما زاد الادخار قل الاستثمار.

أكمل العبارات بما يناسبها

- 1 تحدى الدكتور طه حسين إعاقته
- 2 تتوسط مصر قارات العالم.....
- 3 معرض تقيمه الدولة لإحياء الحرف التراثية هو معرض.....
- 4 محافظة البحر الأحمر من محافظات
- 4 هي الأشياء التي يجب أن تحصل عليها للعيش

اكتب نتيجة واحدة لكل مما يأتي

- 1 حرق قش الأرز؟

- 2 انشاء قناة السويس الجديدة؟

ضع خط تحت الكلمة التي لا تنتمي للمجموعة مع ذكر السبب

- 1 مقياس الرسم - مفتاح الخريطة - وردة البوصلة - الصور.

- 2 آسيا - إفريقيا - أستراليا - أوروبا .

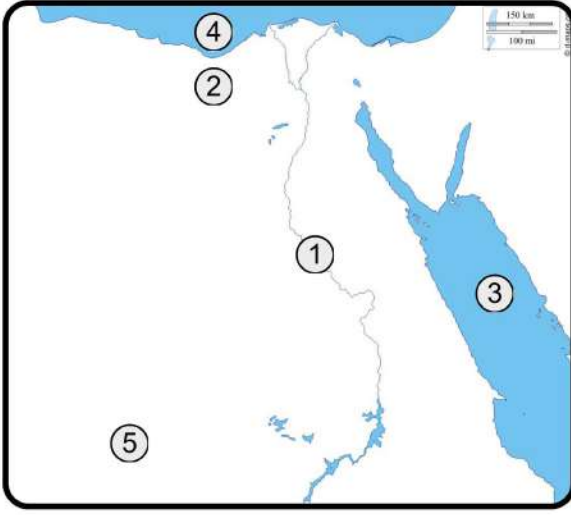
اكتب ما تشير إليه العبارات التالية

- 1 لُقِبَ بـ «أبو الاقتصاد المصري».
- 2 رمز يتخذهُ كل بلد ليعبر عن تاريخه.

الاختبار الثالث عشر



أمامك خريطة صماء لمصر وضع ما تدل عليه الأرقام



- 1 نهر
- 2 بيئة.....
- 3 البحر.....
- 4 البحر.....
- 5 الصحراء.....

اختر الإجابة الصحيحة مما يلي

- 1 نتيجة لاتساع مساحة مصر تم تقسيمها لعدد من
(المحافظات -الامارات -الدول -الولايات)
- 2 المحطة التي انشئت لتوليد الكهرباء من الطاقة الشمسية.....
(الزعفرانة -الكريمت -القاهرة -السد العالي)
- 3 اللون الأبيض على علم مصر يرمز إلى.....
(الظلم - التضحية - السلام - التطور)
- 4 أحد الأشياء التي يجب أن تحصل عليها لتعيش تسمى
(الرغبات - الحاجات - الادخار - الاستثمار)
- 5 مساحة من الأرض تحيط بها المياه من جميع الجهات
(الجزيرة - البحيرة - البحر - النهر)

أكمل العبارات التالية بما يناسبها من كلمات

(البحيرة-اليابس-الماء-الهواء-الصحية-دماء الشهداء-سلعة-قناة السويس)

- 1 الصيدلية تعد من نماذج الخدمات
- 2 تعد دولة ليبيا جزء من
- 3 تحصل من نهر النيل على مورد طبيعي متجدد وهو.....
- 4 مساحة صغيرة من الماء يحيط بها اليابس من جميع الجهات
- 5 يدل اللون الأحمر في علم مصر على
- 6 الأرز الذي تشتريه عبارة عن
- 7 زادت أهمية مصر بعد حفر
- 8 تؤدي عوادم السيارات إلى تلوث

قارن بين المصدر الأولي - المصدر الثانوي (من حيث التعريف)

1 المصدر الأولي

2 المصدر الثانوي

ضع علامة ✓ أمام العبارة الصحيحة ، وعلامة ✗ أمام العبارة غير الصحيحة

- 1 يتنوع المناخ باختلاف الموقع.
- 2 تقع الصحراء الشرقية غرب نهر النيل.
- 3 تعد محافظة سوهاج من محافظات الوجه القبلي.
- 4 المكتبات العامة تعتبر من الخدمات الثقافية.
- 5 الهضبة ارض شديدة الارتفاع ولها قمة.
- 6 يعد حرق قش الأرز من أسباب تلوث التربة.

اكتب ما تشير إليه العبارات التالية

- 1 طريق تجاري كانت السفن تقطعه حول إفريقيا.
- 2 مساحة من الأرض مستوية قليلة الارتفاع تتكون من رواسب الأنهار.

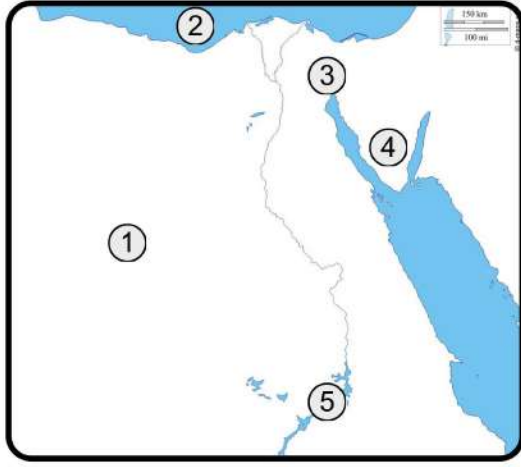
صوب ما تحته خط

- 1 تقاس سرعة الرياح بدوارة الرياح.
- 2 الحرف التراثية من أهميتها تقليل فرص العمل.
- 3 إصدار النقود والإشراف على جميع البنوك يقوم بها بنك مصر.
- 4 ساعدت قناة السويس الجديدة على زيادة زمن مرور السفن في القناة.
- 5 يعبر عن السلام في علم مصر اللون الأحمر.
- 6 تقع مصر في الركن الشمالي الشرقي من قارة آسيا.

بم تفسر

- 1 أهمية رسم وردة البوصلة على الخريطة ؟

- 2 أهمية الرمال البيضاء للاقتصاد المصري؟



الاختبار الرابع عشر



أمامك خريطة صماء لمصر وضع ما تدل عليه الأرقام

- 1 الصحراء.....
- 2 البحر.....
- 3 ممر ملاحى عالمى.....
- 4 جبل.....
- 5 بحيرة.....

أكمل العبارات التالية من بنك الكلمات

(اتحضر للأخضر - الأنيمومتر - 100 مليون صحة - الاستهلاك)

- 1 إنفاق النقود الشراء الحاجات والرغبات يعنى.....
- 2 يمكننا قياس سرعة الرياح باستخدام جهاز.....
- 3 مبادرة تهتم بصحة المواطن هي مبادرة.....

اختر الإجابة الصحيحة مما يلي

- 1 تعتبر محافظة مطروح من محافظات.....
(الوجه القبلي - الوجه البحري - الحدود - القناة)
- 2 توفر الدولة خط نجدة الطفل ليعبر عن حق الطفل في.....
(التعليم - الحماية - اللعب - المشاركة)
- 3 صناعة..... من الحرف اليدوية التي يستخدم فيها الصانع الإبرة والخيط لإنتاج قطع فنية
(الفخار - الخيامية - الخزف - الزجاج)
- 4 كل مانقوم بانتاجه او شرائه يسمى.....
(الأعمال - الأنشطة - الخدمات - السلع)
- 5 المسئول عن إصدار النقود في مصر هو.....
(البنك المركزي - بنك مصر - البنك الأهلى - بنك إسكندرية)
- 6 عند تعرض الطفل للعنف فإن عليه الاتصال ب.....
(خط نجدة الطفل - الإسعاف - وزارة الصحة - المدرسة)

اكتب اثنين

- 1 حقوق الطفل المصرى؟

- 2 مظاهر الاحتفال بالعيد القومى للمحافظة ؟

ضع علامة ✓ أمام العبارة الصحيحة ، وعلامة ✗ أمام العبارة غير الصحيحة

- 1 التلال أقل ارتفاعاً من الجبال.
- 2 يقوم الاطباء بحماية المؤسسات.
- 3 توفر الخدمات الالكترونية الوقت والجهد والمال.
- 4 المناخ يصف حالة الجو خلال فترة زمنية طويلة.
- 5 الحدود السياسية تفصل المحافظة عن المحافظات المجاورة لها .
- 6 يتم التقاط الصور الفضائية بواسطة الطائرات.

بم تفسر.....؟

- 1 أهمية الخريطة للفلاح؟

اكتب مقترحاً واحداً
1 لترشيد استهلاك الطاقة ؟

اذكر السبب....؟

- 1 انشاء الدولة العاصمة الادارية الجديدة؟

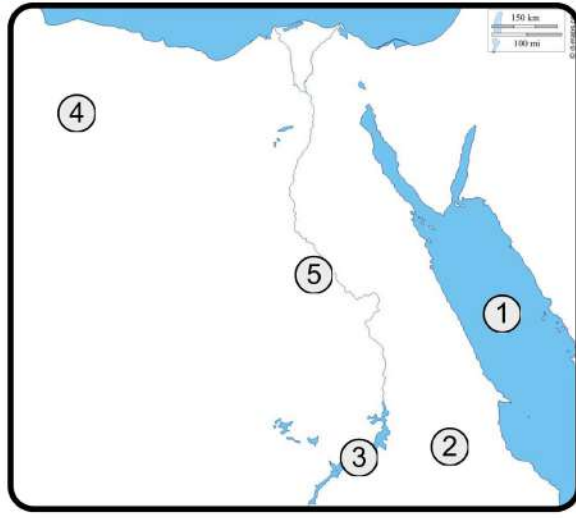
وضح أى من العبارتين الآتيتين (حقيقة) وأيهما (رأى) ؟

- 1 بنى الهرم الأكبر في عهد الملك خوفو .
- 2 هذه صورة رائعة لقناة السويس.

اكتب ما تشير إليه العبارات التالية

- 1 موارد طبيعية لا تنفذ رغم استخدامنا لها .
- 2 أشياء يجب الحصول عليها لنعيش.

الاختبار الخامس عشر



أمامك خريطة صماء لمصر وضع ما تدل عليه الأرقام

- 1 البحر
- 2 الصحراء
- 3 بحيرة
- 4 منخفض
- 5 نهر

أكمل الجمل التالية من بنك الكلمات

(جورب الرياح - إفريقيا - الرغبات - الزعفرانة - آسيا)

- 1 تقع مصر في الركن الشمالي الشرقي من قارة
- 2 يمكننا تحديد اتجاه الرياح باستخدام دوارة الرياح و.....
- 3 تقوم محطة.....بمحافظة البحر الاحمر بتوليد الكهرباء من طاقة الرياح.
- 4 تسمى..... الأشياء التي نستطيع العيش بدونها.

اختر الإجابة الصحيحة مما يلي:

- 1 مساحة كبيرة من اليابس تضم عدا كبيرا من الدول تسمى
(المحافظة - القارة - المدينة - المحيط)
- 2 لمعرفة درجات الحرارة اليوم فاننا نستخدم
- 3 تتركز صناعة الخيامية في منطقة
- 4 تحتفل القاهرة بعيدها القومي في ذكرى.....
(بناء القاهرة - بناء الجامع الأزهر - حفر قناة السويس - جلاء القوات الانجليزية)
- 5 تقع مصر في الركن الشمالي الشرقي لقارة.....
(اسيا - اوروبا - افريقيا - استراليا)
- 6 اللون الذي يعبر عن السلام في علم مصر
- (الابيض - الاحمر - الاسود - الذهبي)

اكتب ما تشير إليه العبارة

- 1 صور يتم التقاطها من الجو باستخدام الطائرات.
- 2 كل ما يتم تدوينه بعد مرور زمن طويل من وقوع الحدث.
- 3 وصف حاله الجو في فترة زمنية قصيرة.
- 4 أرض شديدة الارتفاع ولها قمة تزيد عن 1000 متر .

ضع علامة ✓ أمام العبارة الصحيحة ، وعلامة ✗ أمام العبارة غير الصحيحة

- 1 تحد المياه مصر من اتجاهى الشرق والجنوب.
- 2 اللون الاسود فى علم مصر يدل على السلام.
- 3 بناء المستشفيات من الخدمات الصحية.
- 4 يستخدم الترمومتر فى تحديد اتجاه الرياح.
- 5 حماية المواطنين وتوفير الامن يعد من الخدمات الامنية.

بم تفسر....؟

1 ضيق السواحل عند البحر الاحمر ؟

2 اطلاق الدوله مبادرة (اتحضر للاخضر)

3 لكل دولة حدود ادارية ؟

من أكون.....؟

- 1 أنا أبو الموسيقى المصرية الشعبية ولحنت نشيد «بلادي بلادي».
- 2 قمت بوضع حجر الأساس لبناء مدينة القاهرة عام 969م.

صوب ما تحته خط

- 1 أول بنك وطنى فى تاريخ مصر هو بنك القاهرة .
- 2 قيام رجال الشرطة بحماية المؤسسات خدمات بيئية.

اذكر اثنين من حقوق الأطفال

اذكر واحدة من أنواع البيئات المصرية