



العصاة

ضع علامة < أو > أو = :

٦ ٩

٥ ٤

٣ ٣

٤ ٧

٥ ٥

اجمع

= ٣ + ٥

= ٤ + ٤

= ١ + ١

= ٣ + ٢

= ٣ + ٣

ضع دائرة حول العدد الأكبر:

١ - ٦ - ٢ - ٥ (أ)

٨ - ٥ - ٧ - ٤ (ب)

٣ - ٦ - ٢ - ٨ (ج)

٠ - ١٠ - ٨ - ٩ (د)

ضع دائرة حول العدد الأصغر:

١ - ٦ - ٢ - ٥ (أ)

٨ - ٥ - ٧ - ٤ (ب)

٣ - ٦ - ٢ - ٨ (ج)

٠ - ١٠ - ٨ - ٩ (د)

أكمل :

..... ، ، ، ، ، > ٥ (أ)

..... ، ، ، ، ، < ٧ (ب)

..... ، ، ، ، ، > ١٠ (ج)

اكتب العدد بالحروف :

..... ٦ ١

..... ٧ ٢

..... ٨ ٣

..... ٩ ٤

..... ١٠ ٥





الواجب

ضع علامة < أو > أو = :

٤ ٥

٩ ٧

٦ ٦

٩ ١٠

٨ ٨

اجمع

= ٤ + ٤

= ٣ + ٥

= ٠ + ٦

= ٧ + ٣

= ٨ + ١

= ٥ + ٥

= ٠ + ٧

أكتب العدد السابق

١ →

٤ →

٦ →

أكتب العدد التالي :

← ٥

← ٧

← ٣

أكمل :

(أ) $٤ >$ ، ، ، ، ، ، ، ، ،

(ب) $٨ <$ ، ، ، ، ، ، ، ، ،

(ج) $٢ <$ ، ، ، ، ، ، ، ، ،

(د) $١٠ <$ ، ، ، ، ، ، ، ، ،

أكمل :

٣ أكبر من ، ، ، ،

٥ أصغر من ، ، ، ، ، ، ، ، ،

٦ أكبر من ، ، ، ، ، ، ، ، ،

٩ أكبر من ، ، ، ، ، ، ، ، ،





الحصة

ضع علامة < أو > أو = :

٣ ٣

٣+٢ ١+٥

٢+١ ٥+٤

٢+٣ ٤+١

٠+٧ ٢+٥

٦+٣ ٩

اجمع

= ٢+٧

= ٣+٣

= ٤+٦

= ١+٥

= ٠+٩

= ٢+٨

أكتب العدد السابق

١ →

٣ →

٥ →

٧ →

أكتب العدد التالي :

← ٢

← ٤

← ٦

← ٨

أكمل :

(أ) $٤ >$ ، ، ، ، ، ،

(ب) $٧ <$ ، ، ، ، ،

(ج) $٩ >$ ، ، ، ، ،

أكمل :

٥ أصغر من ، ، ،

٦ أكبر من ، ، ،

١٠ أصغر من ، ، ،





الحصة

ضع علامة حول العدد الاصغر :

(أ) ٣ - ٧ - ٤

(ب) ٥ - ٤ - ٢

(ج) ١٠ - ٨ - ٩

(د) ٦ - ٠ - ٣

(هـ) ٢ - ٤ - ٥

(و) ٩ - ٦ - ٧

ضع علامة < أو > أو = :

٥ ٣

٤ ٧

٥ ٥

٦ ٩

٨ ٧

١٠ ١٠

٧ ٧

اطرح :

$\begin{array}{r} ٧ \\ - ٦ \\ \hline \end{array}$ $\begin{array}{r} ٧ \\ - ٥ \\ \hline \end{array}$ $\begin{array}{r} ٧ \\ - ٢ \\ \hline \end{array}$

$\begin{array}{r} ٧ \\ - ١ \\ \hline \end{array}$ $\begin{array}{r} ٧ \\ - ٤ \\ \hline \end{array}$ $\begin{array}{r} ٧ \\ - ٣ \\ \hline \end{array}$

اجمع :

$\begin{array}{r} ٨ \\ + ٨ \\ \hline \end{array}$ $\begin{array}{r} ٧ \\ + ٨ \\ \hline \end{array}$ $\begin{array}{r} ٥ \\ + ٧ \\ \hline \end{array}$

$\begin{array}{r} ٦ \\ + ٦ \\ \hline \end{array}$ $\begin{array}{r} ٥ \\ + ٦ \\ \hline \end{array}$ $\begin{array}{r} ٩ \\ + ٥ \\ \hline \end{array}$

عد واكتب العدد بالحروف :





الواجب

أكمل:

..... ، ، ، ، < ٤

..... ، ، ، ، > ٦

..... ، ، ، ، < ٨

..... ، ، ، ، > ٢

ضع علامة < أو > أو = :

٩ ٣

٩ ٤

١٧ ١٧

١٢ ١٥

٨ ١٨

ضع دائرة حول العدد الأكبر

٦ - ٤ - ٢ - ٧ (أ)

٤ - ٠ - ٩ - ٥ (ب)

٣ - ٧ - ٨ - ٢ (ج)

٤ - ٩ - ٦ - ٧ (د)

ضع دائرة حول العدد الأصغر :

٦ - ٤ - ٢ - ٧ (أ)

٤ - ٠ - ٩ - ٥ (ب)

٣ - ٧ - ٨ - ٢ (ج)

٤ - ٩ - ٦ - ٧ (د)

ضع علامة < أو > أو = :

سبعة خمسة

تسعة تسعة

عشرة ثمانية

ثلاثة ثلاثة

اكتب العدد بالحروف :

..... ٦ ١

..... ٧ ٢

..... ٨ ٣

..... ٩ ٤

..... ١٠ ٥





الحصة

ضع علامة < أو > أو = :

٤ ٥

١ ٢

٨ ٨

٩ ٧

٥ ٥

اجمع

= ٤ + ٣

= ٥ + ٢

= ٠ + ٤

= ٢ + ٦

= ٩ + ١

ضع دائرة حول العدد الأكبر

٢ - ٥ - ٣ - ٤ (أ)

٨ - ٦ - ٥ - ٧ (ب)

٠ - ٨ - ٢ - ٩ (ج)

٢ - ٧ - ٤ - ١ (د)

ضع دائرة حول العدد الأصغر :

٢ - ٥ - ٣ - ٤ (أ)

٨ - ٦ - ٥ - ٧ (ب)

٠ - ٨ - ٢ - ٩ (ج)

٢ - ٧ - ٤ - ١ (د)

أكمل :

..... ، ، ، ، ، > ٦ (أ)

..... ، ، ، ، ، < ٣ (ب)

..... ، ، ، ، ، > ٥ (ج)

اكتب العدد بالحروف :

..... ٦ ١

..... ٧ ٢

..... ٨ ٣

..... ٩ ٤

..... ١٠ ٥





العصاة

ضع علامة < أو > أو = :

1 + 3 ستة

1 + 2 7 + 2

ثمانية 8

5 + 1 4 + 3

اجمع

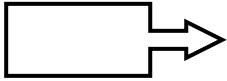
4 4 3
+ + +

0 2 5

6 5 7
+ + +

3 5 3

عد واكتب العدد بالحروف :



اكتب العدد السابق والتالي :

← 4 →

← 6 →

← 2 →

← 8 →

أكمل :

(أ) $4 <$ ، ، ، ، ، ،

(ب) $8 >$ ، ، ، ، ، ،

(ج) $10 <$ ، ، ، ، ، ،

أكمل :

3 أكبر من ، ، ،

7 أصغر من ، ، ، ،

9 أكبر من ، ، ، ،

ضع دائرة حول العدد الأكبر :

(أ) 1 - 3 - 5 - 4

(ب) 8 - 5 - 7 - 6

(ج) 0 - 9 - 8 - 10

ضع دائرة حول العدد الأصغر :

(أ) 1 - 3 - 5 - 4

(ب) 8 - 5 - 7 - 6

(ج) 0 - 9 - 8 - 10





الواجب

ضع علامة < أو > أو = :

سبعة $4 + 3$

$2 + 6$ تسعة

$2 + 2$ ٤

$1 + 4$ مصر

العراق الصومال

اجمع

٧	٣	٤
٣ +	٥ +	٢ +
_____	_____	_____

٩	٦	٥
٢ +	٣ +	٤ +
_____	_____	_____

عد واكتب العدد بالحروف :

السودان

مصر

الصومال

أحب أمي

اكتب العدد السابق والتالي :

← ٣ →

← ٧ →

← ٥ →

← ٩ →

أكمل :

(أ) $3 >$ ، ، ، ، ، ،

(ب) $7 <$ ، ، ، ، ، ،

(ج) $9 >$ ، ، ، ، ، ،

أكمل :

٤ أكبر من ، ، ،

٨ أصغر من ، ، ، ،

٦ أكبر من ، ، ، ،

ضع دائرة حول العدد الأكبر :

(أ) ٨ - ٤ - ٦ - ٢

(ب) ٧ - ٣ - ٥ - ١

(ج) ٢ - ٠ - ٨ - ٩

ضع دائرة حول العدد الأصغر :

(أ) ٨ - ٤ - ٦ - ٢

(ب) ٧ - ٣ - ٥ - ١

(ج) ٢ - ٠ - ٨ - ٩





الواجب

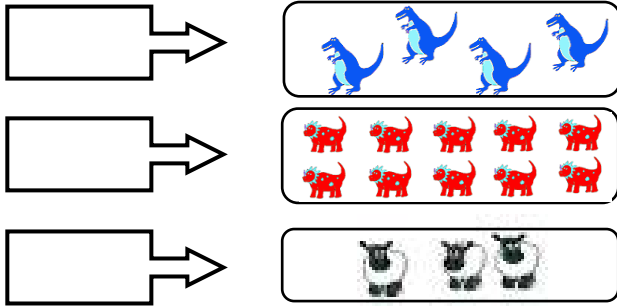
ضع علامة < أو > أو = :

٧	<input type="text"/>	٥
٩ + ٥	<input type="text"/>	عشرة
٣ + ٦	<input type="text"/>	٨
٠ + ٦	<input type="text"/>	٣ + ٣

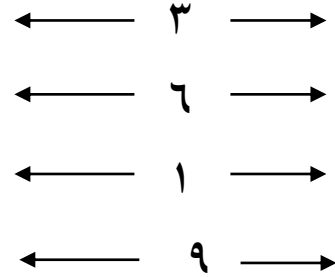
اجمع

٦	٣	٤
٢ +	٥ +	١ +
_____	_____	_____
٩	٥	٨
٠ +	٥ +	٢ +
_____	_____	_____

عد واكتب العدد بالحروف :



اكتب العدد السابق والتالي :



ضع علامة حول العدد الأكبر :

٧ - ٣ - ٩ - ٨ (أ)

٥ - ٤ - ١ - ٦ (ب)

ضع علامة حول العدد الأصغر :

٧ - ٣ - ٩ - ٨ (أ)

٥ - ٤ - ١ - ٦ (ب)

اكتب الأعداد من ٢٠ إلى ١ :

<input type="text"/>	<input type="text"/>	<input type="text"/>	<input type="text"/>	<input type="text"/>	<input type="text"/>	<input type="text"/>	١
<input type="text"/>	<input type="text"/>	<input type="text"/>	<input type="text"/>	<input type="text"/>	<input type="text"/>	<input type="text"/>	<input type="text"/>
٢٠	<input type="text"/>	<input type="text"/>	<input type="text"/>	<input type="text"/>	<input type="text"/>	<input type="text"/>	<input type="text"/>

أكمل :

٧ أكبر من ، ، ، ، ،
 ٨ أصغر من ، ، ، ، ،
 > ٣ ، ، ، ، ،
 < ٩ ، ، ، ، ،





الحصّة

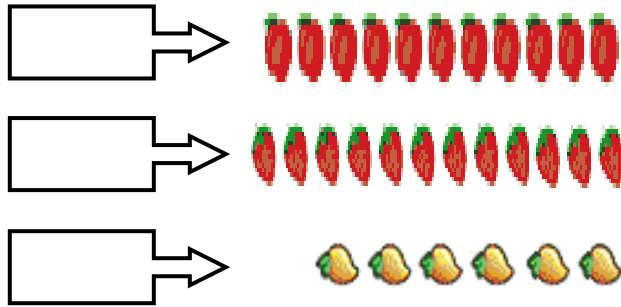
اطرح :

٩	٧	٤
٤ -	٢ -	٢ -
_____	_____	_____
٩	٦	٨
٠ -	١ -	٣ -
_____	_____	_____

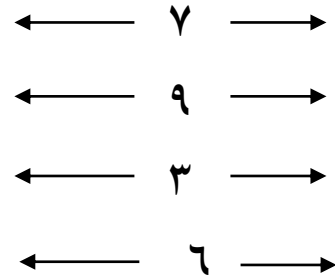
اجمع :

٢	٤	٣
٢ +	٤ +	٥ +
_____	_____	_____
٧	١	٢
٠ +	٣ +	٦ +
_____	_____	_____

عد واكتب العدد بالحروف :



اكتب العدد السابق والتالي :



ضع دائرة حول العدد الأكبر :

(أ) ٤ - ٣ - ٧ - ٥

(ب) ١ - ٠ - ٣ - ٢

ضع علامة < أو > أو = :

٣ + ٤	<input type="text"/>	خمسة
عشرة	<input type="text"/>	٥ + ٣
٥	<input type="text"/>	ثلاثة
٢ + ٢	<input type="text"/>	٣ + ١
٧	<input type="text"/>	٩
٢	<input type="text"/>	٤

أكمل :

.....،،،، < ٣
،،،، > ٥
،،،، أكبر من ٦





الواجب

اطرح:

٦	٣	٥
٠ -	٣ -	٢ -
_____	_____	_____
٩	٧	٨
٤ -	٣ -	٥ -
_____	_____	_____

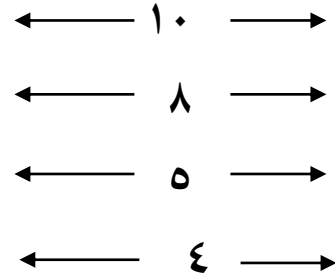
اجمع:

٦	٣	٥
٠ +	٣ +	٢ +
_____	_____	_____
٩	٣	٥
٤ +	٧ +	٨ +
_____	_____	_____

أكمل:

<input type="text"/>	<input type="text"/>	<input type="text"/>	<input type="text"/>
+	+	+	+
٨	٧	٣	٢
_____	_____	_____	_____
١١	١٠	٨	٥
	<input type="text"/>	<input type="text"/>	<input type="text"/>
	+	+	+
	٤	٣	٢
	_____	_____	_____
	٨	٥	٨

اكتب العدد السابق والتالي:



ضع دائرة حول العدد الاصغر:

(أ) ٣ - ٢ - ٦ - ٤

(ب) ٢ - ١ - ٤ - ٣

ضع علامة < أو > أو =:

سبعة	<input type="text"/>	٢ + ٤
٢ + ٣	<input type="text"/>	ثمانية
٠ + ٩	<input type="text"/>	تسعة
٢ + ٢	<input type="text"/>	٣ + ١
٧	<input type="text"/>	١٠
٢ + ٧	<input type="text"/>	٥

أكمل:

.....،،،، > ٤

.....،،،، < ٦

.....،،،، أكبر من ٧





الحصّة

اطرح :

٩	٥	٧
٤ -	٥ -	٤ -
_____	_____	_____
٩	٣	٨
٠ -	٣ -	٢ -
_____	_____	_____

اجمع

٩	٥	٤
٤ +	٥ +	٧ +
_____	_____	_____
٢	٣	٨
٣ +	٣ +	٢ +
_____	_____	_____

رتب تصاعدياً وتنازلياً :

(١ - ٢ - ٤ - ٩ - ٨ - ٧ - ٥)

تصاعدياً :

تنازلياً :

اكتب العدد السابق والتالي :

← ٩ →

← ٧ →

← ٤ →

← ٢ →

ضع دائرة حول العدد الأصغر :

٥ - ٠ - ١ - ٩ (أ)

٨ - ٩ - ٤ - ٧ (ب)

أكمل :

.....،،،، < ٧

.....،،،، > ٣

٩ أصغر من،،،،

٧ أكبر من،،،،

ضع علامة < أو > أو = :

٣ + ٣ ستة

٦ + ٣ ١٠

٢ + ٥ سبعة

عشرة ١ + ٨

٣ + ٢ ٠ + ٥





الواجب

اطرح:

٦	٤	٥
٣-	٢-	٣-
_____	_____	_____
٧	٨	٧
٠-	٤-	٥-
_____	_____	_____

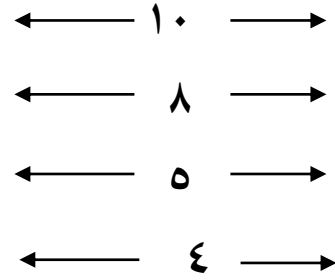
اجمع

٦	٢	٥
٣ +	٤ +	٣ +
_____	_____	_____
٧	٨	٧
٠ +	٤ +	٥ +
_____	_____	_____

أكمل:

$\frac{\square}{2} +$	$\frac{\square}{3} +$	$\frac{\square}{2} +$
_____	_____	_____
٨	٩	٦
$\frac{\square}{3} +$	$\frac{\square}{2} +$	
_____	_____	
٥	٤	

اكتب العدد السابق والتالي:



ضع دائرة حول العدد الأكبر:

(أ) ٨ - ٣ - ٥ - ٧

(ب) ٤ - ٦ - ٨ - ١٠

ضع علامة < أو > أو =:

٢ + ٥	<input type="text"/>	سبعة
٧	<input type="text"/>	٥
٣ + ٤	<input type="text"/>	ثمانية
عشرة	<input type="text"/>	٧ + ٣
واحد	<input type="text"/>	٣

أكمل:

٢ >،،،،

٥ >،،،

٨ أكبر من،،،

٦ أصغر من،،،





العصاة

أطرح :

$$= 3 - 5$$

$$= 4 - 7$$

$$= 6 - 8$$

$$= 3 - 9$$

$$= 3 - 7$$

اجمع :

$$= 3 + 5$$

$$= 7 + 4$$

$$= 6 + 8$$

$$= 3 + 9$$

$$= 0 + 7$$

ضع علامة < أو > أو = :

ثلاثة ستة

2+5 7+3

4+2 عشرة

ثمانية 6+2

اكتب العدد السابق والتالي :

← 11 →

← 9 →

← 1 →

← 8 →

ضع دائرة حول العدد الأكبر :

3 - 5 - 1 - 2 (أ)

9 - 0 - 7 - 6 (ب)

ضع دائرة حول العدد الأصغر :

3 - 5 - 1 - 2 (أ)

9 - 0 - 7 - 6 (ب)

أكمل :

..... ، ، ، ، ، < 5

..... ، ، ، ، ، > 8

..... ، ، ، ، ، 3 أصغر من

اكتب العدد بالحروف :

..... 5 1

..... 6 2

..... 7 3

..... 8 4





الواجب

اطرح :

$$= 3 - 6$$

$$= 0 - 4$$

$$= 1 - 8$$

$$= 5 - 5$$

$$= 3 - 8$$

اجمع

$$= 3 + 6$$

$$= 2 + 4$$

$$= 1 + 8$$

$$= 5 + 5$$

$$= 0 + 8$$

ضع علامة < أو > أو = :

عشرة $7 + 2$

$4 + 5$ تسعة

$0 + 3$ $2 + 1$

ثلاثة $2 + 2$

اكتب العدد السابق والتالي :

$\leftarrow 7 \rightarrow$

$\leftarrow 3 \rightarrow$

$\leftarrow 10 \rightarrow$

$\leftarrow 1 \rightarrow$

ضع دائرة حول العدد الاكبر :

٦ - ٢ - ٥ - ٧ (أ)

٤ - ٩ - ٣ - ١ (ب)

ضع دائرة حول العدد الاصغر :

٦ - ٢ - ٥ - ٧ (أ)

٤ - ٩ - ٣ - ١ (ب)

أكمل :

..... ، ، ، ، ، ، < ٦

..... ، ، ، ، ، ، > ٩

..... ، ، ، ، ، ، > ٤

اكتب العدد بالحروف :

..... ٦ ١

..... ٧ ٢

..... ٨ ٣

..... ٩ ٤

..... ١٠ ٥





العصاة

أطرح :

$$\begin{aligned} &= 0 - 8 \\ &= 5 - 5 \\ &= 2 - 7 \\ &= 7 - 8 \\ &= 5 - 8 \end{aligned}$$

اجمع :

$$\begin{aligned} &= 5 + 4 \\ &= 4 + 7 \\ &= 4 + 3 \\ &= 3 + 0 \\ &= 2 + 7 \end{aligned}$$

ضع علامة < أو > أو = :

7	<input type="text"/>	1+5
تسعة	<input type="text"/>	2+2
ثمانية	<input type="text"/>	8
5+3	<input type="text"/>	10

اكتب العدد السابق والتالي :

← 8 →
← 3 →
← 10 →
← 1 →

ضع دائرة حول العدد الاكبر :

(أ) 7 - 1 - 2 - 6
(ب) 4 - 10 - 5 - 8

ضع دائرة حول العدد الاصغر :

(أ) 7 - 1 - 2 - 6
(ب) 4 - 10 - 5 - 8

أكمل :

<input type="text"/>	<input type="text"/>	<input type="text"/>
4	3	8
أصغر عدد هو		
أكبر عدد هو		

أكمل :

<input type="text"/>	<input type="text"/>	<input type="text"/>
5	9	0
أصغر عدد هو		
أكبر عدد هو		





العصاة

أطرح :

$$\begin{aligned} &= 5 - 7 \\ &= 3 - 9 \\ &= 6 - 6 \\ &= 4 - 8 \\ &= 5 - 5 \end{aligned}$$

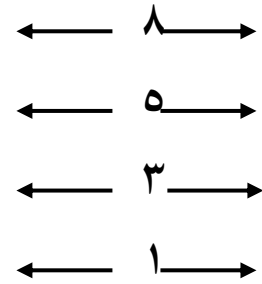
اجمع :

$$\begin{aligned} &= 5 + 7 \\ &= 3 + 9 \\ &= 6 + 6 \\ &= 4 + 8 \\ &= 5 + 5 \end{aligned}$$

ضع علامة < أو > أو = :

0 + 5	<input type="text"/>	2 + 3
سبعة	<input type="text"/>	2 + 6
3 + 8	<input type="text"/>	3 + 5
2 + 2	<input type="text"/>	أربعة

اكتب العدد السابق والتالي :



ضع دائرة حول العدد الأكبر :

(أ) 6 - 5 - 3 - 7
(ب) 8 - 0 - 4 - 5

ضع دائرة حول العدد الأصغر :

(أ) 6 - 5 - 3 - 7
(ب) 8 - 0 - 4 - 5

أكمل :

5 1 7
أصغر عدد هو
أكبر عدد هو

أكمل :

4 6 3
أصغر عدد هو
أكبر عدد هو





الواجب

اطرح :

$$= 3 - 7$$

$$= 3 - 3$$

$$= 5 - 8$$

$$= 2 - 2$$

$$= 4 - 9$$

اجمع

$$= 7 + 3$$

$$= 3 + 3$$

$$= 5 + 8$$

$$= 2 + 2$$

$$= 3 + 9$$

ضع علامة < أو > أو = :

$$3 + 4 \quad \square \quad 2 + 5$$

$$\text{سوهاج} \quad \square \quad \text{مصر}$$

$$5 + 5 \quad \square \quad 3 + 2$$

$$\text{سبعة} \quad \square \quad 7$$

اكتب العدد السابق والتالي :

$$\leftarrow 4 \rightarrow$$

$$\leftarrow 6 \rightarrow$$

$$\leftarrow 2 \rightarrow$$

$$\leftarrow 9 \rightarrow$$

ضع دائرة حول العدد الأكبر :

$$6 - 4 - 3 - 5 \quad (\text{أ})$$

$$5 - 7 - 9 - 6 \quad (\text{ب})$$

ضع دائرة حول العدد الأصغر :

$$6 - 4 - 3 - 5 \quad (\text{أ})$$

$$5 - 7 - 9 - 6 \quad (\text{ب})$$

أكمل الأعداد :

$$\square \quad \square \quad \square \quad \square \quad \square \quad \square \quad 21$$

$$\square \quad \square \quad \square \quad \square \quad \square \quad \square \quad \square$$

$$40 \quad \square \quad \square \quad \square \quad \square \quad \square$$

أكمل :

$$\square 6 \quad \square 10 \quad \square 8 \quad \square 9$$

أصغر عدد هو

أكبر عدد هو





العصاة

أطرح :

$$\begin{aligned} &= 4 - 4 \\ &= 3 - 5 \\ &= 4 - 6 \\ &= 3 - 8 \\ &= 5 - 5 \end{aligned}$$

اجمع :

$$\begin{aligned} &= 4 + 4 \\ &= 3 + 5 \\ &= 4 + 6 \\ &= 3 + 8 \\ &= 5 + 5 \end{aligned}$$

اكتب العدد السابق والتالي :

$$\begin{aligned} &\leftarrow 3 \rightarrow \\ &\leftarrow 1 \rightarrow \\ &\leftarrow 10 \rightarrow \\ &\leftarrow 7 \rightarrow \end{aligned}$$

رتب تصاعدياً :

$$\begin{aligned} &2 - 4 - 1 - 3 \\ &\square \quad \square \quad \square \quad \square \\ &4 - 6 - 7 - 5 \\ &\square \quad \square \quad \square \quad \square \end{aligned}$$

أكمل بنفس التسلسل :

$$\begin{aligned} &..... ، ، ، ، 11 ، 10 ، 9 \\ &..... ، ، ، ، 4 ، 5 \\ &..... ، ، ، ، 3 ، 2 \\ &..... ، ، ، ، 7 ، 6 \end{aligned}$$

ضع علامة < أو > أو = :

$$\begin{aligned} &4 \quad \square \quad 7 \\ &9 \quad \square \quad عشرة \\ &1+3 \quad \square \quad 0+4 \\ &خمسة \quad \square \quad 2+6 \\ &3+3 \quad \square \quad 2+5 \end{aligned}$$





الواجب

اطرح:

$$= 5 - 5$$

$$= 2 - 6$$

$$= 4 - 7$$

$$= 5 - 9$$

$$= 4 - 4$$

$$= 3 - 4$$

اجمع

$$= 5 + 5$$

$$= 6 + 2$$

$$= 4 + 7$$

$$= 9 + 5$$

$$= 4 + 4$$

$$= 4 + 3$$

اكتب العدد السابق والتالي:

$$\leftarrow 4 \rightarrow$$

$$\leftarrow 2 \rightarrow$$

$$\leftarrow 5 \rightarrow$$

$$\leftarrow 1 \rightarrow$$

رتب تصاعدياً:

$$3 - 6 - 5 - 4$$

$$6 - 7 - 9 - 8$$

أكمل بنفس التسلسل:

..... ، ، ، ، 5 ، 3 ، 4

..... ، ، ، ، 9 ، 8

..... ، ، ، ، 5 ، 6

..... ، ، ، ، 3 ، 2 ، 1

..... ، ، ، ، 12 ، 11 ، 10

ضع علامة < أو > أو =:

$$4+6 \quad \square \quad 5+3$$

$$9 \quad \square \quad 7$$

$$5 \quad \square \quad 3$$

$$0+3 \quad \square \quad 1+2$$

$$5+4 \quad \square \quad \text{تسعة}$$





العصاة

أطرح :

$$\begin{aligned} &= 3 - 8 \\ &= 2 - 5 \\ &= 5 - 9 \\ &= 3 - 4 \\ &= 5 - 6 \\ &= 7 - 8 \end{aligned}$$

اجمع :

$$\begin{aligned} &= 3 + 8 \\ &= 2 + 5 \\ &= 5 + 9 \\ &= 3 + 4 \\ &= 5 + 6 \\ &= 7 + 8 \end{aligned}$$

اكتب العدد السابق والتالي :

$$\begin{aligned} &\leftarrow 8 \rightarrow \\ &\leftarrow 4 \rightarrow \\ &\leftarrow \quad \rightarrow \\ &\leftarrow 6 \rightarrow \end{aligned}$$

رتب تصاعدياً :

$$\begin{aligned} &6 - 5 - 9 - 7 \\ &\square \quad \square \quad \square \quad \square \\ &5 - 2 - 0 - 8 \\ &\square \quad \square \quad \square \quad \square \end{aligned}$$

أكمل بنفس التسلسل :

$$\begin{aligned} &\dots, 8, 9 \\ &\dots, 4, 5 \\ &\dots, 12, 11 \\ &\dots, 9, 10 \end{aligned}$$

ضع علامة < أو > أو = :

$$\begin{aligned} &7 \quad \square \quad 2+2 \\ &5 \quad \square \quad 2+3 \\ &\text{أربعة} \quad \square \quad 2+2 \\ &\text{شمس} \quad \square \quad 6 \end{aligned}$$





العصاة

أطرح :

$$= 3 - 7$$

$$= 4 - 5$$

$$= 2 - 3$$

$$= 4 - 4$$

$$= 0 - 5$$

اجمع :

$$= 3 + 7$$

$$= 4 + 5$$

$$= 3 + 2$$

$$= 4 + 4$$

$$= 0 + 5$$

اكتب العدد السابق والتالي :

$$\leftarrow 10 \rightarrow$$

$$\leftarrow 11 \rightarrow$$

$$\leftarrow 14 \rightarrow$$

$$\leftarrow 5 \rightarrow$$

رتب تصاعدياً :

$$2 - 6 - 9 - 10$$

$$5 - 1 - 3 - 7$$

أكمل بنفس التسلسل :

$$\dots, \dots, \dots, \dots, 5, 4$$

$$\dots, \dots, \dots, \dots, 9, 8$$

$$\dots, \dots, \dots, \dots, 12, 13$$

$$\dots, \dots, \dots, \dots, 5, 6$$

$$\dots, \dots, \dots, \dots, 2, 1$$

ضع علامة < أو > أو = :

$$9 \quad \square \quad 11$$

$$9 \quad \square \quad 4$$

$$17 \quad \square \quad 17$$

$$12 \quad \square \quad 15$$

$$8 \quad \square \quad 18$$





الواجب

أطرح :

$$= 5 - 8$$

$$= 3 - 9$$

$$= 4 - 6$$

$$= 7 - 7$$

$$= 3 - 3$$

$$= 0 - 5$$

اجمع :

$$= 5 + 8$$

$$= 3 + 6$$

$$= 6 + 4$$

$$= 7 + 7$$

$$= 3 + 3$$

$$= 0 + 5$$

اكتب العدد السابق والتالي :

← ١٥ →

← ١١ →

← ١٠ →

← ٨ →

رتب تصاعدياً :

١٤ - ١٠ - ١٢ - ١٥

٧ - ١١ - ٨ - ٩

أكمل بنفس التسلسل :

..... ، ، ، ، ٨ ، ٩

..... ، ، ، ، ١١ ، ١٠

..... ، ، ، ، ٦ ، ٧

..... ، ، ، ، ٤ ، ٥

ضع علامة < أو > أو = :

١٤ ١٣

١٧ ٩

١٨ ١٨

١٠ ١١





الواجب

أطرح :

$$= ٤ - ٧$$

$$= ٢ - ٨$$

$$= ٦ - ٦$$

$$= ٣ - ٥$$

$$= ٥ - ٩$$

$$= ٠ - ٨$$

اجمع :

$$= ٨ + ٤$$

$$= ٢ + ٨$$

$$= ٦ + ٦$$

$$= ٣ + ٥$$

$$= ٥ + ٩$$

$$= ٠ + ٨$$

اكتب العدد السابق والتالي :

← ١٨ →

← ١١ →

← ٧ →

← ٤ →

رتب تصاعدياً :

٩ - ١٢ - ٧ - ١٣

١ - ٣ - ٧ - ٥

أكمل بنفس التسلسل :

..... ، ، ، ، ٣ ، ٤

..... ، ، ، ، ٦ ، ٥

..... ، ، ، ، ١٠ ، ٩

..... ، ، ، ، ١٤ ، ١٥

ضع علامة < أو > أو = :

١٤ ١٥

١٦ ١١

١٤ ١٤

١٢ ١٧





العصاة

أطرح :

$$= ٤ - ٥$$

$$= ٣ - ٧$$

$$= ٢ - ٨$$

$$= ٣ - ٥$$

$$= ٤ - ٦$$

اجمع :

$$= ٥ + ٤$$

$$= ٤ + ٧$$

$$= ٨ + ٢$$

$$= ٣ + ٥$$

$$= ٤ + ٦$$

اكتب العدد السابق والتالي :

$$\leftarrow ١٩ \rightarrow$$

$$\leftarrow ١٠ \rightarrow$$

$$\leftarrow ٨ \rightarrow$$

$$\leftarrow ٣ \rightarrow$$

رتب تصاعدياً :

$$١٦ - ١٢ - ١٥ - ١٧$$

$$٨ - ٣ - ٦ - ٩$$

أكمل بنفس التسلسل :

..... ، ، ، ، ١٢ ، ١٣

..... ، ، ، ، ١٨ ، ١٧

..... ، ، ، ، ١٤ ، ١٥

..... ، ، ، ، ٦ ، ٧

ضع علامة < أو > أو = :

$$٣ + ٢$$

تسعة

خمسة

٤ + ٤

$$٤ - ٨$$

٢ + ٢

ستة

١ + ٥

$$٧ + ٣$$

عشرة





الواجب

أطرح :

$$= 3 - 8$$

$$= 2 - 2$$

$$= 6 - 7$$

$$= 3 - 5$$

$$= 4 - 9$$

اجمع :

$$= 8 + 3$$

$$= 2 + 2$$

$$= 7 + 1$$

$$= 3 + 5$$

$$= 9 + 4$$

اكتب العدد السابق والتالي :

$$\leftarrow 7 \rightarrow$$

$$\leftarrow 9 \rightarrow$$

$$\leftarrow 13 \rightarrow$$

$$\leftarrow 16 \rightarrow$$

رتب تصاعدياً :

$$11 - 9 - 15 - 19$$

$$1 - 6 - 2 - 4$$

أكمل بنفس التسلسل :

$$\dots, \dots, \dots, \dots, 8, 9$$

$$\dots, \dots, \dots, \dots, 5, 4$$

$$\dots, \dots, \dots, \dots, 10, 8$$

$$\dots, \dots, \dots, \dots, 18, 17$$

ضع علامة < أو > أو = :

$$9 \quad 9 \quad \square \quad 2-3$$

$$\text{عشرة} \quad \square \quad 2+8$$

$$2-5 \quad \square \quad 4+4$$

$$5-9 \quad \square \quad \text{أربعة}$$

$$\text{ثلاثة} \quad \square \quad 3-6$$





العصاة

أطرح :

$$= 2 - 5$$

$$= 3 - 4$$

$$= 2 - 6$$

$$= 5 - 5$$

$$= 0 - 7$$

اجمع :

$$= 2 + 5$$

$$= 4 + 3$$

$$= 6 + 2$$

$$= 5 + 5$$

$$= 0 + 7$$

رتب تنازلياً :

١٠ - ٧ - ٥ - ٩

١ - ٦ - ٨ - ٤

رتب تصاعدياً :

١٠ - ٧ - ٥ - ٩

١ - ٣ - ٨ - ٤

ضع علامة < أو > أو = :

٩ ٥

٤ ٢

٧ ٧

ثلاثة ثمانية

ستة أربعة + ٢

اكتب العدد السابق والتالي :

← ٤ →

← ٢ →

← ٩ →

← ١ →

← ٧ →





الواجب

أطرح :

$$= 5 - 6$$

$$= 3 - 3$$

$$= 1 - 2$$

$$= 0 - 0$$

$$= 2 - 9$$

اجمع :

$$= 6 + 5$$

$$= 3 + 3$$

$$= 1 + 2$$

$$= 0 + 0$$

$$= 2 + 8$$

رتب تنازلياً :

3 - 1 - 2 - 5

4 - 6 - 0 - 7

رتب تصاعدياً :

3 - 1 - 2 - 5

4 - 6 - 0 - 7

ضع علامة < أو > أو = :

7 3

8 2

2+2 أربعة

ستة 2+3

اكتب العدد السابق والتالي :

← 8 →

← 10 →

← 5 →

← 1 →





العصاة

أطرح :

$$= 2 - 5$$

$$= 3 - 4$$

$$= 2 - 6$$

$$= 5 - 5$$

$$= 0 - 7$$

اجمع :

$$= 2 + 5$$

$$= 4 + 3$$

$$= 6 + 2$$

$$= 5 + 5$$

$$= 0 + 7$$

رتب تنازلياً :

$$10 - 7 - 5 - 9$$

$$1 - 6 - 8 - 4$$

رتب تصاعدياً :

$$10 - 7 - 5 - 9$$

$$1 - 3 - 8 - 4$$

أكمل بنفس التسلسل :

$$..... ، 3 ، 4$$

$$..... ، 7 ، 6$$

$$..... ، 10 ، 9$$

$$..... ، 15 ، 14$$

$$..... ، 14 ، 13$$

وصل :

$$3 + 5$$
 ستة

$$2 + 3$$
 أربعة

$$5 - 6$$
 ثمانية

$$2 + 2$$
 واحد

$$4 + 2$$
 خمسة





الواجب

أطرح :

$$= 4 - 5$$

$$= 3 - 6$$

$$= 2 - 7$$

$$= 5 - 8$$

$$= 6 - 9$$

اجمع :

$$= 5 + 4$$

$$= 4 + 6$$

$$= 2 + 7$$

$$= 8 + 3$$

$$= 5 + 9$$

رتب تنازلياً :

11 - 7 - 9 - 10

1 - 4 - 6 - 3

رتب تصاعدياً :

11 - 7 - 9 - 10

1 - 4 - 6 - 3

أكمل بنفس التسلسل :

..... ، ، ، ، 15 ، 14

..... ، ، ، ، 7 ، 8

..... ، ، ، ، 4 ، 3

..... ، ، ، ، 5 ، 6

وصل :

10 سبعة

5 + 4 اثنان

5 - 6 تسعة

3 - 5 ثلاثة

2 + 1 عشرة





الحصة

أطرح :

$$= 2 - 9$$

$$= 4 - 6$$

$$= 1 - 8$$

$$= 3 - 5$$

$$= 4 - 7$$

اجمع :

$$= 2 + 9$$

$$= 6 + 4$$

$$= 8 + 1$$

$$= 3 + 5$$

$$= 4 + 7$$

رتب تنازلياً :

$$15 - 13 - 16 - 11$$

$$5 - 2 - 6 - 8$$

رتب تصاعدياً :

$$15 - 13 - 16 - 11$$

$$5 - 2 - 6 - 8$$

ضع علامة < أو > أو = :

$$5-8 \quad \square \quad 2+3$$

$$4+4 \quad \square \quad 3+5$$

$$2 + \text{ثمانية} \quad \square \quad 1-9$$

$$1-2 \quad \square \quad \text{واحد}$$

اكتب العدد السابق والتالي :

$$\leftarrow 3 \rightarrow$$

$$\leftarrow 1 \rightarrow$$

$$\leftarrow 6 \rightarrow$$

$$\leftarrow 10 \rightarrow$$

أكمل بنفس التسلسل :

$$\dots, \dots, \dots, \dots, 3, 2$$

$$\dots, \dots, \dots, \dots, 10, 9$$

اكتب العدد بالحروف :

$$\dots \dots \dots 5 \dots \dots \dots 1$$

$$\dots \dots \dots 6 \dots \dots \dots 2$$

$$\dots \dots \dots 7 \dots \dots \dots 3$$

$$\dots \dots \dots 8 \dots \dots \dots 4$$





الواجب

أطرح :

$$= 6 - 8$$

$$= 2 - 7$$

$$= 4 - 9$$

$$= 2 - 3$$

$$= 1 - 4$$

$$= 0 - 5$$

اجمع :

$$= 6 + 8$$

$$= 2 + 7$$

$$= 4 + 9$$

$$= 2 + 3$$

$$= 4 + 1$$

$$= 0 + 5$$

رتب تنازلياً :

$$12 - 16 - 14 - 18$$

$$6 - 3 - 0 - 4$$

رتب تصاعدياً :

$$12 - 16 - 14 - 18$$

$$6 - 3 - 0 - 4$$

ضع علامة < أو > أو = :

$$2 + \text{واحد} \quad \square \quad 3 + 5$$

$$\text{ثمانية} \quad \square \quad 6 + 4$$

$$4 - 9 \quad \square \quad 0 + 5$$

$$3 + 6 \quad \square \quad 5 + 4$$

اكتب العدد السابق والتالي :

$$\leftarrow 3 \rightarrow$$

$$\leftarrow 13 \rightarrow$$

$$\leftarrow 4 \rightarrow$$

$$\leftarrow 14 \rightarrow$$

أكمل بنفس التسلسل :

$$\dots, \dots, \dots, \dots, 6, 7$$

$$\dots, \dots, \dots, \dots, 18, 19$$

اكتب العدد بالحروف :

$$\dots \dots \dots 5 \dots \dots \dots 1$$

$$\dots \dots \dots 6 \dots \dots \dots 2$$

$$\dots \dots \dots 7 \dots \dots \dots 3$$

$$\dots \dots \dots 8 \dots \dots \dots 4$$





اختبار

أطرح :

$$= 3 - 9$$

$$= 5 - 8$$

$$= 4 - 6$$

$$= 0 - 5$$

اجمع :

$$= 3 + 8$$

$$= 5 + 1$$

$$= 2 + 7$$

$$= 0 + 0$$

رتب تنازلياً :

6 - 2 - 4 - 5

10 - 17 - 11 - 14

رتب تصاعدياً :

6 - 2 - 4 - 5

10 - 17 - 11 - 14

ضع علامة < أو > أو = :

سبعة 3 + 4

5 - 8 2 + 7

3 + 3 أربعة

اكتب العدد بالحروف :

..... 6

..... 7

..... 8

..... 9

..... 10

اكتب الاعداد:

<input type="text"/>	<input type="text"/>	<input type="text"/>	<input type="text"/>	<input type="text"/>	<input type="text"/>	30
<input type="text"/>	<input type="text"/>	<input type="text"/>	<input type="text"/>	<input type="text"/>	<input type="text"/>	<input type="text"/>
50	<input type="text"/>	<input type="text"/>	<input type="text"/>	<input type="text"/>	<input type="text"/>	<input type="text"/>





الواجب

أطرح :

$$\begin{aligned} &= 5 - 6 \\ &= 2 - 4 \\ &= 3 - 8 \\ &= 0 - 9 \end{aligned}$$

اجمع :

$$\begin{aligned} &= 5 + 6 \\ &= 2 + 4 \\ &= 3 + 8 \\ &= 0 + 9 \end{aligned}$$

رتب تنازلياً :

$$\begin{array}{cccc} 10 & - & 2 & - & 6 & - & 8 \\ \square & & \square & & \square & & \square \\ 16 & - & 11 & - & 15 & - & 13 \\ \square & & \square & & \square & & \square \end{array}$$

رتب تصاعدياً :

$$\begin{array}{cccc} 10 & - & 2 & - & 6 & - & 8 \\ \square & & \square & & \square & & \square \\ 16 & - & 11 & - & 15 & - & 13 \\ \square & & \square & & \square & & \square \end{array}$$

ضع علامة < أو > أو = :

$$\begin{array}{ccc} 2 + 5 & \square & \text{تسعة} \\ 4 + 4 & \square & \text{ثمانية} \\ 5 + 4 & \square & 7 + 2 \end{array}$$

اكتب العدد بالحروف :

$$\begin{array}{ll} \dots\dots\dots 6 & \dots\dots\dots 1 \\ \dots\dots\dots 7 & \dots\dots\dots 2 \\ \dots\dots\dots 8 & \dots\dots\dots 3 \\ \dots\dots\dots 9 & \dots\dots\dots 4 \\ \dots\dots\dots 10 & \dots\dots\dots 5 \end{array}$$

اكتب الاعداد :

$$\begin{array}{cccccc} \square & \square & \square & \square & \square & \square & 30 \\ \square & \square & \square & \square & \square & \square & \\ 50 & \square & \square & \square & \square & \square & \square \end{array}$$





الحصّة

أطرح :

$$= 9 - 9$$

$$= 6 - 8$$

$$= 5 - 7$$

$$= 6 - 6$$

$$= 3 - 7$$

اجمع :

$$= 9 + 9$$

$$= 6 + 8$$

$$= 7 + 5$$

$$= 6 + 6$$

$$= 7 + 7$$

رتب تنازلياً :

١٠ - ١٦ - ١٣ - ١٧

<input type="text"/>	<input type="text"/>	<input type="text"/>	<input type="text"/>
----------------------	----------------------	----------------------	----------------------

١٦ - ١١ - ١٥ - ١٣

<input type="text"/>	<input type="text"/>	<input type="text"/>	<input type="text"/>
----------------------	----------------------	----------------------	----------------------

رتب تصاعدياً :

١٠ - ١٦ - ١٣ - ١٧

<input type="text"/>	<input type="text"/>	<input type="text"/>	<input type="text"/>
----------------------	----------------------	----------------------	----------------------

١٨ - ١٤ - ١٩ - ٢٠

<input type="text"/>	<input type="text"/>	<input type="text"/>	<input type="text"/>
----------------------	----------------------	----------------------	----------------------

ضع علامة < أو > أو = :

$$17 \quad \square \quad 19$$

$$16 + 4 \quad \square \quad 13$$

$$20 \quad \square \quad 20$$

اكتب العدد بالحروف :

..... ١٦ ١١

..... ١٧ ١٢

..... ١٨ ١٣

..... ١٩ ١٤

..... ٢٠ ١٥

أكتب الأعداد:

<input type="text"/>	<input type="text"/>	<input type="text"/>	<input type="text"/>	<input type="text"/>	<input type="text"/>	٥٠
<input type="text"/>	<input type="text"/>	<input type="text"/>	<input type="text"/>	<input type="text"/>	<input type="text"/>	<input type="text"/>
٧٠	<input type="text"/>	<input type="text"/>	<input type="text"/>	<input type="text"/>	<input type="text"/>	<input type="text"/>





الواجب

أطرح :

$$= ٤ - ٨$$

$$= ٣ - ٧$$

$$= ٥ - ٥$$

$$= ٦ + ٧$$

$$= ٢ - ٩$$

اجمع :

$$= ٤ + ٨$$

$$= ٣ + ٧$$

$$= ٥ + ٥$$

$$= ٧ + ٦$$

$$= ٢ + ٩$$

رتب تنازلياً :

$$١٣ - ١٥ - ١٠ - ١٢$$

$$١٦ - ١١ - ١٥ - ١٣$$

رتب تصاعدياً :

$$١٣ - ١٥ - ١٠ - ١٢$$

$$٧ - ٥ - ٨ - ٩$$

ضع علامة < أو > أو = :

١٣ احدي عشر

ثمانية عشر ١٧

١٦ ستة عشر

اكتب العدد بالحروف :

..... ١٦ ١١

..... ١٧ ١٢

..... ١٨ ١٣

..... ١٩ ١٤

..... ٢٠ ١٥

اكتب الاعداد:

٥٠

٧٠





الحصّة

أطرح :

$$= 3 - 8$$

$$= 2 - 5$$

$$= 6 - 6$$

$$= 3 - 6$$

$$= 4 - 7$$

اجمع :

$$= 4 + 2 + 3$$

$$= 0 + 1 + 5$$

$$= 3 + 2 + 7$$

$$= 2 + 6 + 4$$

$$= 4 + 5 + 2$$

رتب تنازلياً :

١٢ - ١٧ - ١١ - ١٥

٩ - ٠ - ٢ - ٨

رتب تصاعدياً :

١٢ - ١٧ - ١١ - ١٥

٩ - ٠ - ٢ - ٨

ضع علامة < أو > أو = :

اثنا عشر ١٦

١٧ خمسة عشر

١٩ تسعة عشر

اكتب العدد بالحروف :

..... ١٦ ١١

..... ١٧ ١٢

..... ١٨ ١٣

..... ١٩ ١٤

..... ٢٠ ١٥

أكتب الأعداد:

٥٠

٧٠





الواجب

أطرح :

$$= 5 - 6$$

$$= 1 - 5$$

$$= 5 - 8$$

$$= 3 - 9$$

$$= 2 - 4$$

اجمع :

$$= 3 + 6 + 1$$

$$= 4 + 3 + 7$$

$$= 0 + 2 + 4$$

$$= 3 + 1 + 5$$

$$= 0 + 2 + 7$$

رتب تنازلياً :

١٧ - ١١ - ١٦ - ١٣

١٨ - ١٢ - ١٠ - ١٩

رتب تصاعدياً :

١٧ - ١١ - ١٦ - ١٣

١٨ - ١٢ - ١٠ - ١٩

ضع علامة < أو > أو = :

١٣ ثلاثة عشر

١٧ ١٩

عشرون ٢٠

اكتب العدد بالحروف :

..... ١٦ ١١

..... ١٧ ١٢

..... ١٨ ١٣

..... ١٩ ١٤

..... ٢٠ ١٥

أكتب الأعداد:

٥٠

٧٠





الحصّة

أطرح :

$$= 6 - 7$$

$$= 2 - 6$$

$$= 3 - 5$$

$$= 2 - 8$$

$$= 3 - 3$$

اجمع :

$$= 5 + 1 + 2$$

$$= 1 + 3 + 7$$

$$= 6 + 4 + 5$$

$$= 3 + 2 + 6$$

$$= 0 + 8 + 2$$

رتب تنازلياً :

$$10 - 14 - 12 - 15$$

$$13 - 20 - 19 - 17$$

رتب تصاعدياً :

$$10 - 14 - 12 - 15$$

$$13 - 20 - 19 - 17$$

ضع علامة < أو > أو = :

$$4 + 2 \quad \square$$

خمسة

$$\text{ستة عشر} \quad \square$$

١٤

$$17 \quad \square$$

ثلاثة عشر

$$5 + 4 \quad \square$$

٩

اكتب العدد السابق والتالي :

$$\leftarrow 4 \rightarrow$$

$$\leftarrow 15 \rightarrow$$

$$\leftarrow 19 \rightarrow$$

$$\leftarrow 9 \rightarrow$$





الواجب

أطرح :

$$= 4 - 7$$

$$= 5 - 6$$

$$= 2 - 4$$

$$= 3 - 6$$

$$= 4 - 8$$

اجمع :

$$= 1 + 2 + 4$$

$$= 6 + 1 + 5$$

$$= 0 + 2 + 2$$

$$= 2 + 3 + 6$$

$$= 3 + 5 + 4$$

رتب تنازلياً :

$$13 - 14 - 11 - 12$$

$$16 - 17 - 15 - 18$$

رتب تصاعدياً :

$$13 - 14 - 11 - 12$$

$$16 - 17 - 15 - 18$$

ضع علامة < أو > أو = :

$$13 \quad \square \quad 17$$

$$\text{اثنا عشر} \quad \square \quad 18$$

$$\text{عشرون} \quad \square \quad 20$$

$$14 \quad \square \quad 14$$

$$16 \quad \square \quad 12$$

اكتب العدد السابق والتالي :

$$\leftarrow 13 \rightarrow$$

$$\leftarrow 11 \rightarrow$$

$$\leftarrow 17 \rightarrow$$

$$\leftarrow 20 \rightarrow$$





الحصّة

أطرح :

$$= 6 - 8$$

$$= 4 - 5$$

$$= 1 - 4$$

$$= 5 - 7$$

$$= 6 - 9$$

اجمع :

$$= 1 + 2 + 4$$

$$= 2 + 6 + 4$$

$$= 2 + 7 + 1$$

$$= 6 + 2 + 3$$

$$= 2 + 2 + 9$$

رتب تنازلياً :

$$15 - 13 - 18 - 16$$

$$11 - 17 - 12 - 19$$

رتب تصاعدياً :

$$15 - 13 - 18 - 16$$

$$11 - 17 - 12 - 19$$

ضع علامة < أو > أو = :

$$16 \quad \square \quad 17$$

$$19 \quad \square \quad 15$$

$$13 \quad \square \quad 14$$

$$11 \quad \square \quad 10$$

$$7 \quad \square \quad 9$$

اكتب العدد السابق والتالي :

$$\leftarrow 18 \rightarrow$$

$$\leftarrow 12 \rightarrow$$

$$\leftarrow 14 \rightarrow$$

$$\leftarrow 19 \rightarrow$$





الواجب

أطرح :

$$= 6 - 4$$

$$= 3 - 2$$

$$= 5 - 3$$

$$= 7 - 5$$

$$= 9 - 3$$

اجمع :

$$= 3 + 6 + 3$$

$$= 1 + 4 + 7$$

$$= 2 + 3 + 5$$

$$= 7 + 0 + 4$$

$$= 3 + 2 + 6$$

رتب تنازلياً :

١٠ - ١٣ - ١١ - ١٤

٦ - ٥ - ٨ - ٩

رتب تصاعدياً :

١٠ - ١٣ - ١١ - ١٤

٦ - ٥ - ٨ - ٩

ضع علامة < أو > أو = :

١٢ ١٤

١٧ ثمانية عشر

١١ ١١

١٦ ١٥

١٩ ١٩

اكتب العدد السابق والتالي :

← ١٣ →

← ١١ →

← ١٧ →

← ١٥ →





الحصة

أطرح :

$$= 5 - 7$$

$$= 3 - 8$$

$$= 6 - 9$$

$$= 4 - 6$$

اجمع :

$$= 7 + 4 + 1$$

$$= 8 + 2 + 3$$

$$= 4 + 2 + 9$$

$$= 4 + 1 + 5$$

مكونات العدد (٣) :

$$= 2 + 1$$

$$= 0 + 3$$

$$= 1 + 2$$

مكونات العدد (٢) :

$$= 1 + 1$$

$$= 0 + 2$$

$$= 2 + 0$$

رتب تنازلياً :

$$10 - 11 - 9 - 13$$

$$13 - 16 - 8 - 17$$

رتب تصاعدياً :

$$10 - 11 - 9 - 13$$

$$13 - 16 - 8 - 17$$

ضع علامة < أو > أو = :

$$15 \quad \square \quad \text{أربعة عشر}$$

$$\text{ستة عشر} \quad \square \quad 13$$

$$18 \quad \square \quad \text{ثمانية عشر}$$

اكتب العدد السابق والتالي :

$$\leftarrow 19 \rightarrow$$

$$\leftarrow 13 \rightarrow$$

$$\leftarrow 12 \rightarrow$$

$$\leftarrow 10 \rightarrow$$





الواجب

أطرح :

$$= 1 - 7$$

$$= 4 - 5$$

$$= 6 - 8$$

$$= 2 - 6$$

اجمع :

$$= 7 + 1 + 3$$

$$= 0 + 6 + 5$$

$$= 4 + 2 + 7$$

$$= 3 + 1 + 9$$

مكونات العدد (٣) :

$$3 = \dots + 1$$

$$3 = 0 + \dots$$

$$3 = \dots + 2$$

مكونات العدد (٢) :

$$2 = \dots + 1$$

$$2 = \dots + 0$$

$$2 = \dots + 2$$

رتب تنازلياً :

$$16 - 18 - 12 - 14$$

$$17 - 19 - 13 - 11$$

رتب تصاعدياً :

$$16 - 18 - 12 - 14$$

$$17 - 19 - 13 - 11$$

ضع علامة < أو > أو = :

$$16 \quad \square \quad 18$$

$$\text{عشرون} \quad \square \quad 19$$

$$10 \quad \square \quad \text{اثنا عشر}$$

اكتب العدد السابق والتالي :

$$\leftarrow 19 \rightarrow$$

$$\leftarrow 13 \rightarrow$$

$$\leftarrow 17 \rightarrow$$





الحصة

أطرح :

$$= 2 - 3$$

$$= 3 - 4$$

$$= 2 - 5$$

$$= 6 - 7$$

اجمع :

$$= 0 + 1 + 3$$

$$= 4 + 5 + 2$$

$$= 3 + 1 + 6$$

$$= 2 + 7 + 4$$

مكونات العدد (٥) :

$$5 = \dots + 1$$

$$5 = \dots + 2$$

$$5 = \dots + 3$$

$$5 = \dots + 5$$

مكونات العدد (٤) :

$$4 = 3 + 1$$

$$4 = \dots + 2$$

$$4 = \dots + 4$$

رتب تنازلياً :

$$16 - 20 - 11 - 19$$

$$18 - 15 - 14 - 17$$

رتب تصاعدياً :

$$18 - 15 - 14 - 17$$

$$16 - 20 - 11 - 19$$

ضع علامة < أو > أو = :

$$\text{عشرة} \quad \square \quad 7+3$$

$$8+5 \quad \square \quad 6+9$$

$$16 \quad \square \quad 17$$

اكتب العدد السابق والتالي :

$$\leftarrow 14 \rightarrow$$

$$\leftarrow 16 \rightarrow$$

$$\leftarrow 18 \rightarrow$$





الواجب

**اجمع :-

٥ ٠ +	٨ ٣ +	٧ ٤ +	٨ ٥ +	٦ ٤ +
----------	----------	----------	----------	----------

**أكمل :-

٤٧ ٤٣ - ٤٢ - ٤١

**رتب تصاعدياً :-

٧ - ١ - ٤ - ٥ - ٩

**اكتب العدد :-

خمسة
 ستة
 سبعة

**اكتب العدد :-

صبري
 زياد
 أحمد

**اجمع :-

= ٣ + ٦
= ٤ + ٥
= ٠ + ٨
= ٩ + ٩
= ٥ + ١٠
= ٢ + ٤

**ضع علامة (<) أو (>) أو (=) :-

٧ ٢ + ٢
٥ + ٤ ٩
٣ + ٣ ١٠





الحصّة

**اجمع :-

$$5 = \square + 3$$
$$8 = \square + 3$$

$$7 = \square + 2$$
$$6 = \square + 3$$

**أكمل :-

$$31 \square \square \square 27 - 26 - 25$$

**اشترى سيف لعبة (٩) جنيهاً، وكشكول (٣) جنيهاً كم دفع سيف؟

دفع سيف = $\square + \square = \square$ جنيهاً

**ضع علامة (<) أو (>) أو (=) :-

$$5 - 7 \square 2 + 2$$
$$3 + 3 \square 5 - 8$$
$$3 + 1 \square 2 - 6$$

**ضع علامة (+) أو علامة (-) :-

$$4 \square 1$$
$$4 = 3 \square 7$$
$$\text{صفر} = 2 \square 2$$
$$8 = 5 \square 3$$

**اجمع :-

$$= 3 + 9$$
$$= 2 + 8$$
$$= 5 + 7$$
$$= 4 + 9$$
$$= 4 + 7$$
$$= 3 + 8$$

**اكتب العدد السابق :-

$$4 \longrightarrow$$
$$14 \longrightarrow$$
$$24 \longrightarrow$$
$$34 \longrightarrow$$
$$44 \longrightarrow$$
$$54 \longrightarrow$$
$$64 \longrightarrow$$





الواجب

**اجمع :-

$$٨ = \square + ٨$$

$$٧ = \square + ٤$$

$$٦ = \square + ٢$$

$$٥ = \square + ٢$$

**أكمل :- ٤٥ - ٤٤ - ٤٣ - ٤٢ - ٤١

**مع عبد الله (١٠) جنية ، اشترى ساعة (٨) جنية ، فكم تبقي معه ؟

البقي = $\square - \square =$ جنية \square

**ضع علامة (<) أو (>) أو (=) :-

\square		\square
$٣ - ٥$	\square	$١ + ٣$
\square		\square
$٦ - ٩$	\square	$٥ - ٨$
\square		\square
$٢ + ٨$	\square	$٣ + ٣$

**ضع علامة (+) أو علامة (-) :-

$٦ = ٣$	\square	٣
$٩ = ٠$	\square	٩
$٣ = ٥$	\square	٨
$٧ = ٥$	\square	٢

**اطرح :-

$$= ٢ - ١٠$$

$$= ٠ - ٨$$

$$= ٣ - ٩$$

$$= ١ - ٦$$

$$= ٢ - ٤$$

$$= ١ - ٥$$

$$= ٤ - ٧$$

**اجمع :-

$$= ٧ + ٧$$

$$= ٦ + ٦$$

$$= ٩ + ٩$$

$$= ١٠ + ١٠$$

$$= ٥ + ٥$$

$$= ٨ + ٨$$

$$= ٣ + ٣$$





الحصة

**اجمع :-

$$7 = 2 + \square$$
$$8 = \square + 3$$

$$4 = 1 + \square$$
$$5 = 5 + \square$$

**أكمل :-

$$37 \square \square \square \quad 33 - 32 - 31$$

**مع ربع (٩) جنية ، اشترى قلم (٣) جنية ، فكم تبقي مع ربع ؟

البقي = $\square - \square = \square$ جنية

**ضع علامة (<) أو (>) أو (=) :-

\square		\square
$3 - 9$	\square	$2 + 4$
\square		\square
$3 + 4$	\square	$5 - 8$
\square		\square
$2 - 8$	\square	$3 + 5$

**ضع علامة (+) أو علامة (-) :-

$$4 = 3 \square 1$$
$$\text{صفر} = 7 \square 7$$
$$7 = 5 \square 2$$
$$4 = 2 \square 6$$

**اطرح :-

$$= 5 - 8$$
$$= 1 - 6$$
$$= 4 - 9$$
$$= 2 - 7$$
$$= 5 - 10$$
$$= 0 - 7$$
$$= 2 - 5$$

**اجمع :-

$$= 3 + 5$$
$$= 3 + 4$$
$$= 5 + 3$$
$$= 6 + 2$$
$$= 2 + 7$$
$$= 5 + 8$$
$$= 5 + 4$$





الواجب

**اجمع:-

$$8 = 3 + \square$$

$$3 = \square + 1$$

$$9 = 4 + \square$$

$$5 = \square + 2$$

**أكمل:- ٣٨ - ٣٧ - ٣٦ - ٣٥ - ٣٤ - ٣٣ - ٣٢

**اشترت سلمي لعبة (٨) جنية ومسدس (٣) جنية فكم دفعت سلمي؟

ما دفعته سلمي = $\square + \square =$ جنية

**ضع علامة (<) أو (>) أو (=):-

\square	$5 - 8$	\square	$3 + 3$
\square	$3 + 4$	\square	$2 + 5$
\square	$2 - 10$	\square	$1 + 4$

**ضع علامة (+) أو علامة (-):-

$6 = 3$	\square	3	
$6 = 4$	\square	2	
$8 =$	صفر	\square	8
$5 = 1$	\square	6	

**اطرح:-

$=$	$1 - 7$
$=$	$3 - 8$
$=$	$2 - 9$
$=$	$5 - 10$
$=$	$3 - 7$
$=$	$2 - 6$
$=$	$5 - 5$

**اجمع:-

$=$	$5 + 9$
$=$	$6 + 6$
$=$	$4 + 8$
$=$	$3 + 7$
$=$	$7 + 7$
$=$	$0 + 8$
$=$	$2 + 9$





الحصة

اجمع :-

$$5 = 1 + \square$$

$$7 = \square + 2$$

$$8 = 3 + \square$$

$$6 = \square + 5$$

اكمل :-

$$41 \square \square \square 37 - 36 - 35$$

**مع شهد (9) جنية ، اشترت لعبة (5) جنية ، فكم تبقي مع شهد ؟

$$\text{المتبقي مع شهد} = \square - \square = \square \text{ جنيته}$$

**ضع علامة (<) أو (>) أو (=) :-

$$\begin{array}{l} \square \\ 2 + 4 \square \\ \square \\ 6 - 9 \square \\ \square \\ 2 - 8 \square \end{array} \quad \begin{array}{l} \square \\ 3 + 4 \square \\ \square \\ 5 - 8 \square \\ \square \\ 1 + 2 \square \end{array}$$

**ضع علامة (+) أو علامة (-) :-

$$\begin{array}{l} 4 = 3 \square 2 \\ 6 = 4 \square 2 \\ 3 = 5 \square 8 \\ 6 = 3 \square 9 \end{array}$$

**اطرح :-

$$\begin{array}{l} = 3 - 8 \\ = 6 - 6 \\ = 1 - 4 \\ = 0 - 7 \\ = 2 - 8 \\ = 1 - 6 \end{array}$$

**اجمع :-

$$\begin{array}{l} = 5 + 5 \\ = 6 + 2 \\ = 3 + 3 \\ = 4 + 8 \\ = 8 + 7 \\ = 2 + 8 \\ = 5 + 5 \end{array}$$





الواجب

**اجمع: -

$$7 = 3 + \square$$

$$4 = \square + 1$$

$$5 = 1 + \square$$

$$5 = \square + 2$$

**أكمل: - ٤٧ - ٤٨ - ٤٩ ٥٣

**اشترى علي مسدس (٨)، و حلوى (٣) جنية، فكم دفع علي؟

مادفعه علي = + = جنية

**ضع علامة (<) أو (>) أو (=): -

<input type="text"/>	٥ - ٨	<input type="text"/>	<input type="text"/>	١ + ٤
<input type="text"/>	٥ - ٩	<input type="text"/>	<input type="text"/>	٢ - ٦
<input type="text"/>	٥ + ١٠	<input type="text"/>	<input type="text"/>	٤ + ٣

**ضع علامة (+) أو علامة (-): -

٦ = ٣	<input type="text"/>	٩
٤ = ٠	<input type="text"/>	٤
٨ = ٣	<input type="text"/>	٥
٩ = ٧	<input type="text"/>	٢

**اطرح: -

= ١ - ٧
= ٥ - ٨
= ٦ - ٦
= ٠ - ٩
= ٣ - ٩
= ٤ - ٧
= ٣ - ٨

**اجمع: -

= ٥ + ٩
= ٣ + ٦
= ٨ + ٨
= ٤ + ٧
= ٩ + ٩
= ٥ + ٥
= ٠ + ٨





الحصة

**اجمع :-

$$10 = \square + 8$$

$$6 = \square + 1$$

$$8 = 3 + \square$$

$$5 = 2 + \square$$

**أكمل :-

$$82 \square \square \square 78 - 77 - 76$$

**رتب تنازلياً :-

$$6 - 14 - 2 - 10 - 18 - 9 - 5 - 3$$

$$\square \square \square \square \square \square \square \square$$

**ضع علامة (<) أو (>) أو (=) :-

$$\square \quad \square$$
$$5 - 10 \quad \square \quad 5 + 3$$
$$\square \quad \square$$
$$1 + 3 \quad \square \quad 5 - 9$$
$$\square \quad \square$$
$$6 - 8 \quad \square \quad 3 - 7$$

**ضع علامة (+) أو علامة (-) :-

$$7 = 5 \quad \square \quad 2$$
$$2 = 4 \quad \square \quad 6$$
$$6 = 3 \quad \square \quad 3$$
$$6 = 4 \quad \square \quad 7$$

**اجمع :-

$$= 7 + 7$$
$$= 8 + 8$$
$$= 9 + 9$$
$$= 6 + 6$$
$$= 5 + 5$$
$$= 4 + 4$$
$$= 10 + 10$$

**اطرح :-

$$= 2 - 7$$
$$= 1 - 8$$
$$= 3 - 3$$
$$= 4 - 4$$
$$= 5 - 9$$
$$= 4 - 6$$
$$= 5 - 7$$





الواجب

**اجمع: -

$$5 = \square + 3$$

$$4 = \square + 1$$

$$4 = 1 + \square$$

$$5 = 3 + \square$$

**أكمل: ٨٣ - ٨٤ - ٨٥ ٨٩

**رتب تصاعدياً: -

٣ - ٨ - ١ - ٩ - ٦ - ١٥ - ٢ - ٤

**ضع علامة (<) أو (>) أو (=): -

<input type="text"/>	٥ - ٨	<input type="text"/>	٣ + ٤
<input type="text"/>	٧ - ٧	<input type="text"/>	٦ - ٦
<input type="text"/>	٥ - ١٠	<input type="text"/>	٦ - ٩

**ضع علامة (+) أو علامة (-): -

٧ = ٣	<input type="text"/>	٤
٦ = ٢	<input type="text"/>	٨
صفر = ٦	<input type="text"/>	٦
٦ = ٥	<input type="text"/>	١

**اطرح: -

= ٣ - ٧
= ٤ - ٨
= ٢ - ٦
= ٦ - ١٠
= ٥ - ٨
= ٦ - ٩

**اجمع: -

= ٦ + ٧
= ٦ + ٩
= ٨ + ٨
= ٠ + ٩
= ٦ + ٦
= ٤ + ٧





الحصة

**اطرح :-

$$5 = \square - 9$$

$$4 = 3 - \square$$

$$4 = \square - 6$$

$$3 = 5 - \square$$

**أكمل :-

$$42 \square \square \square 38 - 37 - 36$$

**رتب تنازلياً :-

$$10 - 4 - 9 - 2 - 3 - 15 - 7 - 12 - 5$$

**ضع علامة (<) أو (>) أو (=) :-

<input type="text"/>	$3 - 10$	<input type="text"/>	$4 + 3$
<input type="text"/>	$3 + 4$	<input type="text"/>	$1 - 6$
<input type="text"/>	$2 + 8$	<input type="text"/>	$2 - 8$

**ضع علامة (+) أو علامة (-) :-

$5 = 4$	<input type="text"/>	9
$10 = 5$	<input type="text"/>	5
$6 = 3$	<input type="text"/>	9
$4 = 1$	<input type="text"/>	5

**اجمع :-

$$\begin{aligned} &= 6 + 6 \\ &= 5 + 7 \\ &= 4 + 8 \\ &= 3 + 9 \\ &= 7 + 7 \\ &= 6 + 8 \\ &= 5 + 9 \end{aligned}$$

**اطرح :-

$$\begin{aligned} &= 3 - 7 \\ &= 2 - 4 \\ &= 5 - 5 \\ &= 1 - 4 \\ &= 2 - 3 \\ &= 1 - 4 \\ &= 2 - 5 \end{aligned}$$





الواجب

**اطرح :-

$$5 = \square - 10$$

$$4 = \square - 6$$

$$7 = 5 - \square$$

$$3 = 6 - \square$$

**أكمل :- ٥٠ - ٤٩ - ٤٨ - ٤٧ - ٤٦ - ٤٥

**رتب تصاعدياً :-

٤ - ١ - ٥ - ١٠ - ٩ - ١٧ - ٦ - ٢ - ٣

**ضع علامة (<) أو (>) أو (=) :-

<input type="text"/>	$3 - 8$	<input type="text"/>	$3 + 5$
<input type="text"/>	$4 - 9$	<input type="text"/>	$4 + 9$
<input type="text"/>	$3 + 3$	<input type="text"/>	$2 - 8$

**ضع علامة (+) أو علامة (-) :-

$6 = 3$	<input type="text"/>	3
$12 = 6$	<input type="text"/>	6
$4 = 2$	<input type="text"/>	6
$3 = 5$	<input type="text"/>	8

**اجمع :-

$$= 5 + 5$$

$$= 4 + 6$$

$$= 3 + 7$$

$$= 2 + 8$$

$$= 1 + 9$$

$$= 3 + 6$$

$$= 2 + 7$$

**اطرح :-

$$= 5 - 9$$

$$= 4 - 8$$

$$= 3 - 7$$

$$= 2 - 6$$

$$= 1 - 5$$

$$= 2 - 7$$

$$= 4 - 9$$





الحصة

**اطرح:-

$$5 = \square - 8$$

$$3 = \square - 9$$

$$4 = 3 - \square$$

$$5 = 1 - \square$$

**أكمل:-

$$69 \square \square \square 65 - 64 - 63$$

**رتب تنازلياً:-

$$7 - 12 - 1 - 8 - 3 - 9 - 5 - 4 - 10$$

**ضع علامة (<) أو (>) أو (=):-

$$\begin{array}{l} \square \\ 3 - 8 \end{array} \square \quad \begin{array}{l} \square \\ 3 + 4 \end{array}$$
$$\begin{array}{l} \square \\ 7 - 7 \end{array} \square \quad \begin{array}{l} \square \\ 6 - 6 \end{array}$$
$$\begin{array}{l} \square \\ 2 - 9 \end{array} \square \quad \begin{array}{l} \square \\ 3 + 3 \end{array}$$

**ضع علامة (+) أو علامة (-):-

$$7 = 3 \square 4$$
$$6 = 5 \square 1$$
$$\text{صفر} = 7 \square 7$$
$$4 = 5 \square 9$$

**اطرح:-

$$\begin{array}{l} = 3 - 6 \\ = 2 - 7 \\ = 4 - 4 \\ = 5 - 8 \\ = 4 - 9 \\ = 1 - 6 \\ = 4 - 5 \end{array}$$

**اجمع:-

$$\begin{array}{l} = 5 + 5 \\ = 6 + 3 \\ = 4 + 2 \\ = 4 + 4 \\ = 1 + 7 \\ = 2 + 8 \\ = 4 + 9 \end{array}$$





الواجب

**اطرح: -

$$5 = \square - 10$$

$$4 = 4 - \square$$

$$3 = \square - 8$$

$$7 = 3 - \square$$

**أكمل: - ٧٧ - ٧٦ - ٧٥ - ٧٤ - ٧٣ - ٧٢ - ٧١

**رتب تصاعدياً: -

٧ - ١ - ٦ - ١٤ - ٣ - ٢ - ٥ - ٩

**ضع علامة (<) أو (>) أو (=): -

<input type="text"/>		<input type="text"/>
٣ - ٥	<input type="text"/>	٣ + ٥
<input type="text"/>		<input type="text"/>
١ + ٤	<input type="text"/>	٣ - ٦
<input type="text"/>		<input type="text"/>
٢ - ٦	<input type="text"/>	٢ + ٢

**ضع علامة (+) أو علامة (-): -

٥ = ٤	<input type="text"/>	١
صفر = ٢	<input type="text"/>	٢
٥ = ٢	<input type="text"/>	٧
٦ = ٣	<input type="text"/>	٣

**اطرح: -

$$\begin{aligned} &= 5 - 8 \\ &= 3 - 6 \\ &= 1 - 4 \\ &= 8 - 8 \\ &= 1 - 3 \\ &= 2 - 4 \\ &= 1 - 6 \end{aligned}$$

**اجمع: -

$$\begin{aligned} &= 7 + 7 \\ &= 4 + 4 \\ &= 6 + 6 \\ &= 10 + 10 \\ &= 5 + 5 \\ &= 8 + 8 \\ &= 9 + 9 \end{aligned}$$





الحصة

**اطرح: -

$$5 = \square - 7$$

$$3 = 3 - \square$$

$$2 = \square - 9$$

$$5 = 2 - \square$$

**أكمل: -

$$89 \square \square \square 85 - 84 - 83$$

**رتب تصاعدياً: -

$$8 - 6 - 12 - 9 - 5 - 1 - 3 - 4$$

**ضع علامة (<) أو (>) أو (=): -

$\square - 7$	<input type="text"/>	$\square + 3$
$\square + 6$	<input type="text"/>	$\square + 6$
$\square - 7$	<input type="text"/>	$5 - 9$

**ضع علامة (+) أو علامة (-): -

$3 = 1$	<input type="text"/>	4
$7 = 4$	<input type="text"/>	3
$4 = 2$	<input type="text"/>	6
$6 = 1$	<input type="text"/>	7

**اطرح: -

$$= 3 - 7$$

$$= 4 - 8$$

$$= 2 - 6$$

$$= 2 - 8$$

$$= 3 - 9$$

$$= 1 - 7$$

**اجمع: -

$$= 4 + 5$$

$$= 3 + 7$$

$$= 5 + 4$$

$$= 2 + 7$$

$$= 4 + 4$$

$$= 5 + 3$$

$$= 2 + 2$$





الواجب

**اطرح :-

$$5 = \square - 9$$
$$4 = \square - 6$$

$$4 = 4 - \square$$
$$3 = 5 - \square$$

**أكمل: ٩٢ ٨٨ - ٨٧ - ٨٦

**رتب تنازلياً :-

٤ - ١ - ٢ - ٦ - ١٠ - ١٥ - ٧ - ٣

**ضع علامة (<) أو (>) أو (=) :-

$$\square \quad 4 - 10 \quad \square \quad 2 + 4$$
$$\square \quad 5 + 8 \quad \square \quad 5 - 8$$
$$\square \quad 1 + 2 \quad \square \quad 1 + 6$$

**ضع علامة (+) أو علامة (-) :-

$$7 = 5 \square 2$$
$$5 = 4 \square 1$$
$$5 = 1 \square 6$$
$$4 = 4 \square 8$$

**اطرح :-

$$= 6 - 8$$
$$= 1 - 3$$
$$= 2 - 4$$
$$= 3 - 5$$
$$= 5 - 9$$
$$= 4 - 8$$
$$= 2 - 6$$

**اجمع :-

$$= 1 + 7$$
$$= 4 + 4$$
$$= 3 + 5$$
$$= 2 + 6$$
$$= 1 + 8$$
$$= 3 + 6$$
$$= 4 + 5$$





الحصة

** اطرح :-

$$5 = 2 - \square$$

$$9 = \square - 4$$

$$4 = 3 - \square$$

$$5 = \square - 7$$

** أكمل :-

$$60 \square \square \square 56 - 55 - 54$$

** رتب تصاعدياً :-

$$8 - 9 - 16 - 1 - 7 - 3 - 5 - 2$$

** ضع علامة (<) أو (>) أو (=) :-

$$\square - 8$$

$$\square - 9$$

$$\square + 7$$

$$\square + 3$$

$$\square + 9$$

$$\square - 7$$

$$\square - 7$$

** ضع علامة (+) أو علامة (-) :-

$$5 = 2 \square 3$$

$$2 = 5 \square 7$$

$$7 = 3 \square 4$$

$$3 = 3 \square 6$$

** اكتب الكسر :-



** اكتب العدد :-

سنة

واحد

عشرة





الواجب

**اجمع :-

$$2 = 4 - \square$$

$$3 = 1 + \square$$

$$5 = \square - 7$$

$$4 = \square - 2$$

**أكمل :- ٤٢ ٣٨ - ٣٧ - ٣٦

**رتب تنازلياً :-

٧ - ١ - ٦ - ١٠ - ٩ - ٢ - ١٤ - ٥ - ٤

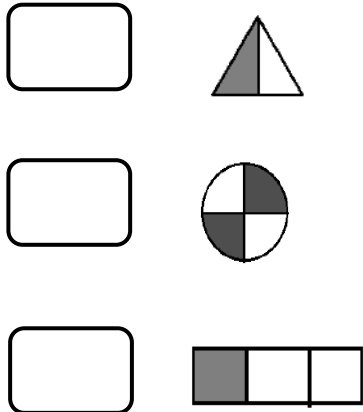
**ضع علامة (<) أو (>) أو (=) :-

$5 - 10$	<input type="text"/>	$2 + 3$	<input type="text"/>
$5 + 8$	<input type="text"/>	$5 - 8$	<input type="text"/>
$5 - 10$	<input type="text"/>	$4 + 5$	<input type="text"/>

**ضع علامة (+) أو علامة (-) :-

$6 = 3$	<input type="text"/>	٣
$3 = 5$	<input type="text"/>	٨
$4 = 2$	<input type="text"/>	٦
$4 = 1$	<input type="text"/>	٥

**اكتب الكسر :-



**اكتب العدد :-

<input type="text"/>	ثلاثة
<input type="text"/>	تسعة
<input type="text"/>	أربعة





الحصة

**اجمع :-

$$٤ = ٣ - \square$$

$$٤ = ٣ + \square$$

$$٥ = ١ - \square$$

$$٥ = \square + ٣$$

**أكمل :-

$$٤٢ \square \square \square \quad ٣٨ - ٣٧ - ٣٦$$

**رتب تنازلياً :-

$$١٠ - ٦ - ٤ - ١ - ٩ - ١٣ - ٥ - ٧$$

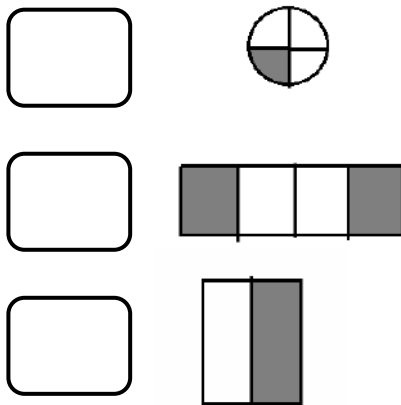
**ضع علامة (<) أو (>) أو (=) :-

\square		\square
$٣ - ٧$	<input type="text"/>	$٣ + ٣$
\square		\square
$٠ - ٨$	<input type="text"/>	$٠ + ٨$
$\frac{١}{٢}$	<input type="text"/>	$\frac{٢}{٤}$

**ضع علامة (+) أو علامة (-) :-

$٥ = ٢$	<input type="text"/>	٣
$٢ = ٥$	<input type="text"/>	٧
$٧ = ٣$	<input type="text"/>	٤
$٣ = ٣$	<input type="text"/>	٦

**اكتب الكسر :-



**اكتب العدد :-

<input type="text"/>	سبعة
<input type="text"/>	اثنان
<input type="text"/>	تسعة
<input type="text"/>	خمسة





الواجب

**اطرح :-

$$٤ = \square - ٧$$

$$٥ = \square - ٧$$

**اجمع :-

$$٨ = ٤ + \square$$

$$٥ = ١ + \square$$

**أكمل :- ٤٩ - ٤٨ - ٤٧ - ٤٦ - ٤٥ - ٤٤ - ٤٣

**رتب تنازلياً :-

٨ - ١١ - ٤ - ٩ - ٢ - ١ - ٧ - ٣ - ٥

**ضع علامة (<) أو (>) أو (=) :-

$\square + ٣$	<input type="text"/>	$\square - ٧$
$\square + ٩$	<input type="text"/>	$\square - ٩$
$\square - ٨$	<input type="text"/>	$\square + ٣$

**ضع علامة (+) أو علامة (-) :-

$٦ = ٣ \square ٣$
$٧ = ٥ \square ٢$
$\text{صفر} = ٨ \square ٨$
$٤ = ٥ \square ٩$

**اكتب الكسر :-

<input type="text"/>	
<input type="text"/>	
<input type="text"/>	

**اكتب العدد :-

<input type="text"/>	واحد
<input type="text"/>	عشرة
<input type="text"/>	خمسة
<input type="text"/>	اثان





الحصّة

**- أكمل :-

3 = - 9

7 = 3 +

4 = 2 -

5 = + 3

**- أكمل :-

42 38 - 37 - 36

**- رتب تصاعدياً :-

8 - 1 - 6 - 2 - 9 - 11 - 5 - 7 - 4

**- ضع علامة (<) أو (>) أو (=) :-

<input type="text"/>	$0 + 7$	<input type="text"/>	$3 + 2$
<input type="text"/>	$0 - 9$	<input type="text"/>	$0 + 9$
<input type="text"/>	$3 - 6$	<input type="text"/>	$3 + 6$

**- ضع علامة (+) أو علامة (-)

5 = 3 8

صفر = 7 7

4 = 1 5

6 = 3 3

**- اكتب الكسر :-

<input type="text"/>	
<input type="text"/>	
<input type="text"/>	

**- اكتب العدد :-

<input type="text"/>	واحد
<input type="text"/>	اثنان
<input type="text"/>	اربعة
<input type="text"/>	خمسة





الواجب

**أكمل:-

8 = + 3

5 = + 7

3 = - 7

6 = 3 -

**أكمل:- 53 49 - 48 - 47

**رتب تنازلياً:-

4 - 6 - 1 - 7 - 12 - 9 - 5 - 3


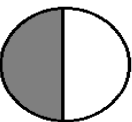

**ضع علامة (<) أو (>) أو (=):

3 + 6 3 + 3
 3 + 4 5 - 1
 2 - 6 5 - 9

**ضع علامة (+) أو علامة (-):

5 = 3 8
صفر = 7 7
4 = 1 5
6 = 3 3

**اكتب الكسر:-

**اكتب العدد:-

أربعة
 ستة
 واحد
 خمسة





الحصة

$$٤ = ٥ - \square$$

$$٦ = ٣ + \square$$

$$١ = \square - ٧$$

$$٧ = \square + ٣$$

**- أكمل: -

$$٥٢ \square \square \square ٤٨ - ٤٧ - ٤٦$$

**- مع احمد (١٠) جنية، اشترى ساعة (٨) جنية، فكم تبقي مع أحمد؟

$$\text{البقي} = \square - \square = \square \text{ جنية}$$

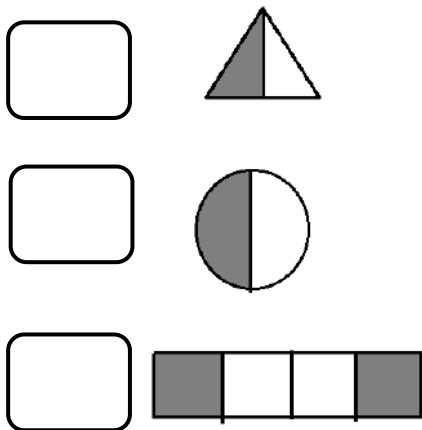
**- ضع علامة (<) أو (>) أو (=):

\square	\square
$٤ - ٩$	$٣ + ٤$
\square	\square
$٠ - ٦$	$٠ + ٦$
\square	\square
$٤ - ٨$	$٤ + ٨$

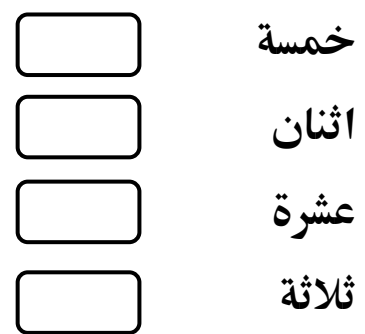
**- ضع علامة (+) أو علامة (-):

$٧ = ٤$	\square	٣
$٤ = ٢$	\square	٢
$٣ = ٥$	\square	٨
صفر = ٦	\square	٦

**- اكتب الكسر: -



**- اكتب العدد: -





الواجب

★★ أكمل :- ٥٧ - ٥٨ - ٥٩ □ □ □ ٦٣

★★ اشترى محمود كشكول (٧) جنية ، وقلم (٢) جنية ، فكم دفع محمود ؟

مادفعه محمود = □ - □ = □ جنية

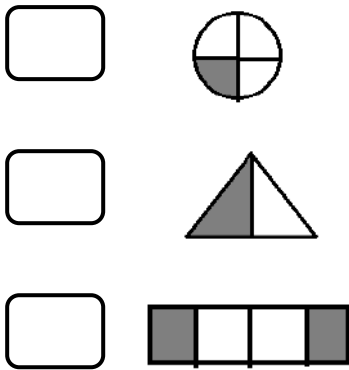
★★ ضع علامة (<) أو (>) أو (=) :-

$\square + 9$	\square	$3 + 9$
$3 + 8$	\square	$5 - 8$
$\frac{1}{2}$	\square	$\frac{2}{4}$

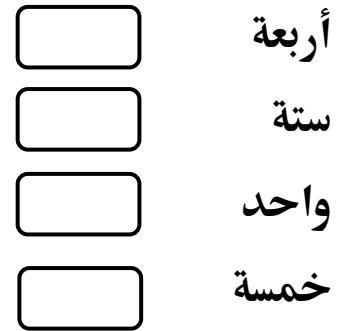
★★ ضع علامة (+) أو علامة (-) :-

$8 = 6$	\square	٢
$5 = 1$	\square	٤
$6 = 3$	\square	٩
$2 = 1$	\square	٣

★★ اكتب الكسر :-



★★ اكتب العدد :-





الحصة

**أكمل : - ٥٦ - ٥٧ - ٥٨ □ □ □ ٦٢

**رتب تنازلياً :-

٤ - ١٠ - ٨ - ١ - ٧ - ١٢ - ٥ - ٦ - ٣

□ □ □ □ □ □ □ □ □ □

**ضع علامة (<) أو (>) أو (=) :-

□ □
٣ - ٩ □ ٣ + ٣ □
□ □
٢ + ٣ □ ١ - ٥ □
□ □
١ - ٤ □ ١ - ٢ □

**ضع علامة (+) أو علامة (-) :-

٧ = ٤ □ ٣
صفر = ٨ □ ٨
٥ = ٣ □ ٢
٥ = ٤ □ ٩

**ضع العدد السابق والعدد التالي :-

← ٣٥ →
← ٤٥ →
← ٥٥ →
← ٦٥ →

**اكتب العدد :-

□ واحد
□ اثنان
□ اربعة
□ خمسة





الواجب

**أكمل:- ٦٩ □ □ □ ٦٥ - ٦٤ - ٦٣

**رتب تصاعدياً:-

٩ - ٤ - ٦ - ٣ - ١١ - ٥ - ٢ - ٧

□ □ □ □ □ □ □ □



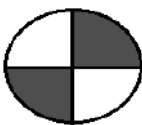
**ضع علامة (<) أو (>) أو (=): -

□ + ٦ □
□ - ٨ □
□ - ١ □
□ - ٣ □
□ - ١ □
□ - ٣ □

**ضع علامة (+) أو علامة (-): -

٥ = ٥ □ ٠
٥ = ٢ □ ٧
٦ = ٣ □ ٣
٤ = ٤ □ ٨

**اكتب الكسر: -

□ 
□ 
□ 

**اكتب العدد: -

□ اثنان
□ واحد
□ ثمانية
□ أربعة





الحصة

**اجمع:-

$\begin{array}{r} 3 \\ + 2 \\ \hline \end{array}$	$\begin{array}{r} 8 \\ + 0 \\ \hline \end{array}$	$\begin{array}{r} 8 \\ + 3 \\ \hline \end{array}$	$\begin{array}{r} 7 \\ + 0 \\ \hline \end{array}$
---	---	---	---

**أكمل:- ٢٤ ٢٠ - ١٩ - ١٨

**رتب تنازلياً:-

١٠ - ٦ - ١ - صفر - ٩ - ١٤ - ٧ - ٣ - ٥

**اجمع:-

$$= 4 - 7$$

$$= 5 + 8$$

**اطرح:-

$$= 4 - 7$$

$$= 1 - 8$$

**ضع علامة (<) أو (>) أو (=):-

١٥ ٩

٧ ٧

٣ ١٠

٤ ٨

**عد الحروف:-

سماح

حين

سجد

عامر

**ضع العدد السابق والعدد التالي:-

← ٢٤ →

← ٣٦ →

← ٤٨ →

← ٥٦ →

← ٢٨ →

**اكتب العدد:-

ستة

اثنان

اربعة

خمسة





الواجب

**اجمع: -

٥ ٢ +	٢ ٢ +	٧ ٠ +	٩ ٠ +	٤ ٣ +
----------	----------	----------	----------	----------

**أكمل: - ٢٧ - ٢٨ - ٢٩ ٣٣

**رتب تصاعدياً: -

٤ - ٦ - ١٢ - ٣ - ٩ - ٧ - ١ - ١٥ - ٨ - ٢

**ضع علامة (<) أو (>) أو (=): -

٧ ٣
٩ ١٨
١٦ ١٦

**اجمع: -

= ٤ + ٧
= ٥ + ٨
= ٤ + ٩
= ٣ + ٦

**اكتب عدد الحروف: -

سماح
 هاجر
 نور

**اكتب العدد: -

ثلاثة
 سبعة
 تسعة





الحصة

** اجمع :-

5 3+	7 4+	9 5+	6 4+
---------	---------	---------	---------

43 39 - 38 - 37 -

** رتب تصاعدياً :-

3 - 10 - 4 - 6 - 1 - 8 - 12 - 9 - 7 - 5

** ضع علامة (<) أو (>) أو (=) :-

9	<input type="checkbox"/>	13
8	<input type="checkbox"/>	8
7	<input type="checkbox"/>	5
12	<input type="checkbox"/>	10

** اجمع :-

= 7 + 9
= 9 + 8
= 4 + 4
= 1 + 2

** ضع العدد السابق والعدد التالي :-

← 5 →
← 25 →
← 35 →
← 45 →
← 55 →
← 65 →

** عد الحروف :-

<input type="checkbox"/>	عشرة
<input type="checkbox"/>	واحد
<input type="checkbox"/>	خمسة
<input type="checkbox"/>	سبعة

** اكتب العدد :-

<input type="checkbox"/>	ثلاثة
<input type="checkbox"/>	عشرة
<input type="checkbox"/>	روان





الواجب

** اجمع: -

٣ ٠ + _____	٨ ٦ + _____	٦ ٥ + _____	٥ ٤ + _____	٩ ٢ + _____
-------------------	-------------------	-------------------	-------------------	-------------------

** أكمل: - ٥٠ - ٥١ - ٥٢ ٥٦

** رتب تنازلياً: -

٣ - ٩ - ١ - ١٥ - ١٧ - ٨ - ٦ - ٤ - ٥

** ضع علامة (<) أو (>) أو (=): -

١٢	<input type="text"/>	١٣
٩	<input type="text"/>	٩
١٠	<input type="text"/>	٨
١٤	<input type="text"/>	١٥

** اجمع: -

= ٣ + ٣
= ٣ + ٤
= ٠ + ٨
= ١ + ٥

** اكتب عدد الحروف: -

<input type="text"/>	سعيد
<input type="text"/>	رقية
<input type="text"/>	روان
<input type="text"/>	أمينة

** اكتب العدد: -

<input type="text"/>	سبعة
<input type="text"/>	اثنان
<input type="text"/>	تسعة
<input type="text"/>	أربعة





الحصة

**اجمع:-

8 + 0	9 + 5	6 + 2	5 + 4
-------------	-------------	-------------	-------------

**أكمل:- ٤٠ - ٣٩ - ٣٨ - ٤٠

**رتب تصاعدياً:-

٢ - ٨ - ٦ - ١٤ - ١١ - ٧ - ٣ - ٩ - ٥

**ضع علامة (<) أو (>) أو (=):-

٧	<input type="text"/>	١
١٥	<input type="text"/>	١٨
٣	<input type="text"/>	٩
١٦	<input type="text"/>	١٢

**ما عدد الحروف:-

<input type="text"/>	ماهر
<input type="text"/>	اسمه
<input type="text"/>	نبيل

**ضع العدد السابق والعدد التالي:-

←	٤٧	→
←	١٧	→
←	٢٧	→
←	٣٧	→
←	٥٧	→
←	٦٧	→
←	٧٧	→

**اكتب الكسر:-

<input type="text"/>	
<input type="text"/>	
<input type="text"/>	





الواجب

**اجمع:-

$\begin{array}{r} 6 \\ + 0 \\ \hline \end{array}$	$\begin{array}{r} 7 \\ + 5 \\ \hline \end{array}$	$\begin{array}{r} 9 \\ + 2 \\ \hline \end{array}$	$\begin{array}{r} 6 \\ + 5 \\ \hline \end{array}$	$\begin{array}{r} 8 \\ + 4 \\ \hline \end{array}$
---	---	---	---	---

**أكمل:- ٤٨ - ٤٧ - ٤٦ - ٤٥

**رتب تنازلياً:-

٦ - ١٠ - ٤ - ٥ - ٨ - ١٢ - ١٩ - ٧ - ٣

**ضع علامة (<) أو (>) أو (=): -

١٨	<input type="text"/>	١٣
١٥	<input type="text"/>	١٥
٩	<input type="text"/>	١٢
٧	<input type="text"/>	٦

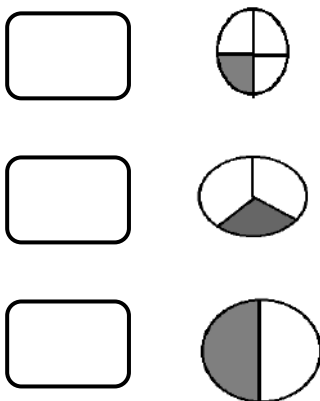
**ما عدد الحروف:-

أنا

أحب

جاري

**اكتب الكسر:-



**اكتب العدد:-

ثلاثة

تسعة

ثمانية

اثنان





الحصة

**اجمع: -

٨ + ٠	٧ + ٥	٩ + ٤	٦ + ٣
-------------	-------------	-------------	-------------

**أكمل: -

٤٢ ٣٨ - ٣٧ - ٣٦

**رتب تنازلياً: -

١٠ - ٨ - ١٢ - ٤ - ١ - ١٦ - ٣ - ١٩ - ٧ - ٥

**اشترى احمد كتاب (٧) جنية، وقلم (٣) جنية، ما دفع أحمد؟

مادفة أحمد = + = جنية




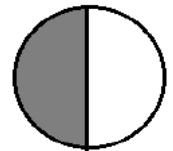
**ضع علامة (<) أو (>) أو (=): -

١٥	<input type="text"/>	١٣	<input type="text"/>
<input type="text"/> ١٠	<input type="text"/>	١ + ٦	<input type="text"/>
٢ + ٣	<input type="text"/>	٧	<input type="text"/>

**اكتب العدد: -

<input type="text"/>	ثلاثة
<input type="text"/>	أربعة
<input type="text"/>	سنة

**اكتب الكسر: -





الواجب

**اطرح:-

٢	٧	٧	٨	٨
٠ -	١ -	٤ -	٢ -	٢ -

**أكمل:- ٤٧ - ٤٨ - ٤٩ ٥٣

**رتب تصاعدياً:-

١٢ - ٢ - ٧ - ٤ - ١٠ - ١٥ - ٩ - ٣ - ٦

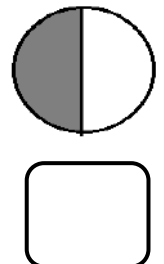
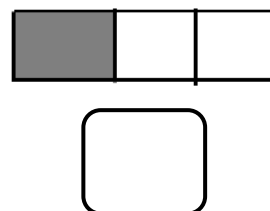
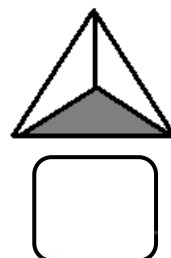
**اشترى أحمد لعبة (٥) جنية ، ومسدس (٣) جنيهات ، فكم دفع أحمد؟

مادفعه أحمد = + = جنية

**ضع علامة (<) أو (>) أو (=):

<input type="checkbox"/>	سبعة	<input type="checkbox"/>	٨ + ٦	<input type="checkbox"/>	٢
<input type="checkbox"/>	واحد	<input type="checkbox"/>	٥ + ١	<input type="checkbox"/>	٤
<input type="checkbox"/>	تسعة	<input type="checkbox"/>	٦ + ٣	<input type="checkbox"/>	٩
<input type="checkbox"/>	ثلاثة	<input type="checkbox"/>	٢ + ١	<input type="checkbox"/>	٣

**اكتب الكسر:-





الحصة

**اجمع: -

$\begin{array}{r} 6 \\ 5 + \\ \hline \end{array}$	$\begin{array}{r} 7 \\ 0 + \\ \hline \end{array}$	$\begin{array}{r} 9 \\ 2 + \\ \hline \end{array}$	$\begin{array}{r} 7 \\ 4 + \\ \hline \end{array}$
---	---	---	---

**أكمل: -

٥٥ ٥١ - ٥٠ - ٤٩

**رتب تصاعدياً: -

٦ - ١ - ٥ - ٣ - ١٠ - ١٢ - ١٧ - ٨ - ٩

**اشترى زياد ساعة (٩) جنيهاً، و حزام (٥) جنيهاً، ما دفع زياد؟

مادفعة زياد = + = جنية

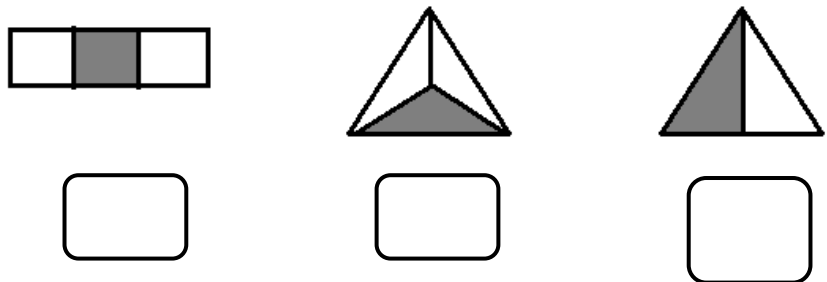
**ضع علامة (<) أو (>) أو (=): -

$\begin{array}{r} 7 \\ \square \end{array}$	$\begin{array}{r} 1 + 3 \\ \square \end{array}$	$\begin{array}{r} \square \end{array}$
$\begin{array}{r} 1 + 3 \\ \square \end{array}$	$\begin{array}{r} 1 + 6 \\ \square \end{array}$	$\begin{array}{r} \square \end{array}$
$\begin{array}{r} 2 + 3 \\ \square \end{array}$	$\begin{array}{r} 9 \\ \square \end{array}$	$\begin{array}{r} \square \end{array}$

**اكتب العدد: -

ستة
 أربعة
 واحد

**اكتب الكسر: -





الواجب

**اجمع: -

٨ ٤ + _____	٦ ٣ + _____	٩ ٠ + _____	٨ ٢ + _____	٧ ٥ + _____
-------------------	-------------------	-------------------	-------------------	-------------------

**أكمل: - ٢٩ - ٣٠ - ٣١ ٣٥

**رتب تنازلياً: -

٤ - ٨ - ٢ - ٩ - ١٣ - ٣ - ١٦ - ٧ - ٥

**اشترى محمود كرة (٨) جنيهات ، وقلم (٤) جنيهات ، فكم دفع محمود ؟

مادفعه محمود = + = جنيهات

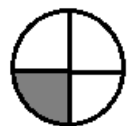
**اكتب العدد: -

ثمانية
 سبعة
 تسعة

**ضع علامة (<) أو (>) أو (=): -

١ + ٤
 ٥
 ٢ + ٣
 ٤
 ٣ + ٥
 ٦

**اكتب الكسر: -





الحصة

**اجمع: -

$\begin{array}{r} 6 \\ + \\ \hline \end{array}$	$\begin{array}{r} 9 \\ + \\ \hline \end{array}$	$\begin{array}{r} 7 \\ + \\ \hline \end{array}$	$\begin{array}{r} 6 \\ + \\ \hline \end{array}$
---	---	---	---

**أكمل: -

٦٤ ٦٠ - ٥٩ - ٥٨

**رتب تصاعدياً: -

٤ - ٦ - ٨ - ١٢ - ٩ - ١ - ١٥ - ٧ - ٣

**اشترى أحمد طائرة (٨) جنيهات، وكرة (٤) جنيهات، ما دفع أحمد؟

مادفة أحمد = + = جنية

**ضع علامة (<) أو (>) أو (=): -

<input type="text"/>	٩	<input type="text"/>	٢ + ٣	<input type="text"/>
<input type="text"/>	٣ + ٤	<input type="text"/>	٧	
<input type="text"/>	٠ + ٦	<input type="text"/>	٩	

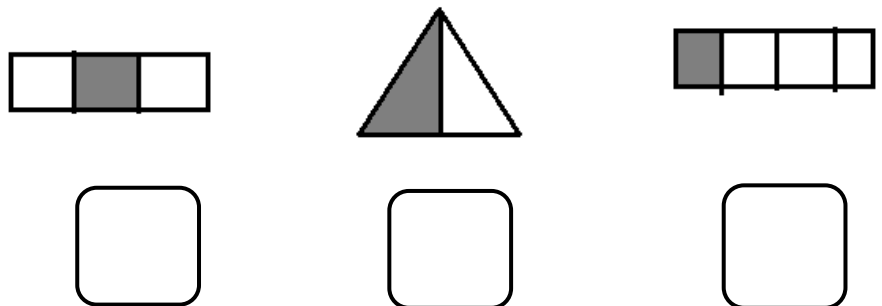
**اكتب العدد: -

ستة

واحد

سبعة

**اكتب الكسر: -





الواجب

** اجمع :-

٧ ٢ +	٦ ٠ +	٩ ٤ +	٨ ٦ +	٧ ٣ +
----------	----------	----------	----------	----------

** أكمل :- ٦٩ □ □ □ ٦٥ - ٦٤ - ٦٣

** رتب تنازلياً :-

١٠ - ٥ - ١ - ٨ - ٤ - ١٧ - ١٢ - ٩ - ٣ - ٦

□ □ □ □ □ □ □ □

** اشترت ياسمين كتاب (٩) جنية ، وكشكول (٥) جنية ، فكم دفعت ياسمين ؟

مادفعته ياسمين = □ + □ = □ جنية

** ضع علامة (<) أو (>) أو (=) :-

ثمانية □

أربعة □


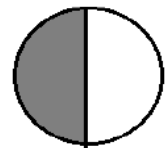


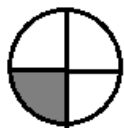
خمسة □

٤ □ ١ + ٣ □

٩ □ ٠ + ٧ □

□ + ٨ □ ١٠

** اكتب الكسر :-





الحصة

**اجمع:-

$\begin{array}{r} 7 \\ 5+ \\ \hline \end{array}$	$\begin{array}{r} 7 \\ 0+ \\ \hline \end{array}$	$\begin{array}{r} 9 \\ 4+ \\ \hline \end{array}$	$\begin{array}{r} 6 \\ 3+ \\ \hline \end{array}$
--	--	--	--

**أكمل:-

79 75 - 74 - 73

**رتب تنازلياً:-

2 - 1 - 6 - 7 - 10 - 13 - 9 - 5 - 4

**اشترت رقية عروسة (8) جنيهات ، وتوكة (3) جنيهات ، ما دفعت رقية ؟
مادفعته رقية = + = جنية

**ضع علامة (<) أو (>) أو (=):-

$\begin{array}{r} 9 \\ \square \\ \hline \end{array}$	<input type="text"/>	$5 + 2$	<input type="text"/>
$\begin{array}{r} 4 + 2 \\ \square \\ \hline \end{array}$	<input type="text"/>	$3 + 3$	<input type="text"/>
$2 + 3$	<input type="text"/>	7	<input type="text"/>

**اكتب العدد:-

ثلاثة

خمسة

سنة

**ظلل الكسر:-

<input type="text"/>	<input type="text"/>
----------------------	----------------------

$$\frac{1}{2}$$

<input type="text"/>	<input type="text"/>	<input type="text"/>
----------------------	----------------------	----------------------

$$\frac{1}{3}$$





الواجب

**اجمع :-

٨ ٠ +	٦ ٣ +	٩ ٤ +	٨ ٥ +	٧ ٣ +
----------	----------	----------	----------	----------

**أكمل: ٧٤ □ □ □ ٧٠ - ٦٩ - ٦٨

**رتب تصاعدياً :-

٦ - ١٠ - ٩ - ١٢ - ٥ - ٢ - ١٨ - ٧ - ٣
□ □ □ □ □ □ □ □

**اشترى زياد مسدس (١٠) جنيهات ، وكرة (٤) جنيهات ، فكم دفع زياد ؟

مادفعه زياد = □ + □ = □ جنيه

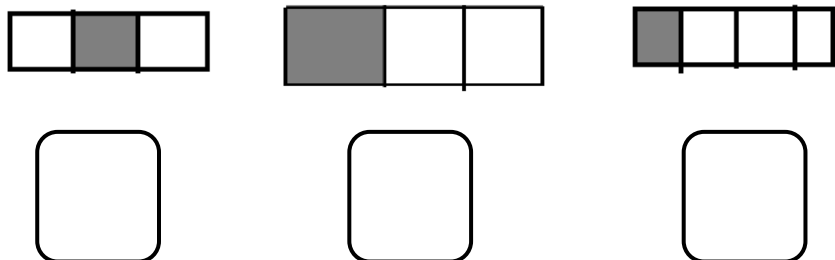
**اكتب العدد :-

ثمانية □
عشرة □
أربعة □

**ضع علامة (<) أو (>) أو (=) :-

□
٦ □ ٥ + ٤
□ □
٤ + ٤ □ ٠ + ٨
□ □
٤ + ٣ □ ١٠

**اكتب الكسر :-





الحصة

**اجمع: -

$\begin{array}{r} 6 \\ + \\ \hline \end{array}$	$\begin{array}{r} 7 \\ + \\ \hline \end{array}$	$\begin{array}{r} 8 \\ + \\ \hline \end{array}$	$\begin{array}{r} 6 \\ + \\ \hline \end{array}$
---	---	---	---

**أكمل: -

٦٤ ٦٠ - ٥٩ - ٥٨

**رتب تصاعدياً: -

٢ - ٦ - ٤ - ١ - ٩ - ١٠ - ١٥ - ٧ - ٣

**اشترى عمر كتاب (١٠) جنيهاً، وساعة (٧) جنيهاً، ما دفع عمر؟

مدفوعه عمر = + = جنية

**ضع علامة (<) أو (>) أو (=): -

9	<input type="text"/>	$2 + 3$	<input type="text"/>
$5 + 3$	<input type="text"/>	8	<input type="text"/>
$2 + 4$	<input type="text"/>	$0 + 7$	<input type="text"/>

**اكتب العدد: -

ستة


واحد

اثنان

**ظلل الكسر: -



$\frac{1}{3}$



$\frac{1}{2}$





الواجب

**اجمع: -

$\begin{array}{r} 7 \\ + 4 \\ \hline \end{array}$	$\begin{array}{r} 9 \\ + 0 \\ \hline \end{array}$	$\begin{array}{r} 6 \\ + 3 \\ \hline \end{array}$	$\begin{array}{r} 8 \\ + 5 \\ \hline \end{array}$	$\begin{array}{r} 7 \\ + 2 \\ \hline \end{array}$
---	---	---	---	---

**أكمل: - ٣٦ - ٣٧ - ٣٨ ٤٢

**رتب تنازلياً: -

٧ - ٣ - ٨ - ١٢ - ١ - ٩ - ٤ - ٥ - ٦

**اشترى أحمد لعبة (٨) جنيهات، وطائرة (٥) جنيهات، فكم دفع أحمد؟

مادفعه أحمد = + = جنيه

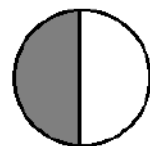
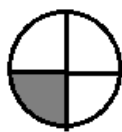
**اكتب العدد: -

ثمانية
 عشرة
 ستة

**ضع علامة (<) أو (>) أو (=): -

$3 + 5$ $0 + 6$
 $6 + 6$ $0 + 9$
 $3 + 4$ 10

**اكتب الكسر: -





الحصة

**اجمع: -

٩ ٠ + _____	٨ ٠ + _____	٨ ٥ + _____	٩ ٤ + _____
-------------------	-------------------	-------------------	-------------------

**أكمل: -

٤٧ □ □ □ ٤٣ - ٤٢ - ٤١

**رتب تصاعدياً: -

٢ - ١ - ٦ - ٩ - ٨ - ١٧ - ٣ - ١١ - ٥ - ٤
□ □ □ □ □ □ □ □

**اشترى شريهان عروسة (١٠) جنيهات، وتوكة (٤) جنيهات، ما دفعت شريهان؟

مادفعه شريهان = □ + □ = □ جنيه

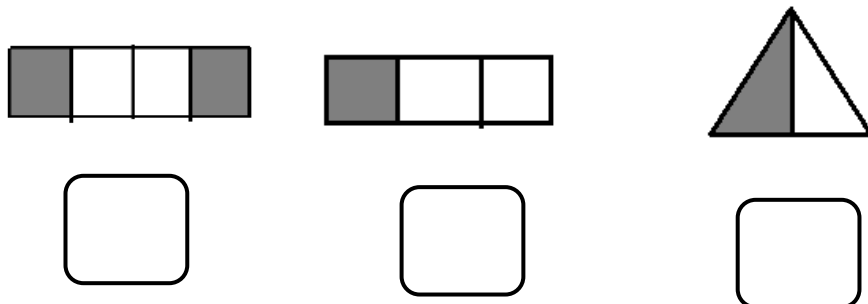
**ضع علامة (<) أو (>) أو (=): -

□ ٠ + ١٠	□	٣ + ٧	□
□	٩	□	٥ + ٨
□	٢ + ٣	□	٠ + ٦

**اكتب العدد: -

□ خمسة
□ واحد
□ تسعة

**اكتب الكسر: -





الواجب

** اجمع :-

$$\begin{array}{r} 8 \\ + \\ \hline \end{array}$$

$$\begin{array}{r} 6 \\ + \\ \hline \end{array}$$

$$\begin{array}{r} 9 \\ + 5 \\ \hline \end{array}$$

$$\begin{array}{r} 7 \\ + 4 \\ \hline \end{array}$$

$$\begin{array}{r} 8 \\ + 6 \\ \hline \end{array}$$

** أكمل :- ٣٥ - ٣٦ - ٣٧ ٤١

** رتب تنازلياً :-

٥ - ٣ - ٦ - ١٤ - ٨ - ١٠ - ٩ - ٢ - ٧

** اشترى عمرو طائرة (٩) جنيهات ، وزمارة (٥) جنيهات ، فكم دفع عمرو ؟

مادفعه عمرو = + = جنيه

** اكتب العدد :-

 ثلاثة

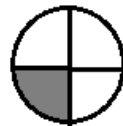
 ثمانية

 خمسة

** ضع علامة (<) أو (>) أو (=) :-

 $2 + 4$ $3 + 5$
 $2 + 3$ $0 + 5$
 $4 + 6$ ١١

** اكتب الكسر :-







الحصّة

**اجمع: -

5 $0 +$	8 $4 +$	9 $0 +$	6 $3 +$
--------------	--------------	--------------	--------------

**أكمل: -

57 53 - 52 - 51

**رتب تصاعدياً: -

8 - 10 - 9 - 7 - 6 - 3 - 14 - 5 - 2

**اشترى محمود كتاب (10) جنيهاً، وكراصة (4) جنيهاً، ما دفعت محمود؟

مادفعه محمود = + = جنية

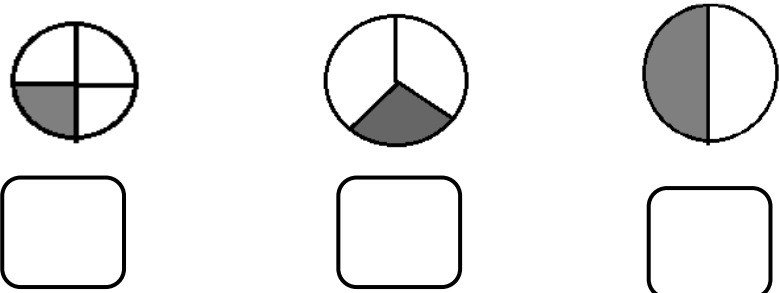
**ضع علامة (<) أو (>) أو (=): -

<input type="text"/>	7	<input type="text"/>	4 + 2	<input type="text"/>
<input type="text"/>	3 + 6	<input type="text"/>	5 + 8	<input type="text"/>
<input type="text"/>	3 + 5	<input type="text"/>	10	<input type="text"/>

**اكتب العدد: -

ثلاثة
 أربعة
 خمسة

**اكتب الكسر: -





الواجب

**اجمع: -

6 + 0	9 + 2	5 + 4	7 + 7	8 + 6
-------------	-------------	-------------	-------------	-------------

**أكمل: - 59 - 60 - 61 65

**رتب تنازلياً: -

6 - 3 - 1 - 8 - 17 - 11 - 9 - 5 - 4

□ □ □ □ □ □ □ □

**اشترى زياد ساعة (9) جنيهات، وحزام (5) جنيهات، فكم دفع زياد؟

مادفعه زياد = □ + □ = □ جنيه

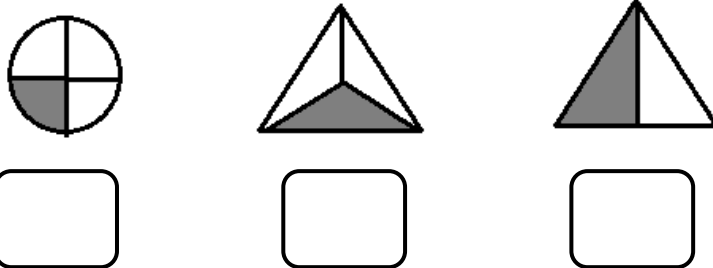
**اكتب العدد: -

□ سبعة
□ اثنان
□ عشرة

**ضع علامة (<) أو (>) أو (=): -

□ 4 + 4 □ 2 + 6
□ 2 + 3 □ 9
□ 4 + 6 □ 7

**اكتب الكسر: -





الحصة

** اكتب العدد السابق والتالي: -

← ٢٢ →

← ٣٨ →

← ٤٨ →

← ٢٣ →

← ٢٥ →

← ٤٦ →

** أكمل: - ٨٥ - ٨٤ - ٨٣ - ٨٥ □ □ □

** رتب تنازلياً: -

٧ - ١٠ - ١ - ٦ - ١٩ - ٥ - ١٢ - ٣

□ □ □ □ □ □ □ □

** اشترت هاجر ساعة (٨) جنية ، وتوكة (٤) جنية ، ما دفعت هاجر؟

مادفعته هاجر = □ + □ = □ جنية

** ضع علامة (<) أو (>) أو (=): -

$\frac{1}{2}$ □ ١

$\frac{1}{2}$ □ $\frac{2}{4}$

$\frac{1}{2}$ □ $\frac{1}{3}$

** اكتب العدد السابق: -

٣٥ →

٤٦ →

٤٨ →

٥٧ →

٥٩ →

** اكتب الكسر: -

□ □ □

□ □ □

□ □ □

□

□

□





الواجب

**- اجمع :-

$$\square = 0 + 8$$

$$\square = 5 + 6$$

$$\square = 4 + 5$$

$$\square = 7 + 7$$

**- أكمل :- ٣٨ ٣٤ - ٣٣ - ٣٢

**- رتب تصاعدياً :-

٦ - ٤ - ٨ - ١ - ١٠ - ٧ - ١٢ - ٣ - ٥

**- اشترت هالة ساعة (١٠) جنيهاً، وعروسة (٧) جنيهاً، فكم دفعت هالة ؟

مادفعته هالة = + = جنيه

**- ضع علامة (<) أو (>) أو (=) :-

$$\frac{1}{2} \square \frac{1}{3}$$

$$\frac{1}{2} \square \frac{2}{4}$$

$$1 \square \frac{1}{3}$$

**- اكتب العدد السابق :-

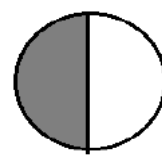
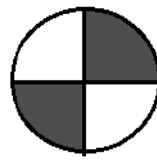
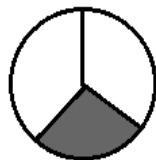
٤٧ →

٥٩ →

٤٩ →

٦٥ →

**- اكتب الكسر :-





الحصة

** اكتب العدد التالي: -

← ٣٥

← ٤٦

← ٥٧

← ٦٨

** اكتب العدد السابق: -

١٦ →

١٧ →

٣٥ →

٣٤ →

** أكمل: - ٨٥ - ٨٤ - ٨٣ - ٨٢ - ٨١

** رتب تنازلياً: -

٧ - ١٠ - ٦ - ١ - ١٩ - ٥ - ١٢ - ٣

** اشترت روان ساعة (٨) جنيه ، وتوكة (٤) جنيه ، ما دفعت روان ؟

ما دفعته روان = + = جنيه

** ضع علامة (<) أو (>) أو (=): -

$\frac{1}{2}$ $\frac{1}{3}$

$\frac{1}{2}$ $\frac{2}{4}$

$\frac{1}{2}$ $\frac{1}{3}$

** اكتب العددين السابق والتالي: -

← ٣٥ →

← ٤٥ →

← ٥٥ →

← ٦٥ →

← ٧٥ →

← ٨٥ →

← ٩٥ →

** اكتب الكسر: -





الواجب

** اوجد الناتج: -

$$= 5 - 6$$

$$= 2 - 7$$

$$= 3 - 8$$

$$= 4 - 9$$

$$= 7 + 7$$

$$= 4 + 8$$

$$= 3 + 10$$

$$= 0 + 5$$

** أكمل: - ٣٨ □ □ □ ٣٤ - ٣٣ - ٣٢

** رتب تصاعدياً: -

٦ - ٤ - ٨ - ١ - ١٠ - ٧ - ١٢ - ٣ - ٥

□ □ □ □ □ □ □ □

** اشترى عمر مسدس (١٠) جنيهاً، وكرة (٦) جنيهاً، فكم دفع عمر؟

مدفوعه عمر = □ + □ = □ جنيه

** ضع علامة (<) أو (>) أو (=): -

$$\frac{1}{2} \quad \square \quad \frac{1}{4}$$

$$\frac{1}{3} \quad \square \quad 1$$

$$\frac{1}{2} \quad \square \quad \frac{1}{2}$$

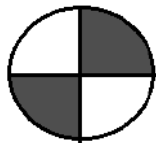
** اكتب العدد: -

ثمانية □

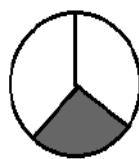
خمسة □

ثلاثة □

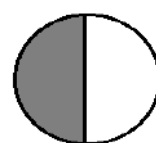
** اكتب الكسر: -



□



□



□





الحصة

** اكتب العدد السابق: -

٥٨ →
٥٦ →
٤٦ →
٦٦ →

٤٩ →
٤٧ →
٥٧ →
٦٧ →

٥ →
١٥ →
٢٥ →
٢٧ →

** أكمل: -

٩١ ٨٨ - ٨٧ - ٨٦

** رتب تنازلياً: -

١٦ - ٤ - ٩ - ١ - ٧ - ١٢ - ٥ - ٣

** مع مروة (٩) جنيه اشترت لعبة (٣) ، فكم تبقي معها؟

الباقى = - = جنيه

** ضع علامة (<) أو (>) أو (=): -

٣ - ٩ ٢ + ٣

٨ - ٨ ٧ - ٧

٢ + ٢ ٣ + ٤

** اكتب العدد التالي: -

← ٦٨
← ٧٨
← ٨٨
← ٩٨
← ٤٨
← ٢٨

** اجمع: -

= ٤ + ٦
= ٠ + ٧
= ٢ + ٨

= ٣ + ٧
= ٤ + ٨
= ٥ + ٩





الواجب

** اوجد الناتج :-

$$= 5 + 6$$

$$= 7 + 7$$

$$= 0 + 9$$

$$= 4 + 5$$

$$= 4 - 9$$

$$= 0 - 5$$

$$= 2 - 8$$

$$= 6 - 6$$

** أكمل :- ٣٨ ٣٤ - ٣٣ - ٣٢

** مع مينا (٨) جنيهات، اشترت قلم (٢) جنية، فكم تبقي معها؟

البقي = + = جنيهه

** ضع علامة (<) أو (>) أو (=) :-

$$\square \quad \square$$

$$2 + 3 \quad \square \quad 2 - 6$$

$$\square \quad \square$$

$$1 + 3 \quad \square \quad 5 - 9$$

$$\square \quad \square$$

$$1 + 5 \quad \square \quad 4 + 4$$

** اكتب العدد التالي :-


$$= 7 + 7$$

$$= 6 + 6$$

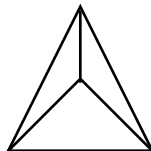
$$= 4 + 4$$

$$= 5 + 5$$

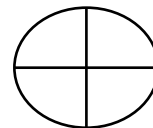
** لون حسب الكسر :-



$$\frac{1}{2}$$



$$\frac{1}{3}$$



$$\frac{1}{4}$$





الحصة

** اكتب العدد السابق: -

٦٣ →
٧٣ →
٨٣ →
٩٣ →

٦٢ →
٧٢ →
٤٣ →
٥٣ →

٣١ →
٤٢ →
٤١ →
٥٢ →

** أكمل: -

٢٢ □ □ □ ١٨ - ١٧ - ١٦

** رتب تنازلياً: -

٤ - ١٠ - ١٣ - ٩ - ٢ - ١٥ - ٧ - ٣

□ □ □ □ □ □ □ □

** ضع علامة (<) أو (>) أو (=): -

□ □
٣ - ٣ □ ٣ + ٣
□ □
٦ - ٩ □ ٥ - ٨
□ □
٥ - ١٠ □ ٤ + ٤

** اكتب العدد التالي: -

← ٣١
← ٤١
← ٤١
← ٥٢
← ٦٢
← ٧٢

** ضع علامة (+) أو علامة (-): -

٤ = ٣ □ ٧
٤ = ٢ □ ٢
صفر = ٨ □ ٨
٧ = ٥ □ ٢

** اجمع: -

= ٧ + ٧
= ٤ + ٤
= ٥ + ٥
= ٣ + ٣
= ٦ + ٦
= ٢ + ٢





واجب

**اطرح: -

$$= 5 - 8$$

$$= 0 - 6$$

$$= 3 - 5$$

$$= 4 - 7$$

$$= 2 - 7$$

$$= 3 - 9$$

$$= 2 - 8$$

$$= 1 - 6$$

**أكمل: - ٤٧ - ٤٨ - ٤٩ ٥٣

**رتب تصاعدياً: -

٨ - ١٢ - ٩ - ٣ - ١١ - صفر - ٦ - ١ - ٤

**ضع علامة (<) أو (>) أو (=): -

$$\square \square$$

$$2 - 4 \square 2 + 4$$

$$\square \square$$

$$3 + 5 \square 3 - 5$$

$$\square \square$$

$$7 - 7 \square 6 - 6$$

**اكتب العدد التالي: -

$$= 2 + 2$$

$$= 5 + 5$$

$$= 6 + 6$$

$$= 9 + 9$$

$$= 10 + 10$$

$$= 4 + 4$$

**ضع علامة (+) أو علامة (-): -

$$2 = 1 \square 3$$

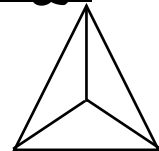
$$9 = 4 \square 5$$

$$\text{صفر} = 6 \square 6$$

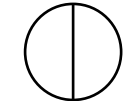
$$7 = 3 \square 4$$

**لون حسب الكسر: -

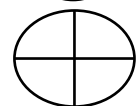
$$\frac{1}{3}$$



$$\frac{1}{2}$$



$$\frac{1}{4}$$





الحصة

**- اكتب العدد السابق :-

٧٤ →

٤٤ →

١٤ →

٨٤ →

٥٤ →

٢٤ →

٩٤ →

٦٤ →

٣٤ →

**- أكمل :-

٧٥ - ٧٦ - ٧٧ □ □ □ ٨١

**- رتب تصاعديا :-

٤ - ٥ - ٦ - ٧ - ١ - ٣ - ٩ - ١٢

□ □ □ □ □ □ □ □

**- ضع علامة (<) أو (>) أو (=) :-

□ □

١ - ٦ □ ٣ + ٢

□ □

٧ + ٧ □ ٧ - ٧

□ □

٠ - ٩ □ ٠ + ٩

**- اكتب العدد التالي :-

← ٢٥

← ٦٥

← ٤٥

← ٨٥

← ٣٥

**- ضع علامة (+) أو علامة (-) :-

٥ = ٤ □ ٩

صفر = ٧ □ ٧

٣ = ١ □ ٤

٨ = ٣ □ ٥

**- اجمع :-

= ١ + ١

= ٢ + ٢

= ٣ + ٣

= ٤ + ٤

= ٥ + ٥

= ٦ + ٦





واجب

**أوجد الناتج: -

$$= 5 + 6$$

$$= 8 + 6$$

$$= 6 + 8$$

$$= 4 + 9$$

$$= 5 - 9$$

$$= 6 - 6$$

$$= 8 - \text{صفر}$$

$$= 3 - 8$$

**أكمل: - ٦١ - ٦٢ - ٦٣ ٦٧

**رتب تصاعدياً: -

٣ - ٥ - ٦ - ٧ - ١٣ - ٤ - ٩ - ١١ - ٨

**ضع علامة (<) أو (>) أو (=): -

$$\boxed{} \quad \boxed{}$$

$$3 + 2 \quad \boxed{} \quad 1 + 4$$

$$\boxed{} \quad \boxed{}$$

$$5 + 9 \quad \boxed{} \quad 5 - 9$$

$$\boxed{} \quad \boxed{}$$

$$0 + 7 \quad \boxed{} \quad 0 - 7$$

**اجمع: -

$$= 4 + 4$$

$$= 5 + 5$$

$$= 6 + 6$$

$$= 9 + 9$$

$$= 10 + 10$$

$$= 4 + 4$$

**ضع علامة (+) أو علامة (-): -

$$6 = 3 \quad \boxed{} \quad 3$$

$$5 = 2 \quad \boxed{} \quad 7$$

$$9 = 5 \quad \boxed{} \quad 4$$

$$4 = 1 \quad \boxed{} \quad 5$$

**اكتب العدد: -

ستة

ثلاثة

عشرة

خمسة

واحد





الحصة

** اكتب العدد السابق: -

٤٦ →

٥٨ →

٢٥ →

٥٦ →

٥٢ →

٣٦ →

٦٦ →

٦٨ →

٤٢ →

** أكمل: -

٤٢ ٣٨ - ٣٧ - ٣٦

** رتب تصاعدياً: -

٩ - ٦ - ١ - ٥ - ٧ - ١٢ - ١٥ - ٤

** ضع علامة (<) أو (>) أو (=): -

٤ - ٧ ٢ + ٥

٢ + ٤ ٤ - ٩

٨ - ٨ ٧ - ٧

** اكتب العدد التالي: -

← ٢٩ →

← ١٩ →

← ٤٩ →

← ٥٩ →

← ٦٩ →

** ضع علامة (+) أو علامة (-): -

٥ = ٤ ٩

صفر = ٧ ٧

٣ = ١ ٤

٨ = ٣ ٥

** اكتب العدد: -

اثنان

ثمانية

سبعة





واجب

**أوجد الناتج :-

$$= 5 + 7$$

$$= 3 + 8$$

$$= 3 + 9$$

$$= 6 + 6$$

$$= 5 - 7$$

$$= 3 - 8$$

$$= 3 - 9$$

$$= 6 - 6$$

**أكمل :- ٥١ ٤٧ - ٤٦ - ٤٥

**رتب تنازلياً :-

١ - ٩ - ٤ - ٢ - ١٣ - ٧ - ٥

**ضع علامة (<) أو (>) أو (=) :-

$$\square \quad \square$$

$$3 - 9 \quad \square \quad 1 + 4$$

$$\square \quad \square$$

$$3 + 3 \quad \square \quad 2 + 4$$

$$\square \quad \square$$

$$1 + 3 \quad \square \quad 2 - 9$$

**اطرح :-

$$= 1 - 8$$

$$= 7 - 7$$

$$= 5 - 9$$

$$= 2 - 4$$

$$= 3 - 6$$

$$= 1 - 5$$

**ضع علامة (+) أو علامة (-) :-

$$6 = 3 \quad \square \quad 3$$

$$7 = 6 \quad \square \quad 1$$

$$\text{صفر} = 5 \quad \square \quad 5$$

$$5 = 3 \quad \square \quad 8$$

**اكتب عدد الحروف :-

رسم

عمر

لوحة

جميلة





الحصة

** اكتب العدد السابق: -

٤٢ →

٥٧ →

٥٦ →

٥٢ →

٢٨ →

٤٦ →

٦٢ →

٤٢ →

٣٦ →

** أكمل: -

٨١ ٧٧ - ٧٦ - ٧٥

** رتب تصاعدياً: -

٣ - ٧ - ٤ - ٦ - ١٣ - ٩ - ٥ - ٢

** ضع علامة (<) أو (>) أو (=): -

٢ - ٩ ٣ + ٣

٣ + ٣ ٥ - ٨

٥ - ٥ ٤ - ٤

** اكتب العدد التالي: -

← ٥٧ →

← ٤٦ →

← ١٦ →

← ٢٦ →

** ضع علامة (+) أو علامة (-): -

٤ = ٣ ١

٣ = ٥ ٨

٤ = ٢ ٢

٦ = ١ ٧

** اكتب العدد: -

سبعة

واحد

ستة





واجب

**أوجد الناتج: -

$$= 5 - 9$$

$$= 6 - 6$$

$$= 4 - 7$$

$$= 5 - 8$$

$$= 5 + 9$$

$$= 6 + 6$$

$$= 4 + 7$$

$$= 5 + 8$$

**أكمل: - ٧٦ - ٧٧ - ٧٨ ٨٢

**رتب تنازلياً: -

٥ - ١٠ - ٩ - ٨ - ١ - ١٥ - ٦ - ٤

**ضع علامة (<) أو (>) أو (=): -

٢ - ٧ ٣ + ٣

٢ + ٢ ٥ - ٩

٧ + ٧ ٧ - ٧

**اطرح: -

$$= 5 - 8$$

$$= 6 - 6$$

$$= 5 - 7$$

$$= 3 - 8$$

$$= 2 - 7$$

$$= 1 - 3$$

**ضع علامة (+) أو علامة (-): -

$$٢ = ٥ ٧$$

$$٧ = ٤ ٣$$

$$٥ = ٤ ١$$

$$\text{صفر} = ٦ ٦$$

**اكتب عدد الحروف: -

هيا

نزرع

فوق

سطح

المنزل





الحصة

** اكتب العدد السابق: -

← ٥٨ →

← ٥٣ →

← ٢٤ →

← ٤٧ →

← ٥٦ →

← ٧٦ →

** أكمل: -

٩١ ٨٧ - ٨٦ - ٨٥

** رتب تنازليا: -

٣ - ١٥ - ١٠ - ٢ - ١٨ - ٩ - ٥ - ٤

** ضع علامة (<) أو (>) أو (=): -

١ - ٧ ٣ + ٢

١ + ٣ ٨ - ٨

٢ - ٦ ٢ + ٢

** اطرح: -

= ٨ - ٨
= ٣ - ٩
= ١ - ٧
= ٣ - ٥
= ١ - ٦
= ٠ - ٧

** ضع علامة (+) أو علامة (-): -

٧ = ٥ ٢
٥ = ٤ ٩
٦ = ٣ ٣
صفر = ٥ ٥

** اكتب السابق: -

٥٧ →
٤٦ →
٥٦ →
٢٦ →





واجب

**أوجد الناتج:-

$$\begin{aligned} &= 3 - 6 \\ &= 0 - 7 \\ &= 2 - 8 \\ &= 5 - 9 \end{aligned}$$

$$\begin{aligned} &= 3 + 6 \\ &= 0 + 7 \\ &= 2 + 8 \\ &= 5 + 9 \end{aligned}$$

**أكمل:- ٦٩ ٦٥ - ٦٤ - ٦٣

**رتب تنازلياً:-

٤ - ٩ - ٢ - ١٦ - ٥ - ١٠ - ٧ - ٣

**ضع علامة (<) أو (>) أو (=):-

$$\begin{aligned} &\square \quad \square \\ 3 - 3 &\square 3 + 3 \\ &\square \quad \square \\ 2 + 4 &\square 2 - 7 \\ &\square \quad \square \\ 3 + 5 &\square 5 - 9 \end{aligned}$$

**اطرح:-

$$\begin{aligned} &= 3 - 8 \\ &= 5 - 9 \\ &= 7 - 7 \\ &= 1 - 6 \\ &= 3 - 5 \\ &= 1 - 9 \\ &= 0 - 8 \end{aligned}$$

**ضع علامة (+) أو علامة (-):-

$$\begin{aligned} 5 &= 4 \quad \square \quad 1 \\ \text{صفر} &= 3 \quad \square \quad 3 \\ 6 &= 4 \quad \square \quad 2 \\ 4 &= 5 \quad \square \quad 9 \end{aligned}$$

**اكتب عدد الحروف:-

ذبحنا
 خروف
 العيد





**رتب تنازليا : ١٠، ٣، ٩، ٥ :

الترتيب :

**رتب تصاعديا : ٩، ١٠، ٢، ٦ :

الترتيب :

**رتب تنازليا : ٦، ١٠، ٢، ٥، ٧، ٩ :

الترتيب :

**رتب تصاعديا : ٥، ٣، ٦، ١٠، ٢، ٧ :

الترتيب :

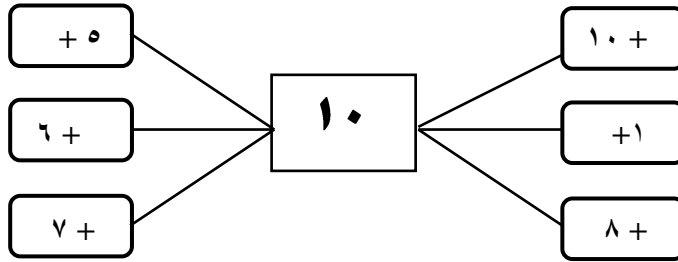
$$\begin{array}{l} ٨ = \square + ٧ \\ ٣ = \square - ٦ \\ ٥ = \square + ٢ \\ ٧ = \square + ٣ \end{array}$$

$$\begin{array}{l} ٩ = \square + ٢ \\ ٤ = \square - ٧ \\ ٨ = \square + ٢ \\ ٧ = \square + ٥ \end{array}$$

- **أكمل :**

$$\begin{array}{l} ٧ = \square + ٦ \\ ٢ = \square - ٩ \\ ٤ = \square - ٨ \\ ٦ = \square + ٣ \end{array}$$

- **مكونات العدد عشرة :**



$$\begin{array}{l} ١٠ = \square + ٧ \\ ١٠ = \square + ٢ \\ ١٠ = \square + ٤ \end{array}$$

$$\begin{array}{l} ١٠ = \square + ٤ \\ ١٠ = \square + ٩ \\ ١٠ = \square + ٨ \end{array}$$

- **أكمل :**

$$\begin{array}{l} ١٠ = \square + ٣ \\ ١٠ = \square + ٧ \\ ١٠ = \square + ٨ \end{array}$$

- **ضع خطا تحت العددين اللذان مجموعهما (١٠) :-**

(٤، ٦)، (١، ٤)، (٣، ٥)
(٣، ٧)، (٢، ٧)، (٦، ١)
(٢، ٦)، (١، ٩)، (٢، ٥)

(١، ٧)، (٨، ٢)، (٣، ٦)
(٦، ٤)، (٠، ٩)، (٥، ٥)
(٥، ٤)، (٧، ٣)، (٤، ٦)





**ضع علامة (<) أو (>) أو (=):-

$1 + 9 \quad \square \quad 2 + 8$

$4 + 3 \quad \square \quad 5 - 9$

$5 - 10 \quad \square \quad 2 + 7$

$4 + 5 \quad \square \quad 1 + 6$

$3 + 1 \quad \square \quad 7 - 8$

$2 - 7 \quad \square \quad 3 + 6$

$3 + 3 \quad \square \quad 5 - 10$

$4 + 4 \quad \square \quad 7 - 8$

$5 + 5 \quad \square \quad 3 + 7$

$4 + 6 \quad \square \quad 2 - 9$

**أوجد الناتج :-

$..... = 5 - 8 \quad \blacksquare$

$..... = 5 + 4 \quad \blacksquare$

$..... = 6 - 9 \quad \blacksquare$

$..... = 7 - 10 \quad \blacksquare$

$..... = 5 - 10 \quad \blacksquare$

$..... = 2 + 6 \quad \blacksquare$

$..... = 6 + 4 \quad \blacksquare$

$..... = 1 + 9 \quad \blacksquare$

$..... = 1 + 8 \quad \blacksquare$

$..... = 4 - 5 \quad \blacksquare$

$..... = 3 - 7 \quad \blacksquare$

$..... = 6 - 8 \quad \blacksquare$

$..... = 2 - 9 \quad \blacksquare$

$..... = 5 + 4 \quad \blacksquare$

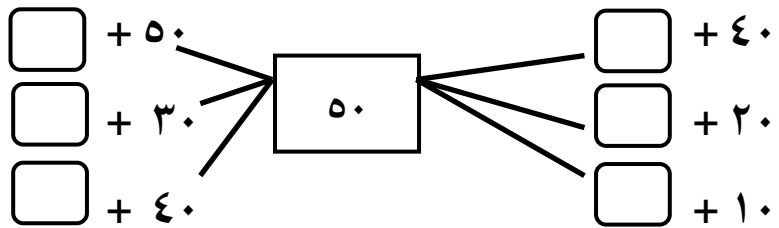
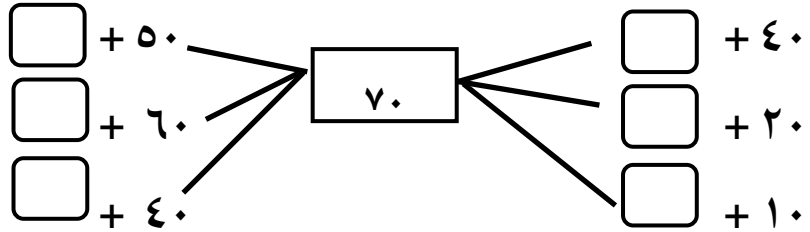
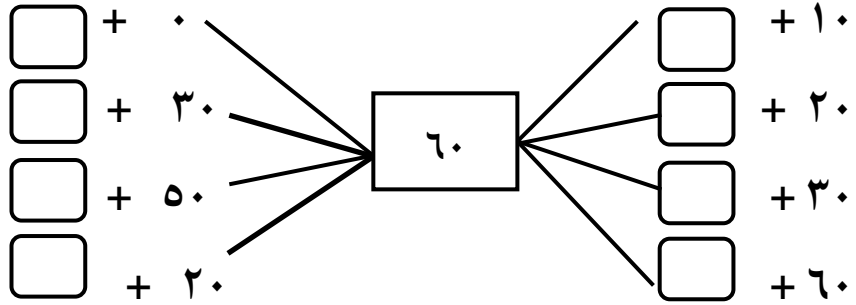




١٠٠	٩٠	٨٠	٧٠	٦٠	٥٠	٤٠	٣٠	٢٠	١٠
-----	----	----	----	----	----	----	----	----	----

العشرات الكاملة

**أكمل :-



**أكمل كالمثال :-

٤ عشرات + ٣ عشرات

$70 = 30 + 40 =$

٧ عشرات + ٢ عشرات

$..... = + =$

٥ عشرات + ٣ عشرات

$..... = + =$

٦ عشرات + ٢ عشرات

$..... = + =$





**اوجد الناتج:-

..... = ٣٠ + ١٠
..... = ٤٠ + ٥٠
..... = ٢٠ + ٢٠
..... = ٧٠ - ٩٠
..... = ٣٠ - ٨٠
..... = ١٠ - ٦٠
..... = ٢٠ - ٥٠

..... = ٢٠ + ٥٠
..... = ٣٠ + ٦٠
..... = ٦٠ - ٧٠
..... = ٥٠ - ٩٠
..... = ١٠ + ٦٠
..... = ٤٠ + ٤٠
..... = ٦٠ - ٨٠

**أكمل بنفس التسلسل :-

(ب) ٣٠ ، ٤٠ ، ، ، ٧٠
(د) ٦٠ ، ، ٨٠ ،
(و) ٥٠ ، ٤٠ ، ، ٢٠ ،
(ح) ٩١ ، ٨٠ ، ، ٦٠ ،

(أ) ١٠ ، ٢٠ ، ، ، ٥٠ ، ٦٠
(ج) ٥٠ ، ، ٧٠ ، ، ٩٠
(هـ) ٨٠ ، ٧٠ ، ، ٥٠ ،
(ز) ٦٠ ، ، ٤٠ ، ، ٢٠

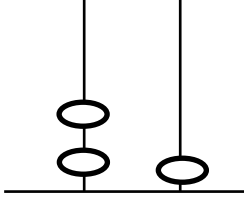
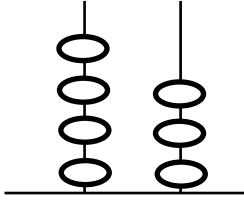
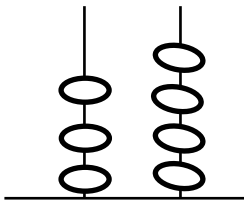
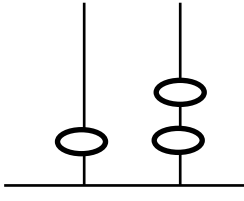
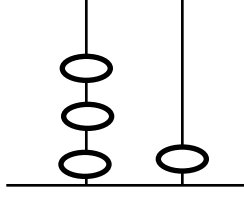
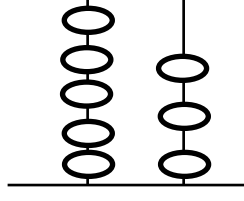
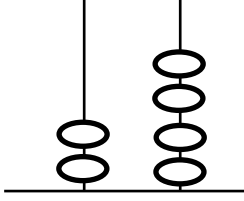
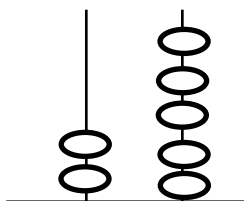
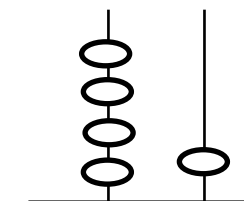
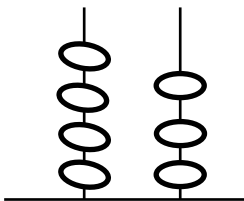
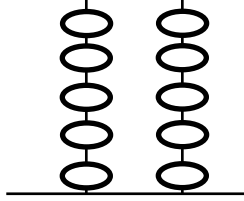
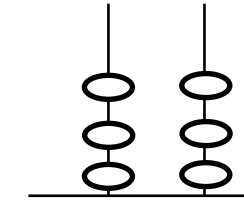
**أكمل :-

- ٤ جنيهاً و ٧ عشرات = جنيهاً (..... = ٧٠ + ٤)
- ٨ جنيهاً و ٣ عشرات = جنيهاً (..... = + ٨)
- ٩ عشرات وجنية واحد = جنيهاً (..... = +)
- ٦ جنيهاً و ٤ عشرات = جنيهاً (..... = +)





**أكمل العدد كالمثال :-

 <p>احاد عشرات العدد <input type="text" value="٢١"/></p>	 <p>احاد عشرات العدد <input type="text" value="٤٣"/></p>	 <p>احاد عشرات العدد <input type="text" value="٣٤"/></p>
 <p>احاد عشرات العدد <input type="text"/></p>	 <p>احاد عشرات العدد <input type="text"/></p>	 <p>احاد عشرات العدد <input type="text"/></p>
 <p>احاد عشرات العدد <input type="text"/></p>	 <p>احاد عشرات العدد <input type="text"/></p>	 <p>احاد عشرات العدد <input type="text"/></p>
 <p>احاد عشرات العدد <input type="text"/></p>	 <p>احاد عشرات العدد <input type="text"/></p>	 <p>احاد عشرات العدد <input type="text"/></p>





****أكمل كالمثال :-**

٦ آحاد و ٥ عشرات =
٣ آحاد و ٩ عشرات =
٤ آحاد و ٢ عشرات =
٤ عشرات و ٥ آحاد =
٦ عشرات و ٥ آحاد =
٨ عشرات و ٣ آحاد =

٧ آحاد و ٣ عشرات = ٣٧
٤ آحاد و ٨ عشرات =
٦ آحاد و ٥ عشرات =
٨ عشرات و ٦ آحاد = ٨٦
٧ عشرات و ٥ آحاد =
٩ عشرات و ٨ آحاد =

..... + = ٨٤
..... + = ٩٦
..... + = ٧٤
٩٠ + ٣ =
٢٠ + ٧ =

٥٠ + ٧ = ٥٧
..... + = ٣٢
..... + = ٤٦
٢٠ + ٨ =
٥٠ + ٩ =

****أكمل كالمثال :-**

أربعة وخمسون = ٥٤ = ٥٠ + ٤

..... = + = سبعة وتسعون

..... = + = ثلاثة وستون

..... = + = خمسة وثلاثون

..... = ٧٠ + ١ =

..... = ٨٠ + ٥ =

٢٩ = + =

٤٦ = + =

٨٤ = آحاد عشرات
٥٩ = آحاد عشرات
١٨ = آحاد عشرات
٢٤ = آحاد عشرات
٧٦ = آحاد عشرات

٧٣ = آحاد عشرات
٤٨ = آحاد عشرات
٩٥ = آحاد عشرات
٣٦ = آحاد عشرات
٢٩ = آحاد عشرات





**ضع خط تحت العشرات: -

٤٢ - ٦١ - ٢٩ - ٣٥

٥٢ - ٣١ - ٦٩ - ٨٧

**ضع خط تحت الآحاد: -

٩٣ - ٨٥ - ٣٦ - ٧٢

٨٣ - ٢٧ - ٩١ - ٦٤

القيمة المكانية للرقم

**لاحظ ثم ارسم دائرة حول قيمة الرقم الذي تحته خط كالمثال:

٥٧
٧٠ ٧

٩٢
٩٠ ٩

٤٦
٤٠ ٦

٨٣
٨٠ ٨

٢٠
١٠ ٠

٥٥
٥٠ ٥

٣٤
٣٠ ٣

٩٦
٥٠ ٥

**ضع دائرة حول القيمة المكانية للرقم الذي تحته خط كالمثال:

٩ ٩
آحاد عشرات

٥ ٦
آحاد عشرات

٧ ٣
آحاد عشرات

٤ ٨
آحاد عشرات

٨ ٢
آحاد عشرات

٢ ٧
آحاد عشرات

٨ ٥
آحاد عشرات

٩ ٣
آحاد عشرات

٧ ٩
آحاد عشرات

٤ ٩
آحاد عشرات

٣ ٤
آحاد عشرات

٦ ٥
آحاد عشرات

✓ اكتب القيمة المكانية للرقم (٦) كما في المثال:

١٦	٦٩	٦٤	٦	٣٦	٦٥	العدد
.....	آحاد	عشرات	القيمة المكانية للرقم ٦

✓ اكتب القيمة المكانية للرقم (٤) كالمثال:

٧٤	٤٩	٤٢	٦٤	٩٤	٤٦	العدد
.....	آحاد	عشرات	القيمة المكانية للرقم ٤

ترتيب الاعداد





**اكتب ترتيب الاعداد من (١ : ١٠٠) :-

	٩			٦			٢	١	٠
		١٨			١٥			١٢	١١
٣٠			٢٧			٢٤			٢١
	٣٩			٣٦			٣٣		
		٤٨			٤٥			٤٢	
٦٠			٥٧		٥٥	٥٤			٥١
	٦٩			٦٦			٦٣		
		٧٨			٧٥			٧٢	
	٨٩		٨٧			٨٤		٨٢	
١٠٠				٩٦		٩٤			٩١

**اكمل :-

أ) ٣٨ ، ٣٩ ، ٤٠ ، ، ، ، ٤٤

ب) ٦٥ ، ٦٦ ، ، ، ٦٩ ، ، ٧١

ج) ١٧ ، ، ١٩ ، ، ٢٢ ، ،

د) ٥٦ ، ، ، ٥٩ ، ٦٠ ، ، ٦٣

**اكتب العدد التالي مباشرة :-

٥٩ ← ٥٨	١٨ ← ١٧	٢٤ ← ٢٣
..... ← ١٤ ← ٣٢ ← ٤٧
..... ← ٧٦ ← ٤٩ ← ٥٢
..... ← ٧٩ ← ٩١ ← ١٦
..... ← ٣٥ ← ١٣ ← ٨١
..... ← ٧١ ← ٦٩ ← ٢٩
..... ← ٨٥ ← ٢١ ← ٧٠

**اكتب العدد السابق مباشرة :-





٣٨ → ٣٧

٨٦ → ٨٥

٩ → ٨

٤٦ →

٥٢ →

٢١ →

٢٠ →

٩٢ →

٦ →

٩٠ →

٦٠ →

٣٥ →

**ضع علامة (<) أو (>) أو (=):-

٢٣ - ٥٧ ١٤ + ٣٢

٨٠ ٣١ + ٣٦

٢٠ - ٩٠ ٣٠ + ٤٠

٥٣ ٢١ + ٧٤

٣٥ + ٤١ ١٥ - ٨٦

٧٨ ٤٢ + ٢٧

٤٠ + ٢٧ ٤٢ - ٩٣

٥٤ ١٤ - ٦٨

✓ اكتب خمسة أعداد أقل من (٧٢) :-

الأعداد هي /

✓ اكتب سبعة أعداد أكبر من (٤٠) :-

الأعداد هي /

✓ اكتب ثلاثة أعداد رقم الآحاد (٧) :-

الأعداد هي /

✓ اكتب أربعة أعداد رقم العشرات (٩) :-

الأعداد هي /

**أكمل:-

٣٧،، ٣٩،، ٤١،،،، ٤٥،

٦٥، ٦٦،،، ٧٠،، ٧٢،

✓ رتب تصاعدياً من الأصغر للأكبر كالمثال :-





الترتيب / ٩٢، ٥٧، ٤٣، ٢٥، ١٦ / ٢٥، ٤٣، ١٦، ٩٢، ٥

الترتيب / / ٨٠، ٤٥، ١٩، ٣٢، ٦٧

الترتيب / / ٦٢، ٨٤، ٢٣، ١٦، ٩١، ٥٧

رتب تنازليا من الأكبر للأصغر كالمثال :

الترتيب / ١٧، ٢٤، ٣٩، ٥٣، ٦٨، ٨٢ / ٦٨، ٢٤، ١٧، ٣٩، ٨٢، ٥٣

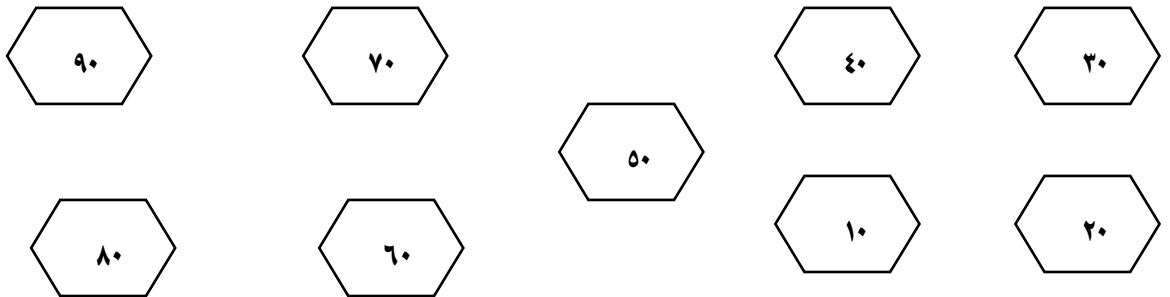
الترتيب / / ٢٩، ٤٥، ١٣، ٦٢، ٣٧

الترتيب / / ٦٢، ٨٤، ١٩، ٩٢، ٥١، ٣٦

**ضع علامة (<) أو (>) أو (=) :-

٩١	<input type="text"/>	٦٨	٢١	<input type="text"/>	١٧	٥٢	<input type="text"/>	>	٣٦
٥٢	<input type="text"/>	٢٥	٥٠	<input type="text"/>	٢٠	٢٩	<input type="text"/>	<	٦٧
٤٧	<input type="text"/>	٤٧	٤٩	<input type="text"/>	٨٢	٣٢	<input type="text"/>	=	٣٢
٨١	<input type="text"/>	١٨	٨٢	<input type="text"/>	٧٥	٥٨	<input type="text"/>		٦١

**صل بالترتيب :-



**كون أكبر عدد وأصغر عدد من الأرقام كالمثال :-





- أصغر عدد = ٣٧
- أصغر عدد =
- أصغر عدد =
- أصغر عدد =
- أصغر عدد =
- أكبر عدد = ٧٣
- أكبر عدد =
- أكبر عدد =
- أكبر عدد =
- أكبر عدد =
- أصغر عدد مكون من الرقمين (٧، ٥) هو
- أكبر عدد مكون من الرقمين (٣، ٦) هو
- أصغر عدد مكون من الرقمين (٨، ٤) هو
- أكبر عدد مكون من الرقمين (٢، ٥) هو
- أصغر عدد مكون من الرقمين (٦، ٧) هو

****أكمل:-**

- ٩٠ = + ٧٠
- = ٣٠ + ٢
- ٢٠ = - ٥٠
- ٣٠ = - ٧٠
- = ٨ آحاد و ٧ عشرات
- = ٥ عشرات و ٣ آحاد

****أكمل بنفس النمط:-**

- ، ٥٨ ، ٥٧
- ، ١٤ ، ١٢
- ، ٤٠ ، ٥٠
- ، ٩٨ ، ٩٩

✓ مع ضحي ٤٥ جنية ومع شروق ٢٣ جنية أوجد ما مع الاثنين؟





مامع الاثنين = + = جنيه

✓ مع عبد الرحمن ٣٨ جنيها اشترى كتب بمبلغ ٢٥ جنيها أوجد الباقي؟

الباقي مع عبد الرحمن = - = جنيه

٢٧ = أحاد..... عشرات
٩٢ = أحاد..... عشرات
٦٥ = أحاد..... عشرات
٧٣ = أحاد..... عشرات
..... + = ٢٥
..... + = ٩٨
٤٠ + ٦ =

****أكمل:-**
٢٦ = + ٦
٥٢ = + ٢
٣٩ = ٣٠ +
٩٠ = +
٢٠ = +
٧٠ = + ٥٠
٦٠ = + ١٠

****ضع علامة (<) أو (>) أو (=):-**

٤٥ - ٦٨ <input type="text"/>	٥٢ - ٩٣ <input type="text"/>	١٩ أحاد <input type="text"/>	٧ عشرات <input type="text"/>
٨ عشرات <input type="text"/>	٦٠ + ٢٠ <input type="text"/>	٢٣ - ٦٧ <input type="text"/>	٤٣ - ٥٢ <input type="text"/>
٢١ + ٣٦ <input type="text"/>	٥٢ - ٧٤ <input type="text"/>	٢٤ + ١٣ <input type="text"/>	١٧ + ٢٠ <input type="text"/>
٢٠ - ٧٠ <input type="text"/>	١١ + ٦٨ <input type="text"/>	٢٤ - ٥٨ <input type="text"/>	٣٢ + ١٦ <input type="text"/>

****رتب تنازليا:-**

..... / الترتيب ٤٩، ١٦، ٩١، ٢٥، ٧٦ ▪
..... / الترتيب ٧٣، ١٦، ٥١، ٤٦، ٩٢، ٨٤ ▪
..... / الترتيب ١٨، ٦٥، ٩٢، ٣٧ ▪
..... / الترتيب ٥٩، ٣٨، ٢١، ٨٦ ▪





****رتب تصاعدياً:-**

- / الترتيب ٢٧، ٧٢، ٨٣، ١٦، ٥١، ٩٢ ▪
 / الترتيب ٦٣، ٥١، ٤٦، ٩٢، ١٨، ٣٧ ▪
 / الترتيب ٨٦، ١٣، ٩٢، ٦٧ ▪
 / الترتيب ١٧، ٥٢، ٨٣، ٦١ ▪

****ضع علامة (+) أو (-):-**

٣٠ = ٥٢ ٨٢
 ٥٠ = ٢٠ ٧٠
 ٤٠ = ١٠ ٣٠
 ٦٠ = ٢٥ ٨٥
 ٣٩ = ٢٠ ١٩

٢٠ = ٣٠ ٥٠
 ٨٠ = ١٠ ٧٠
 ٩٠ = ٣٠ ٦٠
 ٥٠ = ٧ ٥٧
 ٨٦ = ٤ ٨٢

****أكمل:-**

- ٦٨ = آحاد عشرات ▪
 ٩٤ = آحاد عشرات ▪
 ٧٠ + ٦ = ▪
 + = ٢٥ ▪
 ٨ عشرات = ، ٦ آحاد = ▪

****رتب تنازلياً:-**

- / الترتيب ٢٦، ٥٤، ٩١، ٦٩، ٣٥، ٧٢

****أكمل:-**

٧٣ = + ٤٠ + ٣٠
 ٩٠ = ٤٠ + + ٢٠
 ٥٠ = ٣٠ + ١٠ +
 ٧٧ = ١٠ + + ٦٠

٧٠ = + ٢٠
 ٩٠ = + ٦٠
 ٥٠ = +
 ٨٠ = + ٤٠





**أجمع:-

آحاد	عشرات	آحاد	عشرات	آحاد	عشرات	آحاد	عشرات
٢	١	٤	٧	٣	٦	٣	٥
٣	٥ +	١	٠ +	٥	١ +	٣	٣ +
_____		_____		_____		_____	
٥	٦	٥	٧	٨	٧	٦	٨

٤	٧	٣	٦	٥	٤	٣	٧
٥	٢ +	٢	١ +	٢	٠ +	٤	١ +
_____		_____		_____		_____	

٢	٨	٧	٥	٢	٨	٤	٢
٦	١ +	٢	٣ +	٣	١ +	١	٥ +
_____		_____		_____		_____	

٣	٥	١	٤	١	٦	٣	٧
٥	١ +	٣	٤ +	٧	٢ +	٣	٠ +
_____		_____		_____		_____	

٨	٤	٧	٦	٩	٢	٧	٢
٥	٣ +	١	٣ +	١	٦ +	١	٥ +
_____		_____		_____		_____	

٥	٤	٦	٢	٢	٧	٤	٨
٥	٥ +	٧	٧ +	٥	٠ +	٣	١ +
_____		_____		_____		_____	





****اطرح:-**

آحاد عشرات	آحاد عشرات	آحاد عشرات	آحاد عشرات
٩ ٨ ٦ ٠ - ----- ٦ ٧	٧ ٤ ٣ ٢ - ----- ٤ ٢	٦ ٨ ٥ ٥ - ----- ١ ٣	٥ ٧ ١ ٣ - ----- ٤ ٤
٦ ٩ ٢ ٣ - -----	٤ ٥ ١ ٣ - -----	٢ ٧ ١ ٧ - -----	٦ ٩ ٣ ٧ - -----
٦ ٩ ٣ ٧ - -----	٨ ٤ ٥ ٢ - -----	٥ ٨ ٣ ٦ - -----	٥ ٨ ٣ ٢ - -----
٢ ٥ ١ ٥ - -----	٦ ٧ ٢ ٥ - -----	٦ ٩ ٤ ٩ - -----	٣ ٥ ١ ٢ - -----
٨ ٦ ٤ ٢ - -----	٧ ٦ ٢ ٣ - -----	٩ ٤ ٥ ٢ - -----	٦ ٨ ٣ ٧ - -----
٧ ٩ ٣ ٨ - -----	٨ ٤ ٦ ٢ - -----	٢ ٨ ١ ٥ - -----	٧ ٦ ٤ ٦ - -----

✓ مع دعاء ٦٧ وردة ومع جني ٣٥ وردة ما الفرق بين ما مع الاثنين؟
الفرق بين الاثنين = - = وردة

✓ أخذ حسام من والده ٢٨ جنيها اشترى لعبة بمبلغ ٢٥ جنيها أوجد الباقي مع حسام؟
الباقي مع حسام = - = جنيها





✓ مع ضحي ٥٦ جنها اشترت كتابا بمبلغ ٢٣ جنيتها أوجد الباقي مع ضحي ؟
الباقي مع ضحي = - = جنيتها

✓ مع شيماء ٨٩ قلم ومع شروق ٥٦ قلم أوجد الفرق بين ما مع الاثنين ؟
الفرق بين ما مع الاثنين = - = قلما

✓ اخذ عمر من والدته ٧٥ قرشا اشترى قلما بمبلغ ٤٠ قرش أوجد الباقي مع أحمد ؟
الباقي مع أحمد = - = قرشا

****أكمل بنفس التسلسل :**

← ٢٠ ، ٢٥ ، ، ،
← ١٨ ، ٢٨ ، ، ،
← ٦٣ ، ٦٦ ، ، ،
← ٨٠ ، ٧٠ ، ، ،
← ٩٠ ، ٨٥ ، ، ،

****ضع علامة (<) أو (>) أو (=) :-**

← ٣٢ + ٣٦ ١٥ + ٨٢ ← || ٤٥ - ٧٨ ١٢ + ٣٦ ←
← ٤٠ - ٩٠ ١٠ + ٤٠ ← || ١١ + ٢٠ ٥٦ + ٨٧ ←

****كون أكبر عدد واصغر عدد من الأرقام :-**

← (٣، ٧) أكبر عدد = أصغر عدد =
← (٩، ٢) أكبر عدد = أصغر عدد =

****أكمل :-**

← ٤٩ - = ١٦
← ٢٧ + = ٩٨

← ٦٧ - = ٥٢
← ٣٠ + = ٨٥

****أوجد الناتج :-**

← ٥٨ - ٤٦ =
← ٢٠ + ٤٣ =
← ٨٧ - ٥٦ =

← ٩٧ - ٣٦ =
← ٥٢ - ٤٢ =
← ٦١ + ٢٨ =





**رتب تنازليا:-

٢٧، ٧١، ٣٦، ٩٢، ٥٧

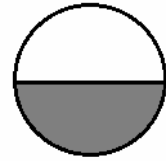





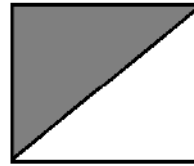

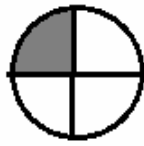

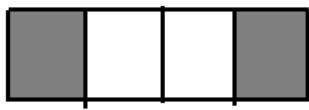
الترتيب/.....

**رتب تصاعديا:-

٥٤، ٧٥، ٢٣، ٦١، ٨٢

الترتيب/.....

**اكتب الكسر:-



**اكتب من (١) إلى (٢٠) بالعربي:-

الرقم	الرقم	الرقم	الرقم	الرقم	الرقم
١	واحد	٦	١١	١٦	
٢		٧	١٢	١٧	
٣		٨	١٣	١٨	
٤		٩	١٤	١٩	
٥		١٠	١٥	٢٠	





**أوجد ناتج:-

$$\begin{array}{r} 7 \quad 0 \\ 1 \quad 8 + \\ \hline \end{array}$$

$$\begin{array}{r} 6 \quad 8 \\ 2 \quad 0 + \\ \hline \end{array}$$

$$\begin{array}{r} 5 \quad 2 \\ 3 \quad 4 + \\ \hline \end{array}$$

$$\begin{array}{r} 2 \quad 7 \\ 3 \quad 1 + \\ \hline \end{array}$$

$$\begin{array}{r} 4 \quad 5 \\ 3 \quad 2 - \\ \hline \end{array}$$

$$\begin{array}{r} 6 \quad 7 \\ 3 \quad 1 + \\ \hline \end{array}$$

$$\begin{array}{r} 4 \quad 5 \\ 5 \quad 1 + \\ \hline \end{array}$$

$$\begin{array}{r} 3 \quad 6 \\ \quad 2 + \\ \hline \end{array}$$

$$\begin{array}{r} 9 \quad 5 \\ 6 \quad 5 - \\ \hline \end{array}$$

$$\begin{array}{r} 8 \quad 0 \\ 2 \quad 0 - \\ \hline \end{array}$$

$$\begin{array}{r} 8 \quad 9 \\ 2 \quad 9 - \\ \hline \end{array}$$

$$\begin{array}{r} 7 \quad 6 \\ 4 \quad 5 + \\ \hline \end{array}$$

**أوجد الناتج:-

$$\begin{array}{l} \dots\dots\dots = 60 - 18 \\ \dots\dots\dots = 23 + 50 \\ \dots\dots\dots = 82 + 17 \\ \dots\dots\dots = 20 - 80 \\ \dots\dots\dots = 9 - 59 \end{array}$$

$$\begin{array}{l} \dots\dots\dots = 42 + 36 \\ \dots\dots\dots = 61 + 25 \\ \dots\dots\dots = 20 - 79 \\ \dots\dots\dots = 36 - 49 \\ \dots\dots\dots = 7 - 67 \end{array}$$

**أكمل:-

$$\begin{array}{l} 34 = \dots\dots\dots - 68 \\ 50 = \dots\dots\dots + 20 \\ 97 = \dots\dots\dots + 83 \\ \dots\dots\dots + 5 = 35 \\ \dots\dots\dots + 9 = 69 \\ 20 + 6 = \dots\dots\dots \\ 80 + 56 = \dots\dots\dots \\ \dots\dots\dots + \dots\dots\dots = 73 \\ \dots\dots\dots + \dots\dots\dots = 85 \end{array}$$

$$\begin{array}{l} 80 = \dots\dots\dots + 60 \\ 23 = \dots\dots\dots - 75 \\ 56 = \dots\dots\dots - 79 \\ \dots\dots\dots = 8 \text{ آحاد و } 3 \text{ عشرات} \\ \dots\dots\dots = 9 \text{ آحاد و } 9 \text{ عشرات} \\ \dots\dots\dots = 3 \text{ آحاد و } 9 \text{ عشرات} \\ \dots\dots\dots = 4 \text{ عشرات و } 2 \text{ عشرات} \\ \dots\dots\dots = 6 \text{ عشرات و } 3 \text{ عشرات} \\ \dots\dots\dots + 60 = 67 \end{array}$$





**ضع علامة (<) أو (>) أو (=) :-

$$\begin{array}{ccc} 32 + 36 & \square & 15 + 82 \leftarrow \\ 40 - 90 & \square & 10 + 40 \leftarrow \end{array} \quad \parallel \quad \begin{array}{ccc} 45 - 78 & \square & 2 + 36 \leftarrow \\ 11 + 20 & \square & 56 + 87 \leftarrow \end{array}$$

**ضع علامة (✓) أو علامة (×) :-

- () $69 = 31 + 56$ (1)
() العدد 67 يلي العدد 65 (2)
() أكبر عدد مكون من (3، 9) هو 93 (3)
() قيمة الرقم 6 في العدد 65 تساوي 60 (4)
() المائة جنيهاً > خمسون جنيهاً (5)

**أكمل :-

- 36 = - 58 ■
67 = + 20 ■
..... = 5 عشرات ■
العدد الذي يسبق 83 هو ■

**رتب تنازلياً :-

84 ، 16 ، 59 ، 32 ، 75


**ضع علامة (<) أو (>) أو (=) :-

$$\begin{array}{ccc} 9 \text{ آحاد} & \square & 7 \text{ عشرات} \leftarrow \\ 28 & \square & 82 \leftarrow \end{array} \quad \parallel \quad \begin{array}{ccc} 65 - 97 & \square & 32 - 56 \leftarrow \\ 37 + 32 & \square & 21 + 48 \leftarrow \end{array}$$





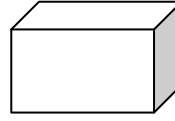
** صل كل شكل باسمه :-



مخروط



كرة



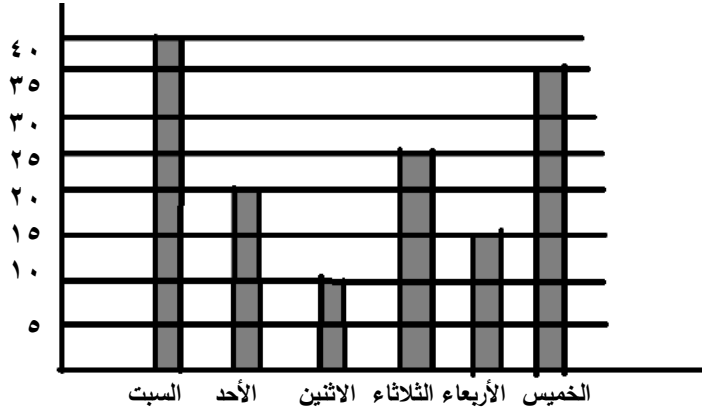
أسطوانه



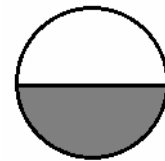



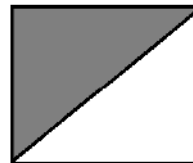

مكعب

أكمل الجدول من الرسم :-

اليوم	السبت	الأحد	الاثنين	الثلاثاء	الأربعاء	الخميس
عدد الغياب



** اكتب ما يمثله كل جزء مظلل :-





**اكتب من (١) إلى (٢٠) بالعربي:-

الرقم	الرقم	الرقم	الرقم	الرقم
١	واحد	٦	١١	١٦
٢		٧	١٢	١٧
٣		٨	١٣	١٨
٤		٩	١٤	١٩
٥		١٠	١٥	٢٠

**أوجد ناتج:-

$\begin{array}{r} ٧٠ \\ ١٨+ \\ \hline \dots\dots \end{array}$	$\begin{array}{r} ٦٨ \\ ٢٠+ \\ \hline \dots\dots \end{array}$	$\begin{array}{r} ٥٢ \\ ٣٤+ \\ \hline \dots\dots \end{array}$	$\begin{array}{r} ٢٧ \\ ٣١+ \\ \hline \dots\dots \end{array}$
$\begin{array}{r} ٤٥ \\ ٣+ \\ \hline \dots\dots \end{array}$	$\begin{array}{r} ٦٧ \\ ٣١+ \\ \hline \dots\dots \end{array}$	$\begin{array}{r} ٤٥ \\ ٥١+ \\ \hline \dots\dots \end{array}$	$\begin{array}{r} ٢٦ \\ ٢+ \\ \hline \dots\dots \end{array}$
$\begin{array}{r} ٩٥ \\ ٦٥- \\ \hline \dots\dots \end{array}$	$\begin{array}{r} ٨٠ \\ ٢٠- \\ \hline \dots\dots \end{array}$	$\begin{array}{r} ٨٩ \\ ٢٩- \\ \hline \dots\dots \end{array}$	$\begin{array}{r} ٧٦ \\ ٤٥- \\ \hline \dots\dots \end{array}$
$= ٦٠ + ١٨$			$= ٤٢ + ٣٦$
$= ٢٣ + ٥٠$			$= ٦١ + ٢٥$
$= ٨٢ + ١٧$			$= ٢٠ + ٧٦$
$= ٢٠ - ٨٠$			$= ٣٦ + ٤٩$
$= ٩ - ٥٩$			$= ٧ - ٦٧$





**أكمل :-

$$\begin{aligned} 34 &= \square - 68 \\ 50 &= \square + 20 \\ 97 &= \square + 83 \\ \dots + 5 &= 35 \\ \dots + 9 &= 69 \\ 20 + 6 &= \dots \\ 80 + 5 &= \dots \\ \dots + \dots &= 73 \\ \dots + \dots &= 85 \end{aligned}$$

$$\begin{aligned} 80 &= \square + 60 \\ 23 &= \square - 75 \\ 56 &= \square - 79 \\ \dots &= 8 \text{ آحاد و } 3 \text{ عشرات} \\ \dots &= 9 \text{ آحاد و } 9 \text{ عشرات} \\ \dots &= 3 \text{ آحاد و } 9 \text{ عشرات} \\ \dots &= 4 \text{ عشرات} + 2 \text{ عشرات} \\ \dots &= 6 \text{ عشرات} + 3 \text{ عشرات} \\ \dots + 60 &= 67 \end{aligned}$$

**ضع علامة (<) أو (>) أو (=) :-

$50 - 80$	<input type="text"/>	$30 + 20$
$46 - 89$	<input type="text"/>	$51 + 37$
$20 + 78$	<input type="text"/>	$12 + 35$
$30 + 29$	<input type="text"/>	7 عشرات
84	<input type="text"/>	48
5 آحاد و 7 عشرات	<input type="text"/>	75

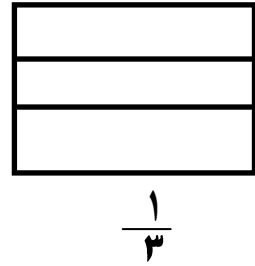
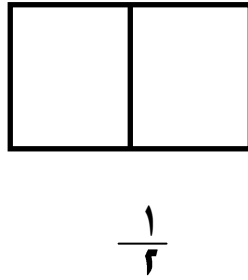
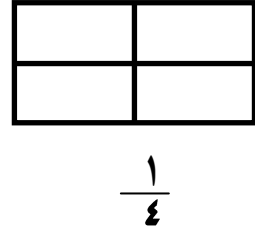
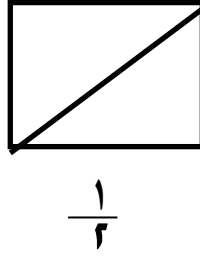
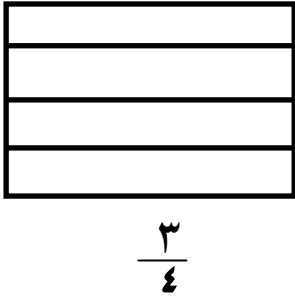
**أوجد ناتج :-

$\dots = 10 + 10 + 50 \leftarrow$	$\dots = 20 + 20 + 40 \leftarrow$	$\dots = 10 + 30 + 20 \leftarrow$
$\dots = 10 + 40 + 30 \leftarrow$	$\dots = 32 + 5 + 27 \leftarrow$	$\dots = 41 + 12 + 16 \leftarrow$





** لون قيمة الكسر المطلوب :-



** أوجد ناتج :-

$$\begin{array}{r} 89 \\ + 49 \\ \hline \end{array}$$

$$\begin{array}{r} 67 \\ + 53 \\ \hline \end{array}$$

$$\begin{array}{r} 48 \\ + 50 \\ \hline \end{array}$$

$$\begin{array}{r} 27 \\ + 31 \\ \hline \end{array}$$

** أكمل :-

٨ آحاد و ٩ عشرات =

..... + = ٧٩

..... = ٧ آحاد

٧ آحاد و ٣ عشرات =

٢٠ = - ٥٠

..... = ٨ عشرات

** رتب تنازلياً :-

٦٢ ، ١٨ ، ٣٦ ، ٩٢ ، ٥٧





**أوجد الناتج :-

70	40	30	10
$22+$	$20+$	$40+$	$20+$
58	39	80	99
$20-$	$19-$	$40-$	$26-$

**أكمل :-

- (1) ثلاثة أعداد كل منها أكبر من العدد 77 هي ، ،
(2) أصغر عدد مكون من الرقمين 3 ، 6 هو

**رتب الأعداد الآتية ترتيباً تصاعدياً :-

16 ، 61 ، 93 ، 39

**أكمل بالعدد المناسب :-

$50 = \square + 20$ ■

$20 = \square - 55$ ■

$39 = \square - 49$ ■

$\square < 20 + 16$ ■

**ضع علامة (✓) أمام العبارة الصحيحة وعلامة (X) أمام العبارة غير الصحيحة :-

- () (1) أكبر عدد مكون من رقمين هو 99
() (2) يعتبر المكعب من الأشكال الهندسية
() (3) الكرة من المجسمات

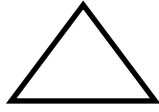





مع حنان ٦٨ جنيهاً اشترت عروسة بمبلغ ٤٠ جنيهاً ، وقلماً بمبلغ ستة جنيهاً كم جنيهاً تبقى مع حنان؟

ثمن العروسة والقلم = + = جنيهاً
الباقى = - = جنيهاً


**اكتب اسم الجسم الهندسي:-



.....



.....



.....

**اوجد الناتج:-

$\begin{array}{r} 58 \\ - 46 \\ \hline \end{array}$	$\begin{array}{r} 26 \\ + 63 \\ \hline \end{array}$	$\begin{array}{r} 84 \\ - 54 \\ \hline \end{array}$
$\begin{array}{r} 97 \\ - 54 \\ \hline \end{array}$	$\begin{array}{r} 28 \\ + 41 \\ \hline \end{array}$	$\begin{array}{r} 36 \\ + 22 \\ \hline \end{array}$

**ضع دائرة حول رقم الأحاد:-

١٧ ، ٣٢ ، ٥٦ ، ٨٤

**أكمل بنفس التسلسل:-

..... ، ، ، ٣٤ ، ٢٤ ، ١٤





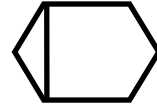
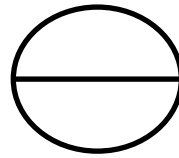

**ضع علامة (✓) أمام العبارة الصحيحة وعلامة (X) أمام العبارة غير الصحيحة:-

11 $4 + 7$ ■
85 75 ■
34 43 ■

**رتب من الأصغر إلى الأكبر:-

72 ، 80 ، 96 ، 58 ، 64

**ضع علامة (✓) أسفل كل شكل متماثل:-



مع خالد 95 قرشاً ، اشترى هدية بمبلغ 75 قرشاً ، كم قرشاً تبقى معه؟

البقي = - = قرشاً

**أكمل ما يأتي:-

58 $\frac{42+}{\dots\dots}$	54 $\frac{43+}{\dots\dots}$	37 $\frac{52+}{\dots\dots}$	45 $\frac{32-}{\dots\dots}$
34 $\frac{55+}{\dots\dots}$	35 $\frac{44+}{\dots\dots}$	79 $\frac{34-}{\dots\dots}$	45 $\frac{34+}{\dots\dots}$





**ضع علامة (✓) أمام العبارة الصحيحة وعلامة (X) أمام العبارة غير الصحيحة:-

$22 + 52$

$30 + 35$

90

$34 + 53$

$22 + 17$

$41 - 82$

60

$35 - 98$

**رتب تصاعدياً وتنازلياً:-

٩٠ ، ٦٥ ، ٨٢ ، ٧٩ ، ٨٠

تصاعدياً:-

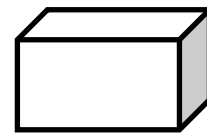

تنازلياً:-

إذا كان عدد تلاميذ الصف الأول الابتدائي ٩٥ تلميذاً ، منهم ٤٥

تلميذة فكم عدد الأولاد؟

عدد الأولاد = ولدًا

**اكتب اسم كل مجسم:-





**أكمل ما يأتي:-

$\begin{array}{r} 68 \\ 45- \\ \hline \end{array}$	$\begin{array}{r} 43 \\ 45+ \\ \hline \end{array}$	$\begin{array}{r} 78 \\ 25- \\ \hline \end{array}$	$\begin{array}{r} 23 \\ 35+ \\ \hline \end{array}$
$\begin{array}{r} 87 \\ 45- \\ \hline \end{array}$	$\begin{array}{r} 78 \\ 24- \\ \hline \end{array}$	$\begin{array}{r} 59 \\ 40+ \\ \hline \end{array}$	$\begin{array}{r} 67 \\ 23- \\ \hline \end{array}$

**ضع علامة (✓) أمام العبارة الصحيحة وعلامة (X) أمام العبارة غير الصحيحة:-

٩٠	<input type="checkbox"/>	١٥ + ٧٢ ←	١١ - ٩	<input type="checkbox"/>	٣٢ + ٥٦ ←
٤٨	<input type="checkbox"/>	٥٥ - ٩٩ ←	٢١ - ٤	<input type="checkbox"/>	١٣ - ٤٨ ←

**رتب تصاعدياً وتنازلياً:-

٢٨ ، ٤٧ ، ١٥ ، ٣٢ ، ٥٤

تصاعدياً:-

تنازلياً:-

**مع سماح ٧٥ جنيهاً ، صرفت منها ٣٤ جنيهاً ، فكم جنيهاً يبقى معها؟
الباقى معها = جنيهاً

